

Constable (GD) in CAPFs, NIA, SSF and Rifleman (GD) in Assam Rifles Examination, 2018

Roll No. :	GovtJobsAlert.In
Registration No.	GovtJobsAlert.In
Name :	GovtJobsAlert.In
Exam Venue :	iON Digital Zone iDZ Gegal Industrial Area
Exam Time :	4:00 PM - 5:30 PM
Exam Date :	22/02/2019

Section : General Section

Q.1 छह दोस्त P, Q, R, S, T और U एक स्टेडियम में बैठकर क्रिकेट मैच देख रहे हैं। P एक चरम छोर पर बैठा है। T, P और U के बीच में बैठा है। R, U के बिल्कुल बाएं और Q के बिल्कुल दाएं बैठा है। सबसे दाएं छोर पर कौन बैठा है?

- Ans
- 1. S
 - 2. P
 - 3. R
 - 4. Q

Question ID : 9895806514
Chosen Option : 2

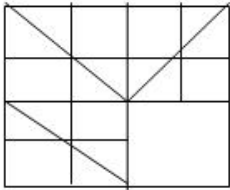
Q.2 उस विकल्प को पहचानें जो निम्न समूह से संबंधित है।

मेमना, बछड़ा, डिंभकीट

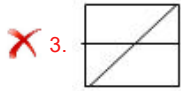
- Ans
- 1. सरीसृप
 - 2. जंगली पशु
 - 3. जलथलचर
 - 4. पिल्ला

Question ID : 9895806511
Chosen Option : 3

Q.3 निम्नलिखित पैटर्न को पूरा करने के लिए सही विकल्प का चयन करें।



- Ans
- 1.
 - 2.

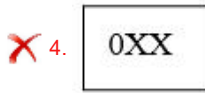
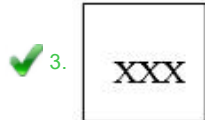
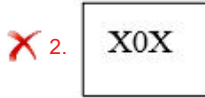
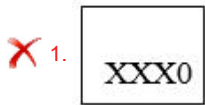


Question ID : 9895806527
Chosen Option : 2

Q.4 निम्न श्रृंखला में आने वाले अगले संयोजन का चयन करें।

X	X0	XX	XX0	?
---	----	----	-----	---

Ans



Question ID : 9895806525
Chosen Option : 3

Q.5 निम्नलिखित संख्या श्रृंखला में, दो संख्याओं को कोष्ठक में रखा गया है। श्रृंखला का ध्यानपूर्वक अध्ययन करें और श्रृंखला के संबंध में सही विकल्प का चयन करें।

0, 1, 4, 9, (15), 25, 36, 49, (64), 81

Ans

✗ 1. कोष्ठक में रखी गई दोनों संख्याएँ गलत हैं।

✓ 2.

कोष्ठक में रखी गई पहली संख्या (बाएं से) गलत है और दूसरी सही है।

✗ 3. कोष्ठक में रखी गई दोनों संख्याएँ सही हैं।

✗ 4.

कोष्ठक में रखी गई पहली संख्या (बाएं से) सही है और दूसरी गलत है।

Question ID : 9895806524
Chosen Option : 2

Q.6 उस संख्या युग्म की पहचान करें जो बाकी सब से अलग है।

Ans

✗ 1. 18 - 2

✗ 2. 45 - 5

✓ 3. 72 - 9

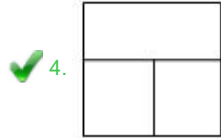
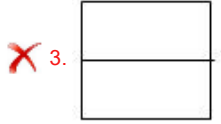
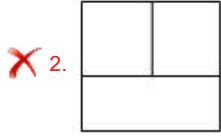
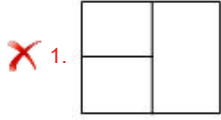
✗ 4. 90 - 10

Question ID : 9895806522
Chosen Option : 3

Q.7 एक चौकोर पारदर्शी कागज मोड़ने के बाद ठोस रेखाओं द्वारा चित्र में दर्शाए गए रूप में दिखाई देता है। वापस खोलने पर यह कैसा दिखाई देगा? (घुमाने की अनुमति नहीं है)



Ans



Question ID : 9895806529
Chosen Option : 4

Q.8 निम्नलिखित में से असंगत की पहचान करें।

Ans

✗ 1. बहन

✗ 2. चाचा

✗ 3. भाई

✓ 4. मित्र

Question ID : 9895806507
Chosen Option : 4

Q.9 दिए गए कथनों और निष्कर्षों को ध्यानपूर्वक पढ़ें और निर्णय लें कि कौन सा/से निष्कर्ष तार्किक रूप से कथनों का अनुसरण करता है/ करते हैं।

कथन:

कुछ जानवर पक्षियाँ हैं।

गाय एक जानवर है।

निष्कर्ष:

I. कुछ पक्षियाँ जानवर हैं।

II. गाय कोई पक्षी नहीं है।

Ans

✗ 1. न तो निष्कर्ष I और न ही निष्कर्ष II अनुसरण करता है।

✗ 2. निष्कर्ष I और II दोनों अनुसरण करते हैं।

✓ 3. केवल निष्कर्ष I अनुसरण करता है।

✗ 4. केवल निष्कर्ष II अनुसरण करता है।

Question ID : 9895806517

Chosen Option : 3

Q.1
0 उस पद का चयन करें जो निम्नलिखित श्रृंखला में अगला आएगा।

Z2A, X4D, V6G, T8J, R10M, _____

Ans ✗ 1. Q12Q

✗ 2. Q12P

✓ 3. P12P

✗ 4. P12Q

Question ID : 9895806506

Chosen Option : 4

Q.1
1 उस विकल्प का चयन करें जो दिए गए शब्द की दर्पण छवि से सर्वाधिक मेल खाता है।

TWIN

Ans ✗ 1. TWIN

✗ 2. NIWT

✓ 3. IIIWT

✗ 4. NIMT

Question ID : 9895806528

Chosen Option : 3

Q.1
2 चार व्यक्ति (दो पुरुष और दो महिलाएं) एक रेस्तरां में बैठे थे। वे मेज के उत्तर, पूर्व, दक्षिण और पश्चिम में बैठे थे। कोई भी महिला पूर्व दिशा का सामना नहीं कर रही थी। एक दूसरे के सामने बैठे व्यक्ति एक ही लिंग के नहीं थे। एक पुरुष दक्षिण की ओर मुँह कर के बैठा था। महिलाओं का मुँह किन दिशाओं में है?

Ans ✓ 1. उत्तर और पश्चिम

✗ 2. उत्तर और दक्षिण

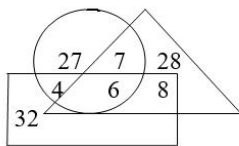
✗ 3. दक्षिण और पश्चिम

✗ 4. पूर्व और पश्चिम

Question ID : 9895806516

Chosen Option : 1

Q.1
3 दिए गए वेन आरेख में, आयत छात्रों का प्रतिनिधित्व करता है, त्रिभुज शिक्षकों का प्रतिनिधित्व करता है और वृत्त खिलाड़ियों का प्रतिनिधित्व करता है। आरेख का ध्यानपूर्वक अध्ययन करें और नीचे दिए गए प्रश्न का उत्तर दें। कितने छात्र खिलाड़ी हैं लेकिन शिक्षक नहीं?



Ans ✗ 1. 7

✓ 2. 4

✗ 3. 6

✗ 4. 8

Question ID : 9895806530

Chosen Option : 2

Q.1
4 निम्नलिखित श्रृंखला में अगली संख्या का चयन करें।

2500, 2400, 2200, 1900, 1500, _____

Ans ✗ 1. 1100

✗ 2. 1110

✗ 3. 900

✓ 4. 1000

Question ID : 9895806519

Chosen Option : 4

Q.1
5 दिए गए कथनों और निष्कर्षों को ध्यानपूर्वक पढ़ें और निर्णय लें कि कौन सा/से निष्कर्ष तार्किक रूप से कथनों का अनुसरण करता है/ करते हैं।

कथन:

राष्ट्रीय मानदंड प्रति हजार जनसंख्या पर 150 बिस्तर का है, लेकिन इस राज्य के अस्पतालों में प्रति हजार पर 200 बिस्तर उपलब्ध हैं।

निष्कर्ष:

I. राज्य का मानदंड उचित है।

II. राज्य की स्वास्थ्य प्रणाली इस संबंध में पर्याप्त देखभाल कर रही है।

Ans ✗ 1. निष्कर्ष I और II दोनों अनुसरण करते हैं।

✓ 2. केवल निष्कर्ष II अनुसरण करता है।

✗ 3. न तो निष्कर्ष I और न ही निष्कर्ष II अनुसरण करता है।

✗ 4. केवल निष्कर्ष I अनुसरण करता है।

Question ID : 9895806518

Chosen Option : 3

Q.1
6 यदि $D = 3$, $G = 6$, और $OWL = 47$, तब $FLOWER =$ _____.

Ans ✗ 1. 89

✗ 2. 82

✓ 3. 73

✗ 4. 71

Question ID : 9895806512

Chosen Option : 3

Q.1
7 निम्नलिखित में से असंगत की पहचान करें।

Ans ✗ 1. CG

✓ 2. KN

✗ 3. UY

✗ 4. HL

Question ID : 9895806508

Chosen Option : 2

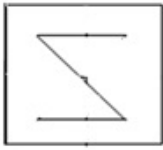
Q.1
8 उस संख्या का चयन करें जो निम्न समूह से संबंधित नहीं है।

1, 1, 1.5, 3, 7.5, 22.5, 78.75, 310

- Ans
- 1. 78.75
 - 2. 22.5
 - 3. 1.5
 - 4. 310

Question ID : 9895806520
Chosen Option : 1

Q.1
9 उस विकल्प का चयन करें जिसमें दी गई आकृति अंतर्निहित है।



Ans

- 1.
- 2.
- 3.
- 4.

Question ID : 9895806526
Chosen Option : 3

Q.2
0 यदि MARKET को NCUOJZ के रूप में कूटबद्ध किया जाता है, तो RESPECT को किस रूप में कूटबद्ध किया जाएगा?

- Ans
- 1. SGVTJIZ
 - 2. SGVTJIA
 - 3. SGVTIJA
 - 4. SGVTIJZ

Question ID : 9895806513
Chosen Option : 2

Q.2
1 उस विकल्प का चयन करें जो दिए गए युग्म के अनुरूप है।

राष्ट्र : राष्ट्रपति

- Ans
- 1. राज्य : प्रमुख सचिव
 - 2. राज्य : मुख्य मंत्री
 - 3. राज्य : राज्यपाल
 - 4. राज्य : मंत्री

Question ID : 9895806510
Chosen Option : 3

Q.2
2 उस विकल्प का चयन करें जो तीसरी संख्या से उसी तरह से संबंधित है जिस प्रकार दूसरी संख्या पहली संख्या से संबंधित है।

1 : 121 :: 5 : _____

- Ans
- 1. 125
 - 2. 255
 - 3. 25
 - 4. 225

Question ID : 9895806521
Chosen Option : 4

Q.2
3 निम्नलिखित में से असंगत युग्म की पहचान करें।

- Ans
- 1. तपेदिक : हृदय
 - 2. पीलिया : यकृत
 - 3. सुखंडी : हड्डी
 - 4. रतौंधी : आँख

Question ID : 9895806509
Chosen Option : 1

Q.2
4 दिए गए समीकरण को सही बनाने के लिए किन दो चिह्नों को आपस में बदलना होगा?

$$5 \times 5 + 5 - 5 \div 5 = 5$$

- Ans
- 1. + और -
 - 2. ÷ और -
 - 3. × और -
 - 4. + और ×

Question ID : 9895806523
Chosen Option : 1

Q.2
5 एक पुस्तकालय में केवल एक शब्दकोष है, जिसका उपयोग 6 छात्रों P, Q, R, S, T और U द्वारा बारी - बारी से किया जायेगा। S, Q के तुरंत बाद और P से पहले इसका उपयोग करेगा। T, R के तुरंत बाद और U से पहले इसका उपयोग करेगा। Q, U के बाद शब्दकोष का उपयोग करेगा। अंत में शब्दकोष का उपयोग कौन करेगा?

- Ans 1. P
 2. Q
 3. S
 4. U

Question ID : 9895806515
 Chosen Option : 2

Q.2
 6 अर्थशास्त्र में वैयक्तिक अतिसंवेदनशीलता का क्या अर्थ है?

- Ans 1. स्वास्थ्य के लिए खतरा
 2. शोषण का खतरा
 3. गरीबी का खतरा
 4. बौद्धिक संपदा के लिए खतरा

Question ID : 9895806565
 Chosen Option : 4

Q.2
 7 अफ्रीका किलीमंजारो का सर्वोच्च पर्वत शिखर किस देश में स्थित है?

- Ans 1. तंजानिया
 2. केन्या
 3. घाना
 4. जाम्बिया

Question ID : 9895806576
 Chosen Option : 1

Q.2
 8 विश्व व्यापार संगठन के कृषि संबंधी करार (AoA), में ग्रीन बॉक्स, ब्लू बॉक्स और एएमएस (एम्बर बॉक्स) शब्दों के क्या अर्थ हैं?

- Ans 1. सब्सिडी
 2. बोनस
 3. ब्याज
 4. कर

Question ID : 9895806566
 Chosen Option : 1

Q.2
 9 निम्नलिखित में से कौन सी बीमारी चमगादड़ के कारण होती है?

- Ans 1. ईबोला
 2. चिकनगुनिया
 3. जीका
 4. डेंगू

Question ID : 9895806574
 Chosen Option : 2

Q.3

0 बौद्ध स्मारक 'चौखंडी स्तूप' भारत के किस राज्य में स्थित है?

- Ans
- 1. पंजाब
 - 2. उत्तर प्रदेश
 - 3. सिक्किम
 - 4. पश्चिम बंगाल

Question ID : 9895806558
Chosen Option : 2

Q.3
1 दुनिया का सबसे बड़ा फुटबॉल स्टेडियम, रंगराडो मे स्टेडियम, किस देश में स्थित है?

- Ans
- 1. स्पेन
 - 2. उत्तरी कोरिया
 - 3. चीन
 - 4. सिंगापुर

Question ID : 9895806560
Chosen Option : 1

Q.3
2 निम्नलिखित में से कौन सा जानवर प्रसुप्त अवस्था में रहता है?

- Ans
- 1. चमगादड़
 - 2. हिरन
 - 3. बाघ
 - 4. सियार

Question ID : 9895806572
Chosen Option : 1

Q.3
3 बफर स्टॉक का क्या अर्थ है?

- Ans
- 1. कमी को पूरा करने के लिए इस्तेमाल की जाने वाली वस्तुओं का भंडार
 - 2. अत्यधिक वितरण को रोकने के लिए एक निवारक उपाय
 - 3. अधिशेष उपलब्ध होने पर स्टॉक जमाव पर अवरोध
 - 4. कमी होने पर एक विशिष्ट किस्म के उत्पादन पर ध्यान देना

Question ID : 9895806564
Chosen Option : 1

Q.3
4 पहली विद्युत चालित वाशिंग मशीन का ब्रांड नाम क्या था?

- Ans
- 1. इमेजिस
 - 2. आइकॉन
 - 3. थोर

✘ 4. गोलिअथ

Question ID : 9895806570

Chosen Option : 1

Q.3
5 अधिकांश अंगूरों में कौन सा अम्ल मौजूद होता है?

Ans

- ✔ 1. टार्टरिक और मैलिक एसिड
✘ 2. नाइट्रिक और सल्फ्यूरिक
✘ 3. एसिटिक एसिड और नाइट्रिक एसिड
✘ 4. हाइड्रोक्लोरिक और सल्फ्यूरिक एसिड

Question ID : 9895806571

Chosen Option : 1

Q.3
6 भारत में शांति स्वरूप भटनागर अवार्ड किस क्षेत्र में योगदान के लिए दिया जाता है?

Ans

- ✘ 1. साहित्य
✘ 2. खेल
✔ 3. विज्ञान और तकनीक
✘ 4. सामाजिक कार्य

Question ID : 9895806561

Chosen Option : 3

Q.3
7 2018 तक आम का सबसे बड़ा उत्पादक देश कौन सा है?

Ans

- ✘ 1. श्रीलंका
✔ 2. भारत
✘ 3. ब्राज़िल
✘ 4. चीन

Question ID : 9895806577

Chosen Option : 2

Q.3
8 पद्म भूषण से सम्मानित वह वैज्ञानिक कौन हैं जिन्होंने ISRO को अब तक के सबसे भारी रॉकेट GSLV Mark-III के विस्फोटन को निर्देशित किया, जो मानवयुक्त अंतरिक्ष अभियानों के लिए मार्ग प्रशस्त कर रहा है?

Ans

- ✔ 1. के. राधाकृष्णन
✘ 2. मनोहर परिकर
✘ 3. फली नरीमन
✘ 4. नंदन नीलेकणी

Question ID : 9895806563

Chosen Option : 1

Q.3
9 विटामिन A की कमी से क्या होता है?

Ans

- ✔ 1. रतौंधी

2. सुखंडी
3. खून की कमी
4. गण्डमाला

Question ID : 9895806573
Chosen Option : 1

Q.4
0 संविधान के किस संशोधन में मतदान की आयु 21 से घटाकर 18 वर्ष की गई?

- Ans 1. 61 वें
2. 56 वें
3. 65 वें
4. 70 वें

Question ID : 9895806569
Chosen Option : 1

Q.4
1 1866 में ईस्ट इंडिया एसोसिएशन का गठन किस शहर में हुआ था?

- Ans 1. कोलकाता
2. पेरिस
3. सिंगापुर
4. लंदन

Question ID : 9895806580
Chosen Option : 4

Q.4
2 'तीजन' भारत के किस राज्य में मनाया जाने वाला त्योहार है?

- Ans 1. जम्मू और कश्मीर
2. पंजाब
3. गुजरात
4. राजस्थान

Question ID : 9895806557
Chosen Option : 1

Q.4
3 संघवाद सरकार की एक प्रणाली है जिसमें शक्तियां केंद्रीय प्राधिकरण और देश की विभिन्न संघटक इकाइयों के बीच _____ होता है।

- Ans 1. उपहासित
2. प्रेरित
3. अभ्यारोपित
4. विभाजित

Question ID : 9895806567
Chosen Option : 4

Q.4
4 पीर पंजाल पर्वत श्रेणी का सर्वोच्च चोटी कौन सी है?

- Ans
- 1. नंदा देवी
 - 2. इंद्रासन
 - 3. काबरू
 - 4. कामेट

Question ID : 9895806575

Chosen Option : 3

Q.4
5 निम्नलिखित में से कौन सा विकल्प एक प्राचीन साहित्यिक स्रोत है जो भारतीय इतिहास के प्राचीन काल पर प्रकाश डालता है?

- Ans
- 1. सामवेद
 - 2. पुराण
 - 3. उपनिषद
 - 4. भगवत गीता

Question ID : 9895806578

Chosen Option : 4

Q.4
6 निम्नलिखित में से किस भारतीय राज्य में पोलो खेल की उत्पत्ति हुई थी?

- Ans
- 1. असम
 - 2. अरुणाचल प्रदेश
 - 3. पश्चिम बंगाल
 - 4. मणिपुर

Question ID : 9895806559

Chosen Option : 4

Q.4
7 'ज्योतिपुंज' पुस्तक के लेखक कौन हैं?

- Ans
- 1. धीरूभाई अंबानी
 - 2. वी.एस. नायपाल
 - 3. नरेंद्र मोदी
 - 4. मुंशी प्रेमचंद

Question ID : 9895806562

Chosen Option : 2

Q.4
8 तक्षशिला की ओर बढ़ते हुए सिंधु नदी को पार करने के बाद 326 ईसा पूर्व में भारत पर किसने आक्रमण किया था?

- Ans
- 1. सिकंदर
 - 2. मार्को पोलो
 - 3. एडुआर्डो बारबोसा
 - 4. निकोलिनी

Question ID : 9895806579
Chosen Option : 1

Q.4 आधार (वित्तीय और अन्य सब्सिडी, लाभ और सेवा का लक्षित वितरण) अधिनियम कब पारित किया गया था?

- Ans
- 1. 2015
 - 2. 2016
 - 3. 2017
 - 4. 2014

Question ID : 9895806568
Chosen Option : 4

Q.5 पारंपरिक नृत्य 'पाइका' किस भारतीय राज्य से संबंधित है?

- Ans
- 1. मध्य प्रदेश
 - 2. झारखंड
 - 3. सिक्किम
 - 4. उत्तराखंड

Question ID : 9895806556
Chosen Option : 2

Q.5 तालिका का ठीक से अध्ययन करें और आंकड़े की व्याख्या करके उत्तर दें।

परीक्षा के पांच अलग-अलग वर्षों में चार अलग-अलग कक्षाओं द्वारा परिणाम का प्रतिशत तालिका में दर्शाया गया है।

वर्ष	कक्षा - IX (अंक % में हैं)	कक्षा - X (अंक % में हैं)	कक्षा - XI (अंक % में हैं)	कक्षा - XII (अंक % में हैं)
2012	90	80	85	75
2013	70	65	62	58
2014	65	35	32	33
2015	50	48	38	35
2016	55	45	32	38

वर्ष 2012 से 2016 में कक्षा-IX के अंकों का औसत प्रतिशत क्या है?

- Ans
- 1. 72%
 - 2. 66%
 - 3. 65%
 - 4. 62%

Question ID : 9895806628
Chosen Option : 2

Q.5 संज्या और सौम्या एक साथ 9 दिनों में एक काम पूरा कर सकते हैं। संज्या स्वयं 15 दिनों में वही काम कर सकता है। वही काम सौम्या स्वयं कितने दिन में कर सकते हैं?

- Ans
- 1. 22 दिन
 - 2. $15\frac{1}{2}$ दिन
 - 3. 14 दिन
 - 4. $22\frac{1}{2}$ दिन

Question ID : 9895806618
Chosen Option : 4

Q.5
3 $62 - 5$ of $(18 - 14) + 5 \times 7$ का मान निम्न में से किसके बराबर है?

- Ans
- 1. 28
 - 2. 18
 - 3. 77
 - 4. 15

Question ID : 9895806608
Chosen Option : 3

Q.5
4 वार्षिक आधार पर चक्रवृद्धि 2 साल के लिए 3% प्रति वर्ष की दर से ₹6,000 पर चक्रवृद्धि ब्याज क्या होगा?

- Ans
- 1. ₹372.50
 - 2. ₹725.10
 - 3. ₹653.20
 - 4. ₹365.40

Question ID : 9895806616
Chosen Option : 4

Q.5
5 एक क्रिकेट टीम में, 11 खिलाड़ियों की औसत आयु 22 वर्ष है। जब टीम के कोच की आयु इसमें शामिल की जाती है, तो औसत आयु 1 बढ़ जाती है। टीम के कोच की आयु कितनी है?

- Ans
- 1. 43 वर्ष
 - 2. 34 वर्ष
 - 3. 33 वर्ष
 - 4. 53 वर्ष

Question ID : 9895806610
Chosen Option : 2

Q.5
6 एक निश्चित राशि पर साधारण ब्याज कुल राशि का $\frac{16}{25}$ है। यदि दर प्रतिशत और समय दोनों समान हैं, तो ब्याज दर क्या होगी?

- Ans
- 1. 5%
 - 2. 6.8%
 - 3. 8%
 - 4. 12%

Question ID : 9895806615
Chosen Option : 3

Q.5

7 36 और 121 के बीच का माध्य अनुपात निम्न में से किसके बराबर है?

- Ans
- 1. 157
 - 2. 85
 - 3. 72
 - 4. 66

Question ID : 9895806624
Chosen Option : 1

Q.5 तालिका का ठीक से अध्ययन करें और आंकड़े की व्याख्या करके उत्तर दें।

परीक्षा के पांच अलग-अलग वर्षों में चार अलग-अलग कक्षाओं द्वारा परिणाम का प्रतिशत तालिका में दर्शाया गया है।

वर्ष	कक्षा - IX (अंक % में हैं)	कक्षा - X (अंक % में हैं)	कक्षा - XI (अंक % में हैं)	कक्षा - XII (अंक % में हैं)
2012	90	80	85	75
2013	70	65	62	58
2014	65	35	32	33
2015	50	48	38	35
2016	55	45	32	38

सभी पाँच वर्षों में किस कक्षा का औसत प्रदर्शन सबसे कम है?

- Ans
- 1. कक्षा - X
 - 2. कक्षा - XII
 - 3. कक्षा - XI
 - 4. कक्षा - IX

Question ID : 9895806629
Chosen Option : 2

Q.5 दो त्रिभुजों के क्षेत्रफल का अनुपात 2 : 3 है और उनकी ऊंचाई का अनुपात 3 : 2 है। उनके आधार का अनुपात है:

- Ans
- 1. 3 : 2
 - 2. 9 : 4
 - 3. 2 : 3
 - 4. 4 : 9

Question ID : 9895806621
Chosen Option : 3

Q.6 पांच निरंतर संख्याओं का औसत 15 है। इनमें से सबसे बड़ी संख्या है:

- Ans
- 1. 15
 - 2. 12

✗ 3. 19

✓ 4. 17

Question ID : 9895806609
Chosen Option : 4

Q.6 एक बोर्ड परीक्षा में कुल परीक्षार्थियों में से 75% उत्तीर्ण हुए। यदि अनुत्तीर्ण परीक्षार्थियों की संख्या 625, है, तो कुल परीक्षार्थियों की संख्या कितनी है?

Ans ✗ 1. 3800

✗ 2. 2400

✓ 3. 2500

✗ 4. 3600

Question ID : 9895806614
Chosen Option : 3

Q.6 दो ट्रेनें विपरीत दिशा से 40 km/hrs और 50 km/hrs की गति से अलग-अलग स्थानों से 360 km की दूरी से आ रही हैं। कितने घंटे बाद दोनों ट्रेनें एक-दूसरे से मिलेंगी?

Ans ✓ 1. 4 घंटे

✗ 2. 3 घंटे

✗ 3. 5 घंटे

✗ 4. 6 घंटे

Question ID : 9895806619
Chosen Option : 1

Q.6 सबसे बड़ी संख्या निम्न में से कौन सी है जिससे 146, 248 और 611 को विभाजित करने पर शेषफल क्रमशः 2, 8 और 11 आता है?

Ans ✗ 1. 47

✓ 2. 24

✗ 3. 612

✗ 4. 144

Question ID : 9895806606
Chosen Option : 2

Q.6 शीला ₹24 में 3 कलम खरीदती है और ₹18 में 2 कलम तथा ₹45 में 1 कलम बेचती है। लाभ या हानि प्रतिशत है:

Ans ✓ 1. लाभ 12.5%

✗ 2. हानि 12.5%

✗ 3. हानि 12%

✗ 4. लाभ 12%

Question ID : 9895806612
Chosen Option : 1

Q.6 समांतर चतुर्भुज का आधार उसकी ऊंचाई से दोगुना है और इसका क्षेत्रफल 288 cm² है। समांतर चतुर्भुज का आधार है:

Ans ✓ 1. 24 cm

✗ 2. 36 cm

3. 28 cm

4. 12 cm

Question ID : 9895806622

Chosen Option : 1

Q.6 एक व्यापारी ने ₹18,800 में एक मशीन बेची और उसे 6% नुकसान हुआ। मशीन का लागत मूल्य क्या है?

Ans 1. ₹18,000

2. ₹22,000

3. ₹20,000

4. ₹24,000

Question ID : 9895806611

Chosen Option : 3

Q.6 तालिका का ठीक से अध्ययन करें और आंकड़े की व्याख्या करके उत्तर दें।

परीक्षा के पांच अलग-अलग वर्षों में चार अलग-अलग कक्षाओं द्वारा परिणाम का प्रतिशत तालिका में दर्शाया गया है।

वर्ष	कक्षा - IX (अंक % में हैं)	कक्षा - X (अंक % में हैं)	कक्षा - XI (अंक % में हैं)	कक्षा - XII (अंक % में हैं)
2012	90	80	85	75
2013	70	65	62	58
2014	65	35	32	33
2015	50	48	38	35
2016	55	45	32	38

किस वर्ष में सभी चार कक्षाओं का औसत प्रदर्शन अधिकतम है?

Ans 1. 2015

2. 2013

3. 2016

4. 2012

Question ID : 9895806630

Chosen Option : 4

Q.6 दो ट्रेनों की गति के बीच का अनुपात 3 : 4 है। यदि दूसरी ट्रेन 5 घंटे में 800 km की दूरी तय करती है, तो पहली ट्रेन की गति क्या है?

Ans 1. 120 km/hrs

2. 160 km/hrs

3. 140 km/hrs

4. 180 km/hrs

Question ID : 9895806620
Chosen Option : 1

Q.6 x, y और z के बीच ₹4,600 की राशि $\frac{1}{2} : \frac{2}{3} : \frac{3}{4}$ के अनुपात में वितरित की गई, तो y का हिस्सा कितना है?

- Ans 1. 1600
 2. 1800
 3. 1200
 4. 2000

Question ID : 9895806625
Chosen Option : 1

Q.7 ₹4,000 बिक्री मूल्य वाले एक डायनिंग सेट को 8% की छूट पर बेचा जाता है और इस पर 10% लाभ होता है। डायनिंग सेट का लागत मूल्य क्या है?

- Ans 1. ₹3,786.78
 2. ₹3,345.45
 3. ₹3,496.50
 4. ₹3,568.80

Question ID : 9895806613
Chosen Option : 2

Q.7 स्वेता 30 घंटे में एक दीवार पेंट कर सकती है, जबकि अंसुल 40 घंटे में इसे पेंट कर सकते हैं। यदि वे इसे एक साथ पेंट करते हैं और ₹14,000 का भुगतान प्राप्त करते हैं। अंसुल का हिस्सा कितना है?

- Ans 1. ₹6000/-
 2. ₹10000/-
 3. ₹8000/-
 4. ₹12000/-

Question ID : 9895806617
Chosen Option : 3

Q.7 एक क्रिकेट श्रृंखला में एक बल्लेबाज द्वारा बनाये गए रन 12, 25, 38, 56, 64, 86 हैं। माध्यिका क्या होगा?

- Ans 1. 56
 2. 38
 3. 47
 4. 45

Question ID : 9895806627
Chosen Option : 3

Q.7 $(6 \times 15) \div (2 \times 3) - 2^2 + 3$ का मान क्या है?

- Ans 1. 12
 2. 14
 3. 6
 4. 4

Question ID : 9895806607
Chosen Option : 2

Q.7 यदि वृत्त की त्रिज्या 10% कम हो जाती है तो इसके क्षेत्रफल में कितने प्रतिशत की कमी होगी?

- Ans
- 1. 90%
 - 2. 91%
 - 3. 110%
 - 4. 19%

Question ID : 9895806623
Chosen Option : 4

Q.7 एक मिश्रण में 4 : 3 के अनुपात में दूध और पानी है। जब इस मिश्रण में 5 लीटर पानी डाला जाता है, तो दूध और पानी का अनुपात 6 : 7 हो जाता है। मिश्रण में दूध की मात्रा है:

- Ans
- 1. 15 लीटर
 - 2. 5 लीटर
 - 3. 12 लीटर
 - 4. 10 लीटर

Question ID : 9895806626
Chosen Option : 3

Section : English Language

Q.1 Select the option that means the same as the given idiom.

Run of the mill

- Ans
- 1. Ordinary
 - 2. Exceptional
 - 3. Uncommon
 - 4. Rare

Question ID : 9895806198
Chosen Option : --

Q.2 Select the synonym of the given word.

PROBABLE

- Ans
- 1. Similar
 - 2. Tangible
 - 3. Substitute
 - 4. Likely

Question ID : 9895806195
Chosen Option : --

Q.3 From the given options, identify the segment in the sentence which contains the grammatical error.

Japan will be a country well known for its culture, technology and cuisines like sushi.

- Ans
- 1. will be a country
 - 2. cuisines like

3. well known for
4. its culture

Question ID : 9895806180
Chosen Option : --

Q.4 Select the option that means the same as the given idiom.

Man of letters

- Ans 1. One who can read letters
2. A scholar
3. One who writes letters
4. A student

Question ID : 9895806199
Chosen Option : --

Q.5 From the given options, identify the segment in the sentence which contains the grammatical error.

The country also needs large doses of infrastructure additions – roads or highways, power plants, distribution networks, airports and ports.

- Ans 1. airports and ports
2. The country
3. also needs
4. roads or highways

Question ID : 9895806182
Chosen Option : --

Q.6 Select the synonym of the given word.

LETHARGY

- Ans 1. Wisdom
2. Thrill
3. Delight
4. Fatigue

Question ID : 9895806194
Chosen Option : --

Q.7 Select the antonym of the given word.

WHOLESALE

- Ans 1. Discount
2. Retail
3. Concession
4. Rebate

Question ID : 9895806196
Chosen Option : --

Q.8

Select the most appropriate word to fill in the blank.

Pollution of rivers and seas destroys _____ life.

- Ans 1. Terrestrial
 2. Aerial
 3. Marine
 4. Desert

Question ID : 9895806204
 Chosen Option : --

Comprehension:

In the following passage some words have been deleted. Fill in the blanks with the help of the alternatives given.

Bird-watching, as it is popularly called, is a peaceful (1) _____. It is not entirely without occasional physical thrills and even (2) _____. The elephant ridden jungles in South India, for instance. I found myself in uncomfortably disturbing (3) _____. Actually, there is little danger from a wild elephant unless it happens to be a female with a small (4) _____ along with her. What such situations demand is (5) _____ and not valour.

SubQuestion No : 9

Q.9 Select the most appropriate option that will fill in the blank number 1.

- Ans 1. service
 2. activity
 3. work
 4. job

Question ID : 9895806189
 Chosen Option : --

Comprehension:

In the following passage some words have been deleted. Fill in the blanks with the help of the alternatives given.

Bird-watching, as it is popularly called, is a peaceful (1) _____. It is not entirely without occasional physical thrills and even (2) _____. The elephant ridden jungles in South India, for instance. I found myself in uncomfortably disturbing (3) _____. Actually, there is little danger from a wild elephant unless it happens to be a female with a small (4) _____ along with her. What such situations demand is (5) _____ and not valour.

SubQuestion No : 10

Q.10 Select the most appropriate option that will fill in the blank number 2.

- Ans 1. hazards
 2. conditions
 3. circumstances

✓ 4. pleasures

Question ID : 9895806190

Chosen Option : --

Comprehension:

In the following passage some words have been deleted. Fill in the blanks with the help of the alternatives given.

Bird-watching, as it is popularly called, is a peaceful (1) _____. It is not entirely without occasional physical thrills and even (2) _____. The elephant ridden jungles in South India, for instance. I found myself in uncomfortably disturbing (3) _____. Actually, there is little danger from a wild elephant unless it happens to be a female with a small (4) _____ along with her. What such situations demand is (5) _____ and not valour.

SubQuestion No : 11

Q.1
1 Select the most appropriate option that will fill in the blank number 3.

- Ans
- 1. zones
 - 2. situations
 - 3. locations
 - 4. atmospheres

Question ID : 9895806191

Chosen Option : --

Comprehension:

In the following passage some words have been deleted. Fill in the blanks with the help of the alternatives given.

Bird-watching, as it is popularly called, is a peaceful (1) _____. It is not entirely without occasional physical thrills and even (2) _____. The elephant ridden jungles in South India, for instance. I found myself in uncomfortably disturbing (3) _____. Actually, there is little danger from a wild elephant unless it happens to be a female with a small (4) _____ along with her. What such situations demand is (5) _____ and not valour.

SubQuestion No : 12

Q.1
2 Select the most appropriate option that will fill in the blank number 4.

- Ans
- 1. pup
 - 2. kitten
 - 3. calf
 - 4. cub

Question ID : 9895806192

Chosen Option : --

Comprehension:

In the following passage some words have been deleted. Fill in the blanks with the help of the alternatives given.

Bird-watching, as it is popularly called, is a peaceful (1) _____. It is not entirely without occasional physical thrills and even (2) _____. The elephant ridden jungles in South India, for instance. I found myself in uncomfortably disturbing (3) _____. Actually, there is little danger from a wild elephant unless it happens to be a female with a small (4) _____ along with her. What such situations demand is (5) _____ and not valour.

SubQuestion No : 13

Q.1
3 Select the most appropriate option that will fill in the blank number 5.

- Ans
- 1. honesty
 - 2. forgetfulness
 - 3. loyalty
 - 4. discretion

Question ID : 9895806193

Chosen Option : --

Q.1
4 Select the most appropriate ANTONYM of the given word.

COARSE

- Ans
- 1. Fine
 - 2. Glossy
 - 3. Texture
 - 4. Rough

Question ID : 9895806197

Chosen Option : --

Q.1
5 Select the correctly spelt word.

- Ans
- 1. Accessories
 - 2. Accessaries
 - 3. Accesories
 - 4. Aecessories

Question ID : 9895806202

Chosen Option : --

Q.1
6 From the given options, identify the segment in the sentence which contains the grammatical error.

Pragati Maidan is the famous international exhibition centre at Delhi for trade fairs.

- Ans
- 1. the famous
 - 2. at Delhi
 - 3. Pragati Maidan is
 - 4. for trade fairs

Question ID : 9895806181

Chosen Option : --

Q.1 Select the most appropriate option to substitute the underlined segment in the given sentence. If there is no need to substitute it, select No improvement.

7 He work in a shop which makes handicraft goods.

- Ans
- 1. works in a shop which make
 - 2. No improvement
 - 3. working in a shop which makes
 - 4. works in a shop which makes

Question ID : 9895806184

Chosen Option : --

Q.1 Select the word which means the same as the group of words given.

8 One that has life

- Ans
- 1. Inanimate
 - 2. Conscious
 - 3. Mortal
 - 4. Animate

Question ID : 9895806200

Chosen Option : --

Q.1 Select the most appropriate word to fill in the blank.

9 People have used indigenous plants for _____ of ailments since ancient times.

- Ans
- 1. adulteration
 - 2. pollution
 - 3. exclusion
 - 4. treatment

Question ID : 9895806205

Chosen Option : --

Q.2 Select the correctly spelt word.

- Ans
- 1. Grievence
 - 2. Greivance
 - 3. Grievanse
 - 4. Grievance

Question ID : 9895806203

Chosen Option : --

Q.2 Select the most appropriate option to fill in the blank.

1 Ten million people watch this television _____ every week.

- Ans
- 1. media
 - 2. incident

3. programme

4. event

Question ID : 9895806186

Chosen Option : --

Q.2 Select the most appropriate option to fill in the blank.

Their wages were very low, so the workers went on a _____.

Ans 1. leave

2. strike

3. strife

4. conflict

Question ID : 9895806187

Chosen Option : --

Q.2 Select the most appropriate option to substitute the underlined segment in the given sentence. If there is no need to substitute it, select No improvement.

If he remains absent from the college, he will have to pay a fine.

Ans 1. If he will remains absent from

2. If he is remain absent from

3. If he is remaining absent from

4. No improvement

Question ID : 9895806185

Chosen Option : --

Q.2 Select the word which means the same as the group of words given.

Those that feed only on plants

Ans 1. Amphibian

2. Herbivorous

3. Predatory

4. Omnivorous

Question ID : 9895806201

Chosen Option : --

Q.2 Select the most appropriate option to substitute the underlined segment in the given sentence. If there is no need to substitute it, select No improvement.

It's getting dark, can you switch the lights please?

Ans 1. can you switch of the lights please?

2. can you switch on the lights please?

3. can you on the lights please?

4. No improvement

Question ID : 9895806183

Chosen Option : --

Section : Hindi Language

Q.1 रिक्त स्थान को भरने के लिए उपयुक्त शब्द का चयन करें।
लड़का लड़की एक _____ हैं।

- Ans
- 1. जैसा
 - 2. भाग
 - 3. समान
 - 4. रिश्ता

Question ID : 9895805981
Chosen Option : 4

Comprehension:

निम्नलिखित गद्यांश के रिक्त स्थानों की पूर्ति गद्यांश के नीचे दिए गए प्रश्नों के अनुसार कीजिए -

भारतवर्ष अपनी चित्रकला, शिल्पकला और वास्तुकला के लिए पूरे विश्व में _____ (1) है। आगरा में यमुना तट पर स्थित ताजमहल वास्तुकला का एक अद्भुत _____ (2) है। अपनी निर्माणकला के कारण ही यह विश्व के सात _____ (3) में से एक है। सफेद संगमरमर से बने ताज की _____ (4) सुंदरता को देखकर विदेशी पर्यटक दाँतों तले उँगली दबा लेते हैं। ताजमहल का निर्माण बादशाह शाहजहाँ ने अपनी बेगम मुमताज की _____ (5) में करवाया था।

SubQuestion No : 2

Q.2 गद्यांश में संकेतित रिक्त स्थान (1) के लिए उपयुक्त शब्द होगा -

- Ans
- 1. प्रसिद्ध
 - 2. अज्ञात
 - 3. महान
 - 4. सम्मान

Question ID : 9895805983
Chosen Option : 1

Comprehension:

निम्नलिखित गद्यांश के रिक्त स्थानों की पूर्ति गद्यांश के नीचे दिए गए प्रश्नों के अनुसार कीजिए -

भारतवर्ष अपनी चित्रकला, शिल्पकला और वास्तुकला के लिए पूरे विश्व में _____ (1) है। आगरा में यमुना तट पर स्थित ताजमहल वास्तुकला का एक अद्भुत _____ (2) है। अपनी निर्माणकला के कारण ही यह विश्व के सात _____ (3) में से एक है। सफेद संगमरमर से बने ताज की _____ (4) सुंदरता को देखकर विदेशी पर्यटक दाँतों तले उँगली दबा लेते हैं। ताजमहल का निर्माण बादशाह शाहजहाँ ने अपनी बेगम मुमताज की _____ (5) में करवाया था।

SubQuestion No : 3

Q.3 गद्यांश में संकेतित रिक्त स्थान (2) के लिए उपयुक्त शब्द होगा -

- Ans
- 1. कला
 - 2. तस्वीर
 - 3. नमूना
 - 4. चित्र

Question ID : 9895805984

Chosen Option : 3

Comprehension:

निम्नलिखित गद्यांश के रिक्त स्थानों की पूर्ति गद्यांश के नीचे दिए गए प्रश्नों के अनुसार कीजिए -

भारतवर्ष अपनी चित्रकला, शिल्पकला और वास्तुकला के लिए पूरे विश्व में _____ (1) है। आगरा में यमुना तट पर स्थित ताजमहल वास्तुकला का एक अद्भुत _____ (2) है। अपनी निर्माणकला के कारण ही यह विश्व के सात _____ (3) में से एक है। सफेद संगमरमर से बने ताज की _____ (4) सुंदरता को देखकर विदेशी पर्यटक दाँतों तले उँगली दबा लेते हैं। ताजमहल का निर्माण बादशाह शाहजहाँ ने अपनी बेगम मुमताज की _____ (5) में करवाया था।

SubQuestion No : 4

Q.4 गद्यांश में संकेतित रिक्त स्थान (3) के लिए उपयुक्त शब्द होगा -

- Ans
- 1. अजीबों

2. अजूबों
3. प्रमाणों
4. कल्पनाओं

Question ID : 9895805985
Chosen Option : 2

Comprehension:

निम्नलिखित गद्यांश के रिक्त स्थानों की पूर्ति गद्यांश के नीचे दिए गए प्रश्नों के अनुसार कीजिए -

भारतवर्ष अपनी चित्रकला, शिल्पकला और वास्तुकला के लिए पूरे विश्व में _____ (1) है। आगरा में यमुना तट पर स्थित ताजमहल वास्तुकला का एक अद्भुत _____ (2) है। अपनी निर्माणकला के कारण ही यह विश्व के सात _____ (3) में से एक है। सफेद संगमरमर से बने ताज की _____ (4) सुंदरता को देखकर विदेशी पर्यटक दाँतों तले उँगली दबा लेते हैं। ताजमहल का निर्माण बादशाह शाहजहाँ ने अपनी बेगम मुमताज की _____ (5) में करवाया था।

SubQuestion No : 5

Q.5 गद्यांश में संकेतित रिक्त स्थान (4) के लिए उपयुक्त शब्द होगा -

- Ans 1. आकर्षण
2. भयंकर
3. अनुपम
4. स्वच्छ

Question ID : 9895805986
Chosen Option : 3

Comprehension:

निम्नलिखित गद्यांश के रिक्त स्थानों की पूर्ति गद्यांश के नीचे दिए गए प्रश्नों के अनुसार कीजिए -

भारतवर्ष अपनी चित्रकला, शिल्पकला और वास्तुकला के लिए पूरे विश्व में _____ (1) है। आगरा में यमुना तट पर स्थित ताजमहल वास्तुकला का एक अद्भुत _____ (2) है। अपनी निर्माणकला के कारण ही यह विश्व के सात _____ (3) में से एक है। सफेद संगमरमर से बने ताज की _____ (4) सुंदरता को देखकर विदेशी पर्यटक दाँतों तले उँगली दबा लेते हैं। ताजमहल का निर्माण बादशाह शाहजहाँ ने अपनी बेगम मुमताज की _____ (5) में करवाया था।

SubQuestion No : 6

Q.6 गद्यांश में संकेतित रिक्त स्थान (5) के लिए उपयुक्त शब्द होगा -

- Ans
- 1. याद
 - 2. खुशी
 - 3. उत्सव
 - 4. प्रभाव

Question ID : 9895805987
Chosen Option : 1

Q.7 दिए गए शब्द के पर्यायवाची शब्द का चयन करें।

शेर

- Ans
- 1. राकेश
 - 2. अनल
 - 3. धनु
 - 4. मृगेन्द्र

Question ID : 9895805990
Chosen Option : 4

Q.8 रिक्त स्थान को भरने के लिए उपयुक्त शब्द का चयन करें।

भारत को स्वच्छ बनाने के लिए हर नागरिक की _____ की आवश्यकता है।

- Ans
- 1. चौकीदारी
 - 2. जहाँगीरदारी
 - 3. भागीदारी
 - 4. जमींदारी

Question ID : 9895805979

Chosen Option : 3

Q.9 दिए गए वाक्य का वह भाग ज्ञात करें जिसमें कोई त्रुटि है।

राजनीतिक दल आपसी तनाव की लाभ उठाकर राजनीतिक स्वार्थ पूरा करते हैं।

- Ans
- 1. राजनीतिक स्वार्थ
 - 2. राजनीतिक दल
 - 3. पूरा करते हैं।
 - 4. आपसी तनाव की लाभ उठाकर

Question ID : 9895805974

Chosen Option : 4

Q.1 0 दिए गए वाक्य में रेखांकित खंड को प्रतिस्थापित करने के लिए उपयुक्त विकल्प का चयन करें।

शिकारी ने सिंह पर गोली चलाई, पर वह बच निकला।

- Ans
- 1. मृगेंद्र
 - 2. जंगल
 - 3. हिरण
 - 4. बैरी

Question ID : 9895805976

Chosen Option : 1

Q.1 1 दिए गए शब्द का विलोम चुनें।

प्रसन्न

- Ans
- 1. प्रफुल्ल
 - 2. हर्षित
 - 3. उल्लसित
 - 4. खिन्न

Question ID : 9895805989

Chosen Option : 1

Q.1 2 दिए गए शब्द के पर्यायवाची शब्द का चयन करें।

तलवार

- Ans
- 1. तड़ाग
 - 2. क्षीर
 - 3. वसन
 - 4. खड्ग

Question ID : 9895805991

Chosen Option : 4

Q.1

3 दिए गए वाक्य का वह भाग ज्ञात करें जिसमें कोई त्रुटि है।

यदि नदियाँ नहीं बचाई गईं तो इनका अस्तित्व ही समाप्त हो जाएगी।

Ans

- 1. इनका अस्तित्व ही
- 2. नहीं बचाई गईं तो
- 3. समाप्त हो जाएगी।
- 4. यदि नदियाँ

Question ID : 9895805972
Chosen Option : 3

Q.1
4 दिए गए वाक्य का वह भाग ज्ञात करें जिसमें कोई त्रुटि है।

संत-महात्मा अपना सादगी और पवित्रता के कारण लोकप्रिय होते हैं।

Ans

- 1. संत-महात्मा
- 2. और पवित्रता के कारण
- 3. अपना सादगी
- 4. लोकप्रिय होते हैं।

Question ID : 9895805973
Chosen Option : 3

Q.1
5 दिये गये वाक्यांश के लिए एक शब्द दीजिये।

जिसका इलाज न हो सके

Ans

- 1. दुस्साध्य
- 2. साध्य
- 3. असाध्य
- 4. कुंठा

Question ID : 9895805995
Chosen Option : 3

Q.1
6 रिक्त स्थान को भरने के लिए उपयुक्त शब्द का चयन करें।

उसने चोरी ही _____ बल्कि हत्या भी की।

Ans

- 1. की
- 2. परंतु
- 3. और
- 4. नहीं

Question ID : 9895805978
Chosen Option : 4

Q.1

7 सही वर्तनी वाले शब्द का चयन करें।

- Ans
- 1. मुरलीदर
 - 2. मूर्लीधर
 - 3. मुरलीधर
 - 4. मुरलिदर

Question ID : 9895805996
Chosen Option : 3

Q.1
8 सही वर्तनी वाले शब्द का चयन करें।

- Ans
- 1. पन्खुड़ी
 - 2. पंखूड़ी
 - 3. पंखुड़ी
 - 4. पनखुड़ी

Question ID : 9895805997
Chosen Option : 4

Q.1
9 निम्नलिखित में से उस विकल्प का चयन करें जो 'पेट पर लात मारना' मुहावरे का अर्थ व्यक्त करता है।

- Ans
- 1. लात से पेट पर चोट पहुँचाना
 - 2. बहुत भूख लगना
 - 3. पेट पर लात मार कर लड़ना
 - 4. आजीविका से वंचित करना

Question ID : 9895805993
Chosen Option : 4

Q.2
0 दिये गये वाक्यांश के लिए एक शब्द दीजिये।

जो उपकार को माने

- Ans
- 1. कर्मठ
 - 2. कृतघ्न
 - 3. कर्मज
 - 4. कृतज्ञ

Question ID : 9895805994
Chosen Option : 4

Q.2
1 निम्नलिखित में से उस विकल्प का चयन करें जो 'पिंड छुड़ाना' मुहावरे का अर्थ व्यक्त करता है।

- Ans
- 1. पीछे पड़ना
 - 2. पीछा छुड़ाना

3. पीछे लगाना

4. पीछा करना

Question ID : 9895805992
Chosen Option : 2

Q.2
2 रिक्त स्थान को भरने के लिए उपयुक्त शब्द का चयन करें।

वे पार्क में _____ कर रहे हैं।

- Ans
- 1. घूम
 - 2. भाग
 - 3. भ्रमण
 - 4. चल

Question ID : 9895805980
Chosen Option : 3

Q.2
3 दिए गए शब्द का विलोम चुनें।

वाचाल

- Ans
- 1. मितभाषी
 - 2. निर्दोषी
 - 3. सुभाषी
 - 4. मृदुभाषी

Question ID : 9895805988
Chosen Option : 1

Q.2
4 दिए गए वाक्य में रेखांकित खंड को प्रतिस्थापित करने के लिए उपयुक्त विकल्प का चयन करें।

मैंने अपनी किताब अपने मित्र को दे दी।

- Ans
- 1. पुस्तक
 - 2. स्वयं
 - 3. महाकाव्य
 - 4. खण्डकाव्य

Question ID : 9895805977
Chosen Option : 1

Q.2
5 दिए गए वाक्य में रेखांकित खंड को प्रतिस्थापित करने के लिए उपयुक्त विकल्प का चयन करें।

जीवन में सफलता पाने का मुख्य साधन समय से नयोजन है।

- Ans
- 1. समय का नयोजन है।
 - 2. समय की नयोजन है।
 - 3. समय में नयोजन है।
 - 4. समय को नयोजन है।

Download More Papers From GovtJobsAlert.In

Question ID : **9895805975**
Chosen Option : **1**

GovtJobsAlert.In

Download More Papers From GovtJobsAlert.In