

Constable (GD) in CAPFs, NIA, SSF and Rifleman (GD) in Assam Rifles Examination, 2018

Roll No. :	GovtJobsAlert.In
Registration No.	GovtJobsAlert.In
Name :	GovtJobsAlert.In
Exam Venue :	GovtJobsAlert.In
Exam Time :	9:00 AM - 10:30 AM
Exam Date :	01/03/2019

Section : General Section

Q.1 दीया की पढाई में पाँच विषय अर्थात A, B, C, D और E हैं। वह सप्ताह में सोमवार से शुक्रवार तक उनका अध्ययन करती है। प्रत्येक दिन, केवल एक विषय का अध्ययन किया जाएगा। D या E अध्ययन किया जाने वाला पहला या अंतिम विषय नहीं होना चाहिए। E के तुरंत बाद C का अध्ययन किया जाना चाहिए और D के तुरंत बाद B का अध्ययन किया जाना चाहिए। A और B के बीच एक एक विषय का अध्ययन किया जाना चाहिए। फिर सोमवार के बाद वह कौन सा विषय तुरंत पढ़ती है?

- Ans
- 1. A
 - 2. D
 - 3. E
 - 4. B

Question ID : 9895808149
Chosen Option : 3

Q.2 U, V, W, X, Y and Z are seated in a circle facing the centre such that each one is facing another one. X is between Z and V. U is second to the left of X and second to the right of Y. Who is facing X?

- Ans
- 1. U
 - 2. W
 - 3. Z
 - 4. Y

Question ID : 9895808147
Chosen Option : 4

Q.3 Six friends, P, Q, R, S, T and U, are sitting in a closed circle facing the centre such that each one is facing another one. P is facing S. R is between P and Q. U is between P and T who is sitting right of S. Who is sitting to the immediate right of R?

- Ans
- 1. S
 - 2. Q
 - 3. P
 - 4. T

Question ID : 9895808148
Chosen Option : 3

Q.4

निम्नलिखित श्रृंखला में अगले पद का चयन करें।

PC, RF, TI, VL, XO, _____

- Ans
- 1. ZQ
 - 2. YR
 - 3. YQ
 - 4. ZR

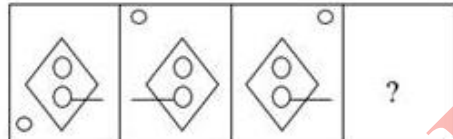
Question ID : 9895808139
Chosen Option : 4

Q.5 यदि D = 3, G = 6, और FUN = 38, तब PRESIDENT = _____.

- Ans
- 1. 110
 - 2. 119
 - 3. 100
 - 4. 101

Question ID : 9895808145
Chosen Option : 3

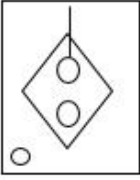
Q.6 निम्नलिखित श्रृंखला में आगे आने वाली आकृति का चयन करें।



Ans

- 1.
- 2.
- 3.

4.



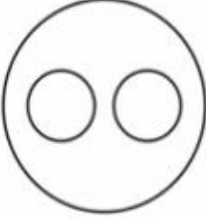
Question ID : 9895808158
Chosen Option : 3

Q.7 वेन आरेख का चयन करें जो दिए गए तीन वर्गों के बीच के संबंध को सर्वोत्तम दर्शाता है।

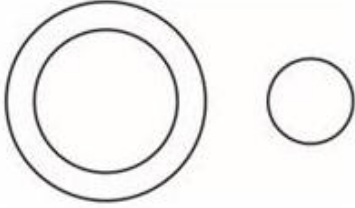
फूल, लाल, कपड़ा

Ans

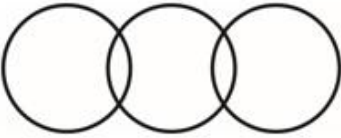
1.




2.



3.



4.



Question ID : 9895808163
Chosen Option : 3

Q.8 नीचे दिए गए कथनों के बाद तीन निष्कर्ष I, II और III दिए गए हैं। यह मानते हुए कि कथनों में दी गई जानकारी सत्य है, भले ही वह सर्वज्ञात तथ्यों से भिन्न प्रतीत होती हो और यह निर्णय करें कि कौन सा/से निष्कर्ष तार्किक और निश्चित रूप से कथन में दी गई जानकारी का अनुसरण करता है/करते हैं।

कथन:

सभी गेंदें नाव हैं।

सभी नावें कार हैं।

निष्कर्ष:

I. कुछ कारें गेंद हैं।

II. सभी गेंदें कार हैं।

III. सभी कारें गेंद हैं।

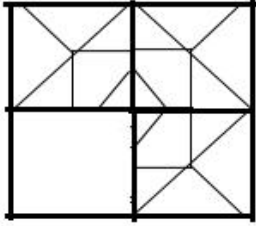
Ans

1. केवल निष्कर्ष II और III अनुसरण करते हैं।

- ✗ 2. सभी निष्कर्ष अनुसरण करते हैं।
✗ 3. केवल निष्कर्ष III अनुसरण करता है।
✓ 4. केवल निष्कर्ष I और II अनुसरण करते हैं।

Question ID : 9895808150
Chosen Option : 4

Q.9 निम्नलिखित पैटर्न को पूरा करने के लिए सही विकल्प का चयन करें।



Ans

- ✓ 1.
- ✗ 2.
- ✗ 3.
- ✗ 4.

Question ID : 9895808160
Chosen Option : 1

Q.10 उस शब्द-युग्म का चयन करें जो दिए गए शब्द -युग्म के अनुरूप है।

फ्रांस : पेरिस

- Ans ✓ 1. क्यूबा : हवाना
✗ 2. ईरान : रियाल
✗ 3. भारत : मुंबई
✗ 4. चीन : युआन

Question ID : 9895808143
Chosen Option : 1

Q.1 In the following number series, two numbers have been put within brackets. Study the series carefully and select the correct alternative with respect to the series.

1, 1, 2, 6, 24, (121), 720, (5040), 40320

Ans 1.

The first bracketed number (from the left) is incorrect and the second is correct.

2.

The first bracketed number (from the left) is correct and the second is incorrect.

3. Both the bracketed numbers are correct.

4. Both the bracketed numbers are incorrect.

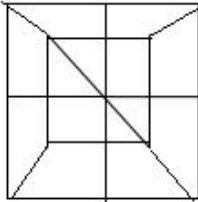
Question ID : 9895808157
Chosen Option : 3

Q.1 ₂ उस विकल्प का चयन करें जिसमें दी गई आकृति अंतर्निहित है।

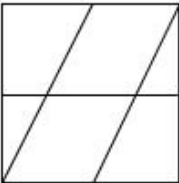


Ans

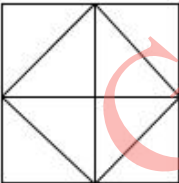
1.



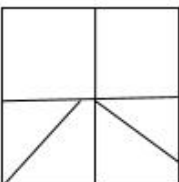
2.



3.



4.



Question ID : 9895808159
Chosen Option : 1

Q.1 Choose the option that most closely resembles the mirror image of the given word when mirror is placed at right side.

3
AIM

Ans 1. WIA

- 2. MIA
- 3. AIW
- 4. AIM

Question ID : 9895808161
Chosen Option : 2

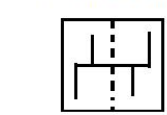
Q.1 Select the option that is related to the third term in the same way as the second term is related to the first term.

4 Where : Place :: When : _____

- Ans
- 1. There
 - 2. Time
 - 3. Then
 - 4. Why

Question ID : 9895808144
Chosen Option : 2

Q.1 निम्नलिखित प्रश्न में, एक पैटर्न के साथ एक चौकोर पारदर्शी शीट दी गई है। चार विकल्पों में से यह चयन करें कि पारदर्शी शीट को बिंदुकित रेखा पर मोड़ने पर पैटर्न कैसा दिखाई देगा।



Ans

- 1.
- 2.
- 3.
- 4.

Question ID : 9895808162
Chosen Option : 4

Q.1 उस विकल्प का चयन करें जो तीसरी संख्या से उसी तरह से संबंधित है जिस प्रकार दूसरी संख्या पहली संख्या से संबंधित है।

6 9 : 100 :: 13 : _____

- Ans
- 1. 144
 - 2. 196
 - 3. 169
 - 4. 130

Question ID : 9895808154
Chosen Option : 2

Q.1
7 यदि SQUARE को TSXEWK के रूप में कूटबद्ध किया जाता है, तो TRIANGLE को किस रूप में कूटबद्ध किया जाएगा।

- Ans
- 1. UTLESMSM
 - 2. UTLFSMSM
 - 3. UTLESMSN
 - 4. UTLESNSM

Question ID : 9895808146
Chosen Option : 3

Q.1
8 निम्नलिखित में से असंगत की पहचान करें।

- Ans
- 1. VXZ
 - 2. PRT
 - 3. CFG
 - 4. HJL

Question ID : 9895808140
Chosen Option : 3

Q.1
9 उस संख्या का चयन करें जो निम्न श्रृंखला से संबंधित नहीं है।

3, 6, 9, 12, 15, 18, 21, 24, 28, 30

- Ans
- 1. 28
 - 2. 18
 - 3. 15
 - 4. 30

Question ID : 9895808153
Chosen Option : 1

Q.2
0 उस संख्या युग्म का चयन करें जो बाकी सब से अलग है।

- Ans
- 1. 9 - 729
 - 2. 7 - 345
 - 3. 3 - 27
 - 4. 5 - 125

Question ID : 9895808155

Chosen Option : 2

Q.2
1 उस विकल्प का चयन करें जो सही रूप में रिक्त स्थान को भरे और श्रृंखला को पूरा करें।

$\frac{2}{3}, \frac{4}{5}, \frac{6}{7}, \frac{8}{9}, \frac{10}{11}, \frac{12}{13}, \text{ —————}$

Ans

1. $\frac{14}{15}$

2. $\frac{14}{16}$

3. $\frac{13}{15}$

4. $\frac{13}{14}$

Question ID : 9895808152

Chosen Option : 1

Q.2
2 दिए गए समीकरण को सही बनाने के लिए किन दो चिहनों को परस्पर बदलना होगा?

$100 \div 10 \times 100 - 10 + 100 = 910$

Ans

1. + और ÷

2. ÷ और ×

3. × और -

4. + और -

Question ID : 9895808156

Chosen Option : 4

Q.2
3 Four pairs of words have been given, out of which three are alike in some manner, while one is different. Choose out the odd one.

Ans

1. Bear : Cub

2. Lion : Lioness

3. Brother : Sister

4. Cock : Hen

Question ID : 9895808142

Chosen Option : 3

Q.2
4 दिए गए कथनों और निष्कर्षों को ध्यानपूर्वक पढ़ें और तय करें कि कथनों में से कौन सा निष्कर्ष तार्किक रूप से अनुसरण करता है।

कथन:

गेटवे ऑफ इंडिया मुंबई में है।

मुंबई भारत में है।

निष्कर्ष:

गेटवे ऑफ इंडिया भारत में है।

Ans

1. संभवतः गलत

2. सही
 3. गलत
 4. संभवतः सही

Question ID : 9895808151
Chosen Option : 2

Q.2 Four words have been given out of which three are alike in some manner, while one is different. Choose the odd one.
5

- Ans 1. Force
 2. Volt
 3. Volume
 4. Power

Question ID : 9895808141
Chosen Option : 1

Q.2 प्राकृतिक प्रक्रिया के माध्यम से किसी वस्तु का उत्पादन भारतीय अर्थव्यवस्था के किस क्षेत्र से संबंधित कार्यकलाप है?
6

- Ans 1. द्वितीयक
 2. प्राथमिक
 3. तृतीयक
 4. चतुर्थक

Question ID : 9895807212
Chosen Option : 1

Q.2 भारतीय इतिहास के मध्यकाल के कवि तुलसीदास जी ने 'रामचरितमानस' किस भाषा में लिखा था?
7

- Ans 1. संस्कृत
 2. प्राकृत
 3. पाली
 4. अवधी

Question ID : 9895807226
Chosen Option : 1

Q.2 निम्न में से कौन से प्रसिद्ध भारतीय व्यक्तित्व 'पानी फाउंडेशन' के संस्थापक हैं?
8

- Ans 1. सलमान खान
 2. अमीर खान
 3. शाहरुख खान
 4. रणवीर सिंह

Question ID : 9895807210
Chosen Option : 2

Q.2
9 दिए गए विकल्पों में से कौन सी बीमारी सुअर से फैलती है?

- Ans
- 1. प्लेग
 - 2. निपा
 - 3. जीका
 - 4. स्वाइन फ्लू

Question ID : 9895807221
Chosen Option : 1

Q.3
0 राजकोषीय नीति निम्नलिखित में से किस अर्थशास्त्री द्वारा दिए गए आर्थिक सिद्धांत पर आधारित है?

- Ans
- 1. जॉन मेनार्ड कीन्स
 - 2. मिल्टन फ्रीडमैन
 - 3. जॉन नैश
 - 4. एडम स्मिथ

Question ID : 9895807211
Chosen Option : 4

Q.3
1 'थेयम' निम्नलिखित में से किस राज्य का लोकप्रिय नृत्य है?

- Ans
- 1. केरल
 - 2. गुजरात
 - 3. कर्नाटक
 - 4. मणिपुर

Question ID : 9895807203
Chosen Option : 4

Q.3
2 भारतीय उप-महाद्वीप में पाए जाने वाले 'अज़ादिराछटा इंडिका' किस सदाबहार पेड़ का वानस्पतिक नाम है?

- Ans
- 1. नीम
 - 2. गुड़हल
 - 3. करी का पेड़
 - 4. देवदार का पेड़

Question ID : 9895807219
Chosen Option : 4

Q.3
3 शीर्षक 'द लीजेंड ऑफ लक्ष्मी प्रसाद' पुस्तक निम्नलिखित में से किस लेखक द्वारा लिखा गया है?

- Ans
- 1. शोभा डे
 - 2. अरुंधति राय
 - 3. ट्विंकल खन्ना
 - 4. झुम्पा लाहिड़ी

Question ID : 9895807209
Chosen Option : 1

Q.3
4 निम्नलिखित में से कौन दक्षिण भारत की सबसे लंबी नदी है?

- Ans
- 1. कृष्णा
 - 2. तुंगभद्रा
 - 3. गोदावरी
 - 4. नर्मदा

Question ID : 9895807222
Chosen Option : 3

Q.3
5 इंडिगो एयरलाइन्स का सह-संस्थापक कौन है?

- Ans
- 1. पवन मुंजाल
 - 2. किरण मजूमदार शॉ
 - 3. राहुल भाटिया
 - 4. वाई. सी. देवेश्वर

Question ID : 9895807208
Chosen Option : 3

Q.3
6 पृथ्वी के वायुमंडल की किस परत में ओजोन परत पाई जाती है?

- Ans
- 1. क्षोभ मण्डल
 - 2. मध्यमण्डल
 - 3. बहिर्मंडल
 - 4. समताप मण्डल

Question ID : 9895807220
Chosen Option : 2

Q.3
7 2018 को प्राथमिक सदस्यता की दृष्टि से दुनिया की सबसे बड़ी राजनीतिक पार्टी कौन सी है?

- Ans
- 1. भारतीय जनता पार्टी
 - 2. अमेरिका की डेमोक्रेटिक पार्टी

3. यूके की कंजर्वेटिव पार्टी
4. नेशनल रिपब्लिकन पार्टी यू.एस.

Question ID : 9895807216
Chosen Option : 1

Q.3
8 मछली में मौजूद राइबोफ्लेविन को _____ के रूप में भी जाना जाता है।

- Ans 1. विटामिन B12
2. विटामिन B2
3. विटामिन K
4. विटामिन C

Question ID : 9895807218
Chosen Option : 1

Q.3
9 जनवरी 2019 तक, भारतीय संविधान में अनुच्छेदों की संख्या कितनी है?

- Ans 1. 448
2. 395
3. 402
4. 431

Question ID : 9895807214
Chosen Option : 1

Q.4
0 इक्का (घोड़े द्वारा खींचे जाने वाली गाड़ी) की गति भौतिकी के किस सिद्धांत का एक उदाहरण है?

- Ans 1. आर्किमिडीज सिद्धांत
2. अवोगाद्रो का नियम
3. न्यूटन की गति का तीसरा नियम
4. ओम का नियम

Question ID : 9895807217
Chosen Option : 1

Q.4
1 ऐतिहासिक स्मारक 'तलातल घर' निम्नलिखित में से किस भारतीय राज्य में स्थित है?

- Ans 1. ओडिशा
2. पश्चिम बंगाल
3. सिक्किम
4. असम

Question ID : 9895807205

Q.4
2 फरवरी 2019 की स्थिति के अनुसार विश्व बैंक की मानव पूंजी सूचकांक (HCI) रैंकिंग में भारत का स्थान क्या है?

- Ans
- 1. 104
 - 2. 115
 - 3. 126
 - 4. 124

Question ID : 9895807224
Chosen Option : 1

Q.4
3 महान भारतीय खिलाड़ी 'विजय अमृतराज' निम्न में से किस खेल से संबंधित थे?

- Ans
- 1. बैडमिंटन
 - 2. तैराकी
 - 3. लॉन टेनिस
 - 4. राइफल शूटिंग

Question ID : 9895807206
Chosen Option : 2

Q.4
4 2022 में होने वाले शीतकालीन ओलंपिक खेलों की मेजबानी कौन सा शहर करेगा?

- Ans
- 1. पेरिस
 - 2. लॉस एंजिलिस
 - 3. टोक्यो
 - 4. बीजिंग

Question ID : 9895807207
Chosen Option : 4

Q.4
5 राष्ट्रीय खाद्य सुरक्षा अधिनियम निम्नलिखित में से किस वर्ष में पारित किया गया था?

- Ans
- 1. 2012
 - 2. 2013
 - 3. 2014
 - 4. 2011

Question ID : 9895807213
Chosen Option : 4

Q.4
6 दुनिया में किस पर्वत दर्रे पर दुनिया की सबसे ऊंची मोटर वाहन योग्य सड़क है?

- Ans
- 1. डुंगरी-ला

- 2. नाथू-ला
- 3. शिपकी-ला
- 4. जलेप-ला

Question ID : 9895807223
Chosen Option : 1

Q.4
7 भारत में फ्रांसीसी उपनिवेश की राजधानी क्या थी?

- Ans
- 1. कालीकट
 - 2. पुदुचेरी
 - 3. गोवा
 - 4. कोचीन

Question ID : 9895807227
Chosen Option : 4

Q.4
8 7 वीं शताब्दी के प्रारंभ के साथ, थानेश्वर और कन्नौज के सिंहासन पर कौन विराजमान हुआ?

- Ans
- 1. हर्षवर्धन
 - 2. राजेंद्र चोल I
 - 3. कृष्णदेव
 - 4. चन्द्रगुप्त II

Question ID : 9895807225
Chosen Option : 1

Q.4
9 'हरेली' का त्योहार निम्नलिखित में से किस भारतीय राज्य में मनाया जाता है?

- Ans
- 1. पंजाब
 - 2. मध्य प्रदेश
 - 3. ओडिशा
 - 4. छत्तीसगढ़

Question ID : 9895807204
Chosen Option : 1

Q.5
0 दिए गए किस वर्ष के उपभोक्ता संरक्षण अधिनियम के स्थान पर उपभोक्ता संरक्षण विधेयक 2018 को पारित किया गया है?

- Ans
- 1. 1991
 - 2. 1981
 - 3. 1986
 - 4. 1978

Question ID : 9895807215

Chosen Option : 2

Q.5 ₁ कितने वर्षों में, एक धनराशि 5% प्रति वर्ष की ब्याज दर पर तिगुनी हो जाएगा?

- Ans
- 1. 40 वर्ष
 - 2. 20 वर्ष
 - 3. 30 वर्ष
 - 4. 25 वर्ष

Question ID : 9895807537

Chosen Option : 1

Q.5 तालिका का ठीक से अध्ययन करें और आंकड़ों की व्याख्या करके उत्तर दें।

2 तालिका में एक राज्य में पांच जिलों में गरीबी रेखा से नीचे जनसंख्या का प्रतिशत और पुरुषों और महिलाओं के अनुपात दर्शाया गया है।

जिला	गरीबी रेखा से नीचे जनसंख्या का प्रतिशत	पुरुषों और महिलाओं के अनुपात	
		गरीबी रेखा से नीचे (M:F)	गरीबी रेखा से ऊपर (M:F)
D1	15	2:3	3:2
D2	18	3:4	7:5
D3	20	2:5	3:4
D4	25	5:2	4:3
D5	12	3:7	2:7

यदि जिला D₄ की कुल जनसंख्या 35000 है, तो जिला D₄ में गरीबी रेखा से ऊपर महिलाओं की संख्या कितनी है?

- Ans
- 1. 10,500
 - 2. 11,250
 - 3. 14,240
 - 4. 12,450

Question ID : 9895807550

Chosen Option : 4

Q.5 दो स्टेशनों के बीच की दूरी 500 km है। एक ट्रेन सुबह 9 बजे स्टेशन 'A' से निकलती है और 60 km/hrs की रफ्तार से स्टेशन 'B' की ओर जाती है। दूसरी ट्रेन सुबह 10 बजे स्टेशन 'B' से निकलती है और 40 km/hrs की रफ्तार से 'A' की ओर जाती है। किस समय पर दोनों ट्रेन एक दूसरे से गुजरेंगी?

- Ans
- 1. 1.36 PM
 - 2. 3.36 PM
 - 3. 2.24 PM
 - 4. 12.45 PM

Question ID : 9895807542

Chosen Option : 2

Q.5 दो संख्याएँ तीसरी संख्या से क्रमशः 25 और 36 कम हैं। पहली संख्या का प्रतिशत दूसरी संख्या से कितना कम है?

- Ans
- 1. 61%
 - 2. 18%
 - 3. 11%
 - 4. 12%

Question ID : 9895807536
Chosen Option : 2

Q.5 एक ट्रेन 72 km/hrs की रफ्तार से चल रही है। ट्रेन द्वारा 15 मिनट में तय की गई दूरी है:

- Ans
- 1. 28 km
 - 2. 18 km
 - 3. 27 km
 - 4. 36 km

Question ID : 9895807541
Chosen Option : 2

Q.5 दो संख्याएँ तीसरी संख्या से क्रमशः 20% और 40% अधिक हैं। पहली और दूसरी संख्या का अनुपात है:

- Ans
- 1. 6:7
 - 2. 7:5
 - 3. 5:7
 - 4. 7:6

Question ID : 9895807547
Chosen Option : 1

Q.5 यदि $(x+y):(x-y)=3:2$, तो $(x^2+y^2):(x^2-y^2)$ का अनुपात होगा:

- Ans
- 1. 12:13
 - 2. 5:12
 - 3. 24:5
 - 4. 13:12

Question ID : 9895807548
Chosen Option : 2

Q.5 $30 \div 6 \times 5$ of $(2 + 3) - 12(3 \times 2)$ का मान निम्न में से किसके बराबर है:

- Ans
- 1. 53
 - 2. 35
 - 3. 28
 - 4. 82

Question ID : 9895807529
Chosen Option : 1

Q.5 'A' पाइप 20 मिनट में एक टैंक खाली कर सकता है। दूसरे पाइप 'B' का व्यास पाइप 'A' के व्यास से दोगुना है। यदि दोनों A और B पाइप टैंक से जुड़े हैं तो टैंक को खाली करने में लगेगा?

- Ans
- 1. $10\frac{1}{2}$ मिनट
 - 2. 25 मिनट
 - 3. $6\frac{2}{3}$ मिनट
 - 4. 15 मिनट

Question ID : 9895807539
Chosen Option : 3

Q.6 एक पहिया 4000 बार परिभ्रमण करके 60 km की दूरी तय करता है। पहिये की त्रिज्या है:

- Ans
- 1. 8.25 m
 - 2. 2.38 m
 - 3. 4.68 m
 - 4. 8 m

Question ID : 9895807543
Chosen Option : 1

Q.6 एक टीवी ₹8,500 में बेचने पर एक व्यक्ति को 15% का नुकसान होता है। 5% लाभ प्राप्त करने के लिए, टीवी का विक्रय मूल्य क्या होगा?

- Ans
- 1. ₹10,500
 - 2. ₹10,000
 - 3. ₹9,000
 - 4. ₹9,500

Question ID : 9895807534
Chosen Option : 1

Q.6 दो संख्याओं के महत्तम समावर्तक और लघुत्तम समावर्त्य क्रमशः 12 और 240 है। यदि एक संख्या 24 है, तो दूसरी संख्या क्या है?

- Ans
- 1. 264
 - 2. 144
 - 3. 120
 - 4. 228

Question ID : 9895807528
Chosen Option : 3Q.6
3

तालिका का ठीक से अध्ययन करें और आंकड़े की व्याख्या करके उत्तर दें।

तालिका में एक राज्य में पांच जिलों में गरीबी रेखा से नीचे जनसंख्या का प्रतिशत और पुरुषों और महिलाओं के अनुपात दर्शाया गया है।

जिला	गरीबी रेखा से नीचे जनसंख्या का प्रतिशत	पुरुषों और महिलाओं के अनुपात	
		गरीबी रेखा से नीचे (M:F)	गरीबी रेखा से ऊपर (M:F)
D1	15	2:3	3:2
D2	18	3:4	7:5
D3	20	2:5	3:4
D4	25	5:2	4:3
D5	12	3:7	2:7

यदि जिला D₃ की कुल आबादी 40,000 है, तो जिला D₃ में गरीबी रेखा से नीचे की आबादी क्या है?

- Ans
- 1. 10,000
 - 2. 12,000
 - 3. 8,000
 - 4. 5,000

Question ID : 9895807551
Chosen Option : 3

Q.6
4 दो वर्गों के क्षेत्रफल 16:9 हैं। उनकी परिधि का अनुपात है:

- Ans
- 1. 12:16
 - 2. 16:12
 - 3. 9:12
 - 4. 9:16

Question ID : 9895807545
Chosen Option : 2

Q.6
5 वार्षिक आधार पर चक्रवृद्धि 5% प्रति वर्ष की दर से 2 वर्ष के लिए राशि पर चक्रवृद्धि ब्याज ₹205 है। साधारण ब्याज है:

- Ans
- 1. ₹210
 - 2. ₹250
 - 3. ₹220
 - 4. ₹200

Question ID : 9895807538
Chosen Option : 4

Q.6
6 एक विश्वविद्यालय में, विज्ञान, गणित और भाषा का अध्ययन करने वाले छात्रों की संख्या 2:4:9 के अनुपात में है। यदि विज्ञान, गणित और भाषा के छात्रों की संख्या में क्रमशः 10%, 20% और 40% की वृद्धि की जाती है, तो नया अनुपात क्या होगा?

- Ans
- 1. 11:24:63
 - 2. 63:11:24
 - 3. 24:11:63

✗ 4. 12:23:63

Question ID : 9895807546
Chosen Option : 1

Q.6 कक्षा IX में, छह छात्रों के लिए विज्ञान में अंकों का औसत 48 था। परिणाम घोषित होने के बाद, यह एक छात्र के
7 मामले में पाया गया कि अंक 45 को गलती से 54 पढ़ लिया गया था। सही औसत है:

- Ans
- ✗ 1. 64.39
 - ✓ 2. 46.50
 - ✗ 3. 46.40
 - ✗ 4. 76.50

Question ID : 9895807532
Chosen Option : 2

Q.6 एक व्यापारी ₹24,500 अंकित मूल्य के सोफा सेट के पर 5% प्रत्येक की दो क्रमिक छूटें देता है। सोफा सेट का बिक्री
8 मूल्य है:

- Ans
- ✗ 1. ₹23,274.75
 - ✓ 2. ₹22,111.75
 - ✗ 3. ₹1,163.75
 - ✗ 4. ₹23,275

Question ID : 9895807535
Chosen Option : 2

Q.6 एक आयत का क्षेत्रफल 27m^2 है और इसकी लंबाई इसकी चौड़ाई की 3 गुनी है। आयत की परिधि है:

- Ans
- ✗ 1. 42cm
 - ✓ 2. 24cm
 - ✗ 3. 28cm
 - ✗ 4. 12cm

Question ID : 9895807544
Chosen Option : 2

Q.7 वर्ग अंतराल की ऊपरी सीमा और निचली सीमा के बीच के अंतर को क्या कहा जाता है?

- Ans
- ✗ 1. श्रेणी
 - ✗ 2. बहुलक
 - ✓ 3. वर्ग आकार
 - ✗ 4. आवृत्ति वितरण

Question ID : 9895807549
Chosen Option : 3

Q.7

1 रामा और हरि मिलकर एक काम को 15 दिन में पूरा कर सकते हैं। रामा हरि से दोगुना तेज काम करता है, फिर हरि अकेले यह काम कितने दिनों में पूरा कर सकता है ?

- Ans
- 1. 20 दिन
 - 2. 30 दिन
 - 3. 45 दिन
 - 4. 25 दिन

Question ID : 9895807540
Chosen Option : 2

Q.7 एक कक्षा में, 40 छात्रों की औसत आयु 12 वर्ष है, जब शिक्षक की आयु को इसमें शामिल किया जाता है, तो औसत 1 से बढ़ जाता है। शिक्षक की आयु है:

- Ans
- 1. 48 वर्ष
 - 2. 53 वर्ष
 - 3. 68 वर्ष
 - 4. 51 वर्ष

Question ID : 9895807531
Chosen Option : 2

Q.7 तालिका का ठीक से अध्ययन करें और आंकड़े की व्याख्या करके उत्तर दें।
3 तालिका में एक राज्य में पांच जिलों में गरीबी रेखा से नीचे जनसंख्या का प्रतिशत और पुरुषों और महिलाओं के अनुपात दर्शाया गया है।

जिला	गरीबी रेखा से नीचे जनसंख्या का प्रतिशत	पुरुषों और महिलाओं के अनुपात	
		गरीबी रेखा से नीचे (M:F)	गरीबी रेखा से ऊपर (M:F)
D1	15	2:3	3:2
D2	18	3:4	7:5
D3	20	2:5	3:4
D4	25	5:2	4:3
D5	12	3:7	2:7

D₁ में कुल जनसंख्या 30,000 है। जिला D₁ में गरीबी रेखा के नीचे की महिलाओं की संख्या है:

- Ans
- 1. 2700
 - 2. 3500
 - 3. 2500
 - 4. 1800

Question ID : 9895807552
Chosen Option : 4

Q.7
4 $25 \text{ of } 4 - 30 + (2^2 + 18)$ का मान क्या है?

- Ans
- 1. 92
 - 2. 37
 - 3. 84

✗ 4. 23

Question ID : 9895807530
Chosen Option : 1

Q.7 दुकानदार को ₹46 में एक वस्तु बेचने पर 8% नुकसान होता है। 6% लाभ प्राप्त करने के लिए, वस्तु का विक्रय मूल्य क्या होगा?

- Ans
- ✗ 1. ₹65
 - ✓ 2. ₹53
 - ✗ 3. ₹56
 - ✗ 4. ₹85

Question ID : 9895807533
Chosen Option : 2

Section : English Language

Q.1 Select the most appropriate option to substitute the underlined segment in the given sentence. If there is no need to substitute it, select No improvement.

Statistical measure which track the money-saving behaviour haven't improved much.

- Ans
- ✗ 1. No improvement
 - ✓ 2. measures which track the money-saving behaviour
 - ✗ 3. measures what track the money-saving behaviour
 - ✗ 4. measure which tracks money-saving behaviours

Question ID : 9895807856
Chosen Option : 4

Q.2 Select the most appropriate word to fill in the blank.

You can master anything by the usual process of learning and practicing it _____.

- Ans
- ✓ 1. regularly
 - ✗ 2. annually
 - ✗ 3. occasionally
 - ✗ 4. temporarily

Question ID : 9895807877
Chosen Option : 1

Q.3 From the given options, identify the segment in the sentence which contains the grammatical error.

In India, the various practices and norms from bank's transactions are laid down by the RBI only.

- Ans
- ✗ 1. the various practices
 - ✗ 2. by the RBI only
 - ✓ 3. norms from bank's transactions

4. are laid down

Question ID : 9895807855
Chosen Option : 1

Q.4 Select the most appropriate option to fill in the blank.

My forefinger is still _____ where I caught it in the door this morning.

- Ans 1. damaged
 2. bruised
 3. scorched
 4. burnt

Question ID : 9895807859
Chosen Option : 1

Q.5 Select the most appropriate option to substitute the underlined segment in the given sentence. If there is no need to substitute it, select No improvement.

Those who are travelling today by train may have delayed in reaching their destinations.

- Ans 1. travelling today in train may get delayed
 2. No improvement
 3. travelling today by train may get delayed
 4. travel today by train may get delayed

Question ID : 9895807858
Chosen Option : 3

Q.6 Select the option that means the same as the given idiom.

Call it a day

- Ans 1. Agreeing to reveal some secret information
 2. Disagreeing on everything someone is saying
 3. Attempting to do an impossible task
 4. Decide or agree to stop doing something

Question ID : 9895807871
Chosen Option : 3

Q.7 Select the word which means the same as the group of words given.

A person who is indifferent to the pains and pleasures of life.

- Ans 1. Solitary

- 2. Social
- 3. Introvert
- 4. Stoic

Question ID : 9895807874
Chosen Option : 2

Q.8 Select the most appropriate option to substitute the underlined segment in the given sentence. If there is no need to substitute it, select No improvement.

On the academic front you are likely to outshine others and take up a better career.

- Ans
- 1. you should likely to outshine others
 - 2. you are likely for outshine other
 - 3. No improvement
 - 4. you were likely to outshine others

Question ID : 9895807857
Chosen Option : 1

Q.9 Select the correctly spelt word.

- Ans
- 1. Supplementary
 - 2. Suplementary
 - 3. Supplimentary
 - 4. Supplemtery

Question ID : 9895807875
Chosen Option : 1

Q.10 Select the word which means the same as the group of words given.

One who does a thing for pleasure and not as a profession

- Ans
- 1. Athlete
 - 2. Volunteer
 - 3. Amateur
 - 4. Sportsperson

Question ID : 9895807873
Chosen Option : 4

Q.11 Select the synonym of the given word.

CUMBERSOME

- Ans
- 1. Virtuous
 - 2. Heavy

- 3. Graceful
- 4. Wonderful

Question ID : 9895807868
Chosen Option : 3

Comprehension:

In the following passage some words have been deleted. Fill in the blanks with the help of the alternatives given.

"Success begins in the mind." This is a wonderful quote to explain the power of having (1) _____ in yourself. Since (2) _____ wants success, they all try their best. Sometimes they will (3) _____ failure, but that's what life is. Ups and downs are a part of it. All you need is to take that failure in your (4) _____ learn from it and never forget it. It doesn't matter how or where you come from, success happens to those who (5) _____ hands with difficulties.

SubQuestion No : 12

Q.1
2 Select the most appropriate option that will fill in the blank number 1.

- Ans
- 1. doubt
 - 2. discard
 - 3. disgust
 - 4. faith

Question ID : 9895807862
Chosen Option : 4

Comprehension:

In the following passage some words have been deleted. Fill in the blanks with the help of the alternatives given.

"Success begins in the mind." This is a wonderful quote to explain the power of having (1) _____ in yourself. Since (2) _____ wants success, they all try their best. Sometimes they will (3) _____ failure, but that's what life is. Ups and downs are a part of it. All you need is to take that failure in your (4) _____ learn from it and never forget it. It doesn't matter how or where you come from, success happens to those who (5) _____ hands with difficulties.

SubQuestion No : 13

Q.1
3 Select the most appropriate option that will fill in the blank number 2.

- Ans
- 1. anyone
 - 2. someone
 - 3. each
 - 4. everyone

Question ID : 9895807863
Chosen Option : 4

Comprehension:

In the following passage some words have been deleted. Fill in the blanks with the help of the alternatives given.

"Success begins in the mind." This is a wonderful quote to explain the power of having (1) _____ in yourself. Since (2) _____ wants success, they all try their best. Sometimes they will (3) _____ failure, but that's what life is. Ups and downs are a part of it. All you need is to take that failure in your (4) _____ learn from it and never forget it. It doesn't matter how or where you come from, success happens to those who (5) _____ hands with difficulties.

SubQuestion No : 14

Q.1
4 Select the most appropriate option that will fill in the blank number 3.

- Ans
- 1. clash
 - 2. encounter
 - 3. see
 - 4. oppose

Question ID : 9895807864
Chosen Option : 3

Comprehension:

In the following passage some words have been deleted. Fill in the blanks with the help of the alternatives given.

"Success begins in the mind." This is a wonderful quote to explain the power of having (1) _____ in yourself. Since (2) _____ wants success, they all try their best. Sometimes they will (3) _____ failure, but that's what life is. Ups and downs are a part of it. All you need is to take that failure in your (4) _____ learn from it and never forget it. It doesn't matter how or where you come from, success happens to those who (5) _____ hands with difficulties.

SubQuestion No : 15

Q.1
5 Select the most appropriate option that will fill in the blank number 4.

- Ans
- 1. run
 - 2. wing
 - 3. stride
 - 4. walk

Question ID : 9895807865
Chosen Option : 1

Comprehension:

In the following passage some words have been deleted. Fill in the blanks with the help of the alternatives given.

"Success begins in the mind." This is a wonderful quote to explain the power of having (1) _____ in yourself. Since (2) _____ wants success, they all try their best. Sometimes they will (3) _____ failure, but that's what life is. Ups and downs are a part of it. All you need is to take that failure in your (4) _____ learn from it and never forget it. It doesn't matter how or where you come from, success happens to those who (5) _____ hands with difficulties.

SubQuestion No : 16

Q.1
6 Select the most appropriate option that will fill in the blank number 5.

- Ans
- 1. see
 - 2. move
 - 3. avoid
 - 4. shake

Question ID : 9895807866
Chosen Option : 4

Q.1
7 Select the synonym of the given word.

AFFINITY

- Ans
- 1. Decency
 - 2. Empathy
 - 3. Monotony
 - 4. Beauty

Question ID : 9895807867
Chosen Option : 2

Q.1
8 From the given options, identify the segment in the sentence which contains the grammatical error.

While we would like all Indian children to go to school, we need to ponder why they does not.

- Ans
- 1. While we would like

- 2. we need to ponder
- 3. Indian children to go to school
- 4. why they does not

Question ID : 9895807854
Chosen Option : 4

Q.1
9 Select the option that means the same as the given idiom.

To hang together

- Ans
- 1. to take a swing in a garden
 - 2. To keep holding on to something
 - 3. To be connected with each other
 - 4. To be over telephone with a friend

Question ID : 9895807872
Chosen Option : 3

Q.2
0 Select the correctly spelt word.

- Ans
- 1. Badjet
 - 2. Bugett
 - 3. Budget
 - 4. Budget

Question ID : 9895807876
Chosen Option : 4

Q.2
1 Select the antonym of the given word.

CONVENE

- Ans
- 1. Disperse
 - 2. Summon
 - 3. Gather
 - 4. Request

Question ID : 9895807869
Chosen Option : 1

Q.2
2 From the given options, identify the segment in the sentence which contains the grammatical error.

You are invite to build a better community by planting a seed of peace within and a tree outside.

- Ans
- 1. within and a tree outside

- 2. build a better community
- 3. by planting a seed of peace
- 4. You are invite to

Question ID : 9895807853
Chosen Option : 3

Q.2
3 Select the antonym of the given word.

CONCUR

- Ans
- 1. Contribute
 - 2. Lead
 - 3. Disagree
 - 4. Distribute

Question ID : 9895807870
Chosen Option : 3

Q.2
4 Select the most appropriate word to fill in the blank.

Your parents may get _____ with your lifestyle and demand a change in it.

- Ans
- 1. satisfied
 - 2. pleased
 - 3. annoyed
 - 4. fulfilled

Question ID : 9895807878
Chosen Option : 1

Q.2
5 Select the most appropriate option to fill in the blank.

Whenever he refers to his friends he is pleased but when he talks of his foes he is _____.

- Ans
- 1. unhappy
 - 2. interested
 - 3. serene
 - 4. possessed

Question ID : 9895807860
Chosen Option : 1

Section : Hindi Language

Q.1

रिक्त स्थान को भरने के लिए उपयुक्त शब्द का चयन करें।

चोर के पीछे पुलिस भागी _____ उसे पकड़ नहीं पाई।

- Ans
- 1. अन्यथा
 - 2. अभी
 - 3. या
 - 4. परंतु

Question ID : 9895806639
Chosen Option : --

Q.2 दिए गए वाक्य में रेखांकित खंड को प्रतिस्थापित करने के लिए उपयुक्त विकल्प का चयन करें।

सीता के लव और कुश दो बेटे थे।

- Ans
- 1. वत्सला
 - 2. तनया
 - 3. प्यारे
 - 4. तनय

Question ID : 9895806635
Chosen Option : --

Q.3 निम्नलिखित में से उस विकल्प का चयन करें जो 'फूँक-फूँक कर कदम रखना' मुहावरे का अर्थ व्यक्त करता है।

- Ans
- 1. सोच समझ कर काम करना
 - 2. तनिक भी अच्छा न लगाना
 - 3. आवेग में काम करना
 - 4. फूँक मार कर कदम बढ़ाना

Question ID : 9895806651
Chosen Option : --

Q.4 दिए गए वाक्य में रेखांकित खंड को प्रतिस्थापित करने के लिए उपयुक्त विकल्प का चयन करें।

सचिव ने अध्यक्ष के गले में फूलों की एक माला डाली।

- Ans
- 1. सभापति
 - 2. समन्वयक
 - 3. निर्देशक
 - 4. मंत्री

Question ID : 9895806634
Chosen Option : --

Q.5 सही वर्तनी वाले शब्द का चयन करें।

- Ans
- 1. वीध्वांस
 - 2. विध्वंस
 - 3. विधवंस
 - 4. विध्वांस

Question ID : 9895806655
Chosen Option : --

Q.6 दिये गये वाक्यांश के लिए एक शब्द दीजिये।

जिसे जीता न जा सके

- Ans
- 1. अजेय
 - 2. अजर
 - 3. अविस्मरणीय
 - 4. अनंत

Question ID : 9895806654
Chosen Option : --

Comprehension:

निम्नलिखित गद्यांश के रिक्त स्थानों की पूर्ति गद्यांश के नीचे दिए गए प्रश्नों के अनुसार कीजिए -

नैतिक मूल्यों के माध्यम से राष्ट्र निर्माण की शिक्षा देना शिक्षा व्यवस्था का प्रथम एवं महत्वपूर्ण _____ (1) है। निर्माण शब्द का शाब्दिक अर्थ है किसी रचना को बनाने के लिए एक खाका तैयार करना, आवश्यक _____ (2) जुटाना और कठिन परिश्रम के साथ खाके के अनुसार संरचना तैयार करना। इसी प्रक्रिया में समय लगता है, धैर्य, प्रतीक्षा और _____ (3) की आवश्यकता होती है। शिक्षा राष्ट्र निर्माण का एक उपक्रम है, जिसके माध्यम से हम अधिकतम _____ (4) तक निर्माण कर सकते हैं, बशर्ते कि इसके लिए हमारे प्रयास और _____ (5) मजबूत हों। दूरदृष्टि और नियोजन के बिना रचनात्मक युवा मस्तिष्कों में राष्ट्रनिर्माण का बीज नहीं डाला जा सकता।

SubQuestion No : 7

Q.7 गद्यांश में संकेतित रिक्त स्थान (1) के लिए उपयुक्त शब्द होगा

Ans

- 1. कदम
- 2. साहस
- 3. उपदेश
- 4. दायित्व

Question ID : 9895806642
Chosen Option : --

Comprehension:

निम्नलिखित गद्यांश के रिक्त स्थानों की पूर्ति गद्यांश के नीचे दिए गए प्रश्नों के अनुसार कीजिए -

नैतिक मूल्यों के माध्यम से राष्ट्र निर्माण की शिक्षा देना शिक्षा व्यवस्था का प्रथम एवं महत्वपूर्ण _____ (1) है। निर्माण शब्द का शाब्दिक अर्थ है किसी रचना को बनाने के लिए एक खाका तैयार करना, आवश्यक _____ (2) जुटाना और कठिन परिश्रम के साथ खाके के अनुसार संरचना तैयार करना। इसी प्रक्रिया में समय लगता है, धैर्य, प्रतीक्षा और _____ (3) की आवश्यकता होती है। शिक्षा राष्ट्र निर्माण का एक उपक्रम है, जिसके माध्यम से हम अधिकतम _____ (4) तक निर्माण कर सकते हैं, बशर्ते कि इसके लिए हमारे प्रयास और _____ (5) मजबूत हों। दूरदृष्टि और नियोजन के बिना रचनात्मक युवा मस्तिष्कों में राष्ट्रनिर्माण का बीज नहीं डाला जा सकता।

SubQuestion No : 8

Q.8 गद्यांश में संकेतित रिक्त स्थान (2) के लिए उपयुक्त शब्द होगा

- Ans
- 1. संसाधन
 - 2. मनुष्य
 - 3. भीड़
 - 4. संसाधक

Question ID : 9895806643
Chosen Option : --

Comprehension:

निम्नलिखित गद्यांश के रिक्त स्थानों की पूर्ति गद्यांश के नीचे दिए गए प्रश्नों के अनुसार कीजिए -

नैतिक मूल्यों के माध्यम से राष्ट्र निर्माण की शिक्षा देना शिक्षा व्यवस्था का प्रथम एवं महत्वपूर्ण _____ (1) है। निर्माण शब्द का शाब्दिक अर्थ है किसी रचना को बनाने के लिए एक खाका तैयार करना, आवश्यक _____ (2) जुटाना और कठिन परिश्रम के साथ खाके के अनुसार संरचना तैयार करना। इसी प्रक्रिया में समय लगता है, धैर्य, प्रतीक्षा और _____ (3) की आवश्यकता होती है। शिक्षा राष्ट्र निर्माण का एक उपक्रम है, जिसके माध्यम से हम अधिकतम _____ (4) तक निर्माण कर सकते हैं, बशर्ते कि इसके लिए हमारे प्रयास और _____ (5) मजबूत हों। दूरदृष्टि और नियोजन के बिना रचनात्मक युवा मस्तिष्कों में राष्ट्रनिर्माण का बीज नहीं डाला जा सकता।

SubQuestion No : 9

Q.9 गद्यांश में संकेतित रिक्त स्थान (3) के लिए उपयुक्त शब्द होगा

- Ans
- 1. सामग्री
 - 2. काल
 - 3. परिश्रम
 - 4. समय

Question ID : 9895806644
Chosen Option : --

Comprehension:

निम्नलिखित गद्यांश के रिक्त स्थानों की पूर्ति गद्यांश के नीचे दिए गए प्रश्नों के अनुसार कीजिए -

नैतिक मूल्यों के माध्यम से राष्ट्र निर्माण की शिक्षा देना शिक्षा व्यवस्था का प्रथम एवं महत्वपूर्ण _____ (1) है। निर्माण शब्द का शाब्दिक अर्थ है किसी रचना को बनाने के लिए एक खाका तैयार करना, आवश्यक _____ (2) जुटाना और कठिन परिश्रम के साथ खाके के अनुसार संरचना तैयार करना। इसी प्रक्रिया में समय लगता है, धैर्य, प्रतीक्षा और _____ (3) की आवश्यकता होती है। शिक्षा राष्ट्र निर्माण का एक उपक्रम है, जिसके माध्यम से हम अधिकतम _____ (4) तक निर्माण कर सकते हैं, बशर्ते कि इसके लिए हमारे प्रयास और _____ (5) मजबूत हों। दूरदृष्टि और नियोजन के बिना रचनात्मक युवा मस्तिष्कों में राष्ट्रनिर्माण का बीज नहीं डाला जा सकता।

SubQuestion No : 10

Q.1
0 गद्यांश में संकेतित रिक्त स्थान (4) के लिए उपयुक्त शब्द होगा

- Ans
- 1. बल
 - 2. बुद्धि
 - 3. भावना
 - 4. सामर्थ्य

Question ID : 9895806645
Chosen Option : --

Comprehension:

निम्नलिखित गद्यांश के रिक्त स्थानों की पूर्ति गद्यांश के नीचे दिए गए प्रश्नों के अनुसार कीजिए -

नैतिक मूल्यों के माध्यम से राष्ट्र निर्माण की शिक्षा देना शिक्षा व्यवस्था का प्रथम एवं महत्वपूर्ण _____ (1) है। निर्माण शब्द का शाब्दिक अर्थ है किसी रचना को बनाने के लिए एक खाका तैयार करना, आवश्यक _____ (2) जुटाना और कठिन परिश्रम के साथ खाके के अनुसार संरचना तैयार करना। इसी प्रक्रिया में समय लगता है, धैर्य, प्रतीक्षा और _____ (3) की आवश्यकता होती है। शिक्षा राष्ट्र निर्माण का एक उपक्रम है, जिसके माध्यम से हम अधिकतम _____ (4) तक निर्माण कर सकते हैं, बशर्ते कि इसके लिए हमारे प्रयास और _____ (5) मजबूत हों। दूरदृष्टि और नियोजन के बिना रचनात्मक युवा मस्तिष्कों में राष्ट्रनिर्माण का बीज नहीं डाला जा सकता।

SubQuestion No : 11

Q.1
1 गद्यांश में संकेतित रिक्त स्थान (5) के लिए उपयुक्त शब्द होगा

- Ans
- 1. इच्छाशक्ति
 - 2. महत्वाकांक्षा
 - 3. कपलना
 - 4. सपना

Question ID : 9895806646
Chosen Option : --

Q.1
2 निम्नलिखित में से उस विकल्प का चयन करें जो 'जान हथेली पर रखना' मुहावरे का अर्थ व्यक्त करता है।

- Ans
- 1. जीवन को संकट में डालना
 - 2. जान कीमती होना
 - 3. सुविधाजनक कार्य करना
 - 4. जान को हथेली के उपर रखना

Question ID : 9895806652
Chosen Option : --

Q.1
3 रिक्त स्थान को भरने के लिए उपयुक्त शब्द का चयन करें।

माँ ने डाँटकर मुझसे _____।

Ans

- 1. भागा
- 2. नाचा
- 3. खाया
- 4. पूछा

Question ID : 9895806637
Chosen Option : --

Q.1
4 दिए गए शब्द का विलोम चुनें।

सामान्य

- Ans
- 1. अन्य
 - 2. सामने
 - 3. विशेष
 - 4. आम

Question ID : 9895806648
Chosen Option : --

Q.1
5 रिक्त स्थान को भरने के लिए उपयुक्त शब्द का चयन करें।

किसी ने दरवाजा _____ है।

- Ans
- 1. हनहनाया
 - 2. बिलबिलाया
 - 3. फड़फड़ाया
 - 4. खटखटाया

Question ID : 9895806638
Chosen Option : --

Q.1
6 दिए गए शब्द के पर्यायवाची शब्द का चयन करें।

महादेव

- Ans
- 1. विष्णु
 - 2. कृष्ण
 - 3. शंकर
 - 4. ब्रह्मा

Question ID : 9895806649
Chosen Option : --

Q.1
7

दिए गए वाक्य का वह भाग ज्ञात करें जिसमें कोई त्रुटि है।

पहले दो दिन तो सुधा ने कृष्णा को सामने से गुजरते देखा था लेकिन वह तो तड़के ही निकल जाता था।

- Ans
- 1. कृष्णा को सामने से गुजरते देखा था
 - 2. निकल जाता था।
 - 3. लेकिन वह तो तड़के ही
 - 4. पहले दो दिन तो सुधा ने

Question ID : 9895806631
Chosen Option : --

Q.1
8 सही वर्तनी वाले शब्द का चयन करें।

- Ans
- 1. श्रद्धालु
 - 2. श्रद्धालू
 - 3. श्रद्धलु
 - 4. शर्धालू

Question ID : 9895806656
Chosen Option : --

Q.1
9 दिए गए शब्द के पर्यायवाची शब्द का चयन करें।

स्वर्ण

- Ans
- 1. नीरद
 - 2. कंचन
 - 3. करी
 - 4. सुमन

Question ID : 9895806650
Chosen Option : --

Q.2
0 दिए गए शब्द का विलोम चुनें।

व्योम

- Ans
- 1. पक्षी
 - 2. राजा
 - 3. धरा
 - 4. आकाश

Question ID : 9895806647
Chosen Option : --

Q.2
1 रिक्त स्थान को भरने के लिए उपयुक्त शब्द का चयन करें।

_____ विद्यार्थियों को पढ़ाता है।

- Ans
- 1. अभियंता
 - 2. वकील
 - 3. अध्यापक
 - 4. बागवान

Question ID : 9895806640
Chosen Option : --

Q.2
2 दिए गए वाक्य का वह भाग ज्ञात करें जिसमें कोई त्रुटि है।
आप सायं मेरे घर अवश्य आएँ मैं तुम लोगों को कुछ कीमती पुस्तकें भेंट करूँगा।

- Ans
- 1. मेरे घर अवश्य आएँ
 - 2. कुछ कीमती पुस्तकें भेंट करूँगा।
 - 3. आप सायं
 - 4. मैं तुम लोगों को

Question ID : 9895806633
Chosen Option : --

Q.2
3 दिए गए वाक्य में रेखांकित खंड को प्रतिस्थापित करने के लिए उपयुक्त विकल्प का चयन करें।
तुम्हारी बातों का कोई प्रमाण नहीं है।

- Ans
- 1. साक्ष्य
 - 2. सत्य
 - 3. उदाहरण
 - 4. तर्क

Question ID : 9895806636
Chosen Option : --

Q.2
4 दिये गये वाक्यांश के लिए एक शब्द दीजिये।

जिसे भुलाया न जा सके

- Ans
- 1. विस्मरणीय
 - 2. भूलनीय
 - 3. अविस्मरणीय
 - 4. अज्ञेय

Question ID : 9895806653

Q.2
5 दिए गए वाक्य का वह भाग ज्ञात करें जिसमें कोई त्रुटि है।

मैंने राम को सभी महत्वपूर्ण प्रश्नों के उत्तर बताए परन्तु उसे कुछ समझ में न आया।

Ans

1. उसे कुछ समझ में न आया।

2. मैंने राम को

3. सभी महत्वपूर्ण प्रश्नों के

4. उत्तर बताए परन्तु

Question ID : 9895806632

Chosen Option : --

GovtJobsAlert.In