

## Constable (GD) in CAPFs, NIA, SSF and Rifleman (GD) in Assam Rifles Examination, 2018

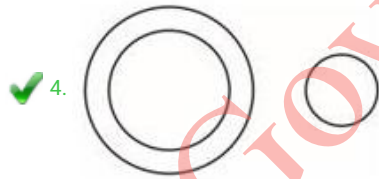

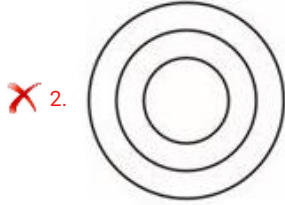
Roll No. :	GovtJobsAlert.In
Registration No.	GovtJobsAlert.In
Name :	GovtJobsAlert.In
Exam Venue :	Smt. Bhudevi P.G College Agra
Exam Time :	12:30 PM - 2:00 PM
Exam Date :	01/03/2019

Section : General Section

Q.1 वेन आरेख का चयन करें जो तीन दिए गए वर्गों के बीच के संबंध को सर्वोत्तम दर्शाता है।

गाजर, सब्जी , मांस

Ans



Question ID : 9895808188

Chosen Option : 4

Q.2 दिए गए कथनों और निष्कर्षों को ध्यानपूर्वक पढ़ें और निर्णय लें कि दिए गए निष्कर्ष के संबंध में निम्नलिखित में से कौन सा विकल्प सही है।

कथन :

सुंदर दिखने वाले पुरुष आम तौर पर बौद्धिक प्रकार के होते हैं।

विक्रम सुंदर हैं।

निष्कर्ष :

विक्रम बौद्धिक हैं।

Ans

✗ 1. सत्य

✗ 2. असत्य

✓ 3. संभवतः सत्य

✗ 4. संभवतः असत्य

Question ID : 9895808176  
Chosen Option : 3

Q.3 नीचे दिए गए कथनों के बाद दो निष्कर्ष I और II दिए गए हैं। यह मानते हुए कि कथनों में दी गई जानकारी सत्य है, भले ही वह सर्वज्ञात तथ्यों से भिन्न प्रतीत होती हो और यह निर्णय करें कि कौन सा/से निष्कर्ष तार्किक और निश्चित रूप से कथन में दी गई जानकारी का अनुसरण करता है/करते हैं।

कथन:

कुछ लड़कियां महिलाएं हैं।

कोई भी महिला भूरी नहीं है।

निष्कर्ष:

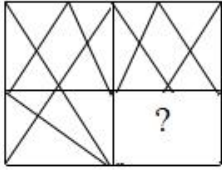
- I. कुछ लड़कियां भूरी नहीं हैं।
- II. कुछ महिलाएं लड़कियां हैं।

Ans

1. न तो निष्कर्ष I और न ही निष्कर्ष II अनुसरण करता है।
2. केवल निष्कर्ष I अनुसरण करता है।
3. केवल निष्कर्ष II अनुसरण करता है।
4. दोनों निष्कर्ष I और II अनुसरण करते हैं।

Question ID : 9895808175  
Chosen Option : 1

Q.4 निम्नलिखित पैटर्न को पूरा करने के लिए सही विकल्प का चयन करें।

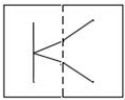


Ans

- 1.
- 2.
- 3.
- 4.

Question ID : 9895808185  
Chosen Option : 4

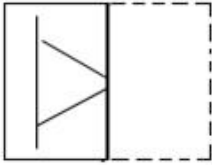
Q.5 एक पैटर्न के साथ एक वर्गाकार पारदर्शी शीट दी गई है। चार विकल्पों में से यह चयन करें कि पारदर्शी शीट को बिंदुंकित रेखा पर मोड़ने पर पैटर्न कैसा दिखाई देगा।



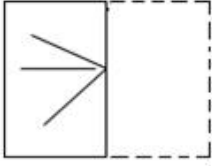
Ans

- 1.

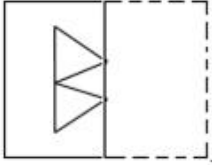
✗ 2.



✗ 3.



✓ 4.



Question ID : 9895808187

Chosen Option : 4

Q.6 यदि E को F से निरूपित किया जाता है, D को B से निरूपित किया जाता है, R को K से निरूपित किया जाता है, U को V से निरूपित किया जाता है, T को I से निरूपित किया जाता है, A को C से निरूपित किया जाता है, G को X से निरूपित किया जाता है और H को W से निरूपित किया जाता है, तब DAUGHTER शब्द कैसे लिखा जाएगा?

Ans ✓ 1. BCVXWIFK

✗ 2. BCWXWFIK

✗ 3. BCWXVIFK

✗ 4. BCVXWIKF

Question ID : 9895808171

Chosen Option : 1

Q.7 चार शब्द दिए गए हैं, जिनमें से तीन किसी तरह से समान हैं, जबकि एक अलग है। असंगत शब्द चुनें।

Ans ✓ 1. शावक

✗ 2. कुत्ता-घर

✗ 3. मधुमुखी का छत्ता

✗ 4. सूअर-बाड़ा

Question ID : 9895808166

Chosen Option : 3

Q.8 उस संख्या का चयन करें जो निम्न समूह से संबंधित नहीं है।

1, 2, 6, 21, 88, 446, 2676

Ans ✓ 1. 446

✗ 2. 21

✗ 3. 88

✗ 4. 6

Question ID : 9895808178

Chosen Option : 1

Q.9

शब्दों के चार युग्म दिए गए हैं जिनमें से तीन युग्म किसी न किसी प्रकार से समान हैं, जबकि एक युग्म भिन्न है। असंगत युग्म का चयन करें।

- Ans
- 1. विद्युत् धारा : एमीटर
  - 2. आर्द्रता : हाइग्रोमीटर
  - 3. पवन : टैसोमीटर
  - 4. दूरी : ओडोमीटर

Question ID : 9895808167  
Chosen Option : 4

Q.1 उस विकल्प का चयन करें जो दर्पण के दायीं ओर रखे जाने पर दिए गए शब्द की दर्पण छवि से सर्वाधिक मेल खाता है।

NATION

- Ans
- 1. NOITAN
  - 2. IATION
  - 3. NATION
  - 4. IOITAI

Question ID : 9895808186  
Chosen Option : 4

Q.1 निम्नलिखित श्रृंखला में अगली संख्या का चयन करें।

1, 5, 9, 17, 25, 37, 49, 65, 81, \_\_\_\_\_

- Ans
- 1. 110
  - 2. 100
  - 3. 99
  - 4. 101

Question ID : 9895808177  
Chosen Option : 4

Q.1 छह दोस्त, अनीता, पुनीता, चित्रा, दीप्ति, हरिनी और वाणी, एक मैदान में बैठे हैं। अनीता और पुनीता ग्रीन हाउस से हैं, जबकि बाकी रेड हाउस से हैं। दीप्ति और वाणी लंबी हैं, जबकि अन्य छोटी हैं। अनीता, चित्रा और दीप्ति ने साड़ी पहन रखी है, जबकि अन्य ने फ्रॉक पहन रखी है।

उनमें से कौन लंबी है और रेड हाउस से है लेकिन साड़ी नहीं पहनी है?

- Ans
- 1. चित्रा
  - 2. वाणी
  - 3. अनीता
  - 4. दीप्ति

Question ID : 9895808174  
Chosen Option : 2

Q.1 निम्नलिखित में से असंगत को पहचानें।

- Ans
- 1. bdf
  - 2. kmn

✗ 3. suw

✗ 4. prt

Question ID : 9895808165  
Chosen Option : 2

Q.1 4 उस विकल्प का चयन करें जो तीसरे पद से उसी प्रकार संबंधित है जिस प्रकार दूसरा पद पहले पद से संबंधित है।

आदमी : स्तनपायी :: तितली : \_\_\_\_\_

Ans ✗ 1. चिड़िया

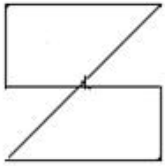
✗ 2. सूंडी (कैटरपिलर)

✗ 3. सरीसृप

✓ 4. कीट

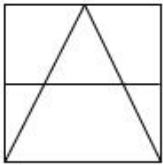
Question ID : 9895808169  
Chosen Option : 4

Q.1 5 उस विकल्प का चयन करें जिसमें दी गई आकृति अंतर्निहित है।

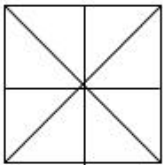


Ans

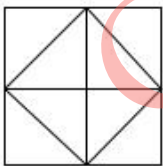
✗ 1.



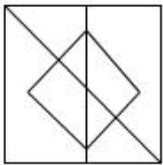
✓ 2.



✗ 3.



✗ 4.



Question ID : 9895808184  
Chosen Option : 2

Q.1 6 उस शब्द-युग्म का चयन करें जो दिए गए शब्द-युग्म के अनुरूप है।

पक्षी : उडान

Ans ✗ 1. मवेशी : झुंड

2. बिल्ली : बिलौटा  
 3. फ़ॉक्स : विकसेन  
 4. घोड़ा : चौकड़ी

Question ID : 9895808168  
Chosen Option : 1

Q.1 निम्नलिखित भिन्न श्रृंखला में, कोष्ठक के भीतर दो भिन्न रखे गए हैं। श्रृंखला का ध्यानपूर्वक अध्ययन करें और श्रृंखला के संबंध में सही विकल्प का चयन करें।

$$\frac{2}{\sqrt{5}}, \frac{4}{5}, \frac{6}{5\sqrt{5}}, \left(\frac{8}{25}\right), \frac{10}{25\sqrt{5}}, \frac{12}{125}, \left(\frac{14}{125\sqrt{5}}\right)$$

Ans  1.

कोष्ठक में रखा गया पहला भिन्न (बाएं से) गलत है और दूसरा सही है।

2.

कोष्ठक में रखा गया पहला भिन्न (बाएं से) सही है और दूसरा गलत है।

3. कोष्ठक में रखे गए दोनों भिन्न सही हैं।

4. कोष्ठक में रखे गए दोनों भिन्न गलत हैं।

Question ID : 9895808182  
Chosen Option : 3

Q.1 निम्नलिखित श्रृंखला में अगले पद का चयन करें।

BMO, EOQ, HQS, KSU, \_\_\_\_\_

- Ans  1. NVW  
 2. NUW  
 3. NTV  
 4. MTV

Question ID : 9895808164  
Chosen Option : 2

Q.1 उस विकल्प का चयन करें जो तीसरे पद से उसी प्रकार संबंधित है जिस प्रकार दूसरा पद पहले पद से संबंधित है।

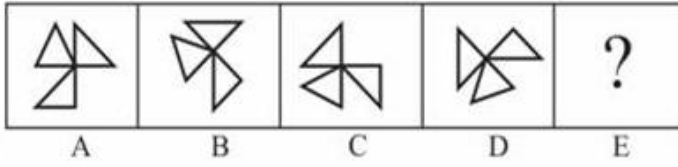
KN :  $\frac{121}{196}$  :: RU : \_\_\_\_\_

- Ans  1.  $\frac{256}{400}$   
 2.  $\frac{256}{196}$   
 3.  $\frac{324}{144}$   
 4.  $\frac{324}{441}$

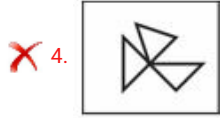
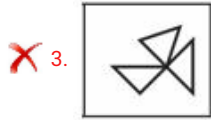
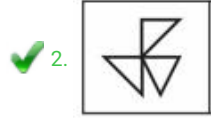
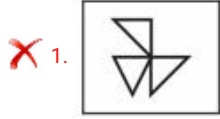
Question ID : 9895808179  
Chosen Option : 4

Q.2  
0

निम्नलिखित श्रृंखला में आगे आने वाली आकृति का चयन करें।



Ans



Question ID : 9895808183

Chosen Option : 2

Q.2 सात मित्र - अजित, बाला, हरि, डेविड, राजा, सेकर और गुना - एक गोल मेज के चारों ओर बैठे हैं। डेविड हरि और राजा का पड़ोसी नहीं है। अजित बाला और हरि के पड़ोसी हैं। गुना, जो डेविड के बाएँ ओर दूसरे स्थान पर है, सेकर और राजा का पड़ोसी है।

हरि की स्थिति क्या है?

Ans

1. राजा के ठीक दाएँ ओर

2. बाला के बाएँ ओर दूसरा

3. अजित के ठीक बाएँ ओर

4. सेकर के बाएँ ओर तीसरा

Question ID : 9895808172

Chosen Option : 4

Q.2 उस संख्या युग्म का चयन करें जो बाकी सब से अलग हो।

Ans

1. 16 - 256

2. 13 - 196

3. 12 - 144

4. 7 - 49

Question ID : 9895808180

Chosen Option : 2

Q.2 दिए गए समीकरण को सही बनाने के लिए किन दो संकेतों / संख्याओं परस्पर बदला जाना चाहिए?

3

$$8 \div 2 + 4 = 10$$

Ans

1.  $\div$  और  $+$

✗ 2. + और ÷, 8 और 2

✗ 3. ÷ और +, 8 और 4

✓ 4. + और ÷, 2 और 4

Question ID : 9895808181

Chosen Option : 4

Q.2 सात छात्र एक पंक्ति में खड़े हैं। B, C के बाएँ और A के दाएँ खड़ा है। D, E के दाएँ ओर और A के बाएँ ओर खड़ा है। F, C के दाएँ ओर और G के बाएँ ओर खड़ा है। कौन बीच में खड़ा है?

Ans ✓ 1. B

✗ 2. G

✗ 3. D

✗ 4. F

Question ID : 9895808173

Chosen Option : 1

Q.2 यदि SCIENCE को 14 के रूप में कूटबद्ध किया जाता है तथा MATHS को 10 के रूप में कूटबद्ध किया जाता है, तो EXAMINATION के लिए कूट क्या होगा?

Ans ✗ 1. 11

✓ 2. 22

✗ 3. 21

✗ 4. 23

Question ID : 9895808170

Chosen Option : 1

Q.2 भारतीय खाद्य निगम (FCI) के माध्यम से भारत सरकार द्वारा किसानों से खरीदे गए खाद्यान्न के भंडार को क्या कहते हैं?

Ans ✗ 1. प्रोत्साहन-प्राप्त स्टॉक

✗ 2. रिटर्न स्टॉक

✓ 3. बफर स्टॉक

✗ 4. सब्सिडी वाला स्टॉक

Question ID : 9895807238

Chosen Option : 3

Q.2 भारतीय सूचना प्रौद्योगिकी की दिग्गज कंपनी इन्फोसिस के प्रसिद्ध सह-संस्थापक और सेवानिवृत्त अध्यक्ष कौन थे?

Ans ✗ 1. याशिष दहिया

✗ 2. नवनीत सिंह

✓ 3. एन आर नारायण मूर्ति

✗ 4. आशीष गोयल

Question ID : 9895807233

Chosen Option : 2

Q.2 जम्मू और कश्मीर का संविधान किस वर्ष अपनाया गया?



- Ans  1. 1956  
 2. 1958  
 3. 1954  
 4. 1950

Question ID : 9895807239  
Chosen Option : 1

Q.2  
9 लोकप्रिय 'कुणबी नृत्य' किस भारतीय राज्य से संबंधित है?

- Ans  1. जम्मू और कश्मीर  
 2. सिक्किम  
 3. गोवा  
 4. मिजोरम

Question ID : 9895807228  
Chosen Option : 4

Q.3  
0 फ्रांस यात्री फ्रांस्वा बर्नियर किस वर्ष भारत आया?

- Ans  1. 1658  
 2. 1678  
 3. 1662  
 4. 1656

Question ID : 9895807251  
Chosen Option : 3

Q.3  
1 मछली के समूह को कहा जाता है:

- Ans  1. स्टैण्डर्ड  
 2. स्कूल  
 3. सेना  
 4. बस

Question ID : 9895807244  
Chosen Option : 1

Q.3  
2 निम्नलिखित में से कौन सी छूत की बीमारी है?

- Ans  1. स्ट्रोक  
 2. मधुमेह  
 3. क्षय  
 4. दमा

Question ID : 9895807246  
Chosen Option : 3

Q.3

3 जीवित जड़ सेतु भारत के किस राज्य में देखी जाने वाली एक दुर्लभ पारिस्थितिक दृश्य है?

- Ans
- 1. मिजोरम
  - 2. मेघालय
  - 3. सिक्किम
  - 4. पश्चिम बंगाल

Question ID : 9895807245  
Chosen Option : 2

Q.3 राजकोषीय नीति के रूप में कर कटौती द्वारा विकास को बढ़ावा देने की कोशिश करते हुए, सरकार किस प्रकार की नीति का अनुसरण करने की कोशिश कर रही है?

- Ans
- 1. विस्तारवादी
  - 2. दुर्लभ मुद्रा
  - 3. सुलभ मुद्रा
  - 4. संकुचनकारी

Question ID : 9895807236  
Chosen Option : 3

Q.3 अंडे की जर्दी (पीला भाग) में कौन सा 90% से अधिक विटामिन होता है?

- Ans
- 1. विटामिन K
  - 2. विटामिन A
  - 3. विटामिन B12
  - 4. विटामिन C

Question ID : 9895807243  
Chosen Option : 3

Q.3 सीसाँ (seesaw) भौतिकी के किस सिद्धान्त का एक उदाहरण है?

- Ans
- 1. समय
  - 2. बल
  - 3. विद्युत
  - 4. विद्युत धारा

Question ID : 9895807242  
Chosen Option : 2

Q.3 विश्व जनसंख्या दिवस किस दिन मनाया जाता है?

- Ans
- 1. 11 जुलाई
  - 2. 5 सितंबर
  - 3. 15 अगस्त
  - 4. 2 जून

Question ID : 9895807249

Chosen Option : 2

Q.3 निम्नलिखित में से किस राष्ट्र के संविधान से प्रेरित होकर भारत ने अपने संविधान में 'निर्देशक सिद्धांतों' की विशेषता जोड़ी है?

- Ans
- 1. जर्मनी
  - 2. रूस
  - 3. आयरलैंड
  - 4. संयुक्त राज्य अमेरिका

Question ID : 9895807241

Chosen Option : 3

Q.3 निम्नलिखित में से कौन यूरोप की सबसे लंबी नदी है?

- Ans
- 1. ज़ाम्बज़ी
  - 2. मेकांग
  - 3. वोल्गा
  - 4. सेपिक

Question ID : 9895807247

Chosen Option : 3

Q.4 अजमेर में उर्स महोत्सव किस सूफ़ी संत की पुण्यतिथि के रूप में मनाया जाता है?

- Ans
- 1. सलीम चिश्ती
  - 2. मियां मीर
  - 3. हजरत निजामुद्दीन
  - 4. ख्वाजा मोइनुद्दीन चिश्ती

Question ID : 9895807229

Chosen Option : 1

Q.4 'फ्लाइट ऑफ पीजन' पुस्तक के लेखक कौन हैं?

- Ans
- 1. सुधा मूर्ति
  - 2. शोभा डे
  - 3. गीता पीरामल
  - 4. रस्किन बॉन्ड

Question ID : 9895807234

Chosen Option : 1

Q.4 प्रागैतिहासिक काल के पहले युग को क्या कहा जाता है?

- Ans
- 1. धातु युग
  - 2. नवपाषाण युग

3. ताम्र पाषाण युग

4. पुरापाषाण काल

Question ID : 9895807250  
Chosen Option : 4

Q.4  
3 बादशाह अकबर ने बुलंद दरवाजा किस वर्ष बनवाया था?

Ans  1. 1534

2. 1601

3. 1526

4. 1502

Question ID : 9895807230  
Chosen Option : 2

Q.4  
4 103वाँ संवैधानिक संशोधन किससे संबंधित है?

Ans  1. महिला आरक्षण

2. आर्थिक आरक्षण

3. शिक्षा का अधिकार

4. शोषण के खिलाफ अधिकार

Question ID : 9895807240  
Chosen Option : 1

Q.4  
5 ब्रेटन वुड्स समझौते ने निम्नलिखित में से किस संस्थान का निर्माण किया?

Ans  1. अंतर्राष्ट्रीय मुद्रा कोष

2. संयुक्त राष्ट्र

3. अंतर्राष्ट्रीय श्रमिक संगठन

4. संयुक्त राष्ट्र शैक्षिक, वैज्ञानिक और सांस्कृतिक संगठन

Question ID : 9895807237  
Chosen Option : 1

Q.4  
6 'खो खो' का रन-एंड-टच खेल किस भारतीय राज्य में शुरू हुआ?

Ans  1. केरल

2. जम्मू और कश्मीर

3. गोवा

4. महाराष्ट्र

Question ID : 9895807231  
Chosen Option : 4

Q.4  
7 चीन का राष्ट्रीय खेल कौन सा है?

- Ans
- 1. रग्बी
  - 2. क्रिकेट
  - 3. फुटबाल
  - 4. टेबल टेनिस

Question ID : 9895807232  
Chosen Option : 4

Q.4 नमक सत्याग्रह आंदोलन के लिए महात्मा गांधी ने लगभग कितनी दूरी तय की थी?

- Ans
- 1. 400 मील
  - 2. 350 मील
  - 3. 241 मील
  - 4. 123 मील

Question ID : 9895807252  
Chosen Option : 3

Q.4 निम्नलिखित में से किसे राजीव गांधी राष्ट्रीय सद्भावना पुरस्कार 2018 से सम्मानित किया गया है?

- Ans
- 1. अन्ना हजारे
  - 2. मेधा पाटकर
  - 3. गोपालकृष्ण गांधी
  - 4. कैलास सत्यार्थी

Question ID : 9895807235  
Chosen Option : 4

Q.5 अंतर्राष्ट्रीय पर्वतीय दिवस किस तारीख को मनाया जाता है?

- Ans
- 1. 13 जनवरी
  - 2. 11 दिसंबर
  - 3. 2 अक्टूबर
  - 4. 14 नवंबर

Question ID : 9895807248  
Chosen Option : 2

Q.5 एक ट्रेन एक कार की तुलना में 50% तेजी से यात्रा कर सकती है। दोनों एक ही समय बिंदु A से शुरू होते हैं और एक ही समय बिंदु B से 60 km दूर बिंदु B तक पहुंचते हैं। हालांकि, स्टेशनों पर रुकने के दौरान ट्रेन को लगभग 12.5 मिनट का नुकसान हुआ। कार की गति है:

- Ans
- 1. 96 km/h
  - 2. 110 km/h
  - 3. 130 km/h
  - 4. 100 km/h

Question ID : 9895807571  
Chosen Option : 1

Q.5 6% प्रति वर्ष की दर से ₹40,000 पर चक्रवृद्धि ब्याज ₹4,944 है। वह अवधि (वर्षों में) कितनी है, जिसके लिए राशि 2 निवेश की गई है?

- Ans
- 1. 3 वर्ष
  - 2. 2 वर्ष
  - 3. 5 वर्ष
  - 4. 4 वर्ष

Question ID : 9895807567  
Chosen Option : 2

Q.5 A, B और C एक कार्य क्रमशः 20, 40 और 80 दिनों में कर सकते हैं। यदि A को B और C द्वारा हर तीसरे दिन 3 सहायता प्रदान की जाती है, तो A कितने दिनों में कार्य कर सकता है?

- Ans
- 1. 18 दिन
  - 2. 15 दिन
  - 3. 7 दिन
  - 4. 16 दिन

Question ID : 9895807569  
Chosen Option : 4

Q.5 रवि और सुमित का वेतन 2:3 के अनुपात में है। यदि प्रत्येक के वेतन में ₹3,000 की वृद्धि हुई है, तो नया अनुपात 4 35:50 हो जाता है। सुमित का नया वेतन क्या है?

- Ans
- 1. ₹21,000
  - 2. ₹18,000
  - 3. ₹30,000
  - 4. ₹27,000

Question ID : 9895807565  
Chosen Option : 3

Q.5 रमन ने 9 वर्ष के बाद साधारण ब्याज के रूप में ₹13,300 का भुगतान किया। उन्होंने पहले दो वर्षों के लिए 6% की 5 दर से, अगले तीन वर्षों के लिए 9% और बाकी की अवधि के लिए 14% पर कुछ रकम उधार ली थी। उसने कितनी रकम (₹ में) उधार ली थी?

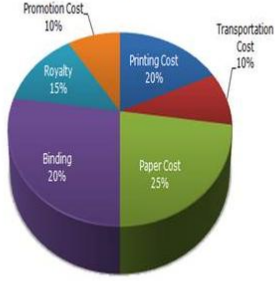
- Ans
- 1. 12,500
  - 2. 14,000
  - 3. 12,000
  - 4. 10,000

Question ID : 9895807566  
Chosen Option : 2

Q.5  
6

निम्नलिखित पाई-चार्ट एक पुस्तक को प्रकाशित करने में हुए व्यय का प्रतिशत वितरण दर्शाता है। पाई-चार्ट का अध्ययन करें और उसके आधार पर प्रश्न के उत्तर दें।

एक पुस्तक के प्रकाशन में हुआ विभिन्न व्यय (प्रतिशत में)



प्रश्न:

यदि पुस्तकों की एक निश्चित मात्रा के लिए, प्रकाशक को मुद्रण लागत के रूप में ₹30,600 का भुगतान करना पड़ता है, तो इन पुस्तकों के लिए भुगतान की जाने वाली कागज की लागत कितनी होगी?

- Ans
- 1. ₹28,250
  - 2. ₹30,250
  - 3. ₹38,250
  - 4. ₹38,000

Question ID : 9895807575  
Chosen Option : 1

Q.5 60 लीटर के एक मिश्रण में दूध और पानी का अनुपात 2: 3 है, तो मिश्रण में पानी की मात्रा कितनी है?

- Ans
- 1. 16 लीटर
  - 2. 45 लीटर
  - 3. 36 लीटर
  - 4. 20 लीटर

Question ID : 9895807564  
Chosen Option : 3

Q.5 एक परिवार में दो दादा-दादी, तीन माता-पिता और चार पोते-पोतियां हैं। दादा/दादी की औसत आयु 65 वर्ष है, माता-पिता की औसत आयु 32 वर्ष है और पोते-पोतियों की औसत आयु 8 वर्ष है। परिवार की औसत आयु क्या है?

- Ans
- 1. इनमें से कोई नहीं
  - 2. 28 वर्ष
  - 3.  $28\frac{2}{3}$  वर्ष
  - 4.  $28\frac{1}{3}$  वर्ष

Question ID : 9895807556  
Chosen Option : 3

Q.5 एक हॉल 15 m लंबा और 12 m चौड़ा है। यदि फर्श और छत के क्षेत्रफलों का योग चार दीवारों के क्षेत्रफलों के योग के बराबर है, तो हॉल का आयतन ( $m^3$  में) है:

- Ans
- 1. 900
  - 2. 720
  - 3. 1600
  - 4. 1200

Question ID : 9895807574

Q.6 मामला A, एक दुकान में लाभ लागत का 340% है। मामला B, यदि लागत 32% बढ़ जाती है, लेकिन विक्रय मूल्य स्थिर रहता है, तो मामला A, में विक्रय मूल्य का लगभग कितना प्रतिशत लाभ है?

- Ans
- 1. 32%
  - 2. 70%
  - 3. 100%
  - 4. 320%

Question ID : 9895807562

Chosen Option : 2

Q.6 यदि कोई व्यक्ति 10 km/h के बजाय 15 km/h की गति से चलता तो वह 25 km अधिक चला होता। उसके द्वारा की गई यात्रा की वास्तविक दूरी थी:

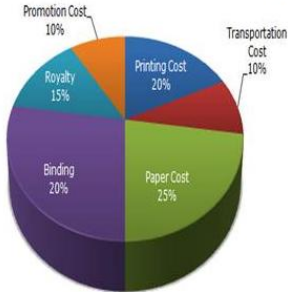
- Ans
- 1. 70 km
  - 2. 50 km
  - 3. 80 km
  - 4. 56 km

Question ID : 9895807570

Chosen Option : 2

Q.6 निम्नलिखित पाई-चार्ट एक पुस्तक को प्रकाशित करने में हुए व्यय का प्रतिशत वितरण दर्शाता है। पाई-चार्ट का अध्ययन करें और उसके आधार पर प्रश्न के उत्तर दें।

एक पुस्तक के प्रकाशन में हुआ विभिन्न व्यय (प्रतिशत में)



जिल्दसजी / बाइंडिंग पर किए गए व्यय के अनुरूपी क्षेत्र का केंद्रीय कोण क्या है?

- Ans
- 1. 70°
  - 2. 72°
  - 3. 48°
  - 4. 90°

Question ID : 9895807576

Chosen Option : 2

Q.6 यदि  $x, x + 4, x + 5, x + 7, x + 9$  अवलोकन (observations) का माध्य 9 है, तो अंतिम तीन अवलोकनों का माध्य होगा:

- Ans
- 1. 7
  - 2. 10
  - 3. 8
  - 4. 11

Question ID : 9895807559

Chosen Option : 4



Q.6  
4  $\frac{4^2 + 4}{5} + 5 \times 2 - 3$  of 4 का मान क्या है?

- Ans
- 1. 6
  - 2. 9
  - 3. 2
  - 4. 3

Question ID : 9895807554  
Chosen Option : 3

Q.6  
5 वह सबसे बड़ी संख्या ज्ञात करें जिसके द्वारा 47, 95 और 187 को विभाजित करने पर प्रत्येक मामले में समान शेष रहे।

- Ans
- 1. 4
  - 2. 9
  - 3. 13
  - 4. 7

Question ID : 9895807553  
Chosen Option : 1

Q.6  
6 8 सेमी त्रिज्या वाले एक वृत्त का क्षेत्रफल 8 सेमी आधार वाले एक त्रिभुज के क्षेत्रफल के बराबर है। तो त्रिभुज की अनुरूपी ऊंचाई की लंबाई है:

- Ans
- 1.  $38 \pi$  cm
  - 2.  $18 \pi$  cm
  - 3.  $16 \pi$  cm
  - 4.  $8 \pi$  cm

Question ID : 9895807572  
Chosen Option : 3

Q.6  
7 11 सदस्यों वाली क्रिकेट टीम के कप्तान की आयु 28 वर्ष है और विकेट कीपर उससे 4 वर्ष बड़ा है। यदि इन दोनों की आयु को छोड़ दिया जाए, तो बाकी खिलाड़ियों की औसत आयु पूरी टीम की औसत आयु से दो वर्ष कम है। तो टीम की औसत आयु क्या है?

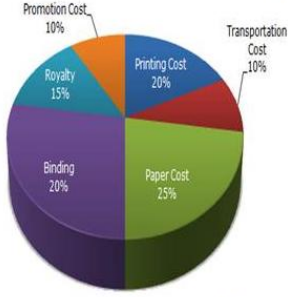
- Ans
- 1. 15 वर्ष
  - 2. 21 वर्ष
  - 3. 29 वर्ष
  - 4. 22 वर्ष

Question ID : 9895807557  
Chosen Option : 2

Q.6  
8

निम्नलिखित पाई-चार्ट एक पुस्तक को प्रकाशित करने में हुए व्यय का प्रतिशत वितरण दर्शाता है। पाई-चार्ट का अध्ययन करें और उसके आधार पर प्रश्न के उत्तर दें।

एक पुस्तक के प्रकाशन में हुआ विभिन्न व्यय (प्रतिशत में)



पुस्तक पर रॉयल्टी कागज की लागत से कितने प्रतिशत कम है?

- Ans
- 1. 25%
  - 2. 30%
  - 3. 50%
  - 4. 40%

Question ID : 9895807577  
Chosen Option : 4

Q.6 राज ने 35% की छूट पर एक नई कुर्सी खरीदी। यदि राज को कोई छूट नहीं मिलती, तो राज को ₹238 और देने पड़ते। राज ने कुर्सी के लिए कितना भुगतान किया?

- Ans
- 1. ₹424
  - 2. ₹452
  - 3. ₹416
  - 4. ₹442

Question ID : 9895807558  
Chosen Option : 4

Q.7 लोहे का एक खोखला पाइप 28 cm लंबा है और इसका बाहरी व्यास 10 cm है। यदि पाइप की मोटाई 2 cm है और लोहे का वजन  $5 \text{ g/cm}^3$  है, तो पाइप का वजन कितना है?

- Ans
- 1. 7.40 g
  - 2. 70.4 g
  - 3. 7.04 g
  - 4. 74 g

Question ID : 9895807573  
Chosen Option : 2

Q.7 एक व्यक्ति ने अपने पुराने टाइपराइटर को ₹4500 में बेचने की योजना बनाई है जिस पर उसे 10% हानि होगी। 20% लाभ प्राप्त करने के लिए, उसे इसे कितने रुपये में बेचना चाहिए?

- Ans
- 1. ₹7200
  - 2. ₹7000
  - 3. ₹8500
  - 4. ₹6000

Question ID : 9895807561  
Chosen Option : 4

Q.7 दो संख्याएँ तीसरी संख्या से क्रमशः 25% और 50% अधिक हैं। दूसरी संख्या से पहली संख्या का अनुपात है:

- Ans
- 1. 2:1
  - 2. 6:5
  - 3. 1:2
  - 4. 5:6

Question ID : 9895807563  
Chosen Option : 4

Q.7  
3 1 से 80 तक की संख्याओं में कितने प्रतिशत संख्याओं में इकाई अंक 1 या 9 हैं?

- Ans
- 1. 20%
  - 2. 1%
  - 3. 14%
  - 4. 21%

Question ID : 9895807560  
Chosen Option : 1

Q.7  
4 यदि 15 श्रमिक 10 दिनों में ₹1,800 कमा सकते हैं। 8 दिनों में 5 श्रमिकों की अर्जित राशि (₹) में जात करें।

- Ans
- 1. 480
  - 2. 400
  - 3. 360
  - 4. 540

Question ID : 9895807568  
Chosen Option : 1

Q.7  
5 सरलीकृत करें:  
 $8.65 - [4 + 0.5 \text{ of } (8.8 - 2.3 \times 3.5)]$

- Ans
- 1. 4.725
  - 2. 4.275
  - 3. 3.275
  - 4. 4.527

Question ID : 9895807555  
Chosen Option : 2

Section : English Language

Q.1 Select the most appropriate option to fill in the blank.

Sometimes a person's intelligence is not fully appreciated \_\_\_\_\_ he/she gets an opportunity.

- Ans
- 1. unless
  - 2. until
  - 3. later
  - 4. upto

Question ID : 9895807886

Chosen Option : --

Q.2 Select the antonym of the given word.

BENIGN

- Ans
- 1. Amiable
  - 2. Hostile
  - 3. Genial
  - 4. Mild

Question ID : 9895807895

Chosen Option : --

Q.3 Select the most appropriate option to substitute the underlined segment in the given sentence. If there is no need to substitute it, select No improvement.

Passengers are requested to go for security check before they proceed to board the flight.

- Ans
- 1. are request to go for
  - 2. are requesting to go for
  - 3. are requests to go for
  - 4. No improvement

Question ID : 9895807884

Chosen Option : --

Q.4 Select the synonym of the given word.

STRAY

- Ans
- 1. Steady
  - 2. Slight
  - 3. Wander
  - 4. Gruesome

Question ID : 9895807894

Chosen Option : --

Comprehension:

In the following passage some words have been deleted. Fill in the blanks with the help of the alternatives given.

Obesity can be (1) \_\_\_\_\_ by eating healthy food and increasing physical activity. There is no need to alter the quantity of the food but the quality of the food must be (2) \_\_\_\_\_ and improvised. Avoiding red meat, oily food, extra fats in form of ghee, butter etc. can dramatically help to reduce the weight. Moreover, if the right eating is accompanied (3) \_\_\_\_\_ physical work out, it becomes the perfect way to lose weight and stay healthy. In some patients (4) \_\_\_\_\_ is also carried out. The choice of the treatment (5) \_\_\_\_\_ on various factors and the decision is taken by the physician by thoroughly examining the patient.

SubQuestion No : 5

Q.5 Select the most appropriate option that will fill in the blank number 1.

- Ans
- 1. tolerated
  - 2. managed
  - 3. destroyed
  - 4. magnified

Question ID : 9895807888  
Chosen Option : --

Comprehension:

In the following passage some words have been deleted. Fill in the blanks with the help of the alternatives given.

Obesity can be (1) \_\_\_\_\_ by eating healthy food and increasing physical activity. There is no need to alter the quantity of the food but the quality of the food must be (2) \_\_\_\_\_ and improvised. Avoiding red meat, oily food, extra fats in form of ghee, butter etc. can dramatically help to reduce the weight. Moreover, if the right eating is accompanied (3) \_\_\_\_\_ physical work out, it becomes the perfect way to lose weight and stay healthy. In some patients (4) \_\_\_\_\_ is also carried out. The choice of the treatment (5) \_\_\_\_\_ on various factors and the decision is taken by the physician by thoroughly examining the patient.

SubQuestion No : 6

Q.6 Select the most appropriate option that will fill in the blank number 2.

- Ans
- 1. decreased
  - 2. checked
  - 3. distinguished
  - 4. satisfied

Question ID : 9895807889

Chosen Option : --

Comprehension:

In the following passage some words have been deleted. Fill in the blanks with the help of the alternatives given.

Obesity can be (1) \_\_\_\_\_ by eating healthy food and increasing physical activity. There is no need to alter the quantity of the food but the quality of the food must be (2) \_\_\_\_\_ and improvised. Avoiding red meat, oily food, extra fats in form of ghee, butter etc. can dramatically help to reduce the weight. Moreover, if the right eating is accompanied (3) \_\_\_\_\_ physical work out, it becomes the perfect way to lose weight and stay healthy. In some patients (4) \_\_\_\_\_ is also carried out. The choice of the treatment (5) \_\_\_\_\_ on various factors and the decision is taken by the physician by thoroughly examining the patient.

SubQuestion No : 7

Q.7 Select the most appropriate option that will fill in the blank number 3.

- Ans
- 1. with
  - 2. of
  - 3. at
  - 4. for

Question ID : 9895807890  
Chosen Option : --

Comprehension:

In the following passage some words have been deleted. Fill in the blanks with the help of the alternatives given.

Obesity can be (1) \_\_\_\_\_ by eating healthy food and increasing physical activity. There is no need to alter the quantity of the food but the quality of the food must be (2) \_\_\_\_\_ and improvised. Avoiding red meat, oily food, extra fats in form of ghee, butter etc. can dramatically help to reduce the weight. Moreover, if the right eating is accompanied (3) \_\_\_\_\_ physical work out, it becomes the perfect way to lose weight and stay healthy. In some patients (4) \_\_\_\_\_ is also carried out. The choice of the treatment (5) \_\_\_\_\_ on various factors and the decision is taken by the physician by thoroughly examining the patient.

SubQuestion No : 8

Q.8 Select the most appropriate option that will fill in the blank number 4.

- Ans
- 1. dissection
  - 2. segmentation
  - 3. surgery
  - 4. amputation

Question ID : 9895807891  
Chosen Option : --

Comprehension:



In the following passage some words have been deleted. Fill in the blanks with the help of the alternatives given.

Obesity can be (1) \_\_\_\_\_ by eating healthy food and increasing physical activity. There is no need to alter the quantity of the food but the quality of the food must be (2) \_\_\_\_\_ and improvised. Avoiding red meat, oily food, extra fats in form of ghee, butter etc. can dramatically help to reduce the weight. Moreover, if the right eating is accompanied (3) \_\_\_\_\_ physical work out, it becomes the perfect way to lose weight and stay healthy. In some patients (4) \_\_\_\_\_ is also carried out. The choice of the treatment (5) \_\_\_\_\_ on various factors and the decision is taken by the physician by thoroughly examining the patient.

SubQuestion No : 9

Q.9 Select the most appropriate option that will fill in the blank number 5.

- Ans
- 1. ignores
  - 2. depends
  - 3. avoids
  - 4. loathes

Question ID : 9895807892  
Chosen Option : --

Q.1  
0 Select the most appropriate word to fill in the blank.

A person's individual risk for many diseases most often \_\_\_\_\_ from a combination of genes, environment and lifestyle.

- Ans
- 1. stops
  - 2. checks
  - 3. stems
  - 4. diagnoses

Question ID : 9895807904  
Chosen Option : --

Q.1  
1 Select the option that means the same as the given idiom.

To pull oneself together

- Ans
- 1. To calm oneself and begin to think or act

- 2. To put necessary matters on the table
- 3. To hide important facts and reasons
- 4. To keep working constantly with attention

Question ID : 9895807898  
Chosen Option : --

Q.1  
2 Select the antonym of the given word.

EXTRAVAGANT

- Ans
- 1. Factual
  - 2. Untrue
  - 3. Economical
  - 4. Wonderful

Question ID : 9895807896  
Chosen Option : --

Q.1  
3 Select the most appropriate option to substitute the underlined segment in the given sentence. If there is no need to substitute it, select No improvement.

My neighbour along with his children is going tonight to watch a movie based over the life of martyrs.

- Ans
- 1. No improvement
  - 2. a movie base on the life of martyrs
  - 3. a movie basing on life of martyrs
  - 4. a movie based on the life of martyrs

Question ID : 9895807882  
Chosen Option : --

Q.1  
4 Select the word which means the same as the group of words given.

Someone in love with himself.

- Ans
- 1. Narcissist
  - 2. Humanist
  - 3. Philanthropist
  - 4. Philologist

Question ID : 9895807900  
Chosen Option : --

Q.1  
5 Select the most appropriate option to fill in the blank.

People can only form new habits when they \_\_\_\_\_ particular patterns of behaviour.

- Ans
- 1. have adopted
  - 2. has adopted
  - 3. had adopted
  - 4. having adopted

Question ID : 9895807885  
Chosen Option : --

Q.1  
6 From the given options, identify the segment in the sentence which contains the grammatical error.

The book provide ample guidance and practice in learning English conversations effectively for all age groups.

- Ans
- 1. in learning English conversations
  - 2. for all age groups
  - 3. ample guidance and practice
  - 4. The book provide

Question ID : 9895807880  
Chosen Option : --

Q.1  
7 Select the correctly spelt word.

- Ans
- 1. Rehearsel
  - 2. Rehearsal
  - 3. Rehersal
  - 4. Reehersal

Question ID : 9895807901  
Chosen Option : --

Q.1  
8 Select the option that means the same as the given idiom.

To be fair and square

- Ans
- 1. To be good at drawing
  - 2. To be fair in colour
  - 3. To be honest
  - 4. To be in a good physique

Question ID : 9895807897  
Chosen Option : --

Q.1  
9 Select the word which means the same as the group of words given.

A large number of fish swimming together.

- Ans
- 1. Herd
  - 2. Pack
  - 3. Mob
  - 4. Shoal

Question ID : 9895807899  
Chosen Option : --

Q.2  
0 Select the correctly spelt word.

- Ans
- 1. Quantitative

- 2. Quantitativ
- 3. Quantetative
- 4. Quantitative

Question ID : 9895807902  
Chosen Option : --

Q.2 Select the most appropriate option to substitute the underlined segment in the given sentence. If there is no need to substitute it, select No improvement.

No sooner he has returned to home than his boss called him for an urgent meeting.

- Ans
- 1. No sooner had he returned home
  - 2. No improvement
  - 3. No sooner he have returned to home
  - 4. No sooner he returned to home

Question ID : 9895807883  
Chosen Option : --

Q.2 Select the most appropriate word to fill in the blank.

This is a good time for all of us to \_\_\_\_\_ a new year's party.

- Ans
- 1. invite
  - 2. initiate
  - 3. organize
  - 4. collect

Question ID : 9895807903  
Chosen Option : --

Q.2 From the given options, identify the segment in the sentence which contains the grammatical error.

Just because you are learning a language does not mean you need to limiting your thinking.

- Ans
- 1. does not mean
  - 2. you are learning a language
  - 3. Just because
  - 4. need to limiting your thinking

Question ID : 9895807879  
Chosen Option : --

Q.2 Select the synonym of the given word.

ADULTERATED

- Ans
- 1. Concentrated
  - 2. Fused
  - 3. Contaminated
  - 4. Combined

Question ID : 9895807893  
Chosen Option : --

Q.2 From the given options, identify the segment in the sentence which contains the grammatical error.  
5

Taking the help of people with rich experience of life will saves you much time and effort.

- Ans
- 1. much time and effort
  - 2. will saves you
  - 3. people with rich experience
  - 4. Taking the help of

Question ID : 9895807881  
Chosen Option : --

Section : Hindi Language

Q.1 सही वर्तनी वाले शब्द का चयन करें।

- Ans
- 1. ननिहाल
  - 2. ननीहाल
  - 3. नानीहाल
  - 4. ननिआल

Question ID : 9895806682  
Chosen Option : 1

Q.2 सही वर्तनी वाले शब्द का चयन करें।

- Ans
- 1. अतिथिगृह
  - 2. अतिथीगृह
  - 3. अतिथिग्रह
  - 4. अतीथिगृह

Question ID : 9895806681  
Chosen Option : 2

Q.3 दिए गए वाक्य का वह भाग ज्ञात करें जिसमें कोई त्रुटि है।

मोहन का आम का बगीचा बड़ी ही सुन्दर है।

- Ans
- 1. आम का बगीचा
  - 2. मोहन का
  - 3. बड़ी ही
  - 4. सुन्दर है।

Question ID : 9895806658  
Chosen Option : 3

Q.4

दिए गए वाक्य का वह भाग ज्ञात करें जिसमें कोई त्रुटि है।

जो व्यक्ति अधिक परिश्रम नहीं करता वे परीक्षा में सफलता प्राप्त नहीं करता।

Ans

- 1. जो व्यक्ति
- 2. सफलता प्राप्त नहीं करता।
- 3. अधिक परिश्रम नहीं करता
- 4. वे परीक्षा में

Question ID : 9895806657  
Chosen Option : 4

Q.5 रिक्त स्थान को भरने के लिए उपयुक्त शब्द का चयन करें।

कृपया कूड़ेदान \_\_\_\_\_ प्रयोग करें।

Ans

- 1. का
- 2. में
- 3. पर
- 4. से

Question ID : 9895806665  
Chosen Option : 1

Comprehension:

निम्नलिखित गद्यांश के रिक्त स्थानों की पूर्ति गद्यांश के नीचे दिए गए प्रश्नों के अनुसार कीजिए -

महादेवी ने इसी समाज में मजबूती से पाँव रोपकर अपने \_\_\_\_\_(1) की खोज की थी। व्यक्तित्व की खोज ही नहीं, उसकी \_\_\_\_\_(2) की खोज भी। कदाचित इसी कारण उनकी भावुकता में भी एक \_\_\_\_\_(3) है, तरलता में भी एक आंतरिक प्रतिरोध है, जो उनकी कविता से अधिक उनके गद्य में उजागर होता है। कविता में तो उसे प्रेरित करने वाले विशिष्ट भाव-प्रसंग का, उसके लौकिक \_\_\_\_\_(4) का अक्सर पता नहीं चलता। गद्य में वही कवित्व ठोस वस्तु स्थितियों से, स्वयं पढ़ने वाले की जीवनानुभूति से पग-पग आलोकित परिभाषित होता चलता है। महादेवी का गद्य अंतर्जगत और बहिर्जगत का एक अत्यंत रोचक और \_\_\_\_\_(5) संवाद घटित कराने वाला गद्य है।

SubQuestion No : 6

Q.6 गद्यांश में संकेतित रिक्त स्थान (1) के लिए उपयुक्त शब्द होगा

Ans

- 1. महत्व
- 2. व्यक्तित्व

3. अपनत्व

4. संक्षिप्त

Question ID : 9895806668

Chosen Option : 2

Comprehension:

निम्नलिखित गद्यांश के रिक्त स्थानों की पूर्ति गद्यांश के नीचे दिए गए प्रश्नों के अनुसार कीजिए -

महादेवी ने इसी समाज में मजबूती से पाँव रोपकर अपने \_\_\_\_\_(1) की खोज की थी। व्यक्तित्व की खोज ही नहीं, उसकी \_\_\_\_\_(2) की खोज भी। कदाचित इसी कारण उनकी भावुकता में भी एक \_\_\_\_\_(3) है, तरलता में भी एक आंतरिक प्रतिरोध है, जो उनकी कविता से अधिक उनके गद्य में उजागर होता है। कविता में तो उसे प्रेरित करने वाले विशिष्ट भाव-प्रसंग का, उसके लौकिक \_\_\_\_\_(4) का अक्सर पता नहीं चलता। गद्य में वही कवित्व ठोस वस्तु स्थितियों से, स्वयं पढ़ने वाले की जीवनानुभूति से पग-पग आलोकित परिभाषित होता चलता है। महादेवी का गद्य अंतर्जगत और बहिर्जगत का एक अत्यंत रोचक और \_\_\_\_\_(5) संवाद घटित कराने वाला गद्य है।

SubQuestion No : 7

Q.7 गद्यांश में संकेतित रिक्त स्थान (2) के लिए उपयुक्त शब्द होगा

- Ans
- 1. सार्थकता
  - 2. विफलता
  - 3. प्रसन्नता
  - 4. परोक्षता

Question ID : 9895806669

Chosen Option : 1

Comprehension:

निम्नलिखित गद्यांश के रिक्त स्थानों की पूर्ति गद्यांश के नीचे दिए गए प्रश्नों के अनुसार कीजिए -

महादेवी ने इसी समाज में मजबूती से पाँव रोपकर अपने \_\_\_\_\_(1) की खोज की थी। व्यक्तित्व की खोज ही नहीं, उसकी \_\_\_\_\_(2) की खोज भी। कदाचित इसी कारण उनकी भावुकता में भी एक \_\_\_\_\_(3) है, तरलता में भी एक आंतरिक प्रतिरोध है, जो उनकी कविता से अधिक उनके गद्य में उजागर होता है। कविता में तो उसे प्रेरित करने वाले विशिष्ट भाव-प्रसंग का, उसके लौकिक \_\_\_\_\_(4) का अक्सर पता नहीं चलता। गद्य में वही कवित्व ठोस वस्तु स्थितियों से, स्वयं पढ़ने वाले की जीवनानुभूति से पग-पग आलोकित परिभाषित होता चलता है। महादेवी का गद्य अंतर्जगत और बहिर्जगत का एक अत्यंत रोचक और \_\_\_\_\_(5) संवाद घटित कराने वाला गद्य है।

SubQuestion No : 8

Q.8 गद्यांश में संकेतित रिक्त स्थान (3) के लिए उपयुक्त शब्द होगा

- Ans
- 1. तरलता
  - 2. निष्ठुरता
  - 3. कठोरता
  - 4. दृढ़ता

Question ID : 9895806670  
Chosen Option : 1

Comprehension:



निम्नलिखित गद्यांश के रिक्त स्थानों की पूर्ति गद्यांश के नीचे दिए गए प्रश्नों के अनुसार कीजिए -

महादेवी ने इसी समाज में मजबूती से पाँव रोपकर अपने \_\_\_\_\_(1) की खोज की थी। व्यक्तित्व की खोज ही नहीं, उसकी \_\_\_\_\_(2) की खोज भी। कदाचित इसी कारण उनकी भावुकता में भी एक \_\_\_\_\_(3) है, तरलता में भी एक आंतरिक प्रतिरोध है, जो उनकी कविता से अधिक उनके गद्य में उजागर होता है। कविता में तो उसे प्रेरित करने वाले विशिष्ट भाव-प्रसंग का, उसके लौकिक \_\_\_\_\_(4) का अक्सर पता नहीं चलता। गद्य में वही कवित्व ठोस वस्तु स्थितियों से, स्वयं पढ़ने वाले की जीवनानुभूति से पग-पग आलोकित परिभाषित होता चलता है। महादेवी का गद्य अंतर्जगत और बहिर्जगत का एक अत्यंत रोचक और \_\_\_\_\_(5) संवाद घटित कराने वाला गद्य है।

SubQuestion No : 9

Q.9 गद्यांश में संकेतित रिक्त स्थान (4) के लिए उपयुक्त शब्द होगा

- Ans
- 1. आधार
  - 2. विकार
  - 3. औजार
  - 4. आभार

Question ID : 9895806671  
Chosen Option : 1

Comprehension:

निम्नलिखित गद्यांश के रिक्त स्थानों की पूर्ति गद्यांश के नीचे दिए गए प्रश्नों के अनुसार कीजिए -

महादेवी ने इसी समाज में मजबूती से पाँव रोपकर अपने \_\_\_\_\_(1) की खोज की थी। व्यक्तित्व की खोज ही नहीं, उसकी \_\_\_\_\_(2) की खोज भी। कदाचित इसी कारण उनकी भावुकता में भी एक \_\_\_\_\_(3) है, तरलता में भी एक आंतरिक प्रतिरोध है, जो उनकी कविता से अधिक उनके गद्य में उजागर होता है। कविता में तो उसे प्रेरित करने वाले विशिष्ट भाव-प्रसंग का, उसके लौकिक \_\_\_\_\_(4) का अक्सर पता नहीं चलता। गद्य में वही कवित्व ठोस वस्तु स्थितियों से, स्वयं पढ़ने वाले की जीवनानुभूति से पग-पग आलोकित परिभाषित होता चलता है। महादेवी का गद्य अंतर्जगत और बहिर्जगत का एक अत्यंत रोचक और \_\_\_\_\_(5) संवाद घटित कराने वाला गद्य है।

SubQuestion No : 10

Q.1  
0 गद्यांश में संकेतित रिक्त स्थान (5) के लिए उपयुक्त शब्द होगा

- Ans
- 1. भौतिक
  - 2. मार्मिक
  - 3. अमार्मिक
  - 4. अलौकिक

Question ID : 9895806672  
Chosen Option : 2

Q.1  
1 दिए गए शब्द का विलोम चुनें।

बहुज

- Ans
- 1. ज्ञानी
  - 2. विज्ञ
  - 3. अल्पज्ञ
  - 4. अगम्य

Question ID : 9895806673  
Chosen Option : 3

Q.1  
2 रिक्त स्थान को भरने के लिए उपयुक्त शब्द का चयन करें।

तुमने मेहनत नहीं की इसलिए \_\_\_\_\_ हुए।

- Ans
- 1. मेहमान
  - 2. असफल
  - 3. पागल
  - 4. सफल

Question ID : 9895806663  
Chosen Option : 2

Q.1  
3 दिए गए शब्द के पर्यायवाची शब्द का चयन करें।

आभूषण

- Ans
- 1. अंलकार
  - 2. समास
  - 3. सलिल
  - 4. वसुंधरा

Question ID : 9895806676  
Chosen Option : 1

Q.1  
4

दिए गए शब्द के पर्यायवाची शब्द का चयन करें।

क्षति

Ans

- 1. श्रुति
- 2. क्षमता
- 3. हार
- 4. हानि

Question ID : 9895806675  
Chosen Option : 4

Q.1 5 दिए गए वाक्य का वह भाग ज्ञात करें जिसमें कोई त्रुटि है।

मंदिर जाने से पूर्व भक्त मानव एक फूलों की माला बाजार से लाया।

Ans

- 1. एक फूलों की माला
- 2. बाजार से लाया।
- 3. भक्त मानव
- 4. मंदिर जाने से पूर्व

Question ID : 9895806659  
Chosen Option : 3

Q.1 6 दिये गये वाक्यांश के लिए एक शब्द दीजिये।

काम से जी चुराने वाला

Ans

- 1. मेहनती
- 2. कामचोर
- 3. निर्लज्ज
- 4. कर्मठ

Question ID : 9895806680  
Chosen Option : 2

Q.1 7 दिए गए वाक्य में रेखांकित खंड को प्रतिस्थापित करने के लिए उपयुक्त विकल्प का चयन करें।

कुणाल अपने धन का भरपूर दुरुपयोग करता है।

Ans

- 1. अपत्यय
- 2. व्यय
- 3. मितव्यय
- 4. संचय

Question ID : 9895806662  
Chosen Option : 1

Q.1 8 दिए गए वाक्य में रेखांकित खंड को प्रतिस्थापित करने के लिए उपयुक्त विकल्प का चयन करें।

भगवान कृष्ण भूत, वर्तमान और भविष्य को देखने वाले थे।

- Ans
- 1. त्रिकालदर्शी
  - 2. पारदर्शी
  - 3. सूक्ष्मदर्शी
  - 4. दूरदर्शी

Question ID : 9895806660  
Chosen Option : 1

Q.1 रिक्त स्थान को भरने के लिए उपयुक्त शब्द का चयन करें।

वसंत ऋतुओं का \_\_\_\_\_ है।

- Ans
- 1. राजा
  - 2. मामा
  - 3. नाना
  - 4. भाई

Question ID : 9895806664  
Chosen Option : 1

Q.2 रिक्त स्थान को भरने के लिए उपयुक्त शब्द का चयन करें।

मेरे जीवन का लक्ष्य बहुत \_\_\_\_\_ है।

- Ans
- 1. ऊँचा
  - 2. मलिन
  - 3. खराब
  - 4. चौड़ा

Question ID : 9895806666  
Chosen Option : 1

Q.2 निम्नलिखित में से उस विकल्प का चयन करें जो 'बाएँ हाथ का खेल होना' मुहावरे का अर्थ व्यक्त करता है।

- Ans
- 1. आसान कार्य
  - 2. मुश्किल कार्य
  - 3. बाएँ हाथ से खेलना
  - 4. असंभव

Question ID : 9895806677  
Chosen Option : 1

Q.2 निम्नलिखित में से उस विकल्प का चयन करें जो 'बाल-बाल बचना' मुहावरे का अर्थ व्यक्त करता है।

- Ans
- 1. कठिनाई होना
  - 2. आसानी से बचना

3. बालों को बचाना  
 4. संकट से कठिनाई से बचना

Question ID : 9895806678  
Chosen Option : 4

Q.2  
3 दिए गए शब्द का विलोम चुनें।

शोक

- Ans  
 1. दुर्भाग्य  
 2. दुःख  
 3. हर्ष  
 4. सौभाग्य

Question ID : 9895806674  
Chosen Option : 3

Q.2  
4 दिए गए वाक्य में रेखांकित खंड को प्रतिस्थापित करने के लिए उपयुक्त विकल्प का चयन करें।  
सड़क पर पड़ी लावारिस ,जिस पर संदेह हो, वस्तु को छूना नहीं चाहिए।

- Ans  
 1. मुमुक्षु  
 2. अशक्त  
 3. शिल्प  
 4. संदिग्ध

Question ID : 9895806661  
Chosen Option : 4

Q.2  
5 दिये गये वाक्यांश के लिए एक शब्द दीजिये।

जिसके समान कोई दूसरा न हो

- Ans  
 1. तुलनीय  
 2. अद्वितीय  
 3. गोपनीय  
 4. दंडनीय

Question ID : 9895806679  
Chosen Option : 2