

Constable (GD) in CAPFs, NIA, SSF and Rifleman (GD) in Assam Rifles Examination, 2018

Roll No. :	GovtJobsAlert.In
Registration No.	GovtJobsAlert.In
Name :	GovtJobsAlert.In
Exam Venue :	Arya College of Engineering and Information Technology
Exam Time :	4:00 PM - 5:30 PM
Exam Date :	01/03/2019

Section : General Section

Q.1 शब्दों के चार युग्म दिए गए हैं जिनमें से तीन युग्म किसी न किसी प्रकार से समान हैं, जबकि एक युग्म भिन्न है। असंगत युग्म का चयन करें।

Ans

- ✓ 1. कागज : लुगदी
✗ 2. बन्दूक : गोली चलाना
✗ 3. कलम : लिखना
✗ 4. फावड़ा : खोदना

Question ID : 9895808192
Chosen Option : 2

Q.2 निम्नलिखित में से उस संख्या का चयन करें जो बाकी संख्याओं से अलग है।

Ans

- ✗ 1. 64
✗ 2. 1000
✗ 3. 125
✓ 4. 9

Question ID : 9895808205
Chosen Option : 3

Q.3 यदि BAT = 9 और GROUND = 36, तो BUILDING = _____

Ans

- ✗ 1. 70
✗ 2. 81
✓ 3. 64
✗ 4. 66

Question ID : 9895808195
Chosen Option : 3


Q.4

एक वर्गाकार कागज़ (डैशदार लाइनें) को ठोस आकृति में तीरों द्वारा दर्शाए गए रूप में मोड़ा जाता है। फिर उसमें एक छेद किया जाता है जैसा कि वृत्त के रूप में दिखाया गया है। उस विकल्प का चयन करें जो यह दर्शाता है कि खोले जाने पर कागज़ कैसा दिखाई देगा।




Ans


1.




2.



3.



4.



Question ID : 9895808212
Chosen Option : 4

Q.5 दिए गए कथनों और निष्कर्षों को ध्यानपूर्वक पढ़ें और निर्णय लें कि कौन सा/से निष्कर्ष तार्किक रूप से कथनों का अनुसरण करता है/करते हैं।

कथन:

स्वाति सॉफ्टवेयर कंपनी X के प्रोजेक्ट मैनेजर के पद के लिए चुने जाने वाले संभावित उम्मीदवारों में से एक है।

निष्कर्ष:

- I. स्वाति को सॉफ्टवेयर कंपनी X के प्रोजेक्ट मैनेजर के रूप में चयनित किया जाएगा।
- II. स्वाति सॉफ्टवेयर कंपनी X की प्रोजेक्ट मैनेजर के रूप में चयनित नहीं किया जाएगा।

Ans

1. दोनों निष्कर्ष I और II अनुसरण करते हैं।

2. केवल निष्कर्ष I अनुसरण करता है।

3. या तो निष्कर्ष I या II अनुसरण करता है।

4. केवल निष्कर्ष II अनुसरण करता है।

Question ID : 9895808201
Chosen Option : 2

Q.6 40 छात्रों की एक पंक्ति में, मोनीश बाएँ छोर से 13वें स्थान पर है और कुमार दाएँ छोर से 9वें स्थान पर है। यदि हरि कुमार के बाएँ से चौथे स्थान पर है तो मोनीश और हरि के बीच कितने छात्र हैं?

Ans 1. 19

2. 10

✗ 3. 13

✓ 4. 14

Question ID : 9895808197
Chosen Option : 1

Q.7 उस संख्या का चयन करें जो निम्नलिखित समूह से संबंधित नहीं है।

1, 3, 5, 7, 9, 11, 13, 15, 17, 20, 21

Ans ✓ 1. 20

✗ 2. 13

✗ 3. 15

✗ 4. 3

Question ID : 9895808203
Chosen Option : 1

Q.8 निम्नलिखित में से असंगत की पहचान करें।

Ans ✓ 1. kmn

✗ 2. prt

✗ 3. bdf

✗ 4. vxz


Question ID : 9895808191
Chosen Option : 1


Q.9 वेन आरेख का चयन करें जो दिए गए तीन वर्गों के बीच के संबंध को सबसे सही रूप में दिखाता है।

हार, कंगन, आभूषण

Ans

✗ 1. 

✗ 2. 

✗ 3. 

✓ 4.



Question ID : 9895808213
Chosen Option : 4

Q.1 'अनाज' उसी तरह से संबंधित है 'अन्नभण्डार' से जिस प्रकार 'मछली' संबंधित है _____ से।

- Ans
- ✓ 1. मछलीघर
 - ✗ 2. मधुवाटिका
 - ✗ 3. चिड़ियाघर
 - ✗ 4. समुद्र

Question ID : 9895808194
Chosen Option : 4

Q.1 एक सप्ताह में सोमवार से शुक्रवार तक पांच भाषाओं -गुजराती, हिंदी, तेलुगु, उर्दू और तमिल में नाटकों का मंचन किया जाना है। प्रत्येक दिन, केवल एक नाटक का मंचन किया जाना है। उर्दू या तमिल नाटकों का मंचन पहले या अंतिम दिन नहीं होना चाहिए। तमिल नाटक को तेलुगु के तुरंत बाद किया जाना चाहिए। उर्दू के ठीक बाद हिंदी नाटक का मंचन किया जाना चाहिए। एक नाटक का मंचन एक बार गुजराती और हिंदी के बीच होना चाहिए।

निम्नलिखित में से कौन सा सभी नाटकों के मंचन के लिए सही क्रम होगा?

- Ans
- ✗ 1. गुजराती, तमिल, तेलुगु, उर्दू, हिंदी
 - ✗ 2. गुजराती, उर्दू, हिंदी, तेलुगु, तमिल
 - ✗ 3. हिंदी, उर्दू, गुजराती, तमिल, तेलुगु
 - ✓ 4. गुजराती, उर्दू, हिंदी, तमिल, तेलुगु

Question ID : 9895808199
Chosen Option : 2

Q.1 उस विकल्प का चयन करें जो तीसरी संख्या से उसी तरह से संबंधित है जिस प्रकार दूसरी संख्या पहली संख्या से संबंधित है।

10 : 110 :: 15 : _____

- Ans
- ✗ 1. 225
 - ✓ 2. 235
 - ✗ 3. 255
 - ✗ 4. 215

Question ID : 9895808204
Chosen Option : 2

Q.1
3

उस विकल्प का चयन करें जिसमें दी गई आकृति अंतर्निहित है।



Ans

✗ 1.



✗ 2.



✗ 3.

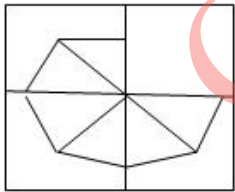


✓ 4.



Question ID : 9895808209
Chosen Option : 4

Q.1 निम्नलिखित पैटर्न को पूरा करने के लिए सही विकल्प का चयन करें।



Ans

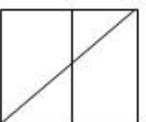
✓ 1.



✗ 2.



✗ 3.

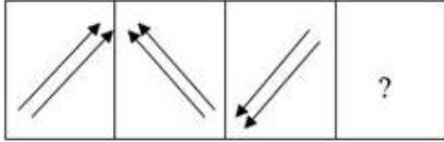


✗ 4.



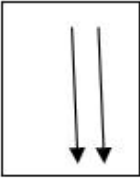
Question ID : 9895808210
Chosen Option : 1

Q.1
5 निम्नलिखित श्रृंखला में आने वाली अगली आकृति का चयन करें।



Ans

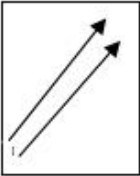
✗ 1.



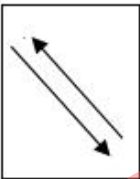
✓ 2.



✗ 3.



✗ 4.



Question ID : 9895808208
Chosen Option : 2

Q.1
6 दिए गए समीकरण को सही बनाने के लिए किन दो चिहनों को परस्पर बदलना होगा?

$$15 - 15 + 15 \times 15 \div 5 = 5$$

Ans

✓ 1. ÷ और ×

✗ 2. ÷ और -

✗ 3. + और ×

✗ 4. + और -

Question ID : 9895808206
Chosen Option : 1

Q.1 यदि THEORY को YROTHE के रूप में कूटबद्ध किया जाता है, तो SCHOOL को किस रूप में कूटबद्ध किया जायेगा?

- Ans
- 1. OOLSCH
 - 2. LOOHCS
 - 3. LOOSCH
 - 4. LOOCSH

Question ID : 9895808196

Chosen Option : 3

Q.1 नीचे दिए गए कथनों के बाद दो निष्कर्ष I और II दिए गए हैं। यह मानते हुए कि कथनों में दी गई जानकारी सत्य है, भले ही वह सर्वज्ञात तथ्यों से भिन्न प्रतीत होती हो और यह निर्णय करें कि कौन सा/से निष्कर्ष तार्किक और निश्चित रूप से कथन में दी गई जानकारी का अनुसरण करता है/करते हैं।

कथन:

सभी डॉक्टर लड़के हैं।
सभी लड़के लम्बे हैं।

निष्कर्ष:

- I. सभी डॉक्टर लम्बे हैं।
- II. सभी लड़के डॉक्टर हैं।

- Ans
- 1. न तो निष्कर्ष I और न ही निष्कर्ष II अनुसरण करता है।
 - 2. केवल निष्कर्ष I अनुसरण करता है।
 - 3. केवल निष्कर्ष II अनुसरण करता है।
 - 4. दोनों निष्कर्ष I और II अनुसरण करते हैं।

Question ID : 9895808200

Chosen Option : 3

Q.1 निम्नलिखित संख्या श्रृंखला में, दो संख्याओं को कोष्ठक के भीतर रखा गया है। श्रृंखला का ध्यानपूर्वक अध्ययन करें और श्रृंखला के संबंध में सही विकल्प का चयन करें।

11, 101, 1001, (10001), 100001, (10000001)

- Ans
- 1. पहली कोष्ठक संख्या (बाएं से) गलत है और दूसरी सही है।
 - 2. पहली कोष्ठक संख्या (बाएं से) सही है और दूसरी गलत है।
 - 3. दोनों कोष्ठक संख्याएँ सही हैं।
 - 4. दोनों कोष्ठक संख्याएँ गलत हैं।

Question ID : 9895808207

Chosen Option : 2

Q.2 उस संख्या का चयन करें जो निम्नलिखित श्रृंखला में अगली संख्या होगी।

0, 2, 6, 12, 20, 30, 42, 56, 72, _____

- Ans
- 1. 100

✗ 2. 81

✓ 3. 90

✗ 4. 82

Question ID : 9895808202
Chosen Option : 3

Q.2 उस विकल्प का चयन करें जो दर्पण के लम्बवत रखे जाने पर दिए गए शब्द की दर्पण छवि से सर्वाधिक मेल खाता है।

HOW

- Ans
- ✗ 1. HOM
 - ✓ 2. WOH
 - ✗ 3. MOH
 - ✗ 4. HOW

Question ID : 9895808211
Chosen Option : 2

Q.2 चार शब्द दिए गए हैं, जिनमें से तीन किसी तरह से समान हैं, जबकि एक अलग है। असंगत शब्द चुनें।

- Ans
- ✗ 1. दौड़ना
 - ✗ 2. चलना
 - ✗ 3. कूदना
 - ✓ 4. सोना

Question ID : 9895808190
Chosen Option : 4

Q.2 चार छात्राएं- सुमी, कवि, रानी और प्रीति एक पंक्ति में बैठी हैं। रानी और प्रीति एक दूसरे के बगल में नहीं बैठी हैं। कवि तीसरे स्थान पर नहीं बैठी है।

निम्नलिखित में कौन सा गलत है?

- Ans
- ✗ 1. सुमी चौथे स्थान पर है।
 - ✗ 2. सुमी तीसरे स्थान पर है।
 - ✗ 3. सुमी दूसरे स्थान पर है।
 - ✓ 4. सुमी पहले स्थान पर है।

Question ID : 9895808198
Chosen Option : 2

Q.2 निम्नलिखित श्रृंखला में अगले पद का चयन करें।

B-2, D-4, F-6, H-8, J-10, L-12, _____

- Ans
- ✓ 1. N-14

- 2. M-14
- 3. O-14
- 4. K-14

Question ID : 9895808189
Chosen Option : 1

Q.2
5 उस शब्द-युग्म का चयन करें जो दिए गए शब्द - युग्म के अनुरूप है।

मानवविज्ञान : मानव

- Ans
- 1. भूकंप विज्ञान : भूकंप
 - 2. प्राणि विज्ञान : पौधे
 - 3. भूमि-विज्ञान : रोग
 - 4. कवक विज्ञान : शैवाल

Question ID : 9895808193
Chosen Option : 4

Q.2
6 महिला विजेताओं को दिया जाने वाला फर्स्ट लेडीज अवार्ड किस मंत्रालय की एक पहल है?

- Ans
- 1. सूचना और प्रसारण मंत्रालय
 - 2. जनस्वास्थ्य मंत्रालय
 - 3. मानव संसाधन विकास मंत्रालय
 - 4. महिला और बाल विकास मंत्रालय

Question ID : 9895807260
Chosen Option : 4

Q.2
7 2010 राष्ट्रमंडल खेल में किस भारतीय तीरंदाज ने महिलाओं की व्यक्तिगत रिकर्व स्पर्धा में स्वर्ण पदक जीता?

- Ans
- 1. दीपिका पल्लीकल
 - 2. बोम्बायला देवी लेशराम
 - 3. दीपिका कुमारी
 - 4. लक्ष्मीरानी माझी

Question ID : 9895807256
Chosen Option : 4

Q.2
8 कचरे को एक अस्थायी संग्रहण जगह पर ले जाने से फैलने वाली बीमारियों से बचने के लिए रिहायशी इलाकों से ठोस कचरे के पृथक्करण के लिए किस प्रकार की सफाई व्यवस्था आवश्यक है?

- Ans
- 1. पारिस्थितिकी
 - 2. पुनर्चक्रण

✓ 3. भू-भराव

✗ 4. निस्स्यन्दन

Question ID : 9895807271

Chosen Option : 2

Q.2 9 भारतीय संविधान में 'मौलिक अधिकारों' की अवधारणा को निम्नलिखित में से किस देश के संविधान से लिया गया है?

Ans ✗ 1. सोवियत संघ

✗ 2. आयरलैंड

✗ 3. यूनाइटेड किंगडम

✓ 4. संयुक्त राज्य अमरीका

Question ID : 9895807264

Chosen Option : 2

Q.3 0 औद्योगिक संस्थापनाओं में भार उठाने के लिए जिस हाइड्रोलिक जैक का उपयोग किया जाता है वह भौतिकी के किस नियम पर आधारित है?

Ans ✗ 1. न्यूटन का नियम

✗ 2. आर्किमिडीज सिद्धांत

✓ 3. पास्कल का नियम

✗ 4. खेल सिद्धांत

Question ID : 9895807267

Chosen Option : 2

Q.3 1 यदि किसी देश में बजट घाटा है, और यह स्थिति लंबे समय तक बनी रहती है, तो इसका परिणाम क्या होगा?

Ans ✗ 1. ब्याज दर में कमी

✗ 2. संतुलित बजट

✓ 3. बढ़ता कर्ज

✗ 4. अधिशेष बजट

Question ID : 9895807261

Chosen Option : 3

Q.3 2 निम्नलिखित में से कौन सा जानवर बिल/मांद में रहता है?

Ans ✗ 1. मगरमच्छ

✓ 2. खरगोश

✗ 3. कछुआ

✗ 4. ऑक्टोपस

Question ID : 9895807269

Chosen Option : 4

Q.3 दुनिया की आधी से अधिक जैव विविधता (पौधों और जानवरों की विविधता) कहां पाई जाती है?

- Ans
- 1. अर्ध-सदाबहार वन
 - 2. उष्ण-कटिबंधीय वर्षा-वन
 - 3. कटीले वन
 - 4. शुष्क सदाबहार वन

Question ID : 9895807270

Chosen Option : 2

Q.3 किस भारतीय को भारत सरकार के लिए 10 बार बजट प्रस्तुत करने का गौरव हासिल है?

- Ans
- 1. डॉ. मनमोहन सिंह
 - 2. प्रणब मुखर्जी
 - 3. मोरारजी देसाई
 - 4. पी. चिदंबरम

Question ID : 9895807262

Chosen Option : 3

Q.3 नॉर्वे का सबसे प्रतिष्ठित पुरस्कार नॉर्वे नेशनल अवार्ड पाने वाले पहले भारतीय अभिनेता कौन है?

- Ans
- 1. आदिल हुसैन
 - 2. अमिताभ बच्चन
 - 3. नवाजुद्दीन सिद्दीकी
 - 4. दिलीप कुमार

Question ID : 9895807258

Chosen Option : 2

Q.3 लॉर्ड कर्जन की निगरानी में बंगाल का विभाजन किस वर्ष हुआ था?

- Ans
- 1. 1906
 - 2. 1905
 - 3. 1911
 - 4. 1913

Question ID : 9895807277

Chosen Option : 2

Q.3
7 पुस्तक 'द इंडिया ऑफ माइ ड्रीम्स' के लेखक कौन हैं?

- Ans
- 1. जवाहर लाल नेहरू
 - 2. राजेन्द्र प्रसाद
 - 3. महात्मा गांधी
 - 4. सरदार वल्लभभाई पटेल

Question ID : 9895807259
Chosen Option : 1

Q.3
8 'बागुरुम्बा' भारत की किस जनजाति का पारंपरिक नृत्य है?

- Ans
- 1. भील
 - 2. गारो
 - 3. बोड़ो
 - 4. मुण्डा

Question ID : 9895807253
Chosen Option : 2

Q.3
9 भारतीय खाद्य निगम (FCI) की स्थापना कब की गई?

- Ans
- 1. 1960
 - 2. 1969
 - 3. 1965
 - 4. 1967

Question ID : 9895807263
Chosen Option : 4

Q.4
0 कौन सी नदी दस देशों से होकर बहती है?

- Ans
- 1. दजला (टिगरिस)
 - 2. फुरात (इयुफ्रेटीस)
 - 3. वोल्गा
 - 4. डैन्यूब

Question ID : 9895807272
Chosen Option : 1

Q.4
1 भारत में वैष्णववाद की वृद्धि का प्रमाण 'हेलिओडोरस स्तंभ', किस भारतीय शहर में स्थित है?

- Ans
- 1. विदिशा

- 2. कानपुर
- 3. लखनऊ
- 4. उज्जैन

Question ID : 9895807255
Chosen Option : 4

Q.4
2 भारतीय संसद में दिवाला और दिवालियापन संहिता विधेयक किस वर्ष पारित किया गया था?

- Ans
- 1. 2017
 - 2. 2014
 - 3. 2018
 - 4. 2016

Question ID : 9895807265
Chosen Option : 2

Q.4
3 बर्फ से ढकी चोटियों वाली एकमात्र पर्वत श्रृंखला कौन सी है?

- Ans
- 1. सह्याद्री
 - 2. सतपुड़ा
 - 3. पटकाई
 - 4. हिमालय

Question ID : 9895807273
Chosen Option : 1

Q.4
4 पैरालंपिक स्वर्ण पदक जीतने वाले पहले भारतीय कौन हैं?

- Ans
- 1. वरुण सिंह भाटी
 - 2. मरियप्पन थान्गावेलु
 - 3. दीपा मलिक
 - 4. राजिंदर सिंह

Question ID : 9895807257
Chosen Option : 3

Q.4
5 प्राचीन काल में, बौद्ध काल के दौरान, कपिलवस्तु के शासक कौन थे?

- Ans
- 1. गुप्त
 - 2. लिच्छवि
 - 3. मौर्य
 - 4. शाक्य

Question ID : 9895807275
Chosen Option : 3

Q.4
6 'मज्म उल बहरैन' पुस्तक लिखने वाला मुगल शासक कौन था?

- Ans
- 1. औरंगजेब
 - 2. हुमायूँ
 - 3. बाबर
 - 4. दारा शूकोह

Question ID : 9895807276
Chosen Option : 4

Q.4
7 नोंगकर्म नृत्य उत्सव किस भारतीय राज्य में मनाया जाने वाला एक पारंपरिक नृत्य उत्सव है?

- Ans
- 1. मिजोरम
 - 2. गोवा
 - 3. सिक्किम
 - 4. मेघालय

Question ID : 9895807254
Chosen Option : 3

Q.4
8 विश्व में किस देश की साक्षरता दर सबसे अधिक है?

- Ans
- 1. रूस
 - 2. संयुक्त राज्य
 - 3. जापान
 - 4. ऑस्ट्रेलिया

Question ID : 9895807274
Chosen Option : 1

Q.4
9 हमारी अँतड़ी में पाया जाने वाला बैक्टीरिया कौन सा है जो हमें खाना पचाने में मदद करता है?

- Ans
- 1. लेक्टोबेसिल्लस एसिडोफिलस
 - 2. क्लोस्ट्रीडियम बोटुलिनम
 - 3. कैंपाइलोबैक्टर जेजुनी
 - 4. स्टेफिलोकोकस ऑरियस

Question ID : 9895807268
Chosen Option : 1

Q.5 दिसंबर 1929 के दौरान कांग्रेस के किस सत्र में 26 जनवरी को 'पूर्ण स्वराज' के दिन के रूप में तय किया गया था, जिसे बाद में संविधान अपनाने की तारीख के रूप में निर्धारित किया गया?

- Ans
- 1. लाहौर
 - 2. भोपाल
 - 3. बंबई
 - 4. कलकत्ता

Question ID : 9895807266
Chosen Option : 4

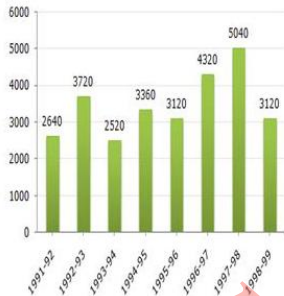
Q.5 श्याम के कमरे का आयाम $5\text{ m} \times 3\text{ m} \times 2\text{ m}$ है। कमरे में $2\text{ m} \times 1.5\text{ m}$ आयाम का एक दरवाजा और $1\text{ m} \times 1\text{ m}$ आयामों की एक खिड़की भी है। यदि पेंटिंग की दर ₹1.50 प्रति m^2 है, तो उसके कमरे की चार दीवारों को पेंट करने की लागत (₹ में) कितनी होगी?

- Ans
- 1. 43
 - 2. 45
 - 3. 44
 - 4. 42

Question ID : 9895807598
Chosen Option : 2

Q.5 नीचे दिए गए स्तम्भ आलेख का अध्ययन करें, जो 1991 - 1992 से 1998 - 1999 तक एक देश के विदेशी मुद्रा भंडार (मिलियन US \$ में) दर्शाता है, और निम्नलिखित प्रश्न का उत्तर दें।

देश का विदेशी मुद्रा भंडार (मिलियन US \$ में)



1997-98 में विदेशी मुद्रा भंडार 1993-94 से कितना गुना था?

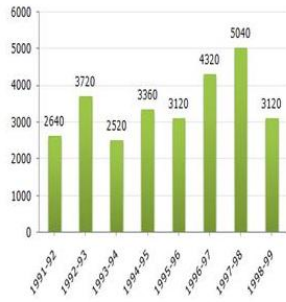
- Ans
- 1. 2
 - 2. 2.5
 - 3. 3
 - 4. 1.5

Question ID : 9895807601
Chosen Option : 1

Q.5
3

नीचे दिए गए स्तम्भ आलेख का अध्ययन करें, जो 1991 - 1992 से 1998 - 1999 तक एक देश के विदेशी मुद्रा भंडार (मिलियन US \$ में) दर्शाता है, और निम्नलिखित प्रश्न का उत्तर दें।

देश का विदेशी मुद्रा भंडार (मिलियन US \$ में)



प्रश्न:

पूर्व वर्ष की तुलना में 1996-1997 के दौरान विदेशी मुद्रा भंडार में प्रतिशत वृद्धि कितनी है?

- Ans 1. 38.46%
2. 36.46%
3. 48.46%
4. 35.46%

Question ID : 9895807600

Chosen Option : 4

Q.5 a, b, c, d और e का माध्य 28 है। यदि a, c और e का माध्य 24 है, तो b और d का माध्य कितना है?

- Ans 1. 31
2. 34
3. 32
4. 33

Question ID : 9895807584

Chosen Option : 2

Q.5 सरलीकृत करें:

$$10.5 - 0.3 \text{ of } (7.4 - 3.4) + 2.8 \times 4.4$$

- Ans 1. 22.62
2. 20.62
3. 12.62
4. 21.62

Question ID : 9895807579

Chosen Option : 4

Q.5 एक समचतुर्भुज का एक विकर्ण दूसरे का 70% है। भुजा के रूप में लंबे विकर्ण का उपयोग करके एक वर्ग तैयार किया जाता है। वर्ग के क्षेत्रफल का उस समचतुर्भुज के क्षेत्रफल से अनुपात क्या होगा?

- Ans 1. 20 : 7

2. 10 : 3

3. 14 : 7

4. 30 : 7

Question ID : 9895807599
Chosen Option : 2

Q.5 P और Q की औसत मासिक आय ₹4050 है। Q और R की औसत मासिक आय ₹6350 है और P और R की औसत मासिक आय ₹4800 है। P की मासिक आय (₹ में) कितनी है?

Ans 1. ₹7100

2. ₹2500

3. ₹2000

4. ₹4800

Question ID : 9895807582
Chosen Option : 2

Q.5 राजू ने एबीसी बैंक में ₹52,000 का निवेश किया। यदि पहले वर्ष की ब्याज दर 12% और दूसरे वर्ष की ब्याज दर पहले वर्ष के ब्याज दर से 3% अधिक थी, दो साल में उसे कितना चक्रवृद्धि ब्याज मिलेगा?

Ans 1. ₹17,964

2. ₹41,967

3. ₹14,976

4. ₹19,764

Question ID : 9895807592
Chosen Option : 2

Q.5 जॉन के कमरे का फर्श $10\text{ m} \times 3\text{ m}$ है। वह फर्श पर $15\text{ cm} \times 8\text{ cm}$ वाली टाइल्स लगाने का निर्णय करता है। उसे कितने टाइल्स की जरूरत होगी?

Ans 1. 3,000 टाइल्स

2. 2,500 टाइल्स

3. 3,000 टाइल्स

4. 2,000 टाइल्स

Question ID : 9895807597
Chosen Option : 2

Q.6 एक विक्रेता ने एक रूप में 7 टॉफियों की दर से टॉफियां खरीदीं। 40% लाभ प्राप्त करने के लिए उसे एक रूप में कितनी टॉफियां बेचना चाहिए?

Ans 1. 5

2. 7

3. 6

4. 4

Question ID : 9895807586

Chosen Option : 1

Q.6
1 सरलीकृत करें:

$$12 - 6.4 \div 8 + 0.2 \times 0.7$$

- Ans
- 1. 11.34
 - 2. 22.6
 - 3. 10.6
 - 4. 21.6

Question ID : 9895807580
Chosen Option : 1Q.6
2 अमित 10 घंटों में 40 km/h की चाल से एक दूरी तय करता है। यदि वह 8 घंटों में समान दूरी तय करना चाहता है, तो उसकी चाल कितनी होनी चाहिए?

- Ans
- 1. 40 km/h
 - 2. 30 km/h
 - 3. 50 km/h
 - 4. 20 km/h

Question ID : 9895807596
Chosen Option : 4Q.6
3 8 का न्यूनतम विभाज्य, जिससे 4 शेषफल रह जाता है, जब 6, 9, 15 और 18 से विभाजित किया जाता है, वह _____ है।

- Ans
- 1. 180
 - 2. 98
 - 3. 94
 - 4. 184

Question ID : 9895807578
Chosen Option : 1Q.6
4 रीना ने साधारण ब्याज पर ब्याज दर जितने ही वर्षों के लिए ₹1,800 का ऋण लिया। यदि उसने ऋण अवधि के अंत में ब्याज के रूप में ₹1,152 का भुगतान किया है, तो ब्याज दर क्या थी?

- Ans
- 1. 9
 - 2. 8
 - 3. 12
 - 4. 6

Question ID : 9895807591
Chosen Option : 4Q.6
5 यदि ₹828 को तीन भागों में, आनुपातिक $\frac{1}{2} : \frac{2}{3} : \frac{3}{4}$ में विभाजित किया जाता है, तो दूसरा भाग _____ है।

- Ans
- 1. ₹388

✓ 2. ₹288

✗ 3. ₹280

✗ 4. ₹364

Question ID : 9895807590
Chosen Option : 4

Q.6 दो छात्रों ने एक परीक्षा दी। उनमें से एक ने दूसरे से 12 अंक अधिक हासिल किए और उसके अंक उनके अंकों के योग का 56% थे। दोनों द्वारा प्राप्त अंक कितने हैं?

Ans ✗ 1. 58, 46

✗ 2. 54, 42

✗ 3. 52, 40

✓ 4. 56, 44

Question ID : 9895807585
Chosen Option : 4

Q.6 25 संख्याओं का औसत शून्य है। उनमें से, ज्यादा से ज्यादा, कितनी शून्य से अधिक हो सकती हैं?

Ans ✗ 1. 1

✗ 2. 24

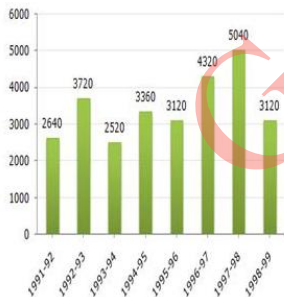
✗ 3. 20

✓ 4. 0

Question ID : 9895807581
Chosen Option : 4

Q.6 नीचे दिए गए स्तम्भ आलेख का अध्ययन करें, जो 1991 - 1992 से 1998 - 1999 तक एक देश के विदेशी मुद्रा भंडार (मिलियन US \$ में) दर्शाता है, और निम्नलिखित प्रश्न का उत्तर दें।

देश का विदेशी मुद्रा भंडार (मिलियन US \$ में)



1994-95 में विदेशी मुद्रा भंडार समीक्षाधीन अवधि के औसत विदेशी मुद्रा भंडार का लगभग कितने प्रतिशत था?

Ans ✗ 1. 94%

✗ 2. 95%

✓ 3. 96.5%

✗ 4. 86.5%

Question ID : 9895807602
Chosen Option : 2

Q.6 तीन संख्याओं का योग 134 है। यदि दूसरी से पहली का अनुपात 3 : 4 है और तीसरी से दूसरी का अनुपात 5 : 8 है, तो दूसरी संख्या क्या है?

- Ans
- 1. 48
 - 2. 20
 - 3. 30
 - 4. 40

Question ID : 9895807588

Chosen Option : 2

Q.7 A 10 दिनों में एक कार्य कर सकता है और B 15 दिनों। यदि वे 5 दिनों के लिए एक साथ काम करें, तो बचे हुए कार्य का अंश क्या होगा?

- Ans
- 1. $\frac{2}{3}$
 - 2. $\frac{1}{6}$
 - 3. $\frac{5}{6}$
 - 4. $\frac{3}{4}$

Question ID : 9895807593

Chosen Option : 2

Q.7 एक दुकानदार को अपनी लागत मूल्य पर 10.5% के लाभ की उम्मीद है। यदि एक सप्ताह में, उसकी बिक्री ₹442 की थी, तो उसका लाभ क्या था?

- Ans
- 1. ₹42
 - 2. ₹40
 - 3. ₹72
 - 4. ₹70

Question ID : 9895807587

Chosen Option : 1

Q.7 A एक कार्य 3 घंटों में कर सकता है। B और C मिलकर इसे 4 घंटों में कर सकते हैं, जबकि A और C मिलकर इसे 2 घंटों में कर सकते हैं। B को अकेले इसे करने में कितना समय लगेगा?

- Ans
- 1. 12 घंटे
 - 2. 14 घंटे
 - 3. 10 घंटे
 - 4. 8 घंटे

Question ID : 9895807594

Chosen Option : 2

Q.7 एक बैग में, 1: 3: 5 के अनुपात में 25 पैसे, 10 पैसे और 5 पैसे के सिक्के हैं। यदि सब मिला के राशि ₹40 है, तो 5 पैसे के सिक्के कितने हैं?

- Ans
- 1. ₹50
 - 2. ₹250
 - 3. ₹100
 - 4. ₹150

Question ID : 9895807589
Chosen Option : 2

Q.7 प्रतीक बाइक से 20 km/h की चाल से 100 km , कार से 30 km/h की चाल से 120 km और अन्य 140 km
4 घोड़ा गाड़ी से 20 km/h की चाल से यात्रा करता है। तो, तय की गई पूरी दूरी के लिए उसकी औसत गति ज्ञात करें।

- Ans
- 1. 21.5 km/h
 - 2. 20.5 km/h
 - 3. 22.5 km/h
 - 4. 19.5 km/h

Question ID : 9895807595
Chosen Option : 4

Q.7 यदि एक दुकानदार पेन पर 20% की छूट और फिर 10% की अतिरिक्त छूट देता है, जिसका अंकित मूल्य ₹750 है,
5 तो पेन का विक्रय मूल्य कितना होगा?

- Ans
- 1. ₹500
 - 2. ₹525
 - 3. ₹540
 - 4. ₹625

Question ID : 9895807583
Chosen Option : 4

Section : English Language

Q.1 From the given options, identify the segment in the sentence which contains the grammatical error.

It took Mr. Sharma more than six month of research to find out a perfect remedy for the malady.

- Ans
- 1. more than six month
 - 2. remedy for the malady
 - 3. to find out
 - 4. It took Mr. Sharma

Question ID : 9895807906
Chosen Option : --

Q.2 Select the most appropriate option to substitute the underlined segment in the given sentence. If there is no need to substitute it, select No improvement.

Not only the children but also the elders enjoyed the function with equal joy.

- Ans
- 1. enjoys the function with equal joy.
 - 2. enjoying the function with equal joy.

3. are enjoy the function with equal joy.

4. No improvement

Question ID : 9895807910
Chosen Option : --

Q.3 Select the correctly spelt word.

Ans 1. Amendment

2. Amendement

3. Amindment

4. Amandment

Question ID : 9895807927
Chosen Option : --

Q.4 Select the most appropriate word to fill in the blank.

Scientists estimate that there are about 5 trillion _____ of plastic in the ocean now.

Ans 1. Blanks

2. Squares

3. quantities

4. Pieces

Question ID : 9895807930
Chosen Option : --

Q.5 Select the antonym of the given word.

DOMINANT

Ans 1. Gentle

2. Submissive

3. Fixed

4. Slow

Question ID : 9895807921
Chosen Option : --

Q.6 Select the most appropriate word to fill in the blank.

The _____ chosen for construction of the office is in the heart of the locality.

Ans 1. sight

2. cite

3. site

4. slight

Question ID : 9895807929
Chosen Option : --

Q.7 Select the most appropriate option to fill in the blank.

Fast food _____ much energy to digest, leaving a person unfit after its consumption.

- Ans 1. needed
 2. needing
 3. need
 4. needs

Question ID : 9895807912
Chosen Option : --

Q.8 Select the option that means the same as the given idiom.

To break the ice

- Ans 1. To avoid social gatherings
 2. To melt ice cubes
 3. To eliminate shyness
 4. To avoid someone

Question ID : 9895807924
Chosen Option : --

Q.9 Select the most appropriate option to substitute the underlined segment in the given sentence. If there is no need to substitute it, select No improvement.

New opportunities to increase your earnings will comes your way at the right moment.

- Ans 1. your earnings will come on your way
 2. No improvement
 3. your earnings will come your way
 4. your earnings will came your way

Question ID : 9895807909
Chosen Option : --

Comprehension:

In the following passage some words have been deleted. Fill in the blanks with the help of the alternatives given.

WHO has declared obesity as a global (1) _____
Earlier, obesity was seen as a disease of high-income countries only. But now, the global trend has been observed. There is an (2) _____ need of making the public aware about the (3) _____ effects of obesity. Outdoor sports and activities should be encouraged by (4) _____ the school authorities and parents to tackle the rising cases of childhood obesity. Healthy eating habits and an active life style should be (5) _____ by the individuals of all age groups and genders, to prevent obesity.

SubQuestion No : 10

Q.1
0 Select the most appropriate option that will fill in the blank number 1.

- Ans
- 1. epidemic
 - 2. contagion
 - 3. infection
 - 4. outbreak

Question ID : 9895807914
Chosen Option : --

Comprehension:

In the following passage some words have been deleted. Fill in the blanks with the help of the alternatives given.

WHO has declared obesity as a global (1) _____
Earlier, obesity was seen as a disease of high-income countries only. But now, the global trend has been observed. There is an (2) _____ need of making the public aware about the (3) _____ effects of obesity. Outdoor sports and activities should be encouraged by (4) _____ the school authorities and parents to tackle the rising cases of childhood obesity. Healthy eating habits and an active life style should be (5) _____ by the individuals of all age groups and genders, to prevent obesity.

SubQuestion No : 11

Q.1
1 Select the most appropriate option that will fill in the blank number 2.

- Ans
- 1. exciting
 - 2. quick
 - 3. thrilling
 - 4. acute

Question ID : 9895807915
Chosen Option : --

Comprehension:

In the following passage some words have been deleted. Fill in the blanks with the help of the alternatives given.

WHO has declared obesity as a global (1) _____
Earlier, obesity was seen as a disease of high-income countries only. But now, the global trend has been observed. There is an (2) _____ need of making the public aware about the (3) _____ effects of obesity. Outdoor sports and activities should be encouraged by (4) _____ the school authorities and parents to tackle the rising cases of childhood obesity. Healthy eating habits and an active life style should be (5) _____ by the individuals of all age groups and genders, to prevent obesity.

SubQuestion No : 12

Q.1
2 Select the most appropriate option that will fill in the blank number 3.

- Ans
- 1. dull
 - 2. serious
 - 3. lonely
 - 4. unimportant

Question ID : 9895807916
Chosen Option : --

Comprehension:

In the following passage some words have been deleted. Fill in the blanks with the help of the alternatives given.

WHO has declared obesity as a global (1) _____
Earlier, obesity was seen as a disease of high-income countries only. But now, the global trend has been observed. There is an (2) _____ need of making the public aware about the (3) _____ effects of obesity. Outdoor sports and activities should be encouraged by (4) _____ the school authorities and parents to tackle the rising cases of childhood obesity. Healthy eating habits and an active life style should be (5) _____ by the individuals of all age groups and genders, to prevent obesity.

SubQuestion No : 13

Q.1
3 Select the most appropriate option that will fill in the blank number 4.

- Ans
- 1. neither
 - 2. some
 - 3. both
 - 4. either

Question ID : 9895807917
Chosen Option : --

Comprehension:

In the following passage some words have been deleted. Fill in the blanks with the help of the alternatives given.

WHO has declared obesity as a global (1) _____
Earlier, obesity was seen as a disease of high-income countries only. But now, the global trend has been observed. There is an (2) _____ need of making the public aware about the (3) _____ effects of obesity. Outdoor sports and activities should be encouraged by (4) _____ the school authorities and parents to tackle the rising cases of childhood obesity. Healthy eating habits and an active life style should be (5) _____ by the individuals of all age groups and genders, to prevent obesity.

SubQuestion No : 14

Q.1
4 Select the most appropriate option that will fill in the blank number 5.

- Ans
- 1. adapted
 - 2. discarded
 - 3. conformed
 - 4. adopted

Question ID : 9895807918
Chosen Option : --

Q.1
5 Select the correctly spelt word.

- Ans
- 1. Benevolent
 - 2. Banevolent
 - 3. Benobolent
 - 4. Benevolent

Question ID : 9895807928
Chosen Option : --

Q.1
6 Select the synonym of the given word.

ANGUISH

- Ans
- 1. Ache
 - 2. Security
 - 3. Peace
 - 4. Solace

Question ID : 9895807919
Chosen Option : --

Q.1 From the given options, identify the segment in the sentence which contains the grammatical error.
7

It is known to all that the company is exceptionally clear about its policies regarding the welfares of the employees.

- Ans
- 1. exceptionally clear about
 - 2. welfares of the employees
 - 3. the company is
 - 4. It is known to all

Question ID : 9895807907
Chosen Option : --

Q.1 Select the option that means the same as the given idiom.
8

To scale up

- Ans
- 1. To measure something in terms of length and breadth
 - 2. To create a good idea and to try it out
 - 3. To increase the size, amount or importance of
 - 4. To go high on spending and exceed one's limit

Question ID : 9895807923
Chosen Option : --

Q.1 From the given options, identify the segment in the sentence which contains the grammatical error.
9

Most of the adults do not know how to deal with stress, even though they wants to teach their children about it.

- Ans
- 1. how to deal with stress
 - 2. even though
 - 3. wants to teach their children
 - 4. Most of the adults

Question ID : 9895807905
Chosen Option : --

Q.2 Select the word which means the same as the group of words given.
0

A person who compiles dictionaries.

- Ans
- 1. Writer
 - 2. Lexicographer
 - 3. Author
 - 4. Linguist

Question ID : 9895807926
Chosen Option : --

Q.2 Select the most appropriate option to substitute the underlined segment in the given sentence. If there is no need to substitute it, select No improvement.

1 Good planning will see some setting out with an overseas journey without any trouble.

- Ans
- 1. setting out off an overseas journey
 - 2. No improvement
 - 3. setting out on an overseas journey
 - 4. setting out of a overseas journey

Question ID : 9895807908
Chosen Option : --

Q.2 Select the word which means the same as the group of words given.

2 A person employed to drive a private or hired car.

- Ans
- 1. Chauffeur
 - 2. Transporter
 - 3. Pilot
 - 4. Rider

Question ID : 9895807925
Chosen Option : --

Q.2 Select the most appropriate option to fill in the blank.

3 For _____ people, the experience of having lived a dream is more than just a feeling.

- Ans
- 1. many
 - 2. much
 - 3. a lot
 - 4. more

Question ID : 9895807911
Chosen Option : --

Q.2 Select the synonym of the given word.

4 GRUMBLE

- Ans
- 1. Moan
 - 2. Gossip
 - 3. Murmur
 - 4. Whisper

Question ID : 9895807920
Chosen Option : --

Q.2
5 Select the antonym of the given word.

IGNORANCE

- Ans
- 1. Illiteracy
 - 2. Idea
 - 3. Knowledge
 - 4. Possession

Question ID : 9895807922
Chosen Option : --

Section : Hindi Language

Q.1 दिए गए शब्द का विलोम चुनें।

तरुण

- Ans
- 1. जवान
 - 2. वृद्ध
 - 3. नया
 - 4. पत्ता

Question ID : 9895806699
Chosen Option : 3

Q.2 रिक्त स्थान को भरने के लिए उपयुक्त शब्द का चयन करें।

रात की नींद _____ होती है।

- Ans
- 1. गहरी
 - 2. तीव्र
 - 3. मोटी
 - 4. हरी

Question ID : 9895806689
Chosen Option : 1

Q.3 दिए गए वाक्य का वह भाग ज्ञात करें जिसमें कोई त्रुटि है।

डॉ. अब्दुल कलाम और मिसाइल एक-दूसरे के पूरक हो गया है।

- Ans
- 1. और मिसाइल
 - 2. पूरक हो गया है।
 - 3. डॉ. अब्दुल कलाम
 - 4. एक-दूसरे के

Question ID : 9895806683
Chosen Option : 3

Q.4 दिए गए शब्द का विलोम चुनें।

तम

- Ans
- 1. तेज
 - 2. तिमिर
 - 3. तमगा
 - 4. प्रकाश

Question ID : 9895806700
Chosen Option : 3

Q.5 रिक्त स्थान को भरने के लिए उपयुक्त शब्द का चयन करें।

कालिदास कवियों _____ श्रेष्ठ हैं।

- Ans
- 1. की
 - 2. को
 - 3. पर
 - 4. में

Question ID : 9895806690
Chosen Option : 2

Q.6 दिए गए वाक्य में रेखांकित खंड को प्रतिस्थापित करने के लिए उपयुक्त विकल्प का चयन करें।

मैं इस कृपा के लिए उपकृत हूँ ।

- Ans
- 1. धन्यवाद
 - 2. अनुचर
 - 3. उपकारी
 - 4. कृतज्ञ

Question ID : 9895806686
Chosen Option : 1

Q.7 दिए गए शब्द के पर्यायवाची शब्द का चयन करें।

केशव

- Ans
- 1. गोपाल
 - 2. केश
 - 3. बाल
 - 4. कान

Question ID : 9895806701
Chosen Option : 3

Q.8 दिए गए शब्द के पर्यायवाची शब्द का चयन करें।

व्यथा

- Ans
- 1. अधीर
 - 2. जीवनी
 - 3. बात
 - 4. पीड़ा

Question ID : 9895806702
Chosen Option : 2

Q.9 निम्नलिखित में से उस विकल्प का चयन करें जो 'मुँह फूलाना' मुहावरे का अर्थ व्यक्त करता है।

- Ans
- 1. अप्रसन्न होना
 - 2. सूजन आना
 - 3. मुँह सुजाना
 - 4. मुँह में हवा भर जाना

Question ID : 9895806703
Chosen Option : 1

Q.1 रिक्त स्थान को भरने के लिए उपयुक्त शब्द का चयन करें।

तुम्हें रोटी खानी है _____ चावल खाने है।

- Ans
- 1. या
 - 2. परंतु
 - 3. साथ

X 4. किंतु

Question ID : 9895806691
Chosen Option : 1

Comprehension:

निम्नलिखित गद्यांश के रिक्त स्थानों की पूर्ति गद्यांश के नीचे दिए गए प्रश्नों के अनुसार कीजिए -

आदमी की पहचान उसकी _____(1) से होती है और भाषा संस्कार से बनती है। जिसके जैसे संस्कार होंगे, वैसी ही उसकी भाषा होगी। जब कोई आदमी भाषा बोलता है तो साथ में उसके _____(2) भी बोलते हैं। यही कारण है कि भाषा शिक्षक का दायित्व गुरुतर और _____(3) है। केवल यांत्रिक कौशल किसी जीती-जागती भाषा का _____(4) नहीं हो सकते हैं। केवल संप्रेषण ही भाषा नहीं है, _____(5) के बिना कोई भाषा जीवंत नहीं हो सकती।

SubQuestion No : 11

Q.1
1 गद्यांश में संकेतित रिक्त स्थान (1) के लिए उपयुक्त शब्द होगा -

- Ans
- X 1. शिक्षा
 - X 2. खान-पान
 - X 3. पहनावे
 - ✓ 4. भाषा

Question ID : 9895806694
Chosen Option : 3

Comprehension:

निम्नलिखित गद्यांश के रिक्त स्थानों की पूर्ति गद्यांश के नीचे दिए गए प्रश्नों के अनुसार कीजिए -

आदमी की पहचान उसकी _____(1) से होती है और भाषा संस्कार से बनती है। जिसके जैसे संस्कार होंगे, वैसी ही उसकी भाषा होगी। जब कोई आदमी भाषा बोलता है तो साथ में उसके _____(2) भी बोलते हैं। यही कारण है कि भाषा शिक्षक का दायित्व गुरुतर और _____(3) है। केवल यांत्रिक कौशल किसी जीती-जागती भाषा का _____(4) नहीं हो सकते हैं। केवल संप्रेषण ही भाषा नहीं है, _____(5) के बिना कोई भाषा जीवंत नहीं हो सकती।

SubQuestion No : 12

Q.1
2 गद्यांश में संकेतित रिक्त स्थान (2) के लिए उपयुक्त शब्द होगा -

- Ans
- 1. कर्तव्य
 - 2. संस्कार
 - 3. दुर्गुण
 - 4. अधिकार

Question ID : 9895806695
Chosen Option : --

Comprehension:

निम्नलिखित गद्यांश के रिक्त स्थानों की पूर्ति गद्यांश के नीचे दिए गए प्रश्नों के अनुसार कीजिए -

आदमी की पहचान उसकी _____(1) से होती है और भाषा संस्कार से बनती है। जिसके जैसे संस्कार होंगे, वैसी ही उसकी भाषा होगी। जब कोई आदमी भाषा बोलता है तो साथ में उसके _____(2) भी बोलते हैं। यही कारण है कि भाषा शिक्षक का दायित्व गुरुतर और _____(3) है। केवल यांत्रिक कौशल किसी जीती-जागती भाषा का _____(4) नहीं हो सकते हैं। केवल संप्रेषण ही भाषा नहीं है, _____(5) के बिना कोई भाषा जीवंत नहीं हो सकती।

SubQuestion No : 13

Q.1
3

गद्यांश में संकेतित रिक्त स्थान (3) के लिए उपयुक्त शब्द होगा -

- Ans
- 1. सरल
 - 2. निरर्थक
 - 3. चुनौतीपूर्ण
 - 4. अप्रासंगिक

Question ID : 9895806696
Chosen Option : 3

Comprehension:

निम्नलिखित गद्यांश के रिक्त स्थानों की पूर्ति गद्यांश के नीचे दिए गए प्रश्नों के अनुसार कीजिए -

आदमी की पहचान उसकी _____(1) से होती है और भाषा संस्कार से बनती है। जिसके जैसे संस्कार होंगे, वैसी ही उसकी भाषा होगी। जब कोई आदमी भाषा बोलता है तो साथ में उसके _____(2) भी बोलते हैं। यही कारण है कि भाषा शिक्षक का दायित्व गुरुतर और _____(3) है। केवल यांत्रिक कौशल किसी जीती-जागती भाषा का _____(4) नहीं हो सकते हैं। केवल संप्रेषण ही भाषा नहीं है, _____(5) के बिना कोई भाषा जीवंत नहीं हो सकती।

SubQuestion No : 14

Q.1
4 गद्यांश में संकेतित रिक्त स्थान (4) के लिए उपयुक्त शब्द होगा -

- Ans
- 1. प्रसारण
 - 2. उदाहरण
 - 3. तर्क
 - 4. धारण

Question ID : 9895806697
Chosen Option : 2

Comprehension:

निम्नलिखित गद्यांश के रिक्त स्थानों की पूर्ति गद्यांश के नीचे दिए गए प्रश्नों के अनुसार कीजिए -

आदमी की पहचान उसकी _____(1) से होती है और भाषा संस्कार से बनती है। जिसके जैसे संस्कार होंगे, वैसी ही उसकी भाषा होगी। जब कोई आदमी भाषा बोलता है तो साथ में उसके _____(2) भी बोलते हैं। यही कारण है कि भाषा शिक्षक का दायित्व गुरुतर और _____(3) है। केवल यांत्रिक कौशल किसी जीती-जागती भाषा का _____(4) नहीं हो सकते हैं। केवल संप्रेषण ही भाषा नहीं है, _____(5) के बिना कोई भाषा जीवंत नहीं हो सकती।

SubQuestion No : 15

Q.1
5 गद्यांश में संकेतित रिक्त स्थान (5) के लिए उपयुक्त शब्द होगा -

- Ans
- 1. कृपा
 - 2. तथ्य
 - 3. संवेदना
 - 4. आस्था

Question ID : 9895806698
Chosen Option : 3

Q.1
6 दिये गये वाक्यांश के लिए एक शब्द दीजिये।

जिसकी आयु लम्बी हो

- Ans
- 1. अल्पायु
 - 2. दीर्घायु
 - 3. जटायु
 - 4. वायु

Question ID : 9895806705
Chosen Option : 4

Q.1
7 दिए गए वाक्य में रेखांकित खंड को प्रतिस्थापित करने के लिए उपयुक्त विकल्प का चयन करें।

किसान गगन की ओर निहार रहे हैं।

- Ans
- 1. सूर्य

- 2. आकाश
- 3. व्योमेश
- 4. खगेश

Question ID : 9895806688
Chosen Option : 2

Q.1 8 दिए गए वाक्य में रेखांकित खंड को प्रतिस्थापित करने के लिए उपयुक्त विकल्प का चयन करें।

उस बालक को पिटते देखकर मेरा हृदय पिघल गया।

- Ans
- 1. संघनित हो
 - 2. द्रवित हो
 - 3. हर्षित हो
 - 4. कुंठित हो

Question ID : 9895806687
Chosen Option : 1

Q.1 9 दिए गए वाक्य का वह भाग ज्ञात करें जिसमें कोई त्रुटि है।

हमारे प्रदेश का सबसे पुरानी और प्रसिद्ध राष्ट्रीय उद्यान कहाँ है?

- Ans
- 1. और प्रसिद्ध
 - 2. हमारे प्रदेश का
 - 3. सबसे पुरानी
 - 4. राष्ट्रीय उद्यान कहाँ है?

Question ID : 9895806684
Chosen Option : 3

Q.2 0 सही वर्तनी वाले शब्द का चयन करें।

- Ans
- 1. दूःस्वप्न
 - 2. दुःस्वप्न
 - 3. दुसवप्न
 - 4. दूसवप्न

Question ID : 9895806708
Chosen Option : 1

Q.2 1 सही वर्तनी वाले शब्द का चयन करें।

- Ans
- 1. दीर्घसवास

- ✓ 2. दीर्घश्वास
- ✗ 3. दिर्घश्वास
- ✗ 4. दीरगश्वास

Question ID : 9895806707
Chosen Option : 2

Q.2 निम्नलिखित में से उस विकल्प का चयन करें जो 'जूतियाँ चटकाना' मुहावरे का अर्थ व्यक्त करता है।

- Ans
- ✓ 1. व्यर्थ इधर-उधर घूमना
 - ✗ 2. जूतियाँ पटकना
 - ✗ 3. जूतियाँ बनाना
 - ✗ 4. नुकसान करना

Question ID : 9895806704
Chosen Option : 1

Q.2 रिक्त स्थान को भरने के लिए उपयुक्त शब्द का चयन करें।

तोता _____ में उड़ रहा है।

- Ans
- ✗ 1. नदी
 - ✓ 2. आकाश
 - ✗ 3. पाताल
 - ✗ 4. पहाड़

Question ID : 9895806692
Chosen Option : 2

Q.2 दिए गए वाक्य का वह भाग ज्ञात करें जिसमें कोई त्रुटि है।

मिस्टर शामनाथ ने घूमकर माँ की कोठरी की ओर देखी।

- Ans
- ✗ 1. घूमकर
 - ✗ 2. मिस्टर शामनाथ ने
 - ✗ 3. माँ की कोठरी
 - ✓ 4. की ओर देखी।

Question ID : 9895806685
Chosen Option : 3

Q.2
5 दिये गये वाक्यांश के लिए एक शब्द दीजिये।

नीचे लिखी हुई

- Ans
- 1. उपलिखित
 - 2. स्वलिखित
 - 3. निम्नलिखित
 - 4. हस्तलिखित

Question ID : 9895806706
Chosen Option : 3

GovtJobsAlert.In