

Constable (GD) in CAPFs, NIA, SSF and Rifleman (GD) in Assam Rifles Examination, 2018

Roll No. :	GovtJobsAlert.In
Registration No.	GovtJobsAlert.In
Name :	GovtJobsAlert.In
Exam Venue :	Modern Educational Institute
Exam Time :	9:00 AM - 10:30 AM
Exam Date :	02/03/2019

Section : General Section

Q.1 विकल्पों में से उस आकृति की पहचान करें जिसमें दी गई आकृति अंतर्निहित है। (धुमाने की अनुमति नहीं है)



Ans

✗ 1.



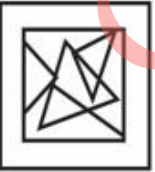
✗ 2.



✓ 3.



✗ 4.



Question ID : 9895808235

Chosen Option : 3

Q.2 आठ मित्र A, B, C, D, E, F, H और G समूह चर्चा के लिए एक गोलाकार मेज के चारों ओर आमने - सामने बैठे हैं। A, F के सामने और E के दाएँ से दूसरा है। B और D आमने - सामने बैठे हैं। G, C और A के बीच में है। H, E के बाएं ओर है। E के सामने कौन बैठा है?

Ans

✗ 1. F

✓ 2. C

✗ 3. D

X 4. B

Question ID : 9895808223
Chosen Option : 3

Q.3 दिए गए विकल्पों में से लुप्त संख्या ज्ञात करें।

4	15	35
13	21	42
9	6	?

Ans X 1. 15
 ✓ 2. 7
 X 3. 11
 X 4. 12

Question ID : 9895808231
Chosen Option : 2

Q.4 चार संख्याएँ दी गई हैं जिनमें से तीन संख्याएँ किसी न किसी रूप में समान हैं, जबकि एक संख्या भिन्न है। असंगत संख्या चुनिए।

Ans X 1. 484
 ✓ 2. 571
 X 3. 361
 X 4. 676

Question ID : 9895808230
Chosen Option : 1

Q.5 उस विकल्प का चयन करें जो तीसरे पद से उसी प्रकार संबंधित है जिस प्रकार दूसरा पद पहले पद से संबंधित है।

थर्मामीटर : तापमान :: लैक्टोमीटर : ?

Ans X 1. हवा
 X 2. वर्षा
 X 3. शहद
 ✓ 4. दूध

Question ID : 9895808217
Chosen Option : 4

Q.6 उस विकल्प का चयन करें जो तीसरे पद से उसी प्रकार संबंधित है जिस प्रकार दूसरा पद पहले पद से संबंधित है।

मछली : प्लवक :: मेंढक : ?

Ans X 1. सूखी घास

- ✓ 2. कीट
- ✗ 3. अपतृण
- ✗ 4. जड़ी-बूटी

Question ID : 9895808218
Chosen Option : 3

Q.7 यदि एक निश्चित कूट भाषा में APRON को BRUSR के रूप में लिखा जाता है, तो उसी कूट में STOVE को कैसे लिखा जाएगा?

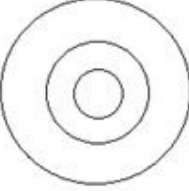
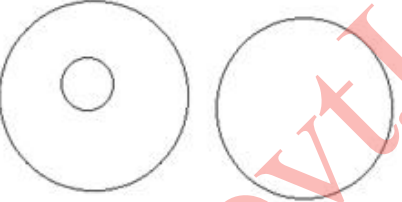
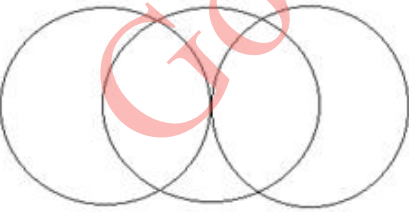

- Ans
- ✗ 1. VRTJZ
 - ✗ 2. TRVJZ
 - ✗ 3. TVRZJ
 - ✓ 4. TVRZI

Question ID : 9895808220
Chosen Option : 4

Q.8 वेन आरेख का चयन करें जो तीन दिए गए वर्गों के बीच के संबंध को सर्वोत्तम दर्शाता है।

कलम, मेज, लेखनसामग्री

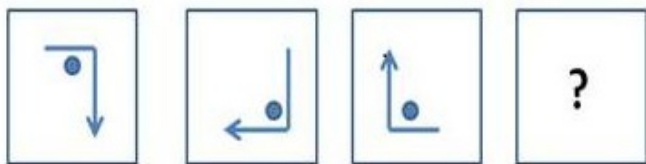
Ans

- ✗ 1. 
- ✓ 2. 
- ✗ 3. 
- ✗ 4. 

Question ID : 9895808238
Chosen Option : 2

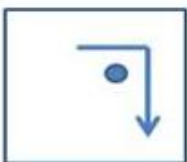
Q.9

कौन सा विकल्प प्रश्न चिह्न के स्थान पर आएगा और दी गई आकृति श्रृंखला को पूरा करेगा?



Ans

✗ 1.



✓ 2.



✗ 3.



✗ 4.



Question ID : 9895808233
Chosen Option : 2

Q.1 दी गई श्रृंखला में अगली संख्या ज्ञात करें।

37, 45, 53, 61, ?

Ans

✗ 1. 72

✓ 2. 69

✗ 3. 65

✗ 4. 62

Question ID : 9895808227
Chosen Option : 2

Q.1
1

निचे दिए गए कथनों के बाद दो निष्कर्ष I और II दिए गए हैं। यह मानते हुए कि कथनों में दी गई जानकारी सत्य है, अले ही वह सर्वज्ञात तथ्यों से भिन्न प्रतीत होती हो और यह निर्णय करें कि कौन सा/से निष्कर्ष तार्किक रूप से और निश्चित रूप से कथन में दी गई जानकारी का अनुसरण करता है/करते हैं।

कथन:

- I. अधिकांश कवि लड़के हैं।
- II. कुछ लड़के चित्रकार हैं।

निष्कर्ष:


- I. कुछ चित्रकार लड़के हैं।
- II. कुछ कवि चित्रकार हैं।

Ans

1. या तो निष्कर्ष I या II अनुसरण करता है।
2. केवल निष्कर्ष I अनुसरण करता है।
3. केवल निष्कर्ष II अनुसरण करता है।
4. निष्कर्ष I और II दोनों अनुसरण करते हैं।

Question ID : 9895808225
Chosen Option : 4

Q.1 उस विकल्प का चयन करें जो प्रश्न चिह्न के स्थान पर आएगा और दिए गए पैटर्न को पूरा करेगा।



Ans

- 1.
- 2.
- 3.
- 4.

Question ID : 9895808234
Chosen Option : 1

Q.1 कक्षा की बेंच पर कुछ छात्र बैठे हैं। आनंद बाएं ओर से 7वें स्थान पर बैठा है। बिनाय दाएं ओर से 5वें स्थान पर बैठा है। आनंद और बिनाय के बीच में पांच छात्र बैठे हैं। कुल मिलाकर, कक्षा में बेंच की छह पंक्तियाँ हैं, जिनमें से सभी पर समान संख्या में छात्र बैठे हैं। कक्षा में छात्रों की कुल संख्या कितनी है?

Ans

1. 122
2. 114

✓ 3. 102

✗ 4. 99

Question ID : 9895808222

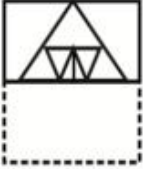
Chosen Option : 3

Q.1 एक पैटर्न के साथ एक चौकोर पारदर्शी कागज पत्रक दिया गया है। जब पारदर्शी कागज पत्रक को बिंदुंकित रेखा पर मोड़ा जाता है तो पैटर्न कैसे दिखाई देगा?

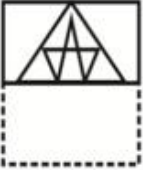


Ans

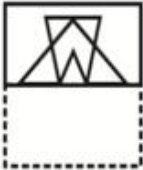
✗ 1.



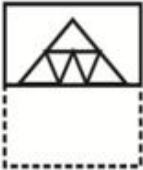
✗ 2.



✗ 3.



✓ 4.



Question ID : 9895808237

Chosen Option : 4

Q.1 यदि '+' का अर्थ 'जोड़' है, '-' का अर्थ 'घटाव' है, '×' का अर्थ 'गुणा' है और '÷' का अर्थ 'विभाजन' है तो निम्नलिखित समीकरण का मान क्या होगा?

$$48 \times 6 - 5 \div 8 + 1 = ?$$

Ans

✗ 1. 56

✓ 2. 47

✗ 3. 53

✗ 4. 49

Question ID : 9895808232

Chosen Option : 2

Q.1
6

दी गई श्रृंखला में अगली संख्या ज्ञात करें।

6, 12, 21, 32, ?

- Ans
- 1. 41
 - 2. 47
 - 3. 53
 - 4. 49

Question ID : 9895808228
Chosen Option : 1

Q.1
7 दी गई श्रृंखला में आगे अक्षरों की कौन सी जोड़ी होनी चाहिए?

AB, DE, GH, JK, ?

- Ans
- 1. PQ
 - 2. UW
 - 3. MN
 - 4. RT

Question ID : 9895808214
Chosen Option : 2

Q.1
8 चार शब्द दिए गए हैं, जिनमें से तीन किसी तरह से समान हैं, जबकि एक अलग है। असंगत शब्द का चयन करें।

- Ans
- 1. दौड़ा-दौड़ी
 - 2. हड़बड़ी
 - 3. मंदगति
 - 4. तीव्र गति

Question ID : 9895808216
Chosen Option : 3

Q.1
9 यदि एक निश्चित कूट में HOUSE को 68 के रूप में लिखा जाता है, तो उसी कूट में CASTLE को कैसे लिखा जाएगा?

- Ans
- 1. 59
 - 2. 60
 - 3. 72
 - 4. 84

Question ID : 9895808221
Chosen Option : 2

Q.2
0

नीचे दिए गए कथनों के बाद दो निष्कर्ष I और II दिए गए हैं। यह मानते हुए कि कथनों में दी गई जानकारी सत्य है, भले ही वह सर्वज्ञात तथ्यों से भिन्न प्रतीत होती हो और यह निर्णय करें कि कौन सा/से निष्कर्ष तार्किक रूप से और निश्चित रूप से कथन में दी गई जानकारी का अनुसरण करता है/करते हैं।

कथन:

- I. सभी पेंसिल गलियाँ हैं।
- II. सभी गलियाँ कुटियाँ हैं।

निष्कर्ष:

- I. सभी कुटियाँ पेंसिल हैं।
- II. कुछ कुटिया पेंसिल हैं।

Ans

1. केवल निष्कर्ष I अनुसरण करता है।
2. केवल निष्कर्ष II अनुसरण करता है।
3. या तो निष्कर्ष I या II अनुसरण करता है।
4. निष्कर्ष I और II दोनों अनुसरण करते हैं।

Question ID : 9895808226
Chosen Option : 3

Q.2
1 उस विकल्प का चयन करें जो तीसरे पद से उसी प्रकार संबंधित है जिस प्रकार दूसरा पद पहले पद से संबंधित है।

2 : 12 :: 5 : ?

Ans

1. 30
2. 20
3. 10
4. 15

Question ID : 9895808229
Chosen Option : 1

Q.2
2 असंगत का चयन करें।

Ans

1. CODQ
2. ANBO
3. EFRS
4. GTHU

Question ID : 9895808215
Chosen Option : 3

Q.2
3 केवल एक रनवे है जो बारी - बारी से सात उड़ानों द्वारा उपयोग किया जाएगा। P और Q रनवे का उपयोग न तो पहले करेंगे और न ही अंत में। S, R के बाद इसका दूसरा उपयोग करेगा। M, O के पहले इसका दूसरा उपयोग करेगा। N, O के बाद और R के पहले इसका उपयोग करेगा। Q, R के ठीक पहले उपयोग करेगा। M से ठीक बाद रनवे का उपयोग कौन करेगा?

Ans

1. O
2. N
3. Q

✓ 4. P

Question ID : 9895808224
Chosen Option : 1

Q.2 4 उस विकल्प का चयन करें जो दर्पण के दायीं ओर रखे जाने पर दिए गए शब्द की दर्पण छवि से सर्वाधिक मेल खाता है।

INTROVERT

- Ans
- ✗ 1. TЯOVBET
 - ✗ 2. INTROVREB
 - ✓ 3. INTROVREB
 - ✗ 4. TЯOVBET

Question ID : 9895808236
Chosen Option : 2

Q.2 5 उस विकल्प का चयन करें जो तीसरे पद से उसी प्रकार संबंधित है जिस प्रकार दूसरा पद पहले पद से संबंधित है।

CC : GD :: LE : ?

- Ans
- ✗ 1. RF
 - ✓ 2. PF
 - ✗ 3. EE
 - ✗ 4. PD

Question ID : 9895808219
Chosen Option : 3

Q.2 6 किस तरह की जलवायु चाय के बागान के लिए सबसे उपयुक्त है?

- Ans
- ✓ 1. गर्म और नम
 - ✗ 2. शुष्क और वातिक
 - ✗ 3. बहुत ठंडा मौसम
 - ✗ 4. शुष्क और धूल भरा

Question ID : 9895807295
Chosen Option : 3

Q.2 7 भगवान महावीर की शिक्षाओं के संकलन को क्या कहा जाता है?

- Ans
- ✓ 1. अगम सूत्र
 - ✗ 2. पिबी सूत्र
 - ✗ 3. अवेस्ता सूत्र
 - ✗ 4. श्रुति सूत्र

Question ID : 9895807300
Chosen Option : 4

Q.2 जब भारतीय संविधान को अपनाया गया, तब इसमें कितनी अनुसूचियां थीं?

- Ans
- 1. 8
 - 2. 12
 - 3. 6
 - 4. 10

Question ID : 9895807291
Chosen Option : 2

Q.2 भारत में 'एकल नागरिकता' की अवधारणा को निम्नलिखित में से किस राष्ट्र के संविधान के आधार पर अपनाया गया?

- Ans
- 1. रूस
 - 2. आयरलैंड
 - 3. संयुक्त राज्य अमेरिका
 - 4. यूनाइटेड किंगडम

Question ID : 9895807289
Chosen Option : 3

Q.3 इथेनॉलका उत्पादन किस प्रक्रिया द्वारा किया जाता है?

- Ans
- 1. लवणीकरण
 - 2. संयोजन
 - 3. किण्वन
 - 4. अनुमापन

Question ID : 9895807293
Chosen Option : 1

Q.3 _____ के कारण खसरा की बीमारी होती है।

- Ans
- 1. अमीबा
 - 2. वायरस
 - 3. बैक्टीरिया
 - 4. कवक

Question ID : 9895807296
Chosen Option : 3

Q.3 किस खिलाड़ी ने टेस्ट क्रिकेट में सर्वाधिक प्लेयर ऑफ द मैच पुरस्कार जीते हैं?

Ans

- 1. शेन वार्न
- 2. मुथैया मुरलीधरन
- 3. सचिन तेंडुलकर
- 4. जैक्स कैलिस

Question ID : 9895807283
Chosen Option : 3

Q.3
3 मार्शल आर्ट 'डम्बे' किस महाद्वीप से संबंधित है?

- Ans
- 1. ऑस्ट्रेलिया
 - 2. अफ्रीका
 - 3. अमेरिका
 - 4. यूरोप

Question ID : 9895807282
Chosen Option : 2

Q.3
4 सामुदायिक बाजार को निम्नलिखित में से किस संगठन द्वारा विनियमित किया जाता है?

- Ans
- 1. SEBI (भारतीय प्रतिभूति और विनियमन बोर्ड)
 - 2. RBI (भारतीय रिजर्व बैंक)
 - 3. NSE (नेशनल स्टॉक एक्सचेंज)
 - 4. BSE (बॉम्बे स्टॉक एक्सचेंज)

Question ID : 9895807288
Chosen Option : 1

Q.3
5 पश्चिमी घाट की पश्चिमी ढलानें पूर्वी ढलानों की तुलना में घने जंगलों से ढकी क्यों हैं?

- Ans
- 1. अधिक प्रकाश पड़ता है
 - 2. कम वर्षा होती है
 - 3. अधिक वर्षा होती है
 - 4. कम प्रकाश पड़ता है

Question ID : 9895807297
Chosen Option : 2

Q.3
6 भारत और पाकिस्तान द्वारा सर्वोच्च नागरिक सम्मान (भारत रत्न और निशान-ए-पाकिस्तान) पाने वाले एकमात्र भारतीय नेता कौन हैं?

- Ans
- 1. महात्मा गांधी

- 2. जवाहर लाल नेहरू
- 3. सरदार वल्लभभाई पटेल
- 4. मोरारजी देसाई

Question ID : 9895807285
Chosen Option : 4

Q.3
7 एक गैण्डे के सींग और मानव बाल में मौजूद संरचनात्मक प्रोटीन का नाम क्या है?

- Ans
- 1. ग्लाइकोलाइटिक
 - 2. एमिनो एसिड
 - 3. केराटिन
 - 4. मेलेनिन

Question ID : 9895807294
Chosen Option : 1

Q.3
8 राजबाड़ी के अखंड खंडहर किस भारतीय राज्य में स्थित हैं?

- Ans
- 1. नागालैंड
 - 2. मिजोरम
 - 3. असम
 - 4. मेघालय

Question ID : 9895807280
Chosen Option : 2

Q.3
9 लोकप्रिय नृत्य 'बिदेसिया' किस भारतीय राज्य से संबंधित है?

- Ans
- 1. बिहार
 - 2. ओडिशा
 - 3. पश्चिम बंगाल
 - 4. झारखंड

Question ID : 9895807278
Chosen Option : 4

Q.4
0 सिंधु घाटी चार बड़ी प्राचीन शहरी सभ्यताओं का गृह था। निम्नलिखित में से कौन सा उनमें से एक नहीं है?

- Ans
- 1. मेसोपोटामिया
 - 2. मिस्र
 - 3. दक्षिण एशिया
 - 4. रूस

Question ID : 9895807302
Chosen Option : 4

Q.4
1 92 साल तक अलग रहने के बाद रेल बजट को किस साल केंद्रीय बजट में शामिल किया गया?

- Ans
- 1. 2014-15
 - 2. 2017-18
 - 3. 2018-19
 - 4. 2015-16

Question ID : 9895807287
Chosen Option : 3

Q.4
2 पारंपरिक तापदीप्त बल्ब में फिलामेंट किस धातु का बना होता है?

- Ans
- 1. लोहा
 - 2. प्लैटिनम
 - 3. टंगस्टन
 - 4. तांबा

Question ID : 9895807292
Chosen Option : 3

Q.4
3 निम्नलिखित में से कौन से देश में दुनिया का सबसे बड़ा कृषि भूमि क्षेत्र है?

- Ans
- 1. रूस
 - 2. संयुक्त राज्य अमेरिका
 - 3. चीन
 - 4. भारत

Question ID : 9895807299
Chosen Option : 2

Q.4
4 मार्शल आर्ट 'थांग टा' किस भारतीय राज्य से संबंधित है?

- Ans
- 1. असम
 - 2. ओडिशा
 - 3. सिक्किम
 - 4. मणिपुर

Question ID : 9895807281
Chosen Option : 2

Q.4
5 _____ वह दर है जिस पर वाणिज्यिक बैंक निधियों की कमी के मामले में भारतीय रिज़र्व बैंक (RBI) से उधार लेते हैं।

- Ans
- 1. विनिमय दर
 - 2. बाजार दर
 - 3. रिवर्स रेपो दर
 - 4. रेपो दर

Question ID : 9895807286
Chosen Option : 1

Q.4 कन्या भ्रूण हत्या की प्रथा को रोकने के लिए भारत सरकार ने गर्भधारण-पूर्व और प्रसव पूर्व निदान तकनीक (PNDT) अधिनियम कब पारित किया?

- Ans
- 1. 1992
 - 2. 1991
 - 3. 1994
 - 4. 1996

Question ID : 9895807290
Chosen Option : 4

Q.4 असम के आहोम साम्राज्य और मुगलों के बीच हुई सरायघाट की लड़ाई किस वर्ष हुई थी?

- Ans
- 1. 1642
 - 2. 1671
 - 3. 1635
 - 4. 1652

Question ID : 9895807301
Chosen Option : 3

Q.4 असम में पारंपरिक घरों को स्टिल्ट पर क्यों बनाया जाता है?

- Ans
- 1. भारी सूखे का खतरा
 - 2. अस्वास्थ्यकर परिस्थितियों का खतरा
 - 3. संदूषण का खतरा
 - 4. बाढ़ और वन्यजीवों का खतरा

Question ID : 9895807298
Chosen Option : 4

Q.4 'ट्रेन टू पाकिस्तान' निम्नलिखित में से किस लेखक द्वारा लिखी गई पुस्तक है?

- Ans
- 1. रस्किन बॉन्ड
 - 2. मोहसिन हामिद
 - 3. खुशवंत सिंह

✗ 4. सआदत हसन मंटो

Question ID : 9895807284
Chosen Option : 3

Q.5
0 भारत के किस राज्य में भगोरिया हाट उत्सव मनाया जाता है?

- Ans
- ✓ 1. मध्य प्रदेश
 - ✗ 2. राजस्थान
 - ✗ 3. बिहार
 - ✗ 4. उत्तर प्रदेश

Question ID : 9895807279
Chosen Option : 3

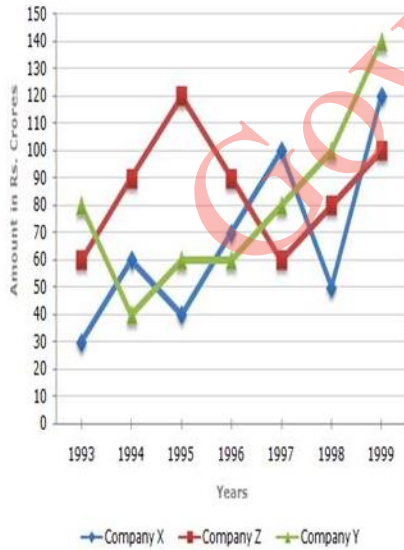
Q.5
1 25 अवलोकनों का माध्य 36 है। इन अवलोकनों में से, यदि पहले 13 अवलोकनों का माध्य 32 है और अंतिम 13 अवलोकनों का माध्य 40 है, तो 13वाँ अवलोकन है:

- Ans
- ✓ 1. 36
 - ✗ 2. 23
 - ✗ 3. 40
 - ✗ 4. 38

Question ID : 9895807609
Chosen Option : 2

Q.5
2 निम्नलिखित रेखीय ग्राफ का अध्ययन करें और प्रश्न का उत्तर दें।

वर्षों में तीन कंपनियों से निर्यात (₹ करोड़ में)



तीनों कंपनियों के 1994 में औसत निर्यात और 1995 में औसत र्यात के बीच क्या अंतर था?

- Ans
- ✗ 1. ₹20 करोड़
 - ✗ 2. ₹30 करोड़

✗ 3. ₹5 करोड़

✓ 4. ₹10 करोड़

Question ID : 9895807627
Chosen Option : 2

Q.5 ₹2,000 पर 20% छूट और 10% एवं 10% की 2 क्रमिक छूटों में अंतर होगा:

Ans ✗ 1. ₹40

✓ 2. ₹20

✗ 3. ₹0

✗ 4. ₹30

Question ID : 9895807608
Chosen Option : 3

Q.5 पिता और उसके पुत्र की वर्तमान आयु का अनुपात 4 : 1 है। 5 वर्ष पहले, उनकी आयु 7 : 1 के अनुपात में थी। पुत्र की वर्तमान आयु है:

Ans ✗ 1. 3 वर्ष

✓ 2. 10 वर्ष

✗ 3. 8 वर्ष

✗ 4. 5 वर्ष

Question ID : 9895807613
Chosen Option : 2

Q.5 A ने B को 2 वर्षों के लिए ₹6,500 और C को 4 वर्षों के लिए ₹8,000 समान ब्याज दर से साधारण ब्याज पर दिए और उन दोनों से ब्याज के रूप में कुल ₹4,500 प्राप्त किए। प्रति वर्ष ब्याज दर है:

Ans ✗ 1. 8%

✓ 2. 10%

✗ 3. 5%

✗ 4. 7%

Question ID : 9895807616
Chosen Option : 3

Q.5 कागज का प्रभार ₹55 प्रति किलोग्राम है। अगर एक किलोग्राम कागज 192m² क्षेत्रफल को कवर करता है तो 8 मीटर कोर वाले एक घन को कवर करने में कितना खर्च (₹ में) होगा?

Ans ✗ 1. ₹192

✗ 2. ₹55

✓ 3. ₹110

✗ 4. ₹165

Question ID : 9895807622
Chosen Option : 3

Q.5 राजू और विनोद एक नियतकार्य (असाइनमेंट) पर काम कर रहे हैं। राजू को कंप्यूटर पर 32 पेज टाइप करने में 8h लगते हैं, जबकि विनोद को 44 पेज टाइप करने में 6h लगते हैं। 102 पेजों का असाइनमेंट दो अलग-अलग कंप्यूटरों पर टाइप करने के लिए उन्हें एक साथ काम करने में कितना समय लगेगा?

- Ans
- 1. 9 h
 - 2. 14 h
 - 3. 10 h
 - 4. 12 h

Question ID : 9895807619
Chosen Option : 3

Q.5 जब जया ने गोले के आयतन से गोले के पृष्ठीय क्षेत्रफल को विभाजित किया, तो उसे $2/3$ cm उत्तर मिला। गोले की त्रिज्या क्या है?

- Ans
- 1. 4.6 cm
 - 2. 5.4 cm
 - 3. 3.5 cm
 - 4. 4.5 cm

Question ID : 9895807623
Chosen Option : 1

Q.5 एक व्यक्ति 10 km/h की गति से कल्याण से मुंबई जाता है और 15km/h की गति से कल्याण वापस लौटता है। पूरी यात्रा में उसकी औसत गति क्या है?

- Ans
- 1. 15 km/h
 - 2. 56 km/h
 - 3. 12 km/h
 - 4. 42 km/h

Question ID : 9895807621
Chosen Option : 3

Q.6 सैम ने ₹480 प्रति दर्जन की दर से 20 दर्जन खिलौने खरीदे। उसने उनमें से प्रत्येक को ₹42 की दर से बेचा। उसका लाभ प्रतिशत कितना था?

- Ans
- 1. 5.5%
 - 2. 5%
 - 3. 4%
 - 4. 6%

Question ID : 9895807611
Chosen Option : 1

Q.6 वह सबसे छोटी संख्या, जिसे 3857 में जोड़ा जाना चाहिए ताकि योग 5, 6, 4 और 3 से पूर्ण विभाज्य हो:

- Ans
- 1. 33
 - 2. 17
 - 3. 3
 - 4. 43

Question ID : 9895807603
Chosen Option : 2

Q.6 अपनी वास्तविक गति के $\frac{3}{8}^{\text{th}}$ पर यात्रा करने वाली एक कार 2 h.10min में 65 km की दूरी तय करती है। कार की वास्तविक गति ज्ञात कीजिए।

- Ans
- 1. 120 km/h
 - 2. 160 km/h
 - 3. 80 km/h
 - 4. 40 km/h

Question ID : 9895807620
Chosen Option : 4

Q.6 एक आयताकार बॉक्स की मूल चौड़ाई 20 cm है। बॉक्स को इस तरह से बनाया गया था कि इसकी लंबाई 15% बढ़ गई लेकिन चौड़ाई 5% कम हो गई। इसके कारण इसके क्षेत्रफल में 74 cm^2 की वृद्धि हुई। बॉक्स की लंबाई क्या है?

- Ans
- 1. 20 cm
 - 2. 60 cm
 - 3. 30 cm
 - 4. 40 cm

Question ID : 9895807624
Chosen Option : 2

Q.6 A, B और C का औसत वजन 55 kg है। यदि A और B का औसत वजन 52 kg है और B और C का औसत वजन 48 kg है, तो B का वजन है:

- Ans
- 1. 50 kg
 - 2. 32 kg
 - 3. 30 kg
 - 4. 35 kg

Question ID : 9895807607
Chosen Option : 3

Q.6 एक कस्बे की आबादी एक दशक में 1,85,000 से बढ़कर 2,77,500 हो गई। प्रति वर्ष जनसंख्या की औसत प्रतिशत वृद्धि कितनी है?

- Ans
- 1. 8.75%
 - 2. 5%
 - 3. 4.37%
 - 4. 6%

Question ID : 9895807610
Chosen Option : 1

Q.6
6

सरलीकृत करें:

$$8.4 - [5 + 0.3 \text{ of } (3.3 - 2.6 \times 1.07)]$$

- Ans
- 1. 3.2446
 - 2. 3.2464
 - 3. 3.6442
 - 4. 3.6244

Question ID : 9895807605
Chosen Option : 2

Q.6
7 सरलीकृत करें:

$$25 - 48 \div 6 + 12 \times 2$$

- Ans
- 1. 43
 - 2. 41
 - 3. 51
 - 4. 45

Question ID : 9895807604
Chosen Option : 3

Q.6 दो संख्याएँ 2 : 3 के अनुपात में हैं, यदि पहली से 50 घटाया जाए और दूसरे में 50 जोड़ा जाए, तो अनुपात 1 : 4 हो जाता है। मूल संख्याओं का योग ज्ञात कीजिए।

- Ans
- 1. 100
 - 2. 300
 - 3. 250
 - 4. 400

Question ID : 9895807615
Chosen Option : 2

Q.6 ₹840 में 17 गैदों को बेचने पर, 5 गैदों के क्रय मूल्य के बराबर नुकसान होता है एक गैद का क्रय मूल्य (₹ में) है:

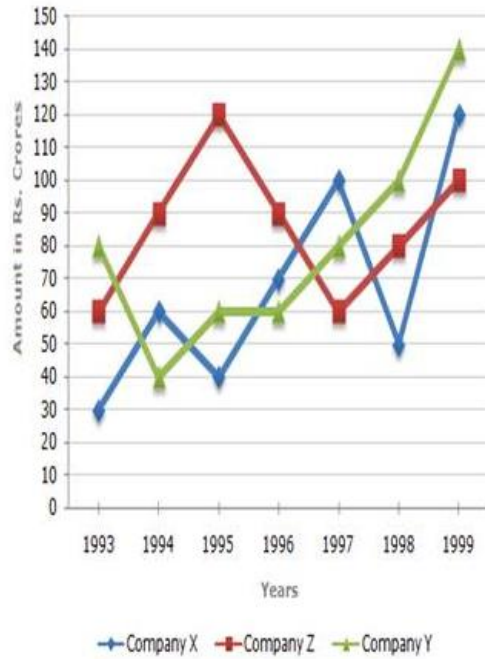
- Ans
- 1. ₹55
 - 2. ₹50
 - 3. ₹70
 - 4. ₹60

Question ID : 9895807612
Chosen Option : 1

Q.7
0

निम्नलिखित रेखीय ग्राफ का अध्ययन करें और प्रश्न का उत्तर दें।

वर्षों में तीन कंपनियों से निर्यात (₹ करोड़ में)



निम्नलिखित में से किस वर्ष में, तीनों कंपनियों का निर्यात सबसे अधिक था?

- Ans
- 1. 1999
 - 2. 1995
 - 3. 1996
 - 4. 1998

Question ID : 9895807625
Chosen Option : 1

Q.7 प्रति वर्ष चक्रवृद्धि ब्याज की किस दर से ₹1,800 की राशि दो वर्षों में ₹2178 हो जाएगी?

- Ans
- 1. 13%
 - 2. 10%
 - 3. 11%
 - 4. 12%

Question ID : 9895807617
Chosen Option : 2

Q.7 A उतने ही समय में एक निश्चित कार्य कर सकता है जितने समय में B और C मिलकर कर सकते हैं। यदि A और B एक साथ इसे 8 दिनों में कर सकते हैं और C अकेले 40 दिनों में कर सकता है, तो B अकेले इसे कितने दिन में कर सकता है?

- Ans
- 1. 20 दिन
 - 2. 30 दिन

✗ 3. 15 दिन

✗ 4. 25 दिन

Question ID : 9895807618
Chosen Option : 4

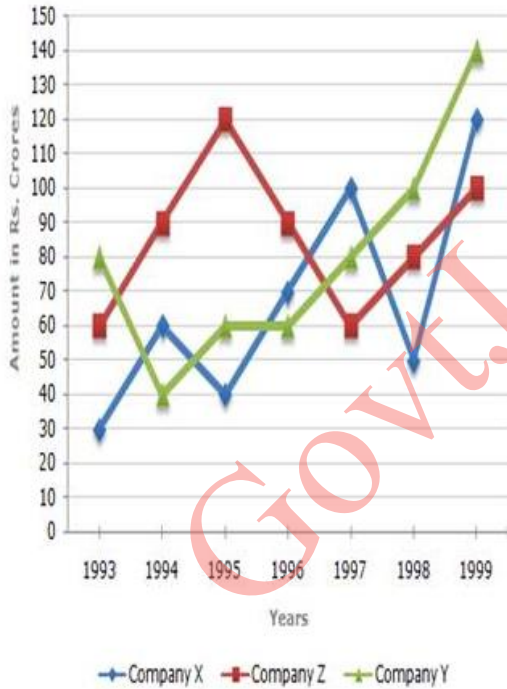
Q.7 P, Q और R प्रकार की प्रत्येक वस्तु की कीमत क्रमशः ₹200, ₹300 और ₹400 है। सुरेश ₹2,000 में 1: 2: 3 के अनुपात में प्रत्येक प्रकार की वस्तु खरीदता है। उसने Q प्रकार की कितनी वस्तुएं खरीदी?

- Ans
- ✗ 1. 4
 - ✓ 2. 2
 - ✗ 3. 5
 - ✗ 4. 3

Question ID : 9895807614
Chosen Option : 2

Q.7 निम्नलिखित रेखीय ग्राफ का अध्ययन करें और प्रश्न का उत्तर दें।

वर्षों में तीन कंपनियों से निर्यात (₹ करोड में)



किस वर्ष में कंपनी Y और Z के निर्यात के बीच का अंतर अधिकतम था?

- Ans
- ✗ 1. 1996
 - ✗ 2. 1997
 - ✗ 3. 1994
 - ✓ 4. 1995

Question ID : 9895807626
Chosen Option : 1

Q.7 यदि 50,56 और 44 छात्रों के तीन बैचों के औसत अंक क्रमशः 55,52,40 हैं, तो सभी छात्रों के औसत अंक होंगे:

- Ans
- 1. 49
 - 2. 49.48
 - 3. 49.84
 - 4. 50.48

Question ID : 9895807606
Chosen Option : 1

Section : English Language

Q.1 Select the word which means the same as the group of words given.

A close fitting cover for the blade of a knife or sword.

- Ans
- 1. Mask
 - 2. Pouch
 - 3. Sheath
 - 4. Packet

Question ID : 9895807952
Chosen Option : --

Q.2 Select the most appropriate option to substitute the underlined segment in the given sentence. If there is no need to substitute it, select No improvement.

He is felt extremely unhappy yesterday because of the inordinate delay of the messenger.

- Ans
- 1. He has feeling extremely unhappy yesterday
 - 2. No improvement
 - 3. He was feeling extremely unhappy yesterday
 - 4. He have been feeling extremely unhappy yesterday

Question ID : 9895807935
Chosen Option : --

Q.3 Select the most appropriate word to fill in the blank.

If you have a _____ for photography, you do not have to wait for your big break.

- Ans
- 1. response
 - 2. claim
 - 3. passion
 - 4. demand

Question ID : 9895807956
Chosen Option : --

Q.4 Select the correctly spelt word.

- Ans
- 1. Knowledg
 - 2. Knoledge
 - 3. Knowlege
 - 4. Knowledge

Question ID : 9895807954
Chosen Option : --

Q.5 Select the most appropriate option to fill in the blank.

Researchers say that about 33 % of people with diabetes may _____ a skin disorder in their lifetime.

- Ans
- 1. has
 - 2. has been
 - 3. have been
 - 4. have

Question ID : 9895807938
Chosen Option : --

Q.6 Select the synonym of the given word.

ELAPSED

- Ans
- 1. Connected
 - 2. Prolonged
 - 3. Ceased
 - 4. Persuaded

Question ID : 9895807946
Chosen Option : --

Q.7 Select the most appropriate word to fill in the blank.

The complexity of the current environment includes many challenges in general, but air pollution in _____.

- Ans
- 1. common
 - 2. public
 - 3. overall
 - 4. particular

Question ID : 9895807955
Chosen Option : --

Q.8 Select the most appropriate option to substitute the underlined segment in the given sentence. If there is no need to substitute it, select No improvement.

The convict was informed that the judge will heard the case tomorrow.

- Ans
- 1. judge will hearing a case
 - 2. No improvement
 - 3. judge hears a case
 - 4. judge will hear the case

Question ID : 9895807934
Chosen Option : --

Comprehension:

In the following passage some words have been deleted.
Fill in the blanks with the help of the alternatives given.

Man is a 'social animal'. Hence, showing a (1) _____
behaviour is equivalent to showing an animal behaviour.
Psychologists (2) _____ that though violent behaviour
is inherent but it can be managed. Providing a healthy and
cordial home environment to kids help them to build
strong family values and reduce the (3) _____ to react
violently. Rehabilitation homes and support programs are
available for those (4) _____ need professional help.
Meditation and practicing yoga also helps to (5) _____
negative attitude towards self and others.

SubQuestion No : 9

Q.9 Select the most appropriate option that will fill in the
blank number 1.

- Ans
- 1. ambitious
 - 2. submissive
 - 3. helpful
 - 4. vicious

Question ID : 9895807940
Chosen Option : --

Comprehension:

In the following passage some words have been deleted.

Fill in the blanks with the help of the alternatives given.

Man is a 'social animal'. Hence, showing a (1) _____ behaviour is equivalent to showing an animal behaviour. Psychologists (2) _____ that though violent behaviour is inherent but it can be managed. Providing a healthy and cordial home environment to kids help them to build strong family values and reduce the (3) _____ to react violently. Rehabilitation homes and support programs are available for those (4) _____ need professional help. Meditation and practicing yoga also helps to (5) _____ negative attitude towards self and others.

SubQuestion No : 10

Q.1
0 Select the most appropriate option that will fill in the blank number 2.

- Ans
- 1. saying
 - 2. says
 - 3. speak
 - 4. say

Question ID : 9895807941
Chosen Option : --

Comprehension:

In the following passage some words have been deleted.

Fill in the blanks with the help of the alternatives given.

Man is a 'social animal'. Hence, showing a (1) _____ behaviour is equivalent to showing an animal behaviour. Psychologists (2) _____ that though violent behaviour is inherent but it can be managed. Providing a healthy and cordial home environment to kids help them to build strong family values and reduce the (3) _____ to react violently. Rehabilitation homes and support programs are available for those (4) _____ need professional help. Meditation and practicing yoga also helps to (5) _____ negative attitude towards self and others.

SubQuestion No : 11

Q.1
1 Select the most appropriate option that will fill in the blank number 3.

- Ans
- 1. aim
 - 2. tendency
 - 3. preference
 - 4. choice

Question ID : 9895807942
Chosen Option : --

Comprehension:

In the following passage some words have been deleted.

Fill in the blanks with the help of the alternatives given.

Man is a 'social animal'. Hence, showing a (1) _____ behaviour is equivalent to showing an animal behaviour. Psychologists (2) _____ that though violent behaviour is inherent but it can be managed. Providing a healthy and cordial home environment to kids help them to build strong family values and reduce the (3) _____ to react violently. Rehabilitation homes and support programs are available for those (4) _____ need professional help. Meditation and practicing yoga also helps to (5) _____ negative attitude towards self and others.

SubQuestion No : 12

Q.1 Select the most appropriate option that will fill in the
2 blank number 4.

- Ans
- 1. whose
 - 2. who
 - 3. whom
 - 4. when

Question ID : 9895807943
Chosen Option : --

Comprehension:

In the following passage some words have been deleted.

Fill in the blanks with the help of the alternatives given.

Man is a 'social animal'. Hence, showing a (1) _____ behaviour is equivalent to showing an animal behaviour. Psychologists (2) _____ that though violent behaviour is inherent but it can be managed. Providing a healthy and cordial home environment to kids help them to build strong family values and reduce the (3) _____ to react violently. Rehabilitation homes and support programs are available for those (4) _____ need professional help. Meditation and practicing yoga also helps to (5) _____ negative attitude towards self and others.

SubQuestion No : 13

Q.1
3 Select the most appropriate option that will fill in the blank number 5.

- Ans
- 1. deal
 - 2. unsettle
 - 3. increase
 - 4. rectify

Question ID : 9895807944
Chosen Option : --

Q.1
4 From the given options, identify the segment in the sentence which contains the grammatical error.

With the help of skill- based education offer in colleges, many students will become eligible for various jobs.

- Ans
- 1. many students will become
 - 2. With the help of
 - 3. skill- based education offer in
 - 4. eligible for various jobs

Question ID : 9895807933
Chosen Option : --

Q.1
5 Select the most appropriate option to fill in the blank.

A toddler's brain _____ pretty much fully developed by the age of three.

- Ans
- 1. were

- 2. is
- 3. are
- 4. was

Question ID : 9895807937
Chosen Option : --

Q.1
6 Select the word which means the same as the group of words given.

A place in a large institution for the care of those who are ill.

- Ans
- 1. Clinic
 - 2. Shelter
 - 3. Infirmary
 - 4. Camp

Question ID : 9895807951
Chosen Option : --

Q.1
7 Select the most appropriate option to substitute the underlined segment in the given sentence. If there is no need to substitute it, select No improvement.

The newly- launched mobile phone application has been a great support for people in remote areas of the country.

- Ans
- 1. applications will been a great support
 - 2. No improvement
 - 3. applications has been a great support
 - 4. application have been a great support

Question ID : 9895807936
Chosen Option : --

Q.1
8 Select the option that means the same as the given idiom.

To bury the hatchet

- Ans
- 1. To bury old utensils
 - 2. To bury an axe
 - 3. To make peace
 - 4. To make someone happy

Question ID : 9895807949
Chosen Option : --

Q.1
9 From the given options, identify the segment in the sentence which contains the grammatical error.

Computers everywhere use random numbers as keys to locked or unlock encrypted information.

Ans

- 1. keys to locked or unlock
- 2. use random numbers as
- 3. encrypted information
- 4. Computers everywhere

Question ID : 9895807932
Chosen Option : --

Q.2
0 Select the antonym of the given word.

ASSAULT

- Ans
- 1. Agree
 - 2. Strike
 - 3. Defend
 - 4. Offend

Question ID : 9895807948
Chosen Option : --

Q.2
1 Select the correctly spelt word.

- Ans
- 1. Infrastructure
 - 2. Infrastructure
 - 3. Infrastructur
 - 4. Imfrastructure

Question ID : 9895807953
Chosen Option : --

Q.2
2 Select the option that means the same as the given idiom.

To turn over a new leaf

- Ans
- 1. To turn over the page of a book
 - 2. To make new things happen
 - 3. To change one's behavior for better
 - 4. To be always careful about one's behaviour

Question ID : 9895807950
Chosen Option : --

Q.2
3 Select the antonym of the given word.

INDOLENT

Ans

- 1. Lively
- 2. Sluggish
- 3. Inert
- 4. Lifeless

Question ID : 9895807947
Chosen Option : --

Q.2 From the given options, identify the segment in the sentence which contains the grammatical error.
4

It makes us realise how unsuitable our education system are because it cannot help us deal with life's most basic issues.

- Ans
- 1. education system are
 - 2. it cannot help us
 - 3. life's most basic issues
 - 4. It makes us realise

Question ID : 9895807931
Chosen Option : --

Q.2 Select the synonym of the given word.
5

BOUNTIFUL

- Ans
- 1. Spiritual
 - 2. Pretty
 - 3. Generous
 - 4. Religious

Question ID : 9895807945
Chosen Option : --

Section : Hindi Language

Q.1 दिए गए वाक्य का वह भाग ज्ञात करें जिसमें कोई त्रुटि है।

आकर्षण का केंद्र यह माण्डवगढ़ शाही महलों की खण्डहर है।

- Ans
- 1. आकर्षण का केंद्र
 - 2. यह माण्डवगढ़
 - 3. शाही महलों की
 - 4. खण्डहर है।

Question ID : 9895806710
Chosen Option : --

Q.2 निम्नलिखित में से उस विकल्प का चयन करें जो 'रूढ़ काँपना' मुहावरे का अर्थ व्यक्त करता है।

- Ans
- 1. बहुत काँपना
 - 2. बहुत डरना
 - 3. बहुत सर्दी लगना
 - 4. बहुत निडर

Question ID : 9895806729
Chosen Option : 2

Q.3 दिए गए वाक्य का वह भाग ज्ञात करें जिसमें कोई त्रुटि है।

पक्षियों की दुनिया कितना स्वच्छंद होती है।

- Ans
- 1. कितना स्वच्छंद
 - 2. होती है।
 - 3. दुनिया
 - 4. पक्षियों की

Question ID : 9895806709
Chosen Option : 1

Q.4 दिए गए वाक्य में रेखांकित खंड को प्रतिस्थापित करने के लिए उपयुक्त विकल्प का चयन करें।

हमारा ईश्वर में विश्वास है।

- Ans
- 1. विष्णु
 - 2. कृष्ण
 - 3. भगवान
 - 4. शंकर

Question ID : 9895806714
Chosen Option : 3

Q.5 दिए गए शब्द के पर्यायवाची शब्द का चयन करें।

ग्रह

- Ans
- 1. नक्षत्र
 - 2. घर
 - 3. कर्म

✗ 4. आग्रह

Question ID : 9895806728
Chosen Option : 2

Q.6 दिए गए वाक्य में रेखांकित खंड को प्रतिस्थापित करने के लिए उपयुक्त विकल्प का चयन करें।

मोहन अपने काम में प्रवीण है।

- Ans
- ✗ 1. शातिर
 - ✓ 2. दक्ष
 - ✗ 3. पूर्ण
 - ✗ 4. चालाक

Question ID : 9895806712
Chosen Option : 3

Q.7 रिक्त स्थान को भरने के लिए उपयुक्त शब्द का चयन करें।

वह चला गया था _____ रास्ते से लौट आया।

- Ans
- ✓ 1. परंतु
 - ✗ 2. तो
 - ✗ 3. यदि
 - ✗ 4. वह

Question ID : 9895806717
Chosen Option : 1

Q.8 दिए गए शब्द का विलोम चुनें।

सत्कार

- Ans
- ✗ 1. बेकार
 - ✓ 2. तिरस्कार
 - ✗ 3. पुरस्कार
 - ✗ 4. सम्मान

Question ID : 9895806726
Chosen Option : 2

Q.9 दिये गये वाक्यांश के लिए एक शब्द दीजिये।

जिसकी आयु कम हो

- Ans
- 1. अल्पायु
 - 2. दीर्घायु
 - 3. शतायु
 - 4. चिरंजीवी

Question ID : 9895806731
Chosen Option : 1

Q.1
0 रिक्त स्थान को भरने के लिए सबसे उपयुक्त शब्द का चयन करें।

बोटल में पानी _____ भरा है।

- Ans
- 1. के बदले
 - 2. के बारे में
 - 3. आधा
 - 4. को साथ

Question ID : 9895806716
Chosen Option : 3

Q.1
1 रिक्त स्थान को भरने के लिए उपयुक्त शब्द का चयन करें।

अनाज _____ में उगता है।

- Ans
- 1. सड़कों
 - 2. मैदानों
 - 3. खेतों
 - 4. जहाजों

Question ID : 9895806715
Chosen Option : 3

Q.1
2 रिक्त स्थान को भरने के लिए उपयुक्त शब्द का चयन करें।

रीमा ने _____ से फल काटे।

- Ans
- 1. तलवार
 - 2. चाकू
 - 3. कैंची
 - 4. कुल्हाड़ी

Question ID : 9895806718
Chosen Option : 2

Q.1
3 दिए गए शब्द का विलोम चुनें।

कृत्रिम

- Ans
- 1. कृमि
 - 2. कृति
 - 3. प्राकृतिक
 - 4. बनावटी

Question ID : 9895806725
Chosen Option : 3

Q.1
4 सही वर्तनी वाले शब्द का चयन करें।

- Ans
- 1. विछौना
 - 2. बिछोना
 - 3. बिछौना
 - 4. बीछौना

Question ID : 9895806734
Chosen Option : 3

Q.1
5 दिये गये वाक्यांश के लिए एक शब्द दीजिये।

राजनीति से संबंधित

- Ans
- 1. अनैतिक
 - 2. सैद्धांतिक
 - 3. नैतिक
 - 4. राजनैतिक

Question ID : 9895806732
Chosen Option : 4

Q.1
6 दिए गए वाक्य का वह भाग ज्ञात करें जिसमें कोई त्रुटि है।

शिरीष के विशाल वृक्ष बड़ी छायादार होते हैं।

- Ans
- 1. बड़ी छायादार

2. होते हैं।

3. विशाल वृक्ष

4. शिरीष के

Question ID : 9895806711

Chosen Option : 1

Q.1
7 निम्नलिखित में से उस विकल्प का चयन करें जो 'लोहे के चने चबाना' मुहावरे का अर्थ व्यक्त करता है।

Ans 1. लोहे से निर्मित चने खाना

2. बहुत कठिन कार्य करना

3. अच्छा कार्य करना

4. सरल कार्य करना

Question ID : 9895806730

Chosen Option : 2

Q.1
8 सही वर्तनी वाले शब्द का चयन करें।

Ans 1. क्षुदा

2. क्षुधा

3. क्षूधा

4. क्षूदा

Question ID : 9895806733

Chosen Option : 2

Q.1
9 दिए गए शब्द के पर्यायवाची शब्द का चयन करें।

आवाज़

Ans 1. नंदिनी

2. नगाड़ा

3. अनादर

4. ध्वनि

Question ID : 9895806727

Chosen Option : 4

Q.2
0 दिए गए वाक्य में रेखांकित खंड को प्रतिस्थापित करने के लिए उपयुक्त विकल्प का चयन करें।

सब आदमी समान नहीं होते।

- Ans
- 1. मनुष्य बराबर
 - 2. हर मानव
 - 3. प्रत्येक व्यक्ति
 - 4. लोक

Question ID : 9895806713
Chosen Option : 1

Comprehension:

निम्नलिखित गद्यांश के रिक्त स्थानों की पूर्ति गद्यांश के नीचे दिए गए प्रश्नों के अनुसार कीजिए-

हमारा सौभाग्य है कि समय-समय पर हमारे देश में ऐसे अनेक ऋषि, महर्षि, विद्वान, संत और महात्मा पैदा हुए जिन्होंने विघटन, विरोध और _____ (1) की वृत्ति के खतरे को पहचाना और उन्हें समाप्त करने में अपनी पूर्ण _____ (2) लगा दी। कबीर और गांधी इसी प्रकार के व्यक्ति थे। उन्होंने एकता और सहिष्णुता की जो धारा बहायी, वह अभी तक _____ (3) नहीं हुई। आज भी हमारे देश में सौभाग्य से ऐसे नेता, विचारक और समाजसेवी _____ (4) हैं जो इस खतरे के विरुद्ध अपनी आवाज बुलंद करते रहते हैं और समय आने पर अपने _____ (5) की बाजी लगाने के लिए तैयार हो जाते हैं।

SubQuestion No : 21

Q.2
1 गद्यांश में संकेतित रिक्त स्थान (1) के लिए उपयुक्त शब्द होगा।

- Ans
- 1. असंतुष्ट
 - 2. चुनाव
 - 3. लगाव
 - 4. अलगाव

Question ID : 9895806720
Chosen Option : 1

Comprehension:

निम्नलिखित गद्यांश के रिक्त स्थानों की पूर्ति गद्यांश के नीचे दिए गए प्रश्नों के अनुसार कीजिए-

हमारा सौभाग्य है कि समय-समय पर हमारे देश में ऐसे अनेक ऋषि, महर्षि, विद्वान, संत और महात्मा पैदा हुए जिन्होंने विघटन, विरोध और _____ (1) की वृत्ति के खतरे को पहचाना और उन्हें समाप्त करने में अपनी पूर्ण _____ (2) लगा दी। कबीर और गांधी इसी प्रकार के व्यक्ति थे। उन्होंने एकता और सहिष्णुता की जो धारा बहायी, वह अभी तक _____ (3) नहीं हुई। आज भी हमारे देश में सौभाग्य से ऐसे नेता, विचारक और समाजसेवी _____ (4) हैं जो इस खतरे के विरुद्ध अपनी आवाज बुलंद करते रहते हैं और समय आने पर अपने _____ (5) की बाजी लगाने के लिए तैयार हो जाते हैं।

SubQuestion No : 22

Q.2
2 गद्यांश में संकेतित रिक्त स्थान (2) के लिए उपयुक्त शब्द होगा।

- Ans
- 1. इच्छा
 - 2. महत्वकांक्षा
 - 3. शक्ति
 - 4. स्वतंत्रता

Question ID : 9895806721
Chosen Option : 3

Comprehension:

निम्नलिखित गद्यांश के रिक्त स्थानों की पूर्ति गद्यांश के नीचे दिए गए प्रश्नों के अनुसार कीजिए-

हमारा सौभाग्य है कि समय-समय पर हमारे देश में ऐसे अनेक ऋषि, महर्षि, विद्वान, संत और महात्मा पैदा हुए जिन्होंने विघटन, विरोध और _____ (1) की वृत्ति के खतरे को पहचाना और उन्हें समाप्त करने में अपनी पूर्ण _____ (2) लगा दी। कबीर और गांधी इसी प्रकार के व्यक्ति थे। उन्होंने एकता और सहिष्णुता की जो धारा बहायी, वह अभी तक _____ (3) नहीं हुई। आज भी हमारे देश में सौभाग्य से ऐसे नेता, विचारक और समाजसेवी _____ (4) हैं जो इस खतरे के विरुद्ध अपनी आवाज बुलंद करते रहते हैं और समय आने पर अपने _____ (5) की बाजी लगाने के लिए तैयार हो जाते हैं।

SubQuestion No : 23

Q.2
3 गद्यांश में संकेतित रिक्त स्थान (3) के लिए उपयुक्त शब्द होगा।

- Ans
- 1. क्षीण
 - 2. बड़ी
 - 3. दीर्घ
 - 4. अधिक

Question ID : 9895806722
Chosen Option : 1

Comprehension:

निम्नलिखित गद्यांश के रिक्त स्थानों की पूर्ति गद्यांश के नीचे दिए गए प्रश्नों के अनुसार कीजिए-

हमारा सौभाग्य है कि समय-समय पर हमारे देश में ऐसे अनेक ऋषि, महर्षि, विद्वान, संत और महात्मा पैदा हुए जिन्होंने विघटन, विरोध और _____ (1) की वृत्ति के खतरे को पहचाना और उन्हें समाप्त करने में अपनी पूर्ण _____ (2) लगा दी। कबीर और गांधी इसी प्रकार के व्यक्ति थे। उन्होंने एकता और सहिष्णुता की जो धारा बहायी, वह अभी तक _____ (3) नहीं हुई। आज भी हमारे देश में सौभाग्य से ऐसे नेता, विचारक और समाजसेवी _____ (4) हैं जो इस खतरे के विरुद्ध अपनी आवाज बुलंद करते रहते हैं और समय आने पर अपने _____ (5) की बाजी लगाने के लिए तैयार हो जाते हैं।

SubQuestion No : 24

Q.2
4 गद्यांश में संकेतित रिक्त स्थान (4) के लिए उपयुक्त शब्द होगा।

- Ans
- 1. वर्तमान
 - 2. लुप्त
 - 3. मौजूद
 - 4. विलीन

Question ID : 9895806723

Chosen Option : 3

Comprehension:

निम्नलिखित गद्यांश के रिक्त स्थानों की पूर्ति गद्यांश के नीचे दिए गए प्रश्नों के अनुसार कीजिए-

हमारा सौभाग्य है कि समय-समय पर हमारे देश में ऐसे अनेक ऋषि, महर्षि, विद्वान, संत और महात्मा पैदा हुए जिन्होंने विघटन, विरोध और _____ (1) की वृत्ति के खतरे को पहचाना और उन्हें समाप्त करने में अपनी पूर्ण _____ (2) लगा दी। कबीर और गांधी इसी प्रकार के व्यक्ति थे। उन्होंने एकता और सहिष्णुता की जो धारा बहायी, वह अभी तक _____ (3) नहीं हुई। आज भी हमारे देश में सौभाग्य से ऐसे नेता, विचारक और समाजसेवी _____ (4) हैं जो इस खतरे के विरुद्ध अपनी आवाज बुलंद करते रहते हैं और समय आने पर अपने _____ (5) की बाजी लगाने के लिए तैयार हो जाते हैं।

SubQuestion No : 25

Q.2
5 गद्यांश में संकेतित रिक्त स्थान (5) के लिए उपयुक्त शब्द होगा।

- Ans
- 1. इच्छा
 - 2. मन
 - 3. प्राण
 - 4. दिल

Question ID : 9895806724
Chosen Option : 3