

## Constable (GD) in CAPFs, NIA, SSF and Rifleman (GD) in Assam Rifles Examination, 2018

Roll No. :	GovtJobsAlert.In
Registration No.	GovtJobsAlert.In
Name :	GovtJobsAlert.In
Exam Venue :	iON Digital Zone iDZ 1 Patliputra
Exam Time :	12:30 PM - 2:00 PM
Exam Date :	02/03/2019

Section : General Section

Q.1 दी गई श्रृंखला में अगली संख्या ज्ञात करें।

3, 14, 33, 60, ?

- Ans
- 1. 92
  - 2. 95
  - 3. 97
  - 4. 99

Question ID : 9895808253  
Chosen Option : 2

Q.2 यदि '+' का अर्थ 'जोड़' है, '-' का अर्थ 'घटाना' है, 'x' का अर्थ 'गुणा' है और '÷' का अर्थ 'विभाजन' है तो निम्नलिखित समीकरण का मान क्या होगा?

$$75 \times 5 - 4 \div 7 + 2 = ?$$

- Ans
- 1. 65
  - 2. 67
  - 3. 72
  - 4. 69

Question ID : 9895808257  
Chosen Option : 1

Q.3 उस विकल्प का चयन करें जो तीसरे पद से उसी प्रकार संबंधित है जिस प्रकार दूसरा पद पहले पद से संबंधित है।

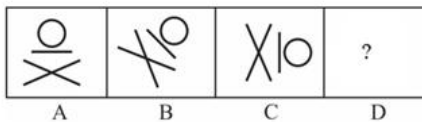
$$4 : 19 :: 6 : ?$$

- Ans
- 1. 36
  - 2. 39
  - 3. 30
  - 4. 24

Question ID : 9895808254  
Chosen Option : 1

Q.4

कौन सा विकल्प प्रश्न चिह्न के स्थान पर आएगा और दी गई श्रृंखला को पूरा करेगा?



Ans



Question ID : 9895808258  
Chosen Option : 1

Q.5 उस विकल्प का चयन करें जो तीसरे पद से उसी प्रकार संबंधित है जिस प्रकार दूसरा पद पहले पद से संबंधित है।

BCD : DFH :: JKL : ?

- Ans
- ✗ 1. MNO
  - ✓ 2. LNP
  - ✗ 3. LMP
  - ✗ 4. NLP

Question ID : 9895808244  
Chosen Option : 2

Q.6 निम्नलिखित में से असंगत को पहचानें।

- Ans
- ✗ 1. 432
  - ✗ 2. 333
  - ✓ 3. 516
  - ✗ 4. 261

Question ID : 9895808255  
Chosen Option : 3

Q.7 निम्नलिखित में से असंगत की पहचान करें।

- Ans
- ✓ 1. JKXY
  - ✗ 2. ACNP

3. GITV  
 4. DFQS

Question ID : 9895808240

Chosen Option : 1

Q.8 नीचे दिए गए कथनों के बाद दो I और II दिए गए हैं। आपको कथनों में दी गई जानकारी को सत्य मानना है, भले ही वह सर्व ज्ञात तथ्यों से भिन्न प्रतीत होती हो और यह तय करना है कि कौन सा/से निष्कर्ष तार्किक रूप से और निश्चित रूप से कथनों का अनुसरण करता है/करते हैं।

कथन:

सभी कहानियां उपन्यास हैं।

सभी कहानियां कविताएँ हैं।

निष्कर्ष:

- I. कोई भी कहानी उपन्यास नहीं है।  
II. कुछ कविताएँ कहानियां हैं।

Ans

1. या तो निष्कर्ष I या निष्कर्ष II अनुसरण करता है।  
 2. दोनों निष्कर्ष अनुसरण करते हैं।  
 3. केवल निष्कर्ष I अनुसरण करता है।  
 4. केवल निष्कर्ष II करता है।

Question ID : 9895808250

Chosen Option : 4

Q.9 दी गई श्रृंखला में अगली संख्या ज्ञात करें।

12, 21, 30, 39, ?

Ans

1. 50  
 2. 48  
 3. 44  
 4. 41

Question ID : 9895808252

Chosen Option : 2

Q.1 उस विकल्प का चयन करें जो दर्पण के दायीं ओर रखे जाने पर दिए गए शब्द की दर्पण छवि से सर्वाधिक मेल खाता है।

TOLERANT

Ans

1. TOLERANT  
 2. TOLERANT  
 3. TOLERANT  
 4. TOLERANT

Question ID : 9895808261

Chosen Option : 3

Q.1 यदि किसी कूट भाषा में CUBA को 27 के रूप में लिखा जाता है, तो उसी कूट भाषा में FIJI को कैसे लिखेंगे?

Ans

1. 30  
 2. 38

✗ 3. 27

✓ 4. 34

Question ID : 9895808246

Chosen Option : 4

Q.1  
2 दिए गए विकल्पों में से लुप्त संख्या ज्ञात करें।

36	13	31
28	10	24
18	23	?

Ans ✓ 1. 32

✗ 2. 27

✗ 3. 36

✗ 4. 20

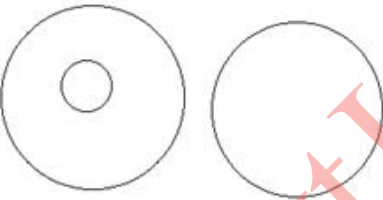

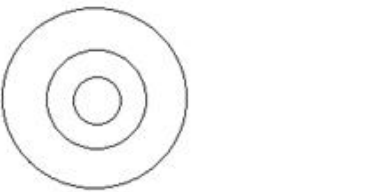
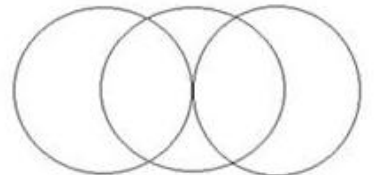
Question ID : 9895808256

Chosen Option : 4

Q.1  
3 उस वेन आरेख का चयन करें जो दिए गए वर्गों के बीच संबंधों को बेहतर ढंग से दर्शाता है।

काठमांडू, नेपाल, भारत

Ans

- ✓ 1. 
- ✗ 2. 
- ✗ 3. 
- ✗ 4. 

Question ID : 9895808263

Chosen Option : 1

Q.1

4 उस विकल्प का चयन करें जो तीसरे पद से उसी प्रकार संबंधित है जिस प्रकार दूसरा पद पहले पद से संबंधित है।

दर्जी : कपड़ा :: मैकेनिक : ?

- Ans
- 1. औजार
  - 2. मशीन
  - 3. मरम्मत
  - 4. बिजली

Question ID : 9895808243

Chosen Option : 2

Q.1 केवल एक रनवे है जो बारी - बारी से सात उड़ानों द्वारा उपयोग किया जाएगा। P और Q रनवे का उपयोग न तो पहले करेंगे और न ही अंत में। S, R के बाद इसका दूसरा उपयोग करेगा। M, O के पहले इसका दूसरा उपयोग करेगा। N, O के बाद और R के पहले इसका उपयोग करेगा। Q, R के ठीक पहले उपयोग करेगा। Q से ठीक पहले रनवे का उपयोग कौन करेगा?

- Ans
- 1. O
  - 2. P
  - 3. R
  - 4. S

Question ID : 9895808249

Chosen Option : 1

Q.1 एक पैटर्न के साथ एक चौकोर पारदर्शी कागज पत्रक दिया गया है। जब पारदर्शी कागज पत्रक को बिदुकिंत रेखा पर मोड़ा जाता है तो पैटर्न कैसे दिखाई देगा?



Ans

- 1.
- 2.
- 3.
- 4.

Question ID : 9895808262

Chosen Option : 4

Q.1 आठ दोस्त P, Q, R, S, T, U, V और W मेज के केंद्र की ओर मुँह करके उसके चारों ओर बैठे हैं। P, T की बगल में नहीं बैठा है, जबकि R, Q के दाएँ और तीसरे स्थान पर बैठा है। W, T के बाएँ से दूसरे स्थान पर है जो R के दाएँ ओर बैठा है। U, T या Q की बगल में नहीं बैठा है, बल्कि वह V के बिल्कुल बाएँ ओर बैठा है। Q के बिल्कुल दाएँ ओर कौन बैठा है?

- Ans
- 1. S
  - 2. T
  - 3. R
  - 4. P

Question ID : 9895808247  
Chosen Option : 4

Q.1 उस विकल्प का चयन करें जो तीसरे पद से उसी प्रकार संबंधित है जिस प्रकार दूसरा पद पहले पद से संबंधित है।

8

जाना : प्रस्थान करना :: खर्च करना : ?

- Ans
- 1. गया
  - 2. बचाना
  - 3. उपयोग करना
  - 4. बनाना

Question ID : 9895808242  
Chosen Option : 3

Q.1 यदि किसी कूट भाषा में PINK को OHMJ के रूप में लिखा जाता है, तो उसी कूट भाषा में BLUE को कैसे लिखेंगे?

9

- Ans
- 1. TKDA
  - 2. DATK
  - 3. AKTD
  - 4. KTDA

Question ID : 9895808245  
Chosen Option : 3

Q.2 कुछ छात्र एक पंक्ति में बैठे हैं। रविश बाएँ छोर से पंक्ति में छठा छात्र है। वैभव पंक्ति के दाएँ छोर से 10वें स्थान पर बैठा है। उस पंक्ति में रविश और वैभव के बीच 8 लड़के बैठे हैं। कुल कितने लड़के पंक्ति में बैठे हैं?

0

- Ans
- 1. 20
  - 2. 32
  - 3. 24
  - 4. 27

Question ID : 9895808248  
Chosen Option : 3

Q.2 दिए गए अक्षर समूह श्रृंखला में अक्षरों की कौन सी जोड़ी आगे आएगी?

1

ZX, WU, TR, QO, ?

- Ans
- 1. NL
  - 2. PR
  - 3. NK
  - 4. ML

Question ID : 9895808239  
Chosen Option : 1

Q.2  
2

नीचे दिए गए कथनों के बाद दो I और II दिए गए हैं। आपको कथनों में डी गई जानकारी को सत्य मानना है, भले ही वह सर्व ज्ञात तथ्यों से भिन्न प्रतीत होती हो और यह तय करना है कि कौन सा/से निष्कर्ष तार्किक रूप से और निश्चित रूप से कथनों का अनुसरण करता है/करते हैं।

कथन:

कुछ पीड़ित जज हैं।

कुछ जज डकैत हैं।

निष्कर्ष:

I. कुछ पीड़ित डकैत हैं।

II. कोई पीड़ित डकैत नहीं है।

Ans

1. केवल निष्कर्ष I अनुसरण करता है।

2. या तो निष्कर्ष I या निष्कर्ष II अनुसरण करता है।

3. दोनों निष्कर्ष अनुसरण करते हैं।

4. केवल निष्कर्ष II करता है।

Question ID : 9895808251

Chosen Option : 2

Q.2  
3 दिए गए विकल्पों में से असंगत की पहचान करें।

Ans

1. ऑरम

2. सिलिकॉन

3. कार्बन

4. जर्मेनियम

Question ID : 9895808241

Chosen Option : 1

Q.2  
4 उस विकल्प का चयन करें जो प्रश्न चिह्न के स्थान पर आएगा और दिए गए पैटर्न को पूरा करेगा।



Ans

1.



2.



3.



4.



Question ID : 9895808259

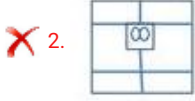
Chosen Option : 2

Q.2

5 विकल्पों में से उस आकृति की पहचान करें जिसमें दी गई आकृति अंतर्निहित है।



Ans



Question ID : 9895808260

Chosen Option : 3

Q.2 समाज के गरीब वर्ग में बाजार मूल्य से कम मूल्य पर खाद्यान्न वितरित करने के लिए बफर स्टॉक बनाया जाता है, उस दाम को \_\_\_\_\_ भी कहते हैं।

Ans

✗ 1. उचित मूल्य

✗ 2. कम किया गया मूल्य

✓ 3. जारी मूल्य

✗ 4. क्रय मूल्य

Question ID : 9895807312

Chosen Option : 2

Q.2 यदि मौद्रिक नीति व्याज दरों के प्रबंधन और धन की आपूर्ति से संबंधित है, तो राजकोषीय नीति किससे संबंधित है?

Ans

✗ 1. बैंकिंग

✓ 2. कराधान और सरकारी खर्च

✗ 3. आयात और निर्यात

✗ 4. विदेशी व्यापार

Question ID : 9895807311

Chosen Option : 2

Q.2 या तो सतह या सतह के नीचे से पानी की छोटी मात्रा पौधों की जड़ों तक पहुँचाने की प्रक्रिया को क्या कहते हैं?

Ans

✓ 1. ट्रिप्स सिंचाई (ड्रिप इरिगेशन)

✗ 2. मैनुअल सिंचाई

✗ 3. स्थानीयकृत सिंचाई (लोकलाइज्ड इरिगेशन)



✗ 4. पार्श्व सिंचाई (लेटरल मूव इरिगेशन)

Question ID : 9895807324  
Chosen Option : 1

Q.2  
9 'बाराबती किला' भारत के किस राज्य में स्थित है?

- Ans
- ✗ 1. मध्य प्रदेश
  - ✓ 2. ओडिशा
  - ✗ 3. महाराष्ट्र
  - ✗ 4. पश्चिम बंगाल

Question ID : 9895807305  
Chosen Option : 3

Q.3  
0 किस संगठन को तीन बार नोबेल शांति पुरस्कार दिया गया है?

- Ans
- ✓ 1. रेड क्रॉस की अंतर्राष्ट्रीय समिति (ICRC)
  - ✗ 2. अंतर्राष्ट्रीय श्रमिक संगठन (ILO)
  - ✗ 3. संयुक्त राष्ट्र (UN)
  - ✗ 4. विश्व बैंक

Question ID : 9895807308  
Chosen Option : 1

Q.3  
1 5 वीं शताब्दी ईसा पूर्व में लिखा गया 'पाली कैनन', किस धर्म का मूलग्रन्थ है?

- Ans
- ✗ 1. जैन धर्म
  - ✗ 2. ताओ धर्म
  - ✓ 3. बौद्ध धर्म
  - ✗ 4. पारसी धर्म

Question ID : 9895807325  
Chosen Option : 2

Q.3  
2 'ट्रिज़ल' \_\_\_\_\_ का उदाहरण है।

- Ans
- ✗ 1. वाष्पीकरण
  - ✗ 2. संघनन
  - ✗ 3. निस्तारण
  - ✓ 4. अवक्षेपण

Question ID : 9895807320  
Chosen Option : 2

Q.3  
3 भारत द्वारा सरकार की संसदीय प्रणाली किस राष्ट्र के संविधान के आधार पर अपनाई गई थी?

- Ans
- ✓ 1. यूनाइटेड किंगडम

✗ 2. संयुक्त राज्य अमरीका

✗ 3. आयरलैंड

✗ 4. रूस

Question ID : 9895807314  
Chosen Option : 1

Q.3 4 मराठा साम्राज्य के संस्थापक राजा शिवाजी को किस स्थान पर 'छत्रपति' के खिताब से सम्मानित किया गया था?

Ans ✗ 1. गिंगी

✓ 2. रायगढ़

✗ 3. सतारा

✗ 4. पुणे

Question ID : 9895807326  
Chosen Option : 2

Q.3 5 1993 में डब्ल्यूटीओ कृषि समझौता किस राउंड में हस्तांतरित हुआ?

Ans ✗ 1. ब्राजील राउंड

✗ 2. पेरिस राउंड

✓ 3. उरुग्वे राउंड

✗ 4. वाशिंगटन राउंड

Question ID : 9895807313  
Chosen Option : 2

Q.3 6 2015 में, निम्नलिखित में से कौन बेडमिंटन रैंकिंग में शीर्ष स्थान पर पहुंचने वाली पहली भारतीय महिला खिलाड़ी है?

Ans ✓ 1. साइना नेहवाल

✗ 2. पी.वी. सिंधु

✗ 3. अश्विनी पोनप्पा

✗ 4. ज्वाला गुट्टा

Question ID : 9895807306  
Chosen Option : 2

Q.3 7 ओरल पोलियो वैक्सीन का आविष्कार किसने किया था?

Ans ✗ 1. जोनास सॉल्क

✗ 2. लुई पास्चर

✗ 3. जॉन नैश

✓ 4. अल्बर्ट साबिन

Question ID : 9895807321  
Chosen Option : 4

Q.3  
8 पारंपरिक त्योहार 'पावल कुट' भारत के किस राज्य से संबंधित है?

- Ans
- 1. गोवा
  - 2. मिजोरम
  - 3. मेघालय
  - 4. सिक्किम

Question ID : 9895807304  
Chosen Option : 4

Q.3  
9 किस अमेरिकी पत्रकार ने धरसाणा में नमक सत्याग्रह विरोध प्रदर्शन को कवर किया?

- Ans
- 1. कार्ल बर्नस्टीन
  - 2. वेब मिलर
  - 3. एडवर्ड मुरो
  - 4. वाल्टर लेलैंड क्रोनकाइट

Question ID : 9895807327  
Chosen Option : 1

Q.4  
0 निम्नलिखित में से कौन सी पर्वत श्रृंखला भारत, पाकिस्तान और चीन तक फैली हुई है?

- Ans
- 1. अरावली
  - 2. काराकोरम
  - 3. नीलगिरि
  - 4. सतपुड़ा

Question ID : 9895807323  
Chosen Option : 2

Q.4  
1 निम्नलिखित में से कौन सी नेपाल की सबसे लंबी नदी है?

- Ans
- 1. नारायणी
  - 2. महाकाली
  - 3. करनाली
  - 4. राप्ती

Question ID : 9895807322  
Chosen Option : 3

Q.4  
2 उस उपकरण का नाम बताइए जो एक चालक में संभावित अंतर बनाए रखने में मदद करता है?

- Ans
- 1. युडियमीटर
  - 2. बैटरी
  - 3. कैलिपर
  - 4. शक्ति नापने का यंत्र (डायनेमोमीटर)

Question ID : 9895807318  
Chosen Option : 4

Q.4  
3 निम्नलिखित में से कौन धानी प्राणी (मारसुपियल) का उदाहरण है?

- Ans
- 1. जेब्रा
  - 2. सियार
  - 3. कछुआ
  - 4. कंगारू

Question ID : 9895807319  
Chosen Option : 3

Q.4  
4 लोक नृत्य 'घुमरा' किस भारतीय राज्य से संबंधित है?

- Ans
- 1. ओडिशा
  - 2. झारखंड
  - 3. पश्चिम बंगाल
  - 4. असम

Question ID : 9895807303  
Chosen Option : 4

Q.4  
5 लोकतंत्रों के संदर्भ में, निम्नलिखित अवधारणाओं में से एक सही है, जिसे लोकतंत्रों ने सफलतापूर्वक समाप्त कर दिया है।

- Ans
- 1. लोगों में आर्थिक असमानता
  - 2. हाशिये के वर्गों के साथ कैसा व्यवहार किया जाता है उस पर मतभेद
  - 3. राजनीतिक असमानता का विचार
  - 4. इसके लोगों के बीच संघर्ष

Question ID : 9895807316  
Chosen Option : 2

Q.4  
6 गति का कौन सा नियम कहता है, कि जब एक पदार्थ दूसरे पदार्थ पर जोर लगाता है तो दूसरा पदार्थ तुरंत पहले पर वापस बल लगाता है?

- Ans
- 1. न्यूटन का गति का दूसरा नियम
  - 2. कूलम्ब का नियम
  - 3. न्यूटन का गति का तीसरा नियम
  - 4. स्टीफन का नियम

Question ID : 9895807317  
Chosen Option : 1

Q.4  
7 किस वर्ष माता-पिता और वरिष्ठ नागरिकों का संरक्षण और कल्याण अधिनियम (मेंटेनंस और वेल्फेर ऑफ पेरेंट्स एंड सिनियर सिटिजन्स एक्ट) लागू हुआ?

- Ans
- 1. 2004

✓ 2. 2007

✗ 3. 2010

✗ 4. 2005

Question ID : 9895807315

Chosen Option : 4

Q.4 जनवरी 2019 तक, सार्क (SAARC) के महासचिव कौन हैं?

Ans

✓ 1. अमजद हुसैन बी सियाल

✗ 2. अर्जुन बहादुर थापा

✗ 3. के.के. सिंह

✗ 4. अबुल अहसन

Question ID : 9895807310

Chosen Option : 2

Q.4 निम्नलिखित में से किस खिलाड़ी ने ओलंपिक खेलों में सर्वाधिक पदक जीते हैं?

Ans

✗ 1. नादिया कोमांसी

✓ 2. माइकल फेल्प्स

✗ 3. मार्क स्पिट्ज

✗ 4. पावो नुरमी

Question ID : 9895807307

Chosen Option : 2

Q.5 'रिपब्लिक' पुस्तक के लेखक कौन हैं?

Ans

✗ 1. सुकरात

✗ 2. इमानुएल काण्ट

✓ 3. प्लेटो

✗ 4. अरस्तु

Question ID : 9895807309

Chosen Option : 3

Q.5 तीन संख्याएं  $\frac{1}{3}$ ,  $\frac{2}{5}$ ,  $\frac{1}{4}$  के अनुपात में हैं। सबसे बड़ी संख्या और सबसे छोटी संख्या के बीच का अंतर 9 है। संख्याएं ज्ञात करें।

Ans

✗ 1. 42, 46, 33

✗ 2. 24, 28, 15

✓ 3. 20, 24, 15

✗ 4. 30, 34, 21

Question ID : 9895807639

Chosen Option : 3

Q.5 निम्नलिखित तालिका का अध्ययन करें और उसके आधार पर प्रश्न का उत्तर दें।  
2

दिए गए वर्षों में प्रति वर्ष एक कंपनी का व्यय (लाख ₹ में)।

वर्ष	व्यय का विषय				
	वेतन	इंधन और परिवहन	बोनस	ऋण पर ब्याज	कर
1998	288	98	3.00	23.4	83
1999	342	112	2.52	32.5	108
2000	324	101	3.84	41.6	74
2001	336	133	3.68	36.4	88
2002	420	142	3.96	49.4	98

1998 में इन सभी वस्तुओं पर कुल व्यय 2001 में कुल व्यय का लगभग कितना प्रतिशत था?

- Ans
- 1. 72.97%
  - 2. 82.79%
  - 3. 80.97%
  - 4. 82.97%

Question ID : 9895807651  
Chosen Option : --

Q.5 सरलीकृत करें :  
3

$$12 - 6.4 \div 8 + 0.7 \times 0.4$$

- Ans
- 1. 12.48
  - 2. 11.84
  - 3. 11.48
  - 4. 11.42

Question ID : 9895807629  
Chosen Option : 3

Q.5 ट्रेन A को 800 किमी की दूरी तय करने के लिए ट्रेन B से 6 घंटे अधिक लगता है। यदि ट्रेन A की गति दोगुनी की जाती है तो वह ट्रेन B से 2 घंटे कम समय लेती है। ट्रेन B की गति क्या है?  
4

- Ans
- 1. 60 km/h
  - 2. 50 km/h
  - 3. 80 km/h
  - 4. 75 km/h

Question ID : 9895807646  
Chosen Option : 2

Q.5 2 mm व्यास के साथ 36 m लंबा एक तांबे का तार, एक गोला बनाने के लिए पिघलाया जाता है। तो गोले की त्रिज्या \_\_\_\_\_ है।  
5

- Ans  1. 3 cm  
 2. 6 cm  
 3. 4 cm  
 4. 5 cm

Question ID : 9895807649  
 Chosen Option : 4

Q.5 A एक कार्य अकेला 12 दिनों में और B अकेला 10 दिनों में कर सकता है। उन्होंने ₹440 में कार्य हाथ पर लिया। A को कितने रुपये मिलेंगे?

- Ans  1. ₹300  
 2. ₹200  
 3. ₹240  
 4. ₹150

Question ID : 9895807643  
 Chosen Option : 2

Q.5 यदि किसी निश्चित डेटा के माध्य और माधिका का अनुपात 2 : 3 है तो उसके मोड (बहुलक) और माध्य का अनुपात ज्ञात करें।

- Ans  1. 2 : 5  
 2. 4 : 3  
 3. 5 : 2  
 4. 3 : 2

Question ID : 9895807634  
 Chosen Option : 2

Q.5 यदि किसी वृत्त की त्रिज्या में 5 cm जोड़ा जाता है, तो वृत्त की परिधि \_\_\_\_\_ बढ़ जाती है।

- Ans  1.  $10\pi$  cm  
 2.  $5\pi$  cm  
 3.  $6\pi$  cm  
 4.  $9\pi$  cm

Question ID : 9895807648  
 Chosen Option : 1

Q.5 निम्नलिखित में से किसका क्षेत्रफल सबसे बड़ा है?

- (a)  $\sqrt{2}$  cm त्रिज्या का एक वृत्त  
 (b) एक समबाहु त्रिभुज जिसकी भुजा 4 cm है  
 (c) 3 cm, 4 cm और 5 cm भुजाओं वाला एक त्रिभुज  
 (d) 2.5 cm और 2 cm भुजाओं वाला आयत

- Ans  1. c  
 2. a  
 3. d

✓ 4. b

Question ID : 9895807647  
Chosen Option : 1

Q.6 एक पुस्तकालय में रविवार को औसतन 480 और अन्य दिनों में 222 आगंतुक होते हैं। रविवार से शुरू होने वाले 30 दिनों के महीने में प्रति दिन आगंतुकों की औसत संख्या होती \_\_\_\_\_ है।

- Ans
- ✗ 1. 285
  - ✗ 2. 280
  - ✗ 3. 260
  - ✓ 4. 265

Question ID : 9895807631  
Chosen Option : 3

Q.6 एक कक्षा में 18 लड़कों का औसत वजन 52.5 kg है और बाकी 6 लड़कों का वजन 44.5 kg है। कक्षा के सभी लड़कों का औसत वजन ज्ञात करें।

- Ans
- ✗ 1. 51.5 kg
  - ✗ 2. 52.5 kg
  - ✗ 3. 50 kg
  - ✓ 4. 50.5 kg

Question ID : 9895807632  
Chosen Option : 4

Q.6 अपनी सामान्य गति के  $\frac{3}{4}$  से चलते हुए, एक आदमी अपने कार्यालय में सामान्य समय से 30 min देर से पहुँचता है। कार्यालय पहुँचने में उसे सामान्य रूप से कितना समय लगता है?

- Ans
- ✗ 1. 70 min
  - ✓ 2. 90 min
  - ✗ 3. 60 min
  - ✗ 4. 80 min

Question ID : 9895807645  
Chosen Option : 2

Q.6  
3



निम्नलिखित तालिका का अध्ययन करें और उसके आधार पर प्रश्न का उत्तर दें।

दिए गए वर्षों में प्रति वर्ष एक कंपनी का व्यय (लाख ₹ में)।

वर्ष	व्यय का विषय				
	वेतन	इंधन और परिवहन	बोनस	ऋण पर ब्याज	कर
1998	288	98	3.00	23.4	83
1999	342	112	2.52	32.5	108
2000	324	101	3.84	41.6	74
2001	336	133	3.68	36.4	88
2002	420	142	3.96	49.4	98

प्रति वर्ष बोनस की औसत राशि क्या है जो कंपनी को इस अवधि के दौरान चुकानी पड़ी?

- Ans
- 1. ₹3.4 लाख
  - 2. ₹3.2 लाख
  - 3. ₹4.2 लाख
  - 4. ₹3.5 लाख

Question ID : 9895807650  
Chosen Option : --

Q.6 एक राशि साधारण ब्याज की समान दर पर 5 वर्ष बाद ₹8,000 और 8 वर्ष बाद ₹9,800 होती है। प्रति वर्ष ब्याज दर कितना है?

- Ans
- 1. 5%
  - 2. 12%
  - 3. 15%
  - 4. 8%

Question ID : 9895807641  
Chosen Option : 2

Q.6 32 वस्तुओं का क्रय मूल्य x वस्तुओं के विक्रय मूल्य के समान है। यदि लाभ 28% है, तो x का मान \_\_\_\_\_ है।

- Ans
- 1. 15
  - 2. 16
  - 3. 20
  - 4. 25

Question ID : 9895807637  
Chosen Option : 4

Q.6 एक निवेशित राशि चक्रवृद्धि ब्याज पर 3 वर्ष में ₹8,500 और 4 वर्ष में ₹9,520 होगी। तो प्रति वर्ष ब्याज दर कितना है?

- Ans
- 1. 3%
  - 2. 12%
  - 3. 8%

✗ 4. 4%

Question ID : 9895807642

Chosen Option : 1

Q.6 एक घड़ी का अंकित मूल्य ₹600 है। एक दुकानदार दो क्रमिक छूट देता है और ₹459 में घड़ी बेचता है। यदि पहली छूट 10% है, तो दूसरी छूट \_\_\_\_\_ है।

- Ans
- ✗ 1. 10%
  - ✓ 2. 15%
  - ✗ 3. 12%
  - ✗ 4. 20%

Question ID : 9895807633

Chosen Option : 2

Q.6 सरलीकृत करें :

$$14.62 - 0.5 \text{ of } (8.3 - 3.3) + 2.6 \times 4.04$$

- Ans
- ✓ 1. 22.624
  - ✗ 2. 23.624
  - ✗ 3. 24.624
  - ✗ 4. 22.642

Question ID : 9895807630

Chosen Option : 3

Q.6 दो दर्जियों X और Y को उनके नियोक्ता द्वारा प्रति सप्ताह कुल ₹660 का भुगतान किया जाता है। यदि X को Y को दी गई राशि का 120 प्रतिशत भुगतान किया जाता है, तो Y को प्रति सप्ताह (₹ में) कितना भुगतान किया जाता है?

- Ans
- ✗ 1. 200
  - ✓ 2. 300
  - ✗ 3. 250
  - ✗ 4. 350

Question ID : 9895807635

Chosen Option : 3

Q.7 100 संतरे ₹450 की दर से खरीदे गए हैं और ₹60 प्रति दर्जन की दर से बेचे गए हैं। लाभ या हानि का प्रतिशत \_\_\_\_\_ है।

- Ans
- ✗ 1. 11
  - ✓ 2.  $11\frac{1}{9}$
  - ✗ 3.  $12\frac{1}{9}$
  - ✗ 4.  $11\frac{2}{9}$

Question ID : 9895807636

Chosen Option : 2

Q.7 A और B 15 दिनों में एक कार्य कर सकते हैं, B और C उसी कार्य को 20 दिनों में कर सकते हैं। यदि A, C से दोगुना अच्छा श्रमिक है, तो वह समय ज्ञात करें, जो C अकेले कार्य करने में लेगा।

- Ans  1. 60 दिन  
 2. 27 दिन  
 3. 33 दिन  
 4. 45 दिन

Question ID : 9895807644  
 Chosen Option : 1

Q.7 सबसे बड़ी संख्या, जिससे 1861 और 2039 को विभाजित करने पर क्रमशः 7 और 5 शेषफल रह जाता है, \_\_\_\_\_ है।

- Ans  1. 24  
 2. 12  
 3. 35  
 4. 18

Question ID : 9895807628  
 Chosen Option : 2

Q.7 निम्नलिखित तालिका का अध्ययन करें और उसके आधार पर प्रश्न का उत्तर दें।  
 3

दिए गए वर्षों में प्रति वर्ष एक कंपनी का व्यय (लाख ₹ में)।

वर्ष	व्यय का विषय				
	वेतन	इंधन और परिवहन	बोनस	ऋण पर ब्याज	कर
1998	288	98	3.00	23.4	83
1999	342	112	2.52	32.5	108
2000	324	101	3.84	41.6	74
2001	336	133	3.68	36.4	88
2002	420	142	3.96	49.4	98

दी गई अवधि के दौरान कंपनी द्वारा दिए गए करों की कुल राशि, इस अवधि के दौरान दिए गए वेतन की कुल राशि का लगभग कितना प्रतिशत है?

- Ans  1. 25.37%  
 2. 27.47%  
 3. 24.47%  
 4. 26.37%

Question ID : 9895807652  
 Chosen Option : --

Q.7 9, 14 और 99 में चौथा आनुपातिक क्या है?

- Ans  1. 154  
 2. 541  
 3. 451  
 4. 145

Question ID : 9895807638

Q.7 अमित और राम के पास मिल कर ₹1,300 हैं। अमित से ₹500 लेने पर, अमित के पास वही राशि होगी, जो राम के पास पहले थी। अमित और राम के पास शुरुआत में जो राशि थी, उसका अनुपात ज्ञात कीजिए।

- Ans
- 1. 9 : 4
  - 2. 1 : 3
  - 3. 4 : 3
  - 4. 7 : 1

Question ID : 9895807640

Chosen Option : 3

## Section : English Language

Q.1 From the given options, identify the segment in the sentence which contains the grammatical error.

Hackers can either tampers with a random number generator or figure out the resultant number easily in case of online gaming.

- Ans
- 1. figure out
  - 2. in case of
  - 3. Hackers can either tampers
  - 4. with a random number

Question ID : 9895807959

Chosen Option : --

Q.2 Select the most appropriate word to fill in the blank.

When the bat pays attention to an object, the \_\_\_\_\_ of that object sharpens in its brain.

- Ans
- 1. depiction
  - 2. appearance
  - 3. portrait
  - 4. representation

Question ID : 9895807981

Chosen Option : --

Q.3 Select the antonym of the given word.

COURTEOUS

- Ans
- 1. Detached
  - 2. Impartial
  - 3. Independent
  - 4. Rude

Question ID : 9895807973

Chosen Option : --

Q.4 Select the most appropriate word to fill in the blank.

In order to cut down on errors, a keyboard that can be \_\_\_\_\_ to suit individual typing style is needed.

- Ans
- 1. adjusted
  - 2. shared
  - 3. predicted
  - 4. projected

Question ID : 9895807982  
Chosen Option : --

Q.5 Select the most appropriate option to fill in the blank.

The earth \_\_\_\_\_ round the sun and not the vice-versa.

- Ans
- 1. revolve
  - 2. revolves
  - 3. revolving
  - 4. has revolve

Question ID : 9895807963  
Chosen Option : --

Q.6 Select the correctly spelt word.

- Ans
- 1. Tution
  - 2. Tuitoin
  - 3. Tuition
  - 4. Tuiton

Question ID : 9895807980  
Chosen Option : --

Q.7 Select the most appropriate option to fill in the blank.

Disputes destroy your happiness and distract you \_\_\_\_\_ your everyday tasks at work and home.

- Ans
- 1. at
  - 2. away
  - 3. off
  - 4. from

Question ID : 9895807964  
Chosen Option : --

Comprehension:

In the following passage some words have been deleted. Fill in the blanks with the help of the alternatives given.

Violence is an expression of aggression. There can be various reasons that cause this kind of behaviour. Various (1) \_\_\_\_\_ social situations or circumstances in life affect an individual adversely. The reaction to those situations is (2) \_\_\_\_\_. Those who are short tempered or are unable to cope with the changing environment find it hard to behave (3) \_\_\_\_\_. This frustration comes out in the form of anger and violent behaviour. Though, environmental factors are responsible but only to an (4) \_\_\_\_\_. Psychologists believe that violent traits are (5) \_\_\_\_\_ in nature and are likely to surface sooner or later.

SubQuestion No : 8

Q.8 Select the most appropriate option that will fill in the blank number 1.

- Ans
- 1. lucky
  - 2. favourable
  - 3. unfavourable
  - 4. destined

Question ID : 9895807966  
Chosen Option : --

Comprehension:

In the following passage some words have been deleted. Fill in the blanks with the help of the alternatives given.

Violence is an expression of aggression. There can be various reasons that cause this kind of behaviour. Various (1) \_\_\_\_\_ social situations or circumstances in life affect an individual adversely. The reaction to those situations is (2) \_\_\_\_\_. Those who are short tempered or are unable to cope with the changing environment find it hard to behave (3) \_\_\_\_\_. This frustration comes out in the form of anger and violent behaviour. Though, environmental factors are responsible but only to an (4) \_\_\_\_\_. Psychologists believe that violent traits are (5) \_\_\_\_\_ in nature and are likely to surface sooner or later.

SubQuestion No : 9

Q.9 Select the most appropriate option that will fill in the blank number 2.

- Ans
- 1. agreeable
  - 2. pleasant
  - 3. suitable
  - 4. indecisive

Question ID : 9895807967  
Chosen Option : --

Comprehension:

In the following passage some words have been deleted. Fill in the blanks with the help of the alternatives given.

Violence is an expression of aggression. There can be various reasons that cause this kind of behaviour. Various (1) \_\_\_\_\_ social situations or circumstances in life affect an individual adversely. The reaction to those situations is (2) \_\_\_\_\_. Those who are short tempered or are unable to cope with the changing environment find it hard to behave (3) \_\_\_\_\_. This frustration comes out in the form of anger and violent behaviour. Though, environmental factors are responsible but only to an (4) \_\_\_\_\_. Psychologists believe that violent traits are (5) \_\_\_\_\_ in nature and are likely to surface sooner or later.

SubQuestion No : 10

Q.1  
0 Select the most appropriate option that will fill in the blank number 3.

- Ans
- 1. harshly
  - 2. eagerly
  - 3. rationally
  - 4. negatively

Question ID : 9895807968  
Chosen Option : --

Comprehension:



In the following passage some words have been deleted. Fill in the blanks with the help of the alternatives given.

Violence is an expression of aggression. There can be various reasons that cause this kind of behaviour. Various (1) \_\_\_\_\_ social situations or circumstances in life affect an individual adversely. The reaction to those situations is (2) \_\_\_\_\_. Those who are short tempered or are unable to cope with the changing environment find it hard to behave (3) \_\_\_\_\_. This frustration comes out in the form of anger and violent behaviour. Though, environmental factors are responsible but only to an (4) \_\_\_\_\_. Psychologists believe that violent traits are (5) \_\_\_\_\_ in nature and are likely to surface sooner or later.

SubQuestion No : 11

Q.1  
1 Select the most appropriate option that will fill in the blank number 4.

- Ans
- 1. range
  - 2. end
  - 3. extent
  - 4. intent

Question ID : 9895807969  
Chosen Option : --

Comprehension:

In the following passage some words have been deleted. Fill in the blanks with the help of the alternatives given.

Violence is an expression of aggression. There can be various reasons that cause this kind of behaviour. Various (1) \_\_\_\_\_ social situations or circumstances in life affect an individual adversely. The reaction to those situations is (2) \_\_\_\_\_. Those who are short tempered or are unable to cope with the changing environment find it hard to behave (3) \_\_\_\_\_. This frustration comes out in the form of anger and violent behaviour. Though, environmental factors are responsible but only to an (4) \_\_\_\_\_. Psychologists believe that violent traits are (5) \_\_\_\_\_ in nature and are likely to surface sooner or later.

SubQuestion No : 12

Q.1  
2 Select the most appropriate option that will fill in the blank number 5.

- Ans
- 1. common
  - 2. inherent
  - 3. general
  - 4. extrinsic

Question ID : 9895807970  
Chosen Option : --

Q.1  
3 Select the synonym of the given word.

ADORN

- Ans
- 1. Create
  - 2. Produce
  - 3. Generate
  - 4. Decorate

Question ID : 9895807972  
Chosen Option : --

Q.1  
4 Select the most appropriate option to substitute the underlined segment in the given sentence. If there is no need to substitute it, select No improvement.

The family had been without food for four days.

- Ans
- 1. family is being
  - 2. family are been
  - 3. family is been

4. No improvement

Question ID : 9895807962  
Chosen Option : --

Q.1  
5 Select the option that means the same as the given idiom.

To kill two birds with one stone

- Ans
- 1. To shoo away birds
  - 2. To shout at two individuals at a time
  - 3. To achieve two aims simultaneously
  - 4. To do many jobs at different places

Question ID : 9895807975  
Chosen Option : --

Q.1  
6 Select the word which means the same as the group of words given.

An introduction made by the dramatist at the beginning of the play

- Ans
- 1. Prologue
  - 2. Monologue
  - 3. Dialogue
  - 4. Epilogue

Question ID : 9895807977  
Chosen Option : --

Q.1  
7 From the given options, identify the segment in the sentence which contains the grammatical error.

The constitutional order on which the Indian State run is that there shall be no discrimination on the basis of religion.

- Ans
- 1. order on which
  - 2. Indian State run
  - 3. there shall be
  - 4. on the basis of

Question ID : 9895807958  
Chosen Option : --

Q.1  
8 Select the correctly spelt word.

- Ans
- 1. Emergency
  - 2. Emergancy
  - 3. Emeregency
  - 4. Emargency

Question ID : 9895807979  
Chosen Option : --

Q.1  
9

Select the most appropriate option to substitute the underlined segment in the given sentence. If there is no need to substitute it, select No improvement.

In case of actual requirement, there is a dearth of woman army officer in our state.

- Ans
- 1. women army officers
  - 2. No improvement
  - 3. women army officer
  - 4. woman army officers

Question ID : 9895807961  
Chosen Option : --

Q.2 Select the most appropriate option to substitute the underlined segment in the given sentence. If there is no need to substitute it, select No improvement.

Permit me to speak the truth and I have say it without any fear.

- Ans
- 1. I will say it without any fear
  - 2. I shall said it without any fear
  - 3. I had say it without any fear
  - 4. No improvement

Question ID : 9895807960  
Chosen Option : --

Q.2 Select the antonym of the given word.

FUTILE

- Ans
- 1. Fruitful
  - 2. Common
  - 3. Mutual
  - 4. Collective

Question ID : 9895807974  
Chosen Option : --

Q.2 Select the synonym of the given word.

BRITTLE

- Ans
- 1. Delicate
  - 2. Coarse
  - 3. Enduring
  - 4. Durable

Question ID : 9895807971  
Chosen Option : --

Q.2 Select the word which means the same as the group of words given.

A poem of serious reflection, typically a lament for the dead.

- Ans
- 1. Ballad
  - 2. Hymn
  - 3. Elegy
  - 4. Sonnet

Question ID : 9895807978  
Chosen Option : --

Q.2  
4 Select the option that means the same as the given idiom.

To bell the cat

- Ans
- 1. To catch a cat and bell it first
  - 2. To take a lead in difficult situations
  - 3. To tie a bell for a cat at home
  - 4. To be alert to danger anywhere

Question ID : 9895807976  
Chosen Option : --

Q.2  
5 From the given options, identify the segment in the sentence which contains the grammatical error.

Animals experience feelings of love and they also protect their young ones from difficulties as human does.

- Ans
- 1. they also protect
  - 2. as human does
  - 3. feelings of love
  - 4. Animals experience

Question ID : 9895807957  
Chosen Option : --

Section : Hindi Language

Q.1 दिए गए शब्द के पर्यायवाची शब्द का चयन करें।

अंधकार

- Ans
- 1. तिमिर
  - 2. नीरस
  - 3. गहरा
  - 4. निवेदन

Question ID : 9895806754  
Chosen Option : 1

Q.2 दिए गए शब्द का विलोम चुनें।

विराम

- Ans
- 1. शांत

- 2. गति
- 3. शून्य
- 4. अशून्य

Question ID : 9895806751  
Chosen Option : 2

Q.3 निम्नलिखित में से उस विकल्प का चयन करें जो 'श्री गणेश करना' मुहावरे का अर्थ व्यक्त करता है।

- Ans
- 1. कार्य आरंभ करना
  - 2. श्री गणेश का पूजन करना
  - 3. पालन करना
  - 4. कार्य सम्पन्न होना

Question ID : 9895806755  
Chosen Option : 1

Q.4 दिए गए वाक्य में रेखांकित खंड को प्रतिस्थापित करने के लिए उपयुक्त विकल्प का चयन करें।

दोनों में से किसी की उपेक्षा नहीं की जा सकती।

- Ans
- 1. निरादर
  - 2. इच्छा
  - 3. अवहेलना
  - 4. तिरस्कार

Question ID : 9895806738  
Chosen Option : 4

Comprehension:

निम्नलिखित गद्यांश के रिक्त स्थानों की पूर्ति गद्यांश के नीचे दिए गए प्रश्नों के अनुसार कीजिए-

बैसाखी उत्तर भारत का प्रमुख \_\_\_\_\_ (1) है। यह त्योहार पंजाब, हरियाणा, हिमाचल और दिल्ली में विशेष रूप से \_\_\_\_\_ (2) जाता है। इस दिन को रबी की फसल तैयार होने की \_\_\_\_\_ (3) में मनाया जाता है। इसलिए इसे कृषि पर्व भी कहा जाता है। इस दिन जगह-जगह \_\_\_\_\_ (4) लगते हैं। इस दिन खालसा पंथ की स्थापना की खुशी में पंच प्यारों को याद करते हुए \_\_\_\_\_ (5) निकाले जाते हैं।

SubQuestion No : 5

Q.5 गद्यांश में संकेतित रिक्त स्थान (1) के लिए उपयुक्त शब्द होगा।

- Ans
- 1. आनंद
  - 2. त्योहार

✗ 3. बाज़ार

✗ 4. हथियार

Question ID : 9895806746  
Chosen Option : 2

Comprehension:

निम्नलिखित गद्यांश के रिक्त स्थानों की पूर्ति गद्यांश के नीचे दिए गए प्रश्नों के अनुसार कीजिए-

बैसाखी उत्तर भारत का प्रमुख \_\_\_\_\_ (1) है। यह त्योहार पंजाब, हरियाणा, हिमाचल और दिल्ली में विशेष रूप से \_\_\_\_\_ (2) जाता है। इस दिन को रबी की फसल तैयार होने की \_\_\_\_\_ (3) में मनाया जाता है। इसलिए इसे कृषि पर्व भी कहा जाता है। इस दिन जगह-जगह \_\_\_\_\_ (4) लगते हैं। इस दिन खालसा पंथ की स्थापना की खुशी में पंच प्यारों को याद करते हुए \_\_\_\_\_ (5) निकाले जाते हैं।

SubQuestion No : 6

Q.6 गद्यांश में संकेतित रिक्त स्थान (2) के लिए उपयुक्त शब्द होगा।

- Ans
- ✗ 1. लगाया
  - ✓ 2. मनाया
  - ✗ 3. बनाया
  - ✗ 4. कराया

Question ID : 9895806747  
Chosen Option : 2

Comprehension:

निम्नलिखित गद्यांश के रिक्त स्थानों की पूर्ति गद्यांश के नीचे दिए गए प्रश्नों के अनुसार कीजिए-

बैसाखी उत्तर भारत का प्रमुख \_\_\_\_\_ (1) है। यह त्योहार पंजाब, हरियाणा, हिमाचल और दिल्ली में विशेष रूप से \_\_\_\_\_ (2) जाता है। इस दिन को रबी की फसल तैयार होने की \_\_\_\_\_ (3) में मनाया जाता है। इसलिए इसे कृषि पर्व भी कहा जाता है। इस दिन जगह-जगह \_\_\_\_\_ (4) लगते हैं। इस दिन खालसा पंथ की स्थापना की खुशी में पंच प्यारों को याद करते हुए \_\_\_\_\_ (5) निकाले जाते हैं।

SubQuestion No : 7

Q.7 गद्यांश में संकेतित रिक्त स्थान (3) के लिए उपयुक्त शब्द होगा।

Ans

- 1. खुशी
- 2. शौक
- 3. गम
- 4. हँसी

Question ID : 9895806748  
Chosen Option : 1

Comprehension:

निम्नलिखित गद्यांश के रिक्त स्थानों की पूर्ति गद्यांश के नीचे दिए गए प्रश्नों के अनुसार कीजिए-

बैसाखी उत्तर भारत का प्रमुख \_\_\_\_\_ (1) है। यह त्योहार पंजाब, हरियाणा, हिमाचल और दिल्ली में विशेष रूप से \_\_\_\_\_ (2) जाता है। इस दिन को रबी की फसल तैयार होने की \_\_\_\_\_ (3) में मनाया जाता है। इसलिए इसे कृषि पर्व भी कहा जाता है। इस दिन जगह-जगह \_\_\_\_\_ (4) लगते हैं। इस दिन खालसा पंथ की स्थापना की खुशी में पंच प्यारों को याद करते हुए \_\_\_\_\_ (5) निकाले जाते हैं।

SubQuestion No : 8

Q.8 गद्यांश में संकेतित रिक्त स्थान (4) के लिए उपयुक्त शब्द होगा।

- Ans
- 1. रैली
  - 2. सम्मेलन
  - 3. मेले
  - 4. जमघट

Question ID : 9895806749  
Chosen Option : 3

Comprehension:

निम्नलिखित गद्यांश के रिक्त स्थानों की पूर्ति गद्यांश के नीचे दिए गए प्रश्नों के अनुसार कीजिए-

बैसाखी उत्तर भारत का प्रमुख \_\_\_\_\_ (1) है। यह त्योहार पंजाब, हरियाणा, हिमाचल और दिल्ली में विशेष रूप से \_\_\_\_\_ (2) जाता है। इस दिन को रबी की फसल तैयार होने की \_\_\_\_\_ (3) में मनाया जाता है। इसलिए इसे कृषि पर्व भी कहा जाता है। इस दिन जगह-जगह \_\_\_\_\_ (4) लगते हैं। इस दिन खालसा पंथ की स्थापना की खुशी में पंच प्यारों को याद करते हुए \_\_\_\_\_ (5) निकाले जाते हैं।

SubQuestion No : 9

Q.9



गद्यांश में संकेतित रिक्त स्थान (5) के लिए  
उपयुक्त शब्द होगा।

- Ans
- 1. लीला
  - 2. विज्ञापन
  - 3. जुलूस
  - 4. प्रदर्शन

Question ID : 9895806750  
Chosen Option : 3

Q.1  
0 दिए गए वाक्य का वह भाग ज्ञात करें जिसमें कोई त्रुटि है।

भारत जैसा सहिष्णुता और उदारता से ही विश्वशांति संभव है।

- Ans
- 1. भारत जैसा
  - 2. संभव है।
  - 3. सहिष्णुता और उदारता
  - 4. से ही विश्वशांति

Question ID : 9895806736  
Chosen Option : 4

Q.1  
1 दिए गए वाक्य का वह भाग ज्ञात करें जिसमें कोई त्रुटि है।

भारत ने अन्य राष्ट्रों को नैतिक मूल्यों का पालन करने का प्रेरणा दी है।

- Ans
- 1. अन्य राष्ट्रों को
  - 2. भारत ने
  - 3. नैतिक मूल्यों का पालन
  - 4. करने का प्रेरणा दी है।

Question ID : 9895806737  
Chosen Option : 4

Q.1  
2 दिये गये वाक्यांश के लिए एक शब्द दीजिये।

जो करने योग्य न हो

- Ans
- 1. अकरणीय
  - 2. शोभनीय
  - 3. दर्शनीय
  - 4. रमणीय

Question ID : 9895806757

Q.1  
3 दिए गए वाक्य का वह भाग ज्ञात करें जिसमें कोई त्रुटि है।

विज्ञान की प्रगति से मनुष्य की समस्याओं में कमी आया है।

- Ans
- 1. विज्ञान की
  - 2. मनुष्य की समस्याओं में
  - 3. प्रगति से
  - 4. कमी आया है।

Question ID : 9895806735

Chosen Option : 2

Q.1  
4 सही वर्तनी वाले शब्द का चयन करें।

- Ans
- 1. स्वादिश्ट
  - 2. स्वादिष्ठ
  - 3. स्वद्विस्ट
  - 4. स्वदिस्ट

Question ID : 9895806760

Chosen Option : 2

Q.1  
5 सही वर्तनी वाले शब्द का चयन करें।

- Ans
- 1. इतयादि
  - 2. ईत्यादी
  - 3. इत्यादि
  - 4. इत्यादी

Question ID : 9895806759

Chosen Option : 4

Q.1  
6 दिये गये वाक्यांश के लिए एक शब्द दीजिये।

ऊपर लिखी हुई

- Ans
- 1. उल्लिखित
  - 2. अलिखित
  - 3. निम्नलिखित
  - 4. अधोलिखित

Question ID : 9895806758

Chosen Option : 1

Q.1  
7 दिए गए वाक्य में रेखांकित खंड को प्रतिस्थापित करने के लिए उपयुक्त विकल्प का चयन करें।

सार में परिष्कृत रचना के गुणों का होना आवश्यक है।

- Ans
- 1. संक्षेपण
  - 2. पल्लवन
  - 3. टिप्पण
  - 4. प्रतिवेदन

Question ID : 9895806739  
Chosen Option : 2

Q.1  
8 रिक्त स्थान को भरने के लिए उपयुक्त शब्द का चयन करें।

तालाब में उगा \_\_\_\_\_ बहुत सुंदर लगता है।

- Ans
- 1. घास
  - 2. कमल
  - 3. सूरज
  - 4. चन्द्रमा

Question ID : 9895806742  
Chosen Option : 2

Q.1  
9 रिक्त स्थान को भरने के लिए उपयुक्त शब्द का चयन करें।

मिठाइयों पर \_\_\_\_\_ बैठी हैं।

- Ans
- 1. चूहे
  - 2. गिरगिट
  - 3. तितलियाँ
  - 4. मक्खियाँ

Question ID : 9895806743  
Chosen Option : 4

Q.2  
0 रिक्त स्थान को भरने के लिए उपयुक्त शब्द का चयन करें।

मुझे खेद है \_\_\_\_\_ मैं देर से पहुँचा।

- Ans
- 1. किंतु
  - 2. यदि
  - 3. कि
  - 4. परंतु

Question ID : 9895806741  
Chosen Option : 1

Q.2  
1 दिए गए शब्द का विलोम चुनें।

सुकर

- Ans
- 1. पुष्कर
  - 2. निराकार
  - 3. दुष्कर
  - 4. दुकर

Question ID : 9895806752  
Chosen Option : 3

Q.2  
2 रिक्त स्थान को भरने के लिए उपयुक्त शब्द का चयन करें।

दीपक \_\_\_\_\_ परिश्रमी है।

- Ans
- 1. सबका
  - 2. सब पर
  - 3. सब द्वारा
  - 4. सबसे

Question ID : 9895806744  
Chosen Option : 4

Q.2  
3 दिए गए वाक्य में रेखांकित खंड को प्रतिस्थापित करने के लिए उपयुक्त विकल्प का चयन करें।

यह सिद्धांत हमारी विरासत का एक अंश है।

- Ans
- 1. कुल
  - 2. भाग
  - 3. परिवार
  - 4. मौका

Question ID : 9895806740  
Chosen Option : 2

Q.2  
4 दिए गए शब्द के पर्यायवाची शब्द का चयन करें।

सूर्य

- Ans
- 1. अभिन्न
  - 2. प्रार्थना
  - 3. दिवाकर
  - 4. सेवक

Question ID : 9895806753  
Chosen Option : 3

Q.2  
5 निम्नलिखित में से उस विकल्प का चयन करें जो 'टेढ़ी खीर होना' मुहावरे का अर्थ व्यक्त करता है।

Ans

- 1. असंभव कार्य
- 2. टेढ़े होकर खीर खाना
- 3. खीर खराब होना
- 4. कार्य का बहुत कठिन होना

Question ID : 9895806756  
Chosen Option : 4

GovtJobsAlert.In