

Constable (GD) in CAPFs, NIA, SSF and Rifleman (GD) in Assam Rifles Examination, 2018

Roll No. :	
Registration No.	GovtJobsAlert.In
Name :	GovtJobsAlert.In
Exam Venue :	iON Digital Zone iDZ Gram Raigawan Near Patan Bypass
Exam Time :	4:00 PM - 5:30 PM
Exam Date :	02/03/2019

Section : General Section

Q.1 किसी निश्चित कूट में 'READY' को '\$#2*©' के रूप में लिखते हैं और 'ENJOY' को '#64@%' के रूप में लिखते हैं। उसी कूट में 'NEAR' को कैसे लिखा जाएगा?

- Ans
- 1. #2@#
 - 2. 6#2\$
 - 3. 6\$2#
 - 4. #62\$

Question ID : 9895808270
Chosen Option : 2

Q.2 सौरभ लम्बा है संदीप से और अमित लम्बा है सौरभ से सुभाष लम्बा है अमित से सत्तू सभी से लम्बा है। यदि वे अपनी लम्बाई के अनुसार खड़े होते हैं, तो ठीक मध्य में कौन होगा?

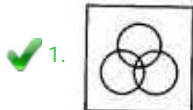
- Ans
- 1. सुभाष
 - 2. संदीप
 - 3. अमित
 - 4. सौरभ

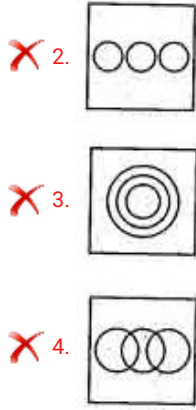
Question ID : 9895808274
Chosen Option : 3

Q.3 वेन आरेख का चयन करें जो दिए गए तीन वर्गों के बीच के संबंध को सर्वोत्तम दर्शाता है।

इंजीनियर, पुरुष, विवाहित

Ans





Question ID : 9895808288
Chosen Option : 1

Q.4 उस विकल्प का चयन करें जो चौथे पद से उसी तरह संबंधित है जिस प्रकार पहला पद दूसरे पद से संबंधित है।

4 : 52 :: ? : 1560



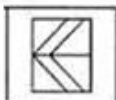
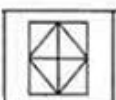
- Ans 1. 122
2. 120
3. 128
4. 118

Question ID : 9895808279
Chosen Option : 2

Q.5 उस विकल्प आकृति का चयन करें, जिसमें दी गई आकृति छिपी हुई / अंतर्निहित है।

प्रश्न आकृति:



- Ans 1. 
2. 
3. 
4. 

Question ID : 9895808285
Chosen Option : 1

Q.6 चार अक्षर दिए गए हैं, जिनमें से तीन किसी तरह से समान हैं, जबकि एक अक्षर अलग है। असंगत अक्षर का चयन करें।

- Ans 1. I
 2. Y
 3. Q
 4. J

Question ID : 9895808265
Chosen Option : 4

Q.7 Four words have been given out of which three are alike in some manner, while one is different. Choose the odd one.

- Ans 1. Goat
 2. Pup
 3. Kitten
 4. Cub

Question ID : 9895808266
Chosen Option : 1

Q.8 A, B, C, D, E, F, G और H केंद्र की ओर मुख किये हुए एक गोल मेज के चारों ओर बैठे हैं। D, H के दाएँ से चौथे स्थान पर तथा B के बाएँ से दूसरे स्थान पर हैं। F, B के दाएँ से चौथे स्थान पर है। C, E के दाएँ से चौथे स्थान पर है जो कि B या D के बिलकुल दाएँ नहीं है। A, D का बिलकुल पड़ोसी नहीं है।

G के दाएँ ओर से गिने जाने पर B का स्थान G के सम्बन्ध में क्या है?

- Ans 1. दाएँ से पाचवाँ
 2. दाएँ से तीसरा
 3. दाएँ से दूसरा
 4. दाएँ से चौथा

Question ID : 9895808273
Chosen Option : 2

Q.9 नीचे दिए गए कथनों के बाद दो निष्कर्ष I और II दिए गए हैं। यह मानते हुए कि कथनों में दी गई जानकारी सत्य है, भले ही वह सर्वज्ञात तथ्यों से भिन्न प्रतीत होती हो और यह निर्णय करें कि कौन सा/से निष्कर्ष तार्किक और निश्चित रूप से कथन में दी गई जानकारी का अनुसरण करता है/करते हैं।

कथन:

कुछ लौकी, गोभी हैं।
सभी शिमला मिर्च, गोभी हैं।
कुछ गोभी, खीरा हैं।

निष्कर्ष:

- I. कुछ लौकी, शिमला मिर्च हैं।
II. कुछ खीरा, गोभी हैं।

- Ans 1. केवल निष्कर्ष II अनुसरण करता है।

✗ 2. न तो निष्कर्ष । और न ही ॥ अनुसरण करता है।

✗ 3. या तो निष्कर्ष । या ॥ अनुसरण करता है।

✗ 4. केवल निष्कर्ष । अनुसरण करता है।

Question ID : 9895808275
Chosen Option : 1

Q.1
0 यदि A को 1 के रूप में कूट बढ़ किया जाता है, CAT को 24 के रूप में कूट बढ़ किया जाता है, तो MAINS को किस रूप में कूट बढ़ किया जाएगा?

- Ans
- ✓ 1. 56
 - ✗ 2. 57
 - ✗ 3. 52
 - ✗ 4. 50

Question ID : 9895808271
Chosen Option : 1

Q.1
1 उस विकल्प का चयन करें जो चौथे पद से उसी तरह संबंधित है जिस प्रकार पहला पद दूसरे पद से संबंधित है।

मित्र : शत्रु :: ? : नफरत

- Ans
- ✗ 1. दया
 - ✗ 2. सहानुभूति
 - ✗ 3. क्रोध
 - ✓ 4. प्यार

Question ID : 9895808268
Chosen Option : 4

Q.1
2 दिए गए विकल्पों में से लुप्त संख्या ज्ञात करें।



- Ans
- ✗ 1. 8
 - ✗ 2. 7
 - ✗ 3. 3
 - ✓ 4. 9

Question ID : 9895808281
Chosen Option : 4

Q.1
3 यदि K का अर्थ \times है, H का अर्थ $+$ है, M का अर्थ $+$ है और N का $-$ अर्थ है, तो निम्न का मान क्या होगा?

13 K 7 H 22.75 M 27 N 13

- Ans
- 1. 17
 - 2. 19
 - 3. 22
 - 4. 18

Question ID : 9895808282
Chosen Option : 4

Q.1 4 उस विकल्प का चयन करें जो तीसरे पद से उसी तरह संबंधित है जिस प्रकार दूसरा पद पहले पद से संबंधित है।

QPRS : TUWV :: JIKL : ?

- Ans
- 1. NMOF
 - 2. MNPO
 - 3. NMPO
 - 4. MNOP

Question ID : 9895808269
Chosen Option : 2

Q.1 5 नीचे दिए गए कथनों के बाद तीन निष्कर्ष I, II और III दिए गए हैं। यह मानते हुए कि कथनों में दी गई जानकारी सत्य है, भले ही वह सर्वज्ञात तथ्यों से भिन्न प्रतीत होती हो और यह निर्णय करें कि कौन सा/से निष्कर्ष तार्किक और निश्चित रूप से कथन में दी गई जानकारी का अनुसरण करता है/करते हैं।

कथन:

- I. सभी गौरैया, तोते हैं।
- II. सभी तोते, पक्षी हैं।

निष्कर्ष:

- I. कोई भी गौरैया, पक्षी नहीं है।
- II. कोई भी पक्षी, गौरैया नहीं है।
- III. कुछ पक्षियाँ गौरैया हैं।

- Ans
- 1. केवल निष्कर्ष II अनुसरण करता है।
 - 2. केवल निष्कर्ष I अनुसरण करता है।
 - 3. सभी निष्कर्ष अनुसरण करते हैं।
 - 4. केवल निष्कर्ष III अनुसरण करता है।

Question ID : 9895808276
Chosen Option : 4

Q.1 6 उस विकल्प का चयन करें जो सही रूप में रिक्त स्थान की पूर्ति करते हुए श्रृंखला को पूरा करे।

AP, DQ, HR, MS, ST, ZU, _____

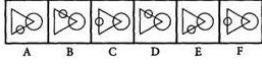
- Ans
- 1. GV

2. FS
 3. HW
 4. HV

Question ID : 9895808264
Chosen Option : 4

Q.1 निम्नलिखित आकृतियों में से उन दो आकृतियों को जात कीजिए, जो अपनी स्थिति पर नहीं हो एवं उनकी स्थिति को आपस में बदलने की आवश्यकता हो।

प्रश्न आकृति



- Ans 1. D,F
 2. B,F
 3. C,D
 4. D,E

Question ID : 9895808283
Chosen Option : 4

Q.1 चार विकल्प दिए गए हैं, जिनमें से तीन किसी तरह से समान हैं, जबकि एक अलग है। असंगत का चयन करें।

- Ans 1. (27, 57)
 2. (28, 63)
 3. (15, 45)
 4. (14, 44)

Question ID : 9895808280
Chosen Option : 2

Q.1 उस विकल्प का चयन करें जो तीसरे पद से उसी तरह संबंधित है जिस प्रकार दूसरा पद पहले पद से संबंधित है।

पानी : महासागर :: वायु : ?

- Ans 1. पृथ्वी
 2. वातावरण
 3. निर्वात
 4. समुद्र

Question ID : 9895808267
Chosen Option : 2

Q.2
0

कागज का एक टुकड़ा नीचे दर्शाया गया है। दी गई उत्तर आकृतियों में से यह इंगित करें कि मोड़े जाने पर यह कैसा दिखाई देगा?

प्रश्न आकृति:



Ans

✓ 1.



✗ 2.



✗ 3.



✗ 4.




Question ID : 9895808287

Chosen Option : 1


Q.2
1 निम्नलिखित में से कौन सी उत्तर आकृति दी गई आकृति को पूरा करेगी?

प्रश्न आकृति:



Ans

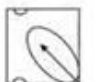
✗ 1.



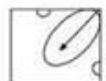
✗ 2.



✗ 3.



✓ 4.



Question ID : 9895808284

Chosen Option : 4

Q.2
2

P, M, D, A, F, H, R और B एक वृत्त के चारों ओर केन्द्र की ओर मुख किये बैठे हैं। R, A के दाएँ से चौथे स्थान पर है, जो P के दाएँ से तीसरे स्थान पर है। M, H के बाएँ से दूसरे स्थान पर है, जो P के बाएँ से दूसरे स्थान पर है। D, B के दाएँ से तीसरे स्थान पर है।

H के बाएँ से तीसरे स्थान पर कौन है?

- Ans
- ✓ 1. A
 - ✗ 2. M
 - ✗ 3. B
 - ✗ 4. F

Question ID : 9895808272
Chosen Option : 2

Q.2
3 उस विकल्प का चयन करें जो दर्पण के दाएँ ओर रखे जाने पर दी गई आकृति की दर्पण छवि से सर्वाधिक मेल खाता है।

प्रश्न आकृति:



- Ans
- ✓ 1.
 - ✗ 2.
 - ✗ 3.
 - ✗ 4.

Question ID : 9895808286
Chosen Option : 1

Q.2
4 उस विकल्प का चयन करें जो सही रूप में रिक्त स्थान की पूर्ति करते हुए श्रृंखला को पूरा करें।

8, 9, 13, 22, 38, _____

- Ans
- ✗ 1. 71
 - ✗ 2. 50
 - ✓ 3. 63
 - ✗ 4. 55

Question ID : 9895808277
Chosen Option : 3

Q.2
5

उस विकल्प का चयन करें जो सही रूप में रिक्त स्थान की पूर्ति करते हुए श्रृंखला को पूरा करें।

1330, 728, 342, 124, _____

- Ans
- 1. 35
 - 2. 24
 - 3. 26
 - 4. 48

Question ID : 9895808278
Chosen Option : 3

Q.2
6 स्टॉकहोम वाटर पुरस्कार जीतने वाले किस भारतीय को भारत का वाटरमैन कहा जाता है?

- Ans
- 1. डॉ. वर्गीज कुरियन
 - 2. रजनीकांत अरोले
 - 3. वेदरत्नम् अप्पाकुट्टी
 - 4. डॉ. राजेंद्र सिंह

Question ID : 9895807333
Chosen Option : 3

Q.2
7 निम्नलिखित में से कौन सा खिलाड़ी सबसे अधिक वर्षों तक विश्व का नंबर एक टेनिस खिलाड़ी था?

- Ans
- 1. पीट सम्प्रास
 - 2. रोजर फेडरर
 - 3. इवान लेंडल
 - 4. जिमी कनेक्टर्स

Question ID : 9895807332
Chosen Option : 2

Q.2
8 बजट घाटा कब होता है?

- Ans
- 1. सरकार के उपलब्ध राजस्व से कम खर्च पर
 - 2. सरकार के उपलब्ध राजस्व के निर्धारित न्यूनतम के खर्च पर
 - 3. सरकार के उपलब्ध राजस्व के बराबर खर्च पर
 - 4. सरकार के उपलब्ध राजस्व से अधिक खर्च पर

Question ID : 9895807337
Chosen Option : 4

Q.2
9 नट (तनी रस्सी) पर चलने वाला व्यक्ति भौतिकी के किस नियम का पालन करता है?

- Ans
- 1. स्टीफन का नियम
 - 2. न्यूटन के गति के नियम
 - 3. हुक का नियम
 - 4. कूलम्ब का नियम

Question ID : 9895807342
Chosen Option : 2

Q.3
0 2016 में पहला एआईबीए (AIBA) लीजेंड्स अवार्ड किस भारतीय खिलाड़ी को मिला?

- Ans
- 1. सानिया मिर्जा
 - 2. सचिन तेंडुलकर
 - 3. एम.सी. मैरीकॉम
 - 4. पी.वी. सिंधु

Question ID : 9895807335
Chosen Option : 1

Q.3
1 भारत के किस वर्तमान राज्य में आदि शंकराचार्य का जन्म हुआ था?

- Ans
- 1. तमिलनाडु
 - 2. केरल
 - 3. कर्नाटक
 - 4. महाराष्ट्र

Question ID : 9895807350
Chosen Option : 1

Q.3
2 'नवलखा पैलेस' भारत के किस राज्य में स्थित एक धरोहर स्थल है?

- Ans
- 1. मध्य प्रदेश
 - 2. बिहार
 - 3. उत्तर प्रदेश
 - 4. पश्चिम बंगाल

Question ID : 9895807330
Chosen Option : 3

Q.3
3 पश्चिम बंगाल में गरिया का युद्ध कब लड़ा गया था?

- Ans
- 1. 1754
 - 2. 1740

3. 1711

4. 1723

Question ID : 9895807351
Chosen Option : 3

Q.3
4 What do you call a breeze blowing towards the sea from the land, especially at night?

Ans 1. Water breeze

2. Land breeze

3. Sea breeze

4. Tidal breeze

Question ID : 9895807345
Chosen Option : 2

Q.3
5 भारत में दहेज निषेध अधिनियम कब पारित किया गया था?

Ans 1. 1961

2. 1966

3. 1945

4. 1950

Question ID : 9895807340
Chosen Option : 2

Q.3
6 भारत का राष्ट्रीय प्रतीक कब अपनाया गया था?

Ans 1. 15 अगस्त 1947 को

2. 26 जनवरी, 1947 को

3. 26 जनवरी, 1950 को

4. 26 अगस्त, 1950 को

Question ID : 9895807341
Chosen Option : 3

Q.3
7 पुस्तक 'लाइफ डिवाइन' के लेखक कौन हैं?

Ans 1. श्री अरबिंदो

2. राम मोहन राय

3. विवेकानंद

4. ईश्वरचंद्र विद्या सागर

Question ID : 9895807334
Chosen Option : 1

Q.3
8 सुभाष चंद्र बोस ने किस वर्ष स्वतंत्र भारत की अनंतिम सरकार के गठन की घोषणा की थी?

- Ans
- 1. 1941
 - 2. 1943
 - 3. 1942
 - 4. 1945

Question ID : 9895807352
Chosen Option : 2

Q.3
9 अमेरिका और यूरोपीय संघ ने गन्ना और दलहन के एमएसपी की शिकायत किस संगठन से की?

- Ans
- 1. अंतर्राष्ट्रीय मुद्रा कोष
 - 2. संयुक्त राष्ट्र
 - 3. विश्व व्यापार संगठन
 - 4. विश्व बैंक

Question ID : 9895807338
Chosen Option : 3

Q.4
0 _____ resources are those whose quantity is known.

- Ans
- 1. Non renewable
 - 2. Potential
 - 3. Original
 - 4. Actual

Question ID : 9895807347
Chosen Option : 1

Q.4
1 सरकार का संघीय रूप किस देश के संविधान के आधार पर अपनाया गया था?

- Ans
- 1. रूस
 - 2. आयरलैंड
 - 3. संयुक्त राज्य अमरीका
 - 4. यूनाइटेड किंगडम

Question ID : 9895807339
Chosen Option : 4

Q.4
2 किस रासायनिक यौगिक के कारण मिर्च का स्वाद तीखा / मसालेदार होता है?

- Ans
- 1. सेरियम सल्फेट
 - 2. सेरियम हाइड्रॉक्साइड

✓ 3. कैप्सेइसिन

✗ 4. एलीसिन

Question ID : 9895807343
Chosen Option : 3

Q.4 1987 में विश्व जूनियर शतरंज चैंपियनशिप जीतने वाले पहले भारतीय और पहले एशियाई भी कौन थे?

Ans ✗ 1. निहाल सरीन

✓ 2. विश्वनाथन आनंद

✗ 3. एम.एस. तेजकुमार

✗ 4. आर्यन चोपड़ा

Question ID : 9895807331
Chosen Option : 2

Q.4 _____ अंततोगत्वा देश की विकास दर को तय करता है।

Ans ✗ 1. जनसंख्या की साक्षरता

✓ 2. जनसंख्या की गुणवत्ता

✗ 3. जनसंख्या की मात्रा

✗ 4. जनसंख्या की जीवन प्रत्याशा

Question ID : 9895807336
Chosen Option : 4

Q.4 33वें सूरज कुंड मेला 2019 के लिए थीम राज्य _____ है।

Ans ✗ 1. बिहार

✗ 2. गुजरात

✗ 3. केरल

✓ 4. महाराष्ट्र

Question ID : 9895807328
Chosen Option : 4

Q.4 घनी वनस्पति, भारी वर्षा और त्वरित पुनरुद्भवन वाले क्षेत्रों में किस प्रकार की खेती की जाती है?

Ans ✗ 1. बागबानी

✗ 2. भ्रमणशील

✗ 3. निर्वाह

✓ 4. स्थानान्तरी

Question ID : 9895807348
Chosen Option : 4

Q.4
7 राष्ट्रीय ग्रामीण स्वास्थ्य मिशन कब शुरू किया गया?

- Ans
- 1. 2010
 - 2. 2002
 - 3. 2007
 - 4. 2005

Question ID : 9895807346
Chosen Option : 3

Q.4
8 2018 में किस संगीत उस्ताद को पद्म विभूषण से सम्मानित किया गया?

- Ans
- 1. ए. आर. रहमान
 - 2. हरिप्रसाद चौरसिया
 - 3. शिवकुमार शर्मा
 - 4. इलैयाराजा

Question ID : 9895807329
Chosen Option : 2

Q.4
9 दिए गए विकल्पों में से वृक्षीय (आर्बोरियल) जानवर की पहचान करें।

- Ans
- 1. जलहस्ती
 - 2. बंदर
 - 3. जिराफ़
 - 4. गैंडा (राइनो)

Question ID : 9895807344
Chosen Option : 2

Q.5
0 निम्नलिखित में से किस देश में 2017 की स्थिति अनुसार सबसे अधिक आयु वाले लोग हैं?

- Ans
- 1. जर्मनी
 - 2. इटली
 - 3. जापान
 - 4. पुर्तगाल

Question ID : 9895807349
Chosen Option : 3

Q.5
1

एक त्रिभुज की भुजाएँ 5 cm, 12 cm और 13 cm हैं। एक आयत बनाया गया है, जिसका क्षेत्रफल त्रिभुज के क्षेत्रफल के बराबर है और चौड़ाई 5 cm है। फिर आयत का परिमाण है:

- Ans
- 1. 11 cm
 - 2. 30 cm
 - 3. 22 cm
 - 4. 33 cm

Question ID : 9895807673
Chosen Option : 3

Q.5 दो संख्याओं का अनुपात 3 : 5 है। यदि प्रत्येक संख्या में 10 की कमी होती है, तो अनुपात 5 : 9 हो जाता है।
2 संख्याएं ज्ञात करें।

- Ans
- 1. 30, 50
 - 2. 60, 100
 - 3. 21, 35
 - 4. 90, 150

Question ID : 9895807664
Chosen Option : 2

Q.5 100 वस्तुओं का माध्य 30 पाया गया। यदि गणना के समय, दो वस्तुओं को 23 और 11 के बजाय 32 और 12 के रूप में गलत तरीके से लिया गया, तो सही माध्य है:

- Ans
- 1. 30.5
 - 2. 29.9
 - 3. 29
 - 4. 32

Question ID : 9895807659
Chosen Option : 2

Q.5 सरलीकृत करें:

$$87 - 6 \text{ of } (28 - 13) + 4 \times 9$$

- Ans
- 1. 30
 - 2. 43
 - 3. 23
 - 4. 33

Question ID : 9895807654
Chosen Option : 4

Q.5 एक पेड़ से 4.2 km की दूरी पर एक बंदूक से फायर किया जाता है। यदि ध्वनि 13s के बाद सुनाई देती है, तो ध्वनि की गति है:

- Ans
- 1. 320 m/s
 - 2. 323.07 m/s

3. 321.1 m/s
 4. 322.07 m/s

Question ID : 9895807671
Chosen Option : 2

Q.5 सैम ने अपने मित्र से 6% प्रति वर्ष की साधारण ब्याज दर पर कुछ पैसे उधार लिए। उसने अपने मित्र को ₹18,200
6 लौटा दिए। यदि सैम ने ₹14,000 उधार लिए, तो उसने कितने समय बाद पैसे वापस किए?

- Ans 1. 8 वर्ष
 2. 2.5 वर्ष
 3. 3.5 वर्ष
 4. 5 वर्ष

Question ID : 9895807666
Chosen Option : 4

Q.5 4 cm ऊँचाई वाले एक बेलन को बनाने के लिए 11 cm × 4 cm के एक आयताकार कागज को मोड़ दिया जाता है
7 और बिना ओवरलैप किए टेप किया जाता है। तो बने हुए बेलन का आयतन है:

- Ans 1. 385 cm³
 2. 3.85 cm³
 3. 38.5 cm³
 4. 0.385 cm³

Question ID : 9895807672
Chosen Option : 3

Q.5 एक निश्चित अवधि के लिए ₹1,800 पर 10% की दर से चक्रवृद्धि ब्याज ₹378 है। तो वर्षों में समय की अवधि है:
8

- Ans 1. 3 वर्ष
 2. 3½ वर्ष
 3. 2 वर्ष
 4. 2½ वर्ष

Question ID : 9895807667
Chosen Option : 3

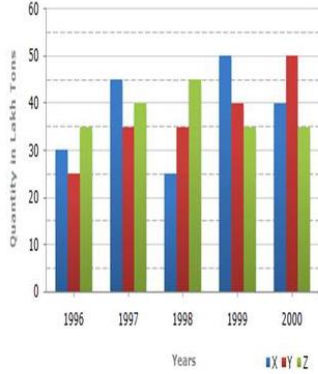
Q.5 यदि जीत और जय की वर्तमान आयु का अनुपात 6 : 7 है और 5 वर्ष के बाद अनुपात 7 : 8 होगा, तो जय की
9 वर्तमान आयु क्या है?

- Ans 1. 48
 2. 56
 3. 35
 4. 64

Question ID : 9895807665
Chosen Option : 3

Q.6 नीचे दिए गए बार ग्राफ का अध्ययन करें, जो वर्षों में तीन अलग-अलग कंपनियों X, Y और Z द्वारा कागज (लाख टन में) के उत्पादन के आंकड़े दर्शाता है और प्रश्न का उत्तर दें।

वर्षों के दौरान तीन कंपनियों X, Y और Z द्वारा कागज का उत्पादन (लाख टन में)।



1997-1999 में कंपनी Y के औसत उत्पादन के उसी अवधि में कंपनी Z के औसत उत्पादन का अनुपात क्या है?

- Ans
- 1. 12 : 11
 - 2. 11 : 13
 - 3. 12 : 15
 - 4. 11 : 12

Question ID : 9895807675

Chosen Option : 4

Q.6 A, B और C का औसत वजन 45kg है। यदि A और C का औसत वजन 42 kg है और B और C का औसत 38 kg है, तो C का वजन है:

- Ans
- 1. 25 kg
 - 2. 35 kg
 - 3. 30 kg
 - 4. 40 kg

Question ID : 9895807656

Chosen Option : 1

Q.6 क्रमशः 200 m और 300 m की लंबाई वाली दो ट्रेनें समानांतर पटरियों पर विपरीत दिशाओं में चल रही हैं। यदि उनकी गति 40 km/h और 50 km/h हैं, तो ट्रेनों को एक-दूसरे को पार करने में लगने वाला समय है:

- Ans
- 1. 50 s
 - 2. 30 s
 - 3. 20 s
 - 4. 40 s

Question ID : 9895807670

Chosen Option : 3

Q.6 A, B और C मिलकर 4 दिनों में एक कार्य कर सकते हैं। यदि A और B कार्य को 5 दिनों में कर सकते हैं, B और C 10 दिनों में कर सकते हैं, तो कार्य करने के लिए A और C द्वारा लिए गए दिनों को ज्ञात करें।

- Ans
- 1. 8 दिन

- 2. 6 दिन
- 3. 4 दिन
- 4. 5 दिन

Question ID : 9895807668
Chosen Option : 4

Q.6 सबसे छोटी संख्या, जिसे 5, 6, 7 और 8 से विभाजित करने पर शेषफल 4 रह जाता है, लेकिन जब 4 से विभाजित की जाती है तो कोई शेषफल नहीं बचता है:

- Ans
- 1. 840
 - 2. 844
 - 3. 846
 - 4. 1684

Question ID : 9895807653
Chosen Option : 2

Q.6 A और B क्रमशः 10 दिनों और 15 दिनों में एक कार्य कर सकते हैं। यदि वे एकांतर दिनों में इस पर कार्य करते हैं, पहले A शुरू करता है। तो कार्य कितने दिनों में पूरा होगा?

- Ans
- 1. 12 दिन
 - 2. 15 दिन
 - 3. 6 दिन
 - 4. 10 दिन

Question ID : 9895807669
Chosen Option : 1

Q.6 तीन उम्मीदवारों ने एक चुनाव लड़ा और उन्हें क्रमशः 1148, 7624 और 11628 वोट मिले। जीतने वाले उम्मीदवार को कुल मतों का कितना प्रतिशत मिला?

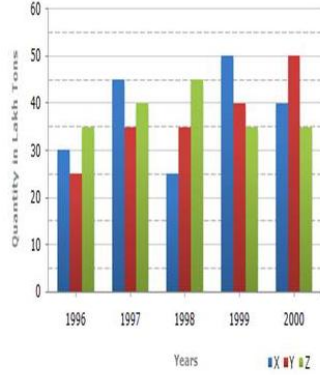
- Ans
- 1. 57%
 - 2. 65%
 - 3. 90%
 - 4. 60%

Question ID : 9895807660
Chosen Option : 1

Q.6
7

नीचे दिए गए बार ग्राफ का अध्ययन करें, जो वर्षों में तीन अलग-अलग कंपनियों X, Y और Z द्वारा कागज (लाख टन में) के उत्पादन के आंकड़े दर्शाता है और प्रश्न का उत्तर दें।

वर्षों के दौरान तीन कंपनियों X, Y और Z द्वारा कागज का उत्पादन (लाख टन में)।



वर्ष 1996 से 1997 तक कंपनी X के उत्पादन में प्रतिशत वृद्धि क्या है?

- Ans
- 1. 50%
 - 2. 80%
 - 3. 60%
 - 4. 70%

Question ID : 9895807677
Chosen Option : 1

Q.6 Simplify:

$$7 + 5 - \left(\frac{3}{2} \times \frac{1}{4}\right) \text{ of } \frac{2}{7} + \frac{7}{2} \times \frac{3}{14}$$

- Ans
- 1. $\frac{173}{4}$
 - 2. $\frac{177}{28}$
 - 3. $\frac{175}{4}$
 - 4. $\frac{177}{14}$

Question ID : 9895807655
Chosen Option : 4

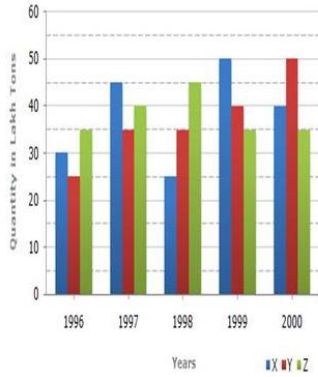
Q.6 There is a 10% discount on a dozen pairs of trousers marked at ₹6000. How many pair of trousers can be bought with ₹2700?

- Ans
- 1. 4
 - 2. 7
 - 3. 6
 - 4. 3

Question ID : 9895807658
Chosen Option : 3

Q.7 नीचे दिए गए बार ग्राफ का अध्ययन करें, जो वर्षों में तीन अलग-अलग कंपनियों X, Y और Z द्वारा कागज (लाख टन में) के उत्पादन के आंकड़े दर्शाता है और प्रश्न का उत्तर दें।

वर्षों के दौरान तीन कंपनियों X, Y और Z द्वारा कागज का उत्पादन (लाख टन में)।



पाँच वर्षों में औसत उत्पादन किस कंपनी के लिए न्यूनतम था?

- Ans
- 1. X और Z दोनों
 - 2. X
 - 3. Y
 - 4. Z

Question ID : 9895807676
Chosen Option : 3

Q.7 M को ₹20 देने से A के पास उतनी राशि होगी जितनी M के पास पहले थी। यदि A और M के पास ₹220 की राशि है, तो M की पहली राशि के साथ A की राशि का अनुपात क्या है?

- Ans
- 1. 7 : 6
 - 2. 5 : 6
 - 3. 2 : 1
 - 4. 6 : 5

Question ID : 9895807663
Chosen Option : 2

Q.7 एक छात्र के अंकों को गलती से 62 के बजाय 87 दर्ज किया गया था। इसके कारण कक्षा के औसत अंक आधे (1/2) बढ़ गए। कक्षा में छात्रों की संख्या है:

- Ans
- 1. 40
 - 2. 50
 - 3. 45
 - 4. 25

Question ID : 9895807657
Chosen Option : 2

Q.7 एक समबाहु त्रिभुज के परिमाण का संख्यात्मक मान त्रिभुज के क्षेत्रफल का $\sqrt{3}$ गुना है। तो समबाहु त्रिभुज की प्रत्येक भुजा की लंबाई है:

- Ans
- 1. 4 cm

2. 6 cm

3. 3 cm

4. 5 cm

Question ID : 9895807674
Chosen Option : 1

Q.7 50 सेब का विक्रय मूल्य 45 सेब के लागत मूल्य के बराबर है। प्राप्त लाभ या हानि ज्ञात करें।

Ans 1. 10% लाभ

2. 12% हानि

3. 12% लाभ

4. 10% हानि

Question ID : 9895807662
Chosen Option : 1

Q.7 5 अहमद ₹5,200 में एक पुराना स्कूटर खरीदता है और इसकी मरम्मत पर ₹800 खर्च करता है। यदि वह स्कूटर ₹6,600 में बेचता है, तो उसका लाभ प्रतिशत है:

Ans 1. 10%

2. 9%

3. 12%

4. 8%

Question ID : 9895807661
Chosen Option : 1

Section : English Language

Q.1 Select the most appropriate option to substitute the underlined segment in the given sentence. If there is no need to substitute it, select No improvement.

Access to mobile phones and an Internet enables job - seekers to search for jobs anywhere in India and abroad.

Ans 1. No improvement

2. internet enable job - seekers

3. the Internet enables job - seekers

4. internet enables job - seekers

Question ID : 9895807986
Chosen Option : --

Q.2 Select the most appropriate option to substitute the underlined segment in the given sentence. If there is no need to substitute it, select No improvement.

It is the adversity that makes you stronger, kinder and most generous than before in life.

Ans 1. more generous than before in life.

2. No improvement

3. most generous than before for life.

4. the most generous than before in life.

Question ID : 9895807988

Chosen Option : --

Q.3 From the given options, identify the segment in the sentence which contains the grammatical error.

The pancreas plays an important role in digestion and regulating blood sugar in living bodies.

Ans 1. The pancreas plays

2. in digestion and regulating

3. an important role

4. in living bodies

Question ID : 9895807985

Chosen Option : --

Q.4 Select the synonym of the given word.

ABRUPTLY

Ans 1. Easily

2. Suddenly

3. Leisurely

4. Slowly

Question ID : 9895807997

Chosen Option : --

Q.5 Select the correctly spelt word.

Ans 1. Synchronoze

2. Synchronize

3. Synchronize

4. Synchornize

Question ID : 9895808006

Chosen Option : --

Q.6 Select the most appropriate option to fill in the blank.

Most often I wish I _____ his luck.

Ans 1. would had

2. had

3. have

4. has

Question ID : 9895807990
Chosen Option : --

Q.7 Select the antonym of the given word.

ADAMANT

- Ans
- 1. Agreeable
 - 2. Firm
 - 3. Innocent
 - 4. Gullible

Question ID : 9895807999
Chosen Option : --

Q.8 From the given options, identify the segment in the sentence which contains the grammatical error.

Technology plays a vital role at the modern life and influences the course of human civilisation unceasingly.

- Ans
- 1. human civilisation unceasingly
 - 2. at the modern life and
 - 3. Technology plays a vital role
 - 4. influences the course of

Question ID : 9895807984
Chosen Option : --

Q.9 Select the most appropriate word to fill in the blank.

Japanese monkeys have been spotted _____ baths in man - made hot springs during winter.

- Ans
- 1. assembling
 - 2. soothing
 - 3. making
 - 4. taking

Question ID : 9895808008
Chosen Option : --

Q.1 Select the most appropriate option to substitute the underlined segment in the given sentence. If there is no need to substitute it, select No improvement.

The players were informed that, in the game, anyone who cross the line would be disqualified.

- Ans
- 1. anyone who crosses the line
 - 2. anyone who will crosses the line
 - 3. No improvement
 - 4. anyone that cross the line

Question ID : 9895807987
Chosen Option : --

Q.1
1 Select the synonym of the given word.

PLEA

- Ans
- 1. Right
 - 2. Duty
 - 3. Appeal
 - 4. Claim

Question ID : 9895807998
Chosen Option : --

Q.1
2 Select the antonym of the given word.

CAJOLE

- Ans
- 1. Repulse
 - 2. Request
 - 3. Rejoice
 - 4. Response

Question ID : 9895808000
Chosen Option : --

Q.1
3 Select the correctly spelt word.

- Ans
- 1. Magnficient
 - 2. Magnificaent
 - 3. Magneficent
 - 4. Magnificent

Question ID : 9895808005
Chosen Option : --

Q.1
4 From the given options, identify the segment in the sentence which contains the grammatical error.

Unable to pay the debts, the whole family is forced to spent several days in a jail.

- Ans
- 1. the whole family
 - 2. days in a jail
 - 3. is forced to spent
 - 4. Unable to pay the debts

Question ID : 9895807983
Chosen Option : --

Q.1
5

Select the most appropriate word to fill in the blank.

Ecology is the study of the _____ between plants, animals, people and their environment, and the balances between these relationships.

- Ans
- 1. contacts
 - 2. effects
 - 3. influences
 - 4. connections

Question ID : 9895808007
Chosen Option : --

Q.1
6 Select the word which means the same as the group of words given.

The arrangement of events or dates in the order of their occurrence.

- Ans
- 1. Chronology
 - 2. Cataloguing
 - 3. Classification
 - 4. Customisation

Question ID : 9895808004
Chosen Option : --

Q.1
7 Select the option that means the same as the given idiom.

To cry over spilled milk

- Ans
- 1. To regret about that which cannot be rectified
 - 2. To cry for trivial matters
 - 3. To cry for milk products
 - 4. To cry for that which cannot be made possible

Question ID : 9895808001
Chosen Option : --

Q.1
8 Select the word which means the same as the group of words given.

A solution or remedy for all difficulties or diseases.

- Ans
- 1. Medicine
 - 2. Diagnosis
 - 3. Treatment
 - 4. Panacea

Question ID : 9895808003
Chosen Option : --

Q.1
9

Select the option that means the same as the given idiom.

A leopard can't change its spots.

Ans 1.

A leopard can be found easily because of its spots in a jungle

- 2. A leopard's without spots cannot be found easily in a jungle
- 3. It is impossible for one to change one's character
- 4. It is possible to change someone's character

Question ID : 9895808002
Chosen Option : --

Q.2 Select the most appropriate option to fill in the blank.
0

It is wonderful that anxiety is a good example of a condition that works _____ or against us.

- Ans 1. of
 2. about
 3. around
 4. for

Question ID : 9895807989
Chosen Option : --

Comprehension:

In the following passage some words have been deleted. Fill in the blanks with the help of the alternatives given.

Integration in the group means mutual ties (1) _____ its members. The quality of ties may differ from group to group. Integration has two (2) _____ - one is the process of integration and the other is the unified conditions. As a process, integration always goes (3) _____ in the society. Social system keeps changing and the units keep (4) _____ themselves accordingly. Sometimes change in a single unit also changes the whole system. Integration is the balance between the whole and its units. When this balance is (5) _____, disintegration begins in the system.

SubQuestion No : 21

Q.2 Select the most appropriate option that will fill in the
1 blank number 1.

- Ans 1. between
 2. among
 3. together
 4. both

Question ID : 9895807992
Chosen Option : --

Comprehension:

In the following passage some words have been deleted. Fill in the blanks with the help of the alternatives given.

Integration in the group means mutual ties (1) _____ its members. The quality of ties may differ from group to group. Integration has two (2) _____ - one is the process of integration and the other is the unified conditions. As a process, integration always goes (3) _____ in the society. Social system keeps changing and the units keep (4) _____ themselves accordingly. Sometimes change in a single unit also changes the whole system. Integration is the balance between the whole and its units. When this balance is (5) _____, disintegration begins in the system.

SubQuestion No : 22

Q.2
2 Select the most appropriate option that will fill in the blank number 2.

- Ans
- 1. methods
 - 2. agencies
 - 3. measures
 - 4. aspects

Question ID : 9895807993
Chosen Option : --

Comprehension:

In the following passage some words have been deleted. Fill in the blanks with the help of the alternatives given.

Integration in the group means mutual ties (1) _____ its members. The quality of ties may differ from group to group. Integration has two (2) _____ - one is the process of integration and the other is the unified conditions. As a process, integration always goes (3) _____ in the society. Social system keeps changing and the units keep (4) _____ themselves accordingly. Sometimes change in a single unit also changes the whole system. Integration is the balance between the whole and its units. When this balance is (5) _____, disintegration begins in the system.

SubQuestion No : 23

Q.2
3 Select the most appropriate option that will fill in the blank number 3.

- Ans
- 1. under
 - 2. off
 - 3. in
 - 4. on

Question ID : 9895807994
Chosen Option : --

Comprehension:

In the following passage some words have been deleted. Fill in the blanks with the help of the alternatives given.

Integration in the group means mutual ties (1) _____ its members. The quality of ties may differ from group to group. Integration has two (2) _____ - one is the process of integration and the other is the unified conditions. As a process, integration always goes (3) _____ in the society. Social system keeps changing and the units keep (4) _____ themselves accordingly. Sometimes change in a single unit also changes the whole system. Integration is the balance between the whole and its units. When this balance is (5) _____, disintegration begins in the system.

SubQuestion No : 24

Q.2
4 Select the most appropriate option that will fill in the blank number 4.

- Ans
- 1. admitting
 - 2. adjusting
 - 3. administering
 - 4. admiring

Question ID : 9895807995
Chosen Option : --

Comprehension:

In the following passage some words have been deleted. Fill in the blanks with the help of the alternatives given.

Integration in the group means mutual ties (1) _____ its members. The quality of ties may differ from group to group. Integration has two (2) _____ - one is the process of integration and the other is the unified conditions. As a process, integration always goes (3) _____ in the society. Social system keeps changing and the units keep (4) _____ themselves accordingly. Sometimes change in a single unit also changes the whole system. Integration is the balance between the whole and its units. When this balance is (5) _____, disintegration begins in the system.

SubQuestion No : 25

Q.2
5 Select the most appropriate option that will fill in the blank number 5.

- Ans
- 1. disrupts
 - 2. disrupt
 - 3. disrupting
 - 4. disrupted

Question ID : 9895807996

Section : Hindi Language

Comprehension:

निम्नलिखित गद्यांश के रिक्त स्थानों की पूर्ति गद्यांश के नीचे दिए गए प्रश्नों के अनुसार कीजिए-

डॉ.कलाम _____ (1) इच्छाशक्ति वाले वैज्ञानिक थे। वे भारत को विकसित देश बनाने का _____ (2) सजोये हुए थे। उनका मानना था कि भारतवासियों को _____ (3) दृष्टि से सोचना चाहिए। हमें सपने देखने चाहिए। सपनों को विचारों में _____ (4) चाहिए। विचारों को कार्यवाही के माध्यम से _____ (5) में बदलना चाहिए।

SubQuestion No : 1

Q.1 गद्यांश में संकेतित रिक्त स्थान (1) के लिए उपयुक्त शब्द होगा।

- Ans
- 1. नम
 - 2. कम
 - 3. कठोर
 - 4. दृढ़

Question ID : 9895806772

Chosen Option : 4

Comprehension:

निम्नलिखित गद्यांश के रिक्त स्थानों की पूर्ति गद्यांश के नीचे दिए गए प्रश्नों के अनुसार कीजिए-

डॉ.कलाम _____ (1) इच्छाशक्ति वाले वैज्ञानिक थे। वे भारत को विकसित देश बनाने का _____ (2) सजोये हुए थे। उनका मानना था कि भारतवासियों को _____ (3) दृष्टि से सोचना चाहिए। हमें सपने देखने चाहिए। सपनों को विचारों में _____ (4) चाहिए। विचारों को कार्यवाही के माध्यम से _____ (5) में बदलना चाहिए।

SubQuestion No : 2

Q.2 गद्यांश में संकेतित रिक्त स्थान (2) के लिए उपयुक्त शब्द होगा।

- Ans
- 1. अपना
 - 2. हकीकत
 - 3. सपना

✗ 4. आशंका

Question ID : 9895806773
Chosen Option : 3

Comprehension:

निम्नलिखित गद्यांश के रिक्त स्थानों की पूर्ति गद्यांश के नीचे दिए गए प्रश्नों के अनुसार कीजिए-

डॉ.कलाम _____ (1) इच्छाशक्ति वाले वैज्ञानिक थे। वे भारत को विकसित देश बनाने का _____ (2) सजोये हुए थे। उनका मानना था कि भारतवासियों को _____ (3) दृष्टि से सोचना चाहिए। हमें सपने देखने चाहिए। सपनों को विचारों में _____ (4) चाहिए। विचारों को कार्यवाही के माध्यम से _____ (5) में बदलना चाहिए।

SubQuestion No : 3

Q.3 गद्यांश में संकेतित रिक्त स्थान (3) के लिए उपयुक्त शब्द होगा।

- Ans
- ✓ 1. व्यापक
 - ✗ 2. संकीर्ण
 - ✗ 3. संकुचित
 - ✗ 4. क्षीण

Question ID : 9895806774
Chosen Option : 1

Comprehension:

निम्नलिखित गद्यांश के रिक्त स्थानों की पूर्ति गद्यांश के नीचे दिए गए प्रश्नों के अनुसार कीजिए-

डॉ.कलाम _____ (1) इच्छाशक्ति वाले वैज्ञानिक थे। वे भारत को विकसित देश बनाने का _____ (2) सजोये हुए थे। उनका मानना था कि भारतवासियों को _____ (3) दृष्टि से सोचना चाहिए। हमें सपने देखने चाहिए। सपनों को विचारों में _____ (4) चाहिए। विचारों को कार्यवाही के माध्यम से _____ (5) में बदलना चाहिए।

SubQuestion No : 4

Q.4 गद्यांश में संकेतित रिक्त स्थान (4) के लिए उपयुक्त शब्द होगा।

- Ans
- ✗ 1. देना

- 2. बदलना
- 3. उठाना
- 4. करना

Question ID : 9895806775
Chosen Option : 2

Comprehension:

निम्नलिखित गद्यांश के रिक्त स्थानों की पूर्ति गद्यांश के नीचे दिए गए प्रश्नों के अनुसार कीजिए-

डॉ.कलाम _____ (1) इच्छाशक्ति वाले वैज्ञानिक थे। वे भारत को विकसित देश बनाने का _____ (2) सजोये हुए थे। उनका मानना था कि भारतवासियों को _____ (3) दृष्टि से सोचना चाहिए। हमें सपने देखने चाहिए। सपनों को विचारों में _____ (4) चाहिए। विचारों को कार्यवाही के माध्यम से _____ (5) में बदलना चाहिए।

SubQuestion No : 5

Q.5 गद्यांश में संकेतित रिक्त स्थान (5) के लिए उपयुक्त शब्द होगा।

- Ans
- 1. हकीकत
 - 2. आशा
 - 3. सपना
 - 4. कल्पना

Question ID : 9895806776
Chosen Option : 1

Q.6 दिये गये वाक्यांश के लिए एक शब्द दीजिये।

जो करने योग्य हो

- Ans
- 1. करणीय
 - 2. अकर्मठ
 - 3. अकरणीय
 - 4. कर्मठ

Question ID : 9895806783
Chosen Option : 1

Q.7

रिक्त स्थान को भरने के लिए उपयुक्त शब्द का चयन करें।

पेड़ पर _____ खिल रहे हैं।

- Ans
- 1. फल
 - 2. पत्ते
 - 3. फूल
 - 4. टहनी

Question ID : 9895806767
Chosen Option : 3

Q.8 दिये गये वाक्यांश के लिए एक शब्द दीजिये।

दोपहर के बाद का समय

- Ans
- 1. पूर्वाह्न
 - 2. रात्रि
 - 3. अपराह्न
 - 4. मध्याह्न

Question ID : 9895806784
Chosen Option : 3

Q.9 रिक्त स्थान को भरने के लिए उपयुक्त शब्द का चयन करें।

पुलिस विभाग को चाहिए कि वह _____ जनता को परेशान न करें।

- Ans
- 1. निर्दय
 - 2. दोषी
 - 3. निर्दोष
 - 4. अपराधी

Question ID : 9895806769
Chosen Option : 3

Q.10 दिए गए वाक्य का वह भाग ज्ञात करें जिसमें कोई त्रुटि है।

देश के सामने शिक्षा और स्वास्थ्य संबंधी अनेकों समस्याएँ हैं।

- Ans
- 1. अनेकों
 - 2. शिक्षा और स्वास्थ्य संबंधी

✗ 3. देश के सामने

✗ 4. समस्याएँ हैं।

Question ID : 9895806761
Chosen Option : 1

Q.1
1 रिक्त स्थान को भरने के लिए उपयुक्त शब्द का चयन करें।

ईमानदारी से मेहनत करो, चाहे लाभ हो _____ हानि।

- Ans
- ✗ 1. ताकि
 - ✓ 2. या
 - ✗ 3. बल्कि
 - ✗ 4. इसलिए

Question ID : 9895806768
Chosen Option : 2

Q.1
2 दिए गए वाक्य में रेखांकित खंड को प्रतिस्थापित करने के लिए उपयुक्त विकल्प का चयन करें।

हमारे देहात बहुत उपेक्षित रहे हैं, उन्हें विकसित करने की आवश्यकता है।

- Ans
- ✓ 1. गाँव
 - ✗ 2. शहर
 - ✗ 3. नगर
 - ✗ 4. महानगर

Question ID : 9895806765
Chosen Option : 1

Q.1
3 सही वर्तनी वाले शब्द का चयन करें।

- Ans
- ✗ 1. विणापाणि
 - ✗ 2. वीणापानी
 - ✗ 3. विणापनि
 - ✓ 4. वीणापाणि

Question ID : 9895806786
Chosen Option : 4

Q.1
4 निम्नलिखित में से उस विकल्प का चयन करें जो 'सिर पर पाँव रखकर भागना' मुहावरे का अर्थ व्यक्त करता है।

- Ans
- ✗ 1. धीरे-धीरे चलना
 - ✗ 2. पाँव सिर के ऊपर रखकर भागना

✗ 3. बहुत तेज कूदना

✓ 4. बहुत तेज भागना

Question ID : 9895806782
Chosen Option : 4

Q.1
5 दिए गए शब्द का विलोम चुनें।

हास्य

Ans ✓ 1. रुदन

✗ 2. विनोद

✗ 3. मनोरम

✗ 4. मनोरंजन

Question ID : 9895806778
Chosen Option : 1

Q.1
6 दिए गए शब्द का विलोम चुनें।

संक्षेप

Ans ✗ 1. विक्षेप

✗ 2. लघु

✗ 3. कम

✓ 4. विस्तार

Question ID : 9895806777
Chosen Option : 4

Q.1
7 दिए गए वाक्य का वह भाग ज्ञात करें जिसमें कोई त्रुटि है।

मनुष्य का जीवन इतनी विशाल है कि उसके आचरण से कोई न कोई प्रभावित हो ही जाता है।

Ans ✓ 1. इतनी विशाल है कि

✗ 2. मनुष्य का जीवन

✗ 3. उसके आचरण से

✗ 4. कोई न कोई प्रभावित हो ही जाता है।

Question ID : 9895806762
Chosen Option : 1

Q.1
8 दिए गए वाक्य में रेखांकित खंड को प्रतिस्थापित करने के लिए उपयुक्त विकल्प का चयन करें।

रावण लंका का राजा था।

- Ans
- 1. दशानन
 - 2. सम्राट
 - 3. चतुरानन
 - 4. पंचानन

Question ID : 9895806764
Chosen Option : 1

Q.1
9 दिए गए शब्द के पर्यायवाची शब्द का चयन करें।

आश्वासन

- Ans
- 1. अविश्वास
 - 2. अविश्वसनीय
 - 3. दिलासा
 - 4. अंदाजा

Question ID : 9895806780
Chosen Option : 3

Q.2
0 सही वर्तनी वाले शब्द का चयन करें।

- Ans
- 1. महात्मा
 - 2. महत्मा
 - 3. महातमा
 - 4. माहत्मा

Question ID : 9895806785
Chosen Option : 1

Q.2
1 रिक्त स्थान को भरने के लिए उपयुक्त शब्द का चयन करें।

_____ मित्र जीवन के लिए एक वरदान होता है।

- Ans
- 1. बदमाश
 - 2. कच्चा
 - 3. सच्चा
 - 4. बुरा

Question ID : 9895806770
Chosen Option : 3

Q.2
2

दिए गए वाक्य में रेखांकित खंड को प्रतिस्थापित करने के लिए उपयुक्त विकल्प का चयन करें।

कोयल का कंठ मधुरतम है।

- Ans
- 1. कोकिला
 - 2. सुग्गा
 - 3. खग
 - 4. पक्षी

Question ID : 9895806766
Chosen Option : 1

Q.2
3 दिए गए वाक्य का वह भाग ज्ञात करें जिसमें कोई त्रुटि है।

संस्कृति तब तक अंधी रहती है, जब तक राष्ट्र की अपनी वाणी नहीं होता।

- Ans
- 1. अंधी रहती है,
 - 2. संस्कृति तब तक
 - 3. जब तक राष्ट्र की
 - 4. अपनी वाणी नहीं होता।

Question ID : 9895806763
Chosen Option : 4

Q.2
4 दिए गए शब्द के पर्यायवाची शब्द का चयन करें।

धनवान

- Ans
- 1. सम्पन्न
 - 2. संपूर्ण
 - 3. महत्
 - 4. यथेष्ट

Question ID : 9895806779
Chosen Option : 1

Q.2
5 निम्नलिखित में से उस विकल्प का चयन करें जो 'साँप सूँघ जाना' मुहावरे का अर्थ व्यक्त करता है।

- Ans
- 1. दुखी हो जाना
 - 2. निश्चेष्ट हो जाना
 - 3. प्रसन्न हो जाना
 - 4. साँप को सूँघ कर जाना

GovtJobsAlert.In