

Constable (GD) in CAPFs, NIA, SSF and Rifleman (GD) in Assam Rifles Examination, 2018

Roll No. :	GovtJobsAlert.In
Registration No.	GovtJobsAlert.In
Name :	GovtJobsAlert.In
Exam Venue :	iON Digital Zone iDZ 2 Duhai
Exam Time :	9:00 AM - 10:30 AM
Exam Date :	03/03/2019

Section : General Section

Q.1 चार विकल्प दिए गए हैं, जिनमें से तीन किसी तरह से समान हैं, जबकि एक अलग है। असंगत का चयन करें।

- Ans
- 1. 2248
 - 2. 1258
 - 3. 3036
 - 4. 3196

Question ID : 9895808305
Chosen Option : 2

Q.2 उस विकल्प आकृति का चयन करें, जिसमें प्रश्न आकृति छिपी हुई / अंतर्निहित है।

प्रश्न आकृति



Ans

- 1.
- 2.
- 3.
- 4.

Question ID : 9895808310
Chosen Option : 4

Q.3 यदि '+' का अर्थ है 'x', '-' का अर्थ है '+' , 'x' का अर्थ है '+' और '+' का अर्थ है '-' , तो निम्न समीकरण का मान ज्ञात करें

$$21 + 8 + 2 - 12 \times 3 = ?$$

- Ans
- 1. 14
 - 2. 13.5
 - 3. 10
 - 4. 9

Question ID : 9895808307
Chosen Option : 4

Q.4 यदि RED को 19 के रूप में कूटबद्ध किया गया है, तो WED को कैसे कूटबद्ध किया जाएगा?

- Ans
- 1. 24
 - 2. 21
 - 3. 22
 - 4. 28

Question ID : 9895808296
Chosen Option : 1

Q.5 चार शब्द दिए गए हैं, जिनमें से तीन किसी तरह से समान हैं, जबकि एक अलग है। असंगत शब्द का चयन करें।

- Ans
- 1. अंधा
 - 2. विवर
 - 3. गूंगा
 - 4. बहरा

Question ID : 9895808291
Chosen Option : 2

Q.6 P, M, D, A, F, H, R और B एक सर्कल के चारों ओर केन्द्र की ओर मुख किये बैठे हैं। R, A के दाएँ से चौथे स्थान पर है, जो P के दाएँ से तीसरे स्थान पर है। M, H के बाएँ से दूसरे स्थान पर है, जो P के बाएँ से दूसरे स्थान पर है। D, B के दाएँ से तीसरे स्थान पर है।

निम्न में से कौन-सा जोड़ा B के निकटतम पड़ोसियों को दर्शाता है?

- Ans
- 1. FM
 - 2. AF
 - 3. AP
 - 4. MP

Question ID : 9895808297
Chosen Option : 2

Q.7 उस विकल्प का चयन करें जो तीसरे पद से उसी तरह संबंधित है जिस प्रकार पहला पद दूसरे पद से संबंधित है।

$$42 : 72 :: 12 : ?$$

Ans

✓ 1. 30

✗ 2. 43

✗ 3. 48

✗ 4. 35

Question ID : 9895808304
Chosen Option : 1

Q.8 चार अक्षर समूह दिए गए हैं, जिनमें से तीन किसी तरह से समान हैं, जबकि एक अलग है। असंगत अक्षर समूह का चयन करें।

Ans ✓ 1. BCG

✗ 2. ACF

✗ 3. KMP

✗ 4. TVY

Question ID : 9895808290
Chosen Option : 1

Q.9 दिए गए विकल्पों में से लुप्त संख्या ज्ञात करें।



Ans ✗ 1. 48

✓ 2. 24

✗ 3. 12

✗ 4. 56

Question ID : 9895808306
Chosen Option : 2

Q.1 निम्नलिखित में से कौन सी उत्तर आकृति दी गई आकृति को पूरा करेगी?

प्रश्न आकृति:



Ans



✓ 3.



✗ 4.



Question ID : 9895808309
Chosen Option : 3

Q.1 किसी निश्चित कूट में "SMART" को "RXXNO" के रूप में लिखा जाता है। उसी कूट में GREAT को कैसे लिखा जाएगा?

- Ans
- ✗ 1. BGFOW
 - ✗ 2. RPFOW
 - ✓ 3. FPBWO
 - ✗ 4. FPBWR

Question ID : 9895808295
Chosen Option : 3

Q.1 उस विकल्प का चयन करें जो सही रूप में रिक्त स्थान की पूर्ति करते हुए श्रृंखला को पूरा करें।

A, G, L, P, S, _____

- Ans
- ✓ 1. U
 - ✗ 2. Y
 - ✗ 3. W
 - ✗ 4. X

Question ID : 9895808289
Chosen Option : 1

Q.1 उस विकल्प का चयन करें जो तीसरे पद से उसी तरह संबंधित है जिस प्रकार पहला पद दूसरे पद से संबंधित है।

आम : फल :: आलू : ?

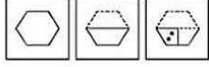
- Ans
- ✓ 1. सब्जी
 - ✗ 2. फल
 - ✗ 3. तना
 - ✗ 4. फूल

Question ID : 9895808293
Chosen Option : 1

Q.1
4


नीचे एक कागज़ को नीचे प्रश्न आकृति में दर्शाये अनुसार मोड़ा और काटा गया है। इस कागज़ को खोलने पर दी गयी उत्तर आकृतियों में से कौन सी आकृति दिखाई देगी?

प्रश्न आकृति:

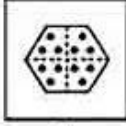


Ans

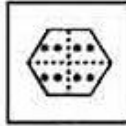
✓ 1.



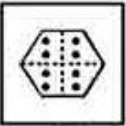
✗ 2.



✗ 3.



✗ 4.



Question ID : 9895808312
Chosen Option : 1

Q.1 सोनम बड़ी है रेनू से। कोमल छोटी है रेनू से। प्रिया बड़ी है सोनम से। इनमें से सबसे बड़ा कौन है?

Ans

✗ 1. सोनम

✗ 2. कोमल

✓ 3. प्रिया

✗ 4. रेनू

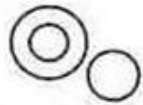
Question ID : 9895808299
Chosen Option : 3

Q.1 वेन आरेख का चयन करें जो दिए गए तीन वर्गों के बीच के संबंध को सर्वोत्तम दर्शाता है।


कीबोर्ड, मॉनिटर, माउस

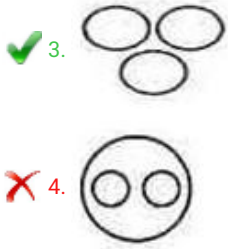
Ans

✗ 1.



✗ 2.





Question ID : 9895808313
Chosen Option : 1

Q.1 7 उस विकल्प का चयन करें जो तीसरे पद से उसी तरह संबंधित है जिस प्रकार दूसरा पद पहले पद से संबंधित है।

टेलीविजन : दूरदर्शन-प्रसारण :: रेडियो : ?

- Ans
- ✗ 1. बातें करना
 - ✓ 2. प्रसारण
 - ✗ 3. मित्रता
 - ✗ 4. लिखना

Question ID : 9895808292
Chosen Option : 2

Q.1 8 A, B, C, D, E, F, G और H एक गोल मेज के चारों ओर बैठे हैं और केंद्र की ओर मुख किये हुए हैं। D, H के दाएँ से चौथे स्थान पर है तथा B के बाएँ से दूसरे स्थान पर है। F, B के दाएँ से चौथे स्थान पर है। C, E के दाएँ से चौथे स्थान पर है जो कि B या D के तुरंत दाएँ नहीं है। A, D का तुरंत पड़ोसी नहीं है।

निम्नलिखित संयोजन में से किसमें तीसरा व्यक्ति पहले और दूसरे व्यक्ति के बीच में बैठा है?

- Ans
- ✗ 1. ABC
 - ✗ 2. CBA
 - ✗ 3. AHE
 - ✓ 4. GCD

Question ID : 9895808298
Chosen Option : 2

Q.1 9 नीचे दिए गए कथनों के बाद दो निष्कर्ष I और II दिए गए हैं। यह मानते हुए कि कथनों में दी गई जानकारी सत्य है, भले ही वह सर्वज्ञात तथ्यों से भिन्न प्रतीत होती हो और यह निर्णय करें कि कौन सा/से निष्कर्ष तार्किक और निश्चित रूप से कथन में दी गई जानकारी का अनुसरण करता है/करते हैं।

कथन:

कुछ अंगूर आम हैं।
सभी आम सेब हैं।

निष्कर्ष:

- I. कुछ आम अंगूर हैं।
- II. सभी सेब अंगूर हैं।

- Ans
- ✗ 1. केवल निष्कर्ष II अनुसरण करता है।

✗ 2. या तो निष्कर्ष । या ॥ अनुसरण करता है।

✗ 3. दोनों निष्कर्ष । और ॥ अनुसरण करते हैं।

✓ 4. केवल निष्कर्ष । अनुसरण करता है।

Question ID : 9895808300
Chosen Option : 4

Q.2
0 उस विकल्प का चयन करें जो चौथे पद से उसी तरह संबंधित है जिस प्रकार पहला पद दूसरे पद से संबंधित है।

MNQR : LMPQ :: ? : RSVW

Ans

✗ 1. WYTS

✗ 2. SVWY

✓ 3. STWX

✗ 4. VTWY

Question ID : 9895808294
Chosen Option : 3

Q.2
1 उस विकल्प का चयन करें जो सही रूप में रिक्त स्थान की पूर्ति करते हुए श्रृंखला को पूरा करें।

14, 18, 24, 32, 42, ?

Ans

✗ 1. 52

✓ 2. 54

✗ 3. 48

✗ 4. 50

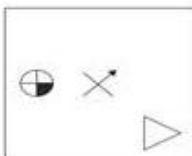
Question ID : 9895808303
Chosen Option : 2

Q.2
2 वह विकल्प चुनें जो दी गई आकृति श्रृंखला को पूरा करता है

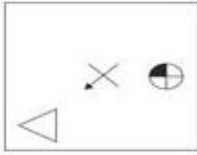


Ans

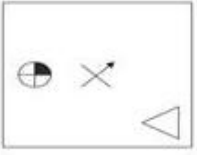
✗ 1.



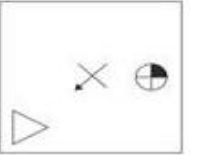
✓ 2.



✗ 3.



✗ 4.



Question ID : 9895808308
Chosen Option : 2

Q.2 उस विकल्प का चयन करें जो सही रूप में रिक्त स्थान की पूर्ति करते हुए श्रृंखला को पूरा करें।

117, 107, 92, 72, _____

Ans

✗ 1. 42

✗ 2. 37

✓ 3. 47

✗ 4. 52

Question ID : 9895808302
Chosen Option : 3

Q.2 उस विकल्प का चयन करें जो दर्पण के दाएँ ओर रखे जाने पर दी गई आकृति की दर्पण छवि से सर्वाधिक मेल खाता है।

प्रश्न आकृति



Ans

✓ 1.



✗ 2.



✗ 3.





Question ID : 9895808311

Chosen Option : 1

Q.2 नीचे दिए गए कथनों के बाद दो निष्कर्ष I और II दिए गए हैं। यह मानते हुए कि कथनों में दी गई जानकारी सत्य है, 5 भले ही वह सर्वज्ञात तथ्यों से भिन्न प्रतीत होती हो और यह निर्णय करें कि कौन सा/से निष्कर्ष तार्किक और निश्चित रूप से कथन में दी गई जानकारी का अनुसरण करता है/करते हैं।

कथन:

सभी गुलाब फल हैं।
सभी फल पेड़ हैं।

निष्कर्ष:

- I. सभी पेड़ गुलाब हैं।
- II. कुछ फल गुलाब हैं।

- Ans
- ✗ 1. दोनों निष्कर्ष I और II अनुसरण करते हैं।
 - ✗ 2. केवल निष्कर्ष I अनुसरण करता है।
 - ✓ 3. केवल निष्कर्ष II अनुसरण करता है।
 - ✗ 4. या तो निष्कर्ष I या II अनुसरण करता है।

Question ID : 9895808301

Chosen Option : 3

Q.2 निम्न में से कौन सा गति का एक सही समीकरण है? 6

- Ans
- ✗ 1. $v^2 + u^2 = 2as$
 - ✓ 2. $2s = 2ut + at^2$
 - ✗ 3. $u = v + at^2$
 - ✗ 4. $2s = (v - u)t$

Question ID : 9895807367

Chosen Option : 1

Q.2 निम्न में से कौन सी नदी अरब सागर में जाकर गिरती है? 7

- Ans
- ✓ 1. माही
 - ✗ 2. रुशिकुल्या
 - ✗ 3. कृष्णा
 - ✗ 4. पेन्ना

Question ID : 9895807372

Chosen Option : 1

Q.2 आर्थिक सर्वे रिपोर्ट 2017-18 के अनुसार वित्तीय वर्ष 2017-18 के लिए सकल घरेलू उत्पाद (जीडीपी) की वृद्धि दर कितनी बताई गई?

- Ans
- 1. 6.75%
 - 2. 7.25%
 - 3. 8.25%
 - 4. 5.75%

Question ID : 9895807361

Chosen Option : 2

Q.2 केंद्रीय बजट 2018 में खाद्य प्रसंस्करण के लिए कितनी राशि आवंटित की, जोकि पिछले वर्ष आवंटित की गई राशि की तुलना में लगभग दोगुनी थी?

- Ans
- 1. ₹2,900 करोड़
 - 2. ₹1,400 करोड़
 - 3. ₹2,400 करोड़
 - 4. ₹1,900 करोड़

Question ID : 9895807362

Chosen Option : 2

Q.3 सिक्किम के लोकगीतों के उस प्रकार का नाम बताइए जो राज्य के प्राकृतिक सौंदर्य का वर्णन करते हैं।

- Ans
- 1. देखनी
 - 2. घा तो कितो
 - 3. मांडो
 - 4. खुबाक एशेई

Question ID : 9895807353

Chosen Option : 4

Q.3 2018-19 के लिए साधारण किस्म के धान का न्यूनतम समर्थन मूल्य कितना निर्धारित किया गया है?

- Ans
- 1. ₹5,150 प्रति क्विंटल
 - 2. ₹1,950 प्रति क्विंटल
 - 3. ₹2,430 प्रति क्विंटल
 - 4. ₹1,750 प्रति क्विंटल

Question ID : 9895807363

Chosen Option : 2

Q.3 2 निम्न में से कौन लक्षद्वीप द्वीप समूह का दक्षिणतम भाग है?

- Ans
- 1. बित्रा
 - 2. कवरत्ती
 - 3. मिनिक्कॉय
 - 4. अमीनी

Question ID : 9895807373
Chosen Option : 3

Q.3
3 एसिटोनाइट्रिल का सूत्र क्या है?

- Ans
- 1. CH₃OCN
 - 2. CH₂CHCN
 - 3. C₂N₂
 - 4. CH₃CN

Question ID : 9895807369
Chosen Option : 2

Q.3
4 1529 में घाघरा के युद्ध में मुगल बादशाह बाबर ने किसे हराया था?

- Ans
- 1. यूसुफ आदिल शाह
 - 2. महमूद लोदी
 - 3. कासिम बरीद I
 - 4. दिलावर खान हुसैन

Question ID : 9895807377
Chosen Option : 2

Q.3
5 धन नंद को हराकर मौर्य साम्राज्य की स्थापना किसने की?

- Ans
- 1. अशोक
 - 2. कुणाल
 - 3. बिंदुसार
 - 4. चंद्रगुप्त

Question ID : 9895807375
Chosen Option : 4

Q.3
6 2018 के सुल्तान अजलन शाह कप में, भारत ने पांचवें स्थान पर आने के लिए 4-1 से किस देश को हराया था?

- Ans
- 1. मलेशिया
 - 2. पाकिस्तान

3. आयरलैंड
 4. ऑस्ट्रेलिया

Question ID : 9895807356
Chosen Option : 4

Q.3
7 भारत रत्न प्राप्त करने वाले किस व्यक्ति का जन्मदिन इंजिनियर दिवस के रूप में मनाया जाता है?

- Ans 1. सी वी रमन
 2. एम विश्वेश्वरैया
 3. अब्दुल कलाम आजाद
 4. जे आर डी टाटा

Question ID : 9895807358
Chosen Option : 1

Q.3
8 जबड़ा किसका भाग है?

- Ans 1. हाथ
 2. खोपड़ी
 3. श्रोणि चक्र
 4. बांह

Question ID : 9895807371
Chosen Option : 2

Q.3
9 लोसार उत्सव किस जनजाति के लोगों द्वारा मनाया जाता है?

- Ans 1. मोनपा
 2. कोडावा
 3. मुंडा
 4. खासी

Question ID : 9895807354
Chosen Option : 3

Q.4
0 निम्न में से कौन सा नृत्य मध्य प्रदेश की एक नृत्य शैली है?

- Ans 1. ओट्टम थुल्लल
 2. माचा
 3. लेजिम
 4. चराव

Question ID : 9895807355
Chosen Option : 1

Q.4
1 वेबर किसकी इकाई है?

Ans

- 1. चुंबकीय प्रवाह
- 2. धारिता
- 3. चुंबकीय प्रवाह घनत्व
- 4. विद्युत चालकत्व

Question ID : 9895807368
Chosen Option : 3

Q.4
2 निम्न में से कौन एक तांबे का अयस्क खनिज है?

Ans

- 1. चाल्कोसाइट
- 2. गलेना
- 3. केसिटराइट
- 4. सिनेबार

Question ID : 9895807370
Chosen Option : 4

Q.4
3 2018 का यूएस ओपन पुरुष टेनिस किसने जीता?

Ans

- 1. रोजर फेडरर
- 2. रफेल नाडाल
- 3. नोवाक जोकोविच
- 4. एंडी मुरे

Question ID : 9895807357
Chosen Option : 2

Q.4
4 निम्नलिखित में से कौन सा भारतीय राष्ट्रीय राजनीतिक दल 1885 में स्थापित सबसे पुराना दल है और जिसने कई बार विभाजन का सामना किया है?

Ans

- 1. भारतीय कम्युनिस्ट पार्टी - मार्क्सवादी (CPI-M)
- 2. बहुजन समाज पार्टी (BSP)
- 3. राष्ट्रवादी कांग्रेस पार्टी (NCP)
- 4. भारतीय राष्ट्रीय कांग्रेस (INC)

Question ID : 9895807365
Chosen Option : 3

Q.4
5 लोकतंत्र में राजनीतिक और सामाजिक असमानताओं पर अध्ययन से किस बात का पता चलता है?

- Ans
- 1. लोकतंत्र विकास को रोकता है
 - 2. तानाशाही में असमानताएं मौजूद नहीं हैं
 - 3. लोकतंत्र में असमानताएं मौजूद हैं
 - 4. तानाशाही लोकतंत्र से बेहतर है

Question ID : 9895807364
Chosen Option : 2

Q.4
6 भारतीय महिला की सबसे पहली ज्ञात आत्मकथा कौन सी है?

- Ans
- 1. सिटी ऑफ 2 गेटवेज
 - 2. अमर जीवन
 - 3. बिआन्ड द जंगल
 - 4. माय रेमनिसन्सिज़

Question ID : 9895807360
Chosen Option : 4

Q.4
7 1774 में सर्वोच्च न्यायालय को किस शहर में फोर्ट विलियम में शीर्ष न्यायालय के रूप में स्थापित किया गया?

- Ans
- 1. दिल्ली
 - 2. मुंबई
 - 3. कोलकाता
 - 4. शिमला

Question ID : 9895807366
Chosen Option : 2

Q.4
8 गैनिमीड अब तक हमारे सौर प्रणाली में सबसे बड़ा चंद्रमा है, वह किस उपग्रह की परिक्रमा करता है?

- Ans
- 1. अरुण (यूरेनस)
 - 2. शनि (सैटर्न)
 - 3. बृहस्पति (जूपिटर)
 - 4. वरुण (नेप्ट्यून)

Question ID : 9895807374
Chosen Option : 1

Q.4
9 किरन देसाई की कौन सी पुस्तक संपत चावला नाम के एक युवा की कहानी है?

- Ans
- 1. सेलेक्शन डे
 - 2. हलबलू इन द गुआवा ऑर्चर्ड
 - 3. इट हैपेन्स फॉर अ रीजन
 - 4. एन ईक्वल म्यूजिक

Question ID : 9895807359
Chosen Option : 2

Q.5
0 ब्रिटिश संसद में सदस्य बनने वाले पहले भारतीय का नाम बताइए।

- Ans
- 1. जमशेदजी टाटा
 - 2. पीलू मोदी
 - 3. भीकाजी कामा
 - 4. दादाभाई नौरोजी

Question ID : 9895807376
Chosen Option : 4

Q.5
1 एक दुकानदार एक वस्तु के विक्रय मूल्य को 39 कम कर देता है, 10% का लाभ 3% की हानि में बदल जाता है, तो वस्तु का मूल मूल्य क्या है?

- Ans
- 1. ₹350
 - 2. ₹200
 - 3. ₹250
 - 4. ₹300

Question ID : 9895807686
Chosen Option : 2

Q.5
2 तीन व्यक्ति A, B और C क्रमशः 8, 15 और 20 मिनट में एक वृत्ताकार ट्रैक का एक फेरा पूरा कर सकते हैं। यदि वे एक निश्चित बिंदु से 8 AM पर एक साथ शुरू करते हैं, तो वे किस समय प्रारंभिक बिंदु पर फिर से एक साथ होंगे?

- Ans
- 1. 12 Noon
 - 2. 10 AM
 - 3. 11 AM
 - 4. 9 AM

Question ID : 9895807678
Chosen Option : 2

Q.5
3 एक परीक्षा में, एक छात्र को पास होने के लिए अधिकतम अंकों का 35% प्राप्त करना होता है। एक छात्र ने 70 अंक प्राप्त किए और 70 अंक से फेल हो गया। परीक्षा में अधिकतम अंक है:

- Ans
- 1. 400
 - 2. 200
 - 3. 300

✗ 4. 500

Question ID : 9895807685
Chosen Option : 1

Q.5 आठ संख्याओं के एक सेट का माध्य 63 है। यदि संख्याओं में से एक को हटा दिया जाता है, तो शेष संख्याओं का
4 माध्य 58 हो जाता है। हटाई गई संख्या का मान है:

- Ans
- ✗ 1. 78
 - ✗ 2. 89
 - ✓ 3. 98
 - ✗ 4. 88

Question ID : 9895807684
Chosen Option : 3

Q.5 एक कार पहले घंटे में 60 km, दूसरे घंटे में 65 km, तीसरे घंटे में 70 km की की दूरी तय करती है, तो कार की
5 औसत गति कितनी है?

- Ans
- ✓ 1. 65 km/hr
 - ✗ 2. 66 km/hr
 - ✗ 3. 56 km/hr
 - ✗ 4. 62 km/hr

Question ID : 9895807696
Chosen Option : 1

Q.5
6 एक वृत्त की परिधि और व्यास के बीच का अंतर 60 cm है, तो त्रिज्या है:

- Ans
- ✗ 1. 13 cm
 - ✗ 2. 15 cm
 - ✓ 3. 14 cm
 - ✗ 4. 12 cm

Question ID : 9895807697
Chosen Option : 3

Q.5
7 2 संख्याओं के बीच का अनुपात 4:5 है और उनके वर्गों का योग 1025 है, तो संख्याएँ हैं:

- Ans
- ✗ 1. 24 और 30
 - ✗ 2. 8 और 10
 - ✓ 3. 20 और 25
 - ✗ 4. 40 और 50

Question ID : 9895807688
Chosen Option : 3

Q.5
8 सरलीकृत करें: $5 - 6.5 \div 13 + 2.3 \times 0.8 + 0.4$

- Ans
- 1. 7.38
 - 2. 5.38
 - 3. 6.83
 - 4. 6.74

Question ID : 9895807679
Chosen Option : 4

Q.5 अमित ने ब्याज दर के समान वर्षों के लिए साधारण ब्याज पर एक साहूकार से ₹8,000 उधार लिए। यदि उसने ऋण
9 अवधि के अंत में ब्याज के रूप में ₹2,000 का भुगतान किया, तो ब्याज दर क्या थी?

- Ans
- 1. 8%
 - 2. 5%
 - 3. 7%
 - 4. 6%

Question ID : 9895807691
Chosen Option : 2

Q.6 A अकेले 12 दिनों में और B अकेले 16 दिनों में एक काम कर सकता है। उन्होंने ₹350 में काम करने की जिम्मेदारी
0 ली। B को कितना मिलेगा?

- Ans
- 1. ₹250
 - 2. ₹200
 - 3. ₹180
 - 4. ₹150

Question ID : 9895807693
Chosen Option : 4

Q.6 एक कार 4 घंटे में 120km/hr की गति से एक निश्चित दूरी तय करती है। यदि कार उसी दूरी को 3 घंटे 20 मिनट
1 में तय करती है, तो कार की गति क्या होनी चाहिए।

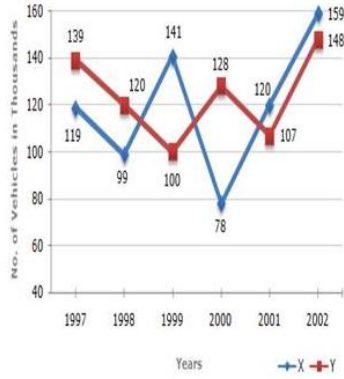
- Ans
- 1. 124 km/hr
 - 2. 142 km/hr
 - 3. 140 km/hr
 - 4. 144 km/hr

Question ID : 9895807695
Chosen Option : 4

Q.6
2

निम्न रेखीय ग्राफ का अध्ययन करें और इस पर आधारित प्रश्न का उत्तर दें।

वर्षों में दो कंपनियों द्वारा निर्मित वाहनों की संख्या (हजारों में)



1998 में कंपनी Y का उत्पादन लगभग उसी वर्ष कंपनी X के उत्पादन का लगभग कितना प्रतिशत था।

- Ans
- 1. 112.2%
 - 2. 121.2%
 - 3. 212.1%
 - 4. 211.2%

Question ID : 9895807701
Chosen Option : 2

Q.6 दो बेलनाकार डिब्बों का आधार समान आकार का है। प्रत्येक का व्यास 14 cm है। एक डिब्बे की ऊंचाई 10 cm और दूसरे की 20 cm है। उनके आयतन का अनुपात ज्ञात कीजिए।

- Ans
- 1. 1 : 2
 - 2. 3 : 2
 - 3. 2 : 3
 - 4. 2 : 1

Question ID : 9895807699
Chosen Option : 3

Q.6 रामू ने 25% छूट पर एक नई मेज खरीदी। यदि उसे कोई छूट नहीं मिलती, तो रामू को ₹185 और देने पड़ते। रामू ने मेज के लिए कितना भुगतान किया?

- Ans
- 1. ₹555
 - 2. ₹535
 - 3. ₹565
 - 4. ₹545

Question ID : 9895807683
Chosen Option : 3

Q.6 दो प्राकृत संख्याओं के बीच का अनुपात 3: 4 है, वह सबसे छोटी संख्या ज्ञात करें, जिसे जोड़ने पर अनुपात 4: 5 हो जाए और संख्याओं का योग 27 हो जाए।

- Ans
- 1. 3
 - 2. 6
 - 3. 5

✗ 4. 4

Question ID : 9895807689
Chosen Option : 4

Q.6 'n' अवलोकनों का औसत 38 है, n अन्य अवलोकनों का औसत 42 है और शेष n अवलोकनों का औसत 55 है।
6 सभी अवलोकनों का औसत है:

- Ans
- ✗ 1. 55
 - ✓ 2. 45
 - ✗ 3. 40
 - ✗ 4. 35

Question ID : 9895807682
Chosen Option : 2

Q.6 एक आयत की लंबाई और चौड़ाई 8:3 के अनुपात में है। यदि परिमाप 132 cm है तो इसका क्षेत्रफल ज्ञात करें।
7

- Ans
- ✗ 1. 846 cm²
 - ✗ 2. 684 cm²
 - ✓ 3. 864 cm²
 - ✗ 4. 648 cm²

Question ID : 9895807698
Chosen Option : 3

Q.6 A, B और C क्रमशः 12, 15 और 30 दिनों में एक कार्य कर सकते हैं। यदि वे एक साथ कार्य करते हैं, तो वह
8 अनुपात ज्ञात करें, जिसमें राशि वितरित की जानी है:

- Ans
- ✓ 1. 5 : 4 : 2
 - ✗ 2. 2 : 5 : 4
 - ✗ 3. 4 : 5 : 2
 - ✗ 4. 2 : 4 : 5

Question ID : 9895807694
Chosen Option : 1

Q.6 वाराणसी की जनसंख्या 2,25,000 है। यदि वार्षिक जन्म दर और मृत्यु दर 9% और 7% हैं, तो 2 वर्ष बाद शहर की
9 आबादी की गणना करें।

- Ans
- ✗ 1. 243090
 - ✗ 2. 432090
 - ✗ 3. 423900
 - ✓ 4. 234090

Question ID : 9895807692
Chosen Option : 2

Q.7
0

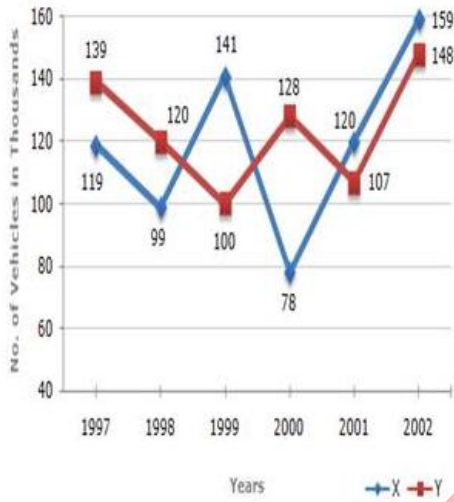
सरलीकृत करें: $8 + 3 - \left(\frac{5}{2} \times \frac{1}{3}\right)$ of $\frac{12}{5} + \frac{4}{3} \times \frac{3}{8}$

- Ans
- 1. 9
 - 2. 10
 - 3. 19
 - 4. 9.5

Question ID : 9895807680
Chosen Option : 4

Q.7 निम्न रेखीय ग्राफ का अध्ययन करें और इस पर आधारित प्रश्न का उत्तर दें।

वर्षों में दो कंपनियों द्वारा निर्मित वाहनों की संख्या (हजारों में)



1997 से 2000 तक दोनों कंपनियों के कुल उत्पादन में क्या अंतर है?

- Ans
- 1. 40000
 - 2. 50000
 - 3. 60000
 - 4. 30000

Question ID : 9895807700
Chosen Option : 2

Q.7 मैंने ₹8,800 में एक वस्तु बेची और इस तरह 10% लाभ कमाया। 15% लाभ प्राप्त करने के लिए मुझे इसे कितनी राशि में बेचना चाहिए?

- Ans
- 1. ₹9,400
 - 2. ₹9,200
 - 3. ₹9,500
 - 4. ₹9,300

Question ID : 9895807687
Chosen Option : 2

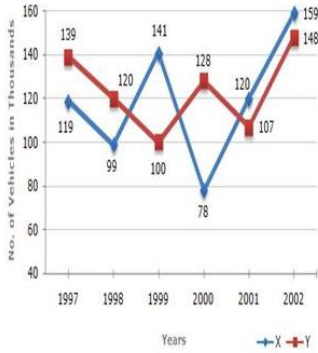
Q.7 अरुण और आनंद की आयु का अनुपात 3:1 है। 5 साल बाद अरुण की आयु आनंद की आयु के दोगुने से 5 अधिक होगी। तो अरुण की वर्तमान आयु कितनी है?

- Ans
- 1. 25
 - 2. 30
 - 3. 40
 - 4. 35

Question ID : 9895807690
Chosen Option : 2

Q.7 निम्न रेखीय ग्राफ का अध्ययन करें और इस पर आधारित प्रश्न का उत्तर दें।

वर्षों में दो कंपनियों द्वारा निर्मित वाहनों की संख्या (हजारों में)



निम्नलिखित में से किस वर्ष में, कंपनी X और Y के उत्पादन के बीच का अंतर दिए गए वर्षों में न्यूनतम था?

- Ans
- 1. 1997
 - 2. 2002
 - 3. 1999
 - 4. 2000

Question ID : 9895807702
Chosen Option : 1

Q.7 8 के पहले आठ गुणकों का औसत है:

- Ans
- 1. 36
 - 2. 72
 - 3. 32
 - 4. 46

Question ID : 9895807681
Chosen Option : 3

Section : English Language

Q.1 From the given options, identify the segment in the sentence which contains the grammatical error.

The researchers have discovered numerous sample of decorated sandstone, including chapel art depicting the Egyptian goddess.

- Ans
- 1. including chapel art

- 2. researchers have discovered
- 3. numerous sample of decorated sandstone
- 4. depicting the Egyptian goddess

Question ID : 9895808011
Chosen Option : --

Q.2 Select the correctly spelt word.

- Ans
- 1. Refreegerator
 - 2. Refrigerator
 - 3. Refridgerator
 - 4. Refrigerator

Question ID : 9895808032
Chosen Option : --

Q.3 Select the synonym of the given word.

FLIMSY

- Ans
- 1. coarse
 - 2. sturdy
 - 3. general
 - 4. Feeble

Question ID : 9895808023
Chosen Option : --

Q.4 Select the option that means the same as the given idiom.

To burn the midnight oil.

- Ans
- 1. To work till very late in the night
 - 2. To use oil for burning a lamp
 - 3. To fight with someone at midnight
 - 4. To eat something at midnight

Question ID : 9895808027
Chosen Option : --

Q.5 Select the most appropriate option to fill in the blank.

There is no prediction that _____ how fast dehydration can affect your general health.

- Ans
- 1. have show
 - 2. have been showing

- 3. shows
- 4. showed

Question ID : 9895808016
Chosen Option : --

Q.6 Select the word which means the same as the group of words given.

A cold - blooded vertebrate typically living on land but breeding in water.

- Ans
- 1. Reptiles
 - 2. Amphibians
 - 3. Mammals
 - 4. Fish

Question ID : 9895808029
Chosen Option : --

Q.7 Select the most appropriate option to substitute the underlined segment in the given sentence. If there is no need to substitute it, select No improvement.

Some people are so good that a mere looks at them pleases you a lot.

- Ans
- 1. a mere look at them pleases you
 - 2. a mere looks at them pleases you
 - 3. a mere look at their pleases you
 - 4. No Improvement

Question ID : 9895808013
Chosen Option : --

Q.8 Select the antonym of the given word.

PAUCITY

- Ans
- 1. Availability
 - 2. Surplus
 - 3. Shortage
 - 4. Scarcity

Question ID : 9895808026
Chosen Option : --

Q.9 Select the correctly spelt word.

- Ans
- 1. Miscelaneous
 - 2. Miscellaneous
 - 3. Miscelleneous
 - 4. Miscellaneius

Question ID : 9895808031

Chosen Option : --

Q.1
0 Select the most appropriate option to substitute the underlined segment in the given sentence. If there is no need to substitute it, select No improvement.

He welcomed the audience with a heartfelt gratitude for their kind presence on the day of the social gathering in the college.

- Ans
- 1. No Improvement
 - 2. of their kind presence
 - 3. for their kind presences
 - 4. for their kind present

Question ID : 9895808014

Chosen Option : --

Q.1
1 Select the synonym of the given word.

BREACH

- Ans
- 1. Restraint
 - 2. Restriction
 - 3. Violation
 - 4. Settlement

Question ID : 9895808024

Chosen Option : --

Q.1
2 Select the most appropriate option to substitute the underlined segment in the given sentence. If there is no need to substitute it, select No improvement.

My cousin won't be able to leave for Mumbai until his parents will have arrived.

- Ans
- 1. No Improvement
 - 2. until his parents will arrive
 - 3. until his parents arrive
 - 4. until his parents won't arrive

Question ID : 9895808012

Chosen Option : --

Q.1
3 Select the word which means the same as the group of words given.

Incapable of failure or error.

- Ans
- 1. Incurable
 - 2. Incurable
 - 3. Infallible
 - 4. Irredeemable

Question ID : 9895808030

Chosen Option : --

Q.1
4 Select the most appropriate option to fill in the blank.

Leadership _____ a rational approach to achieve success in any task.

- Ans
- 1. required
 - 2. require
 - 3. requires
 - 4. requiring

Question ID : 9895808015

Chosen Option : --

Q.1
5 Select the most appropriate word to fill in the blank.

Humans have a natural _____ to coordinate their movements with music.

- Ans
- 1. tendency
 - 2. disability
 - 3. order
 - 4. direction

Question ID : 9895808033

Chosen Option : --

Q.1
6 Select the antonym of the given word.

LOGICAL

- Ans
- 1. Useful
 - 2. Contradictory
 - 3. Sensible
 - 4. Practical

Question ID : 9895808025

Chosen Option : --

Q.1
7 From the given options, identify the segment in the sentence which contains the grammatical error.

In the modern world, the computer is an amazing gift to mankind for doing two thing effortlessly.

- Ans
- 1. In the modern world
 - 2. for doing two thing effortlessly.
 - 3. the computer is
 - 4. an amazing gift

Question ID : 9895808010

Q.1 From the given options, identify the segment in the sentence which contains the grammatical error.

8

A clear and defined perception enabled her to dismissed the suggestion given by some people around her.

Ans

- 1. clear and defined
- 2. suggestion given by
- 3. enabled her to dismissed
- 4. some people around her.

Question ID : 9895808009

Chosen Option : --

Q.1 Select the option that means the same as the given idiom.

9

Apples and Oranges.

Ans

- 1. Two unlike things or people
- 2. Two similar situations with likely results
- 3. People working together on a project
- 4. People with similar approaches

Question ID : 9895808028

Chosen Option : --

Comprehension:

In the following passage some words have been deleted. Fill in the blanks with the help of the alternatives given.

The concept of sustainable development provides a (1) _____ for the integration of environmental policies and development strategies. Sustainable development (2) _____ to meet the needs and aspirations of the present without compromising the (3) _____ to meet those in the future. In other words, sustainable development is a (4) _____ of change in which the exploitation of resources, the direction of investments, technological development and institutional changes are all in harmony and (5) _____ both current and future potential to meet human needs and objectives.

SubQuestion No : 20

Q.2 Select the most appropriate option that will fill in the blank number 1.

0

Ans

- 1. framework
- 2. figure
- 3. provision
- 4. comparison

Question ID : 9895808018

Comprehension:

In the following passage some words have been deleted. Fill in the blanks with the help of the alternatives given.

The concept of sustainable development provides a (1) _____ for the integration of environmental policies and development strategies. Sustainable development (2) _____ to meet the needs and aspirations of the present without compromising the (3) _____ to meet those in the future. In other words, sustainable development is a (4) _____ of change in which the exploitation of resources, the direction of investments, technological development and institutional changes are all in harmony and (5) _____ both current and future potential to meet human needs and objectives.

SubQuestion No : 21

Q.2
1 Select the most appropriate option that will fill in the blank number 2.

- Ans
- 1. seeks
 - 2. diverts
 - 3. rejects
 - 4. distracts

Question ID : 9895808019

Chosen Option : --

Comprehension:

In the following passage some words have been deleted. Fill in the blanks with the help of the alternatives given.

The concept of sustainable development provides a (1) _____ for the integration of environmental policies and development strategies. Sustainable development (2) _____ to meet the needs and aspirations of the present without compromising the (3) _____ to meet those in the future. In other words, sustainable development is a (4) _____ of change in which the exploitation of resources, the direction of investments, technological development and institutional changes are all in harmony and (5) _____ both current and future potential to meet human needs and objectives.

SubQuestion No : 22

Q.2
2 Select the most appropriate option that will fill in the blank number 3.

- Ans
- 1. operation
 - 2. orientation
 - 3. production
 - 4. invention

Question ID : 9895808020

Comprehension:

In the following passage some words have been deleted. Fill in the blanks with the help of the alternatives given.

The concept of sustainable development provides a (1) _____ for the integration of environmental policies and development strategies. Sustainable development (2) _____ to meet the needs and aspirations of the present without compromising the (3) _____ to meet those in the future. In other words, sustainable development is a (4) _____ of change in which the exploitation of resources, the direction of investments, technological development and institutional changes are all in harmony and (5) _____ both current and future potential to meet human needs and objectives.

SubQuestion No : 23

Q.2
3 Select the most appropriate option that will fill in the blank number 4.

- Ans
- 1. sample
 - 2. permission
 - 3. process
 - 4. progress

Question ID : 9895808021

Chosen Option : --

Comprehension:

In the following passage some words have been deleted. Fill in the blanks with the help of the alternatives given.

The concept of sustainable development provides a (1) _____ for the integration of environmental policies and development strategies. Sustainable development (2) _____ to meet the needs and aspirations of the present without compromising the (3) _____ to meet those in the future. In other words, sustainable development is a (4) _____ of change in which the exploitation of resources, the direction of investments, technological development and institutional changes are all in harmony and (5) _____ both current and future potential to meet human needs and objectives.

SubQuestion No : 24

Q.2
4 Select the most appropriate option that will fill in the blank number 5.

- Ans
- 1. resist
 - 2. relieve
 - 3. enhance
 - 4. dismiss

Question ID : 9895808022

Q.2 Select the most appropriate word to fill in the blank.

5

There is a high degree of _____ from e - mail based to social -media based messaging globally.

- Ans
- 1. transaction
 - 2. method
 - 3. process
 - 4. transition

Question ID : 9895808034

Chosen Option : --

Section : Hindi Language

Q.1 सही वर्तनी वाले शब्द का चयन करें।

- Ans
- 1. मखनचोर
 - 2. माकनचोर
 - 3. माखनचोर
 - 4. माखनचौर

Question ID : 9895806811

Chosen Option : 2

Q.2 दिए गए शब्द का विलोम चुनें।

निशा

- Ans
- 1. दशा
 - 2. दिवा
 - 3. दवा
 - 4. दिशा

Question ID : 9895806804

Chosen Option : 4

Q.3 दिये गये वाक्यांश के लिए एक शब्द दीजिये।

इतिहास से संबंधित

- Ans
- 1. ऐतिहासिक
 - 2. सैद्धांतिक
 - 3. इतिहासिक
 - 4. पौराणिक

Question ID : 9895806810

Chosen Option : 1

Q.4 दिए गए वाक्य का वह भाग ज्ञात करें जिसमें कोई त्रुटि है।

विज्ञान के युग ने समय की महत्व बहुत बढ़ा दिया है।

- Ans
- 1. समय की महत्व
 - 2. विज्ञान के
 - 3. युग ने
 - 4. बहुत बढ़ा दिया है।

Question ID : 9895806789

Chosen Option : 1

Q.5 निम्नलिखित में से उस विकल्प का चयन करें जो 'विशंकु होना' मुहावरे का अर्थ व्यक्त करता है।

- Ans
- 1. अधर में लटकना
 - 2. शंकालु होना
 - 3. सब जगह रहने वाला
 - 4. इधर-उधर होना

Question ID : 9895806808

Chosen Option : 3

Q.6 रिक्त स्थान को भरने के लिए उपयुक्त शब्द का चयन करें।

बाहर लकड़ी के _____ पड़े हुए हैं।

- Ans
- 1. मलबे
 - 2. समूह
 - 3. गड्ढर
 - 4. झुंड

Question ID : 9895806795

Chosen Option : 3

Q.7 दिए गए शब्द का विलोम चुनें।

असफल

- Ans
- 1. सफल

- 2. सरल
- 3. विफल
- 4. अफल

Question ID : 9895806803
Chosen Option : 1

Q.8 दिए गए वाक्य में रेखांकित खंड को प्रतिस्थापित करने के लिए उपयुक्त विकल्प का चयन करें।

अर्जुन के षोडश वर्षीय पुत्र अभिमन्यु ने चक्रव्यूह तोड़ा।

- Ans
- 1. छह
 - 2. सोलह
 - 3. जवान
 - 4. वीर

Question ID : 9895806791
Chosen Option : 2

Q.9 दिये गये वाक्यांश के लिए एक शब्द दीजिये।

जिसका कोई आधार न हो

- Ans
- 1. मूसलाधार
 - 2. मूलाधार
 - 3. निराधार
 - 4. साधार

Question ID : 9895806809
Chosen Option : 3

Q.1 निम्नलिखित में से उस विकल्प का चयन करें जो 'हरी झंडी दिखाना' मुहावरे का अर्थ व्यक्त करता है।

- Ans
- 1. पीछे होने का संकेत देना
 - 2. हरियाली होने का संकेत होना
 - 3. पीछे चलने का संकेत देना
 - 4. आगे बढ़ने का संकेत देना

Question ID : 9895806807
Chosen Option : 4

Q.1
1

दिए गए शब्द के पर्यायवाची शब्द का चयन करें।

अवगुण

- Ans
- 1. प्रेम
 - 2. गुण
 - 3. दोष
 - 4. द्वेष

Question ID : 9895806806
Chosen Option : 4

Comprehension:

निम्नलिखित गद्यांश के रिक्त स्थानों की पूर्ति गद्यांश के नीचे दिए गए प्रश्नों के अनुसार कीजिए-

प्रदूषण आज के समय का सबसे बड़ा _____ (1) है। प्रदूषण के बढ़ने से धरती पर बहुत सी _____ (2) पैदा हो गयीं जिसे समय रहते न _____ (3) गया तो वो दिन दूर नहीं जब धीरे- धीरे सब खतम हो जायेगा। प्रदूषण के तत्त्व _____ (4) द्वारा उत्पन्न किये गये पदार्थ या वेस्ट मटेरियल होते हैं जो प्राकृतिक संसाधन जैसे कि वायु, जल और भूमि आदि को प्रदूषित करते हैं। प्रदूषण जहरीली गैस, कीटनाशक, शाकनाशी, ध्वनि, कार्बनिक मिश्रण, रेडियोधर्मी _____ (5) हो सकते हैं।

SubQuestion No : 12

Q.1
2 गद्यांश में संकेतित रिक्त स्थान (1) के लिए उपयुक्त शब्द होगा।

- Ans
- 1. कर्तव्य
 - 2. सफलता
 - 3. वरदान
 - 4. अभिशाप

Question ID : 9895806798
Chosen Option : 4

Comprehension:

निम्नलिखित गद्यांश के रिक्त स्थानों की पूर्ति गद्यांश के नीचे दिए गए प्रश्नों के अनुसार कीजिए-

प्रदूषण आज के समय का सबसे बड़ा _____ (1) है। प्रदूषण के बढ़ने से धरती पर बहुत सी _____ (2) पैदा हो गयीं जिसे समय रहते न _____ (3) गया तो वो दिन दूर नहीं जब धीरे- धीरे सब खतम हो जायेगा। प्रदूषण के तत्त्व _____ (4) द्वारा उत्पन्न किये गये पदार्थ या वेस्ट मटेरियल होते हैं जो प्राकृतिक संसाधन जैसे कि वायु, जल और भूमि आदि को प्रदूषित करते हैं। प्रदूषण जहरीली गैस, कीटनाशक, शाकनाशी, ध्वनि, कार्बनिक मिश्रण, रेडियोधर्मी _____ (5) हो सकते हैं।

SubQuestion No : 13

Q.1
3 गद्यांश में संकेतित रिक्त स्थान (2) के लिए उपयुक्त शब्द होगा।

- Ans
- 1. घटनाएं
 - 2. उम्मीदें
 - 3. कथाएं
 - 4. समस्याएं

Question ID : 9895806799
Chosen Option : 4

Comprehension:

निम्नलिखित गद्यांश के रिक्त स्थानों की पूर्ति गद्यांश के नीचे दिए गए प्रश्नों के अनुसार कीजिए-

प्रदूषण आज के समय का सबसे बड़ा _____ (1) है। प्रदूषण के बढ़ने से धरती पर बहुत सी _____ (2) पैदा हो गयीं जिसे समय रहते न _____ (3) गया तो वो दिन दूर नहीं जब धीरे- धीरे सब खतम हो जायेगा। प्रदूषण के तत्त्व _____ (4) द्वारा उत्पन्न किये गये पदार्थ या वेस्ट मटेरियल होते हैं जो प्राकृतिक संसाधन जैसे कि वायु, जल और भूमि आदि को प्रदूषित करते हैं। प्रदूषण जहरीली गैस, कीटनाशक, शाकनाशी, ध्वनि, कार्बनिक मिश्रण, रेडियोधर्मी _____ (5) हो सकते हैं।

SubQuestion No : 14

Q.1
4 गद्यांश में संकेतित रिक्त स्थान (3) के लिए उपयुक्त शब्द होगा।

- Ans
- 1. उठाया
 - 2. लगाया
 - 3. रोका
 - 4. बढ़ाया

Question ID : 9895806800
Chosen Option : 3

Comprehension:

निम्नलिखित गद्यांश के रिक्त स्थानों की पूर्ति गद्यांश के नीचे दिए गए प्रश्नों के अनुसार कीजिए-

प्रदूषण आज के समय का सबसे बड़ा _____ (1) है। प्रदूषण के बढ़ने से धरती पर बहुत सी _____ (2) पैदा हो गयीं जिसे समय रहते न _____ (3) गया तो वो दिन दूर नहीं जब धीरे- धीरे सब खतम हो जायेगा। प्रदूषण के तत्त्व _____ (4) द्वारा उत्पन्न किये गये पदार्थ या वेस्ट मटेरियल होते हैं जो प्राकृतिक संसाधन जैसे कि वायु, जल और भूमि आदि को प्रदूषित करते हैं। प्रदूषण जहरीली गैस, कीटनाशक, शाकनाशी, ध्वनि, कार्बनिक मिश्रण, रेडियोधर्मी _____ (5) हो सकते हैं।

SubQuestion No : 15

Q.1
5 गद्यांश में संकेतित रिक्त स्थान (4) के लिए उपयुक्त शब्द होगा।

- Ans
- 1. पेड़ों
 - 2. पहाड़ों
 - 3. मनुष्यों
 - 4. नदियों

Question ID : 9895806801
Chosen Option : 3

Comprehension:

निम्नलिखित गद्यांश के रिक्त स्थानों की पूर्ति गद्यांश के नीचे दिए गए प्रश्नों के अनुसार कीजिए-

प्रदूषण आज के समय का सबसे बड़ा _____ (1) है। प्रदूषण के बढ़ने से धरती पर बहुत सी _____ (2) पैदा हो गयीं जिसे समय रहते न _____ (3) गया तो वो दिन दूर नहीं जब धीरे- धीरे सब खतम हो जायेगा। प्रदूषण के तत्त्व _____ (4) द्वारा उत्पन्न किये गये पदार्थ या वेस्ट मटेरियल होते हैं जो प्राकृतिक संसाधन जैसे कि वायु, जल और भूमि आदि को प्रदूषित करते हैं। प्रदूषण जहरीली गैस, कीटनाशक, शाकनाशी, ध्वनि, कार्बनिक मिश्रण, रेडियोधर्मी _____ (5) हो सकते हैं।

SubQuestion No : 16

Q.1
6 गद्यांश में संकेतित रिक्त स्थान (5) के लिए उपयुक्त शब्द होगा।

- Ans
- 1. यथार्थ
 - 2. हथियार
 - 3. विचार
 - 4. पदार्थ

Question ID : 9895806802
Chosen Option : 4

Q.1
7 दिए गए वाक्य का वह भाग ज्ञात करें जिसमें कोई त्रुटि है।

समूहों के लोगों की आपसी मेल-मिलाप के तौर-तरीकों का जटिल स्वरूप ही समाज है।

- Ans
- 1. जटिल स्वरूप ही
 - 2. समूहों के लोगों की
 - 3. समाज है।
 - 4. आपसी मेल-मिलाप के तौर-तरीकों का

Question ID : 9895806788
Chosen Option : 2

Q.1
8 सही वर्तनी वाले शब्द का चयन करें।

- Ans
- 1. भुल्ककड़
 - 2. भुलककड़
 - 3. भूलककड़

✓ 4. भुलक्कड़

Question ID : 9895806812
Chosen Option : 3

Q.1 9 दिए गए शब्द के पर्यायवाची शब्द का चयन करें।

व्यवधान

- Ans
- ✗ 1. मिलन
 - ✗ 2. प्रीति
 - ✓ 3. बाधा
 - ✗ 4. भ्रमण

Question ID : 9895806805
Chosen Option : 1

Q.2 0 दिए गए वाक्य में रेखांकित खंड को प्रतिस्थापित करने के लिए उपयुक्त विकल्प का चयन करें।

शीतल वायु चल रही है।

- Ans
- ✓ 1. ठंडी
 - ✗ 2. सुरभि
 - ✗ 3. अनल
 - ✗ 4. सुगंधि

Question ID : 9895806790
Chosen Option : 3

Q.2 1 रिक्त स्थान को भरने के लिए उपयुक्त शब्द का चयन करें।

सैनिक देश की _____ करते हैं।

- Ans
- ✗ 1. वकालत
 - ✗ 2. दवा
 - ✗ 3. निर्माण
 - ✓ 4. रक्षा

Question ID : 9895806794
Chosen Option : 4

Q.2 2 दिए गए वाक्य में रेखांकित खंड को प्रतिस्थापित करने के लिए उपयुक्त विकल्प का चयन करें।

वह पिछले वर्ष हरिद्वार गया था।

- Ans
- ✗ 1. आगामी

- 2. भावी
- 3. गया
- 4. गत

Question ID : 9895806792
Chosen Option : 4

Q.2 दिए गए वाक्य का वह भाग ज्ञात करें जिसमें कोई त्रुटि है।

लोकतंत्र एक राजनीतिक व्यवस्था है जो लोगों को सम्मान मानती है।

- Ans
- 1. जो लोगों को
 - 2. लोकतंत्र एक
 - 3. राजनीतिक व्यवस्था है
 - 4. सम्मान मानती है।

Question ID : 9895806787
Chosen Option : 4

Q.2 रिक्त स्थान को भरने के लिए उपयुक्त शब्द का चयन करें।

पुस्तक का _____ फट गया।

- Ans
- 1. अक्षर
 - 2. रंग
 - 3. पन्ना
 - 4. व्याकरण

Question ID : 9895806793
Chosen Option : 3

Q.2 रिक्त स्थान को भरने के लिए उपयुक्त शब्द का चयन करें।

बागों में _____ खिलते हैं।

- Ans
- 1. फूल
 - 2. लड़के
 - 3. भौरे
 - 4. पक्षी

Question ID : 9895806796
Chosen Option : 1

GovtJobsAlert.In