

Constable (GD) in CAPFs, NIA, SSF and Rifleman (GD) in Assam Rifles Examination, 2018

Roll No. :	GovtJobsAlert.In
Registration No.	GovtJobsAlert.In
Name :	GovtJobsAlert.In
Exam Venue :	iON Digital Zone iDZ Albert Road
Exam Time :	12:30 PM - 2:00 PM
Exam Date :	03/03/2019

Section : General Section

Q.1 उस विकल्प का चयन करें जो तीसरे पद से उसी तरह संबंधित है जिस प्रकार पहला पद दूसरे पद से संबंधित है।

FGHM : GHIN :: FKDS : ?

- Ans
- 1. KGSV
 - 2. GHET
 - 3. EFGL
 - 4. GLET

Question ID : 9895808319
Chosen Option : 4

Q.2 उस विकल्प का चयन करें जो दर्पण के दाएँ ओर रखे जाने पर दी गई आकृति की दर्पण छवि से सर्वाधिक मेल खाता है।

प्रश्न आकृति:



- Ans
- 1.
 - 2.
 - 3.
 - 4.

Question ID : 9895808336
Chosen Option : 2

Q.3 X, Y, Z, P, Q और R एक पंक्ति में उत्तर की ओर मुख करके बैठे हैं। X, Y और P का पड़ोसी है। Q, Z और R का पड़ोसी है। P, X के दाएँ ओर है और P और Z एक दूसरे के निकटतम पड़ोसी हैं।

X और Q के मध्य कितने सदस्य हैं?

- Ans
- 1. तीन
 - 2. दो
 - 3. एक
 - 4. चार

Question ID : 9895808323
Chosen Option : 3

Q.4 उस विकल्प का चयन करें जो तीसरे पद से उसी तरह संबंधित है जिस प्रकार पहला पद दूसरे पद से संबंधित है।

भोजन : रसोइया :: किताब : ?

- Ans
- 1. रचयिता
 - 2. वैज्ञानिक
 - 3. निर्देशक

✓ 4. लेखक

Question ID : 9895808318
Chosen Option : 4

Q.5 उस विकल्प का चयन करें जो सही रूप में रिक्त स्थान की पूर्ति करते हुए श्रृंखला को पूरा करें।

225, 269, 324, 390, _____

- Ans
- ✗ 1. 466
 - ✗ 2. 480
 - ✓ 3. 467
 - ✗ 4. 567

Question ID : 9895808327
Chosen Option : 1

Q.6 यदि + का अर्थ '-' है, '-' का अर्थ '+' है, × का अर्थ '+' है, और '+' का अर्थ '×' है, तो:

 $256 - 4 \div 2 \times 128 =$

- Ans
- ✗ 1. 262
 - ✓ 2. 256
 - ✗ 3. 242
 - ✗ 4. 264

Question ID : 9895808332
Chosen Option : 1

Q.7 A, B तथा C शिक्षित हैं। A, C तथा D परिश्रमी हैं। C, D और E नौकरी शुदा हैं। A, B, D तथा E विनम हैं। उसका पता लगाइए जो शिक्षित, परिश्रमी तथा विनम है, परन्तु बेरोजगार है।

- Ans
- ✗ 1. B
 - ✗ 2. C
 - ✗ 3. E
 - ✓ 4. A

Question ID : 9895808324
Chosen Option : 4


Q.8 चार शब्द दिए गए हैं, जिनमें से तीन किसी तरह से समान हैं, जबकि एक अलग है। असंगत शब्द का चयन करें।

- Ans
- ✗ 1. क्रेडिट कार्ड
 - ✗ 2. डेबिट कार्ड
 - ✗ 3. बैंक कार्ड
 - ✓ 4. मेमोरी कार्ड


Question ID : 9895808316
Chosen Option : 4

Q.9 वह विकल्प चुनें जो दी गई आकृति श्रृंखला को पूरा करता है।

प्रश्न आकृति:



- Ans
- ✗ 1.
 - ✗ 2.


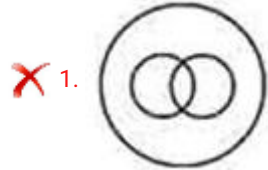


Question ID : 9895808333
Chosen Option : 2

Q.1 वेन आरेख का चयन करें जो दिए गए तीन वर्गों के बीच के संबंध को सर्वोत्तम दर्शाता है।

पांच का वर्ग, तीन का घन, विषम संख्या

Ans



Question ID : 9895808338
Chosen Option : --

Q.1 नीचे दिए गए कथनों के बाद दो निष्कर्ष I और II दिए गए हैं। यह मानते हुए कि कथनों में दी गई जानकारी सत्य है, भले ही वह सर्वज्ञात तथ्यों से भिन्न प्रतीत होती हो और यह निर्णय करें कि कौन सा/से निष्कर्ष तार्किक और निश्चित रूप से कथन में दी गई जानकारी का अनुसरण करता है/करते हैं।

कथन:

सभी झींगुर, पक्षी हैं।
कोई पक्षी, तितली नहीं है।

निष्कर्ष:

- I. सभी तितलियां, झींगुर हैं।
- II. कुछ झींगुर, तितलियां हैं।

Ans

✗ 1. केवल निष्कर्ष II अनुसरण करता है।

✓ 2. न तो निष्कर्ष I और न ही II अनुसरण करता है।

✗ 3. या तो निष्कर्ष I या II अनुसरण करता है।

✗ 4. केवल निष्कर्ष I अनुसरण करता है।

Question ID : 9895808326
Chosen Option : --

Q.1 उस विकल्प का चयन करें जो सही रूप में रिक्त स्थान की पूर्ति करते हुए श्रृंखला को पूरा करें।

2, 4, 8, 14, 22, _____

Ans

✓ 1. 32

✗ 2. 33

✗ 3. 31

✗ 4. 35

Question ID : 9895808328
Chosen Option : 1

Q.1
3

पाँच बन्दर A, B, C, D, और E, पेड़ की एक शाखा पर बैठे हैं।
C, D से अगला बैठा है। D, E के साथ नहीं बैठा है। E, शाखा के बाएँ छोर पर बैठा है। C दाएँ से दूसरे स्थान पर है। A, B के ठीक दाएँ ओर है और B, E के दाएँ ओर है। A और C साथ में बैठे हैं।

A किस स्थान पर बैठा है?

- Ans
- 1. C और F के बीच
 - 2. E और D के बीच
 - 3. D और C के बीच
 - 4. B और C के बीच

Question ID : 9895808322
Chosen Option : 4

Q.1 4 उस विकल्प का चयन करें जो तीसरे पद से उसी तरह संबंधित है जिस प्रकार पहला पद दूसरे पद से संबंधित है।

$$\frac{1}{14} : \frac{1}{196} :: \frac{1}{16} : ?$$

- Ans
- 1. $\frac{1}{256}$
 - 2. $\frac{1}{225}$
 - 3. $\frac{1}{289}$
 - 4. $\frac{1}{144}$

Question ID : 9895808329
Chosen Option : 1

Q.1 5 यदि L को 14 लिखते हैं, तो GOA को कैसे लिखा जाएगा?

- Ans
- 1. 22
 - 2. 29
 - 3. 26
 - 4. 21

Question ID : 9895808321
Chosen Option : 1

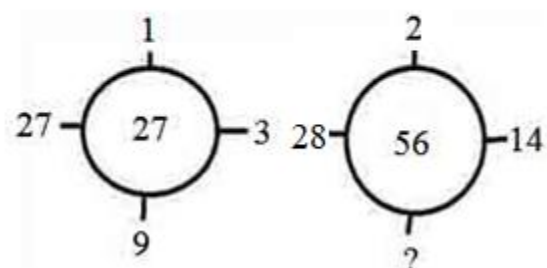
Q.1 6 दिए गए विकल्पों में से संबंधित शब्द युगल का चयन करें।

शीतकाल : : कोहरा : : _____ : _____

- Ans
- 1. मौसम : ठंडा
 - 2. बाढ़ : रेगिस्तान
 - 3. ग्रीष्मकाल : आर्द्रता
 - 4. वर्षा : वृक्ष

Question ID : 9895808317
Chosen Option : 3

Q.1 7 दिए गए विकल्पों में से लुप्त संख्या ज्ञात करें।



- Ans
- 1. 6
 - 2. 3
 - 3. 4
 - 4. 5

Question ID : 9895808331
Chosen Option : 3

Q.1 8 उस विकल्प आकृति का चयन करें, जिसमें प्रश्न आकृति छिपी हुई/ अंतर्निहित है।

प्रश्न आकृति:



- Ans
- 1.
 - 2.
 - 3.
 - 4.

Question ID : 9895808335
Chosen Option : 3

Q.1 9 एक निश्चित कूट भाषा में, SYSTEM को METSYS के रूप में कूटबद्ध किया जाता है। उस कूट में NORMS को कैसे कूटबद्ध किया जाता है?

- Ans
- 1. SMRON
 - 2. SMNOR
 - 3. SSRMO
 - 4. SRMON

Question ID : 9895808320
Chosen Option : 1

Q.2 0 एक पैटर्न के साथ एक वर्ग पारदर्शी शीट दी गई है। चार विकल्पों में से यह पता करें कि जब डॉटेड लाइन पर पारदर्शी शीट मुड़ी होती है तो पैटर्न कैसे दिखाई देगा।

प्रश्न आकृति:



- Ans
- 1.
 - 2.
 - 3.
 - 4.

Question ID : 9895808337
Chosen Option : 4

Q.2 1 उस विकल्प का चयन करें जो सही रूप में रिक्त स्थान की पूर्ति करते हुए श्रृंखला को पूरा करें।

BDF, CFI, DHL, ?

- Ans
- 1. FJO

- ✗ 2. FNO
 ✓ 3. EJO
 ✗ 4. EOJ

Question ID : 9895808314
 Chosen Option : 3

Q.2 2 चार विकल्प दिए गए हैं, जिनमें से तीन किसी तरह से समान हैं, जबकि एक अलग है। असंगत का चयन करें।

- Ans ✗ 1. 24-122
 ✓ 2. 36-128
 ✗ 3. 72-170
 ✗ 4. 88-186

Question ID : 9895808330
 Chosen Option : 2

Q.2 3 नीचे दिए गए कथनों के बाद दो निष्कर्ष I और II दिए गए हैं। यह मानते हुए कि कथनों में दी गई जानकारी सत्य है, भले ही वह सर्वज्ञात तथ्यों से भिन्न प्रतीत होती हो और यह निर्णय करें कि कौन सा/से निष्कर्ष तार्किक और निश्चित रूप से कथन में दी गई जानकारी का अनुसरण करता है/करते हैं।

कथन:

सभी फल, संतरे हैं।
 कुछ फल, अंगूर हैं।
 सभी अंगूर, चेरी हैं।

निष्कर्ष:

- I. सभी अंगूर, संतरे हैं।
 II. सभी चेरी, फल हैं।





- Ans ✗ 1. केवल निष्कर्ष II सत्य है।
 ✓ 2. न ही निष्कर्ष I न II सत्य है।
 ✗ 3. केवल निष्कर्ष I सत्य है।
 ✗ 4. या निष्कर्ष I या II सत्य है।

Question ID : 9895808325
 Chosen Option : 2

Q.2 4 निम्नलिखित में से कौन सी उत्तर आकृति दी गई आकृति को पूरा करेगी?

प्रश्न आकृति:



- Ans ✓ 1. 
 ✗ 2. 
 ✗ 3. 
 ✗ 4. 

Question ID : 9895808334
 Chosen Option : 1

Q.2 5 चार अक्षर समूह दिए गए हैं, जिनमें से तीन किसी तरह से समान हैं, जबकि एक अलग है। असंगत अक्षर समूह का चयन करें।

- Ans ✗ 1. NORS
 ✗ 2. BCFG

3. EGFC
 4. WXAB

Question ID : 9895808315
 Chosen Option : 4

Q.2
 6 किन ग्रहों की कक्षाओं के मध्य क्षुद्रग्रहों की बेल्ट है?

- Ans 1. यूरेनस और नेपचून
 2. शनि और यूरेनस
 3. मंगल और बृहस्पति
 4. बृहस्पति और शनि

Question ID : 9895807399
 Chosen Option : 4

Q.2
 7 लोन फॉक्स डांसिंग: माय ऑटोबायोग्राफी किसकी आत्मकथा है?

- Ans 1. डेविड दविदर
 2. रस्किन बांड
 3. शरदिंदु बंदोपाध्याय
 4. खुशवंत सिंह

Question ID : 9895807384
 Chosen Option : 1

Q.2
 8 निम्न में से कौन सी नदी गंगा की एक सहायक नदी नहीं है?

- Ans 1. गोमती
 2. चंबल
 3. बेतवा
 4. भीम

Question ID : 9895807397
 Chosen Option : 1

Q.2
 9 निम्नलिखित में से कौन सा एक संवैधानिक निकाय है?

- Ans 1. लोकपाल और लोकायुक्त
 2. केन्द्रीय सतर्कता आयोग
 3. नियंत्रक एवं महा लेखापरीक्षक
 4. राज्य सूचना आयोग

Question ID : 9895807390
 Chosen Option : 3

Q.3
 0 कौन सी मांसपेशी कनपटी की हड्डी को जबड़े से जोड़ती है?

- Ans 1. सोलियस
 2. पेक्टोरेलिस मेजर
 3. डेल्टॉयड
 4. मेसेटर

Question ID : 9895807396
 Chosen Option : 2

Q.3
 1 ब्लाईंड वर्ल्ड कप, 2018 का फाइनल जीतने के लिए भारत ने किस देश की क्रिकेट टीम को हराया?

- Ans 1. इंग्लैंड

2. न्यूजीलैंड
 3. पाकिस्तान
 4. दक्षिण अफ्रीका

Question ID : 9895807382
 Chosen Option : 1

Q.3
 2 कौन सी पर्वत श्रेणी में दुनिया की दूसरी सबसे ऊंची चोटी K2 स्थित है?

- Ans 1. पीर पंजाल पर्वतमाला
 2. ईस्ट काराकोरम पर्वतमाला
 3. धौलाधार पर्वतमाला
 4. जंस्कार पर्वतमाला

Question ID : 9895807398
 Chosen Option : 2

Q.3
 3 M' द्रव्यमान और 'R' विज्या वाले एक ठोस गोले का इसके केंद्र से गुजरने वाले अक्ष पर जड़त्वाघूर्ण कितना होगा?

- Ans 1. $2MR^2/5$
 2. $2MR/5$
 3. $5MR/2$
 4. $5MR^2/2$

Question ID : 9895807392
 Chosen Option : 4

Q.3
 4 2018-19 के लिए मडुवा का न्यूनतम समर्थन मूल्य कितना है?

- Ans 1. ₹5,150 प्रति क्विंटल
 2. ₹1,950 प्रति क्विंटल
 3. ₹2,897 प्रति क्विंटल
 4. ₹2,430 प्रति क्विंटल

Question ID : 9895807388
 Chosen Option : 2

Q.3
 5 दादासाहेब फाल्के पुरस्कार पाने वाले प्रथम व्यक्ति का नाम बताइए।

- Ans 1. बोमीरेड्डी नरसिम्हा रेड्डी
 2. पंकज मलिक
 3. पृथ्वीराज कपूर
 4. देविका रानी

Question ID : 9895807383
 Chosen Option : 1

Q.3
 6 किस अधिनियम ने ईस्ट इंडिया कंपनी के सिविल सेवक की भर्ती के लिए आधार के रूप में खुली प्रतियोगिता की व्यवस्था लागू की, जिसका अर्थ था कि भारतीय सिविल सेवा सबके लिए खुल गई?

- Ans 1. 1858 का भारत सरकार अधिनियम
 2. पिट्स इंडिया एक्ट
 3. 1853 का चार्टर एक्ट
 4. रेगुलेशन एक्ट 1773

Question ID : 9895807391
 Chosen Option : 1

Q.3
 7 भारतीय संविधान में अवशिष्ट शक्तियों का विचार किस देश के संविधान से प्रेरित है?

- Ans 1. कनाडा

- 2. यूनाइटेड किंगडम
- 3. आयरलैंड
- 4. ऑस्ट्रेलिया

Question ID : 9895807389
Chosen Option : 2

Q.3
8 केंद्रीय बजट 2018 में स्वयं-सहायता समूहों को दिए जाने वाले ऋण की राशि कितनी बढ़ाई गई है?

- Ans
- 1. ₹35,000 करोड़
 - 2. ₹75,000 करोड़
 - 3. ₹55,000 करोड़
 - 4. ₹15,000 करोड़

Question ID : 9895807387
Chosen Option : 1

Q.3
9 गराड़ी नृत्य की शैली किस राज्य में लोकप्रिय है?

- Ans
- 1. पंजाब
 - 2. महाराष्ट्र
 - 3. मध्य प्रदेश
 - 4. पुडुचेरी

Question ID : 9895807380
Chosen Option : 3

Q.4
0 उपसर्ग '_____' 10^{18} के अपवर्तक के बराबर है।

- Ans
- 1. peta
 - 2. femto
 - 3. exa
 - 4. atto

Question ID : 9895807393
Chosen Option : 2

Q.4
1 1942 के भारत छोड़ो आंदोलन के वक्त गोवालिया टैंक मैदान में भारत का राष्ट्रीय ध्वज फहराने वाला व्यक्ति कौन था?

- Ans
- 1. अल्लूरी सीताराम राजू
 - 2. अरुणा आसफ अली
 - 3. शंभू दत्त शर्मा
 - 4. मातंगिनी हाजरा

Question ID : 9895807401
Chosen Option : 1

Q.4
2 दक्षिण भारतीय वंश, विजयनगर साम्राज्य किस राजा द्वारा स्थापित किया गया था?

- Ans
- 1. नंदीवर्धन
 - 2. दंतिदुर्ग
 - 3. हरिहर I
 - 4. बिंदुसार

Question ID : 9895807400
Chosen Option : 4

Q.4
3 21 दिसंबर, 2018 को भारत का विदेशी मुद्रा भंडार कितना था?

- Ans
- 1. US\$ 524.17 बिलियन

2. US\$ 491.72 बिलियन
 3. US\$ 393.29 बिलियन
 4. US\$ 677.85 बिलियन

Question ID : 9895807386
Chosen Option : 4

Q.4
4 आवर्त सारणी के 6ठे आवर्त और समूह IVA में कौन सा तत्व रखा गया है?

- Ans 1. लीड (क्रमांक 82 पर)
 2. टेलुरियम (क्रमांक 52 पर)
 3. बेरियम (क्रमांक 56 पर)
 4. स्ट्रोंटियम (क्रमांक 38 पर)

Question ID : 9895807394
Chosen Option : 3

Q.4
5 लोक कला, नृत्य, संगीत और नाटक की वह शैली कौन सी है जो केरल में ओणम त्यौहार के दौरान बाघ के शिकार की कहानी प्रस्तुत करती है?

- Ans 1. मड़ई
 2. करमा
 3. मिंजर
 4. पुली काली

Question ID : 9895807379
Chosen Option : 4

Q.4
6 कौन सी लिपि कन्नड़ और तेलुगू की लिपि के तौर पर विकसित हुई?

- Ans 1. कदंब
 2. ब्राहमी
 3. शारदा
 4. ग्रंथ

Question ID : 9895807378
Chosen Option : 1

Q.4
7 कौन सी मिश्रधातु में लीड और टिन होते हैं?

- Ans 1. सोल्डर
 2. गन मेटल
 3. बेल मेटल
 4. जर्मन सिल्वर

Question ID : 9895807395
Chosen Option : 3

Q.4
8 326 BC में सिकंदर और राजा पोरस के बीच युद्ध किस नदी के किनारे पर लड़ा गया था?

- Ans 1. चंबल
 2. सतलज
 3. यमुना
 4. झेलम

Question ID : 9895807402
Chosen Option : 4

Q.4
9 2018 प्रीमियर लीग फाइनल किस टीम ने जीता?

- Ans 1. राजस्थान रॉयल्स

- ✓ 2. चेन्नई सुपर किंग्स
 ✗ 3. कोलकाता नाइट राइडर्स
 ✗ 4. किंग्स XI पंजाब

Question ID : 9895807381
 Chosen Option : 2

Q.5
 0 मिस वर्ल्ड का खिताब जीतने वाली पहली भारतीय और पहली एशियाई महिला का नाम बताइए।

- Ans ✗ 1. डायना हेडन
 ✗ 2. जीनत अमान
 ✗ 3. तारा एनी फॉसेका
 ✓ 4. रीता फारिया

Question ID : 9895807385
 Chosen Option : 4

Q.5
 1 ब्लैकबेरी ने शर्ट पर 20% की छूट की घोषणा की। कुमार दुकान पर गया। वह छूट में ₹ 400 बचाना चाहता था।
 ऐसा करने के लिए उसे कितने शर्ट खरीदने चाहिए, यदि प्रत्येक शर्ट की कीमत ₹500 है?

- Ans ✗ 1. 5
 ✓ 2. 4
 ✗ 3. 6
 ✗ 4. 3

Question ID : 9895807708
 Chosen Option : 2

Q.5
 2 दो संख्याओं का योग उनके बीच अंतर का 4 गुना है। यदि छोटी संख्या 45 है, तो बड़ी संख्या ज्ञात कीजिए।

- Ans ✓ 1. 75
 ✗ 2. 80
 ✗ 3. 85
 ✗ 4. 65

Question ID : 9895807715
 Chosen Option : 4

Q.5
 3 तीन संख्याओं में से, पहली संख्या दूसरी संख्या की दोगुनी और तीसरी संख्या की तीन गुनी है। यदि तीनों संख्याओं का औसत 660 है, तो सबसे छोटी संख्या क्या है?

- Ans ✗ 1. 320
 ✗ 2. 260
 ✗ 3. 300
 ✓ 4. 360

Question ID : 9895807707
 Chosen Option : 2

Q.5
 4 80 बस्तुओं का माध्य 45 पाया गया। यदि गणना के समय, दो मर्दों को गलती से 26 और 14 के बजाय 62 और 58 लिया गया, तो सही माध्य होगा:

- Ans ✗ 1. 43
 ✗ 2. 45
 ✗ 3. 42
 ✓ 4. 44

Question ID : 9895807709
 Chosen Option : --

Q.5
 5 एक आदमी 5 घंटे में 13 km धारा-प्रतिकूल (अपस्ट्रीम) और 5 घंटे में 28 km धारा-अनुकूल (डाउनस्ट्रीम) नौका विहार करता है, तो धारा की गति ज्ञात कीजिए।

- Ans ✓ 1. 1.5 km/hr
 ✗ 2. 1.7 km/hr
 ✗ 3. 1.6 km/hr
 ✗ 4. 1.4 km/hr

Question ID : 9895807721
Chosen Option : 4

Q.5 22 परिक्रमण पर 49 cm त्रिज्या के पहिया द्वारा तय की गई समान दूरी को तय करने के लिए 98 cm त्रिज्या वाले पहिये द्वारा कितने परिक्रमण लगाने की आवश्यकता है?

- Ans
- 1. 11
 - 2. 14
 - 3. 13
 - 4. 12

Question ID : 9895807724
Chosen Option : 2

Q.5 44cm × 28cm आकार के कागज की एक आयताकार शीट, को 44 cm लंबाई में घुमाया जाता है और एक बेलन (सिलेंडर) बनता है। बने हुए बेलन का आयतन ज्ञात कीजिए।

- Ans
- 1. 4131 cm³
 - 2. 4132 cm³
 - 3. 4312 cm³
 - 4. 4123 cm³

Question ID : 9895807722
Chosen Option : 2

Q.5 एक तार एक वर्ग के आकार में मोड़ा जाता है जिसका 121 cm² क्षेत्रफल है। यदि तार को एक वृत्त के रूप में मोड़ा जाए तो वृत्त की त्रिज्या है:

- Ans
- 1. 7 cm
 - 2. 6 cm
 - 3. 8 cm
 - 4. 5 cm

Question ID : 9895807723
Chosen Option : 3

Q.5 A अकेला किसी कार्य को 6 दिनों में, B और C 4 दिनों में, A और C 3 दिनों में करते हैं। तो B को कार्य पूरा करने में कितने दिन लगेंगे?

- Ans
- 1. 10 दिन
 - 2. 12 दिन
 - 3. 8 दिन
 - 4. 14 दिन

Question ID : 9895807718
Chosen Option : 3

Q.6 सबसे छोटी संख्या कौन सी है जिसे 12, 15 और 18 से विभाजित करने पर प्रत्येक मामले में शेषफल 7 आता है?

- Ans
- 1. 187
 - 2. 182
 - 3. 173
 - 4. 194

Question ID : 9895807703
Chosen Option : 1

Q.6 एक व्यक्ति अपनी आय का 35% भोजन पर और 55% कपड़ों पर खर्च करता है। यदि उसके पास अभी भी ₹400 शेष है, तो उसकी कुल आय क्या है?

- Ans
- 1. ₹3000
 - 2. ₹4000
 - 3. ₹5000
 - 4. ₹4500

Question ID : 9895807710
Chosen Option : 2

Q.6 एक आदमी 10 km/hr की गति से अपने ऑफिस जाता है और 15 km/hr की गति से लौटता है। यदि वह कुल 6 घंटे का समय लेता है, तो निवास और ऑफिस के बीच की दूरी है:

- Ans
- 1. 40 km
 - 2. 36 km
 - 3. 30 km
 - 4. 26 km

Question ID : 9895807720
Chosen Option : 3

Q.6 सरलीकृत करें: $15.9 \div 0.3 + 3.2 \times (7.6 - 3.4) - 50$

- Ans
- 1. 15.42
 - 2. 16.44
 - 3. 16.24
 - 4. 15.44

Question ID : 9895807705
Chosen Option : --

Q.6 ₹720 में 18 गेंदे बेचने पर, 6 गेंदों के क्रय मूल्य के बराबर हानि होती है। एक गेंद का क्रय मूल्य है:

- Ans
- 1. ₹70
 - 2. ₹80
 - 3. ₹50
 - 4. ₹60

Question ID : 9895807712
Chosen Option : 4

Q.6 निम्न तालिका का अध्ययन करें और प्रश्न का उत्तर दें।

5 विभिन्न राज्यों में निम्न वर्षों में एक प्रतियोगी परीक्षा में उपस्थित और अर्हताप्राप्त उम्मीदवारों की संख्या

राज्य	वर्ष									
	1997		1998		1999		2000		2001	
	App.	Qual.	App.	Qual.	App.	Qual.	App.	Qual.	App.	Qual.
M	5200	720	8500	980	7400	850	6800	775	9500	1125
N	7500	840	9200	1050	8450	920	9200	980	8800	1020
P	6400	780	8800	1020	7800	890	8750	1010	9750	1250
Q	8100	950	9500	1240	8700	980	9700	1200	8950	995
R	7800	870	7600	940	9800	1350	7600	945	7990	885

दिए गए किस वर्ष में, राज्य N से उपस्थित उम्मीदवारों की संख्या में अर्हताप्राप्त उम्मीदवार का अधिकतम प्रतिशत है?

- Ans
- 1. 1997
 - 2. 1998
 - 3. 2001
 - 4. 1999

Question ID : 9895807726
Chosen Option : 3

Q.6 निम्न तालिका का अध्ययन करें और प्रश्न का उत्तर दें।

6 विभिन्न राज्यों में निम्न वर्षों में एक प्रतियोगी परीक्षा में उपस्थित और अर्हताप्राप्त उम्मीदवारों की संख्या

राज्य	वर्ष									
	1997		1998		1999		2000		2001	
	App.	Qual.	App.	Qual.	App.	Qual.	App.	Qual.	App.	Qual.
M	5200	720	8500	980	7400	850	6800	775	9500	1125
N	7500	840	9200	1050	8450	920	9200	980	8800	1020
P	6400	780	8800	1020	7800	890	8750	1010	9750	1250
Q	8100	950	9500	1240	8700	980	9700	1200	8950	995
R	7800	870	7600	940	9800	1350	7600	945	7990	885

1998 में सभी पाँच राज्यों के बीच उपस्थित उम्मीदवारों की कुल संख्या, अर्हताप्राप्त उम्मीदवारों की कुल संख्या का कितने प्रतिशत है?

- Ans
- 1. 11.99%

2. 12.99%

3. 9.99%

4. 10.99%

Question ID : 9895807727
Chosen Option : 3

Q.6 ₹544 को A, B, C के बीच 3: 5: 8 के अनुपात में विभाजित किया जाना है। तो C को B से कितना अधिक
7 मिलेगा?

Ans 1. ₹272

2. ₹92

3. ₹170

4. ₹102

Question ID : 9895807713
Chosen Option : 3

Q.6 3 वर्ष पहले, बेंगलूर की जनसंख्या 3 लाख थी। यदि यह संख्या क्रमिक 3 वर्षों के दौरान क्रमशः 2%, 5% और 4%
8 की दर से बढ़ती है, तो वर्तमान जनसंख्या है:

Ans 1. 3,53,412

2. 3,43,152

3. 3,34,152

4. 3,35,214

Question ID : 9895807717
Chosen Option : 2

Q.6 A अपने वेतन का 80% और B अपने वेतन का 75% खर्च करता है। लेकिन दोनों की बचत बराबर है। यदि उनकी
9 आय का योग ₹72,000 है तो B की आय ज्ञात करें।

Ans 1. ₹32,000

2. ₹40,000

3. ₹36,000

4. ₹38,000

Question ID : 9895807714
Chosen Option : 1

Q.7 3 के पहले 6 विषम गुणकों का औसत है

Ans 1. 18

2. 15

3. 28

4. 30

Question ID : 9895807706
Chosen Option : 1

Q.7 एक व्यक्ति ने SBI से 10% प्रति वर्ष की साधारण ब्याज दर पर ऋण लिया। 5 वर्ष बाद, उसने ब्याज के रूप में
1 ₹5,000 का भुगतान किया। तो उसके द्वारा उधर ली गई मूल राशि है:

Ans 1. ₹9,000

2. ₹10,000

3. ₹12,000

4. ₹8,000

Question ID : 9895807716
Chosen Option : 4

Q.7 दो पाइप A और B क्रमशः 12 घंटे और 15 घंटे में एक टैंक भर सकते हैं, जबकि एक तीसरा पाइप C 10 घंटे में
2 टैंक खाली कर सकता है। यदि सभी तीन पाइप एक साथ खोले जाते हैं, तो टैंक को भरने में कितना समय लगेगा।

Ans 1. 18 घंटे

2. 25 घंटे

3. 15 घंटे

✓ 4. 20 घंटे

Question ID : 9895807719
Chosen Option : --

Q.7 सरलीकृत करें: $\frac{18 + \frac{3}{2} \text{ of } 12 - 4}{28 - \frac{3}{2} \text{ of } (12-4)}$

- Ans
- ✗ 1. 5
 - ✓ 2. 2
 - ✗ 3. 4
 - ✗ 4. 3

Question ID : 9895807704
Chosen Option : --

Q.7 एक बैंडर ने एक रुपये में 10 टॉफ़ी की दर से टॉफ़ियां खरीदी। उसे 25% लाभ हासिल करने के लिए एक रुपये में 4 कितनी टॉफ़ियां बेचनी चाहिए?

- Ans
- ✗ 1. 7
 - ✗ 2. 6
 - ✗ 3. 5
 - ✓ 4. 8

Question ID : 9895807711
Chosen Option : 4

Q.7 निम्न तालिका का अध्ययन करें और प्रश्न का उत्तर दें।

5

विभिन्न राज्यों में निम्न वर्षों में एक प्रतियोगी परीक्षा में उपस्थित और अर्हताप्राप्त उम्मीदवारों की संख्या

राज्य	वर्ष									
	1997		1998		1999		2000		2001	
	App.	Qual.	App.	Qual.	App.	Qual.	App.	Qual.	App.	Qual.
M	5200	720	8500	980	7400	850	6800	775	9500	1125
N	7500	840	9200	1050	8450	920	9200	980	8800	1020
P	6400	780	8800	1020	7800	890	8750	1010	9750	1250
Q	8100	950	9500	1240	8700	980	9700	1200	8950	995
R	7800	870	7600	940	9800	1350	7600	945	7990	885

2000 में एक साथ सभी राज्यों से अर्हताप्राप्त उम्मीदवारों की कुल संख्या 2001 में सभी राज्यों से अर्हताप्राप्त उम्मीदवारों की कुल संख्या का लगभग कितना प्रतिशत है?

- Ans
- ✗ 1. 94%
 - ✗ 2. 92%
 - ✗ 3. 91%
 - ✓ 4. 93%

Question ID : 9895807725
Chosen Option : 2

Section : English Language

Q.1 Select the antonym of the given word.

LIBERAL

- Ans
- ✗ 1. Reserved
 - ✗ 2. Aloof
 - ✓ 3. Quiet
 - ✗ 4. Stingy

Question ID : 9895808051
Chosen Option : --

Q.2 From the given options, identify the segment in the sentence which contains the grammatical error.

Poverty and lack of schools are primary reasons for prevalence of child labour for any developing country.

Ans

- 1. of child labour
- 2. primary reasons
- 3. lack of schools
- 4. for any developing country

Question ID : 9895808036
Chosen Option : --

Q.3 Select the correctly spelt word.

- Ans
- 1. Heterogenaous
 - 2. Heteroganeous
 - 3. Hetarogeneous
 - 4. Heterogeneous

Question ID : 9895808058
Chosen Option : --

Q.4 From the given options, identify the segment in the sentence which contains the grammatical error.

Fitness does not mean to be only physically fit, it also meant healthy mental state of a person.

- Ans
- 1. it also meant healthy
 - 2. mental state of a person
 - 3. Fitness does not mean
 - 4. only physically fit

Question ID : 9895808035
Chosen Option : --

Q.5 Select the most appropriate option to substitute the underlined segment in the given sentence. If there is no need to substitute it, select No improvement.

There is a paradigm shift with digital media now becoming the primary source of information.

- Ans
- 1. There are paradigm shift
 - 2. There is paradigm shifts
 - 3. There was paradigm shift
 - 4. No improvement

Question ID : 9895808039
Chosen Option : --

Q.6 Select the synonym of the given word.

ERADICATE

- Ans
- 1. Dedicate
 - 2. Create
 - 3. Decorate
 - 4. Abolish

Question ID : 9895808050
Chosen Option : --

Q.7 Select the word which means the same as the group of words given.

An imaginary ideal society free of poverty and suffering.

- Ans
- 1. Utopian
 - 2. Cosmopolitan
 - 3. Egalitarian
 - 4. Urban

Question ID : 9895808056
Chosen Option : --

Q.8

Select the most appropriate option to fill in the blank.

Honesty _____ to being trustworthy and gaining personal recognition.

- Ans
- 1. referred
 - 2. referring
 - 3. refer
 - 4. refers

Question ID : 9895808042
Chosen Option : --

Q.9 Select the most appropriate option to substitute the underlined segment in the given sentence. If there is no need to substitute it, select No improvement.

Karishma sent a word to me that she would be coming over.

- Ans
- 1. had sent word
 - 2. sent a word
 - 3. sent words
 - 4. No improvement

Question ID : 9895808038
Chosen Option : --

Q.1
0 Select the synonym of the given word.

GALLANT

- Ans
- 1. Infirm
 - 2. Anxious
 - 3. Restless
 - 4. Courageous

Question ID : 9895808049
Chosen Option : --

Q.1
1 Select the option that means the same as the given idiom.

To have a blast.

- Ans
- 1. To have a good time
 - 2. To fire a cracker
 - 3. To have too many friends
 - 4. To burst a balloon

Question ID : 9895808054
Chosen Option : --

Q.1
2 Select the correctly spelt word.

- Ans
- 1. Reciept
 - 2. Receptit
 - 3. Receipt
 - 4. Riceipt

Question ID : 9895808057
Chosen Option : --

Q.1
3 Select the most appropriate word to fill in the blank.

Friends who empathise with one another _____ greater satisfaction with their friendship.

- Ans
- 1. appreciate
 - 2. believe
 - 3. relish
 - 4. experience

Question ID : 9895808059
Chosen Option : --

Q.1 Select the most appropriate word to fill in the blank.

4

Every good work is the result of cooperation and best wishes of _____ people.

- Ans
- 1. few
 - 2. limited
 - 3. rare
 - 4. several

Question ID : 9895808060
Chosen Option : --

Q.1 Select the most appropriate option to substitute the underlined segment in the given sentence. If there is no need to substitute it, select No improvement.

5

An award winning by a player in any game is testimony of his/her hard work and dedication.

- Ans
- 1. A award won by a player
 - 2. An award win by a player
 - 3. No improvement
 - 4. An award won for a player

Question ID : 9895808040
Chosen Option : --

Comprehension:

In the following passage some words have been deleted. Fill in the blanks with the help of the alternatives given.

We are the leaders of the day and we have (1) _____ to fight against corruption. We have taken an oath that we will (2) _____ pay bribes nor will accept them in our life. If we can develop a committed young generation with this commitment and (3) _____, we can make a big change. We have several examples of how a committed leadership can make a big positive (4) _____ on social life. Another solution is to go for complete digitization and making the process more (5) _____. So let's be optimistic and dream about a corruption free society.

SubQuestion No : 16

Q.1 Select the most appropriate option that will fill in the blank number 1.

6

- Ans
- 1. resolved
 - 2. taken
 - 3. directed
 - 4. reserved

Question ID : 9895808044
Chosen Option : --

Comprehension:

In the following passage some words have been deleted. Fill in the blanks with the help of the alternatives given.

We are the leaders of the day and we have (1) _____ to fight against corruption. We have taken an oath that we will (2) _____ pay bribes nor will accept them in our life. If we can develop a committed young generation with this commitment and (3) _____, we can make a big change. We have several examples of how a committed leadership can make a big positive (4) _____ on social life. Another solution is to go for complete digitization and making the process more (5) _____. So let's be optimistic and dream about a corruption free society.

SubQuestion No : 17

Q.1 Select the most appropriate option that will fill in the blank number 2.

7

- Ans
- 1. soon
 - 2. ever
 - 3. later
 - 4. never

Comprehension:

In the following passage some words have been deleted. Fill in the blanks with the help of the alternatives given.

We are the leaders of the day and we have (1) _____ to fight against corruption. We have taken an oath that we will (2) _____ pay bribes nor will accept them in our life. If we can develop a committed young generation with this commitment and (3) _____, we can make a big change. We have several examples of how a committed leadership can make a big positive (4) _____ on social life. Another solution is to go for complete digitization and making the process more (5) _____. So let's be optimistic and dream about a corruption free society.

SubQuestion No : 18

Q.1
8 Select the most appropriate option that will fill in the blank number 3.

- Ans
- 1. promise
 - 2. belief
 - 3. support
 - 4. reliance

Question ID : 9895808046

Chosen Option : --

Comprehension:

In the following passage some words have been deleted. Fill in the blanks with the help of the alternatives given.

We are the leaders of the day and we have (1) _____ to fight against corruption. We have taken an oath that we will (2) _____ pay bribes nor will accept them in our life. If we can develop a committed young generation with this commitment and (3) _____, we can make a big change. We have several examples of how a committed leadership can make a big positive (4) _____ on social life. Another solution is to go for complete digitization and making the process more (5) _____. So let's be optimistic and dream about a corruption free society.

SubQuestion No : 19

Q.1
9 Select the most appropriate option that will fill in the blank number 4.

- Ans
- 1. impact
 - 2. blame
 - 3. guilt
 - 4. liability

Question ID : 9895808047

Chosen Option : --

Comprehension:

In the following passage some words have been deleted. Fill in the blanks with the help of the alternatives given.

We are the leaders of the day and we have (1) _____ to fight against corruption. We have taken an oath that we will (2) _____ pay bribes nor will accept them in our life. If we can develop a committed young generation with this commitment and (3) _____, we can make a big change. We have several examples of how a committed leadership can make a big positive (4) _____ on social life. Another solution is to go for complete digitization and making the process more (5) _____. So let's be optimistic and dream about a corruption free society.

SubQuestion No : 20

Q.2
0 Select the most appropriate option that will fill in the blank number 5.

- Ans
- 1. transparent
 - 2. opaque

3. secret
 4. hidden

Question ID : 9895808048
Chosen Option : --

Q.2
1 Select the word which means the same as the group of words given.

Anything that cannot be avoided.

- Ans 1. Indelible
 2. Infallible
 3. Invincible
 4. Inevitable

Question ID : 9895808055
Chosen Option : --

Q.2
2 Select the most appropriate option to fill in the blank.

Artificial intelligence (AI) _____ defined as a system that employs machine learning.

- Ans 1. was
 2. is
 3. were
 4. are

Question ID : 9895808041
Chosen Option : --

Q.2
3 Select the option that means the same as the given idiom.

To hit the road.

- Ans 1. To meet with an accident
 2. To cross the road
 3. To complete a journey
 4. Begin one's journey

Question ID : 9895808053
Chosen Option : --

Q.2
4 From the given options, identify the segment in the sentence which contains the grammatical error.

Technology have not only revolutionized the learning process but also has spread knowledge liberally across the world.

- Ans 1. has spread knowledge
 2. across the world
 3. Technology have not only
 4. the learning process

Question ID : 9895808037
Chosen Option : --

Q.2
5 Select the antonym of the given word.

MUNDANE

- Ans 1. Common
 2. Regular
 3. Extraordinary
 4. Simple

Question ID : 9895808052
Chosen Option : --

Section : Hindi Language

Q.1 सही वर्तनी वाले शब्द का चयन करें।

Ans

1. हंसवहिनि
 2. हंसवाहिनी
 3. हंसवाहीनी
 4. हनसवहिनी

Question ID : 9895806837
Chosen Option : 1

Q.2 दिए गए वाक्य में रेखांकित खंड को प्रतिस्थापित करने के लिए उपयुक्त विकल्प का चयन करें।

पिक का स्वर बहुत मधुर होता है।

- Ans 1. तरु
 2. वायु
 3. गरुड़
 4. कोयल

Question ID : 9895806817
Chosen Option : 4

Q.3 दिए गए शब्द का विलोम चुनें।

रोगी

- Ans 1. भोगी
 2. बलवान
 3. निरोग
 4. योगी

Question ID : 9895806830
Chosen Option : 3

Q.4 रिक्त स्थान को भरने के लिए उपयुक्त शब्द का चयन करें।

पेट्रोल के _____ बढ़ गए हैं।

- Ans 1. कीमत
 2. दाम
 3. नाम
 4. शाम

Question ID : 9895806821
Chosen Option : 2

Q.5 दिए गए वाक्य का वह भाग ज्ञात करें जिसमें कोई त्रुटि है।

कहने की आवश्यकता नहीं कि पुरुष किन्तु नारी एक दूसरे के पूरक हैं।

- Ans 1. पूरक हैं।
 2. पुरुष किन्तु नारी
 3. कहने की आवश्यकता नहीं कि
 4. एक दूसरे के

Question ID : 9895806815
Chosen Option : 2

Q.6 दिए गए वाक्य में रेखांकित खंड को प्रतिस्थापित करने के लिए उपयुक्त विकल्प का चयन करें।

मेरा मित्र ज़रूरी काम में व्यस्त है।

- Ans 1. सामान्य
 2. आवश्यक

- 3. कठोर
- 4. साधारण

Question ID : 9895806816
Chosen Option : 2

Q.7 दिए गए शब्द का विलोम चुनें।

सजीव

- Ans
- 1. राजीव
 - 2. निर्जीव
 - 3. जीवित
 - 4. जीव

Question ID : 9895806829
Chosen Option : 2

Q.8 रिक्त स्थान को भरने के लिए उपयुक्त शब्द का चयन करें।

वह दिल्ली से _____ आया है।

- Ans
- 1. आज
 - 2. थोड़ा
 - 3. ज्यादा
 - 4. चल

Question ID : 9895806820
Chosen Option : 1

Q.9 दिए गए वाक्य का वह भाग जात करें जिसमें कोई त्रुटि है।

श्रम की साधना से ही राष्ट्र महान होती है।

- Ans
- 1. होती है।
 - 2. साधना से ही
 - 3. राष्ट्र महान
 - 4. श्रम की

Question ID : 9895806813
Chosen Option : 1

Q.1 निम्नलिखित में से उस विकल्प का चयन करें जो 'हाथ पाँव फूल जाना' मुहावरे का अर्थ व्यक्त करता है।

- Ans
- 1. दुखी हो जाना
 - 2. घबरा जाना
 - 3. हाथ-पैर में चोट लगना
 - 4. सूजन आ जाना

Question ID : 9895806833
Chosen Option : 2

Q.1 सही वर्तनी वाले शब्द का चयन करें।

- Ans
- 1. परधानमंत्री
 - 2. पर्धानमंत्री
 - 3. प्रधानमंत्री
 - 4. प्रधानमनत्री

Question ID : 9895806838
Chosen Option : 3

Q.1
2 रिक्त स्थान को भरने के लिए उपयुक्त शब्द का चयन करें।

मुझे नैना पर चोरी का _____ है।

- Ans
- 1. गर्व
 - 2. अपमान
 - 3. संदेह
 - 4. मान

Question ID : 9895806822
Chosen Option : 3

Q.1
3 दिए गए शब्द के पर्यायवाची शब्द का चयन करें।

समता

- Ans
- 1. असमता
 - 2. केतु
 - 3. संकट
 - 4. बराबरी

Question ID : 9895806831
Chosen Option : 1

Q.1
4 दिये गये वाक्यांश के लिए एक शब्द दीजिये।

शरण में आया हुआ

- Ans
- 1. गोपनीय
 - 2. शरणागत
 - 3. शरणीय
 - 4. आगत

Question ID : 9895806835
Chosen Option : 2

Q.1
5 निम्नलिखित में से उस विकल्प का चयन करें जो 'नाक में नकेल डालना' मुहावरे का अर्थ व्यक्त करता है।

- Ans
- 1. अनियंत्रित करना
 - 2. नाक में नथ पहनाना
 - 3. परेशान करना
 - 4. नियंत्रण में करना

Question ID : 9895806834
Chosen Option : 4

Comprehension:

निम्नलिखित गद्यांश के रिक्त स्थानों की पूर्ति गद्यांश के नीचे दिए गए प्रश्नों के अनुसार कीजिए-

आज के समय में लड़का लड़की एक _____ (1) हैं। आज अगर कोई ये मानता है कि लड़की कुछ नहीं कर सकती और लड़का सब कुछ कर सकता है तो वह इंसान _____ (2) है। आज का समय पहले की तरह नहीं जहाँ लड़कियों को सिर्फ घर का काम और बच्चों को संभालने की _____ (3) दी जाती थी और ये माना जाता था कि इसके इलावा लड़कियाँ और कुछ नहीं कर सकतीं। अब लड़कियाँ लड़कों के कंधे से कन्धा _____ (4) काम करती हैं। अब सरकार और समाज ने दोनों को _____ (5) का दर्जा दिया है।

SubQuestion No : 16

Q.1
6 गद्यांश में संकेतित रिक्त स्थान (1) के लिए उपयुक्त शब्द होगा।

- Ans
- 1. सामान
 - 2. भिन्न
 - 3. अभिन्न
 - 4. समान

Question ID : 9895806824
Chosen Option : 4

Comprehension:

निम्नलिखित गद्यांश के रिक्त स्थानों की पूर्ति गद्यांश के नीचे दिए गए प्रश्नों के अनुसार कीजिए-

आज के समय में लड़का लड़की एक _____ (1) हैं। आज अगर कोई ये मानता है कि लड़की कुछ नहीं कर सकती और लड़का सब कुछ कर सकता है तो वह इंसान _____ (2) है। आज का समय पहले की तरह नहीं जहाँ लड़कियों को सिर्फ घर का काम और बच्चों को संभालने की _____ (3) दी जाती थी और ये माना जाता था कि इसके इलावा लड़कियाँ और कुछ नहीं कर सकतीं। अब लड़कियाँ लड़कों के कंधे से कन्धा _____ (4) काम करती हैं। अब सरकार और समाज ने दोनों को _____ (5) का दर्जा दिया है।

SubQuestion No : 17

Q.1
7 गद्यांश में संकेतित रिक्त स्थान (2) के लिए उपयुक्त शब्द होगा।

- Ans
- 1. आदर्श
 - 2. सही
 - 3. गलत
 - 4. उचित

Question ID : 9895806825
Chosen Option : 3

Comprehension:

निम्नलिखित गद्यांश के रिक्त स्थानों की पूर्ति गद्यांश के नीचे दिए गए प्रश्नों के अनुसार कीजिए-

आज के समय में लड़का लड़की एक _____ (1) हैं। आज अगर कोई ये मानता है कि लड़की कुछ नहीं कर सकती और लड़का सब कुछ कर सकता है तो वह इंसान _____ (2) है। आज का समय पहले की तरह नहीं जहाँ लड़कियों को सिर्फ घर का काम और बच्चों को संभालने की _____ (3) दी जाती थी और ये माना जाता था कि इसके इलावा लड़कियाँ और कुछ नहीं कर सकतीं। अब लड़कियाँ लड़कों के कंधे से कन्धा _____ (4) काम करती हैं। अब सरकार और समाज ने दोनों को _____ (5) का दर्जा दिया है।

SubQuestion No : 18

Q.1
8 गद्यांश में संकेतित रिक्त स्थान (3) के लिए उपयुक्त शब्द होगा।

- Ans
- 1. जिम्मेदारी
 - 2. नौकरी
 - 3. हिस्सेदारी

X 4. ईमानदारी

Question ID : 9895806826

Chosen Option : 1

Comprehension:

निम्नलिखित गद्यांश के रिक्त स्थानों की पूर्ति गद्यांश के नीचे दिए गए प्रश्नों के अनुसार कीजिए-

आज के समय में लड़का लड़की एक _____ (1) हैं। आज अगर कोई ये मानता है कि लड़की कुछ नहीं कर सकती और लड़का सब कुछ कर सकता है तो वह इंसान _____ (2) है। आज का समय पहले की तरह नहीं जहाँ लड़कियों को सिर्फ घर का काम और बच्चों को संभालने की _____ (3) दी जाती थी और ये माना जाता था कि इसके इलावा लड़कियाँ और कुछ नहीं कर सकतीं। अब लड़कियाँ लड़कों के कंधे से कन्धा _____ (4) काम करती हैं। अब सरकार और समाज ने दोनों को _____ (5) का दर्जा दिया है।

SubQuestion No : 19

Q.1 गद्यांश में संकेतित रिक्त स्थान (4) के लिए उपयुक्त शब्द होगा।

- Ans
- X 1. टकराकर
 - X 2. लगाकर
 - X 3. हटाकर
 - ✓ 4. मिलाकर

Question ID : 9895806827

Chosen Option : 4

Comprehension:

निम्नलिखित गद्यांश के रिक्त स्थानों की पूर्ति गद्यांश के नीचे दिए गए प्रश्नों के अनुसार कीजिए-

आज के समय में लड़का लड़की एक _____ (1) हैं। आज अगर कोई ये मानता है कि लड़की कुछ नहीं कर सकती और लड़का सब कुछ कर सकता है तो वह इंसान _____ (2) है। आज का समय पहले की तरह नहीं जहाँ लड़कियों को सिर्फ घर का काम और बच्चों को संभालने की _____ (3) दी जाती थी और ये माना जाता था कि इसके इलावा लड़कियाँ और कुछ नहीं कर सकतीं। अब लड़कियाँ लड़कों के कंधे से कन्धा _____ (4) काम करती हैं। अब सरकार और समाज ने दोनों को _____ (5) का दर्जा दिया है।

SubQuestion No : 20

Q.2 गद्यांश में संकेतित रिक्त स्थान (5) के लिए उपयुक्त शब्द होगा।

- Ans
- X 1. समीपता
 - X 2. असमानता
 - X 3. विशिष्टता
 - ✓ 4. बराबरी

Question ID : 9895806828

Chosen Option : 4

Q.2 दिए गए वाक्य का वह भाग ज्ञात करें जिसमें कोई त्रुटि है।

तुलसीदास जी ने रामचरित मानस की रचना अवधी भाषा में किए हैं।

Ans

1. रामचरित मानस की रचना
 2. तुलसीदास जी ने
 3. किए हैं।
 4. अवधी भाषा में

Question ID : 9895806814
Chosen Option : 3

Q.2
2 दिए गए शब्द के पर्यायवाची शब्द का चयन करें।

प्रयत्न

- Ans 1. प्रयास
 2. अनायास
 3. पयोद
 4. श्रेष्ठ

Question ID : 9895806832
Chosen Option : 2

Q.2
3 दिये गये वाक्यांश के लिए एक शब्द दीजिये।

हाथ से लिखा हुआ

- Ans 1. उल्लिखित
 2. निम्नलिखित
 3. अधोलिखित
 4. हस्तलिखित

Question ID : 9895806836
Chosen Option : 4

Q.2
4 दिए गए वाक्य में रेखांकित खंड को प्रतिस्थापित करने के लिए उपयुक्त विकल्प का चयन करें।

उसका भर्ता अच्छा शिक्षक है।

- Ans 1. पुत्र
 2. भाई
 3. पुत्री
 4. पति

Question ID : 9895806818
Chosen Option : 4

Q.2
5 रिक्त स्थान को भरने के लिए उपयुक्त शब्द का चयन करें।

मोहन स्कूल जाता है _____ मन लगाकर पढ़ता है।

- Ans 1. और
 2. किंतु
 3. परंतु
 4. यदि

Question ID : 9895806819
Chosen Option : 1