

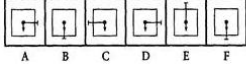
## Constable (GD) in CAPFs, NIA, SSF and Rifleman (GD) in Assam Rifles Examination, 2018

Roll No. :	GovtJobsAlert.In
Registration No.	GovtJobsAlert.In
Name :	GovtJobsAlert.In
Exam Venue :	GovtJobsAlert.In
Exam Time :	4:00 PM - 5:30 PM
Exam Date :	03/03/2019

Section : General Section

Q.1 निम्नलिखित आकृतियों में से उन दो आकृतियों को पहचानें जो स्थान से बाहर हैं और पूरी श्रृंखला को क्रम में करने के लिए जिसमें परस्पर स्थानों का अदल बदल जरूरी है।

प्रश्न आकृति:



- Ans
- 1. (D & F)
  - 2. (B & D)
  - 3. (A & C)
  - 4. (D & E)

Question ID : 9895808358  
Chosen Option : 3

Q.2 पाँच बन्दर A, B, C, D, और E, पेड़ की एक शाखा पर बैठे हैं। C, D के बगल में बैठा है। D, E के साथ नहीं बैठा है। E, शाखा के बाएं छोर पर बैठा है। C, दाएं से दूसरे स्थान पर है। A, B के तुरंत दायीं ओर है और B, E के दायीं ओर है। A और C साथ में बैठे हैं। केन्द्र पर कौन बैठा है?

- Ans
- 1. B
  - 2. A
  - 3. C
  - 4. D

Question ID : 9895808347  
Chosen Option : 2

Q.3 उस सही विकल्प का चयन करें जो रिक्त स्थान को भरे और श्रृंखला को पूरा करें।

WVU, RQP, MLK, ?

- Ans  1. JHI

2. HGI  
 3. IGF  
 4. HGF

Question ID : 9895808339  
Chosen Option : 4

Q.4 नीचे दिए गए कथनों के बाद दो निष्कर्ष I और II दिए गए हैं। यह मानते हुए कि कथनों में दी गई जानकारी सत्य है, भले ही वह सर्वज्ञात तथ्यों से भिन्न प्रतीत होती हो, तय करें कि कौन सा/से निष्कर्ष तार्किक और निश्चित रूप से कथन में दी गई जानकारी का अनुसरण करता है/करते हैं।

कथन:

कुछ स्कूटर, प्लेन हैं।  
कुछ प्लेन, कुत्ते हैं।  
कुछ कुत्ते, पौधे हैं।

निष्कर्ष:

- I. कुछ पौधे स्कूटर हैं।  
II. कोई प्लेन स्कूटर नहीं है।

Ans

1. केवल निष्कर्ष II अनुसरण करता है।  
 2. या तो निष्कर्ष I या II अनुसरण करता है।  
 3. केवल निष्कर्ष I अनुसरण करता है।  
 4. न तो निष्कर्ष I और न ही II अनुसरण करता है।

Question ID : 9895808351  
Chosen Option : 4

Q.5 45 विद्यार्थियों की कक्षा में एक लड़के का स्थान 20वाँ है। जब दो और लड़के जुड़ते हैं तो उसका स्थान एक से कम हो जाता है। तो अंतिम स्थान से उसका नया स्थान क्या है?

Ans

1. 26वाँ  
 2. 28वाँ  
 3. 25वाँ  
 4. 27वाँ

Question ID : 9895808349  
Chosen Option : 1

Q.6 एक निश्चित कूट भाषा में, ANIMAL को INALAM के रूप में लिखा जाता है। उसी कूट भाषा में SAMPLE कैसे लिखा जाता है?

Ans

1. ASMALE  
 2. MASELP

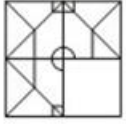
3. MALESP

4. MSALEP

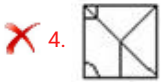
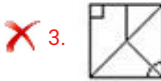
Question ID : 9895808345  
Chosen Option : 2

Q.7 निम्नलिखित में से कौन सी उत्तर आकृति दी गई आकृति को पूरा करेगी?

प्रश्न आकृति:



Ans



Question ID : 9895808359  
Chosen Option : 1

Q.8 उस विकल्प का चयन करें जो सही रूप में रिक्त स्थान को भरे और श्रृंखला को पूरा करें।

145, 100, 65, 40, ?

Ans

1. 10

2. 25

3. 20

4. 15

Question ID : 9895808352  
Chosen Option : 2

Q.9 X, Y, Z, P, Q और R उत्तर की ओर मुख कर के एक पंक्ति में बैठे हैं। X,Y और P का पड़ोसी है। Q, Z और R का पड़ोसी है, P, X के दायीं ओर है और P और Z एक दूसरे के निकटतम पड़ोसी हैं।

कौन सा जोड़ा बिलकुल किनारों पर बैठता है?

Ans

1. X,P

2. Y,R

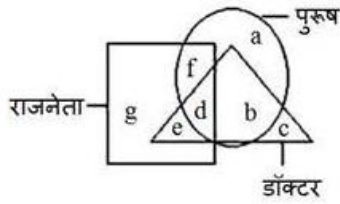
✗ 3. Y,P

✗ 4. P,Z

Question ID : 9895808348

Chosen Option : 2

Q.1 निम्नलिखित वेन आरेख का अध्ययन करें और दिए गए प्रश्न का उत्तर दें.



कौन-सा अक्षर एक पुरुष राजनेता का प्रतिनिधित्व करता है?

- Ans
- ✓ 1. f
  - ✗ 2. d
  - ✗ 3. b
  - ✗ 4. e

Question ID : 9895808363

Chosen Option : 1

Q.1 यदि दर्पण को MN की रेखा पर रखा जाता है, तो कौन सी उत्तर आकृति दी गई आकृति की सही छवि है?

प्रश्न आकृति:



Ans

- ✗ 1.
- ✗ 2.
- ✓ 3.
- ✗ 4.

Question ID : 9895808361

Chosen Option : 3

Q.1 2 उस विकल्प का चयन करें जो तीसरे पद से उसी तरह संबंधित है जिस प्रकार पहला पद दूसरे पद से संबंधित है।

AFK : EJO :: PUZ : ?

- Ans
- 1. UOM
  - 2. USC
  - 3. TYD
  - 4. TXE

Question ID : 9895808344  
Chosen Option : 3

Q.1 3 उस विकल्प का चयन करें जो तीसरे पद से उसी तरह संबंधित है जिस प्रकार पहला पद दूसरे पद से संबंधित है।

35 : 15 :: 72 : ?

- Ans
- 1. 15
  - 2. 27
  - 3. 14
  - 4. 54

Question ID : 9895808354  
Chosen Option : 3

Q.1 4 उन गणितीय चिन्हों के सही संयोजन का चयन करें जो '\*' चिन्हों का स्थान लें और दिए गए समीकरण को संतुलित करें:

78 \* 3 + 4 \* 36 \* 140

- Ans
- 1. - + x =
  - 2. ÷ x + =
  - 3. ÷ x - =
  - 4. + + ÷ =

Question ID : 9895808357  
Chosen Option : 2

Q.1 5 यदि SENSIBLE को 10 के रूप में लिखते हैं और SAMUELS को 9 के रूप में लिखा जाएगा तो NADAL को किस रूप में लिखा जाएगा?

- Ans
- 1. 4
  - 2. 7
  - 3. 11
  - 4. 9

Question ID : 9895808346  
Chosen Option : 2

Q.1 6 उस विकल्प का चयन करें जो तीसरे पद से उसी तरह संबंधित है जिस प्रकार पहला पद दूसरे पद से संबंधित है।

हाथ : उंगली :: पैर : \_\_\_\_\_

- Ans
- 1. चलना
  - 2. पैर की उंगलियां
  - 3. एड़ी
  - 4. घुटना

Question ID : 9895808342  
Chosen Option : 2

Q.1  
7 दिए गए विकल्पों में से संबंधित शब्द युगल का चयन करें।

भारत : रुपया : : \_\_\_\_\_ : \_\_\_\_\_

- Ans
- 1. स्विट्जरलैंड : यूरो
  - 2. रूस : रूबल
  - 3. चीन : येन
  - 4. दक्षिण अफ्रीका : पाउंड

Question ID : 9895808343  
Chosen Option : 3

Q.1  
8 उस विकल्प आकृति का चयन करें, जिसमें प्रश्न आकृति अंतर्निहित है।

प्रश्न आकृति:



- Ans
- 1.
  - 2.
  - 3.
  - 4.

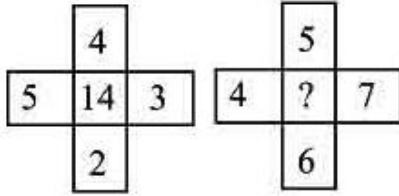
Question ID : 9895808360  
Chosen Option : 4

Q.1  
9 चार अक्षर समूह दिए गए हैं, जिनमें से तीन किसी तरह से समान हैं, जबकि एक अलग है। असंगत अक्षर समूह का चयन करें।

- Ans
- 1. DLT
  - 2. INS
  - 3. HMR
  - 4. JOT

Question ID : 9895808340  
Chosen Option : 1

Q.2 दिए गए विकल्पों में से लुप्त संख्या ज्ञात करें।



- Ans
- 1. 3
  - 2. 6
  - 3. 7
  - 4. 4

Question ID : 9895808356  
Chosen Option : 4

Q.2 नीचे दिए गए कथनों के बाद दो निष्कर्ष I और II दिए गए हैं। यह मानते हुए कि कथनों में दी गई जानकारी सत्य है, भले ही वह सर्वज्ञात तथ्यों से भिन्न प्रतीत होती हो, तय करें कि कौन सा/से निष्कर्ष तार्किक और निश्चित रूप से कथन में दी गई जानकारी का अनुसरण करता है/करते हैं।

कथन:

सभी बच्चे, वयस्क हैं।  
कुछ वयस्क, बुजुर्ग हैं।

निष्कर्ष:

- I. सभी बुजुर्ग, बच्चे हैं।
- II. कुछ बच्चे, बुजुर्ग हैं।

- Ans
- 1. न तो निष्कर्ष I और न ही II अनुसरण करता है।
  - 2. केवल निष्कर्ष I अनुसरण करता है।
  - 3. या तो निष्कर्ष I या II अनुसरण करता है।
  - 4. केवल निष्कर्ष II अनुसरण करता है।

Question ID : 9895808350  
Chosen Option : 1

Q.2 चार शब्द दिए गए हैं, जिनमें से तीन किसी तरह से समान हैं, जबकि एक अलग है। असंगत शब्द का चयन करें।

- Ans  1. हेमिस  
 2. कथकली  
 3. कुचिपुड़ी  
 4. सत्रीया

Question ID : 9895808341  
 Chosen Option : 1

Q.2  
 3 चार विकल्प दिए गए हैं, जिनमें से तीन किसी तरह से समान हैं, जबकि एक अलग है। असंगत का चयन करें।

- Ans  1. 385  
 2. 473  
 3. 287  
 4. 693

Question ID : 9895808355  
 Chosen Option : 3

Q.2  
 4 उस विकल्प का चयन करें जो सही रूप में रिक्त स्थान को भरे और श्रृंखला को पूरा करें।

2, 8, 32, 128, 512, ?

- Ans  1. 2067  
 2. 2507  
 3. 2048  
 4. 2536

Question ID : 9895808353  
 Chosen Option : 3

Q.2  
 5 कागज का एक टुकड़ा प्रश्न आकृतियों में दिखाया गया है इस तरह मोड़ा और काटा जाता है। दिए गए चित्रों से, बताइए कि जब खोला जाएगा तब वह कैसा दिखाई देगा?

प्रश्न आकृति:



- Ans  1.   
 2.   
 3.   
 4.

Question ID : 9895808362



Q.2  
6 आर्थिक सर्वेक्षण रिपोर्ट 2017-18 में FY18 में कृषि वृद्धि दर कितनी होने की सम्भावना बताई गई थी?

- Ans
- 1. 2.10%
  - 2. 3.90%
  - 3. 5.50%
  - 4. 4.30%

Question ID : 9895807411

Chosen Option : 4

Q.2  
7 निम्नलिखित नृत्यों में से कौन सा अरुणाचल प्रदेश का नृत्य है?

- Ans
- 1. चिराव
  - 2. लेजिम
  - 3. माचा
  - 4. पोपिर

Question ID : 9895807405

Chosen Option : 1

Q.2  
8 भारतीय सिविल सेवा के लिए अर्हता प्राप्त करने वाले प्रथम भारतीय का नाम बताइए।

- Ans
- 1. वी. ओ. चिदंबरम पिल्लै
  - 2. सत्येंद्रनाथ टैगोर
  - 3. बंकिम चंद्र चटर्जी
  - 4. दादाभाई नौरोजी

Question ID : 9895807426

Chosen Option : 2

Q.2  
9 किस देश की महिला टीम ने दक्षिण कोरिया में आयोजित 2018 का कैरम विश्व कप जीता?

- Ans
- 1. दक्षिण कोरिया
  - 2. जापान
  - 3. भारत
  - 4. चीन

Question ID : 9895807406

Chosen Option : 3

Q.3  
0 करनाल का युद्ध (1739) फारसी बादशाह नादिरशाह ने किसे हराकर जीता?

- Ans
- 1. शुजाउद्दौला, अवध का नवाब

- ✓ 2. मुगल शासक, मुहम्मद शाह  
✗ 3. गुलाम मुहम्मद गौस खान  
✗ 4. गियासुद्दीन बलबन

Question ID : 9895807427  
Chosen Option : 4

Q.3 भारत रत्न प्राप्त करने वाले उस व्यक्ति का नाम बताइए, जो एक समाज सुधारक और शिक्षक थे और जिन्होंने स्त्रियों के उत्थान में महत्वपूर्ण भूमिका निभाई थी।

- Ans  
✗ 1. गोविंद बल्लभ पंत  
✗ 2. बिधान चंद्र रॉय  
✓ 3. धोंडो केशव कर्वे  
✗ 4. एम विश्वेश्वरैया

Question ID : 9895807408  
Chosen Option : 1

Q.3 संकर किस्म की ज्वार के लिए 2018-19 के लिए न्यूनतम समर्थन मूल्य कितना निर्धारित किया गया है?

- Ans  
✗ 1. ₹5,150 प्रति क्विंटल  
✗ 2. ₹1,750 प्रति क्विंटल  
✗ 3. ₹1,950 प्रति क्विंटल  
✓ 4. ₹2,430 प्रति क्विंटल

Question ID : 9895807413  
Chosen Option : 1

Q.3 टेस्ला किसकी इकाई है?

- Ans  
✓ 1. चुंबकीय प्रवाह घनत्व  
✗ 2. विद्युत चालकत्व  
✗ 3. चुंबकीय प्रवाह  
✗ 4. धारिता

Question ID : 9895807418  
Chosen Option : 3

Q.3 फसल से जुड़ा हुआ उत्सव, पुठारी किस जनजाति द्वारा मनाया जाता है?

- Ans  
✓ 1. कोडावा  
✗ 2. मोनपा

- 3. गारो
- 4. अंगामी

Question ID : 9895807404  
Chosen Option : 1

Q.3  
5 मणिपुर के सामान्य तौर पर लोगों के समूह द्वारा गाए जाने वाले भक्तिपूर्ण लोक संगीत का नाम बताइए।

- Ans
- 1. खुबाक एशेई
  - 2. बनवर्ह
  - 3. डोमकच
  - 4. घा तो कितो

Question ID : 9895807403  
Chosen Option : 4

Q.3  
6 1970 के भोला चक्रवात के बाद बंगाल की खाड़ी में कौन सा द्वीप उभर कर आया?

- Ans
- 1. जंबूद्वीप
  - 2. घोरमारा द्वीप
  - 3. लोहाचारा द्वीप
  - 4. न्यू मूर द्वीप

Question ID : 9895807423  
Chosen Option : 4

Q.3  
7 उस इकाई का नाम बताइए जिसमें ईंधन का उष्मीय (कैलरिफिक) मान व्यक्त किया जाता है।

- Ans
- 1. किलोग्राम
  - 2. केल्विन
  - 3. किलोजूल
  - 4. कैन्डेला

Question ID : 9895807420  
Chosen Option : 2

Q.3  
8 हमारी सौर प्रणाली में दूसरा सबसे बड़ा चंद्रमा टाइटन किस ग्रह की परिक्रमा करता है?

- Ans
- 1. अरुण (यूरेनस)
  - 2. शनि (सैटर्न)
  - 3. बृहस्पति (जूपिटर)

✗ 4. वरुण (नेप्चून)

Question ID : 9895807424  
Chosen Option : 2

Q.3  
9 ह्यूमरस किस अंग का भाग है?

- Ans
- ✗ 1. पैर
  - ✓ 2. बांह
  - ✗ 3. कंधे करधनी
  - ✗ 4. रीढ़

Question ID : 9895807421  
Chosen Option : 3

Q.4  
0 केंद्रीय बजट 2018 ने कितनी राशि के साथ कृषि के लिए ऑपरेशन ग्रीन प्रारम्भ करने की घोषणा की?

- Ans
- ✗ 1. ₹100 करोड़
  - ✓ 2. ₹500 करोड़
  - ✗ 3. ₹1,000 करोड़
  - ✗ 4. ₹5,000 करोड़

Question ID : 9895807412  
Chosen Option : 3

Q.4  
1 नागरिकों के मूल अधिकार भारतीय संविधान के किस भाग में सम्मिलित किए गए हैं?

- Ans
- ✗ 1. भाग I
  - ✗ 2. भाग VII
  - ✗ 3. भाग IVA
  - ✓ 4. भाग III

Question ID : 9895807415  
Chosen Option : 4

Q.4  
2 2001 में मिस अर्थ सौंदर्य स्पर्धा के आरम्भ से इसे जीतने वाली पहली भारतीय कौन है?

- Ans
- ✓ 1. निकोल फारिया
  - ✗ 2. प्रियंका चोपड़ा
  - ✗ 3. दिया मिर्जा
  - ✗ 4. रीता फारिया

Question ID : 9895807410  
Chosen Option : 2

Q.4  
3 'r' त्रिज्या के एक वृत्त में स्पर्शज्या वेग 'v' से गतिमान 'm' द्रव्यमान के एक निकाय की वृत्ताकार गति के लिए कितने अभिकेंद्रीय बल 'F' की आवश्यकता है?

- Ans
- 1.  $mr^2/v$
  - 2.  $mv/r^2$
  - 3.  $mv^2/r$
  - 4.  $mr/v^2$

Question ID : 9895807417  
Chosen Option : 3

Q.4  
4 कौन सा शहर चंबल नदी के किनारे पर स्थित नहीं है?

- Ans
- 1. ग्वालियर
  - 2. धौलपुर
  - 3. जबलपुर
  - 4. कोटा

Question ID : 9895807422  
Chosen Option : 4

Q.4  
5 हरकन्या वंश के उस शासक का नाम बताइए जो अजातशत्रु का पुत्र था और जिसने पाटलिपुत्र नगर की नींव रखी।

- Ans
- 1. प्रद्योत
  - 2. महानंदिन
  - 3. उदायिन
  - 4. नंदीवर्धन

Question ID : 9895807425  
Chosen Option : 3

Q.4  
6 निम्न में से कौन सी विक्रम सेठ की पुस्तक है?

- Ans
- 1. रिवर ऑफ स्मोक
  - 2. द मिस्ट्रेस ऑफ स्पाइसेज
  - 3. द ओशन ऑफ चर्न
  - 4. रॉयट एट मिस्री मंडी

Question ID : 9895807409  
Chosen Option : 4

Q.4  
7 कौन सी ग्रंथि अन्य अंतःस्रावी ग्रंथियों के कार्य को नियंत्रित करती है?

Ans

- 1. पीयूष (पिटूइटेरी) ग्रंथि
- 2. गावदुम (पीनियल) ग्रंथि
- 3. गलग्रंथि (थाइरॉयड) ग्रंथि
- 4. अधिवृक्क (अड्रीनल) ग्रंथि

Question ID : 9895807419  
Chosen Option : 1

Q.4 8 ग्रेट ब्रिटेन की संसद का कौन सा कानून भारत में ईस्ट इंडिया कंपनी के शासन की पूरी जांच और मरम्मत करने की ओर लक्षित था?

- Ans
- 1. 1858 का भारत सरकार अधिनियम
  - 2. 1861 का भारतीय परिषद अधिनियम
  - 3. पिट्स इंडिया एक्ट
  - 4. रेगुलेटिंग एक्ट 1773

Question ID : 9895807416  
Chosen Option : 3

Q.4 9 2018 का फ्रेंच ओपन पुरुष टेनिस किसने जीता?

- Ans
- 1. नोवाक जोकोविच
  - 2. एंडी मुरे
  - 3. रोजर फेडरर
  - 4. रफेल नाडाल

Question ID : 9895807407  
Chosen Option : 3

Q.5 0 भारतीय संविधान में मूल कर्तव्य किस देश के संविधान से लिए गए हैं?

- Ans
- 1. यूएसएसआर
  - 2. फ्रांस
  - 3. कनाडा
  - 4. ब्रिटेन

Question ID : 9895807414  
Chosen Option : 2

Q.5  
1

सरलीकृत करें:

$$\frac{5.25 + \frac{3}{4} \text{ of } 16 - 5}{\frac{1}{2} \text{ of } (9.5 - 2.5) - (5 \times 0.35)}$$

- Ans
- 1. 7
  - 2. 5
  - 3. 6
  - 4. 4

Question ID : 9895807730  
Chosen Option : 2

Q.5 पाँच क्रमागत सम संख्याओं का योग, उन संख्याओं के औसत से 40 अधिक है। तो श्रृंखला में मध्य संख्या ज्ञात कीजिए।

- Ans
- 1. 40
  - 2. 10
  - 3. 20
  - 4. 30

Question ID : 9895807731  
Chosen Option : 2

Q.5 विशाल 30 min में 20 km की दूरी तय करता है। यदि वह 18 min में आधी दूरी तय करता है, तो शेष दूरी को तय करने के लिए और पूरी यात्रा 30 min में पूरी करने के लिए उसकी गति क्या होनी चाहिए।

- Ans
- 1. 65 km/hr
  - 2. 55 km/hr
  - 3. 60 km/hr
  - 4. 50 km/hr

Question ID : 9895807746  
Chosen Option : 2

Q.5 ओम प्रकाश 80 km/hr की गति से बम्बई से पुणे की यात्रा करता है और अपनी गति को 50% बढ़ाकर वापस बम्बई लौटता है, तो पूरी यात्रा के लिए उसकी औसत गति है:

- Ans
- 1. 67 km/hr
  - 2. 65 km/hr
  - 3. 96 km/hr
  - 4. 69 km/hr

Question ID : 9895807745  
Chosen Option : 3

Q.5 60 लीटर के मिश्रण में, दूध और पानी 2:1 के अनुपात में हैं, तो 4:3 का अनुपात करने के लिए मिलाये जाने वाले पानी की मात्रा ज्ञात कीजिए।

Ans

- 1. 20 लीटर
- 2. 10 लीटर
- 3. 12 लीटर
- 4. 15 लीटर

Question ID : 9895807738  
Chosen Option : 2

Q.5 मंजीत सिंह ने लागत मूल्य के  $\frac{1}{5}$  मुनाफे पर ₹9,000 में एक वस्तु बेची, तो लाभ प्रतिशत ज्ञात कीजिए।

- Ans
- 1. 10%
  - 2. 22%
  - 3. 25%
  - 4. 20%

Question ID : 9895807736  
Chosen Option : 3

Q.5 एक घनाकार टंकी में 48000 लीटर पानी है। यदि टंकी की लंबाई 6 m और चौड़ाई 4 m है तो टंकी में पानी की गहराई ज्ञात करें।

- Ans
- 1. 4 m
  - 2. 6 m
  - 3. 2 m
  - 4. 3 m

Question ID : 9895807747  
Chosen Option : 3

Q.5 A, एक कामगार के रूप में B से दोगुना अच्छा है और एक साथ मिलकर वे 20 दिनों में एक काम पूरा कर लेते हैं। A अकेले कितने दिनों में, काम पूरा करेगा?

- Ans
- 1. 30 दिन
  - 2. 26 दिन
  - 3. 25 दिन
  - 4. 28 दिन

Question ID : 9895807744  
Chosen Option : 1

Q.5 यदि 15 श्रमिक 10 दिनों में ₹1,800 कमा सकते हैं। तो 8 दिनों में 5 श्रमिकों की कमाई (₹ में) कितनी होगी?

- Ans
- 1. ₹480
  - 2. ₹400
  - 3. ₹540
  - 4. ₹360



Question ID : 9895807743  
Chosen Option : 1

Q.6 यदि एक वर्ग की सभी भुजाओं में 20% की वृद्धि की जाती है, तो क्षेत्रफल में कितनी वृद्धि हो जाती है?

- Ans
- 1. 43%
  - 2. 45%
  - 3. 46%
  - 4. 44%

Question ID : 9895807748  
Chosen Option : 4

Q.6 एक कपड़ा 50 cm चौड़ा और 8 cm लंबा था। जब धोया गया, तो इसकी लंबाई 25% और इसकी चौड़ाई 14% कम हो गई। तो क्षेत्रफल कितने प्रतिशत कम हुआ?

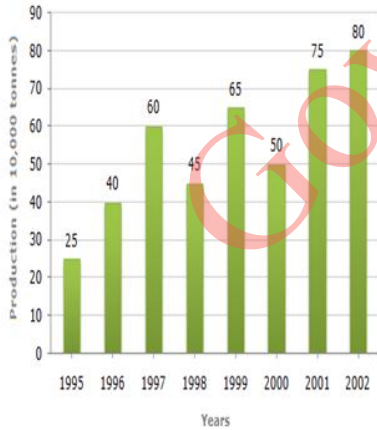
- Ans
- 1. 34.5%
  - 2. 36%
  - 3. 35.5%
  - 4. 35%

Question ID : 9895807749  
Chosen Option : 3

Q.6 बार चार्ट का अध्ययन करें और इस पर आधारित प्रश्न का उत्तर दें।

वर्षों में कंपनी द्वारा उर्वरकों का

उत्पादन (1000 टन में)



दिए गए वर्षों में से कितने में उर्वरकों का उत्पादन दिए गए वर्षों के औसत उत्पादन से कम था?

- Ans
- 1. 4
  - 2. 2
  - 3. 3
  - 4. 1

Question ID : 9895807751

Q.6 ₹84,000 में खरीदे गए एक स्कूटर का मूल्य 10% प्रति वर्ष की दर से कम होता है। 2 वर्ष बाद इसका मूल्य क्या होगा?

- Ans
- 1. ₹86040
  - 2. ₹64800
  - 3. ₹46080
  - 4. ₹68040

Question ID : 9895807742

Chosen Option : 4

Q.6 एक व्यापारी का दावा है कि वह लागत मूल्य में अपना माल बेचता है। लेकिन 1kg वजन के लिए 900 g के वजन का उपयोग करता है, तो उसका लाभ प्रतिशत कितना होगा।

- Ans
- 1.  $11\frac{1}{9}\%$
  - 2.  $12\frac{1}{9}\%$
  - 3. 11%
  - 4. 12%

Question ID : 9895807737

Chosen Option : 1

Q.6 सरलीकृत करें:

$$7.8 - 0.4 \text{ of } ( 5.1 - 3.8 ) + 9.3 \times 1.5$$

- Ans
- 1. 23.12
  - 2. 12.23
  - 3. 23.21
  - 4. 21.23

Question ID : 9895807729

Chosen Option : 4

Q.6 A और B के बीच एक चुनावी प्रतियोगिता में, A 480 वोटों के अंतर से जीतता है। यदि A को कुल वोटों का 70% वोट मिले, तो कुल वोट हैं :

- Ans
- 1. 1600
  - 2. 1400
  - 3. 1200
  - 4. 4800

Question ID : 9895807735

Chosen Option : 1

Q.6

7 सोना एल्यूमीनियम की तुलना में 12 गुना भारी है और तांबा एल्यूमीनियम की तुलना में 5 गुना भारी है। तो एल्यूमीनियम की 8 गुना मिश्र धातु प्राप्त करने के लिए किस अनुपात में सोना और तांबा मिश्रित होना चाहिए।

- Ans
- 1. 3 : 4
  - 2. 2 : 1
  - 3. 4 : 3
  - 4. 1 : 2

Question ID : 9895807739  
Chosen Option : 1

Q.6 वह सबसे छोटी संख्या कौन सी है जिसमें 8 जोड़ने पर 4, 5, 6 और 7 से पूर्ण रूप से विभाज्य हो?

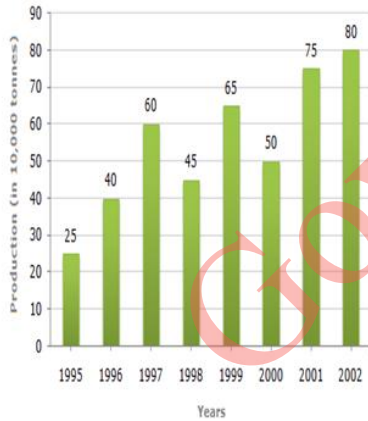
- Ans
- 1. 412
  - 2. 322
  - 3. 422
  - 4. 312

Question ID : 9895807728  
Chosen Option : 1

Q.6 बार चार्ट का अध्ययन करें और इस पर आधारित प्रश्न का उत्तर दें।

वर्षों में कंपनी द्वारा उर्वरकों का

उत्पादन (1000 टन में)



1999 और 2000 का औसत उत्पादन निम्न में से किस वर्ष युग्म के औसत उत्पादन से कम था?

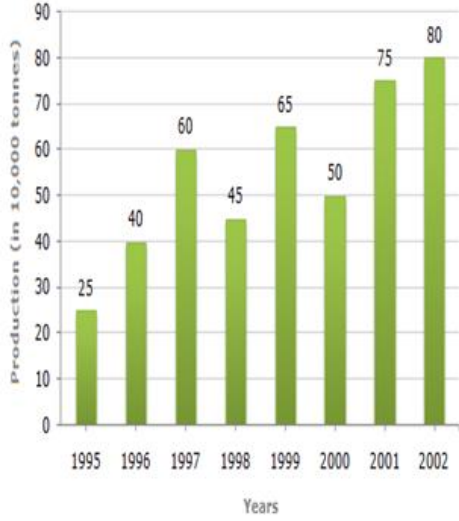
- Ans
- 1. 1995 और 2001
  - 2. 1998 और 2000
  - 3. 1996 और 1997
  - 4. 2000 और 2001

Question ID : 9895807752  
Chosen Option : 2

Q.7  
0 बार चार्ट का अध्ययन करें और इस पर आधारित प्रश्न का उत्तर दें।

वर्षों में कंपनी द्वारा उर्वरकों का

उत्पादन (1000 टन में)



2000 की तुलना में 2001 में उर्वरकों के उत्पादन में प्रतिशत वृद्धि कितनी थी?

- Ans
- 1. 50%
  - 2. 40%
  - 3. 25%
  - 4. 30%

Question ID : 9895807750  
Chosen Option : 1

Q.7  
1 12 पदों में से, पहले 6 पदों का औसत 36 है और अंतिम 6 पदों का औसत 42 है। यदि पहले 11 पदों का औसत 38 है, तो 12 वां पद क्या होगा।

- Ans
- 1. 50
  - 2. 42
  - 3. 40
  - 4. 44

Question ID : 9895807732  
Chosen Option : 1

Q.7  
2 उन वर्षों की संख्या ज्ञात करें जिनमें 8% प्रति वर्ष की साधारण ब्याज दर निवेश की गई एक राशि दोगुनी हो जाती है।

- Ans
- 1. 11 वर्ष
  - 2. 12 वर्ष
  - 3. 12 ½ वर्ष

4. 10 ½ वर्ष

Question ID : 9895807741  
Chosen Option : 3

Q.7 यदि A, B, C को A : B = 1 : 2 और B : C = 3 : 5 के रूप में ₹3,800 वितरित किए जाते हैं, तो B का हिस्सा  
3 ज्ञात करें:

- Ans
- 1. ₹600
  - 2. ₹1,200
  - 3. ₹1,400
  - 4. ₹2,000

Question ID : 9895807740  
Chosen Option : 2

Q.7 A, b, c, d और e का माध्य 36 है। यदि b, d और e का माध्य 32 है, तो a और c का माध्य क्या होगा?  
4

- Ans
- 1. 24
  - 2. 46
  - 3. 42
  - 4. 44

Question ID : 9895807734  
Chosen Option : 3

Q.7 यदि कोई दुकानदार एक पुस्तक पर पहले 20% और फिर 15% की छूट देता है, जिसका अंकित मूल्य ₹850 है, तो  
5 पुस्तक का विक्रय मूल्य कितना होगा?

- Ans
- 1. ₹578
  - 2. ₹758
  - 3. ₹587
  - 4. ₹785

Question ID : 9895807733  
Chosen Option : 1

Section : English Language

Q.1 Select the most appropriate option to substitute the underlined segment in the given sentence. If there is no need to substitute it, select No improvement.

Your promotion will be depend the quality of your work.

- Ans
- 1. depend on
  - 2. No improvement
  - 3. will be dependent
  - 4. depends upon

Question ID : 9895808066  
Chosen Option : --

Q.2 From the given options, identify the segment in the sentence which contains the grammatical error.

A mere 43% of Indian woman own cellular phones, as opposed to almost 80% of men.

- Ans
- 1. own cellular phones
  - 2. almost 80% of men
  - 3. as opposed to
  - 4. A mere 43% of Indian woman

Question ID : 9895808063

Chosen Option : --

Q.3 Select the option that means the same as the given idiom.

To bite off more than you can chew.

- Ans
- 1. To challenge someone to do difficult work
  - 2. To finish a work in bits and pieces
  - 3. To eat very heavy and rich food
  - 4. To take on a task too big for oneself

Question ID : 9895808079

Chosen Option : --

Q.4 Select the most appropriate option to substitute the underlined segment in the given sentence. If there is no need to substitute it, select No improvement.

The National Sample Survey Directorate is first set up under the Ministry of Finance in 1950.

- Ans
- 1. Directorate had first set up
  - 2. Directorate was first set up
  - 3. Directorate were first set up
  - 4. No improvement

Question ID : 9895808065

Chosen Option : --

Q.5 Select the correctly spelt word.

- Ans
- 1. Vegetarian
  - 2. Vegetaranian
  - 3. Vezetarian
  - 4. Vegaitarian

Question ID : 9895808083

Chosen Option : --

Q.6

Select the option that means the same as the given idiom.

Bark up the wrong tree.

Ans  1. To make dogs bark at cats hiding in trees

2. To send dogs to track someone

3.

To be wrong about the reason for or way of doing something

4. To make no mistakes about doing something

Question ID : 9895808080

Chosen Option : --

Q.7 Select the most appropriate word to fill in the blank.

A software tool used to read electronic documents is known as \_\_\_\_\_.

Ans  1. motherboard

2. broadband

3. internet

4. browser

Question ID : 9895808086

Chosen Option : --

Q.8 Select the antonym of the given word.

COMMENCE

Ans  1. Close

2. Pause

3. Start

4. Clamp

Question ID : 9895808077

Chosen Option : --

Q.9 From the given options, identify the segment in the sentence which contains the grammatical error.

An excellent response for his readers refreshes the author and stirs his creative sense and functional skills.

Ans  1. An excellent response

2. his creative sense

3. for his readers refreshes

4. functional skills

Question ID : 9895808061

Chosen Option : --

Comprehension:

In the following passage some words have been deleted. Fill in the blanks with the help of the alternatives given.

Students should develop a quality of (1) \_\_\_\_\_ to elders and respecting their views. Their experience and knowledge can play a major role in shaping a student's personality and career. Students should (2) \_\_\_\_\_ this much - needed knowledge and experience from parents and teachers. Being (3) \_\_\_\_\_ helps students to keep themselves morally high. One should not get carried away by success. Students should also learn to respect (4) \_\_\_\_\_ views and cope with diverse situations. These qualities will play a vital role in the (5) \_\_\_\_\_ of teamwork and leadership skills.

SubQuestion No : 10

Q.1  
0 Select the most appropriate option that will fill in the blank number 1.

- Ans
- 1. listen
  - 2. listened
  - 3. listens
  - 4. listening

Question ID : 9895808070

Chosen Option : --

Comprehension:

In the following passage some words have been deleted. Fill in the blanks with the help of the alternatives given.

Students should develop a quality of (1) \_\_\_\_\_ to elders and respecting their views. Their experience and knowledge can play a major role in shaping a student's personality and career. Students should (2) \_\_\_\_\_ this much - needed knowledge and experience from parents and teachers. Being (3) \_\_\_\_\_ helps students to keep themselves morally high. One should not get carried away by success. Students should also learn to respect (4) \_\_\_\_\_ views and cope with diverse situations. These qualities will play a vital role in the (5) \_\_\_\_\_ of teamwork and leadership skills.

SubQuestion No : 11

Q.1  
1 Select the most appropriate option that will fill in the blank number 2.

- Ans
- 1. access
  - 2. measure
  - 3. assess
  - 4. acquire

Question ID : 9895808071

Chosen Option : --

Comprehension:



In the following passage some words have been deleted. Fill in the blanks with the help of the alternatives given.

Students should develop a quality of (1) \_\_\_\_\_ to elders and respecting their views. Their experience and knowledge can play a major role in shaping a student's personality and career. Students should (2) \_\_\_\_\_ this much - needed knowledge and experience from parents and teachers. Being (3) \_\_\_\_\_ helps students to keep themselves morally high. One should not get carried away by success. Students should also learn to respect (4) \_\_\_\_\_ views and cope with diverse situations. These qualities will play a vital role in the (5) \_\_\_\_\_ of teamwork and leadership skills.

SubQuestion No : 12

Q.1  
2 Select the most appropriate option that will fill in the blank number 3.

- Ans
- 1. intelligent
  - 2. smart
  - 3. simple
  - 4. sharp

Question ID : 9895808072  
Chosen Option : --

Comprehension:

In the following passage some words have been deleted. Fill in the blanks with the help of the alternatives given.

Students should develop a quality of (1) \_\_\_\_\_ to elders and respecting their views. Their experience and knowledge can play a major role in shaping a student's personality and career. Students should (2) \_\_\_\_\_ this much - needed knowledge and experience from parents and teachers. Being (3) \_\_\_\_\_ helps students to keep themselves morally high. One should not get carried away by success. Students should also learn to respect (4) \_\_\_\_\_ views and cope with diverse situations. These qualities will play a vital role in the (5) \_\_\_\_\_ of teamwork and leadership skills.

SubQuestion No : 13

Q.1  
3 Select the most appropriate option that will fill in the blank number 4.

- Ans
- 1. different
  - 2. expressive
  - 3. general
  - 4. typical

Question ID : 9895808073  
Chosen Option : --

Comprehension:

In the following passage some words have been deleted. Fill in the blanks with the help of the alternatives given.

Students should develop a quality of (1) \_\_\_\_\_ to elders and respecting their views. Their experience and knowledge can play a major role in shaping a student's personality and career. Students should (2) \_\_\_\_\_ this much - needed knowledge and experience from parents and teachers. Being (3) \_\_\_\_\_ helps students to keep themselves morally high. One should not get carried away by success. Students should also learn to respect (4) \_\_\_\_\_ views and cope with diverse situations. These qualities will play a vital role in the (5) \_\_\_\_\_ of teamwork and leadership skills.

SubQuestion No : 14

Q.1  
4 Select the most appropriate option that will fill in the blank number 5.

- Ans
- 1. structure
  - 2. development
  - 3. arrangement
  - 4. manufacture

Question ID : 9895808074  
Chosen Option : --

Q.1  
5 Select the synonym of the given word.

IMPLICIT

- Ans
- 1. Unclear
  - 2. Unheard
  - 3. Honest
  - 4. Tacit

Question ID : 9895808076  
Chosen Option : --

Q.1  
6 Select the most appropriate word to fill in the blank.

The news of the general elections was covered by \_\_\_\_\_ media.

- Ans
- 1. multiple
  - 2. singular
  - 3. single
  - 4. sole

Question ID : 9895808085  
Chosen Option : --

Q.1  
7 Select the synonym of the given word.

RIDDLE

- Ans
- 1. Game
  - 2. Reaction
  - 3. Response
  - 4. Puzzle

Question ID : 9895808075  
Chosen Option : --

Q.1  
8 Select the word which means the same as the group of words given.

A story, poem or a picture that can be interpreted to reveal a hidden meaning.

- Ans
- 1. Resemblance
  - 2. Representation
  - 3. Simile
  - 4. Allegory

Question ID : 9895808082  
Chosen Option : --

Q.1  
9 Select the most appropriate option to substitute the underlined segment in the given sentence. If there is no need to substitute it, select No improvement.

While participating in the marathon an eighteen year old girl was knocked for by a passing truck.

- Ans
- 1. No improvement
  - 2. knocked down by
  - 3. knocked in by
  - 4. knocked up by

Question ID : 9895808064  
Chosen Option : --

Q.2  
0 Select the correctly spelt word.

- Ans
- 1. Audiable
  - 2. Audible
  - 3. Audibal
  - 4. Audeuble

Question ID : 9895808084  
Chosen Option : --

Q.2  
1 Select the word which means the same as the group of words given.

Concerning appreciation of art.

- Ans
- 1. Poetic
  - 2. Idealistic
  - 3. Particularistic
  - 4. Aesthetic

Question ID : 9895808081  
Chosen Option : --

Q.2 Select the most appropriate option to fill in the blank.

2

Online shopping platforms provide \_\_\_\_\_ information on books, groceries, medicines, etc.so that we can get the latest products.

- Ans
- 1. old
  - 2. timeworn
  - 3. previous
  - 4. instant

Question ID : 9895808068  
Chosen Option : --

Q.2 From the given options, identify the segment in the sentence which contains the grammatical error.

3

In India, child labour is a socio - economic issue that need urgent attention by everyone.

- Ans
- 1. child labour is a
  - 2. that need urgent attention
  - 3. socio - economic issue
  - 4. by everyone.

Question ID : 9895808062  
Chosen Option : --

Q.2 Select the most appropriate option to fill in the blank.

4

People high in humility avoid expecting \_\_\_\_\_ special treatment.

- Ans
- 1. any
  - 2. only
  - 3. one
  - 4. none

Question ID : 9895808067  
Chosen Option : --

Q.2 Select the antonym of the given word.

5

EXPAND

- Ans
- 1. Contract
  - 2. Collect

3. Deposit

4. Express

Question ID : 9895808078  
Chosen Option : --

Section : Hindi Language

Q.1 निम्नलिखित में से उस विकल्प का चयन करें जो 'रंगा सियार' मुहावरे का अर्थ व्यक्त करता है।

Ans  1. धोखे बाज

2. रँगा हुआ सियार

3. एक समान

4. सुंदर सियार

Question ID : 9895806860  
Chosen Option : 1

Q.2 दिए गए शब्द के पर्यायवाची शब्द का चयन करें।

विपदा

Ans  1. मनीषी

2. सुख

3. आपदा

4. निरपराध

Question ID : 9895806858  
Chosen Option : 3

Q.3 दिए गए शब्द का विलोम चुनें।

खरा

Ans  1. सोना

2. सरल

3. खोटा

4. साफ

Question ID : 9895806856  
Chosen Option : 3

Q.4 दिए गए वाक्य में रेखांकित खंड को प्रतिस्थापित करने के लिए उपयुक्त विकल्प का चयन करें।

कबीर बहुत सी भाषाएँ जानता है।

Ans  1. तत्व चिन्तक

- 2. बहुभाषाविद्
- 3. बहुज्ञ
- 4. भाषावैज्ञानिक

Question ID : 9895806844  
Chosen Option : 2

Q.5 रिक्त स्थान को भरने के लिए उपयुक्त शब्द का चयन करें।

मनुष्य को अपनी \_\_\_\_\_ नहीं छोड़नी चाहिए।

- Ans
- 1. क्रोध
  - 2. अभिमान
  - 3. मनुष्यता
  - 4. बचपन

Question ID : 9895806845  
Chosen Option : 2

Q.6 रिक्त स्थान को भरने के लिए उपयुक्त शब्द का चयन करें।

भगवान सबका \_\_\_\_\_ करे।

- Ans
- 1. भला
  - 2. दया
  - 3. कृपा
  - 4. भली

Question ID : 9895806847  
Chosen Option : 1

Q.7 निम्नलिखित में से उस विकल्प का चयन करें जो 'एक ही राग अलापना' मुहावरे का अर्थ व्यक्त करता है।

- Ans
- 1. एक ही बात बार-बार कहना
  - 2. सुर में सुर मिलाना
  - 3. कोई बात एक ही बार कहना
  - 4. कई बात एक साथ कहना

Question ID : 9895806859  
Chosen Option : 2

Q.8 दिए गए शब्द के पर्यायवाची शब्द का चयन करें।

तालाब

- Ans
- 1. समुद्र
  - 2. पोखर
  - 3. अरि
  - 4. बाग

Question ID : 9895806857  
Chosen Option : 1

Q.9 दिए गए वाक्य का वह भाग ज्ञात करें जिसमें कोई त्रुटि है।

मुख्य अतिथि का एक फूल की माला पहना कर स्वागत किया गया।

- Ans
- 1. पहना कर
  - 2. मुख्य अतिथि का
  - 3. एक फूल की माला
  - 4. स्वागत किया गया

Question ID : 9895806839  
Chosen Option : 3

Q.1<sub>0</sub> दिए गए वाक्य का वह भाग ज्ञात करें जिसमें कोई त्रुटि है।

विद्यालय में पढ़ाई करने के लिए अनेकों छात्र आए हुए थे।

- Ans
- 1. विद्यालय में
  - 2. आए हुए थे।
  - 3. पढ़ाई करने के लिए
  - 4. अनेकों छात्र

Question ID : 9895806841  
Chosen Option : 4

Q.1<sub>1</sub> दिए गए वाक्य में रेखांकित खंड को प्रतिस्थापित करने के लिए उपयुक्त विकल्प का चयन करें।

पुराने समय में कपोत एक बहुत ही अच्छा संदेशक माना जाता था।

- Ans
- 1. कबूतर
  - 2. कोयल
  - 3. डाकिया
  - 4. अश्व

Question ID : 9895806843  
Chosen Option : 1

Q.1  
2 दिए गए वाक्य का वह भाग ज्ञात करें जिसमें कोई त्रुटि है।

अच्छे आभूषणों के द्वारा शरीर की शोभा बढ़ जाता है ।

- Ans
- 1. अच्छे आभूषणों
  - 2. शरीर की शोभा
  - 3. के द्वारा
  - 4. बढ़ जाता है।

Question ID : 9895806840  
Chosen Option : 4

Q.1  
3 सही वर्तनी वाले शब्द का चयन करें।

- Ans
- 1. अभीषेक
  - 2. अभिषेक
  - 3. अभीशेक
  - 4. अभिशेक

Question ID : 9895806863  
Chosen Option : 2

Comprehension:

निम्नलिखित गद्यांश के रिक्त स्थानों की पूर्ति गद्यांश के नीचे दिए गए प्रश्नों के अनुसार कीजिए-

होली के पर्व के पीछे एक लोकप्रिय पौराणिक \_\_\_\_\_ (1) है।

हिरण्यकश्यप एक राक्षस राजा था। उसका एक बेटा था जिसका नाम प्रह्लाद था। \_\_\_\_\_ (2) भगवन विष्णु का भक्त था। ये बात उसके पिता को पसंद नहीं थी। पिता के कई बार \_\_\_\_\_ (3) के बाद भी प्रह्लाद ने अपनी विष्णु भक्ति नहीं छोड़ी। हिरण्यकश्यप ने अपने ही बेटे को कई तरह की सजायें दी \_\_\_\_\_ (4) ईश्वर की कृपा से वह हर बार बच जाता था। एक दिन क्रोधित \_\_\_\_\_ (5) हिरण्यकश्यप ने अपनी बहन होलिका को अपने बेटे का वध करने के लिए बुलाया।

SubQuestion No : 14

Q.1  
4 गद्यांश में संकेतित रिक्त स्थान (1) के लिए उपयुक्त शब्द होगा।

- Ans
- 1. दर्शन
  - 2. कविता
  - 3. निबंध
  - 4. कथा



## Comprehension:

निम्नलिखित गद्यांश के रिक्त स्थानों की पूर्ति गद्यांश के नीचे दिए गए प्रश्नों के अनुसार कीजिए-

होली के पर्व के पीछे एक लोकप्रिय पौराणिक \_\_\_\_\_ (1) है।

हिरण्यकश्यप एक राक्षस राजा था। उसका एक बेटा था जिसका नाम प्रह्लाद था। \_\_\_\_\_ (2) भगवन विष्णु का भक्त था। ये बात उसके पिता को पसंद नहीं थी। पिता के कई बार \_\_\_\_\_ (3) के बाद भी प्रह्लाद ने अपनी विष्णु भक्ति नहीं छोड़ी। हिरण्यकश्यप ने अपने ही बेटे को कई तरह की सजायें दी \_\_\_\_\_ (4) ईश्वर की कृपा से वह हर बार बच जाता था। एक दिन क्रोधित \_\_\_\_\_ (5) हिरण्यकश्यप ने अपनी बहन होलिका को अपने बेटे का वध करने के लिए बुलाया।

SubQuestion No : 15

Q.1  
5 गद्यांश में संकेतित रिक्त स्थान (2) के लिए उपयुक्त शब्द होगा।

- Ans
- 1. उसने
  - 2. वे
  - 3. उन्होंने
  - 4. वह

## Comprehension:

निम्नलिखित गद्यांश के रिक्त स्थानों की पूर्ति गद्यांश के नीचे दिए गए प्रश्नों के अनुसार कीजिए-

होली के पर्व के पीछे एक लोकप्रिय पौराणिक \_\_\_\_\_ (1) है।

हिरण्यकश्यप एक राक्षस राजा था। उसका एक बेटा था जिसका नाम प्रह्लाद था। \_\_\_\_\_ (2) भगवन विष्णु का भक्त था। ये बात उसके पिता को पसंद नहीं थी। पिता के कई बार \_\_\_\_\_ (3) के बाद भी प्रह्लाद ने अपनी विष्णु भक्ति नहीं छोड़ी। हिरण्यकश्यप ने अपने ही बेटे को कई तरह की सजायें दी \_\_\_\_\_ (4) ईश्वर की कृपा से वह हर बार बच जाता था। एक दिन क्रोधित \_\_\_\_\_ (5) हिरण्यकश्यप ने अपनी बहन होलिका को अपने बेटे का वध करने के लिए बुलाया।

SubQuestion No : 16

Q.1  
6

गद्यांश में संकेतित रिक्त स्थान (3) के लिए उपयुक्त शब्द होगा।

- Ans
- 1. निवेदन करने
  - 2. समझाने
  - 3. दुलार करने
  - 4. प्यार करने

Question ID : 9895806852  
Chosen Option : 2

Comprehension:

निम्नलिखित गद्यांश के रिक्त स्थानों की पूर्ति गद्यांश के नीचे दिए गए प्रश्नों के अनुसार कीजिए-

होली के पर्व के पीछे एक लोकप्रिय पौराणिक \_\_\_\_\_ (1) है।

हिरण्यकश्यप एक राक्षस राजा था। उसका एक बेटा था जिसका नाम प्रह्लाद था। \_\_\_\_\_ (2) भगवन विष्णु का भक्त था। ये बात उसके पिता को पसंद नहीं थी। पिता के कई बार \_\_\_\_\_ (3) के बाद भी प्रह्लाद ने अपनी विष्णु भक्ति नहीं छोड़ी। हिरण्यकश्यप ने अपने ही बेटे को कई तरह की सजायें दी \_\_\_\_\_ (4) ईश्वर की कृपा से वह हर बार बच जाता था। एक दिन क्रोधित \_\_\_\_\_ (5) हिरण्यकश्यप ने अपनी बहन होलिका को अपने बेटे का वध करने के लिए बुलाया।

SubQuestion No : 17

Q.1  
7 गद्यांश में संकेतित रिक्त स्थान (4) के लिए उपयुक्त शब्द होगा।

- Ans
- 1. अतः
  - 2. क्योंकि
  - 3. परन्तु
  - 4. इसलिए

Question ID : 9895806853  
Chosen Option : 3

Comprehension:

निम्नलिखित गद्यांश के रिक्त स्थानों की पूर्ति गद्यांश के नीचे दिए गए प्रश्नों के अनुसार कीजिए-

होली के पर्व के पीछे एक लोकप्रिय पौराणिक \_\_\_\_\_ (1) है।

हिरण्यकश्यप एक राक्षस राजा था। उसका एक बेटा था जिसका नाम प्रह्लाद था। \_\_\_\_\_ (2) भगवन विष्णु का भक्त था। ये बात उसके पिता को पसंद नहीं थी। पिता के कई बार \_\_\_\_\_ (3) के बाद भी प्रह्लाद ने अपनी विष्णु भक्ति नहीं छोड़ी। हिरण्यकश्यप ने अपने ही बेटे को कई तरह की सजायें दी \_\_\_\_\_ (4) ईश्वर की कृपा से वह हर बार बच जाता था। एक दिन क्रोधित \_\_\_\_\_ (5) हिरण्यकश्यप ने अपनी बहन होलिका को अपने बेटे का वध करने के लिए बुलाया।

SubQuestion No : 18

Q.1 गद्यांश में संकेतित रिक्त स्थान (5) के लिए उपयुक्त शब्द होगा।

- Ans
- 1. होकर
  - 2. चलकर
  - 3. बनकर
  - 4. लगकर

Question ID : 9895806854  
Chosen Option : 1

Q.1 दिये गये वाक्यांश के लिए एक शब्द दीजिये।

लेख की नकल

- Ans
- 1. लिपि
  - 2. हस्तलिपि
  - 3. प्रतिलिपि
  - 4. नकलची

Question ID : 9895806862  
Chosen Option : 3

Q.2 रिक्त स्थान को भरने के लिए उपयुक्त शब्द का चयन करें।

राजा हर्षवर्धन \_\_\_\_\_ करके लौटे।

- Ans
- 1. दिग्विजय
  - 2. चोरी
  - 3. नृत्य
  - 4. नाटक

Question ID : 9895806846

Chosen Option : 1

Q.2  
1 सही वर्तनी वाले शब्द का चयन करें।

- Ans
- 1. वीस्तार
  - 2. वीसतार
  - 3. विसतार
  - 4. विस्तार

Question ID : 9895806864

Chosen Option : 4

Q.2  
2 दिए गए शब्द का विलोम चुनें।

ऐश्वर्य

- Ans
- 1. शान
  - 2. भक्ति
  - 3. शक्ति
  - 4. दरिद्रता

Question ID : 9895806855

Chosen Option : 4

Q.2  
3 रिक्त स्थान को भरने के लिए उपयुक्त शब्द का चयन करें।

मैं कलम से चिट्ठी \_\_\_\_\_ रहा हूँ।

- Ans
- 1. लिख
  - 2. भेज
  - 3. सोच
  - 4. पढ़

Question ID : 9895806848

Chosen Option : 1

Q.2  
4 दिए गए वाक्य में रेखांकित खंड को प्रतिस्थापित करने के लिए उपयुक्त विकल्प का चयन करें।

धरणी पर बहुत सारी प्राकृतिक घटनाएं होती रहती हैं।

- Ans
- 1. समूह
  - 2. वृक्ष
  - 3. पृथ्वी

✗ 4. भुजंग

Question ID : 9895806842  
Chosen Option : 3

Q.2  
5 दिये गये वाक्यांश के लिए एक शब्द दीजिये।

अच्छे चरित्र वाला

- Ans
- ✗ 1. व्यभिचारी
  - ✗ 2. चरित्रहीन
  - ✓ 3. चरित्रवान
  - ✗ 4. दुष्चरित्र

Question ID : 9895806861  
Chosen Option : 3