

Constable (GD) in CAPFs, NIA, SSF and Rifleman (GD) in Assam Rifles Examination, 2018

Roll No. :	GovtJobsAlert.In
Registration No.	GovtJobsAlert.In
Name :	GovtJobsAlert.In
Exam Venue :	iON Digital Zone iDZ Bhucho kalan
Exam Time :	9:00 AM - 10:30 AM
Exam Date :	05/03/2019

Section : General Section

Q.1 यदि '+' का अर्थ 'भाग' है, '-' का अर्थ 'जोड़' है, 'x' का अर्थ 'घटाव' है और '÷' का अर्थ 'गुणा' है, तो

$$20 \times 12 + 4 - 8 \div 4 = ?$$

- Ans
- 1. 38
 - 2. 39
 - 3. 49
 - 4. 41

Question ID : 9895808382
Chosen Option : 3

Q.2 उस विकल्प का चयन करें जो सही रूप में रिक्त स्थान की पूर्ति करते हुए श्रृंखला को पूरा करें।

$$2, 2, 3, 6, 15, ?$$

- Ans
- 1. 30
 - 2. 45
 - 3. 25
 - 4. 35

Question ID : 9895808378
Chosen Option : 3

Q.3 उस विकल्प का चयन करें जो तीसरे पद से उसी तरह संबंधित है जिस प्रकार दूसरा पद पहले पद से संबंधित है।

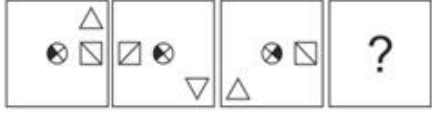
$$412 : 49 :: 361 : ?$$

- Ans
- 1. 100
 - 2. 144
 - 3. 120
 - 4. 82

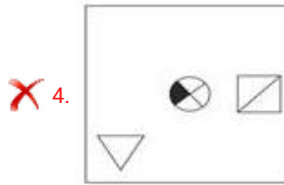
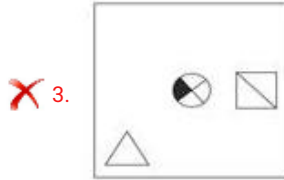
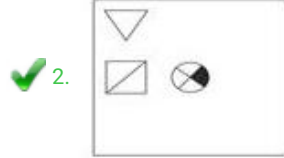
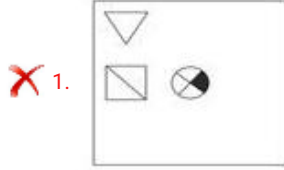
Question ID : 9895808379
Chosen Option : 2

Q.4

किस विकल्प की आकृति प्रश्न के आकृति-श्रृंखला को पूरा करेगी?



Ans



Question ID : 9895808383
Chosen Option : 2

Q.5 उस विकल्प का चयन करें जो तीसरे पद से उसी तरह संबंधित है जिस प्रकार पहला पद दूसरे पद से संबंधित है।

कार : गेराज :: हवाई जहाज : ?

Ans ✗ 1. उड़ान

✓ 2. हैंगर

✗ 3. एयर होस्टेस

✗ 4. लैंडिंग

Question ID : 9895808367
Chosen Option : 2

Q.6 चार शब्द दिए गए हैं, जिनमें से तीन किसी तरह से समान हैं, जबकि एक अलग है। असंगत शब्द का चयन करें।

Ans ✗ 1. COMIC

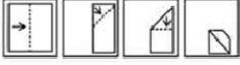
✓ 2. TOUCH

✗ 3. SALES

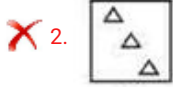
✗ 4. SHOES

Q.7 नीचे दिए गए प्रश्न आकृति के अनुसार एक कागज को मोड़कर काटा गया। खोले जाने पर वह, दी गई आकृतियों में से, कैसा दिखाई देगा?

प्रश्न आकृति



Ans



Q.8 उस सही विकल्प का चयन करें जो रिक्त स्थान की पूर्ति करते हुए श्रृंखला को पूरा करे।

YEB, XFD, WGF, ?

Ans

✗ 1. DHV

✗ 2. UEG

✗ 3. VHD

✓ 4. VHH

Q.9 पाँच किताबें A, B, C, D और E हैं। किताब C ऊपर है किताब D के, किताब E नीचे है किताब A के, D ऊपर है A के, किताब B नीचे है E के। कौन सी किताब सबसे नीचे है?

Ans

✗ 1. C

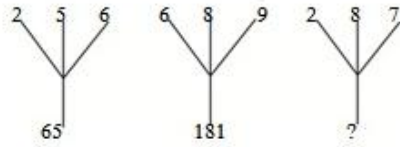
✗ 2. A

✗ 3. D

✓ 4. B

Q.1
0

दिए गए विकल्पों में से लुप्त संख्या ज्ञात करें।



- Ans
- 1. 110
 - 2. 108
 - 3. 117
 - 4. 78

Question ID : 9895808381
Chosen Option : 3

Q.1 यदि 'PANT' को 51 के रूप में कूटबद्ध किया जाता है, तो 'DOGS' के लिए कूट क्या होगा?

- Ans
- 1. 49
 - 2. 44
 - 3. 45
 - 4. 52

Question ID : 9895808371
Chosen Option : 3

Q.1 चार अक्षर समूह दिए गए हैं, जिनमें से तीन किसी तरह से समान हैं, जबकि एक अलग है। असंगत अक्षर समूह का चयन करें।

- Ans
- 1. HIK
 - 2. CDE
 - 3. DEF
 - 4. EFG

Question ID : 9895808365
Chosen Option : 1

Q.1 सात मॉडलस A, B, C, D, E, F और G एक फोटोग्राफी सेशन के लिए फोटोग्राफर के सामने हैं। D, G के बिलकुल दाएँ ओर खड़ा है। B, D और F के बीच में खड़ा है। A, C के बिलकुल दाएँ ओर खड़ा है। E, G और A के बीच में खड़ा है।

बीच में कौन खड़ा है?

- Ans
- 1. A
 - 2. D
 - 3. G
 - 4. E

Question ID : 9895808372
Chosen Option : 3

Q.1
4

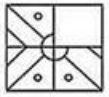
यदि किसी निश्चित कूट भाषा में CAGE को BDFG के रूप में लिखा जाता है और NORMAL को MOXQDF के रूप में लिखा जाता है तो उसी कूट भाषा में GENERAL को किस प्रकार लिखा जाएगा?

- Ans
- ✓ 1. FGMGXDF
 - ✗ 2. MGGFFDX
 - ✗ 3. FGDFXMG
 - ✗ 4. BGIKLMK

Question ID : 9895808370
Chosen Option : 3

Q.1
5 निम्नलिखित में से कौन सी उत्तर आकृति दी गई आकृति को पूरा करेगी?

प्रश्न आकृति



- Ans
- ✗ 1.
 - ✓ 2.
 - ✗ 3.
 - ✗ 4.

Question ID : 9895808384
Chosen Option : 2

Q.1
6 A, B की तुलना में अधिक बुद्धिमान है। C, B से अधिक बुद्धिमान नहीं है। D, E की तुलना में अधिक बुद्धिमान है परन्तु A से अच्छा नहीं है। सबसे बुद्धिमान कौन है?

- Ans
- ✗ 1. E
 - ✗ 2. D
 - ✓ 3. A
 - ✗ 4. B

Question ID : 9895808373
Chosen Option : 4

Q.1
7 उस विकल्प का चयन करें जो तीसरे पद से उसी तरह संबंधित है जिस प्रकार दूसरा पद पहले पद से संबंधित है।
AC : CF :: MO : ?

- Ans
- ✗ 1. PQ

✓ 2. OR

✗ 3. QR

✗ 4. OQ

Question ID : 9895808369

Chosen Option : 2

Q.1 नीचे दिए गए कथनों के बाद चार निष्कर्ष I, II, III और IV दिए गए हैं। यह मानते हुए कि कथनों में दी गई जानकारी सत्य है, भले ही वह सर्वज्ञात तथ्यों से भिन्न प्रतीत होती हो, तय करें कि कौन सा/ से निष्कर्ष तार्किक और निश्चित रूप से कथन में दी गई जानकारी का अनुसरण करता है/करते हैं।

कथन:

सभी प्रेरक, संधारित्र हैं।

कुछ प्रतिरोधक, प्रेरक हैं।

सभी परमाणु संख्या, प्रतिरोधक हैं।

निष्कर्ष:

I. सभी परमाणु संख्या, संधारित्र हैं।

II. कुछ परमाणु संख्या, संधारित्र हैं।

III. कुछ संधारित्र, प्रतिरोधक हैं।

IV. सभी प्रतिरोधक, संधारित्र हैं।

Ans

✗ 1. केवल I अनुसरण करता है।

✗ 2. केवल I और III अनुसरण करता है।

✓ 3. केवल III अनुसरण करता है।

✗ 4. केवल II अनुसरण करता है।

Question ID : 9895808375

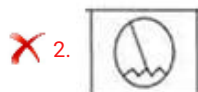
Chosen Option : 3

Q.1 उस विकल्प आकृति का चयन करें, जिसमें प्रश्न आकृति प्रच्छन्न/अंतर्निहित है।

प्रश्न आकृति



Ans



✓ 4.



Question ID : 9895808385
Chosen Option : 1

Q.2 0 चार विकल्प दिए गए हैं, जिनमें से तीन किसी तरह से समान हैं, जबकि एक अलग है। असंगत का चयन करें।

- Ans
- ✗ 1. 10,15
 - ✗ 2. 22,33
 - ✗ 3. 18,27
 - ✓ 4. 16,21

Question ID : 9895808380
Chosen Option : 2

Q.2 1 उस विकल्प का चयन करें जो तीसरे पद से उसी तरह संबंधित है जिस प्रकार पहला पद दूसरे पद से संबंधित है।

बल्लख : कुडकुडाना :: पक्षी : ?

- Ans
- ✗ 1. चिल्लाना
 - ✓ 2. चहचहाना
 - ✗ 3. गुनगुनाहट
 - ✗ 4. काँ काँ

Question ID : 9895808368
Chosen Option : 2

Q.2 2 यदि एक दर्पण उत्तर दिशा में रखा गया है, तो दी गई उत्तर आकृतियों में से कौन सी आकृति प्रश्न आकृति का सही प्रतिबिंब है।



Ans

- ✗ 1.
- ✗ 2.
- ✗ 3.

✓ 4.



Question ID : 9895808386

Chosen Option : 2

Q.2 वेन आरेख का चयन करें जो दिए गए तीन वर्गों के बीच के संबंध को सर्वोत्तम दर्शाता है।


पुरुष, पिता, भाई

Ans

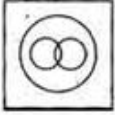
✗ 1.



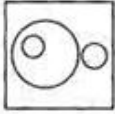
✗ 2.



✓ 3.



✗ 4.



Question ID : 9895808388

Chosen Option : 2

Q.2 नीचे दिए गए कथनों के बाद दो निष्कर्ष I और II दिए गए हैं। यह मानते हुए कि कथनों में दी गई जानकारी सत्य है, भले ही वह सर्वज्ञात तथ्यों से भिन्न प्रतीत होती हो, तय करें कि कौन सा/से निष्कर्ष तार्किक और निश्चित रूप से कथन में दी गई जानकारी का अनुसरण करता है/करते हैं।

कथन:

- I. कुछ कलमें पुस्तकें हैं।
- II. सभी पुस्तकें मंदिर हैं।

निष्कर्ष:

- I. सभी मंदिर कलमें हैं।
- II. कुछ कलमें मंदिर हैं।

Ans

✗ 1. कोई अनुसरण नहीं करता है।

✗ 2. केवल I अनुसरण करता है।

✗ 3. I और II दोनों अनुसरण करते हैं।

✓ 4. केवल II अनुसरण करता है।

Question ID : 9895808376

Chosen Option : 2

Q.2
5 उस विकल्प का चयन करें जो सही रूप में रिक्त स्थान की पूर्ति करते हुए श्रृंखला को पूरा करें।

145, 290, 580, 1160, ?

- Ans
- 1. 2420
 - 2. 2310
 - 3. 2320
 - 4. 2215

Question ID : 9895808377
Chosen Option : 2

Q.2
6 निम्न में से कौन सी पूर्व प्रधानमंत्री आई के गुजराल की आत्मकथा है?

- Ans
- 1. मैटर्स ऑफ डिस्क्रीशन
 - 2. ड्रीम्स फ्रॉम माय फादर
 - 3. द ऑटोबायोग्राफी ऑफ एन अननोन इंडियन
 - 4. फिलिंग द गैप

Question ID : 9895807434
Chosen Option : 3

Q.2
7 निम्न में से कौन सी महाराष्ट्र की नृत्य शैली है?

- Ans
- 1. लेज़िम
 - 2. माचा
 - 3. चिरो
 - 4. ओट्टम थुल्लल

Question ID : 9895807430
Chosen Option : 3

Q.2
8 निम्न में से कौन सी झारखंड की सर्वाधिक लोकप्रिय संगीत शैली है?

- Ans
- 1. मांडो
 - 2. मांड
 - 3. खुबाकएशेई
 - 4. धमसा

Question ID : 9895807428
Chosen Option : 4

Q.2
9 भारतीय संविधान के किस भाग में चुनावों पर अनुच्छेद हैं?

- Ans
- 1. भाग XV

- 2. भाग V
- 3. भाग XX
- 4. भाग X

Question ID : 9895807440
Chosen Option : 2

Q.3 0 मई 2018 में लुधियाना का _____ अंडर-2300 श्रेणी में FIDE विश्व अमेचर (अव्यवसायिक) चैंपियनशिप जीतने वाला सबसे पहला भारतीय शतरंज खिलाड़ी बना।

- Ans
- 1. भास्करन अधिबान
 - 2. अरविंदर प्रीत
 - 3. कृष्णन शशिकिरन
 - 4. पेंटाला हरिकृष्ण

Question ID : 9895807432
Chosen Option : 2

Q.3 1 सीमेंस किसकी इकाई है?

- Ans
- 1. विद्युत चालकत्व
 - 2. चुंबकीय प्रवाह
 - 3. चुंबकीय प्रवाह घनत्व
 - 4. धारिता

Question ID : 9895807443
Chosen Option : 2

Q.3 2 2018-19 प्रो कबड्डी लीग फाइनल में कौन सी टीम विजेता रही?

- Ans
- 1. जयपुर पिंक पैंथर्स
 - 2. बंगलूरु बुल्स
 - 3. दबंग दिल्ली केसी
 - 4. बंगाल वॉरियर्स

Question ID : 9895807431
Chosen Option : 4

Q.3 3 केंद्रीय बजट 2018 में मत्स्यपालन फंड और पशुपालन फंड स्थापित करने के लिए कुल कितनी राशि आवंटित की गई है?

- Ans
- 1. ₹5,000 करोड़
 - 2. ₹10,000 करोड़

✗ 3. ₹500 करोड़

✗ 4. ₹1,000 करोड़

Question ID : 9895807437
Chosen Option : 4

Q.3 भारत सरकार अधिनियम, 1919, 23 दिसंबर 1919 से लागू हुआ। इस अधिनियम में _____ रिपोर्ट में सिफारिश
4 किए गए सुधारों को शामिल किया गया।

- Ans
- ✗ 1. राष्ट्रीय योजना
 - ✓ 2. मॉटेग्यू-चेम्सफोर्ड
 - ✗ 3. मॉर्ले-मिंटो
 - ✗ 4. कर्जन

Question ID : 9895807451
Chosen Option : 3

Q.3 भारतीय संविधान में याचिकाएं और द्विसदनीय पद्धति किस देश के संविधान से प्रेरित हैं?
5

- Ans
- ✓ 1. यूनाइटेड किंगडम
 - ✗ 2. आयरलैंड
 - ✗ 3. संयुक्त राज्य अमेरिका
 - ✗ 4. ऑस्ट्रेलिया

Question ID : 9895807439
Chosen Option : 3

Q.3 आर्थिक सर्वेक्षण रिपोर्ट 2017-18 में दर्शाया गया है की FY18 के लिए उद्योग वृद्धि दर _____ रहने की संभावना है।
6

- Ans
- ✓ 1. 4.40%
 - ✗ 2. 5.90%
 - ✗ 3. 4.90%
 - ✗ 4. 5.40%

Question ID : 9895807436
Chosen Option : 3

Q.3 ब्लैक फॉरेस्ट एक बड़ी वनाच्छादित पर्वत श्रृंखला है जो _____ में पाई जाती है।
7

- Ans
- ✗ 1. दक्षिण अफ्रीका
 - ✓ 2. जर्मनी
 - ✗ 3. ब्राज़िल
 - ✗ 4. बेल्जियम

Question ID : 9895807449
Chosen Option : 1

Q.3 8 भारत रत्न प्राप्त करने वाले किस व्यक्ति का जन्मदिन राष्ट्रीय चिकित्सक दिवस के रूप में मनाया जाता है?

- Ans
- 1. अब्दुल कलाम आजाद
 - 2. सी एन आर राव
 - 3. बिधान चंद्र राँय
 - 4. पुरुषोत्तम दास टंडन

Question ID : 9895807433
Chosen Option : 2

Q.3 9 औरंगाबाद किस नदी के किनारे पर स्थित है?

- Ans
- 1. महानदी
 - 2. मूसी
 - 3. कौम
 - 4. गोदावरी

Question ID : 9895807447
Chosen Option : 3

Q.4 0 चोल साम्राज्य के संस्थापक का नाम बताइए जिसने तंजौर पर कब्जा किया और जिसके बाद आदित्य । राजा बना।

- Ans
- 1. उत्तम
 - 2. विजयालय
 - 3. राजाधिराज
 - 4. गंडारादित्य

Question ID : 9895807450
Chosen Option : 2

Q.4 1 टिबिया किसका भाग है?

- Ans
- 1. हाथ
 - 2. खोपड़ी
 - 3. पैर
 - 4. बांह

Question ID : 9895807446
Chosen Option : 2

Q.4 2 अक्टूबर और नवंबर के बीच तमिलनाडु में मनाए जाते किस अनोखे उत्सव/कार्यक्रम में आग पर चलने की प्रथा है?

- Ans
- 1. मिंजर
 - 2. पुली काली
 - 3. थिमिथी
 - 4. मड़ई

Question ID : 9895807429
Chosen Option : 3

Q.4 शक्ति 'p', प्रवाह 'I' और प्रतिरोध 'R' के बीच क्या संबंध है?

- Ans
- 1. $P = I/R^2$
 - 2. $P = I^2R$
 - 3. $P = IR^2$
 - 4. $P = I^2/R$

Question ID : 9895807442
Chosen Option : 1

Q.4 क्लोरोफॉर्म का सूत्र क्या है?

- Ans
- 1. CH_3Cl
 - 2. CCl_4
 - 3. CF_2Cl_2
 - 4. $CHCl_3$

Question ID : 9895807444
Chosen Option : 3

Q.4 2018-19 के लिए बाजरे का न्यूनतम समर्थन मूल्य कितना निर्धारित किया गया है?

- Ans
- 1. ₹5,150 प्रति क्विंटल
 - 2. ₹1,750 प्रति क्विंटल
 - 3. ₹2,430 प्रति क्विंटल
 - 4. ₹1,950 प्रति क्विंटल

Question ID : 9895807438
Chosen Option : 4

Q.4 1970 में मिस एशिया पैसिफिक का खिताब जीतने वाली पहली भारतीय प्रतिभागी कौन बनी?

- Ans
- 1. डायना हेडन
 - 2. रीता फारिया

✓ 3. जीनत अमान

✗ 4. तारा फॉसेका

Question ID : 9895807435
Chosen Option : 2

Q.4 1773 के विनियमन अधिनियम के दोषों को दूर करने के लिए ब्रिटिश संसद द्वारा पारित किया गया था कौन सा
7 अधिनियम जो ईस्ट इंडिया कंपनी अधिनियम, 1784 से भी जाना जाता है?

- Ans
- ✗ 1. 1858 का भारत सरकार अधिनियम
 - ✗ 2. रेगुलेटिंग एक्ट 1773
 - ✗ 3. 1861 का भारतीय परिषद अधिनियम
 - ✓ 4. पिट्स इंडिया एक्ट

Question ID : 9895807441
Chosen Option : 4

Q.4 8 अंडमान निकोबार द्वीप समूह में सबसे ऊंची चोटी का नाम बताइए।

- Ans
- ✗ 1. करोह पीक
 - ✗ 2. सोंसोगोर
 - ✗ 3. कोडाचाद्री
 - ✓ 4. सैडल पीक

Question ID : 9895807448
Chosen Option : 1

Q.4 9 कौन सी मिश्रधातु में कांसा, सीसा और टिन होते हैं?

- Ans
- ✗ 1. जर्मन सिल्वर
 - ✓ 2. रोज मेटल
 - ✗ 3. सोल्डर
 - ✗ 4. बेल मेटल

Question ID : 9895807445
Chosen Option : 1

Q.5 0 अमरोहा के युद्ध (1305) में दिल्ली सल्तनत को किसके ऊपर विजय प्राप्त हुई?

- Ans
- ✓ 1. मंगोल सेना
 - ✗ 2. पुर्तगाली साम्राज्य
 - ✗ 3. ईस्ट इंडिया कंपनी

✗ 4. बीजापुर सल्तनत

Question ID : 9895807452
Chosen Option : 1

Q.5 P, Q, और R प्रकार की प्रत्येक वस्तु का मूल्य क्रमशः ₹200, ₹300 और ₹400 है। सुरेश ₹2,000 में 1:2:3 के अनुपात में प्रत्येक प्रकार की वस्तु खरीदता है। तो उसने Q प्रकार की कितनी वस्तुएं खरीदी?

- Ans
- ✗ 1. 3
 - ✗ 2. 4
 - ✓ 3. 2
 - ✗ 4. 5

Question ID : 9895807764
Chosen Option : 2

Q.5 रमन ने 9 वर्ष बाद ब्याज के रूप में ₹13,300 का भुगतान किया। उसने पहले दो वर्षों के लिए 6%, अगले तीन वर्षों के लिए 9% और शेष अवधि के लिए 14% की दर से पर कुछ धनराशि उधार ली थी। तो उसने कुल कितनी धनराशि उधार ली थी?

- Ans
- ✗ 1. ₹12,000
 - ✗ 2. ₹12,500
 - ✗ 3. ₹10,000
 - ✓ 4. ₹14,000

Question ID : 9895807766
Chosen Option : 2

Q.5 सरलीकृत करें:

$$17 - 4.5 \div 9 + 1.3 \times 0.6 + 0.4$$

- Ans
- ✓ 1. 17.68
 - ✗ 2. 17.86
 - ✗ 3. 16.68
 - ✗ 4. 16.78

Question ID : 9895807755
Chosen Option : 1

Q.5 एक लंब वृत्तीय शंकु का पृष्ठीय क्षेत्रफल $\frac{1408}{7} cm^2$ है और इसकी ऊंचाई 6 cm है। $\pi = \frac{22}{7}$ लेकर, शंकु का वक्र पृष्ठीय क्षेत्रफल कितना होगा?

- Ans
- ✓ 1. $\frac{1760}{7} cm^2$
 - ✗ 2. $\frac{7160}{7} cm^2$
 - ✗ 3. $\frac{1067}{7} cm^2$

4. $\frac{1670}{7} \text{ cm}^2$

Question ID : 9895807773

Chosen Option : 3

Q.5 P और Q की औसत मासिक आय ₹8,500 है। Q और R की औसत मासिक आय ₹6,450 है तथा P और R की औसत मासिक आय ₹7,300 है। तो Q की मासिक आय कितनी है?

- Ans
- 1. ₹7,000
 - 2. ₹7,600
 - 3. ₹7,650
 - 4. ₹8,650

Question ID : 9895807757

Chosen Option : 2

Q.5 सरलीकृत करें:

5. $7 - 0.4 \text{ of } (7.4 - 2.6) + 5.7 \times 3.01 + 10$

- Ans
- 1. 30.497
 - 2. 30.397
 - 3. 30.937
 - 4. 30.947

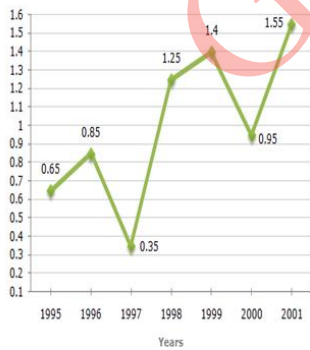
Question ID : 9895807754

Chosen Option : 2

Q.5 निम्नलिखित रेखीय ग्राफ 1995 से 2001 की अवधि में किसी कंपनी द्वारा आयात की मात्रा से उस कंपनी से निर्यात की मात्रा का अनुपात दर्शाता है।

वर्षों में कंपनी द्वारा आयात मूल्य

से निर्यात मूल्य का अनुपात।



दिए गए वर्षों में से कितने वर्षों में आयात से कम निर्यात हुआ?

- Ans
- 1. 1
 - 2. 4
 - 3. 3

X 4. 2

Question ID : 9895807777
Chosen Option : 3

Q.5 निम्नलिखित रेखीय ग्राफ 1995 से 2001 की अवधि में किसी कंपनी द्वारा आयात की मात्रा से उस कंपनी से निर्यात की मात्रा का अनुपात दर्शाता है।

वर्षों में कंपनी द्वारा आयात मूल्य

से निर्यात मूल्य का अनुपात।



यदि 1995 में कंपनी का आयात ₹247 करोड़ था, तो 1995 में कंपनी द्वारा निर्यात कितना था?

- Ans
- X 1. ₹280 करोड़
 - X 2. ₹370 करोड़
 - X 3. ₹275 करोड़
 - ✓ 4. ₹380 करोड़

Question ID : 9895807776
Chosen Option : 2

Q.5 400 m लंबी ट्रेन 300 m लंबे पुल को 70 सेकंड में पार करती है। तो ट्रेन की गति है :

- Ans
- X 1. 18 km/h
 - ✓ 2. 36 km/h
 - X 3. 54 km/h
 - X 4. 72 km/h

Question ID : 9895807770
Chosen Option : 3

Q.6 एक परिवार में दो दादा-दादी, चार माता-पिता और छह नाती-पोते हैं। दादा-दादी की औसत आयु 70 वर्ष है, माता-पिता की आयु 40 वर्ष है और पोते की आयु 12 वर्ष है। तो परिवार की औसत आयु क्या है?

- Ans
- X 1. 30 वर्ष
 - X 2. 35 वर्ष
 - X 3. 32 वर्ष
 - ✓ 4. 31 वर्ष

Question ID : 9895807756
Chosen Option : 2

Q.6 एक विक्रेता ने एक रुपये में 10 टॉफियां खरीदी। तो 25% का लाभ कमाने के लिए उसे एक रुपये में कितनी टॉफी बेचनी चाहिए?

- Ans
- 1. 7
 - 2. 6
 - 3. 8
 - 4. 5

Question ID : 9895807761
Chosen Option : 4

Q.6 ट्रेन A को 800 km की दूरी तय करने के लिए ट्रेन B से 6 घंटे अधिक समय लगता है। यदि ट्रेन A की गति दोगुनी कर डी जाती है तो यह ट्रेन B से 2 घंटे कम समय लगाती है। तो ट्रेन B की गति क्या है?

- Ans
- 1. 60 km/h
 - 2. 50 km/h
 - 3. 80 km/h
 - 4. 75 km/h

Question ID : 9895807771
Chosen Option : 2

Q.6 8 cm त्रिज्या वाला एक वृत्त जिसका क्षेत्रफल 8 cm आधार वाले त्रिभुज के क्षेत्रफल के बराबर है। तो त्रिभुज की समरूपी ऊंचाई की लंबाई है:

- Ans
- 1. 38π cm
 - 2. 16π cm
 - 3. 8π cm
 - 4. 18π cm

Question ID : 9895807772
Chosen Option : 2

Q.6 एक छात्र ने $\frac{4}{5}$ के बजाय $\frac{5}{4}$ से किसी एक संख्या का गुणा किया, तो गणना में प्रतिशत त्रुटि क्या होगी?

- Ans
- 1. 72%
 - 2. 54%
 - 3. 36%
 - 4. 44%

Question ID : 9895807760
Chosen Option : 2

Q.6 एक पुस्तकालय में, कहानी की पुस्तकों की संख्या से गैर-कहानी पुस्तकों की संख्या का अनुपात 4:5 था और कहानी की पुस्तकों की कुल संख्या 900 थी। जब कहानी की कुछ और किताबें खरीदी गईं, तो अनुपात 8:9 हो गया। खरीदी गई कहानी की किताबों की संख्या ज्ञात करें।

- Ans
- 1. 120

2. 140
 3. 130
 4. 100

Question ID : 9895807763
Chosen Option : 2

Q.6 यदि एक दिन में 6 घंटे काम करने वाले 10 आदमी 90 दिनों में एक काम कर सकते हैं, तो एक दिन में 15 घंटे काम करने वाले 6 आदमी कितने दिनों में उस काम को पूरा कर सकते हैं?

- Ans 1. 20 दिन
 2. 40 दिन
 3. 30 दिन
 4. 60 दिन

Question ID : 9895807769
Chosen Option : 2

Q.6 तीन संख्याएं 3 : 4 : 5 के अनुपात में हैं और उनका लघुत्तम समावर्त्य (L.C.M.) 4200 है। तो उनका महत्तम समावर्तक (H.C.F.) है:

- Ans 1. 15
 2. 20
 3. 70
 4. 60

Question ID : 9895807753
Chosen Option : 4

Q.6 ₹7,000,000 कीमत के फ्लैट का मूल्य 20% प्रति वर्ष की दर से मूल्यहासित हो रहा है। तो कितने वर्षों में मूल्य घटकर ₹35,84,000 हो जाएगा।

- Ans 1. 2 वर्ष
 2. 3 वर्ष
 3. 4 वर्ष
 4. 5 वर्ष

Question ID : 9895807767
Chosen Option : 2

Q.6 यदि 15 श्रमिक 10 दिनों में ₹1,800 कमा सकते हैं। तो 8 दिनों में 5 श्रमिकों की कमाई कितनी होगी।

- Ans 1. ₹360
 2. ₹540
 3. ₹480
 4. ₹400

Question ID : 9895807768
Chosen Option : 3

Q.7 कागज का मूल्य ₹55 प्रति kg है। यदि एक kg कागज से 192 sq.m क्षेत्रफल कवर किया जाता है 8 m भुजा वाले एक घन को कागज से कवर करने पर कितना खर्च होगा?

- Ans
- 1. ₹192
 - 2. ₹165
 - 3. ₹110
 - 4. ₹55

Question ID : 9895807774
Chosen Option : 2

Q.7 यह नियत किया गया था कि ₹780 को P, Q और R के बीच 1:2:3 के अनुपात में वितरित किया जाए। लेकिन गलती से वितरण $\frac{1}{2}:\frac{1}{3}:\frac{1}{4}$ के अनुपात में किया गया था। तो इस गलती से 'Q' को कितना नुकसान हुआ?

- Ans
- 1. ₹10
 - 2. ₹20
 - 3. ₹40
 - 4. ₹30

Question ID : 9895807765
Chosen Option : 2

Q.7 हैंडबैग पर 25% की छूट थी। मधु ने एक हैंडबैग खरीदा। उसे नकद भुगतान करने पर 10% की छूट भी मिली। उसने ₹540 का भुगतान किया। तो हैंडबैग पर अंकित मूल्य कितना था?

- Ans
- 1. ₹600
 - 2. ₹500
 - 3. ₹450
 - 4. ₹800

Question ID : 9895807758
Chosen Option : 1

Q.7 सात संख्याओं के समुच्चय का माध्य 81 है। यदि किसी एक संख्या को हटाया जाता है, तो शेष संख्याओं का माध्य 78 हो जाता है। तो हटाई गई संख्या का मान क्या है?

- Ans
- 1. 99
 - 2. 101
 - 3. 98
 - 4. 100

Question ID : 9895807759
Chosen Option : 3Q.7
4

निम्नलिखित रेखीय ग्राफ 1995 से 2001 की अवधि में किसी कंपनी द्वारा आयात की मात्रा से उस कंपनी से निर्यात की मात्रा का अनुपात दर्शाता है।

वर्षों में कंपनी द्वारा आयात मूल्य

से निर्यात मूल्य का अनुपात।



किस वर्ष में कंपनी के निर्यात से आयात का अनुपात अधिकतम था?

- Ans
- 1. 1996
 - 2. 1998
 - 3. 2001
 - 4. 2000

Question ID : 9895807775
Chosen Option : 2

Q.7 18 गेंदों को ₹900 में बेचने पर, 6 गेंदों के लागत मूल्य के बराबर हानि होती है। तो एक गेंद का लागत मूल्य कितना है?

- Ans
- 1. ₹70
 - 2. ₹50
 - 3. ₹80
 - 4. ₹75

Question ID : 9895807762
Chosen Option : 2

Section : English Language

Q.1 Select the most appropriate option to fill in the blank.

A Vision is a _____ oriented statement of where you want to be.

- Ans
- 1. current
 - 2. trade
 - 3. present
 - 4. future

Question ID : 9895808093
Chosen Option : --

Q.2

Select the correctly spelt word.

- Ans
- 1. Disapointment
 - 2. Disappiontment
 - 3. Dissappointment
 - 4. Disappointment

Question ID : 9895808110
Chosen Option : --

Q.3 Select the most appropriate option to substitute the underlined segment in the given sentence. If there is no need to substitute it, select No improvement.

More than one traveller were injured in the derailing of the train last night.

- Ans
- 1. has injured
 - 2. was injured
 - 3. No improvement
 - 4. are injured

Question ID : 9895808090
Chosen Option : --

Q.4 Select the word which means the same as the group of words given.

Government not connected with religious or spiritual matters.

- Ans
- 1. Monarchic
 - 2. Theocratic
 - 3. Secular
 - 4. Democratic

Question ID : 9895808107
Chosen Option : --

Q.5 Select the correctly spelt word.

- Ans
- 1. Consitution
 - 2. Constitution
 - 3. Constitutoin
 - 4. Constituition

Question ID : 9895808109
Chosen Option : --

Q.6 Select the most appropriate option to fill in the blank.

Fathers have typically been _____ by how well they support their families financially.

- Ans
- 1. judges

- 2. judged
- 3. judge
- 4. judging

Question ID : 9895808094
Chosen Option : --

Q.7 Select the most appropriate option to substitute the underlined segment in the given sentence. If there is no need to substitute it, select No improvement.

She stayed in Mumbai for two weeks over a project by an NGO working for the welfare of street - children.

- Ans
- 1. for a project
 - 2. No improvement
 - 3. to a project
 - 4. in a project

Question ID : 9895808091
Chosen Option : --

Q.8 Select the synonym of the given word.

PATRON

- Ans
- 1. Sponsor
 - 2. Beneficiary
 - 3. Owner
 - 4. Comrade

Question ID : 9895808101
Chosen Option : --

Q.9 Select the most appropriate word to fill in the blank.

The year 2018 remained as the best year of _____ and celebrations for him.

- Ans
- 1. milestones
 - 2. provisions
 - 3. mechanisms
 - 4. symbols

Question ID : 9895808111
Chosen Option : --

Comprehension:

In the following passage some words have been deleted. Fill in the blanks with the help of the alternatives given.

It is very important to realise that an important factor in getting appreciation is often not (1) _____ by the success in academic examinations but your behaviour (2) _____ others. Simplicity and truthfulness play a very important role in social (3) _____. One should always be compassionate and should make an (4) _____ to understand the problems of companions and try to find solutions. We should always be flexible in our (5) _____.

SubQuestion No : 10

Q.1
0 Select the most appropriate option that will fill in the blank number 1.

- Ans
- 1. spoken
 - 2. driven
 - 3. talked
 - 4. intended

Question ID : 9895808096
Chosen Option : --

Comprehension:

In the following passage some words have been deleted. Fill in the blanks with the help of the alternatives given.

It is very important to realise that an important factor in getting appreciation is often not (1) _____ by the success in academic examinations but your behaviour (2) _____ others. Simplicity and truthfulness play a very important role in social (3) _____. One should always be compassionate and should make an (4) _____ to understand the problems of companions and try to find solutions. We should always be flexible in our (5) _____.

SubQuestion No : 11

Q.1
1 Select the most appropriate option that will fill in the blank number 2.

- Ans
- 1. towards
 - 2. for
 - 3. about
 - 4. on

Question ID : 9895808097
Chosen Option : --

Comprehension:

In the following passage some words have been deleted. Fill in the blanks with the help of the alternatives given.

It is very important to realise that an important factor in getting appreciation is often not (1) _____ by the success in academic examinations but your behaviour (2) _____ others. Simplicity and truthfulness play a very important role in social (3) _____. One should always be compassionate and should make an (4) _____ to understand the problems of companions and try to find solutions. We should always be flexible in our (5) _____.

SubQuestion No : 12

Q.1
2 Select the most appropriate option that will fill in the blank number 3.

- Ans
- 1. perception
 - 2. approval
 - 3. denial
 - 4. rejection

Question ID : 9895808098
Chosen Option : --

Comprehension:

In the following passage some words have been deleted. Fill in the blanks with the help of the alternatives given.

It is very important to realise that an important factor in getting appreciation is often not (1) _____ by the success in academic examinations but your behaviour (2) _____ others. Simplicity and truthfulness play a very important role in social (3) _____. One should always be compassionate and should make an (4) _____ to understand the problems of companions and try to find solutions. We should always be flexible in our (5) _____.

SubQuestion No : 13

Q.1
3 Select the most appropriate option that will fill in the blank number 4.

- Ans
- 1. enquiry
 - 2. association
 - 3. experiment
 - 4. attempt

Question ID : 9895808099
Chosen Option : --

Comprehension:

In the following passage some words have been deleted. Fill in the blanks with the help of the alternatives given.

It is very important to realise that an important factor in getting appreciation is often not (1) _____ by the success in academic examinations but your behaviour (2) _____ others. Simplicity and truthfulness play a very important role in social (3) _____. One should always be compassionate and should make an (4) _____ to understand the problems of companions and try to find solutions. We should always be flexible in our (5) _____.

SubQuestion No : 14

Q.1
4 Select the most appropriate option that will fill in the blank number 5.

- Ans
- 1. ambition
 - 2. role
 - 3. goal
 - 4. attitude

Question ID : 9895808100
Chosen Option : --

Q.1
5 Select the word which means the same as the group of words given.

A sound that cannot be heard.

- Ans
- 1. inaudible
 - 2. impalpable
 - 3. invisible
 - 4. unrevealed

Question ID : 9895808108
Chosen Option : --

Q.1
6 Select the most appropriate word to fill in the blank.

Social media algorithms can be _____ used in teaching - learning process.

- Ans
- 1. briefly
 - 2. momentarily
 - 3. barely
 - 4. easily

Question ID : 9895808112
Chosen Option : --

Q.1
7

Select the option that means the same as the given idiom.

To judge a book by its cover.

- Ans
- 1. To rely on outward appearance
 - 2. To buy books after seeing the colourful cover
 - 3. To read the outer cover only
 - 4. To go with popular opinions

Question ID : 9895808105
Chosen Option : --

Q.1
8 Select the synonym of the given word.

EXHAUSTIVE

- Ans
- 1. Complete
 - 2. Transitory
 - 3. Permanent
 - 4. Temporary

Question ID : 9895808102
Chosen Option : --

Q.1
9 From the given options, identify the segment in the sentence which contains the grammatical error.

Information suitable for communication, interpretation or processing by a computer are called as Data.

- Ans
- 1. suitable for communication
 - 2. Information
 - 3. are called as Data
 - 4. interpretation or processing

Question ID : 9895808088
Chosen Option : --

Q.2
0 Select the antonym of the given word.

SHALLOW

- Ans
- 1. External
 - 2. Deep
 - 3. Primary
 - 4. Superficial

Question ID : 9895808104
Chosen Option : --

Q.2

1 Select the most appropriate option to substitute the underlined segment in the given sentence. If there is no need to substitute it, select No improvement.

Some programs make a general purpose computer behave like a virtual terminal.

- Ans
- 1. makes a general purpose computer
 - 2. makes general purpose computer
 - 3. No improvement
 - 4. makes a general purpose computers

Question ID : 9895808092
Chosen Option : --

Q.2
2 From the given options, identify the segment in the sentence which contains the grammatical error.

Most major holidays has some connection to the change of seasons everywhere.

- Ans
- 1. seasons everywhere
 - 2. has some connection
 - 3. Most major holidays
 - 4. to the change of

Question ID : 9895808089
Chosen Option : --

Q.2
3 Select the antonym of the given word.

COLOSSAL

- Ans
- 1. Vast
 - 2. Countable
 - 3. Considerable
 - 4. Minimal

Question ID : 9895808103
Chosen Option : --

Q.2
4 From the given options, identify the segment in the sentence which contains the grammatical error.

Ajay says he understood French but cannot speak it as fluently as his parents and grandparents do.

- Ans
- 1. as fluently as
 - 2. but cannot speak
 - 3. he understood French
 - 4. parents and grandparents do

Question ID : 9895808087
Chosen Option : --

Q.2
5

Select the option that means the same as the given idiom.

To take a stock of.

- Ans
- 1. To collect goods after an inventory
 - 2. To assess and evaluate before taking a decision
 - 3. To save a large quantity of stock
 - 4. To go to a stock - room and survey it

Question ID : 9895808106
Chosen Option : --

Section : Hindi Language

Q.1 निम्नलिखित में से उस विकल्प का चयन करें जो 'मक्खन लगाना' मुहावरे का अर्थ व्यक्त करता है।

- Ans
- 1. कंजूसी करना
 - 2. चापलूसी करना
 - 3. बेकार बैठना
 - 4. मक्खन लगाकर खाना

Question ID : 9895806885
Chosen Option : 2

Q.2 सही वर्तनी वाले शब्द का चयन करें।

- Ans
- 1. अधर्यन
 - 2. अध्ययन
 - 3. आध्ययन
 - 4. अधर्यन

Question ID : 9895806890
Chosen Option : 1

Q.3 दिये गये वाक्यांश के लिए एक शब्द दीजिये।

जिसकी बुद्धि कम हो

- Ans
- 1. मृदुबुद्धि
 - 2. सुबुद्धि
 - 3. दुष्टबुद्धि
 - 4. मंदबुद्धि

Question ID : 9895806888
Chosen Option : 4

Q.4 दिए गए वाक्य का वह भाग ज्ञात करें जिसमें कोई त्रुटि है।

किसी ने ठीक ही कहा है कि जो सोता है वह खोती है।

Ans

- 1. वह खोती है।
- 2. किसी ने
- 3. जो सोता है
- 4. ठीक ही कहा है कि

Question ID : 9895806866
Chosen Option : 1

Q.5 रिक्त स्थान को भरने के लिए उपयुक्त शब्द का चयन करें।

_____ कितना सुंदर दृश्य है।

Ans

- 1. छिः!
- 2. नहीं!
- 3. वाह!
- 4. सावधान!

Question ID : 9895806873
Chosen Option : 3

Q.6 दिए गए शब्द के पर्यायवाची शब्द का चयन करें।

इंद्र

Ans

- 1. निशाचर
- 2. सुधाकर
- 3. सुरपति
- 4. भागीरथी

Question ID : 9895806884
Chosen Option : 1

Q.7 दिए गए शब्द का विलोम चुनें।

प्रहार

Ans

- 1. रक्षा
- 2. प्रतिरक्षा
- 3. विहार

✗ 4. हमला

Question ID : 9895806881
Chosen Option : 4

Q.8 निम्नलिखित में से उस विकल्प का चयन करें जो 'भैंस के आगे बीन बजाना' मुहावरे का अर्थ व्यक्त करता है।

Ans

- ✓ 1. मूर्ख के सामने ज्ञान की बातें करना
✗ 2. समझदार के सामने मूर्खता की बातें करना
✗ 3. भैंस के सामने संगीत गाना
✗ 4. भैंस को बीन पर नचाना

Question ID : 9895806886
Chosen Option : 1

Comprehension:

निम्नलिखित गद्यांश के रिक्त स्थानों की पूर्ति गद्यांश के नीचे दिए गए प्रश्नों के अनुसार कीजिए-

दीपावली भारत में _____ (1) जाने वाला सबसे बड़ा त्योहार है। हर साल इस पर्व को कार्तिक _____ (2) में बड़ी धूम-धाम से मनाया जाता है। इस त्योहार के आने के _____ (3) दिन पहले ही इसकी तैयारी आरंभ हो जाती है लोग अपने घरों में साफ-सफाई और रंग-रोगन का काम _____ (4) कर देते हैं। इस दिन घरों और बाजारों को _____ (5) सजाया जाता है।

SubQuestion No : 9

Q.9 गद्यांश में संकेतित रिक्त स्थान (1) के लिए उपयुक्त शब्द होगा।

Ans

- ✗ 1. मनायी
✗ 2. बनाया
✓ 3. मनाया
✗ 4. रचाया

Question ID : 9895806876
Chosen Option : 1

Comprehension:

निम्नलिखित गद्यांश के रिक्त स्थानों की पूर्ति गद्यांश के नीचे दिए गए प्रश्नों के अनुसार कीजिए-

दीपावली भारत में _____ (1) जाने वाला सबसे बड़ा त्योहार है। हर साल इस पर्व को कार्तिक _____ (2) में बड़ी धूम-धाम से मनाया जाता है। इस त्योहार के आने के _____ (3) दिन पहले ही इसकी तैयारी आरंभ हो जाती है लोग अपने घरों में साफ़-सफाई और रंग-रोगन का काम _____ (4) कर देते हैं। इस दिन घरों और बाजारों को _____ (5) सजाया जाता है।

SubQuestion No : 10

Q.1
0 गद्यांश में संकेतित रिक्त स्थान (2) के लिए उपयुक्त शब्द होगा।

- Ans
- 1. माह
 - 2. वर्ष
 - 3. दिन
 - 4. सप्ताह

Question ID : 9895806877
Chosen Option : 1

Comprehension:

निम्नलिखित गद्यांश के रिक्त स्थानों की पूर्ति गद्यांश के नीचे दिए गए प्रश्नों के अनुसार कीजिए-

दीपावली भारत में _____ (1) जाने वाला सबसे बड़ा त्योहार है। हर साल इस पर्व को कार्तिक _____ (2) में बड़ी धूम-धाम से मनाया जाता है। इस त्योहार के आने के _____ (3) दिन पहले ही इसकी तैयारी आरंभ हो जाती है लोग अपने घरों में साफ़-सफाई और रंग-रोगन का काम _____ (4) कर देते हैं। इस दिन घरों और बाजारों को _____ (5) सजाया जाता है।

SubQuestion No : 11

Q.1
1 गद्यांश में संकेतित रिक्त स्थान (3) के लिए उपयुक्त शब्द होगा।

- Ans
- 1. सब
 - 2. एक
 - 3. कुछ
 - 4. हर

Question ID : 9895806878
Chosen Option : 3

Comprehension:

निम्नलिखित गद्यांश के रिक्त स्थानों की पूर्ति गद्यांश के नीचे दिए गए प्रश्नों के अनुसार कीजिए-

दीपावली भारत में _____ (1) जाने वाला सबसे बड़ा त्योहार है। हर साल इस पर्व को कार्तिक _____ (2) में बड़ी धूम-धाम से मनाया जाता है। इस त्योहार के आने के _____ (3) दिन पहले ही इसकी तैयारी आरंभ हो जाती है लोग अपने घरों में साफ़-सफाई और रंग-रोगन का काम _____ (4) कर देते हैं। इस दिन घरों और बाजारों को _____ (5) सजाया जाता है।

SubQuestion No : 12

Q.1
2 गद्यांश में संकेतित रिक्त स्थान (4) के लिए उपयुक्त शब्द होगा।

- Ans
- 1. समाप्त
 - 2. खराब
 - 3. अच्छा
 - 4. आरंभ

Question ID : 9895806879
Chosen Option : 4

Comprehension:

निम्नलिखित गद्यांश के रिक्त स्थानों की पूर्ति गद्यांश के नीचे दिए गए प्रश्नों के अनुसार कीजिए-

दीपावली भारत में _____ (1) जाने वाला सबसे बड़ा त्योहार है। हर साल इस पर्व को कार्तिक _____ (2) में बड़ी धूम-धाम से मनाया जाता है। इस त्योहार के आने के _____ (3) दिन पहले ही इसकी तैयारी आरंभ हो जाती है लोग अपने घरों में साफ़-सफाई और रंग-रोगन का काम _____ (4) कर देते हैं। इस दिन घरों और बाजारों को _____ (5) सजाया जाता है।

SubQuestion No : 13

Q.1
3 गद्यांश में संकेतित रिक्त स्थान (5) के लिए उपयुक्त शब्द होगा।

- Ans
- 1. कम
 - 2. खूब
 - 3. खराब
 - 4. गन्दा

Question ID : 9895806880
Chosen Option : 2

Q.1
4 दिए गए शब्द का विलोम चुनें।

सदाचार

- Ans
- 1. विचार
 - 2. दुराचार
 - 3. सुविचार
 - 4. कुविचार

Question ID : 9895806882
Chosen Option : 2

Q.1
5 दिये गये वाक्यांश के लिए एक शब्द दीजिये।

जिसमें सहनशक्ति हो

- Ans
- 1. सहनशीलता
 - 2. सहनकारी
 - 3. सहनीय
 - 4. सहिष्णु

Question ID : 9895806887
Chosen Option : 1

Q.1
6 दिए गए वाक्य में रेखांकित खंड को प्रतिस्थापित करने के लिए उपयुक्त विकल्प का चयन करें।

सूरदास जी जन्म से अंधे थे।

- Ans
- 1. जन्मांध
 - 2. कर्मान्ध
 - 3. धर्मान्ध
 - 4. मदान्ध

Question ID : 9895806869
Chosen Option : 1

Q.1
7 रिक्त स्थान को भरने के लिए उपयुक्त शब्द का चयन करें।

मोहन _____ अर्पिता हँस रहे हैं।

- Ans
- 1. मानो
 - 2. से
 - 3. और
 - 4. मगर

Question ID : 9895806872
Chosen Option : 3

Q.1
8 रिक्त स्थान को भरने के लिए उपयुक्त शब्द का चयन करें।

गाय पेड़ _____ बँधी है।

- Ans
- 1. पर
 - 2. में
 - 3. से
 - 4. के

Question ID : 9895806871
Chosen Option : 3

Q.1
9 दिए गए वाक्य का वह भाग ज्ञात करें जिसमें कोई त्रुटि है।

शीर्षक का चयन करते समय अनुच्छेदों का निहित भागों और विचारों की परख कर लेनी चाहिए।

- Ans
- 1. अनुच्छेदों का निहित भागों
 - 2. परख कर लेनी चाहिए।
 - 3. और विचारों की
 - 4. शीर्षक का चयन करते समय

Question ID : 9895806865
Chosen Option : 2

Q.2
0 रिक्त स्थान को भरने के लिए उपयुक्त शब्द का चयन करें।

भूखे को खाने के लिए _____ दो।

- Ans
- 1. भोजन
 - 2. सोना
 - 3. पानी
 - 4. कपड़ा

Question ID : 9895806874
Chosen Option : 1

Q.2
1 दिए गए शब्द के पर्यायवाची शब्द का चयन करें।

सतर्कता

- Ans
- 1. सावधानी
 - 2. असतर्कता

3. असावधानी

4. तसल्ली

Question ID : 9895806883
Chosen Option : 2

Q.2
2 दिए गए वाक्य का वह भाग ज्ञात करें जिसमें कोई त्रुटि है।

कुबेर बड़ी ही मतलबी इन्सान है, उसका दिमाग सातवें आसमान पर रहता है।

Ans 1. सातवें आसमान पर रहता है।

2. मतलबी इन्सान है,

3. कुबेर बड़ी ही

4. उसका दिमाग

Question ID : 9895806867
Chosen Option : 2

Q.2
3 सही वर्तनी वाले शब्द का चयन करें।

Ans 1. वीशेषण

2. विशेषण

3. विसेशण

4. विशेषन

Question ID : 9895806889
Chosen Option : 2

Q.2
4 दिए गए वाक्य में रेखांकित खंड को प्रतिस्थापित करने के लिए उपयुक्त विकल्प का चयन करें।

राम शक्ति के उपासक थे।

Ans 1. वैष्णव

2. सदाचारी

3. शैव

4. शाक्त

Question ID : 9895806868
Chosen Option : 2

Q.2
5 दिए गए वाक्य में रेखांकित खंड को प्रतिस्थापित करने के लिए उपयुक्त विकल्प का चयन करें।

अच्छे कर्म नष्ट नहीं होते हैं-

Ans 1. अनश्वर

2. अजर

3. परस्पर

GovtJobsAlert.In