

## Constable (GD) in CAPFs, NIA, SSF and Rifleman (GD) in Assam Rifles Examination, 2018

Roll No. :	GovtJobsAlert.In
Registration No.	GovtJobsAlert.In
Name :	GovtJobsAlert.In
Exam Venue :	iON Digital Zone iDZ 2 Mathura Road
Exam Time :	12:30 PM - 2:00 PM
Exam Date :	05/03/2019

Section : General Section

Q.1 A, B, C, D, E, F, G और H एक सर्कल के चारों ओर केंद्र की ओर मुख करके बैठे हैं। E, F के बाएँ से दूसरे स्थान पर बैठा है तथा A के दाएँ से तीसरे स्थान पर बैठा है। B, G के दाएँ से तीसरे स्थान पर बैठा है जो कि E या F का तुरंत पड़ोसी नहीं है। C, B के दाएँ से दूसरे स्थान पर बैठा है। D, A के तुरंत बाएँ तथा H के बाएँ से तीसरे स्थान पर बैठा है।

C के दाएँ से पाँचवें स्थान पर कौन है?

- Ans
- 1. E
  - 2. G
  - 3. B
  - 4. H

Question ID : 9895808397  
Chosen Option : 3

Q.2 उस विकल्प का चयन करें जो सही रूप में रिक्त स्थान की पूर्ति करते हुए श्रृंखला को पूरा करें।

37, 26, 39, 24, 41, \_\_\_\_\_

- Ans
- 1. 23
  - 2. 25
  - 3. 22
  - 4. 26

Question ID : 9895808403  
Chosen Option : 3

Q.3 किसी निश्चित कूट में ROHIT को "TQJKV" के रूप में लिखा जाता है, तो COUNTRY किस रूप में कूटबद्ध किया जाएगा?

- Ans
- 1. EQWPVTA
  - 2. EQWVPTE
  - 3. EQWPUTA
  - 4. EQWVPAT

Question ID : 9895808395  
Chosen Option : 1

Q.4 एक पंक्ति में, लिली आगे से अठारहवें स्थान पर है जबकि मिनी, पीछे से सोलहवें स्थान पर है। यदि निशा, आगे से पच्चीसवें स्थान पर है तथा लिली और मिनी के ठीक मध्य में है तो पंक्ति में कुल कितने व्यक्ति हैं?

- Ans
- 1. 46
  - 2. 45

✗ 3. 48

✓ 4. 47

Question ID : 9895808399

Chosen Option : 2

Q.5 दिए गए विकल्पों में से लुप्त संख्या ज्ञात करें।

72	18	42	36
	49		?
24	17	29	31

Ans ✗ 1. 36

✗ 2. 20

✗ 3. 24

✓ 4. 18

Question ID : 9895808406

Chosen Option : 4

Q.6 उस विकल्प का चयन करें जो तीसरे पद से उसी तरह संबंधित है जिस प्रकार दूसरा पद पहले पद से संबंधित है।

pRSq : tVWu :: iKLj : ?

Ans ✗ 1. mRSq

✓ 2. mOPn

✗ 3. MrsQ

✗ 4. MopN

Question ID : 9895808394

Chosen Option : 2

Q.7 उस विकल्प का चयन करें जो सही रूप में रिक्त स्थान की पूर्ति करते हुए श्रृंखला को पूरा करें।

Mhz, Ngy, Ofx, Pew, \_\_\_\_\_

Ans ✗ 1. Rrn

✗ 2. Qrm

✓ 3. Qdv

✗ 4. Qqn

Question ID : 9895808389

Chosen Option : 3

Q.8

नीचे दिए गए कथनों के बाद दो निष्कर्ष I और II दिए गए हैं। यह मानते हुए कि कथनों में दी गई जानकारी सत्य है, भले ही वह सर्वज्ञात तथ्यों से भिन्न प्रतीत होती हो और यह निर्णय करें कि कौन सा/से निष्कर्ष तार्किक और निश्चित रूप से कथन में दी गई जानकारी का अनुसरण करता है/करते हैं।

कथन:

सभी नदियाँ, पहाड़ हैं।

सभी जंगल, पहाड़ हैं।

निष्कर्ष:

I. कुछ जंगल, नदियाँ हैं।

II. कोई जंगल, नदी नहीं है।

Ans

1. न निष्कर्ष I न II अनुसरण करता है।
2. केवल निष्कर्ष II अनुसरण करता है।
3. केवल निष्कर्ष I अनुसरण करता है।
4. या निष्कर्ष I या II अनुसरण करता है।

Question ID : 9895808401

Chosen Option : 4

Q.9 उस विकल्प का चयन करें जो तीसरे पद से उसी तरह संबंधित है जिस प्रकार दूसरा पद पहले पद से संबंधित है।

शेर : दहाड़ :: हाथी : ?

Ans

1. मसलना
2. चिंघाड़ना
3. भौंकना
4. घुरघुराना

Question ID : 9895808392

Chosen Option : 2

Q.10 उस विकल्प का चयन करें जो सही रूप में रिक्त स्थान की पूर्ति करते हुए श्रृंखला को पूरा करें।

1331, 121, 2197, 169, 3375, \_\_\_\_\_

Ans

1. 215
2. 205
3. 216
4. 225

Question ID : 9895808402

Chosen Option : 4

Q.11 दिए गए विकल्पों में से असंगत का चयन करें।

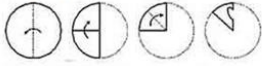
Ans

1. 39 : 3
2. 78 : 4
3. 56 : 4
4. 72 : 6

Question ID : 9895808405  
Chosen Option : 1

Q.1 नीचे दिए गए प्रश्न आकृति के अनुसार एक कागज को मोड़कर काटा जाता है। इस कागज को खोलने पर दी गयी उत्तर आकृतियों में से कौन सी आकृति दिखाई देगी?

प्रश्न आकृति



Ans





Question ID : 9895808412  
Chosen Option : 3

Q.1 वेन आरेख का चयन करें जो दिए गए तीन वर्गों के बीच के संबंध को सर्वोत्तम दर्शाता है।

लड़कियाँ, स्वस्थ, रेलगाड़ियाँ

Ans



Question ID : 9895808413  
Chosen Option : 4

Q.1 चार शब्द दिए गए हैं, जिनमें से तीन किसी तरह से समान हैं, जबकि एक अलग है। असंगत शब्द का चयन करें।

Ans

1. टेम्पो

2. कार्गो

3. ट्रॉली

✗ 4. ट्रक

Question ID : 9895808391  
Chosen Option : 3

Q.1 5 चार अक्षर समूह दिए गए हैं, जिनमें से तीन किसी तरह से समान हैं, जबकि एक अलग है। असंगत अक्षर समूह का चयन करें।

- Ans
- ✗ 1. TWZ
  - ✗ 2. DGJ
  - ✗ 3. GJM
  - ✓ 4. CFJ

Question ID : 9895808390  
Chosen Option : 4

Q.1 6 उस विकल्प का चयन करें जो तीसरे पद से उसी तरह संबंधित है जिस प्रकार दूसरा पद पहले पद से संबंधित है।  
मधुमखियाँ : भिनभिनाहट :: सांप : ?

- Ans
- ✓ 1. फुफकार
  - ✗ 2. बातचीत
  - ✗ 3. दहाडना
  - ✗ 4. शोर

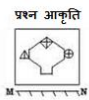
Question ID : 9895808393  
Chosen Option : 1

Q.1 7 यदि UPSIDE को 74 के रूप में कूटबद्ध किया जाता है, तो SHARKS को किस रूप में कूटबद्ध किया जायेगा?

- Ans
- ✗ 1. 72
  - ✓ 2. 76
  - ✗ 3. 77
  - ✗ 4. 68

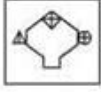
Question ID : 9895808396  
Chosen Option : 2

Q.1 8 यदि एक दर्पण को MN रेखा पर रखा गया है, तो उत्तर में दी गई आकृतियों में से कौन सी आकृति सही प्रतिबिंब है?



- Ans
- ✗ 1.
  - ✗ 2.
  - ✓ 3.

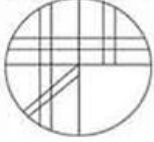
X 4.



Question ID : 9895808411  
Chosen Option : 3

Q.1  
9 निम्नलिखित में से कौन सी उत्तर आकृति दी गई आकृति को पूरा करेगी?

प्रश्न आकृति

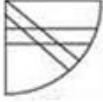


Ans

X 1.



X 2.



X 3.



✓ 4.



Question ID : 9895808409  
Chosen Option : 4

Q.2 नीचे दिए गए कथनों के बाद चार निष्कर्ष I, II, III और IV दिए गए हैं। यह मानते हुए कि कथनों में दी गई जानकारी सत्य है, भले ही वह सर्वज्ञात तथ्यों से भिन्न प्रतीत होती हो और यह निर्णय करें कि कौन सा / से निष्कर्ष तार्किक और निश्चित रूप से कथन में दी गई जानकारी का अनुसरण करता है / करते हैं।

कथन:

कुछ रेखीय समीकरण, द्विघातीय समीकरण हैं।

सभी द्विघातीय समीकरण, बीजगणितीय समीकरण हैं।

निष्कर्ष:

I. सभी रेखीय समीकरण, बीजगणितीय समीकरण हैं।

II. कुछ बीजगणितीय समीकरण, रेखीय समीकरण होते हैं।

III. कुछ रेखीय समीकरण, द्विघातीय समीकरण हैं।

IV. सभी द्विघातीय समीकरण, रेखीय समीकरण हैं।

Ans

✓ 1. केवल II और III अनुसरण करते हैं।

X 2. केवल I और II अनुसरण करते हैं।

X 3. केवल III अनुसरण करता है।

X 4. केवल I अनुसरण करता है।

Question ID : 9895808400  
Chosen Option : 1

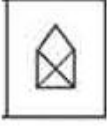
Q.2  
1 उस विकल्प आकृति का चयन करें, जिसमें प्रश्न आकृति छिपी हुई / अंतर्निहित है।

प्रश्न आकृति



Ans

✓ 1.



✗ 2.



✗ 3.



✗ 4.



Question ID : 9895808410  
Chosen Option : 3

Q.2  
2 कुछ व्यक्तियों की जन्म तिथि नीचे दी गई है। सबसे ज्यादा उम्र के व्यक्ति की तारीख का पता लगाएं।

- A. 12.08.1989  
B. 13.09.1991  
C. 19.06.1991  
D. 20.02.1989  
E. 22.03.1991  
F. 20.01.1991  
G. 20.12.1989

Ans

✗ 1. G

✗ 2. B

✗ 3. C

✓ 4. D

Question ID : 9895808398  
Chosen Option : 4

Q.2  
3 दिए गए विकल्पों में से संबंधित संख्या युग्म ज्ञात करें।

12 : 156 :: ?

Ans

✓ 1. 10 : 110

✗ 2. 15 : 340

✗ 3. 10 : 101


✗ 4. 7 : 50

Question ID : 9895808404



Chosen Option : 1

Q.2  
4 निम्नलिखित में से कौन सी उत्तर आकृति दी गई आकृति को पूरा करेगी?

प्रश्न आकृति:



Ans




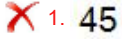
Question ID : 9895808408

Chosen Option : 2

Q.2  
5 यदि 'q' का अर्थ '+' है, 'y' का अर्थ '-' है, 'z' का अर्थ '=' है तथा 'p' का अर्थ 'x' है तो निम्न का मान है:

20 p 2 q 6 y 5

Ans


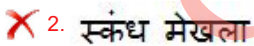
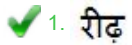


Question ID : 9895808407

Chosen Option : 2

Q.2  
6 अनुत्रिक (कॉक्सिक्स) किसका भाग है?

Ans

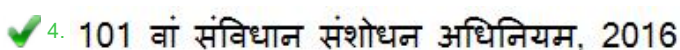
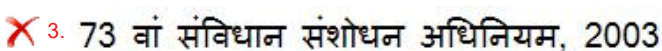
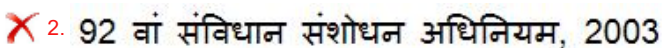
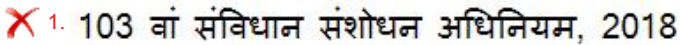


Question ID : 9895807471

Chosen Option : 3

Q.2  
7 संविधान के किस संशोधन ने वस्तु एवं सेवा कर (जीएसटी) लागू किया?

Ans





Question ID : 9895807465  
Chosen Option : 4

Q.2 8 मार्च 2018 में खेले गई निदाहास ट्रॉफी 2018 क्रिकेट विपक्षीय सीरीज फाइनल भारत ने किस टीम को हराकर जीता?

- Ans
- 1. वेस्ट इंडीज
  - 2. इंग्लैंड
  - 3. बांग्लादेश
  - 4. दक्षिण अफ्रीका

Question ID : 9895807457  
Chosen Option : 3

Q.2 9 प्रति वर्ष जनवरी और फरवरी के दौरान होने वाले किला रायपुर ग्रामीण ओलंपिक किस स्थान के नजदीक आयोजित होते हैं?

- Ans
- 1. ग्वालियर
  - 2. वडोदरा
  - 3. लुधियाना
  - 4. आइजोल

Question ID : 9895807454  
Chosen Option : 1

Q.3 0 2018-19 के लिए मक्का का न्यूनतम समर्थन मूल्य क्या है?

- Ans
- 1. ₹ 5,150 प्रति क्विंटल
  - 2. ₹ 2,430 प्रति क्विंटल
  - 3. ₹ 1,950 प्रति क्विंटल
  - 4. ₹ 1,700 प्रति क्विंटल

Question ID : 9895807463  
Chosen Option : 2

Q.3 1 'M' द्रव्यमान और 'L' लंबाई की एक पतली छड़ का छड़ और इसके केंद्र से गुजरने वाली रेखा के लंबवत अक्ष पर जड़त्वाघूर्ण कितना होगा?

- Ans
- 1.  $ML^2/2$
  - 2.  $ML^2/6$
  - 3.  $ML^2/4$
  - 4.  $ML^2/12$

Question ID : 9895807467  
Chosen Option : 3

Q.3 2 भारतीय संविधान में सरकार का संसदीय स्वरूप किस देश के संविधान से प्रेरित है?

- Ans
- 1. ऑस्ट्रेलिया

2. संयुक्त राज्य अमेरिका

3. यूनाइटेड किंगडम

4. आयरलैंड

Question ID : 9895807464  
Chosen Option : 3

Q.3  
3 भारत रत्न पाने वाले संस्कृत विद्वान का नाम बताइए।

Ans  1. मदन मोहन मालवीय

2. पांडुरंग वामन काणे

3. पुरुषोत्तम दास टंडन

4. बिधान चंद्र राँय

Question ID : 9895807458  
Chosen Option : 2

Q.3  
4 मैथन बांध किस राज्य में स्थित है?

Ans  1. झारखंड

2. ओडिशा

3. मध्य प्रदेश

4. छत्तीसगढ़

Question ID : 9895807472  
Chosen Option : 1

Q.3  
5 निम्न में से कौन सा नृत्य छत्तीसगढ़ की नृत्य शैली है?

Ans  1. ओडूम थुल्लल

2. माचा

3. चिराव

4. राउत नाचा

Question ID : 9895807455  
Chosen Option : 2

Q.3  
6 आर्थिक सर्वेक्षण रिपोर्ट 2017-18 के अनुसार FY18 के लिए सेवा क्षेत्र में अनुमानित वृद्धि कितनी है?

Ans  1. 9.60%

2. 8.30%

3. 6.50%

4. 7.10%

Question ID : 9895807461  
Chosen Option : 4

Q.3



✘ 4. कुतुबुद्दीन

Question ID : 9895807477  
Chosen Option : 3

Q.4 किस ब्रिटिश सेवानिवृत्त सिविल सेवा अधिकारी ने भारतीय राष्ट्रीय कांग्रेस की पहली बैठक आयोजित करने की पहल की?

Ans

- ✘ 1. जॉन मॉर्ले  
✘ 2. एडविन मोंटागु  
✘ 3. गिल्बर्ट ईलियट  
✔ 4. एलन ओक्टेवियन ह्यूम

Question ID : 9895807476  
Chosen Option : 1

Q.4 किस टीम ने 2018 प्रो रसेलिंग लीग फाइनल जीता?

Ans

- ✘ 1. हरियाणा हैमर्स  
✔ 2. पंजाब रॉयल्स  
✘ 3. डेल्ही सुल्तांस  
✘ 4. वीर मराठा

Question ID : 9895807456  
Chosen Option : 4

Q.4 1833 के चार्टर एक्ट ने कहां के गवर्नर जनरल को भारत का गवर्नर-जनरल बना दिया और उसमें समस्त नागरिक और सैन्य शक्तियां निहित कर दीं?

Ans

- ✔ 1. बंगाल  
✘ 2. बरार प्रांत  
✘ 3. अवध राज्य  
✘ 4. संयुक्त प्रांत

Question ID : 9895807466  
Chosen Option : 1

Q.4 किस भारतीय ने 1999 में मिस वर्ल्ड कॉन्टिनेंटल क्वीन ऑफ ब्यूटी-एशिया एंड ओशिनिया का खिताब जीता?

Ans

- ✘ 1. प्रियंका चोपड़ा  
✘ 2. दिया मिर्जा  
✔ 3. युक्ता मुखी  
✘ 4. रीता फारिया

Question ID : 9895807460  
Chosen Option : 1

Q.4 गोवा के लोकगीतों की उस शैली का नाम बताइए, जो सामान्यतः अपने प्रियजनों की मृत्यु के शोक में गाए जाते हैं।

Ans

- ✓ 1. बनवर्ह  
 ✗ 2. सुमंगली  
 ✗ 3. खुबाकएशेई  
 ✗ 4. घा तो कितो

Question ID : 9895807453  
 Chosen Option : 2

Q.4 केंद्रीय बजट 2018 में मुफ्त एलपीजी कनेक्शन योजना, उज्जवला योजना को कितने करोड़ महिलाओं तक पहुंचाने की योजना है?

- Ans ✗ 1. चार  
 ✓ 2. आठ  
 ✗ 3. छह  
 ✗ 4. दो

Question ID : 9895807462  
 Chosen Option : 2

Q.4 सायनोजेन का सूत्र क्या है?

- Ans ✗ 1.  $CH_3CN$   
 ✗ 2.  $CH_2CHCN$   
 ✓ 3.  $C_2N_2$   
 ✗ 4.  $CH_3OCN$

Question ID : 9895807469  
 Chosen Option : 4

Q.4 किस मिश्रधातु में तांबा और टिन होते हैं?

- Ans ✓ 1. बेल मेटल  
 ✗ 2. सोल्डर  
 ✗ 3. रोज मेटल  
 ✗ 4. जर्मन सिल्वर

Question ID : 9895807470  
 Chosen Option : 2

Q.5 फेरड किसकी इकाई है?

- Ans ✗ 1. चुंबकीय फ्लक्स  
 ✓ 2. धारिता  
 ✗ 3. चुंबकीय फ्लक्स घनत्व  
 ✗ 4. विद्युत चालकत्व

Question ID : 9895807468

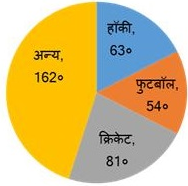
Chosen Option : 1

Q.5  
1 यदि दो गोलों के पृष्ठीय क्षेत्रफलों का अनुपात 49 : 25 है, तो उनके आयतन का अनुपात होगा:

- Ans
- 1. 64 : 27
  - 2. 343 : 64
  - 3. 25 : 49
  - 4. 343 : 125

Question ID : 9895807797  
Chosen Option : 4

Q.5  
2 नीचे दिया हुआ पाई चार्ट किसी देश के किसी विशेष वर्ष में विभिन्न खेलों पर खर्च को दर्शाता है। चार्ट को ध्यान से पढ़ें तथा नीचे दिए गए प्रश्न का उत्तर दें।

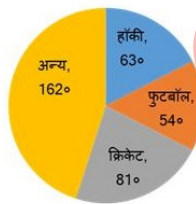


यदि पूरे वर्ष में सम्पूर्ण खेलों पर ₹18000 खर्च हुए हों, तो क्रिकेट पर टेनिस की अपेक्षा कितना अधिक खर्च हुआ (₹ में)?

- Ans
- 1. 2800
  - 2. 3000
  - 3. 2550
  - 4. 1350

Question ID : 9895807802  
Chosen Option : 4

Q.5  
3 नीचे दिया हुआ पाई चार्ट किसी देश के किसी विशेष वर्ष में विभिन्न खेलों पर खर्च को दर्शाता है। चार्ट को ध्यान से पढ़ें तथा नीचे दिए गए प्रश्न का उत्तर दें।



अन्य खेलों पर कुल खर्च का कितना प्रतिशत खर्च होता है?

- Ans
- 1. 12.5%
  - 2. 22.5%
  - 3. 25%
  - 4. 45%

Question ID : 9895807800  
Chosen Option : 4

Q.5 एक परीक्षा में 42 छात्रों का औसत अंक 64 था। बाद में यह पाया गया कि तीन छात्रों के वास्तविक अंक क्रमशः 64, 42 और 26 के बजाय 72, 58 और 44 पढ़ लिए गए। सही औसत अंक क्या हैं?

- Ans
- 1. 63
  - 2. 60
  - 3. 62
  - 4. 61

Question ID : 9895807781  
Chosen Option : 1

Q.5 पांच वर्ष पहले, एक पिता और उसके बेटे की आयु का अनुपात 5 : 3 था। निम्नलिखित में से कौन सा अब से 10 वर्ष पश्चात इनकी आयु का अनुपात नहीं हो सकता है?

- Ans
- 1. 8 : 7
  - 2. 3 : 2
  - 3. 6 : 5
  - 4. 7 : 3

Question ID : 9895807789  
Chosen Option : 4

Q.5 निम्नलिखित प्रश्न में प्रश्न चिह्न (?) के स्थान पर क्या आना चाहिए?  
 $6 \div 6 \times 9 + 6 - 9 \times 6 - 6 + 6 \times 9 = ?$

- Ans
- 1. 8
  - 2. 10
  - 3. 7
  - 4. 9

Question ID : 9895807780  
Chosen Option : 4

Q.5 अजय की नाव की गति शांत जल में 6 किमी प्रति घंटा है। यदि धारा की गति 4 किमी प्रति घंटा है, तो उसे धारा की दिशा में 30 किमी की दूरी तय करने में कितना समय लगेगा?

- Ans
- 1. 4 घंटे
  - 2. 5 घंटे
  - 3. 2 घंटे
  - 4. 3 घंटे

Question ID : 9895807796  
Chosen Option : 4

Q.5 निम्नलिखित में से कौन सा सबसे बड़ा है?

- Ans
- 1. अंकित मूल्य ₹ 500 पर 7% की छूट
  - 2. अंकित मूल्य ₹ 320 पर 10% की छूट
  - 3. अंकित मूल्य ₹ 240 पर 12% की छूट
  - 4. अंकित मूल्य ₹ 400 पर 8% की छूट

Question ID : 9895807783  
Chosen Option : 1

Q.5 एक कक्षा में कुल 60 लड़के और लड़कियां हैं। निम्नलिखित में से कौन सा विकल्प कक्षा में लड़कों और लड़कियों की संख्या के अनुपात का प्रतिनिधित्व नहीं कर सकता है?

- Ans
- 1. 3 : 7
  - 2. 2 : 3
  - 3. 1 : 3
  - 4. 1 : 6

Question ID : 9895807788  
Chosen Option : 4

Q.6 दो रेलगाड़ियों की लम्बाई का अनुपात 6 : 5 तथा उनकी गति का अनुपात 3 : 2 है। एक खम्भे को पार करने में उनके द्वारा लिए गए समय का अनुपात होगा:

- Ans
- 1. 4 : 5
  - 2. 3 : 5
  - 3. 5 : 8
  - 4. 5 : 6

Question ID : 9895807795  
Chosen Option : 1

Q.6 12% प्रति वर्ष की साधारण ब्याज दर पर पैसा कितने समय में दोगुना हो जाता है?

- Ans
- 1.  $6\frac{1}{3}$  वर्ष
  - 2.  $6\frac{2}{3}$  वर्ष
  - 3.  $8\frac{1}{3}$  वर्ष
  - 4.  $8\frac{2}{3}$  वर्ष

Question ID : 9895807791  
Chosen Option : 3

Q.6 संजय ने अपनी मध्यावधि परीक्षा में 150 में से 75 अंक हासिल किए और अपनी वार्षिक परीक्षा में 150 में से 105 अंक प्राप्त किए। उसके द्वारा प्राप्त अंकों में प्रतिशत वृद्धि है:

- Ans
- 1. 40%
  - 2. 30%
  - 3. 45%
  - 4. 50%

Question ID : 9895807785  
Chosen Option : 2

Q.6 यदि दो संख्याओं का महत्तम समापवर्तक 6 और उनका लघुत्तम समापवर्त्य 120 है, तो संख्याओं का एक सम्भव युग्म है:

- Ans
- 1. 12, 60
  - 2. 12, 40
  - 3. 18, 40



✓ 4. 24, 30

Question ID : 9895807778  
Chosen Option : 2

Q.6 निम्नलिखित प्रश्न में प्रश्न चिह्न (?) के स्थान पर क्या आना चाहिए?

$$[ \{ (16 \div 4) \times 4 \} \div 4 ] = ?$$

- Ans
- ✗ 1. 2
  - ✓ 2. 4
  - ✗ 3. 5
  - ✗ 4. 3

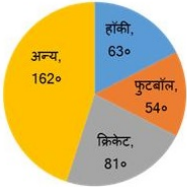
Question ID : 9895807779  
Chosen Option : 2

Q.6 राजाराम ने एक निश्चित मात्रा में गेहूँ खरीदा। यदि वह एक-चौथाई गेहूँ 12% के लाभ पर बेचता है, तो 15% का समय लाभ कमाने पर के लिए उसे शेष गेहूँ को कितने लाभ प्रतिशत पर बेचना चाहिए?

- Ans
- ✓ 1. 16%
  - ✗ 2. 18%
  - ✗ 3. 15%
  - ✗ 4. 20%

Question ID : 9895807787  
Chosen Option : 1

Q.6 नीचे दिया हुआ पाई चार्ट किसी देश के किसी विशेष वर्ष में विभिन्न खेलों पर खर्च को दर्शाता है। चार्ट को ध्यान से पढ़ें तथा नीचे दिए गए प्रश्न का उत्तर दें।



क्रिकेट की अपेक्षा फुटबॉल पर कितने प्रतिशत कम खर्च हुआ?

- Ans
- ✗ 1.  $12\frac{1}{2}\%$
  - ✗ 2. 25%
  - ✗ 3.  $20\frac{1}{2}\%$
  - ✓ 4.  $33\frac{1}{3}\%$

Question ID : 9895807801  
Chosen Option : 4

Q.6 चक्रवृद्धि ब्याज के तहत उधार ली गई एक धनराशि 10 वर्षों में दोगुनी हो जाती है। यह राशि उसी ब्याज दर पर कितने वर्षों में चौगुनी हो जाएगी?

- Ans
- ✓ 1. 20 वर्ष

2. 40 वर्ष

3. 15 वर्ष

4. 24 वर्ष

Question ID : 9895807792

Chosen Option : 1

Q.6 एक निश्चित राशि को p, q और r के बीच इस तरह से बांटा जाता है कि p को मिलने वाले प्रत्येक रुपए के लिए q को 75 पैसे मिलते हैं और q को मिलने वाले प्रत्येक रुपए के लिए r को 50 पैसे मिलते हैं। यदि r का कुल राशि में हिस्सा ₹ 36 है, तो कुल राशि में p का हिस्सा ज्ञात करें।

Ans  1. ₹ 60

2. ₹ 54

3. ₹ 72

4. ₹ 96

Question ID : 9895807790

Chosen Option : 2

Q.6  $(5 + 5 + \underline{\hspace{2cm}} 200 \text{ बार})$  और  $(8 + 8 + \underline{\hspace{2cm}} 100 \text{ बार})$  का औसत ज्ञात कीजिए।

Ans  1. 6.5

2. 6

3. 7

4. 75

Question ID : 9895807782

Chosen Option : 1

Q.7 यदि किसी शंकु के आधार के क्षेत्रफल को बढ़ा दिया जाता है तो यह अपने मूल क्षेत्रफल का 1.96 गुना हो जाता है, तो आयतन बढ़ जाएगा:

Ans  1. 40%

2. 96%

3. 100%

4. 141%

Question ID : 9895807799

Chosen Option : 2

Q.7 यदि किसी काम को करने में 30 आदमी 30 दिनों का समय लगाते हैं, तो 1 आदमी 1 दिन में उस काम के कितने भाग को पूरा कर सकता है?

Ans  1.  $\frac{1}{30}$

2.  $\frac{1}{900}$

3.  $\frac{1}{60}$

4.  $\frac{1}{90}$

Question ID : 9895807793

Chosen Option : 1

Q.7  
2 दो समान्तर चतुर्भुज एक ही आधार पर तथा उनके समान्तर रेखाओं के बीच की दूरी समान है उनके क्षेत्रफलों का अनुपात है:

- Ans
- 1. 1 : 3
  - 2. 1 : 2
  - 3. 1 : 1
  - 4. 2 : 1

Question ID : 9895807798

Chosen Option : 3

Q.7  
3 एक टंकी को भरने में एक इनलेट पाइप को 8 घंटे का समय लगता है। एक आउटलेट पाइप को इसे खाली करने में 12 घंटे लगते हैं। यदि दोनों पाइप एक साथ खोले जाते हैं, तो टंकी कितने घंटे में भर जाएगी?

- Ans
- 1. 8
  - 2. 36
  - 3. 12
  - 4. 24

Question ID : 9895807794

Chosen Option : 4

Q.7  
4 आंकड़े 26, 32, 26, 28, 26, 24, 31, 24 का बहुलक है:

- Ans
- 1. 24
  - 2. 31
  - 3. 28
  - 4. 26

Question ID : 9895807784

Chosen Option : 3

Q.7  
5 यदि किसी व्यापारी द्वारा 45 मीटर कपड़ा बेचने पर किया गया लाभ 5 मीटर कपड़े के विक्रय मूल्य के बराबर है, तो उसका लाभ प्रतिशत है:

- Ans
- 1. 10%
  - 2. 11.11%
  - 3. 12.5%
  - 4. 9.09%

Question ID : 9895807786

Chosen Option : 2

Section : English Language

Q.1 Select the antonym of the given word.

Genuine

- Ans
- 1. Unhealthy
  - 2. Fake
  - 3. Thankful

4. Original

Question ID : 9895808130

Chosen Option : --

Q.2 Select the most appropriate word to fill in the blank.

The French Revolution \_\_\_\_\_ to the end of monarchy in France.

- Ans
- 1. is leading
  - 2. led
  - 3. were leading
  - 4. was led

Question ID : 9895808119

Chosen Option : --

Q.3 Select the meaning of the given idiom.

A piece of cake

- Ans
- 1. Unrealistic hope
  - 2. A very easy task
  - 3. Very tasty
  - 4. A small quantity

Question ID : 9895808131

Chosen Option : --

Q.4 Identify the segment in the sentence which contains the grammatical error from the given options.

Scholars have studied the lives of present-day farmer's who practice agriculture.

- Ans
- 1. farmer's
  - 2. Scholars have
  - 3. the lives of
  - 4. practice agriculture

Question ID : 9895808114

Chosen Option : --

Q.5 Identify the segment in the sentence which contains the grammatical error from the given options.

Raw materials are substances that are either found naturally or produce by farmers.

- Ans
- 1. substances
  - 2. found naturally
  - 3. Raw materials
  - 4. produce by

Question ID : 9895808115

Chosen Option : --

**Q.6** Select the most appropriate option to substitute the underlined segment in the given sentence. If there is no need to substitute it, select No substitution required.

Modern farming practices is involving the use of fertilizers and pesticides.

- Ans
- 1. No substitution required
  - 2. has involved the use in
  - 3. involved the using of
  - 4. involve the use of

Question ID : **9895808118**  
Chosen Option : --

**Q.7** Select the most appropriate word to fill in the blank.

Biosphere is a narrow zone of the earth where land, water and air \_\_\_\_\_ with each other to support life.

- Ans
- 1. collapse
  - 2. surround
  - 3. interact
  - 4. impose

Question ID : **9895808137**  
Chosen Option : --

**Q.8** Select the word which means the same as the group of words given.

That which can be heard

- Ans
- 1. Audible
  - 2. Edible
  - 3. Legible
  - 4. Tangible

Question ID : **9895808134**  
Chosen Option : --

**Comprehension:**

In the following passage some words have been deleted. Fill in the blanks with the help of the alternatives given. Select the most appropriate option for each number.

On the morning of 14 July 1789, (1) \_\_\_\_\_ city of Paris was in a state of (2) \_\_\_\_\_. The king had (3) \_\_\_\_\_ troops to move into the city. Rumors spread that he would soon order the army to (4) \_\_\_\_\_ fire upon the citizens. Some 7,000 men and women gathered (5) \_\_\_\_\_ the town hall.

SubQuestion No : 9

**Q.9** Select the most appropriate option that will fill in the blank number 1.

- Ans
- 1. a
  - 2. No article needed
  - 3. an

4. the

Question ID : 9895808122

Chosen Option : --

**Comprehension:**

In the following passage some words have been deleted. Fill in the blanks with the help of the alternatives given. Select the most appropriate option for each number.

On the morning of 14 July 1789, (1) \_\_\_\_\_ city of Paris was in a state of (2) \_\_\_\_\_. The king had (3) \_\_\_\_\_ troops to move into the city. Rumors spread that he would soon order the army to (4) \_\_\_\_\_ fire upon the citizens. Some 7,000 men and women gathered (5) \_\_\_\_\_ the town hall.

SubQuestion No : 10

Q.1  
0 Select the most appropriate option that will fill in the blank number 2.

- Ans
- 1. ease
  - 2. alarm
  - 3. peace
  - 4. disagreement

Question ID : 9895808123

Chosen Option : --

**Comprehension:**

In the following passage some words have been deleted. Fill in the blanks with the help of the alternatives given. Select the most appropriate option for each number.

On the morning of 14 July 1789, (1) \_\_\_\_\_ city of Paris was in a state of (2) \_\_\_\_\_. The king had (3) \_\_\_\_\_ troops to move into the city. Rumors spread that he would soon order the army to (4) \_\_\_\_\_ fire upon the citizens. Some 7,000 men and women gathered (5) \_\_\_\_\_ the town hall.

SubQuestion No : 11

Q.1  
1 Select the most appropriate option that will fill in the blank number 3.

- Ans
- 1. expected
  - 2. announced
  - 3. commanded
  - 4. urged

Question ID : 9895808124

Chosen Option : --

**Comprehension:**

In the following passage some words have been deleted. Fill in the blanks with the help of the alternatives given. Select the most appropriate option for each number.

On the morning of 14 July 1789, (1) \_\_\_\_\_ city of Paris was in a state of (2) \_\_\_\_\_. The king had (3) \_\_\_\_\_ troops to move into the city. Rumors spread that he would soon order the army to (4) \_\_\_\_\_ fire upon the citizens. Some 7,000 men and women gathered (5) \_\_\_\_\_ the town hall.

SubQuestion No : 12

Q.1  
2 Select the most appropriate option that will fill in the blank number 4.

- Ans  1. cross  
 2. extinguish  
 3. Spread fire  
 4. open

Question ID : 9895808125  
 Chosen Option : --

Comprehension:

In the following passage some words have been deleted. Fill in the blanks with the help of the alternatives given. Select the most appropriate option for each number.

On the morning of 14 July 1789, (1) \_\_\_\_\_ city of Paris was in a state of (2) \_\_\_\_\_. The king had (3) \_\_\_\_\_ troops to move into the city. Rumors spread that he would soon order the army to (4) \_\_\_\_\_ fire upon the citizens. Some 7,000 men and women gathered (5) \_\_\_\_\_ the town hall.

SubQuestion No : 13

Q.1  
3 Select the most appropriate option that will fill in the blank number 5.

- Ans  1. in front of  
 2. across  
 3. on top of  
 4. besides

Question ID : 9895808126  
 Chosen Option : --

Q.1  
4 Select the wrongly spelt word.

- Ans  1. Auditorum  
 2. Analysis  
 3. Ambition  
 4. Absolute

Question ID : 9895808135  
 Chosen Option : --

Q.1  
5 Select the meaning of the given idiom.

Fish out of water

- Ans
- 1. In a new job
  - 2. To be uncomfortable
  - 3. To be depressed
  - 4. To shift to a new place

Question ID : 9895808132  
Chosen Option : --

Q.1  
6 Select the antonym of the given word.

Rational

- Ans
- 1. Polite
  - 2. Impatient
  - 3. Illogical
  - 4. Conscious

Question ID : 9895808129  
Chosen Option : --

Q.1  
7 Select the most appropriate option to substitute the underlined segment in the given sentence. If there is no need to substitute it, select No substitution required.

The aquatic animals can breathe under water due to dissolved oxygen.

- Ans
- 1. could have breathed under water
  - 2. can breathe under water
  - 3. No substitution required
  - 4. can be breathing in water

Question ID : 9895808117  
Chosen Option : --

Q.1  
8 Select the wrongly spelt word.

- Ans
- 1. Bileive
  - 2. Bracelet
  - 3. Brochure
  - 4. Biannual

Question ID : 9895808136  
Chosen Option : --

Q.1  
9 Select the most appropriate option to substitute the underlined segment in the given sentence. If there is no need to substitute it, select No substitution required.

Tissue is a group of cells that are similar to structure and are organised together.

- Ans
- 1. that are similar in
  - 2. that is similarly to
  - 3. that were similarly in



4. No substitution required

Question ID : 9895808116

Chosen Option : --

Q.2  
0 Select the synonym of the given word.

Incredible

- Ans  1. Unbelievable  
 2. Ordinary  
 3. Impossible  
 4. Unspectacular

Question ID : 9895808128

Chosen Option : --

Q.2 Identify the segment in the sentence which contains the grammatical error from the given options.

1

If you plant a seed, you will be noticed that it takes some time to grow.

- Ans  1. to grow  
 2. If you  
 3. takes some  
 4. will be noticed

Question ID : 9895808113

Chosen Option : --

Q.2  
2 Select the word which means the same as the group of words given.

Existing, happening, or operating in the air

- Ans  1. Terrestrial  
 2. Aquatic  
 3. Arboreal  
 4. Aerial

Question ID : 9895808133

Chosen Option : --

Q.2  
3 Select the most appropriate word to fill in the blank.

Minerals are \_\_\_\_\_ occurring substances which have certain physical properties.

- Ans  1. falsely  
 2. naturally  
 3. fictitiously  
 4. thoroughly

Question ID : 9895808138

Chosen Option : --

Q.2  
4 Select the synonym of the given word.

Delight.

- Ans  1. Grief  
 2. Joy  
 3. Dread  
 4. Excitement

Question ID : 9895808127  
Chosen Option : --

Q.2  
5 Select the most appropriate word to fill in the blank.

Most workers \_\_\_\_\_ as laborers in factories where their wages were fixed.

- Ans  1. were employed  
 2. has employed  
 3. was employ  
 4. is employed

Question ID : 9895808120  
Chosen Option : --

Section : Hindi Language

Comprehension:

निम्नलिखित गद्यांश के रिक्त स्थानों की पूर्ति गद्यांश के नीचे दिए गए प्रश्नों के अनुसार कीजिए-

डिजिटल इंडिया एक ऐसा प्रोजेक्ट है जिसका \_\_\_\_\_ (1) भारत को एक बेहतर राष्ट्र बनाना है। ये \_\_\_\_\_ (2) देश के जाने माने उद्योगपतियों की मौजूदगी में 1 जुलाई 2015 को इंदिरा गाँधी इंडोर स्टेडियम में शुरू किया गया। 2019 तक इसके पूरा होने की \_\_\_\_\_ (3) है। डिजिटल इंडिया का विज़न तीन प्रमुख क्षेत्रों पर \_\_\_\_\_ (4) है। ये हैं- डिजिटल ढांचा, मांग पर संचालन एवं सेवाएं और \_\_\_\_\_ (5) का डिजिटल सशक्तीकरण।

SubQuestion No : 1

Q.1 गद्यांश में संकेतित रिक्त स्थान (1) के लिए उपयुक्त शब्द होगा।

- Ans  1. लक्ष्य  
 2. अभिलाषा  
 3. साधन  
 4. इच्छा

Question ID : 9895806902  
Chosen Option : 1

Comprehension:

निम्नलिखित गद्यांश के रिक्त स्थानों की पूर्ति गद्यांश के नीचे दिए गए प्रश्नों के अनुसार कीजिए-

डिजिटल इंडिया एक ऐसा प्रोजेक्ट है जिसका \_\_\_\_\_ (1) भारत को एक बेहतर राष्ट्र बनाना है। ये \_\_\_\_\_ (2) देश के जाने माने उद्योगपतियों की मौजूदगी में 1 जुलाई 2015 को इंदिरा गाँधी इंडोर स्टेडियम में शुरू किया गया। 2019 तक इसके पूरा होने की \_\_\_\_\_ (3) है। डिजिटल इंडिया का विज्ञान तीन प्रमुख क्षेत्रों पर \_\_\_\_\_ (4) है। ये हैं- डिजिटल ढांचा, मांग पर संचालन एवं सेवाएं और \_\_\_\_\_ (5) का डिजिटल सशक्तीकरण।

SubQuestion No : 2

Q.2 गद्यांश में संकेतित रिक्त स्थान (2) के लिए उपयुक्त शब्द होगा।

- Ans
- 1. महायान
  - 2. हीनयान
  - 3. वायुयान
  - 4. अभियान

Question ID : 9895806903

Chosen Option : 4

Comprehension:

निम्नलिखित गद्यांश के रिक्त स्थानों की पूर्ति गद्यांश के नीचे दिए गए प्रश्नों के अनुसार कीजिए-

डिजिटल इंडिया एक ऐसा प्रोजेक्ट है जिसका \_\_\_\_\_ (1) भारत को एक बेहतर राष्ट्र बनाना है। ये \_\_\_\_\_ (2) देश के जाने माने उद्योगपतियों की मौजूदगी में 1 जुलाई 2015 को इंदिरा गाँधी इंडोर स्टेडियम में शुरू किया गया। 2019 तक इसके पूरा होने की \_\_\_\_\_ (3) है। डिजिटल इंडिया का विज्ञान तीन प्रमुख क्षेत्रों पर \_\_\_\_\_ (4) है। ये हैं- डिजिटल ढांचा, मांग पर संचालन एवं सेवाएं और \_\_\_\_\_ (5) का डिजिटल सशक्तीकरण।

SubQuestion No : 3

Q.3 गद्यांश में संकेतित रिक्त स्थान (3) के लिए उपयुक्त शब्द होगा।

- Ans
- 1. निवेदन
  - 2. निर्देश
  - 3. उम्मीद
  - 4. आदेश

Question ID : 9895806904

Chosen Option : 3

Comprehension:

निम्नलिखित गद्यांश के रिक्त स्थानों की पूर्ति गद्यांश के नीचे दिए गए प्रश्नों के अनुसार कीजिए-

डिजिटल इंडिया एक ऐसा प्रोजेक्ट है जिसका \_\_\_\_\_ (1) भारत को एक बेहतर राष्ट्र बनाना है। ये \_\_\_\_\_ (2) देश के जाने माने उद्योगपतियों की मौजूदगी में 1 जुलाई 2015 को इंदिरा गाँधी इंडोर स्टेडियम में शुरू किया गया। 2019 तक इसके पूरा होने की \_\_\_\_\_ (3) है। डिजिटल इंडिया का विज़न तीन प्रमुख क्षेत्रों पर \_\_\_\_\_ (4) है। ये हैं- डिजिटल ढांचा, मांग पर संचालन एवं सेवाएं और \_\_\_\_\_ (5) का डिजिटल सशक्तीकरण।

SubQuestion No : 4

Q.4 गद्यांश में संकेतित रिक्त स्थान (4) के लिए उपयुक्त शब्द होगा।

- Ans
- 1. सूचित
  - 2. केन्द्रित
  - 3. पठित
  - 4. लिखित

Question ID : 9895806905  
Chosen Option : 2

Comprehension:

निम्नलिखित गद्यांश के रिक्त स्थानों की पूर्ति गद्यांश के नीचे दिए गए प्रश्नों के अनुसार कीजिए-

डिजिटल इंडिया एक ऐसा प्रोजेक्ट है जिसका \_\_\_\_\_ (1) भारत को एक बेहतर राष्ट्र बनाना है। ये \_\_\_\_\_ (2) देश के जाने माने उद्योगपतियों की मौजूदगी में 1 जुलाई 2015 को इंदिरा गाँधी इंडोर स्टेडियम में शुरू किया गया। 2019 तक इसके पूरा होने की \_\_\_\_\_ (3) है। डिजिटल इंडिया का विज़न तीन प्रमुख क्षेत्रों पर \_\_\_\_\_ (4) है। ये हैं- डिजिटल ढांचा, मांग पर संचालन एवं सेवाएं और \_\_\_\_\_ (5) का डिजिटल सशक्तीकरण।

SubQuestion No : 5

Q.5 गद्यांश में संकेतित रिक्त स्थान (5) के लिए उपयुक्त शब्द होगा।

- Ans
- 1. लघु उद्योग
  - 2. कलकारखानों
  - 3. नागरिकों
  - 4. सामान्य वस्तु

Question ID : 9895806906  
Chosen Option : 4

Q.6

रिक्त स्थान को भरने के लिए उपयुक्त शब्द का चयन करें।

वह खाना \_\_\_\_\_ चुका है।

- Ans
- 1. कर
  - 2. चुग
  - 3. खा
  - 4. ठूस

Question ID : 9895806899  
Chosen Option : 3

Q.7 निम्नलिखित में से उस विकल्प का चयन करें जो 'गंगा नहाना' मुहावरे का अर्थ व्यक्त करता है।

- Ans
- 1. खूब मेहनत करना
  - 2. तीर्थ यात्रा करना
  - 3. कठिन कार्य पूरा होना
  - 4. धार्मिक हो जाना

Question ID : 9895806912  
Chosen Option : 3

Q.8 दिए गए वाक्य का वह भाग ज्ञात करें जिसमें कोई त्रुटि है।

यह मेरा सौभाग्य है कि आप मेरे घर पधारे और आपका दर्शन हुआ।

- Ans
- 1. और आपका दर्शन हुआ।
  - 2. सौभाग्य है कि
  - 3. यह मेरा
  - 4. आप मेरे घर पधारे

Question ID : 9895806893  
Chosen Option : 1

Q.9 दिए गए शब्द का विलोम चुनें।

साध्य

- Ans
- 1. असाध्य
  - 2. वैद्य
  - 3. रोगी
  - 4. संध्या

Question ID : 9895806908  
Chosen Option : 1

Q.1  
0

दिए गए शब्द का विलोम चुनें।

आधार

- Ans
- 1. निराधार
  - 2. सूत्रधार
  - 3. निरपराध
  - 4. मूसलाधार

Question ID : 9895806907  
Chosen Option : 1

Q.1 रिक्त स्थान को भरने के लिए उपयुक्त शब्द का चयन करें।

अतिथि का फूलों की \_\_\_\_\_ से स्वागत किया गया।

- Ans
- 1. टुकड़ी
  - 2. गड़ड़ी
  - 3. गुच्छा
  - 4. माला

Question ID : 9895806897  
Chosen Option : 4

Q.1 दिए गए शब्द के पर्यायवाची शब्द का चयन करें।

न्यून

- Ans
- 1. कोण
  - 2. पर्याप्त
  - 3. कम
  - 4. अधिक

Question ID : 9895806909  
Chosen Option : 3

Q.1 दिए गए वाक्य का वह भाग ज्ञात करें जिसमें कोई त्रुटि है।

ग्रीष्म ऋतु आते ही अनाज खरीदने की व्यवस्था किया जाता है।

- Ans
- 1. ग्रीष्म ऋतु आते ही
  - 2. की व्यवस्था
  - 3. अनाज खरीदने
  - 4. किया जाता है।

Question ID : 9895806892  
Chosen Option : 4

Q.1

4 दिए गए शब्द के पर्यायवाची शब्द का चयन करें।

पार्वती

Ans

- 1. गौरी
- 2. आभा
- 3. विभा
- 4. प्रभा

Question ID : 9895806910  
Chosen Option : 1

Q.1 5 दिए गए वाक्य में रेखांकित खंड को प्रतिस्थापित करने के लिए उपयुक्त विकल्प का चयन करें।

लक्ष्मण, राम को अपना भ्राता मानता है।

Ans

- 1. भाई
- 2. शत्रु
- 3. मित्र
- 4. आदर्श

Question ID : 9895806896  
Chosen Option : 1

Q.1 6 दिये गये वाक्यांश के लिए एक शब्द दीजिये।

दोपहर से पहले का समय

Ans

- 1. पूर्वाह्न
- 2. अपराह्न
- 3. मध्याह्न
- 4. सायंकाल

Question ID : 9895806914  
Chosen Option : 2

Q.1 7 दिए गए वाक्य का वह भाग ज्ञात करें जिसमें कोई त्रुटि है।

सूरजकुंड से प्रतिवर्ष बड़ा मेला लगता है।

Ans

- 1. लगता है।
- 2. प्रतिवर्ष
- 3. बड़ा मेला
- 4. सूरजकुंड से

Question ID : 9895806891  
Chosen Option : 4

Q.1  
8

रिक्त स्थान को भरने के लिए उपयुक्त शब्द का चयन करें।

सफेद रंग \_\_\_\_\_ का प्रतीक है।

- Ans
- 1. आतंकवाद
  - 2. असत्य
  - 3. शांति
  - 4. हिंसा

Question ID : 9895806898  
Chosen Option : 3

Q.1 निम्नलिखित में से उस विकल्प का चयन करें जो 'मक्खियाँ मारना' मुहावरे का अर्थ व्यक्त करता है।

- Ans
- 1. बेकार बैठना
  - 2. काम में लगे रहना
  - 3. मक्खियों को तंग करना
  - 4. मक्खियों को मारना

Question ID : 9895806911  
Chosen Option : 1

Q.2 दिए गए वाक्य में रेखांकित खंड को प्रतिस्थापित करने के लिए उपयुक्त विकल्प का चयन करें।

तालिका में उनके प्रकार के फूलों का वर्णन किया गया है।

- Ans
- 1. सारणी
  - 2. पत्र
  - 3. चित्र
  - 4. पंक्ति

Question ID : 9895806894  
Chosen Option : 3

Q.2 रिक्त स्थान को भरने के लिए उपयुक्त शब्द का चयन करें।

राम आजकल घर \_\_\_\_\_ से आता है।

- Ans
- 1. दौड़
  - 2. जोर
  - 3. देर
  - 4. तेज

Question ID : 9895806900  
Chosen Option : 3

Q.2 सही वर्तनी वाले शब्द का चयन करें।

- Ans
- 1. तोपची
  - 2. तौपची



3. तोपचि

4. तौपचि

Question ID : 9895806916

Chosen Option : 4

Q.2 दिए गए वाक्य में रेखांकित खंड को प्रतिस्थापित करने के लिए उपयुक्त विकल्प का चयन करें।

विजय ने अजय का बहुत तिरस्कार किया।

- Ans
1. विरोध
2. सम्मान
3. विश्वास
4. अपमान

Question ID : 9895806895

Chosen Option : 4

Q.2 दिए गये वाक्यांश के लिए एक शब्द दीजिये।

विज्ञान से संबंध रखने वाला

- Ans
1. आविष्कार
2. ज्ञानी
3. वैज्ञानिक
4. अल्पज्ञानी

Question ID : 9895806913

Chosen Option : 3

Q.2 सही वर्तनी वाले शब्द का चयन करें।

- Ans
1. नसमझी
2. नासमझी
3. नासमजी
4. नाशमझी

Question ID : 9895806915

Chosen Option : 2