

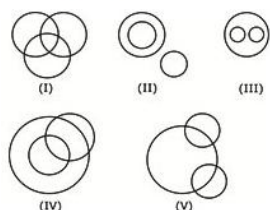
Constable (GD) in CAPFs, NIA, SSF and Rifleman (GD) in Assam Rifles Examination, 2018

Roll No. :	GovtJobsAlert.In
Registration No.	GovtJobsAlert.In
Name :	GovtJobsAlert.In
Exam Venue :	iON Digital Zone iDZ Kuanwala
Exam Time :	4:00 PM - 5:30 PM
Exam Date :	05/03/2019

Section : General Section

Q.1 उस वेन आरेख का चयन करें जो दिए गए तीन वर्गों के बीच के संबंध को सर्वोत्तम दर्शाता है।

ईट, घर, पुल



Ans 1. (I)

2. (II) तथा (IV) दोनों

3. (III)

4. (V)

Question ID : 9895808438

Chosen Option : 2

Q.2 चार लड़के A, B, C, D और चार लड़कियां P, Q, R, S मैरी-गो-राउंड का खेल इस प्रकार खेल रहे हैं कि उनका मुख केंद्र की ओर है और वे एक वृत्त में हैं। कोई भी दो लड़कियाँ या दो लड़के एक दूसरे के समीप नहीं हैं। A, R के तुरंत बायीं ओर हैं, जो कि Q के विपरीत है। P और Q के मध्य में केवल C है। P, S के विपरीत है जो कि B के तुरंत दांयी ओर है।

निम्न में से खिलाड़ियों की कोन सी व्यवस्था दक्षिणावर्त (घड़ी की सुई की दिशा) में स्वीकार्य है।

Ans 1. A, R, D, P, C, Q, B, S

2. Q, C, P, D, R, A, S, B

3. D, R, A, S, B, Q, P, C

4. C, Q, P, D, S, B, A, R

Question ID : 9895808423

Chosen Option : 1

Q.3

नीचे दिए गए कथनों के बाद तीन निष्कर्ष I, II और III दिए गए हैं। यह मानते हुए कि कथनों में दी गई जानकारी सत्य है, भले ही वह सर्वज्ञात तथ्यों से भिन्न प्रतीत होती हो और यह निर्णय करें कि कौन सा / से निष्कर्ष ताकिक और निश्चित रूप से कथन में दी गई जानकारी का अनुसरण करता है / करते हैं।

कथन:

कोई ट्रेन, तारा नहीं है।
कुछ तारें, आदमी हैं।

निष्कर्ष:

- I. कुछ आदमी, ट्रेनें हैं।
- II. कोई आदमी, ट्रेन नहीं है।
- III. सभी आदमी, तारें हैं।

Ans

1. केवल III अनुसरण करता है।
2. या निष्कर्ष I या II अनुसरण करता है।
3. केवल I अनुसरण करता है।
4. या निष्कर्ष II या III अनुसरण करता है।

Question ID : 9895808425
Chosen Option : 3

Q.4 उस विकल्प का चयन करें जो सही रूप में रिक्त स्थान की पूर्ति करते हुए श्रृंखला को पूरा करे।

EEVV, AHZS, WKDP, _____

Ans

1. SNHM
2. RUIE
3. SNIM
4. SMHN

Question ID : 9895808414
Chosen Option : 2

Q.5 चार अक्षर समूह दिए गए हैं, जिनमें से तीन किसी तरह से समान हैं, जबकि एक अलग है। असंगत अक्षर समूह का चयन करें।

Ans

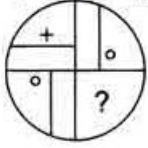
1. loKmLp
2. vQuRtS
3. tOsPrQ
4. hCgDfE

Question ID : 9895808415
Chosen Option : 3

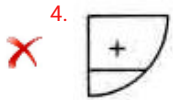
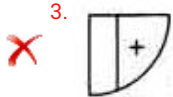
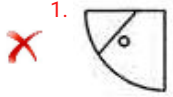
Q.6

निम्नलिखित में से कौन सी उत्तर आकृति दी गई आकृति को पूरा करेगी?

प्रश्न आकृति



Ans



Question ID : 9895808434

Chosen Option : 1

Q.7 नीचे दिए गए कथनों के बाद दो निष्कर्ष I और II दिए गए हैं। यह मानते हुए कि कथनों में दी गई जानकारी सत्य है, भले ही वह सर्वज्ञात तथ्यों से भिन्न प्रतीत होती हो और यह निर्णय करें कि कौन सा / से निष्कर्ष तार्किक और निश्चित रूप से कथन में दी गई जानकारी का अनुसरण करता है / करते हैं।

कथन:

कुछ घड़ियाँ, टाईल्स हैं।

कुछ टाईल्स, दीवारें हैं।

निष्कर्ष:

I. कुछ दीवारें, टाईल्स हैं।

II. कुछ घड़ियाँ, दीवारें हैं।

Ans

1. न निष्कर्ष I न II अनुसरण करता है।

2. या निष्कर्ष I या II अनुसरण करता है।

3. केवल निष्कर्ष II अनुसरण करता है।

4. केवल निष्कर्ष I अनुसरण करता है।

Question ID : 9895808426

Chosen Option : 2

Q.8 रमन फकीर से ज्यादा पैसे कमाता है परन्तु ज़हीर जितना नहीं कमाता है। किसान ज़हीर से कम कमाता है परन्तु रमन जितना कम नहीं कमाता है। लोकेश फकीर से अधिक कमाता है परन्तु रमन जितना नहीं कमाता है। यदि वे अपनी आय के आधार पर क्रमबद्ध हैं तो उनके बीच मध्य में कौन होगा?

Ans

1. किसान

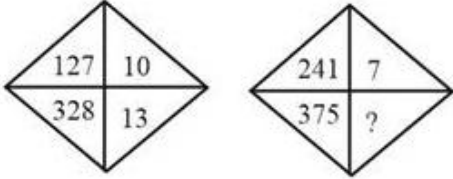
2. लोकेश

3. फकीर

4. रमन

Question ID : 9895808424
Chosen Option : 3

Q.9 दिए गए विकल्पों में से लुप्त संख्या ज्ञात करें।



- Ans 1. 14
 2. 15
 3. 11
 4. 16

Question ID : 9895808431
Chosen Option : 3

Q.10 चार विकल्प दिए गए हैं, जिनमें से तीन किसी तरह से समान हैं, जबकि एक अलग है। असंगत विकल्प का चयन करें।

- Ans 1. 79
 2. 57
 3. 47
 4. 59

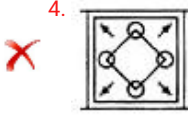
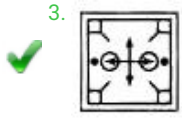
Question ID : 9895808430
Chosen Option : 4

Q.11 उस विकल्प आकृति का चयन करें, जिसमें प्रश्न आकृति छिपी हुई / अंतर्निहित है।

प्रश्न आकृति







- Ans 1.
- 2.



Question ID : 9895808435
Chosen Option : 1

Q.1 A, M, P, D, Q, R, W और B एक वृत्त के चारों ओर केंद्र की ओर मुख किये बैठे हैं। D, A के बाएं से चौथे स्थान पर बैठा है, जो M के दाएं से तीसरे स्थान पर बैठा है। P, Q के बाएं से तीसरे स्थान पर बैठा है जो M के बाएं से तीसरे स्थान पर है। R, W के दाएं से तीसरे स्थान पर बैठा है, जो B के दाएं से दूसरे स्थान पर बैठा है।
D के बाएं से दूसरे स्थान पर कौन है?









- Ans
1.  W
2.  B
3.  अपर्याप्त डेटा
4.  Q

Question ID : 9895808422
Chosen Option : 3

Q.1 उस विकल्प का चयन करें जो दर्पण के दायीं ओर रखे जाने पर दि गई आकृति की दर्पण छवि से सर्वाधिक मेल खाता है।


प्रश्न आकृति:

G.T. |

- Ans
1.  
2.  
3.  
4.  

Question ID : 9895808436
Chosen Option : 1

Q.1 एक निश्चित कूट में, BIRLA को DLVQG के रूप में कूटबद्ध किया जाता है। उसी प्रकार से TECH कैसे कूटबद्ध किया जाता है?

- Ans  1. HVMG

2. VHGM
 3. VHMG
 4. VGHM

Question ID : 9895808420
Chosen Option : 3

Q.1
5 उस विकल्प का चयन करें जो सही रूप में रिक्त स्थान की पूर्ति करते हुए श्रृंखला को पूरा करें।
21, 57, 32, 48, 39, _____

- Ans 1. 43
 2. 45
 3. 55
 4. 54

Question ID : 9895808427
Chosen Option : 3

Q.1
6 उस विकल्प का चयन करें जो तीसरे पद से उसी तरह संबंधित है जिस प्रकार दूसरा पद पहले पद से संबंधित है।
BVWKS : 72 :: PKOM : ?

- Ans 1. 46
 2. 51
 3. 16
 4. 23

Question ID : 9895808419
Chosen Option : 1

Q.1
7 दिए गए विकल्पों में से संबंधित शब्द युग्म का चयन करें।

रैंगना : सर्प :: _____ :

- Ans 1. मंदगति : खरगोश
 2. गोताखोरी : मछलियाँ
 3. उड़ना : पक्षी
 4. काहिली : तैरना

Question ID : 9895808418
Chosen Option : 3

Q.1
8 एक निश्चित कूट में, CORRUPT को 7033146 के रूप में और CHAMP को 75284 के रूप में कूटबद्ध किया जाता है। उसी प्रकार से PRIMUTR कैसे कूटबद्ध किया जाता है?

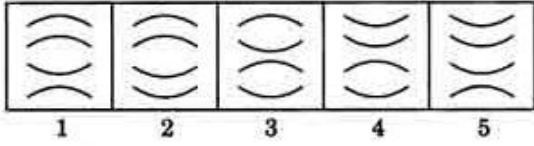
- Ans 1. 438136
 2. 438363
 3. 438631

✓ 4. 438163

Question ID : 9895808421
Chosen Option : 3

Q.1 वह विकल्प चुनें जो दी गई आकृति श्रृंखला को पूरा करता है।

प्रश्न आकृति



Ans

1.
2.
3.
4.

Question ID : 9895808433
Chosen Option : 3

Q.2 एक वर्गाकार पारदर्शी शीट एक पैटर्न के साथ दी गई है। जब शीट को बिंदीदार रेखा पर मोड़ा जाता है तो पैटर्न कैसा दिखाई देगा?

प्रश्न आकृति



Ans

1.
2.
3.
4.

Question ID : 9895808437
Chosen Option : 1

Q.2
1 उस विकल्प का चयन करें जो तीसरे पद से उसी तरह संबंधित है जिस प्रकार दूसरा पद पहले पद से संबंधित है।

4 : 8 :: 6 : ?

- Ans
- 1. 22
 - 2. 18
 - 3. 16
 - 4. 24

Question ID : 9895808429
Chosen Option : 2

Q.2
2 उस विकल्प का चयन करें जो सही रूप में रिक्त स्थान को की पूर्ति करते हुए श्रृंखला को पूरा करें।

41, 46, 56, 73, 99, 136, _____

- Ans
- 1. 186
 - 2. 166
 - 3. 176
 - 4. 177

Question ID : 9895808428
Chosen Option : 2

Q.2
3 दिए गए विकल्पों में से संबंधित शब्द युग्म का चयन करें।

उपकारक : कोण :: _____ : _____

- Ans
- 1. पैमाना : लंबाई
 - 2. कम्पास : तापमान
 - 3. मानचित्र : मौसम
 - 4. त्रिज्या : वर्ग

Question ID : 9895808417
Chosen Option : 1

Q.2
4 चार शब्द दिए गए हैं, जिनमें से तीन किसी तरह से समान हैं, जबकि एक अलग है। असंगत शब्द का चयन करें।

- Ans
- 1. घटाव
 - 2. जोड़
 - 3. गुणन
 - 4. लाभ

Question ID : 9895808416
Chosen Option : 4

Q.2
5

दिए गए समीकरण को संतुलित करने के लिए '+' चिन्हों का स्थान लेने के लिए गणितीय चिन्हों के सही संयोजन का चयन करें।

$$240 + 40 + 8 + 60 + 185$$

- Ans
- 1. + + × =
 - 2. ÷ × + =
 - 3. - + ÷ =
 - 4. + ÷ - =

Question ID : 9895808432
Chosen Option : 2

Q.2 _____ मांसपेशी निचले पैर की हड्डियों (टिबिया और फिब्रल) से एड़ी (कैल्केनीअस) पायी जाती है।

- Ans
- 1. स्नायुजाल
 - 2. सोलियस
 - 3. मास्सेटर
 - 4. अंसपेशी मेजर

Question ID : 9895807496
Chosen Option : 4

Q.2 _____ पहली बार वायसराय की कार्यकारी और विधान परिषद जैसी संस्थाओं में भारतीय प्रतिनिधित्व के लिए पेश किया गया था।

- Ans
- 1. विनियमन (रेगुलेटिंग) अधिनियम 1773
 - 2. 1861 का भारतीय परिषद अधिनियम
 - 3. पिट भारत अधिनियम
 - 4. 1858 का भारत सरकार अधिनियम

Question ID : 9895807491
Chosen Option : 4

Q.2 "स्मोल इज ब्यूटीफुल" पुस्तक के लेखक कौन है?

- Ans
- 1. जे. आर. आर. टोल्किन
 - 2. ई. एफ. शूमाकर
 - 3. स्टीफन किंग
 - 4. मार्गरेट एटवुड

Question ID : 9895807485
Chosen Option : 1

Q.2 उस आदिलशाही जनरल का नाम बताइए, जिसे प्रतापगढ़ किले की तराई पर उनकी बैठक के बाद शिवाजी और उनके सैनिकों द्वारा मार दिया गया था?

- Ans
- 1. करतलब खान

2. अधम खान
 3. दिलेर खान
 4. अफजल खान

Question ID : 9895807502
Chosen Option : 4

Q.3 2018 महिला ट्वेंटी 20 एशिया कप के फाइनल में किस देश की क्रिकेट टीम ने भारत को पराजित किया था?

- Ans 1. पाकिस्तान
 2. बांग्लादेश
 3. इंग्लैंड
 4. ऑस्ट्रेलिया

Question ID : 9895807482
Chosen Option : 4

Q.3 1 रम्बिक सल्फर प्रकृति में क्रिस्टलीय है और आकार में _____ है।

- Ans 1. चौकोर पिरामिड
 2. ऑक्टाहेड्रॉन
 3. द्वादशफलक
 4. चतुर्पाश्वीय

Question ID : 9895807495
Chosen Option : 1

Q.3 2 संविधान (छियासवां संशोधन) अधिनियम 2002 तहत भारत के संविधान में अनुच्छेद 21-A किस लिए शामिल किया गया?

- Ans 1. मतदान की आयु को 21 वर्ष से घटाकर 18 वर्ष करने के लिए।
 2. 6 और 14 वर्ष के बच्चों को निःशुल्क और अनिवार्य शिक्षा देने के लिए।
 3. नगरपालिका और म्युनिसिपैलिटी दाखिल करने के लिए।
 4. पंचायती राज दाखिल करने के लिए।

Question ID : 9895807490
Chosen Option : 1

Q.3 3 मक्के की फसल की कटाई के बाद अगस्त और सितंबर के दौरान मिजोरम में मनाए जाते कटाई के त्योहार का नाम बताइए।

- Ans 1. सेक्रेनियी

- ✓^{2.} मीम कुट
✗^{3.} बीजा पांडु
✗^{4.} सुमे-गेलिरक

Question ID : 9895807479
Chosen Option : 3

Q.3
4 मोनर कौन सी भारतीय भाषा का दूसरा नाम है?

- Ans ✓^{1.} अंगामी
✗^{2.} हलाबी
✗^{3.} कोरकू
✗^{4.} कुई

Question ID : 9895807478
Chosen Option : 1

Q.3
5 निम्नलिखित में से कौन सा पुल ब्रह्मपुत्र पर नहीं है?

- Ans ✗^{1.} नारानारायण सेतु
✗^{2.} कोलिया भोमुरा सेतु
✗^{3.} बोगीबील
✓^{4.} महात्मा गांधी सेतु

Question ID : 9895807497
Chosen Option : 4

Q.3
6 2018-19 की सीजन (2019-20 में विपणन किए जाने [मार्केट में बेचने] के लिए) _____ का न्यूनतम समर्थन मूल्य ₹ 1,840 प्रति क्विंटल निर्धारित किया गया है।

- Ans ✗^{1.} मसूर (दाल)
✓^{2.} गेहूँ
✗^{3.} चना
✗^{4.} जौ

Question ID : 9895807488
Chosen Option : 2

Q.3
7 आवर्त सारणी के 6 वें पीरिड और आईआईए समूह में किस तत्व को रखा गया है?

- Ans ✓^{1.} बेरियम (56 वें नंबर पर)

- 2. लेड (82 वें नंबर पर)
- 3. टेल्यूरियम (52 वें नंबर पर)
- 4. स्ट्रॉटियम (38 वें नंबर पर)

Question ID : 9895807494
Chosen Option : 4

Q.3
8 'सेक्रेड गेम्स' के लेखक कौन हैं?

- Ans
- 1. विक्रम चंद्रा
 - 2. अमीष त्रिपाठी
 - 3. अरविंद अदिगा
 - 4. नीरद सी चौधरी

Question ID : 9895807484
Chosen Option : 4

Q.3
9 भारत के संविधान के अनुच्छेद 356 के तहत आपातकालीन प्रावधान _____ के बीमर संविधान से प्रभावित है।

- Ans
- 1. संयुक्त राज्य अमेरिका
 - 2. जर्मनी
 - 3. फ्रांस
 - 4. यूनाइटेड किंगडम

Question ID : 9895807489
Chosen Option : 1

Q.4
0 वित्त मंत्री अरुण जेटली ने 2018 के बजट में घोषणा की कि सार्वजनिक क्षेत्र के बैंक बांड जारी करके _____, इकट्ठा करेंगे जो ₹ 2.11 लाख करोड़ के पैकेज का हिस्सा हैं।

- Ans
- 1. ₹ 40,000 करोड़
 - 2. ₹ 60,000 करोड़
 - 3. ₹ 80,000 करोड़
 - 4. ₹ 20,000 करोड़

Question ID : 9895807487
Chosen Option : 2

Q.4
1 भगत सिंह को किस क्रांतिकारी कृत्य के लिए फांसी दी गई थी?

- Ans
- 1. ब्रिटिश अधिकारी जैक्सन को गोली मारने के लिए
 - 2. दिल्ली सेंट्रल असेंबली हाउस में बम फेंकने के लिए

3. काकोरी ट्रेन डकैती के लिए
 4. चटगांव आर्मरी पर छापा मारने के लिए

Question ID : 9895807501
Chosen Option : 2

Q.4
2 चंद्रगुप्त के बेटे _____ ने भारत के पूरे उप-महाद्वीप पर मौर्य साम्राज्य का विस्तार किया।

- Ans 1. स्कन्दगुप्त
 2. दंतिदुर्ग
 3. बिन्दुसार
 4. हरिहर ।

Question ID : 9895807500
Chosen Option : 1

Q.4
3 उपसर्ग ' _____ ' 10^{-15} के गुणनखंड के बराबर है।

- Ans 1. peta
 2. femto
 3. atto
 4. exa

Question ID : 9895807493
Chosen Option : 4

Q.4
4 1 जनवरी 2019 से कुछ वस्तुओं पर जीएसटी की कटौती के बाद 28% स्लैब में कौन सी वस्तु अभी भी है?

- Ans 1. वीडियो गेम कंसोल
 2. 32 इंच से छोटे टीवी
 3. डिजिटल कैमरे
 4. सीमेंट

Question ID : 9895807486
Chosen Option : 2

Q.4
5 दादासाहेब फाल्के पुरस्कार पाने वाली उस महिला का नाम बताइए, जो अपने स्टेज नाम सुलोचना से प्रसिद्ध थी।

- Ans 1. ऐनी बैनक्रॉफ्ट
 2. बेट्टे डेविस
 3. अन्ना मैगनानी
 4. रूबी मायर्स

Question ID : 9895807483
Chosen Option : 4

Q.4
6 थार रेगिस्तान में एकमात्र नदी का नाम बताइए।

- Ans
- 1. निरा
 - 2. गोमई
 - 3. वारदा
 - 4. लूनी

Question ID : 9895807498
Chosen Option : 2

Q.4
7 गणगौर किस राज्य का महत्वपूर्ण त्योहार है?

- Ans
- 1. सिक्किम
 - 2. पंजाब
 - 3. राजस्थान
 - 4. मध्यप्रदेश

Question ID : 9895807480
Chosen Option : 1

Q.4
8 धारिता 'C' के संधारित्र में संचित ऊर्जा 'E' का और संधारित्र में संभावित अंतर के बीच संबंध _____ है।

- Ans
- 1. $E/2=CV^2$
 - 2. $2E=CV^2$
 - 3. $E/2=VC^2$
 - 4. $2E=VC^2$

Question ID : 9895807492
Chosen Option : 3

Q.4
9 2018 एशियाई खेलों में पुरुषों के शॉट पुट में किस भारतीय ने गोल्ड जीता?

- Ans
- 1. तजिंदरपाल सिंह तूर
 - 2. जीतू राय
 - 3. रगाला वेंकट राहुल
 - 4. शरथ कमल अचंता

Question ID : 9895807481
Chosen Option : 3

Q.5

0 बौना (ड्वार्फ) ग्रह _____ क्षुद्रग्रह (एस्टेरोइड) बेल्ट में सबसे बड़ी वस्तु है।

- Ans
- 1. ट्राइटन
 - 2. यूरोपा
 - 3. टाइटन
 - 4. सायरस

Question ID : 9895807499
Chosen Option : 4

Q.5 एक वर्ग A का विकर्ण $(a+b)$ है। एक दूसरे जिसका वर्ग A के क्षेत्रफल से दोगुने क्षेत्रफल वाले वर्ग का विकर्ण होगा:

- Ans
- 1. $\sqrt{2} (a - b)$
 - 2. $2 (a + b)^2$
 - 3. $\sqrt{2} (a + b)$
 - 4. $2 (a + b)$

Question ID : 9895807822
Chosen Option : 2

Q.5 एक कक्षा में लड़कों और लड़कियों का औसत वजन क्रमशः 70 किलोग्राम और 60 किलोग्राम है। तो कक्षा में सभी छात्रों का औसत वजन (किलोग्राम में) क्या होगा ?

- Ans
- 1. 66
 - 2. जात नहीं किया जा सकता
 - 3. 67
 - 4. 65

Question ID : 9895807807
Chosen Option : 2

Q.5 एक गाँव में, कुल जनसंख्या का 30% अवयस्क है, 60% अवयस्क जनसंख्या शिक्षित हैं, 40% वयस्क जनसंख्या अशिक्षित है। कुल शिक्षित जनसंख्या 6000 है तो नगर की कुल जनसंख्या कितनी है?

- Ans
- 1. 8000
 - 2. 10000
 - 3. 12000
 - 4. 9000

Question ID : 9895807810
Chosen Option : 3

Q.5 A और B की वर्तमान आयु का अनुपात 11 : 4 है। 15 वर्ष पहले, उनकी आयु का अनुपात 8 : 1 था। पांच वर्ष पहले B और C की आयु का अनुपात 3 : 2 था। C की वर्तमान आयु कितनी है?

- Ans
- 1. 10 वर्ष
 - 2. 15 वर्ष

3. 25 वर्ष

4. 22 वर्ष

Question ID : 9895807813
Chosen Option : 2

Q.5 यदि एक उपकरण 9% लाभ के बजाय 22% लाभ पर बेचा जाता है, तो ₹ 91 अधिक लाभ की प्राप्ति होती है।
5 उपकरण का क्रय मूल्य ज्ञात कीजिए।

Ans 1. ₹ 700

2. ₹ 600

3. ₹ 720

4. ₹ 500

Question ID : 9895807811
Chosen Option : 4

Q.5 कोविंद ने एक वस्तु को अपनी क्रय मूल्य से 30% अधिक अंकित किया और उस पर 10% की छूट दी। उसका लाभ
6 प्रतिशत ज्ञात कीजिए।

Ans 1. 12%

2. 15%

3. 20%

4. 17%

Question ID : 9895807808
Chosen Option : 3

Q.5 T1 और T2 के बीच की दूरी 400 किमी हैं। सुबह 8:00 बजे, दो बस A और B ने क्रमशः T2 और T1 के लिए T1
7 और T2 से एक साथ प्रस्थान किया। यदि A और B की गति क्रमशः 30 किमी प्रति घंटा और 70 किमी प्रति घंटा है,
तो A तथा B किस समय मिलेंगे?

Ans 1. 10:30 a.m.

2. 12 noon

3. 11:00 a.m.

4. 11:30 a.m.

Question ID : 9895807821
Chosen Option : 3

Q.5 एक पुरुष और उसकी पत्नी की वर्तमान आयु का अनुपात 4: 3 है। 4 वर्ष बाद, यह अनुपात 9: 7 हो जायेगा। यदि
8 विवाह के समय, अनुपात 5 : 3 था, तो कितने वर्ष पहले विवाह हुआ था?

Ans 1. 15 वर्ष

2. 8 वर्ष

3. 10 वर्ष

4. 12 वर्ष

Question ID : 9895807814
Chosen Option : 3

Q.5 निर्देश: निम्नलिखित तालिका का ध्यानपूर्वक अध्ययन करें तथा दिए गए प्रश्नो के उत्तर दें।

दिये गये वर्षों में 5 राज्यों की जनसंख्या (हजार में)					
वर्ष	राज्य				
	A	B	C	D	E
2003	125	210	85	150	98
2006	135	225	89	170	110
2009	142	240	93	180	130
2012	148	250	99	215	140
2015	155	270	105	230	145
2018	160	290	110	240	160

किस राज्य में 2006 से 2009 तक जनसंख्या में अधिकतम प्रतिशत की वृद्धि हुई?

- Ans
- 1. D
 - 2. E
 - 3. A
 - 4. C

Question ID : 9895807826
Chosen Option : 3

Q.6 15 व्यक्ति किसी कार्य को 8 दिनों में पूरा कर सकते हैं। दोगुने काम को 12 दिनों में पूरा करने के लिए कितने और व्यक्तियों की जरूरत होगी?

- Ans
- 1. 5
 - 2. 2
 - 3. 3
 - 4. 4

Question ID : 9895807819
Chosen Option : 1

Q.6 यादृच्छिक रूप से चयनित एक लीप वर्ष में 53 रविवार होने की प्रायिकता क्या होगी?

- Ans
- 1. $\frac{2}{7}$
 - 2. $\frac{3}{7}$
 - 3. $\frac{1}{7}$
 - 4. $\frac{1}{53}$

Question ID : 9895807809

Q.6
2 निम्न का मान क्या है?

$$[1 \div \{1 + 1 \div (1 + 1 \div 2)\}] = ?$$

- Ans
- 1. 1
 - 2. 2
 - 3. $\frac{1}{2}$
 - 4. $\frac{3}{5}$

Question ID : 9895807804

Chosen Option : 3

Q.6
3 20 छात्रों की एक कक्षा की औसत आयु 20 वर्ष है। यदि एक नया छात्र, जिसकी आयु 20 वर्ष है, कक्षा में सम्मिलित होता है, तो कक्षा की नई औसत आयु (वर्षों में) होगी:

- Ans
- 1. 23
 - 2. 22
 - 3. 21
 - 4. 20

Question ID : 9895807806

Chosen Option : 2

Q.6
4 निर्देश: निम्नलिखित तालिका का ध्यानपूर्वक अध्ययन करें तथा दिए गए प्रश्नों के उत्तर दें।

दिये गये वर्षों में 5 राज्यों की जनसंख्या (हजार में)					
वर्ष	राज्य				
	A	B	C	D	E
2003	125	210	85	150	98
2006	135	225	89	170	110
2009	142	240	93	180	130
2012	148	250	99	215	140
2015	155	270	105	230	145
2018	160	290	110	240	160

2009 में सभी राज्यों की औसत जनसंख्या क्या थी?

- Ans
- 1. 1,57,200
 - 2. 1,75,000
 - 3. 1,72,500

✓^{4.} 1,57,000

Question ID : 9895807825
Chosen Option : 2

Q.6
5 एक दिए गए वृत्त की परिधि 176 cm है। उस वर्ग का अनुमानित विकर्ण क्या होगा जिसकी भुजा दिए गए वृत्त की विज्या का आधा है?

- Ans
- ✗^{1.} 15 cm
- ✓^{2.} 20 cm
- ✗^{3.} 24 cm
- ✗^{4.} 12 cm

Question ID : 9895807823
Chosen Option : 4

Q.6
6 निर्देश: निम्नलिखित तालिका का ध्यानपूर्वक अध्ययन करें तथा दिए गए प्रश्नों के उत्तर दें।

दिये गये वर्षों में 5 राज्यों की जनसंख्या (हजार में)					
वर्ष	राज्य				
	A	B	C	D	E
2003	125	210	85	150	98
2006	135	225	89	170	110
2009	142	240	93	180	130
2012	148	250	99	215	140
2015	155	270	105	230	145
2018	160	290	110	240	160

2003 से 2018 में राज्य C की जनसंख्या में लगभग कितने प्रतिशत की वृद्धि हुई?

- Ans
- ✗^{1.} 24
- ✗^{2.} 32
- ✓^{3.} 29
- ✗^{4.} 28

Question ID : 9895807827
Chosen Option : 1

Q.6
7 A और B एक कार्य को 15 दिन में पूरा कर सकते हैं, जबकि A, B और C उसे 10 दिन में पूरा कर सकते हैं। C को अकेले कार्य पूरा करने में कितना समय लगेगा?

- Ans
- ✗^{1.} 14 दिन
- ✗^{2.} 20 दिन
- ✗^{3.} 16 दिन

✓^{4.} 30 दिन

Question ID : 9895807818
Chosen Option : 4

Q.6
8 छ:माही आधार पर चक्रवृद्धित किये जाने पर कितने समय में ₹ 1000, 20% वार्षिक व्याज की दर से ₹ 1331 हो जाएगा?

- Ans
- ✗^{1.} 2 वर्ष
 - ✗^{2.} 1 वर्ष
 - ✗^{3.} $2\frac{1}{2}$ वर्ष
 - ✓^{4.} $1\frac{1}{2}$ वर्ष

Question ID : 9895807817
Chosen Option : 3

Q.6
9 लम्बाई 175 मीटर लम्बी एक ट्रेन 36 किमी प्रति घंटे की रफतार से चलती है। 125 मीटर लम्बे प्लेटफॉर्म को पार करने में लगने वाला समय होगा:

- Ans
- ✗^{1.} 10 सेकंड
 - ✓^{2.} 30 सेकंड
 - ✗^{3.} 15 सेकंड
 - ✗^{4.} 25 सेकंड

Question ID : 9895807820
Chosen Option : 1

Q.7
0 एक व्यक्ति अपने चार दोस्तों A, B, C और D के बीच कुछ कलमें $\frac{1}{3} : \frac{1}{4} : \frac{1}{5} : \frac{1}{6}$ के अनुपात में वितरित करता है तो व्यक्ति के पास कलमों की न्यूनतम संख्या कितनी होनी चाहिए?

- Ans
- ✗^{1.} 61
 - ✓^{2.} 57
 - ✗^{3.} 70
 - ✗^{4.} 66

Question ID : 9895807815
Chosen Option : 4

Q.7
1 किसी वस्तु को वास्तविक विक्रय मूल्य के $\frac{3}{5}$ वें हिस्से पर बेचकर, एक व्यापारी 20% का लाभ कमाता है। यदि वह उत्पाद को वास्तविक विक्रय मूल्य पर बेचता है, तो लाभ प्रतिशत क्या होगा?

- Ans
- ✗^{1.} 75%
 - ✗^{2.} 80%
 - ✓^{3.} 100%
 - ✗^{4.} 50%

Question ID : 9895807812

Chosen Option : 4

Q.7 वह सबसे बड़ी संख्या कौन सी है जिससे 34, 58 और 94 को विभाजित करने पर समान शेषफल आता है?

- Ans
- 1. 12
 - 2. 6
 - 3. 8
 - 4. 9

Question ID : 9895807803

Chosen Option : 1

Q.7 नीचे दिए गए प्रश्न में प्रश्नवाचक चिन्ह(?) के स्थान पर क्या आना चाहिए?

$$7 \times 8 + 8 \div 2 - 32 \times \left(\frac{1}{8}\right) - 6 \times 8 = ?$$

- Ans
- 1. 8
 - 2. 7
 - 3. 10
 - 4. 9

Question ID : 9895807805

Chosen Option : 1

Q.7 एक बेलनाकार टंकी की क्षमता 246.4 लीटर है। यदि टंकी की ऊंचाई 4 मीटर है, तब आधार का व्यास कितना होगा?

($\pi \frac{22}{7}$ लीजिए)

- Ans
- 1. 1.4 मीटर
 - 2. 2.8 मीटर
 - 3. 0.14 मीटर
 - 4. 0.28 मीटर

Question ID : 9895807824

Chosen Option : 1

Q.7 यदि एक धनराशि साधारण ब्याज पर निवेश किये जाने पर 12 वर्ष में दोगुनी हो जाती है। निवेश पर अनुमत ब्याज दर कितनी है?

- Ans
- 1. $11\frac{1}{8}\%$
 - 2. $7\frac{1}{2}\%$
 - 3. $8\frac{1}{3}\%$
 - 4. $9\frac{1}{9}\%$

Question ID : 9895807816

Section : English Language

Q.1 Select the most appropriate word to fill in the blank.

We have had our time of peace and _____, a time I will treasure as long as I live.

- Ans
- 1. confusion
 - 2. anxiety
 - 3. prosperity
 - 4. unrest

Question ID : 9895808463

Chosen Option : -

Q.2 Select the antonym of the given word.

Preserve

- Ans
- 1. Destroy
 - 2. Treasure
 - 3. Safeguard
 - 4. Descend

Question ID : 9895808456

Chosen Option : -

Q.3 Select the synonym of the given word.

Interfere

- Ans
- 1. Hasten
 - 2. Delay
 - 3. Activate
 - 4. Meddle

Question ID : 9895808453

Chosen Option : -

Q.4 Select the synonym of the given word.

Aloof

- Ans
- 1. Social
 - 2. Informal
 - 3. Withdrawn
 - 4. Jovial

Question ID : 9895808454

Q.5 Identify the segment in the sentence which contains the grammatical error from the given options.

Metals like iron get rusted when left exposing to moisture and air.

- Ans
- 1. Metals like iron
 - 2. get rusted
 - 3. when left
 - 4. exposing to

Question ID : 9895808441

Chosen Option : -

Q.6 Select the word which means the same as the group of words given.

The assembled spectators or listeners at a public event

- Ans
- 1. Audience
 - 2. Witnesses
 - 3. Admirers
 - 4. Gallery

Question ID : 9895808460

Chosen Option : -

Q.7 Select the most appropriate option to substitute the underlined segment in the given sentence. If there is no need to substitute it, select No substitution required.

India's diversity have always been recognize as a source of its strength.

- Ans
- 1. have always being recognize
 - 2. have always been recognize
 - 3. has always been recognized
 - 4. No substitution required

Question ID : 9895808443

Chosen Option : -

Q.8 Identify the segment in the sentence which contains the grammatical error from the given options.

One of the most important task in agriculture is to turn the soil and loosen it.

- Ans
- 1. important task
 - 2. loosen it
 - 3. One of the
 - 4. turn the soil

Question ID : 9895808439

Chosen Option : -

Q.9 Select the most appropriate word to fill in the blank.

Though Sam _____ French for seven years, he did not know many words of French.

- Ans
- 1. was study
 - 2. have been studying
 - 3. has studied
 - 4. had studied

Question ID : 9895808446

Chosen Option : -

Q.1 Select the most appropriate option to substitute the underlined segment in the given sentence. If there is no need to substitute it, select No substitution required.

People feel happy when it read a good and fascinating story.

- Ans
- 1. as it reads
 - 2. when they reading
 - 3. when they read
 - 4. No substitution required

Question ID : 9895808442

Chosen Option : -

Q.1 Select the antonym of the given word.

Encourage

- Ans
- 1. Conquer
 - 2. Establish
 - 3. Frustrate
 - 4. Advance

Question ID : 9895808455

Chosen Option : -

Q.1 Select the wrongly spelt word.

- Ans
- 1. Attention
 - 2. Exhibetion
 - 3. Contribute
 - 4. Befriend

Question ID : 9895808462

Chosen Option : -

Q.1 Select the most appropriate option to substitute the underlined segment in the given sentence. If there is no need to substitute it, select No substitution required.

The Government of India launched the Swachh Bharat Mission on 2 October 2014 to promote cleanliness.

- Ans
- 1. Government of India launching
 - 2. No substitution required
 - 3. Government to India launch
 - 4. Government for India launched

Question ID : 9895808444
Chosen Option : -

Comprehension:

In the following passage some words have been deleted. Fill in the blanks with the help of the alternatives given. Select the most appropriate option for each number.

India is one of the (1) _____ civilizations in the world. It (2) _____ achieved multi-faceted socioeconomic progress (3) _____ the last five decades. It has moved (4) _____ displaying remarkable (5) _____ in the field of agriculture.

SubQuestion No : 14

- Q.1
4 Select the most appropriate option that will fill in the blank number 1.

- Ans
- 1. aged
 - 2. ancient
 - 3. older
 - 4. elder

Question ID : 9895808448
Chosen Option : -

Comprehension:

In the following passage some words have been deleted. Fill in the blanks with the help of the alternatives given. Select the most appropriate option for each number.

India is one of the (1) _____ civilizations in the world. It (2) _____ achieved multi-faceted socioeconomic progress (3) _____ the last five decades. It has moved (4) _____ displaying remarkable (5) _____ in the field of agriculture.

SubQuestion No : 15

- Q.1
5 Select the most appropriate option that will fill in the blank number 2.

- Ans
- 1. has
 - 2. have
 - 3. were been
 - 4. was being

Question ID : 9895808449
Chosen Option : -

Comprehension:

In the following passage some words have been deleted. Fill in the blanks with the help of the alternatives given. Select the most appropriate option for each number.

India is one of the (1) _____ civilizations in the world. It (2) _____ achieved multi-faceted socioeconomic progress (3) _____ the last five decades. It has moved (4) _____ displaying remarkable (5) _____ in the field of agriculture.

SubQuestion No : 16

Q.1
6 Select the most appropriate option that will fill in the blank number 3.

- Ans
- 1. between
 - 2. across
 - 3. during
 - 4. above

Question ID : 9895808450
Chosen Option : -

Comprehension:

In the following passage some words have been deleted. Fill in the blanks with the help of the alternatives given. Select the most appropriate option for each number.

India is one of the (1) _____ civilizations in the world. It (2) _____ achieved multi-faceted socioeconomic progress (3) _____ the last five decades. It has moved (4) _____ displaying remarkable (5) _____ in the field of agriculture.

SubQuestion No : 17

Q.1
7 Select the most appropriate option that will fill in the blank number 4.

- Ans
- 1. in
 - 2. away
 - 3. forward
 - 4. front

Question ID : 9895808451
Chosen Option : -

Comprehension:

In the following passage some words have been deleted. Fill in the blanks with the help of the alternatives given. Select the most appropriate option for each number.

India is one of the (1) _____ civilizations in the world. It (2) _____ achieved multi-faceted socioeconomic progress (3) _____ the last five decades. It has moved (4) _____ displaying remarkable (5) _____ in the field of agriculture.

SubQuestion No : 18

Q.1
8 Select the most appropriate option that will fill in the blank number 5.

- Ans
- 1. progress
 - 2. march
 - 3. course
 - 4. motion

Question ID : 9895808452

Chosen Option : -

Q.1
9 Select the most appropriate word to fill in the blank.

An old villager looked _____ him when his mother was away.

- Ans
- 1. on
 - 2. in
 - 3. to
 - 4. after

Question ID : 9895808445

Chosen Option : -

Q.2
0 Select the most appropriate word to fill in the blank.

Some experts believe that animals' _____ sense of hearing helps them to hear or feel the earth's vibration.

- Ans
- 1. acute
 - 2. blunt
 - 3. demanding
 - 4. insensitive

Question ID : 9895808464

Chosen Option : -

Q.2
1 Select the word which means the same as the group of words given.

An account of someone's life written by someone else

- Ans
- 1. Autobiography
 - 2. Calligraphy

3. Biography

4. Narration

Question ID : 9895808459

Chosen Option : -

Q.2
2 Select the meaning of the given idiom.

Butterflies in the stomach

Ans 1. An impractical idea

2. To be ill

3. Sense of danger

4. A feeling of nervousness

Question ID : 9895808457

Chosen Option : -

Q.2
3 Select the wrongly spelt word.

Ans 1. Compact

2. Bouquet

3. Defination

4. Ascend

Question ID : 9895808461

Chosen Option : -

Q.2
4 Identify the segment in the sentence which contains the grammatical error from the given options.

We are all aware that our environment is not what it use to be.

Ans 1. use to

2. We are

3. is not

4. aware that

Question ID : 9895808440

Chosen Option : -

Q.2
5 Select the meaning of the given idiom.

Skate on thin ice

Ans 1. to be adventurous

2. to be careless

3. to be in a risky situation

✗ 4. to have a specific skill

Question ID : 9895808458
Chosen Option : -

Section : Hindi Language

Q.1 दिए गए शब्द का विलोम चुनें।

मांसाहारी

- Ans
- ✗ 1. बलिहारी
 - ✓ 2. शाकाहारी
 - ✗ 3. निराहार
 - ✗ 4. निरंकारी

Question ID : 9895806934
Chosen Option : 2

Q.2 दिए गए वाक्य का वह भाग ज्ञात करें जिसमें कोई त्रुटि है।

व्यंग्य का चोट तो सुनार की तरह धीमी है लेकिन मार लुहार की चोट से भी अधिक करती है।

- Ans
- ✗ 1. तो सुनार की तरह धीमी है
 - ✗ 2. लेकिन मार लुहार की चोट से भी
 - ✓ 3. व्यंग्य का चोट
 - ✗ 4. अधिक करती है।

Question ID : 9895806918
Chosen Option : 2

Q.3 दिए गए शब्द के पर्यायवाची शब्द का चयन करें।

कृषक

- Ans
- ✗ 1. खेती
 - ✗ 2. मज़दूर
 - ✓ 3. किसान
 - ✗ 4. फसल

Question ID : 9895806936
Chosen Option : 3

Q.4 दिए गए वाक्य में रेखांकित खंड को प्रतिस्थापित करने के लिए उपयुक्त विकल्प का चयन करें।

बहुत से उद्योगपतियों ने बैंक का ऋण वापस नहीं लौटाया।

- Ans
- 1. पासबुक
 - 2. कर्ज
 - 3. रुपये
 - 4. राशि

Question ID : 9895806920
Chosen Option : 2

Q.5 निम्नलिखित में से उस विकल्प का चयन करें जो 'आपे से बाहर होना' मुहावरे का अर्थ व्यक्त करता है।

- Ans
- 1. बहुत पछताना
 - 2. बेमेल काम करना
 - 3. क्रोध से अपने वश में न रहना
 - 4. घर से निकल जाना

Question ID : 9895806938
Chosen Option : 3

Q.6 सही वर्तनी वाले शब्द का चयन करें।

- Ans
- 1. शाक्षर
 - 2. साक्षर
 - 3. साक्षार
 - 4. सक्षर

Question ID : 9895806941
Chosen Option : 2

Q.7 दिए गए शब्द के पर्यायवाची शब्द का चयन करें।

आकुल

- Ans
- 1. बेचैन
 - 2. हताश
 - 3. चैन
 - 4. गोकुल

Question ID : 9895806935
Chosen Option : 1

Q.8 दिए गए वाक्य का वह भाग ज्ञात करें जिसमें कोई त्रुटि है।

अभिभावक ने विनम्रतापूर्वक कहा कि कृपया आप ही कृपा करके बताएँ कि वह कहाँ है?

- Ans
- 1. कृपया आप ही कृपा करके बताएँ

2. कि वह कहाँ है?
3. अभिभावक ने
4. विनमतापूर्वक कहा कि

Question ID : 9895806917
Chosen Option : 3

Q.9 दिये गये वाक्यांश के लिए एक शब्द दीजिये।

रास्ता दिखाने वाला

- Ans 1. समदर्शी
2. दूरदर्शी
3. मार्गदर्शक
4. राहपथिक

Question ID : 9895806939
Chosen Option : 3

Q.1 दिए गए वाक्य में रेखांकित खंड को प्रतिस्थापित करने के लिए उपयुक्त विकल्प का चयन करें।

ईश्वर मानव का सृजन करके वन्दनीय हो गया।

- Ans 1. निर्माण
2. उत्पत्ति
3. पैदावार
4. जन्म

Question ID : 9895806921
Chosen Option : 4

Q.1 निम्नलिखित में से उस विकल्प का चयन करें जो 'कदम उखाड़ना' मुहावरे का अर्थ व्यक्त करता है।

- Ans 1. तैयार होना
2. भाग खड़े होना
3. झगड़ा होना
4. खुश हो जाना

Question ID : 9895806937
Chosen Option : 2

Q.1 रिक्त स्थान को भरने के लिए उपयुक्त शब्द का चयन करें।

मैंने _____ सारा कूड़ा साफ किया है।

Ans

1. स्वयं
 2. अपनी
 3. अपने
 4. हमारा

Question ID : 9895806924
Chosen Option : 1

Q.1 दिए गए वाक्य में रेखांकित खंड को प्रतिस्थापित करने के लिए उपयुक्त विकल्प का चयन करें।

जीवन में नियति का महत्वपूर्ण स्थान होता है।

Ans

1. स्वभाव
 2. कर्म
 3. भाग्य
 4. चरित्र

Question ID : 9895806922
Chosen Option : 1

Comprehension:

निम्नलिखित गद्यांश के रिक्त स्थानों की पूर्ति गद्यांश के नीचे दिए गए प्रश्नों के अनुसार कीजिए-

स्वस्थ जीवन जीने के लिए शुद्ध और शांतिपूर्ण पर्यावरण _____ (1) होता है। पर्यावरण वह है जो प्राकृतिक रूप से हमारे चारों तरफ है और पृथ्वी पर हमारे दैनिक जीवन को _____ (2) करता है। जो हवा हम हर पल साँस के रूप में _____ (3) हैं, पानी जो हम अपनी दिनचर्या में इस्तेमाल करते हैं, पौधे, जानवर आदि पर्यावरण के तहत आते हैं। अगर _____ (4) के संतुलन में किसी भी प्रकार की _____ (5) आती है तो इसका हमारे पर्यावरण पर गलत असर पड़ता है।

SubQuestion No : 14

Q.1 4 गद्यांश में संकेतित रिक्त स्थान (1) के लिए उपयुक्त शब्द होगा।

Ans

1. असंभव
 2. आवश्यक
 3. संभव
 4. अनावश्यक

Question ID : 9895806928
Chosen Option : 2

Comprehension:

निम्नलिखित गद्यांश के रिक्त स्थानों की पूर्ति गद्यांश के नीचे दिए गए प्रश्नों के अनुसार कीजिए-

स्वस्थ जीवन जीने के लिए शुद्ध और शांतिपूर्ण पर्यावरण _____ (1) होता है। पर्यावरण वह है जो प्राकृतिक रूप से हमारे चारों तरफ है और पृथ्वी पर हमारे दैनिक जीवन को _____ (2) करता है। जो हवा हम हर पल साँस के रूप में _____ (3) हैं, पानी जो हम अपनी दिनचर्या में इस्तेमाल करते हैं, पौधे, जानवर आदि पर्यावरण के तहत आते हैं। अगर _____ (4) के संतुलन में किसी भी प्रकार की _____ (5) आती है तो इसका हमारे पर्यावरण पर गलत असर पड़ता है।

SubQuestion No : 15

Q.1
5 गद्यांश में संकेतित रिक्त स्थान (2) के लिए उपयुक्त शब्द होगा।

- Ans
- 1. प्रकाशित
 - 2. सीमित
 - 3. प्रभावित
 - 4. प्रताड़ित

Question ID : 9895806929
Chosen Option : 1

Comprehension:

निम्नलिखित गद्यांश के रिक्त स्थानों की पूर्ति गद्यांश के नीचे दिए गए प्रश्नों के अनुसार कीजिए-

स्वस्थ जीवन जीने के लिए शुद्ध और शांतिपूर्ण पर्यावरण _____ (1) होता है। पर्यावरण वह है जो प्राकृतिक रूप से हमारे चारों तरफ है और पृथ्वी पर हमारे दैनिक जीवन को _____ (2) करता है। जो हवा हम हर पल साँस के रूप में _____ (3) हैं, पानी जो हम अपनी दिनचर्या में इस्तेमाल करते हैं, पौधे, जानवर आदि पर्यावरण के तहत आते हैं। अगर _____ (4) के संतुलन में किसी भी प्रकार की _____ (5) आती है तो इसका हमारे पर्यावरण पर गलत असर पड़ता है।

SubQuestion No : 16

Q.1
6 गद्यांश में संकेतित रिक्त स्थान (3) के लिए उपयुक्त शब्द होगा।

- Ans
- 1. लेते
 - 2. उड़ते

3. चलते

4. बहते

Question ID : 9895806930
Chosen Option : 1

Comprehension:

निम्नलिखित गद्यांश के रिक्त स्थानों की पूर्ति गद्यांश के नीचे दिए गए प्रश्नों के अनुसार कीजिए-

स्वस्थ जीवन जीने के लिए शुद्ध और शांतिपूर्ण पर्यावरण _____ (1) होता है। पर्यावरण वह है जो प्राकृतिक रूप से हमारे चारों तरफ है और पृथ्वी पर हमारे दैनिक जीवन को _____ (2) करता है। जो हवा हम हर पल साँस के रूप में _____ (3) हैं, पानी जो हम अपनी दिनचर्या में इस्तेमाल करते हैं, पौधे, जानवर आदि पर्यावरण के तहत आते हैं। अगर _____ (4) के संतुलन में किसी भी प्रकार की _____ (5) आती है तो इसका हमारे पर्यावरण पर गलत असर पड़ता है।

SubQuestion No : 17

Q.1
7 गद्यांश में संकेतित रिक्त स्थान (4) के लिए उपयुक्त शब्द होगा।

- Ans
- 1. आकृति
 - 2. प्रकृति
 - 3. विकृति
 - 4. अनुकृति

Question ID : 9895806931
Chosen Option : 2

Comprehension:

निम्नलिखित गद्यांश के रिक्त स्थानों की पूर्ति गद्यांश के नीचे दिए गए प्रश्नों के अनुसार कीजिए-

स्वस्थ जीवन जीने के लिए शुद्ध और शांतिपूर्ण पर्यावरण _____ (1) होता है। पर्यावरण वह है जो प्राकृतिक रूप से हमारे चारों तरफ है और पृथ्वी पर हमारे दैनिक जीवन को _____ (2) करता है। जो हवा हम हर पल साँस के रूप में _____ (3) हैं, पानी जो हम अपनी दिनचर्या में इस्तेमाल करते हैं, पौधे, जानवर आदि पर्यावरण के तहत आते हैं। अगर _____ (4) के संतुलन में किसी भी प्रकार की _____ (5) आती है तो इसका हमारे पर्यावरण पर गलत असर पड़ता है।

SubQuestion No : 18

Q.1
8 गद्यांश में संकेतित रिक्त स्थान (5) के लिए उपयुक्त शब्द होगा।

- Ans
- 1. बनावट
 - 2. रुकावट
 - 3. अमावट
 - 4. सजावट

Question ID : 9895806932
Chosen Option : 2

Q.1
9 दिए गए वाक्य का वह भाग ज्ञात करें जिसमें कोई त्रुटि है।
उनका गाँव के भीतर दो कुएँ हैं किन्तु एक सूखा हुआ है।

- Ans
- 1. सूखा हुआ है।
 - 2. किन्तु एक
 - 3. दो कुएँ हैं
 - 4. उनका गाँव के भीतर

Question ID : 9895806919
Chosen Option : 2

Q.2
0 दिए गए शब्द का विलोम चुनें।

एकल

- Ans
- 1. विरल
 - 2. सामूहिक
 - 3. सरल
 - 4. विफल

Question ID : 9895806933
Chosen Option : 4

Q.2
1 दिये गये वाक्यांश के लिए एक शब्द दीजिये।

तीव्र बुद्धि वाला

- Ans
- 1. कुशाग्रबुद्धि
 - 2. अल्पबुद्धि

3. मंदबुद्धि

4. दुर्बुद्धि

Question ID : 9895806940

Chosen Option : 1

Q.2
2 रिक्त स्थान को भरने के लिए उपयुक्त शब्द का चयन करें।

जो कुछ लिखा जाये वह साफ और _____ हो ।

Ans 1. स्पष्ट

2. धुँधला

3. कठिन

4. मलिन

Question ID : 9895806926

Chosen Option : 1

Q.2
3 सही वर्तनी वाले शब्द का चयन करें।

Ans 1. दीवास

2. दिवस

3. दिवश

4. दीवस

Question ID : 9895806942

Chosen Option : 2

Q.2
4 रिक्त स्थान को भरने के लिए उपयुक्त शब्द का चयन करें।

उन्हीं शब्दों का प्रयोग करना चाहिए _____ प्रासंगिक महत्व है।

Ans 1. जिसका

2. जिनका

3. किनका

4. उनका

Question ID : 9895806925

Chosen Option : 2

Q.2
5 रिक्त स्थान को भरने के लिए उपयुक्त शब्द का चयन करें।

सोहन सब के _____ रहता है।

Ans

- 1. दूर
- 2. अलग
- 3. साथ
- 4. अंदर

Question ID : 9895806923
Chosen Option : 3

GovtJobsAlert.In