

Constable (GD) in CAPFs, NIA, SSF and Rifleman (GD) in Assam Rifles Examination, 2018

Roll No. :	GovtJobsAlert.In
Registration No.	GovtJobsAlert.In
Name :	GovtJobsAlert.In
Exam Venue :	Alankar Mahila P.G. Mahavidyalaya
Exam Time :	9:00 AM - 10:30 AM
Exam Date :	06/03/2019

Section : General Section

Q.1 चार लड़के A, B, C, D और चार लड़कियां P, Q, R, S मैरी-गो-राउंड का खेल इस प्रकार खेल रहे हैं कि उनका मुख केंद्र की ओर है और वे एक वृत्त में हैं। कोई भी दो लड़कियाँ या दो लड़के एक दूसरे के समीप नहीं हैं। A, R के समीप बांयी ओर हैं, जो कि Q के विपरीत है। P और Q के मध्य केवल C है। P, S के विपरीत है जो कि B के समीप दांयी ओर है।

यदि R और S के मध्य केवल B है तो, B के विपरीत कौन है?

- Ans
- 1. Q
 - 2. C
 - 3. A
 - 4. D

Question ID : 9895808599
Chosen Option : 1

Q.2 दिए गए विकल्पों में से संबंधित शब्द युगल का चयन करें।

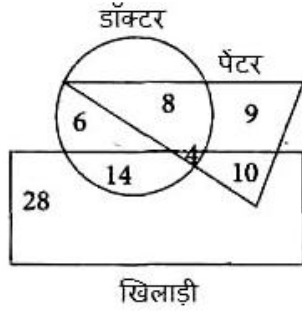
दांत : काटना : : _____ : _____

- Ans
- 1. पैर : चलना
 - 2. झाड़ू : उड़ना
 - 3. भोजन : गंध
 - 4. ट्यूबलाइट : गर्मी

Question ID : 9895808593
Chosen Option : 1

Q.3

निम्नलिखित आरेख का अध्ययन करें और दिए गए प्रश्नों का उत्तर दें।



कितने चित्रकार न तो डॉक्टर हैं और न ही खिलाड़ी?

- Ans
- 1. 10
 - 2. 6
 - 3. 9
 - 4. 8

Question ID : 9895808614
Chosen Option : 3

Q.4 चार विकल्प दिए गए हैं, जिनमें से तीन किसी तरह से समान हैं, जबकि एक अलग है। असंगत विकल्प का चयन करें।

- Ans
- 1. 6388
 - 2. 3568
 - 3. 2348
 - 4. 1238

Question ID : 9895808606
Chosen Option : 2

Q.5 उस विकल्प का चयन करें जो तीसरे पद से उसी तरह संबंधित है जिस प्रकार दूसरा पद पहले पद से संबंधित है।

10 : 30 :: 68 : ?

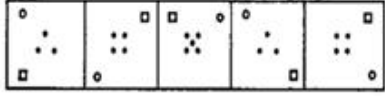
- Ans
- 1. 130
 - 2. 112
 - 3. 100
 - 4. 120

Question ID : 9895808605
Chosen Option : 2

Q.6

वह विकल्प चुनें जो दी गई आकृति श्रृंखला को पूरा करता है।

प्रश्न आकृति



Ans

- 1.
- 2.
- 3.
- 4.

Question ID : 9895808609
Chosen Option : 1

Q.7 चार अक्षर समूह दिए गए हैं, जिनमें से तीन किसी तरह से समान हैं, जबकि एक अलग है। असंगत अक्षर समूह का चयन करें।

- Ans 1. AWaY
2. CLaY
3. TRaY
4. STaY

Question ID : 9895808591
Chosen Option : 1

Q.8 चार भाई P, Q, R और S होटल जाते हैं। वे चार कमरे 301, 302, 303 और 304 बुक करते हैं। P और R के कमरों की संख्या का योग 603 है और R और S के कमरों की संख्या का योग 604 है। P, Q और R के कमरों की संख्या का योग क्या होगा?

- Ans 1. 903
2. 907
3. 904
4. 905

Question ID : 9895808600
Chosen Option : 4

Q.9

उस विकल्प का चयन करें जो सही रूप में रिक्त स्थान की पूर्ति करते हुए श्रृंखला को पूरा करें।

AB, BA, ABC, CBA, ABCD, _____

Ans

1. ACBD
 2. DCBA
 3. BACD
 4. CABD

Question ID : 9895808590
Chosen Option : 2

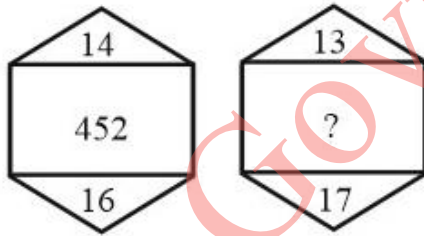
Q.1 यदि PT को 8-10 के रूप में लिखा जाता है तो NLR को किस रूप में लिखा जाएगा?

Ans

1. 7-6-8
 2. 7-6-9
 3. 8-6-11
 4. 7-6-12

Question ID : 9895808597
Chosen Option : 3

Q.1 दिए गए विकल्पों में से लुप्त संख्या ज्ञात करें।



Ans

1. 440
 2. 400
 3. 456
 4. 458

Question ID : 9895808607
Chosen Option : 3

Q.1 A, M, P, D, Q, R, W और B एक वृत्त के चारों ओर केंद्र की ओर मुख किये बैठे हैं। D, A के बाएं से चौथे स्थान पर बैठा है, जो M के दाएं से तीसरे स्थान पर है। P, Q के बाएं से तीसरे स्थान पर बैठा है जो M के बाएं से तीसरे स्थान पर है। R, W के दाएं से तीसरे स्थान पर बैठा है, जो B के दाएं से दूसरे स्थान पर है।

निम्न में से किस जोड़े में दूसरा व्यक्ति पहले व्यक्ति के तुरंत दाएं बैठा है?

Ans

1. QB

2. MD

3. RM

4. AB

Question ID : 9895808598
Chosen Option : 2

Q.1 3 दिए गए समीकरण को संतुलित करने के लिए '*' चिन्हों का स्थान लेने के लिए गणितीय चिन्हों के सही संयोजन का चयन करें।

$$530 + 2 + 3 + 5 + 800$$

Ans 1. $\div \times + =$

2. $\div + - =$

3. $\div - - =$

4. $+ + \times =$

Question ID : 9895808608
Chosen Option : 1

Q.1 4 उस विकल्प का चयन करें जो सही रूप में रिक्त स्थान की पूर्ति करते हुए श्रृंखला को पूरा करें।

2, 7, 5, 10, 8, 13, _____

Ans 1. 15

2. 9

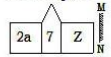
3. 38

4. 11

Question ID : 9895808603
Chosen Option : 4

Q.1 5 उस विकल्प का चयन करें जो दर्पण के दायीं ओर रखे जाने पर दी गई आकृति की दर्पण छवि से सर्वाधिक मेल खाता है।

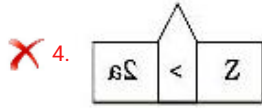
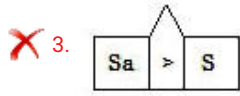
प्रश्न आकृति:



Ans

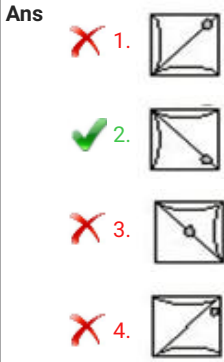
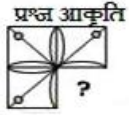
1.

2.



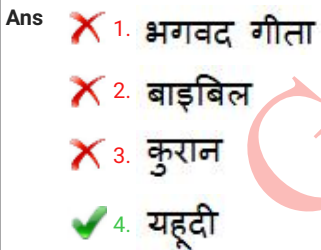
Question ID : 9895808612
Chosen Option : 1

Q.1
6 निम्नलिखित में से कौन सी उत्तर आकृति, दी गई आकृति को पूरा करेगी?



Question ID : 9895808610
Chosen Option : 2

Q.1
7 चार शब्द दिए गए हैं, जिनमें से तीन किसी तरह से समान हैं, जबकि एक अलग है। असंगत शब्द का चयन करें।



Question ID : 9895808592
Chosen Option : 4

Q.1
8 उस विकल्प आकृति का चयन करें, जिसमें प्रश्न आकृति छिपी हुई/ अंतर्निहित है।





Question ID : 9895808611

Chosen Option : 2

Q.1 नीचे दिए गए कथनों के बाद निष्कर्ष I, II, III और IV दिए गए हैं। यह मानते हुए कि कथनों में दी गई जानकारी सत्य है, भले ही वह सर्वज्ञात तथ्यों से भिन्न प्रतीत होती हो और यह निर्णय करें कि कौन सा/से निष्कर्ष तार्किक और निश्चित रूप से कथन में दी गई जानकारी का अनुसरण करता है/करते हैं।

कथन:

सभी आँख की पुतली, कॉर्निया हैं

कुछ कॉर्निया, लेंस हैं

सभी लेंस, रेटिना हैं

निष्कर्ष:

- I. कुछ रेटिना, कॉर्निया हैं
- II. कुछ रेटिना, आँख की पुतली हैं
- III. कुछ लेंस, आँख की पुतली हैं
- IV. कुछ कॉर्निया, रेटिना हैं

- Ans
- ✗ 1. कोई भी अनुसरण नहीं करता है।
- ✗ 2. केवल I और II अनुसरण करते हैं।
- ✓ 3. केवल I और IV अनुसरण करते हैं।
- ✗ 4. केवल III और IV अनुसरण करते हैं।

Question ID : 9895808601

Chosen Option : 1

Q.2 एक निश्चित कूट में, TIM को RGK के रूप में कूटबद्ध किया जाता है। उसी प्रकार से PAINE को कैसे कूटबद्ध किया जाता है?

- Ans
- ✗ 1. NYGCL
- ✓ 2. NYGLC
- ✗ 3. NGYCL
- ✗ 4. NGYLC

Question ID : 9895808596

Chosen Option : 2

Q.2
1 दिए गए विकल्पों में से संबंधित शब्द युगल का चयन करें।

सेल्सियस : तापमान : : _____ : _____

Ans

1. मीटर : पानी
 2. किलोमीटर : दूरी
 3. बल्ब : विद्युत प्रवाह
 4. बैंक नोट : कार्यालय

Question ID : 9895808594
Chosen Option : 2

Q.2 नीचे दिए गए कथनों के बाद दो निष्कर्ष I और II दिए गए हैं। यह मानते हुए कि कथनों में दी गई जानकारी सत्य है, भले ही वह सर्वज्ञात तथ्यों से भिन्न प्रतीत होती हो और यह निर्णय करें कि कौन सा/से निष्कर्ष तार्किक और निश्चित रूप से कथन में दी गई जानकारी का अनुसरण करता है/करते हैं।

कथन:

कुछ शर्ट, मोजे हैं।
कोई मोजा, लाल नहीं है।

निष्कर्ष:

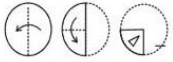
- I. कुछ मोजे, शर्ट हैं।
II. कोई शर्ट, लाल नहीं है।

- Ans 1. न निष्कर्ष I न II अनुसरण करता है
 2. या निष्कर्ष I या II अनुसरण करता है
 3. केवल निष्कर्ष I अनुसरण करता है
 4. केवल निष्कर्ष II अनुसरण करता है

Question ID : 9895808602
Chosen Option : 2

Q.2 नीचे दिए गए प्रश्न आकृति के अनुसार एक कागज़ को मोड़कर काटा जाता है। इस कागज़ को खोलने पर दी गयी उत्तर आकृतियों में से कौन सी आकृति दिखाई देगी?

प्रश्न आकृति:



- Ans 1.
 2.
 3.
 4.

Question ID : 9895808613
Chosen Option : 4

Q.2
4 उस विकल्प का चयन करें जो सही रूप में रिक्त स्थान की पूर्ति करते हुए श्रृंखला को पूरा करें।

0.3, 0.8, 2.3, 4.8, _____

- Ans
- 1. 8.3
 - 2. 6.5
 - 3. 7.3
 - 4. 7.5

Question ID : 9895808604
Chosen Option : 1

Q.2
5 उस विकल्प का चयन करें जो तीसरे पद से उसी तरह संबंधित है जिस प्रकार दूसरा पद पहले पद से संबंधित है।

ROSEBERRY: SEBERRYRO : BEAUTIFUL : ?

- Ans
- 1. AUTIFULBE
 - 2. TIFULBEAU
 - 3. UTIFULBEA
 - 4. EAUTIFULB

Question ID : 9895808595
Chosen Option : 1

Q.2
6 1997 में मिस वर्ल्ड का खिताब किसने जीता?

- Ans
- 1. डायना हेडन
 - 2. तारा ऐन फोन्सेका
 - 3. रीता फारिया
 - 4. जीनत अमान

Question ID : 9895807510
Chosen Option : 2

Q.2
7 निम्नलिखित में से कौन सी नदी कृष्णा की सहायक नदी नहीं है?

- Ans
- 1. भीमा
 - 2. वेन्ना
 - 3. कोयना
 - 4. बेतवा

Question ID : 9895807522
Chosen Option : 1

Q.2

8 आवर्त सारणी के 5 वें पीरियड और IIA समूह में किस तत्व को रखा गया है?

- Ans
- 1. टेल्यूरियम (क्रमांक 52वें पर)
 - 2. स्ट्रोंटियम (क्रमांक 38वें पर)
 - 3. बेरियम (क्रमांक 56वें पर)
 - 4. लेड (क्रमांक 82वें पर)

Question ID : 9895807519
Chosen Option : 4

Q.2 जोजी ला दर्रा किस पर्वत श्रृंखला में स्थित है?

- Ans
- 1. लद्दाख पर्वतमाला
 - 2. धौलाधार पर्वतमाला
 - 3. पूर्वी काराकोरम पर्वतमाला
 - 4. जांस्कर पर्वतमाला

Question ID : 9895807523
Chosen Option : 1

Q.3 भांगड़ा नृत्य किस राज्य में लोकप्रिय है?

- Ans
- 1. राजस्थान
 - 2. पुदुचेरी
 - 3. महाराष्ट्र
 - 4. पंजाब

Question ID : 9895807505
Chosen Option : 1

Q.3 _____ कंधे की त्रिकोणीय मांसपेशियां हैं।

- Ans
- 1. स्नायुजाल
 - 2. अंसच्छद पेशी (डेल्टॉइडस)
 - 3. सार्टोरियस
 - 4. चर्वणिका

Question ID : 9895807521
Chosen Option : 2

Q.3 अशोक के शिलालेखों में किस लिपि के सबसे अच्छे उदाहरण मिलते हैं?

- Ans
- 1. कदंब

- 2. ब्राहमी
- 3. ग्रंथ
- 4. शारदा

Question ID : 9895807503
Chosen Option : 2

Q.3 किस मिश्र धातु में निकेल, तांबा और जस्ता होते हैं?

- Ans
- 1. जर्मन सिल्वर
 - 2. टांका (सोल्डर)
 - 3. बेल मेटल
 - 4. रोज मेटल

Question ID : 9895807520
Chosen Option : 2

Q.3 मुगल सेना के खिलाफ लड़ते हुए सिंहगढ़ किले के सफल बचाव में किस मराठा योद्धा की मृत्यु हुई थी?

- Ans
- 1. चिमाजी अप्पा
 - 2. बाजी पसालकर
 - 3. तानाजी मालुसरे
 - 4. बाजी प्रभु देशपांडे

Question ID : 9895807527
Chosen Option : 1

Q.3 केंद्रीय बजट 2018 में _____ को ₹ 5,750 करोड़ आवंटित किए गए।

- Ans
- 1. राष्ट्रीय आजीविका मिशन
 - 2. ऑपरेशन ग्रीन
 - 3. सौभाग्य योजना
 - 4. उज्ज्वला योजना

Question ID : 9895807512
Chosen Option : 4

Q.3 छत्तीसगढ़ में कौन सा आदिवासी त्योहार आदिवासियों की देवी केशरपाल केशरपालिन को समर्पित है?

- Ans
- 1. मिंजर
 - 2. सरहुल
 - 3. पुली काली

✓ 4. मदाई

Question ID : 9895807504
Chosen Option : 3

Q.3 कर्नाटक के राष्ट्रकूट वंश का पहला और सबसे महत्वपूर्ण राजा कौन था, जिसने बादामी के चालुक्यों को हराया था?

- Ans
- ✗ 1. बिन्दुसार
 - ✓ 2. दंतिदुर्ग
 - ✗ 3. हरिहर ।
 - ✗ 4. उत्तम

Question ID : 9895807525
Chosen Option : 3

Q.3 काकोरी षडयंत्र केस के लिए किन स्वतंत्रता सेनानियों को फांसी दी गई थी?

- Ans
- ✗ 1. चितरंजन दास और वासुदेव बलवंत फड़के
 - ✗ 2. कृष्णजी गोपाल कर्वे और बाघा जतिन
 - ✗ 3. खुदीराम बोस और चंद्रशेखर आज़ाद
 - ✓ 4. राम प्रसाद बिस्मिल और अशफाकउल्ला खान

Question ID : 9895807526
Chosen Option : 1

Q.3 किस राजनैतिक पार्टी का चुनाव चिह्न 'हाथी' है?

- Ans
- ✗ 1. राष्ट्रीय जनता दल
 - ✗ 2. भारतीय कम्युनिस्ट पार्टी
 - ✓ 3. बहुजन समाज पार्टी
 - ✗ 4. राष्ट्रीय कांग्रेस पार्टी

Question ID : 9895807516
Chosen Option : 3

Q.4 भारत में नवंबर 2018 के अंत में म्यूचुअल फंड का आस्ति आधार _____ था।

- Ans
- ✗ 1. ₹ 47 लाख करोड़
 - ✗ 2. ₹ 31 लाख करोड़
 - ✓ 3. ₹ 24 लाख करोड़
 - ✗ 4. ₹ 19 लाख करोड़

Question ID : 9895807511

Chosen Option : 2

Q.4
1 उपसर्ग ' _____ ' 10^{15} के गुणक के बराबर है।

- Ans
- 1. peta
 - 2. exa
 - 3. femto
 - 4. atto

Question ID : 9895807518

Chosen Option : 1

Q.4
2 _____ को छोड़कर निम्न सभी भाई- बहनों को दादा साहब फालके पुरस्कार मिला।

- Ans
- 1. लता मंगेशकर और आशा भोसले
 - 2. बी आर चोपड़ा और यश चोपड़ा
 - 3. राज कपूर और शशि कपूर
 - 4. महेश भट्ट और विक्रम भट्ट

Question ID : 9895807508

Chosen Option : 1

Q.4
3 एक साधारण पेंडुलम 'T' की अवधि और उसकी लंबाई 'L' के बीच का संबंध _____ है। ('g' गुरुत्वाकर्षण के कारण त्वरण है)

- Ans
- 1. $T=2\pi \sqrt{(g/L)}$
 - 2. $T=4\pi \sqrt{(L/g)}$
 - 3. $T=2\pi \sqrt{(L/g)}$
 - 4. $T=4\pi \sqrt{(g/L)}$

Question ID : 9895807517

Chosen Option : 1

Q.4
4 मंगल ग्रह के वातावरण में अधिक मात्रा _____ की है।

- Ans
- 1. हाइड्रोजन
 - 2. अमोनिया
 - 3. ऑक्सीजन
 - 4. कार्बन डाइऑक्साइड

Question ID : 9895807524

Chosen Option : 1

Q.4

5 भारत के संविधान में व्यापार की स्वतंत्रता की अवधारणा किस देश के संविधान से ली गई है?

Ans

- 1. ऑस्ट्रेलिया
- 2. यूनाइटेड किंगडम
- 3. संयुक्त राज्य अमेरिका
- 4. आयरलैंड

Question ID : 9895807514
Chosen Option : 2

Q.4 संविधान के किस संशोधन से बोडो, डोगरी, संथाली और मैथिली को मान्यता प्राप्त भाषाओं की सूची में जोड़ा गया?

6

Ans

- 1. 103 वां संविधान संशोधन अधिनियम, 2018
- 2. 92 वां संविधान संशोधन अधिनियम 2003
- 3. 101 वां संविधान संशोधन अधिनियम, 2016
- 4. 73 वां संविधान संशोधन अधिनियम 2003

Question ID : 9895807515
Chosen Option : 2

Q.4 2018 एशियाई खेलों में किस भारतीय ने 50 kg महिला फ्रीस्टाइल कुश्ती में स्वर्ण पदक जीता?

7

Ans

- 1. साक्षी मलिक
- 2. विनेश फोगट
- 3. कविता देवी
- 4. बबिता कुमारी

Question ID : 9895807506
Chosen Option : 1

Q.4 'ब्योमकेश बखशी स्टोरीज' के लेखक कौन हैं?

8

Ans

- 1. शरादिंदु बंदोपाध्याय
- 2. डेविड डेविडर
- 3. सत्यजीत रे
- 4. ऋत्विक् घाटक

Question ID : 9895807509
Chosen Option : 3

Q.4 2018-19 में मध्यम स्टेपल किस्म के कपास का न्यूनतम समर्थन मूल्य कितना निर्धारित किया गया है?

9

Ans

- 1. ₹ 2,430 प्रति क्विंटल

✓ 2. ₹ 5,150 प्रति क्विंटल

✗ 3. ₹ 1,950 प्रति क्विंटल

✗ 4. ₹ 2,897 प्रति क्विंटल

Question ID : 9895807513
Chosen Option : 4

Q.5 भारत ने फाइनल में किस देश की टीम को हराकर अंडर 19 क्रिकेट विश्व कप, 2018 जीता?

Ans ✓ 1. ऑस्ट्रेलिया

✗ 2. दक्षिण अफ्रीका

✗ 3. पाकिस्तान

✗ 4. इंग्लैंड

Question ID : 9895807507
Chosen Option : 1

Q.5 ₹ 10000 रुपये की राशि को एक भाग को 8% और शेष को 10% प्रति वर्ष की दर से उधार दिया जाता है। यदि औसतन वार्षिक ब्याज 9.2% है, तो दोनों भाग कितने हैं?

Ans ✗ 1. ₹ 5000 और ₹ 5000

✗ 2. ₹ 4500 और ₹ 5500

✓ 3. ₹ 4000 और ₹ 6000

✗ 4. ₹ 5500 और ₹ 4500

Question ID : 9895807841
Chosen Option : 1

Q.5 निम्नलिखित प्रश्नों में प्रश्नवाचक चिन्ह (?) के स्थान पर क्या आना चाहिए?
 $(140 + 80 \times 2 - 24) \div (80 + 20 \times 3 - 40) = ?$

Ans ✓ 1. 2.76

✗ 2. 276

✗ 3. 0.276

✗ 4. -27.6

Question ID : 9895807830
Chosen Option : 1

Q.5 $\frac{1}{3} + \frac{6}{7} \div \frac{6}{3} + \frac{8}{9} - \frac{2}{3} \times \frac{4}{3}$ का मान क्या है?

Ans ✗ 1. $\frac{17}{21}$

✓ 2. $\frac{16}{21}$

✗ 3. $\frac{15}{21}$

✗ 4. $\frac{9}{21}$

Question ID : 9895807829
Chosen Option : 2

Q.5 10 प्रतिशत की चक्रवृद्धि ब्याज दर पर 2 वर्ष के लिए ₹ 5000 की एक राशि निवेश की गई और ब्याज वार्षिकी संयोजित होता है। अर्जित ब्याज (₹ में) कितना है?

Ans ✓ 1. 1050
✗ 2. 1000
✗ 3. 500
✗ 4. 2100

Question ID : 9895807842
Chosen Option : 1

Q.5 यदि कोई आदमी घास- मैदान (लॉन) की घास को T मिनट में काटता है, तो वह 30 मिनट में घास का मैदान का कितना हिस्सा काट सकता है?

Ans ✗ 1. T/30
✓ 2. 30/T
✗ 3. 30-T
✗ 4. T-30

Question ID : 9895807844
Chosen Option : 1

Q.5 एक बाइक की अंकित कीमत ₹ 33,600 है। खुदरा विक्रेता ने होली के अवसर पर 16% की छूट की घोषणा की। बाइक के लिए ग्राहक को कितनी राशि देनी होगी?

Ans ✗ 1. ₹ 20224
✗ 2. ₹ 5376
✓ 3. ₹ 28224
✗ 4. ₹ 5976

Question ID : 9895807833
Chosen Option : 3

Q.5 एक व्यक्ति को 20 मीटर कपड़ा बेचने पर 4 मीटर कपड़े के बिक्री मूल्य के बराबर लाभ प्राप्त होता है। लाभ प्रतिशत कितना है?

Ans

1. 20%

2. 25%

3. 15%

4. 22%

Question ID : 9895807837
Chosen Option : 3

Q.5 विराट कोहली का 9 पारियो में एक निश्चित बैटिंग औसत है। दसवीं पारी में उन्होंने 106 रन बनाये जिससे उनका औसत 6 रन बढ़ गया। उनका नया बैटिंग औसत क्या है?:

Ans 1. 56

2. 48

3. 46

4. 52

Question ID : 9895807831
Chosen Option : 1

Q.5 एक व्यक्ति 50 मीटर लंबाई और 1 मीटर चौड़ाई का रेशमी कपड़ा ₹ 250 प्रति sq m की दर से खरीदता है और और 40 मीटर लंबाई और 2 मीटर चौड़ाई का सूती कपड़ा ₹ 200 प्रति वर्ग मीटर की दर से खरीदता है। दोनों कपड़ों की कीमतों में अंतर क्या है?

Ans 1. ₹ 4100

2. ₹ 3200

3. ₹ 3500

4. ₹ 3950

Question ID : 9895807847
Chosen Option : 1

Q.6 एक घनाभ का आधार क्षेत्रफल 34 cm सेमी है और ऊंचाई 3.5 सेमी है। घनाभ का आयतन कितना है?

Ans 1. 125 सेमी³

2. 119 सेमी³

3. 97 सेमी³

4. 108 सेमी³

Question ID : 9895807848
Chosen Option : 3

Q.6
1

निम्नलिखित प्रश्नों का उत्तर देने के लिए तालिका का ध्यान पूर्वक अध्ययन करें।

100 में से तीन विषयों में तीन छात्रों A, B एवं C द्वारा प्राप्त अंक			
छात्र	विषय		
	गणित	विज्ञान	अंग्रेजी
A	88	86	66
B	65	74	78
C	72	68	84

सभी विषयों को मिलाकर 'A' द्वारा कुल प्राप्तांक कितना है?

- Ans
- 1. 260
 - 2. 240
 - 3. 228
 - 4. 242

Question ID : 9895807851

Chosen Option : 2

Q.6 एक पाइप 20 मिनट में एक टंकी को भर सकता है जब की यह टंकी पूरी तरह भरी हो तब एक रिसाव से 28 मिनट में पूरी तरह से खाली हो जाती है। जब दोनों एक साथ खोल दिए जाए तो टंकी को भरने में कितना समय लगेगा?

- Ans
- 1. 80 मिनट
 - 2. 70 मिनट
 - 3. 48 मिनट
 - 4. 60 मिनट

Question ID : 9895807843

Chosen Option : 2

Q.6 3, 7 और 15 का चतुर्थानुपाती क्या है?

- Ans
- 1. 45
 - 2. 30
 - 3. 35
 - 4. 25

Question ID : 9895807839

Chosen Option : 4

Q.6 यदि आयत की लंबाई 4 : 5 के अनुपात में बढ़ जाती है और इसकी चौड़ाई 3 : 2 के अनुपात में कम हो जाती है, तो इसका क्षेत्रफल _____ के अनुपात में घट जाएगा।

- Ans
- 1. 6 : 5
 - 2. 2 : 1
 - 3. 10 : 3
 - 4. 4 : 3

Question ID : 9895807849
Chosen Option : 1

Q.6 एक पासा दो बार फेंका जाता है। पहले फेंक पर एक संयुक्त संख्या और दूसरे फेंक पर अभाज्य संख्या प्राप्त करने की प्रायिकता क्या होगी?

- Ans
- 1. $\frac{1}{2}$
 - 2. $\frac{1}{9}$
 - 3. $\frac{1}{4}$
 - 4. $\frac{1}{6}$

Question ID : 9895807834
Chosen Option : 1

Q.6 यदि $\frac{a}{b} = \frac{2}{3}$, तो $(5a^3 - 2a^2b) : (3ab^2 - b^3)$ का मान क्या है?

- Ans
- 1. 34 : 19
 - 2. 16 : 27
 - 3. 27 : 16
 - 4. 32 : 29

Question ID : 9895807840
Chosen Option : 2

Q.6 $\frac{10}{21}, \frac{20}{63}, \frac{55}{56}$ का लघुत्तम समापवर्त्य क्या है?

- Ans
- 1. $\frac{5}{504}$
 - 2. $\frac{5}{7}$
 - 3. $\frac{220}{504}$
 - 4. $\frac{220}{7}$

Question ID : 9895807828

Q.6
8 राम कुछ वस्तुएँ 70 की दर पर ₹ 890 में खरीद कर 60 की दर पर ₹ 890 में बेच देता है। उसका प्रतिशत लाभ क्या है?

Ans

1. 25%
2. 20%
3. $16\frac{2}{3}\%$
4. $17\frac{1}{3}\%$

Question ID : 9895807836

Chosen Option : 3

Q.6
9 एक ट्रेन 18 सेकंड में प्लेटफॉर्म को और 8 सेकंड में एक आदमी को पार करती है, जो प्लेटफॉर्म पर खड़ा है। यदि ट्रेन की लंबाई 100 मीटर है, तो प्लेटफॉर्म की लंबाई कितनी होगी?

Ans

1. 150 m
2. 125 m
3. 130 m
4. 140 m

Question ID : 9895807845

Chosen Option : 1

Q.7
0 निम्नलिखित प्रश्नों का उत्तर देने के लिए तालिका का ध्यान पूर्वक अध्ययन करें।

100 में से तीन विषयों में तीन छात्रों A, B एवं C द्वारा प्राप्त अंक			
छात्र	विषय		
	गणित	विज्ञान	अंग्रेजी
A	88	86	66
B	65	74	78
C	72	68	84

सभी छात्रों के द्वारा गणित में प्राप्त अंको का औसत क्या है?

Ans

1. 79
2. 87
3. 75
4. 81

Question ID : 9895807850

Chosen Option : 3

Q.7 एक विशेष प्रयोग में शामिल चूहों में से साठ प्रतिशत मादा थी। यदि प्रयोग के दौरान कुछ चूहें मर जाते हैं और मरने वाले चूहों में से 30% नर थे। पुरुष चूहों के मृत्यु दर तथा मादा चूहों के मृत्यु दर के बीच का अनुपात क्या था?

- Ans
- 1. 3 : 4
 - 2. 9 : 16
 - 3. 9 : 14
 - 4. 6 : 7

Question ID : 9895807835

Chosen Option : 1

Q.7 जॉन एक निश्चित दूरी का $\frac{2}{3}$ वां भाग बाइक से यात्रा करता है और शेष 6 किमी पैदल चलता है। पूरी यात्रा में वह कितने किमी की दूरी तय करता है?

- Ans
- 1. 18 km
 - 2. 28 km
 - 3. 14 km
 - 4. 26 km

Question ID : 9895807846

Chosen Option : 3

Q.7 भोपाल से वाराणसी तक जाने की ट्रेन की चाल 100 किमी प्रति घंटे है जबकि वाराणसी से भोपाल लौटते समय, उसकी चाल 80 किमी प्रति घंटे है। पूरी यात्रा के दौरान औसत गति कितनी है? (दशमलव के दो स्थानों तक)

- Ans
- 1. 78.56 kmph
 - 2. 88.89 kmph
 - 3. 86.53 kmph
 - 4. 90.52 kmph

Question ID : 9895807832

Chosen Option : 3

Q.7 एक किराना व्यापारी को ₹ 45 प्रति किग्रा. के बाजरे को ₹ 32 प्रति किग्रा. के बाजरे में किस अनुपात में मिलाना चाहिए ताकि मिश्रण को ₹ 48 प्रति किग्रा की दर से बेचने पर उसे 20% का लाभ प्राप्त हो सके?

- Ans
- 1. 9 : 5
 - 2. 4 : 1
 - 3. 7 : 5
 - 4. 8 : 5

Question ID : 9895807838

Chosen Option : 3

Q.7
5 निम्नलिखित प्रश्नों का उत्तर देने के लिए तालिका का ध्यान पूर्वक अध्ययन करें।

100 में से तीन विषयों में तीन छात्रों A, B एवं C द्वारा प्राप्त अंक			
छात्र	विषय		
	गणित	विज्ञान	अंग्रेजी
A	88	86	66
B	65	74	78
C	72	68	84

परीक्षा में A और C के कुल अंको का अंतर कितना है?

- Ans
- 1. 15
 - 2. 22
 - 3. 13
 - 4. 16

Question ID : 9895807852
Chosen Option : 4

Section : English Language

Q.1 Select the wrongly spelt word.

- Ans
- 1. Surely
 - 2. Scenary
 - 3. Secretary
 - 4. Sergeant

Question ID : 9895808737
Chosen Option : --

Q.2 Select the most appropriate word to fill in the blank.

Among the _____ kinds, the most common ant is black or red.

- Ans
- 1. separate
 - 2. much
 - 3. various
 - 4. lots of

Question ID : 9895808721
Chosen Option : --

Q.3

Select the synonym of the given word.

MADNESS

- Ans
- 1. Stability
 - 2. Wisdom
 - 3. Insanity
 - 4. Balance

Question ID : 9895808730
Chosen Option : --

Q.4 Select the word which means the same as the group of words given.

A person who is recovering after an illness or medical treatment

- Ans
- 1. Healthy
 - 2. Altruist
 - 3. Convalescent
 - 4. Athlete

Question ID : 9895808736
Chosen Option : --

Q.5 Identify the segment in the sentence which contains the grammatical error from the given options.

The thin wire that giving off light is called the filament.

- Ans
- 1. the filament
 - 2. giving off
 - 3. light is called
 - 4. The thin wire

Question ID : 9895808716
Chosen Option : --

Q.6 Select the wrongly spelt word.

- Ans
- 1. Committee
 - 2. Completely
 - 3. Corruption
 - 4. Concious

Question ID : 9895808738
Chosen Option : --

Q.7

Select the most appropriate option to substitute the underlined segment in the given sentence. If there is no need to substitute it, select No substitution required.

Tea leaves is separate from the liquid with a strainer, while preparing tea.

- Ans
- 1. were separating to
 - 2. are separated from
 - 3. No substitution required
 - 4. was separate to

Question ID : 9895808720
Chosen Option : --

Q.8 Select the most appropriate word to fill in the blank.

This seems to be a _____ rifle.

- Ans
- 1. soldier's
 - 2. soldiers
 - 3. soldier'
 - 4. soldier

Question ID : 9895808722
Chosen Option : --

Q.9 Select the antonym of the given word.

RELUCTANT

- Ans
- 1. Willing
 - 2. Unwilling
 - 3. Opposed
 - 4. Unenthusiastic

Question ID : 9895808732
Chosen Option : --

Q.10 Select the antonym of the given word.

LAMENT

- Ans
- 1. Grieve
 - 2. Regret
 - 3. Rejoice
 - 4. Mourn

Question ID : 9895808731
Chosen Option : --

Q.1
1 Select the word which means the same as the group of words given.

Someone who wishes to destroy the existing government and laws

- Ans
- 1. Hermit
 - 2. Pacifist
 - 3. Anarchist
 - 4. Patriot

Question ID : 9895808735
Chosen Option : --

Q.1
2 Select the meaning of the given idiom.

Cool as Cucumber

- Ans
- 1. to be clever
 - 2. to be calm
 - 3. to be smart
 - 4. to be aggressive

Question ID : 9895808733
Chosen Option : --

Q.1
3 Select the most appropriate option to substitute the underlined segment in the given sentence. If there is no need to substitute it, select No substitution required.

The two sisters look quite different in each other.

- Ans
- 1. different as each other
 - 2. No substitution required
 - 3. different with one another
 - 4. different from each other

Question ID : 9895808719
Chosen Option : --

Q.1
4 Identify the segment in the sentence which contains the grammatical error from the given options.

Seeds of mustard plants give us oil and the leave are used as a vegetable.

- Ans
- 1. leave are used
 - 2. as a vegetable
 - 3. give us oil
 - 4. Seeds of

Question ID : 9895808715
Chosen Option : --

Q.1
5

Select the most appropriate word to fill in the blank.

The _____ of the minister's statement cannot be verified by people who have no access to official records.

- Ans
- 1. ambiguity
 - 2. validity
 - 3. rejection
 - 4. approval

Question ID : 9895808740
Chosen Option : --

Q.1
6 Select the meaning of the given idiom.

Bring to one's knees

- Ans
- 1. to support someone
 - 2. to trouble someone
 - 3. to request to bend
 - 4. to force to submit

Question ID : 9895808734
Chosen Option : --

Q.1
7 Select the most appropriate option to substitute the underlined segment in the given sentence. If there is no need to substitute it, select No substitution required.

Our meals usually have at least one item make of some kinds of grain.

- Ans
- 1. making of any kinds
 - 2. makes of kind
 - 3. No substitution required
 - 4. made of some kind

Question ID : 9895808718
Chosen Option : --

Q.1
8 Select the synonym of the given word.

LUCID

- Ans
- 1. Confusing
 - 2. Ambiguous
 - 3. Clear
 - 4. Unclear

Question ID : 9895808729
Chosen Option : --

Q.1
9

Select the most appropriate word to fill in the blank.

I was astounded at his _____ knowledge about the continent of Africa.

- Ans
- 1. Colossal
 - 2. Massive
 - 3. Grave
 - 4. Vast

Question ID : 9895808739
Chosen Option : --

Q.2 Identify the segment in the sentence which contains the grammatical error from the given options.

0

The jute plant is normal harvested when it is at flowering stage.

- Ans
- 1. when it is
 - 2. The jute plant
 - 3. flowering
 - 4. is normal

Question ID : 9895808717
Chosen Option : --

Comprehension:

In the following passage some words have been deleted. Fill in the blanks with the help of the alternatives given. Select the most appropriate option for each number.

Those of us who live in (1) _____ covered with forests and surrounded (2) _____ hills may find it difficult to (3) _____ what a desert is really like. The (4) _____ belief is that it is (5) _____ endless stretch of sand where no rain falls and, therefore, no vegetation grows.

SubQuestion No : 21

Q.2
1 Select the most appropriate option that will fill in the blank number 1.

- Ans
- 1. cities
 - 2. quarters
 - 3. territory
 - 4. regions

Question ID : 9895808724
Chosen Option : --

Comprehension:

In the following passage some words have been deleted. Fill in the blanks with the help of the alternatives given. Select the most appropriate option for each number.

Those of us who live in (1) _____ covered with forests and surrounded (2) _____ hills may find it difficult to (3) _____ what a desert is really like. The (4) _____ belief is that it is (5) _____ endless stretch of sand where no rain falls and, therefore, no vegetation grows.

SubQuestion No : 22

Q.2
2 Select the most appropriate option that will fill in the blank number 2.

- Ans
- 1. from
 - 2. with
 - 3. for
 - 4. by

Question ID : 9895808725
Chosen Option : --

Comprehension:

In the following passage some words have been deleted. Fill in the blanks with the help of the alternatives given. Select the most appropriate option for each number.

Those of us who live in (1) _____ covered with forests and surrounded (2) _____ hills may find it difficult to (3) _____ what a desert is really like. The (4) _____ belief is that it is (5) _____ endless stretch of sand where no rain falls and, therefore, no vegetation grows.

SubQuestion No : 23

Q.2
3 Select the most appropriate option that will fill in the blank number 3.

- Ans
- 1. calculate
 - 2. feel
 - 3. imagine
 - 4. look

Question ID : 9895808726
Chosen Option : --

Comprehension:

In the following passage some words have been deleted. Fill in the blanks with the help of the alternatives given. Select the most appropriate option for each number.

Those of us who live in (1) _____ covered with forests and surrounded (2) _____ hills may find it difficult to (3) _____ what a desert is really like. The (4) _____ belief is that it is (5) _____ endless stretch of sand where no rain falls and, therefore, no vegetation grows.

SubQuestion No : 24

Q.2
4 Select the most appropriate option that will fill in the blank number 4.

- Ans
- 1. attractive
 - 2. noted
 - 3. fake
 - 4. popular

Question ID : 9895808727
Chosen Option : --

Comprehension:

In the following passage some words have been deleted. Fill in the blanks with the help of the alternatives given. Select the most appropriate option for each number.

Those of us who live in (1) _____ covered with forests and surrounded (2) _____ hills may find it difficult to (3) _____ what a desert is really like. The (4) _____ belief is that it is (5) _____ endless stretch of sand where no rain falls and, therefore, no vegetation grows.

SubQuestion No : 25

Q.2
5 Select the most appropriate option that will fill in the blank number 5.

- Ans
- 1. no article needed
 - 2. a
 - 3. an
 - 4. the

Question ID : 9895808728
Chosen Option : --

Section : Hindi Language

Q.1 रिक्त स्थान को भरने के लिए उपयुक्त शब्द का चयन करें।

एक विद्वान ने परीक्षा की _____ आग से की है।

Ans

- 1. तुल्य
- 2. तुलना
- 3. अपेक्षा
- 4. उपेक्षा

Question ID : 9895806950
Chosen Option : 2

Q.2 रिक्त स्थान को भरने के लिए उपयुक्त शब्द का चयन करें।

लगता है आज _____ होगी।

- Ans
- 1. सूर्य
 - 2. वर्षा
 - 3. दिन
 - 4. बादल

Question ID : 9895806952
Chosen Option : 2

Q.3 रिक्त स्थान को भरने के लिए उपयुक्त शब्द का चयन करें।

आजकल चोरों _____ गिरोह सक्रिय है।

- Ans
- 1. को
 - 2. का
 - 3. से
 - 4. पर

Question ID : 9895806949
Chosen Option : 2

Q.4 दिये गये वाक्यांश के लिए एक शब्द दीजिये।

रास्ता दिखाने वाला

- Ans
- 1. राहपथिक
 - 2. समदर्शी
 - 3. मार्गदर्शक
 - 4. दूरदर्शी

Question ID : 9895806965
Chosen Option : 1

Q.5 दिए गए वाक्य में रेखांकित खंड को प्रतिस्थापित करने के लिए उपयुक्त विकल्प का चयन करें।

जीवन में उन्नति चाहते हो तो परिश्रम करो।

- Ans
- 1. उच्चता
 - 2. अग्रसर
 - 3. अग्रगण्य
 - 4. विकास

Question ID : 9895806946
Chosen Option : 4

Q.6 'डकार जाना' मुहावरे का अर्थ है-

- Ans
- 1. हानि उठाना
 - 2. हड़प लेना
 - 3. खुलेआम कहना
 - 4. कठिन काम

Question ID : 9895806964
Chosen Option : 2

Q.7 'शाश्वत' का विलोम शब्द है-

- Ans
- 1. क्षणिक
 - 2. स्वस्थ
 - 3. अस्थायी
 - 4. चिरंतन

Question ID : 9895806959
Chosen Option : 2

Q.8 दिए गए वाक्य में रेखांकित खंड को प्रतिस्थापित करने के लिए उपयुक्त विकल्प का चयन करें।

उसकी शिकायत पूर्णतया सही थी।

- Ans
- 1. प्रतिशब्द
 - 2. अक्षरशः
 - 3. अधिकतम
 - 4. लगभग

Question ID : 9895806947
Chosen Option : 2

Q.9 दिए गए शब्द के पर्यायवाची शब्द का चयन करें।

विपत्ति

- Ans
- 1. जटा
 - 2. कष्ट
 - 3. जटिल
 - 4. मुसीबत

Question ID : 9895806962
Chosen Option : 4

Q.1
0 दिए गए शब्द का विलोम चुनें।

मांसाहारी

- Ans
- 1. निरंकारी
 - 2. निराहार
 - 3. शाकाहारी
 - 4. बलिहारी

Question ID : 9895806960
Chosen Option : 3

Q.1
1 सही वर्तनी वाले शब्द का चयन करें।

- Ans
- 1. दीवस
 - 2. दिवस
 - 3. दीवास
 - 4. दिवश

Question ID : 9895806968
Chosen Option : 2

Q.1
2 दिये गये वाक्यांश के लिए एक शब्द दीजिये।

तीव्र बुद्धि वाला

- Ans
- 1. कुशाग्रबुद्धि
 - 2. दुर्बुद्धि
 - 3. मंदबुद्धि
 - 4. अल्पबुद्धि

Question ID : 9895806966
Chosen Option : 1

Q.1

3 'अठखेलियाँ सूझना' मुहावरे का अर्थ है-

- Ans
- 1. मजाक उड़ाना
 - 2. दिल्लगी करना
 - 3. ईर्ष्या करना
 - 4. व्यंग्य करना

Question ID : 9895806963
Chosen Option : 2

Q.1 दिए गए वाक्य में रेखांकित खंड को प्रतिस्थापित करने के लिए उपयुक्त विकल्प का चयन करें।

जिसने मन रूपी मतवाले हाथी को वश में कर लिया वही सच्चा शूरवीर है।

- Ans
- 1. आकुल
 - 2. उद्विग्न
 - 3. व्याकुल
 - 4. मदमस्त

Question ID : 9895806948
Chosen Option : 3

Q.1 दिए गए वाक्य का वह भाग ज्ञात करें जिसमें कोई त्रुटि है।

श्याम की खराब स्थिति को देखकर मुझे दुःख और क्षोभ हुए।

- Ans
- 1. खराब स्थिति को देखकर
 - 2. और क्षोभ हुए।
 - 3. मुझे दुःख
 - 4. श्याम की

Question ID : 9895806944
Chosen Option : 2

Q.1 दिए गए वाक्य का वह भाग ज्ञात करें जिसमें कोई त्रुटि है।

यदि आप अपनी और अपनी परिवार की भलाई चाहते हो तो यहाँ से चले जाओ।

- Ans
- 1. भलाई चाहते हो
 - 2. और अपनी परिवार की
 - 3. तो यहाँ से चले जाओ।
 - 4. यदि आप अपनी

Question ID : 9895806945

Q.1
7 दिए गए शब्द के पर्यायवाची शब्द का चयन करें।

खग

- Ans
- 1. पक्षी
 - 2. पशु
 - 3. तोता
 - 4. कबूतर

Question ID : 9895806961

Chosen Option : 1

Q.1
8 सही वर्तनी वाले शब्द का चयन करें।

- Ans
- 1. सक्षर
 - 2. साक्षर
 - 3. साक्षार
 - 4. शाक्षर

Question ID : 9895806967

Chosen Option : 2

Q.1
9 रिक्त स्थान को भरने के लिए उपयुक्त शब्द का चयन करें।

मैं पौधे _____ रहा हूँ।

- Ans
- 1. जगा
 - 2. खा
 - 3. भगा
 - 4. लगा

Question ID : 9895806951

Chosen Option : 4

Q.2
0 दिए गए वाक्य का वह भाग ज्ञात करें जिसमें कोई त्रुटि है।

कक्षा के सभी छात्र गुरु जी की आदर करते हैं।

- Ans
- 1. करते हैं।
 - 2. सभी छात्र
 - 3. गुरु जी की आदर
 - 4. कक्षा के

Question ID : 9895806943

Comprehension:

निम्नलिखित गद्यांश के रिक्त स्थानों की पूर्ति गद्यांश के नीचे दिए गए प्रश्नों के अनुसार कीजिए-

किताबें हमारी सबसे अच्छी _____ (1) हैं। किताबें आत्मा और मन के लिए भोजन हैं। पुस्तकें हमारे दुखों में हमें _____ (2) दे सकती हैं और जीवन की चिंताओं को भूलने में मदद कर सकती हैं। ये जीवन में _____ (3) का रहस्य सिखाती हैं। ये जीवन के अंधेरे में _____ (4) दिखाती हैं। ये हमें सिखाती हैं कि बुराई पर अच्छाई की _____ (5) होती है।

SubQuestion No : 21

Q.2
1 गद्यांश में संकेतित रिक्त स्थान (1) के लिए उपयुक्त शब्द होगा।

- Ans
- 1. सहकर्मी
 - 2. सहपाठी
 - 3. दुश्मन
 - 4. दोस्त

Question ID : 9895806954

Chosen Option : 2

Comprehension:

निम्नलिखित गद्यांश के रिक्त स्थानों की पूर्ति गद्यांश के नीचे दिए गए प्रश्नों के अनुसार कीजिए-

किताबें हमारी सबसे अच्छी _____ (1) हैं। किताबें आत्मा और मन के लिए भोजन हैं। पुस्तकें हमारे दुखों में हमें _____ (2) दे सकती हैं और जीवन की चिंताओं को भूलने में मदद कर सकती हैं। ये जीवन में _____ (3) का रहस्य सिखाती हैं। ये जीवन के अंधेरे में _____ (4) दिखाती हैं। ये हमें सिखाती हैं कि बुराई पर अच्छाई की _____ (5) होती है।

SubQuestion No : 22

Q.2
2 गद्यांश में संकेतित रिक्त स्थान (2) के लिए उपयुक्त शब्द होगा।

- Ans
- 1. अशांति
 - 2. वेदना
 - 3. तकलीफ

✓ 4. सांत्वना

Question ID : 9895806955
Chosen Option : 4

Comprehension:

निम्नलिखित गद्यांश के रिक्त स्थानों की पूर्ति गद्यांश के नीचे दिए गए प्रश्नों के अनुसार कीजिए-

किताबें हमारी सबसे अच्छी _____ (1) हैं। किताबें आत्मा और मन के लिए भोजन हैं। पुस्तकें हमारे दुखों में हमें _____ (2) दे सकती हैं और जीवन की चिंताओं को भूलने में मदद कर सकती हैं। ये जीवन में _____ (3) का रहस्य सिखाती हैं। ये जीवन के अंधेरे में _____ (4) दिखाती हैं। ये हमें सिखाती हैं कि बुराई पर अच्छाई की _____ (5) होती है।

SubQuestion No : 23

Q.2
3 गद्यांश में संकेतित रिक्त स्थान (3) के लिए उपयुक्त शब्द होगा।

- Ans
- ✗ 1. निष्फलता
 - ✗ 2. विफलता
 - ✓ 3. सफलता
 - ✗ 4. दरिद्रता

Question ID : 9895806956
Chosen Option : 3

Comprehension:

निम्नलिखित गद्यांश के रिक्त स्थानों की पूर्ति गद्यांश के नीचे दिए गए प्रश्नों के अनुसार कीजिए-

किताबें हमारी सबसे अच्छी _____ (1) हैं। किताबें आत्मा और मन के लिए भोजन हैं। पुस्तकें हमारे दुखों में हमें _____ (2) दे सकती हैं और जीवन की चिंताओं को भूलने में मदद कर सकती हैं। ये जीवन में _____ (3) का रहस्य सिखाती हैं। ये जीवन के अंधेरे में _____ (4) दिखाती हैं। ये हमें सिखाती हैं कि बुराई पर अच्छाई की _____ (5) होती है।

SubQuestion No : 24

Q.2
4 गद्यांश में संकेतित रिक्त स्थान (4) के लिए उपयुक्त शब्द होगा।

- Ans
- ✗ 1. भय
 - ✗ 2. आशंका

✓ 3. रोशनी

✗ 4. भ्रम

Question ID : 9895806957
Chosen Option : 3

Comprehension:

निम्नलिखित गद्यांश के रिक्त स्थानों की पूर्ति गद्यांश के नीचे दिए गए प्रश्नों के अनुसार कीजिए-

किताबें हमारी सबसे अच्छी _____ (1) हैं। किताबें आत्मा और मन के लिए भोजन हैं। पुस्तकें हमारे दुखों में हमें _____ (2) दे सकती हैं और जीवन की चिंताओं को भूलने में मदद कर सकती हैं। ये जीवन में _____ (3) का रहस्य सिखाती हैं। ये जीवन के अंधेरे में _____ (4) दिखाती हैं। ये हमें सिखाती हैं कि बुराई पर अच्छाई की _____ (5) होती है।

SubQuestion No : 25

Q.2
5 गद्यांश में संकेतित रिक्त स्थान (5) के लिए उपयुक्त शब्द होगा।

Ans
✗ 1. विजेता
✗ 2. अजय
✗ 3. पराजय
✓ 4. विजय

Question ID : 9895806958
Chosen Option : 4