

Constable (GD) in CAPFs, NIA, SSF and Rifleman (GD) in Assam Rifles Examination, 2018

Roll No. :	GovtJobsAlert.In
Registration No.	GovtJobsAlert.In
Name :	GovtJobsAlert.In
Exam Venue :	GovtJobsAlert.In
Exam Time :	12:30 PM - 2:00 PM
Exam Date :	06/03/2019

Section : General Section

Q.1 उस विकल्प का चयन करें जो तीसरे पद से उसी तरह संबंधित है जिस प्रकार दूसरा पद पहले पद से संबंधित है।

भारत : देश :: दिल्ली : _____

- Ans
- ✓ 1. राजधानी
 - ✗ 2. महाद्वीप
 - ✗ 3. लाल किला
 - ✗ 4. जिला

Question ID : 9895808618
Chosen Option : 1

Q.2 उस विकल्प का चयन करें जो सही रूप में रिक्त स्थान की पूर्ति करते हुए श्रृंखला को पूरा करें।

T, R, P, N, L, _____, _____

- Ans
- ✗ 1. K, H
 - ✗ 2. K, I
 - ✓ 3. J, H
 - ✗ 4. J, G

Question ID : 9895808615
Chosen Option : 3

Q.3 एक निश्चित कूट में, SACK को RZBJ के रूप में लिखा जाता है। उस कूट में AMOUNT कैसे कूटबद्ध किया जाता है?

- Ans
- ✗ 1. ZLNMST
 - ✓ 2. ZLNTMS
 - ✗ 3. ZLTNMS
 - ✗ 4. ZLNSMT

Question ID : 9895808621
Chosen Option : 2

Q.4 दिए गए समीकरण को संतुलित करने के लिए '*' चिन्हों का स्थान लेने के लिए गणितीय चिन्हों के सही संयोजन का चयन करें।

32 * 8 * 14 * 7 * 16

Ans

- ✗ 1. $\times - + =$
- ✗ 2. $\div \times - =$
- ✓ 3. $- \times \div =$
- ✗ 4. $+ = \div \times$

Question ID : 9895808633

Chosen Option : 3

Q.5 उस विकल्प आकृति का चयन करें, जिसमें प्रश्न आकृति छिपी हुई/ अंतर्निहित है।

प्रश्न आकृति:



Ans

- ✗ 1.
- ✗ 2.
- ✗ 3.
- ✓ 4.

Question ID : 9895808636

Chosen Option : 4

Q.6 यदि B को 2 के रूप में कूटबद्ध करते हैं, F को 8 के रूप में कूटबद्ध करते हैं, C को 4 के रूप में कूटबद्ध करते हैं, G को 3 के रूप में कूटबद्ध करते हैं, H को 0 के रूप में कूटबद्ध करते हैं, A को 1 के रूप में कूटबद्ध करते हैं और N को 7 के रूप में कूटबद्ध करते हैं, तो HNCGB को किस रूप में कूटबद्ध किया जाता है?

- Ans ✗ 1. 07243
- ✓ 2. 07432
- ✗ 3. 04237
- ✗ 4. 07423

Question ID : 9895808622

Chosen Option : 2

Q.7 चार अक्षर समूह दिए गए हैं, जिनमें से तीन किसी तरह से समान हैं, जबकि एक अलग है। असंगत अक्षर समूह का चयन करें।

- Ans ✗ 1. MPQS
- ✓ 2. GHJK
- ✗ 3. FIJL
- ✗ 4. RUVX

Question ID : 9895808616

Chosen Option : 2

Q.8 उस विकल्प का चयन करें जो तीसरे पद से उसी तरह संबंधित है जिस प्रकार दूसरा पद पहले पद से संबंधित है।

MATE : NATE :: FATE : ?

- Ans ☒ 1. JATE
☒ 2. UATE
☒ 3. LATE
☒ 4. CATE

Question ID : 9895808620

Chosen Option : 2

Q.9 चार विकल्प दिए गए हैं, जिनमें से तीन किसी तरह से समान हैं, जबकि एक अलग है। असंगत विकल्प का चयन करें।

- Ans ☒ 1. 36-59
☒ 2. 61-34
☒ 3. 32-41
☒ 4. 51-24

Question ID : 9895808631

Chosen Option : 4

Q.1 दिए गए विकल्पों में से लुप्त संख्या ज्ञात करें।

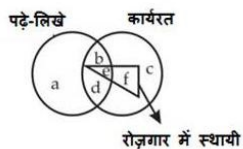
72	18
54	
64	
38	?

- Ans ☒ 1. 22
☒ 2. 24
☒ 3. 26
☒ 4. 18

Question ID : 9895808632

Chosen Option : 3

Q.1 दी गई आकृति को पढ़ें और उस क्षेत्र को ज्ञात करें जो उन व्यक्तियों को दर्शाता हो जो पढ़े-लिखे और कार्यरत हैं, लेकिन रोज़गार में स्थायी नहीं हैं।



- Ans ☒ 1. abc
☒ 2. bd
☒ 3. ac
☒ 4. adc

Question ID : 9895808639

Chosen Option : 2

Q.1
2

उस विकल्प का चयन करें जो सही रूप में रिक्त स्थान की पूर्ति करते हुए श्रृंखला को पूरा करें।

18, 36, 108, 432, 2160, _____

- Ans
- ✓ 1. 12960
 - ✗ 2. 15200
 - ✗ 3. 14200
 - ✗ 4. 12690

Question ID : 9895808628
Chosen Option : 4

Q.1 उस विकल्प का चयन करें जो तीसरे पद से उसी तरह संबंधित है जिस प्रकार दूसरा पद पहले पद से संबंधित है।

दिन : रात :: सुबह : _____

- Ans
- ✗ 1. तारा
 - ✗ 2. ग्रह
 - ✓ 3. शाम
 - ✗ 4. वायु

Question ID : 9895808619
Chosen Option : 3

Q.1 उस विकल्प का चयन करें जो दर्पण के दायीं ओर रखे जाने पर दी गई आकृति की दर्पण छवि से सर्वाधिक मेल खाता है।

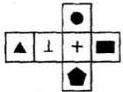
प्रश्न आकृति:



- Ans
- ✗ 1.
 - ✓ 2.
 - ✗ 3.
 - ✗ 4.

Question ID : 9895808637
Chosen Option : 2

Q.1 बॉक्स बनाने के लिए निम्नलिखित आकृति को मोड़ा जाता है। ▲ के विपरीत फलक कौन सा चिन्ह दिखाई देगा?



- Ans
- ✓ 1. +
 - ✗ 2. ■
 - ✗ 3. ⊥
 - ✗ 4. ●

Question ID : 9895808638

Chosen Option : 1

Q.1 6 चार शब्द दिए गए हैं, जिनमें से तीन किसी तरह से समान हैं, जबकि एक अलग है। असंगत शब्द का चयन करें।

Ans

- ☒ 1. बैग
- ☒ 2. टोकरी
- ☒ 3. कटोरा
- ☒ 4. ठेला

Question ID : 9895808617

Chosen Option : 4

Q.1 7 नीचे दिए गए कथनों के बाद निष्कर्ष I, II और III दिए गए हैं। यह मानते हुए कि कथनों में दी गई जानकारी सत्य है, भले ही वह सर्वज्ञात तथ्यों से भिन्न प्रतीत होती हो और यह निर्णय करें कि कौन सा / से निष्कर्ष तार्किक और निश्चित रूप से कथन में दी गई जानकारी का अनुसरण करता है / करते हैं।

कथन:

- सभी बीस तीस हैं।
- सभी तीस, चालीस हैं।
- सभी चालीस साठ हैं।
- सभी साठ, सत्तर हैं।

निष्कर्ष:

- I. कुछ चालीस, तीस हैं।
- II. कुछ सत्तर, साठ हैं।
- III. कोई भी तीस, बीस नहीं है।

Ans

- ☒ 1. केवल II और III अनुसरण करते हैं
- ☒ 2. केवल I और II अनुसरण करते हैं
- ☒ 3. केवल I और III अनुसरण करते हैं
- ☒ 4. I, II और III सभी अनुसरण करते हैं

Question ID : 9895808626

Chosen Option : 2

Q.1 8 M, N, O और P आमने सामने बैठ कर ताश खेल रहे हैं। M, N के दाईं ओर है और P, O के बाईं ओर है। तो निम्नलिखित में से कौन जोड़ीदार हैं?

Ans

- ☒ 1. M और N
- ☒ 2. M और P
- ☒ 3. P और O
- ☒ 4. N और P

Question ID : 9895808625

Chosen Option : 4

Q.1

नीचे दिए गए कथनों के बाद दो निष्कर्ष I और II दिए गए हैं। यह मानते हुए कि कथनों में दी गई जानकारी सत्य है, भले ही वह सर्वज्ञात तथ्यों से भिन्न प्रतीत होती हो और यह निर्णय करें कि कौन सा / से निष्कर्ष तार्किक और निश्चित रूप से कथन में दी गई जानकारी का अनुसरण करता है / करते हैं।

कथन:

सभी बलवान, जानवर हैं।

कुछ जानवर, बाघ हैं।

सभी बाघ, तेज हैं।

निष्कर्ष:

I. कुछ बलवान, तेज हैं।

II. कोई बलवान, तेज नहीं हैं।

Ans

✓ 1. या निष्कर्ष I या II अनुसरण करते हैं

✗ 2. केवल निष्कर्ष I अनुसरण करता है

✗ 3. केवल निष्कर्ष II अनुसरण करता है

✗ 4. न निष्कर्ष I न II अनुसरण करता है

Question ID : 9895808627

Chosen Option : 1

Q.2 0 उस विकल्प का चयन करें जो तीसरे पद से उसी तरह संबंधित है जिस प्रकार दूसरा पद पहले पद से संबंधित है।
13 : 196 :: 9 : ?

Ans

✗ 1. 121

✗ 2. 111

✓ 3. 100

✗ 4. 131

Question ID : 9895808630

Chosen Option : 3

Q.2 1 उस विकल्प का चयन करें जो सही रूप में रिक्त स्थान की पूर्ति करते हुए श्रृंखला को पूरा करें।
52, 56, 65, 81, 106, _____

Ans

✓ 1. 142

✗ 2. 132

✗ 3. 122

✗ 4. 140

Question ID : 9895808629

Chosen Option : 1

Q.2 2 आठ व्यक्ति A, B, C, D, E, F, G और H एक वृत्ताकार मेज के चारों ओर बैठे हैं। A और B केंद्र की ओर मुख किये हुए हैं जबकि अन्य छः व्यक्ति केंद्र के विपरीत मुख किये हुए हैं। A, H के दाएं से दूसरे स्थान पर बैठा है। B, A के बाएं से तीसरे स्थान पर बैठा है। D, G के दाएं से दूसरे स्थान पर बैठा है। G न B न ही A का तुरंत पड़ोसी है। E और F तुरंत पड़ोसी हैं और केंद्र के विपरीत मुख किये हुए हैं।

G के बाएं से दूसरे स्थान पर कौन बैठा है?

Ans

✗ 1. C

✓ 2. B

✗ 3. F

✗ 4. D

Question ID : 9895808623

Chosen Option : 4

Q.2 छः बच्चे उत्तर की ओर मुख किये दो पंक्तियों में बैठे हैं। उनके नाम हैं

फुजी, युकेन, यम और क्रिश, चार्ली, मैक। फुजी और मैक, तिरछे विपरीत बैठे हैं।

युकेन, ऊपर वाली पंक्ति में बैठा है और फुजी के तुरंत दाएं है। क्रिश, मैक के बाएं

से दूसरे स्थान पर है जबकि यम और क्रिश, समान पंक्ति में नहीं हैं।

चार्ली के विपरीत कौन बैठा है?

Ans

☒ 1. क्रिश

☒ 2. फुजी

☒ 3. यम

☒ 4. युकेन

Question ID : 9895808624

Chosen Option : 2

Q.2 निम्नलिखित में से कौन सी उत्तर आकृति दी गई आकृति को पूरा करेगी?

प्रश्न आकृति:



Ans

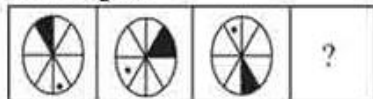


Question ID : 9895808635

Chosen Option : 4

Q.2 वह विकल्प चुनें जो दी गई आकृति श्रृंखला को पूरा करता है।

प्रश्न आकृति:



Ans



X 2.



✓ 3.



X 4.



Question ID : 9895808634
Chosen Option : 3

Q.2
6 हीराकुंड बांध किस नदी पर स्थित है?

Ans

X 1. भागीरथी

✓ 2. महानदी

X 3. सतलज

X 4. कावेरी

Question ID : 9895808486
Chosen Option : 2

Q.2
7 राष्ट्रीय एकीकरण की दिशा में योगदान के लिए कौन-सा पुरस्कार दिया जाता है?

Ans

X 1. गीता चोपड़ा पुरस्कार

X 2. राजीव गांधी पुरस्कार

✓ 3. सरदार पटेल पुरस्कार

X 4. तिलक पुरस्कार

Question ID : 9895808470
Chosen Option : 3

Q.2
8 वह पत्रिका जिसमें महात्मा गांधी ने उल्लेख किया था कि वे चाहते थे कि संविधान ऐसा करे:

Ans

X 1. हरिजन

X 2. नवजीवन

✓ 3. यंग इंडिया

X 4. ओरिएंटल पत्रिका

Question ID : 9895808477
Chosen Option : 3

Q.2
9 द इंपीरियल फॉरेस्ट रिसर्च इंस्टीट्यूट की स्थापना 1906 में _____ की गई थी।

Ans

X 1. अल्मोड़ा में

X 2. बेंगलोर में

✓ 3. देहरादून में

✗ 4. भोपाल में

Question ID : 9895808488
Chosen Option : 2

Q.3
0 विश्वामित्र का टीला किस राज्य में स्थित है?

Ans ✗ 1. राजस्थान

✗ 2. उत्तरांचल

✗ 3. पंजाब

✓ 4. हरियाणा

Question ID : 9895808466
Chosen Option : 1

Q.3
1 माउंट विंसेन पर चढ़ने वाली दुनिया की पहली दिव्यांग महिला कौन थी?

Ans ✓ 1. अरुणिमा सिन्हा

✗ 2. प्रेमलता अग्रवाल

✗ 3. संतोष यादव

✗ 4. बचंदरी पाल

Question ID : 9895808469
Chosen Option : 1

Q.3
2 किस कार्यक्रम को यूनेस्को द्वारा मानवता की अमूर्त सांस्कृतिक विरासत के रूप में चिह्नित किया गया है?

Ans ✓ 1. कुंभ मेला

✗ 2. तारनेतर मेला

✗ 3. पुष्कर मेला

✗ 4. सूरज कुंड मेला

Question ID : 9895808465
Chosen Option : 1

Q.3
3 "In my mother's house" पुस्तक किसके द्वारा लिखी गई है?

Ans ✓ 1. शारिका थिरनागामा

✗ 2. राजीव विजेसिन्हा

✗ 3. श्याम सेलवदुरई

✗ 4. निहाल डी' सिल्वा

Question ID : 9895808471
Chosen Option : 2

Q.3 एक भिन्न भाषा या संस्कृति वाले नागरिकों के किसी भी वर्ग को _____ का अधिकार है।

4

Ans

- ☒ 1. विनाश करने
- ☒ 2. सुरक्षित रखने
- ☒ 3. अपव्यय करने
- ☒ 4. उखाड़ने

Question ID : 9895808478

Chosen Option : 2

Q.3 5 भारत के दक्षिणी भाग में रबी फसल और उत्तरी भाग में खरीफ फसल के रूप में किसकी खेती की जाती है?

Ans

- ☒ 1. मूंगफली
- ☒ 2. अलसी
- ☒ 3. सरसों
- ☒ 4. तिल

Question ID : 9895808485

Chosen Option : 2

Q.3 6 कौन-सी गैस सूर्य की पराबैंगनी विकिरणों से पृथ्वी की सतह की रक्षा करती है?

Ans

- ☒ 1. ऑक्सीजन
- ☒ 2. नाइट्रोजन
- ☒ 3. कार्बन डाइऑक्साइड
- ☒ 4. ओज़ोन

Question ID : 9895808482

Chosen Option : 4

Q.3 7 _____ एक औपचारिक दस्तावेज होता है जिसमें केवल भारत के उच्च न्यायालय या सर्वोच्च न्यायालय द्वारा सरकार को जारी किए गए न्यायालय के आदेश निहित होता है।

Ans

- ☒ 1. रिट/परमादेश
- ☒ 2. दावा
- ☒ 3. प्रसंविदा
- ☒ 4. समन

Question ID : 9895808476

Chosen Option : 1

Q.3 8 गैल्वनीकरण की प्रक्रिया में लोहे पर क्या जमा किया जाता है?

Ans

- ☒ 1. टिन
- ☒ 2. तांबा
- ☒ 3. अल्युमीनियम
- ☒ 4. जस्ता

Question ID : 9895808480

Chosen Option : 1

Q.3 जब प्राकृतिक संसाधनों का दोहन करके माल का उत्पादन किया जाता है, तो यह किस क्षेत्र की गतिविधि से संबद्ध होता है?

Ans

- ☒ 1. द्वितीयक क्षेत्र
- ☒ 2. तृतीयक क्षेत्र
- ☒ 3. प्राथमिक क्षेत्र
- ☒ 4. सेवा क्षेत्र

Question ID : 9895808474

Chosen Option : 1

Q.4 भारत के किन सामानों ने मशीनीकृत उद्योगों के युग से पहले अंतर्राष्ट्रीय कपड़ा बाज़ार में अपना वर्चस्व स्थापित किया?

Ans

- ☒ 1. रेशमी और सूती माल
- ☒ 2. ऊनी माल
- ☒ 3. रेशम का सामान
- ☒ 4. सूती माल

Question ID : 9895808487

Chosen Option : 1

Q.4 2018 में किसे ऑर्डर ऑफ ब्रिटिश एम्पायर के कमांडर के पद से सम्मानित किया गया है?

Ans

- ☒ 1. नितिन साहनी
- ☒ 2. तजिन्दर सिंह
- ☒ 3. तलवीन सिंह
- ☒ 4. राजिन्दर राय

Question ID : 9895808467

Chosen Option : 2

Q.4 कपास पैदा करने के लिए आदर्श मिट्टी है:

Ans

- ☒ 1. जलोढ़ मिट्टी
- ☒ 2. लेटराइट मिट्टी
- ☒ 3. शुष्क मिट्टी
- ☒ 4. काली मिट्टी

Question ID : 9895808484

Chosen Option : 4

Q.4 फ़िल्म 'भुवन सोम' किसने निर्देशित की थी?

Ans

- ☒ 1. ऋत्विक घटक

✓ 2. मृणाल सन

✗ 3. सत्यजित रे

✗ 4. बुद्धदेब दासगुप्ता

Question ID : 9895808472

Chosen Option : 2

Q.4
4 ग्रामीण बैंक के संस्थापक कौन हैं?

Ans ✓ 1. मुहम्मद यूनुस

✗ 2. अनु मुहम्मद

✗ 3. अतीउर रहमान

✗ 4. अब्दुल्ला अबू सईद

Question ID : 9895808473

Chosen Option : 4

Q.4
5 सौर सेल का निर्माण करने के लिए किस तत्व का उपयोग किया जाता है?

Ans ✗ 1. सोडियम

✓ 2. सिलिकॉन

✗ 3. सिल्वर

✗ 4. सल्फर

Question ID : 9895808483

Chosen Option : 1

Q.4
6 वह व्यवस्था, जिसमें स्थानीय किसानों को एक खेत में अस्थायी रूप से खेती करने की अनुमति दी गई थी, वह क्या कहलाती है?

Ans ✗ 1. भूमि प्रधान खेती

✗ 2. श्रम प्रधान खेती

✓ 3. टोंग्या कृषि

✗ 4. स्थानांतरण कृषि

Question ID : 9895808489

Chosen Option : 2

Q.4
7 दांतों की सड़न शुरू हो जाती है, जब हमारे मुंह का pH होता है:

Ans ✗ 1. 5.5 से अधिक

✗ 2. 7.5 से अधिक

✗ 3. 6.5 से अधिक

✓ 4. 5.5 से कम

Question ID : 9895808479

Chosen Option : 3

Q.4 निम्नलिखित में कौन-सा विकल्प तमिलनाडु से जुड़ी मार्शल आर्ट का एक रूप है?

Ans

- ☒ 1. कलरी पायट्टु
- ☒ 2. थोडा
- ☒ 3. सिलंबन
- ☒ 4. थांग-ता

Question ID : 9895808468

Chosen Option : 1

Q.4 कौन-सा संगठन सांख्यिकी, आयोजना और कार्यक्रम कार्यान्वयन मंत्रालय के अधीन है?

Ans

- ☒ 1. केंद्रीय सर्वेक्षण संगठन
- ☒ 2. राष्ट्रीय सर्वेक्षण संगठन
- ☒ 3. राष्ट्रीय प्रतिदर्श सर्वेक्षण संगठन
- ☒ 4. केंद्रीय प्रतिदर्श सर्वेक्षण संगठन

Question ID : 9895808475

Chosen Option : 2

Q.5 सूरज की रोशनी के स्पेक्ट्रम को प्राप्त करने के लिए ग्लास प्रिज्म का उपयोग करने वाला पहला व्यक्ति कौन था?

Ans

- ☒ 1. आइजैक न्यूटन
- ☒ 2. हैन्स क्रिश्चियन ओर्स्टेड
- ☒ 3. अल्बर्ट आइंस्टीन
- ☒ 4. जेम्स क्लर्क मैक्सवेल

Question ID : 9895808481

Chosen Option : 3

Q.5 निम्नलिखित में से कौन-सी ब्याज गणना योजना एक वर्ष में अधिकतम ब्याज देगी?

Ans

- ☒ 1. 24% प्रति वर्ष की दर पर प्रत्येक वर्ष चक्रवृद्धित ब्याज
- ☒ 2. प्रति 6 माह के लिए 12% की दर पर प्रत्येक छमाही आधार पर चक्रवृद्धित ब्याज
- ☒ 3. 2% प्रति माह की दर पर मासिक आधार पर चक्रवृद्धित ब्याज
- ☒ 4. 6% प्रति तिमाही की दर पर तिमाही आधार पर चक्रवृद्धित ब्याज

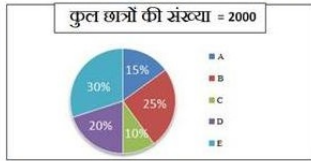
Question ID : 9895808679

Chosen Option : 1

Q.5
2

प्रश्नों का उत्तर देने के लिए निम्नलिखित पाई-चार्ट का ध्यानपूर्वक अध्ययन करें।

पाँच अलग-अलग गाँवों में बच्चों की संख्या का प्रतिशत



यदि गाँव D से 70 प्रतिशत बच्चे स्कूल जाते हैं तो गाँव D से स्कूल जाने वाले बच्चों की संख्या कितनी है?

Ans

- ✗ 1. 320
- ✗ 2. 400
- ✗ 3. 360
- ✓ 4. 280

Question ID : 9895808688
Chosen Option : 2

Q.5
3 विपरीत दिशाओं में चलने वाली दो ट्रेनें प्लेटफॉर्म पर खड़े एक व्यक्ति को क्रमशः 25 सेकंड और 32 सेकंड में पार करती हैं और वे 30 सेकंड में एक - दूसरे को पार करती हैं। उनकी गति का अनुपात है:

Ans

- ✗ 1. 4 : 3
- ✓ 2. 2 : 5
- ✗ 3. 1 : 3
- ✗ 4. 5 : 6

Question ID : 9895808682
Chosen Option : 4

Q.5
4 9 और 15 का तृतीयानुपाती है:

Ans

- ✗ 1. 36
- ✗ 2. 27
- ✓ 3. 25
- ✗ 4. 18

Question ID : 9895808675
Chosen Option : 3

Q.5
5 रोहित और दिनेश एक दूसरे से 64 किमी दूर हैं। रोहित 15 किमी प्रति घंटे की गति से चल सकता है और दिनेश 17 किमी प्रति घंटे की गति से चल सकता है। वे दोनों एक दूसरे को कितने घंटे में मिलेंगे यदि वे एक दूसरे की ओर जा रहे हैं?

Ans

- ✗ 1. 3 घंटे
- ✓ 2. 2 घंटे
- ✗ 3. 2.5 घंटे

✗ 4. 1.5 घंटे

Question ID : 9895808683

Chosen Option : 2

Q.5
6 प्रश्नों का उत्तर देने के लिए निम्नलिखित पाई-चार्ट का ध्यानपूर्वक अध्ययन करें।

पाँच अलग-अलग गाँवों में बच्चों की संख्या का प्रतिशत



गांव B और E के बच्चों की कुल संख्या कितनी है?

Ans

✗ 1. 1145

✗ 2. 1400

✗ 3. 1200

✓ 4. 1100

Question ID : 9895808689

Chosen Option : 4

Q.5
7 निम्न प्रश्न में प्रश्न चिह्न (?) के स्थान पर क्या आयेगा?

$$1.5 \times 78 \div 0.5 = ?$$

Ans

✗ 1. 243

✗ 2. 238

✓ 3. 234

✗ 4. 216

Question ID : 9895808667

Chosen Option : 3

Q.5
8 एक समलम्ब चतुर्भुज की समानांतर भुजाओं के बीच लंबवत दूरी (cm में) क्या है जिसका क्षेत्रफल 108 cm^2 है, और समानांतर भुजाओं की लंबाई 9 cm और 36 cm है?

Ans

✗ 1. 6 cm

✓ 2. 4.8 cm

✗ 3. 7 cm

✗ 4. 3.6 cm

Question ID : 9895808684

Chosen Option : 1

Q.5
9 दो बोतलों A और B में तनुकृत अम्ल है। बोतल A में, पानी की मात्रा अम्ल की मात्रा से दोगुनी है जबकि बोतल B में, अम्ल की मात्रा पानी की तीन गुनी है। बोतल A और B में से क्रमशः कितनी मात्रा (लीटर में) ली जानी चाहिए कि पानी और अम्ल की बराबर मात्रा से युक्त 5 लीटर तनुकृत अम्ल, प्राप्त हो ?

Ans

✗ 1. 4.1

✗ 2. 1,4

✓ 3. 3,2

✗ 4. 2,3

Question ID : 9895808676

Chosen Option : 3

Q.6
0 एक विक्रेता अपने ग्राहकों को 25% की छूट देता है और फिर भी 25% का लाभ कमाता है। यदि वस्तु की लागत विक्रेता को 1600 रुपये आती है, तो उसका अंकित मूल्य (निकटतम एक ₹ तक) है:

Ans

✗ 1. ₹ 2600

✓ 2. ₹ 2667

✗ 3. ₹ 2050

✗ 4. ₹ 2000

Question ID : 9895808670

Chosen Option : 2

Q.6
1 सोमवार को दोपहर 1 बजे से रात 8 बजे तक एक दुकान में हर घंटे आगंतुकों की संख्या 7, 10, 15, 22, 6, 4 और 13. के रूप में दर्ज की गई थी। आगंतुकों की संख्या का गणितीय माध्य है:

Ans

✗ 1. 13

✗ 2. 10

✓ 3. 11

✗ 4. 9

Question ID : 9895808671

Chosen Option : 3

Q.6
2 6 और 12 प्रत्येक से विभाजित होने वाली सबसे छोटी पूर्ण वर्ग संख्या है:

Ans

✗ 1. 196

✗ 2. 108

✗ 3. 144

✓ 4. 36

Question ID : 9895808665

Chosen Option : 4

Q.6
3 निम्न प्रश्न में प्रश्न चिह्न (?) के स्थान पर क्या आयेगा?

$$383 \div 25 \times 2.5 + 12 = ?$$

Ans

✓ 1. 50.30

✗ 2. 222.14

✗ 3. 124.24

✗ 4. 68.30

Question ID : 9895808666

Chosen Option : 1

Q.6

4 एक मेंढक, 80 मीटर गहरे कुएँ के तल पर था। इसने छलांग लगाकर इससे बाहर आने का प्रयास किया। प्रत्येक कूद में यह 1.15 मीटर की दूरी तय करता था किन्तु 0.75 मीटर नीचे फिसल जाता था। कूदने की संख्या कितनी होगी जिसके बाद वह कुएँ से बाहर आ जायेगा।

- Ans ☒ 1. 199
☒ 2. 201
☒ 3. 200
☒ 4. 198

Question ID : 9895808680
 Chosen Option : 1

Q.6 30% प्रति वर्ष की साधारण ब्याज दर पर एक धनराशि कितने वर्षों में सोलह गुना हो जायेगा?

- Ans ☒ 1. 25
☒ 2. 50
☒ 3. 30
☒ 4. 40

Question ID : 9895808678
 Chosen Option : 3

Q.6 3 रुपये में 7 संतरे की दर से संतरे खरीदे जाते हैं। किस कीमत पर 100 संतरे बेचे जाने चाहिए ताकि लाभ 33% हो?

- Ans ☒ 1. ₹ 58
☒ 2. ₹ 57
☒ 3. ₹ 60
☒ 4. ₹ 56

Question ID : 9895808674
 Chosen Option : 3

Q.6 50 संख्याओं का औसत 36 है। यदि दो संख्याओं 63 और 65 को छोड़ दिया जाता है, तो शेष संख्याओं का औसत है:

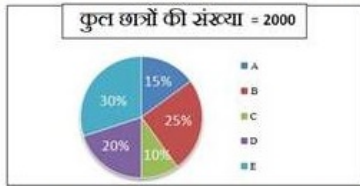
- Ans ☒ 1. 34.83
☒ 2. 32.50
☒ 3. 33.75
☒ 4. 36.50

Question ID : 9895808668
 Chosen Option : 4

Q.6
8

प्रश्नों का उत्तर देने के लिए निम्नलिखित पाई-चार्ट का ध्यानपूर्वक अध्ययन करें।

पाँच अलग-अलग गाँवों में बच्चों की संख्या का प्रतिशत



गाँव A से गाँव C के कुल बच्चों की संख्या का अनुपात क्या है?

Ans

☐ 1. 1:3

☐ 2. 3:5

☐ 3. 2:3

☒ 4. 3:2

Question ID : 9895808687
Chosen Option : 4

Q.6 यदि $\frac{a}{b} = \frac{7}{9}$, $\frac{b}{c} = \frac{3}{5}$ तो $a : b : c$ का मान है:

Ans

☐ 1. 7:9:5

☐ 2. 21:27:42

☒ 3. 7:9:15

☐ 4. 7:3:15

Question ID : 9895808677
Chosen Option : 3

Q.7 A, 12 दिनों में एक निश्चित कार्य कर सकता है। B, A की तुलना में 60% अधिक कार्य कुशल है। B को उसी कार्य को पूरा करने में कितना समय लगेगा?

Ans

☐ 1. 10 दिन

☒ 2. $7 \frac{1}{2}$ दिन

☐ 3. 7 दिन

☐ 4. 8 दिन

Question ID : 9895808681
Chosen Option : 2

Q.7 केपटाउन में टेस्ट मैच खेलने वाली भारतीय क्रिकेट टीम की औसत आयु 28 वर्ष है। यदि कप्तान के अलावा अन्य 10 खिलाड़ियों की औसत आयु 27.8 वर्ष है, तो कप्तान की आयु है:

Ans

☒ 1. 30 वर्ष

☐ 2. 25 वर्ष

☐ 3. 26 वर्ष

4. 31 वर्ष

Question ID : 9895808669
Chosen Option : 1

Q.7 एक पेंटिंग की लंबाई और चौड़ाई क्रमशः 15 cm और 10 cm है। पेंटिंग के चारों ओर 1 cm चौड़ा किनारा बनाया गया है। किनारे का क्षेत्रफल कितना है?

- Ans
- ☒ 1. 60 cm²
 - ☒ 2. 45 cm²
 - ☒ 3. 16 cm²
 - ☒ 4. 54 cm²

Question ID : 9895808685
Chosen Option : 4

Q.7 यशवंत 40 रुपये में 15 की दर से कैंडी खरीदता है और उन्हें 50 रुपये में 30 कैंडी की दर से बेचता है। उसका लाभ या हानि प्रतिशत क्या है?

- Ans
- ☒ 1. 36% लाभ
 - ☒ 2. 37.5% लाभ
 - ☒ 3. 40% हानि
 - ☒ 4. 37.5% हानि

Question ID : 9895808673
Chosen Option : 4

Q.7 एक घन का कुल पृष्ठ क्षेत्रफल ज्ञात कीजिए जिसका आयतन 64 cm³ है।

- Ans
- ☒ 1. 16 cm²
 - ☒ 2. 64 cm²
 - ☒ 3. 96 cm²
 - ☒ 4. 84 cm²

Question ID : 9895808686
Chosen Option : 1

Q.7 एक छात्र को अधिकतम अंक के 60% अंक प्राप्त होते हैं। यदि उसे उत्तीर्ण अंक से 50% अधिक अंक प्राप्त होते हैं, फिर उत्तीर्ण होने वाले अंक अधिकतम अंकों के कितने प्रतिशत हैं?

- Ans
- ☒ 1. 50%
 - ☒ 2. 75%
 - ☒ 3. 40%
 - ☒ 4. 37.5%

Question ID : 9895808672
Chosen Option : 1

Section : English Language

Q.1 Identify the segment in the sentence which contains the grammatical error from the given options.

People's demand are ever growing but the availability of land is limited.

Ans

- ☒ 1. People's demand
- ☐ 2. is limited
- ☐ 3. availability of
- ☐ 4. ever growing

Question ID : 9895808742
Chosen Option : --

Q.2 Select the word which means the same as the group of words given.

One who can easily be deceived/cheated

Ans

- ☐ 1. Veteran
- ☐ 2. Prudent
- ☒ 3. Gullible
- ☐ 4. Modest

Question ID : 9895808762
Chosen Option : --

Comprehension:

In the following passage some words have been deleted. Fill in the blanks with the help of the alternatives given. Select the most appropriate option for each number.

Advertisements (1) _____ our attention to various products and describe (2) _____ positively so that we become (3) _____ in buying them. Advertising is all (4) _____ building brands. At a very basic level, 'branding' means (5) _____ a product with a particular name or sign.

SubQuestion No : 3

Q.3 Select the most appropriate option that will fill in the blank number 1.

Ans

- ☐ 1. turn
- ☐ 2. draw
- ☒ 3. hook
- ☐ 4. pull

Question ID : 9895808750
Chosen Option : --

Comprehension:

In the following passage some words have been deleted. Fill in the blanks with the help of the alternatives given. Select the most appropriate option for each number.

Advertisements (1) _____ our attention to various products and describe (2) _____ positively so that we become (3) _____ in buying them. Advertising is all (4) _____ building brands. At a very basic level, 'branding' means (5) _____ a product with a particular

name or sign.

SubQuestion No : 4

Q.4 Select the most appropriate option that will fill in the blank number 2.

- Ans ☒ 1. it
☐ 2. themselves
☐ 3. they
☐ 4. them

Question ID : 9895808751
Chosen Option : --

Comprehension:

In the following passage some words have been deleted. Fill in the blanks with the help of the alternatives given. Select the most appropriate option for each number.

Advertisements (1) _____ our attention to various products and describe (2) _____ positively so that we become (3) _____ in buying them. Advertising is all (4) _____ building brands. At a very basic level, 'branding' means (5) _____ a product with a particular name or sign.

SubQuestion No : 5

Q.5 Select the most appropriate option that will fill in the blank number 3.

- Ans ☐ 1. partial
☐ 2. biased
☒ 3. interested
☐ 4. touched

Question ID : 9895808752
Chosen Option : --

Comprehension:

In the following passage some words have been deleted. Fill in the blanks with the help of the alternatives given. Select the most appropriate option for each number.

Advertisements (1) _____ our attention to various products and describe (2) _____ positively so that we become (3) _____ in buying them. Advertising is all (4) _____ building brands. At a very basic level, 'branding' means (5) _____ a product with a particular name or sign.

SubQuestion No : 6

Q.6 Select the most appropriate option that will fill in the blank number 4.

- Ans ☐ 1. in
☐ 2. about
☒ 3. across
☐ 4. for

Question ID : 9895808753

Chosen Option : --

Comprehension:

In the following passage some words have been deleted. Fill in the blanks with the help of the alternatives given. Select the most appropriate option for each number.

Advertisements (1) _____ our attention to various products and describe (2) _____ positively so that we become (3) _____ in buying them. Advertising is all (4) _____ building brands. At a very basic level, 'branding' means (5) _____ a product with a particular name or sign.

SubQuestion No : 7

Q.7 Select the most appropriate option that will fill in the blank number 5.

- Ans
- ☒ 1. sticking
 - ☒ 2. stamping
 - ☒ 3. molding
 - ☒ 4. posing

Question ID : 9895808754

Chosen Option : --

Q.8 Select the most appropriate word to fill in the blank.

_____ many people lived in the cities, others living in the countryside grew crops.

- Ans
- ☒ 1. Among
 - ☒ 2. While
 - ☒ 3. Whether
 - ☒ 4. About

Question ID : 9895808748

Chosen Option : --

Q.9 Select the antonym of the given word.

CRITICIZE

- Ans
- ☒ 1. Condemn
 - ☒ 2. Respect
 - ☒ 3. Commend
 - ☒ 4. Censure

Question ID : 9895808757

Chosen Option : --

Q.1 Select the most appropriate word to fill in the blank.

0

The unemployment problem, as _____ by people, is not severe among the educated women.

- Ans
- ☒ 1. decided
 - ☒ 2. demanded

✓ 3. perceived

✗ 4. solved

Question ID : 9895808765

Chosen Option : --

Q.1
1 Select the wrongly spelt word.

Ans ✗ 1. Neccessary

✓ 2. Occasion

✗ 3. Discipline

✗ 4. Consensus

Question ID : 9895808763

Chosen Option : --

Q.1
2 Select the most appropriate option to substitute the underlined segment in the given sentence. If there is no need to substitute it, select No substitution required.

Amoeba is a microscopic single-celled organism found in pond water.

Ans ✓ 1. organisms find in

✗ 2. organism found with

✗ 3. No substitution required

✗ 4. organisms finds in

Question ID : 9895808746

Chosen Option : --

Q.1
3 Select the word which means the same as the group of words given.

One who knows everything

Ans ✗ 1. Omnipresent

✗ 2. Omnipotent

✗ 3. Incredible

✓ 4. Omniscient

Question ID : 9895808761

Chosen Option : --

Q.1
4 Select the most appropriate word to fill in the blank.

In his address to the villagers the minister _____ certain measures being taken for improving their quality of life.

Ans ✗ 1. learnt

✗ 2. staged

✓ 3. stepped

✗ 4. highlighted

Question ID : 9895808766

Chosen Option : --

Q.1
5

Select the meaning of the given idiom.

Piping hot

- Ans
- ☒ 1. Extremely angry
 - ☒ 2. Lukewarm
 - ☒ 3. Steaming hot
 - ☒ 4. Not too hot

Question ID : 9895808760
Chosen Option : --

Q.1
6

Select the wrongly spelt word.

- Ans
- ☒ 1. Milenium
 - ☒ 2. Minimum
 - ☒ 3. Miniscule
 - ☒ 4. Mischievous

Question ID : 9895808764
Chosen Option : --

Q.1
7

Select the most appropriate option to substitute the underlined segment in the given sentence. If there is no need to substitute it, select No substitution required.

Normally bacteria are present in our mouth but it is not harmful to us.

- Ans
- ☒ 1. No substitution required
 - ☒ 2. so they are not
 - ☒ 3. but they are not
 - ☒ 4. and it is not

Question ID : 9895808745
Chosen Option : --

Q.1
8

Select the antonym of the given word.

FACILITATE

- Ans
- ☒ 1. Ease
 - ☒ 2. Comfort
 - ☒ 3. Aid
 - ☒ 4. Hinder

Question ID : 9895808758
Chosen Option : --

Q.1
9

Select the synonym of the given word.

Valiant

- Ans
- ☒ 1. Enthusiastic
 - ☒ 2. Scared
 - ☒ 3. Frightened

✓ 3. Frightened

✗ 4. Courageous

Question ID : 9895808756

Chosen Option : --

Q.2 Identify the segment in the sentence which contains the grammatical error from the given options.

0

Time and technology are two important factors that which change substances into resources.

Ans

✗ 1. that which change

✗ 2. two important factors

✗ 3. into resources

✓ 4. Time and technology

Question ID : 9895808741

Chosen Option : --

Q.2 Select the synonym of the given word.

1

REMORSE

Ans

✗ 1. Delight

✗ 2. Solace

✓ 3. Regret

✗ 4. Joy

Question ID : 9895808755

Chosen Option : --

Q.2 Select the meaning of the given idiom.

2

Call it a day

Ans

✗ 1. time to quit

✗ 2. an unending dream

✓ 3. name a day

✗ 4. a nightmare

Question ID : 9895808759

Chosen Option : --

Q.2 Select the most appropriate option to substitute the underlined segment in the given sentence. If there is no need to substitute it, select No substitution required.

3

Water and minerals presented to the soil are absorbed by the roots.

Ans

✗ 1. No substitution required

✗ 2. present for the soil

✗ 3. presented at the soil

✓ 4. present in the soil

Question ID : 9895808744

Chosen Option : --

Q.2 Select the most appropriate word to fill in the blank.

Some tribes have rich and unique cultural traditions, _____ their own language.

- Ans
- ☒ 1. including
 - ☒ 2. include
 - ☒ 3. included
 - ☒ 4. inclusive

Question ID : 9895808747

Chosen Option : --

Q.2 Identify the segment in the sentence which contains the grammatical error from the given options.

It was in the oceans that life begins almost 3.5 billion years ago.

- Ans
- ☒ 1. years ago
 - ☒ 2. life begins
 - ☒ 3. in the oceans
 - ☒ 4. It was

Question ID : 9895808743

Chosen Option : --

Section : Hindi Language

Q.1 दिए गए वाक्य में रेखांकित खंड को प्रतिस्थापित करने के लिए उपयुक्त विकल्प का चयन करें।

प्राचार्य महोदय ने उसे घर जाने की अनुमति प्रदान कर दी।

- Ans
- ☒ 1. आज्ञा
 - ☒ 2. अवज्ञा
 - ☒ 3. अनुज्ञा
 - ☒ 4. प्रज्ञा

Question ID : 9895806973

Chosen Option : 1

Q.2 दिए गए वाक्य में रेखांकित खंड को प्रतिस्थापित करने के लिए उपयुक्त विकल्प का चयन करें।

विष्णु के अनेक अभिधान हैं।

- Ans
- ☒ 1. रूप
 - ☒ 2. धाम
 - ☒ 3. लीला
 - ☒ 4. नाम

Question ID : 9895806972

Chosen Option : 4

Q.3 'एक उदर से जन्म' लेने वालों के लिए एक शब्द प्रयुक्त होता है-

- Ans
- ☒ 1. पेट
 - ☒ 2. उत्तम

✓ 3. सहादर

✗ 4. समान

Question ID : 9895806992
Chosen Option : 3

Q.4 दिए गए शब्द के पर्यायवाची शब्द का चयन करें।

मृग

Ans ✗ 1. बादल

✓ 2. हिरण

✗ 3. पवन

✗ 4. हाथी

Question ID : 9895806987
Chosen Option : 2

Q.5 'कमल' का पर्यायवाची शब्द है-

Ans ✗ 1. कनक

✗ 2. फूल

✓ 3. जलज

✗ 4. सुरभि

Question ID : 9895806988
Chosen Option : 3

Q.6 रिक्त स्थान को भरने के लिए उपयुक्त शब्द का चयन करें।

बड़े दुख की बात है _____ आप जैसे स्नेही मित्र के घर भी मैं विवाह के अवसर पर न आ सका।

Ans ✗ 1. मैं

✗ 2. आत्मीय

✓ 3. कि

✗ 4. हम

Question ID : 9895806975
Chosen Option : 3

Q.7 'बड़ा लगाना' मुहावरे का अर्थ है-

Ans ✗ 1. झूठ बोलना

✗ 2. सम्मान होना

✓ 3. कलंक लगाना

✗ 4. अपमान होना

Question ID : 9895806989
Chosen Option : 1

Q.8

दिए गए वाक्य का वह भाग ज्ञात करें जिसमें कोई त्रुटि है।

मनुष्य का आवश्यकताओं के लिए तो बहुत कुछ है परंतु उसके लोभ के लिए कुछ भी नहीं है।

Ans

- ☒ 1. तो बहुत कुछ है
- ☒ 2. मनुष्य का आवश्यकताओं के लिए
- ☒ 3. कुछ भी नहीं है।
- ☒ 4. परंतु उसके लोभ के लिए

Question ID : 9895806970
Chosen Option : 2

Q.9 दिये गये वाक्यांश के लिए एक शब्द दीजिये।

व्याकरण जानने वाला

Ans

- ☒ 1. आचार्य
- ☒ 2. वैयाकरण
- ☒ 3. दार्शनिक
- ☒ 4. काव्यशास्त्री

Question ID : 9895806991
Chosen Option : 4

Q.10 दिए गए शब्द का विलोम चुनें।

आत्मघात

Ans

- ☒ 1. आत्मविश्वास
- ☒ 2. आत्मबल
- ☒ 3. आत्मज्ञान
- ☒ 4. आत्मरक्षा

Question ID : 9895806985
Chosen Option : 4

Q.11 दिए गए वाक्य का वह भाग ज्ञात करें जिसमें कोई त्रुटि है।

तुष्टीकरण की नीति अपनाकर न व्यक्ति आगे बढ़ सकती है और न राष्ट्र।

Ans

- ☒ 1. अपनाकर
- ☒ 2. तुष्टीकरण की नीति
- ☒ 3. और न राष्ट्र।
- ☒ 4. न व्यक्ति आगे बढ़ सकती है

Question ID : 9895806971
Chosen Option : 4

Q.1
2

रिक्त स्थान को भरने के लिए उपयुक्त शब्द का चयन करें।

गोपाल आजकल चित्रकला का _____ कर रहा है।

- Ans
- ☒ 1. व्यायाम
 - ☒ 2. प्रयास
 - ☒ 3. अभ्यास
 - ☒ 4. आयास

Question ID : 9895806978
Chosen Option : 3

Q.1
3 रिक्त स्थान को भरने के लिए उपयुक्त शब्द का चयन करें।

26 जनवरी का दिन हमारे देशवासियों के लिए _____ पर्व है।

- Ans
- ☒ 1. धार्मिक
 - ☒ 2. सामाजिक
 - ☒ 3. आध्यात्मिक
 - ☒ 4. राष्ट्रीय

Question ID : 9895806977
Chosen Option : 4

Q.1
4 दिए गए शब्द का विलोम चुनें।

अल्पायु

- Ans
- ☒ 1. अजर
 - ☒ 2. दयालु
 - ☒ 3. दीर्घायु
 - ☒ 4. घायल

Question ID : 9895806986
Chosen Option : 2

Q.1
5 दिए गए वाक्य का वह भाग ज्ञात करें जिसमें कोई त्रुटि है।

मैं आवश्यक परिस्थितियों की उत्पन्न हो जाने के कारण बैठक में उपस्थित नहीं हो सकता।

- Ans
- ☒ 1. मैं आवश्यक
 - ☒ 2. उपस्थित नहीं हो सकता।
 - ☒ 3. परिस्थितियों की उत्पन्न हो जाने के कारण
 - ☒ 4. बैठक में

Question ID : 9895806969
Chosen Option : 4

Q.1
6 सही वर्तनी वाले शब्द का चयन करें।

Ans ☒ 1. सैनीक

☒ 2. सेनीक

☒ 3. सेनिक

☒ 4. सैनिक

Question ID : 9895806993
Chosen Option : 4

Q.1
7 'मैदान मारना' मुहावरे का अर्थ है-

Ans ☒ 1. संघर्ष करना

☒ 2. लड़ाई जीतना

☒ 3. भाग जाना

☒ 4. जमीन नापना

Question ID : 9895806990
Chosen Option : 2

Comprehension:

निम्नलिखित गद्यांश के रिक्त स्थानों की पूर्ति गद्यांश के नीचे दिए गए प्रश्नों के अनुसार कीजिए-

विश्व पर्यावरण दिवस हर साल 5 जून को पूरे विश्व में पर्यावरण सुरक्षा हेतु जनता में _____ (1) का प्रसार करने के लिए मनाया जाता है। भारत सरकार पर्यावरण को सुधारने के लिए काफी अभियान _____ (2) है। हाल ही में स्वच्छ भारत _____ (3) शुरू किया गया है। सरकार के साथ साथ _____ (4) आदमी को भी प्रण लेना चाहिए की वो वातावरण को साफ रखे। छोटी सी _____ (5) से हम अपने और अपने आस-पास के वातावरण को साफ रख सकते हैं।

SubQuestion No : 18

Q.1
8 गद्यांश में संकेतित रिक्त स्थान (1) के लिए उपयुक्त शब्द होगा।

Ans ☒ 1. जागरूकता

☒ 2. समानता

☒ 3. स्वाधीनता

☒ 4. अज्ञानता

Question ID : 9895806980
Chosen Option : 1

Comprehension:

निम्नलिखित गद्यांश के रिक्त स्थानों की पूर्ति गद्यांश के नीचे दिए गए प्रश्नों के अनुसार कीजिए-

विश्व पर्यावरण दिवस हर साल 5 जून को पूरे विश्व में पर्यावरण सुरक्षा हेतु जनता में _____ (1) का प्रसार करने के लिए मनाया जाता है। भारत सरकार पर्यावरण को सुधारने के लिए काफी अभियान _____ (2) है। हाल ही में स्वच्छ भारत _____ (3) शुरू किया गया है। सरकार के साथ साथ _____ (4) आदमी को भी प्रण लेना चाहिए की वो वातावरण को साफ़ रखे। छोटी सी _____ (5) से हम अपने और अपने आस-पास के वातावरण को साफ़ रख सकते हैं।

SubQuestion No : 19

Q.1 गद्यांश में संकेतित रिक्त स्थान (2) के लिए उपयुक्त शब्द होगा।

- Ans
- ☒ 1. सजाती
 - ☒ 2. बताती
 - ☒ 3. चलाती
 - ☒ 4. मनाती

Question ID : 9895806981

Chosen Option : 3

Comprehension:

निम्नलिखित गद्यांश के रिक्त स्थानों की पूर्ति गद्यांश के नीचे दिए गए प्रश्नों के अनुसार कीजिए-

विश्व पर्यावरण दिवस हर साल 5 जून को पूरे विश्व में पर्यावरण सुरक्षा हेतु जनता में _____ (1) का प्रसार करने के लिए मनाया जाता है। भारत सरकार पर्यावरण को सुधारने के लिए काफी अभियान _____ (2) है। हाल ही में स्वच्छ भारत _____ (3) शुरू किया गया है। सरकार के साथ साथ _____ (4) आदमी को भी प्रण लेना चाहिए की वो वातावरण को साफ़ रखे। छोटी सी _____ (5) से हम अपने और अपने आस-पास के वातावरण को साफ़ रख सकते हैं।

SubQuestion No : 20

Q.2 गद्यांश में संकेतित रिक्त स्थान (3) के लिए उपयुक्त शब्द होगा।

- Ans
- ☒ 1. उत्सव
 - ☒ 2. अभिमान
 - ☒ 3. अभियान
 - ☒ 4. मनोरंजन

Question ID : 9895806982

Comprehension:

निम्नलिखित गद्यांश के रिक्त स्थानों की पूर्ति गद्यांश के नीचे दिए गए प्रश्नों के अनुसार कीजिए-

विश्व पर्यावरण दिवस हर साल 5 जून को पूरे विश्व में पर्यावरण सुरक्षा हेतु जनता में _____ (1) का प्रसार करने के लिए मनाया जाता है। भारत सरकार पर्यावरण को सुधारने के लिए काफी अभियान _____ (2) है। हाल ही में स्वच्छ भारत _____ (3) शुरू किया गया है। सरकार के साथ साथ _____ (4) आदमी को भी प्रण लेना चाहिए की वो वातावरण को साफ़ रखे। छोटी सी _____ (5) से हम अपने और अपने आस-पास के वातावरण को साफ़ रख सकते हैं।

SubQuestion No : 21

Q.2
1 गद्यांश में संकेतित रिक्त स्थान (4) के लिए उपयुक्त शब्द होगा।

- Ans
- ☒ 1. अमीर
 - ☒ 2. गरीब
 - ☒ 3. खास
 - ☒ 4. आम

Question ID : 9895806983
Chosen Option : 3

Comprehension:

निम्नलिखित गद्यांश के रिक्त स्थानों की पूर्ति गद्यांश के नीचे दिए गए प्रश्नों के अनुसार कीजिए-

विश्व पर्यावरण दिवस हर साल 5 जून को पूरे विश्व में पर्यावरण सुरक्षा हेतु जनता में _____ (1) का प्रसार करने के लिए मनाया जाता है। भारत सरकार पर्यावरण को सुधारने के लिए काफी अभियान _____ (2) है। हाल ही में स्वच्छ भारत _____ (3) शुरू किया गया है। सरकार के साथ साथ _____ (4) आदमी को भी प्रण लेना चाहिए की वो वातावरण को साफ़ रखे। छोटी सी _____ (5) से हम अपने और अपने आस-पास के वातावरण को साफ़ रख सकते हैं।

SubQuestion No : 22

Q.2
2 गद्यांश में संकेतित रिक्त स्थान (5) के लिए उपयुक्त शब्द होगा।

- Ans
- ☒ 1. चहल
 - ☒ 2. पहल
 - ☒ 3. प्रयास
 - ☒ 4. टहल

Question ID : 9895806984

Chosen Option : 2

Q.2
3 सही वर्तनी वाले शब्द का चयन करें।

- Ans ☒ 1. अभ्यस्त
☒ 2. अभयस्थ
☒ 3. अभियस्थ
☒ 4. अभयस्थ

Question ID : 9895806994

Chosen Option : 1

Q.2
4 दिए गए वाक्य में रेखांकित खंड को प्रतिस्थापित करने के लिए उपयुक्त विकल्प का चयन करें।

जीने का कुछ तो उद्देश्य होना चाहिए।

- Ans ☒ 1. प्रवर्तन
☒ 2. प्रयोजन
☒ 3. प्रबोधन
☒ 4. साधन

Question ID : 9895806974

Chosen Option : 2

Q.2
5 रिक्त स्थान को भरने के लिए उपयुक्त शब्द का चयन करें।

अध्ययन से ज्ञान बढ़ता है, आर्थिक शक्ति मजबूत होती है _____ यश प्राप्त होता है।

- Ans ☒ 1. और
☒ 2. ढेर-सा
☒ 3. पर्याप्त
☒ 4. बहुत

Question ID : 9895806976

Chosen Option : 1