

Constable (GD) in CAPFs, NIA, SSF and Rifleman (GD) in Assam Rifles Examination, 2018

Roll No. :	GovtJobsAlert.In
Registration No.	GovtJobsAlert.In
Name :	GovtJobsAlert.In
Exam Venue :	ANAND INTERNATIONAL COLLEGE OF ENGINEERING JAIPUR
Exam Time :	4:00 PM - 5:30 PM
Exam Date :	06/03/2019

Section : General Section

Q.1 उस विकल्प का चयन करें जो सही रूप में रिक्त स्थान की पूर्ति करते हुए श्रृंखला को पूरा करें।
FKP, GMQ, HOR, ?

- Ans
- 1. JYI
 - 2. JNK
 - 3. IRT
 - 4. IQS

Question ID : 9895808640
Chosen Option : 3

Q.2 चार शब्द दिए गए हैं, जिनमें से तीन किसी तरह से समान हैं, जबकि एक अलग है। असंगत शब्द का चयन करें।

- Ans
- 1. असभ्यता
 - 2. सेंध
 - 3. चोरी
 - 4. लूट

Question ID : 9895808642
Chosen Option : 1

Q.3

नीचे दिए गए कथनों के बाद निष्कर्ष I, II और III दिए गए हैं। यह मानते हुए कि कथनों में दी गई जानकारी सत्य है, भले ही वह सर्वज्ञात तथ्यों से भिन्न प्रतीत होती हो और यह निर्णय करें कि कौन सा / से निष्कर्ष तार्किक और निश्चित रूप से कथन में दी गई जानकारी का अनुसरण करता है / करते हैं।

कथन:

कुछ महिलाएँ, कमजोर हैं।
कुछ कमजोर, स्त्री हैं।
सभी स्त्रीयाँ, लोह हैं।
सभी लोह, सोना हैं।

निष्कर्ष:

- I. कुछ कमजोर, लोह हैं।
- II. कुछ सोना कमजोर हैं
- III. कुछ महिलाएँ स्त्रीयाँ हैं

Ans

1. केवल I और II अनुसरण करते हैं
2. केवल II और III अनुसरण करते हैं
3. केवल I और III अनुसरण करते हैं
4. I, II और III सभी अनुसरण करते हैं

Question ID : 9895808651
Chosen Option : 2

Q.4 निम्नलिखित में से कौन सी उत्तर आकृति दी गई आकृति को पूरा करेगी?

प्रश्न आकृति:



Ans

- 1.
- 2.
- 3.
- 4.

Question ID : 9895808660
Chosen Option : 3

Q.5

छः बच्चे उत्तर की ओर मुख किये दो पंक्तियों में बैठे हैं। उनके नाम हैं
फुजी, युकेन, यम और क्रिश, चार्ली, मैक। फुजी और मैक, तिरछे विपरीत बैठे हैं।
युकेन, ऊपर वाली पंक्ति में बैठा है और फुजी के तुरंत दाएं है। क्रिश, मैक के बाएं
से दूसरे स्थान पर है जबकि यम और क्रिश, समान पंक्ति में नहीं हैं।

यम के तिरछे विपरीत कौन बैठा है?

Ans

- ✓ 1. क्रिश
✗ 2. युकेन
✗ 3. मैक
✗ 4. चार्ली

Question ID : 9895808649
Chosen Option : 4

Q.6 दिए गए विकल्पों में से संबंधित शब्द युगल का चयन करें।

अफगानिस्तान : काबुल :: _____ : _____

Ans

- ✓ 1. चीन : बीजिंग
✗ 2. पाकिस्तान : इस्लामनगर
✗ 3. ईरान : डबलिन
✗ 4. नेपाल : मोनाको

Question ID : 9895808643
Chosen Option : 2

Q.7 उस विकल्प आकृति का चयन करें, जिसमें प्रश्न आकृति छिपी हुई/ अंतर्निहित है।
प्रश्न आकृति:



Ans

- ✗ 1.
- ✗ 2.
- ✗ 3.

✓ 4.



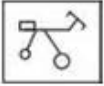
Question ID : 9895808661
Chosen Option : 4

Q.8 उस विकल्प का चयन करें जो दर्पण के बायीं ओर रखे जाने पर दी गई आकृति की दर्पण छवि से सर्वाधिक मेल खाता है।

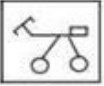


Ans

✗ 1.



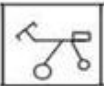
✗ 2.



✓ 3.



✗ 4.



Question ID : 9895808662
Chosen Option : 4

Q.9 चार अक्षर समूह दिए गए हैं, जिनमें से तीन किसी तरह से समान हैं, जबकि एक अलग है। असंगत अक्षर समूह का चयन करें।

Ans

✓ 1. JKNQ

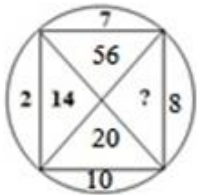
✗ 2. DEGJ

✗ 3. YZBE

✗ 4. QRTW

Question ID : 9895808641
Chosen Option : 2

Q.1 0 दिए गए विकल्पों में से लुप्त संख्या ज्ञात करें।



Ans

✓ 1. 80

✗ 2. 70

✗ 3. 77

✗ 4. 140

Question ID : 9895808657
Chosen Option : 3


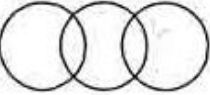


Q.1
1 दिए गए समीकरण को संतुलित करने के लिए '*' चिन्हों का स्थान लेने के लिए गणितीय चिन्हों के सही संयोजन का चयन करें:

$$54 * 6 * 5 * 14$$

- Ans
- 1. $- = \times$
 - 2. $= \times +$
 - 3. $\div + =$
 - 4. $+ \div =$

Question ID : 9895808658
Chosen Option : 4

Q.1
2 उस वेन आरेख का चयन करें जो दिए गए तीन वर्गों के बीच के संबंध को सर्वोत्तम दर्शाता है।
कपड़े, टी-शर्ट, पतलून(ट्राउजर)

- Ans
- 1. 
 - 2. 
 - 3. 
 - 4. 

Question ID : 9895808664
Chosen Option : 4

Q.1
3 उस विकल्प का चयन करें जो सही रूप में रिक्त स्थान की पूर्ति करते हुए श्रृंखला को पूरा करें।

$$\frac{3}{2}, \frac{5}{2}, \frac{7}{2}, \frac{9}{2}, \frac{11}{2} ?$$

- Ans
- 1. $\frac{17}{2}$
 - 2. $\frac{12}{2}$
 - 3. $\frac{13}{2}$

✗ 4. $\frac{10}{2}$

Question ID : 9895808654
Chosen Option : 1

Q.1 उस विकल्प का चयन करें जो तीसरे पद से उसी तरह संबंधित है जिस प्रकार दूसरा पद पहले पद से संबंधित है।
4

GPLS : 54 :: WGSK : _____

- Ans
- ✓ 1. 60
 - ✗ 2. 70
 - ✗ 3. 53
 - ✗ 4. 65

Question ID : 9895808645
Chosen Option : 2

Q.1 उस विकल्प का चयन करें जो सही रूप में रिक्त स्थान की पूर्ति करते हुए श्रृंखला को पूरा करें।
5

21, 43, 85, 171, 341, _____

- Ans
- ✓ 1. 683
 - ✗ 2. 680
 - ✗ 3. 684
 - ✗ 4. 675

Question ID : 9895808653
Chosen Option : 4

Q.1 35 बच्चों की एक कक्षा में, अमेया की रैंक ऊपर से 6 वीं है। एनी, अमेया से सात रैंक नीचे है। एनी की रैंक नीचे से क्या है?
6

- Ans
- ✗ 1. 19
 - ✗ 2. 22
 - ✓ 3. 23
 - ✗ 4. 20

Question ID : 9895808650
Chosen Option : 1

Q.1 एक निश्चित कूट में, NAP को MZO के रूप में कूटबद्ध किया जाता है। उसी कोड में SNEEZE को किस रूप में कूटबद्ध किया जाता है?
7

- Ans
- ✗ 1. RMDFYD
 - ✓ 2. RMDDYD
 - ✗ 3. RNDDYD
 - ✗ 4. RQDFYD

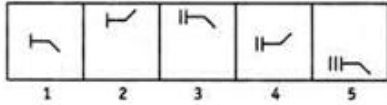
Question ID : 9895808646
Chosen Option : 3

- Q.1 आठ व्यक्ति A, B, C, D, E, F, G और H एक वृताकार मेज़ के चारों ओर बैठे हैं।
8 A और B केंद्र की ओर मुख किये हुए हैं जबकि अन्य छः व्यक्ति केंद्र के विपरीत मुख किये हुए हैं। A, H के दाएं से दूसरे स्थान पर बैठा है। B, A के बाएं से तीसरे स्थान पर बैठा है। D, G के दाएं से दूसरे स्थान पर बैठा है। G न B न ही A का निकटतम पड़ोसी है। E और F तुरंत पड़ोसी हैं और केंद्र के विपरीत मुख किये हुए हैं।
D के सापेक्ष C का क्या स्थान है?

- Ans
1. दाएं से तीसरा
2. दाएं से चौथा
3. बाएं से तीसरा
4. बाएं से चौथा

Question ID : 9895808648
Chosen Option : 2

- Q.1 9 दिए गए आकृति श्रृंखला में आगे आने वाले विकल्प को चुनें।
प्रश्न आकृति:



- Ans
- 1.
- 2.
- 3.
- 4.

Question ID : 9895808659
Chosen Option : 2

- Q.2 यदि NAMAN को 12321 के रूप में लिखते हैं और VINESH को 671489 के रूप में लिखते हैं, तो NIMESH को किस रूप में लिखा जाएगा?

- Ans
1. 167893
2. 174583
3. 173486
4. 173489

Q.2 चार विकल्प दिए गए हैं, जिनमें से तीन किसी तरह से समान हैं, जबकि एक अलग है। असंगत विकल्प का चयन करें।

- Ans
- 1. 1331
 - 2. 729
 - 3. 125
 - 4. 75

Q.2 लुप्त समरूप संख्या युग्म ज्ञात करें:

1000 : 121 :: ?

- Ans
- 1. 125 : 36
 - 2. 343 : 81
 - 3. 64 : 8
 - 4. 27 : 64

Q.2 दिए गए विकल्पों में से संबंधित शब्द युगल का चयन करें।

महीना: वर्ष :: _____ : _____





- Ans
- 1. लीटर : प्रवाही
 - 2. समय : दूरी
 - 3. गति : वाहन
 - 4. मिनट : घंटा

Q.2 नीचे दिए गए प्रश्न आकृति के अनुसार एक कागज को मोड़कर काटा जाता है। इस कागज को खोलने पर दी गयी उत्तर आकृतियों में से कौन सी आकृति दिखाई देगी ?

प्रश्न आकृति:



Ans

- ✗ 1. 
- ✗ 2. 
- ✗ 3. 
- ✓ 4. 

Question ID : 9895808663
Chosen Option : 3

Q.2 नीचे दिए गए कथनों के बाद दो निष्कर्ष I और II दिए गए हैं। यह मानते हुए कि कथनों में दी गई जानकारी सत्य है, भले ही वह सर्वज्ञात तथ्यों से भिन्न प्रतीत होती हो और यह निर्णय करें कि कौन सा / से निष्कर्ष तार्किक और निश्चित रूप से कथन में दी गई जानकारी का अनुसरण करता है / करते हैं।

कथन:-

कुछ चम्मचें, ग्लासें हैं।
सभी टेडी, चम्मच हैं।

निष्कर्ष:-

- I. कुछ टेडी, ग्लासें हैं।
II. कुछ ग्लासें, टेडी हैं।

Ans

- ✓ 1. न निष्कर्ष I न II अनुसरण करता है।
- ✗ 2. केवल निष्कर्ष II अनुसरण करता है।
- ✗ 3. केवल निष्कर्ष I अनुसरण करता है।
- ✗ 4. या निष्कर्ष I या II अनुसरण करता है।

Question ID : 9895808652
Chosen Option : 2

Q.2 दो साल तक बिना किसी मुकदमे के राजनीतिक कैदियों को हिरासत में रखना _____ की विशेषता थी।

Ans

- ✓ 1. रॉलेट एक्ट
- ✗ 2. ईस्ट इंडिया स्टॉक डिविडेंड रिडेम्पशन एक्ट
- ✗ 3. ब्रिटिश इंडिया रेग्यूलेटिंग एक्ट
- ✗ 4. भारत सरकार अधिनियम

Question ID : 9895808514
Chosen Option : 4

Q.2
7 चिप्स को ऑक्सीडाइज्ड होने से बचाने के लिए चिप्स के बैग में कौन-सी गैस प्रवाहित की जाती है?

- Ans
- 1. हीलियम
 - 2. ऑक्सीजन
 - 3. हाइड्रोजन
 - 4. नाइट्रोजन

Question ID : 9895808504
Chosen Option : 1

Q.2
8 केंद्रीय सामाजिक कल्याण मंडल के संस्थापक अध्यक्ष कौन थे?

- Ans
- 1. जी. दुर्गाबाई देशमुख
 - 2. एनी बेसेंट
 - 3. सरोजिनी नायडू
 - 4. अरुणा आसफ़ अली

Question ID : 9895808503
Chosen Option : 4

Q.2
9 राष्ट्रीय युवा दिवस किस के जन्मदिन पर मनाया जाता है?

- Ans
- 1. स्वामी अभेदानंद
 - 2. स्वामी राजेश्वरानंद महाराज
 - 3. स्वामी विवेकानंद
 - 4. स्वामी अशोकानंद

Question ID : 9895808496
Chosen Option : 3

Q.3
0 किस भारतीय राज्य ने आवास मंडलियों, उद्योगों और इमारतों की अन्य निर्दिष्ट श्रेणियों के लिए सौर प्लांट्स अनिवार्य कर दिए हैं?

- Ans
- 1. नगालैंड
 - 2. हरयाणा
 - 3. हिमाचल प्रदेश
 - 4. मणिपुर

Question ID : 9895808509
Chosen Option : 3

Q.3
1 सितारों की जगमगाहट का कारण _____ है।

- Ans
- 1. वायुमंडलीय अपवर्तन
 - 2. प्रकाश का बिखराव
 - 3. आंतरिक प्रतिबिंब
 - 4. वायुमंडलीय प्रतिबिंब

Question ID : 9895808506
Chosen Option : 1

Q.3
2 प्रधानमंत्री रोजगार योजना (पी.एम.आर.वाय.) योजना कौन से वर्ष प्रारम्भ की गई थी?

- Ans
- 1. 1993
 - 2. 1992
 - 3. 1994
 - 4. 1995

Question ID : 9895808498
Chosen Option : 2

Q.3
3 मशरूम और अन्य सूक्ष्म जीव मृत पौधे और जानवरों के ऊतकों पर फ्रीड करते हैं और उन्हें _____ में परिवर्तित करते हैं।

- Ans
- 1. धरण
 - 2. ढेला
 - 3. जड़ सहित घास
 - 4. नरम कोयला

Question ID : 9895808505
Chosen Option : 3

Q.3
4 सूर्य, नदियों और तालाबों की पूजा से जुड़ा त्योहार कौन सा है?

- Ans
- 1. छठ
 - 2. तीज
 - 3. मकर संक्रांति
 - 4. दिवाली

Question ID : 9895808491
Chosen Option : 4

Q.3
5 69वें गणतंत्र दिवस 2018 में अशोक चक्र से किसे सम्मानित किया गया है?

- Ans
- 1. ज्योति प्रकाश निराला
 - 2. हंगपन दादा

3. मोहन गोस्वामी

4. मुकुंद वरदराजन

Question ID : 9895808495
Chosen Option : 4

Q.3
6 ईस्ट इंडिया कंपनी के आविर्भाव के बाद निम्नलिखित में से किस समुद्री बंदरगाह का पतन हुआ?

Ans 1. विशाखापत्तनम

2. बॉम्बे

3. सूरत

4. कलकत्ता

Question ID : 9895808512
Chosen Option : 1

Q.3
7 निम्नलिखित में से कौन-सी नीति काम करने के अधिकार के अंतर्गत आती है?

Ans 1. प्रधानमंत्री उज्ज्वल योजना

2. आयुष्मान भारत

3. महात्मा गांधी राष्ट्रीय ग्रामीण रोजगार गारंटी अधिनियम

4. सौभाग्य योजना

Question ID : 9895808500
Chosen Option : 3

Q.3
8 भाखड़ा नांगल बांध किस नदी पर स्थित है?

Ans 1. सतलज

2. रावी

3. चिनाब

4. झेलम

Question ID : 9895808511
Chosen Option : 3

Q.3
9 देशों की तुलना करने के लिए प्रमुख अर्थशास्त्रीय विशेषता उनकी _____ है।

Ans 1. जनसंख्या

2. आय

3. मानव विकास सूचकांक

4. मृत्यु दर

Question ID : 9895808499

Q.4
0 किस भारतीय कलाकार को जीवनकाल उपलब्धि (लाइफटाइम अचीवमेंट) शैली पुरस्कार से सम्मानित किया गया है?

- Ans
- 1. ए आर रहमान
 - 2. लता मंगेशकर
 - 3. जाकिर हुसैन
 - 4. रवि शंकर

Question ID : 9895808497

Chosen Option : 1

Q.4
1 भारतीय संविधान लिखने वाली संविधान-सभा में कितने सदस्य थे?

- Ans
- 1. 199
 - 2. 298
 - 3. 299
 - 4. 198

Question ID : 9895808501

Chosen Option : 1

Q.4
2 भारत में 1912 में जमशेदपुर में पहला लोह और इस्पात कारखाना किसने स्थापित किया था?

- Ans
- 1. जे. एन. टाटा
 - 2. डी. जे. टाटा
 - 3. आर. डी. टाटा
 - 4. आर. जे. टाटा

Question ID : 9895808513

Chosen Option : 3

Q.4
3 विशाल बांधों के निर्माण का विरोध किन कारणों से किया जाता है?

- Ans
- 1. शारीरिक श्रम की कमी
 - 2. किसानों का बड़े पैमाने पर विस्थापन
 - 3. पनबिजली उत्पादन में कोई मदद नहीं थी
 - 4. वे कम लागत के नहीं थे

Question ID : 9895808507

Chosen Option : 1

Q.4
4 भारत के अधिकांश शास्त्रीय नृत्य तीन मुख्य पहलुओं को मिलाते हैं, "भाव", "राग" और "_____".

- Ans
- 1. स्वसर

- 2. सोपान
- 3. ताल
- 4. माला

Question ID : 9895808492
Chosen Option : 3

Q.4
5 निम्न में से किस उच्च न्यायालय में सबसे अधिक बैठकें हैं?

- Ans
- 1. गुवाहाटी उच्च न्यायालय
 - 2. मुंबई उच्च न्यायालय
 - 3. कोलकाता उच्च न्यायालय
 - 4. इलाहाबाद उच्च न्यायालय

Question ID : 9895808502
Chosen Option : 2

Q.4
6 भूमि पर उच्च जनसंख्या दबाव के क्षेत्रों में किस प्रकार की खेती की जाती है?

- Ans
- 1. सघन निर्वाह खेती
 - 2. आदिम निर्वाह खेती
 - 3. व्यावसायिक खेती
 - 4. व्यापक निर्वाह खेती

Question ID : 9895808510
Chosen Option : 3

Q.4
7 पीयूष ग्रंथि द्वारा किस हार्मोन का स्राव किया जाता है?

- Ans
- 1. थायरोक्सिन
 - 2. इंसुलिन
 - 3. एड्रिनैलिन
 - 4. ग्रोथ (वृद्धि) हार्मोन

Question ID : 9895808508
Chosen Option : 2

Q.4
8 धूप खेल एक मौसमी खेल है, जो _____ में खेला जाता है।

- Ans
- 1. मेघालय
 - 2. महाराष्ट्र
 - 3. नागालैंड

✓ 4. असम

Question ID : 9895808493
Chosen Option : 1

Q.4 कौन-सा भारतीय सांस्कृतिक स्थल विश्व विरासत की सूची में शामिल नहीं है?

- Ans
- ✓ 1. जामा मस्जिद
 - ✗ 2. लाल किला परिसर
 - ✗ 3. कुतुब मीनार
 - ✗ 4. हुमायूँ का मकबरा

Question ID : 9895808490
Chosen Option : 1

Q.5 साइकिल चलाते हुए दुनिया पार करने वाली सबसे तेज़ एशियाई कौन है?

- Ans
- ✗ 1. रामेश्वरी देवी
 - ✗ 2. मयूरी लुते
 - ✗ 3. ई चाओबा देवी
 - ✓ 4. वेदांगी कुलकर्णी

Question ID : 9895808494
Chosen Option : 1

Q.5 यदि दस आदमी किसी एक काम को दस दिनों में कर सकते हैं, तो उस काम का कितना भाग एक आदमी एक दिन में कर सकता है?

- Ans
- ✓ 1. $\frac{1}{100}$
 - ✗ 2. $\frac{1}{10}$
 - ✗ 3. $\frac{1}{20}$
 - ✗ 4. $\frac{1}{2}$

Question ID : 9895808705
Chosen Option : 2

Q.5 यदि $x:y = 2:3$ तो $\frac{3x+2y}{9x+5y}$ का मान क्या होगा?

- Ans
- ✗ 1. $\frac{5}{14}$

2. $\frac{1}{2}$
3. $\frac{4}{11}$
4. $\frac{11}{2}$

Question ID : 9895808701
Chosen Option : 2

Q.5 एक समबाहु त्रिभुज का क्षेत्रफल $16\sqrt{3}$ sq cm है। इसकी परिमाप कितना है?

- Ans 1. 12 cm
2. 24 cm
3. 16 cm
4. 32 cm

Question ID : 9895808710
Chosen Option : 3

Q.5 रेखा, लीजा को एक DVD प्लेयर 15% लाभ पर बेचती है तथा लीजा उसे मेघा को 25% लाभ पर बेचती है। यदि मेघा उसके लिये ₹ 2875 का भुगतान करती है, तो रेखा के लिए क्रय मूल्य क्या था?

- Ans 1. ₹ 1500
2. ₹ 2000
3. ₹ 1900
4. ₹ 1800

Question ID : 9895808698
Chosen Option : 3

Q.5 एक काम को पूरा करने के लिए यदि एक व्यक्ति कम होता, तो उस काम को पूरा करने में एक ओर दिन और लगता।
5 यदि कार्य पूरा करने के लिए आवश्यक मानव-दिनों की संख्या 56 है, तो काम करने वाले कितने व्यक्ति थे?

- Ans 1. 6
2. 9
3. 8
4. 14

Question ID : 9895808706
Chosen Option : 3

Q.5 4 cm ऊँचाई और 3 cm आधार त्रिज्या का एक बेलन पिघलाया जाता है और एक गोला बनाया जाता है। गोले की त्रिज्या कितनी है?

- Ans 1. 4 cm

2. 2.5 cm
 3. 3.5 cm
 4. 3 cm

Question ID : 9895808709
Chosen Option : 3

Q.5 A तथा B की आय 5 : 3 के अनुपात में है। A, B तथा C के व्यय का अनुपात 8 : 5 : 2 में है। यदि C का व्यय
7 ₹ 2000 तथा B की बचत ₹ 700 हो, तो A की बचत कितनी होगी?

- Ans 1. ₹ 1500
 2. ₹ 1000
 3. ₹ 250
 4. ₹ 500

Question ID : 9895808700
Chosen Option : 1

Q.5 एक कॉलोनी में 5 परिवारों में 1 बच्चा है, 7 परिवारों में 2 बच्चे हैं, 8 परिवारों में 3 बच्चे हैं और 3 परिवारों में 4
8 बच्चे हैं। बच्चों की संख्या का बहुलक क्या है?

- Ans 1. 4
 2. 5
 3. 3
 4. 8

Question ID : 9895808696
Chosen Option : 3

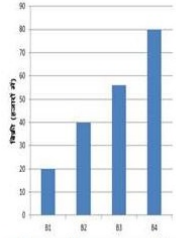
Q.5 दो अलग-अलग संख्याओं का लघुत्तम समापवर्त्य 30 हैं। निम्नलिखित में से कौन सा उनका महत्तम समापवर्तक नहीं
9 हो सकता?

- Ans 1. 10
 2. 15
 3. 12
 4. 6

Question ID : 9895808690
Chosen Option : 1

Q.6
0

चार दुकानों (B1, B2, B3, B4) से पुस्तकों की बिक्री हजार में नीचे दी गई है। ग्राफ का अध्ययन करें और निम्नलिखित प्रश्नों के उत्तर दें।



यदि प्रत्येक दुकान में पुस्तकों की बिक्री में 10% वृद्धि हो सकती है, तो सभी दुकानों द्वारा बेची गई पुस्तकों की कुल संख्या (हजार में) _____ होगी।

Ans

1. 240.0

2. 214.5

3. 228.0

4. 215.5

Question ID : 9895808714

Chosen Option : 3

Q.6
1 किसी ग्राहक को किसी वस्तु के अंकित मूल्य पर $2\frac{1}{2}\%$ की छूट दी जाती है। उसने इसे ₹ 39 में खरीदा। वस्तु का अंकित मूल्य क्या है?

Ans

1. ₹ 41.5

2. ₹ 42

3. ₹ 36

4. ₹ 40

Question ID : 9895808695

Chosen Option : 3

Q.6
2 300 मीटर लंबाई की एक ट्रेन 15 सेकंड में एक खम्भे को पार करती है। ट्रेन की चाल कितनी है?

Ans

1. 60 km/hr

2. 72 km/hr

3. 75 km/hr

4. 65 km/hr

Question ID : 9895808708

Chosen Option : 3

Q.6
3 निर्देश: निम्नलिखित प्रश्नों में प्रश्न चिह्न (?) के स्थान पर क्या आना चाहिए?

$$1072 + [(8240 + (-9213)) - \{(2863 - (4329 - 2143))\}] = ?$$

- Ans
- 1. -576
 - 2. 578
 - 3. -578
 - 4. 576

Question ID : 9895808692
Chosen Option : 3

Q.6
4 ₹ 16 प्रति मीटर की दर से 35 m त्रिज्या के वृत्ताकार उद्यान की बाड़ लगाने की लागत क्या होगी? ($\pi = \frac{22}{7}$ लीजिए)

- Ans
- 1. ₹ 3160
 - 2. ₹ 2850
 - 3. ₹ 3240
 - 4. ₹ 3520

Question ID : 9895808711
Chosen Option : 2

Q.6
5 चक्रवृद्धि ब्याज पर एक निश्चित राशि एक वर्ष के अंत में ₹ 650 और दूसरे वर्ष के अंत में ₹ 676 हो जाती है। राशि कितनी है?

- Ans
- 1. ₹ 560
 - 2. ₹ 600
 - 3. ₹ 625
 - 4. ₹ 540

Question ID : 9895808704
Chosen Option : 3

Q.6
6 शुक्रवार, शनिवार और रविवार का औसत तापमान 26° तथा शनिवार, रविवार और सोमवार का औसत तापमान 24° था। यदि सोमवार को यह ठीक 25° था तो शुक्रवार के दिन तापमान कितना था?

- Ans
- 1. 33°
 - 2. 30°
 - 3. 32°
 - 4. 31°

Question ID : 9895808694
Chosen Option : 3

Q.6 यदि एक गोले का वक्र पृष्ठ क्षेत्रफल 44% बढ़ता है तो उसके आयतन में कितने प्रतिशत की वृद्धि होगी ?

Ans 1. निर्धारित नहीं किया जा सकता

2. 72.8%

3. 20%

4. 44%

Question ID : 9895808697

Chosen Option : 1

Q.6 दूध और पानी के एक विलयन में दूध और पानी का अनुपात 3:2 है। एक दूसरे विलयन में दूध और पानी का अनुपात 2:1 है। पहले विलयन के 40 लीटर को दूसरे विलयन के 30 लीटर के साथ मिलाया जाता है। परिणामी विलयन में दूध और पानी का अनुपात क्या होगा?

Ans 1. 13 : 22

2. 6 : 5

3. 22 : 13

4. 5 : 6

Question ID : 9895808702

Chosen Option : 2

Q.6 स्मिथ 10, 12, 15 और 20 km/hr की चाल से एक वर्ग की चारों भुजाओं को तय करता है। स्मिथ की औसत चाल कितनी है?

Ans 1. $12\frac{1}{2}$ km/hr

2. $13\frac{1}{3}$ km/hr

3. 10 km/hr

4. $14\frac{1}{4}$ km/hr

Question ID : 9895808707

Chosen Option : 2

Q.7 एक डीलर सामान को उसके सूची मूल्य पर 10% की छुट लेकर खरीदता है और उसको सूची मूल्य से 10% अधिक पर बेचता है। उसका लाभ प्रतिशत कितना है?

Ans 1. $11\frac{11}{9}$ %

2. 20%

3. $22\frac{2}{9}$ %

4. 10%

Question ID : 9895808699

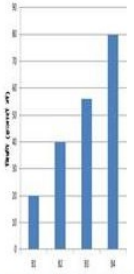
Chosen Option : 3

Q.7 3 व्यक्तियों की औसत आयु 30 वर्ष है। यदि उनकी उम्र का अनुपात क्रमशः 3:5:7 है, तो सबसे बड़े व्यक्ति की आयु कितनी है?

- Ans
- 1. 28 वर्ष
 - 2. 42 वर्ष
 - 3. 21 वर्ष
 - 4. 25 वर्ष

Question ID : 9895808693
Chosen Option : 2

Q.7 2 चार दुकानों (B1, B2, B3, B4) से पुस्तकों की बिक्री हजार में नीचे दी गई है। आलेख का अध्ययन करें और निम्नलिखित प्रश्नों के उत्तर दें।



दुकान B1, B2 और B4 से पुस्तकों की औसत बिक्री _____ से निकटतम है।

- Ans
- 1. 46333
 - 2. 48333
 - 3. 43633
 - 4. 46666

Question ID : 9895808712
Chosen Option : 2

Q.7 3 निम्नलिखित प्रश्नों में प्रश्न चिह्न (?) के स्थान पर क्या आना चाहिए?

$$? = (45 \times 11) \div 3$$

- Ans
- 1. 235
 - 2. 162
 - 3. 165
 - 4. 144

Question ID : 9895808691
Chosen Option : 3

Q.7
4

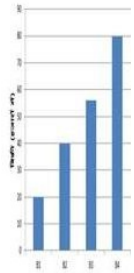
एक निश्चित राशि पर, पहले दो वर्षों के लिए प्रति वर्ष ब्याज दर 4% है। अगले चार वर्षों के लिए ब्याज दर 6% है और अगले तीन वर्षों के लिए 8% है। यदि 9 वर्षों के अंत में अर्जित कुल साधारण ब्याज ₹ 1120 है, तो राशि कितनी है?

Ans

1. ₹ 2000
2. ₹ 2240
3. ₹ 1600
4. ₹ 1800

Question ID : 9895808703
Chosen Option : 2

Q.7
5 चार दुकानों (B1, B2, B3, B4) से पुस्तकों की बिक्री हजार में नीचे दी गई है। ग्राफ का अध्ययन करें और निम्नलिखित प्रश्नों के उत्तर दें।



जिनमें पुस्तकों की बिक्री औसत बिक्री से कम है उन दुकानों की संख्या _____ है।

Ans

1. 4
2. 3
3. 2
4. 1

Question ID : 9895808713
Chosen Option : 1

Section : English Language

Q.1 Select the most appropriate word to fill in the blank.

We went to see the butterfly farm _____ was very close to our hotel.

Ans

1. Us
2. Them
3. It
4. They

Question ID : 9895808773

Q.2 Select the meaning of the given idiom.

Play it safe

- Ans
- 1. play indoors
 - 2. play a game peacefully
 - 3. avoid risks
 - 4. play for pleasure

Question ID : 9895808786

Chosen Option : --

Q.3 Select the most appropriate word to fill in the blank.

The man insisted on buying the doves _____ he was fond of birds.

- Ans
- 1. as if
 - 2. due to
 - 3. though
 - 4. because

Question ID : 9895808774

Chosen Option : --

Q.4 Select the most appropriate option to substitute the underlined segment in the given sentence. If there is no need to substitute it, select No substitution required.

The most pleasant way was to going and having a good dinner at some fine restaurant.

- Ans
- 1. is to have gone and eat
 - 2. was going to have
 - 3. No substitution required
 - 4. was to go and have

Question ID : 9895808772

Chosen Option : --

Q.5 Select the most appropriate option to substitute the underlined segment in the given sentence. If there is no need to substitute it, select No substitution required.

Whenever there is raining, desert flowers bloom and the sight can be rewarding.

- Ans
- 1. When its rains
 - 2. No substitution required
 - 3. Whenever it rains
 - 4. When raining

Question ID : 9895808770

Q.6 Identify the segment in the sentence which contains the grammatical error from the given options.

The chameleon's tongue is too long that it keeps it folded in the mouth.

Ans

- 1. it keeps
- 2. too long that
- 3. The chameleon's
- 4. in the mouth

Question ID : 9895808768

Chosen Option : --

Q.7 Select the most appropriate option to substitute the underlined segment in the given sentence. If there is no need to substitute it, select No substitution required.

As the tree comes crashing down, monkeys woke from its sleep and run from branch to branch.

Ans

- 1. No substitution required
- 2. woke in their sleep
- 3. wake from their sleep
- 4. wakes from it sleep

Question ID : 9895808771

Chosen Option : --

Q.8 Select the most appropriate word to fill in the blank.

Last year the performance of this production unit was _____.

Ans

- 1. tall
- 2. below
- 3. staggered
- 4. fantastic

Question ID : 9895808791

Chosen Option : --

Q.9 Identify the segment in the sentence which contains the grammatical error from the given options.

We used to keep large plates of fruit on a table nearer a window in the dining-room.

Ans

- 1. nearer a window
- 2. on a table
- 3. large plates of
- 4. We used to

Question ID : 9895808769

Chosen Option : --

Q.1
0 Select the antonym of the given word.

DESPAIR

- Ans
- 1. Distress
 - 2. Hopelessness
 - 3. Hope
 - 4. Desperation

Question ID : 9895808783
Chosen Option : --

Q.1
1 Select the most appropriate word to fill in the blank.

He offered us _____ food items for lunch and we were happy.

- Ans
- 1. delicious
 - 2. pungent
 - 3. big
 - 4. lucrative

Question ID : 9895808792
Chosen Option : --

Q.1
2 Select the synonym of the given word.

SUBSTANTIAL

- Ans
- 1. Worthless
 - 2. Negligible
 - 3. Considerable
 - 4. Slight

Question ID : 9895808781
Chosen Option : --

Q.1
3 Select the meaning of the given idiom.

Draw a Blank

- Ans
- 1. Be an artist
 - 2. Unable to remember
 - 3. Lose money
 - 4. Display skills

Question ID : 9895808785
Chosen Option : --

Q.1 Identify the segment in the sentence which contains the grammatical error from the given options.
4

An ant uses it's feelers or antennae to 'talk' to other ants by passing messages through them.

- Ans
- 1. to other ants
 - 2. Through them
 - 3. An ant
 - 4. it's feelers

Question ID : 9895808767
Chosen Option : --

Q.1 Select the wrongly spelt word.
5

- Ans
- 1. Perspiration
 - 2. Plateform
 - 3. Paralysis
 - 4. Perseverance

Question ID : 9895808790
Chosen Option : --

Comprehension:

In the following passage some words have been deleted. Fill in the blanks with the help of the alternatives given. Select the most appropriate option for each number.

The National Aeronautics and Space Administration's (NASA) Viking Mission to Mars was (1) _____ of two spacecraft. Viking 1 and Viking 2, (2) _____ consisting of an orbiter and (3) _____ lander. The primary objectives (4) _____ to obtain images and samples (5) _____ the Martian surface and soil.

SubQuestion No : 16

Q.1 Select the most appropriate option that will fill in the blank number 1.
6

- Ans
- 1. consist
 - 2. including
 - 3. composed
 - 4. making

Question ID : 9895808776
Chosen Option : --

Comprehension:

In the following passage some words have been deleted. Fill in the blanks with the help of the alternatives given. Select the most appropriate option for each number.

The National Aeronautics and Space Administration's (NASA) Viking Mission to Mars was (1) _____ of two spacecraft. Viking 1 and Viking 2, (2) _____ consisting of an orbiter and (3) _____ lander. The primary objectives (4) _____ to obtain images and samples (5) _____ the Martian surface and soil.

SubQuestion No : 17

Q.1
7 Select the most appropriate option that will fill in the blank number 2.

- Ans
- 1. one of
 - 2. each
 - 3. equally
 - 4. both of

Question ID : 9895808777
Chosen Option : --

Comprehension:

In the following passage some words have been deleted. Fill in the blanks with the help of the alternatives given. Select the most appropriate option for each number.

The National Aeronautics and Space Administration's (NASA) Viking Mission to Mars was (1) _____ of two spacecraft. Viking 1 and Viking 2, (2) _____ consisting of an orbiter and (3) _____ lander. The primary objectives (4) _____ to obtain images and samples (5) _____ the Martian surface and soil.

SubQuestion No : 18

Q.1
8 Select the most appropriate option that will fill in the blank number 3.

- Ans
- 1. the
 - 2. an
 - 3. No article required
 - 4. a

Question ID : 9895808778
Chosen Option : --

Comprehension:

In the following passage some words have been deleted. Fill in the blanks with the help of the alternatives given. Select the most appropriate option for each number.

The National Aeronautics and Space Administration's (NASA) Viking Mission to Mars was (1) _____ of two spacecraft. Viking 1 and Viking 2, (2) _____ consisting of an orbiter and (3) _____ lander. The primary objectives (4) _____ to obtain images and samples (5) _____ the Martian surface and soil.

SubQuestion No : 19

Q.1
9 Select the most appropriate option that will fill in the blank number 4.

- Ans
- 1. were
 - 2. was
 - 3. is
 - 4. has been

Question ID : 9895808779

Chosen Option : --

Comprehension:

In the following passage some words have been deleted. Fill in the blanks with the help of the alternatives given. Select the most appropriate option for each number.

The National Aeronautics and Space Administration's (NASA) Viking Mission to Mars was (1) _____ of two spacecraft. Viking 1 and Viking 2, (2) _____ consisting of an orbiter and (3) _____ lander. The primary objectives (4) _____ to obtain images and samples (5) _____ the Martian surface and soil.

SubQuestion No : 20

Q.2
0 Select the most appropriate option that will fill in the blank number 5.

- Ans
- 1. on
 - 2. for
 - 3. of
 - 4. at

Question ID : 9895808780

Chosen Option : --

Q.2
1 Select the synonym of the given word.

VAIN

- Ans
- 1. Useful
 - 2. Nutritious

- 3. Useless
- 4. Beneficial

Question ID : 9895808782
Chosen Option : --

Q.2
2 Select the word which means the same as the group of words given.

One who loves books

- Ans
- 1. Orator
 - 2. Librarian
 - 3. Veteran
 - 4. Bibliophile

Question ID : 9895808787
Chosen Option : --

Q.2
3 Select the antonym of the given word.

ARID

- Ans
- 1. Wet
 - 2. Dry
 - 3. Parched
 - 4. Scorched

Question ID : 9895808784
Chosen Option : --

Q.2
4 Select the wrongly spelt word.

- Ans
- 1. Dilemma
 - 2. Develope
 - 3. Disaster
 - 4. Disappear

Question ID : 9895808789
Chosen Option : --

Q.2
5 Select the word which means the same as the group of words given.

A false or assumed identity

- Ans
- 1. Archive
 - 2. Annals
 - 3. Alien
 - 4. Alias

Section : Hindi Language

Q.1 रिक्त स्थान को भरने के लिए उपयुक्त शब्द का चयन करें।

तिरंगा हमारे राष्ट्रीय स्वाभिमान _____ प्रतीक है।

- Ans
- 1. की
 - 2. के
 - 3. को
 - 4. का

Question ID : 9895807003

Chosen Option : 4

Q.2 'चैन की वंशी बजाना' मुहावरे का अर्थ है-

- Ans
- 1. बांसुरी बजाना
 - 2. खाली बैठना
 - 3. बेरोजगार होना
 - 4. मौज करना

Question ID : 9895807015

Chosen Option : 2

Q.3 दिए गए वाक्य में रेखांकित खंड को प्रतिस्थापित करने के लिए उपयुक्त विकल्प का चयन करें।

श्रवण कुमार की कहानी मर्म को छूने वाली है।

- Ans
- 1. अतलदर्शी
 - 2. मर्मस्पर्शी
 - 3. परामर्शी
 - 4. दूरदर्शी

Question ID : 9895806999

Chosen Option : 3

Q.4 दिए गए वाक्य का वह भाग ज्ञात करें जिसमें कोई त्रुटि है।

वन के पशुओं को ऐसा लगा कि उन्हें भी एक अच्छा शासन व्यवस्था अपनानी चाहिए।

- Ans
- 1. अपनानी चाहिए।
 - 2. ऐसा लगा कि उन्हें भी
 - 3. एक अच्छा शासन व्यवस्था

✗ 4. वन के पशुओं को

Question ID : 9895806997
Chosen Option : 4

Q.5 सही वर्तनी वाले शब्द का चयन करें।

- Ans
- ✗ 1. कवियत्री
 - ✗ 2. कवीयित्री
 - ✗ 3. कवयीत्रि
 - ✓ 4. कवयित्री

Question ID : 9895807020
Chosen Option : 1

Q.6 'अर्वाचीन' का का विलोम शब्द चयन करें।

- Ans
- ✗ 1. नवीन
 - ✗ 2. आधुनिक
 - ✓ 3. प्राचीन
 - ✗ 4. कठिन

Question ID : 9895807011
Chosen Option : 3

Q.7 दिए गए वाक्य का वह भाग ज्ञात करें जिसमें कोई त्रुटि है।

आदमी वहीं तक जाता है वहाँ तक जाने की उसमें क्षमता हो।

- Ans
- ✗ 1. आदमी वहीं तक
 - ✓ 2. वहाँ तक जाने की
 - ✗ 3. उसमें क्षमता हो।
 - ✗ 4. जाता है

Question ID : 9895806996
Chosen Option : 2

Q.8 'जिसके आने की तिथि मालूम न हो' शब्द समूह के लिए शब्द है-

- Ans
- ✗ 1. विशिष्ट
 - ✗ 2. देवता
 - ✓ 3. अतिथि
 - ✗ 4. मनुष्य

Question ID : 9895807018
Chosen Option : 4

Q.9 दिए गए वाक्य का वह भाग ज्ञात करें जिसमें कोई त्रुटि है।

डॉ. राजेन्द्र प्रसाद राजनीतिज्ञ होने का साथ-साथ भावप्रवण साहित्यकार भी थे।

- Ans
- 1. भी थे।
 - 2. भावप्रवण साहित्यकार
 - 3. राजनीतिज्ञ होने का साथ-साथ
 - 4. डॉ. राजेन्द्र प्रसाद

Question ID : 9895806995
Chosen Option : 2

Q.1 'लहू का घूँट पीकर रह जाना' मुहावरे का अर्थ है-

- Ans
- 1. क्रोध करना
 - 2. डर जाना
 - 3. क्रोध शांत होना
 - 4. अपमान सहन कर लेना

Question ID : 9895807016
Chosen Option : 4

Comprehension:

निम्नलिखित गद्यांश के रिक्त स्थानों की पूर्ति गद्यांश के नीचे दिए गए प्रश्नों के अनुसार कीजिए-

दीपावली को कई लोग घरों में _____ (1) बनाते हैं। इस दिन सब लोग सगे-सम्बन्धियों को _____ (2) देते हैं। बच्चे नए वस्त्र पहनते हैं। इस दिन घरों में तरह-तरह के _____ (3) बनते हैं। रात को सब लोग लक्ष्मी पूजन करके पटाखे _____ (4) हैं। इस दिन घर _____ (5) से रोशन किए जाते हैं।

SubQuestion No : 11

Q.1 गद्यांश में संकेतित रिक्त स्थान (1) के लिए उपयुक्त शब्द होगा।

- Ans
- 1. रंगोली
 - 2. खटोली
 - 3. गुब्बारे
 - 4. चमोली

Comprehension:

निम्नलिखित गद्यांश के रिक्त स्थानों की पूर्ति गद्यांश के नीचे दिए गए प्रश्नों के अनुसार कीजिए-

दीपावली को कई लोग घरों में _____ (1) बनाते हैं। इस दिन सब लोग सगे-सम्बन्धियों को _____ (2) देते हैं। बच्चे नए वस्त्र पहनते हैं। इस दिन घरों में तरह-तरह के _____ (3) बनते हैं। रात को सब लोग लक्ष्मी पूजन करके पटाखे _____ (4) हैं। इस दिन घर _____ (5) से रोशन किए जाते हैं।

SubQuestion No : 12

Q.1
2 गद्यांश में संकेतित रिक्त स्थान (2) के लिए उपयुक्त शब्द होगा।

- Ans
- 1. उपहार
 - 2. नमस्कार
 - 3. तिरष्कार
 - 4. प्रहार

Comprehension:

निम्नलिखित गद्यांश के रिक्त स्थानों की पूर्ति गद्यांश के नीचे दिए गए प्रश्नों के अनुसार कीजिए-

दीपावली को कई लोग घरों में _____ (1) बनाते हैं। इस दिन सब लोग सगे-सम्बन्धियों को _____ (2) देते हैं। बच्चे नए वस्त्र पहनते हैं। इस दिन घरों में तरह-तरह के _____ (3) बनते हैं। रात को सब लोग लक्ष्मी पूजन करके पटाखे _____ (4) हैं। इस दिन घर _____ (5) से रोशन किए जाते हैं।

SubQuestion No : 13

Q.1
3 गद्यांश में संकेतित रिक्त स्थान (3) के लिए उपयुक्त शब्द होगा।

- Ans
- 1. पकवान
 - 2. अनाज़
 - 3. उपहार
 - 4. फल

Comprehension:

निम्नलिखित गद्यांश के रिक्त स्थानों की पूर्ति गद्यांश के नीचे दिए गए प्रश्नों के अनुसार कीजिए-

दीपावली को कई लोग घरों में _____ (1) बनाते हैं। इस दिन सब लोग सगे-सम्बन्धियों को _____ (2) देते हैं। बच्चे नए वस्त्र पहनते हैं। इस दिन घरों में तरह-तरह के _____ (3) बनते हैं। रात को सब लोग लक्ष्मी पूजन करके पटाखे _____ (4) हैं। इस दिन घर _____ (5) से रोशन किए जाते हैं।

SubQuestion No : 14

Q.1
4 गद्यांश में संकेतित रिक्त स्थान (4) के लिए उपयुक्त शब्द होगा।

- Ans
- 1. गिराते
 - 2. जलाते
 - 3. दौड़ाते
 - 4. चलाते

Comprehension:

निम्नलिखित गद्यांश के रिक्त स्थानों की पूर्ति गद्यांश के नीचे दिए गए प्रश्नों के अनुसार कीजिए-

दीपावली को कई लोग घरों में _____ (1) बनाते हैं। इस दिन सब लोग सगे-सम्बन्धियों को _____ (2) देते हैं। बच्चे नए वस्त्र पहनते हैं। इस दिन घरों में तरह-तरह के _____ (3) बनते हैं। रात को सब लोग लक्ष्मी पूजन करके पटाखे _____ (4) हैं। इस दिन घर _____ (5) से रोशन किए जाते हैं।

SubQuestion No : 15

Q.1
5 गद्यांश में संकेतित रिक्त स्थान (5) के लिए उपयुक्त शब्द होगा।

- Ans
- 1. चमक
 - 2. सफ़ाई
 - 3. अग्नि
 - 4. दीपक

Question ID : 9895807010
Chosen Option : 2

Q.1
6 सही वर्तनी वाले शब्द का चयन करें।

- Ans
- 1. अद्वितिय
 - 2. अद्वितीय
 - 3. आद्वीतीय
 - 4. अद्वीतिय

Question ID : 9895807019
Chosen Option : 2

Q.1
7 दिए गए वाक्य में रेखांकित खंड को प्रतिस्थापित करने के लिए उपयुक्त विकल्प का चयन करें।

हमें शक्ति के अनुसार गरीबों की मदद करनी चाहिए।

- Ans
- 1. यथाशक्ति
 - 2. यथाभक्ति
 - 3. यथासम्पत्ति
 - 4. यथायोग्य

Question ID : 9895807000
Chosen Option : 4

Q.1
8 रिक्त स्थान को भरने के लिए उपयुक्त शब्द का चयन करें।

वह मेरे पास नहीं आ सका _____ उसे बुखार था।

- Ans
- 1. परन्तु
 - 2. इसलिए
 - 3. तथापि
 - 4. क्योंकि

Question ID : 9895807002
Chosen Option : 4

Q.1
9 दिए गए वाक्य में रेखांकित खंड को प्रतिस्थापित करने के लिए उपयुक्त विकल्प का चयन करें।

तप करने वाला किसी की निंदा नहीं करता।

- Ans
- 1. परोपकारी
 - 2. दूरदर्शी
 - 3. वैष्णव

✓ 4. तपस्वी

Question ID : 9895806998
Chosen Option : 4

Q.2
0 'कृतज्ञ' का विलोम शब्द है-

- Ans
- ✗ 1. प्रतिकूल
 - ✗ 2. त्यागी
 - ✗ 3. निष्ठुर
 - ✓ 4. कृतघ्न

Question ID : 9895807012
Chosen Option : 4

Q.2
1 रिक्त स्थान को भरने के लिए उपयुक्त शब्द का चयन करें।

राधा वीणा बजा _____ है।

- Ans
- ✗ 1. रहा
 - ✓ 2. रही
 - ✗ 3. रहे
 - ✗ 4. रहि

Question ID : 9895807004
Chosen Option : 2

Q.2
2 रिक्त स्थान को भरने के लिए उपयुक्त शब्द का चयन करें।

मैं कल दिल्ली गया था _____ दो दिन बाद कलकत्ता जाऊंगा।

- Ans
- ✗ 1. वरना
 - ✓ 2. और
 - ✗ 3. यद्यपि
 - ✗ 4. अन्यथा

Question ID : 9895807001
Chosen Option : 2

Q.2
3 'आगे होने वाला' शब्द समूह के लिए एक शब्द प्रयुक्त होता है-

- Ans
- ✓ 1. भावी
 - ✗ 2. अतीत
 - ✗ 3. तत्काल

✗ 4. उसी समय

Question ID : 9895807017
Chosen Option : 4

Q.2
4 'कल्पवृक्ष' का पर्यायवाची शब्द है-

- Ans
- ✗ 1. हरि
 - ✗ 2. पेड़
 - ✓ 3. देववृक्ष
 - ✗ 4. तरु

Question ID : 9895807013
Chosen Option : 3

Q.2
5 'शत्रु' का पर्यायवाची शब्द है-

- Ans
- ✗ 1. बन्धु
 - ✗ 2. ईर्ष्यालु
 - ✓ 3. रिपु
 - ✗ 4. शार्दूल

Question ID : 9895807014
Chosen Option : 4