

## Constable (GD) in CAPFs, NIA, SSF and Rifleman (GD) in Assam Rifles Examination, 2018

Roll No. :	GovtJobsAlert.In
Registration No.	GovtJobsAlert.In
Name :	GovtJobsAlert.In
Exam Venue :	iON Digital Zone iDZ Tatisilwai
Exam Time :	9:00 AM - 10:30 AM
Exam Date :	07/03/2019

Section : General Section

Q.1 लड़कों की एक पंक्ति में A आगे से 15वाँ है। उसके आगे जितने लड़के थे उससे तीन गुना लड़के उसके पीछे थे। A और पंक्ति के अंत से 7वें लड़के के बीच कितने लड़के हैं?

- Ans
- 1. 35
  - 2. 40
  - 3. 34
  - 4. 33

Question ID : 9895809208  
Chosen Option : 4

Q.2 पांच व्यक्ति पलक, करोल, रिशा, सलोनी और तिशा एक कार में यात्रा कर रहे हैं। कार में दो सीट आगे तथा तीन सीट पीछे की ओर है। रिशा कार चला रही है। पलक कार के पीछे की खिड़की वाली सीट पर बैठना चाहती है। तिशा, पलक के बगल में बैठना चाहती है। करोल, तिशा से नफरत करती है तथा उसके साथ नहीं बैठना चाहती है। चालक के बगल में कौन बैठा है?

- Ans
- 1. करोल
  - 2. सलोनी
  - 3. तिशा
  - 4. निर्धारित नहीं किया जा सकता

Question ID : 9895809206  
Chosen Option : 1

Q.3 चार शब्द दिए गए हैं, जिनमें से तीन किसी तरह से समान हैं, जबकि एक अलग है। असंगत शब्द का चयन करें।

- Ans
- 1. घड़ा
  - 2. नदी
  - 3. बाल्टी
  - 4. बोतल

Question ID : 9895809200  
Chosen Option : 2

Q.4 उस विकल्प का चयन करें जो सही रूप में रिक्त स्थान की पूर्ति करते हुए श्रृंखला को पूरा करें।

MaN, SaH, YaB, \_\_\_\_\_

Ans

- 1. TaD
- 2. RaC
- 3. FaV
- 4. EaV

Question ID : 9895809198  
Chosen Option : 4

Q.5 एक निश्चित कूट में, DHONI को AELKF के रूप में लिखा जाता है। उसी कूट में EXPOSE को कैसे लिखा जाता है?

- Ans
- 1. BVMLPB
  - 2. BUNLPB
  - 3. BUMLQB
  - 4. BUMLPB

Question ID : 9895809204  
Chosen Option : 4

Q.6 उस विकल्प का चयन करें जो तीसरे पद से उसी तरह संबंधित है जिस प्रकार दूसरा पद पहले पद से संबंधित है।

0.24 : 0.0024 :: 3.03 : ?

- Ans
- 1. 30.30
  - 2. 0.303
  - 3. 0.0303
  - 4. 3.030

Question ID : 9895809213  
Chosen Option : 3

Q.7 यदि 'P' का अर्थ 'से घटाया', 'X' का अर्थ 'से गुणा', 'Y' का अर्थ 'में जोड़ा', और 'Z' का अर्थ 'द्वारा विभाजित' है, तो:

54 Z 3 Y 22 X 5 = ?

- Ans
- 1. 135
  - 2. 144
  - 3. 128
  - 4. 110

Question ID : 9895809216  
Chosen Option : 3

Q.8 यदि B को 9 के रूप में कूटबद्ध करते हैं, F को 3 के रूप में, Q को 2 के रूप में, D को 8 के रूप में, T को 1 के रूप में, M को 6 के रूप में और K को 7 के रूप में कूटबद्ध करते हैं, तो FBMKQT का कूटबद्ध रूप क्या होगा?

- Ans
- 1. 396127
  - 2. 369127
  - 3. 396721
  - 4. 369172

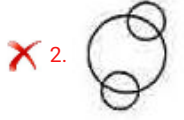
Question ID : 9895809205  
Chosen Option : 3

Q.9

नीचे दिए गए प्रश्न में तीन चीजें हैं जिनके बीच कुछ संबंध हैं। वही संबंध वृत्तों के सेट द्वारा व्यक्त किया जाता है, जहां प्रत्येक वृत्त, उसका कद कुछ भी हो, एक चीज का प्रतिनिधित्व करता है। वृत्तों के सही सेट के साथ चीज मिलाइए।

सेब, आम, संतरा

Ans



Question ID : 9895809222

Chosen Option : 3

Q.1  
0 दिए गए विकल्पों में से संबंधित शब्द युगल का चयन करें।

कविता : कवि :: \_\_\_\_\_ : \_\_\_\_\_

Ans

1. अनुच्छेद : गीत

2. लेखक : पुस्तक

3. गणित : साहित्य

4. साधन : वीडियो

Question ID : 9895809201

Chosen Option : 3

Q.1  
1 उस विकल्प का चयन करें जो सही रूप में रिक्त स्थान की पूर्ति करते हुए श्रृंखला को पूरा करें।

35, 40, 55, 80, 115, ?

Ans

1. 155

2. 165

3. 160

4. 170

Question ID : 9895809212

Chosen Option : 3

Q.1  
2 चार अक्षर समूह दिए गए हैं, जिनमें से तीन किसी तरह से समान हैं, जबकि एक अलग है। असंगत अक्षर समूह का चयन करें।

Ans

1. FHL

2. NPR

3. LNR

4. QSW

Q.1 नीचे दिए गए कथनों के बाद तीन निष्कर्ष I, II और III दिए गए हैं। यह मानते हुए कि कथनों में दी गई जानकारी सत्य है, भले ही वह सर्वज्ञात तथ्यों से भिन्न प्रतीत होती हो और यह निर्णय करें कि कौन सा / से निष्कर्ष तार्किक और निश्चित रूप से कथन में दी गई जानकारी का अनुसरण करता है / करते हैं।

कथन:

सभी पेंसिलें घर हैं।  
सभी घर रबर हैं।

निष्कर्ष:


I. कुछ पेंसिलें, रबर हैं।  
II. कुछ रबर, पेंसिलें हैं।  
III. सभी रबर, पेंसिलें हैं।

Ans

1. सभी अनुसरण करते हैं।
2. कोई अनुसरण नहीं करता है।
3. केवल II अनुसरण करता है।
4. केवल I और II अनुसरण करते हैं।

Q.1 निम्नलिखित में से कौन सी उत्तर आकृति दी गई आकृति को पूरा करेगी?

प्रश्न आकृति:



Ans

- 1.
- 2.
- 3.
- 4.

Q.1 उस विकल्प का चयन करें जो चौथे पद से उसी तरह संबंधित है जिस प्रकार पहला पद दूसरे पद से संबंधित है।  
5 BDGK : CEHL :: ???? : DFIM

Ans

1. CEHL
2. EGJN
3. CEHM

✗ 4. EGH I

Question ID : 9895809202  
Chosen Option : 1

Q.1  
6 उस विकल्प आकृति का चयन करें, जिसमें प्रश्न आकृति छिपी हुई /अंतर्निहित है।

प्रश्न आकृति:

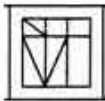


Ans

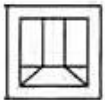
✗ 1.



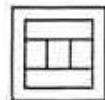
✓ 2.



✗ 3.



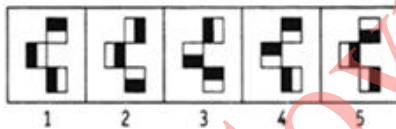
✗ 4.



Question ID : 9895809219  
Chosen Option : 2

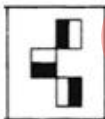
Q.1  
7 दिए गए आकृति श्रृंखला में आगे आने वाले विकल्प को चुनें।

प्रश्न आकृति

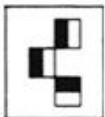


Ans

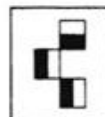
✗ 1.



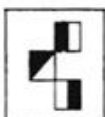
✓ 2.



✗ 3.



✗ 4.



Question ID : 9895809217  
Chosen Option : 2

Q.1 नीचे प्रश्न आकृति में दर्शाये गए तरीके से एक कागज़ को मोड़ा गया और काटा गया है। इस कागज़ को खोलने पर दी गयी उत्तर आकृतियों में से कौन सी आकृति दिखाई देगी?

प्रश्न आकृति:



Ans

- ✗ 1.
- ✗ 2.
- ✓ 3.
- ✗ 4.

Question ID : 9895809221

Chosen Option : 3

Q.1 उस विकल्प का चयन करें जो तीसरे पद से उसी तरह संबंधित है जिस प्रकार दूसरा पद पहले पद से संबंधित है।

ACEG : BDFH :: CEGI : ?

Ans

- ✗ 1. EGIH
- ✗ 2. DHIK
- ✗ 3. EGIK
- ✓ 4. DFHJ

Question ID : 9895809203

Chosen Option : 4

Q.2 चार विकल्प दिए गए हैं, जिनमें से तीन किसी तरह से समान हैं, जबकि एक अलग है। असंगत का चयन करें।

Ans

- ✓ 1. 359
- ✗ 2. 257
- ✗ 3. 336
- ✗ 4. 426

Question ID : 9895809214

Chosen Option : 1

Q.2<sub>1</sub> दिए गए विकल्पों में से लुप्त संख्या ज्ञात करें।



Ans

- ✗ 1. 11
- ✗ 2. 6
- ✗ 3. 9




✓ 4. 8


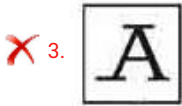

Question ID : 9895809215  
Chosen Option : 4

Q.2 2 उस विकल्प का चयन करें जो दर्पण के दायीं ओर रखे जाने पर दि गई आकृति की दर्पण छवि से सर्वाधिक मेल खाता है।

प्रश्न आकृति



Ans

Question ID : 9895809220  
Chosen Option : 2

Q.2 3 नीचे दिए गए कथनों के बाद दो निष्कर्ष I और II दिए गए हैं। यह मानते हुए कि कथनों में दी गई जानकारी सत्य है, भले ही वह सर्वज्ञात तथ्यों से भिन्न प्रतीत होती हो और यह निर्णय करें कि कौन सा / से निष्कर्ष तार्किक और निश्चित रूप से कथन में दी गई जानकारी का अनुसरण करता है / करते हैं।

कथन:

कुछ गायें, मृग हैं।  
कुछ मृग, मछलियां हैं।

निष्कर्ष:

I. कुछ गायें, मछलियां हैं।  
II. कुछ मछलियां, गायें हैं।

Ans

✗ 1. या निष्कर्ष I या II अनुसरण करता है।

✗ 2. केवल निष्कर्ष II अनुसरण करता है।

✗ 3. केवल निष्कर्ष I अनुसरण करता है।

✓ 4. न निष्कर्ष I न ही II अनुसरण करता है।

Question ID : 9895809209  
Chosen Option : 4

Q.2 4 उस विकल्प का चयन करें जो सही रूप में रिक्त स्थान की पूर्ति करते हुए श्रृंखला को पूरा करें।  
45, 49, 58, 74, \_\_\_\_

Ans ✗ 1. 98

✗ 2. 88

✓ 3. 99

✗ 4. 92

Question ID : 9895809211  
Chosen Option : 3

Q.2  
5 पांच कुर्सियां C1, C2, C3, C4 और C5 एक के ऊपर एक रखी हुई हैं। यदि C1, C2 के ऊपर है। C3, C4 के ऊपर है किन्तु C5 के नीचे है और C4, C1 के ऊपर है, तो कौन सी कुर्सी बीच में है?

- Ans
- ✗ 1. C3
  - ✓ 2. C4
  - ✗ 3. C1
  - ✗ 4. C2

Question ID : 9895809207  
Chosen Option : 2

Q.2  
6 गेटवे ऑफ़ इंडिया किस शहर में स्थित है?

- Ans
- ✗ 1. कोलकाता
  - ✓ 2. मुंबई
  - ✗ 3. दिल्ली
  - ✗ 4. बेंगलुरु

Question ID : 9895808516  
Chosen Option : 2

Q.2  
7 निम्नलिखित में से कौन भारत का एक गैर-संवैधानिक निकाय है?

- Ans
- ✓ 1. राज्य मानव अधिकार आयोग
  - ✗ 2. चुनाव आयोग
  - ✗ 3. राष्ट्रीय आयोग
  - ✗ 4. वित्त आयोग

Question ID : 9895808526  
Chosen Option : 3

Q.2  
8 बाहरी भाग पर सोलर कूकर किस रंग से रंगा जाता है?

- Ans
- ✗ 1. हरा
  - ✗ 2. नीला
  - ✓ 3. काला
  - ✗ 4. लाल

Question ID : 9895808530  
Chosen Option : 3

Q.2



9 अपना पक्ष जिस के नाम पर कोई व्यक्ति मनोनीत हुआ हो उस के प्रति निष्ठा दूसरे पक्ष के प्रति बदलें उसे क्या कहा जाता है?

- Ans
- 1. पार्टी व्यवस्थापक
  - 2. दल-बदल
  - 3. विच्छेद
  - 4. गठबंधन करना

Question ID : 9895808528  
Chosen Option : 2

Q.3 भारत के किस राज्य में दाबू प्रिंटिंग का अभ्यास किया जाता है, जिसमें मिट्टी को कपड़े पर नाजूक पैटर्न में लगाकर फिर डार्क में डुबाना शामिल है?

- Ans
- 1. आंध्र प्रदेश
  - 2. राजस्थान
  - 3. असम
  - 4. ओडिशा

Question ID : 9895808515  
Chosen Option : 3

Q.3 निम्नलिखित में से कौन-सा कार्टूनिस्ट आम आदमी को लेकर अपनी रचनाओं के लिए सुविख्यात है?

- Ans
- 1. शेखर गुरेरा
  - 2. सुधीर तैलंग
  - 3. कुट्टी
  - 4. आर. के. लक्ष्मण

Question ID : 9895808521  
Chosen Option : 4

Q.3 नर्मदा नदी पर कौन-सा बांध बना है?

- Ans
- 1. हीराकुंड बांध
  - 2. सरदार सरोवर बांध
  - 3. टिहरी बांध
  - 4. अधिया बांध

Question ID : 9895808529  
Chosen Option : 2

Q.3 खिलाफत आंदोलन किस वर्ष में प्रारंभ हुआ?

- Ans
- 1. 1921
  - 2. 1923
  - 3. 1922
  - 4. 1920

Question ID : 9895808538  
Chosen Option : 1

Q.3  
4 ग्रामीण रोजगार सृजन कार्यक्रम किस वर्ष में शुरू किया गया था?

- Ans
- 1. 1994
  - 2. 1993
  - 3. 1995
  - 4. 1992

Question ID : 9895808523  
Chosen Option : 2

Q.3  
5 प्रत्येक पानी के अणु, में \_\_\_\_\_ हाईड्रोजन परमाणु और एक ऑक्सीजन परमाणु होते हैं।

- Ans
- 1. तीन
  - 2. चार
  - 3. एक
  - 4. दो

Question ID : 9895808532  
Chosen Option : 4

Q.3  
6 महाजनपदों के राजाओं ने किले बनवाए क्योंकि वे \_\_\_\_\_ प्रदान करते थे।

- Ans
- 1. सुरक्षा
  - 2. परिवर्तनीयता
  - 3. परिवहनीयता
  - 4. विक्रेयता

Question ID : 9895808537  
Chosen Option : 1

Q.3  
7 निम्नलिखित में से, हमारी प्रस्तावना में से कौन सा शब्द का अर्थ ऐसा आचरण करना जैसे की हम एक ही परिवार के सदस्य हों?

- Ans
- 1. बंधुत्व
  - 2. लोकतंत्र
  - 3. न्याय
  - 4. समानता

Question ID : 9895808527  
Chosen Option : 1

Q.3  
8 2019 में महिला राष्ट्रीय बाँक्सिंग प्रतियोगिता में स्वर्ण पदक किसने जीता था?

- Ans
- 1. निखत जरीन
  - 2. रागिनी उपाध्याय
  - 3. पिंकी रानी जंगरा
  - 4. मंजू रानी

Question ID : 9895808519  
Chosen Option : 2

Q.3 किस प्रकार की मिट्टी में गर्म मौसम के दौरान गहरी दरारें पैदा हो जाती हैं?

- Ans
- 1. पीली मिट्टी
  - 2. काली मिट्टी
  - 3. जलोढ़ मिट्टी
  - 4. लेटराइट मिट्टी

Question ID : 9895808534  
Chosen Option : 2

Q.4 भूदान - ग्रामदान आंदोलन \_\_\_\_\_ द्वारा शुरू किया गया था।

- Ans
- 1. विनोबा भावे
  - 2. बाबा आमटे
  - 3. मेनका गांधी
  - 4. मेधा पाटकर

Question ID : 9895808536  
Chosen Option : 1

Q.4 वर्ष 2017-18 के अनुसार, किस राज्य में प्रति व्यक्ति आय सबसे अधिक है?

- Ans
- 1. मिज़ोरम
  - 2. बिहार
  - 3. केरल
  - 4. महाराष्ट्र

Question ID : 9895808524  
Chosen Option : 4

Q.4 निम्नलिखित में से कौन सा जैव गैस का एक लोकप्रिय नाम है?

- Ans
- 1. यूरैनियम
  - 2. पेट्रोलियम
  - 3. कोयला
  - 4. गोबर गैस

Question ID : 9895808533  
Chosen Option : 4

Q.4 पश्मीना कोमल प्रकार का ऊन भारत के किस राज्य में पहली बार बुना गया था?

- Ans
- 1. उत्तर प्रदेश
  - 2. जम्मू और कश्मीर

3. पंजाब  
 4. हिमाचल प्रदेश

Question ID : 9895808517  
Chosen Option : 2

Q.4  
4 1930 में मुस्लिम लीग के अध्यक्ष कौन थे?

- Ans  1. मोहम्मद अली जिन्नाह  
 2. शौकत अली  
 3. सैयद अहमद खान  
 4. मोहम्मद इक़बाल

Question ID : 9895808539  
Chosen Option : 1

Q.4  
5 उस पड़ोसी देश की पहचान करें जो मानव विकास के मामले में भारत से बेहतर प्रदर्शन कर रहा है।

- Ans  1. बांग्लादेश  
 2. श्रीलंका  
 3. नेपाल  
 4. पाकिस्तान

Question ID : 9895808525  
Chosen Option : 3

Q.4  
6 'गेल्ला-चुट्ट' स्वदेशी खेल किस राज्य से संबंधित है?

- Ans  1. त्रिपुरा  
 2. असम  
 3. मिज़ोरम  
 4. अरुणाचल प्रदेश

Question ID : 9895808518  
Chosen Option : 3

Q.4  
7 किस गांव ने दर्शा दिया है कि भूमि अवक्रमण को उल्टा करना संभव है?

- Ans  1. भंदादारा  
 2. सुखोमजरी  
 3. माजुली  
 4. कटारमल

Question ID : 9895808535  
Chosen Option : 2

Q.4  
8 विश्वनाथन आनंद को किस वर्ष में पद्म विभूषण पुरस्कार से सम्मानित किया गया था?

- Ans  1. 2008  
 2. 2009  
 3. 2010  
 4. 2011

Question ID : 9895808522  
Chosen Option : 4

Q.4 सोवियत संघ द्वारा 1975 में अवकाश में छोड़ा गया भारतीय गणितज्ञ के नाम पर पहला भारतीय उपग्रह कौन सा था?

- Ans  1. आर्यभट्ट  
 2. रोहिणी आरएस - डी1  
 3. भास्कर सेगा - I  
 4. इनसेट 1 ऐ

Question ID : 9895808531  
Chosen Option : 1

Q.5 पुस्तक 'अग्नि की उड़ान (विंग्स ऑफ़ फायर)' के लेखक कौन हैं?

- Ans  1. आरके नारायण  
 2. एपीजे अब्दुल कलाम  
 3. विक्रम सेठ  
 4. सलमान रुश्दी

Question ID : 9895808520  
Chosen Option : 2

Q.5 स्थिर जल में एक नाव की गति 9 km/hr है और धारा की गति 3 km/hr है। धारा प्रतिकूल गति और धारा अनुकूल गतिके बीच अंतर होगा:

- Ans  1. 6 km/hr  
 2. 7.5 km/hr  
 3. 3.5 km/hr  
 4. 5 km/hr

Question ID : 9895808961  
Chosen Option : 1

Q.5 दो संकेंद्रित वृत्त जिनकी त्रिज्याएँ p cm और (p + 2) cm हैं, एक कागज पर बनाए जाते हैं। उनके क्षेत्रफलों के बीच अंतर 44 sq. cm है। P का मान क्या है? ( $\pi = \frac{22}{7}$  लीजिए)

- Ans  1. 2.5  
 2. 1.5  
 3. 6  
 4. 5

Question ID : 9895808962  
Chosen Option : 1

Q.5 एक पाइप 20 मिनट में एक टंकी को भर सकता है, जबकि पूरी तरह से भरी टंकी एक छिद्र होने के कारण 28 मिनट में पूरी तरह से खाली हो जाती है। जब दोनों एक साथ खुले हो तो टंकी को भरने में कितना समय लगेगा?

- Ans
- 1. 80 मिनट
  - 2. 60 मिनट
  - 3. 70 मिनट
  - 4. 48 मिनट

Question ID : 9895808959  
Chosen Option : 3

Q.5 किसी संख्या का 21 प्रतिशत 546 है। उस संख्या का 89 प्रतिशत क्या होगा?

- Ans
- 1. 2314
  - 2. 900
  - 3. 1200
  - 4. 2116

Question ID : 9895808950  
Chosen Option : 1

Q.5 अधिकतम संभावित भुजा वाले एक वर्ग को 12 cm त्रिज्या वाले एक वृत्त में खींचा गया है। वर्ग का क्षेत्रफल क्या है?

- Ans
- 1. 184 sq. cm
  - 2. 72 sq. cm
  - 3. 276 sq. cm
  - 4. 288 sq. cm

Question ID : 9895808963  
Chosen Option : 4

Q.5  $\frac{4}{7}$  of  $\frac{8}{9} \div \frac{8}{7} \times 180$  of  $\frac{1}{9} = ?$  का मान क्या है?

- Ans
- 1.  $\frac{9}{20}$
  - 2.  $\frac{80}{9}$
  - 3.  $\frac{9}{80}$
  - 4.  $\frac{20}{9}$

Question ID : 9895808944  
Chosen Option : 2

Q.5 10 cm × 15 cm × 8 cm आकार का एक बंद बॉक्स बनाने के लिए कितने क्षेत्रफल का कार्डबोर्ड आवश्यक होगा?

Ans



- ✓ 1. 700 cm<sup>2</sup>
- ✗ 2. 1000 cm<sup>2</sup>
- ✗ 3. 350 cm<sup>2</sup>
- ✗ 4. 1390 cm<sup>2</sup>

Question ID : 9895808964  
Chosen Option : 1

Q.5 एक व्यक्ति ने एक वस्तु खरीदी और उसे 5% हानि पर बेच दी। यदि वह उसे 10% कम मूल्य में खरीदता और ₹ 170 अधिक में बेचता तो उसे 20% का लाभ होता। वस्तु का क्रय मूल्य है: (निकटतम एक ₹)

- Ans
- ✗ 1. ₹ 1440
  - ✗ 2. ₹ 1500
  - ✓ 3. ₹ 1308
  - ✗ 4. ₹ 1300

Question ID : 9895808951  
Chosen Option : 3

Q.5 निर्देश: एक शहर की जनसंख्या 8000 है। उनके पास विभिन्न प्रकार के व्यवसाय हैं जो पाई-चार्ट द्वारा दर्शाए गए हैं। पाई-चार्ट का अध्ययन करें और दिए गए प्रश्नों के उत्तर दें।



सेवा तथा उद्योग क्षेत्र में काम करने वाले लोगों का क्रमशः अनुपात है:

- Ans
- ✗ 1. 3 : 4
  - ✗ 2. 5 : 3
  - ✓ 3. 2 : 3
  - ✗ 4. 3 : 5

Question ID : 9895808965  
Chosen Option : 3

Q.6 2 वर्ष में 4% प्रति वर्ष की चक्रवृद्धि ब्याज दर से ₹ 7500 की धनराशि होगी:

- Ans
- ✗ 1. ₹ 8082
  - ✗ 2. ₹ 8100
  - ✗ 3. ₹ 7800

✓ 4. ₹ 8112

Question ID : 9895808957  
Chosen Option : 4

Q.6  
1 30 व्यक्ति एक कार्य को 24 दिनों में पूरा कर सकते हैं। कार्य को 20 दिनों में पूरा करने हेतु कितने और व्यक्ति की आवश्यकता होगी?

Ans

✗ 1. 8

✗ 2. 5

✓ 3. 6

✗ 4. 4

Question ID : 9895808958  
Chosen Option : 3

Q.6  
2 निर्देश: एक शहर की जनसंख्या 8000 है। उनके पास विभिन्न प्रकार के व्यवसाय हैं जो पाई-चार्ट द्वारा दर्शाए गए हैं। पाई-चार्ट का अध्ययन करें और दिए गए प्रश्नों के उत्तर दें।



कृषिक्षेत्र की तुलना में उद्योग क्षेत्र में कितनी प्रतिशत जनसंख्या कम है?

Ans

✗ 1. 25%

✗ 2. 15%

✓ 3. 10%

✗ 4. 20%

Question ID : 9895808967  
Chosen Option : 3

Q.6  
3 The average of first 10 prime number is:

Ans

✗ 1. 13.1

✗ 2. 15.1

✗ 3. 12.7

✓ 4. 12.9

Question ID : 9895808946  
Chosen Option : 4

Q.6

4 500 को दो भागों में इस तरह विभाजित करें कि उनका अनुपात 5 : 3 हो?

Ans

1. 308.5, 191.5

2. 312.5, 187.5

3. 280, 220

4. 300, 200

Question ID : 9895808955  
Chosen Option : 2

Q.6 5 यदि 100 कॉपियों का क्रय मूल्य 80 कॉपियों के विक्रय मूल्य के बराबर है तो लाभ प्रतिशत क्या है?

Ans

1. 15%

2. 25%

3. 20%

4. 30%

Question ID : 9895808952  
Chosen Option : 2

Q.6 6 सबसे बड़ी संख्या क्या है जिससे 209 और 347 में भाग देने पर शेषफल क्रमशः 5 और 7 आता है?

Ans

1. 23

2. 16

3. 19

4. 17

Question ID : 9895808943  
Chosen Option : 4

Q.6 7 स्थिर जल में एक जहाज की गति 5 km/hr है तथा धारा की गति 2 km/hr है। रोहन 21 km की दूरी पर स्थित स्थान तक नौका-विहार करता है और प्रारंभिक बिंदु पर वापस लौटता है। उसके द्वारा लिया गया कुल समय है:

Ans

1. 10 घंटे

2. 7.2 घंटे

3. 6 घंटे

4. 3.6 घंटे

Question ID : 9895808960  
Chosen Option : 1

Q.6 8 एक वस्तु का अंकितमूल्य ₹ 900 है, लेकिन एक खुदरा विक्रेता इसे 40% छूट पर खरीदता है और इसे ₹ 900 में बेचता है। खुदरा विक्रेता का प्रतिशत लाभ है:

Ans

1. 60%

2.  $68\frac{1}{3}\%$

3. 40%

4.  $66\frac{2}{3}\%$

Question ID : 9895808948  
Chosen Option : 4

Q.6 एक निश्चित धनराशि एक निश्चित साधारण ब्याज दर से 2 वर्षों में ₹ 756 और  $3\frac{1}{2}$  वर्ष में ₹ 873 हो जाती है।  
वार्षिक ब्याज दर है:

Ans

1. 11%

2. 10%

3. 12%

4. 13%

Question ID : 9895808956  
Chosen Option : 4

Q.7 निम्नलिखित प्रश्न में प्रश्नवाचक चिह्न (?) के स्थान पर क्या मान आना चाहिए?

$$31 \div 3 \times 15 = ?$$

Ans

1. 140

2. 180

3. 155

4. 165

Question ID : 9895808945  
Chosen Option : 3

Q.7 यदि  $\frac{8x+3y}{4x+5y} = \frac{25}{23}$  तो  $x : y$  ज्ञात कीजिए।

Ans

1. 2 : 3

2. 3 : 5

3. 2 : 5

4. 1 : 5

Question ID : 9895808954  
Chosen Option : 1

Q.7 दो संख्याओं का अनुपात 7 : 16 है। यदि दूसरी संख्या 256 है, तो पहली संख्या है:

Ans

1. 120

✓ 2. 112

✗ 3. 144

✗ 4. 156

Question ID : 9895808953  
Chosen Option : 2

Q.7  
3 13 के प्रथम 8 गुणकों का समानांतर माध्य क्या है?

Ans ✗ 1. 55.4

✗ 2. 72.5

✓ 3. 58.5

✗ 4. 61.8

Question ID : 9895808949  
Chosen Option : 3

Q.7  
4 6 मानों का औसत 11.2 है। यदि प्रत्येक संख्या में 3 से गुणा किया जाता है, तो नया औसत क्या होगा?

Ans ✗ 1. 14.6

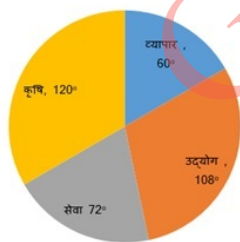
✗ 2. 22.6

✗ 3. 18.6

✓ 4. 33.6

Question ID : 9895808947  
Chosen Option : 4

Q.7  
5 निर्देश: एक शहर की जनसंख्या 8000 है। उनके पास विभिन्न प्रकार के व्यवसाय हैं जो पाई-चार्ट द्वारा दर्शाए गए हैं। पाई-चार्ट का अध्ययन करें और दिए गए प्रश्नों के उत्तर दें।



कुल जनसंख्या के कितने प्रतिशत लोग सेवा क्षेत्र में हैं?

Ans ✗ 1. 25%

✓ 2. 20%

✗ 3. 36%

✗ 4. 72%

Question ID : 9895808966

Section : English Language

Q.1 Select the word which means the same as the group of words given.

One who loves mankind

- Ans
- 1. Misogynist
  - 2. Misogamist
  - 3. Philanthropist
  - 4. Misanthropist

Question ID : 9895809088

Chosen Option : --

Q.2 Select the antonym of the given word.

CONVICTED

- Ans
- 1. Acquitted
  - 2. Blamed
  - 3. Charged
  - 4. Alleged

Question ID : 9895809085

Chosen Option : --

Q.3 Identify the segment in the sentence which contains the grammatical error from the given options.

The question that there is life on other planets baffles scientists.

- Ans
- 1. on other planets
  - 2. baffles scientists
  - 3. The question that
  - 4. there is life

Question ID : 9895809068

Chosen Option : --

Q.4 Select the most appropriate option to substitute the underlined segment in the given sentence. If there is no need to substitute it, select No substitution required.

Last month, scientists are posting the latest pictures of Mars taken by the Mangalyaan.

- Ans
- 1. will be posting
  - 2. posted
  - 3. have been posting
  - 4. No substitution required

Question ID : 9895809072

Chosen Option : --



Q.5 Select the synonym of the given word.

APPARENT

- Ans
- 1. Concealed
  - 2. Obvious
  - 3. Latent
  - 4. Hidden

Question ID : 9895809082  
Chosen Option : --

Q.6 Select the synonym of the given word.

ACCOMPLISH

- Ans
- 1. Fail
  - 2. Lose
  - 3. Achieve
  - 4. Hinder

Question ID : 9895809083  
Chosen Option : --

Q.7 Select the most appropriate option to substitute the underlined segment in the given sentence. If there is no need to substitute it, select No substitution required.

The escalator at the railway station is working again, thanks to the effort for our technicians.

- Ans
- 1. No substitution required
  - 2. efforts of our technicians
  - 3. efforts make by our technicians
  - 4. efforts from our technicians

Question ID : 9895809071  
Chosen Option : --

Q.8 Select the wrongly spelt word.

- Ans
- 1. Eminent
  - 2. Experience
  - 3. Existance
  - 4. Explanation

Question ID : 9895809091  
Chosen Option : --

Q.9 Select the most appropriate word to fill in the blank.

A number of people \_\_\_\_\_ to watch the live performance last night.

- Ans
- 1. gather

2. has gathered

3. has been gathered

4. gathered

Question ID : 9895809074

Chosen Option : --

Q.1  
0 Select the meaning of the given idiom.

Get a kick out of

Ans  1. Predict something

2. Enjoy something

3. Give up something

4. Kick something

Question ID : 9895809086

Chosen Option : --

Q.1  
1 Select the antonym of the given word.

Diminish

Ans  1. Increase

2. Divide

3. Decrease

4. Reduce

Question ID : 9895809084

Chosen Option : --

Q.1  
2 Select the most appropriate word to fill in the blank.

The bear didn't attack the lady because he was afraid \_\_\_\_\_ her.

Ans  1. from

2. of

3. at

4. for

Question ID : 9895809075

Chosen Option : --

Comprehension:

In the following passage some words have been deleted. Fill in the blanks with the help of the alternatives given. Select the most appropriate option for each number.

An Italian town is offering to pay people up to €2000 to move there. The Mayor of the town has made the (1) \_\_\_\_\_ in the hope of reversing (2) \_\_\_\_\_ town's declining population. The population (3) \_\_\_\_\_ small towns of Italy (4) \_\_\_\_\_ to the big cities leaving (5) \_\_\_\_\_ only the aged people. Some towns have been left with as little as twelve residents.

SubQuestion No : 13

Q.1  
3 Select the most appropriate option that will fill in the blank number 1.

- Ans
- 1. present
  - 2. offer
  - 3. gift
  - 4. reward

Question ID : 9895809077  
Chosen Option : --

Comprehension:

In the following passage some words have been deleted. Fill in the blanks with the help of the alternatives given. Select the most appropriate option for each number.

An Italian town is offering to pay people up to €2000 to move there. The Mayor of the town has made the (1) \_\_\_\_\_ in the hope of reversing (2) \_\_\_\_\_ town's declining population. The population (3) \_\_\_\_\_ small towns of Italy (4) \_\_\_\_\_ to the big cities leaving (5) \_\_\_\_\_ only the aged people. Some towns have been left with as little as twelve residents.

SubQuestion No : 14

Q.1  
4 Select the most appropriate option that will fill in the blank number 2.

- Ans
- 1. the
  - 2. some
  - 3. one
  - 4. a

Question ID : 9895809078  
Chosen Option : --

Comprehension:

In the following passage some words have been deleted. Fill in the blanks with the help of the alternatives given. Select the most appropriate option for each number.

An Italian town is offering to pay people up to €2000 to move there. The Mayor of the town has made the (1) \_\_\_\_\_ in the hope of reversing (2) \_\_\_\_\_ town's declining population. The population (3) \_\_\_\_\_ small towns of Italy (4) \_\_\_\_\_ to the big cities leaving (5) \_\_\_\_\_ only the aged people. Some towns have been left with as little as twelve residents.

SubQuestion No : 15

Q.1  
5 Select the most appropriate option that will fill in the blank number 3.

- Ans
- 1. from
  - 2. between
  - 3. at
  - 4. among

Question ID : 9895809079  
Chosen Option : --

Comprehension:

In the following passage some words have been deleted. Fill in the blanks with the help of the alternatives given. Select the most appropriate option for each number.

An Italian town is offering to pay people up to €2000 to move there. The Mayor of the town has made the (1) \_\_\_\_\_ in the hope of reversing (2) \_\_\_\_\_ town's declining population. The population (3) \_\_\_\_\_ small towns of Italy (4) \_\_\_\_\_ to the big cities leaving (5) \_\_\_\_\_ only the aged people. Some towns have been left with as little as twelve residents.

SubQuestion No : 16

Q.1  
6 Select the most appropriate option that will fill in the blank number 4.

- Ans
- 1. migrated
  - 2. immigrated
  - 3. transferred
  - 4. transported

Question ID : 9895809080  
Chosen Option : --

Comprehension:



In the following passage some words have been deleted. Fill in the blanks with the help of the alternatives given. Select the most appropriate option for each number.

An Italian town is offering to pay people up to €2000 to move there. The Mayor of the town has made the (1) \_\_\_\_\_ in the hope of reversing (2) \_\_\_\_\_ town's declining population. The population (3) \_\_\_\_\_ small towns of Italy (4) \_\_\_\_\_ to the big cities leaving (5) \_\_\_\_\_ only the aged people. Some towns have been left with as little as twelve residents.

SubQuestion No : 17

Q.1  
7 Select the most appropriate option that will fill in the blank number 5.

- Ans
- 1. before
  - 2. below
  - 3. beyond
  - 4. behind

Question ID : 9895809081  
Chosen Option : --

Q.1  
8 Select the most appropriate word to fill in the blank.

His proposal was not \_\_\_\_\_ to me.

- Ans
- 1. apparent
  - 2. accessible
  - 3. acceptable
  - 4. adapted

Question ID : 9895809093  
Chosen Option : --

Q.1  
9 Identify the segment in the sentence which contains the grammatical error from the given options.

Before the President can start his speech, he was interrupted by his secretary.

- Ans
- 1. can start
  - 2. by his secretary
  - 3. Before the
  - 4. was interrupted

Question ID : 9895809069  
Chosen Option : --

Q.2  
0 Select the wrongly spelt word.

- Ans
- 1. Encouragment
  - 2. Performance
  - 3. Environment

✗ 4. Questionnaire

Question ID : 9895809090  
Chosen Option : --

Q.2  
1 Select the meaning of the given idiom.

Under a cloud

- Ans
- ✗ 1. under observation
  - ✓ 2. experiencing cloudy weather
  - ✗ 3. under suspicion
  - ✗ 4. enjoying favorable luck

Question ID : 9895809087  
Chosen Option : --

Q.2  
2 Identify the segment in the sentence which contains the grammatical error from the given options.

The day he won the Grammy Award was red letter day in the singer's life.

- Ans
- ✓ 1. The day
  - ✗ 2. was red letter day
  - ✗ 3. in the singer's life.
  - ✗ 4. he won

Question ID : 9895809070  
Chosen Option : --

Q.2  
3 Select the most appropriate option to substitute the underlined segment in the given sentence. If there is no need to substitute it, select No substitution required.

His grandfather finds a tiny tiger-cub in the forest and brought him home.

- Ans
- ✓ 1. bringing home
  - ✗ 2. No substitution required
  - ✗ 3. brings him home
  - ✗ 4. has bring home

Question ID : 9895809073  
Chosen Option : --

Q.2  
4 Select the most appropriate word to fill in the blank.

He was \_\_\_\_\_ from jail only last month.

- Ans
- ✓ 1. sent
  - ✗ 2. released
  - ✗ 3. imprisoned
  - ✗ 4. arrested

Question ID : 9895809092



Q.2 Select the word which means the same as the group of words given.

A mass of snow, ice, and rocks falling rapidly down a mountainside

- Ans
- 1. Glacier
  - 2. Iceberg
  - 3. Avalanche
  - 4. Landslide

Question ID : 9895809089  
Chosen Option : --

Section : Hindi Language

Q.1 रिक्त स्थान को भरने के लिए उपयुक्त शब्द का चयन करें।

उसकी बुद्धि बड़ी \_\_\_\_\_ है।

- Ans
- 1. सूक्ष्म
  - 2. बुद्धिमान
  - 3. विकृति
  - 4. विशाल

Question ID : 9895807028  
Chosen Option : 2

Q.2 दिए गए वाक्य में रेखांकित खंड को प्रतिस्थापित करने के लिए उपयुक्त विकल्प का चयन करें।

धर्म के कार्यों में सहयोग करना चाहिए।

- Ans
- 1. धर्मीय
  - 2. धर्मवान
  - 3. धार्मिक
  - 4. धर्मी

Question ID : 9895807026  
Chosen Option : 2

Q.3 दिए गए वाक्य का वह भाग ज्ञात करें जिसमें कोई त्रुटि है।

इस नश्वर संसार के भोग विलास का सामग्रियाँ भी क्षणभंगुर हैं।

- Ans
- 1. भोग विलास का सामग्रियाँ भी
  - 2. संसार के
  - 3. क्षणभंगुर हैं।
  - 4. इस नश्वर

Question ID : 9895807022

Chosen Option : 1

Q.4 'भौतिक' का विलोम है-

- Ans
- 1. आध्यात्मिक
  - 2. भविष्य
  - 3. अलौकिक
  - 4. अभद्र

Question ID : 9895807038  
Chosen Option : 1

Q.5 'नदी' का पर्यायवाची शब्द है-

- Ans
- 1. तालाब
  - 2. तड़ाग
  - 3. सर
  - 4. निर्झरिणी

Question ID : 9895807039  
Chosen Option : 4

Q.6 सही वर्तनी वाले शब्द का चयन करें।

- Ans
- 1. उपरूक्त
  - 2. उपर्युक्त
  - 3. उर्पयुक्त
  - 4. उपर्योक्त

Question ID : 9895807046  
Chosen Option : 2

Q.7 'त्याग' का विलोम शब्द है-

- Ans
- 1. विग्रह
  - 2. अनिश्चित
  - 3. ग्रहण
  - 4. परित्याग

Question ID : 9895807037  
Chosen Option : 3

Q.8 दिए गए वाक्य में रेखांकित खंड को प्रतिस्थापित करने के लिए उपयुक्त विकल्प का चयन करें।

विद्यापति के पद गाए जा सकते हैं।

- Ans
- 1. पेय
  - 2. प्रदेय
  - 3. गोपनीय

✓ 4. गेय

Question ID : 9895807024

Chosen Option : 4

Q.9 'होम कर देना' मुहावरे का अर्थ है-

Ans ✗ 1. हवन करना

✗ 2. शंकित करना

✓ 3. नष्ट कर देना

✗ 4. आश्चर्य चकित कर देना

Question ID : 9895807042

Chosen Option : 3

Q.10 सही वर्तनी वाले शब्द का चयन करें।

Ans ✗ 1. विशाद

✗ 2. विसाद

✗ 3. वीषाद

✓ 4. विषाद

Question ID : 9895807045

Chosen Option : 4

Q.11 'जिसे कठिनाई से जीता जा सके' के लिए एक शब्द प्रयुक्त होता है-

Ans ✗ 1. अज्ञेय

✗ 2. विजित

✓ 3. दुर्जेय

✗ 4. अजेय

Question ID : 9895807044

Chosen Option : 4

Q.12 रिक्त स्थान को भरने के लिए उपयुक्त शब्द का चयन करें।

दिल्ली से अनेक पत्रों और पत्रिकाओं का \_\_\_\_\_ होता है।

Ans ✗ 1. निकलता

✓ 2. प्रकाशन

✗ 3. निर्माण

✗ 4. बनना

Question ID : 9895807030

Chosen Option : 2

Q.1  
3

रिक्त स्थान को भरने के लिए उपयुक्त शब्द का चयन करें।

राम के \_\_\_\_\_ आग्रह करने पर मैं उसके घर गया।

- Ans
- 1. तीव्र
  - 2. बहु
  - 3. नरम
  - 4. अधिक

Question ID : 9895807027  
Chosen Option : 4

Q.1  
4 'गूलर का फूल होना' मुहावरे का अर्थ है-

- Ans
- 1. हीन होना
  - 2. सुलभ होना
  - 3. दुर्लभ होना
  - 4. अमीर होना

Question ID : 9895807041  
Chosen Option : 4

Q.1  
5 'हाथ से लिखा हुआ' शब्द समूह के लिए एक शब्द है-

- Ans
- 1. निम्नलिखित
  - 2. हस्तक्षेप
  - 3. हस्तलिखित
  - 4. हस्तलाघव

Question ID : 9895807043  
Chosen Option : 2

Q.1  
6 रिक्त स्थान को भरने के लिए उपयुक्त शब्द का चयन करें।

साहित्य और जीवन का \_\_\_\_\_ संबंध है।

- Ans
- 1. मजबूत
  - 2. घोर
  - 3. पक्का
  - 4. प्रगाढ़

Question ID : 9895807029  
Chosen Option : 2

Q.1  
7 दिए गए वाक्य का वह भाग ज्ञात करें जिसमें कोई त्रुटि है।

किसी का आचरण वायु के झोंके से हिल नहीं सकती हैं।

Ans

- 1. वायु के झोंके से
- 2. हिल नहीं
- 3. सकती हैं।
- 4. किसी का आचरण

Question ID : 9895807021  
Chosen Option : 1

Q.1 दिए गए वाक्य में रेखांकित खंड को प्रतिस्थापित करने के लिए उपयुक्त विकल्प का चयन करें।

सविता पढ़ना-लिखना जानती है।

- Ans
- 1. साक्षर
  - 2. स्वार्थी
  - 3. अपढ़
  - 4. निरक्षर

Question ID : 9895807025  
Chosen Option : 1

Q.1 'पत्नी' का पर्याय शब्द है-

- Ans
- 1. कामिनी
  - 2. भार्या
  - 3. ललना
  - 4. महिला

Question ID : 9895807040  
Chosen Option : 1

Q.2 दिए गए वाक्य का वह भाग ज्ञात करें जिसमें कोई त्रुटि है।

दुनिया में अनेक प्रकार के छल प्रपंचों का सूत्रपात हुई।

- Ans
- 1. दुनिया में
  - 2. सूत्रपात हुई।
  - 3. अनेक प्रकार के
  - 4. छल प्रपंचों का

Question ID : 9895807023  
Chosen Option : 2

Comprehension:



निम्नलिखित गद्यांश के रिक्त स्थानों की पूर्ति गद्यांश के नीचे दिए गए प्रश्नों के अनुसार कीजिए-

डिजिटल इंडिया में डेटा का डिजिटलाईजेशन आसानी से होगा जो आगे चलकर चीजों को तेज और ज्यादा मजबूत बनाने में \_\_\_\_\_ (1) होगा। यह कागजी कार्य, समय और मानव श्रम की भी \_\_\_\_\_ (2) करेगा। सरकार और निजी क्षेत्र के बीच गठबंधन के द्वारा यह प्रोजेक्ट गति \_\_\_\_\_ (3)। तेज गति नेटवर्क के साथ आपस में जुड़े हुए गाँव बड़े \_\_\_\_\_ (4) से गुजरेंगे। भारत में सभी शहर, नगर और गाँव \_\_\_\_\_ (5) तकनीकी होंगे।

SubQuestion No : 21

Q.2  
1 गद्यांश में संकेतित रिक्त स्थान (1) के लिए उपयुक्त शब्द होगा।

- Ans
- 1. विभाजक
  - 2. सहायक
  - 3. रोधक
  - 4. बाधक

Question ID : 9895807032  
Chosen Option : 3

Comprehension:

निम्नलिखित गद्यांश के रिक्त स्थानों की पूर्ति गद्यांश के नीचे दिए गए प्रश्नों के अनुसार कीजिए-

डिजिटल इंडिया में डेटा का डिजिटलाईजेशन आसानी से होगा जो आगे चलकर चीजों को तेज और ज्यादा मजबूत बनाने में \_\_\_\_\_ (1) होगा। यह कागजी कार्य, समय और मानव श्रम की भी \_\_\_\_\_ (2) करेगा। सरकार और निजी क्षेत्र के बीच गठबंधन के द्वारा यह प्रोजेक्ट गति \_\_\_\_\_ (3)। तेज गति नेटवर्क के साथ आपस में जुड़े हुए गाँव बड़े \_\_\_\_\_ (4) से गुजरेंगे। भारत में सभी शहर, नगर और गाँव \_\_\_\_\_ (5) तकनीकी होंगे।

SubQuestion No : 22

Q.2  
2 गद्यांश में संकेतित रिक्त स्थान (2) के लिए उपयुक्त शब्द होगा।

- Ans
- 1. हानि
  - 2. व्यय
  - 3. बचत
  - 4. आय

Question ID : 9895807033  
Chosen Option : 3

Comprehension:



निम्नलिखित गद्यांश के रिक्त स्थानों की पूर्ति गद्यांश के नीचे दिए गए प्रश्नों के अनुसार कीजिए-

डिजिटल इंडिया में डेटा का डिजिटलाईजेशन आसानी से होगा जो आगे चलकर चीजों को तेज और ज्यादा मजबूत बनाने में \_\_\_\_\_ (1) होगा। यह कागजी कार्य, समय और मानव श्रम की भी \_\_\_\_\_ (2) करेगा। सरकार और निजी क्षेत्र के बीच गठबंधन के द्वारा यह प्रोजेक्ट गति \_\_\_\_\_ (3)। तेज गति नेटवर्क के साथ आपस में जुड़े हुए गाँव बड़े \_\_\_\_\_ (4) से गुजरेंगे। भारत में सभी शहर, नगर और गाँव \_\_\_\_\_ (5) तकनीकी होंगे।

SubQuestion No : 23

Q.2  
3 गद्यांश में संकेतित रिक्त स्थान (3) के लिए उपयुक्त शब्द होगा।

- Ans
- 1. रोकेगा
  - 2. दौड़ेगा
  - 3. पकड़ेगा
  - 4. चलेगा

Question ID : 9895807034  
Chosen Option : 3

Comprehension:

निम्नलिखित गद्यांश के रिक्त स्थानों की पूर्ति गद्यांश के नीचे दिए गए प्रश्नों के अनुसार कीजिए-

डिजिटल इंडिया में डेटा का डिजिटलाईजेशन आसानी से होगा जो आगे चलकर चीजों को तेज और ज्यादा मजबूत बनाने में \_\_\_\_\_ (1) होगा। यह कागजी कार्य, समय और मानव श्रम की भी \_\_\_\_\_ (2) करेगा। सरकार और निजी क्षेत्र के बीच गठबंधन के द्वारा यह प्रोजेक्ट गति \_\_\_\_\_ (3)। तेज गति नेटवर्क के साथ आपस में जुड़े हुए गाँव बड़े \_\_\_\_\_ (4) से गुजरेंगे। भारत में सभी शहर, नगर और गाँव \_\_\_\_\_ (5) तकनीकी होंगे।

SubQuestion No : 24

Q.2  
4 गद्यांश में संकेतित रिक्त स्थान (4) के लिए उपयुक्त शब्द होगा।

- Ans
- 1. लगाव
  - 2. सुझाव
  - 3. चुनाव
  - 4. बदलाव

Question ID : 9895807035  
Chosen Option : 4

Comprehension:

निम्नलिखित गद्यांश के रिक्त स्थानों की पूर्ति गद्यांश के नीचे दिए गए प्रश्नों के अनुसार कीजिए-

डिजिटल इंडिया में डेटा का डिजिटलाईजेशन आसानी से होगा जो आगे चलकर चीजों को तेज और ज्यादा मजबूत बनाने में \_\_\_\_\_ (1) होगा। यह कागजी कार्य, समय और मानव श्रम की भी \_\_\_\_\_ (2) करेगा। सरकार और निजी क्षेत्र के बीच गठबंधन के द्वारा यह प्रोजेक्ट गति \_\_\_\_\_ (3)। तेज गति नेटवर्क के साथ आपस में जुड़े हुए गाँव बड़े \_\_\_\_\_ (4) से गुजरेंगे। भारत में सभी शहर, नगर और गाँव \_\_\_\_\_ (5) तकनीकी होंगे।

SubQuestion No : 25

Q.2  
5 गद्यांश में संकेतित रिक्त स्थान (5) के लिए उपयुक्त शब्द होगा।

- Ans
- 1. ज्यादा
  - 2. बड़ी
  - 3. कम
  - 4. भारी

Question ID : 9895807036  
Chosen Option : 4