

Constable (GD) in CAPFs, NIA, SSF and Rifleman (GD) in Assam Rifles Examination, 2018

Roll No. :	GovtJobsAlert.In
Registration No.	GovtJobsAlert.In
Name :	GovtJobsAlert.In
Exam Venue :	Examit Infotech Pvt Ltd
Exam Time :	12:30 PM - 2:00 PM
Exam Date :	07/03/2019

Section : General Section

Q.1 उस विकल्प का चयन करें जो तीसरे पद से उसी तरह संबंधित है जिस प्रकार दूसरा पद पहले पद से संबंधित है।

497 : 387 :: 685 : ?

- Ans
- 1. 476
 - 2. 575
 - 3. 387
 - 4. 983

Question ID : 9895808808
Chosen Option : 2

Q.2 उस विकल्प का चयन करें जो दर्पण के दायीं ओर रखे जाने पर दि गई आकृति की दर्पण छवि से सर्वाधिक मेल खाता है।

प्रश्न आकृति:



- Ans
- 1.
 - 2.
 - 3.
 - 4.

Question ID : 9895808815
Chosen Option : 3

Q.3 उस विकल्प का चयन करें जो सही रूप में रिक्त स्थान की पूर्ति करते हुए श्रृंखला को पूरा करें।

ZYX, SRQ, LKJ, ?

- Ans
- 1. EDF
 - 2. MED
 - 3. FDC

✓ 4. EDC

Question ID : 9895808793

Chosen Option : 4

- Q.4 (i) K, L, M, N, O, P और Q एक मेज के चारों ओर केन्द्र की ओर मुख करके बैठे हैं।
 (ii) L, N और O के बीच में बैठा है।
 (iii) K, O के बाएं से तीसरे स्थान पर है।
 (iv) Q, M के बाएं से दूसरे स्थान पर है जो कि P के तुरंत बायीं ओर है।

निम्न में से कौन से युग्म में पहला व्यक्ति, दूसरे व्यक्ति के तुरंत बायीं ओर बैठा है?

Ans

✓ 1. LN

✗ 2. QN

✗ 3. MK

✗ 4. LO

Question ID : 9895808802

Chosen Option : 3

- Q.5 एक वर्गाकार पारदर्शी शीट एक पैटर्न के साथ दी गई है। जब शीट को बिंदीदार रेखा पर मोड़ा जाता है तो पैटर्न कैसा दिखाई देगा?

प्रश्न आकृति:



Ans

✓ 1.

✗ 2.

✗ 3.

✗ 4.

Question ID : 9895808816

Chosen Option : 1

Q.6

नीचे दिए गए कथनों के बाद दो निष्कर्ष I और II दिए गए हैं। यह मानते हुए कि कथनों में दी गई जानकारी सत्य है, भले ही वह सर्वज्ञात तथ्यों से भिन्न प्रतीत होती हो और यह निर्णय करें कि कौन सा/से निष्कर्ष तार्किक और निश्चित रूप से कथन में दी गई जानकारी का अनुसरण करता है/ करते हैं।

कथन :

कुछ बकरियाँ, पहिये हैं।

सभी सड़कें, पहिये हैं।

कुछ कारें, सड़कें हैं।

निष्कर्ष :

I. कुछ कारें पहिये है।

II. सभी बकरियाँ कारें हैं।

Ans

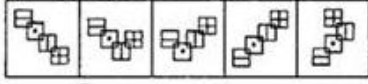
- ✓ 1. केवल निष्कर्ष I सत्य है।
- ✗ 2. न तो निष्कर्ष I न ही II सत्य है।
- ✗ 3. केवल निष्कर्ष II सत्य है।
- ✗ 4. निष्कर्ष I या II सत्य है।

Question ID : 9895808804

Chosen Option : 1

Q.7 दिए गए आकृति श्रृंखला में आगे आने वाले विकल्प को चुनें।

पहन आकृति



Ans

- ✗ 1.
- ✗ 2.
- ✓ 3.
- ✗ 4.

Question ID : 9895808812

Chosen Option : 3

Q.8

नीचे दिए गए कथनों के बाद दो निष्कर्ष I और II दिए गए हैं। यह मानते हुए कि कथनों में दी गई जानकारी सत्य है, भले ही वह सर्वज्ञात तथ्यों से भिन्न प्रतीत होती हो और यह निर्णय करें कि कौन सा/से निष्कर्ष तार्किक और निश्चित रूप से कथन में दी गई जानकारी का अनुसरण करता है/करते हैं।

कथन :

- I. कुछ मौसम बरसात हैं।
- II. कुछ गीष्में मौसम हैं।

निष्कर्ष:

- I. कुछ गीष्में बरसात हैं।
- II. कुछ मौसम गीष्में हैं।

Ans

1. केवल निष्कर्ष I लागू होता है।
2. निष्कर्ष I और II दोनों अनुसरण करते हैं।
3. न तो निष्कर्ष I और न ही निष्कर्ष II अनुसरण करता है।
4. केवल निष्कर्ष II अनुसरण करता है।

Question ID : 9895808805
Chosen Option : 4

Q.9 दिए गए विकल्पों में से संबंधित शब्द युगल का चयन करें।

डैफोडिल : फूल :: _____ : _____

Ans

1. अलसी : तरकारी
2. चुकंदर : जड़ी बूटी
3. तुलसी : पर्वतारोही
4. द्राक्ष : फल

Question ID : 9895808796
Chosen Option : 3

Q.10 उस विकल्प आकृति का चयन करें, जिसमें प्रश्न आकृति छिपी हुई/अंतर्निहित है।

प्रश्न आकृति:



Ans

- 1.
- 2.
- 3.
- 4.

Question ID : 9895808814

Chosen Option : 2

Q.1 चार विकल्प दिए गए हैं, जिनमें से तीन किसी तरह से समान हैं, जबकि एक अलग है। असंगत का चयन करें।

1

- Ans
- 1. 28
 - 2. 46
 - 3. 54
 - 4. 82

Question ID : 9895808809

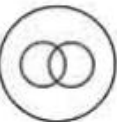

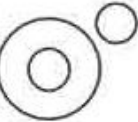

Chosen Option : 3

Q.1 वेन आरेख का चयन करें जो दिए गए तीन वर्गों के बीच के संबंध को सर्वोत्तम दर्शाता है।

2

समकोण, अधिक कोण और प्रतिवर्ती कोण

Ans

- 1. 
- 2. 
- 3. 
- 4. 

Question ID : 9895808817

Chosen Option : 2

Q.1 चार अक्षर समूह दिए गए हैं, जिनमें से तीन किसी तरह से समान हैं, जबकि एक अलग है। असंगत अक्षर समूह का चयन करें।

3

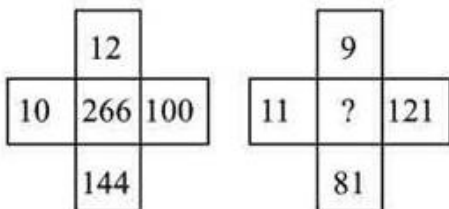
- Ans
- 1. JLK
 - 2. RTV
 - 3. MOQ
 - 4. SUW

Question ID : 9895808794

Chosen Option : 1

Q.1 दिए गए विकल्पों में से लुप्त संख्या ज्ञात करें।

4



Ans

1. 264
 2. 242
 3. 287
 4. 222

Question ID : 9895808810
 Chosen Option : 4

Q.1 5 उस विकल्प का चयन करें जो सही रूप में रिक्त स्थान की पूर्ति करते हुए श्रृंखला को पूरा करें।

15, 45, 70, 90, 105, ?

- Ans 1. 120
 2. 110
 3. 115
 4. 145

Question ID : 9895808807
 Chosen Option : 3

Q.1 6 उस विकल्प का चयन करें जो सही रूप में रिक्त स्थान की पूर्ति करते हुए श्रृंखला को पूरा करें।

37, 50, 65, 82, 101, ?

- Ans 1. 132
 2. 121
 3. 127
 4. 122

Question ID : 9895808806
 Chosen Option : 4

Q.1 7 उस विकल्प का चयन करें जो तीसरे पद से उसी तरह संबंधित है जिस प्रकार दूसरा पद पहले पद से संबंधित है।

ARH : RHA :: GTY : ?

- Ans 1. TGY
 2. YTG
 3. YGT
 4. GYT

Question ID : 9895808798
 Chosen Option : 2

Q.1 8 एक निश्चित कूट में, SMALL को VPDOO के रूप में कूटबद्ध किया जाता है, तो उस कोड में HUGE कैसे कूटबद्ध किया जाता है?

- Ans 1. KHJX
 2. KXHJ
 3. JHXX
 4. KXJH

Question ID : 9895808799
 Chosen Option : 4

Q.1 चार शब्द दिए गए हैं, जिनमें से तीन किसी तरह से समान हैं, जबकि एक अलग है। असंगत शब्द का चयन करें।

Ans

1. झुंड
2. हंस
3. पशु समूह
4. दल

Question ID : 9895808795
Chosen Option : 2

Q.2 यदि LIFE को 76 लिखा जाता है, तो LIVE को कैसे लिखा जाएगा?

Ans

1. 54
2. 60
3. 58
4. 55

Question ID : 9895808800
Chosen Option : 2

Q.2 यदि '+' का अर्थ '-', 'x' का अर्थ '+', ÷ का अर्थ '+', और '-' का अर्थ 'x', तो:

$$46 \times 2 - 4 \div 8 = ?$$

Ans

1. 105
2. 100
3. 120
4. 95

Question ID : 9895808811
Chosen Option : 2

Q.2 एक पुस्तकालय में कुछ पुस्तकें रखी हुई हैं। तीन पुस्तकें B, C और E हरी जिल्दवाली हैं जबकि बाकी पुस्तकों की जिल्द पीली है। A, D और B नयी पुस्तकें हैं जब कि बाकी पुस्तकें पुरानी हैं। A, C और B कानूनी रिपोर्ट हैं जब कि बाकी गजेटियर्स हैं। निम्नलिखित में से कौन सी पुस्तक हरे जिल्दवाली, पुरानी और कानूनी रिपोर्ट है?

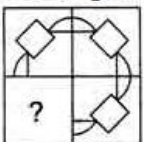
Ans

1. B
2. C
3. D
4. A





Question ID : 9895808803
Chosen Option : 1

Q.2 निम्नलिखित में से कौन सी उत्तर आकृति दी गई आकृति को पूरा करेगी?

प्रश्न आकृति:



Ans

1. 
2. 
3. 
4. 

Question ID : 9895808813
Chosen Option : 2

Q.2
4 दिए गए विकल्पों में से संबंधित शब्द युगल का चयन करें।

वर्णमाला : शब्दकोश :: _____ : _____

- Ans
1. लेखक : प्रश्न
2. कीबोर्ड : सीपीयू
3. अधिकार : संविधान
4. समाचार : साझेदारी

Question ID : 9895808797
Chosen Option : 3

Q.2
5 आठ दोस्त P, Q, R, S, T, V, W और Y एक वृत्त के चौरफा केंद्र की ओर मुख किये बैठे हैं, किन्तु आवश्यक नहीं की उसी क्रम में। R, T के बाएं से तीसरे स्थान पर बैठा है। Y, T का तुरंत पड़ोसी है। W, S के दाएं से दूसरे स्थान पर बैठा है। S, R का तुरंत पड़ोसी नहीं है। W और V के बीच केवल एक व्यक्ति बैठा है। Q, W या V में से किसी का तुरंत पड़ोसी नहीं है।

दी गयी बैठक व्यवस्था के अनुसार निम्नलिखित में से कौन सा कथन सत्य है?

- Ans
1. Y, W के दाएं से दूसरे स्थान पर बैठा है।
2. Y और Q की ठीक बीच में T बैठा है।
3. S और Q दोनों P के पड़ोसी हैं।
4. S और Y एक दूसरे के पड़ोसी हैं।

Question ID : 9895808801
Chosen Option : 2

Q.2
6 लाल डेटा बुक वह पुस्तक है जो निम्नलिखित का रिकॉर्ड रखती है:

- Ans
1. भूकंप
2. नाभिकीय रिएक्टर

3. चक्रवात

4. लुप्तप्राय प्रजातियां

Question ID : 9895808559
Chosen Option : 4

Q.2
7 इनमें से कौन-सा लोक नृत्य राजस्थान से संबंधित है?

Ans 1. भांगड़ा

2. डांडिया

3. घूमर

4. गिद्धा

Question ID : 9895808542
Chosen Option : 3

Q.2
8 एक परिसंपत्ति जिसका ऋण का उधारकर्ता मालिक होता है और ऋण की चुकौती तक गारंटी के रूप में उपयोग करता है, उसे क्या कहा जाता है ?

Ans 1. पूँजी

2. निवेश

3. संपार्श्विक

4. त्वरित्र

Question ID : 9895808549
Chosen Option : 1

Q.2
9 इनमें से कौन-सी वह गतिविधि नहीं है, जिसे तृतीयक क्षेत्र के अंतर्गत वर्गीकृत किया गया है?

Ans 1. भंडारण

2. बैंकिंग

3. मछली पकड़ना

4. परिवहन

Question ID : 9895808550
Chosen Option : 3

Q.3
0 हमारे पाचन तंत्र के किस भाग में वसा का पाचन होता है?

Ans 1. बड़ी आंत

2. पेट

3. अग्न्याशय

4. छोटी आंत

Question ID : 9895808556
Chosen Option : 4

Q.3
1 पंजाब से उस शिल्प की पहचान करें जिसमें कपड़ों पर सरल और विरल डिजाइनों में फूलों की शानदार कढ़ाई की जाती है।

Ans

- 1. फुलकारी
- 2. बाटिक
- 3. पैठानी
- 4. बलुचारी

Question ID : 9895808540
Chosen Option : 2

Q.3
2 इसमें केंद्र सरकार के साथ-साथ राज्य सरकार के बारे में भी सरोकार परिलक्षित होते हैं:

- Ans
- 1. संघ सूची
 - 2. समवर्ती सूची
 - 3. संघीय सूची
 - 4. राज्य सूची

Question ID : 9895808553
Chosen Option : 2

Q.3
3 भारतीय दर्शन की छह विचारधाराओं में से निम्नलिखित में से कौन सा एक है?

- Ans
- 1. वेदान्त
 - 2. ताओ धर्म
 - 3. सुखवाद
 - 4. मूर्तिपूजा

Question ID : 9895808563
Chosen Option : 4

Q.3
4 डॉ एम एस स्वामीनाथन से जुड़े हुए हैं:

- Ans
- 1. कृषि
 - 2. अर्थशास्त्र
 - 3. गणित
 - 4. भैतिक विज्ञान

Question ID : 9895808547
Chosen Option : 1

Q.3
5 बायोगैस संयंत्र के किस हिस्से में ऑक्सीजन की अनुपस्थिति में प्रतिक्रियाएं होती हैं?

- Ans
- 1. घोल
 - 2. पाचक कक्ष
 - 3. गैस आउटलेट
 - 4. गैस टैंक

Question ID : 9895808557

Chosen Option : 2

Q.3
6 भारत में स्वतंत्र और निष्पक्ष चुनाव कराने के लिए कौन सा स्वायत्त निकाय उत्तरदायी है?

- Ans
- 1. निर्वाचकीय परिषद
 - 2. निर्वाचन परिषद
 - 3. निर्वाचन आयोग
 - 4. निर्वाचकीय मतपत्र

Question ID : 9895808551

Chosen Option : 3

Q.3
7 खनन की प्रक्रिया जिसके द्वारा उथली गहराई पर पड़े खनिजों को सही परत हटाकर बाहर निकाला जाता है ,उसे क्या कहा जाता है?

- Ans
- 1. ओपन कास्ट माइनिंग
 - 2. शाफ्ट-खनन
 - 3. बेधन (ड्रिलिंग)
 - 4. उत्खनन

Question ID : 9895808561

Chosen Option : 4

Q.3
8 इनमें से कौन-सा साइट्रिक अम्ल का प्राथमिक स्रोत है?

- Ans
- 1. इमली
 - 2. खट्टा दूध
 - 3. आम
 - 4. नारंगी

Question ID : 9895808554

Chosen Option : 4

Q.3
9 तांबे के बर्तन पर हवा के संपर्क में आने पर हरे रंग का लेप किसका मिश्रण है?

- Ans
- 1. कॉपर नाइट्रेट और कॉपर हाइड्रॉक्साइड
 - 2. कॉपर नाइट्रेट और कॉपर कार्बोनेट
 - 3. कॉपर सल्फेट और कॉपर ऑक्साइड
 - 4. कॉपर कार्बोनेट और कॉपर हाइड्रॉक्साइड

Question ID : 9895808555

Chosen Option : 3

Q.4
0 निम्नलिखित में से कौन जुगाली करने वाला जानवर है?

- Ans
- 1. कुत्ता
 - 2. ईगल
 - 3. शेर

✓ 4. गाय

Question ID : 9895808558
Chosen Option : 4

Q.4
1 उस्ताद बिस्मिल्लाह खान एक भारतीय संगीतकार थे जिन्होंने _____ को लोकप्रिय बनाया।

- Ans
- ✗ 1. सितार
 - ✗ 2. सरोद
 - ✓ 3. शहनाई
 - ✗ 4. तबला

Question ID : 9895808545
Chosen Option : 3

Q.4
2 बंगाल में लिखा गया पहला ऐतिहासिक उपन्यास कौन-सा था?

- Ans
- ✓ 1. अंगुरिया बिनिमॉय
 - ✗ 2. आनंदमठ
 - ✗ 3. सरस्वतीविजयम
 - ✗ 4. इंदिराबाई

Question ID : 9895808562
Chosen Option : 2

Q.4
3 निम्नलिखित में से किस राज्य में बाँकसाइट का भंडार सबसे अधिक है?

- Ans
- ✗ 1. झारखंड
 - ✗ 2. छत्तीसगढ़
 - ✓ 3. ओडिशा
 - ✗ 4. तमिलनाडु

Question ID : 9895808560
Chosen Option : 2

Q.4
4 1930 के दूसरे गोलमेज सम्मेलन में बी.आर. आंबेडकर ने क्या मांग की थी?

- Ans
- ✗ 1. दमित वर्गों हेतु आरक्षण
 - ✗ 2. अस्पृश्यता का उन्मूलन
 - ✓ 3. दलितों के लिए पृथक निर्वाचक मंडल
 - ✗ 4. हिन्दू मंदिरों में प्रवेश

Question ID : 9895808564
Chosen Option : 1

Q.4
5 'इंडिया विन्स फ्रीडम' नामक पुस्तक किसके द्वारा लिखी गई है:

- Ans
- ✗ 1. महात्मा गांधी

2. सुभाष चंद्र बोस
3. राजेंद्र प्रसाद
4. मौलाना अबुल कलाम आज़ाद

Question ID : 9895808546
Chosen Option : 3

Q.4 2018 में कोरिया में वर्ल्ड मार्शल आर्ट यूनिन द्वारा आयोजित जूनियर विश्व स्क्वे चैम्पियनशिप में स्वर्ण पदक
6 किसने जीता?

- Ans 1. नयनिका बैनर्जी
2. हनाया निसार
3. रजोनिया चटर्जी
4. सान्या पिल्लै

Question ID : 9895808544
Chosen Option : 4

Q.4 7 आगा खान कप कौन-से खेल से संबंधित है?

- Ans 1. हॉकी
2. फुटबॉल
3. क्रिकेट
4. बैडमिंटन

Question ID : 9895808543
Chosen Option : 1

Q.4 8 लोक सभा और राज्य विधान सभाओं में एक-तिहाई सीटें किसके लिए आरक्षित हैं?

- Ans 1. अनुसूचित जनजाति
2. महिलाओं
3. अनुसूचित जाति और महिला
4. अन्य पिछड़ा वर्ग

Question ID : 9895808552
Chosen Option : 3

Q.4 9 स्वर्णजयंती ग्राम स्वरोजगार योजना किस वर्ष प्रारंभ की गई थी?

- Ans 1. 1997
2. 1998
3. 1995
4. 1999

Question ID : 9895808548
Chosen Option : 4

Q.5
0 बिरजू महाराज किस नृत्य शैली से संबद्ध हैं?

- Ans
- 1. कथक
 - 2. कथकली
 - 3. मोहिनीअट्टम
 - 4. कुचिपुड़ी

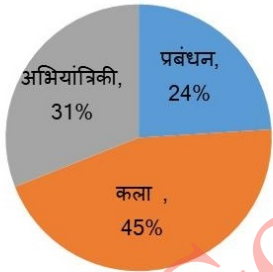
Question ID : 9895808541
Chosen Option : 2

Q.5
1 A कार्य को 8 दिनों में पूरा कर सकता है, B, उसी कार्य को 10 दिनों में पूरा कर सकता है और C उस कार्य को 12 दिनों में पूरा कर सकता है। तीनों मिलकर एक साथ कार्य को कितने दिनों में पूरा कर सकते हैं?

- Ans
- 1. $3\frac{7}{37}$
 - 2. $3\frac{9}{37}$
 - 3. $3\frac{5}{37}$
 - 4. $3\frac{9}{27}$

Question ID : 9895808983
Chosen Option : 2

Q.5
2 निर्देश: नीचे दिए गए प्रश्नों के उत्तर देने के लिए निम्नलिखित पाई-चार्ट का ध्यानपूर्वक अध्ययन करें।
कुल छात्रों की संख्या = 8000
एक विश्वविद्यालय के विभिन्न शाखाओं में छात्रों का प्रतिशत बंटन:



यदि कला निकाय में लड़कियों की संख्या 1800 है, तो कला शाखा में लड़कों और लड़कियों का अनुपात कितना होगा?

- Ans
- 1. 1 : 1
 - 2. 2 : 3
 - 3. 2 : 1
 - 4. 1 : 2

Question ID : 9895808991
Chosen Option : 1

Q.5
3 पहले 15 प्राकृत संख्याओं का औसत कितना होगा?

- Ans
- 1. 8

✗ 2. 6

✗ 3. 7

✗ 4. 9

Question ID : 9895808971
Chosen Option : 1

Q.5 एक कक्षा में लड़कियों और लड़कों का अनुपात 9 : 11 है, यदि कक्षा में 45 लड़कियां हैं तो लड़कों की संख्या ज्ञात कीजिए।

Ans

✓ 1. 55

✗ 2. 50

✗ 3. 45

✗ 4. 40

Question ID : 9895808979
Chosen Option : 1

Q.5 पाइप A एक टैंक को 5 घंटे में पूरी तरह से भर सकता है। हालांकि, टैंक में छिद्र होने के कारण, टैंक को भरने में 3 घंटे और लगते हैं। पाइप A को बंद होने पर छिद्र द्वारा पूरे भरे टैंक को खाली होने में कितना समय लगेगा?

Ans

✗ 1. 12 घंटे 20 मिनट

✓ 2. 13 घंटे 20 मिनट

✗ 3. 7.5 घंटे

✗ 4. 14 घंटे 40 मिनट

Question ID : 9895808984
Chosen Option : 2

Q.5 किसी संख्या का 40% जब उसी संख्या से घटाया जाता है तो 108 प्राप्त होते हैं। वह संख्या क्या है?

Ans

✗ 1. 200

✗ 2. 400

✗ 3. 100

✓ 4. 180

Question ID : 9895808975
Chosen Option : 4

Q.5 निम्नलिखित प्रश्न में प्रश्नवाचक चिन्ह (?) के स्थान पर लगभग कौन सी संख्या आनी चाहिए?

$$5830 \div 364 \times \sqrt{224} = ?$$

Ans

✗ 1. 285

✗ 2. 200

3. 290

4. 240

Question ID : 9895808970

Chosen Option : 4

Q.5
8 ₹ 1,00,000 के बिल में 40% की छूट और दो क्रमिक 36% एवं 4% की छूट के बीच क्या अंतर है?

Ans

1. ₹ 2500

2. ₹ 1480

3. ₹ 4000

4. ₹ 1440

Question ID : 9895808973

Chosen Option : 4

Q.5
9 आकाश, भरत, चरण, दिनेश, महेश और नरेश के 6, 16, 21, 10, 12 और k ऑनलाइन मित्र हैं। यदि उनके साथ मित्रों की संख्या का माध्य 14 है, तो k का मान ज्ञात करें।

Ans

1. 23

2. 20

3. 19

4. 17

Question ID : 9895808974

Chosen Option : 3

Q.6
0 100 मीटर लंबी ट्रेन 60 km/hr की गति से चल रही है। इसके समान्तर पथ पर खड़ी 150 मीटर लंबी एक दूसरी ट्रेन को पार करने में कितने सेकंड लगेंगे?

Ans

1. 12.5

2. 18

3. 15

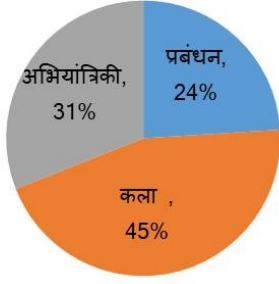
4. 16

Question ID : 9895808986

Chosen Option : 3

Q.6
1

निर्देश: नीचे दिए गए प्रश्नों के उत्तर देने के लिए निम्नलिखित पाई-चार्ट का ध्यानपूर्वक अध्ययन करें।
कुल छात्रों की संख्या = 8000
एक विश्वविद्यालय के विभिन्न निकायों में छात्रों का प्रतिशत बंटन:



यदि अभियांत्रिकी अनुभाग में लड़कों और लड़कियों के बीच का अनुपात क्रमशः 3 : 2 है, तो अभियांत्रिकी शाखा में लड़कों की संख्या है:

- Ans
- 1. 1736
 - 2. 992
 - 3. 1240
 - 4. 1488

Question ID : 9895808990
Chosen Option : 4

Q.6
2 $\{[(486)^2 \div (27)^2] \times 15\} \div 12 = ?$

- Ans
- 1. 405
 - 2. 385
 - 3. 365
 - 4. 375

Question ID : 9895808969
Chosen Option : 1

Q.6
3 एक हैंडी-कैम रिकॉर्डर ₹ 44,000 में 10% लाभ पर बेचा गया है। इसे ₹ 42,000 में बेचा जानेपर क्या लाभ होता?

- Ans
- 1. 5%
 - 2. 13%
 - 3. 6%
 - 4. 7%

Question ID : 9895808977
Chosen Option : 1

Q.6
4 7.5 m और 25 mm का अनुपात क्या होगा?

- Ans
- 1. 3 : 1
 - 2. 3000 : 1

3. 30 : 1

4. 300 : 1

Question ID : 9895808978

Chosen Option : 1

Q.6
5 किसी वस्तु को 1675 रु में बेचने पर अर्जित होनेवाला लाभ 1,025 रुपये में बेचने पर हुए हानि के समान है। वस्तु का लागत मूल्य क्या है?

Ans

1. ₹ 1350

2. ₹ 1425

3. ₹ 1375

4. ₹ 1400

Question ID : 9895808976

Chosen Option : 1

Q.6
6 2 cm त्रिज्या के 27 छोटे गोले पिघलाकर एक बड़ा गोला बनाया जाता है। बड़े गोले की त्रिज्या क्या होगी?

Ans

1. 5 cm

2. 3 cm

3. 4 cm

4. 6 cm

Question ID : 9895808989

Chosen Option : 4

Q.6
7 यशवंत n मिनट में m शब्द और पवन q मिनट में p शब्द टाइप करता है। यशवंत की टाइपिंग और पवन की टाइपिंग दर का अनुपात क्या होगा?

Ans

1. m/n

2. mq/pn

3. mp/qn

4. mn/pq

Question ID : 9895808980

Chosen Option : 2

Q.6
8 किसी कार्यालय के कर्मचारियों का मासिक औसत वेतन ₹ 22000 है। अफसरों का औसत वेतन ₹ 28000 और जो अफसर नहीं हैं उनका ₹ 13000 प्रति महीने है। यदि अफसरों की संख्या 12 है तो जो अफसर नहीं हैं उनकी संख्या कार्यालय में कितनी है?

Ans

1. 9

2. 8

✗ 3. 7

✗ 4. 6

Question ID : 9895808972
Chosen Option : 2

Q.6 कोई राशि 2 वर्षों में 9 गुना होने के लिए चक्रवृद्धि ब्याज की दर कितनी प्रतिशत होनी चाहिए?

Ans ✗ 1. 100%

✗ 2. 20%

✗ 3. 10%

✓ 4. 200%

Question ID : 9895808982
Chosen Option : 4

Q.7 दो संख्याएँ 2 : 3 के अनुपात में हैं। उनके महत्तम समापवर्तक और लघुत्तम समापवर्त्य का गुणनफल 150 है। संख्याओं का योग कितना होगा?

Ans ✗ 1. 35

✗ 2. 20

✗ 3. 30

✓ 4. 25

Question ID : 9895808968
Chosen Option : 4

Q.7 एक समांतर चतुर्भुज की परिमाप 40 cm है और इसका क्षेत्रफल 60 sq. cm है। समांतर चतुर्भुज की लंबाई और चौड़ाई ज्ञात करें यदि इसकी ऊंचाई 4 cm है।

Ans ✗ 1. 12 cm and 8 cm

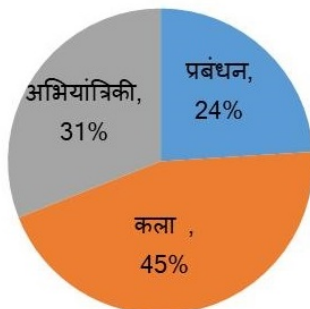
✓ 2. 15 cm and 5 cm

✗ 3. 18 cm and 12 cm

✗ 4. 13 cm and 12 cm

Question ID : 9895808987
Chosen Option : 2

Q.7 निर्देश: नीचे दिए गए प्रश्नों के उत्तर देने के लिए निम्नलिखित पाई-चार्ट का ध्यानपूर्वक अध्ययन करें।
कूल छात्रों की संख्या = 8000
एक विश्वविद्यालय के विभिन्न शाखाओं में छात्रों का प्रतिशत बंटन:



कला तथा प्रबंधन पढ़ने वाले विद्यार्थियों के बीच कितना अंतर है?

Ans

1. 1280 2. 1680 3. 2480 4. 1580

Question ID : 9895808992

Chosen Option : 2

Q.7
3 एक व्यक्ति को कार से 300 km की दूरी तय करने में 5 घंटे लगते हैं। उसे अपनी गति km/hr में कितनी बढ़ानी चाहिए ताकि उसी समान दूरी को तय करने में उसे 4 घंटे का समय लगे?

 1. 15 2. 75 3. 60 4. 10

Question ID : 9895808985

Chosen Option : 1

Q.7
4 यदि साधारण ब्याज के अंतर्गत ₹ 3000 की राशि दो वर्षों में ₹ 3600 हो जाती है। ब्याज का दर क्या है?

 1. 10% प्रतिवर्ष 2. 5% प्रतिवर्ष 3. 20% प्रतिवर्ष 4. 15% प्रतिवर्ष

Question ID : 9895808981

Chosen Option : 1

Q.7
5 एक 16 m भुजा का वर्गाकार क्षेत्र एक समान चौड़ाई के मार्ग से घिरा है। मार्ग का क्षेत्रफल 144 m^2 है। मार्ग की चौड़ाई क्या होगी?

 1. 1 m 2. 2 m 3. 4 m 4. 2.5 m

Question ID : 9895808988

Chosen Option : 2

Section : English Language

Q.1 Select the most appropriate word to fill in the blank.

As I am new here, I am not _____ with this area.

 1. popular 2. welcome

3. known
 4. familiar

Question ID : 9895809118
Chosen Option : --

Q.2 Select the meaning of the given idiom.

Let the grass grow under one's feet

- Ans 1. to be careless
 2. to remain idle
 3. to accept responsibility
 4. to engage in useless talk

Question ID : 9895809113
Chosen Option : --

Q.3 Identify the segment in the sentence which contains the grammatical error from the given options.

In a democracy country like India, all adults, rich or poor are allowed to vote.

- Ans 1. to vote
 2. are allowed
 3. a democracy country
 4. all adults

Question ID : 9895809094
Chosen Option : --

Q.4 Identify the segment in the sentence which contains the grammatical error from the given options.

Her daughter is sick but it can't take the day off from work.

- Ans 1. Her daughter
 2. it can't
 3. the day off
 4. from work

Question ID : 9895809095
Chosen Option : --

Q.5 Select the wrongly spelt word.

- Ans 1. Permissible
 2. Parformence
 3. Personnel
 4. Perseverance

Question ID : 9895809117
Chosen Option : --

Q.6 Select the meaning of the given idiom.

Give it a shot

- Ans
- 1. shoot something
 - 2. try something
 - 3. give up something
 - 4. plan something

Question ID : 9895809112
Chosen Option : --

Q.7 Select the most appropriate option to substitute the underlined segment in the given sentence. If there is no need to substitute it, select 'No substitution required'.

There are several laws in India that protect every person's right to be treated equally.

- Ans
- 1. each person right
 - 2. each personal right
 - 3. No substitution required
 - 4. every person right

Question ID : 9895809099
Chosen Option : --

Q.8 Select the synonym of the given word.

PROCURE

- Ans
- 1. Find
 - 2. Hinder
 - 3. Search
 - 4. Obtain

Question ID : 9895809108
Chosen Option : --

Q.9 Select the most appropriate word to fill in the blank.

The midday meal programme _____ helped increase the enrolment and attendance of poor children in school.

- Ans
- 1. was
 - 2. has
 - 3. were
 - 4. have

Question ID : 9895809100
Chosen Option : --

Q.10 Select the word which means the same as the group of words given.

A person who does not believe in God

- Ans
- 1. Devotee
 - 2. Agnostic
 - 3. Atheist
 - 4. Fanatic

Question ID : 9895809114
Chosen Option : --

Q.1
1 Select the word which means the same as the group of words given.

A doctor who specializes in the study or treatment of heart diseases

- Ans
- 1. Gynecologist
 - 2. Psychologist
 - 3. Pediatrician
 - 4. Cardiologist

Question ID : 9895809115
Chosen Option : --

Q.1
2 Select the most appropriate word to fill in the blank.

Since he has been living in this area for long, he is _____ to it.

- Ans
- 1. accustomed
 - 2. warmed
 - 3. determined
 - 4. possessed

Question ID : 9895809119
Chosen Option : --

Comprehension:

In the following passage some words have been deleted. Fill in the blanks with the help of the alternatives given. Select the most appropriate option for each number.

India has a large (1) _____ of doctors, clinics and hospitals. The country also (2) _____ considerable experience and knowledge in (3) _____ a public healthcare (4) _____. This is a system of hospitals and healthcare run (5) _____ the government.

SubQuestion No : 13

Q.1
3 Select the most appropriate option that will fill in the blank number 1.

- Ans
- 1. number
 - 2. amount
 - 3. quantity
 - 4. force

Question ID : **9895809103**
Chosen Option : --

Comprehension:

In the following passage some words have been deleted. Fill in the blanks with the help of the alternatives given. Select the most appropriate option for each number.

India has a large (1) _____ of doctors, clinics and hospitals. The country also (2) _____ considerable experience and knowledge in (3) _____ a public healthcare (4) _____. This is a system of hospitals and healthcare run (5) _____ the government.

SubQuestion No : 14

Q.1
4 Select the most appropriate option that will fill in the blank number 2

- Ans
- 1. is
 - 2. have
 - 3. had
 - 4. has

Question ID : **9895809104**
Chosen Option : --

Comprehension:

In the following passage some words have been deleted. Fill in the blanks with the help of the alternatives given. Select the most appropriate option for each number.

India has a large (1) _____ of doctors, clinics and hospitals. The country also (2) _____ considerable experience and knowledge in (3) _____ a public healthcare (4) _____. This is a system of hospitals and healthcare run (5) _____ the government.

SubQuestion No : 15

Q.1
5 Select the most appropriate option that will fill in the blank number 3.

- Ans
- 1. following
 - 2. putting
 - 3. running
 - 4. solving

Question ID : **9895809105**
Chosen Option : --

Comprehension:

In the following passage some words have been deleted. Fill in the blanks with the help of the alternatives given. Select the most appropriate option for each number.

India has a large (1) _____ of doctors, clinics and hospitals. The country also (2) _____ considerable experience and knowledge in (3) _____ a public healthcare (4) _____. This is a system of hospitals and healthcare run (5) _____ the government.

SubQuestion No : 16

Q.1
6 Select the most appropriate option that will fill in the blank number 4.

- Ans
- 1. system
 - 2. procedure
 - 3. device
 - 4. company

Question ID : 9895809106
Chosen Option : --

Comprehension:

In the following passage some words have been deleted. Fill in the blanks with the help of the alternatives given. Select the most appropriate option for each number.

India has a large (1) _____ of doctors, clinics and hospitals. The country also (2) _____ considerable experience and knowledge in (3) _____ a public healthcare (4) _____. This is a system of hospitals and healthcare run (5) _____ the government.

SubQuestion No : 17

Q.1
7 Select the most appropriate option that will fill in the blank number 5.

- Ans
- 1. between
 - 2. from
 - 3. with
 - 4. by

Question ID : 9895809107
Chosen Option : --

Q.1
8 Select the wrongly spelt word.

- Ans
- 1. Grandeur
 - 2. Grievance
 - 3. Grievous
 - 4. Grammer

Question ID : 9895809116
Chosen Option : --

Q.1 Select the most appropriate option to substitute the underlined segment in the given sentence. If there is no need to substitute it, select 'No substitution required'.

9

The playground was way large then I had imagined and in cleaning it, my back began to ache.

- Ans**
- 1. large then I have
 - 2. larger than I had
 - 3. largest than I had
 - 4. No substitution required

Question ID : **9895809097**
Chosen Option : --

Q.2 Identify the segment in the sentence which contains the grammatical error from the given options.

0

One of the common forms of inequality in India are the caste system.

- Ans**
- 1. One of the
 - 2. inequality in India
 - 3. are the caste system
 - 4. common forms of

Question ID : **9895809096**
Chosen Option : --

Q.2 Select the synonym of the given word.

1

PROSPERITY

- Ans**
- 1. Poverty
 - 2. Peace
 - 3. Failure
 - 4. Wealth

Question ID : **9895809109**
Chosen Option : --

Q.2 Select the most appropriate option to substitute the underlined segment in the given sentence. If there is no need to substitute it, select 'No substitution required'.

2

It is a story about Mr. and Mrs. Ansari who had look to rent an apartment in the city.

- Ans**
- 1. is looking for
 - 2. No substitution required
 - 3. were looking to
 - 4. have look to

Question ID : **9895809098**
Chosen Option : --

Q.2 Select the most appropriate word to fill in the blank.

3

Tired from a long day at work the young lady _____ to give up her seat on a bus to an old man.

- Ans**
- 1. refuse

2. refused
 3. has been refusing
 4. is being refused

Question ID : 9895809101
 Chosen Option : --

Q.2
4 Select the antonym of the given word.

FUTILE

- Ans 1. Useless
 2. Vain
 3. Useful
 4. Fruitless

Question ID : 9895809111
 Chosen Option : --

Q.2
5 Select the antonym of the given word.

ARROGANT

- Ans 1. Disrespectful
 2. Haughty
 3. Modest
 4. Proud

Question ID : 9895809110
 Chosen Option : --

Section : Hindi Language

Q.1 'उड़ती चिड़िया पहचानना' मुहावरे के सही अर्थ का चयन करें।

- Ans 1. दूसरे के मन की बात जानना
 2. उड़ते हुए पक्षी को पहचानना
 3. चिड़िया की उड़ान मापना
 4. अंदाजा लगाना

Question ID : 9895807068
 Chosen Option : 4

Q.2 सही वर्तनी वाले शब्द का चयन करें।

- Ans 1. उज्वल
 2. उजवल
 3. उज्जवल
 4. उज्ज्वल

Question ID : 9895807071
Chosen Option : 3

Q.3 दिए गए वाक्य का वह भाग ज्ञात करें जिसमें कोई त्रुटि है।

साहित्य की नींव का आधार जीवन है, इसी नींव का साहित्य की दीवार खड़ी होती है।

- Ans
- 1. आधार जीवन है,
 - 2. साहित्य की नींव का
 - 3. साहित्य की दीवार खड़ी होती है।
 - 4. इसी नींव का

Question ID : 9895807047
Chosen Option : 1

Q.4 दिए गए वाक्य में रेखांकित खंड को प्रतिस्थापित करने के लिए उपयुक्त विकल्प का चयन करें।

वह स्वभाव से घूमने वाला है।

- Ans
- 1. घूमू
 - 2. घुमैया
 - 3. घुमक्कड़
 - 4. घूमालू

Question ID : 9895807052
Chosen Option : 3

Q.5 'ढाक के तीन पात' मुहावरे के सही अर्थ का चयन करें।

- Ans
- 1. परिवर्तन न होना
 - 2. सुखद परिवर्तन होना
 - 3. सुखद कार्य करना
 - 4. किसी प्रकार का कार्य न करना

Question ID : 9895807067
Chosen Option : 4

Q.6 रिक्त स्थान की पूर्ति कीजिए-

अकस्मात् बिजली-सा यह विचार मन में _____।

- Ans
- 1. दमका
 - 2. गमका
 - 3. चमका
 - 4. कौंधा

Question ID : 9895807056
Chosen Option : 3

Q.7

‘मुख्य’ का विलोम है-

- Ans
- 1. अनिवार्य
 - 2. गौण
 - 3. संक्षिप्त
 - 4. अवज्ञा

Question ID : 9895807064

Chosen Option : 2

Comprehension:

निम्नलिखित गद्यांश के रिक्त स्थानों की पूर्ति गद्यांश के नीचे दिए गए प्रश्नों के अनुसार कीजिए-

आज के युग में इंसान निजी _____ (1) के लिए पर्यावरण के साथ खेल रहा है। वह इसका _____ (2) कर रहा है। जल प्रदूषण, ध्वनि प्रदूषण, पेड़ों की _____ (3), वायु प्रदूषण आदि के द्वारा हम अपने वातावरण को दिन पर दिन _____ (4) करते जा रहे हैं। इसका _____ (5) आने वाली पीढ़ी को भुगतना पड़ेगा।

SubQuestion No : 8

- Q.8 गद्यांश में संकेतित रिक्त स्थान (1) के लिए उपयुक्त शब्द होगा।

- Ans
- 1. पुरुषार्थ
 - 2. परमार्थ
 - 3. निहितार्थ
 - 4. स्वार्थ

Question ID : 9895807058

Chosen Option : 4

Comprehension:

निम्नलिखित गद्यांश के रिक्त स्थानों की पूर्ति गद्यांश के नीचे दिए गए प्रश्नों के अनुसार कीजिए-

आज के युग में इंसान निजी _____ (1) के लिए पर्यावरण के साथ खेल रहा है। वह इसका _____ (2) कर रहा है। जल प्रदूषण, ध्वनि प्रदूषण, पेड़ों की _____ (3), वायु प्रदूषण आदि के द्वारा हम अपने वातावरण को दिन पर दिन _____ (4) करते जा रहे हैं। इसका _____ (5) आने वाली पीढ़ी को भुगतना पड़ेगा।

SubQuestion No : 9

- Q.9 गद्यांश में संकेतित रिक्त स्थान (2) के लिए उपयुक्त शब्द होगा।

Ans

1. दुर्योग
2. दुरुपयोग
3. सदुपयोग
4. अभियोग

Question ID : 9895807059
Chosen Option : 2

Comprehension:

निम्नलिखित गद्यांश के रिक्त स्थानों की पूर्ति गद्यांश के नीचे दिए गए प्रश्नों के अनुसार कीजिए-

आज के युग में इंसान निजी _____ (1) के लिए पर्यावरण के साथ खेल रहा है। वह इसका _____ (2) कर रहा है। जल प्रदूषण, ध्वनि प्रदूषण, पेड़ों की _____ (3), वायु प्रदूषण आदि के द्वारा हम अपने वातावरण को दिन पर दिन _____ (4) करते जा रहे हैं। इसका _____ (5) आने वाली पीढ़ी को भुगतना पड़ेगा।

SubQuestion No : 10

Q.1
0 गद्यांश में संकेतित रिक्त स्थान (3) के लिए उपयुक्त शब्द होगा।

- Ans
1. रोपाई
2. लगाई
3. बुवाई
4. कटाई

Question ID : 9895807060
Chosen Option : 4

Comprehension:

निम्नलिखित गद्यांश के रिक्त स्थानों की पूर्ति गद्यांश के नीचे दिए गए प्रश्नों के अनुसार कीजिए-

आज के युग में इंसान निजी _____ (1) के लिए पर्यावरण के साथ खेल रहा है। वह इसका _____ (2) कर रहा है। जल प्रदूषण, ध्वनि प्रदूषण, पेड़ों की _____ (3), वायु प्रदूषण आदि के द्वारा हम अपने वातावरण को दिन पर दिन _____ (4) करते जा रहे हैं। इसका _____ (5) आने वाली पीढ़ी को भुगतना पड़ेगा।

SubQuestion No : 11

Q.1
1 गद्यांश में संकेतित रिक्त स्थान (4) के लिए उपयुक्त शब्द होगा।

- Ans
1. उत्तम

2. मैली
3. स्वच्छ
4. खराब

Question ID : 9895807061
Chosen Option : 4

Comprehension:

निम्नलिखित गद्यांश के रिक्त स्थानों की पूर्ति गद्यांश के नीचे दिए गए प्रश्नों के अनुसार कीजिए-

आज के युग में इंसान निजी _____ (1) के लिए पर्यावरण के साथ खेल रहा है। वह इसका _____ (2) कर रहा है। जल प्रदूषण, ध्वनि प्रदूषण, पेड़ों की _____ (3), वायु प्रदूषण आदि के द्वारा हम अपने वातावरण को दिन पर दिन _____ (4) करते जा रहे हैं। इसका _____ (5) आने वाली पीढ़ी को भुगतना पड़ेगा।

SubQuestion No : 12

Q.1
2 गद्यांश में संकेतित रिक्त स्थान (5) के लिए उपयुक्त शब्द होगा।

- Ans
1. चिंता
2. फायदा
3. लाभ
4. दुष्प्रभाव

Question ID : 9895807062
Chosen Option : 4

Q.1
3 दिए गए वाक्य का वह भाग ज्ञात करें जिसमें कोई त्रुटि है।

मानव जीवन परमात्मा का सृष्टि है और मर्यादाओं से परिमित है।

- Ans
1. और मर्यादाओं से
2. मानव जीवन
3. परिमित है।
4. परमात्मा का सृष्टि है

Question ID : 9895807048
Chosen Option : 2

Q.1
4 जिसका जन्म श्रेष्ठ कुल में हुआ हो' के लिए एक शब्द प्रयुक्त होता है-

- Ans
1. मलिन
2. श्रेष्ठ
3. कुलीन
4. सामंत

Question ID : 9895807069
Chosen Option : 2

Q.1
5 रिक्त स्थान को भरने के लिए उपयुक्त शब्द का चयन करें।

ईमानदारी श्रेष्ठ _____ है।

- Ans
- 1. विसंगति
 - 2. गुण
 - 3. लक्षण
 - 4. क्रिया

Question ID : 9895807054
Chosen Option : 2

Q.1
6 दिए गए वाक्य में रेखांकित खंड को प्रतिस्थापित करने के लिए उपयुक्त विकल्प का चयन करें।

मुझे चमक वाले कपड़े पसंद नहीं हैं।

- Ans
- 1. चमकमय
 - 2. चमकवान
 - 3. चमक
 - 4. चमकीले

Question ID : 9895807051
Chosen Option : 4

Q.1
7 'रज्जु' शब्द का पर्यायवाची है-

- Ans
- 1. घोड़ा
 - 2. रस्सी
 - 3. मेढक
 - 4. मछली

Question ID : 9895807065
Chosen Option : 4

Q.1
8 'दस वर्ष से पन्द्रह वर्ष के आयु वर्ग के बालक' के लिए एक शब्द प्रयुक्त होता है-

- Ans
- 1. शिशु
 - 2. तरुण
 - 3. युवा
 - 4. किशोर

Question ID : 9895807070
Chosen Option : 4

Q.1
9 दिए गए वाक्य का वह भाग ज्ञात करें जिसमें कोई त्रुटि है।

'मुखिया' शब्द मुख से निकली है और मुख ही सब अंगों में श्रेष्ठ है।

Ans

1. और मुख ही
2. मुख से निकली है
3. सब अंगों में श्रेष्ठ है।
4. 'मुखिया' शब्द

Question ID : 9895807049

Chosen Option : 1

Q.2

रिक्त स्थान को भरने के लिए उपयुक्त शब्द का चयन करें।

बन्दूक एक उपयोगी _____ है।

Ans

1. अस्त्र
2. शास्त्र
3. औजार
4. घात

Question ID : 9895807055

Chosen Option : 1

Q.2

किये हुए काम के बदले में मिलने वाला धन _____ कहलाता है।

Ans

1. पारिश्रमिक
2. ब्याज
3. पुरस्कार
4. ऋणमुक्त

Question ID : 9895807053

Chosen Option : 1

Q.2

सही वर्तनी वाले शब्द का चयन करें।

Ans

1. जिजीवषा
2. जिजीविषा
3. जजीवषा
4. जिजिवीषा

Question ID : 9895807072

Chosen Option : 3

Q.2

'हस्त' का पर्यायवाची है-

Ans

1. शची
2. कर
3. हाटक
4. चमू

Question ID : 9895807066

Chosen Option : 2

Q.2
4 दिए गए वाक्य में रेखांकित खंड को प्रतिस्थापित करने के लिए उपयुक्त विकल्प का चयन करें।

यह कुम्हार तो सीधा है, लेकिन इसकी स्त्री बहुत तेज है।

Ans

1. कुम्हारीन
 2. कुम्हारी
 3. कुम्हराइन
 4. कुम्हारनी

Question ID : 9895807050

Chosen Option : 1

Q.2
5 'कृतघ्न' का विलोम है-

Ans

1. दीर्घायु
 2. कृपालु
 3. कृतज्ञ
 4. सक्रिय

Question ID : 9895807063

Chosen Option : 3

GovtJobsAlert.In