

Constable (GD) in CAPFs, NIA, SSF and Rifleman (GD) in Assam Rifles Examination, 2018

Roll No. :	GovtJobsAlert.In
Registration No.	GovtJobsAlert.In
Name :	GovtJobsAlert.In
Exam Venue :	ANAND INTERNATIONAL COLLEGE OF ENGINEERING JAIPUR
Exam Time :	4:00 PM - 5:30 PM
Exam Date :	07/03/2019

Section : General Section

Q.1 नीचे दिए गए कथनों के बाद दो निष्कर्ष I और II दिए गए हैं। यह मानते हुए कि कथनों में दी गई जानकारी सत्य है, भले ही वह सर्वज्ञात तथ्यों से भिन्न प्रतीत होती हो और यह निर्णय करें कि कौन सा / से निष्कर्ष तार्किक और निश्चित रूप से कथन में दी गई जानकारी का अनुसरण करता है / करते हैं।

कथन:-

कुछ किताबें, कार्ड हैं।

कुछ कार्ड, सुंदर हैं।

निष्कर्ष:-

I. कुछ किताबें, सुंदर हैं।

II. कुछ सुंदर, किताबें हैं।

Ans

✓ 1. न तो निष्कर्ष I न ही II अनुसरण करता है।

✗ 2. केवल निष्कर्ष I अनुसरण करता है।

✗ 3. केवल निष्कर्ष II अनुसरण करता है।


✗ 4. या तो निष्कर्ष I या II अनुसरण करता है।

Question ID : 9895808830

Chosen Option : 3

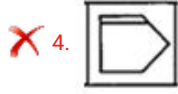
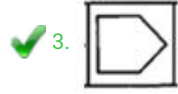
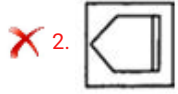
Q.2 वह विकल्प का चयन करें जो दी गई आकृति श्रृंखला को पूरा करता है

PROBLEM FIGURES



Ans

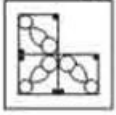




Question ID : 9895808837
Chosen Option : 3

Q.3 निम्नलिखित में से कौन सी उत्तर आकृति दी गई आकृति को पूरा करेगी?

प्रश्न आकृति:



Ans



Question ID : 9895808838
Chosen Option : 1

Q.4 सुमन एवं राजेश का एक पंक्ति में स्थान क्रमशः बाएँ से 12वाँ एवं दाएँ से 8वाँ है। यदि वे अपना स्थान आपस में बदल लेते हैं तो राजेश का स्थान दाएँ से 17वाँ हो जाता है। जात कीजिए कि सुमन का बाएँ से कौन-सा स्थान होगा तथा समूह में कुल कितने व्यक्ति हैं?

Ans

✗ 1. 21, 27

✗ 2. 20, 28

✓ 3. 21, 28

✗ 4. 25, 26

Question ID : 9895808828
Chosen Option : 3

Q.5 दिए गए विकल्पों में से संबंधित शब्द युग्म का चयन करें।

अल्जाइमर : मस्तिष्क :: _____ : _____

Ans

✗ 1. गुर्दे : जिगर

✓ 2. मोतियाबिंद : आंखें

✗ 3. खुजली : नाक

✗ 4. मधुमेह : कान

Question ID : 9895808822
Chosen Option : 2

Q.6 उस विकल्प का चयन करें जो सही रूप में रिक्त स्थान की पूर्ति करते हुए श्रृंखला को पूरा करें।

88, 98, 83, 103, 78, ?

Ans ✗ 1. 110

✗ 2. 115

✗ 3. 107

✓ 4. 108

Question ID : 9895808831
Chosen Option : 2

Q.7 चार विकल्प दिए गए हैं, जिनमें से तीन किसी तरह से समान हैं, जबकि एक अलग है। असंगत का चयन करें।

Ans ✗ 1. 154

✗ 2. 66

✗ 3. 165

✓ 4. 177

Question ID : 9895808834
Chosen Option : 2

Q.8 उस विकल्प का चयन करें जो सही रूप में रिक्त स्थान की पूर्ति करते हुए श्रृंखला को पूरा करें।

SL, MO, GR, ?

Ans ✗ 1. HF

✗ 2. AV

✓ 3. AU

✗ 4. CK

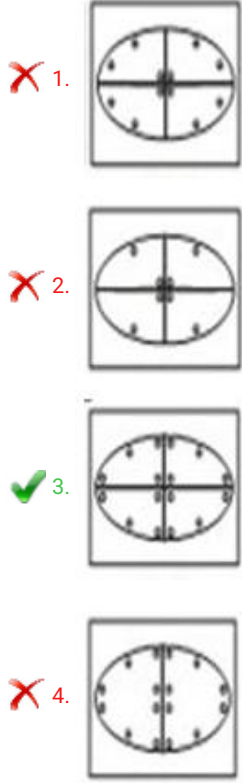
Question ID : 9895808818
Chosen Option : 4

Q.9 नीचे प्रश्न आकृति में दर्शाये गए तरीके से एक कागज़ को मोड़ा गया और काटा गया है। इस कागज़ को खोलने पर दी गयी उत्तर आकृतियों में से कौन सी आकृति दिखाई देगी?

प्रश्न आकृति:



Ans



Question ID : 9895808841
Chosen Option : 3

Q.1 चार अक्षर समूह दिए गए हैं, जिनमें से तीन किसी तरह से समान हैं, जबकि एक अलग है। असंगत अक्षर समूह का चयन करें।

- Ans
- ✓ 1. WYA
- ✗ 2. FCZ
- ✗ 3. ROL
- ✗ 4. GDA

Question ID : 9895808819
Chosen Option : 4

Q.1 P, Q, R, S, T, U और V एक वृत्ताकार मेज के चारों ओर बैठे हैं।

S, R या T का पड़ोसी नहीं है।

P, Q और R का पड़ोसी है।

V, जो कि S के बाएं से दूसरा है, T और U का पड़ोसी है।

निम्न में से कौन सा सत्य है ?

- Ans
- ✓ 1. R, P और T के मध्य में है

✗ 2. S, U के निकटवर्ती बायीं ओर है

✗ 3. ज्ञात नहीं किया जा सकता

✗ 4. Q, R और T के मध्य में है

Question ID : 9895808827

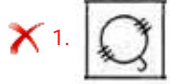
Chosen Option : 1

Q.1 जब दर्पण को AB रेखा पर रखा जाता है तब उत्तर आकृति में से कौन-सी आकृति, दी गई आकृति की दर्पण छवि है?

Question Figures:



Ans



Question ID : 9895808840

Chosen Option : 4

Q.1 यदि 'P' का अर्थ '-', 'Q' का अर्थ '+', 'R' का अर्थ '+', और 'S' का अर्थ 'x', है, तो:

$$525 \text{ Q } 25 \text{ R } 42 \text{ S } 4 = ?$$

Ans

✗ 1. 198

✗ 2. 187

✓ 3. 189

✗ 4. 178

Question ID : 9895808836

Chosen Option : 1

Q.1 दिए गए विकल्पों में से संबंधित शब्द युग्म का चयन करें।

पुस्तकें : लेखन सामग्री :: _____ : _____

Ans

✗ 1. मछली बाजार : कपड़ा

✓ 2. कुर्सियां : फर्नीचर

✗ 3. सब्जी : किराना

✗ 4. औषधि : नर्स

Question ID : 9895808821
Chosen Option : 2

Q.1
5 चार शब्द दिए गए हैं, जिनमें से तीन किसी तरह से समान हैं, जबकि एक अलग है। असंगत शब्द का चयन करें।

Ans ✓ 1. गणक (कैलकुलेटर)

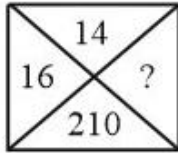
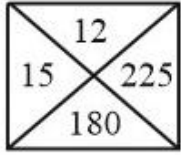
✗ 2. विश्वकोश

✗ 3. शब्दकोश

✗ 4. लेख

Question ID : 9895808820
Chosen Option : 1

Q.1
6 दिए गए विकल्पों में से लुप्त संख्या ज्ञात करें।



Ans ✗ 1. 230

✓ 2. 240

✗ 3. 250

✗ 4. 210

Question ID : 9895808835
Chosen Option : 3

Q.1
7 एक निश्चित कूट में, CAMP को 16 के रूप में जाता है और TRY को 9 के रूप में कूटबद्ध किया जाता है। उस कोड में PILOT कैसे कूटबद्ध किया जाता है?

Ans ✗ 1. 24

✗ 2. 49

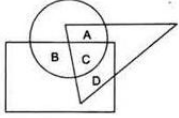
✓ 3. 25

✗ 4. 36

Question ID : 9895808825
Chosen Option : 1

Q.1
8

निम्नलिखित आरेख में, त्रिकोण डॉक्टरों का प्रतिनिधित्व करता है, वृत्त खिलाड़ियों का प्रतिनिधित्व करता है और आयत गायकों का प्रतिनिधित्व करता है। कौन सा क्षेत्र उन डॉक्टरों का प्रतिनिधित्व करता है जो गायक हैं किन्तु खिलाड़ी नहीं हैं?



- Ans
- 1. A
 - 2. D
 - 3. B
 - 4. C

Question ID : 9895808842
Chosen Option : 2

Q.1 उस विकल्प का चयन करें जो सही रूप में रिक्त स्थान की पूर्ति करते हुए श्रृंखला को पूरा करें।

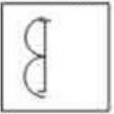
12, 12, 13, 26, 28, 84, ?

- Ans
- 1. 87
 - 2. 95
 - 3. 93
 - 4. 84

Question ID : 9895808832
Chosen Option : 2

Q.2 उस विकल्प आकृति का चयन करें, जिसमें प्रश्न आकृति छिपी हुई/अंतर्निहित है।

प्रश्न आकृति:



- Ans
- 1.
 - 2.
 - 3.
 - 4.

Question ID : 9895808839
Chosen Option : 1

Q.2
1

दिए गए विकल्पों में से संबंधित शब्द युग्म का चयन करें।

yrteop : poetry :: _____ : _____

- Ans
- 1. ethory : hteory
 - 2. iroeth : theori
 - 3. erhtyo : hetroy
 - 4. yroeht : theory

Question ID : 9895808823
Chosen Option : 2

Q.2 उस विकल्प का चयन करें जो तीसरे पद से उसी तरह संबंधित है जिस प्रकार दूसरा पद पहले पद से संबंधित है।

12 : 143 :: 100 : ?

- Ans
- 1. 1119
 - 2. 9789
 - 3. 9999
 - 4. 1009

Question ID : 9895808833
Chosen Option : 3

Q.2 एक निश्चित कूट में, NO को MO-NP के रूप में कूटबद्ध किया जाता है। उस कोड में PRO कैसे कूटबद्ध किया जाता है?

- Ans
- 1. OS-QR-HT
 - 2. OQ-QR-NT
 - 3. OQ-QS-PN
 - 4. OQ-QS-NP

Question ID : 9895808824
Chosen Option : 2

Q.2 चार लड़के A, B, C, D दक्षिण की ओर मुख किये हुए हैं और चार लड़कियां P, Q, R, S उत्तर की ओर मुख किये हुए दो पंक्तियों में, प्रत्येक में चार कुर्सियों पर बैठे हैं। लड़के, लड़कियाँ एक दूसरे की ओर मुख किये हुए हैं। और

- I. A, किसी भी छोर पर नहीं बैठा है।
- II. B और S हमेशा एक दूसरे के आमने सामने बैठते हैं।
- III. R और Q कभी एक दूसरे के पास नहीं हैं।
- IV. P, किसी एक छोर पर बैठी है और अपने सामने D को नहीं बैठाना चाहती है।

A के सामने कौन बैठा है?

- Ans
- 1. Q
 - 2. P

3. P या Q

4. R या Q

Question ID : 9895808826

Chosen Option : 2

Q.2 नीचे दिए गए कथनों के बाद दो निष्कर्ष I और II दिए गए हैं। यह मानते हुए कि कथनों में दी गई जानकारी सत्य है, भले ही वह सर्वज्ञात तथ्यों से भिन्न प्रतीत होती हो और यह निर्णय करें कि कौन सा/से निष्कर्ष तार्किक और निश्चित रूप से कथन में दी गई जानकारी का अनुसरण करता है/करते हैं।

कथन:

कुछ गुलाब, लाल हैं।

सभी लाल, घास हैं।

कुछ घास, हरी है।

निष्कर्ष:

I. कुछ गुलाब, घास हैं।

II. कुछ हरे, लाल हैं।

Ans

1. दोनों निष्कर्ष I और II सत्य हैं

2. न निष्कर्ष I न II सत्य है

3. केवल निष्कर्ष II सत्य है

4. केवल निष्कर्ष I सत्य है

Question ID : 9895808829

Chosen Option : 2

Q.2 'फ्लाइंग सिख ऑफ इंडिया' के रूप में कौन जाने जाते हैं?

Ans

1. महेन्द्र अहलूवालिया

2. गुरिंदर चड्ढा

3. कुलविंदर सिंह

4. मिलखा सिंह

Question ID : 9895808568

Chosen Option : 3

Q.2 1905 में भारत माता की प्रख्यात छवि को किसने बनायी थी ?

Ans

1. तारिणीचरण चट्टोपाध्याय

2. नातेसा शास्त्री

3. अबनिंद्रनाथ टैगोर

✗ 4. रवि वर्मा

Question ID : 9895808588
Chosen Option : 2

Q.2
8 चाय और कॉफी उगाने के लिए कौन-सी मिट्टी बहुत उपयोगी है?

- Ans
- ✗ 1. लाल मिट्टी
 - ✗ 2. शुष्क मिट्टी
 - ✓ 3. लेटराइट मिट्टी
 - ✗ 4. काली मिट्टी

Question ID : 9895808584
Chosen Option : 3

Q.2
9 भारत किस प्रकार का परिसंघ है जिस में कुछ राज्यों के पास अन्य राज्यों की तुलना में अधिक शक्तियाँ होती हैं?

- Ans
- ✓ 1. एकजुट रखना
 - ✗ 2. पदानुक्रमित
 - ✗ 3. एक साथ आना
 - ✗ 4. समान

Question ID : 9895808576
Chosen Option : 4

Q.3
0 रक्त का कौन-सा घटक रक्त के थक्के बनाने में मदद करता है?

- Ans
- ✗ 1. धमनियां
 - ✗ 2. शिराएं
 - ✓ 3. प्लेटलेट
 - ✗ 4. लसीका

Question ID : 9895808582
Chosen Option : 3

Q.3
1 चेराव किस राज्य की एक पुरानी पारंपरिक नृत्य शैली है?

- Ans
- ✗ 1. मणिपुर
 - ✗ 2. त्रिपुरा
 - ✓ 3. मिज़ोरम
 - ✗ 4. नागालैंड

Question ID : 9895808567

Q.3
2 चुंबकीय क्षेत्र रेखाएं खींचने के लिए किस उपकरण का प्रयोग किया जाता है?

- Ans
- 1. एमीटर
 - 2. कंपास
 - 3. विद्युत्मापी
 - 4. वाल्टमीटर

Question ID : 9895808579

Chosen Option : 2

Q.3
3 प्रधानमंत्री नरेंद्र मोदी ने सितंबर 2018 में _____ राज्य में आयुष्मान भारत स्वास्थ्य बीमा, दुनिया की सबसे बड़ी सरकारी वित्त पोषित स्वास्थ्य सेवा योजना शुरू की।

- Ans
- 1. छत्तीसगढ़
 - 2. बिहार
 - 3. उत्तराखंड
 - 4. झारखंड

Question ID : 9895808573

Chosen Option : 3

Q.3
4 भारतीय क्रिकेट कंट्रोल बोर्ड (बीसीसीआई) का गठन कब हुआ?

- Ans
- 1. दिसंबर 1931
 - 2. नवंबर 1930
 - 3. दिसंबर 1928
 - 4. नवंबर 1929

Question ID : 9895808569

Chosen Option : 4

Q.3
5 केरल में व्यापारिक स्टेशन शुरू करने के लिए निम्नलिखित में से कौन पहले थे?

- Ans
- 1. पुर्तगाली व्यापारी
 - 2. फ्रांसीसी व्यापारी
 - 3. अंग्रेज व्यापारी
 - 4. डच व्यापारी

Question ID : 9895808587

Chosen Option : 1

Q.3

6 हिन्दुस्तानी शास्त्रीय संगीत का सबसे प्राचीन रूप कौन-सा है?

- Ans
- 1. सुफ़ियाना कलाम
 - 2. ग़ज़ल
 - 3. ध्रुपद
 - 4. कव्वाली

Question ID : 9895808566
Chosen Option : 2

Q.3 बैंक _____ पर दी जाने वाली ब्याज दर तुलना में ऋण पर उच्च ब्याज दर प्रभारित करते हैं।

- Ans
- 1. अस्तियों
 - 2. प्रारक्षित निधि
 - 3. जमाराशियों
 - 4. संपार्श्विक

Question ID : 9895808574
Chosen Option : 3

Q.3 केसर सागा है :

- Ans
- 1. तमिल महाकाव्य
 - 2. तिब्बती महाकाव्य
 - 3. कोंकणी महाकाव्य
 - 4. बांग्ला महाकाव्य

Question ID : 9895808572
Chosen Option : 1

Q.3 खादर मिट्टी किस प्रकार की मिट्टी है?

- Ans
- 1. जलोढ़ मिट्टी
 - 2. काली मिट्टी
 - 3. लाल मिट्टी
 - 4. लेटराइट मिट्टी

Question ID : 9895808585
Chosen Option : 1

Q.4 सत्यजीत रे निम्न में से किससे जुड़े थे?

- Ans
- 1. फिल्म निर्देशन

- 2. शास्त्रीय नृत्य
- 3. शास्त्रीय संगीत
- 4. व्यावसायिक कला

Question ID : 9895808571
Chosen Option : 3

Q.4
1 उत्तर रेलवे की पहली भारतीय महिला इंजन चालक कौन थी?

- Ans
- 1. लक्ष्मी लाकड़ा
 - 2. शैल मिश्रा
 - 3. सुरेखा यादव
 - 4. तूलिका रानी

Question ID : 9895808570
Chosen Option : 4

Q.4
2 कौन-सा स्मारक बादशाह औरंगज़ेब के बेटे आजम शाह द्वारा बनवाया गया था?

- Ans
- 1. बुलंद दरवाज़ा
 - 2. नीला गुंबद
 - 3. बीबी का मक़बरा
 - 4. हवा महल

Question ID : 9895808565
Chosen Option : 3

Q.4
3 "जनता को आंतरिक के साथ-साथ बाह्य मामलों पर निर्णय करने का सर्वोच्च अधिकार है; कोई भी बाहरी शक्ति भारत सरकार को आदेश नहीं दे सकती है"; यह भारत को बनाता है:

- Ans
- 1. धर्म निरपेक्ष
 - 2. सार्वभौम
 - 3. समाजवादी
 - 4. भाई-चारा

Question ID : 9895808578
Chosen Option : 1

Q.4
4 निम्नलिखित में से कौन वनस्पति जगत के उभयचर कहलाते हैं?

- Ans
- 1. थैलोफाइट
 - 2. आवृतबीजी
 - 3. जिम्नोस्पर्म

✓ 4. ब्रायोफाइटा

Question ID : 9895808583
Chosen Option : 4

Q.4
5 जायद मौसम के दौरान किस फसल का उत्पादन होता है?

- Ans
- ✗ 1. गेहूं
 - ✗ 2. बाजरा
 - ✗ 3. मक्का
 - ✓ 4. तरबूज

Question ID : 9895808586
Chosen Option : 4

Q.4
6 स्पिनिंग जेनी की खोज किसने की थी?

- Ans
- ✗ 1. विलियम हंटिंगटन
 - ✓ 2. जेम्स हार्गीव्स
 - ✗ 3. हेनरी ल्यूक
 - ✗ 4. टी.ई. निकोलसन

Question ID : 9895808589
Chosen Option : 3

Q.4
7 इनमें से कौन-सा एक कृत्रिम पारिस्थितिकी तंत्र नहीं है?

- Ans
- ✗ 1. फसल क्षेत्र
 - ✗ 2. बगीचा
 - ✓ 3. जंगल
 - ✗ 4. मछलीघर

Question ID : 9895808581
Chosen Option : 3

Q.4
8 निम्नलिखित में से कौन-से शब्द भारत के संविधान के प्रस्तावना में शामिल नहीं हैं?

- Ans
- ✗ 1. समाजवादी
 - ✗ 2. धर्म निरपेक्ष
 - ✓ 3. धर्म
 - ✗ 4. समानता

Question ID : 9895808577
Chosen Option : 1

Q.4 इनमें से कौन-सी एक ऐसी गतिविधि नहीं है, जिसे प्राथमिक क्षेत्र के रूप में वर्गीकृत किया गया है?

- Ans
- 1. बैंकिंग
 - 2. वानिकी
 - 3. डेरी
 - 4. कृषि

Question ID : 9895808575
Chosen Option : 4

Q.5 कौन-सा अम्ल-आधारित संकेतक घर पर तैयार किया जा सकता है?

- Ans
- 1. चुकंदर का रस
 - 2. मिथाइल ऑरेंज
 - 3. लिटमस
 - 4. फिनोलफथेलिन

Question ID : 9895808580
Chosen Option : 1

Q.5 भवन ने साधारण ब्याज पर दो समान राशियों का निवेश किया था। उसने एक राशि 15% वार्षिक दर और दूसरी 20% वार्षिक दर से निवेश की थी। वर्ष के अंत में कुल अर्जित ब्याज ₹ 1400 मिला। निवेश की गई कुल राशि (₹ में) कितनी थी?

- Ans
- 1. 10000
 - 2. 8000
 - 3. 5000
 - 4. 4000

Question ID : 9895809006
Chosen Option : 2

Q.5 तीन संख्याओं का योग 65 है। यदि पहली और दूसरी संख्या का अनुपात 3 : 4 है, और दूसरी व तीसरी संख्या का अनुपात 2 : 3 है, तो दूसरी संख्या _____ है।

- Ans
- 1. 25
 - 2. 30
 - 3. 15
 - 4. 20

Question ID : 9895809004
Chosen Option : 2

Q.5
3

एक आयताकार खेत में एक लंबी तरफ, एक छोटी तरफ और एक विकर्ण पर बाड़ लगाना है। अगर बाड़ की लागत ₹ 10 प्रति मीटर है, खेत का क्षेत्रफल 4800 m^2 है और खेत छोटी तरफ 60 m लंबा है, तो बाड़ की संपूर्ण लागत क्या है?

- Ans
- 1. ₹ 2400
 - 2. ₹ 2100
 - 3. ₹ 3600
 - 4. ₹ 1800

Question ID : 9895809013
Chosen Option : 3

Q.5
4 42, 48, 65, 35, 55, 49 वर्ष आयु के 6 पुरुषों की आयु का औसत _____ है।

- Ans
- 1. 46
 - 2. 49
 - 3. 47
 - 4. 48

Question ID : 9895808996
Chosen Option : 2

Q.5
5 एक लड़की स्कूटी से 300 मीटर की दूरी तय करने में 30 सेकंड लेती हैं। उसकी चाल km/hr में कितनी होगी?

- Ans
- 1. 24 km/hr
 - 2. 36 km/hr
 - 3. 34 km/hr
 - 4. 26 km/hr

Question ID : 9895809010
Chosen Option : 3

Q.5
6 मोहित एक अलमारी 11% लाभ पर रोहित को बेचता है और रोहित इसे 20% के लाभ पर नेहा को बेचता है। अगर नेहा इसके लिए ₹ 6,200 देती है तो मोहित के लिए अलमारी का लागत मूल्य कितना है?

- Ans
- 1. ₹ 4654.65
 - 2. ₹ 4634.65
 - 3. ₹ 4244.65
 - 4. ₹ 4184.65

Question ID : 9895809002
Chosen Option : 2

Q.5 एक आदमी किसी वस्तु को उसके मूल्य के $\frac{3}{4}$ भाग पर खरीदता है और उसे 30% अधिक मूल्य पर बेच देता है तो उसको कितना प्रतिशत लाभ हुआ?

- Ans
- 1. 75%
 - 2. $65\frac{1}{3}\%$
 - 3. $73\frac{1}{3}\%$
 - 4. 50%

Question ID : 9895809001
Chosen Option : 2

Q.5 225 m लंबाई की एक ट्रेन एक खड़ी ट्रेन में बैठे व्यक्ति को 12.5 s में पार करती है। ट्रेन की चाल कितनी है?

- Ans
- 1. 14 m/s
 - 2. 18 m/s
 - 3. 12 m/s
 - 4. 24 m/s

Question ID : 9895809011
Chosen Option : 2

Q.5 8 व्यक्तियों के समूह में जब 170 cm वाले एक व्यक्ति की जगह एक नया व्यक्ति लेता है तो समूह की औसत लम्बाई 2.5 cm कम हो जाती है। नए व्यक्ति की लम्बाई क्या है?

- Ans
- 1. 150 cm
 - 2. 160 cm
 - 3. 165 cm
 - 4. 155 cm

Question ID : 9895808997
Chosen Option : 2

Q.6 निम्नलिखित पद का मान ज्ञात कीजिए।

$$51 \div 3 \times 15 = ?$$

- Ans 1. 100

2. 130
 3. 140
 4. 255

Question ID : 9895808995
Chosen Option : 1

Q.6
1 यदि 5 लड़कियाँ एक पोशाक की कढ़ाई 9 दिन में कर सकती हैं तो 3 लड़कियाँ वही काम कितने दिनों में करेंगी?

- Ans
 1. 20 दिन
 2. 10 दिन
 3. 14 दिन
 4. 15 दिन

Question ID : 9895809008
Chosen Option : 2

Q.6
2 एक दुकानदार, 20% की आरंभिक छूट देने के बाद रेडियो पर 12% की अतिरिक्त छूट देता है। यदि रेडियो का अंतिम विक्रय मूल्य ₹ 704 है तो अंकित मूल्य क्या है?

- Ans
 1. ₹ 1200
 2. ₹ 800
 3. ₹ 1000
 4. ₹ 980

Question ID : 9895808998
Chosen Option : 2

Q.6
3 यदि ?% of $\frac{2}{3} = \frac{1}{2}$ है, तो '?' का मान _____ है।

- Ans
 1. 7.5
 2. 75
 3. 57
 4. 0.75

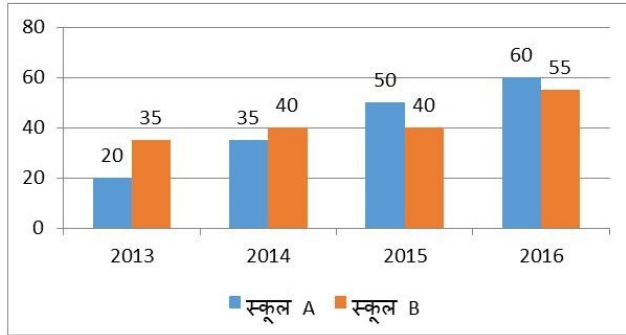
Question ID : 9895809000
Chosen Option : 4

Q.6 एक समकोण त्रिभुज की परिमाप 30 cm है और इसका कर्ण 13 cm है। त्रिभुज का क्षेत्रफल _____ है।

- Ans
- 1. 60 sq. cm
 - 2. 30 sq. cm
 - 3. 45 sq. cm
 - 4. 26 sq. cm

Question ID : 9895809014
Chosen Option : 2

Q.6 निर्देश: निम्नलिखित ग्राफ का अध्ययन करें और दिए गए प्रश्नों के उत्तर दें।
5 (निश्चित वर्षों में दो अलग-अलग विद्यालयों में दाखिल हुए विद्यार्थियों की संख्या।)



वर्ष 2015 में दाखिल हुए विद्यार्थियों की कुल संख्या और वर्ष 2016 में दाखिल हुए विद्यार्थियों की कुल संख्या के बीच अंतर कितना था?

- Ans
- 1. 25
 - 2. 15
 - 3. 28
 - 4. 22

Question ID : 9895809016
Chosen Option : 2

Q.6 22 अवलोकनों का माध्य 35 है। बाद में यह पता चला कि 16 और 24 को 31 और 42 के रूप में गलत समझा गया
6 है। सही माध्य क्या है?

- Ans
- 1. 34
 - 2. 32
 - 3. 33.5
 - 4. 31.5

Question ID : 9895808999
Chosen Option : 2

Q.6 दो संख्याओं का अनुपात 7 : 9 है। इन प्रत्येक संख्या में से 20 को कम करने पर, नया अनुपात 3 : 5 हो जाता है।
7 आरंभिक संख्याओं के बीच का अंतर कितना है?

Ans

1. 12

2. 14

3. 15

4. 10

Question ID : 9895809005

Chosen Option : 4

Q.6
8 928, 1247 और 1653 को पूर्णतः विभाजित करनेवाली महत्तम भाजक संख्या _____ है।

Ans 1. 19

2. 33

3. 23

4. 29

Question ID : 9895808993

Chosen Option : 4

Q.6
9 एक निश्चित राशि पर 3 प्रतिशत की ब्याज दर से 2 वर्ष के लिए चक्रवृद्धि ब्याज ₹ 101.50 होता है। उसी राशि पर समान दर और समान अवधि के लिए साधारण ब्याज कितना होगा?

Ans 1. ₹ 95.5

2. ₹ 98.21

3. ₹ 100

4. ₹ 90

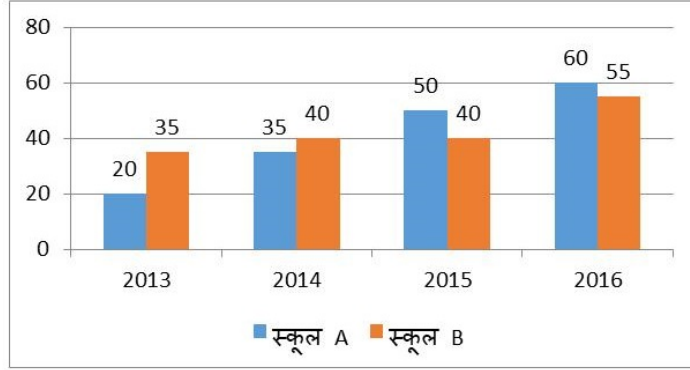
Question ID : 9895809007

Chosen Option : 3

Q.7
0

निर्देश: निचे दिए गए ग्राफ का अध्ययन करें और दिए गए प्रश्नों के उत्तर दें।

(निश्चित वर्षों में दो अलग-अलग विद्यालयों में दाखिल हुए विद्यार्थियों की संख्या।)



किस वर्ष में दोनों विद्यालयों को मिलाकर दाखिल हुए विद्यार्थियों की कुल संख्या दूसरी सबसे कम थी?

Ans

✓ 1. 2014

✗ 2. 2016

✗ 3. 2013

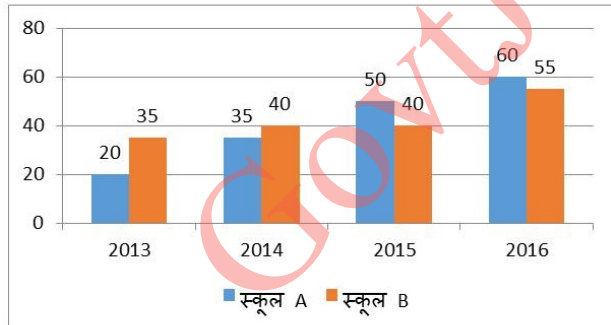
✗ 4. 2015

Question ID : 9895809015

Chosen Option : 2

Q.7 निर्देश: निम्नलिखित ग्राफ का अध्ययन करें और दिए गए प्रश्नों के उत्तर दें।

(दिए गए वर्षों में दो अलग-अलग विद्यालयों में दाखिल हुए विद्यार्थियों की संख्या।)



वर्ष 2013 में स्कूल A में दाखिल हुए विद्यार्थियों की संख्या और वर्ष 2016 में दोनों स्कूल में दाखिल हुए विद्यार्थियों की कुल संख्या के बीच का अनुपात क्या था?

Ans

✗ 1. 3 : 17

✗ 2. 4 : 19

✗ 3. 21 : 5

✓ 4. 4 : 23

Question ID : 9895809017
Chosen Option : 2

Q.7 A और B एक कार्य को 4 दिन में तथा C और D इसे 3 दिनों में कर सकते हैं। A, B, C और D एक साथ इसे
2 कितने दिनों में करेंगे?

- Ans
1. $\frac{7}{12}$ दिन
2. $\frac{12}{7}$ दिन
3. $\frac{2}{3}$ दिन
4. $\frac{3}{2}$ दिन

Question ID : 9895809009
Chosen Option : 3

Q.7 A और B का अनुपात 4 : 5 और B और C का अनुपात 2 : 3 है। यदि A = 240 है, तो C = _____ होगा।

- Ans
1. 150
2. 420
3. 300
4. 450

Question ID : 9895809003
Chosen Option : 2

Q.7 12 m × 8 m की दीवार में 3 m × 1.5 m का दरवाजा और 1.5 m × 1.5 m की दो खिड़कियां हैं। दीवार के उस
4 भाग का क्षेत्रफल ज्ञात करें जिस पर रंग किया जा सकता है।

- Ans
1. 80 sq. cm
2. 87 sq. cm
3. 96 sq. cm
4. 65 sq. cm

Question ID : 9895809012
Chosen Option : 3

Q.7 निम्नलिखित पद का मान क्या है?

$$(47 \times 588) \div (28 \times 120) = ?$$

- Ans
1. 8.285
2. 6.284
3. 8.225

4. 7.625

Question ID : 9895808994
Chosen Option : 2

Section : English Language

Comprehension:

In the following passage some words have been deleted. Fill in the blanks with the help of the alternatives given. Select the most appropriate option for each number.

Media is the plural of the word 'medium'. (1) _____ describes the various ways (2) _____ which we communicate in society. Because media refers (3) _____ all means of communication, everything (4) _____ from a phone call to the evening news on TV can be (5) _____ media.

SubQuestion No : 1

Q.1 Select the most appropriate option that will fill in the blank number 1.

- Ans
- 1. They
 - 2. Its
 - 3. These
 - 4. It

Question ID : 9895809129
Chosen Option : --

Comprehension:

In the following passage some words have been deleted. Fill in the blanks with the help of the alternatives given. Select the most appropriate option for each number.

Media is the plural of the word 'medium'. (1) _____ describes the various ways (2) _____ which we communicate in society. Because media refers (3) _____ all means of communication, everything (4) _____ from a phone call to the evening news on TV can be (5) _____ media.

SubQuestion No : 2

Q.2 Select the most appropriate option that will fill in the blank number 2.

- Ans
- 1. from
 - 2. for
 - 3. with

4. through

Question ID : 9895809130
Chosen Option : --

Comprehension:

In the following passage some words have been deleted. Fill in the blanks with the help of the alternatives given. Select the most appropriate option for each number.

Media is the plural of the word 'medium'. (1) _____ describes the various ways (2) _____ which we communicate in society. Because media refers (3) _____ all means of communication, everything (4) _____ from a phone call to the evening news on TV can be (5) _____ media.

SubQuestion No : 3

Q.3 Select the most appropriate option that will fill in the blank number 3.

- Ans
- 1. about
 - 2. in
 - 3. to
 - 4. for

Question ID : 9895809131
Chosen Option : --

Comprehension:

In the following passage some words have been deleted. Fill in the blanks with the help of the alternatives given. Select the most appropriate option for each number.

Media is the plural of the word 'medium'. (1) _____ describes the various ways (2) _____ which we communicate in society. Because media refers (3) _____ all means of communication, everything (4) _____ from a phone call to the evening news on TV can be (5) _____ media.

SubQuestion No : 4

Q.4 Select the most appropriate option that will fill in the blank number 4.

- Ans
- 1. ranged
 - 2. ranges
 - 3. ranging
 - 4. is ranging

Question ID : 9895809132

Chosen Option : --

Comprehension:

In the following passage some words have been deleted. Fill in the blanks with the help of the alternatives given. Select the most appropriate option for each number.

Media is the plural of the word 'medium'. (1) _____ describes the various ways (2) _____ which we communicate in society. Because media refers (3) _____ all means of communication, everything (4) _____ from a phone call to the evening news on TV can be (5) _____ media.

SubQuestion No : 5

Q.5 Select the most appropriate option that will fill in the blank number 5.

- Ans
- 1. opted
 - 2. chosen
 - 3. called
 - 4. certified

Question ID : 9895809133

Chosen Option : --

Q.6 Select the wrongly spelt word.

- Ans
- 1. Maintainance
 - 2. Manipulate
 - 3. Marriage
 - 4. Medieval

Question ID : 9895809142

Chosen Option : --

Q.7 Select the meaning of the given idiom.

Fight shy of

- Ans
- 1. To quarrel bitterly
 - 2. To be in an angry state
 - 3. To be frightened
 - 4. To avoid encountering

Question ID : 9895809138

Q.8 Select the most appropriate option to substitute the underlined segment in the given sentence. If there is no need to substitute it, select No substitution required.

Many people believe that women make better nurses because they are patient and gentle.

- Ans
- 1. because they were
 - 2. No substitution required
 - 3. as they would
 - 4. because they have been

Question ID : 9895809123
Chosen Option : --

Q.9 Select the most appropriate word to fill in the blank.

The unfortunate boy was _____ by the racing car.

- Ans
- 1. knocked down
 - 2. knocked about
 - 3. knocked back
 - 4. knocked at

Question ID : 9895809144
Chosen Option : --

Q.10 Identify the segment in the sentence which contains the grammatical error from the given options.

In fact, what we common termed as housework actually involves many different tasks.

- Ans
- 1. involves
 - 2. In fact
 - 3. common termed
 - 4. different tasks

Question ID : 9895809121
Chosen Option : --

Q.11 Select the meaning of the given idiom.

To strain every nerve

- Ans
- 1. To put maximum effort
 - 2. To spoil relationship
 - 3. To get away with
 - 4. To be unwell

Question ID : 9895809139

Chosen Option : --

Q.1
2 Select the most appropriate word to fill in the blank.

In the 1980s, many women _____ the country spoke out against dowry deaths.

- Ans
- 1. through
 - 2. above
 - 3. across
 - 4. over

Question ID : 9895809127

Chosen Option : --

Q.1
3 Select the most appropriate word to fill in the blank.

Different strategies have been used _____ awareness about education.

- Ans
- 1. to spread
 - 2. to spreading
 - 3. spreading
 - 4. spread

Question ID : 9895809126

Chosen Option : --

Q.1
4 Select the wrongly spelt word.

- Ans
- 1. Rhythm
 - 2. Conscience
 - 3. Embarass
 - 4. Playwright

Question ID : 9895809143

Chosen Option : --

Q.1
5 Select the antonym of the given word.

APPARENT

- Ans
- 1. Likely
 - 2. Obvious
 - 3. Appealing
 - 4. Hidden

Question ID : 9895809137
Chosen Option : --

Q.1
6 Identify the segment in the sentence which contains the grammatical error from the given options.

The government has set up Anganwadis or child-care centers in several village in the country.

- Ans
- 1. several village
 - 2. set up
 - 3. The government
 - 4. in the country.

Question ID : 9895809122
Chosen Option : --

Q.1
7 Select the antonym of the given word.

ALIEN

- Ans
- 1. Overseas
 - 2. Native
 - 3. Foreign
 - 4. Unfamiliar

Question ID : 9895809136
Chosen Option : --

Q.1
8 Select the word which means the same as the group of words given.

One who is indifferent to pleasure or pain

- Ans
- 1. Stubborn
 - 2. Garrulous
 - 3. Stoic
 - 4. Heroic

Question ID : 9895809141
Chosen Option : --

Q.1
9 Select the synonym of the given word.

PASSION

- Ans
- 1. Passivity
 - 2. Desire
 - 3. Hatred
 - 4. Indifference

Question ID : 9895809135
Chosen Option : --

Q.2 Select the most appropriate option to substitute the underlined segment in the given sentence. If there is no need to substitute it, select No substitution required.

Many families are so poor to bear the cost of educating their children.

- Ans
- 1. too much poor to
 - 2. more poor for
 - 3. No substitution required
 - 4. too poor to

Question ID : 9895809125
Chosen Option : --

Q.2 Identify the segment in the sentence which contains the grammatical error from the given options.

The political party that have the majority is called the ruling party.

- Ans
- 1. The political
 - 2. the majority
 - 3. ruling party
 - 4. that have

Question ID : 9895809120
Chosen Option : --

Q.2 Select the word which means the same as the group of words given.

Happening or being done at exactly the same time

- Ans
- 1. Superfluous
 - 2. Immediate
 - 3. Obsolete
 - 4. Simultaneous

Question ID : 9895809140
Chosen Option : --

Q.2 Select the synonym of the given word.

RELEVANT

- Ans
- 1. Applicable
 - 2. Natural
 - 3. Unrelated

4. Realistic

Question ID : 9895809134
Chosen Option : --

Q.2 Select the most appropriate option to substitute the underlined segment in the given sentence. If there is no need to substitute it, select No substitution required.

In the nineteenth century, many new ideas about education and learning were being emerged.

- Ans 1. emerged
 2. is emerging
 3. was emerging
 4. No substitution required

Question ID : 9895809124
Chosen Option : --

Q.2 Select the most appropriate word to fill in the blank.

The Indian cricket team was in a _____ mood after winning the series.

- Ans 1. jubilant
 2. anxious
 3. serene
 4. glorious

Question ID : 9895809145
Chosen Option : --

Section : Hindi Language

Q.1 'उपकार' का विलोम शब्द है-

- Ans 1. मदद
 2. अपकार
 3. परोपकार
 4. सहायता

Question ID : 9895807089
Chosen Option : 2

Q.2 दिए गए वाक्य का वह भाग ज्ञात करें जिसमें कोई त्रुटि है।

हम अनेकों छोटे-बड़े वर्गों में बँटे हुए हैं।

- Ans 1. छोटे-बड़े

✗ 2. बँटे हुए हैं।

✓ 3. हम अनेकों

✗ 4. वर्गों में

Question ID : 9895807073
Chosen Option : 2

Q.3 सही वर्तनी वाले शब्द का चयन करें।

Ans ✗ 1. शैताब्दी

✗ 2. शताब्दि

✗ 3. शिताब्दि

✓ 4. शताब्दी

Question ID : 9895807098
Chosen Option : 2

Q.4 दिए गए वाक्य का वह भाग ज्ञात करें जिसमें कोई त्रुटि है।

शिक्षित वर्ग की बेकारी श्रम का अवज्ञा के परिणाम का सबसे ज्वलंत उदाहरण है।

Ans ✗ 1. सबसे ज्वलंत

✗ 2. उदाहरण है।

✗ 3. शिक्षित वर्ग की बेकारी

✓ 4. श्रम का अवज्ञा के परिणाम का

Question ID : 9895807075
Chosen Option : 4

Q.5 दिए गए वाक्य का वह भाग ज्ञात करें जिसमें कोई त्रुटि है।

पाखंड व दिखावा हमारे जीवन का अभिन्न अंग बन गयी है।

Ans ✓ 1. बन गयी है।

✗ 2. अभिन्न अंग

✗ 3. हमारे जीवन का

✗ 4. पाखंड व दिखावा

Question ID : 9895807074
Chosen Option : 1

Q.6

रिक्त स्थान को भरने के लिए उपयुक्त शब्द का चयन करें।

बच्चे की आँखों से आँसू बहने _____।

- Ans
- 1. लगा
 - 2. लगे
 - 3. लगी
 - 4. हुए

Question ID : 9895807081
Chosen Option : 2

Q.7 'सब जगह' के लिए एक शब्द है-

- Ans
- 1. सर्वत्र
 - 2. समदर्शी
 - 3. सर्वेश
 - 4. वायु

Question ID : 9895807095
Chosen Option : 1

Q.8 रिक्त स्थान को भरने के लिए उपयुक्त शब्द का चयन करें।

यह एक बहुत ही _____ समस्या है।

- Ans
- 1. निश्चिन्त
 - 2. चिंतित
 - 3. गंभीर
 - 4. अच्छी

Question ID : 9895807080
Chosen Option : 3

Q.9 'अधुनातन' का विलोम शब्द चयन करें।

- Ans
- 1. पुरातन
 - 2. आधुनिक
 - 3. नया
 - 4. अनावरण

Question ID : 9895807090
Chosen Option : 1

Q.1
0 'पंद्रह दिन में एक बार होने वाला' के लिए एक शब्द है-

- Ans
- 1. पाक्षिक
 - 2. मासिक
 - 3. अर्द्धवार्षिक
 - 4. वार्षिक

Question ID : 9895807096
Chosen Option : 1

Q.1
1 'बहुत अधिक अभावग्रस्त होना' अर्थ के लिए सही मुहावरे का चयन करें।

- Ans
- 1. पेट में चूहे कूदना
 - 2. आटा गीला होना
 - 3. दाने-दाने को तरसना
 - 4. मुँह उतरना

Question ID : 9895807094
Chosen Option : 3

Q.1
2 सही वर्तनी वाले शब्द का चयन करें।

- Ans
- 1. बिमारी
 - 2. पारलौकिक
 - 3. परिक्षा
 - 4. आर्शिर्वाद

Question ID : 9895807097
Chosen Option : 3

Q.1
3 रिक्त स्थान को भरने के लिए उपयुक्त शब्द का चयन करें।

_____ कपड़ा सिलना नहीं आता।

- Ans
- 1. उसे
 - 2. उससे
 - 3. उसने
 - 4. वे

Question ID : 9895807082
Chosen Option : 1

Q.1
4

दिए गए वाक्य में रेखांकित खंड को प्रतिस्थापित करने के लिए उपयुक्त विकल्प का चयन करें।

उसकी हरकतें गाँव वालों जैसी हैं।

- Ans
- 1. गाँवई
 - 2. ग्रामीणों
 - 3. अनपढ़ों
 - 4. गाँवारू

Question ID : 9895807076
Chosen Option : 2

Q.1
5 'गूँगे का गुड़' अर्थ के लिए सही मुहावरे का चयन करें।

- Ans
- 1. कीमती वस्तु
 - 2. असंभव कार्य
 - 3. दुर्लभ वस्तु
 - 4. अवर्णनीय अनुभव

Question ID : 9895807093
Chosen Option : 2

Comprehension:

निम्नलिखित गद्यांश के रिक्त स्थानों की पूर्ति गद्यांश के नीचे दिए गए प्रश्नों के अनुसार कीजिए-

मनुष्य शारीरिक कष्ट से ही पीछे _____ (1) वाला प्राणी नहीं है। मानसिक क्लेश की संभावना से भी कर्मों की ओर प्रवृत्त होने का _____ (2) उसे नहीं होता। जिन बातों से समाज के बीच उपहास, निन्दा, अपमान इत्यादि का _____ (3) रहता है उन्हें अच्छा समझते हुए भी बहुत से लोग उनसे दूर रहते हैं। _____ (4) देखते हुए भी बहुत से लोग प्रथाओं का पालन इसलिए करते हैं कि नहीं करने से वे बुरे कहे जायेंगे। लोगों में उनका _____ (5) न रह जायेगा।

SubQuestion No : 16

Q.1
6 गद्यांश में संकेतित रिक्त स्थान (1) के लिए उपयुक्त शब्द होगा।

- Ans
- 1. मिटने
 - 2. हटने
 - 3. करने

✗ 4. लगने

Question ID : 9895807084
Chosen Option : 2

Comprehension:

निम्नलिखित गद्यांश के रिक्त स्थानों की पूर्ति गद्यांश के नीचे दिए गए प्रश्नों के अनुसार कीजिए-

मनुष्य शारीरिक कष्ट से ही पीछे _____ (1) वाला प्राणी नहीं है। मानसिक क्लेश की संभावना से भी कर्मों की ओर प्रवृत्त होने का _____ (2) उसे नहीं होता। जिन बातों से समाज के बीच उपहास, निन्दा, अपमान इत्यादि का _____ (3) रहता है उन्हें अच्छा समझते हुए भी बहुत से लोग उनसे दूर रहते हैं। _____ (4) देखते हुए भी बहुत से लोग प्रथाओं का पालन इसलिए करते हैं कि नहीं करने से वे बुरे कहे जायेंगे। लोगों में उनका _____ (5) न रह जायेगा।

SubQuestion No : 17

Q.1
7 गद्यांश में संकेतित रिक्त स्थान (2) के लिए उपयुक्त शब्द होगा।

- Ans
- 1. साहस
 - 2. प्रेरणा
 - 3. लगन
 - 4. इच्छा

Question ID : 9895807085
Chosen Option : 1

Comprehension:

निम्नलिखित गद्यांश के रिक्त स्थानों की पूर्ति गद्यांश के नीचे दिए गए प्रश्नों के अनुसार कीजिए-

मनुष्य शारीरिक कष्ट से ही पीछे _____ (1) वाला प्राणी नहीं है। मानसिक क्लेश की संभावना से भी कर्मों की ओर प्रवृत्त होने का _____ (2) उसे नहीं होता। जिन बातों से समाज के बीच उपहास, निन्दा, अपमान इत्यादि का _____ (3) रहता है उन्हें अच्छा समझते हुए भी बहुत से लोग उनसे दूर रहते हैं। _____ (4) देखते हुए भी बहुत से लोग प्रथाओं का पालन इसलिए करते हैं कि नहीं करने से वे बुरे कहे जायेंगे। लोगों में उनका _____ (5) न रह जायेगा।

SubQuestion No : 18

Q.1
8 गद्यांश में संकेतित रिक्त स्थान (3) के लिए उपयुक्त शब्द होगा।

- Ans
- 1. घृणा
 - 2. क्रोध
 - 3. व्यथा
 - 4. भय

Question ID : 9895807086
Chosen Option : 4

Comprehension:

निम्नलिखित गद्यांश के रिक्त स्थानों की पूर्ति गद्यांश के नीचे दिए गए प्रश्नों के अनुसार कीजिए-

मनुष्य शारीरिक कष्ट से ही पीछे _____ (1) वाला प्राणी नहीं है। मानसिक क्लेश की संभावना से भी कर्मों की ओर प्रवृत्त होने का _____ (2) उसे नहीं होता। जिन बातों से समाज के बीच उपहास, निन्दा, अपमान इत्यादि का _____ (3) रहता है उन्हें अच्छा समझते हुए भी बहुत से लोग उनसे दूर रहते हैं। _____ (4) देखते हुए भी बहुत से लोग प्रथाओं का पालन इसलिए करते हैं कि नहीं करने से वे बुरे कहे जायेंगे। लोगों में उनका _____ (5) न रह जायेगा।

SubQuestion No : 19

Q.1
9 गद्यांश में संकेतित रिक्त स्थान (4) के लिए उपयुक्त शब्द होगा।

- Ans
- 1. हानि
 - 2. यश
 - 3. लाभ
 - 4. स्वार्थ

Question ID : 9895807087
Chosen Option : 4

Comprehension:

निम्नलिखित गद्यांश के रिक्त स्थानों की पूर्ति गद्यांश के नीचे दिए गए प्रश्नों के अनुसार कीजिए-

मनुष्य शारीरिक कष्ट से ही पीछे _____ (1) वाला प्राणी नहीं है। मानसिक क्लेश की संभावना से भी कर्मों की ओर प्रवृत्त होने का _____ (2) उसे नहीं होता। जिन बातों से समाज के बीच उपहास, निन्दा, अपमान इत्यादि का _____ (3) रहता है उन्हें अच्छा समझते हुए भी बहुत से लोग उनसे दूर रहते हैं। _____ (4) देखते हुए भी बहुत से लोग प्रथाओं का पालन इसलिए करते हैं कि नहीं करने से वे बुरे कहे जायेंगे। लोगों में उनका _____ (5) न रह जायेगा।

SubQuestion No : 20

Q.2
0 गद्यांश में संकेतित रिक्त स्थान (5) के लिए उपयुक्त शब्द होगा।

- Ans
- 1. सम्मान
 - 2. संभव
 - 3. अपमान
 - 4. निरादर

Question ID : 9895807088
Chosen Option : 1

Q.2
1 रिक्त स्थान को भरने के लिए उपयुक्त शब्द का चयन करें।

मनोज, नीरज और कविता खेल _____ हैं।

- Ans
- 1. रहे
 - 2. रहीं
 - 3. रही
 - 4. रहती

Question ID : 9895807079
Chosen Option : 1

Q.2
2 दिए गए वाक्य में रेखांकित खंड को प्रतिस्थापित करने के लिए उपयुक्त विकल्प का चयन करें।

मृत्यु जीवन का शाश्वत सत्य है।

- Ans
- 1. दुःखद
 - 2. एकमात्र
 - 3. अंतिम

✓ 4. चिरन्तन

Question ID : 9895807078
Chosen Option : 3

Q.2 दिए गए वाक्य में रेखांकित खंड को प्रतिस्थापित करने के लिए उपयुक्त विकल्प का चयन करें।

'रामचरितमानस' की तुलना नहीं की जा सकती है।

- Ans
- ✓ 1. अतुलनीय
 - ✗ 2. अपकर्ष
 - ✗ 3. तुलनीय
 - ✗ 4. अचिंत्य

Question ID : 9895807077
Chosen Option : 1

Q.2 'आत्मजा' का पर्यायवाची शब्द है -

- Ans
- ✗ 1. अंबा
 - ✓ 2. तनया
 - ✗ 3. भार्या
 - ✗ 4. सुत

Question ID : 9895807092
Chosen Option : 2

Q.2 'वातायन' का पर्यायवाची है-

- Ans
- ✗ 1. द्वार
 - ✗ 2. ताख
 - ✗ 3. छत
 - ✓ 4. गवाक्ष

Question ID : 9895807091
Chosen Option : 3