

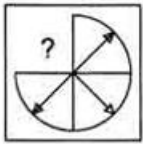
Constable (GD) in CAPFs, NIA, SSF and Rifleman (GD) in Assam Rifles Examination, 2018

Roll No. :	GovtJobsAlert.In
Registration No.	GovtJobsAlert.In
Name :	GovtJobsAlert.In
Exam Venue :	TCS Gito Bitan
Exam Time :	9:00 AM - 10:30 AM
Exam Date :	08/03/2019

Section : General Section

Q.1 निम्नलिखित में से कौन सी उत्तर आकृति दी गई आकृति को पूरा करेगी?

प्रश्न आकृति:



Ans



Question ID : 9895808863

Chosen Option : 1

Q.2 यदि G = 49 और BU को 4441 लिखते हैं, तो DM को कैसे लिखा जाएगा?

Ans ✗ 1. 16196

✗ 2. 16144

✗ 3. 19169

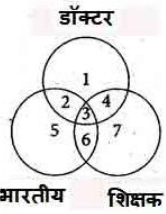
✓ 4. 16169

Question ID : 9895808850

Chosen Option : 4

Q.3

निम्नलिखित आरेख में, तीन वृत्त हैं, आरेख का ध्यानपूर्वक अध्ययन करें और दिए गए प्रश्न का उत्तर दें।



उन शिक्षकों का पता लगाएं जो न तो डॉक्टर हैं और न ही भारतीय।

- Ans
- 1. 7
 - 2. 5
 - 3. 2
 - 4. 1

Question ID : 9895808867
Chosen Option : 1

Q.4 P, Q, R, S, T, U और V एक वृत्ताकार मेज के चारों ओर बैठे हैं।

S, R या T का पड़ोसी नहीं है।

P, Q और R का पड़ोसी है।

V, जो कि S के बाएं से दूसरा है, T और U का पड़ोसी है।

R का स्थान क्या है ?

- Ans
- 1. S के दाएं से दूसरा
 - 2. U के बाएं से तीसरा
 - 3. V के तुरंत दायीं ओर
 - 4. P के तुरंत बायीं ओर

Question ID : 9895808851
Chosen Option : --

Q.5 दिए गए विकल्पों में से संबंधित शब्द युग्म का चयन करें।

जलचर : मछली :: _____ : _____

- Ans
- 1. जलीय : बगुला
 - 2. स्तनधारी : कछुआ
 - 3. सरीसृप : दीमक
 - 4. उभयचर : मेंढक

Question ID : 9895808847
Chosen Option : 4

Q.6 एक वर्गाकार पारदर्शी शीट एक पैटर्न के साथ दी गई है। जब शीट को बिंदीदार रेखा पर मोड़ा जाता है तो पैटर्न दिए गए विकल्पों में से कैसा दिखाई देगा?

Question Figures:



Ans

- 1.
- 2.
- 3.
- 4.

Question ID : 9895808866
Chosen Option : 2

Q.7 नीचे दिए गए कथनों के बाद दो निष्कर्ष I और II दिए गए हैं। यह मानते हुए कि कथनों में दी गई जानकारी सत्य है, भले ही वह सर्वज्ञात तथ्यों से भिन्न प्रतीत होती हो और यह निर्णय करें कि कौन सा / से निष्कर्ष तार्किक और निश्चित रूप से कथन में दी गई जानकारी का अनुसरण करता है / करते हैं।

कथन:-

- I. सभी घोड़े, भैंस हैं।
II. सभी भैंस, घास हैं।

निष्कर्ष:-

- I. सभी घोड़े, घास हैं।
II. सभी घास, घोड़े हैं।

Ans

1. केवल निष्कर्ष II अनुसरण करता है।
2. या तो निष्कर्ष I या II अनुसरण करता है।
3. न तो निष्कर्ष I न ही II अनुसरण करता है।
4. केवल निष्कर्ष I अनुसरण करता है।

Question ID : 9895808855
Chosen Option : 4

Q.8 X, Z से बड़ा है और Y, Z से छोटा है। Z, W से बड़ा है, W, X से छोटा है। सबसे बड़ा कौन है?

Ans

1. Z
2. W
3. X
4. Y

Question ID : 9895808853
Chosen Option : 3

Q.9 नीचे दिए गए कथनों के बाद दो निष्कर्ष I और II दिए गए हैं। यह मानते हुए कि कथनों में दी गई जानकारी सत्य है, भले ही वह सर्वजात तथ्यों से भिन्न प्रतीत होती हो और यह निर्णय करें कि कौन सा / से निष्कर्ष तार्किक और निश्चित रूप से कथन में दी गई जानकारी का अनुसरण करता है / करते हैं।

कथन:

- I. सभी मेंडक, कछुआ हैं।
- II. कोई कछुआ, मगर मच्छ नहीं है।
- III. कुछ मगर मच्छ, हाथी हैं।

निष्कर्ष:

- I. कुछ कछुआ, मेंडक हैं।
- II. कोई मगर मच्छ, मेंडक नहीं है।

Ans

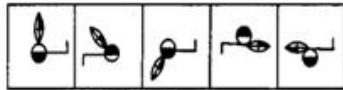
- ✓ 1. दोनों निष्कर्ष अनुसरण करते हैं
- ✗ 2. या निष्कर्ष I या II अनुसरण करता है
- ✗ 3. केवल निष्कर्ष II अनुसरण करता है
- ✗ 4. केवल निष्कर्ष I अनुसरण करता है

Question ID : 9895808854

Chosen Option : 4

Q.1 वह विकल्प का चयन करें जो दी गई आकृति श्रृंखला को पूरा करता है।

प्रश्न आकृति



Ans

- ✓ 1.
- ✗ 2.
- ✗ 3.
- ✗ 4.

Question ID : 9895808862

Chosen Option : 4

Q.1 चार विकल्प दिए गए हैं, जिनमें से तीन किसी तरह से समान हैं, जबकि एक अलग है। असंगत का चयन करें।

1

- Ans ✗ 1. 36 : 48
- ✗ 2. 24 : 32

✓ 3. 26 : 18

✗ 4. 12 : 16

Question ID : 9895808859

Chosen Option : 1

Q.1 छः व्यक्ति A, B, C, D, E तथा F दो पंक्तियों में, प्रत्येक पंक्ति में तीन बैठे हैं।

2

E किसी भी पंक्ति के अंत में नहीं है।

D, F के बाईं ओर से दूसरे स्थान पर है।

C, E का पड़ोसी है तथा D से विकर्णतः बैठा है।

B, F का पड़ोसी है।

निम्न में से कौन एक दूसरे के विकर्णतः विपरीत बैठा है?

Ans

✓ 1. A तथा F

✗ 2. F तथा C

✗ 3. D तथा A

✗ 4. A तथा C

Question ID : 9895808852

Chosen Option : 1

Q.1 उस विकल्प का चयन करें जो सही रूप में रिक्त स्थान की पूर्ति करते हुए श्रृंखला को पूरा करें।

3

12, 57, 282, 1407, 7032, ?

Ans

✗ 1. 35147

✗ 2. 36751

✗ 3. 35751

✓ 4. 35157

Question ID : 9895808857

Chosen Option : 4

Q.1 चार अक्षर समूह दिए गए हैं, जिनमें से तीन किसी तरह से समान हैं, जबकि एक अलग है। असंगत अक्षर समूह का चयन करें।

4

Ans

✗ 1. MPS

✓ 2. CHI

✗ 3. BEH

✗ 4. KNQ

Question ID : 9895808844

Chosen Option : 2

Q.1 चार शब्द दिए गए हैं, जिनमें से तीन किसी तरह से समान हैं, जबकि एक अलग है। असंगत शब्द का चयन करें।

5

Ans

1. पूर्ण संख्या
2. अपरिमेय संख्या
3. प्राकृतिक संख्या
4. पूर्णांक संख्या

Question ID : 9895808845
Chosen Option : 3

Q.1
6 उस विकल्प का चयन करें जो सही रूप में रिक्त स्थान की पूर्ति करते हुए श्रृंखला को पूरा करें।

71, 93, 137, 203, 291, ?

- Ans 1. 389
2. 401
3. 399
4. 400

Question ID : 9895808856
Chosen Option : 2

Q.1
7 एक निश्चित कूट में, PROGRAM को MRRGOAP के रूप में कूटबद्ध किया जाता है। उस कोड में COUNTRY को कैसे कूटबद्ध किया जाता है?

- Ans 1. YOTNURC
2. TOYNURC
3. TOYNUCR
4. YOTNUCR

Question ID : 9895808849
Chosen Option : 1

Q.1
8 यदि '+' का अर्थ '-', 'x' का अर्थ '+', '-' का अर्थ '+', और '-' का अर्थ 'x', है, तो:

$88 \times 11 - 7 \div 4 = ?$

- Ans 1. 65
2. 60
3. 45
4. 70

Question ID : 9895808861
Chosen Option : 2

Q.1
9 उस विकल्प का चयन करें जो तीसरे पद से उसी तरह संबंधित है जिस प्रकार दूसरा पद पहले पद से संबंधित है।

56 : 72 :: 63 : ?

- Ans 1. 74
2. 80

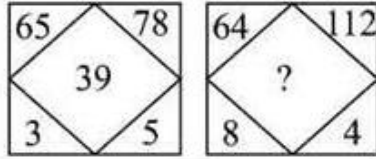
✗ 3. 70

✓ 4. 77

Question ID : 9895808858

Chosen Option : 4

Q.2 दिए गए विकल्पों में से लुप्त संख्या ज्ञात करें।



Ans ✓ 1. 30

✗ 2. 42

✗ 3. 40

✗ 4. 32

Question ID : 9895808860

Chosen Option : 4

Q.2 उस विकल्प का चयन करें जो तीसरे पद से उसी तरह संबंधित है जिस प्रकार दूसरा पद पहले पद से संबंधित है।

1 HFFH : KCCK :: JPPJ : _____

Ans ✓ 1. MMMM

✗ 2. NBBN

✗ 3. UHHU

✗ 4. KMMK

Question ID : 9895808848

Chosen Option : 1

Q.2 दिए गए विकल्पों में से संबंधित शब्द युग्म का चयन करें।

हवाई जहाज : आकाश :: _____ : _____

Ans ✗ 1. सैनिक : सेना

✓ 2. गाड़ी : सड़क

✗ 3. तुरही : गीत

✗ 4. पुस्तक : प्रिंटर

Question ID : 9895808846

Chosen Option : 2

Q.2 उस विकल्प का चयन करें जो सही रूप में रिक्त स्थान की पूर्ति करते हुए श्रृंखला को पूरा करें।

3 EJL, HPR, KVX, ?

- Ans
- 1. NBD
 - 2. NBC
 - 3. MBD
 - 4. NGD

Question ID : 9895808843
Chosen Option : 1

Q.2
4 उस विकल्प आकृति का चयन करें, जिसमें प्रश्न आकृति छिपी हुई / अंतर्निहित है।

प्रश्न आकृति:



- Ans
- 1.
 - 2.
 - 3.
 - 4.

Question ID : 9895808864
Chosen Option : 3

Q.2
5 उस विकल्पका चयन करें जो दर्पण के दायीं ओर रखे जाने पर दी गई आकृति की दर्पण छवि से सर्वाधिक मेल खाता है।

प्रश्न आकृति:



- Ans
- 1.
 - 2.
 - 3.
 - 4.

Question ID : 9895808865

Chosen Option : 2

Q.2
6 2012-13 में शिक्षा पर खर्च जीडीपी के प्रतिशत के रूप में _____ था।

- Ans
- 1. 4.5%
 - 2. 3.7%
 - 3. 4.7%
 - 4. 3.1%

Question ID : 9895808901

Chosen Option : 3

Q.2
7 नोबेल पुरस्कार निम्न में से किस क्षेत्र में नहीं दिया जाता है?

- Ans
- 1. साहित्य
 - 2. रसायन विज्ञान
 - 3. भौतिक विज्ञान
 - 4. जीव विज्ञान

Question ID : 9895808899

Chosen Option : 4

Q.2
8 ओज़ोन परत निम्न में से किस मंडल में स्थित है?

- Ans
- 1. समतापमंडल (स्ट्रेटोस्फिअर)
 - 2. मध्यमंडल (मेसोस्फिअर)
 - 3. तापमंडल (थर्मोस्फिअर)
 - 4. क्षोभमंडल (ट्रोपोस्फिअर)

Question ID : 9895808909

Chosen Option : 1

Q.2
9 निम्न में से कौन सा प्रकाश के प्रकीर्णन का उदाहरण नहीं है?

- Ans
- 1. गहरे समुद्र में जल का रंग
 - 2. सूर्योदय और सूर्यास्त के समय सूर्य का लाल होना
 - 3. तारों का टिमटिमाना
 - 4. आकाश का नीला रंग

Question ID : 9895808908

Chosen Option : 3

Q.3
0 किस गवर्नर जनरल ने सती प्रथा को खत्म किया था?

Ans

1. लॉर्ड हेस्टिंग्स
2. लॉर्ड डलहौजी
3. लॉर्ड बेंटिक
4. लॉर्ड कार्नवालिस

Question ID : 9895808915

Chosen Option : 3

Q.3
1 निम्न में से किसमें चार कक्षीय हृदय पाया जाता है?

Ans

1. मगरमच्छ
2. मछली
3. मेढक
4. गिरगिट

Question ID : 9895808910

Chosen Option : 3

Q.3
2 _____ के प्रधानमंत्रित्व काल में राष्ट्रीय स्तर पर भारत की पहली गठबंधन सरकार का गठन किया गया था।

Ans

1. मोरारजी देसाई
2. चौधरी चरण सिंह
3. चंद्रशेखर
4. वी.पी. सिंह

Question ID : 9895808906

Chosen Option : 2

Q.3
3 निम्न में से किस राज्य में स्थायी वनों द्वारा आच्छादित क्षेत्रफल सार्वधिक है?

Ans

1. मध्य प्रदेश
2. आंध्रप्रदेश
3. उत्तराखंड
4. जम्मू एवं कश्मीर

Question ID : 9895808912

Chosen Option : 1

Q.3
4 जब अम्ल, जल के साथ अभिक्रिया करता है, तो _____ उत्पन्न होती है।

Ans

1. हाइड्रोजनीअम आयन
2. हाइड्रोजन गैस

3. नाइट्रेट आयन

4. ऑक्सीजन गैस

Question ID : 9895808907

Chosen Option : 2

Q.3
5 निम्न में से किसको अचल संपत्ति के रूपमें वर्गीकृत नहीं किया जाता?

Ans 1. मशीनें

2. साधन

3. कच्चा माल

4. इमारतें

Question ID : 9895808902

Chosen Option : 2

Q.3
6 स्वच्छ भारत अभियान की शुरुआत कब से हुयी?

Ans 1. 15 अगस्त 2014

2. 2 अक्टूबर 2014

3. 30 जनवरी 2014

4. 26 जनवरी 2014

Question ID : 9895808911

Chosen Option : 2

Q.3
7 रॉलेट एक्ट भारत में कब लागू किया गया?

Ans 1. 1920

2. 1918

3. 1921

4. 1919

Question ID : 9895808917

Chosen Option : 4

Q.3
8 भारत के सुप्रसिद्ध संगीतज्ञ उस्ताद बिस्मिल्लाह खां को 2001 में _____ पुरस्कार से सम्मानित किया गया था।

Ans 1. पद्म भूषण

2. पद्म विभूषण

3. भारत रत्न

4. पद्म श्री

Question ID : 9895808893

Chosen Option : 1

Q.3 2018 में इंडोनेशिया में संपन्न हुए एशियाई खेलों में भारत की ओर से सबसे कम उम्र में स्वर्ण पदक जीतने वाले सौरभ चौधरी का संबंध किस प्रतिस्पर्धा से है?

- Ans
- 1. निशानेबाज़ी
 - 2. जिम्नास्टिक
 - 3. तैराकी
 - 4. एथलेटिक्स

Question ID : 9895808900

Chosen Option : 1

Q.4 0 तेरा ताली, _____ के कमार जनजाति का प्रसिद्ध लोक नृत्य है।

- Ans
- 1. केरल
 - 2. तमिलनाडु
 - 3. राजस्थान
 - 4. ओडीशा

Question ID : 9895808894

Chosen Option : 4

Q.4 1 महात्मा गांधी राष्ट्रीय ग्रामीण रोजगार गारंटी अधिनियम (MNREGA) साल _____ से लागू हुआ।

- Ans
- 1. 2002
 - 2. 2004
 - 3. 2003
 - 4. 2005

Question ID : 9895808903

Chosen Option : 2

Q.4 2 किस मुगल सम्राट ने सुलह-ए-कुल के विचार पर जोर दिया?

- Ans
- 1. हुमायूं
 - 2. शाहजहाँ
 - 3. अकबर
 - 4. बाबर

Question ID : 9895808916

Chosen Option : 3

Q.4 3 65वें राष्ट्रीय फिल्म पुरस्कारों में सर्वश्रेष्ठ हिंदी फिल्म का पुरस्कार किस फिल्म ने जीता?

- Ans
- 1. बाहुबली 2

- ✓ 2. न्यूटन
- ✗ 3. माँम
- ✗ 4. टॉयलेट एक प्रेम कथा

Question ID : 9895808898
Chosen Option : 4

Q.4 निम्न में से कौन सा एक नगर निगम का कार्य नहीं है?

- Ans ✗ 1. बिजली और जल आपूर्ति
- ✓ 2. कानून और व्यवस्था
- ✗ 3. सार्वजनिक कार्य
- ✗ 4. स्वास्थ्य और सफाई

Question ID : 9895808905
Chosen Option : 4

Q.4 चित्तौड़गढ़ के किले के अंदर विजय के प्रतीक 'विजय स्तम्भ' का निर्माण किसने कराया?

- Ans ✗ 1. राणा उदय सिंह
- ✗ 2. राणा सांगा
- ✓ 3. राणा कुंभा
- ✗ 4. महाराणा प्रताप

Question ID : 9895808895
Chosen Option : 4

Q.4 निम्न में से कौन सा भारत का एक प्रमुख लौह अयस्क निर्यात बंदरगाह है?

- Ans ✗ 1. कांदला
- ✗ 2. तूतीकोरिन
- ✗ 3. विशाखापत्तनम
- ✓ 4. मोरमुगाओ

Question ID : 9895808913
Chosen Option : 3

Q.4 निम्न में से कौन सा अधिकार 1978 से एक मौलिक अधिकार नहीं है?

- Ans ✗ 1. समानता का अधिकार
- ✗ 2. संवैधानिक उपचार का अधिकार
- ✓ 3. संपत्ति का अधिकार

✗ 4. स्वतंत्रता का अधिकार

Question ID : 9895808904

Chosen Option : 3

Q.4 2018 में इंडोनेशिया में संपन्न हुए एशियाई खेलों में भारत ने किस प्रतियोगिता में सर्वाधिक पदक जीते?

- Ans
- ✓ 1. एथलेटिक्स
 - ✗ 2. कुश्ती
 - ✗ 3. मुक्केबाज़ी
 - ✗ 4. निशानेबाज़ी

Question ID : 9895808896

Chosen Option : 2

Q.4 निम्न में से कौन सी रबी की फसल नहीं है?

- Ans
- ✗ 1. गेहूँ
 - ✗ 2. जौ
 - ✗ 3. चना
 - ✓ 4. मक्का

Question ID : 9895808914

Chosen Option : 4

Q.5 चीन के ग्वांगझू में आयोजित BWF वर्ल्ड टूर फाइनल्स 2018 में, पीवी सिंधु ने जापान की _____ को हराया।

- Ans
- ✗ 1. चेन युफेई
 - ✗ 2. कोरोलिना मारिन
 - ✗ 3. ताई जु यिंग
 - ✓ 4. नोजोमी ओकुहारा

Question ID : 9895808897

Chosen Option : 2

Q.5 एक निश्चित समय में एक निश्चित दूरी तय की जाती है। यदि 50% अधिक दूरी 40% कम समय में तय की जाती है, तो दोनों स्थिति में गति का संबंधित अनुपात क्या होगा?

- Ans
- ✗ 1. 3 : 5
 - ✗ 2. 3 : 2
 - ✗ 3. 2 : 3
 - ✓ 4. 2 : 5

Question ID : 9895809035

Chosen Option : 4

Q.5 एक राशि 6 वर्षों में 33% वार्षिक साधारण दर की तुलना में 37% वार्षिक साधारण दर से ₹ 54 अधिक उत्पन्न प्राप्त करती है। राशि _____ है।

- Ans
- 1. ₹ 255
 - 2. ₹ 250
 - 3. ₹ 450
 - 4. ₹ 225

Question ID : 9895809031
Chosen Option : 4

Q.5 21 छात्रों की औसत लंबाई 142 cm है। यदि शिक्षक की लंबाई शामिल की जाए तो औसत लंबाई 1 cm बढ़ जाती है। शिक्षक की लंबाई _____ है।

- Ans
- 1. 161 cm
 - 2. 162 cm
 - 3. 164 cm
 - 4. 160 cm

Question ID : 9895809022
Chosen Option : 3

Q.5 35 m भुजा के एक वर्ग भूखंड के एक कोने पर एक छोड़े को 28 m लंबी रस्सी से बांधा जाता है। बिना चरा हुआ क्षेत्र _____ क्षेत्रफल का होगा।

- Ans
- 1. 504 m²
 - 2. 609 m²
 - 3. 576 m²
 - 4. 632 m²

Question ID : 9895809038
Chosen Option : --

Q.5 टीसीपी के 15 श्रमिकों के मासिक वेतन का माध्य ₹ 18000 और एचसीआर के 25 श्रमिकों के मासिक वेतन का माध्य ₹ 12000 है। सभी 40 श्रमिकों के मासिक वेतन का माध्य क्या है?

- Ans
- 1. ₹ 16500
 - 2. ₹ 14250
 - 3. ₹ 12250
 - 4. ₹ 17750

Question ID : 9895809024
Chosen Option : 2

Q.5
6 दो संख्याएँ 11 : 13 के अनुपात में हैं। यदि प्रत्येक संख्या में 9 जोड़ा जाता है, तो अनुपात 65 : 76 हो जाता है। छोटी संख्या _____ है।

Ans

1. 143

2. 121

3. 130

4. 156

Question ID : 9895809028

Chosen Option : 2

Q.5
7 एक समचतुर्भुज की परिमाप 80 cm है। और एक कोण 45° है। समचतुर्भुज का क्षेत्रफल _____ है।

Ans

1. 364 sq. cm

2. 128 sq. cm

3. $240\sqrt{2}$ sq. cm

4. $200\sqrt{2}$ sq. cm

Question ID : 9895809037

Chosen Option : 1

Q.5
8 निर्देश: दिये गये प्रश्न निम्न तालिका पर आधारित है। तालिका को पढ़कर दिए प्रश्नों के उत्तर दीजिए।

-	उत्पादन (हजार टन में)		
	चावल	गेहूँ	दाल
P	45	100	30
Q	48	85	20
R	60	30	25
S	40	32	20
T	37	20	15

किस राज्य में दालों का उत्पादन सबसे अधिक था?

Ans

1. P

2. S

3. Q

4. R

Question ID : 9895809041

Chosen Option : 1

Q.5
9 $\frac{1}{3} \times \frac{3}{4} \div \frac{11}{10}$ of $\frac{1}{5} = ?$

Ans

- ✓ 1. $\frac{25}{22}$
- ✗ 2. $\frac{12}{25}$
- ✗ 3. $\frac{3}{5}$
- ✗ 4. $\frac{5}{3}$

Question ID : 9895809020
Chosen Option : --

Q.6 निर्देश: दिये गये प्रश्न निम्न तालिका पर आधारित है। तालिका को पढ़कर दिए प्रश्नों के उत्तर दीजिए।

-	उत्पादन (हजार टन में)		
	चावल	गेहूं	दाल
P	45	100	30
Q	48	85	20
R	60	30	25
S	40	32	20
T	37	20	15

राज्य R में चावल और गेहूं की उत्पादित मात्राओं में अनुपात कितना था?

Ans

- ✗ 1. 1 : 2
- ✗ 2. 3 : 5
- ✓ 3. 2 : 1
- ✗ 4. 1 : 1

Question ID : 9895809042
Chosen Option : 3

Q.6 ₹ 1 में 40 पिन बेचने पर एक दुकानदार को 25% का नुकसान होता है। 20% लाभ पाने के लिए उसे कितने ₹ 1 में कितनी पिन बेचनी चाहिए?

Ans

- ✗ 1. 20
- ✗ 2. 30
- ✗ 3. 32
- ✓ 4. 25

Question ID : 9895809026
Chosen Option : 4

Q.6 यदि किसी वस्तु का अंकित मूल्य ₹ 1000 है। वस्तु पर 30% और 10% और 10% की दो क्रमिक छूट के बीच का अंतर _____ है।

Ans

 1. ₹ 100 2. ₹ 120 3. ₹ 115 4. ₹ 110

Question ID : 9895809023

Chosen Option : 3

Q.6 $5 + 3 \div (4 - 2) + 2 \times 5 \div 5$ का 2 = ?

Ans

 1. $5\frac{1}{2}$ 2. $7\frac{1}{2}$ 3. $5\frac{1}{4}$ 4. $4\frac{1}{4}$

Question ID : 9895809019

Chosen Option : 1

Q.6 दो संख्याओं के बीच का अनुपात 3 : 7 है। यदि दोनों संख्याओं के बीच का अंतर 40 है। दोनों संख्याओं का योग _____ है।

Ans

 1. 80 2. 125 3. 100 4. 110

Question ID : 9895809029

Chosen Option : 3

Q.6 एक आदमी अपनी मासिक आय का एक हिस्सा खर्च करता है और इसका एक हिस्सा बचाता है। उसके व्यय तथा उसकी बचत का अनुपात 1 : 2 है। यदि उसकी मासिक आय ₹ 24,000 है, तो उसकी मासिक बचत राशि कितनी है?

Ans

 1. ₹ 8000 2. ₹ 12000 3. ₹ 18000 4. ₹ 16000

Question ID : 9895809030

Chosen Option : 2

Q.6 A और B एक साथ 6 दिनों में एक कार्य कर सकते हैं और वही काम A अकेला 9 दिनों में कर सकता है। B अकेला उस कार्य को कितने दिनों में कर सकता है?

Ans

- ✓ 1. 18 दिन
- ✗ 2. 16 दिन
- ✗ 3. 20 दिन
- ✗ 4. 15 दिन

Question ID : 9895809034

Chosen Option : 1

Q.6 यदि किसी संख्या का 20 प्रतिशत 120 है, तो उस संख्या का 120% _____ होगा।

Ans

- ✗ 1. 20
- ✓ 2. 720
- ✗ 3. 120
- ✗ 4. 360

Question ID : 9895809025

Chosen Option : 3

Q.6 एक घनाभ की लंबाई, चौड़ाई और ऊंचाई क्रमशः 9 cm, 6 cm और 4 cm है। घन का आयतन दिए गए घनाभ के आयतन के बराबर है। घन की भुजा _____ है।

Ans

- ✓ 1. 6 cm
- ✗ 2. 9 cm
- ✗ 3. 12 cm
- ✗ 4. 3 cm

Question ID : 9895809039

Chosen Option : 1

Q.6 यदि एक पाइप A, एक टंकी को 25 मिनट में भर सकता है तो A की क्षमता की 25% क्षमता वाले 4 पाइप टंकी को _____ में भर सकते हैं।

Ans

- ✓ 1. 20 मिनट
- ✗ 2. 80 मिनट
- ✗ 3. 90 मिनट

✗ 4. 25 मिनट

Question ID : 9895809033

Chosen Option : 2

Q.7
0 यदि 11 क्रमिक धनात्मक पूर्णाकों का औसत 7 है, तो सबसे छोटी संख्या _____ है।

Ans

✓ 1. 2

✗ 2. 5

✗ 3. 1

✗ 4. 3

Question ID : 9895809021

Chosen Option : 1

Q.7
1 निर्देश: दिये गये प्रश्न निम्न तालिका पर आधारित है। तालिका को पढ़कर दिए प्रश्नों के उत्तर दीजिए।

राज्य	उत्पादन (हजार टन में)		
	चावल	गेहूँ	दाल
P	45	100	30
Q	48	85	20
R	60	30	25
S	40	32	20
T	37	20	15

सभी 5 राज्यों में चावल का औसत उत्पादन (हजार टन में) _____ था।

Ans

✗ 1. 40

✗ 2. 42

✓ 3. 46

✗ 4. 45

Question ID : 9895809040

Chosen Option : 3

Q.7
2 दो ट्रेनें 90 km/hr और 60 km/hr की चाल से एक ही दिशा में आगे बढ़ रही हैं। तीव्र गति से चल रही ट्रेन, मंद गति से चलने वाली ट्रेन और एक पोल को क्रमशः 30 सेकंड और 5 सेकंड में पार करती है। मंद गति ट्रेन की लंबाई क्या है?

Ans

✓ 1. 125 मीटर

✗ 2. 150 मीटर

✗ 3. 180 मीटर

✘ 4. 135 मीटर

Question ID : 9895809036

Chosen Option : --

Q.7
3 किसी राशि पर 10% वार्षिक व्याज की दर से 2 वर्ष के चक्रवृद्धि ब्याज और साधारण ब्याज का अंतर ₹ 150 है। राशि (₹ में) है:

- Ans
- ✘ 1. ₹ 15500
 - ✘ 2. ₹ 10000
 - ✓ 3. ₹ 15000
 - ✘ 4. ₹ 22000

Question ID : 9895809032

Chosen Option : 3

Q.7
4 तीन घंटियाँ एक साथ रात 8 बजे बजती हैं। वे क्रमशः 20 मिनट, 30 मिनट, 40 मिनट के अंतराल पर बजती हैं। तीनों घंटियाँ एक साथ अगली बार कब बजेगी?

- Ans
- ✘ 1. रात 11 बजे
 - ✘ 2. रात 11.15 बजे
 - ✘ 3. रात 10.30 बजे
 - ✓ 4. रात 10 बजे

Question ID : 9895809018

Chosen Option : 4

Q.7
5 यदि 40 संतरे का विक्रय मूल्य 50 संतरे के क्रय मूल्य के बराबर है तो प्रतिशत हानि/लाभ कितना है?

- Ans
- ✘ 1. 10% लाभ
 - ✘ 2. 5% हानि
 - ✓ 3. 25% लाभ
 - ✘ 4. 20% हानि

Question ID : 9895809027

Chosen Option : 3

Section : English Language

Q.1

Select the word which means the same as the group of words given.

The study of the nature of God and religious beliefs

- Ans
- 1. Pathology
 - 2. Horticulture
 - 3. Gastronomy
 - 4. Theology

Question ID : 9895809166

Chosen Option : --

Q.2 Select the most appropriate option to substitute the underlined segment in the given sentence. If there is no need to substitute it, select 'No substitution required'.

Residential areas should be situated far away of industrialised areas.

- Ans
- 1. No substitution required
 - 2. from industrial areas
 - 3. in industrial areas
 - 4. to industrialised areas

Question ID : 9895809149

Chosen Option : --

Q.3 Select the antonym of the given word.

LATENT

- Ans
- 1. Hidden
 - 2. Evident
 - 3. Concealed
 - 4. Latest

Question ID : 9895809162

Chosen Option : --

Q.4 Select the most appropriate option to substitute the underlined segment in the given sentence. If there is no need to substitute it, select 'No substitution required'.

The major hubs of Information Technology industry is the Silicon Valley of central California.

- Ans
- 1. No substitution required
 - 2. Major hub in
 - 3. A major hub of
 - 4. The majors hub of

Question ID : 9895809150

Chosen Option : --

Q.5 Select the word which means the same as the group of words given.

A partial or total loss of memory

- Ans 1. Amnesia
 2. Claustrophobia
 3. Xenophobia
 4. Nostalgia

Question ID : 9895809167
Chosen Option : --

Q.6 Select the synonym of the given word.

CONDEMN

- Ans 1. Criticize
 2. Demand
 3. Praise
 4. Withdraw

Question ID : 9895809161
Chosen Option : --

Q.7 Select the most appropriate option to substitute the underlined segment in the given sentence. If there is no need to substitute it, select 'No substitution required'.

Steel is tough and it can easily be shaped, cut, or made into wire.

- Ans 1. easily shaped
 2. No substitution required
 3. easy to be shaped
 4. easily shape

Question ID : 9895809151
Chosen Option : --

Q.8 Select the meaning of the given idiom.

A hard nut to crack

- Ans 1. One who is capable
 2. A difficult problem
 3. One who is cruel
 4. A problem easily solved

Question ID : 9895809164
Chosen Option : --

Q.9 Select the wrongly spelt word.

- Ans
- 1. Privilege
 - 2. Possession
 - 3. Perspiration
 - 4. Preparation

Question ID : 9895809168
Chosen Option : --

Q.1
0 Select the most appropriate word to fill in the blank.

One should be _____ with what one has.

- Ans
- 1. content
 - 2. inspired
 - 3. consistent
 - 4. gifted

Question ID : 9895809171
Chosen Option : --

Q.1
1 Select the synonym of the given word.

OBSCURE

- Ans
- 1. Unknown
 - 2. Renowned
 - 3. Famous
 - 4. Eminent

Question ID : 9895809160
Chosen Option : --

Q.1
2 Select the most appropriate word to fill in the blank.

The President visited our town to _____ the statue of a great patriot.

- Ans
- 1. unveil
 - 2. construct
 - 3. discover
 - 4. commemorate

Question ID : 9895809170

Chosen Option : --

Q.1
3 Select the most appropriate word to fill in the blank.

Bengaluru _____ for its mild climate throughout the year.

- Ans
- 1. knows
 - 2. has known
 - 3. is known
 - 4. knew

Question ID : 9895809153
Chosen Option : --

Q.1
4 Select the wrongly spelt word.

- Ans
- 1. Village
 - 2. Villain
 - 3. Weather
 - 4. Wenesday

Question ID : 9895809169
Chosen Option : --

Comprehension:

In the following passage some words have been deleted. Fill in the blanks with the help of the alternatives given. Select the most appropriate option for each number.

Population change refers to change in the (1) _____ of people during a specific time. The world population (2) _____ not been stable. It has (3) _____ manifold. This is primarily due to changes (4) _____ the number of births and deaths. The (5) _____ between the birth and death rates determines the growth rate.

SubQuestion No : 15

Q.1
5 Select the most appropriate option that will fill in the blank number 1.

- Ans
- 1. quantity
 - 2. amount
 - 3. number
 - 4. portion

Question ID : 9895809155
Chosen Option : --

Comprehension:

In the following passage some words have been deleted. Fill in the blanks with the help of the alternatives given. Select the most appropriate option for each number.

Population change refers to change in the (1) _____ of people during a specific time. The world population (2) _____ not been stable. It has (3) _____ manifold. This is primarily due to changes (4) _____ the number of births and deaths. The (5) _____ between the birth and death rates determines the growth rate.

SubQuestion No : 16

Q.1
6 Select the most appropriate option that will fill in the blank number 2.

- Ans
- 1. was
 - 2. have
 - 3. were
 - 4. has

Question ID : 9895809156
Chosen Option : --

Comprehension:

In the following passage some words have been deleted. Fill in the blanks with the help of the alternatives given. Select the most appropriate option for each number.

Population change refers to change in the (1) _____ of people during a specific time. The world population (2) _____ not been stable. It has (3) _____ manifold. This is primarily due to changes (4) _____ the number of births and deaths. The (5) _____ between the birth and death rates determines the growth rate.

SubQuestion No : 17

Q.1
7 Select the most appropriate option that will fill in the blank number 3.

- Ans
- 1. marked
 - 2. enlarged
 - 3. added
 - 4. increased

Question ID : 9895809157

Chosen Option : --

Comprehension:

In the following passage some words have been deleted. Fill in the blanks with the help of the alternatives given. Select the most appropriate option for each number.

Population change refers to change in the (1) _____ of people during a specific time. The world population (2) _____ not been stable. It has (3) _____ manifold. This is primarily due to changes (4) _____ the number of births and deaths. The (5) _____ between the birth and death rates determines the growth rate.

SubQuestion No : 18

Q.1
8 Select the most appropriate option that will fill in the blank number 4.

- Ans
- 1. of
 - 2. in
 - 3. at
 - 4. to

Question ID : 9895809158
Chosen Option : --**Comprehension:**

In the following passage some words have been deleted. Fill in the blanks with the help of the alternatives given. Select the most appropriate option for each number.

Population change refers to change in the (1) _____ of people during a specific time. The world population (2) _____ not been stable. It has (3) _____ manifold. This is primarily due to changes (4) _____ the number of births and deaths. The (5) _____ between the birth and death rates determines the growth rate.

SubQuestion No : 19

Q.1
9 Select the most appropriate option that will fill in the blank number 5.

- Ans
- 1. difference
 - 2. distance
 - 3. disturbance
 - 4. dependence

Question ID : 9895809159
Chosen Option : --

Q.2
0 Select the antonym of the given word.

DORMANT

- Ans
- 1. Invisible
 - 2. Asleep
 - 3. Idle
 - 4. Active

Question ID : 9895809163
Chosen Option : --

Q.2
1 Select the meaning of the given idiom.

A cock and bull story

- Ans
- 1. A children's fable
 - 2. An animal narrative
 - 3. A lengthy dialogue
 - 4. An unbelievable tale

Question ID : 9895809165
Chosen Option : --

Q.2
2 Identify the segment in the sentence which contains the grammatical error from the given options.

The finished product has most value and utility than the raw material.

- Ans
- 1. the raw material
 - 2. than
 - 3. The finished product
 - 4. has most value

Question ID : 9895809146
Chosen Option : --

Q.2
3 Identify the segment in the sentence which contains the grammatical error from the given options.

In industries, accidents mainly occur due to technical fail.

- Ans
- 1. technical fail
 - 2. mainly occur
 - 3. due to
 - 4. In industries

Question ID : 9895809148
Chosen Option : --

Q.2 Identify the segment in the sentence which contains the grammatical error from the given options.

4

The public sector industries are owned and operate by the government.

Ans

- ✓ 1. The public sector
✗ 2. by the government
✗ 3. owned
✗ 4. operate

Question ID : 9895809147
Chosen Option : --

Q.2 Select the most appropriate word to fill in the blank.

5

India has a glorious tradition _____ producing excellent quality cotton.

Ans

- ✗ 1. for
✗ 2. at
✓ 3. in
✗ 4. of

Question ID : 9895809152
Chosen Option : --

Section : Hindi Language

Q.1 दिए गए वाक्य में रेखांकित खंड को प्रतिस्थापित करने के लिए उपयुक्त विकल्प का चयन करें।

आकाश में बादल घिर आए।

Ans

- ✗ 1. वनज
✗ 2. वारिनिधि
✗ 3. पयोधि
✓ 4. मेघ

Question ID : 9895807102
Chosen Option : 4

Q.2 'असाधारण बुद्धि वाले' के लिए एक शब्द होगा -

Ans

- ✗ 1. मंदमेधा
✗ 2. मेधा
✓ 3. मेधावी
✗ 4. असाधारण

Question ID : 9895807122
Chosen Option : 1

Q.3 रिक्त स्थान को भरने के लिए उपयुक्त शब्द का चयन करें।

नवरात्रों में लोग फलाहार _____ हैं।

- Ans
- 1. देखते
 - 2. पीते
 - 3. करते
 - 4. चबाते

Question ID : 9895807105
Chosen Option : 3

Q.4 सही वर्तनी वाले शब्द का चयन करें।

- Ans
- 1. पूज्यनीय
 - 2. पुज्य
 - 3. पुज्यनीय
 - 4. पूज्य

Question ID : 9895807123
Chosen Option : 3

Q.5 'उज्ज्वल' का विलोम शब्द चयन करें।

- Ans
- 1. अतिउज्ज्वल
 - 2. अनुदार
 - 3. प्रोज्वल
 - 4. धूमिल

Question ID : 9895807115
Chosen Option : 3

Q.6 'संधि' का विलोम शब्द चयन करें।

- Ans
- 1. विग्रह
 - 2. क्रोध
 - 3. मेल
 - 4. समास

Question ID : 9895807116
Chosen Option : 1

Q.7 दिए गए वाक्य का वह भाग ज्ञात करें जिसमें कोई त्रुटि है।

किसी वस्तु का आयतन निकालने के लिए उसकी लम्बी, चौड़ी और मोटाई का आपस में गुणा कर देना चाहिए।

Ans

- 1. गुणा कर देना चाहिए।
- 2. किसी वस्तु का
- 3. उसकी लम्बी, चौड़ी और मोटाई का
- 4. आयतन निकालने के लिए

Question ID : 9895807101
Chosen Option : 1

Q.8 दिए गए वाक्य में रेखांकित खंड को प्रतिस्थापित करने के लिए उपयुक्त विकल्प का चयन करें।

रात्रि में भौरा कमल की पंखुड़ियों में बंद हो जाता है।

Ans

- 1. पवमान
- 2. पद्म
- 3. गुलाब
- 4. जलद

Question ID : 9895807104
Chosen Option : 4

Q.9 'आँखों से गिरना' मुहावरे का अर्थ है-

Ans

- 1. निगरानी करना
- 2. ध्यान से हट जाना
- 3. आदरभाव घट जाना
- 4. बहुत प्यारा होना

Question ID : 9895807119
Chosen Option : 3

Q.10 'जलधर' का पर्यायवाची शब्द है -

Ans

- 1. बादल
- 2. अवनि
- 3. अग्नि
- 4. दिनकर

Question ID : 9895807118
Chosen Option : 4

Q.11 'जैसा उचित हो वैसा' के लिए एक शब्द होगा-

- Ans
- 1. कदाचित
 - 2. यथोचित
 - 3. अनुचित
 - 4. किंचित

Question ID : 9895807121

Chosen Option : 2

Q.1
2 दिए गए वाक्य में रेखांकित खंड को प्रतिस्थापित करने के लिए उपयुक्त विकल्प का चयन करें।

सिंहनी अपने शिशु को शिकार करना सिखा रही है।

- Ans
- 1. आखटेक
 - 2. श्वान
 - 3. धावक
 - 4. शावक

Question ID : 9895807103

Chosen Option : 3

Q.1
3 रिक्त स्थान को भरने के लिए उपयुक्त शब्द का चयन करें।

लालकिला एक _____ इमारत है।

- Ans
- 1. काल्पनिक
 - 2. सामाजिक
 - 3. पौराणिक
 - 4. ऐतिहासिक

Question ID : 9895807108

Chosen Option : 2

Q.1
4 रिक्त स्थान को भरने के लिए उपयुक्त शब्द का चयन करें।

विजय सत्यपाल का _____ है।

- Ans
- 1. आत्मजा
 - 2. सुता
 - 3. भगिनी
 - 4. अनुज

Question ID : 9895807107

Chosen Option : 4

Q.1
5

दिए गए वाक्य का वह भाग ज्ञात करें जिसमें कोई त्रुटि है।

कर्मभीरु मनुष्य काम करने को डरता है और काम को देखकर भयभीत होता है।

Ans

- 1. कर्मभीरु मनुष्य
- 2. और काम को देखकर
- 3. भयभीत होता है।
- 4. काम करने को डरता है

Question ID : 9895807099

Chosen Option : 4

Q.1
6 सही वर्तनी वाले शब्द का चयन करें।

Ans

- 1. ऋतु
- 2. ऋतू
- 3. रीतु
- 4. रीतू

Question ID : 9895807124

Chosen Option : 1

Q.1
7 'तुरंग' का पर्यायवाची शब्द है -

Ans

- 1. कुंजर
- 2. घोड़ा
- 3. हिरण
- 4. हाथी

Question ID : 9895807117

Chosen Option : 2

Q.1
8 रिक्त स्थान को भरने के लिए उपयुक्त शब्द का चयन करें।

वह _____ है, इसीलिए अकेले ही जीवन बिता रही है।

Ans

- 1. विधुर
- 2. विधवा
- 3. पत्नी
- 4. सुहागन

Question ID : 9895807106

Chosen Option : 1

Q.1 'गाल बजाना' मुहावरे का अर्थ है-

- Ans
- 1. गुस्सा होना
 - 2. कम बोलना
 - 3. बकवास करना
 - 4. लड़ाई करना

Question ID : 9895807120

Chosen Option : 3

Comprehension:

निम्नलिखित गद्यांश के रिक्त स्थानों की पूर्ति गद्यांश के नीचे दिए गए प्रश्नों के अनुसार कीजिए-

भारतीय _____ (1) जड़ एवं रुढ़िग्रस्त नहीं है। वह जीवन्त है, बुद्धिपरक है। वह वसुधैव कुटुम्बकम् के आदर्श में पूरा विश्वास करती है और पूरे _____ (2) को एक ही परिवार के रूप में मानती है। उसे हम मानवता के मंदिर की अखंड ज्योति कह सकते हैं। भारतीय संस्कृति की विशेषताएं इस प्रकार हैं - अंत से अनन्त की ओर जाना, _____ (3) से प्रकाश की ओर जाना, भेद से अभेद की ओर जाना, कीचड़ से _____ (4) की ओर जाना, विरोध से विवेक की ओर जाना और अव्यवस्था से _____ (5) की ओर जाना है।

SubQuestion No : 20

Q.2 गद्यांश में संकेतित रिक्त स्थान (1) के लिए उपयुक्त शब्द होगा।

- Ans
- 1. भाषा
 - 2. संस्कृति
 - 3. परिवार
 - 4. समाज

Question ID : 9895807110

Chosen Option : 3

Comprehension:

निम्नलिखित गद्यांश के रिक्त स्थानों की पूर्ति गद्यांश के नीचे दिए गए प्रश्नों के अनुसार कीजिए-

भारतीय _____ (1) जड़ एवं रुढ़िग्रस्त नहीं है। वह जीवन्त है, बुद्धिपरक है। वह वसुधैव कुटुम्बकम् के आदर्श में पूरा विश्वास करती है और पूरे _____ (2) को एक ही परिवार के रूप में मानती है। उसे हम मानवता के मंदिर की अखंड ज्योति कह सकते हैं। भारतीय संस्कृति की विशेषताएं इस प्रकार हैं - अंत से अनन्त की ओर जाना, _____ (3) से प्रकाश की ओर जाना, भेद से अभेद की ओर जाना, कीचड़ से _____ (4) की ओर जाना, विरोध से विवेक की ओर जाना और अव्यवस्था से _____ (5) की ओर जाना है।

SubQuestion No : 21

Q.2
1 गद्यांश में संकेतित रिक्त स्थान (2) के लिए उपयुक्त शब्द होगा।

- Ans
- 1. समाज
 - 2. धर्म
 - 3. संसार
 - 4. देश

Question ID : 9895807111
Chosen Option : 3

Comprehension:

निम्नलिखित गद्यांश के रिक्त स्थानों की पूर्ति गद्यांश के नीचे दिए गए प्रश्नों के अनुसार कीजिए-

भारतीय _____ (1) जड़ एवं रुढ़िग्रस्त नहीं है। वह जीवन्त है, बुद्धिपरक है। वह वसुधैव कुटुम्बकम् के आदर्श में पूरा विश्वास करती है और पूरे _____ (2) को एक ही परिवार के रूप में मानती है। उसे हम मानवता के मंदिर की अखंड ज्योति कह सकते हैं। भारतीय संस्कृति की विशेषताएं इस प्रकार हैं - अंत से अनन्त की ओर जाना, _____ (3) से प्रकाश की ओर जाना, भेद से अभेद की ओर जाना, कीचड़ से _____ (4) की ओर जाना, विरोध से विवेक की ओर जाना और अव्यवस्था से _____ (5) की ओर जाना है।

SubQuestion No : 22

Q.2
2 गद्यांश में संकेतित रिक्त स्थान (3) के लिए उपयुक्त शब्द होगा।

- Ans
- 1. समानता

2. अन्धकार

3. उजाले

4. आँधी

Question ID : 9895807112

Chosen Option : 2

Comprehension:

निम्नलिखित गद्यांश के रिक्त स्थानों की पूर्ति गद्यांश के नीचे दिए गए प्रश्नों के अनुसार कीजिए-

भारतीय _____ (1) जड़ एवं रुढ़िग्रस्त नहीं है। वह जीवन्त है, बुद्धिपरक है। वह वसुधैव कुटुम्बकम् के आदर्श में पूरा विश्वास करती है और पूरे _____ (2) को एक ही परिवार के रूप में मानती है। उसे हम मानवता के मंदिर की अखंड ज्योति कह सकते हैं। भारतीय संस्कृति की विशेषताएं इस प्रकार हैं - अंत से अनन्त की ओर जाना, _____ (3) से प्रकाश की ओर जाना, भेद से अभेद की ओर जाना, कीचड़ से _____ (4) की ओर जाना, विरोध से विवेक की ओर जाना और अव्यवस्था से _____ (5) की ओर जाना है।

SubQuestion No : 23

Q.2
3 गद्यांश में संकेतित रिक्त स्थान (4) के लिए उपयुक्त शब्द होगा।

Ans 1. कमल

2. पानी

3. मंदिर

4. घर

Question ID : 9895807113

Chosen Option : 1

Comprehension:

निम्नलिखित गद्यांश के रिक्त स्थानों की पूर्ति गद्यांश के नीचे दिए गए प्रश्नों के अनुसार कीजिए-

भारतीय _____ (1) जड़ एवं रुढ़िग्रस्त नहीं है। वह जीवन्त है, बुद्धिपरक है। वह वसुधैव कुटुम्बकम् के आदर्श में पूरा विश्वास करती है और पूरे _____ (2) को एक ही परिवार के रूप में मानती है। उसे हम मानवता के मंदिर की अखंड ज्योति कह सकते हैं। भारतीय संस्कृति की विशेषताएं इस प्रकार हैं - अंत से अनन्त की ओर जाना, _____ (3) से प्रकाश की ओर जाना, भेद से अभेद की ओर जाना, कीचड़ से _____ (4) की ओर जाना, विरोध से विवेक की ओर जाना और अव्यवस्था से _____ (5) की ओर जाना है।

SubQuestion No : 24

Q.2
4 गद्यांश में संकेतित रिक्त स्थान (5) के लिए उपयुक्त शब्द होगा।

- Ans
- 1. व्यवस्था
 - 2. उजाला
 - 3. प्रकाश
 - 4. देश

Question ID : 9895807114
Chosen Option : 1

Q.2
5 दिए गए वाक्य का वह भाग ज्ञात करें जिसमें कोई त्रुटि है।

मानव-जीवन पर कितनी संभावनाएँ छिपी हैं, इसकी कोई सीमा नहीं है।

- Ans
- 1. इसकी कोई
 - 2. सीमा नहीं है।
 - 3. मानव-जीवन पर
 - 4. कितनी संभावनाएँ छिपी हैं,

Question ID : 9895807100
Chosen Option : 4