

## Constable (GD) in CAPFs, NIA, SSF and Rifleman (GD) in Assam Rifles Examination, 2018

Roll No. :	GovtJobsAlert.In
Registration No.	GovtJobsAlert.In
Name :	GovtJobsAlert.In
Exam Venue :	ANAND INTERNATIONAL COLLEGE OF ENGINEERING JAIPUR
Exam Time :	12:30 PM - 2:00 PM
Exam Date :	08/03/2019

Section : General Section

Q.1 एक कार प्रदर्शनी में सात अलग अलग कंपनियों की सात कारें- कार01, कार02, कार03, कार04, कार05, कार06, कार07, उत्तर दिशा की तरफ एक पंक्ति में प्रदर्शित हैं।

- I. कार01, कार07 के तुरंत दाएं में है।
- II. कार07, कार03 के दाएं से चौथे स्थान पर है।
- III. कार04, कार02 और कार06 के बीच में है।
- IV. कार03, जो कार02 के बाएं से तीसरे स्थान पर है, वह एक छोर पर है।

निम्न में से कार05 का सही स्थान कौन-सा है?

Ans

1. कार02 और कार07 के बीच में
2. कार06 और कार07 के बीच में
3. कार01 के तुरंत दाएं में
4. कार06 के तुरंत बाएं में

Question ID : 9895808876  
Chosen Option : 3

Q.2 चार अक्षर समूह दिए गए हैं, जिनमें से तीन किसी तरह से समान हैं, जबकि एक अलग है। असंगत अक्षर समूह का चयन करें।

Ans

1. LJKK
2. BCIE
3. STUO
4. KLOI

Question ID : 9895808869  
Chosen Option : 1

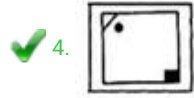
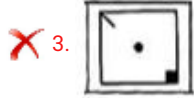
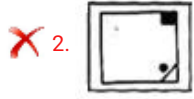
Q.3

निम्नलिखित में से कौन सी उत्तर आकृति दी गई आकृति को पूरा करेगी?

प्रश्न आकृति:



Ans



Question ID : 9895808888

Chosen Option : 4

Q.4 उस विकल्प का चयन करें जो सही रूप में रिक्त स्थान की पूर्ति करते हुए श्रृंखला को पूरा करें।

12, 26, 54, 110, 222, \_\_\_\_\_

Ans

1. 446

2. 423

3. 444

4. 452

Question ID : 9895808882

Chosen Option : 1

Q.5 नीचे दिए गए कथनों के बाद दो निष्कर्ष I और II दिए गए हैं। यह मानते हुए कि कथनों में दी गई जानकारी सत्य है, भले ही वह सर्वज्ञात तथ्यों से भिन्न प्रतीत होती हो और यह निर्णय करें कि कोन सा / से निष्कर्ष तार्किक और निश्चित रूप से कथन में दी गई जानकारी का अनुसरण करता है / करते हैं।

कथन:

- I. सभी तने, फूल हैं।
- II. कुछ फूल, पेड़ हैं।
- III. कुछ पेड़, पत्तियाँ हैं।

निष्कर्ष:

- I. कुछ तने पेड़ हैं।
- II. कुछ फूल, पत्तियाँ हैं।

Ans

1. केवल I अनुसरण करता है

2. केवल II अनुसरण करता है

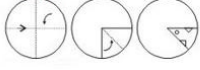
3. न तो I और न ही II अनुसरण करता है

4. I और II दोनों अनुसरण करते हैं

Question ID : 9895808879  
Chosen Option : 1

Q.6 नीचे प्रश्न आकृति में दर्शाये गए तरीके से एक कागज़ को मोड़ा गया और काटा गया है। इस कागज़ को खोलने पर दी गयी उत्तर आकृतियों में से कौन सी आकृति दिखाई देगी?

प्रश्न आकृति:



Ans



Question ID : 9895808891  
Chosen Option : 2

Q.7 नीचे दिए गए कथनों के बाद दो निष्कर्ष I और II दिए गए हैं। यह मानते हुए कि कथनों में दी गई जानकारी सत्य है, भले ही वह सर्वज्ञात तथ्यों से भिन्न प्रतीत होती हो और यह निर्णय करें कि कौन सा / से निष्कर्ष तार्किक और निश्चित रूप से कथन दी गई जानकारी का अनुसरण करता है / करते हैं।

कथन:

- I. सभी कारें, शेर हैं।
- II. कुछ बच्चे, शेर हैं।

निष्कर्ष:

- I. कुछ कारें, बच्चे हैं।
- II. कुछ बच्चे, कारें हैं।

Ans

1. या तो निष्कर्ष I या II अनुसरण करता है।

2. केवल निष्कर्ष II अनुसरण करता है।

3. न तो निष्कर्ष I न ही II अनुसरण करता है।

4. केवल निष्कर्ष I अनुसरण करता है।

Question ID : 9895808880  
Chosen Option : 1

Q.8 उस विकल्प का चयन करें जो तीसरे पद से उसी तरह संबंधित है जिस प्रकार दूसरा पद पहले पद से संबंधित है।

57 : 6 :: 97 : ?

- Ans  1. 8  
 2. 7  
 3. 5  
 4. 9

Question ID : 9895808883  
 Chosen Option : 1

Q.9 एक निश्चित कूट में, SAMOA को QZMPC के रूप में कूटबद्ध किया जाता है। उस कोड में GAMER को कैसे कूटबद्ध किया जाता है?

- Ans  1. EZTMF  
 2. EZMFT  
 3. EZMTF  
 4. EZMFU

Question ID : 9895808874  
 Chosen Option : 2

Q.1 यदि 'U' का अर्थ '-', 'W' का अर्थ '+', 'T' का अर्थ 'x', और 'V' का अर्थ 'x', है, तो:

$$33 T 77 U 11 T 1 = ?$$

- Ans  1. 110  
 2. 101  
 3. 200  
 4. 100

Question ID : 9895808886  
 Chosen Option : 4

Q.1 यदि SMILEY को 41.5 के रूप में और CRY को 23 के रूप में लिखते हैं, तो LAPPY को कैसे लिखा जाएगा?

- Ans  1. 30  
 2. 32  
 3. 42  
 4. 35





Question ID : 9895808875  
 Chosen Option : 4

Q.1 वह विकल्प का चयन करें जो दी गई आकृति श्रृंखला को पूरा करता है।

प्रश्न आकृति:

X	O	= X	↑ O X	Δ = O
	X	O	=	↑ X
1	2	3	4	5

Ans

- ✓ 1. 
- ✗ 2. 
- ✗ 3. 
- ✗ 4. 

Question ID : 9895808887  
Chosen Option : 1

Q.1 पुरुषों की एक पंक्ति में, मनीष दाईं ओर से 30 वें स्थान पर है और कवित बाईं ओर से 20 वें स्थान पर। जब वे अपना स्थान बदल लेते हैं, तो मनीष दाईं ओर से 35 वें स्थान पर हो जाता है। उस पंक्ति में पुरुषों की कुल संख्या कितनी है?

- Ans ✗ 1. 44
- ✓ 2. 54
- ✗ 3. 45
- ✗ 4. 34

Question ID : 9895808878  
Chosen Option : 2

Q.1 सात बच्चें A, B, C, D, E, F और G एक पंक्ति में खड़े हैं। G, D के बाएं और B के दाएं हैं। A, C के दाएं हैं। A और D के बीच एक बच्चा है। F, G के दाएं से दूसरे स्थान पर है। D और F के बीच दो बच्चे हैं। बिल्कुल दाएं कौन है?



- Ans ✓ 1. F
- ✗ 2. G
- ✗ 3. B
- ✗ 4. E

Question ID : 9895808877  
Chosen Option : 1

Q.1 उस विकल्प का चयन करें जो दर्पण के बायीं ओर रखे जाने पर दि गई आकृति की दर्पण छवि से सर्वाधिक मेल खाता है।

पश्चिम आकृति:



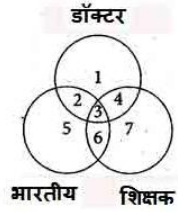
- Ans ✗ 1. 
- ✓ 2. 

✗ 3. KB

✗ 4. EK

Question ID : 9895808890  
Chosen Option : 2

Q.1 निम्नलिखित आरेख में, तीन वृत्त हैं, आरेख का ध्यानपूर्वक अध्ययन करें और दिए गए प्रश्नों के उत्तर दें।  
6



उन शिक्षकों का पता लगाएं जो डॉक्टर हैं और भारतीय नहीं हैं।

- Ans
- ✗ 1. 5
  - ✓ 2. 4
  - ✗ 3. 2
  - ✗ 4. 7

Question ID : 9895808892  
Chosen Option : 2

Q.1 उस विकल्प का चयन करें जो सही रूप में रिक्त स्थान की पूर्ति करते हुए श्रृंखला को पूरा करें।  
7

RQS, SOQ, TMO, \_\_\_\_\_

- Ans
- ✗ 1. SMN
  - ✓ 2. UKM
  - ✗ 3. ULP
  - ✗ 4. XCV

Question ID : 9895808868  
Chosen Option : 2

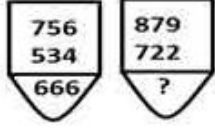
Q.1 दिए गए विकल्पों में से संबंधित शब्द युगल का चयन करें।  
8

उपन्यास: उपन्यासकार :: \_\_\_\_\_ : \_\_\_\_\_

- Ans
- ✓ 1. पुस्तक : लेखक
  - ✗ 2. टेलीविजन : पत्रकार
  - ✗ 3. प्रकाशन : स्तंभकार
  - ✗ 4. संगीत : नृत्य

Question ID : 9895808872

Q.1 दिए गए विकल्पों में से लुप्त संख्या ज्ञात करें।



- Ans
- 1. 482
  - 2. 471
  - 3. 571
  - 4. 562

Question ID : 9895808885  
Chosen Option : 2

Q.2 उस विकल्प का चयन करें जो सही रूप में रिक्त स्थान की पूर्ति करते हुए श्रृंखला को पूरा करें।

35, 42, 33, 40, 31, \_\_\_\_\_

- Ans
- 1. 35
  - 2. 29
  - 3. 31
  - 4. 33

Question ID : 9895808881  
Chosen Option : 2

Q.2 उस विकल्प का चयन करें जो तीसरे पद से उसी तरह संबंधित है जिस प्रकार दूसरा पद पहले पद से संबंधित है।

लकड़ी : बढ़ई :: लोहा : \_\_\_\_\_

- Ans
- 1. किसान
  - 2. सुनार
  - 3. लोहार
  - 4. दर्जी

Question ID : 9895808871  
Chosen Option : 3

Q.2 चार शब्द दिए गए हैं, जिनमें से तीन किसी तरह से समान हैं, जबकि एक अलग है। असंगत शब्द का चयन करें।

- Ans
- 1. मिलीमीटर
  - 2. डेसीमीटर
  - 3. किलोमीटर
  - 4. एम्मीटर

Question ID : 9895808870



Q.2 उस विकल्प का चयन करें जो तीसरे पद से उसी तरह संबंधित है जिस प्रकार दूसरा पद पहले पद से संबंधित है।

3

RA : IZ :: SQ : ?

- Ans
- 1. XC
  - 2. HJ
  - 3. RS
  - 4. OT

Question ID : 9895808873

Chosen Option : 2

Q.2 चार विकल्प दिए गए हैं, जिनमें से तीन किसी तरह से समान हैं, जबकि एक अलग है। असंगत विकल्प का चयन करें।

4

- Ans
- 1. 8 - 19
  - 2. 10 - 33
  - 3. 9 - 30
  - 4. 7 - 24

Question ID : 9895808884

Chosen Option : 1

Q.2 उस विकल्प आकृति का चयन करें, जिसमें प्रश्न आकृति छिपी हुई / अंतर्निहित है।

5

प्रश्न आकृति:



Ans

- 1.
- 2.
- 3.
- 4.

Question ID : 9895808889

Chosen Option : 4

Q.2 फतेहपुर सीकरी में बुलंद दरवाजा किसने बनवाया?

6

- Ans
- 1. जहांगीर
  - 2. हुमायूं



3. शाहजहाँ

4. अकबर

Question ID : 9895808940  
Chosen Option : 4

Q.2  
7 डेंगू के समय रक्तसाव \_\_\_\_\_ की संख्या में कमी के कारण होता है।

Ans  1. प्लाज़्मा

2. लाला रुधिर कणिकाओं

3. श्वेत रुधिर कणिकाओं

4. प्लेटलेट्स

Question ID : 9895808934  
Chosen Option : 4

Q.2  
8 अंडे को सिरके के विलयन में 20-24 घंटे तक रखने पर क्या होगा?

Ans  1. अंडे का आवरण टूट जाएगा

2. अंडे का आवरण घुल जाएगा

3. अंडे के आवरण का आकार बढ़ जाएगा

4. अंडे का आवरण सिकुड़ जाएगा

Question ID : 9895808935  
Chosen Option : 1

Q.2  
9 प्रसिद्ध महाकाव्य 'पद्मावत' किसने लिखा?

Ans  1. अमीर खुसरो

2. मलिक मुहम्मद जायसी

3. ख्वाज़ा मुइनुद्दीन चिश्ती

4. अबुल फज़ल

Question ID : 9895808925  
Chosen Option : 2

Q.3  
0 यथा नवंबर 2018, मैरी कॉम विश्व चैम्पियनशिप में \_\_\_\_\_ स्वर्ण पदक जीतने वाली पहली महिला मुक्केबाज हैं।

Ans  1. 9

2. 6

3. 8

4. 7

Question ID : 9895808922

Chosen Option : 4

Q.3  
1 दशहरा के समय दुर्गा पूजा के लिए पश्चिम बंगाल में किया जाता नृत्य \_\_\_\_\_ है।

- Ans
- 1. किककली
  - 2. तेरा ताली
  - 3. धुनाची
  - 4. कोलाट्टम

Question ID : 9895808919

Chosen Option : 4

Q.3  
2 वर्तमान विश्व शतरंज चैम्पियनशिप 2018 का खिताब किसके पास है?

- Ans
- 1. मैग्नस कार्लसन
  - 2. विश्वनाथन आनंद
  - 3. फाबियानो कारुआना
  - 4. सर्गेई कार्जकिन

Question ID : 9895808921

Chosen Option : 2

Q.3  
3 निम्न में से किस देश की सकल राष्ट्रीय आय (GNI) की स्थिति भारत की तुलना में बेहतर है?

- Ans
- 1. नेपाल
  - 2. पाकिस्तान
  - 3. बांग्लादेश
  - 4. श्रीलंका

Question ID : 9895808928

Chosen Option : 4

Q.3  
4 मयूर नृत्य या पीकोक डांस किस राज्य के ब्रज क्षेत्र से संबंध रखता है?

- Ans
- 1. उत्तर प्रदेश
  - 2. आंध्रप्रदेश
  - 3. बिहार
  - 4. ओडीशा

Question ID : 9895808918

Chosen Option : 4

Q.3  
5

दुनिया की पहली भूमिगत रेलवे प्रणाली \_\_\_\_\_ में शुरू की गई थी।

- Ans
- 1. मास्को
  - 2. वाशिंगटन
  - 3. लंदन
  - 4. पेरिस

Question ID : 9895808942  
Chosen Option : 1

Q.3  
6 भारत की सबसे लंबी उन्नत (एलिवेटेड) रोड \_\_\_\_\_ में स्थित है।

- Ans
- 1. वाराणसी
  - 2. लखनऊ
  - 3. आगरा
  - 4. गाज़ियाबाद

Question ID : 9895808924  
Chosen Option : 2

Q.3  
7 जल संचयन का मुख्य उद्देश्य क्या है?

- Ans
- 1. भूगर्भ के जल का पुनर्संचयन
  - 2. बांध बनाना
  - 3. भूतल पर जल का संरक्षण
  - 4. मृदा अपरदन को रोकना

Question ID : 9895808933  
Chosen Option : 1

Q.3  
8 राज्यसभा का अध्यक्ष कौन होता है?

- Ans
- 1. प्रधानमंत्री
  - 2. राष्ट्रपति
  - 3. उप राष्ट्रपति
  - 4. नेता प्रतिपक्ष

Question ID : 9895808929  
Chosen Option : 3

Q.3  
9 भूमि से घिरा हुआ भारत का सबसे बड़ा बंदरगाह निम्न में से कौन सा है?

- Ans
- 1. विशाखापत्तनम

2. तूतीकोरिन

3. मारमुगाओ

4. कांदला

Question ID : 9895808939  
Chosen Option : 1

Q.4  
0 अनुच्छेद 21A \_\_\_\_\_ संबंधित है।

Ans  1. धार्मिक स्वतंत्रता के अधिकार से

2. शोषण के विरुद्ध अधिकार से

3. संवैधानिक उपचार से

4.

छह से चौदह वर्ष की आयु के सभी बच्चों को मुफ्त और अनिवार्य शिक्षा का अधिकार से

Question ID : 9895808931  
Chosen Option : 2

Q.4  
1 NSSO का पूर्णरूप क्या है?

Ans  1. नेशनल सोशल सर्विस संगठन

2. नेशनल सेल सर्विस संगठन

3. नेशनल सेम्पल सर्वे संगठन

4. नेशनल स्टैटिस्टिकल सर्वे संगठन

Question ID : 9895808926  
Chosen Option : 1

Q.4  
2 द्वितीय गोलमेज सम्मेलन \_\_\_\_\_ में हुआ।

Ans  1. दिसंबर 1930

2. दिसंबर 1932

3. दिसंबर 1929

4. दिसंबर 1931

Question ID : 9895808941  
Chosen Option : 4

Q.4  
3 भारत के संविधान में आरंभ के समय कितने अनुच्छेद थे?

Ans  1. 395

2. 392

✗ 3. 394

✗ 4. 393

Question ID : 9895808930  
Chosen Option : 1

Q.4  
4 निम्न में से कौन सी एक खरीफ की फसल नहीं है?

Ans ✗ 1. बाजरा

✓ 2. जौ

✗ 3. ज्वार

✗ 4. मक्का

Question ID : 9895808937  
Chosen Option : 2

Q.4  
5 भारत में 12वीं पंचवर्षीय योजना की अवधि निम्न \_\_\_\_\_ थी।

Ans ✗ 1. 2013 से 2018

✓ 2. 2012 से 2017

✗ 3. 2011 से 2016

✗ 4. 2010 से 2015

Question ID : 9895808927  
Chosen Option : 2

Q.4  
6 पालक में प्राकृतिक उत्पाद के रूप में \_\_\_\_\_ एसिड का असामान्य रूप से उच्च प्रतिशत होता है।

Ans ✗ 1. दुग्धाम्ल

✓ 2. ऑक्सालिक अम्ल

✗ 3. साइट्रिक अम्ल

✗ 4. टारटरिक अम्ल

Question ID : 9895808932  
Chosen Option : 4

Q.4  
7 22 दिसंबर को \_\_\_\_\_ के रूप में मनाया जाता है।

Ans ✓ 1. राष्ट्रीय गणित दिवस

✗ 2. राष्ट्रीय विज्ञान दिवस

✗ 3. राष्ट्रीय साक्षरता दिवस

✗ 4. राष्ट्रीय तकनीकी दिवस

Question ID : 9895808923  
Chosen Option : 2

Q.4  
8 राजस्थान के जयपुर क्षेत्र में कौन सा किला अपने कलात्मक हिंदू शैली के तत्वों के लिए जाना जाता है और यह विश्व धरोहर स्थल भी है?

- Ans
- 1. चित्तौड़गढ़ का किला
  - 2. ग्वालियर का किला
  - 3. मेहरानगढ़ का किला
  - 4. अंबर का किला

Question ID : 9895808920  
Chosen Option : 1

Q.4  
9 चाय का सबसे बड़ा उत्पादक देश निम्न में से कौन सा है?

- Ans
- 1. चीन
  - 2. ब्राज़ील
  - 3. भारत
  - 4. तुर्की

Question ID : 9895808938  
Chosen Option : 3

Q.5  
0 निम्न में से कौन सी आहार श्रृंखला सही है?

- Ans
- 1. घास-खरगोश-सांप-शेर
  - 2. घास-चूहा-सांप-बाज़
  - 3. घास-खरगोश-सांप-बाज़-शेर
  - 4. घास-हिरन-सांप-शेर

Question ID : 9895808936  
Chosen Option : 3

Q.5  
1 सरलीकृत करें:

$$999 + 111 \times 0.5 = ?$$

- Ans
- 1. 1110.5
  - 2. 500
  - 3. 555
  - 4. 1054.5

Question ID : 9895809044  
Chosen Option : 4

Q.5



2 A, B, C और D के बीच क्रमशः 3 : 4 : 9 : 10 के अनुपात में एक धनराशि बांटी जाती है। यदि D का हिस्सा A के हिस्से से ₹ 3612 अधिक है तो A और D के पास कुल मिलाकर कितनी राशि है?

Ans

1. ₹ 6228

2. ₹ 6568

3. ₹ 6028

4. ₹ 6708

Question ID : 9895809055  
Chosen Option : 4

Q.5  
3 यदि A किसी काम को 30 दिनों में पूरा कर सकता है और B उसी काम को 20 दिनों में पूरा कर सकता है, तो A और B मिलकर उसी काम को कितने दिनों में पूरा करेंगे?

Ans

1. 15 दिन

2. 20 दिन

3. 18 दिन

4. 12 दिन

Question ID : 9895809058  
Chosen Option : 4

Q.5  
4 यदि एक लड़का अपने घर से 8 km/hr की चाल से स्कूल जाता है तो उसे 30 मिनट की देरी होती है और यदि वह 12 km/hr की चाल से जाता है तो समय पर पहुंच जाता है। उसके घर से उसके स्कूल की दूरी \_\_\_\_\_ है।

Ans

1. 18 km

2. 10 km

3. 12 km

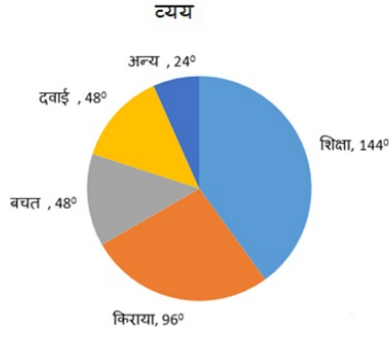
4. 15 km

Question ID : 9895809060  
Chosen Option : 3

Q.5  
5



निर्देश: निम्नलिखित प्रश्न दिए गए पाई चार्ट पर आधारित हैं। पाई चार्ट विभिन्न मदों पर श्री सचिन के मासिक खर्च को दर्शाता है। चार्ट का अध्ययन करें और दिए गए प्रश्नों के उत्तर दें।



यदि श्री सचिन की मासिक आय ₹ 48000 हो तो किराए पर 2 वर्षों का व्यय \_\_\_\_\_ होगा।

Ans

- ✓ 1. ₹ 307200  
✗ 2. ₹ 148000  
✗ 3. ₹ 308200  
✗ 4. ₹ 153600

Question ID : 9895809065  
Chosen Option : 1

Q.5 एक समचतुर्भुज का क्षेत्रफल  $175 \text{ cm}^2$  है। एक विकर्ण की लंबाई 25 cm है। दूसरे विकर्ण की लंबाई क्या है?

Ans

- ✗ 1. 12 cm  
✓ 2. 14 cm  
✗ 3. 10 cm  
✗ 4. 15 cm

Question ID : 9895809063  
Chosen Option : 3

Q.5 एक स्कूल के वार्षिक समारोह में लड़कों और लड़कियों का अनुपात 1 : 2 था, लेकिन जब 10 लड़के और 10 लड़कियां चली गयी, तो अनुपात 2 : 5 हो गया। मूल रूप से वार्षिक समारोह में कुल कितने छात्र थे?

Ans

- ✗ 1. 102  
✗ 2. 84  
✗ 3. 96  
✓ 4. 90

Question ID : 9895809054  
Chosen Option : 4

Q.5  
8 ₹ 72 में एक वस्तु को बेचने पर 10% की हानि होती है। 5% का लाभ पाने के लिए उसे इसे कितने में बेचना चाहिए?

- Ans
- 1. ₹ 85
  - 2. ₹ 87
  - 3. ₹ 84
  - 4. ₹ 80

Question ID : 9895809052  
Chosen Option : 3

Q.5  
9 एक आयताकार क्षेत्र की लंबाई 1200 m और चौड़ाई 500 m है। ₹ 25 per m की दर से इसके विकर्ण के साथ एक सड़क बनाई जानी है। सड़क बनाने की लागत क्या है?

- Ans
- 1. ₹ 28400
  - 2. ₹ 32500
  - 3. ₹ 25600
  - 4. ₹ 35000

Question ID : 9895809062  
Chosen Option : 2

Q.6  
0 सरलीकृत करें:

$$4 \times 12 + 699 = ?$$

- Ans
- 1. 655
  - 2. 747
  - 3. 670
  - 4. 630

Question ID : 9895809045  
Chosen Option : 2

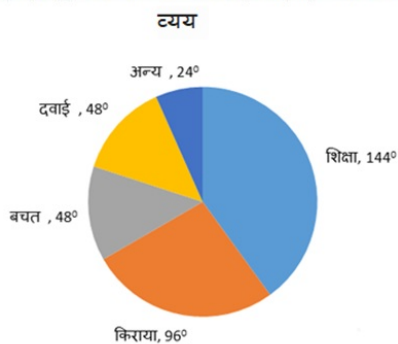
Q.6  
1 किसी वस्तु को एक निश्चित मूल्य पर बेचने से एक व्यक्ति को 20% का लाभ होता है। यदि वह इसे क्रय मूल्य के दोगुने दाम पर बेचता है, तो पुराने विक्रय मूल्य का प्रतिशत लाभ क्या होगा?

- Ans
- 1. 120%
  - 2. 100%
  - 3. 40%
  - 4.  $66\frac{2}{3}\%$

Question ID : 9895809051

Chosen Option : 4

Q.6 निर्देश: निम्नलिखित प्रश्न दिए गए पाई चार्ट पर आधारित हैं। पाई चार्ट विभिन्न मदों पर श्री सचिन के मासिक खर्च को दर्शाता है। चार्ट का अध्ययन करें और दिए गए प्रश्नों के उत्तर दें।



बचत एवं शिक्षा पर व्यय का अनुपात क्या होगा?

Ans

1. 2 : 3

2. 1 : 1

3. 3 : 4

4. 1 : 3

Question ID : 9895809066

Chosen Option : 4

Q.6 एक व्यापारी अपने माल को अंकित मूल्य के 10% छूट पर बेचता है। यदि माल का क्रय मूल्य ₹ 900 हो, तो 10% का लाभ प्राप्त करने के लिए उसे माल का अंकित मूल्य कितना रखना चाहिए?

Ans

1. ₹ 1175

2. ₹ 1275

3. ₹ 1250

4. ₹ 1100

Question ID : 9895809048

Chosen Option : 4

Q.6 किसी संख्या का 40 प्रतिशत 147.2 है। उसी संख्या का 25% \_\_\_\_\_ है।

Ans

1. 62

2. 61

3. 92

✗ 4. 58

Question ID : 9895809050

Chosen Option : 3

Q.6  
5 एक दिन में 7 घंटे काम करने वाले 60 लड़के 18 दिनों में एक काम को कर सकते हैं। एक दिन में 9 घंटे काम करने वाले 28 लड़के उसी काम को कितने दिनों में करेंगे?

Ans

✓ 1. 30 दिन

✗ 2. 40 दिन

✗ 3. 20 दिन

✗ 4. 25 दिन

Question ID : 9895809059

Chosen Option : 1

Q.6  
6 8 cm और 10 cm त्रिज्याएँ और 21 cm ऊँचाई वाले एक शंकु के छिन्नक का आयतन क्या है? ( $\pi = \frac{22}{7}$  लीजिए)

Ans

✗ 1. 4328 cm<sup>3</sup>✗ 2. 6112 cm<sup>3</sup>✓ 3. 5368 cm<sup>3</sup>✗ 4. 4816 cm<sup>3</sup>

Question ID : 9895809064

Chosen Option : 2

Q.6  
7 11, 9, 18, 35, 42, 26, 4, 19 और 31 की सीमा क्या है?

Ans

✗ 1. 42

✗ 2. 4

✗ 3. 26

✓ 4. 38

Question ID : 9895809049

Chosen Option : 1

Q.6  
8 एक विद्यालय में 468 विद्यार्थी हैं जिनमें लड़कों और लड़कियों की संख्या का अनुपात 5 : 4 है। लड़कों और लड़कियों की संख्या का अनुपात 1 : 1 करने के लिए कितनी ओर लड़कियों को विद्यालय में सम्मिलित होना चाहिए?

Ans

✗ 1. 56

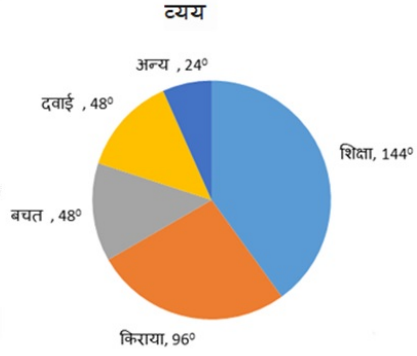
✗ 2. 50

✓ 3. 52

✗ 4. 48

Question ID : 9895809053  
Chosen Option : 3

Q.6 निर्देश: निम्नलिखित प्रश्न दिए गए पाई चार्ट पर आधारित हैं। पाई चार्ट विभिन्न मदों पर श्री सचिन के मासिक खर्च को दर्शाता है। चार्ट का अध्ययन करें और दिए गए प्रश्नों के उत्तर दें।



दवाई पर खर्च, कुल खर्च का लगभग कितना प्रतिशत है?

Ans

✓ 1. 13.33%

✗ 2. 36%

✗ 3. 12.5%

✗ 4. 14%

Question ID : 9895809067  
Chosen Option : 1

Q.7 सबसे छोटी पूर्ण घन संख्या कौन सी है जो 5, 10 और 15 से विभाज्य है?

Ans

✗ 1. 24000

✗ 2. 21000

✗ 3. 64000

✓ 4. 27000

Question ID : 9895809043  
Chosen Option : 2

Q.7 40 छात्रों द्वारा प्राप्त किए गए अंको का औसत 160 था। बाद में पता चला कि एक छात्र के 165 अंक को गलती से 125 लिखा गया था। सही औसत \_\_\_\_\_ है।

Ans

1. 160

2. 161

3. 162

4. 163

Question ID : 9895809047  
Chosen Option : 2

Q.7  
2 एक निश्चित राशि पर 10% वार्षिक दर से 2 वर्षों में चक्रवृद्धि और साधारण ब्याज के बीच का अंतर ₹ 42 है, जबकि ब्याज वार्षिक संयोजित होता है। राशि क्या है?

Ans  1. ₹ 8400

2. ₹ 5200

3. ₹ 4200

4. ₹ 2100

Question ID : 9895809057  
Chosen Option : 3

Q.7  
3 10 से 20 तक सम संख्याओं का औसत \_\_\_\_\_ है।

Ans  1. 15

2. 12

3. 14

4. 16

Question ID : 9895809046  
Chosen Option : 1

Q.7  
4 10 वर्षों में 5% प्रतिवर्ष साधारण ब्याज की दर से किस राशि का ब्याज ₹ 120 होगा (₹ में)?

Ans  1. ₹ 280

2. ₹ 350

3. ₹ 360

4. ₹ 240

Question ID : 9895809056

Q.7 एक ट्रेन 36 सेकंड में एक स्टेशन प्लेटफार्म और 20 सेकंड में प्लेटफार्म पर खड़े एक आदमी को पार करती है। यदि ट्रेन की चाल 72 km/hr है। ट्रेन की लंबाई क्या है?

Ans

✓ 1. 320 मीटर

✗ 2. 120 मीटर

✗ 3. 240 मीटर

✗ 4. 360 मीटर

Question ID : 9895809061

Chosen Option : 1

Section : English Language

Q.1 Select the antonym of the given word.

TREACHEROUS

Ans

✗ 1. Disloyal

✗ 2. Unfaithful

✗ 3. Deceitful

✓ 4. Faithful

Question ID : 9895809188

Chosen Option : --

Q.2 Select the meaning of the given idiom.

A man of spirit is

Ans

✓ 1. A very talented man

✗ 2. A spiritual person

✗ 3. A unique person

✗ 4. A very courageous man

Question ID : 9895809191

Chosen Option : --

Q.3 Select the most appropriate option to substitute the underlined segment in the given sentence. If there is no need to substitute it, select No substitution required.

Scientific discoveries is often result of hard work by many people.

Ans

✗ 1. is result

✗ 2. are resulted



3. are often a result

4. No substitution required

Question ID : 9895809175

Chosen Option : --

Q.4 Select the meaning of the given idiom.

*Fool's paradise*

Ans  1. unexpected gain

2. deceptive happiness

3. foolish idea

4. imaginary idea

Question ID : 9895809190

Chosen Option : --

Q.5 Select the synonym of the given word.

PRECISE

Ans  1. Erroneous

2. Accurate

3. Inaccurate

4. Ambiguous

Question ID : 9895809187

Chosen Option : --

Q.6 Select the antonym of the given word.

REVEAL

Ans  1. Disclose

2. Praise

3. Hide

4. Show

Question ID : 9895809189

Chosen Option : --

Q.7 Select the most appropriate option to substitute the underlined segment in the given sentence. If there is no need to substitute it, select No substitution required.

When a plastic comb is rubbed with dry hair, they acquired a static charge.

Ans  1. it acquired

- 2. they acquire an
- 3. it acquires a
- 4. No substitution required

Question ID : 9895809176  
Chosen Option : --

Q.8 Select the wrongly spelt word.

- Ans
- 1. Suspicious
  - 2. Sustain
  - 3. Schedule
  - 4. Secretary

Question ID : 9895809194  
Chosen Option : --

Q.9 Identify the segment in the sentence which contains the grammatical error from the given options.

The sense of sight is one of the most important senses gift to us.

- Ans
- 1. most important
  - 2. The sense
  - 3. gift to us
  - 4. is one of the

Question ID : 9895809172  
Chosen Option : --

Q.10 Select the most appropriate word to fill in the blank.

A major earthquake \_\_\_\_\_ in India on 8 October 2005 in Uri.

- Ans
- 1. is occurring
  - 2. occurs
  - 3. occurred
  - 4. has been occurring

Question ID : 9895809178  
Chosen Option : --

Comprehension:

In the following passage some words have been deleted. Fill in the blanks with the help of the alternatives given. Select the most appropriate option for each number.

Life of the people of the Amazon basin is slowly (1) \_\_\_\_\_. In the older days the (2) \_\_\_\_\_ of the forest could be reached only by (3) \_\_\_\_\_ the river. In 1970 the Trans Amazon highway (4) \_\_\_\_\_ all parts of the rainforest (5) \_\_\_\_\_.

SubQuestion No : 11

Q.1  
1 Select the most appropriate option that will fill in the blank number 1

- Ans
- 1. steadying
  - 2. changing
  - 3. simplifying
  - 4. modifying

Question ID : 9895809181  
Chosen Option : --

Comprehension:

In the following passage some words have been deleted. Fill in the blanks with the help of the alternatives given. Select the most appropriate option for each number.

Life of the people of the Amazon basin is slowly (1) \_\_\_\_\_. In the older days the (2) \_\_\_\_\_ of the forest could be reached only by (3) \_\_\_\_\_ the river. In 1970 the Trans Amazon highway (4) \_\_\_\_\_ all parts of the rainforest (5) \_\_\_\_\_.

SubQuestion No : 12

Q.1  
2 Select the most appropriate option that will fill in the blank number 2

- Ans
- 1. heart
  - 2. thick
  - 3. deep
  - 4. core

Question ID : 9895809182  
Chosen Option : --

Comprehension:

In the following passage some words have been deleted. Fill in the blanks with the help of the alternatives given. Select the most appropriate option for each number.

Life of the people of the Amazon basin is slowly (1) \_\_\_\_\_. In the older days the (2) \_\_\_\_\_ of the forest could be reached only by (3) \_\_\_\_\_ the river. In 1970 the Trans Amazon highway (4) \_\_\_\_\_ all parts of the rainforest (5) \_\_\_\_\_.

SubQuestion No : 13

Q.1  
3 Select the most appropriate option that will fill in the blank number 3

- Ans
- 1. journeying
  - 2. swimming
  - 3. navigating
  - 4. boating

Question ID : 9895809183  
Chosen Option : --

Comprehension:

In the following passage some words have been deleted. Fill in the blanks with the help of the alternatives given. Select the most appropriate option for each number.

Life of the people of the Amazon basin is slowly (1) \_\_\_\_\_. In the older days the (2) \_\_\_\_\_ of the forest could be reached only by (3) \_\_\_\_\_ the river. In 1970 the Trans Amazon highway (4) \_\_\_\_\_ all parts of the rainforest (5) \_\_\_\_\_.

SubQuestion No : 14

Q.1  
4 Select the most appropriate option that will fill in the blank number 4

- Ans
- 1. was making
  - 2. make
  - 3. made
  - 4. is making

Question ID : 9895809184  
Chosen Option : --

Comprehension:



In the following passage some words have been deleted. Fill in the blanks with the help of the alternatives given. Select the most appropriate option for each number.

Life of the people of the Amazon basin is slowly (1) \_\_\_\_\_. In the older days the (2) \_\_\_\_\_ of the forest could be reached only by (3) \_\_\_\_\_ the river. In 1970 the Trans Amazon highway (4) \_\_\_\_\_ all parts of the rainforest (5) \_\_\_\_\_.

SubQuestion No : 15

Q.1  
5 Select the most appropriate option that will fill in the blank number 5

- Ans
- 1. accessible
  - 2. restricted
  - 3. operative
  - 4. possible

Question ID : 9895809185

Chosen Option : --

Q.1  
6 Select the word which means the same as the group of words given.

Not connected with religious or spiritual matters.

- Ans
- 1. Secular
  - 2. Communal
  - 3. Veteran
  - 4. Atheist

Question ID : 9895809193

Chosen Option : --

Q.1  
7 Select the wrongly spelt word.

- Ans
- 1. Recommend
  - 2. Reception
  - 3. Representative
  - 4. Ridicullous

Question ID : 9895809195

Chosen Option : --

Q.1  
8 Select the most appropriate word to fill in the blank.

Tin cans, used for storing food, are made \_\_\_\_\_ electroplating tin onto iron.

Ans

- 1. of
- 2. with
- 3. to
- 4. by

Question ID : 9895809179  
Chosen Option : --

Q.1  
9 Select the most appropriate word to fill in the blank.

The great advantage of early rising is the good \_\_\_\_\_ it gives us to our day.

- Ans
- 1. start
  - 2. kick
  - 3. humour
  - 4. sense

Question ID : 9895809197  
Chosen Option : --

Q.2  
0 Identify the segment in the sentence which contains the grammatical error from the given options.

Some people lose their eyesights because of a disease or injury.

- Ans
- 1. Some people
  - 2. because of
  - 3. disease or injury
  - 4. their eyesights

Question ID : 9895809173  
Chosen Option : --

Q.2  
1 Select the most appropriate word to fill in the blank.

The new textile policy lays great emphasis on stabilizing cotton prices to \_\_\_\_\_ the interest of cotton growers.

- Ans
- 1. improve
  - 2. protect
  - 3. raise
  - 4. diversify

Question ID : 9895809196  
Chosen Option : --

Q.2  
2 Select the word which means the same as the group of words given.

An animal that lives by killing and eating other animals

- Ans
- 1. Quadruped
  - 2. Biped
  - 3. Predator
  - 4. Amphibian

Question ID : 9895809192  
Chosen Option : --

Q.2 Select the most appropriate option to substitute the underlined segment in the given sentence. If there is no need to substitute it, select No substitution required.

Carrying an umbrella is not at all a good idea during thunderstorms.

- Ans
- 1. Carry umbrella
  - 2. To carry the umbrella
  - 3. No substitution required
  - 4. Carrying a umbrella

Question ID : 9895809177  
Chosen Option : --

Q.2 Select the synonym of the given word.

VAGUE

- Ans
- 1. Precise
  - 2. Definite
  - 3. Unclear
  - 4. Incomplete

Question ID : 9895809186  
Chosen Option : --

Q.2 Identify the segment in the sentence which contains the grammatical error from the given options.

Many Indian languages can be reading using the Braille system.

- Ans
- 1. the Braille
  - 2. Many Indian
  - 3. can be reading
  - 4. using

Question ID : 9895809174  
Chosen Option : --

Section : Hindi Language

Q.1



रिक्त स्थान को भरने के लिए उपयुक्त शब्द का चयन करें।

वह \_\_\_\_\_ चालाक है।

- Ans
- 1. मंद
  - 2. ठोस
  - 3. बहुत
  - 4. दृढ़

Question ID : 9895807132  
Chosen Option : 3

Q.2 दिए गए वाक्य का वह भाग ज्ञात करें जिसमें कोई त्रुटि है।

पिछले डेढ़ दशक के दौरान बैंकिंग जगत में तेजी परिवर्तन हुए हैं।

- Ans
- 1. के दौरान
  - 2. तेजी परिवर्तन हुए हैं।
  - 3. बैंकिंग जगत में
  - 4. पिछले डेढ़ दशक

Question ID : 9895807126  
Chosen Option : 2

Q.3 'मुँह की खाना' मुहावरे का अर्थ है -

- Ans
- 1. नष्ट करना
  - 2. बुरी तरह हारना
  - 3. पराजित करना
  - 4. उदास होना

Question ID : 9895807146  
Chosen Option : 2

Q.4 रिक्त स्थान को भरने के लिए उपयुक्त शब्द का चयन करें।

जिस वाक्य में एक उद्देश्य \_\_\_\_\_ समीपिका क्रिया होती है उसे सरल वाक्य कहा जाता है।

- Ans
- 1. इसलिए
  - 2. और
  - 3. क्योंकि
  - 4. यद्यपि

Question ID : 9895807134

Chosen Option : 2

Q.5 'जो स्मरण रखने योग्य हो' के लिए एक शब्द है-

- Ans
- 1. स्मरणीय
  - 2. स्मृति
  - 3. याददाश्त
  - 4. स्मरण

Question ID : 9895807148

Chosen Option : 1

Q.6 रिक्त स्थान को भरने के लिए उपयुक्त शब्द का चयन करें।

तालाब \_\_\_\_\_ पानी भरा है।

- Ans
- 1. पर
  - 2. को
  - 3. के
  - 4. में

Question ID : 9895807133

Chosen Option : 4

Q.7 सही वर्तनी वाले शब्द का चयन करें।

- Ans
- 1. अशिवाद
  - 2. आशीर्वाद
  - 3. आर्शिवाद
  - 4. अर्शिवाद

Question ID : 9895807149

Chosen Option : 2

Q.8 दिए गए वाक्य में रेखांकित खंड को प्रतिस्थापित करने के लिए उपयुक्त विकल्प का चयन करें।

उसके दाँत मोती की तरह चमकते हैं ।

- Ans
- 1. मुक्ता
  - 2. मूँगे
  - 3. माणिक
  - 4. हीरे

Question ID : 9895807130

Chosen Option : 4

Q.9 "जिसका कोई शत्रु न हो" के लिए एक शब्द है-

- Ans
- 1. अज्ञातशत्रु
  - 2. अजातशत्रु
  - 3. अल्पशत्रु
  - 4. बहुशत्रु

Question ID : 9895807147  
Chosen Option : 2

Q.1  
0 'पहाड़' का पर्यायवाची शब्द है-

- Ans
- 1. जलधर
  - 2. भास्कर
  - 3. सरित
  - 4. भूधर

Question ID : 9895807143  
Chosen Option : 4

Q.1  
1 'लाल-पीला होना' मुहावरे का अर्थ है -

- Ans
- 1. विरोध करना
  - 2. झूठ बोलना
  - 3. बहुत गुस्सा करना
  - 4. प्रसन्न होना

Question ID : 9895807145  
Chosen Option : 3

Q.1  
2 'आम' का पर्यायवाची शब्द है-

- Ans
- 1. अम्बर
  - 2. फल
  - 3. पिक
  - 4. रसाल

Question ID : 9895807144  
Chosen Option : 4

Q.1  
3 दिए गए वाक्य का वह भाग ज्ञात करें जिसमें कोई त्रुटि है।

सिपाहियों ने अपराधी को कुत्तों का तरह घसीटा।

- Ans
- 1. अपराधी को
  - 2. सिपाहियों ने
  - 3. घसीटा।
  - 4. कुत्तों का तरह

Question ID : 9895807125  
Chosen Option : 4

Q.1  
4 रिक्त स्थान को भरने के लिए उपयुक्त शब्द का चयन करें।

दुर्जन दूसरों के दुख का \_\_\_\_\_ नहीं समझ सकता।

- Ans
- 1. करुणा
  - 2. कर्म
  - 3. मर्म
  - 4. उद्देश्य

Question ID : 9895807131  
Chosen Option : 3

Q.1  
5 दिए गए वाक्य में रेखांकित खंड को प्रतिस्थापित करने के लिए उपयुक्त विकल्प का चयन करें।

वह अपने कार्य में समर्थ है।

- Ans
- 1. चालाक
  - 2. परायण
  - 3. अक्षम
  - 4. सक्षम

Question ID : 9895807128  
Chosen Option : 4

Q.1  
6 'निर्गुण' का विलोम शब्द चयन करें।

- Ans
- 1. निराकार
  - 2. सगुण
  - 3. दुर्गुण
  - 4. निपुण

Question ID : 9895807141  
Chosen Option : 2

Q.1  
7 सही वर्तनी वाले शब्द का चयन करें।

- Ans
- 1. हस्तक्षर

2. हास्तक्षर  
 3. हस्ताक्षर  
 4. हस्ताक्षर

Question ID : 9895807150  
Chosen Option : 3

Q.1 दिए गए वाक्य में रेखांकित खंड को प्रतिस्थापित करने के लिए उपयुक्त विकल्प का चयन करें।

गर्मियों में सूर्य तपता है।

- Ans  1. दिवाकर  
 2. सुधाकर  
 3. रत्नाकर  
 4. पद्माकर

Question ID : 9895807129  
Chosen Option : 1

Q.1 'उचित' का विलोम शब्द है -

- Ans  1. अच्छा  
 2. गलत  
 3. अनुचित  
 4. सूचित

Question ID : 9895807142  
Chosen Option : 3

Q.2 दिए गए वाक्य का वह भाग ज्ञात करें जिसमें कोई त्रुटि है।

मैंने श्री रामलाल जी के सहयोग के लिए उनका अत्यंत आभारी हूँ।

- Ans  1. सहयोग के लिए  
 2. आभारी हूँ  
 3. मैंने श्री रामलाल जी के  
 4. उनका अत्यंत

Question ID : 9895807127  
Chosen Option : 3

Comprehension:



निम्नलिखित गद्यांश के रिक्त स्थानों की पूर्ति गद्यांश के नीचे दिए गए प्रश्नों के अनुसार कीजिए-

जनता को राजनीतिक विषयों की शिक्षा तभी \_\_\_\_\_ (1) रूप से प्राप्त हो सकती है जबकि उसे विभिन्न प्रकार की विचारधाराओं को भली-भाँति समझने और उनमें \_\_\_\_\_ (2) करने का अवसर मिले। राज्य का कर्तव्य है कि वह जनता को ऐसी मौलिक शिक्षा प्रदान करे जिससे उसमें \_\_\_\_\_ (3) की क्षमता आ सके। इसमें \_\_\_\_\_ (4) शिक्षा का सबसे महत्वपूर्ण स्थान है। अगर हम साहस के साथ \_\_\_\_\_ (5) होकर अपने कर्तव्य का पालन करेंगे तो निःसन्देह हमारा भविष्य उज्ज्वल है।

SubQuestion No : 21

Q.2  
1 गद्यांश में संकेतित रिक्त स्थान (1) के लिए उपयुक्त शब्द होगा।

- Ans
- 1. अनुचित
  - 2. विस्तृत
  - 3. समुचित
  - 4. सीमित

Question ID : 9895807136  
Chosen Option : 3

Comprehension:

निम्नलिखित गद्यांश के रिक्त स्थानों की पूर्ति गद्यांश के नीचे दिए गए प्रश्नों के अनुसार कीजिए-

जनता को राजनीतिक विषयों की शिक्षा तभी \_\_\_\_\_ (1) रूप से प्राप्त हो सकती है जबकि उसे विभिन्न प्रकार की विचारधाराओं को भली-भाँति समझने और उनमें \_\_\_\_\_ (2) करने का अवसर मिले। राज्य का कर्तव्य है कि वह जनता को ऐसी मौलिक शिक्षा प्रदान करे जिससे उसमें \_\_\_\_\_ (3) की क्षमता आ सके। इसमें \_\_\_\_\_ (4) शिक्षा का सबसे महत्वपूर्ण स्थान है। अगर हम साहस के साथ \_\_\_\_\_ (5) होकर अपने कर्तव्य का पालन करेंगे तो निःसन्देह हमारा भविष्य उज्ज्वल है।

SubQuestion No : 22

Q.2  
2 गद्यांश में संकेतित रिक्त स्थान (2) के लिए उपयुक्त शब्द होगा।

- Ans
- 1. निर्णय
  - 2. प्रलाप
  - 3. गुंजार
  - 4. गर्जना

Question ID : 9895807137  
Chosen Option : 1

Comprehension:

निम्नलिखित गद्यांश के रिक्त स्थानों की पूर्ति गद्यांश के नीचे दिए गए प्रश्नों के अनुसार कीजिए-

जनता को राजनीतिक विषयों की शिक्षा तभी \_\_\_\_\_ (1) रूप से प्राप्त हो सकती है जबकि उसे विभिन्न प्रकार की विचारधाराओं को भली-भाँति समझने और उनमें \_\_\_\_\_ (2) करने का अवसर मिले। राज्य का कर्तव्य है कि वह जनता को ऐसी मौलिक शिक्षा प्रदान करे जिससे उसमें \_\_\_\_\_ (3) की क्षमता आ सके। इसमें \_\_\_\_\_ (4) शिक्षा का सबसे महत्वपूर्ण स्थान है। अगर हम साहस के साथ \_\_\_\_\_ (5) होकर अपने कर्तव्य का पालन करेंगे तो निःसन्देह हमारा भविष्य उज्ज्वल है।

SubQuestion No : 23

Q.2  
3 गद्यांश में संकेतित रिक्त स्थान (3) के लिए उपयुक्त शब्द होगा।

- Ans
- 1. विस्मरण
  - 2. दुःसाहस
  - 3. पतन
  - 4. आत्मनिर्माण

Question ID : 9895807138  
Chosen Option : 4

Comprehension:



निम्नलिखित गद्यांश के रिक्त स्थानों की पूर्ति गद्यांश के नीचे दिए गए प्रश्नों के अनुसार कीजिए-

जनता को राजनीतिक विषयों की शिक्षा तभी \_\_\_\_\_ (1) रूप से प्राप्त हो सकती है जबकि उसे विभिन्न प्रकार की विचारधाराओं को भली-भाँति समझने और उनमें \_\_\_\_\_ (2) करने का अवसर मिले। राज्य का कर्तव्य है कि वह जनता को ऐसी मौलिक शिक्षा प्रदान करे जिससे उसमें \_\_\_\_\_ (3) की क्षमता आ सके। इसमें \_\_\_\_\_ (4) शिक्षा का सबसे महत्वपूर्ण स्थान है। अगर हम साहस के साथ \_\_\_\_\_ (5) होकर अपने कर्तव्य का पालन करेंगे तो निःसन्देह हमारा भविष्य उज्ज्वल है।

SubQuestion No : 24

Q.2  
4 गद्यांश में संकेतित रिक्त स्थान (4) के लिए उपयुक्त शब्द होगा।

- Ans
- 1. धार्मिक
  - 2. पारंपरिक
  - 3. नारी
  - 4. नागरिक

Question ID : 9895807139  
Chosen Option : 4

Comprehension:

निम्नलिखित गद्यांश के रिक्त स्थानों की पूर्ति गद्यांश के नीचे दिए गए प्रश्नों के अनुसार कीजिए-

जनता को राजनीतिक विषयों की शिक्षा तभी \_\_\_\_\_ (1) रूप से प्राप्त हो सकती है जबकि उसे विभिन्न प्रकार की विचारधाराओं को भली-भाँति समझने और उनमें \_\_\_\_\_ (2) करने का अवसर मिले। राज्य का कर्तव्य है कि वह जनता को ऐसी मौलिक शिक्षा प्रदान करे जिससे उसमें \_\_\_\_\_ (3) की क्षमता आ सके। इसमें \_\_\_\_\_ (4) शिक्षा का सबसे महत्वपूर्ण स्थान है। अगर हम साहस के साथ \_\_\_\_\_ (5) होकर अपने कर्तव्य का पालन करेंगे तो निःसन्देह हमारा भविष्य उज्ज्वल है।

SubQuestion No : 25

Q.2  
5 गद्यांश में संकेतित रिक्त स्थान (5) के लिए उपयुक्त शब्द होगा।

Ans

- 1. शक्तिशाली
- 2. सचेत
- 3. अचेत
- 4. संचित

Question ID : 9895807140  
Chosen Option : 2

GovtJobsAlert.In