

Constable (GD) in CAPFs, NIA, SSF and Rifleman (GD) in Assam Rifles Examination, 2018

Roll No. :	GovtJobsAlert.In
Registration No.	GovtJobsAlert.In
Name :	GovtJobsAlert.In
Exam Venue :	Army Childrens academy sr. sec. school
Exam Time :	4:00 PM - 5:30 PM
Exam Date :	08/03/2019

Section : General Section

Q.1 उस विकल्प का चयन करें जो सही रूप में रिक्त स्थान की पूर्ति करते हुए श्रृंखला को पूरा करें।

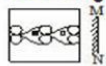
90, 96, 105, 117, 132, _____

- Ans
- 1. 148
 - 2. 142
 - 3. 150
 - 4. 152

Question ID : 9895809236
Chosen Option : 3

Q.2 उस विकल्प का चयन करें जो दर्पण के दायीं ओर रखे जाने पर दि गई आकृति की दर्पण छवि से सर्वाधिक मेल खाता है।

प्रश्न आकृति:

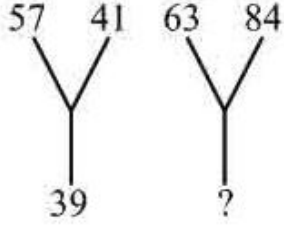


- Ans
- 1.
 - 2.
 - 3.
 - 4.

Question ID : 9895809245
Chosen Option : 1

Q.3

दिए गए विकल्पों में से लुप्त संख्या ज्ञात करें।



- Ans
- 1. 63
 - 2. 50
 - 3. 51
 - 4. 47

Question ID : 9895809240
Chosen Option : 2

Q.4 नीचे दिए गए कथनों के बाद दो निष्कर्ष I और II दिए गए हैं। यह मानते हुए कि कथनों में दी गई जानकारी सत्य है, भले ही वह सर्वज्ञात तथ्यों से भिन्न प्रतीत होती हो और यह निर्णय करें कि कौन सा / से निष्कर्ष तार्किक और निश्चित रूप से कथन में दी गई जानकारी का अनुसरण करता है / करते हैं।

कथन:-

सभी सी.पी.यू., मॉनीटर हैं।
कुछ यू.पी.एस., मॉनीटर हैं।

निष्कर्ष:-

- I. कुछ सी.पी.यू., यू.पी.एस. हैं।
- II. कुछ यू.पी.एस., सी.पी.यू. हैं।

- Ans
- 1. केवल निष्कर्ष II अनुसरण करता है।
 - 2. न तो निष्कर्ष I न ही II अनुसरण करता है।
 - 3. केवल निष्कर्ष I अनुसरण करता है।
 - 4. निष्कर्ष I या II अनुसरण करता है।

Question ID : 9895809235
Chosen Option : 2

Q.5 नीचे दिए गए कथनों के बाद दो निष्कर्ष I और II दिए गए हैं। यह मानते हुए कि कथनों में दी गई जानकारी सत्य है, भले ही वह सर्वज्ञात तथ्यों से भिन्न प्रतीत होती हो और यह निर्णय करें कि कौन सा/से निष्कर्ष तार्किक और निश्चित रूप से कथन में दी गई जानकारी का अनुसरण करता है / करते हैं।

कथन:

सभी कप प्लेटें हैं।
कुछ प्लेटें गिलास हैं।
सभी मग गिलास हैं।

निष्कर्ष:

- I. कुछ गिलास कप हैं।
- II. कुछ मग कप हैं।

Ans

- ✗ 1. निष्कर्ष । या ॥ सत्य है।
- ✗ 2. केवल निष्कर्ष । सत्य है।
- ✗ 3. केवल निष्कर्ष ॥ सत्य है।
- ✓ 4. न तो निष्कर्ष । न ही ॥ सत्य है।

Question ID : 9895809234
Chosen Option : 4

Q.6 आठ दोस्त P, Q, R, S, T, V, W और Y एक वृत्त के चोतरफ केंद्र की ओर मुख किये बैठे हैं किन्तु आवश्यक नहीं की उसी क्रम में R, T के बाएं से तीसरे स्थान पर बैठा है। Y, T का तुरंत पड़ोसी है। W, S के दाएं से दूसरे स्थान पर बैठा है। S, R का तुरंत पड़ोसी नहीं है। W और V के बीच केवल एक व्यक्ति बैठा है। Q W या V में से किसी का तुरंत पड़ोसी नहीं है।

निम्नलिखित में से कौन W और V के ठीक बीच में बैठा है?

Ans

- ✓ 1. R
- ✗ 2. T
- ✗ 3. P
- ✗ 4. Y

Question ID : 9895809231
Chosen Option : 1

Q.7 नीचे प्रश्न आकृति में दर्शाये गए तरीके से एक कागज़ को मोड़ा और काटा गया है। इस कागज़ को खोलने पर दी गयी उत्तर आकृतियों में से कौन सी आकृति दिखाई देगी?

प्रश्न आकृति:



Ans

- ✗ 1.
- ✗ 2.
- ✗ 3.
- ✓ 4.

Question ID : 9895809246
Chosen Option : 4

Q.8

उस विकल्प का चयन करें जो दी गई आकृति श्रृंखला को पूरा करता है।

प्रश्न आकृति:



Ans

- 1.
- 2.
- 3.
- 4.

Question ID : 9895809242
Chosen Option : 4

Q.9 सात बच्चे A, B, C, D, E, F और G एक पंक्ति में खड़े हैं। G, D के दाँए ओर और B के बाँए ओर है। A, C दाँए ओर है। A और D के बीच एक बच्चा है। F, G के दाँए से दूसरे स्थान पर है। D और F के बीच दो बच्चे हैं।

ठीक बीच में कौन है?

Ans

1. C
2. A
3. D
4. E

Question ID : 9895809232
Chosen Option : 3

Q.1 एक निश्चित कूट में, LIFE को VSPO के रूप में कूटबद्ध किया जाता है। उस कोड में BAD कैसे कूटबद्ध किया जाता है?

Ans

1. LKM
2. LJL
3. LKN
4. LLM

Question ID : 9895809229
Chosen Option : 3

Q.1
1 दिए गए विकल्पों में से संबंधित शब्द युग्म का चयन करें।

पृष्ठ : पुस्तक :: _____ : _____

- Ans
- 1. संख्या : ज्यामिति
 - 2. प्रश्न : उत्तर
 - 3. शब्द : अनुच्छेद
 - 4. आकृति : विज्ञान

Question ID : 9895809227
Chosen Option : 3

Q.1
2 यदि + का अर्थ '-', '-' का अर्थ '+', × का अर्थ '+', और '÷' का अर्थ '×', है, तो:

$$88 - 11 \div 3 \times 26 = ?$$

- Ans
- 1. 45
 - 2. 62
 - 3. 55
 - 4. 50

Question ID : 9895809241
Chosen Option : 4

Q.1
3 निम्नलिखित में से कौन सी उत्तर आकृति दी गई आकृति को पूरा करेगी?

प्रश्न आकृति:



- Ans
- 1.
 - 2.
 - 3.
 - 4.

Question ID : 9895809243
Chosen Option : 3

Q.1 एक निश्चित कूट में, BREAD को 2 के रूप में और TUESDAY को 3 के रूप में कूटबद्ध किया जाता है। उसी प्रकार SOLITUDE कैसे कूटबद्ध किया जाता है?

- Ans
- 1. 2
 - 2. 5
 - 3. 4
 - 4. 3

Question ID : 9895809230
Chosen Option : 3

Q.1 चार शब्द दिए गए हैं, जिनमें से तीन किसी तरह से समान हैं, जबकि एक अलग है। असंगत शब्द का चयन करें।

- Ans
- 1. खट्टा
 - 2. कड़वा
 - 3. विशिष्ट स्वाद
 - 4. मीठा

Question ID : 9895809225
Chosen Option : 3

Q.1 उस विकल्प का चयन करें जो तीसरे पद से उसी तरह संबंधित है जिस प्रकार दूसरा पद पहले पद से संबंधित है।

CGK : PTX :: DJL : _____

- Ans
- 1. OQK
 - 2. SGB
 - 3. OQW
 - 4. WOL

Question ID : 9895809228
Chosen Option : 3

Q.1 उस विकल्प का चयन करें जो तीसरे पद से उसी तरह संबंधित है जिस प्रकार दूसरा पद पहले पद से संबंधित है।

2 : 32 :: 3 : ?

- Ans
- 1. 729
 - 2. 343
 - 3. 243
 - 4. 221

Question ID : 9895809238
Chosen Option : 3

Q.1 चार अक्षर समूह दिए गए हैं, जिनमें से तीन किसी तरह से समान हैं, जबकि एक अलग है। असंगत अक्षर समूह का चयन करें।

- Ans
- 1. I10K
 - 2. M14O

✗ 3. O16Q

✓ 4. Z11R

Question ID : 9895809224
Chosen Option : 4

Q.1 M, D, R, P और Q सभी का वजन अलग-अलग है। R सिर्फ M से हल्का है तथा P, Q और D दोनों से हल्का है।
9 इनमें से कौन-सा दूसरा सबसे भारी है?

Ans

✓ 1. R

✗ 2. D

✗ 3. M

✗ 4. Q

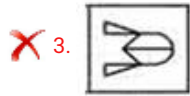
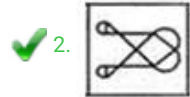
Question ID : 9895809233
Chosen Option : 1

Q.2 उस विकल्प आकृति का चयन करें, जिसमें प्रश्न आकृति छिपी हुई /अंतर्निहित है।

प्रश्न आकृति:



Ans



Question ID : 9895809244
Chosen Option : 2

Q.2 चार विकल्प दिए गए हैं, जिनमें से तीन किसी तरह से समान हैं, जबकि एक अलग है। असंगत का चयन करें।
1

Ans

✗ 1. 145

✗ 2. 122

✓ 3. 286

✗ 4. 257

Question ID : 9895809239
Chosen Option : 3

Q.2
2 उस विकल्प का चयन करें जो सही रूप में रिक्त स्थान की पूर्ति करते हुए श्रृंखला को पूरा करें।

FP, GQ, HR, ?

- Ans
- 1. SB
 - 2. IS
 - 3. BN
 - 4. IK

Question ID : 9895809223
Chosen Option : 2

Q.2
3 दिए गए विकल्पों में से संबंधित शब्द युग्म का चयन करें।

फूल : गुलदस्ता :: _____ : _____

- Ans
- 1. न्यायाधीश : न्यायपीठ
 - 2. पुस्तकें : आवरण
 - 3. घास : पेड़
 - 4. ईंटें : सड़कें

Question ID : 9895809226
Chosen Option : 1

Q.2
4 उस विकल्प का चयन करें जो सही रूप में रिक्त स्थान की पूर्ति करते हुए श्रृंखला को पूरा करें।

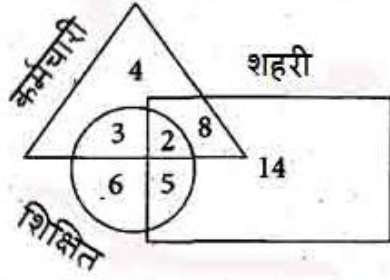
33, 45, 69, 105, 153, _____

- Ans
- 1. 214
 - 2. 213
 - 3. 224
 - 4. 227

Question ID : 9895809237
Chosen Option : 2

Q.2
5

निम्नलिखित आरेख का अध्ययन करें और प्रश्न का उत्तर दें।



कितने शिक्षित लोग हैं जो शहरी नहीं हैं?

- Ans
- 1. 3
 - 2. 4
 - 3. 6
 - 4. 9

Question ID : 9895809247
Chosen Option : 4

Q.2 धाप एक लोक नृत्य है जो _____ की कंधा जनजाति द्वारा किया जाता है।

- Ans
- 1. ओडीशा
 - 2. असम
 - 3. गोवा
 - 4. केरल

Question ID : 9895809406
Chosen Option : 1

Q.2 निम्न में से कौन सा पर्वतीय दर्रा भारत, चीन और म्यांमार के बीच त्रियक संधि का निर्माण करता है?

- Ans
- 1. जेलेप ला
 - 2. बोमडि ला
 - 3. नाथु ला
 - 4. दिफू दर्रा

Question ID : 9895809398
Chosen Option : 4

Q.2 2017 में राजनीति में महिलारें मानचित्र रिपोर्ट के अनुसार, कार्यकारी सरकार में महिलाओं के प्रतिनिधित्व में भारत को _____ स्थिति में स्थान दिया गया था।

- Ans
- 1. 110वां
 - 2. 155वां
 - 3. 98वां
 - 4. 148वां

Question ID : 9895809420
Chosen Option : 4

Q.2
9 गोईटर (गण्डमाला) _____ की बीमारी है।

- Ans
- 1. अधिवृक्क ग्रंथि
 - 2. जिगर
 - 3. थाइरायड ग्रंथि
 - 4. अग्न्याशय

Question ID : 9895809412
Chosen Option : 3

Q.3
0 ज़ाकिर हुसैन निम्न में से कौन सा वाद्ययंत्र बजाते हैं?

- Ans
- 1. संतूर
 - 2. सरोद
 - 3. तबला
 - 4. बांसुरी

Question ID : 9895809407
Chosen Option : 3

Q.3
1 कुओं और नलकूपों के बाद भारत में सिंचाई का सबसे बड़ा साधन निम्न में से कौन सा है?

- Ans
- 1. तालाब
 - 2. नदियाँ
 - 3. नहरें
 - 4. तलैया

Question ID : 9895809400
Chosen Option : 2

Q.3
2 1930 में प्रथम राष्ट्रमंडल खेलों का आयोजन कहाँ हुआ?

- Ans
- 1. रूस
 - 2. भारत
 - 3. जर्मनी
 - 4. कनाडा

Question ID : 9895809402
Chosen Option : 3

Q.3
3 निम्न में से क्या धारक की इक्विटी में कमी का प्रतिनिधित्व करता है?

- Ans
- 1. बोनस शेयर जारी करना
 - 2. वरीयता प्राप्त शेयरों का निवारण
 - 3. डिबेंचर का निवारण
 - 4. भवन की खरीद

Question ID : 9895809405
Chosen Option : 4

Q.3
4 सौर सेल किस प्रकार कार्य करता है?

- Ans
- 1. यह रासायनिक ऊर्जा को विद्युत ऊर्जा में परिवर्तित करता है।
 - 2. यह विद्युत् ऊर्जा को प्रकाश ऊर्जा में परिवर्तित करता है।
 - 3. यह सौर ऊर्जा को विद्युत ऊर्जा में परिवर्तित करता है।
 - 4. यह रासायनिक ऊर्जा को ऊष्मीय ऊर्जा में परिवर्तित करता है।

Question ID : 9895809411
Chosen Option : 3

Q.3
5 भारतीय संविधान के निम्न में से किस संशोधन द्वारा दिल्ली को राष्ट्रीय राजधानी क्षेत्र का दर्जा दिया गया?

- Ans
- 1. 69वें संशोधन अधिनियम
 - 2. 76वें संशोधन अधिनियम
 - 3. 74वें संशोधन अधिनियम
 - 4. 63वें संशोधन अधिनियम

Question ID : 9895809419
Chosen Option : 1

Q.3
6 निम्नलिखित में से कौन सा देश G4 राष्ट्रों में से एक है?

- Ans
- 1. ऑस्ट्रेलिया
 - 2. ब्राज़िल
 - 3. चीन
 - 4. अमेरीका

Question ID : 9895809403
Chosen Option : 2

Q.3
7 जठर अम्ल _____ द्वारा पेट में स्रावित होते हैं।

- Ans
- 1. अम्लीय कोशिकाओं

- 2. गैस्ट्रिन सावी कोशिकाओं
- 3. पेप्टिक कोशिकाओं
- 4. पार्श्विक कोशिकाओं

Question ID : 9895809413
Chosen Option : 2

Q.3 भारतीय संविधान की प्रस्तावना में शब्द _____, द्वारा यह परिकल्पित है, कि कानून से समक्ष सभी समान हैं।

- Ans
- 1. 'जनता'
 - 2. 'कानून'
 - 3. 'समता'
 - 4. 'न्याय'

Question ID : 9895809421
Chosen Option : 3

Q.3 'हैरी पॉटर एंड डेथली हॉलोज़' पुस्तक के लेखक कौन हैं?

- Ans
- 1. जे.के.रॉलिंग
 - 2. चार्ल्स डिकेंस
 - 3. विलियम शेक्सपियर
 - 4. एडम स्मिथ

Question ID : 9895809410
Chosen Option : 3

Q.4 संयुक्त राज्य अमेरिका का राष्ट्रीय खेल कौन सा है?

- Ans
- 1. क्रिकेट
 - 2. बेसबॉल
 - 3. टेबल टेनिस
 - 4. रग्बी

Question ID : 9895809401
Chosen Option : 2

Q.4 वायु की अपर्याप्त मात्रा में जीवाश्म ईंधनों के दहन के फलस्वरूप कौन सी गैस निर्मित होती है?

- Ans
- 1. कार्बन मोनोऑक्साइड
 - 2. मीथेन
 - 3. ब्यूटेन

✗ 4. कार्बन डाइऑक्साइड

Question ID : 9895809415
Chosen Option : 1

Q.4
2 वियतनाम में रहने वाले फ्रांसिसी नागरिकों को क्या कहा जाता था?

- Ans
- ✗ 1. फ्रेंच
 - ✓ 2. कोलन
 - ✗ 3. वियतनामी
 - ✗ 4. अभिजात्य

Question ID : 9895809416
Chosen Option : 4

Q.4
3 निम्नलिखित में से कौन सा प्राधिकरण ऋण के औपचारिक स्रोतों के कामकाज की निगरानी करता है?

- Ans
- ✗ 1. केंद्रीय बैंक
 - ✓ 2. भारतीय रिज़र्व बैंक
 - ✗ 3. भारत सरकार
 - ✗ 4. भारतीय स्टेट बैंक

Question ID : 9895809404
Chosen Option : 2

Q.4
4 लाल मिट्टी के लाल रंग का होने का कारण क्या है?

- Ans
- ✗ 1. उच्च तापमान और अत्यधिक वर्षा
 - ✗ 2. अत्यधिक वर्षा
 - ✗ 3. मिट्टी में जलयोजन
 - ✓ 4. क्रिस्टलीय और मेटामॉर्फिक चट्टानों में लोहे की व्याप्ति

Question ID : 9895809399
Chosen Option : 4

Q.4
5 _____ का अस्तर छोटी उंगली की तरह बहिर्गत भाग से ढंका है जिसे विल्ली (Villi) कहा जाता है।

- Ans
- ✓ 1. छोटी आंत
 - ✗ 2. पेट
 - ✗ 3. अग्न्याशय
 - ✗ 4. तिल्ली

Question ID : 9895809414
Chosen Option : 1

Q.4
6 "भारतीय परमाणु कार्यक्रम के जनक" के रूप में किसे जाना जाता है?

- Ans
- 1. अनिल काकोडकर
 - 2. राजा रमन्ना
 - 3. होमी भाभा
 - 4. होमी सेठना

Question ID : 9895809409
Chosen Option : 3

Q.4
7 निम्न में से सिखों का कौन सा धार्मिक स्थल भारत में नहीं है?

- Ans
- 1. ननकाना साहिब
 - 2. पांवटा साहिब
 - 3. केशगढ़ साहिब
 - 4. नांदेड़

Question ID : 9895809408
Chosen Option : 1

Q.4
8 लोकसभा की पहली महिला स्पीकर कौन थीं?

- Ans
- 1. इंदिरा गांधी
 - 2. सरोजिनी नायडू
 - 3. लीला सेठ
 - 4. मीरा कुमार

Question ID : 9895809422
Chosen Option : 4

Q.4
9 महात्मा गांधी ने असहयोग आंदोलन कब शुरू किया, जो देशव्यापी पैमाने पर आयोजित पहला जन आंदोलन था?

- Ans
- 1. जनवरी 1922
 - 2. मार्च 1919
 - 3. अगस्त 1920
 - 4. अप्रैल 1923

Question ID : 9895809417
Chosen Option : 3

Q.5
0 जोहान गुटेनबर्ग द्वारा पहली मुद्रित पुस्तक कौन सी थी?

- Ans
- 1. फेरी-पुस्तिका

2. हस्त-पुस्तिका

3. पंचांग

4. बाइबल

Question ID : 9895809418
Chosen Option : 4

Q.5
1 12 महिलाएँ 8 घंटे प्रतिदिन काम करके किसी कार्य को 20 दिनों में पूरा करती हैं, तो उसी काम को 15 दिनों में पूरा करने के लिए 16 महिलाओं को कितने घंटे प्रतिदिन काम करना पड़ेगा?

Ans 1. 5 घंटे

2. 6 घंटे

3. 4 घंटे

4. 8 घंटे

Question ID : 9895809589
Chosen Option : 4

Q.5
2 9 संख्याओं का औसत 30 है। पहली 5 संख्याओं का औसत 25 है और अंतिम 3 संख्याओं का औसत 35 है। छठी संख्या क्या है?

Ans 1. 37

2. 38

3. 36

4. 40

Question ID : 9895809576
Chosen Option : 4

Q.5
3

निम्नलिखित बार ग्राफ का ध्यानपूर्वक अध्ययन करें और दिए गए प्रश्नों के उत्तर दें। ग्राफ तीन व्यक्तियों A, B और C की साप्ताहिक आय और व्यय को दर्शाता है।



टिपण्णी : बचत = आय - व्यय

B का व्यय, B की बचत का कितना प्रतिशत है?

Ans

- ✓ 1. 300%
- ✗ 2. $166\frac{2}{3}\%$
- ✗ 3. 150%
- ✗ 4. $33\frac{1}{3}\%$

Question ID : 9895809597

Chosen Option : 1

Q.5 यदि $A = \frac{B}{4}$ और $B = \frac{C}{3}$ है तो A : B : C का मान _____ है।

Ans

- ✓ 1. 1 : 4 : 12
- ✗ 2. 4 : 3 : 2
- ✗ 3. 5 : 3 : 2
- ✗ 4. 4 : 5 : 6

Question ID : 9895809583

Chosen Option : 1

Q.5 एक समकोण त्रिभुज का क्षेत्रफल 120 sq. cm है। लंबवत भुजाओं का अनुपात 12 : 5 है। त्रिभुज की परिमाप ज्ञात करें।

Ans

- ✗ 1. 45 cm
- ✓ 2. 60 cm
- ✗ 3. 90 cm
- ✗ 4. 50 cm

Question ID : 9895809592

Chosen Option : 4

Q.5
6 1500 के 60% का 350% = ?

- Ans
- 1. 2900
 - 2. 2800
 - 3. 2850
 - 4. 3150

Question ID : 9895809580
Chosen Option : 4

Q.5
7 एक व्यापारी अपने विक्रय मूल्य को लागत मूल्य से 10% अधिक अंकित करता है। बेचते समय वह कुछ छूट देता है जिससे उसे 1% की हानि होती है। उसने कितनी छूट दी होगी?

- Ans
- 1. 10%
 - 2. 11%
 - 3. 9%
 - 4. 10.5%

Question ID : 9895809578
Chosen Option : 1

Q.5
8 निम्नलिखित बार ग्राफ का ध्यानपूर्वक अध्ययन करें और दिए गए प्रश्नों के उत्तर दें। ग्राफ तीन व्यक्तियों A, B और C की साप्ताहिक आय और व्यय को दर्शाता है।



टिपण्णी : बचत = आय - व्यय

C की बचत और A की बचत का अनुपात _____ है।

- Ans
- 1. 7 : 13
 - 2. 17 : 7
 - 3. 13 : 6

✗ 4. 4 : 9

Question ID : 9895809596
Chosen Option : 3

Q.5 एक वस्तु को 20% के लाभ पर बेचा जाता है। यदि इसे 25% के लाभ पर बेचा जाता तो ₹ 35 अधिक प्राप्त होते। वस्तु का क्रय मूल्य क्या है?

- Ans
- ✗ 1. ₹ 750
 - ✗ 2. ₹ 800
 - ✗ 3. ₹ 650
 - ✓ 4. ₹ 700

Question ID : 9895809582
Chosen Option : 4

Q.6 सरलीकृत करें:

$$98 + 100 \times 76 = ?$$

- Ans
- ✓ 1. 7698
 - ✗ 2. 7869
 - ✗ 3. 9876
 - ✗ 4. 8976

Question ID : 9895809575
Chosen Option : 1

Q.6 $3\sqrt{10}$ cm भुजा के घन की प्रत्येक भुजा से $\sqrt{7}$ cm त्रिज्या के वृत्त काटे जाते हैं। घन के शेष क्षेत्रफल तथा कटे हुए क्षेत्रफल का अनुपात क्या है? ($\pi = \frac{22}{7}$ लीजिए)

- Ans
- ✓ 1. 34 : 11
 - ✗ 2. 150 : 13
 - ✗ 3. 223 : 17
 - ✗ 4. 101 : 44

Question ID : 9895809593
Chosen Option : 1

Q.6 एक संख्या का 75%, दूसरी संख्या के $\frac{2}{7}$ के बराबर है। पहली और दूसरी संख्या के बीच अनुपात क्या है?

- Ans
- ✗ 1. 5 : 12
 - ✗ 2. 7 : 13

✗ 3. 4 : 7

✓ 4. 8 : 21

Question ID : 9895809585

Chosen Option : 4

Q.6
3 यदि एक रेलगाड़ी किसी खम्भे को 90 km/hr की गति से 20 सेकंड में पार करती है, तो रेलगाड़ी की लंबाई (मीटर में) कितनी होगी?

Ans ✗ 1. 1000

✗ 2. 750

✗ 3. 900

✓ 4. 500

Question ID : 9895809591

Chosen Option : 4

Q.6
4 निम्नलिखित बार ग्राफ का ध्यानपूर्वक अध्ययन करें और दिए गए प्रश्नो के उत्तर दें। ग्राफ तीन व्यक्तियों A, B और C की साप्ताहिक आय और व्यय को दर्शाता है।



टिपण्णी : बचत = आय - व्यय

A और C की साप्ताहिक बचत के बीच का अंतर B की बचत से कितना प्रतिशत कम है?

Ans ✗ 1. $33\frac{1}{3}\%$

✓ 2. $22\frac{2}{9}\%$

✗ 3. 25%

✗ 4. $16\frac{2}{9}\%$

Question ID : 9895809595

Chosen Option : 2

Q.6
5 आंकड़ों 32, 15, 25, 20, 8, 46, 43 और 51 का माध्य _____ है।

Ans ✓ 1. 30

✗ 2. 28

✗ 3. 30.5

✗ 4. 28.5

Question ID : 9895809579

Chosen Option : 1

Q.6 किसी राशि पर 10% वार्षिक व्याज की दर से 2 वर्ष के चक्रवृद्धि ब्याज और साधारण ब्याज का अंतर

₹ 124 है। राशि (₹ में) है:

Ans

✓ 1. ₹ 12400

✗ 2. ₹ 6200

✗ 3. ₹ 4000

✗ 4. ₹ 8000

Question ID : 9895809587

Chosen Option : 1

Q.6 ₹ 24,000 की निवेशित राशि पर पाँच वर्षों के लिए 18% वार्षिक साधारण ब्याज दर से प्राप्त राशि कितनी होगी?

Ans

✗ 1. ₹ 44,000

✓ 2. ₹ 45,600

✗ 3. ₹ 48,000

✗ 4. ₹ 43,800

Question ID : 9895809586

Chosen Option : 2

Q.6 दो बेलन A और B की त्रिज्या क्रमशः 4 : 7 के अनुपात में और ऊँचाई क्रमशः 7 : 5 के अनुपात में हैं। A से

अपेक्षित बेलन B के वक्रपृष्ठ क्षेत्रफल का अनुपात ज्ञात कीजिए।

Ans

✗ 1. 49 : 35

✗ 2. 35 : 49

✗ 3. 3 : 5

✓ 4. 5 : 4

Question ID : 9895809594

Chosen Option : 4

Q.6 एक कार को 300 km की दूरी तय करने में 4 घंटे लगते हैं। पिछले समयके $\frac{3}{4}$ वें समय में उतनी ही दूरी को तय करने के लिए कार की गति km/hr में कितनी होनी चाहिए?

Ans

✗ 1. 80

✗ 2. 120

✗ 3. 75

✓ 4. 100

Question ID : 9895809590

Chosen Option : 4

Q.7
0 7 छात्रों द्वारा परीक्षा में प्राप्त अंकों का औसत 75 और 11 और अन्य छात्रों का औसत 87 था। 18 छात्रों का औसत _____ है। (दशमलव के दो स्थान तक सही)

Ans

✗ 1. 45.64

✓ 2. 82.33

✗ 3. 51.23

✗ 4. 85.46

Question ID : 9895809577

Chosen Option : 2

Q.7
1 अजय और अमन के पास जो पैसे हैं उस का अनुपात 7 : 17 है तथा अमन और अनिल के पास जो पैसे हैं उसका अनुपात 2 : 3 है। यदि अजय के पास ₹ 490 है, तो अनिल के पास कितने रुपये हैं?

Ans

✗ 1. ₹ 1200

✗ 2. ₹ 1560

✗ 3. ₹ 1440

✓ 4. ₹ 1785

Question ID : 9895809584

Chosen Option : 4

Q.7
2 मीना 10 दिन में एक काम पूरा कर सकती है, जबकि मीना और रीना एक साथ मिलकर 7 दिन में वही काम को पूरा कर सकती हैं। रीना को अकेले ही काम को पूरा करने में कितना समय लगेगा?

Ans

✗ 1. $\frac{80}{3}$ दिन

✗ 2. $\frac{50}{3}$ दिन

✓ 3. $\frac{70}{3}$ दिन

✗ 4. $\frac{55}{3}$ दिन

Question ID : 9895809588

Chosen Option : 3

Q.7
3 120, 140 और 160 का लघुतम समापवर्त्य निम्न में से कौन सा है?

- Ans
- 1. 3260
 - 2. 3360
 - 3. 2560
 - 4. 3160

Question ID : 9895809573

Chosen Option : 2

Q.7
4 सरलीकृत करें:

$$7368 \div 24 \times 17 = ?$$

- Ans
- 1. 5129
 - 2. 5119
 - 3. 5219
 - 4. 5229

Question ID : 9895809574

Chosen Option : 3

Q.7
5 ₹ 69 में एक वस्तु को बेचने पर 8% की हानि होती है। यदि इसे ₹ 78 में बेचा जाता है तो प्रतिशत लाभ या हानि कितनी है?

- Ans
- 1. 40% लाभ
 - 2. 4% हानि
 - 3. न लाभ न हानि
 - 4. 4% लाभ

Question ID : 9895809581

Chosen Option : 4

Section : English Language

Q.1 Select the word which means the same as the group of words given.

The dead body of an animal

- Ans
- 1. Vesper

- 2. Skull
- 3. Skeleton
- 4. Carcass

Question ID : 9895809768

Chosen Option : --

Q.2 Identify the segment in the sentence which contains the grammatical error from the given options.

The use of new technology has bring down the price of books.

- Ans
- 1. bring down
 - 2. technology
 - 3. of books
 - 4. The use of

Question ID : 9895809750

Chosen Option : --

Q.3 Identify the segment in the sentence which contains the grammatical error from the given options.

The Supreme Court has the power to modification or cancel laws in the country.

- Ans
- 1. to modification
 - 2. the power
 - 3. The Supreme Court
 - 4. cancel laws

Question ID : 9895809748

Chosen Option : --

Q.4 Select the most appropriate word to fill in the blank.

Leading novelists of the nineteenth century _____ for a cause.

- Ans
- 1. writes
 - 2. are writing
 - 3. wrote
 - 4. has written

Question ID : 9895809755

Chosen Option : --

Q.5 Identify the segment in the sentence which contains the grammatical error from the given options.

For a long time the publishing market excluding the poor.

- Ans
- 1. For a long
 - 2. publishing

3. the poor

4. excluding

Question ID : 9895809749

Chosen Option : --

Comprehension:

In the following passage some words have been deleted. Fill in the blanks with the help of the alternatives given. Select the most appropriate option for each number.

As the demand for books increased, booksellers all (1) _____ Europe began sending books to (2) _____ different countries. Book fairs were (3) _____ at different places. Production of handwritten manuscripts (4) _____ also organized. Books were now (5) _____ to more people.

SubQuestion No : 6

Q.6 Select the most appropriate option that will fill in the blank number 1.

Ans 1. over

2. in

3. about

4. through

Question ID : 9895809757

Chosen Option : --

Comprehension:

In the following passage some words have been deleted. Fill in the blanks with the help of the alternatives given. Select the most appropriate option for each number.

As the demand for books increased, booksellers all (1) _____ Europe began sending books to (2) _____ different countries. Book fairs were (3) _____ at different places. Production of handwritten manuscripts (4) _____ also organized. Books were now (5) _____ to more people.

SubQuestion No : 7

Q.7 Select the most appropriate option that will fill in the blank number 2.

Ans 1. many

2. numeral

3. populous

4. plentiful

Comprehension:

In the following passage some words have been deleted. Fill in the blanks with the help of the alternatives given. Select the most appropriate option for each number.

As the demand for books increased, booksellers all (1) _____ Europe began sending books to (2) _____ different countries. Book fairs were (3) _____ at different places. Production of handwritten manuscripts (4) _____ also organized. Books were now (5) _____ to more people.

SubQuestion No : 8

Q.8 Select the most appropriate option that will fill in the blank number 3.

- Ans
- 1. placed
 - 2. held
 - 3. managed
 - 4. established

Comprehension:

In the following passage some words have been deleted. Fill in the blanks with the help of the alternatives given. Select the most appropriate option for each number.

As the demand for books increased, booksellers all (1) _____ Europe began sending books to (2) _____ different countries. Book fairs were (3) _____ at different places. Production of handwritten manuscripts (4) _____ also organized. Books were now (5) _____ to more people.

SubQuestion No : 9

Q.9 Select the most appropriate option that will fill in the blank number 4.

- Ans
- 1. is
 - 2. was
 - 3. were
 - 4. are

Comprehension:

In the following passage some words have been deleted. Fill in the blanks with the help of the alternatives given. Select the most appropriate option for each number.

As the demand for books increased, booksellers all (1) _____ Europe began sending books to (2) _____ different countries. Book fairs were (3) _____ at different places. Production of handwritten manuscripts (4) _____ also organized. Books were now (5) _____ to more people.

SubQuestion No : 10

Q.1
0 Select the most appropriate option that will fill in the blank number 5.

- Ans
- 1. useful
 - 2. readable
 - 3. available
 - 4. presented

Question ID : 9895809761
Chosen Option : --

Q.1
1 Select the word which means the same as the group of words given.

A building in which Jewish people worship and study their religion

- Ans
- 1. Mosque
 - 2. Temple
 - 3. Church
 - 4. Synagogue

Question ID : 9895809769
Chosen Option : --

Q.1
2 Select the synonym of the given word.

CONTRARY

- Ans
- 1. Opposite
 - 2. Linked
 - 3. Similar
 - 4. Affiliated

Question ID : 9895809763
Chosen Option : --

Q.1
3 Select the most appropriate word to fill in the blank.

If you drink too much, it will _____ your judgement.

- Ans
- 1. Impede
 - 2. Impose
 - 3. Impel
 - 4. Improve

Question ID : 9895809772
Chosen Option : --

Q.1 Select the most appropriate option to substitute the underlined segment in the given sentence. If there is no need to substitute it, select No substitution required.

4

The novels of Jane Austen give us a glimpse of the world of women.

- Ans
- 1. gave them the
 - 2. gives us a
 - 3. No substitution required
 - 4. has given the

Question ID : 9895809753
Chosen Option : --

Q.1 Select the meaning of the given idiom in the sentence.

5

Harassed by repeated acts of injustice, he decided to put his foot down.

- Ans
- 1. Change his mind
 - 2. Resign
 - 3. Withdraw
 - 4. Not to yield

Question ID : 9895809767
Chosen Option : --

Q.1 Select the most appropriate word to fill in the blank.

6

The speaker had not written his speech properly and went on _____ one point only.

- Ans
- 1. Insisting
 - 2. Decrying
 - 3. Avoiding
 - 4. Emphasising

Question ID : 9895809773
Chosen Option : --

Q.1
7

Select the synonym of the given word.

CONFINE

- Ans
- 1. Rescue
 - 2. Release
 - 3. Restrict
 - 4. Liberate

Question ID : 9895809762
Chosen Option : --

Q.1
8 Select the antonym of the given word.

FATIGUED

- Ans
- 1. Deprived
 - 2. Exhausted
 - 3. Tired
 - 4. Energized

Question ID : 9895809764
Chosen Option : --

Q.1
9 Select the most appropriate option to substitute the underlined segment in the given sentence. If there is no need to substitute it, select No substitution required.

The eighteenth century saw the middle classes becoming most prosperous.

- Ans
- 1. being more than
 - 2. become more
 - 3. became most
 - 4. No substitution required

Question ID : 9895809752
Chosen Option : --

Q.2
0 Select the wrongly spelt word.

- Ans
- 1. Characteristic
 - 2. Resistance
 - 3. Independent
 - 4. Beneficial

Question ID : 9895809771
Chosen Option : --

Q.2
1 Select the most appropriate option to substitute the underlined segment in the given sentence. If there is no need to substitute it, select No substitution required.

Charles Dickens writes for the effects of industrialization on people's lives.

- Ans
- 1. is writing with
 - 2. No substitution required
 - 3. was writing of
 - 4. wrote about

Question ID : 9895809751
Chosen Option : --

Q.2
2 Select the most appropriate word to fill in the blank.

The little girl protested _____ the hypocrisy of her elders.

- Ans
- 1. with
 - 2. against
 - 3. apart
 - 4. along

Question ID : 9895809754
Chosen Option : --

Q.2
3 Select the antonym of the given word.

CONSENSUS

- Ans
- 1. Consent
 - 2. Disagreement
 - 3. Harmony
 - 4. Agreement

Question ID : 9895809765
Chosen Option : --

Q.2
4 Select the meaning of the given idiom in the sentence.

The detective left no stone unturned to trace the culprit.

- Ans
- 1. Used all available means
 - 2. Resorted to unfair practices
 - 3. Did irrelevant things
 - 4. Took no pains

Question ID : 9895809766
Chosen Option : --

Q.2
5 Select the wrongly spelt word.

- Ans
- 1. Perseverance

- 2. Possession
- 3. Probable
- 4. Politician

Question ID : 9895809770
Chosen Option : --

Section : Hindi Language

Q.1 'घर' का पर्यायवाची शब्द है-

- Ans
- 1. ठिकाना
 - 2. प्रवास
 - 3. निकेतन
 - 4. वसन

Question ID : 9895807170
Chosen Option : 3

Q.2 रिक्त स्थान को भरने के लिए उपयुक्त शब्द का चयन करें।

साधन न रहते हुए भी काम करने की तीव्र _____ को साहस कहते हैं।

- Ans
- 1. स्पर्धा
 - 2. इच्छा
 - 3. घमंड
 - 4. आकांक्षा

Question ID : 9895807159
Chosen Option : 2

Q.3 दिए गए वाक्य का वह भाग ज्ञात करें जिसमें कोई त्रुटि है।

आपकी भाषा में वर्तनी के भूल ज्यादा होने से उन्हें सुधारना कठिन है।

- Ans
- 1. उन्हें सुधारना कठिन है।
 - 2. वर्तनी के भूल
 - 3. ज्यादा होने से
 - 4. आपकी भाषा में

Question ID : 9895807152
Chosen Option : 2

Q.4

दिए गए वाक्य का वह भाग ज्ञात करें जिसमें कोई त्रुटि है।

इस पुस्तक का मांग निरंतर बढ़ती जा रही है।

- Ans
- 1. जा रही है।
 - 2. इस पुस्तक
 - 3. का मांग
 - 4. निरंतर बढ़ती

Question ID : 9895807151
Chosen Option : 3

Q.5 'जो सबमें व्याप्त है' के लिए एक शब्द है-

- Ans
- 1. ईश्वर
 - 2. सर्वव्यापी
 - 3. भगवान
 - 4. ब्राह्म

Question ID : 9895807174
Chosen Option : 2

Q.6 दिए गए वाक्य का वह भाग ज्ञात करें जिसमें कोई त्रुटि है।

शिक्षक ने विद्यार्थियों को समझाया कि वे आपस में मिल-मिल कर रहें।

- Ans
- 1. विद्यार्थियों को
 - 2. वे आपस में मिल-मिल कर रहें।
 - 3. शिक्षक ने
 - 4. समझाया कि

Question ID : 9895807153
Chosen Option : 2

Q.7 'जो कहा न जा सके' के लिए एक शब्द है-

- Ans
- 1. अनुकरणीय
 - 2. अकथनीय
 - 3. कथाकार
 - 4. कथ्य

Question ID : 9895807173
Chosen Option : 2

Q.8 'यमुना' का पर्यायवाची शब्द है-

- Ans
- 1. तनया
 - 2. सूर्यसुता
 - 3. भागीरथी
 - 4. नदी

Question ID : 9895807169
Chosen Option : 2

Q.9 'करुण' शब्द का विलोम शब्द है-

- Ans
- 1. विनम्र
 - 2. निष्ठुर
 - 3. बुरा
 - 4. कोमल

Question ID : 9895807167
Chosen Option : 2

Q.10 'गाँठ बाँधना' मुहावरे का अर्थ है-

- Ans
- 1. बदला निकालना
 - 2. अच्छी प्रकार याद रखना
 - 3. प्रतिशोध लेना
 - 4. रस्सी बाँधना

Question ID : 9895807172
Chosen Option : 2

Q.11 'लोक' शब्द का विलोम शब्द है-

- Ans
- 1. संसार
 - 2. परलोक
 - 3. समाज
 - 4. इहलोक

Question ID : 9895807168
Chosen Option : 2

Q.12 दिए गए वाक्य में रेखांकित खंड को प्रतिस्थापित करने के लिए उपयुक्त विकल्प का चयन करें।

संत कवियों ने लौकिक सुख की तुच्छता का प्रतिपादन किया है।

Ans

- 1. अलौकिक
- 2. परलौकिक
- 3. सांसारिक
- 4. अप्राकृतिक

Question ID : 9895807154
Chosen Option : 3

Q.1
3 सही वर्तनी वाले शब्द का चयन करें।

- Ans
- 1. सदुपदेश
 - 2. सदोपदेश
 - 3. सदुपेदश
 - 4. सदेपदेश

Question ID : 9895807175
Chosen Option : 1

Q.1
4 दिए गए वाक्य में रेखांकित खंड को प्रतिस्थापित करने के लिए उपयुक्त विकल्प का चयन करें।
समुद्र मंथन से अमृत की प्राप्ति हुई थी।

- Ans
- 1. तरल
 - 2. सुधा
 - 3. विभा
 - 4. गरल

Question ID : 9895807155
Chosen Option : 4

Q.1
5 दिए गए वाक्य में रेखांकित खंड को प्रतिस्थापित करने के लिए उपयुक्त विकल्प का चयन करें।
वादक के लिए वादयंत्रों के वादन में पारंगत होना जरूरी है।

- Ans
- 1. अभ्यस्त
 - 2. अवगत
 - 3. अनुभवी
 - 4. निपुण

Question ID : 9895807156
Chosen Option : 4

Q.1
6 रिक्त स्थान को भरने के लिए उपयुक्त शब्द का चयन करें।

जैसा पहले था वैसा ही रहने को _____ कहते हैं।

Ans

- 1. यथापूर्व
- 2. अपूर्व
- 3. भूतपूर्व
- 4. अभूतपूर्व

Question ID : 9895807158
Chosen Option : 1

Q.1
7 सही वर्तनी वाले शब्द का चयन करें।

Ans

- 1. भाशकर
- 2. भासकर
- 3. भाष्कर
- 4. भास्कर

Question ID : 9895807176
Chosen Option : 4

Q.1
8 रिक्त स्थान को भरने के लिए उपयुक्त शब्द का चयन करें।

देखने में प्रिय लगने वाला व्यक्ति _____ कहलाता है।

Ans

- 1. सूक्ष्मदर्शी
- 2. दूरदर्शी
- 3. समदर्शी
- 4. प्रियदर्शी

Question ID : 9895807157
Chosen Option : 4

Comprehension:

निम्नलिखित गद्यांश के रिक्त स्थानों की पूर्ति गद्यांश के नीचे दिए गए प्रश्नों के अनुसार कीजिए-

विद्यार्थी जीवन ही वह समय है जिसमें बच्चों के चरित्र, व्यवहार तथा _____ (1) को जैसा चाहें वैसा रूप दिया जा सकता है। यह अवस्था भावी _____ (2) की उस कोमल शाखा की भाँति है जिसे जिधर चाहे मोड़ा जा सकता है। विकसित होने के बाद उन्हें मोड़ने का _____ (3) करने पर वे टूट सकती हैं , पर मुड़ नहीं सकतीं। छात्रावस्था श्वेत चादर की तरह होती है। सफेद चादर पर एक बार जो _____ (4) चढ़ गया, सो चढ़ गया; फिर से वह पूर्वावस्था को प्राप्त नहीं हो सकती। इसीलिए _____ (5) से ही विद्यार्थी जीवन के महत्व को स्वीकार किया गया है।

SubQuestion No : 19

Q.1
9 गद्यांश में संकेतित रिक्त स्थान (1) के लिए उपयुक्त शब्द होगा।

- Ans
- 1. विचरण
 - 2. दुराचारण
 - 3. पुष्प
 - 4. आचरण

Question ID : 9895807162
Chosen Option : 4

Comprehension:

निम्नलिखित गद्यांश के रिक्त स्थानों की पूर्ति गद्यांश के नीचे दिए गए प्रश्नों के अनुसार कीजिए-

विद्यार्थी जीवन ही वह समय है जिसमें बच्चों के चरित्र, व्यवहार तथा _____ (1) को जैसा चाहें वैसा रूप दिया जा सकता है। यह अवस्था भावी _____ (2) की उस कोमल शाखा की भाँति है जिसे जिधर चाहे मोड़ा जा सकता है। विकसित होने के बाद उन्हें मोड़ने का _____ (3) करने पर वे टूट सकती हैं , पर मुड़ नहीं सकतीं। छात्रावस्था श्वेत चादर की तरह होती है। सफेद चादर पर एक बार जो _____ (4) चढ़ गया, सो चढ़ गया; फिर से वह पूर्वावस्था को प्राप्त नहीं हो सकती। इसीलिए _____ (5) से ही विद्यार्थी जीवन के महत्व को स्वीकार किया गया है।

SubQuestion No : 20

Q.2
0

गद्यांश में संकेतित रिक्त स्थान (2) के लिए उपयुक्त शब्द होगा।

- Ans
- 1. फल
 - 2. जन्तु
 - 3. पुष्प
 - 4. वृक्ष

Question ID : 9895807163
Chosen Option : 3

Comprehension:

निम्नलिखित गद्यांश के रिक्त स्थानों की पूर्ति गद्यांश के नीचे दिए गए प्रश्नों के अनुसार कीजिए-

विद्यार्थी जीवन ही वह समय है जिसमें बच्चों के चरित्र, व्यवहार तथा _____ (1) को जैसा चाहें वैसा रूप दिया जा सकता है। यह अवस्था भावी _____ (2) की उस कोमल शाखा की भाँति है जिसे जिधर चाहे मोड़ा जा सकता है। विकसित होने के बाद उन्हें मोड़ने का _____ (3) करने पर वे टूट सकती हैं , पर मुड़ नहीं सकतीं। छात्रावस्था श्वेत चादर की तरह होती है। सफेद चादर पर एक बार जो _____ (4) चढ़ गया, सो चढ़ गया; फिर से वह पूर्वावस्था को प्राप्त नहीं हो सकती। इसीलिए _____ (5) से ही विद्यार्थी जीवन के महत्व को स्वीकार किया गया है।

SubQuestion No : 21

Q.2
1 गद्यांश में संकेतित रिक्त स्थान (3) के लिए उपयुक्त शब्द होगा।

- Ans
- 1. विकल्प
 - 2. संकल्प
 - 3. प्रयास
 - 4. विरोध

Question ID : 9895807164
Chosen Option : 3

Comprehension:

निम्नलिखित गद्यांश के रिक्त स्थानों की पूर्ति गद्यांश के नीचे दिए गए प्रश्नों के अनुसार कीजिए-

विद्यार्थी जीवन ही वह समय है जिसमें बच्चों के चरित्र, व्यवहार तथा _____ (1) को जैसा चाहें वैसा रूप दिया जा सकता है। यह अवस्था भावी _____ (2) की उस कोमल शाखा की भाँति है जिसे जिधर चाहे मोड़ा जा सकता है। विकसित होने के बाद उन्हें मोड़ने का _____ (3) करने पर वे टूट सकती हैं , पर मुड़ नहीं सकतीं। छात्रावस्था श्वेत चादर की तरह होती है। सफेद चादर पर एक बार जो _____ (4) चढ़ गया, सो चढ़ गया; फिर से वह पूर्वावस्था को प्राप्त नहीं हो सकती। इसीलिए _____ (5) से ही विद्यार्थी जीवन के महत्व को स्वीकार किया गया है।

SubQuestion No : 22

Q.2
2 गद्यांश में संकेतित रिक्त स्थान (4) के लिए उपयुक्त शब्द होगा।

- Ans
- 1. भंग
 - 2. उपरंग
 - 3. रंग
 - 4. मिश्ररंग

Question ID : 9895807165
Chosen Option : 3

Comprehension:

निम्नलिखित गद्यांश के रिक्त स्थानों की पूर्ति गद्यांश के नीचे दिए गए प्रश्नों के अनुसार कीजिए-

विद्यार्थी जीवन ही वह समय है जिसमें बच्चों के चरित्र, व्यवहार तथा _____ (1) को जैसा चाहें वैसा रूप दिया जा सकता है। यह अवस्था भावी _____ (2) की उस कोमल शाखा की भाँति है जिसे जिधर चाहे मोड़ा जा सकता है। विकसित होने के बाद उन्हें मोड़ने का _____ (3) करने पर वे टूट सकती हैं , पर मुड़ नहीं सकतीं। छात्रावस्था श्वेत चादर की तरह होती है। सफेद चादर पर एक बार जो _____ (4) चढ़ गया, सो चढ़ गया; फिर से वह पूर्वावस्था को प्राप्त नहीं हो सकती। इसीलिए _____ (5) से ही विद्यार्थी जीवन के महत्व को स्वीकार किया गया है।

SubQuestion No : 23

Q.2
3

गद्यांश में संकेतित रिक्त स्थान (5) के लिए
उपयुक्त शब्द होगा।

- Ans
- 1. नवीन काल
 - 2. प्रचीन काल
 - 3. वर्तमान काल
 - 4. आधुनिक काल

Question ID : 9895807166
Chosen Option : 2

Q.2
4 'आकाश पाताल एक करना' मुहावरे का अर्थ है-

- Ans
- 1. कठिन परिश्रम करना
 - 2. कठिनाई में दिखना
 - 3. कार्य करना
 - 4. असाधारण कार्य

Question ID : 9895807171
Chosen Option : 4

Q.2
5 रिक्त स्थान को भरने के लिए उपयुक्त शब्द का चयन करें।

सुन्दर आँखों के कारण वह _____ कहलाती है।

- Ans
- 1. लोचनी
 - 2. सुदृष्टि
 - 3. सुदर्शना
 - 4. सुलोचना

Question ID : 9895807160
Chosen Option : 4