

## Constable (GD) in CAPFs, NIA, SSF and Rifleman (GD) in Assam Rifles Examination, 2018

Roll No. :	GovtJobsAlert.In
Registration No.	GovtJobsAlert.In
Name :	GovtJobsAlert.In
Exam Venue :	ANAND INTERNATIONAL COLLEGE OF ENGINEERING JAIPUR
Exam Time :	9:00 AM - 10:30 AM
Exam Date :	09/03/2019

Section : General Section

Q.1 उस विकल्प का चयन करें जो सही रूप में रिक्त स्थान की पूर्ति करते हुए श्रृंखला को पूरा करें।

471, 479, 452, 516, 391, \_\_\_\_\_

- Ans
- 1. 616
  - 2. 627
  - 3. 607
  - 4. 508

Question ID : 9895809262  
Chosen Option : --

Q.2 एक निश्चित कूट भाषा में, SEVEN को TFWFO के रूप में कूटबद्ध किया जाता है, तो उसी प्रकार से NINE को कैसे कूटबद्ध किया जाता है?

- Ans
- 1. OOJF
  - 2. OJFO
  - 3. OFJO
  - 4. OJOF

Question ID : 9895809254  
Chosen Option : 4

Q.3 दी गई समरूपता में लुप्त संख्या ज्ञात करें:

16 : 240 :: ? : 182

- Ans
- 1. 12
  - 2. 13
  - 3. 18
  - 4. 14

Question ID : 9895809263

Q.4 नीचे दिए गए कथनों के बाद दो निष्कर्ष I और II दिए गए हैं। यह मानते हुए कि कथनों में दी गई जानकारी सत्य है, भले ही वह सर्वज्ञात तथ्यों से भिन्न प्रतीत होती हो और यह निर्णय करें कि कौन सा / से निष्कर्ष तार्किक और निश्चित रूप से कथन में दी गई जानकारी का अनुसरण करता है / करते हैं।

कथन:

सभी तंबू घर हैं।

सभी घर ईंट हैं।

सभी ईंट पत्थर हैं।

निष्कर्ष:

I. सभी ईंट घर हैं।

II. कुछ पत्थर तंबू हैं।

Ans

- ✓ 1. केवल निष्कर्ष II अनुसरण करता है।
- ✗ 2. या तो निष्कर्ष I या II अनुसरण करता है।
- ✗ 3. न तो निष्कर्ष I न ही II अनुसरण करता है।
- ✗ 4. केवल निष्कर्ष I अनुसरण करता है।

Question ID : 9895809260

Chosen Option : 4

Q.5 उस विकल्प का चयन करें जो सही रूप में रिक्त स्थान की पूर्ति करते हुए श्रृंखला को पूरा करें।

173, 182, 198, 223, 259, \_\_\_\_\_

Ans

- ✗ 1. 315
- ✗ 2. 301
- ✗ 3. 282
- ✓ 4. 308

Question ID : 9895809261

Chosen Option : 2

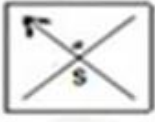
Q.6 उस विकल्प का चयन करें जो दर्पण के दायीं ओर रखे जाने पर दि गई आकृति की दर्पण छवि से सर्वाधिक मेल खाता है।



Ans

- ✗ 1.
- ✗ 2.

✗ 3.



✓ 4.



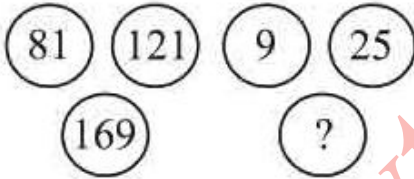
Question ID : 9895809270  
Chosen Option : 2

Q.7 चार शब्द दिए गए हैं, जिनमें से तीन किसी तरह से समान हैं, जबकि एक अलग है। असंगत शब्द का चयन करें।

- Ans
- ✗ 1. वसा
  - ✗ 2. प्रोटीन्स
  - ✗ 3. कार्बोहाइड्रेट्स
  - ✓ 4. पेय

Question ID : 9895809250  
Chosen Option : 4

Q.8 दिए गए विकल्पों में से लुप्त संख्या ज्ञात करें।



- Ans
- ✗ 1. 81
  - ✗ 2. 36
  - ✓ 3. 49
  - ✗ 4. 16

Question ID : 9895809265  
Chosen Option : 3

Q.9 A, B, C, D, E और F एक वृत्त के चारों ओर केंद्र की ओर मुख करके बैठे हैं।

- (i) B, D का तुरंत पड़ोसी है।
  - (ii) C, A का तुरंत पड़ोसी है। परन्तु F का तुरंत पड़ोसी नहीं है।
  - (iii) A, B के तुरंत बायें है।
- E की स्थिति क्या है?

Ans

1. B के तुरंत बायें
2. A तथा B के बीच
3. D के दायें से दूसरे स्थान पर
4. C के तुरंत दायें

Question ID : 9895809257  
Chosen Option : 4

Q.1  
0 दिए गए विकल्पों में से संबंधित शब्द युग्म का चयन करें।

गोंद : कागज :: \_\_\_\_\_ : \_\_\_\_\_

- Ans  1. कागज : आवरण
2. सीमेंट : ईंट
3. कसौटी : सूचना पट्ट
4. कापी(नोटबुक) : रंग

Question ID : 9895809252  
Chosen Option : 2

Q.1  
1 चार अक्षर समूह दिए गए हैं, जिनमें से तीन किसी तरह से समान हैं, जबकि एक अलग है। असंगत अक्षर समूह का चयन करें।

- Ans  1. KAR
2. ACE
3. UFA
4. IVO

Question ID : 9895809249  
Chosen Option : 4

Q.1  
2 चार विकल्प दिए गए हैं, जिनमें से तीन किसी तरह से समान हैं, जबकि एक अलग है। असंगत का चयन करें।

- Ans  1. 617
2. 259
3. 824
4. 446

Question ID : 9895809264  
Chosen Option : --

Q.1  
3

उस विकल्प का चयन करें जो तीसरे पद से उसी तरह संबंधित है जिस प्रकार दूसरा पद पहले पद से संबंधित है।

Both : NotT :: FotL : ?

- Ans
- 1. AotH
  - 2. RotD
  - 3. RotX
  - 4. RotT

Question ID : 9895809253  
Chosen Option : 3

Q.1  
4 यदि '+' का अर्थ '÷', '-' का अर्थ '×', '×' का अर्थ '+', और '÷' का अर्थ '-', है, तो:

$$64 - 81 + 9 \times 4 = ?$$

- Ans
- 1. 510
  - 2. 570
  - 3. 580
  - 4. 630

Question ID : 9895809266  
Chosen Option : 3

Q.1  
5 उस विकल्प का चयन करें जो सही रूप में रिक्त स्थान की पूर्ति करते हुए श्रृंखला को पूरा करें।

FAV, HET, KIQ, \_\_\_\_\_

- Ans
- 1. ONM
  - 2. DFB
  - 3. OMM
  - 4. RHS

Question ID : 9895809248  
Chosen Option : 3

Q.1  
6 A तथा B की उंचाइयाँ बराबर हैं। C, A से छोटा है; D, E से छोटा है किंतु B से लंबा है। उनमें सबसे लंबा कौन है?

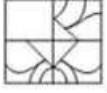
- Ans
- 1. E
  - 2. C
  - 3. B
  - 4. D

Question ID : 9895809258  
Chosen Option : 1

Q.1  
7

निम्नलिखित में से कौन सी उत्तर आकृति दी गई आकृति को पूरा करेगी?

प्रश्न आकृति:



Ans

- 1.
- 2.
- 3.
- 4.

Question ID : 9895809268  
Chosen Option : 4

Q.1  
8 K, L, M, N, O, P और Q एक मेज के चारों ओर केन्द्र की ओर मुख करके बैठे हैं।

- (i) L, N और O के बीच में बैठा है।  
(ii) K, O के बाएं से तीसरे स्थान पर है।  
(iii) Q, M के बाएं से दूसरे स्थान पर है जो कि P के तुरंत बायी ओर है।

Q के सापेक्ष L का सही स्थान कौन-सा है?

Ans

1. बाएं से पहला  
 2. दाएं से दूसरा  
 3. बाएं से दूसरा  
 4. दाएं से पहला

Question ID : 9895809256  
Chosen Option : 2

Q.1  
9

नीचे दिए गए कथनों के बाद दो निष्कर्ष I और II दिए गए हैं। यह मानते हुए कि कथनों में दी गई जानकारी सत्य है, भले ही वह सर्वज्ञात तथ्यों से भिन्न प्रतीत होती हो और यह निर्णय करें कि कौन सा / से निष्कर्ष तार्किक और निश्चित रूप से कथन में दी गई जानकारी का अनुसरण करता है / करते हैं।

कथन:

1. सभी चाबी, ताले हैं।
2. सभी ताले, पेच हैं।
3. सभी दरवाजे, चाबी हैं।

निष्कर्ष:

- I. सभी पेच, चाबी हैं।
- II. कुछ ताले, चाबी हैं।

Ans

1. केवल निष्कर्ष II अनुसरण करता है।
2. केवल निष्कर्ष I अनुसरण करता है।
3. या निष्कर्ष I या II अनुसरण करता है।
4. न निष्कर्ष I न II अनुसरण करता है।

Question ID : 9895809259

Chosen Option : 3

Q.2 यदि IECGF को 95376 के स्वरूप में और CAHJ को 31810 के स्वरूप में लिखते हैं, तो QGMVJ को कैसे लिखा जाएगा?

Ans

1. 177132210
2. 177132209
3. 177132208
4. 177122910





Question ID : 9895809255

Chosen Option : 1

Q.2 वेन आरेख का चयन करें जो दिए गए तीन वर्गों के बीच के संबंध को सर्वोत्तम दर्शाता है।

कलम, पेंसिल, पुस्तक

Ans

1. 
2. 
3. 
4. 



Q.2  
2 उस विकल्प आकृति का चयन करें, जिसमें प्रश्न आकृति छिपी हुई/अंतर्निहित है।

Question figure:

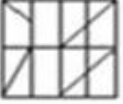


Ans

✓ 1.



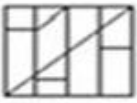
✗ 2.



✗ 3.



✗ 4.



Q.2  
3 नीचे प्रश्न आकृति में दर्शाये गए तरीके से एक कागज को मोड़ा गया और काटा गया है। इस कागज को खोलने पर दी गयी उत्तर आकृतियों में से कौन सी आकृति दिखाई देगी?

प्रश्न आकृति:

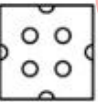


Ans


✗ 1.



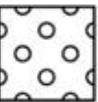
✗ 2.



✗ 3.



✓ 4.




Q.2  
4

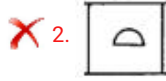



वह विकल्प का चयन करें जो दी गई आकृति श्रृंखला को पूरा करता है।

प्रश्न आकृति



Ans



Question ID : 9895809267  
Chosen Option : 4

Q.2

5 दिए गए विकल्पों में से संबंधित शब्द युग्म का चयन करें।

तालाब : झील :: \_\_\_\_\_ : \_\_\_\_\_

Ans

✗ 1. स्टेथोस्कोप : यंत्र

✗ 2. गिरजाघर : धर्म

✓ 3. पहाड़ी : पर्वत

✗ 4. सोना : आभूषण

Question ID : 9895809251  
Chosen Option : 3

Q.2

6 धिल्लिका (दिल्ली) शहर की स्थापना \_\_\_\_\_ द्वारा की गयी।

Ans

✓ 1. चौहानों द्वारा

✗ 2. पवारों द्वारा

✗ 3. तोमरों द्वारा

✗ 4. परिहारों द्वारा

Question ID : 9895809443  
Chosen Option : 3

Q.2

7 भारतीय संविधान के अनुसार नये राज्यों की स्वीकृति अथवा निर्माण की सत्ता किसके पास है?

Ans

- 1. केंद्र सरकार
- 2. राज्य सरकार
- 3. संसद
- 4. सर्वोच्च न्यायालय

Question ID : 9895809439  
Chosen Option : 3

Q.2  
8 दही जमने के लिए निम्न में से कौन सा बैक्टीरिया जिम्मेवार है?

- Ans
- 1. माइक्रोकोक्स
  - 2. लैक्टोबैसिलस औरियस
  - 3. बैसिलस रैडिसीकोला
  - 4. लैक्टोबैसिलस एसिडोफिलस

Question ID : 9895809431  
Chosen Option : 2

Q.2  
9 अनुच्छेद 368 \_\_\_\_\_ से संबंधित है।

- Ans
- 1. राज्य सरकार से
  - 2. सर्वोच्च न्यायालय से
  - 3. केंद्र-राज्य के संबंधों से
  - 4. संविधान संशोधन से

Question ID : 9895809441  
Chosen Option : 4

Q.3  
0 निम्न में से किस यूरोपीय देश को 'हज़ार झीलों का स्थल' कहा जाता है?

- Ans
- 1. फिनलैंड
  - 2. नार्वे
  - 3. स्वीडन
  - 4. एस्टोनिया

Question ID : 9895809423  
Chosen Option : 1

Q.3  
1 भारतीय संविधान की प्रस्तावना संविधान के \_\_\_\_\_ और आदर्शों को व्यक्त करती है।

- Ans
- 1. दर्शन
  - 2. नीतियाँ
  - 3. नियम

✗ 4. अधिनियमों

Question ID : 9895809440  
Chosen Option : 3

Q.3  
2 निम्न में से कौन सी नदी अरब सागर को नहीं मिलती है?

- Ans
- ✗ 1. साबरमती
  - ✗ 2. माण्डवी
  - ✗ 3. नर्मदा
  - ✓ 4. तुंगभद्रा

Question ID : 9895809437  
Chosen Option : 4

Q.3  
3 निम्न में से किन शासकों का योहिज़ी खानाबदोश लोगों से निकट संबंध था?

- Ans
- ✗ 1. कुषाण
  - ✗ 2. शक
  - ✗ 3. पहलवा
  - ✓ 4. दिननाग

Question ID : 9895809442  
Chosen Option : 4

Q.3  
4 किसी भी कंपनी द्वारा ₹ 2.5 लाख या उससे अधिक के व्यवहार के लिए निम्न में से क्या होना अनिवार्य है?

- Ans
- ✗ 1. आधार कार्ड
  - ✗ 2. लाइसेंस
  - ✗ 3. पासपोर्ट
  - ✓ 4. पैन कार्ड

Question ID : 9895809446  
Chosen Option : 4

Q.3  
5 एक पाउंड शहद बनाने के लिए मधुमक्खियों को लगभग कितने फूलों से मधु एकत्रित करना होता है?

- Ans
- ✗ 1. 2 मिलियन
  - ✗ 2. 20 मिलियन
  - ✓ 3. 50 मिलियन
  - ✗ 4. 10 हजार

Question ID : 9895809432  
Chosen Option : 1

Q.3  
6 \_\_\_\_\_ पृथ्वी की भूपर्पटी पर सबसे अधिक मात्रा में पाया जाने वाला तत्व है।

- Ans
- 1. कार्बन डाइऑक्साइड
  - 2. ऑक्सीजन
  - 3. सिलिकॉन
  - 4. हाइड्रोजन

Question ID : 9895809434  
Chosen Option : 2

Q.3  
7 रियो शिखर सम्मेलन 1992 का 'एजेंडा 21' किससे संबंधित है?

- Ans
- 1. GHGs उत्सर्जन के शमन के नियम
  - 2. चिरस्थायी विकास
  - 3. विकासशील देशों में 'स्वच्छ - ऊर्जा' के उत्पादन के लिए प्रौद्योगिकी हस्तांतरण तंत्र
  - 4. जनसंख्या विस्फोट के परिणामों का सामना

Question ID : 9895809435  
Chosen Option : 1

Q.3  
8 निम्न में से विंध्याचल पर्वत शृंखला का सबसे ऊंचा शिखर कौन सा है?

- Ans
- 1. कालुमार शिखर
  - 2. महेंद्रगिरी
  - 3. गुरु शिखर
  - 4. पंचमढी

Question ID : 9895809438  
Chosen Option : 4

Q.3  
9 निम्न में से किस भारतीय आईटी विशेषज्ञ को 'पेंटियम प्रोसेसर का जनक' कहा जाता है?

- Ans
- 1. विनोद धाम
  - 2. आनंद चंद्रशेखर
  - 3. अजय भट्ट
  - 4. विश्वमोहन पाणि

Question ID : 9895809426  
Chosen Option : 2

Q.4  
0 शांति का नोबेल पुरस्कार प्राप्त करने वाली पहली भारतीय महिला का नाम क्या था?

Ans

- 1. सरोजिनी नायडू
- 2. इंदिरा गांधी
- 3. मदर टेरेसा
- 4. नरगिस दत्त

Question ID : 9895809427  
Chosen Option : 3

Q.4 1 जी.डी.पी. में तृतीयक क्षेत्र की भागीदारी बढ़ी है, लेकिन वर्तमान में रोजगार के लिए किस क्षेत्र का योगदान सबसे अधिक है?

- Ans
- 1. प्राथमिक
  - 2. सूचना तकनीकी
  - 3. औद्योगिक
  - 4. द्वितीयक

Question ID : 9895809447  
Chosen Option : 4

Q.4 2 लोकसभा की आचार समिति के अध्यक्ष के रूप में निम्न में से किसको पुनः मनोनीत किया गया?

- Ans
- 1. रमेश पोखरियाल
  - 2. लालकृष्ण आडवाणी
  - 3. सुमित्रा महाजन
  - 4. चंद्रकांत खैरे

Question ID : 9895809428  
Chosen Option : 4

Q.4 3 एशियाई खेलों की शुरुआत सर्वप्रथम कहाँ हुयी?

- Ans
- 1. नेपाल
  - 2. भारत
  - 3. श्रीलंका
  - 4. चीन

Question ID : 9895809429  
Chosen Option : 4

Q.4 4 2018 में भारत के केंद्रीय बजट में कृषि उत्पादों के न्यूनतम समर्थन मूल्य (MSP) का हिस्सा कितना था?

- Ans
- 1. बाज़ार मूल्य का 1.5 गुना
  - 2. बाज़ार मूल्य का 1.9 गुना

3. बाज़ार मूल्य का 2.0 गुना

4. बाज़ार मूल्य का 1.7 गुना

Question ID : 9895809445  
Chosen Option : 1

Q.4  
5 भारत में साम्यवाद के प्रणेता \_\_\_\_\_ थे।

Ans  1. नलिन गुप्ता

2. एस.ए. डांगे

3. एम.आर. जयकर

4. एम.एन. राँय

Question ID : 9895809444  
Chosen Option : 2

Q.4  
6 विटामिन-A की कमी से होता है:

Ans  1. रतौंधी

2. गंजापन

3. एक रक्तरोग (स्क्वी)

4. सूखा रोग

Question ID : 9895809433  
Chosen Option : 1

Q.4  
7 1951 में भूदान आंदोलन या भूमि उपहार आंदोलन किसने शुरू किया था?

Ans  1. महात्मा गांधी

2. विनोबा भावे

3. इंदिरा गांधी

4. आचार्य नरेंद्र देव

Question ID : 9895809436  
Chosen Option : 2

Q.4  
8 कीसाबादी \_\_\_\_\_ राज्य के लोक नृत्य का एक रूप है जिसमें केवल पुरुष भाग ले सकते हैं।

Ans  1. ओडिशा

2. राजस्थान

3. सिक्किम

4. तेलंगाना



Question ID : 9895809425  
Chosen Option : 3

Q.4 9 दिसंबर 2018 में बैडमिंटन वर्ल्ड फेडरेशन वर्ल्ड टूर फाइनल टूर्नामेंट किसने जीता?

- Ans
- 1. साइना नेहवाल
  - 2. महेश भूपति
  - 3. नोजोमी ओकुहारा
  - 4. पी.वी. सिंधू

Question ID : 9895809430  
Chosen Option : 3

Q.5 0 लोहड़ी त्यौहार का संबंध मुख्यतः किस राज्य से है?

- Ans
- 1. उत्तर प्रदेश
  - 2. गोवा
  - 3. पंजाब
  - 4. महाराष्ट्र

Question ID : 9895809424  
Chosen Option : 4

Q.5 1 यदि दो पाइप एक साथ काम करते हैं, तो एक टंकी 12 घंटे में भर जाती है। एक पाइप टंकी को दूसरे से 10 घंटे तेजी से भरता है। टंकी को भरने के लिए तेज पाइप को अकेले कितने घंटे लगेंगे?

- Ans
- 1. 20
  - 2. 12
  - 3. 15
  - 4. 18

Question ID : 9895809614  
Chosen Option : 2

Q.5 2 4 सदस्यों के परिवार में, यदि एक महीने में पिता ₹ 50,000, माँ ₹ 32,000, बेटा ₹ 25,000 और बेटे ₹ 20,000 कमाती हैं तो परिवार की मासिक औसत आय \_\_\_\_\_ है।

- Ans
- 1. ₹ 31000
  - 2. ₹ 28000
  - 3. ₹ 32000



✓ 4. ₹ 31750

Question ID : 9895809602

Chosen Option : 4

Q.5  
3 एक आदमी 50 km/hr की चाल से A से B की यात्रा करता है और अपनी चाल को 30% बढ़ा कर वापस A पर लौटता है। पूरी यात्रा के दौरान उसकी औसत चाल क्या है?

- Ans
- ✗ 1.  $52\frac{1}{3}$  km/hr
  - ✗ 2.  $57\frac{1}{2}$  km/hr
  - ✓ 3.  $56\frac{12}{23}$  km/hr
  - ✗ 4.  $56\frac{2}{3}$  km/hr

Question ID : 9895809615

Chosen Option : 2

Q.5  
4 यदि P का 20% = Q का 30% = R का  $\frac{1}{6}$ , तो P : Q : R बराबर \_\_\_\_\_ है।

- Ans
- ✗ 1. 1 : 2 : 4
  - ✗ 2. 2 : 5 : 8
  - ✓ 3. 15 : 10 : 18
  - ✗ 4. 5 : 10 : 6

Question ID : 9895809608

Chosen Option : 2

Q.5  
5 ऐसे छात्रों की अधिकतम संख्या ज्ञात करें जिनके बीच 63 पेन और 140 कॉपियां इस तरह वितरित हो सके ताकि प्रत्येक छात्र को समान संख्या में पेन और कॉपियां मिलें?

- Ans
- ✗ 1. 5
  - ✓ 2. 7
  - ✗ 3. 3
  - ✗ 4. 2

Question ID : 9895809598

Chosen Option : 2

Q.5  
6 किसी रेडियों का अंकित मूल्य ₹ 480 है। दुकानदार इस पर 10% छूट देने के बावजूद 8% लाभ कमाता है। यदि कोई छूट न दी जाए तो उसे कितने प्रतिशत लाभ होगा?

Ans

✓ 1. 20%

✗ 2. 25%

✗ 3. 15%

✗ 4. 35%

Question ID : 9895809603

Chosen Option : 2

Q.5  
7 एक संख्या x का 75% किसी दूसरे संख्या y के  $\frac{2}{5}$  के बराबर है। x और y का अनुपात क्या है?

Ans

✓ 1. 8 : 15

✗ 2. 1 : 5

✗ 3. 13 : 8

✗ 4. 1 : 3

Question ID : 9895809610

Chosen Option : 3

Q.5  
8 एक कमरा घन के आकार में है और इसमें रखी सबसे लंबी छड़ी की लंबाई  $12\sqrt{3}$  m है। फर्श का क्षेत्रफल \_\_\_\_\_ है।

Ans

✗ 1. 36 sq. m

✗ 2. 64 sq. m

✓ 3. 144 sq. m

✗ 4. 96 sq. m

Question ID : 9895809619

Chosen Option : 1

Q.5  
9 दो संख्याएँ A तथा B तीसरी संख्या से क्रमशः 10% और 25% अधिक हैं। A और B का अनुपात क्या है?

Ans

✗ 1. 11 : 12

✓ 2. 22 : 25

✗ 3. 15 : 16

✗ 4. 13 : 16

Question ID : 9895809609

Chosen Option : 2

Q.6  
0  $36 \times 15 - 56 \times 784 \div 112 = ?$

- Ans
- 1. 238
  - 2. 138
  - 3. 148
  - 4. 158

Question ID : 9895809599  
Chosen Option : 3

Q.6  
1  $\sqrt{729} \times 56 \div 8 = ?$

- Ans
- 1. 138
  - 2. 142
  - 3. 189
  - 4. 198

Question ID : 9895809600  
Chosen Option : 3

Q.6  
2 निम्नलिखित तालिका का ध्यान पूर्वक अध्ययन करें और नीचे दिए गए सवालों के जवाब दें।  
विभिन्न बैंकों में एक पद के लिए साक्षात्कार के लिए आवेदन करने वाले प्रत्याशीयों की संख्या और उत्तीर्ण प्रत्याशीयों का प्रतिशत

बैंक	प्रत्याशीयों की उपस्थिति	उत्तीर्ण प्रत्याशीयों का प्रतिशत
A	1500	14
B	2200	26
C	3000	17
D	980	20
E	1200	28
F	2500	21

बैंक A में उत्तीर्ण प्रत्याशीयों की संख्या और बैंक E में उत्तीर्ण प्रत्याशीयों की संख्या का संबंधित अनुपात क्या है?

- Ans
- 1. 5 : 8
  - 2. 5 : 6
  - 3. 2 : 5
  - 4. 3 : 7

Question ID : 9895809621  
Chosen Option : 3

Q.6  
3

निम्नलिखित तालिका का ध्यान पूर्वक अध्ययन करें और नीचे दिए गए सवालों के जवाब दें।

विभिन्न बैंकों में एक पद के लिए साक्षात्कार के लिए आवेदन करने वाले प्रत्याशीयों की संख्या और उत्तीर्ण

प्रत्याशीयों का प्रतिशत

बैंक	प्रत्याशीयों की उपस्थिति	उत्तीर्ण प्रत्याशीयों का प्रतिशत
A	1500	14
B	2200	26
C	3000	17
D	980	20
E	1200	28
F	2500	21

ऐसे प्रत्याशीयों की औसत संख्या क्या थी जो बैंक A, C और E में साक्षात्कार के लिए शामिल हुए थे?

Ans

✓ 1. 1900

✗ 2. 2000

✗ 3. 1800

✗ 4. 1500

Question ID : 9895809622

Chosen Option : 1

Q.6 यदि 12 पुरुष 7 दिनों में एक काम पूरा कर सकते हैं, तो एक दिन में एक आदमी उस काम का \_\_\_\_\_ भाग कर सकता है।

Ans

✓ 1.  $\frac{1}{84}$

✗ 2.  $\frac{1}{12}$

✗ 3.  $\frac{12}{7}$

✗ 4.  $\frac{7}{12}$

Question ID : 9895809613

Chosen Option : 1

Q.6 निम्न आंकड़ों का बहुलक क्या है?

X	32	14	59	41	28	7	34	20
f(x)	8	4	12	8	10	16	15	9

Ans

✗ 1. 28

✗ 2. 59

✗ 3. 14

✓ 4. 7

Question ID : 9895809604  
Chosen Option : 1

Q.6 यदि एक बढई वर्गाकार लकड़ी के एक टुकड़े की प्रत्येक भुजा को 42 cm से बढ़ाकर 45 cm कर देता है तो उस लकड़ी की लागत ₹ 783 बढ़ जाती है। लकड़ी का प्रति sq. cm लागत कितनी है?

- Ans
- 1. ₹ 4.5
  - 2. ₹ 4
  - 3. ₹ 5
  - 4. ₹ 3

Question ID : 9895809617  
Chosen Option : 1

Q.6 यदि किसी वस्तु का क्रय मूल्य ₹ 200 है और उसी वस्तु का विक्रय मूल्य ₹ 225 है तो लाभ % है:

- Ans
- 1. 12.5%
  - 2. 15%
  - 3. 16%
  - 4. 25%

Question ID : 9895809607  
Chosen Option : 1

Q.6 2 वर्षों के लिए 4% वार्षिक दर (वार्षिक चक्र वृद्धि संयोजित) पर एक निश्चित राशि का चक्रवृद्धि ब्याज ₹ 102 है। समान दर से समान अवधि में समान राशि पर साधारण ब्याज \_\_\_\_\_ होगा।

- Ans
- 1. ₹ 99
  - 2. ₹ 101
  - 3. ₹ 100
  - 4. ₹ 98

Question ID : 9895809612  
Chosen Option : 4

Q.6 एक रेलगाड़ी 60 मीटर लम्बी प्लेटफार्म को 20 सेकंड में पार करती है तथा एक आदमी जो कि प्लेटफार्म पर खड़ा है, उस को 16 सेकंड में पार करती है। रेलगाड़ी की चाल \_\_\_\_\_ है।

- Ans
- 1. 54 kmph
  - 2. 50 kmph

✗ 3. 38 kmph

✗ 4. 40 kmph

Question ID : 9895809616

Chosen Option : 1

Q.7 निम्नलिखित तालिका का ध्यानपूर्वक अध्ययन करें और नीचे दिए गए सवालों के जवाब दें।

0 विभिन्न बैंकों में एक पद के लिए साक्षात्कार के लिए आवेदन करने वाले प्रत्याशीयों की संख्या और उत्तीर्ण प्रत्याशीयों का प्रतिशत

बैंक	प्रत्याशीयों की उपस्थिति	उत्तीर्ण प्रत्याशीयों का प्रतिशत
A	1500	14
B	2200	26
C	3000	17
D	980	20
E	1200	28
F	2500	21

ऐसे प्रत्याशीयों की संख्या, जो कि बैंक D के लिए पास नहीं हो सके, वो लगभग उन प्रत्याशीयों का कितना प्रतिशत थे जो बैंक B में पास नहीं हो सके?

Ans

✗ 1. 42

✗ 2. 51

✗ 3. 44

✓ 4. 48

Question ID : 9895809620

Chosen Option : --

Q.7 एक त्रिभुज के अन्तः वृत्त की त्रिज्या 4 cm है और त्रिभुज का परिमाप 20 cm है। त्रिभुज का क्षेत्रफल क्या है?

Ans

✗ 1. 80 sq. cm

✗ 2. 36 sq. cm

✗ 3. 20 sq. cm

✓ 4. 40 sq. cm

Question ID : 9895809618

Chosen Option : 1

Q.7 व्यंजक 15 का 150% + 75 का 75% का मान \_\_\_\_\_ है।

Ans

✗ 1. 135

✓ 2. 78.75

✗ 3. 75.75

✗ 4. 138

Question ID : 9895809605  
Chosen Option : 3

Q.7 कितने मूलधन पर 6% वार्षिक ब्याज दर से साढ़ेपांच वर्ष में ₹ 25,410 का साधारण ब्याज प्राप्त होगा?

Ans ✗ 1. ₹ 70,000

✗ 2. ₹ 55,000

✓ 3. ₹ 77,000

✗ 4. ₹ 88,000

Question ID : 9895809611  
Chosen Option : 2

Q.7 दो संख्याओं का औसत 6 है और अन्य तीन संख्याओं का औसत 8 है। इन 5 संख्याओं का औसत \_\_\_\_\_ होगा।

Ans ✓ 1. 7.2

✗ 2. 7.6

✗ 3. 5.5

✗ 4. 6.5

Question ID : 9895809601  
Chosen Option : 1

Q.7 A ने एक वस्तु B को 5% लाभ पर बेची और B ने वह C को 10% लाभ पर बेचा। यदि C ने उसे ₹ 462 में खरीदा, तो A ने इसे कितने में खरीदा?

Ans ✗ 1. ₹ 320

✓ 2. ₹ 400

✗ 3. ₹ 500

✗ 4. ₹ 480

Question ID : 9895809606  
Chosen Option : 1

Section : English Language

Q.1



Select the most appropriate word to fill in the blank.

As this Principal adopts a \_\_\_\_\_ approach towards the running of the school, the school is losing its prestige.

- Ans
- 1. proper
  - 2. strict
  - 3. casual
  - 4. dilute

Question ID : 9895809798  
Chosen Option : --

Q.2 Select the most appropriate option to substitute the underlined segment in the given sentence. If there is no need to substitute it, select No substitution required,

The Himalayas represent one of the more rugged mountain barriers of the world.

- Ans
- 1. one in the most
  - 2. the more
  - 3. No substitution required
  - 4. one of the most

Question ID : 9895809778  
Chosen Option : --

Q.3 Select the word which means the same as the group of words given.

A person giving too much attention to small details and wanting perfection.

- Ans
- 1. Gullible
  - 2. Studious
  - 3. Fastidious
  - 4. Fanatic

Question ID : 9895809795  
Chosen Option : --

Q.4 Select the most appropriate option to substitute the underlined segment in the given sentence. If there is no need to substitute it, select No substitution required.

The sun rises two hours earliest in Arunachal Pradesh as compared to Gujarat.

- Ans
- 1. two hours earlier
  - 2. No substitution required
  - 3. two hours' early
  - 4. two hour early

Question ID : 9895809777  
Chosen Option : --

Q.5 Select the antonym of the given word.

CONCISE

- Ans  1. Lengthy  
 2. Short  
 3. Brief  
 4. Succinct

Question ID : 9895809790  
Chosen Option : --

Q.6 Select the antonym of the given word.

DESPISE

- Ans  1. Dislike  
 2. Hate  
 3. Admire  
 4. Contempt

Question ID : 9895809791  
Chosen Option : --

Q.7 Select the most appropriate word to fill in the blank.

The Chilika Lake is the \_\_\_\_\_ salt water lake in India.

- Ans  1. larger  
 2. more larger  
 3. large  
 4. largest

Question ID : 9895809780  
Chosen Option : --

Q.8 Select the synonym of the given word.

ENORMOUS

- Ans  1. Huge  
 2. Dwarf  
 3. Tiny  
 4. Negligible

Question ID : 9895809789  
Chosen Option : --

Q.9 Select the word which means the same as the group of words given.

A short interesting incident about a person

- Ans
- 1. Ballad
  - 2. Anecdote
  - 3. Drama
  - 4. Epitaph

Question ID : 9895809794  
Chosen Option : --

Q.1  
0 Select the wrongly spelt word.

- Ans
- 1. Knowlege
  - 2. Laboratory
  - 3. Prominent
  - 4. Professor

Question ID : 9895809796  
Chosen Option : --

Q.1  
1 Select the most appropriate option to substitute the underlined segment in the given sentence. If there is no need to substitute it, select No substitution required.

The Deccan Plateau is a triangular landmass that lies to the south of the river Narmada.

- Ans
- 1. has a triangular
  - 2. are a triangle
  - 3. are a mass
  - 4. No substitution required

Question ID : 9895809779  
Chosen Option : --

Q.1  
2 Select the wrongly spelt word.

- Ans
- 1. Maneuver
  - 2. Liason
  - 3. Maintenance
  - 4. Mathematics

Question ID : 9895809797  
Chosen Option : --

Q.1  
3 Select the most appropriate word to fill in the blank.

Most of the Himalayan rivers are perennial: they have water \_\_\_\_\_ the year.

- Ans
- 1. throughout
  - 2. between
  - 3. across

4. along

Question ID : 9895809781  
Chosen Option : --

Q.1  
4 Select the most appropriate word to fill in the blank.

Finally, the prizes were \_\_\_\_\_ to all successful participants by the chief guest.

- Ans
- 1. divided
  - 2. provided
  - 3. distributed
  - 4. shared

Question ID : 9895809799  
Chosen Option : --

**Comprehension:**

In the following passage some words have been deleted. Fill in the blanks with the help of the alternatives given. Select the most appropriate option for each number.

The Narmada (1) \_\_\_\_\_ from the Amarkantak hills in Madhya Pradesh. It flows (2) \_\_\_\_\_ the west in a rift valley (3) \_\_\_\_\_ due to faulting. On its (4) \_\_\_\_\_ to the sea, the Narmada creates many (5) \_\_\_\_\_ locations.

SubQuestion No : 15

Q.1  
5 Select the most appropriate option that will fill in the blank number 1.

- Ans
- 1. creates
  - 2. heads
  - 3. originates
  - 4. resides

Question ID : 9895809783  
Chosen Option : --

**Comprehension:**

In the following passage some words have been deleted. Fill in the blanks with the help of the alternatives given. Select the most appropriate option for each number.

The Narmada (1) \_\_\_\_\_ from the Amarkantak hills in Madhya Pradesh. It flows (2) \_\_\_\_\_ the west in a rift valley (3) \_\_\_\_\_ due to faulting. On its (4) \_\_\_\_\_ to the sea, the Narmada creates many (5) \_\_\_\_\_ locations.

SubQuestion No : 16

Q.1  
6 Select the most appropriate option that will fill in the blank  
number 2.

- Ans
- 1. against
  - 2. facing
  - 3. across
  - 4. towards

Question ID : 9895809784  
Chosen Option : --

Comprehension:

In the following passage some words have been deleted. Fill in the blanks with the help of the alternatives given. Select the most appropriate option for each number.

The Narmada (1) \_\_\_\_\_ from the Amarkantak hills in Madhya Pradesh. It flows (2) \_\_\_\_\_ the west in a rift valley (3) \_\_\_\_\_ due to faulting. On its (4) \_\_\_\_\_ to the sea, the Narmada creates many (5) \_\_\_\_\_ locations.

SubQuestion No : 17

Q.1  
7 Select the most appropriate option that will fill in the blank  
number 3.

- Ans
- 1. form
  - 2. formed
  - 3. forming
  - 4. formation

Question ID : 9895809785  
Chosen Option : --

Comprehension:

In the following passage some words have been deleted. Fill in the blanks with the help of the alternatives given. Select the most appropriate option for each number.

The Narmada (1) \_\_\_\_\_ from the Amarkantak hills in Madhya Pradesh. It flows (2) \_\_\_\_\_ the west in a rift valley (3) \_\_\_\_\_ due to faulting. On its (4) \_\_\_\_\_ to the sea, the Narmada creates many (5) \_\_\_\_\_ locations.

SubQuestion No : 18

Q.1  
8 Select the most appropriate option that will fill in the blank  
number 4.

- Ans
- 1. road



- 2. approach
- 3. way
- 4. movement

Question ID : 9895809786  
Chosen Option : --

**Comprehension:**

In the following passage some words have been deleted. Fill in the blanks with the help of the alternatives given. Select the most appropriate option for each number.

The Narmada (1) \_\_\_\_\_ from the Amarkantak hills in Madhya Pradesh. It flows (2) \_\_\_\_\_ the west in a rift valley (3) \_\_\_\_\_ due to faulting. On its (4) \_\_\_\_\_ to the sea, the Narmada creates many (5) \_\_\_\_\_ locations.

SubQuestion No : 19

Q.1  
9 Select the most appropriate option that will fill in the blank number 5.

- Ans
- 1. scenic
  - 2. ornamental
  - 3. plain
  - 4. specific

Question ID : 9895809787  
Chosen Option : --

Q.2  
0 Identify the segment in the sentence which contains the grammatical error from the given options.

Agriculture is main occupation of the people living in the plains.

- Ans
- 1. living in
  - 2. of the people
  - 3. is main occupation
  - 4. the plains

Question ID : 9895809775  
Chosen Option : --

Q.2  
1 Select the meaning of the given idiom.

To burn one's fingers

- Ans
- 1. To undergo pain
  - 2. To touch something hot

- 3. To have an unfavourable result
- 4. To behave as if one is important

Question ID : 9895809792  
Chosen Option : --

Q.2 Identify the segment in the sentence which contains the grammatical error from the given options.  
2

Human activities is leading to the gradual destruction of the rainforests.

- Ans
- 1. Human activities
  - 2. the gradual
  - 3. is leading
  - 4. the rainforests

Question ID : 9895809774  
Chosen Option : --

Q.2 Select the meaning of the given idiom.  
3

Miss the boat

- Ans
- 1. To drown
  - 2. To take a risk
  - 3. To miss the chance
  - 4. To miss someone

Question ID : 9895809793  
Chosen Option : --

Q.2 Identify the segment in the sentence which contains the grammatical error from the given options.  
4

India's relations with most countries of the world have remained cordial across the years.

- Ans
- 1. of the world
  - 2. across the years
  - 3. India's relations
  - 4. with most countries

Question ID : 9895809776  
Chosen Option : --

Q.2 Select the synonym of the given word.  
5

ABUNDANT

- Ans
- 1. Plentiful
  - 2. Scanty
  - 3. Inadequate



✗ 4. Lacking

Question ID : 9895809788  
Chosen Option : --

Section : Hindi Language

Q.1 दिए गए वाक्य का वह भाग ज्ञात करें जिसमें कोई त्रुटि है।

कुछ प्रचलित बैंकिंग शब्दों को ज्यों-त्यों अपनाया गया है।

Ans

- ✗ 1. कुछ प्रचलित  
✗ 2. अपनाया गया है।  
✓ 3. ज्यों-त्यों  
✗ 4. बैंकिंग शब्दों को

Question ID : 9895807179  
Chosen Option : --

Q.2 दिए गए वाक्य में रेखांकित खंड को प्रतिस्थापित करने के लिए उपयुक्त विकल्प का चयन करें।

श्याम झगड़ालू है और दूसरों से ईर्ष्या करने वाला है।

Ans

- ✗ 1. लड़ाकू  
✗ 2. निंदनीय  
✓ 3. ईर्ष्यालु  
✗ 4. झगड़ालू

Question ID : 9895807182  
Chosen Option : 3

Q.3 'वन' का पर्यायवाची शब्द है-

Ans

- ✗ 1. भूदेव  
✗ 2. भूपति  
✓ 3. कानन  
✗ 4. विटप

Question ID : 9895807196  
Chosen Option : 3

Q.4 रिक्त स्थान को भरने के लिए उपयुक्त शब्द का चयन करें।

राम को अनुत्तीर्ण होने की \_\_\_\_\_ है।

Ans

- ✓ 1. आशंका
- ✗ 2. संदेह
- ✗ 3. प्रत्याशा
- ✗ 4. आशा

Question ID : 9895807184  
Chosen Option : 1

Q.5 'जिसको ईश्वर में विश्वास हो' के लिए एक शब्द है -

- Ans
- ✗ 1. सेवक
  - ✗ 2. पुजारी
  - ✓ 3. आस्तिक
  - ✗ 4. भक्त

Question ID : 9895807199  
Chosen Option : 3

Q.6 दिए गए वाक्य का वह भाग ज्ञात करें जिसमें कोई त्रुटि है।  
यहाँ से उठकर वे अपने घर को ओर मुड़ने ही वाले थे।

- Ans
- ✗ 1. वे अपने
  - ✗ 2. मुड़ने ही वाले थे।
  - ✓ 3. घर को ओर
  - ✗ 4. यहाँ से उठकर

Question ID : 9895807177  
Chosen Option : 4

Q.7 रिक्त स्थान को भरने के लिए उपयुक्त शब्द का चयन करें।

भूखे को तो चन्द्र और सूर्य भी केवल आटे की बड़ी-बड़ी दो \_\_\_\_\_ से प्रतीत होते हैं।

- Ans
- ✗ 1. गेंद
  - ✓ 2. रोटियों
  - ✗ 3. गुड़ियाँ
  - ✗ 4. गोलियाँ

Question ID : 9895807185  
Chosen Option : 2

Q.8 'माता' का पर्यायवाची शब्द है-

Ans

- 1. वनिता
- 2. जननी
- 3. माही
- 4. स्त्री

Question ID : 9895807195  
Chosen Option : 2

Q.9 दिए गए वाक्य का वह भाग ज्ञात करें जिसमें कोई त्रुटि है।

विद्वानों का अतिरिक्त विद्यार्थियों द्वारा भी कोश का प्रयोग किया जा सकता है।

- Ans
- 1. विद्वानों का अतिरिक्त
  - 2. किया जा सकता है।
  - 3. कोश का प्रयोग
  - 4. विद्यार्थियों द्वारा भी

Question ID : 9895807178  
Chosen Option : 1

Q.10 'डंके की चोट पर कहना' मुहावरे का अर्थ है-

- Ans
- 1. जोर से बोलना
  - 2. साधारण बात को बड़ा चढ़ा कर कहना
  - 3. खुलेआम कहना
  - 4. क्रोधित होकर कहना

Question ID : 9895807197  
Chosen Option : 3

Q.11 सही वर्तनी वाले शब्द का चयन करें।

- Ans
- 1. आदरणिय
  - 2. अदरणिय
  - 3. आदरणीय
  - 4. अदरणीय

Question ID : 9895807202  
Chosen Option : 3

Q.12 'प्रेम' शब्द का विलोम शब्द है-

- Ans
- 1. ईर्ष्या

2. जलन  
 3. घृणा  
 4. स्नेह

Question ID : 9895807193  
Chosen Option : 1

Q.1 <sub>3</sub> दिए गए वाक्य में रेखांकित खंड को प्रतिस्थापित करने के लिए उपयुक्त विकल्प का चयन करें।  
कैकयी का हृदय अत्यन्त निष्ठुर था।

- Ans  1. कुठार  
 2. कर्कश  
 3. कठिन  
 4. कठोर

Question ID : 9895807180  
Chosen Option : 4

Q.1 <sub>4</sub> दिए गए वाक्य में रेखांकित खंड को प्रतिस्थापित करने के लिए उपयुक्त विकल्प का चयन करें।  
उस जलस्रोत को देखकर मेरा चित्त प्रफुल्ल हो गया।

- Ans  1. खिन्न  
 2. पीड़ित  
 3. प्रसन्न  
 4. व्यथित

Question ID : 9895807181  
Chosen Option : 3

Q.1 <sub>5</sub> रिक्त स्थान को भरने के लिए उपयुक्त शब्द का चयन करें।

उत्साह एक यौगिक भाव है जिसमें साहस और आनंद का \_\_\_\_\_ रहता है।

- Ans  1. जोड़  
 2. विरोध  
 3. अंतर  
 4. मेल

Question ID : 9895807186  
Chosen Option : 4

Q.1 <sub>6</sub> 'जो बहुत कम जानता हो' के लिए एक शब्द है-

- Ans  1. अल्पज्ञ

- 2. बुद्धिहीन
- 3. अज्ञानी
- 4. मूर्ख

Question ID : 9895807200  
Chosen Option : 1

Q.1  
7 सही वर्तनी वाले शब्द का चयन करें।

- Ans
- 1. सभीपति
  - 2. साभापति
  - 3. सभापती
  - 4. सभापति

Question ID : 9895807201  
Chosen Option : 4

Q.1  
8 रिक्त स्थान को भरने के लिए उपयुक्त शब्द का चयन करें।

मैंने भाषण नहीं सुना \_\_\_\_\_ वह मेरे काम का नहीं था।

- Ans
- 1. इसीलिए
  - 2. कि
  - 3. क्योंकि
  - 4. अर्थात्

Question ID : 9895807183  
Chosen Option : 3

Q.1  
9 'शिष्ट' शब्द का विलोम शब्द है-

- Ans
- 1. दुर्जन
  - 2. शालीन
  - 3. अशिष्ट
  - 4. विशिष्ट

Question ID : 9895807194  
Chosen Option : 4

Q.2  
0 'हाथ पाँव फूलना' मुहावरे का अर्थ है-

- Ans
- 1. भय से घबराना
  - 2. बीमार होना



✗ 3. भाग जाना

✗ 4. गुस्सा होना

Question ID : 9895807198  
Chosen Option : 4

Comprehension:

निम्नलिखित गद्यांश के रिक्त स्थानों की पूर्ति गद्यांश के नीचे दिए गए प्रश्नों के अनुसार कीजिए-

किसी भी राष्ट्र के कुछ \_\_\_\_\_ (1) प्रतीक, यथा ध्वज, गान आदि जैसे महत्वपूर्ण चिह्न होते हैं, जिनसे एक \_\_\_\_\_ (2) देश अपनी अस्मिता और प्रभुसत्ता उद्घोषित करता है और इससे ही वह \_\_\_\_\_ (3) आदर एवं विश्वास प्राप्त करता है। \_\_\_\_\_ (4) चिह्न हमारे देश की विशिष्ट मोहर हैं। यह देश-प्रेमियों के कुछ विचारों और मूल्यों का \_\_\_\_\_ (5) भी होता है।

SubQuestion No : 21

Q.2  
1 गद्यांश में संकेतित रिक्त स्थान (1) के लिए उपयुक्त शब्द होगा।

- Ans
- ✓ 1. विशिष्ट
  - ✗ 2. शिष्ट
  - ✗ 3. अशिष्ट
  - ✗ 4. अवशिष्ट

Question ID : 9895807188  
Chosen Option : 1

Comprehension:

निम्नलिखित गद्यांश के रिक्त स्थानों की पूर्ति गद्यांश के नीचे दिए गए प्रश्नों के अनुसार कीजिए-

किसी भी राष्ट्र के कुछ \_\_\_\_\_ (1) प्रतीक, यथा ध्वज, गान आदि जैसे महत्वपूर्ण चिह्न होते हैं, जिनसे एक \_\_\_\_\_ (2) देश अपनी अस्मिता और प्रभुसत्ता उद्घोषित करता है और इससे ही वह \_\_\_\_\_ (3) आदर एवं विश्वास प्राप्त करता है। \_\_\_\_\_ (4) चिह्न हमारे देश की विशिष्ट मोहर हैं। यह देश-प्रेमियों के कुछ विचारों और मूल्यों का \_\_\_\_\_ (5) भी होता है।

SubQuestion No : 22

Q.2  
2

गद्यांश में संकेतित रिक्त स्थान (2) के लिए  
उपयुक्त शब्द होगा।

- Ans
- 1. लोकतंत्र
  - 2. राजतंत्र
  - 3. स्वतंत्र
  - 4. परतंत्र

Question ID : 9895807189  
Chosen Option : 1

Comprehension:

निम्नलिखित गद्यांश के रिक्त स्थानों की पूर्ति गद्यांश के नीचे दिए गए प्रश्नों के अनुसार कीजिए-

किसी भी राष्ट्र के कुछ \_\_\_\_\_ (1) प्रतीक, यथा ध्वज, गान आदि जैसे महत्वपूर्ण चिह्न होते हैं, जिनसे एक \_\_\_\_\_ (2) देश अपनी अस्मिता और प्रभुसत्ता उद्घोषित करता है और इससे ही वह \_\_\_\_\_ (3) आदर एवं विश्वास प्राप्त करता है। \_\_\_\_\_ (4) चिह्न हमारे देश की विशिष्ट मोहर हैं। यह देश-प्रेमियों के कुछ विचारों और मूल्यों का \_\_\_\_\_ (5) भी होता है।

SubQuestion No : 23

Q.2  
3 गद्यांश में संकेतित रिक्त स्थान (3) के लिए  
उपयुक्त शब्द होगा।

- Ans
- 1. भौतिक
  - 2. ऐकान्तिक
  - 3. शारीरिक
  - 4. सार्वजनिक

Question ID : 9895807190  
Chosen Option : 4

Comprehension:



निम्नलिखित गद्यांश के रिक्त स्थानों की पूर्ति गद्यांश के नीचे दिए गए प्रश्नों के अनुसार कीजिए-

किसी भी राष्ट्र के कुछ \_\_\_\_\_ (1) प्रतीक, यथा ध्वज, गान आदि जैसे महत्वपूर्ण चिह्न होते हैं, जिनसे एक \_\_\_\_\_ (2) देश अपनी अस्मिता और प्रभुसत्ता उद्घोषित करता है और इससे ही वह \_\_\_\_\_ (3) आदर एवं विश्वास प्राप्त करता है। \_\_\_\_\_ (4) चिह्न हमारे देश की विशिष्ट मोहर हैं। यह देश-प्रेमियों के कुछ विचारों और मूल्यों का \_\_\_\_\_ (5) भी होता है।

SubQuestion No : 24

Q.2  
4 गद्यांश में संकेतित रिक्त स्थान (4) के लिए उपयुक्त शब्द होगा।

- Ans
- 1. ग्रामीण
  - 2. शहरी
  - 3. राष्ट्रीय
  - 4. नागरिक

Question ID : 9895807191  
Chosen Option : 3

Comprehension:

निम्नलिखित गद्यांश के रिक्त स्थानों की पूर्ति गद्यांश के नीचे दिए गए प्रश्नों के अनुसार कीजिए-

किसी भी राष्ट्र के कुछ \_\_\_\_\_ (1) प्रतीक, यथा ध्वज, गान आदि जैसे महत्वपूर्ण चिह्न होते हैं, जिनसे एक \_\_\_\_\_ (2) देश अपनी अस्मिता और प्रभुसत्ता उद्घोषित करता है और इससे ही वह \_\_\_\_\_ (3) आदर एवं विश्वास प्राप्त करता है। \_\_\_\_\_ (4) चिह्न हमारे देश की विशिष्ट मोहर हैं। यह देश-प्रेमियों के कुछ विचारों और मूल्यों का \_\_\_\_\_ (5) भी होता है।

SubQuestion No : 25

Q.2  
5 गद्यांश में संकेतित रिक्त स्थान (5) के लिए उपयुक्त शब्द होगा।

- Ans
- 1. प्रतीक
  - 2. समीप
  - 3. समान
  - 4. प्रताप