

Constable (GD) in CAPFs, NIA, SSF and Rifleman (GD) in Assam Rifles Examination, 2018

Roll No. :	GovtJobsAlert.In
Registration No.	GovtJobsAlert.In
Name :	GovtJobsAlert.In
Exam Venue :	Gyanada Institute Of Computer Training
Exam Time :	12:30 PM - 2:00 PM
Exam Date :	09/03/2019

Section : General Section

Q.1 उस विकल्प का चयन करें जो सही रूप में रिक्त स्थान की पूर्ति करते हुए श्रृंखला को पूरा करें।

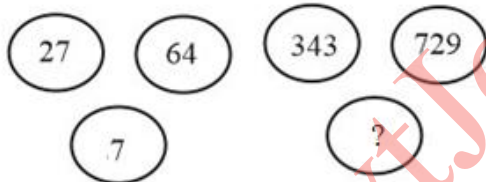
J, N, R, V, _____

- Ans
- 1. Z
 - 2. D
 - 3. G
 - 4. V

Question ID : 9895809273

Chosen Option : 1

Q.2 दिए गए विकल्पों में से लुप्त संख्या ज्ञात करें।



- Ans
- 1. 8
 - 2. 25
 - 3. 16
 - 4. 9

Question ID : 9895809290

Chosen Option : 3

Q.3 यदि RAYMOND को 2795431 के रूप में और OLD को 461 के रूप में लिखते हैं, तो DALMO को कैसे लिखा जाएगा?

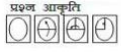
- Ans
- 1. 15764
 - 2. 17654
 - 3. 17653
 - 4. 15476

Question ID : 9895809280

Chosen Option : 2

Q.4

नीचे प्रश्न आकृति में दर्शाये गए तरीके से एक कागज को मोड़ा और काटा गया है। इस कागज को खोलने पर, दी गयी उत्तर आकृतियों में से कौन सी आकृति दिखाई देगी?



Ans



Question ID : 9895809296
Chosen Option : 3

Q.5 उस विकल्प का चयन करें जो सही रूप में रिक्त स्थान की पूर्ति करते हुए श्रृंखला को पूरा करें।

14, 21, 42, 105, 315, _____

Ans

1. 1102.5

2. 1302.5

3. 1202.5

4. 1002.5

Question ID : 9895809286
Chosen Option : 2

Q.6 उस विकल्प का चयन करें जो तीसरे पद से उसी तरह संबंधित है जिस प्रकार दूसरा पद पहले पद से संबंधित है।

12 : 62 :: 14 : _____

Ans

1. 75

2. 72

3. 70

4. 80

Question ID : 9895809288
Chosen Option : 2

Q.7 यदि '÷' का अर्थ '+', '-' का अर्थ 'x', 'x' का अर्थ '-', और '+' का अर्थ '÷', तो:

$$664 + 4 \div 34 \times 28 = ?$$

Ans

1. 172

2. 162

3. 185

4. 165

Question ID : 9895809291
Chosen Option : 1

Q.8 अनिल, सन्नी से लम्बा है जो बेबी से छोटा है। अनिल, बोस से लम्बा है, जो सन्नी से छोटा है। बेबी, अनिल से छोटी है। यह बताइए कि कौन सबसे छोटा है?

Ans

✓ 1. बोस

✗ 2. अनिल

✗ 3. सन्नी

✗ 4. बेबी

Question ID : 9895809283

Chosen Option : 3

Q.9 एक निश्चित कूट भाषा में, FORMAT को CLOJXQ के रूप में कूटबद्ध किया जाता है। उस कूट भाषा में FONT कैसे कूटबद्ध किया जाता है?

Ans ✗ 1. CKLO

✓ 2. CLKQ

✗ 3. CLOQ

✗ 4. CKLQ

Question ID : 9895809279

Chosen Option : 2

Q.1 निम्नलिखित में से कौन सी उत्तर आकृति दी गई आकृति को पूरा करेगी?

प्रश्न आकृति:



Ans

✗ 1.

✗ 2.

✓ 3.

✗ 4.

Question ID : 9895809293

Chosen Option : 1

Q.1 दिए गए विकल्पों में से संबंधित शब्द युग्म का चयन करें।

एफिल टॉवर: फ्रांस :: _____ : _____

Ans ✓ 1. ताजमहल: भारत

✗ 2. अलहम्ब्रा: ब्राज़ील

✗ 3. ओपेरा हाउस: चीन

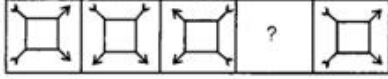
✗ 4. स्टैचू ऑफ लिबर्टी: ऑस्ट्रेलिया

Question ID : 9895809276

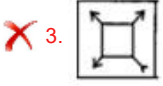
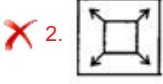
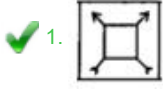
Chosen Option : 1

Q.1 वह विकल्प चुनें जो दी गई आकृति श्रृंखला को पूरा करता है

प्रश्न आकृति



Ans



Question ID : 9895809292

Chosen Option : 1

Q.1 नीचे दिए गए कथनों के बाद दो निष्कर्ष I और II दिए गए हैं। यह मानते हुए कि कथनों में दी गई जानकारी सत्य है, भले ही वह सर्वज्ञात तथ्यों से भिन्न प्रतीत होती हो और यह निर्णय करें कि कौन सा / से निष्कर्ष तार्किक और निश्चित रूप से कथन में दी गई जानकारी का अनुसरण करता है / करते हैं।

कथन:

सभी मकान, नदियाँ हैं।
सभी नदियाँ, जंगल हैं।
कोई जंगल फूल नहीं है।

निष्कर्ष:

I. कोई मकान, फूल नहीं है।
II. कोई फूल, मकान नहीं है।

Ans

✓ 1. निष्कर्ष I और II दोनों अनुसरण करते हैं

✗ 2. केवल निष्कर्ष I अनुसरण करता है

✗ 3. या निष्कर्ष I या II अनुसरण करता है

✗ 4. केवल निष्कर्ष II अनुसरण करता है

Question ID : 9895809284

Chosen Option : 1

Q.1 दिए गए विकल्पों में से संबंधित शब्द युग्म का चयन करें।

एन्टोमोलॉजी: कीड़े :: _____ : _____

Ans

✗ 1. फिजियोलॉजी : पौधे

✗ 2. वायरोलॉजी : कवक

✗ 3. ऊर्लॉजी : शंख

✓ 4. फाइकोलॉजी : शैवाल

Question ID : 9895809277

Chosen Option : 2

Q.1 5 उस विकल्प का चयन करें जो दर्पण को दायीं ओर रखे जाने पर दि गई आकृति की दर्पण छवि से सर्वाधिक मेल खाता है।



Ans

- 1.
- 2.
- 3.
- 4.

Question ID : 9895809295
Chosen Option : 1

Q.1 6 चार विकल्प दिए गए हैं, जिनमें से तीन किसी तरह से समान हैं, जबकि एक अलग है। असंगत का चयन करें।

1. 08-17
2. 13-12
3. 11-14
4. 14-13

Question ID : 9895809289
Chosen Option : 4

Q.1 7 वेन आरेख का चयन करें जो दिए गए तीन वर्गों के बीच के संबंध को सर्वोत्तम दर्शाता है।

ग्रह, पृथ्वी, सूर्य

- 1.
- 2.
- 3.
- 4.

Question ID : 9895809297
Chosen Option : 1

Q.1 8 उस विकल्प का चयन करें जो तीसरे पद से उसी तरह संबंधित है जिस प्रकार दूसरा पद पहले पद से संबंधित है।

mmnrstt : nnoostuu :: eefghhij : ?

1. hgfijjk
2. fghhijk
3. fgghijk

✘ 4. ffhgijjk

Question ID : 9895809278
Chosen Option : 2

Q.1 उस विकल्प आकृति का चयन करें, जिसमें प्रश्न आकृति छिपी हुई/ अंतर्निहित है।

प्रश्न आकृति:



Ans



Question ID : 9895809294
Chosen Option : 3

Q.2 A, B, C, D, E, F और G केंद्र की ओर मुख किये हुए एक वृत्त की चारों ओर बैठे हैं। D, A के बाएँ से तीसरे स्थान पर बैठा है जो की F के बाएँ दूसरे स्थान पर बैठा है। E, F या D का पड़ोसी नहीं है। C, B के बाएँ तीसरे स्थान पर बैठा है।

E की स्थिति F के संबंध में क्या है?

Ans

✘ 1. बाएँ से दूसरा

✘ 2. बाएँ से चौथा

✔ 3. बाएँ से तीसरा

✘ 4. जानकारी अपर्याप्त है

Question ID : 9895809282
Chosen Option : 2

Q.2 नीचे दिए गए कथनों के बाद दो निष्कर्ष I और II दिए गए हैं। यह मानते हुए कि कथनों में दी गई जानकारी सत्य है, भले ही वह सर्वज्ञात तथ्यों से भिन्न प्रतीत होती हो और यह निर्णय करें कि कौन सा / से निष्कर्ष तार्किक और निश्चित रूप से कथन में दी गई जानकारी का अनुसरण करता है / करते हैं।

कथन:

कुछ बिस्तर कुर्सी हैं।

सभी कुर्सियाँ मेज़ हैं।

सभी मेज़ टेबल हैं।

निष्कर्ष:

I. कुछ टेबल बिस्तर हैं।

II. कुछ मेज़ बिस्तर हैं।

Ans

✘ 1. केवल निष्कर्ष I अनुसरण करता है

✔ 2. निष्कर्ष I और II दोनों अनुसरण करते हैं

✗ 3. केवल निष्कर्ष ॥ अनुसरण करता है

✗ 4. या निष्कर्ष । या ॥ अनुसरण करता है

Question ID : 9895809285

Chosen Option : 4

Q.2
2 चार शब्द दिए गए हैं, जिनमें से तीन किसी तरह से समान हैं, जबकि एक अलग है। असंगत शब्द का चयन करें।

Ans ✗ 1. साझेदारी

✗ 2. प्रोपराइटरशिप

✗ 3. व्यापारसंध

✓ 4. नौकरी

Question ID : 9895809275

Chosen Option : 1

Q.2
3 मोना, कनक, जॉन, हनी, ईशा और लारा एक सिनेमा घर में फिल्म देख रहे हैं जिसकी स्क्रीन, उत्तर में है। वे एक निश्चित प्रकार से बैठे हैं?

(i) केवल कनक, हनी और जॉन के बीच बैठी है।

(ii) लारा, मोना के दाएं बैठी है, जो बिल्कुल बाएं छोर पर बैठी है।

(iii) ईशा, जॉन के तुरंत दाएं है।

बिल्कुल दाएं छोर पर कौन बैठा/ बैठी है?

Ans ✗ 1. कनक

✗ 2. हनी

✗ 3. जॉन

✓ 4. ईशा

Question ID : 9895809281

Chosen Option : 3

Q.2
4 उस विकल्प का चयन करें जो सही रूप में रिक्त स्थान की पूर्ति करते हुए श्रृंखला को पूरा करें।

25, 100, 200, 800, 1600, _____

Ans ✗ 1. 6600

✗ 2. 8400

✓ 3. 6400

✗ 4. 7400

Question ID : 9895809287

Chosen Option : 3

Q.2
5 चार अक्षर समूह दिए गए हैं, जिनमें से तीन किसी तरह से समान हैं, जबकि एक अलग है। असंगत अक्षर समूह का चयन करें।

Ans ✗ 1. UBC

✗ 2. RYZ

✓ 3. FGM

✗ 4. IPQ

Question ID : 9895809274
Chosen Option : 3

Q.2
6 शैवाल मानव जाति के लिए उपयोगी हैं क्योंकि ये:

- Ans
- ✓ 1. ऑक्सीजन के निर्माण में सहायक होते हैं।
 - ✗ 2. गंदे स्थानों को साफ करने में मददगार होते हैं।
 - ✗ 3. ओज़ोन परत बनाने में सहायक होते हैं।
 - ✗ 4. कार्बन डाइऑक्साइड के निर्माण में सहायक होते हैं।

Question ID : 9895809462
Chosen Option : 1

Q.2
7 कुम्भ मेला 2019 का आयोजन गंगा, यमुना और _____ नदी के संगम स्थल पर किया गया।

- Ans
- ✗ 1. कावेरी
 - ✗ 2. गोदावरी
 - ✓ 3. सरस्वती
 - ✗ 4. ब्रह्मपुत्र

Question ID : 9895809450
Chosen Option : 2

Q.2
8 पर्यावरण की रक्षा के लिए तीन R हैं:

- Ans
- ✗ 1. रिपेयर, रिसाइकल, रीयूज
 - ✗ 2. रिड्यूंस, रिसाइकल, रिपेयर
 - ✗ 3. रिड्यूंस, रिपेयर, रीयूज
 - ✓ 4. रिड्यूंस, रिसाइकल, रीयूज

Question ID : 9895809469
Chosen Option : 2

Q.2
9 स्वतंत्रता के अधिकार की गारंटी की अनुच्छेद में दी गई है?

- Ans
- ✓ 1. 19
 - ✗ 2. 21
 - ✗ 3. 11
 - ✗ 4. 15

Question ID : 9895809461
Chosen Option : 1

Q.3
0 राजकोषीय नीति और फेडरल रिजर्व समान कैसे हैं?

- Ans
- ✗ 1. पारित करने से पहले उन्हें हमेशा कांग्रेस की मंजूरी चाहिए।

✗ 2.

वे दोनों आर्थिक समस्याओं को ठीक करने के लिए एक ही साधन का उपयोग करते हैं।

✗ 3. इन दोनों के पास बोर्ड ऑफ गवर्नर हैं।

✓ 4.

वे दोनों आर्थिक स्थिरता को बढ़ावा देने की कोशिश करते हैं।

Question ID : 9895809458
Chosen Option : 1

Q.3
1 अम्लीय एवं क्षारीय तत्वों के निर्धारण के लिए हम लिटमस पत्र अथवा _____ का उपयोग कर सकते हैं।

Ans ✗ 1. लवण

✗ 2. शर्करा

✗ 3. सोडा एश

✓ 4. हल्दी

Question ID : 9895809463
Chosen Option : 3

Q.3
2 हाल ही में चेन्नई के डीएमके नेता _____ की प्रतिमा का अनावरण किया गया।

Ans ✗ 1. एम.जी. रामचंद्रन

✗ 2. जे. जयललिता

✗ 3. एम.के. स्टालिन

✓ 4. एम. करुणानिधि

Question ID : 9895809455
Chosen Option : 4

Q.3
3 भारतीय रिज़र्व बैंक की मौद्रिक नीति का मुख्य उद्देश्य _____ को बनाए रखना होता है।

Ans ✗ 1. विनिमय दर

✗ 2. विकास

✗ 3. संपत्ति

✓ 4. मूल्य स्थिरता

Question ID : 9895809456
Chosen Option : 2

Q.3
4 भारतीय संविधान में धार्मिक स्वतंत्रता के अधिकार का उद्देश्य क्या है?

Ans ✗ 1. पूंजीवाद के सिद्धांत को बनाए रखना

✓ 2. धर्मनिरपेक्षता के सिद्धांत को बनाए रखना

✗ 3. मितव्ययिता के सिद्धांत को बनाए रखना

✗ 4. संघवाद के सिद्धांत को बनाए रखना

Question ID : 9895809460
Chosen Option : 2

Q.3
5 प्रजनन में अन्तर्निहित भिन्नता लैंगिक प्रजनन और _____ की विफलता के कारण होती है।

- Ans
- 1. DNA के काँपी होने
 - 2. DNA गुणन
 - 3. DNA मिलान
 - 4. DNA विभाजन

Question ID : 9895809465
Chosen Option : 2

Q.3
6 सत्याग्रह की शक्ति ने किस शक्ति पर जोर दिया?

- Ans
- 1. गरीबी
 - 2. सत्य
 - 3. दुर्बलता
 - 4. क्षमता

Question ID : 9895809471
Chosen Option : 1

Q.3
7 ओलिंपिक काउंसिल ऑफ एशिया (OCA) ने किस जापानी महिला तैराक को 2018 जकार्ता और पालेमबांग एशियाई खेलों में सर्वाधिक मूल्यवान खिलाड़ी (MVP) ट्रॉफी अवार्ड के विजेता के रूप में चुना है?

- Ans
- 1. कट्सुमी नाकामुरा
 - 2. रिकाको आइकी
 - 3. झांग लिन
 - 4. रयोसुके आइअर

Question ID : 9895809452
Chosen Option : 4

Q.3
8 हाल में घोषित बैंक विलय में विजया बैंक, देना बैंक और _____ शामिल हैं।

- Ans
- 1. इंडियन ओवरसीज़ बैंक
 - 2. बैंक ऑफ़ बड़ौदा
 - 3. भारतीय स्टेट बैंक
 - 4. स्टेट बैंक ऑफ़ मैसूर

Question ID : 9895809457
Chosen Option : 3

Q.3
9 ICC विश्व कप 2019 तक भारतीय क्रिकेट टीम के नए मुख्य कोच कौन हैं?

- Ans
- 1. कपिल देव
 - 2. रवि शास्त्री
 - 3. सुनील गावस्कर

✗ 4. अनिल कुंबले

Question ID : 9895809451
Chosen Option : 2

Q.4
0 जलियांवाला बाग कांड कहाँ हुआ था?

- Ans
- ✗ 1. कश्मीर
 - ✗ 2. दिल्ली
 - ✗ 3. केरल
 - ✓ 4. पंजाब

Question ID : 9895809472
Chosen Option : 2

Q.4
1 भारतीय संविधान के अनुसार इंडिया को _____ के रूप में भी जाना जाता है।

- Ans
- ✗ 1. दक्षिण एशिया
 - ✗ 2. आर्यावर्त
 - ✓ 3. भारत
 - ✗ 4. हिंदुस्तान

Question ID : 9895809459
Chosen Option : 4

Q.4
2 परिवहन का सबसे सस्ता साधन क्या है?

- Ans
- ✓ 1. जलमार्ग
 - ✗ 2. सड़क मार्ग
 - ✗ 3. वायुमार्ग
 - ✗ 4. रेलमार्ग

Question ID : 9895809467
Chosen Option : 4

Q.4
3 स्थलीय पारिस्थितिकी में हरे पेड़ पौधे सूर्य के प्रकाश की ऊर्जा का लगभग _____ ग्रहण करते हैं।

- Ans
- ✗ 1. 4%
 - ✗ 2. 2%
 - ✗ 3. 3%
 - ✓ 4. 1%

Question ID : 9895809468
Chosen Option : 2

Q.4
4 2017 के लिए अंग्रेजी के साहित्य अकादमी पुरस्कार विजेता कौन थे?

- Ans
- ✗ 1. राणा अयूब

- 2. शशि थरूर
- 3. चेतन भगत
- 4. ममांग दई

Question ID : 9895809453
Chosen Option : 3

Q.4 निरजन वन प्रान्तों में उगने वाले बिच्छू-बूटी के पौधे अपनी सुरक्षा के लिए _____ का उपयोग करते हैं।

- Ans
- 1. काँटे
 - 2. स्प्रे
 - 3. गंध
 - 4. रोयें

Question ID : 9895809464
Chosen Option : 2

Q.4 'ओडुंथुल्लल' नृत्य शैली किस राज्य से संबंधित है?

- Ans
- 1. आंध्रप्रदेश
 - 2. मणिपुर
 - 3. तमिलनाडु
 - 4. केरल

Question ID : 9895809448
Chosen Option : 3

Q.4 _____ को ब्रिटिश शासन से पहले भूमि की माप की एक इकाई के रूप में जाना जाता था। बंगाल में भूमि का आकार विविध था, अंग्रेजों ने इसे एकड़ के लगभग एक-तिहाई के रूप में का मानकीकृत किया।

- Ans
- 1. फैथम
 - 2. पेस
 - 3. लिक
 - 4. बीघा

Question ID : 9895809470
Chosen Option : 4

Q.4 लोकप्रिय गायक केदारनाथ भट्टाचार्य किस नाम से अधिक विख्यात हैं?

- Ans
- 1. किशोर कुमार
 - 2. बप्पी लाहिड़ी
 - 3. अरिजीत सिंह
 - 4. कुमार सानू

Question ID : 9895809449
Chosen Option : 2

Q.4 हम विद्युत् चालक में विद्युत् धारा की तुलना _____ से कर सकते हैं।

- Ans
- 1. इंटर-सिटी रेल यात्रा
 - 2. नदी में जल धाराओं
 - 3. एक शहर में बस यात्रा
 - 4. सड़क पर चल रहे लोगों

Question ID : 9895809466
Chosen Option : 2

Q.5 हाल ही में आई एक पुस्तक और फिल्म 'द एक्सीडेंटल प्राइम मिनिस्टर' में मुख्य किरदार कौन हैं?

- Ans
- 1. मनमोहन सिंह
 - 2. इंदिरा गाँधी
 - 3. राहुल गाँधी
 - 4. नरेन्द्र मोदी

Question ID : 9895809454
Chosen Option : 3

Q.5 X काम करने में Y से दोगुना अच्छा है। वे एक साथ 18 दिन में काम पूरा कर देते हैं। अलग-अलग उस कार्य को पूरा करने में प्रत्येक को कितना दिन लगेगा?

- Ans
- 1. X = 19 दिन, Y = 38 दिन
 - 2. X = 9 दिन, Y = 18 दिन
 - 3. X = 27 दिन, Y = 54 दिन
 - 4. X = 21 दिन, Y = 42 दिन

Question ID : 9895809638
Chosen Option : 2

Q.5 779, 943 और 123 का लघुत्तम समापवर्त्य _____ है।

- Ans
- 1. 53751
 - 2. 71668
 - 3. 17917
 - 4. 35834

Question ID : 9895809623
Chosen Option : 3

Q.5 एक दुकानदार शुक्रवार को एक बिक्री का आयोजन करता है, जिसमें सभी वस्तुओं पर 23% की छूट दी जाती है। फिर भी, उसे केवल 10% का लाभ होता है। क्रय मूल्य अंकित मूल्य से कितना प्रतिशत कम था?

Ans

✓ 1. 30%

✗ 2. 15%

✗ 3. 10%

✗ 4. 20%

Question ID : 9895809628

Chosen Option : 1

Q.5 एक खोखले बेलन की बाहरी त्रिज्या 4 cm और ऊंचाई 2 cm है, 1 cm मोटी धातु शीट से बना है। प्रयुक्त धातु का आयतन क्या है? ($\pi = \frac{22}{7}$, लीजिए)

Ans ✗ 1. 56 cm³

✗ 2. 40 cm³

✓ 3. 44 cm³

✗ 4. 65 cm³

Question ID : 9895809644

Chosen Option : 1

Q.5 निम्नलिखित समीकरण में प्रश्न चिह्न (?) के स्थान पर क्या लगभग मान आना चाहिए?

5 $\frac{1}{6}$ का $(\frac{1}{3}$ का $\frac{1}{9}$ का $\frac{1}{9}$) = ?

Ans ✗ 1. $\frac{1}{9}$

✗ 2. $\frac{1}{3}$

✓ 3. $\frac{1}{2}$

✗ 4. $\frac{1}{6}$

Question ID : 9895809625

Chosen Option : 3

Q.5 $\frac{1}{10} \times \frac{1}{20}$ का $\frac{4}{5} \div \frac{4}{5} = ?$

Ans ✓ 1. $\frac{1}{2}$

✗ 2. $\frac{1}{15}$

✗ 3. $\frac{1}{5}$

✗ 4. $\frac{1}{10}$

Question ID : 9895809624

Chosen Option : 4

Q.5 एक व्यक्ति किसी वस्तु को 20% के लाभ पर बेचना चाहता है लेकिन उसने इसे 20% की हानि पर ₹ 480 में बेचा।
7 आवश्यक लाभ प्राप्त करने के लिए उसे किस मूल्य पर बेचना चाहिए था?

- Ans
- 1. ₹ 840
 - 2. ₹ 750
 - 3. ₹ 720
 - 4. ₹ 600

Question ID : 9895809631
Chosen Option : 3

Q.5 एक वितरण का बहुलक 24 और माध्य 60 है। उसकी माध्यिका क्या है?

- Ans
- 1. 48
 - 2. 51
 - 3. 50
 - 4. 45

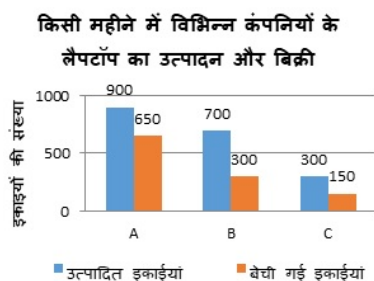
Question ID : 9895809629
Chosen Option : 2

Q.5 15 m त्रिज्या के गोलाकार उद्यान में, ₹ 24 प्रति sq. m की दर से बगीचे के अंदर 2 m चौड़े मार्ग का निर्माण किया
9 जाना है। मार्ग बनाने की लागत कितनी होगी? ($\pi = \frac{22}{7}$, लीजिए)

- Ans
- 1. ₹ 4355
 - 2. ₹ 4100
 - 3. ₹ 4224
 - 4. ₹ 3864

Question ID : 9895809642
Chosen Option : 3

Q.6 नीचे दिए गए प्रश्नों के उत्तर देने के लिए निम्नलिखित ग्राफ का ध्यानपूर्वक अध्ययन करें।



सभी कंपनियों के द्वारा कुल उत्पादन का औसत क्या है?

- Ans
- 1. $633\frac{1}{3}$
 - 2. $625\frac{1}{3}$
 - 3. $633\frac{2}{3}$

✗ 4. $623\frac{1}{3}$

Question ID : 9895809647
Chosen Option : 1

Q.6
1 यदि A का 20% B का 35% तो A : B = _____

- Ans
- ✗ 1. 1 : 2
 - ✗ 2. 2 : 3
 - ✗ 3. 5 : 7
 - ✓ 4. 7 : 4

Question ID : 9895809633
Chosen Option : 4

Q.6
2 A, B और C एक काम को ₹ 550 में पूरा करने का ठेका लेते हैं। यदि A और B मिलकर काम का $\frac{7}{11}$ भाग पूरा करते हैं, तो C का हिस्सा क्या है?

- Ans
- ✗ 1. ₹ 150
 - ✓ 2. ₹ 200
 - ✗ 3. ₹ 100
 - ✗ 4. ₹ 210

Question ID : 9895809639
Chosen Option : 2

Q.6
3 यदि ₹ 2000 की मूलधन को 10% वार्षिक दर से चक्रवृद्धि ब्याज पर उधार में दिया जाता है, तो दूसरे वर्ष का ब्याज क्या होगा?

- Ans
- ✗ 1. ₹ 225
 - ✗ 2. ₹ 200
 - ✗ 3. ₹ 440
 - ✓ 4. ₹ 220

Question ID : 9895809637
Chosen Option : 3

Q.6
4 12% के साधारण वार्षिक ब्याज दर से ₹ 500 और 10% के साधारण वार्षिक ब्याज दर से एक निश्चित राशि निवेश की गई है। यदि 4 वर्ष पश्चात दोनों निवेश की गयी राशि का कुल ब्याज ₹ 480 है, तो द्वितीय निवेशित राशि कितनी है?

- Ans
- ✗ 1. ₹ 450
 - ✗ 2. ₹ 550
 - ✓ 3. ₹ 600

✗ 4. ₹ 750

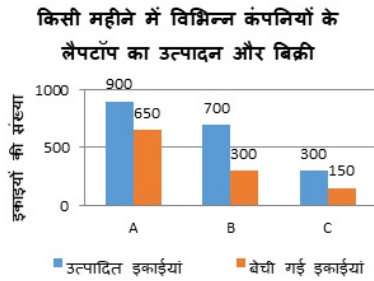
Question ID : 9895809636
Chosen Option : 1

Q.6 समांतर चतुर्भुज की दो समीपवर्ती भुजा 12 cm और 9 cm हैं। और एक कोण 30° है। समांतर चतुर्भुज का क्षेत्रफल
5 ज्ञात कीजिए।

- Ans
- ✗ 1. 96 sq. cm
 - ✗ 2. 27 sq. cm
 - ✗ 3. 108 sq. cm
 - ✓ 4. 54 sq. cm

Question ID : 9895809643
Chosen Option : 4

Q.6 नीचे दिए गए प्रश्नों के उत्तर देने के लिए निम्नलिखित ग्राफ का ध्यानपूर्वक अध्ययन करें।



किस कंपनी की प्रतिशत बिक्री उसके उत्पादन के सापेक्ष 40% और 43% के बीच है?

- Ans
- ✗ 1. C
 - ✗ 2. A
 - ✓ 3. B
 - ✗ 4. B तथा C दोनों

Question ID : 9895809646
Chosen Option : 2

Q.6 2 संख्याओं का औसत ab है। यदि संख्या में से एक a है, तो दूसरी _____ है।

- Ans
- ✗ 1. $2b - a$
 - ✓ 2. $2ab - a$
 - ✗ 3. $2ab - b$
 - ✗ 4. $2a - b$

Question ID : 9895809626
Chosen Option : 2

Q.6 महेश और अजय की वर्तमान आयु का अनुपात 3 : 2 है। 8 वर्ष के बाद उनकी आयु का अनुपात 11 : 8 हो जाएगा।
8 महेश के पुत्र की वर्तमान आयु क्या होगी यदि उस की आयु अजय की वर्तमान आयु से आधी है?

Ans

✗ 1. 18 वर्ष

✗ 2. 16 वर्ष

✓ 3. 12 वर्ष

✗ 4. 15 वर्ष

Question ID : 9895809635

Chosen Option : 3

Q.6 एक निश्चित दूरी को तय करने में A और B द्वारा लिए गए समय का अनुपात 7 : 9 है। उनकी क्रमशः चालों का अनुपात क्या होगा?

Ans ✗ 1. 7 : 3

✗ 2. 7 : 9

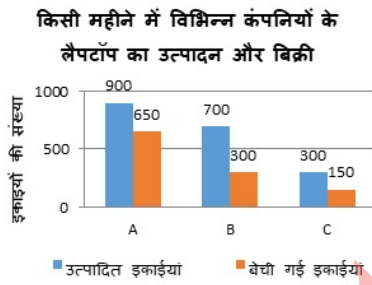
✗ 3. 3 : 7

✓ 4. 9 : 7

Question ID : 9895809640

Chosen Option : 4

Q.7 नीचे दिए गए प्रश्नों के उत्तर देने के लिए निम्नलिखित ग्राफ का ध्यानपूर्वक अध्ययन करें।



सभी कंपनियों के द्वारा बेची गई कुल लैपटॉप की इकाइयों की औसत संख्या है:

Ans ✗ 1. $391\frac{2}{3}$

✗ 2. $410\frac{2}{3}$

✓ 3. $366\frac{2}{3}$

✗ 4. $366\frac{1}{3}$

Question ID : 9895809645

Chosen Option : 3

Q.7 ट्रेन A 50 km की दूरी 30 मिनट में तय करती है। यदि ट्रेन B की चाल, ट्रेन A की चाल से 40% अधिक है, तो क्रमशः दोनों ट्रेन की चालों का अनुपात _____ है।

Ans ✓ 1. 5 : 7

✗ 2. 3 : 5

✗ 3. 5 : 3

✗ 4. 7 : 5

Question ID : 9895809641
Chosen Option : 1

Q.7 4 वयस्कों और कुछ नाबालिगों के परिवार में, प्रति माह प्रति व्यक्ति चावल की औसत खपत 8.5 kg है, जबकि
2 वयस्कों के लिए औसत खपत 10 kg प्रति व्यक्ति है और नाबालिगों के लिए यह 5.5 kg प्रति व्यक्ति है। परिवार में नाबालिगों की संख्या _____ है।

Ans

✗ 1. 4

✓ 2. 2

✗ 3. 5

✗ 4. 3

Question ID : 9895809627
Chosen Option : --

Q.7 यदि किसी संख्या का 50% किसी दूसरे संख्या के तीन चौथाई के बराबर है, तो संख्याओं के बीच का अनुपात क्या है?
3

Ans

✓ 1. 3 : 2

✗ 2. 2 : 5

✗ 3. 3 : 4

✗ 4. 5 : 2

Question ID : 9895809630
Chosen Option : 3

Q.7 जब एक साइकिल की कीमत में 20% की कमी होती है, तब बिक्री में 20% की वृद्धि होती है, तो कुल राजस्व पर
4 क्या प्रभाव पड़ता है?

Ans

✗ 1. न लाभ न हानि

✗ 2. 5% लाभ

✓ 3. 4% हानि

✗ 4. 4% लाभ

Question ID : 9895809632
Chosen Option : 3

Q.7 एक त्रिभुज की भुजाएँ 6 : 4 : 3 के अनुपात में हैं और इसका परिमाण 104 cm है। सबसे लम्बी भुजा की लंबाई
5 (cm) _____ है।

Ans

✓ 1. 48

✗ 2. 44

✗ 3. 56

✗ 4. 120

Question ID : 9895809634

Chosen Option : 1

Section : English Language

Q.1 Select the synonym of the given word.

ANNOY

- Ans
- ✗ 1. Please
 - ✓ 2. Irritate
 - ✗ 3. Satisfy
 - ✗ 4. Gratify

Question ID : 9895809814

Chosen Option : --

Q.2 Select the synonym of the given word.

ATTAIN

- Ans
- ✗ 1. Lose
 - ✗ 2. Prosper
 - ✗ 3. Abandon
 - ✓ 4. Achieve

Question ID : 9895809815

Chosen Option : --

Q.3 Select the antonym of the given word.

EVIDENT

- Ans
- ✗ 1. Conspicuous
 - ✗ 2. Apparent
 - ✗ 3. Noticeable
 - ✓ 4. Obscure

Question ID : 9895809817

Chosen Option : --

Q.4 Identify the segment in the sentence which contains the grammatical error from the given options.

Sujata and Kavita were sent to buy groceries for their neighborhood shop.

- Ans
- ✗ 1. to buy
 - ✗ 2. for their
 - ✗ 3. were sent

✓ 4. Sujata and Kavita

Question ID : 9895809801
Chosen Option : --

Q.5 Select the wrongly spelt word.

- Ans
- ✗ 1. Guarantee
 - ✗ 2. Grandeur
 - ✓ 3. Government
 - ✗ 4. Grateful

Question ID : 9895809823
Chosen Option : --

Q.6 Identify the segment in the sentence which contains the grammatical error from the given options.

In clinics, you may have noticed sales representatives waiting with doctors.

- Ans
- ✗ 1. sales representatives
 - ✗ 2. waiting with
 - ✗ 3. may have noticed
 - ✓ 4. In clinics

Question ID : 9895809802
Chosen Option : --

Q.7 Select the wrongly spelt word.

- Ans
- ✗ 1. Grievous
 - ✓ 2. Glamourous
 - ✗ 3. Gauge
 - ✗ 4. Grandure

Question ID : 9895809822
Chosen Option : --

Q.8 Select the most appropriate option to substitute the underlined segment in the given sentence. If there is no need to substitute it, select No substitution required.

The merchant distributes work among the weavers based on the orders received.

- Ans
- ✓ 1. between weaver
 - ✗ 2. No substitution required
 - ✗ 3. among all of the weavers
 - ✗ 4. among weaver

Question ID : 9895809805
Chosen Option : --

Q.9 Select the meaning of the given idiom.

To beat about the bush

- Ans
- ✗ 1. To talk too much

- 2. To avoid coming to the point
- 3. To be aggressive
- 4. To punish an innocent person

Question ID : 9895809819
Chosen Option : --

Q.1 0 Select the most appropriate option to substitute the underlined segment in the given sentence. If there is no need to substitute it, select No substitution required.

People in urban areas could have enter markets without stepping out of their homes via the Internet.

- Ans
- 1. No substitution required
 - 2. can enter markets
 - 3. could entered markets
 - 4. can entered markets

Question ID : 9895809803
Chosen Option : --

Comprehension:

In the following passage some words have been deleted. Fill in the blanks with the help of the alternatives given. Select the most appropriate option for each number.

A dam is built across a river at sites where one can (1) _____ a lot of water. This forms (2) _____ reservoir and as the water collects, it (3) _____ vast areas of land. This is (4) _____ the wall of the dam across the river is high and the (5) _____ spreads over a large area.

SubQuestion No : 11

Q.1 1 Select the most appropriate option that will fill in the blank number 1

- Ans
- 1. flow
 - 2. dispose
 - 3. collect
 - 4. assemble

Question ID : 9895809809
Chosen Option : --

Comprehension:

In the following passage some words have been deleted. Fill in the blanks with the help of the alternatives given. Select the most appropriate option for each number.

A dam is built across a river at sites where one can (1) _____ a lot of water. This forms (2) _____ reservoir and as the water collects, it (3) _____ vast areas of land. This is (4) _____ the wall of the dam across the river is high and the (5) _____ spreads over a large area.

SubQuestion No : 12

Q.1 2

Select the most appropriate option that will fill in the blank

number 2

- Ans
- 1. one
 - 2. an
 - 3. a
 - 4. the

Question ID : 9895809810

Chosen Option : --

Comprehension:

In the following passage some words have been deleted. Fill in the blanks with the help of the alternatives given. Select the most appropriate option for each number.

A dam is built across a river at sites where one can (1) _____ a lot of water. This forms (2) _____ reservoir and as the water collects, it (3) _____ vast areas of land. This is (4) _____ the wall of the dam across the river is high and the (5) _____ spreads over a large area.

SubQuestion No : 13

Q.1 Select the most appropriate option that will fill in the blank

number 3

- Ans
- 1. divides
 - 2. ruins
 - 3. separates
 - 4. submerges

Question ID : 9895809811

Chosen Option : --

Comprehension:

In the following passage some words have been deleted. Fill in the blanks with the help of the alternatives given. Select the most appropriate option for each number.

A dam is built across a river at sites where one can (1) _____ a lot of water. This forms (2) _____ reservoir and as the water collects, it (3) _____ vast areas of land. This is (4) _____ the wall of the dam across the river is high and the (5) _____ spreads over a large area.

SubQuestion No : 14

Q.1 Select the most appropriate option that will fill in the blank

number 4

- Ans
- 1. yet
 - 2. because
 - 3. though
 - 4. so

Question ID : 9895809812

Comprehension:

In the following passage some words have been deleted. Fill in the blanks with the help of the alternatives given. Select the most appropriate option for each number.

A dam is built across a river at sites where one can (1) _____ a lot of water. This forms (2) _____ reservoir and as the water collects, it (3) _____ vast areas of land. This is (4) _____ the wall of the dam across the river is high and the (5) _____ spreads over a large area.

SubQuestion No : 15

Q.1
5 Select the most appropriate option that will fill in the blank

number 5

- Ans
- 1. river
 - 2. dam
 - 3. land
 - 4. water

Question ID : 9895809813

Chosen Option : --

Q.1
6 Select the word which means the same as the group of words given.

A solution or remedy for all difficulties or diseases.

- Ans
- 1. Dilemma
 - 2. Ailment
 - 3. Riddle
 - 4. Panacea

Question ID : 9895809821

Chosen Option : --

Q.1
7 Select the most appropriate word to fill in the blank.

When dams are built, thousands of people _____.

- Ans
- 1. were displaced
 - 2. was displaced
 - 3. are displaced
 - 4. is displaced

Question ID : 9895809807

Chosen Option : --

Q.1
8 Select the most appropriate option to substitute the underlined segment in the given sentence. If there is no need to substitute it, select No substitution required.Very often, the small farmers needed to borrowed money to meet high expenses.

- Ans
- 1. No substitution required
 - 2. needing to borrow

3. needs to borrow

4. need to borrow

Question ID : 9895809804

Chosen Option : --

Q.1
9 Select the antonym of the given word.

MOURNFUL

Ans 1. Sorrowful

2. Depressed

3. Melancholy

4. Joyous

Question ID : 9895809816

Chosen Option : --

Q.2
0 Select the word which means the same as the group of words given.

A person of unconventional and slightly strange views or behaviour

Ans 1. Traditional

2. Conventional

3. Eccentric

4. Wholesome

Question ID : 9895809820

Chosen Option : --

Q.2
1 Select the meaning of the given idiom.

To take heart

Ans 1. To love everyone

2. To be emotional

3. To gain confidence

4. To take matter seriously

Question ID : 9895809818

Chosen Option : --

Q.2
2 Select the most appropriate word to fill in the blank.

The wages of daily workers are fixed according _____ their skills.

Ans 1. to

2. with

3. from

4. of

Question ID : 9895809806

Chosen Option : --

Q.2
3 Select the most appropriate word to fill in the blank.

By her _____ manner, she made herself liked by everyone who met her.

- Ans
- 1. sublime
 - 2. curious
 - 3. winsome
 - 4. victorious

Question ID : 9895809825
Chosen Option : --

Q.2
4 Identify the segment in the sentence which contains the grammatical error from the given options.

One of the advantages of weekly markets is that much things are available at one place.

- Ans
- 1. much things
 - 2. weekly markets
 - 3. one place
 - 4. One of the

Question ID : 9895809800
Chosen Option : --

Q.2
5 Select the most appropriate word to fill in the blank.

All attempts to _____ our late leader have failed. People still love him and cherish his memory.

- Ans
- 1. demolish
 - 2. damage
 - 3. distress
 - 4. defame

Question ID : 9895809824
Chosen Option : --

Section : Hindi Language

Q.1 दिए गए वाक्य का वह भाग ज्ञात करें जिसमें कोई त्रुटि है।

गाँधी जी वकालत छोड़कर देश के स्वतंत्रता संग्राम पर कूद पड़े।

- Ans
- 1. स्वतंत्रता संग्राम पर कूद पड़े।
 - 2. वकालत छोड़कर
 - 3. देश के
 - 4. गाँधी जी

Question ID : 9895809931
Chosen Option : 3

Q.2 सही वर्तनी वाले शब्द का चयन करें।

Ans

- 1. औदार
- 2. औदारिता
- 3. ओदार्य
- 4. औदार्य

Question ID : 9895809954
Chosen Option : 4

Q.3 दिए गए वाक्य में रेखांकित खंड को प्रतिस्थापित करने के लिए उपयुक्त विकल्प का चयन करें।
हमारे विद्यालय में वर्ष में एक बार होने वाले समारोह की तैयारियाँ हो रही हैं।

- Ans
- 1. त्रिमासिक
 - 2. त्रयोदशी
 - 3. वार्षिक
 - 4. अर्द्धवार्षिक

Question ID : 9895809935
Chosen Option : 3

Q.4 'जिसे छोड़ा न जा सके' के लिए एक शब्द प्रयुक्त होता है-

- Ans
- 1. असामान्य
 - 2. कठिन
 - 3. अपरिहार्य
 - 4. असाधारण

Question ID : 9895809953
Chosen Option : 2

Q.5 'आँखे फेर लेना' मुहावरे का अर्थ है-

- Ans
- 1. क्रोधित होना
 - 2. प्रतिकूल होना
 - 3. गुस्सा होना
 - 4. धोखा देना

Question ID : 9895809950
Chosen Option : 4

Q.6 दिए गए वाक्य में रेखांकित खंड को प्रतिस्थापित करने के लिए उपयुक्त विकल्प का चयन करें।

आगरा का ताजमहल ऐतिहासिक है, जो देखने योग्य है।

- Ans
- 1. सर्वप्रिय
 - 2. दिखावटी
 - 3. ऐतिहासिक

✓ 4. दर्शनीय

Question ID : 9895809933
Chosen Option : 4

Q.7 'विधि' शब्द का विलोम शब्द है-

- Ans
- ✓ 1. निषेध
 - ✗ 2. नकारात्मक
 - ✗ 3. दंड
 - ✗ 4. निधि

Question ID : 9895809946
Chosen Option : 1

Q.8 सही वर्तनी वाले शब्द का चयन करें।

- Ans
- ✗ 1. अवश्यकता
 - ✗ 2. आवस्यकता
 - ✓ 3. आवश्यकता
 - ✗ 4. अवस्यकता

Question ID : 9895809955
Chosen Option : 3

Q.9 'कल पड़ना' मुहावरे का अर्थ है-

- Ans
- ✗ 1. अस्थिर होना
 - ✗ 2. पश्चाताप करना
 - ✓ 3. चैन मिलना
 - ✗ 4. चुप रहना

Question ID : 9895809951
Chosen Option : 2

Q.10 रिक्त स्थान को भरने के लिए उपयुक्त शब्द का चयन करें।

जो अपराध करता है, वह _____ है।

- Ans
- ✗ 1. समझदार
 - ✗ 2. बुद्धिमान
 - ✓ 3. दण्डनीय
 - ✗ 4. होशियार

Question ID : 9895809937
Chosen Option : 3

Q.11 दिए गए वाक्य का वह भाग ज्ञात करें जिसमें कोई त्रुटि है।

घटना के समय वह सोने में जाने वाली थी किन्तु न जा सकी।

- Ans
- 1. जाने वाली थी
 - 2. वह सोने में
 - 3. किन्तु न जा सकी।
 - 4. घटना के समय

Question ID : 9895809930
Chosen Option : 3

Q.1
2 'सम्पत्ति' शब्द का विलोम शब्द है-

- Ans
- 1. धन
 - 2. कष्ट
 - 3. समस्या
 - 4. विपत्ति

Question ID : 9895809947
Chosen Option : 4

Q.1
3 रिक्त स्थान को भरने के लिए उपयुक्त शब्द का चयन करें।

उसने परीक्षा दी, किंतु उसे _____ नहीं मिली।

- Ans
- 1. तारीख
 - 2. सफलता
 - 3. प्रतिभा
 - 4. योग्यता

Question ID : 9895809939
Chosen Option : 2

Q.1
4 दिए गए वाक्य में रेखांकित खंड को प्रतिस्थापित करने के लिए उपयुक्त विकल्प का चयन करें।

राम और श्याम दोनों साथ काम करने वाले हैं।

- Ans
- 1. सहपाठी
 - 2. सहकर्मी
 - 3. दूरदर्शी
 - 4. दुराचारी

Question ID : 9895809934
Chosen Option : 2

Comprehension:

निम्नलिखित गद्यांश के रिक्त स्थानों की पूर्ति गद्यांश के नीचे दिए गए प्रश्नों के अनुसार कीजिए -

एक बार ऐसा हुआ कि गुजरात देश में बड़ा _____ (1) अकाल पड़ा। उन दिनों गुजरात में कवि भारवि रहते थे। उन्होंने सोचा इस अकाल में चलकर राजा भोज की ही _____ (2) लें, वह विद्वानों का _____ (3) करता है और धन भी देता है। कवि की स्त्री को यह बात _____ (4) आई और दोनों स्त्री-पुरुष राजा भोज के _____ (5) में जाने के लिए निकल पड़े।

SubQuestion No : 15

Q.1 गद्यांश में संकेतित रिक्त स्थान (1) के लिए उपयुक्त शब्द होगा-

- Ans
- 1. अनिश्चित
 - 2. भारी
 - 3. हलका
 - 4. निश्चित

Question ID : 9895809941
Chosen Option : 1

Comprehension:

निम्नलिखित गद्यांश के रिक्त स्थानों की पूर्ति गद्यांश के नीचे दिए गए प्रश्नों के अनुसार कीजिए -

एक बार ऐसा हुआ कि गुजरात देश में बड़ा _____ (1) अकाल पड़ा। उन दिनों गुजरात में कवि भारवि रहते थे। उन्होंने सोचा इस अकाल में चलकर राजा भोज की ही _____ (2) लें, वह विद्वानों का _____ (3) करता है और धन भी देता है। कवि की स्त्री को यह बात _____ (4) आई और दोनों स्त्री-पुरुष राजा भोज के _____ (5) में जाने के लिए निकल पड़े।

SubQuestion No : 16

Q.1
6 गद्यांश में संकेतित रिक्त स्थान (2) के लिए

उपयुक्त शब्द होगा-

- Ans
- 1. खबर
 - 2. शरण
 - 3. समाचार
 - 4. सूचना

Question ID : 9895809942

Chosen Option : 1

Comprehension:

निम्नलिखित गद्यांश के रिक्त स्थानों की पूर्ति गद्यांश के नीचे दिए गए प्रश्नों के अनुसार कीजिए -

एक बार ऐसा हुआ कि गुजरात देश में बड़ा _____ (1) अकाल पड़ा। उन दिनों गुजरात में कवि भारवि रहते थे। उन्होंने सोचा इस अकाल में चलकर राजा भोज की ही _____ (2) लें, वह विद्वानों का _____ (3) करता है और धन भी देता है। कवि की स्त्री को यह बात _____ (4) आई और दोनों स्त्री-पुरुष राजा भोज के _____ (5) में जाने के लिए निकल पड़े।

SubQuestion No : 17

Q.1
7 गद्यांश में संकेतित रिक्त स्थान (3) के लिए

उपयुक्त शब्द होगा-

- Ans
- 1. निरादर
 - 2. तिरस्कार
 - 3. अपमान
 - 4. आदर

Question ID : 9895809943

Chosen Option : 2

Comprehension:

निम्नलिखित गद्यांश के रिक्त स्थानों की पूर्ति गद्यांश के नीचे दिए गए प्रश्नों के अनुसार कीजिए -

एक बार ऐसा हुआ कि गुजरात देश में बड़ा _____ (1) अकाल पड़ा। उन दिनों गुजरात में कवि भारवि रहते थे। उन्होंने सोचा इस अकाल में चलकर राजा भोज की ही _____ (2) लें, वह विद्वानों का _____ (3) करता है और धन भी देता है। कवि की स्त्री को यह बात _____ (4) आई और दोनों स्त्री-पुरुष राजा भोज के _____ (5) में जाने के लिए निकल पड़े।

SubQuestion No : 18

Q.1 गद्यांश में संकेतित रिक्त स्थान (4) के लिए उपयुक्त शब्द होगा-

- Ans
- 1. रोचक
 - 2. नापसंद
 - 3. अपसंद
 - 4. पसन्द

Question ID : 9895809944
Chosen Option : 2

Comprehension:

निम्नलिखित गद्यांश के रिक्त स्थानों की पूर्ति गद्यांश के नीचे दिए गए प्रश्नों के अनुसार कीजिए -

एक बार ऐसा हुआ कि गुजरात देश में बड़ा _____ (1) अकाल पड़ा। उन दिनों गुजरात में कवि भारवि रहते थे। उन्होंने सोचा इस अकाल में चलकर राजा भोज की ही _____ (2) लें, वह विद्वानों का _____ (3) करता है और धन भी देता है। कवि की स्त्री को यह बात _____ (4) आई और दोनों स्त्री-पुरुष राजा भोज के _____ (5) में जाने के लिए निकल पड़े।

SubQuestion No : 19

Q.1 गद्यांश में संकेतित रिक्त स्थान (5) के लिए

उपयुक्त शब्द होगा-

- Ans
- 1. गांव
 - 2. दरबार
 - 3. घाट
 - 4. घरबार

Question ID : 9895809945
Chosen Option : 2

Q.2 'दूर की सोचने वाला' के लिए एक शब्द प्रयुक्त होता है-

- Ans
- 1. दूरदर्शी
 - 2. भविष्यवक्ता
 - 3. समदर्शी
 - 4. ज्योतिषी

Question ID : 9895809952
Chosen Option : 2

Q.2 'गंगा' का पर्यायवाची शब्द है-

- Ans
- 1. कालिन्दी
 - 2. सरिता
 - 3. नदी
 - 4. मंदाकिनी

Question ID : 9895809948
Chosen Option : 2

Q.2 'सखा' का पर्यायवाची शब्द है-

- Ans
- 1. हमसफर
 - 2. राहगीर
 - 3. अखंड
 - 4. मित्र

Question ID : 9895809949
Chosen Option : 4

Q.2 रिक्त स्थान को भरने के लिए उपयुक्त शब्द का चयन करें।

आचरण की सभ्यतामयी भाषा सदा _____ रहती है।

- Ans
- 1. प्रखर
 - 2. मौन

3. कटु
 4. मुखर

Question ID : 9895809938
Chosen Option : 3

Q.2
4 रिक्त स्थान को भरने के लिए उपयुक्त शब्द का चयन करें।

जंगल में _____ अंधकार था।

- Ans 1. विशाल
 2. अधिक
 3. महान
 4. घना

Question ID : 9895809936
Chosen Option : 4

Q.2
5 दिए गए वाक्य का वह भाग ज्ञात करें जिसमें कोई त्रुटि है।

मानव जीवन की सार्थकता परहित के लिए बलिदान करने का भावना में निहित है।

- Ans 1. मानव जीवन की सार्थकता
 2. में निहित है।
 3. बलिदान करने का भावना
 4. परहित के लिए

Question ID : 9895809932
Chosen Option : 2