

Constable (GD) in CAPFs, NIA, SSF and Rifleman (GD) in Assam Rifles Examination, 2018

Roll No. :	GovtJobsAlert.In
Registration No.	GovtJobsAlert.In
Name :	GovtJobsAlert.In
Exam Venue :	Uttaranchal University
Exam Time :	4:00 PM - 5:30 PM
Exam Date :	09/03/2019

Section : General Section

Q.1 यदि 'L' का अर्थ 'x', 'N' का अर्थ '+', 'O' का अर्थ '+', और 'M' का अर्थ '-', तो:

$$1000 O 5 N 66 M 33 = ?$$

- Ans
- 1. 483
 - 2. 333
 - 3. 433
 - 4. 233

Question ID : 9895809316
Chosen Option : 4

Q.2 मोना, कनक, जॉन, हनी, ईशा और लारा एक सिनेमा घर में फिल्म देख रहे हैं जिसकी स्क्रीन, उत्तर में है। वे एक निश्चित प्रकार से बैठे हैं?

- (i) केवल कनक, हनी और जॉन के बीच बैठी है।
- (ii) लारा, मोना के दाएं बैठी है, जो बाएं छोर पर बैठी है।
- (iii) ईशा, जॉन के तुरंत दाएं है।

कनक और लारा के बीच कौन बैठा/बैठी है?

- Ans
- 1. ईशा
 - 2. मोना
 - 3. जॉन
 - 4. हनी

Question ID : 9895809306
Chosen Option : 1

Q.3

दिए गए विकल्पों में से लुप्त संख्या ज्ञात करें।

64	125	216	343
216	405	512	?

- Ans
- 1. 1096
 - 2. 1051
 - 3. 1324
 - 4. 1071

Question ID : 9895809315
Chosen Option : 1

Q.4 यदि दर्पण, AB रेखा पर रखा जाता है, तो दी गई आकृतियों में से कौन सी उत्तर आकृति की सही छवि है?

प्रश्न आकृति:



- Ans
- 1.
 - 2.
 - 3.
 - 4.

Question ID : 9895809320
Chosen Option : 1

Q.5 A, B, C, D, E, F और G केंद्र की ओर मुख किये हुए एक वृत्त की चारों ओर बैठे हैं। D, A के बाएँ से तीसरे स्थान पर बैठा है जो की F के बाएँ दूसरे स्थान पर बैठा है। E, F या D का पड़ोसी नहीं है। C, B के बाएँ तीसरे स्थान पर बैठा है।

G और B की बीच कौन बैठा है?

- Ans
- 1. केवल F
 - 2. केवल D
 - 3. जानकारी अपर्याप्त है
 - 4. F और D दोनों

Question ID : 9895809307
Chosen Option : 1

Q.6 उस विकल्प का चयन करें जो तीसरे पद से उसी तरह संबंधित है जिस प्रकार दूसरा पद पहले पद से संबंधित है।

EFR : RFE :: DJT : ?

- Ans
- 1. TDJ

- 2. JTD
- 3. DTJ
- 4. TJD

Question ID : 9895809303
Chosen Option : 4

Q.7 चार विकल्प दिए गए हैं, जिनमें से तीन किसी तरह से समान हैं, जबकि एक अलग है। असंगत का चयन करें।

- Ans 1. 16-81
- 2. 49-64
 - 3. 4-9
 - 4. 25-36

Question ID : 9895809314
Chosen Option : 3

Q.8 उस विकल्प का चयन करें जो सही रूप में रिक्त स्थान की पूर्ति करे हुए श्रृंखला को पूरा करें।

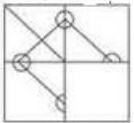
8, 13, 21, 38, 62, 99, _____

- Ans 1. 136
- 2. 147
 - 3. 116
 - 4. 126

Question ID : 9895809312
Chosen Option : 4

Q.9 निम्नलिखित में से कौन सी उत्तर आकृति दी गई आकृति को पूरा करेगी?

प्रश्न आकृति:



- Ans 1.
- 2.
 - 3.
 - 4.

Question ID : 9895809318

Chosen Option : 2

Q.1 एक निश्चित कूट भाषा में, MISSION को MJSSJPN के रूप में कूटबद्ध किया जाता है। उस कोड में LIBRARY कैसे कूटबद्ध किया जाता है?

- Ans
- ✗ 1. LBKRBRZ
 - ✗ 2. LKBRBRZ
 - ✓ 3. LJBRBRY
 - ✗ 4. LJBRYRB

Question ID : 9895809304
Chosen Option : 3

Q.1 वह विकल्प चुनें जो दी गई आकृति श्रृंखला को पूरा करता है

प्रश्न आकृति



- Ans
- ✗ 1.
 - ✗ 2.
 - ✓ 3.
 - ✗ 4.

Question ID : 9895809317
Chosen Option : 3

Q.1 यदि GLOBALLY को 61374118 और CITY को 2958 के रूप में लिखते हैं, तो BOAT को कैसे लिखा जाएगा?

- Ans
- ✗ 1. 7354
 - ✓ 2. 7345
 - ✗ 3. 7321
 - ✗ 4. 7365

Question ID : 9895809305
Chosen Option : 2

Q.1 उस विकल्प का चयन करें जो सही रूप में रिक्त स्थान की पूर्ति करते हुए श्रृंखला को पूरा करें।

R, U, X, A, _____

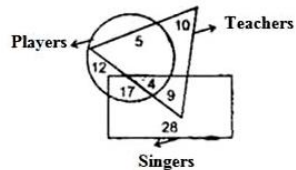
- Ans
- ✓ 1. D
 - ✗ 2. T

3. F

4. C

Question ID : 9895809298
Chosen Option : 4

Q.1 4 दिए गए वेन आरेख में कौन सी संख्या ऐसे खिलाड़ियों को दर्शाती है जो न तो शिक्षक हैं और न ही गायक?



Ans 1. 17

2. 12

3. 4

4. 5

Question ID : 9895809322
Chosen Option : 2

Q.1 5 उस विकल्प का चयन करें जो सही रूप में रिक्त स्थान की पूर्ति करे हुए श्रृंखला को पूरा करें।

12, 14, 17, 15, 22, 16, _____

Ans 1. 27

2. 17

3. 18

4. 30

Question ID : 9895809311
Chosen Option : 3

Q.1 6 चार अक्षर समूह दिए गए हैं, जिनमें से तीन किसी तरह से समान हैं, जबकि एक अलग है। असंगत अक्षर समूह का चयन करें।

Ans 1. AUrs

2. EAfg

3. vwOA

4. eaWT

Question ID : 9895809299
Chosen Option : 3

Q.1
7

नीचे दिए गए कथनों के बाद दो निष्कर्ष I और II दिए गए हैं। यह मानते हुए कि कथनों में दी गई जानकारी सत्य है, भले ही वह सर्वज्ञात तथ्यों से भिन्न प्रतीत होती हो और यह निर्णय करें कि कौन सा / से निष्कर्ष तार्किक और निश्चित रूप से कथन में दी गई जानकारी का अनुसरण करता है / करते हैं।

कथन:

सभी चूड़ी अंगूठी हैं।

कुछ अंगूठी खिलौने हैं।

कुछ खिलौने गुड़ियाँ हैं।

निष्कर्ष:

I. कुछ अंगूठी चूड़ी हैं।

II. कुछ गुड़ियाँ अंगूठी हैं।

Ans

1. केवल निष्कर्ष II अनुसरण करता है
2. केवल निष्कर्ष I अनुसरण करता है
3. या निष्कर्ष I या II अनुसरण करता है
4. न निष्कर्ष I न II अनुसरण करते हैं

Question ID : 9895809310
Chosen Option : 2

Q.1 नीचे प्रश्न आकृति में दर्शाये गए तरीके से एक कागज़ को मोड़ा और काटा गया है। इस कागज़ को खोलने पर दी गयी उत्तर आकृतियों में से कौन सी आकृति दिखाई देगी?

प्रश्न आकृति:



Ans

1.
2.
3.
4.

Question ID : 9895809321
Chosen Option : 1

Q.1 उस विकल्प का चयन करें जो तीसरे पद से उसी तरह संबंधित है जिस प्रकार दूसरा पद पहले पद से संबंधित है।

20 : 25 :: 8 : ?

Ans

1. 10
2. 7
3. 6

4. 9

Question ID : 9895809313
Chosen Option : 1

Q.2 एक पंक्ति में बच्चे उत्तर की ओर मुँह किये हुए हैं। उनमें समीर बाएँ से 17वाँ तथा जय के दाएँ दूसरा है, जो कि उस पंक्ति के दाएँ से 15वाँ है, तो पंक्ति में कितने बच्चे हैं?

- Ans
- 1. 24
 - 2. 31
 - 3. 30
 - 4. 29

Question ID : 9895809308
Chosen Option : 3

Q.2 उस विकल्प आकृति का चयन करें, जिसमें प्रश्न आकृति छिपी हुई/ अंतर्निहित है।

प्रश्न आकृति:



- Ans
- 1.
 - 2.
 - 3.
 - 4.

Question ID : 9895809319
Chosen Option : 1

Q.2 नीचे दिए गए कथनों के बाद दो निष्कर्ष I और II दिए गए हैं। यह मानते हुए कि कथनों में दी गई जानकारी सत्य है, भले ही वह सर्वज्ञात तथ्यों से भिन्न प्रतीत होती हो और यह निर्णय करें कि कौन सा / से निष्कर्ष तार्किक और निश्चित रूप से कथन में दी गई जानकारी का अनुसरण करता है / करते हैं।

कथन:

1. कुछ खिलाड़ी, गायक हैं।
2. सभी गायक, लंबे हैं।
3. कुछ खिलाड़ी, ताकतवर हैं।

निष्कर्ष:

- I. कुछ खिलाड़ी, लंबे हैं।
- II. सभी खिलाड़ी, ताकतवर हैं।

Ans 1. केवल निष्कर्ष I अनुसरण करता है

2. न निष्कर्ष । न ॥ अनुसरण करते है
3. केवल निष्कर्ष ॥ अनुसरण करता है
4. या निष्कर्ष । या ॥ अनुसरण करता है

Question ID : 9895809309

Chosen Option : 2

Q.2
3 दिए गए विकल्पों में से संबंधित शब्द युग्म का चयन करें।

पुस्तक : पृष्ठ :: _____ : _____

- Ans 1. हाथ : अंगुली
2. मोजे : पैर
3. टाई : शर्ट
4. गर्दन : कॉलर

Question ID : 9895809301

Chosen Option : 1

Q.2
4 दिए गए विकल्पों में से संबंधित शब्द युग्म का चयन करें।

रोजर फेडरर : टेनिस :: _____ : _____

- Ans 1. क्रिस्टियानो रोनाल्डो : क्रिकेट
2. पुलेला गोपीचंद : बैडमिंटन
3. प्रकाश पादुकोण : टेनिस
4. रिकी पॉटिंग : फुटबॉल

Question ID : 9895809302

Chosen Option : 1

Q.2
5 चार शब्द दिए गए हैं, जिनमें से तीन किसी तरह से समान हैं, जबकि एक अलग है। असंगत शब्द का चयन करें।

- Ans 1. पूर्वज
2. अभिभावक
3. भाई-बहन
4. माता-पिता

Question ID : 9895809300

Chosen Option : 2

Q.2
6 विम्बलडन 2018 में, महिला फाइनल की विजेता कौन थीं?

- Ans
- 1. एंजेलिक कर्बर
 - 2. वीनस विलियम्स
 - 3. मार्टिना हिंगिस
 - 4. सेरेना विलियम्स

Question ID : 9895809477
Chosen Option : 1

Q.2
7 मौलिक अधिकारों के एक भाग के रूप में भारतीय संविधान _____ के अधिकार की गारंटी देता है।

- Ans
- 1. यात्रा
 - 2. समानता
 - 3. तलाक
 - 4. विवाह

Question ID : 9895809486
Chosen Option : 2

Q.2
8 जनता लोकतंत्र से अपेक्षा करती है:

- Ans
- 1. प्रतिनिधियों के चुनाव में असमान सहभागिता पाने के लिए
 - 2. असमानता बढ़ाने के लिए
 - 3. प्रतिनिधियों के चुनाव में समान सहभागिता पाने के लिए
 - 4. परिणामतः गरीब देश बनाने के लिए

Question ID : 9895809484
Chosen Option : 3

Q.2
9 चूना पत्थर, चाक और संगमरमर _____ के अलग-अलग रूप हैं।

- Ans
- 1. सोडियम क्लोराइड
 - 2. कैल्शियम कार्बोनेट
 - 3. शर्करा
 - 4. सोडा एश

Question ID : 9895809488
Chosen Option : 1

Q.3
0 लाल शैवाल आम तौर पर _____ में पाए जाते हैं।

- Ans
- 1. पर्वतों

- 2. शहरों
- 3. मरुस्थलों
- 4. जल निकायों

Question ID : 9895809487
Chosen Option : 4

Q.3
1 भारत में, जिला सड़कों का रखरखाव किसके द्वारा किया जाता है?

- Ans
- 1. राज्य सरकार
 - 2. जिला परिषद्
 - 3. पंचायत
 - 4. केंद्र सरकार

Question ID : 9895809492
Chosen Option : 1

Q.3
2 माउंट एवरेस्ट पर चढ़ने वाली पहली भारतीय दिव्यांग महिला कौन है?

- Ans
- 1. मालावथ पूर्णा
 - 2. संतोष यादव
 - 3. अरुणिमा सिन्हा
 - 4. आरती साहा

Question ID : 9895809479
Chosen Option : 4

Q.3
3 'चार मीनार' कहाँ स्थित है?

- Ans
- 1. महाराष्ट्र
 - 2. मध्य प्रदेश
 - 3. केरल
 - 4. उत्तर प्रदेश

Question ID : 9895809475
Chosen Option : 1

Q.3
4 सिक्किम को 1975 में _____ संशोधन के माध्यम से भारतीय गणराज्य में शामिल किया गया।

- Ans
- 1. 12वें
 - 2. 36वें
 - 3. प्रथम
 - 4. 24वें

Question ID : 9895809485

Chosen Option : 2

Q.3
5 वह पहली भारतीय महिला वैज्ञानिक कौन थीं जिन्होंने कार्बनिक रसायन और औषधीय पौधे में काम किया था?

- Ans
- 1. आरती साहा
 - 2. असीम चटर्जी
 - 3. अनुसूया साराभाई
 - 4. अरुणा आसफ अली

Question ID : 9895809480

Chosen Option : 3

Q.3
6 टेरलीन _____ का एक प्रकार है।

- Ans
- 1. पॉलिएस्टर
 - 2. ऐक्रेलिक
 - 3. रेयान
 - 4. नायलॉन

Question ID : 9895809489

Chosen Option : 4

Q.3
7 त्यौहार 'मी-डैम-मी-फी' किस राज्य के ताई-अहोम समुदायों द्वारा मनाया जाता है?

- Ans
- 1. मिजोरम
 - 2. असम
 - 3. मणिपुर
 - 4. त्रिपुरा

Question ID : 9895809474

Chosen Option : 1

Q.3
8 क्षेत्रीय मराठा राजवंशों में होलकर राजवंश की स्थापना किसने की?

- Ans
- 1. दामाजी ।
 - 2. रघुजी
 - 3. मल्हार राव
 - 4. रामोजी

Question ID : 9895809496

Chosen Option : 1

Q.3

9 मुगा रेशम रेशमकीट का एक उत्पाद है, यह किस राज्य के लिए स्थानिक है?

- Ans
- 1. असम
 - 2. राजस्थान
 - 3. उत्तरप्रदेश
 - 4. तमिलनाडु

Question ID : 9895809473
Chosen Option : 1

Q.4 0 जॉर्ज जोहान मेंडेल ने _____ के अध्ययन के माध्यम से वंशानुक्रम का सिद्धांत प्रतिपादित किया था।

- Ans
- 1. जानवर
 - 2. मटर
 - 3. व्यक्ति
 - 4. गाजर

Question ID : 9895809490
Chosen Option : 2

Q.4 1 गंगा नदी की लम्बाई लगभग _____ km है।

- Ans
- 1. 5000
 - 2. 2000
 - 3. 1000
 - 4. 2500

Question ID : 9895809494
Chosen Option : 1

Q.4 2 भारत की GDP की विकास दर 2017 में कितनी थी?

- Ans
- 1. 11.1%
 - 2. 8.8%
 - 3. 4.5%
 - 4. 6.6%

Question ID : 9895809481
Chosen Option : 3

Q.4 3 आर्थिक शब्दों में, भूमंडलीकरण देशों के बीच तेजी से _____ होने वाली प्रक्रिया है।

- Ans
- 1. निवेश
 - 2. एकीकरण
 - 3. प्रतिस्पर्धा

✗ 4. परिवर्तन

Question ID : 9895809483
Chosen Option : 3

Q.4
4 फुटबॉल विश्व कप 2018 किसने जीता?

- Ans
- ✗ 1. क्रोएशिया
 - ✓ 2. फ्रांस
 - ✗ 3. ब्राजील
 - ✗ 4. जर्मनी

Question ID : 9895809476
Chosen Option : 1

Q.4
5 स्वयं के प्राथमिक महत्व में विश्वास, आत्मनिर्भरता और व्यक्तिगत स्वतंत्रता के गुणों को अर्थशास्त्र में _____ के रूप में संदर्भित किया जाता है।

- Ans
- ✗ 1. मितव्ययितावाद
 - ✗ 2. पूंजीवाद
 - ✗ 3. संघवाद
 - ✓ 4. व्यक्तिवाद

Question ID : 9895809482
Chosen Option : 4

Q.4
6 जहाँ दांडी नमक यात्रा की गई वह स्थान आज किस भारतीय राज्य में स्थित है?

- Ans
- ✗ 1. केरल
 - ✓ 2. गुजरात
 - ✗ 3. दिल्ली
 - ✗ 4. कश्मीर

Question ID : 9895809497
Chosen Option : 1

Q.4
7 बुक्सा टाइगर रिजर्व कहाँ स्थित है?

- Ans
- ✗ 1. उत्तर प्रदेश
 - ✗ 2. केरल
 - ✓ 3. पश्चिम बंगाल
 - ✗ 4. आंध्र प्रदेश

Question ID : 9895809493

Q.4 2017 के हिंदी के लिए साहित्य अकादमी पुरस्कार से किसे सम्मानित किया गया?

- Ans
- 1. रमेश मेघ
 - 2. राणा अयूब
 - 3. नासिरा शर्मा
 - 4. रमेश शाह

Question ID : 9895809478

Chosen Option : 1

Q.4 औपनिवेशिक शासकों ने औपनिवेशिक क्षेत्रों में लोगों को शिक्षित करने के लिए उच्च शिक्षा के प्रबंध नहीं किए, क्योंकि:

- Ans
- 1. अल्प शिक्षित लोग विद्रोह कर सकते थे।
 - 2. अधिक शिक्षित लोग विद्रोह कर सकते थे।
 - 3. अल्प शिक्षित लोग आज्ञापालन अधिक कर सकते थे।
 - 4. अधिक शिक्षित लोग आज्ञापालन अधिक कर सकते थे।

Question ID : 9895809495

Chosen Option : 4

Q.5 सामान्यतया किसी मिश्र धातु की प्रतिरोधकता इसके घटक धातुओं की प्रतिरोधकता से _____ होती है।

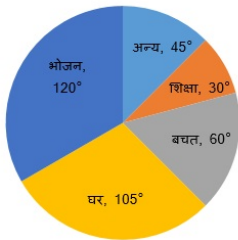
- Ans
- 1. अधिक
 - 2. समान
 - 3. असम्बद्ध
 - 4. कम

Question ID : 9895809491

Chosen Option : 1

Q.5 चार्ट का अध्ययन करें और पाई चार्ट के आधार पर प्रश्न के उत्तर दें।

1 नीचे दिया गया पाई चार्ट एक परिवार द्वारा एक महीने में विभिन्न मदों पर किए गए व्यय और बचत को दर्शाता है। परिवार की बचत एक महीने में ₹ 8000 है।



भोजन पर घर की अपेक्षा कितना अधिक खर्च होता है?

- Ans
- 1. ₹ 3,000
 - 2. ₹ 2,000

3. ₹ 1,000

4. ₹ 2,500

Question ID : 9895809672
Chosen Option : 1

Q.5
2 20, 25, 35, 15, a, 30 का औसत 22.5 है। a का मान _____ है।

Ans 1. 13

2. 12.5

3. 10

4. 15

Question ID : 9895809652
Chosen Option : 2

Q.5
3 ट्रेन 18' की चाल 180 km/hr है। 10 सेकंड में इसके द्वारा तय की गई दूरी है:

Ans 1. 500 मीटर

2. 100 मीटर

3. 700 मीटर

4. 648 मीटर

Question ID : 9895809665
Chosen Option : 1

Q.5
4 एक तांबे का तार $4\sqrt{3}$ cm² के क्षेत्रफल के एक समबाहु त्रिभुज के रूप में मुड़ा हुआ है। यदि समान तार को एक वर्ग के रूप में मोड़ा जाये तो, वर्ग का क्षेत्रफल होगा:

Ans 1. 16 sq. cm

2. 64 sq. cm

3. 144 sq. cm

4. 9 sq. cm

Question ID : 9895809668
Chosen Option : 3

Q.5
5 85 m और 155 m लम्बी दो ट्रेन क्रमशः 62 km/h और 82 km/h की गति से समानांतर पटरियों पर विपरीत दिशा में चल रही हैं। वे एक दूसरे को पार करने में कितना समय लेंगे?

Ans

1. 4 सेकंड

2. 6 सेकंड

3. 8 सेकंड

4. 5 सेकंड

Question ID : 9895809666
Chosen Option : 3

Q.5
6 एक कमरे की लंबाई, चौड़ाई और ऊँचाई 4 : 3 : 2 के अनुपात में है। ₹ 10 प्रति वर्गमीटर से फर्श पर कालीन बिछाने की लागत ₹ 480 है। कमरे की ऊँचाई ज्ञात कीजिए:

Ans 1. 2 m

2. 6 m

3. 10 m

4. 4 m

Question ID : 9895809667
Chosen Option : 3

Q.5
7 बिक्री के लिए किसी वस्तु का अंकित मूल्य ₹ 240 है। यदि अंकित मूल्य पर 10% और 5% की दो क्रमिक छूट दी जाती हैं, तो वस्तु का बिक्री मूल्य (₹ में) कितना होगा?

Ans 1. ₹ 204

2. ₹ 205.20

3. ₹ 36

4. ₹ 34.80

Question ID : 9895809653
Chosen Option : 2

Q.5
8 यदि A : B = 2 : 3, B : C = 3 : 4 और C : D = 3 : 5 तो A : B : C : D का मान _____ है।

Ans 1. 2 : 3 : 4 : 5

2. 6 : 9 : 15 : 20

3. 6 : 9 : 12 : 20

4. 2 : 3 : 5 : 12

Question ID : 9895809658
Chosen Option : 1

Q.5
9 एक संख्या का 25%, 300 है। वह संख्या _____ है।

- Ans
1. 1000
 2. 800
 3. 900
 4. 1200

Question ID : 9895809655
Chosen Option : 4

Q.6
0 ₹ 524 में किसी वस्तु को बेचकर अर्जित लाभ की राशि, ₹ 452 पर बेचने से हुई हानि की राशि के बराबर है। वस्तु का लागत मूल्य क्या है?

- Ans
1. ₹ 485
 2. ₹ 500
 3. ₹ 480
 4. ₹ 488

Question ID : 9895809657
Chosen Option : 2

Q.6
1 एक वृत्त और वर्ग का कुल क्षेत्रफल 2611 sq. cm के बराबर है। वृत्त का व्यास 42 cm है। वृत्त की परिधी और वर्ग के परिमाण का योग क्या है? ($\pi = \frac{22}{7}$ लीजिए)

- Ans
1. 272 cm
 2. निर्धारित नहीं किया जा सकता
 3. 380 cm
 4. 280 cm

Question ID : 9895809663
Chosen Option : 4

Q.6
2 निम्नलिखित प्रश्नों में प्रश्नवाचक चिह्न (?) के स्थान पर क्या लगभग मान आना चाहिए?

$$21 + 68 \div 17 = ?$$

- Ans
1. 25
 2. 10
 3. 35
 4. 40

Question ID : 9895809650
Chosen Option : 1

Q.6 $11^2 + 11^4 \div 11^3$ of $11 - 11 = ?$

- Ans
- 1. 101
 - 2. 111
 - 3. 121
 - 4. 131

Question ID : 9895809649
Chosen Option : 3

Q.6 एक व्यापारी ने 20% की हानि पर एक वस्तु बेची। यदि उसने इसे ₹ 100 अधिक में बेचा होता, तो उसे 5% का लाभ होता। वस्तु की लागत मूल्य क्या है?

- Ans
- 1. ₹ 25
 - 2. ₹ 250
 - 3. ₹ 200
 - 4. ₹ 400

Question ID : 9895809656
Chosen Option : 1

Q.6 8 cm त्रिज्या वाला एक वृत्त जिसका क्षेत्रफल, 8 cm आधार वाले त्रिभुज के क्षेत्रफल के बराबर है। तो त्रिभुज की समरूपी ऊंचाई की लंबाई _____ है।

- Ans
- 1. 8π cm
 - 2. 16π cm
 - 3. 18π cm
 - 4. 38π cm

Question ID : 9895809669
Chosen Option : 1

Q.6 एक निश्चित राशि पर एक निश्चित ब्याज दर पर दूसरे वर्ष के लिए साधारण ब्याज ₹ 1000 है। उस राशि पर 6 वें, 7 वें और 8 वें वर्ष के लिए अर्जित ब्याज का योग ज्ञात कीजिए।

- Ans
- 1. ₹ 3200
 - 2. ₹ 3300
 - 3. ₹ 3000
 - 4. ₹ 3630

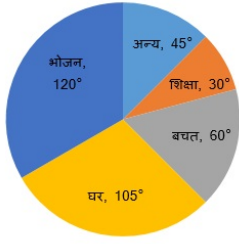
Question ID : 9895809661
Chosen Option : 3

Q.6
7

चार्ट का अध्ययन करें और पाई चार्ट के आधार पर प्रश्न के उत्तर दें।

नीचे दिया गया पाई चार्ट एक परिवार द्वारा एक महीने में विभिन्न मदों पर किए गए व्यय और बचत को दर्शाता है।

परिवार की बचत एक महीने में ₹ 8000 है।



खाने के खर्च का बचत के साथ अनुपात _____ है।

Ans

1. 3 : 4

2. 2 : 1

3. 3 : 2

4. 4 : 3

Question ID : 9895809670

Chosen Option : 3

Q.6
8

2, 4, 6, , 100 संख्याओं का औसत _____ हैं।

Ans

1. 49.5

2. 50.5

3. 51

4. 50

Question ID : 9895809651

Chosen Option : 4

Q.6
9

स्फिरिट और पानी का अनुपात 2 : 5 है। यदि मिश्रण की मात्रा केवल स्फिरिट जोड़कर 50% बढ़ा दी जाए तो मिश्रण

में स्फिरिट और पानी का परिणामी अनुपात क्या होगा?

Ans

1. 9 : 10

2. 11 : 10

3. 12 : 15

4. 3 : 4

Question ID : 9895809659

Chosen Option : 3

Q.7

0 यदि दो संख्याओं के बीच का अनुपात 3 : 4 है। यदि पहली और दूसरी संख्या में क्रमशः 40% और 50% की वृद्धि हुई है तो संख्याओं का नया अनुपात _____ है।

- Ans
- 1. 11 : 10
 - 2. 9 : 10
 - 3. 7 : 10
 - 4. 3 : 4

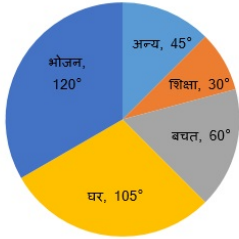
Question ID : 9895809660
Chosen Option : 3

Q.7 किसी आंकड़ों का बहुलक और माध्यिका के बीच का अंतर 25 है। माध्यिका और माध्य के बीच अंतर क्या है?

- Ans
- 1. 10.5
 - 2. 16
 - 3. 14
 - 4. 12.5

Question ID : 9895809654
Chosen Option : 4

Q.7 चार्ट का अध्ययन करें और पाई चार्ट के आधार पर प्रश्न के उत्तर दें।
नीचे दिया गया पाई चार्ट एक परिवार द्वारा एक महीने में विभिन्न मदों पर किए गए व्यय और बचत को दर्शाता है। परिवार की बचत एक महीने में ₹ 8000 है।



परिवार का एक महीने का कुल खर्च कितना है?

- Ans
- 1. ₹ 48,000
 - 2. ₹ 50,000
 - 3. ₹ 40,000
 - 4. ₹ 45,000

Question ID : 9895809671
Chosen Option : 3

Q.7 नितिन का पैसा चक्रवृद्धि ब्याज की दर से 4 वर्ष में दोगुना हो जाता है। चक्रवृद्धि ब्याज की दर से कितने वर्ष में यह सोलह गुना हो जाएगा?

- Ans
- 1. 24
 - 2. 16

3. 28

4. 20

Question ID : 9895809662
Chosen Option : 3

Q.7
4 चार अंको की सबसे छोटी संख्या कौन सी है जिसे 5, 6 और 8 से भाग देने पर शेषफल 2 प्राप्त होता है?

Ans 1. 1032

2. 1082

3. 1062

4. 1042

Question ID : 9895809648
Chosen Option : 1

Q.7
5 यदि 10 व्यक्ति किसी काम को 20 दिन में पूरा करते हैं। तो दुगुनी क्षमता वाले 20 व्यक्ति उसी काम को कितने दिन में कर सकते हैं?

Ans 1. 10

2. 15

3. 20

4. 5

Question ID : 9895809664
Chosen Option : 1

Section : English Language

Q.1 Select the wrongly spelt word.

Ans 1. Permanent

2. Possession

3. Personal

4. Particuler

Question ID : 9895809849
Chosen Option : -

Q.2 Select the most appropriate word to fill in the blank.

Stainless steel pans are usually provided _____ copper bottoms.

Ans

- 1. by
- 2. from
- 3. under
- 4. with

Question ID : 9895809832
Chosen Option : -

Q.3 Select the most appropriate option to substitute the underlined segment in the given sentence. If there is no need to substitute it, select No substitution required

The people living in the coastal areas experience a interested phenomenon.

- Ans
- 1. the interested phenomenon
 - 2. interestingly phenomenon
 - 3. No substitution required
 - 4. an interesting phenomenon

Question ID : 9895809831
Chosen Option : -

Q.4 Select the most appropriate word to fill in the blank.

People like to work for organizations that take interest in their personal and _____ growth.

- Ans
- 1. social
 - 2. financial
 - 3. professional
 - 4. physical

Question ID : 9895809851
Chosen Option : -

Q.5 Select the antonym of the given word.

CURSORY

- Ans
- 1. Temporary
 - 2. Superficial
 - 3. Casual
 - 4. Thorough

Question ID : 9895809842
Chosen Option : -

Q.6

Select the most appropriate word to fill in the blank.

Rumours spread that he _____ soon order the army to open fire.

- Ans
- 1. would be
 - 2. would
 - 3. will be
 - 4. would have

Question ID : 9895809833
Chosen Option : -

Q.7 Select the most appropriate option to substitute the underlined segment in the given sentence. If there is no need to substitute it, select No substitution required

A clinical thermometer consists of a long, narrow, uniform glass tube.

- Ans
- 1. consisted in a
 - 2. is containing the
 - 3. No substitution required
 - 4. composed of

Question ID : 9895809830
Chosen Option : -

Q.8 Identify the segment in the sentence which contains the grammatical error from the given options.

In winter, sheeps are kept indoors and fed on leaves, grain and dry fodder.

- Ans
- 1. sheeps are
 - 2. In winter
 - 3. fed on
 - 4. kept indoors

Question ID : 9895809826
Chosen Option : -

Q.9 Select the word which means the same as the group of words given.

The science of the causes and effects of diseases

- Ans
- 1. Physiology
 - 2. Cardiology
 - 3. Pathology
 - 4. Zoology

Question ID : 9895809847
Chosen Option : -

Q.1
0 Select the most appropriate word to fill in the blank.

Some regions of our country still remain _____ to the average man.

- Ans
- 1. explored
 - 2. inaccessible
 - 3. accessible
 - 4. impossible

Question ID : 9895809850
Chosen Option : -

Q.1
1 Select the antonym of the given word.

ELEGANT

- Ans
- 1. Unmatched
 - 2. Undignified
 - 3. Graceful
 - 4. Refined

Question ID : 9895809843
Chosen Option : -

Q.1
2 Select the most appropriate option to substitute the underlined segment in the given sentence. If there is no need to substitute it, select No substitution required.

The eggs are warmed to a suitable temperature for the larvae to hatching from eggs.

- Ans
- 1. hatched from eggs.
 - 2. to hatch from eggs.
 - 3. hatch from eggs.
 - 4. No substitution required

Question ID : 9895809829
Chosen Option : -

Q.1
3 Select the synonym of the given word.

JUSTICE

- Ans
- 1. Liberty
 - 2. Fairness
 - 3. Fraternity
 - 4. Equality

Question ID : 9895809840
Chosen Option : -

Comprehension:

In the following passage some words have been deleted. Fill in the blanks with the help of the alternatives given. Select the most appropriate option for each number.

Our stomach contains hydrochloric acid. It (1) _____ us to digest food, but too much acid (2) _____ the stomach causes indigestion. (3) _____ indigestion is painful. To (4) _____ indigestion, we take (5) _____ antacid such as milk of magnesia.

SubQuestion No : 14

Q.1
4 Select the most appropriate option that will fill in the blank
number 1

- Ans
- 1. benefits
 - 2. cures
 - 3. utilizes
 - 4. helps

Question ID : 9895809835
Chosen Option : -

Comprehension:

In the following passage some words have been deleted. Fill in the blanks with the help of the alternatives given. Select the most appropriate option for each number.

Our stomach contains hydrochloric acid. It (1) _____ us to digest food, but too much acid (2) _____ the stomach causes indigestion. (3) _____ indigestion is painful. To (4) _____ indigestion, we take (5) _____ antacid such as milk of magnesia.

SubQuestion No : 15

Q.1
5 Select the most appropriate option that will fill in the blank
number 2

- Ans
- 1. from
 - 2. of
 - 3. in
 - 4. at

Question ID : 9895809836
Chosen Option : -

Comprehension:

In the following passage some words have been deleted. Fill in the blanks with the help of the alternatives given. Select the most appropriate option for each number.

Our stomach contains hydrochloric acid. It (1) _____ us to digest food, but too much acid (2) _____ the stomach causes indigestion. (3) _____ indigestion is painful. To (4) _____ indigestion, we take (5) _____ antacid such as milk of magnesia.

SubQuestion No : 16

Q.1
6 Select the most appropriate option that will fill in the blank
number 3

- Ans
- 1. Always
 - 2. Whenever
 - 3. Sometimes
 - 4. Finally

Question ID : 9895809837
Chosen Option : -

Comprehension:

In the following passage some words have been deleted. Fill in the blanks with the help of the alternatives given. Select the most appropriate option for each number.

Our stomach contains hydrochloric acid. It (1) _____ us to digest food, but too much acid (2) _____ the stomach causes indigestion. (3) _____ indigestion is painful. To (4) _____ indigestion, we take (5) _____ antacid such as milk of magnesia.

SubQuestion No : 17

Q.1
7 Select the most appropriate option that will fill in the blank
number 4

- Ans
- 1. soften
 - 2. correct
 - 3. relieve
 - 4. better

Question ID : 9895809838
Chosen Option : -

Comprehension:

In the following passage some words have been deleted. Fill in the blanks with the help of the alternatives given. Select the most appropriate option for each number.

Our stomach contains hydrochloric acid. It (1) _____ us to digest food, but too much acid (2) _____ the stomach causes indigestion. (3) _____ indigestion is painful. To (4) _____ indigestion, we take (5) _____ antacid such as milk of magnesia.

SubQuestion No : 18

Q.1
8 Select the most appropriate option that will fill in the blank

number 5

- Ans
- 1. the
 - 2. one
 - 3. a
 - 4. an

Question ID : 9895809839
Chosen Option : -

Q.1
9 Select the synonym of the given word.

LETHARGIC

- Ans
- 1. Active
 - 2. Lazy
 - 3. Industrious
 - 4. DILIGENT

Question ID : 9895809841
Chosen Option : -

Q.2
0 Identify the segment in the sentence which contains the grammatical error from the given options.

The rearing of silkworms for obtained silk is called sericulture.

- Ans
- 1. silk is
 - 2. The rearing
 - 3. for obtained
 - 4. called sericulture

Question ID : 9895809827
Chosen Option : -

Q.2
1 Select the meaning of the given idiom.

Moot point

- Ans
- 1. Controversial issue
 - 2. Common Belief
 - 3. Basic idea
 - 4. Improper thought

Question ID : 9895809845
Chosen Option : -

Q.2
2 Select the meaning of the given idiom.

Cast the first stone

- Ans
- 1. To be deeply involved
 - 2. To be the first to find fault
 - 3. To start a fight
 - 4. To praise first of all

Question ID : 9895809844
Chosen Option : -

Q.2
3 Identify the segment in the sentence which contains the grammatical error from the given options.

The larvae, also called caterpillars eat day and night and increase enormous in size.

- Ans
- 1. enormous in size
 - 2. and increase
 - 3. eat day and night
 - 4. also called

Question ID : 9895809828
Chosen Option : -

Q.2
4 Select the wrongly spelt word.

- Ans
- 1. Humorous
 - 2. Harrassment
 - 3. Hindrance
 - 4. Hypocrisy

Question ID : 9895809848
Chosen Option : -

Q.2
5 Select the word which means the same as the group of words given.

The study of human societies and cultures and their development

- Ans
- 1. Anthropology
 - 2. Choreography

3. Physiotherapy

4. Calligraphy

Question ID : 9895809846
Chosen Option : -

Section : Hindi Language

Q.1 'टूट पड़ना' मुहावरे का अर्थ है-

Ans 1. सेना तैयार करना

2. आक्रमण कर देना

3. बिखर जाना

4. तोड़ना

Question ID : 9895809976
Chosen Option : 2

Q.2 सही वर्तनी वाले शब्द का चयन करें।

Ans 1. उपर्युक्त

2. ऊपरियुक्त

3. उपरियुक्त

4. ऊपर्युक्त

Question ID : 9895809981
Chosen Option : 4

Q.3 रिक्त स्थान को भरने के लिए उपयुक्त शब्द का चयन करें।

_____ को दण्ड देना अनुचित है।

Ans 1. निरपराधी

2. निर्दोषी

3. दोषी

4. निरपराध

Question ID : 9895809965
Chosen Option : 2

Q.4 दिए गए वाक्य का वह भाग ज्ञात करें जिसमें कोई त्रुटि है।

यह आवश्यक है कि प्रेस, पत्रकारिता की आचार-संहिता और विश्वसनीयता की ध्यान रखिए।

Ans

- ✓ 1. विश्वसनीयता की ध्यान रखिए।
✗ 2. प्रेस, पत्रकारिता की
✗ 3. आचार-संहिता और
✗ 4. यह आवश्यक है कि

Question ID : 9895809956

Chosen Option : 3

Q.5 दिए गए वाक्य में रेखांकित खंड को प्रतिस्थापित करने के लिए उपयुक्त विकल्प का चयन करें।

श्याम ईश्वर में विश्वास नहीं करता है।

- Ans ✓ 1. नास्तिक
✗ 2. आस्तिक
✗ 3. साकार
✗ 4. निराकार

Question ID : 9895809960

Chosen Option : 1

Q.6 दिए गए वाक्य का वह भाग ज्ञात करें जिसमें कोई त्रुटि है।

वृद्धा मन मारकर घर में उदास होकर अकेला बैठी थी।

- Ans ✓ 1. अकेला बैठी थी।
✗ 2. घर में
✗ 3. उदास होकर
✗ 4. वृद्धा मन मारकर

Question ID : 9895809958

Chosen Option : 4

Q.7 सही वर्तनी वाले शब्द का चयन करें।

- Ans ✗ 1. चीकनाहठ
✓ 2. चिकनाहट
✗ 3. चिकनाहठ
✗ 4. चीकनाहट

Question ID : 9895809980

Chosen Option : 3

Comprehension:

निम्नलिखित गद्यांश के रिक्त स्थानों की पूर्ति गद्यांश के नीचे दिए गए प्रश्नों के अनुसार कीजिए-

स्वस्थ शरीर वाला मनुष्य ही इस संसार के सुखों को भोग सकता है तथा _____ (1) बिता सकता है। स्वस्थ शरीर के लिए पौष्टिक भोजन और व्यायाम दोनों ही अति _____ (2) हैं। व्यायाम करते समय सदा कुछ _____ (3) बरतनी चाहिए। पहली सावधानी यह है कि आयु, समय व शरीर की _____ (4) के अनुसार ही व्यायाम करना चाहिए। दूसरी सावधानी यह है कि सही व्यायाम का _____ (5) करना चाहिए।

SubQuestion No : 8

Q.8 गद्यांश में संकेतित रिक्त स्थान (1) के लिए उपयुक्त शब्द होगा।

- Ans
- 1. दुखी जीवन
 - 2. असफल जीवन
 - 3. नारकीय जीवन
 - 4. सुखमय जीवन

Question ID : 9895809967
Chosen Option : 4

Comprehension:

निम्नलिखित गद्यांश के रिक्त स्थानों की पूर्ति गद्यांश के नीचे दिए गए प्रश्नों के अनुसार कीजिए-

स्वस्थ शरीर वाला मनुष्य ही इस संसार के सुखों को भोग सकता है तथा _____ (1) बिता सकता है। स्वस्थ शरीर के लिए पौष्टिक भोजन और व्यायाम दोनों ही अति _____ (2) हैं। व्यायाम करते समय सदा कुछ _____ (3) बरतनी चाहिए। पहली सावधानी यह है कि आयु, समय व शरीर की _____ (4) के अनुसार ही व्यायाम करना चाहिए। दूसरी सावधानी यह है कि सही व्यायाम का _____ (5) करना चाहिए।

SubQuestion No : 9

Q.9 गद्यांश में संकेतित रिक्त स्थान (2) के लिए उपयुक्त शब्द होगा।

- Ans
- 1. अत्यधिक
 - 2. निरर्थक

3. आवश्यक
 4. अनावश्यक

Question ID : 9895809968
Chosen Option : 3

Comprehension:

निम्नलिखित गद्यांश के रिक्त स्थानों की पूर्ति गद्यांश के नीचे दिए गए प्रश्नों के अनुसार कीजिए-

स्वस्थ शरीर वाला मनुष्य ही इस संसार के सुखों को भोग सकता है तथा _____ (1) बिता सकता है। स्वस्थ शरीर के लिए पौष्टिक भोजन और व्यायाम दोनों ही अति _____ (2) हैं। व्यायाम करते समय सदा कुछ _____ (3) बरतनी चाहिए। पहली सावधानी यह है कि आयु, समय व शरीर की _____ (4) के अनुसार ही व्यायाम करना चाहिए। दूसरी सावधानी यह है कि सही व्यायाम का _____ (5) करना चाहिए।

SubQuestion No : 10

Q.1
0 गद्यांश में संकेतित रिक्त स्थान (3) के लिए उपयुक्त शब्द होगा।

- Ans
1. निशानियाँ
 2. परेशानियाँ
 3. सावधानियाँ
 4. असावधानियाँ

Question ID : 9895809969
Chosen Option : 3

Comprehension:

निम्नलिखित गद्यांश के रिक्त स्थानों की पूर्ति गद्यांश के नीचे दिए गए प्रश्नों के अनुसार कीजिए-

स्वस्थ शरीर वाला मनुष्य ही इस संसार के सुखों को भोग सकता है तथा _____ (1) बिता सकता है। स्वस्थ शरीर के लिए पौष्टिक भोजन और व्यायाम दोनों ही अति _____ (2) हैं। व्यायाम करते समय सदा कुछ _____ (3) बरतनी चाहिए। पहली सावधानी यह है कि आयु, समय व शरीर की _____ (4) के अनुसार ही व्यायाम करना चाहिए। दूसरी सावधानी यह है कि सही व्यायाम का _____ (5) करना चाहिए।

SubQuestion No : 11

Q.1
1 गद्यांश में संकेतित रिक्त स्थान (4) के लिए उपयुक्त शब्द होगा।

- Ans
- 1. क्षमता
 - 2. ज्ञान
 - 3. प्रतिभा
 - 4. बुद्धि

Question ID : 9895809970
Chosen Option : 1

Comprehension:

निम्नलिखित गद्यांश के रिक्त स्थानों की पूर्ति गद्यांश के नीचे दिए गए प्रश्नों के अनुसार कीजिए-

स्वस्थ शरीर वाला मनुष्य ही इस संसार के सुखों को भोग सकता है तथा _____ (1) बिता सकता है। स्वस्थ शरीर के लिए पौष्टिक भोजन और व्यायाम दोनों ही अति _____ (2) हैं। व्यायाम करते समय सदा कुछ _____ (3) बरतनी चाहिए। पहली सावधानी यह है कि आयु, समय व शरीर की _____ (4) के अनुसार ही व्यायाम करना चाहिए। दूसरी सावधानी यह है कि सही व्यायाम का _____ (5) करना चाहिए।

SubQuestion No : 12

Q.1
2 गद्यांश में संकेतित रिक्त स्थान (5) के लिए उपयुक्त शब्द होगा।

- Ans
- 1. चुनाव
 - 2. संचयन
 - 3. विभाजन
 - 4. संकलन

Question ID : 9895809971
Chosen Option : 4

Q.1
3 दिए गए वाक्य में रेखांकित खंड को प्रतिस्थापित करने के लिए उपयुक्त विकल्प का चयन करें।
संत वह हैं जो मोक्ष चाहता है।

- Ans
- 1. भिक्षुक
 - 2. मिमांशु
 - 3. मुमुक्षु

✗ 4. चक्षु

Question ID : 9895809959
Chosen Option : 4

Q.1
4 रिक्त स्थान को भरने के लिए उपयुक्त शब्द का चयन करें।

सिंह एक _____ जानवर है।

- Ans
- ✗ 1. विशाल
 - ✗ 2. बड़ा
 - ✓ 3. भयानक
 - ✗ 4. वीभत्स

Question ID : 9895809963
Chosen Option : 3

Q.1
5 'सुमति' शब्द का विलोम है-

- Ans
- ✗ 1. सम्मति
 - ✗ 2. क्रूर
 - ✓ 3. कुमति
 - ✗ 4. मूर्ख

Question ID : 9895809972
Chosen Option : 3

Q.1
6 दिए गए वाक्य का वह भाग ज्ञात करें जिसमें कोई त्रुटि है।

जनसंचार माध्यम में चित्रपट अथवा सिनेमा का भी अपनी स्थान है।

- Ans
- ✗ 1. का भी
 - ✓ 2. अपनी स्थान है।
 - ✗ 3. चित्रपट अथवा सिनेमा
 - ✗ 4. जनसंचार माध्यम में

Question ID : 9895809957
Chosen Option : 4

Q.1
7 'जो सब कुछ करने की क्षमता रखता हो' के लिए एक शब्द है -

- Ans
- ✗ 1. मालिक
 - ✗ 2. नेता
 - ✓ 3. सर्वशक्तिमान

✗ 4. भरपूर

Question ID : 9895809978
Chosen Option : 3

Q.1
8 'राजा' का पर्यायवाची शब्द है-

- Ans
- ✗ 1. देवता
 - ✗ 2. भूदेव
 - ✗ 3. भूमिसुर
 - ✓ 4. महीप

Question ID : 9895809974
Chosen Option : 4

Q.1
9 'नौ दो ग्यारह होना' मुहावरे का अर्थ है-

- Ans
- ✗ 1. चुप हो जाना
 - ✓ 2. भाग जाना
 - ✗ 3. दौड़ना
 - ✗ 4. छुप जाना

Question ID : 9895809977
Chosen Option : 2

Q.2
0 रिक्त स्थान को भरने के लिए उपयुक्त शब्द का चयन करें।

कवि नागार्जुन _____ वास्तविक नाम वैद्यनाथ मिश्र है।

- Ans
- ✗ 1. को
 - ✓ 2. का
 - ✗ 3. के
 - ✗ 4. की

Question ID : 9895809962
Chosen Option : 2

Q.2
1 'मेघ' का पर्यायवाची शब्द है-

- Ans
- ✓ 1. वारिद
 - ✗ 2. वारुणी
 - ✗ 3. भूदेव
 - ✗ 4. कानन

Question ID : 9895809975
Chosen Option : 1

Q.2
2 'अथ' शब्द का विलोम शब्द है-

- Ans
- 1. शुरु
 - 2. इति
 - 3. प्रारंभ
 - 4. आरंभ

Question ID : 9895809973
Chosen Option : 4

Q.2
3 रिक्त स्थान को भरने के लिए उपयुक्त शब्द का चयन करें।

मैं आपका _____ आभार मानता रहूँगा।

- Ans
- 1. आजकल
 - 2. सदैव
 - 3. कभी
 - 4. अतीत

Question ID : 9895809964
Chosen Option : 2

Q.2
4 दिए गए वाक्य में रेखांकित खंड को प्रतिस्थापित करने के लिए उपयुक्त विकल्प का चयन करें।

राम सबको प्रिय है।

- Ans
- 1. मधुप्रिय
 - 2. असर्वप्रिय
 - 3. सर्वप्रिय
 - 4. कर्णप्रिय

Question ID : 9895809961
Chosen Option : 3

Q.2
5 'जिसके हृदय में ममता नहीं है' के लिए एक शब्द है-

- Ans
- 1. उदार
 - 2. निर्मम
 - 3. सदय
 - 4. कठोर

Question ID : 9895809979

GovtJobsAlert.In