

Constable (GD) in CAPFs, NIA, SSF and Rifleman (GD) in Assam Rifles Examination, 2018

Roll No. :	GovtJobsAlert.In
Registration No.	GovtJobsAlert.In
Name :	GovtJobsAlert.In
Exam Venue :	iON Digital Zone iDZ Kuberpur
Exam Time :	9:00 AM - 10:30 AM
Exam Date :	11/03/2019

Section : General Section

Q.1 उस विकल्प का चयन करें जो सही रूप में रिक्त स्थान की पूर्ति करते हुए श्रृंखला को पूरा करें।

AA, BD, CI, DP, ?

- Ans
- ✓ 1. EY
 - ✗ 2. ER
 - ✗ 3. FR
 - ✗ 4. FY

Question ID : 9895809323

Chosen Option : 1

Q.2 नीचे दिए गए कथनों के बाद दो निष्कर्ष I और II दिए गए हैं। यह मानते हुए कि कथनों में दी गई जानकारी सत्य है, भले ही वह सर्वजात तथ्यों से भिन्न प्रतीत होती हो और यह निर्णय करें कि कौन सा / से निष्कर्ष तार्किक और निश्चित रूप से कथन में दी गई जानकारी का अनुसरण करता है / करते हैं।

कथन

1. सभी डिब्बे जार हैं।
2. कोई टिन डिब्बा नहीं है।

निष्कर्ष

- I. कुछ जार टिन हैं।
- II. सभी टिन जार हैं।

- Ans
- ✓ 1. न निष्कर्ष I न ही निष्कर्ष II अनुसरण करते हैं।
 - ✗ 2. केवल निष्कर्ष I अनुसरण करता है।
 - ✗ 3. निष्कर्ष I और II दोनों अनुसरण करते हैं।
 - ✗ 4. केवल निष्कर्ष II अनुसरण करता है।

Question ID : 9895809334

Chosen Option : 2

Q.3 उस विकल्प का चयन करें जो तीसरे पद से उसी तरह संबंधित है जिस प्रकार दूसरा पद पहले पद से संबंधित है।

22 : 333 :: 4444 : _____

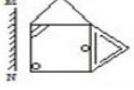
Ans

- 1. 555
- 2. 5555
- 3. 55
- 4. 55555

Question ID : 9895809338
Chosen Option : 4

Q.4 जब दर्पण को MN रेखा पर रखा जाता है, तब कौन सी उत्तर आकृति दी गई आकृति की सही छवि है?

प्रश्न आकृति:



Ans

- 1.
- 2.
- 3.
- 4.

Question ID : 9895809345
Chosen Option : 1

Q.5 उस विकल्प का चयन करें जो सही रूप में रिक्त स्थान की पूर्ति करते हुए श्रृंखला को पूरा करें।

0.25, 1, ?, 4, 6.25, 9

Ans

- 1. 2.75
- 2. 2.25
- 3. 3
- 4. 2

Question ID : 9895809336
Chosen Option : 2

Q.6 चार विकल्प दिए गए हैं, जिनमें से तीन किसी तरह से समान हैं, जबकि एक अलग है। असंगत का चयन करें।

Ans

- 1. 1521
- 2. 825
- 3. 2321
- 4. 968

Question ID : 9895809339

Q.7 उस विकल्प का चयन करें जो तीसरे पद से उसी तरह संबंधित है जिस प्रकार दूसरा पद पहले पद से संबंधित है।

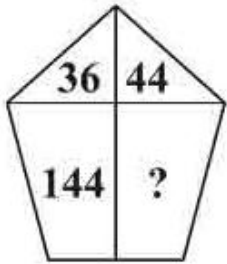
GHI : LKJ :: STU : _____

- Ans
- 1. XWV
 - 2. UTV
 - 3. ZXY
 - 4. WVX

Question ID : 9895809328

Chosen Option : 1

Q.8 दिए गए विकल्पों में से लुप्त संख्या ज्ञात करें।



- Ans
- 1. 183
 - 2. 154
 - 3. 179
 - 4. 176

Question ID : 9895809340

Chosen Option : 2

Q.9 '*' चिन्ह का स्थान लेने के लिये और समीकरण को संतुलित करने के लिये गणितीय चिन्हों के सही युग्म का चयन करें।

$$44 * 6 * 12 * 3 * 20$$

- Ans
- 1. - x ÷ =
 - 2. ÷ x + =
 - 3. x ÷ + =
 - 4. - + x =

Question ID : 9895809341

Chosen Option : 1

Q.1 J, A, G, E, V और F केंद्र की ओर मुख करके एक गोल मेज के चारों ओर बैठे हैं। F, G के बाईं ओर है, जो A के विपरीत है, V, A और J के बीच में है। E के बाईं ओर कौन है?

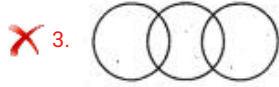
- Ans
- 1. F
 - 2. G
 - 3. A
 - 4. V

Question ID : 9895809332
Chosen Option : 2

Q.1 वेन आरेख का चयन करें जो दिए गए तीन वर्गों के बीच के संबंध को सर्वोत्तम दर्शाता है।

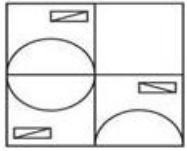
अविवाहित, विवाहित, व्यक्ति

Ans



Question ID : 9895809347
Chosen Option : 3

Q.1 निम्नलिखित में से कौन सी उत्तर आकृति दी गई आकृति को पूरा करेगी?



Ans



Question ID : 9895809343
Chosen Option : 4

Q.1 यदि GREAT को 62149 के रूप में और FINAL को 53047 के रूप में लिखते हैं, तो REGAL को कैसे लिखा जाएगा?

Ans 1. 22674

2. 22471

✗ 3. 26147

✓ 4. 21647

Question ID : 9895809330
Chosen Option : 4

Q.1 नीचे दिए गए दो कथनों के बाद I, II और III तीन निष्कर्ष दिए गए हैं। यह मानते हुए कि कथनों में दी गई जानकारी सत्य है, भले ही वह सर्वज्ञात तथ्यों से भिन्न प्रतीत होती हो और यह निर्णय करें कि कौन सा / से निष्कर्ष तार्किक और निश्चित रूप से कथन में दी गई जानकारी का अनुसरण करता है / करते हैं।

कथन

- कुछ पहाड़ियाँ (हिल्स) टीले हैं।
- कोई टीला पहाड़ (माउंटेन) नहीं है।

निष्कर्ष

- कुछ टीले पहाड़ियाँ हैं।
- कुछ पहाड़ पहाड़ियाँ हैं।
- सभी पहाड़ियाँ पहाड़ हैं।

Ans

✓ 1. केवल निष्कर्ष I अनुसरण करता है।

✗ 2. तीनों निष्कर्ष I, II और III अनुसरण करते हैं।

✗ 3. केवल निष्कर्ष I और III अनुसरण करते हैं।

✗ 4. केवल निष्कर्ष III अनुसरण करता है।

Question ID : 9895809335
Chosen Option : 1

Q.1 सोनू, यतेन्द्र से लंबा है, अमित सोनू से लंबा है। सुभाष, अमित से लंबा है। सल्लू सबसे लंबा है। यदि वे अपनी लंबाई के अनुसार खड़े हैं तो ठीक मध्य में कौन होगा?

Ans

✗ 1. यतेन्द्र

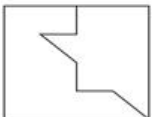
✗ 2. सोनू

✓ 3. अमित

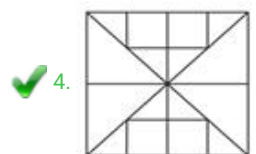
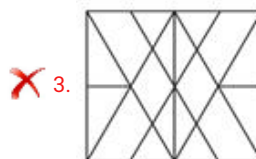
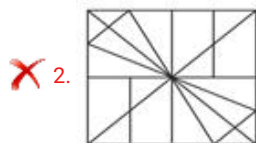
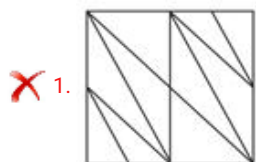
✗ 4. सुभाष

Question ID : 9895809333
Chosen Option : 3

Q.1 उस विकल्प आकृति का चयन करें, जिसमें प्रश्न आकृति छिपी हुई/अंतर्निहित है।



Ans



Question ID : 9895809344
Chosen Option : 4

Q.1 G, H, I, J और K एक पंक्ति में बैठे हैं। J न तो H के बगल में है और न ही K के। J अंत में नहीं है। H, G के बाईं ओर है। K के बाईं ओर कौन है?

- Ans
- ✗ 1. H
 - ✗ 2. G
 - ✗ 3. J
 - ✓ 4. I

Question ID : 9895809331
Chosen Option : 4

Q.1 वह विकल्प चुनें जो दी गई आकृति श्रृंखला को पूरा करता है



- Ans
- ✓ 1.
 - ✗ 2.
 - ✗ 3.

✗ 4.



Question ID : 9895809342
Chosen Option : 1

Q.1
9 चार शब्द दिए गए हैं, जिनमें से तीन किसी तरह से समान हैं, जबकि एक अलग है। असंगत शब्द का चयन करें।

- Ans
- ✗ 1. ग्रासनली
 - ✗ 2. नास्य हड्डी
 - ✓ 3. पंख
 - ✗ 4. कपाल

Question ID : 9895809325
Chosen Option : 3

Q.2
0 दिए गए विकल्पों में से संबंधित शब्द युग्म का चयन करें।

अपराध : आपराधिकी :: _____ : _____

- Ans
- ✗ 1. पुष्प : फूलों की खेती
 - ✗ 2. मानव व्यवहार: मौसम विज्ञानी
 - ✓ 3. ब्रह्मांड: ब्रह्माण्ड विज्ञान
 - ✗ 4. हृदय : रुधिर विज्ञान

Question ID : 9895809327
Chosen Option : 3

Q.2
1 चार अक्षर समूह दिए गए हैं, जिनमें से तीन किसी तरह से समान हैं, जबकि एक अलग है। असंगत अक्षर समूह का चयन करें।

- Ans
- ✗ 1. JFH
 - ✗ 2. PLN
 - ✓ 3. SJL
 - ✗ 4. GCE

Question ID : 9895809324
Chosen Option : 3

Q.2
2 उस विकल्प का चयन करें जो तीसरे पद से उसी तरह संबंधित है जिस प्रकार दूसरा पद पहले पद से संबंधित है।

कंगारू : कुदकना :: साँप: _____

- Ans
- ✓ 1. रेंगना
 - ✗ 2. चलना
 - ✗ 3. काटना

✗ 4. कुंडलन

Question ID : 9895809326
Chosen Option : 1

Q.2 पारदर्शी शीट पर अंकित एक आकृति दी गई है और उसके बाद चार उत्तर आकृतियां दी गई हैं, इन चार विकल्पों में से एक उस आकृति से मिलती जुलती है, जो कि बिन्दुदार रेखा पर पारदर्शी शीट को मोड़कर प्राप्त होती है। उस विकल्प का चयन करें।

Question Figures:



Ans

- ✗ 1.
- ✓ 2.
- ✗ 3.
- ✗ 4.

Question ID : 9895809346
Chosen Option : 2

Q.2 उस विकल्प का चयन करें जो सही रूप में रिक्त स्थान की पूर्ति करते हुए श्रृंखला को पूरा करें।

32, 144, ?, 2916, 13122, 59049

Ans

- ✗ 1. 846
- ✓ 2. 648
- ✗ 3. 864
- ✗ 4. 684

Question ID : 9895809337
Chosen Option : 2

Q.2 एक निश्चित कूट भाषा में, ADMIT को BFPMY के रूप में कूटबद्ध किया जाता है। उस कोड में CARD कैसे कूटबद्ध किया जाता है?

Ans

- ✗ 1. DCHU
- ✗ 2. DUCH
- ✓ 3. DCUH
- ✗ 4. UCDH

Question ID : 9895809329
Chosen Option : 3

Q.2 भारत में सभी औद्योगिक उत्पादों के लिए _____ गुणवत्ता का प्रतीक है।

Ans

- 1. आईएसआई (ISI)
- 2. एफपीओ (FPO)
- 3. एगमार्क (Agmark)
- 4. इकोमार्क (Ecomark)

Question ID : 9895809511
Chosen Option : 4

Q.2
7 पारिस्थितिकी के निर्माण में शामिल होते हैं:

Ans

- 1. केवल भौतिक कारक
- 2. जीवित जीव एवं भौतिक कारक
- 3. केवल जीवित जीव
- 4. केवल कीट पतंगे

Question ID : 9895809518
Chosen Option : 2

Q.2
8 चौरा-चौरी काण्ड किस आधुनिक राज्य क्षेत्र में हुआ था?

Ans

- 1. मध्य प्रदेश
- 2. उत्तर प्रदेश
- 3. केरल
- 4. दिल्ली

Question ID : 9895809522
Chosen Option : 2

Q.2
9 भारत में वित्त आयोग का गठन संविधान के अनुच्छेद 280 के तहत _____ द्वारा किया जाता है।

Ans

- 1. उच्चतम न्यायालय
- 2. संसद
- 3. प्रधान मंत्री
- 4. राष्ट्रपति

Question ID : 9895809506
Chosen Option : 3

Q.3
0 केन्द्र सरकार के बजट में वार्षिक वित्तीय विवरण दर्शाते हैं:

Ans

- 1.

विभिन्न राज्यों की अनुमानित प्राप्तियाँ और व्यय का ब्यौरा

- ✓ 2. भारत सरकार की अनुमानित प्राप्तियाँ और व्यय का ब्यौरा
- ✗ 3. भारत सरकार द्वारा अर्जित अनुमानित धन
- ✗ 4. जिला परिषद द्वारा खर्च किया गया अनुमानित धन

Question ID : 9895809510
Chosen Option : 2

Q.3
1 बहिर्वेधी चट्टानें एक प्रकार की _____ होती हैं।

- Ans
- ✗ 1. अवसादी चट्टानें
- ✗ 2. कायांतरित चट्टानें
- ✓ 3. अग्निमय चट्टानें
- ✗ 4. जीवाश्म चट्टानें

Question ID : 9895809517
Chosen Option : 2

Q.3
2 एक यंत्र जिसका उपयोग परिपथ में विद्युत् धारा को मापने के लिए किया जाता है _____ कहलाता है।

- Ans
- ✓ 1. एमीटर
- ✗ 2. जाइरोस्कोप
- ✗ 3. थर्मामीटर
- ✗ 4. ओममीटर

Question ID : 9895809516
Chosen Option : 1

Q.3
3 'कुद' किस राज्य की नृत्य शैली है?

- Ans
- ✗ 1. पश्चिम बंगाल
- ✗ 2. गुजरात
- ✗ 3. केरल
- ✓ 4. जम्मू एवं कश्मीर

Question ID : 9895809499
Chosen Option : 3

Q.3
4 स्वाद में खट्टे खाद्य पदार्थों की प्रकृति होती है:

- Ans
- ✗ 1. क्षारकीय
- ✗ 2. उदासीन

3. क्षारीय

4. अम्लीय

Question ID : 9895809514
Chosen Option : 4

Q.3
5 2017 में मलयालम के लिए साहित्य अकादमी पुरस्कार से किसे सम्मानित किया गया?

Ans 1. के. पी. रामानुन्नी

2. प्रभा वर्मा

3. के. आर. मीरा

4. ओमेन चांडी

Question ID : 9895809503
Chosen Option : 4

Q.3
6 किसी क्षेत्र की जैवविविधता के बेहतर मापक हैं:

Ans 1. वहाँ पाए जाने वाले पेड़ों की संख्या

2. वहाँ पाए जाने वाले जानवरों की संख्या

3. वहाँ रहने वाले लोगों की संख्या

4. वहाँ पाई जाने वाली प्रजातियों की संख्या

Question ID : 9895809519
Chosen Option : 4

Q.3
7 सभी सजीव जीवों को व्हिटेकर (1969) द्वारा प्रस्तावित प्रणाली के तहत समूहों _____ में वर्गीकृत किया जाता है।

Ans 1. एक

2. तीन

3. सात

4. पाँच

Question ID : 9895809512
Chosen Option : 3

Q.3
8 अजोध्या पहाड़ किस राज्य में स्थित है?

Ans 1. पश्चिम बंगाल

2. मध्य प्रदेश

3. उत्तर प्रदेश

4. केरल

Question ID : 9895809500

Q.3 भारत के केंद्र शासित प्रदेशों का गठन इसलिए किया गया है क्योंकि वे _____ हैं।

Ans

- 1. बहुत बड़े प्रांत
- 2. राज्य बनने के लिए उनका जनसंख्या घनत्व बहुताधिक
- 3. राज्य बनने के लिए बहुत बड़े प्रांत
- 4. राज्य बनने के लिए बहुत छोटे प्रांत

Question ID : 9895809507

Chosen Option : 2

Q.4 किस भारतीय प्रधानमंत्री की मृत्यु भारत से बाहर हुई थी?

Ans

- 1. इंदिरा गांधी
- 2. जवाहरलाल नेहरू
- 3. मोरारजी देसाई
- 4. लाल बहादुर शास्त्री

Question ID : 9895809505

Chosen Option : 1

Q.4 मनुष्य में आम तौर पर गुणसूत्रों के जोड़े की संख्या _____ होती है।

Ans

- 1. 10
- 2. 21
- 3. 20
- 4. 22

Question ID : 9895809515

Chosen Option : 4

Q.4 भारत में उपनिवेश-विरोधी आन्दोलन के बढ़ने का परिणाम था:

Ans

- 1. विभिन्नता
- 2. द्वंद्व
- 3. साम्प्रदायिकता
- 4. एकता

Question ID : 9895809521

Chosen Option : 3

Q.4

3 ओडिसी नृत्य का पूर्ववर्ती रूप क्या है?

- Ans
- 1. कुचिपुड़ी
 - 2. गोतिपुआ
 - 3. भांगड़ा
 - 4. भरतनाट्यम

Question ID : 9895809498
Chosen Option : 2

Q.4 2016 के ओलम्पिक खेलों में पुरुषों की 100 मीटर स्प्रिंट गोल्ड प्रतिस्पर्धा किसने जीती थी?

- Ans
- 1. जेसी दे ग्रासे
 - 2. उसेन बोल्ट
 - 3. विलियम ब्लेक
 - 4. जस्टिन गैटलिन

Question ID : 9895809501
Chosen Option : 2

Q.4 यूएस ओपन टेनिस चैंपियनशिप फाइनल 2018 का खिताब महिला वर्ग में किसने जीता था?

- Ans
- 1. वीनस विलियम्स
 - 2. नाओमी ओसाका
 - 3. मार्टिना हिंगिस
 - 4. सेरेना विलियम्स

Question ID : 9895809502
Chosen Option : 2

Q.4 पूर्व मुख्य आर्थिक सलाहकार, अरविंद सुब्रमण्यन के हालिया कार्यकाल की अवधि क्या थी?

- Ans
- 1. 2014-2016
 - 2. 2014-2017
 - 3. 2014-2018
 - 4. 2009-2014

Question ID : 9895809504
Chosen Option : 3

Q.4 वाणिज्यिक मुकदमों के बारे में सरकार को निम्नलिखित में से कौन सा सुझाव भारत के 2017-18 के आर्थिक सर्वेक्षण के भीतर इंगित किया गया है?

- Ans
- 1.

उनके द्वारा दायर किए गए मुकदमों की संख्या की जांच करने के लिए एक समिति नियुक्त करनी चाहिए।

- ✓ 2. मुकदमों की विचाराधीनता कम करनी चाहिए।
✗ 3. मुकदमों की संख्या बढ़ानी चाहिए।
✗ 4. मुकदमों की संख्या में कोई परिवर्तन नहीं करना चाहिए।

Question ID : 9895809509
Chosen Option : 1

Q.4 8 भारतीय संविधान की आठवीं अनुसूची में _____ भाषाएँ शामिल हैं।

- Ans ✗ 1. 25
✗ 2. 100
✓ 3. 22
✗ 4. 2

Question ID : 9895809508
Chosen Option : 3

Q.4 9 बंगाल में सरकार की दोहरी प्रणाली _____ के दिमाग की उपज थी।

- Ans ✗ 1. लॉर्ड रिपन
✗ 2. लॉर्ड हेस्टिंग्स
✗ 3. लॉर्ड कार्नवालिस
✓ 4. लॉर्ड क्लाइव

Question ID : 9895809520
Chosen Option : 3

Q.5 0 कैटेनेशन का गुण किसमें सबसे अधिक आसानी से प्रबल होता है?

- Ans ✗ 1. नाइट्रोजन
✗ 2. गंधक
✓ 3. कार्बन
✗ 4. सिलिकॉन

Question ID : 9895809513
Chosen Option : 2

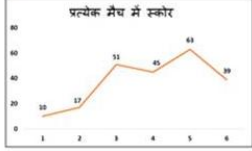
Q.5 1 एक निश्चित राशि पर 2 वर्ष के लिए 6% प्रति वर्ष की दर से, साधारण और चक्रवृद्धि ब्याज में अंतर ₹ 3.6 है। वह राशि क्या है?

- Ans ✗ 1. ₹ 1,250
✗ 2. ₹ 800
✓ 3. ₹ 1,000

✗ 4. ₹ 750

Question ID : 9895809677
Chosen Option : 3

Q.5 दिया गया लाइन ग्राफ, 6 मैचों में एक बल्लेबाज के स्कोर को दर्शाता है। कितने मैच ऐसे हैं जिसमें पिछले मैच की तुलना में उसका प्रदर्शन बेहतर था?



- Ans
- ✗ 1. 4
 - ✗ 2. 2
 - ✓ 3. 3
 - ✗ 4. 1

Question ID : 9895809695
Chosen Option : 3

Q.5 4 वर्ष पहले पति, पत्नी और उनके बच्चे की औसत आयु 26 वर्ष थी और 3 वर्ष पहले पत्नी और बच्चे की आयु 22 वर्ष थी। पति की वर्तमान आयु क्या है?

- Ans
- ✗ 1. 42 वर्ष
 - ✗ 2. 46 वर्ष
 - ✗ 3. 44 वर्ष
 - ✓ 4. 40 वर्ष

Question ID : 9895809674
Chosen Option : 2

Q.5 दो संख्याओं के महत्तम समापवर्तक (HCF) और लघुत्तम समापवर्त्य (LCM) क्रमशः 2 और 60 हैं। यदि एक संख्या दूसरी संख्या से 14 अधिक है, तो छोटी संख्या क्या है?

- Ans
- ✗ 1. 4
 - ✗ 2. 5
 - ✗ 3. 7
 - ✓ 4. 6

Question ID : 9895809680
Chosen Option : 2

Q.5 साधारण ब्याज पर कोई राशि 4 वर्षों में ₹ 400 और 5 वर्षों में ₹ 420 होती है। वह राशि क्या है?

- Ans
- ✗ 1. ₹ 220
 - ✗ 2. ₹ 340
 - ✗ 3. ₹ 200
 - ✓ 4. ₹ 320

Question ID : 9895809687
Chosen Option : 4

Q.5 एक समकोण त्रिभुज की जो भुजाएँ समकोण बनाती हैं वे 5 cm तथा 7 cm हैं। त्रिभुज को 5 cm भुजा के परित घुमाया जाता है। इस प्रकार बने शंकु का आयतन है:

- Ans
- 1. $81\frac{2}{3}\pi \text{ cm}^3$
 - 2. $71\frac{2}{3}\pi \text{ cm}^3$
 - 3. $61\frac{2}{3}\pi \text{ cm}^3$
 - 4. $51\frac{2}{3}\pi \text{ cm}^3$

Question ID : 9895809690
Chosen Option : 1

Q.5 A और B के पास कुल राशि ₹ 1800 है। यदि A की राशि का $\frac{4}{3}$, B की राशि के $\frac{2}{3}$ के बराबर है, तो B के पास कितनी राशि है?

- Ans
- 1. ₹ 1200
 - 2. ₹ 600
 - 3. ₹ 900
 - 4. ₹ 750

Question ID : 9895809685
Chosen Option : 1

Q.5 A और B एक कार्य को क्रमशः 8 और 16 दिनों में पूरा कर सकते हैं। यदि वे 3 दिनों तक इस कार्य को एक साथ करते हैं, तो कार्य का कितना भाग बचा है?

- Ans
- 1. $\frac{7}{16}$
 - 2. $\frac{11}{16}$
 - 3. $\frac{9}{16}$
 - 4. $\frac{5}{16}$

Question ID : 9895809691
Chosen Option : 3

Q.5 एक वस्तु को ₹ 400 में खरीदा गया और इसकी मरम्मत पर ₹ 50 का खर्चा किया गया। इसके अंकित मूल्य पर 10% की छुट देकर इसको 20% लाभ पर बेच दिया गया। वस्तु का अंकित मूल्य क्या है?

- Ans
- 1. ₹ 600
 - 2. ₹ 540
 - 3. ₹ 640
 - 4. ₹ 580

Question ID : 9895809683

Chosen Option : 1

Q.6 क्रिकेट खेल के पहले 20 ओवरों में, औसत रन 5.50 था, 290 रन के लक्ष्य को प्राप्त करने के लिए शेष 30 ओवरों में आवश्यक औसत रन क्या होना चाहिए?

- Ans
- 1. 6.25
 - 2. 5.75
 - 3. 6.5
 - 4. 6

Question ID : 9895809673

Chosen Option : 2

Q.6 A और C एक कार्य को 20 दिनों में पूरा कर सकते हैं, B और C उसी कार्य को 12 दिनों में कर सकते हैं। A, B और C मिलकर इसे 8 दिनों में पूरा कर सकते हैं। A और B मिलकर उसी कार्य को कितने दिनों में करेंगे?

- Ans
- 1. $\frac{60}{7}$ दिन
 - 2. $\frac{71}{3}$ दिन
 - 3. $\frac{41}{3}$ दिन
 - 4. $\frac{65}{7}$ दिन

Question ID : 9895809692

Chosen Option : 1

Q.6 52 m लंबे और 47 m चौड़े पानी के टैंक में 220 वस्तुएँ डाली गईं। यदि एक वस्तु द्वारा विस्थापित पानी का औसत विस्थापन 4.5 m^3 है, तो टैंक के जल स्तर में लगभग वृद्धि कितनी होगी?

- Ans
- 1. 12.5 cm
 - 2. 20.5 cm
 - 3. 40.5 cm
 - 4. 30.5 cm

Question ID : 9895809689

Chosen Option : 2

Q.6 किसी उत्पाद की अंकित मूल्य ₹ 500 है। 10% और 10% के बाद क्रमिक छूट के बाद विक्रय मूल्य क्या होगा?

- Ans
- 1. ₹ 400
 - 2. ₹ 425
 - 3. ₹ 405
 - 4. ₹ 450

Question ID : 9895809678

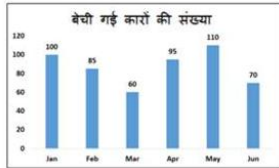
Chosen Option : 3

Q.6 23, 45, 64, 81 और 77 का माध्य (mean) है:

- Ans 1. 52
 2. 58
 3. 56
 4. 54

Question ID : 9895809679
 Chosen Option : 2

- Q.6 दिया गया बार ग्राफ जनवरी से जून तक प्रत्येक महीने में एक वितरक द्वारा बेची गई कारों की संख्या को दर्शाता है।
 5 दूसरी तिमाही में उसने पहली तिमाही की तुलना में कितनी कारें अधिक बेचीं?



- Ans 1. 20
 2. 30
 3. 10
 4. 25

Question ID : 9895809696
 Chosen Option : 4

- Q.6 दो कारों की गति का अनुपात 6 : 5 है। यदि दूसरी कार 6 घंटे में 600 km चलती है, तो पहली कार की गति है:
 6

- Ans 1. 90 km/hr
 2. 120 km/hr
 3. 110 km/hr
 4. 100 km/hr

Question ID : 9895809693
 Chosen Option : 2

- Q.6 दो संख्याओं का अनुपात 4 : 5 है और उनके घनों का योग 1512 है। उनके अंतर का वर्ग क्या है?
 7

- Ans 1. 1
 2. 4
 3. 2
 4. 2.25

Question ID : 9895809684
 Chosen Option : 2

- Q.6 ₹ 40,000 में x , एक स्कूटर खरीदता है और मरम्मत पर ₹ 5,000 खर्च करता है। वह इसे ₹ 54,000 में बेच देता
 8 है। उसका लाभ प्रतिशत क्या है?

- Ans 1. 20%
 2. 12.50%

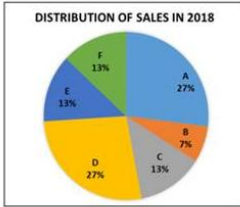
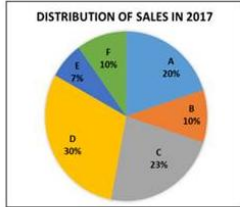
✗ 3. 25%

✗ 4. 15%

Question ID : 9895809682

Chosen Option : 1

Q.6
9



उपरोक्त पाई चार्ट, बाजार में विभिन्न कंपनियों के वर्ष 2017 और 2018 की प्रतिशत हिस्सेदारी को दर्शाता है। बाजार की कुल बिक्री 2018 में 150 करोड़ से बढ़कर 225 करोड़ हो गयी है। कंपनी D की 2018 में हुई बिक्री से 2017 में हुई बिक्री का अनुपात क्या है?

- Ans
- ✗ 1. 20 : 27
 - ✗ 2. 16 : 21
 - ✗ 3. 21 : 16
 - ✓ 4. 27 : 20

Question ID : 9895809697

Chosen Option : 1

Q.7
0 $8 \times 3 \div 6 + 7 - 4 \times 2 \div 4 + 8 - 10$ का मान क्या है?

- Ans
- ✓ 1. 7
 - ✗ 2. 6
 - ✗ 3. 4
 - ✗ 4. 5

Question ID : 9895809676

Chosen Option : 1

Q.7
1 एक खोखले लोहे का पाइप 10 cm लंबा है और इसका बाहरी व्यास 18 cm है। यदि पाइप की मोटाई 2 cm है और लोहे का भार 8.5 g/cm^3 है, तो पाइप का भार निम्न में से किसके निकटतम है?

- Ans
- ✗ 1. 5.54 kg
 - ✓ 2. 8.54 kg
 - ✗ 3. 9.54 kg
 - ✗ 4. 7.54 kg

Question ID : 9895809688

Chosen Option : 2

Q.7
2 $4 \div 2 + 3 \times 6 - 7$ का मान है:

- Ans
- ✓ 1. 13

2. 14

3. 12

4. 11

Question ID : 9895809675
Chosen Option : 1

Q.7 दो स्टेशन P और Q के बीच की दूरी 570 km है। एक ट्रेन P से सुबह 5 बजे चलना प्रारंभ करती है और 90 km/hr की रफ्तार से Q की ओर जाती है। एक अन्य ट्रेन सुबह 6 बजे Q से चलना प्रारंभ करती है और 70 km/hr की रफ्तार से P की ओर जाती है। दोनों ट्रेने किस समय मिलेंगी?

Ans 1. 11 a.m.

2. 9 a.m.

3. 3 p.m.

4. 1 p.m.

Question ID : 9895809694
Chosen Option : 2

Q.7 यदि $a : b = 2 : 3$, $b : c = 5 : 6$ और $c : d = 8 : 9$ है, तो $a : d$ का मान है?

Ans 1. 42 : 81

2. 40 : 81

3. 37 : 81

4. 44 : 81

Question ID : 9895809686
Chosen Option : 2

Q.7 एक बल्लेबाज ने 120 रन बनाए जिसमें 15 चौके और 2 छक्के शामिल थे। विकेटों के बीच दौड़कर उसने कितने प्रतिशत रन बनाये?

Ans 1. 40%

2. 37.50%

3. 35%

4. 25%

Question ID : 9895809681
Chosen Option : 1

Section : English Language

Q.1 Select the synonym of the given word.

RELISH

Ans 1. Detest

2. Hate

3. Enjoy

4. Dislike

Question ID : 9895809867
Chosen Option : --

Q.2 Select the most appropriate word to fill in the blank.

I will write a letter to you _____ the dates of the programme.

- Ans
- 1. urging
 - 2. indicating
 - 3. involving
 - 4. propagating

Question ID : 9895809877
Chosen Option : --

Q.3 Select the most appropriate option to substitute the underlined segment in the given sentence. If there is no need to substitute it, select No substitution required.

The weather reports is prepared by the Meteorological Department of the Government.

- Ans
- 1. is prepare
 - 2. prepared
 - 3. No substitution required
 - 4. are prepared

Question ID : 9895809855
Chosen Option : --

Q.4 Select the most appropriate option to substitute the underlined segment in the given sentence. If there is no need to substitute it, select No substitution required.

A well-known animal living in Antarctica are a penguins.

- Ans
- 1. No substitution required
 - 2. is the penguin
 - 3. is a penguin
 - 4. are penguin

Question ID : 9895809857
Chosen Option : --

Q.5 Select the most appropriate word to fill in the blank.

The blue whale has the largest tongue which can weigh _____ an elephant.

- Ans
- 1. many more as
 - 2. much
 - 3. as much as

✓ 4. more as

Question ID : 9895809858
Chosen Option : --

Q.6 Identify the segment in the sentence which contains the grammatical error from the given options.

The Qutub Minar in Delhi, the world heritage site, is more than 1600 years old.

- Ans
- ✓ 1. The Qutub Minar
 - ✗ 2. 1600 years old
 - ✗ 3. the world heritage site
 - ✗ 4. is more than

Question ID : 9895809854
Chosen Option : --

Q.7 Select the wrongly spelt word.

- Ans
- ✓ 1. Incidentally
 - ✗ 2. Incredible
 - ✗ 3. Irresistible
 - ✗ 4. Inevitable

Question ID : 9895809875
Chosen Option : --

Comprehension:

In the following passage some words have been deleted. Fill in the blanks with the help of the alternatives given. Select the most appropriate option for each number.

Orissa was hit by a cyclone with a wind speed of 200 km/h on 18 October 1999. The cyclone (1) _____ 45,000 houses making 7,00,000 people homeless. (2) _____ 29 October the same year, a second cyclone (3) _____ a wind speed of 260 km/h hit Orissa again. It was (4) _____ by water waves about 9 metre high. Thousands of people (5) _____ their lives. Property worth crores of rupees was destroyed.

SubQuestion No : 8

Q.8 Select the most appropriate option that will fill in the blank number 1.

- Ans
- ✗ 1. exploded
 - ✗ 2. smashed
 - ✓ 3. burst
 - ✗ 4. crashed

Question ID : 9895809861

Comprehension:

In the following passage some words have been deleted. Fill in the blanks with the help of the alternatives given. Select the most appropriate option for each number.

Orissa was hit by a cyclone with a wind speed of 200 km/h on 18 October 1999. The cyclone (1) _____ 45,000 houses making 7,00,000 people homeless. (2) _____ 29 October the same year, a second cyclone (3) _____ a wind speed of 260 km/h hit Orissa again. It was (4) _____ by water waves about 9 metre high. Thousands of people (5) _____ their lives. Property worth crores of rupees was destroyed.

SubQuestion No : 9

Q.9 Select the most appropriate option that will fill in the blank number 2.

- Ans
- 1. By
 - 2. From
 - 3. On
 - 4. In

Question ID : 9895809862

Chosen Option : --

Comprehension:

In the following passage some words have been deleted. Fill in the blanks with the help of the alternatives given. Select the most appropriate option for each number.

Orissa was hit by a cyclone with a wind speed of 200 km/h on 18 October 1999. The cyclone (1) _____ 45,000 houses making 7,00,000 people homeless. (2) _____ 29 October the same year, a second cyclone (3) _____ a wind speed of 260 km/h hit Orissa again. It was (4) _____ by water waves about 9 metre high. Thousands of people (5) _____ their lives. Property worth crores of rupees was destroyed.

SubQuestion No : 10

Q.10 Select the most appropriate option that will fill in the blank number 3.

- Ans
- 1. from
 - 2. with
 - 3. of
 - 4. in

Question ID : 9895809863

Comprehension:

In the following passage some words have been deleted. Fill in the blanks with the help of the alternatives given. Select the most appropriate option for each number.

Orissa was hit by a cyclone with a wind speed of 200 km/h on 18 October 1999. The cyclone (1) _____ 45,000 houses making 7,00,000 people homeless. (2) _____ 29 October the same year, a second cyclone (3) _____ a wind speed of 260 km/h hit Orissa again. It was (4) _____ by water waves about 9 metre high. Thousands of people (5) _____ their lives. Property worth crores of rupees was destroyed.

SubQuestion No : 11

Q.1
1 Select the most appropriate option that will fill in the blank number 4.

- Ans
- 1. furnished
 - 2. started
 - 3. accompanied
 - 4. increased

Question ID : 9895809864

Chosen Option : --

Comprehension:

In the following passage some words have been deleted. Fill in the blanks with the help of the alternatives given. Select the most appropriate option for each number.

Orissa was hit by a cyclone with a wind speed of 200 km/h on 18 October 1999. The cyclone (1) _____ 45,000 houses making 7,00,000 people homeless. (2) _____ 29 October the same year, a second cyclone (3) _____ a wind speed of 260 km/h hit Orissa again. It was (4) _____ by water waves about 9 metre high. Thousands of people (5) _____ their lives. Property worth crores of rupees was destroyed.

SubQuestion No : 12

Q.1
2 Select the most appropriate option that will fill in the blank number 5.

- Ans
- 1. finished
 - 2. left
 - 3. gave
 - 4. lost

Question ID : 9895809865

Chosen Option : --

Q.1 Identify the segment in the sentence which contains the grammatical error from the given options.

3

Ships are made of iron and a parts of them remains under water.

Ans

- 1. a parts of
- 2. Ships are
- 3. under water
- 4. made of iron

Question ID : 9895809853

Chosen Option : --

Q.1 Select the word which means the same as the group of words given.

4

A person who is blamed for something that someone else has done.

Ans

- 1. Athlete
- 2. Scapegoat
- 3. Culprit
- 4. Volunteer

Question ID : 9895809872

Chosen Option : --

Q.1 Identify the segment in the sentence which contains the grammatical error from the given options.

5

When food gets spoil, it produces a foul smell.

Ans

- 1. get spoil
- 2. When food
- 3. a foul smell
- 4. it produces

Question ID : 9895809852

Chosen Option : --

Q.1 Select the most appropriate word to fill in the blank.

6

Emperors need more resources _____ kings because empires are larger than kingdoms.

Ans

- 1. as
- 2. of
- 3. for
- 4. than

Question ID : 9895809859

Chosen Option : --

Q.1
7 Select the antonym of the given word.

FLOOD

- Ans
- 1. Drought
 - 2. Overflow
 - 3. Outpouring
 - 4. Abundance

Question ID : 9895809869
Chosen Option : --

Q.1
8 Select the meaning of the given idiom.

Man of straw

- Ans
- 1. Useless
 - 2. Weak
 - 3. Stubborn
 - 4. Selfish

Question ID : 9895809870
Chosen Option : --

Q.1
9 Select the meaning of the given idiom.

Hit a bad patch

- Ans
- 1. Came across stormy weather
 - 2. Experienced difficulty
 - 3. Had a bumpy car ride
 - 4. Went through many illnesses

Question ID : 9895809871
Chosen Option : --

Q.2
0 Select the synonym of the given word.

STUBBORN

- Ans
- 1. Adaptable
 - 2. Cooperative
 - 3. Obstinate
 - 4. Obedient

Question ID : 9895809866
Chosen Option : --

Q.2
1 Select the word which means the same as the group of words given.

A person who knows and is able to use several languages.

- Ans
- 1. Bilingual
 - 2. Polyglot
 - 3. Polygamist
 - 4. Agnostic

Question ID : 9895809873
Chosen Option : --

Q.2
2 Select the antonym of the given word.

DISTANT

- Ans
- 1. Remote
 - 2. Far
 - 3. Close
 - 4. Beyond

Question ID : 9895809868
Chosen Option : --

Q.2
3 Select the wrongly spelt word.

- Ans
- 1. Inevitable
 - 2. Incredible
 - 3. Intelligence
 - 4. Idiosyncracy

Question ID : 9895809874
Chosen Option : --

Q.2
4 Select the most appropriate word to fill in the blank.

These medicines are _____ for curing cold.

- Ans
- 1. proper
 - 2. effective
 - 3. powerful
 - 4. natural

Question ID : 9895809876
Chosen Option : --

Q.2
5

Select the most appropriate option to substitute the underlined segment in the given sentence. If there is no need to substitute it, select No substitution required.

Animals adapt themselves for survive in the conditions in which they live.

- Ans
- 1. by surviving in
 - 2. to survive in
 - 3. for survival on
 - 4. No substitution required

Question ID : 9895809856
Chosen Option : --

Section : Hindi Language

Q.1 दिए गए वाक्य का वह भाग ज्ञात करें जिसमें कोई त्रुटि है।
हम में से अधिकतर व्यक्ति अनेक आदतों से बँधा हुए हैं।

- Ans
- 1. हम में से
 - 2. अधिकतर व्यक्ति
 - 3. बँधा हुए हैं।
 - 4. अनेक आदतों से

Question ID : 9895809983
Chosen Option : 3

Q.2 रिक्त स्थान को भरने के लिए उपयुक्त शब्द का चयन करें।
सामाजिक कुरीतियों का एकमात्र कारण _____ है।

- Ans
- 1. अनजान
 - 2. अहंकार
 - 3. अकड़
 - 4. अज्ञान

Question ID : 9895809990
Chosen Option : 4

Q.3 'अन्धे के हाथ बटेर लगना' मुहावरे का सही अर्थ है -

- Ans
- 1. भविष्य की बात को जान लेना
 - 2. अन्धे को सोना मिल जाना
 - 3. एकाएक लाभ होना
 - 4. हानि होना

Question ID : 98958010002
Chosen Option : 1

Q.4 'चोली दामन का साथ' मुहावरे का सही अर्थ है -

- Ans
- 1. कटु शत्रुता
 - 2. दुश्मनी
 - 3. घनिष्ठ संबंध होना
 - 4. मेल न होना

Question ID : 98958010003
Chosen Option : 3

Q.5 दिए गए वाक्य का वह भाग ज्ञात करें जिसमें कोई त्रुटि है।

बादशाह अकबर एक दिन शिकार खेलती हुई जंगल में भटक गए।

- Ans
- 1. एक दिन
 - 2. जंगल में भटक गए।
 - 3. बादशाह अकबर
 - 4. शिकार खेलती हुई

Question ID : 9895809982
Chosen Option : 4

Q.6 'पराधीन' शब्द का विलोम शब्द है-

- Ans
- 1. प्राचीन
 - 2. स्वाधीन
 - 3. अर्वाचीन
 - 4. अधीन

Question ID : 9895809999
Chosen Option : 2

Q.7 दिए गए वाक्य में रेखांकित खंड को प्रतिस्थापित करने के लिए उपयुक्त विकल्प का चयन करें।

अब 'क्षय' जैसी प्राणान्तक बीमारी का इलाज भी सम्भव है।

- Ans
- 1. आधान
 - 2. उपचार
 - 3. समाचार
 - 4. समादान

Question ID : 9895809987
Chosen Option : 2

Q.8 दिए गए वाक्य में रेखांकित खंड को प्रतिस्थापित करने के लिए उपयुक्त विकल्प का चयन करें।

सुरेश और मोहन दोनों साथ-साथ पढ़ने वाले छात्र हैं।

- Ans
- 1. सहकर्मी
 - 2. सहपाठी
 - 3. स्वावलंबी
 - 4. परोपकारी

Question ID : 9895809985
Chosen Option : 2

Q.9 सही वर्तनी वाले शब्द का चयन करें।

- Ans
- 1. सन्मुख
 - 2. संमूख
 - 3. सनमुख
 - 4. सम्मुख

Question ID : 98958010007
Chosen Option : 4

Q.10 दिए गए वाक्य में रेखांकित खंड को प्रतिस्थापित करने के लिए उपयुक्त विकल्प का चयन करें।

आपके विद्वतापूर्ण व्याख्यान से मेरी शंका का निराकरण हो गया।

- Ans
- 1. समाधान
 - 2. संहार
 - 3. विवेचन
 - 4. स्पष्टीकरण

Question ID : 9895809986
Chosen Option : 1

Q.11 'सर्प' का पर्यावाची शब्द है-

- Ans
- 1. अहित
 - 2. पतंग
 - 3. व्याल
 - 4. शार्दूल

Question ID : 98958010000
Chosen Option : 4

Q.1
2 'इष्ट' शब्द का विलोम शब्द है-

- Ans
- 1. बुरा
 - 2. अनिष्ट
 - 3. अवनति
 - 4. पतन

Question ID : 9895809998
Chosen Option : 3

Q.1
3 'पत्थर' का पर्यावाची शब्द है-

- Ans
- 1. शैल
 - 2. अचल
 - 3. भूधर
 - 4. प्रस्तर

Question ID : 98958010001
Chosen Option : 1

Q.1
4 'बहुत-सी भाषाओं को जानने वाला' के लिए एक शब्द है-

- Ans
- 1. प्रशासक
 - 2. बहुभाषाविद्
 - 3. अनुवादक
 - 4. द्विभाषी

Question ID : 98958010004
Chosen Option : 2

Q.1
5 दिए गए वाक्य का वह भाग ज्ञात करें जिसमें कोई त्रुटि है।

वर्तमान युग कम्प्यूटर तथा सूचना प्रोद्योगिकी की युग है।

- Ans
- 1. की युग है।
 - 2. कम्प्यूटर तथा
 - 3. वर्तमान युग
 - 4. सूचना प्रोद्योगिकी

Question ID : 9895809984
Chosen Option : 1

Q.1
6

रिक्त स्थान को भरने के लिए उपयुक्त शब्द का चयन करें।

हमारे समाज _____ अनेक कुरीतियाँ हैं।

- Ans
- 1. में
 - 2. बीच
 - 3. अंदर
 - 4. भीतर

Question ID : 9895809989
Chosen Option : 1

Q.1
7 रिक्त स्थान को भरने के लिए उपयुक्त शब्द का चयन करें।

वह _____ समझदार है।

- Ans
- 1. मंद
 - 2. बहुत
 - 3. अधिक
 - 4. तीव्र

Question ID : 9895809988
Chosen Option : 2

Comprehension:

निम्नलिखित गद्यांश के रिक्त स्थानों की पूर्ति गद्यांश के नीचे दिए गए प्रश्नों के अनुसार कीजिए-

विज्ञान के क्षेत्र में जाकर लोग धर्म की _____ (1) करने लगते हैं। धर्म पर _____ (2) का लांछन लगाकर वैज्ञानिक अपने सत्यान्वेषी होने का गुणगान करते हैं। सच्चाई यह है कि धर्म और विज्ञान अलग-अलग होकर भी अलग-अलग नहीं हैं। दोनों का उद्देश्य _____ (3) का हित है। धर्म का _____ (4) मनुष्य के भीतर परोपकार, त्याग-बलिदान, करुणा और प्रेम का _____ (5) करके उसे सुंदर सामाजिक जीवन जीने योग्य बनाना है।

SubQuestion No : 18

Q.1
8 गद्यांश में संकेतित रिक्त स्थान (1) के लिए उपयुक्त शब्द होगा।

- Ans
- 1. उपेक्षा
 - 2. अपेक्षा
 - 3. उत्प्रेक्षा

✗ 4. उलाहना

Question ID : 9895809993
Chosen Option : 2

Comprehension:

निम्नलिखित गद्यांश के रिक्त स्थानों की पूर्ति गद्यांश के नीचे दिए गए प्रश्नों के अनुसार कीजिए-

विज्ञान के क्षेत्र में जाकर लोग धर्म की _____ (1) करने लगते हैं। धर्म पर _____ (2) का लांछन लगाकर वैज्ञानिक अपने सत्यान्वेषी होने का गुणगान करते हैं। सच्चाई यह है कि धर्म और विज्ञान अलग-अलग होकर भी अलग-अलग नहीं हैं। दोनों का उद्देश्य _____ (3) का हित है। धर्म का _____ (4) मनुष्य के भीतर परोपकार, त्याग-बलिदान, करुणा और प्रेम का _____ (5) करके उसे सुंदर सामाजिक जीवन जीने योग्य बनाना है।

SubQuestion No : 19

Q.1
9 गद्यांश में संकेतित रिक्त स्थान (2) के लिए उपयुक्त शब्द होगा।

- Ans
- ✗ 1. मर्यादा
 - ✗ 2. विश्वास
 - ✓ 3. अंधविश्वास
 - ✗ 4. कर्मठता

Question ID : 9895809994
Chosen Option : 3

Comprehension:

निम्नलिखित गद्यांश के रिक्त स्थानों की पूर्ति गद्यांश के नीचे दिए गए प्रश्नों के अनुसार कीजिए-

विज्ञान के क्षेत्र में जाकर लोग धर्म की _____ (1) करने लगते हैं। धर्म पर _____ (2) का लांछन लगाकर वैज्ञानिक अपने सत्यान्वेषी होने का गुणगान करते हैं। सच्चाई यह है कि धर्म और विज्ञान अलग-अलग होकर भी अलग-अलग नहीं हैं। दोनों का उद्देश्य _____ (3) का हित है। धर्म का _____ (4) मनुष्य के भीतर परोपकार, त्याग-बलिदान, करुणा और प्रेम का _____ (5) करके उसे सुंदर सामाजिक जीवन जीने योग्य बनाना है।

SubQuestion No : 20

Q.2
0

गद्यांश में संकेतित रिक्त स्थान (3) के लिए उपयुक्त शब्द होगा।

Ans

1. मनुष्य
 2. सामाजिक विज्ञान
 3. विज्ञान
 4. इतिहास

Question ID : 9895809995
Chosen Option : 1

Comprehension:

निम्नलिखित गद्यांश के रिक्त स्थानों की पूर्ति गद्यांश के नीचे दिए गए प्रश्नों के अनुसार कीजिए-

विज्ञान के क्षेत्र में जाकर लोग धर्म की _____ (1) करने लगते हैं। धर्म पर _____ (2) का लांछन लगाकर वैज्ञानिक अपने सत्यान्वेषी होने का गुणगान करते हैं। सच्चाई यह है कि धर्म और विज्ञान अलग-अलग होकर भी अलग-अलग नहीं हैं। दोनों का उद्देश्य _____ (3) का हित है। धर्म का _____ (4) मनुष्य के भीतर परोपकार, त्याग-बलिदान, करुणा और प्रेम का _____ (5) करके उसे सुंदर सामाजिक जीवन जीने योग्य बनाना है।

SubQuestion No : 21

Q.2
1 गद्यांश में संकेतित रिक्त स्थान (4) के लिए उपयुक्त शब्द होगा।

Ans

1. लक्ष
 2. साधन
 3. साक्ष्य
 4. लक्ष्य

Question ID : 9895809996
Chosen Option : 4

Comprehension:

निम्नलिखित गद्यांश के रिक्त स्थानों की पूर्ति गद्यांश के नीचे दिए गए प्रश्नों के अनुसार कीजिए-

विज्ञान के क्षेत्र में जाकर लोग धर्म की _____ (1) करने लगते हैं। धर्म पर _____ (2) का लांछन लगाकर वैज्ञानिक अपने सत्यान्वेषी होने का गुणगान करते हैं। सच्चाई यह है कि धर्म और विज्ञान अलग-अलग होकर भी अलग-अलग नहीं हैं। दोनों का उद्देश्य _____ (3) का हित है। धर्म का _____ (4) मनुष्य के भीतर परोपकार, त्याग-बलिदान, करुणा और प्रेम का _____ (5) करके उसे सुंदर सामाजिक जीवन जीने योग्य बनाना है।

SubQuestion No : 22

Q.2
2 गद्यांश में संकेतित रिक्त स्थान (5) के लिए उपयुक्त शब्द होगा।

- Ans
- 1. विकास
 - 2. प्रगति
 - 3. हास
 - 4. विनाश

Question ID : 9895809997
Chosen Option : 1

Q.2
3 सही वर्तनी वाले शब्द का चयन करें।

- Ans
- 1. परिवार
 - 2. प्ररिवार
 - 3. परिवार
 - 4. परीवार

Question ID : 98958010006
Chosen Option : 3

Q.2
4 'जो भेदा या तोड़ा न जा सके' के लिए एक शब्द है-

- Ans
- 1. नश्वर
 - 2. अभेद्य
 - 3. अभेद
 - 4. पारदर्शी

Question ID : 98958010005
Chosen Option : 1

Q.2
5 रिक्त स्थान को भरने के लिए उपयुक्त शब्द का चयन करें।

मेरा ध्यान _____ भाई की ओर था।

- Ans
- 1. हमारे
 - 2. अपने
 - 3. हमें
 - 4. तुम

Question ID : 9895809991
Chosen Option : 2

GovtJobsAlert.In