

## Constable (GD) in CAPFs, NIA, SSF and Rifleman (GD) in Assam Rifles Examination, 2018

Roll No. :	GovtJobsAlert.In
Registration No.	GovtJobsAlert.In
Name :	GovtJobsAlert.In
Exam Venue :	Global Institute Of Technology
Exam Time :	12:30 PM - 2:00 PM
Exam Date :	11/03/2019

Section : General Section

Q.1 उस विकल्प आकृति का चयन करें, जिसमें प्रश्न आकृति छिपी हुई/अंतर्निहित है।

प्रश्न आकृति:

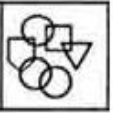


Ans

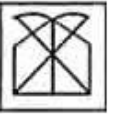
✗ 1.



✓ 2.



✗ 3.



✗ 4.

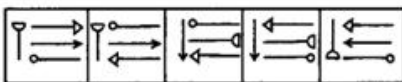


Question ID : 9895809369

Chosen Option : 4

Q.2 उस विकल्प का चयन करें जो दी गई आकृति श्रृंखला को पूरा करता है।

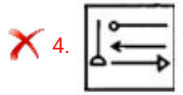
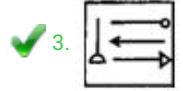
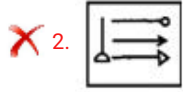
प्रश्न आकृति



Ans

✗ 1.





Question ID : 9895809367  
Chosen Option : 4

Q.3 उस विकल्प का चयन करें जो सही रूप में रिक्त स्थान की पूर्ति करते हुए श्रृंखला को पूरा करें।

43, 55, 79, 115, —

- Ans
- ✗ 1. 172
  - ✓ 2. 163
  - ✗ 3. 127
  - ✗ 4. 139

Question ID : 9895809361  
Chosen Option : 2

Q.4 उस विकल्प का चयन करें जो दर्पण के दायीं ओर रखे जाने पर दि गई आकृति की दर्पण छवि से सर्वाधिक मेल खाता है।

प्रश्न आकृति:



- Ans
- ✗ 1.
  - ✗ 2.
  - ✓ 3.
  - ✗ 4.

Question ID : 9895809370  
Chosen Option : 3

Q.5 प्रीति ने राहुल से अधिक अंक प्राप्त किए। यमुना ने दिव्या के बराबर अंक प्राप्त किए। लोकिता ने मंजू से कम अंक प्राप्त किए। राहुल ने यमुना से अधिक अंक प्राप्त किए। मंजू ने दिव्या से कम अंक प्राप्त किए। सबसे कम अंक किसने प्राप्त किए?

- Ans
- ✓ 1. लोकिता
  - ✗ 2. राहुल

3. मंजू

4. यमुना

Question ID : 9895809358

Chosen Option : 1

Q.6 नीचे दिए गए कथनों के बाद दो निष्कर्ष I और II दिए गए हैं। यह मानते हुए कि कथनों में दी गई जानकारी सत्य है, भले ही वह सर्वज्ञात तथ्यों से भिन्न प्रतीत होती हो और यह निर्णय करें कि कौन सा / से निष्कर्ष तार्किक और निश्चित रूप से कथन में दी गई जानकारी का अनुसरण करता है / करते हैं।

कथन:

सभी फूल फल हैं।

सभी फल पौधे हैं।

निष्कर्ष:

I. सभी पौधे फूल हैं।

II. कुछ फल फूल हैं।

Ans

1. या तो निष्कर्ष I या II अनुसरण करता है।

2. केवल निष्कर्ष II अनुसरण करता है।

3. निष्कर्ष I और II दोनों अनुसरण करते हैं।

4. केवल निष्कर्ष I अनुसरण करता है।

Question ID : 9895809360

Chosen Option : 2

Q.7 एक निश्चित कूट भाषा में, GYM को 2275 रूप में कूटबद्ध किया जाता है। उस कोड में KIT कैसे कूटबद्ध किया जाता है?

Ans

1. 1950

2. 1970

3. 1980

4. 1960

Question ID : 9895809355

Chosen Option : 2

Q.8 एक निश्चित कूट भाषा में, EMTWX को XWTME के रूप में कूटबद्ध किया जाता है। उस कोड में PYSCI कैसे कूटबद्ध किया जाता है?

Ans

1. CISPY

2. CYSIP

3. ICSYP

4. CIPSY

Question ID : 9895809354

Chosen Option : 3

Q.9 चार शब्द दिए गए हैं, जिनमें से तीन किसी तरह से समान हैं, जबकि एक अलग है। असंगत शब्द का चयन करें।

- Ans
- 1. मुंबई
  - 2. दिसपुर
  - 3. झारखंड
  - 4. चेन्नई

Question ID : 9895809350  
Chosen Option : 2

Q.1  
0 उस विकल्प का चयन करें जो सही रूप में रिक्त स्थान की पूर्ति करते हुए श्रृंखला को पूरा करें।

AEI, EIO, IOU, ———

- Ans
- 1. OUA
  - 2. OAU
  - 3. IOA
  - 4. MIL

Question ID : 9895809348  
Chosen Option : 1

Q.1  
1 चार अक्षर समूह दिए गए हैं, जिनमें से तीन किसी तरह से समान हैं, जबकि एक अलग है। असंगत अक्षर समूह का चयन करें।

- Ans
- 1. EAV
  - 2. GAT
  - 3. DAT
  - 4. WAD

Question ID : 9895809349  
Chosen Option : 1

Q.1  
2 नीचे दिए गए कथनों के बाद दो निष्कर्ष I और II दिए गए हैं। यह मानते हुए कि कथनों में दी गई जानकारी सत्य है, भले ही वह सर्वज्ञात तथ्यों से भिन्न प्रतीत होती हो और यह निर्णय करें कि कौन सा / से निष्कर्ष तार्किक और निश्चित रूप से कथन में दी गई जानकारी का अनुसरण करता है / करते हैं।

कथन:

कुछ आलू टमाटर हैं।

सभी टमाटर प्याज हैं।

निष्कर्ष:

I. कुछ टमाटर आलू हैं।

II. सभी प्याज आलू हैं।

- Ans
- 1. निष्कर्ष I और II दोनों अनुसरण करते हैं।
  - 2. केवल निष्कर्ष I अनुसरण करता है।
  - 3. या तो निष्कर्ष I या II अनुसरण करता है।

✗ 4. केवल निष्कर्ष ॥ अनुसरण करता है।

Question ID : 9895809359  
Chosen Option : 2

Q.1  
3 दिए गए विकल्पों में से संबंधित शब्द युग्म का चयन करें।

होली : रंग :: \_\_\_\_\_ : \_\_\_\_\_

- Ans
- ✗ 1. लोधी : पंजाबी
  - ✗ 2. हेमिस : लोक
  - ✓ 3. दीवाली : प्रकाश
  - ✗ 4. मुहर्रम : मुसलमान

Question ID : 9895809351  
Chosen Option : 4

Q.1  
4 निम्नलिखित प्रश्न में दिए गए विकल्पों में से संबंधित संख्या का चयन करें।

47 : 15 :: ? : 19

- Ans
- ✗ 1. 36
  - ✗ 2. 57
  - ✗ 3. 40
  - ✓ 4. 59

Question ID : 9895809363  
Chosen Option : 2

Q.1  
5 लुप्त पद ज्ञात करें।

119, 109, 89, 59, \_\_\_\_\_

- Ans
- ✓ 1. 19
  - ✗ 2. 29
  - ✗ 3. 39
  - ✗ 4. 49

Question ID : 9895809362  
Chosen Option : 1

Q.1  
6 यदि '+' का अर्थ '-', '-' का अर्थ '×', '×' का अर्थ '÷' और '÷' का अर्थ '+', तो:

$$43 - 2 \times 2 + 8 = ?$$

- Ans  1. 35  
 2. 25  
 3. 40  
 4. 42

Question ID : 9895809366  
Chosen Option : 1

Q.1 7 दिए गए विकल्पों में से संबंधित शब्द युग्म का चयन करें।

आंध्र प्रदेश : तेलुगु :: \_\_\_\_\_ : \_\_\_\_\_

- Ans  1. गोवा : हिंदी  
 2. असम : मैथिली  
 3. त्रिपुरा : तेलुगु  
 4. केरल : मलयालम

Question ID : 9895809352  
Chosen Option : 2

Q.1 8 छः व्यक्ति A, B, C, D, E तथा F दो पंक्तियों में, प्रत्येक पंक्ति में तीन बैठे हैं।

E किसी भी पंक्ति के अंत में नहीं है।  
D, F के बाईं ओर से दूसरे स्थान पर है।  
C, E का पड़ोसी है तथा D से विकर्णतः बैठा है।  
B, F का पड़ोसी है।

B के सामने कौन है?

- Ans  1. C  
 2. D  
 3. E  
 4. A

Question ID : 9895809357  
Chosen Option : 2

Q.1 9 एक हॉल में सात बच्चों (लड़कियाँ और लड़के दोनों) P, Q, R, S, T, U और V हैं। वे तीन बेंच I, II और III पर इस प्रकार बैठे हैं कि प्रत्येक बेंच पर कम से कम दो बच्चों बैठे हैं और कम से कम एक लड़की बैठी है। R जो कि एक लड़की है, P, T और S के साथ नहीं बैठती। एक लड़का U केवल Q के साथ बैठता है। P, बेंच I पर अपने घनिष्ठ मित्रों के साथ बैठता है। V, बेंच III पर बैठा/बैठी है। T, R का भाई है।

R के साथ कौन बैठा है?

Ans

1. Q

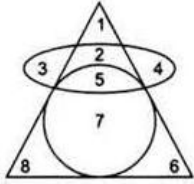
2. U

3. S

4. V

Question ID : 9895809356  
Chosen Option : 1

Q.2 नीचे दिए गए आरेख में कौन सी संख्या सभी ज्यामितीय आकृतियों में सामान्य है?



Ans  1. 4

2. 5

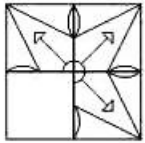
3. 2

4. 7

Question ID : 9895809372  
Chosen Option : 2

Q.2 निम्नलिखित में से कौन सी उत्तर आकृति दी गई आकृति को पूरा करेगी?

प्रश्न आकृति:

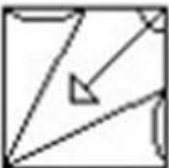


Ans

1.



2.



✗ 3.



✗ 4.



Question ID : 9895809368  
Chosen Option : 1

Q.2  
2 दिए गए विकल्पों में से लुप्त संख्या ज्ञात करें।

12	16	18
24	32	?
36	48	54

- Ans
- ✗ 1. 48
  - ✗ 2. 28
  - ✗ 3. 64
  - ✓ 4. 36

Question ID : 9895809365  
Chosen Option : 4

Q.2  
3 चार विकल्प दिए गए हैं, जिनमें से तीन किसी तरह से समान हैं, जबकि एक अलग है। असंगत का चयन करें।

- Ans
- ✓ 1. 83
  - ✗ 2. 72
  - ✗ 3. 54
  - ✗ 4. 135

Question ID : 9895809364  
Chosen Option : 3

Q.2  
4 उस विकल्प का चयन करें जो तीसरे पद से उसी तरह संबंधित है जिस प्रकार दूसरा पद पहले पद से संबंधित है।

AE : IM :: HL : ?

- Ans
- ✗ 1. DS
  - ✓ 2. PT
  - ✗ 3. TP
  - ✗ 4. FU

Question ID : 9895809353



Q.2 निम्नलिखित प्रश्न में पारदर्शी शीट पर अंकित एक आकृति दी गई है और उसके बाद चार उत्तर आकृतियां दी गई हैं,  
5 इन चार विकल्पों में से एक आकृति से मिलता जुलता है, जो कि बिन्दुदार रेखा के साथ पारदर्शी शीट को मोड़कर प्राप्त किया जाता है। उस विकल्प का चयन करें।

प्रश्न आकृति:



Ans



Question ID : 9895809371

Chosen Option : 4

Q.2 यथा फरवरी 2019 को भारत में ग्रामीण विकास मंत्री निम्नलिखित में से कौन हैं?  
6

Ans

✗ 1. अनंत गीते

✓ 2. नरेंद्र सिंह तोमर

✗ 3. संतोष कुमार गंगवार

✗ 4. धर्मेंद्र प्रधान

Question ID : 9895809535

Chosen Option : 3

Q.2 लोकतंत्र को तानाशाही से बेहतर माना जाता है क्योंकि यह:  
7

Ans

✗ 1. नागरिकों में समानता कम करता है।

✓ 2. लोगों की गरिमा बढ़ाता है।

✗ 3. लोगों के बीच संघर्ष को प्रोत्साहित करता है।

✗ 4. गलतियों के लिए विशेष प्रावधान की अनुमति देता है।

Question ID : 9895809534

Chosen Option : 1

Q.2 भारत का दक्षिणतम बंदरगाह किस राज्य में स्थित है?  
8

Ans

✗ 1. तेलंगाना

✓ 2. तमिलनाडु

3. आंध्र प्रदेश

4. केरल

Question ID : 9895809542  
Chosen Option : 3

Q.2 2016 के ओलम्पिक खेलों में, महिलाओं की 100 मीटर दौड़ (स्प्रिंट) में स्वर्ण पदक किसने जीता था?

Ans  1. शेलि-एन फ्रेजर-प्राइसे

2. ऐलेन थॉम्पसन

3. व्योमिया टायस

4. गेल डेवर्स

Question ID : 9895809526  
Chosen Option : 4

Q.3 कोई सत्याग्रही अहिंसा द्वारा विजय प्राप्त कर सकता है:

Ans  1. अत्याचारियों की करुणा को प्रभावित करते हुए

2. अत्याचारियों के नेतृत्व को प्रभावित करते हुए

3. अत्याचारियों की अन्तरात्मा को प्रभावित करते हुए

4. अत्याचारियों के सहयोगियों को प्रभावित करते हुए

Question ID : 9895809546  
Chosen Option : 3

Q.3 हम जिन वस्तुओं का उपयोग या उपभोग करते हैं, \_\_\_\_\_ को छोड़कर वे सभी पृथ्वी पर उपलब्ध संसाधनों से प्राप्त किए जाते हैं।

Ans  1. पवन से प्राप्त ऊर्जा

2. घर्षण से प्राप्त ऊर्जा

3. सूर्य से प्राप्त ऊर्जा

4. जल से प्राप्त ऊर्जा

Question ID : 9895809544  
Chosen Option : 3

Q.3 मुगल साम्राज्य के दौरान जजिया कर किस पर लगाया गया था?

Ans  1. मुस्लिम नागरिकों पर

2. गैर-मुस्लिम नागरिकों पर

3. सभी नागरिकों पर  
 4. कुलीन नागरिकों पर

Question ID : 9895809533  
Chosen Option : 3

Q.3  
3 'रणप्पा' नृत्य कला का संबंध किस राज्य से है?

- Ans  1. केरल  
 2. पंजाब  
 3. ओडिशा  
 4. तमिलनाडु

Question ID : 9895809523  
Chosen Option : 3

Q.3  
4 हरे शैवालों के हरित होने का कारण है:

- Ans  1. फ्यकोबिलिन  
 2. क्लोरोफिल  
 3. फ्यकोएरित्रीन  
 4. कसान्थोप्ल्यायलुस

Question ID : 9895809537  
Chosen Option : 1

Q.3  
5 अनुचित व्यापार प्रथाओं और शोषण के खिलाफ उपभोक्ताओं को \_\_\_\_\_ की चाहत करने का अधिकार है।

- Ans  1. सहानुभूति  
 2. निवारण  
 3. दंड  
 4. चोट

Question ID : 9895809532  
Chosen Option : 2

Q.3  
6 निम्नलिखित में से कौन ओजोन को नष्ट करता है?

- Ans  1. गंधक  
 2. कार्बन  
 3. क्लोरीन  
 4. सिलिकॉन

Question ID : 9895809538  
Chosen Option : 3

Q.3  
7 ऑस्ट्रेलियाई ओपन 2018 में, महिला एकल प्रतिस्पर्धा की विजेता कौन थीं?

- Ans
- 1. मार्टिना हिंगिस
  - 2. कैरोलिन वोज़नियेकी
  - 3. सेरेना विलियम्स
  - 4. वीनस विलियम्स

Question ID : 9895809527  
Chosen Option : 3

Q.3  
8 स्वाद में कड़वे खाद्य पदार्थों की प्रकृति \_\_\_\_\_ होती है।

- Ans
- 1. क्षारीय
  - 2. अम्लीय
  - 3. उदासीन
  - 4. क्षारकीय

Question ID : 9895809539  
Chosen Option : 2

Q.3  
9 प्रथम विश्वयुद्ध (1914-1918) के दौरान:

- Ans
- 1. कीमतें अपरिवर्तित रहीं।
  - 2. कीमतें कम हुई थीं।
  - 3. कीमतों में 10% से कम वृद्धि हुई थी।
  - 4. कीमतें लगभग दोगुनी हो गई थीं।

Question ID : 9895809545  
Chosen Option : 1

Q.4  
0 डुम्हाल किस राज्य की नृत्य शैली है?

- Ans
- 1. केरल
  - 2. जम्मू एवं कश्मीर
  - 3. गुजरात
  - 4. पश्चिम बंगाल

Question ID : 9895809524  
Chosen Option : 1

Q.4 \_\_\_\_\_ सरकार की प्रणाली विधायिका को दो अलग-अलग विधानसभाओं, मंडलों या सदनों में विभाजित करती है।

1

Ans

- 1. द्विसदनीय
- 2. त्रिसदनीय
- 3. चार सदनीय
- 4. एक सदनीय

Question ID : 9895809536  
Chosen Option : 4

Q.4 विद्युत् परिपथ में विभवान्तर मापने के लिए प्रयुक्त मापक \_\_\_\_\_ कहलाता है।

2

Ans

- 1. थर्मामीटर
- 2. वोल्टमीटर
- 3. ओममीटर
- 4. जाइरोस्कोप

Question ID : 9895809541  
Chosen Option : 2

Q.4 सुगम कर \_\_\_\_\_ से संबंधित है।

3

Ans

- 1. उत्पाद शुल्क
- 2. वाणिज्यिक कर
- 3. सीमा शुल्क
- 4. आयकर

Question ID : 9895809531  
Chosen Option : 3

Q.4 जैवनिम्नीकरणीय मने जाने वाले पदार्थ:

4

Ans

- 1. भौतिक प्रक्रिया से निम्नीकृत किए जा सकते हैं।
- 2. रासायनिक प्रक्रिया से निम्नीकृत किए जा सकते हैं।
- 3. किसी भी प्रकार निम्नीकृत नहीं किए जा सकते।
- 4. जैविक प्रक्रिया से निम्नीकृत किये जा सकते हैं।

Question ID : 9895809543  
Chosen Option : 2

Q.4 स्वतंत्र भारत में सर्वप्रथम भारतरत्न पुरस्कार किसे दिया गया?

5

Ans

- 1. सी.एन.आर.राव
- 2. जवाहरलाल नेहरू
- 3. सरदार पटेल
- 4. सी. वी. रमन

Question ID : 9895809529  
Chosen Option : 2

Q.4  
6 गुजराती के लिए साहित्य अकादमी पुरस्कार 2017 के विजेता हैं:

- Ans
- 1. उर्मी देसाई
  - 2. हिंमांशु पटेल
  - 3. डेविड शाह
  - 4. रमेश मेघ

Question ID : 9895809528  
Chosen Option : 1

Q.4  
7 सिन्धु घाटी सभ्यता के दो प्राचीन नगर हड़प्पा और \_\_\_\_\_ खुदाई करने पर सामने आए।

- Ans
- 1. सूरत
  - 2. वाराणसी
  - 3. हस्तिनापुर
  - 4. मोहन-जोदड़ो

Question ID : 9895809547  
Chosen Option : 4

Q.4  
8 मानव लिंग गुणसूत्र बच्चे का लिंग निर्धारण करते हैं, जहाँ XX का परिणाम है:

- Ans
- 1. लड़की या लड़का हो सकता है
  - 2. लड़की
  - 3. लड़का
  - 4. ट्रांसजेंडर

Question ID : 9895809540  
Chosen Option : 2

Q.4  
9 भारत के पहले प्रधानमंत्री जिनकी हत्या की गई थी, हैं:

- Ans
- 1. लाल बहादुर शास्त्री
  - 2. इंदिरा गाँधी

3. मोरारजी देसाई  
 4. जवाहरलाल नेहरू

Question ID : 9895809530  
Chosen Option : 4

Q.5  
0 कुलिक पक्षी अभ्यारण्य कहाँ स्थित है?

- Ans  1. केरल  
 2. पश्चिम बंगाल  
 3. उत्तर प्रदेश  
 4. मध्य प्रदेश

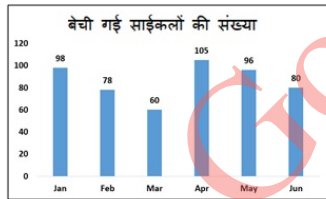
Question ID : 9895809525  
Chosen Option : 4

Q.5 एक कार मालिक लगातार 3 वर्षों तक क्रमशः ₹ 40, ₹ 50 और ₹ 60 प्रति लीटर पर पेट्रोल खरीदता है। यदि वह  
1 प्रत्येक वर्ष ₹ 30,000 खर्च करता है, तो पेट्रोल की प्रति लीटर की औसत लागत क्या है? (दशमलव के दो स्थानों तक सही)

- Ans  1. ₹ 48.65  
 2. ₹ 49.20  
 3. ₹ 50  
 4. ₹ 51.20

Question ID : 9895809699  
Chosen Option : 3

Q.5 बार ग्राफ जनवरी से जून तक प्रत्येक महीने में एक बितरक द्वारा बेची गई साइकिल की संख्या को दर्शाता है।  
2 मार्च की तुलना में अप्रैल में बिकने वाले साइकिलों की संख्या में कितनी वृद्धि हुई है?



- Ans  1. 68%  
 2. 70%  
 3. 78%  
 4. 75%

Question ID : 9895809721  
Chosen Option : 4

Q.5 एक किराने की दुकान में लगातार 4 दिनों में ₹ 3,425, ₹ 3,810, ₹ 3,155 और ₹ 3,610 की बिक्री होती है।  
3 ₹ 3,500 की औसत बिक्री प्राप्त करने के लिए 5 वें दिन में उसकी कितनी बिक्री होनी चाहिए?

- Ans  1. ₹ 3,500

2. ₹ 3,480

3. ₹ 3,455

4. ₹ 3,435

Question ID : 9895809698  
Chosen Option : 3

Q.5 ₹ 700 में एक कपड़े का टुकड़ा खरीदा गया था। ₹ 20 के एक टेलरिंग चार्ज के बाद 12.5% का लाभ प्राप्त करने के लिए इसे किस मूल्य पर बेचा जाना चाहिए?

Ans  1. ₹ 840

2. ₹ 810

3. ₹ 760

4. ₹ 785

Question ID : 9895809707  
Chosen Option : 3

Q.5 X, Y और Z एक काम क्रमशः 8, 20 और 25 दिनों में पूरा कर सकते हैं। एक साथ काम करके, वे उसी काम को कितने दिनों में पूरा करेंगे?

Ans  1.  $\frac{200}{43}$  दिन

2.  $\frac{180}{43}$  दिन

3.  $\frac{162}{43}$  दिन

4.  $\frac{172}{43}$  दिन

Question ID : 9895809717  
Chosen Option : 3

Q.5 4 cm त्रिज्या वाले एक ठोस धातु के गोलों को पिघलाया जाता है और '4' बराबर घन में पुनर्गठित किया जाता है। घन की भुजा है:

Ans  1.  $4\sqrt[3]{\frac{\pi}{3}}$  cm

2.  $5\sqrt[3]{\frac{\pi}{3}}$  cm

3.  $7\sqrt[3]{\frac{\pi}{3}}$  cm

4.  $6\sqrt[3]{\frac{\pi}{3}}$  cm

Question ID : 9895809713  
Chosen Option : 3

Q.5  
7



₹ 1,000, की एक राशि 2 वर्षों में चक्रवृद्धि ब्याज की दर से ₹ 1,144.90 हो जाती है, जबकि ब्याज वार्षिक संयोजित है। ब्याज दर है:

- Ans
- 1. 8%
  - 2. 5%
  - 3. 7%
  - 4. 6%

Question ID : 9895809702  
Chosen Option : 3

Q.5  
8 मान ज्ञात करें:

$$(11 + 4) - 9 \times 1 \div 4 \text{ का } 3$$

- Ans
- 1. 3
  - 2.  $\frac{75}{4}$
  - 3. 5
  - 4.  $\frac{57}{4}$

Question ID : 9895809700  
Chosen Option : 3

Q.5 एक आयत के परिमाण और चौड़ाई के बीच का अनुपात 3 : 1 है। यदि आयत का क्षेत्रफल 310 sq. cm है, तो आयत की लंबाई लगभग है:

- Ans
- 1. 11.45 cm
  - 2. 13.45 cm
  - 3. 12.45 cm
  - 4. 10.45 cm

Question ID : 9895809714  
Chosen Option : 3

Q.6 दो संख्याएँ A तथा B तीसरी संख्या C से क्रमशः 80% और 50% अधिक हैं। A तथा B का अनुपात क्या है?

- Ans
- 1. 5 : 6
  - 2. 8 : 5
  - 3. 6 : 5
  - 4. 5 : 8

Question ID : 9895809710  
Chosen Option : 3

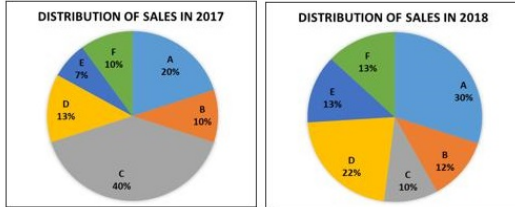
Q.6 एक राशि पर 5 वर्षों में 9% प्रति वर्ष की दर से ₹ 1,350 कुल साधारण ब्याज प्राप्त हुआ। राशि क्या है?

- Ans
- 1. ₹ 3,300

2. ₹ 2,500  
 3. ₹ 3,000  
 4. ₹ 2,000

Question ID : 9895809712  
 Chosen Option : 2

Q.6 पाई चार्ट 2017 और 2018 में डिटेजेंट बाजार में कंपनियों की बाजार हिस्सेदारी दिखाता है। बाजार की कुल कीमत ₹ 300 करोड़ से घटकर ₹ 200 करोड़ हो गई है। कंपनी F की बिक्री में कितनी कमी आई है?



- Ans  1.  $14\frac{1}{3}\%$   
 2.  $13\frac{1}{3}\%$   
 3.  $12\frac{1}{3}\%$   
 4.  $33\frac{1}{3}\%$

Question ID : 9895809722  
 Chosen Option : 3

Q.6  $4 : 5 : 8$  का व्युत्क्रम अनुपात क्या है?

- Ans  1.  $10 : 8 : 5$   
 2.  $8 : 5 : 4$   
 3.  $3 : 4 : 5$   
 4.  $5 : 4 : 3$

Question ID : 9895809711  
 Chosen Option : 3

Q.6  $\frac{4}{4}$  मान ज्ञात करें:

$$(7 \times 6 + 5 - 15) \div 4 + 6 \div 3 - 4 + 18 \div 3$$

- Ans  1. 14  
 2. 16  
 3. 18  
 4. 12

Question ID : 9895809701

Q.6 एक वस्तु की सूची मूल्य ₹ 80 है। एक ग्राहक इसके लिए ₹ 30 का भुगतान करता है। उसे लगातार 2 छूट दी गईं,  
5 जिसमें से एक 50% थी। अन्य छूट क्या थी?

- Ans
- 1. 30%
  - 2. 25%
  - 3. 12.50%
  - 4. 20%

Question ID : 9895809703  
Chosen Option : 3

Q.6 P, Q से दुगुनी तेज़ी से कार्य करता है। यदि Q, 36 दिनों में स्वतंत्र रूप से उसी कार्य को पूरा कर सकता है, तो P  
6 और Q मिलकर कितने दिनों में उसी कार्य को पूरा कर सकते हैं?

- Ans
- 1. 9 दिन
  - 2. 16 दिन
  - 3. 18 दिन
  - 4. 12 दिन

Question ID : 9895809716  
Chosen Option : 3

Q.6  $x$  का मान क्या है, यदि 21, 26, 49 और  $x$  का माध्य 32 है?  
7

- Ans
- 1. 36
  - 2. 32
  - 3. 30
  - 4. 34

Question ID : 9895809704  
Chosen Option : 1

Q.6 उस पुल की लंबाई, जिसे एक 400 मीटर लंबी ट्रेन, 60 km/hr की गति से चलकर 36 सेकंड में पार करती है निम्न है:  
8

- Ans
- 1. 250 m
  - 2. 500 m
  - 3. 450 m
  - 4. 200 m

Question ID : 9895809719  
Chosen Option : 3

Q.6 यदि a, c के 20% के बराबर है, और b, c के 40% के बराबर है, तो निम्नलिखित में से कौन सा b का 150% है?  
9

- Ans
- 1. c का 65%
  - 2. a का 300%

✗ 3. c का 65%

✗ 4. a का 250%

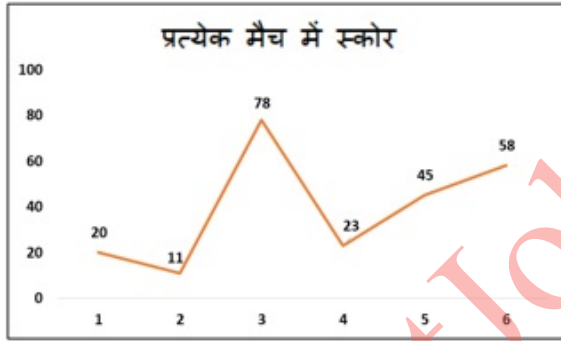
Question ID : 9895809706  
Chosen Option : 3

Q.7 एक ट्रेन 42 सेकंड में एक प्लेटफॉर्म को पार करती है और प्लेटफॉर्म पर खड़े एक व्यक्ति को 25 सेकंड में पार करती है। यदि ट्रेन की गति 72 km/hr है, तो प्लेटफॉर्म की लंबाई क्या है?

- Ans
- ✗ 1. 370 m
  - ✗ 2. 300 m
  - ✓ 3. 340 m
  - ✗ 4. 270 m

Question ID : 9895809718  
Chosen Option : 3

Q.7 लाइन ग्राफ लगातार 6 मैचों में एक बल्लेबाज के स्कोर को दर्शाता है। 6 मैचों में उनकी बैटिंग औसत क्या है?



- Ans
- ✗ 1. 37.19
  - ✗ 2. 38.17
  - ✓ 3. 39.17
  - ✗ 4. 38.33

Question ID : 9895809720  
Chosen Option : 3

Q.7 यदि 15 सेब की कीमत 6 स्ट्रॉबेरी, 2 स्ट्रॉबेरी की कीमत 16 केले, 6 केले की कीमत 15 आलू जितनी है, तो एक सेब की लागत ₹ 20 होने पर 1 आलू की कीमत क्या है?

- Ans
- ✗ 1. ₹ 22.50
  - ✗ 2. ₹ 2.25
  - ✗ 3. ₹ 25
  - ✓ 4. ₹ 2.50

Question ID : 9895809709  
Chosen Option : 3

Q.7 एक ठोस गोले का आयतन  $4851 \text{ m}^3$  है। गोले का पृष्ठीय क्षेत्रफल कितना है? ( $\pi = \frac{22}{7}$  लीजिए)

- Ans
- 1.  $1386 \text{ m}^2$
  - 2.  $1408 \text{ m}^2$
  - 3.  $1364 \text{ m}^2$
  - 4.  $1260 \text{ m}^2$

Question ID : 9895809715  
Chosen Option : 3

Q.7 4, 5 और 6 द्वारा विभाजित सबसे बड़ी 3-अंकीय संख्या क्या है?

- Ans
- 1. 930
  - 2. 900
  - 3. 960
  - 4. 990

Question ID : 9895809705  
Chosen Option : 3

Q.7 यदि विक्रय मूल्य तीन गुना हो जाता है, तो लाभ 5 गुना हो जाता है। लाभ प्रतिशत क्या है?

- Ans
- 1. 200%
  - 2. 50%
  - 3. 150%
  - 4. 100%

Question ID : 9895809708  
Chosen Option : 3

Section : English Language

Q.1 Select the word which means the same as the group of words given.

Intentionally starting a fire to damage something

- Ans
- 1. Extinguish
  - 2. Loot
  - 3. Arson
  - 4. Crime

Question ID : 9895809898  
Chosen Option : --

Q.2 Select the meaning of the given idiom.

Bite off more than one can chew

- Ans
- 1. To have an upset stomach

- 2. To be always hungry
- 3. To take more than one can deal with
- 4. To attack fiercely

Question ID : 9895809896  
Chosen Option : --

Q.3 Identify the segment in the sentence which contains the grammatical error from the given options.

Thunderstorms develop in hot, humid tropical areas like India much to frequently.

- Ans
- 1. frequently
  - 2. tropical areas
  - 3. much to
  - 4. Thunderstorms develop

Question ID : 9895809878  
Chosen Option : --

Q.4 Identify the segment in the sentence which contains the grammatical error from the given options.

Continuous heavy rainfall may farther worsen the flood situation.

- Ans
- 1. flood situation
  - 2. Continuous
  - 3. rainfall may
  - 4. farther

Question ID : 9895809879  
Chosen Option : --

Q.5 Select the antonym of the given word.

AGREEMENT

- Ans
- 1. Harmony
  - 2. Accord
  - 3. Discord
  - 4. Consensus

Question ID : 9895809895  
Chosen Option : --

Q.6 Select the most appropriate option to substitute the underlined segment in the given sentence. If there is no need to substitute it, select No substitution required.

The food is broke down into useful substances that can be absorbed by the body.

- Ans
- 1. break down
  - 2. is broken down

- 3. is breaking down
- 4. No substitution required

Question ID : 9895809882  
Chosen Option : --

Q.7 Select the wrongly spelt word.

- Ans
- 1. Believe
  - 2. Irresistable
  - 3. Apparent
  - 4. Conscience

Question ID : 9895809901  
Chosen Option : --

Q.8 Identify the segment in the sentence which contains the grammatical error from the given options.

The earthy fragrance of soil after a first rain is always refreshing.

- Ans
- 1. a first rain
  - 2. The earthy
  - 3. fragrance of
  - 4. always refreshing

Question ID : 9895809880  
Chosen Option : --

Q.9 Select the most appropriate word to fill in the blank.

After reaching New York, Prakash will have to \_\_\_\_\_ himself to the new surroundings.

- Ans
- 1. mix
  - 2. adapt
  - 3. submit
  - 4. develop

Question ID : 9895809903  
Chosen Option : --

Q.10 Select the antonym of the given word.

AGONY

- Ans
- 1. Pain
  - 2. Affliction
  - 3. Pleasure
  - 4. Suffering

Question ID : 9895809894  
Chosen Option : --

Q.1  
1 Select the synonym of the given word.

GRATIFICATION

- Ans
- 1. Complaint
  - 2. Annoyance
  - 3. Dissatisfaction
  - 4. Satisfaction

Question ID : 9895809892  
Chosen Option : --

Comprehension:

In the following passage some words have been deleted. Fill in the blanks with the help of the alternatives given. Select the most appropriate option for each number.

Settlements are (1) \_\_\_\_\_ where people build their homes. (2) \_\_\_\_\_ human beings lived on trees and (3) \_\_\_\_\_ caves. When they started (4) \_\_\_\_\_ crops it became (5) \_\_\_\_\_ to have a permanent home.

SubQuestion No : 12

Q.1  
2 Select the most appropriate option that will fill in the blank number 1

- Ans
- 1. sections
  - 2. quarters
  - 3. passages
  - 4. places

Question ID : 9895809887  
Chosen Option : --

Comprehension:

In the following passage some words have been deleted. Fill in the blanks with the help of the alternatives given. Select the most appropriate option for each number.

Settlements are (1) \_\_\_\_\_ where people build their homes. (2) \_\_\_\_\_ human beings lived on trees and (3) \_\_\_\_\_ caves. When they started (4) \_\_\_\_\_ crops it became (5) \_\_\_\_\_ to have a permanent home.

SubQuestion No : 13

Q.1  
3 Select the most appropriate option that will fill in the blank number 2

- Ans
- 1. Prior
  - 2. Previous
  - 3. Early



4. Initial

Question ID : 9895809888  
Chosen Option : --

**Comprehension:**

In the following passage some words have been deleted. Fill in the blanks with the help of the alternatives given. Select the most appropriate option for each number.

Settlements are (1) \_\_\_\_\_ where people build their homes. (2) \_\_\_\_\_ human beings lived on trees and (3) \_\_\_\_\_ caves. When they started (4) \_\_\_\_\_ crops it became (5) \_\_\_\_\_ to have a permanent home.

SubQuestion No : 14

Q.1  
4 Select the most appropriate option that will fill in the blank number 3

- Ans
- 1. around
  - 2. on
  - 3. in
  - 4. at

Question ID : 9895809889  
Chosen Option : --

**Comprehension:**

In the following passage some words have been deleted. Fill in the blanks with the help of the alternatives given. Select the most appropriate option for each number.

Settlements are (1) \_\_\_\_\_ where people build their homes. (2) \_\_\_\_\_ human beings lived on trees and (3) \_\_\_\_\_ caves. When they started (4) \_\_\_\_\_ crops it became (5) \_\_\_\_\_ to have a permanent home.

SubQuestion No : 15

Q.1  
5 Select the most appropriate option that will fill in the blank number 4

- Ans
- 1. growing
  - 2. grown
  - 3. grow
  - 4. grows

Question ID : 9895809890  
Chosen Option : --

**Comprehension:**

In the following passage some words have been deleted. Fill in the blanks with the help of the alternatives given. Select the most appropriate option for each number.

Settlements are (1) \_\_\_\_\_ where people build their homes. (2) \_\_\_\_\_ human beings lived on trees and (3) \_\_\_\_\_ caves. When they started (4) \_\_\_\_\_ crops it became (5) \_\_\_\_\_ to have a permanent home.

SubQuestion No : 16

Q.1  
6 Select the most appropriate option that will fill in the blank number 5

- Ans
- 1. requirement
  - 2. required
  - 3. needed
  - 4. necessary

Question ID : 9895809891  
Chosen Option : --

Q.1  
7 Select the most appropriate word to fill in the blank.

The authorities have \_\_\_\_\_ into this incident.

- Ans
- 1. probed
  - 2. examined
  - 3. evaluated
  - 4. tested

Question ID : 9895809902  
Chosen Option : --

Q.1  
8 Select the synonym of the given word.

COMPASSION

- Ans
- 1. Heartlessness
  - 2. Cruelty
  - 3. Pity
  - 4. Indifference

Question ID : 9895809893  
Chosen Option : --

Q.1  
9 Select the most appropriate word to fill in the blank.

Unlike the calm waters of lakes, ocean water keeps moving \_\_\_\_\_.

- Ans
- 1. continue
  - 2. continuously

3. continuing

4. continuous

Question ID : 9895809884

Chosen Option : --

Q.2  
0 Select the meaning of the given idiom.

Under the gun

Ans  1. To be brave

2. To be cruel

3. To be killed

4. To be under pressure

Question ID : 9895809897

Chosen Option : --

Q.2  
1 Select the most appropriate option to substitute the underlined segment in the given sentence. If there is no need to substitute it, select No substitution required.

In vigorous exercise, the demand for bodily energy is very high.

Ans  1. In vigorously exercise

2. No substitution required

3. While vigorous exercise

4. During vigorous exercise

Question ID : 9895809883

Chosen Option : --

Q.2  
2 Select the most appropriate option to substitute the underlined segment in the given sentence. If there is no need to substitute it, select No substitution required.

Yesterday, Maria was eagerly waited to meet her grandparents.

Ans  1. eagerly wait

2. was eagerly waited

3. was eagerly waiting

4. No substitution required

Question ID : 9895809881

Chosen Option : --

Q.2  
3 Select the word which means the same as the group of words given.

A person employed to drive a private or hired car

Ans  1. Astronaut

2. Sailor

3. Chauffeur

✓ 4. Pilot

Question ID : 9895809899  
Chosen Option : --

Q.2  
4 Select the wrongly spelt word.

- Ans
- ✗ 1. Judgment
  - ✗ 2. license
  - ✓ 3. Independant
  - ✗ 4. leisure

Question ID : 9895809900  
Chosen Option : --

Q.2  
5 Select the most appropriate word to fill in the blank.

India gets a large number of medical tourists and visitors \_\_\_\_\_ many countries.

- Ans
- ✗ 1. through
  - ✗ 2. from
  - ✗ 3. by
  - ✓ 4. across

Question ID : 9895809885  
Chosen Option : --

Section : Hindi Language

Q.1 दिए गए वाक्य में रेखांकित खंड को प्रतिस्थापित करने के लिए उपयुक्त विकल्प का चयन करें।

जीवन में प्रफुल्लित रहना सीखो।

- Ans
- ✓ 1. हर्षित
  - ✗ 2. प्रतिबन्धित
  - ✗ 3. उत्तेजित
  - ✗ 4. परिमित

Question ID : 98958010012  
Chosen Option : 3

Q.2 दिए गए वाक्य का वह भाग ज्ञात करें जिसमें कोई त्रुटि है।

सुदर्शन को ज्यामिति का विषय में अनुत्तीर्ण घोषित किया गया।

- Ans
- ✗ 1. अनुत्तीर्ण

- 2. सुदर्शन को
- 3. घोषित किया गया।
- 4. ज्यामिति का विषय में

Question ID : 98958010010  
Chosen Option : 1

Q.3 दिए गए वाक्य में रेखांकित खंड को प्रतिस्थापित करने के लिए उपयुक्त विकल्प का चयन करें।

वेदान्ती लोग जगत को मिथ्या समझते हैं।

Ans

- 1. भंगुर
- 2. असत्य
- 3. सत्य
- 4. अस्थिर

Question ID : 98958010011  
Chosen Option : 4

Comprehension:

निम्नलिखित गद्यांश के रिक्त स्थानों की पूर्ति गद्यांश के नीचे दिए गए प्रश्नों के अनुसार कीजिए-

आप लोगों ने कभी शुद्ध हृदय से इस पर विचार किया है कि माता, मातृभूमि और \_\_\_\_\_ (1) का आप पर कुछ ऋण भी है या नहीं? एक जननी आपको जन्म देती है, एक की गोद में खेल-कूदकर और खा-पीकर आप पुष्ट होते हैं और एक आपको अपने भावों को प्रकट करने की \_\_\_\_\_ (2) दे, आपके सांसारिक जीवन को सुखमय बनाती है। जिसका आप पर इतना उपकार है, उसके लिए कुछ करना क्या आपका परम कर्तव्य नहीं है? प्यारे भाइयो! उठो आलस्य छोड़ो, कमर कसो और अपनी मातृभाषा की सेवा में तत्पर हो जाओ, अपने को \_\_\_\_\_ (3) से मुक्त करो। संसार में \_\_\_\_\_ (4) कहलाओ और मातृसेवकों में अपनी कीर्ति छोड़ जाओ। परंतु ध्यान रहे, यह व्रत साधारण नहीं है। इस व्रत का पालन करना \_\_\_\_\_ (5) की धार पर चलने के समान है।

SubQuestion No : 4

Q.4 गद्यांश में संकेतित रिक्त स्थान (1) के लिए उपयुक्त शब्द होगा।

Ans

- 1. मातृभाषा
- 2. राष्ट्रभाषा

✗ 3. संचार भाषा

✗ 4. राजभाषा

Question ID : 98958010019  
Chosen Option : 1

Comprehension:

निम्नलिखित गद्यांश के रिक्त स्थानों की पूर्ति गद्यांश के नीचे दिए गए प्रश्नों के अनुसार कीजिए-

आप लोगों ने कभी शुद्ध हृदय से इस पर विचार किया है कि माता, मातृभूमि और \_\_\_\_\_ (1) का आप पर कुछ ऋण भी है या नहीं? एक जननी आपको जन्म देती है, एक की गोद में खेल-कूदकर और खा-पीकर आप पुष्ट होते हैं और एक आपको अपने भावों को प्रकट करने की \_\_\_\_\_ (2) दे, आपके सांसारिक जीवन को सुखमय बनाती है। जिसका आप पर इतना उपकार है, उसके लिए कुछ करना क्या आपका परम कर्तव्य नहीं है? प्यारे भाइयो! उठो आलस्य छोड़ो, कमर कसो और अपनी मातृभाषा की सेवा में तत्पर हो जाओ, अपने को \_\_\_\_\_ (3) से मुक्त करो। संसार में \_\_\_\_\_ (4) कहलाओ और मातृसेवकों में अपनी कीर्ति छोड़ जाओ। परंतु ध्यान रहे, यह व्रत साधारण नहीं है। इस व्रत का पालन करना \_\_\_\_\_ (5) की धार पर चलने के समान है।

SubQuestion No : 5

Q.5 गद्यांश में संकेतित रिक्त स्थान (2) के लिए उपयुक्त शब्द होगा।

- Ans
- ✗ 1. मुक्ति
  - ✗ 2. भक्ति
  - ✓ 3. शक्ति
  - ✗ 4. रोक के

Question ID : 98958010020  
Chosen Option : 2

Comprehension:

निम्नलिखित गद्यांश के रिक्त स्थानों की पूर्ति गद्यांश के नीचे दिए गए प्रश्नों के अनुसार कीजिए-

आप लोगों ने कभी शुद्ध हृदय से इस पर विचार किया है कि माता, मातृभूमि और \_\_\_\_\_ (1) का आप पर कुछ ऋण भी है या नहीं? एक जननी आपको जन्म देती है, एक की गोद में खेल-कूदकर और खा-पीकर आप पुष्ट होते हैं और एक आपको अपने भावों को प्रकट करने की \_\_\_\_\_ (2) दे, आपके सांसारिक जीवन को सुखमय बनाती है। जिसका आप पर इतना उपकार है, उसके लिए कुछ करना क्या आपका परम कर्तव्य नहीं है? प्यारे भाइयो! उठो आलस्य छोड़ो, कमर कसो और अपनी मातृभाषा की सेवा में तत्पर हो जाओ, अपने को \_\_\_\_\_ (3) से मुक्त करो। संसार में \_\_\_\_\_ (4) कहलाओ और मातृसेवकों में अपनी कीर्ति छोड़ जाओ। परंतु ध्यान रहे, यह व्रत साधारण नहीं है। इस व्रत का पालन करना \_\_\_\_\_ (5) की धार पर चलने के समान है।

SubQuestion No : 6

Q.6 गद्यांश में संकेतित रिक्त स्थान (3) के लिए उपयुक्त शब्द होगा।

- Ans
- 1. पितृऋण
  - 2. मातृऋण
  - 3. ईश्वरऋण
  - 4. गुरुऋण

Question ID : 98958010021  
Chosen Option : 1

Comprehension:

निम्नलिखित गद्यांश के रिक्त स्थानों की पूर्ति गद्यांश के नीचे दिए गए प्रश्नों के अनुसार कीजिए-

आप लोगों ने कभी शुद्ध हृदय से इस पर विचार किया है कि माता, मातृभूमि और \_\_\_\_\_ (1) का आप पर कुछ ऋण भी है या नहीं? एक जननी आपको जन्म देती है, एक की गोद में खेल-कूदकर और खा-पीकर आप पुष्ट होते हैं और एक आपको अपने भावों को प्रकट करने की \_\_\_\_\_ (2) दे, आपके सांसारिक जीवन को सुखमय बनाती है। जिसका आप पर इतना उपकार है, उसके लिए कुछ करना क्या आपका परम कर्तव्य नहीं है? प्यारे भाइयो! उठो आलस्य छोड़ो, कमर कसो और अपनी मातृभाषा की सेवा में तत्पर हो जाओ, अपने को \_\_\_\_\_ (3) से मुक्त करो। संसार में \_\_\_\_\_ (4) कहलाओ और मातृसेवकों में अपनी कीर्ति छोड़ जाओ। परंतु ध्यान रहे, यह व्रत साधारण नहीं है। इस व्रत का पालन करना \_\_\_\_\_ (5) की धार पर चलने के समान है।

SubQuestion No : 7

Q.7 गद्यांश में संकेतित रिक्त स्थान (4) के लिए उपयुक्त शब्द होगा।

- Ans
- 1. शूरवीर
  - 2. कपूर
  - 3. कपूत
  - 4. सपूत

Question ID : 98958010022

Chosen Option : 4

Comprehension:



निम्नलिखित गद्यांश के रिक्त स्थानों की पूर्ति गद्यांश के नीचे दिए गए प्रश्नों के अनुसार कीजिए-

आप लोगों ने कभी शुद्ध हृदय से इस पर विचार किया है कि माता, मातृभूमि और \_\_\_\_\_ (1) का आप पर कुछ ऋण भी है या नहीं? एक जननी आपको जन्म देती है, एक की गोद में खेल-कूदकर और खा-पीकर आप पुष्ट होते हैं और एक आपको अपने भावों को प्रकट करने की \_\_\_\_\_ (2) दे, आपके सांसारिक जीवन को सुखमय बनाती है। जिसका आप पर इतना उपकार है, उसके लिए कुछ करना क्या आपका परम कर्तव्य नहीं है? प्यारे भाइयो! उठो आलस्य छोड़ो, कमर कसो और अपनी मातृभाषा की सेवा में तत्पर हो जाओ, अपने को \_\_\_\_\_ (3) से मुक्त करो। संसार में \_\_\_\_\_ (4) कहलाओ और मातृसेवकों में अपनी कीर्ति छोड़ जाओ। परंतु ध्यान रहे, यह व्रत साधारण नहीं है। इस व्रत का पालन करना \_\_\_\_\_ (5) की धार पर चलने के समान है।

SubQuestion No : 8

Q.8 गद्यांश में संकेतित रिक्त स्थान (5) के लिए उपयुक्त शब्द होगा।

- Ans
- 1. चाकू
  - 2. हसियाँ
  - 3. तलवार
  - 4. पानी

Question ID : 98958010023  
Chosen Option : 3

Q.9 रिक्त स्थान को भरने के लिए उपयुक्त शब्द का चयन करें।

न मैं किसी की उपेक्षा करता हूँ, न किसी प्रकार की \_\_\_\_\_।

- Ans
- 1. आशंका
  - 2. अपेक्षा
  - 3. इच्छा
  - 4. लालसा

Question ID : 98958010016  
Chosen Option : 2

Q.1 'जो अभी तक न आया हो' के लिए एक शब्द प्रयुक्त होता है-

Ans

- 1. अनुजा
- 2. अजन्मा
- 3. अकिंचन
- 4. अनागत

Question ID : 98958010031  
Chosen Option : 4

Q.1  
1 'जहर का घूट पीना' मुहावरे का सही अर्थ है -

- Ans
- 1. खतरा उठाना
  - 2. गुस्सा मन में दबा लेना
  - 3. जोखिम में डाल देना
  - 4. शर्मिंदा होना

Question ID : 98958010028  
Chosen Option : 2

Q.1  
2 सही वर्तनी वाले शब्द का चयन करें।

- Ans
- 1. शब्दांस
  - 2. शब्दांश
  - 3. सब्दांश
  - 4. सबदांश

Question ID : 98958010032  
Chosen Option : 1

Q.1  
3 'प्रत्यक्ष' का विलोम शब्द है -

- Ans
- 1. निहित
  - 2. अभाव
  - 3. परोक्ष
  - 4. विहित

Question ID : 98958010025  
Chosen Option : 3

Q.1  
4 रिक्त स्थान को भरने के लिए उपयुक्त शब्द का चयन करें।

संक्षेपण में शब्दों के प्रयोग में \_\_\_\_\_ से काम लेना चाहिए।

- Ans
- 1. अविवेक

- 2. क्रोध
- 3. तीव्रता
- 4. संयम

Question ID : 98958010015  
Chosen Option : 2

Q.1  
5 रिक्त स्थान को भरने के लिए उपयुक्त शब्द का चयन करें।

युवकों को \_\_\_\_\_ बनाना शिक्षा का मुख्य उद्देश्य है।

- Ans
- 1. स्वावलम्बी
  - 2. भ्रान्त
  - 3. मतावलम्बी
  - 4. परावलम्बी

Question ID : 98958010017  
Chosen Option : 1

Q.1  
6 दिए गए वाक्य का वह भाग ज्ञात करें जिसमें कोई त्रुटि है।

जिस नगर में एक सेठ रहता था, उसी नगर में अनेकों गरीब किसान भी रहते थे।

- Ans
- 1. अनेकों गरीब किसान भी रहते थे।
  - 2. जिस नगर में
  - 3. उसी नगर में
  - 4. एक सेठ रहता था,

Question ID : 98958010008  
Chosen Option : 3

Q.1  
7 'अनुवाद' का पर्यायवाची शब्द है -

- Ans
- 1. प्रतिलिपि
  - 2. भाषान्तर
  - 3. अनुकृति
  - 4. विवाद

Question ID : 98958010027  
Chosen Option : 4

Q.1  
8 'सरस्वती' का पर्यायवाची शब्द है।

- Ans
- 1. कामिनी

- 2. ललना
- 3. वागीश्वरी
- 4. रमणी

Question ID : 98958010026  
Chosen Option : 1

Q.1  
9 'अनुचित बात के लिए आग्रह' के लिए एक शब्द है-

- Ans
- 1. कठोर
  - 2. आग्रह
  - 3. दुराग्रह
  - 4. दुर्जन

Question ID : 98958010030  
Chosen Option : 3

Q.2  
0 रिक्त स्थान को भरने के लिए उपयुक्त शब्द का चयन करें।

तुम मेरा अपमान मत करो मुझे स्वयं अपने कर्मों पर \_\_\_\_\_ हो रहा है।

- Ans
- 1. प्रताप
  - 2. तुष्टि
  - 3. पश्चाताप
  - 4. संतोष

Question ID : 98958010014  
Chosen Option : 3

Q.2  
1 दिए गए वाक्य में रेखांकित खंड को प्रतिस्थापित करने के लिए उपयुक्त विकल्प का चयन करें।

कुछ लोग मुहूर्त देख कर घर में प्रवेश करते हैं ।

- Ans
- 1. गृहपति
  - 2. गृहागत
  - 3. गृहयज्ञ
  - 4. गृहप्रवेश

Question ID : 98958010013  
Chosen Option : 4

Q.2  
2 'बद्ध' शब्द का विलोम शब्द है-

- Ans
- 1. मुक्त

- 2. बंधन
- 3. प्रतिबंध
- 4. मोक्ष

Question ID : 98958010024  
Chosen Option : 2

Q.2  
3 दिए गए वाक्य का वह भाग ज्ञात करें जिसमें कोई त्रुटि है।

शब्दावली को अधिक उपयोगी बनाने के लिए हर संभव प्रयास किया गए हैं।

- Ans
- 1. शब्दावली को
  - 2. बनाने के लिए
  - 3. हर संभव प्रयास किया गए हैं।
  - 4. अधिक उपयोगी

Question ID : 98958010009  
Chosen Option : 1

Q.2  
4 'टका सा जवाब देना' मुहावरे का सही अर्थ है -

- Ans
- 1. संकट में पड़ना
  - 2. बुरा भला कहना
  - 3. अति क्रुद्ध होना
  - 4. साफ इनकार करना

Question ID : 98958010029  
Chosen Option : 2

Q.2  
5 सही वर्तनी वाले शब्द का चयन करें।

- Ans
- 1. अवसधी
  - 2. ओसधि
  - 3. ओशधि
  - 4. औषधि

Question ID : 98958010033  
Chosen Option : 4