

Constable (GD) in CAPFs, NIA, SSF and Rifleman (GD) in Assam Rifles Examination, 2018

| | |
|------------------|-----------------------------------|
| Roll No. : | GovtJobsAlert.In |
| Registration No. | GovtJobsAlert.In |
| Name : | GovtJobsAlert.In |
| Exam Venue : | iON Digital Zone iDZ 1 Patliputra |
| Exam Time : | 4:00 PM - 5:30 PM |
| Exam Date : | 11/03/2019 |

Section : General Section

Q.1 उस विकल्प आकृति का चयन करें, जिसमें प्रश्न आकृति छिपी हुई/ अंतर्निहित है।

प्रश्न आकृति:



Ans

- ✓ 1.
- ✗ 2.
- ✗ 3.
- ✗ 4.

Question ID : 9895809394
Chosen Option : 1

Q.2 उस विकल्प का चयन करें जो सही रूप में रिक्त स्थान की पूर्ति करते हुए श्रृंखला को पूरा करें।

-1, 2, 7, _____, 23, 34

Ans

- ✗ 1. 15
- ✗ 2. 19
- ✗ 3. 13
- ✓ 4. 14

Question ID : 9895809386
Chosen Option : 4

Q.3 चार विकल्प दिए गए हैं, जिनमें से तीन किसी तरह से समान हैं, जबकि एक अलग है। असंगत का चयन करें।

Ans ✗ 1. 97

- 2. 199
- 3. 167
- 4. 135

Question ID : 9895809389
Chosen Option : 4

Q.4 उस विकल्प का चयन करें जो दी गई आकृति श्रृंखला को पूरा करता है

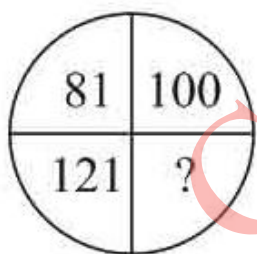


Ans

- 1.
- 2.
- 3.
- 4.

Question ID : 9895809392
Chosen Option : 3

Q.5 दिए गए विकल्पों में से लुप्त संख्या ज्ञात करें।



Ans

- 1. 256
- 2. 225
- 3. 144
- 4. 169

Question ID : 9895809390
Chosen Option : 3

Q.6 चार अक्षर समूह दिए गए हैं, जिनमें से तीन किसी तरह से समान हैं, जबकि एक अलग है। असंगत अक्षर समूह का चयन करें।

- Ans 1. CEG

2. YAC
 3. RSU
 4. LNP

Question ID : 9895809374
 Chosen Option : 3

Q.7 छः लड़के उत्तर की ओर मुँह किए हुए एक पंक्ति में बैठे हैं। गणेश, अक्षित के बाएँ 7वाँ है। विनय, जो पंक्ति के बाएँ छोर से 20वाँ है, अक्षित के दाएँ को 7वाँ है। यदि कमल जो गणेश के दाएँ को तीसरा है, पंक्ति के दाएँ छोर से 20वाँ है, तो पंक्ति में कुल कितने लड़के हैं ?

- Ans 1. 26
 2. 28
 3. 30
 4. 31

Question ID : 9895809383
 Chosen Option : 2

Q.8 नीचे दिए गए कथनों के बाद दो निष्कर्ष I और II दिए गए हैं। यह मानते हुए कि कथनों में दी गई जानकारी सत्य है, भले ही वह सर्वज्ञात तथ्यों से भिन्न प्रतीत होती हो और यह निर्णय करें कि कौन सा / से निष्कर्ष तार्किक और निश्चित रूप से कथन में दी गई जानकारी का अनुसरण करता है / करते हैं।

कथन 1: सभी शंख, खाल हैं।
 कथन 2: कोई खाल बिल्ली नहीं है।

निष्कर्ष I: कोई शंख बिल्ली नहीं है।
 निष्कर्ष II: कुछ खाल शंख हैं।

- Ans 1. केवल निष्कर्ष I अनुसरण करता है।
 2. न निष्कर्ष I न ही निष्कर्ष II अनुसरण करता है।
 3. निष्कर्ष दोनों कथन का अनुसरण करते हैं।
 4. केवल निष्कर्ष II अनुसरण करता है।

Question ID : 9895809384
 Chosen Option : 2

Q.9 * चिन्ह का स्थान लेने के लिए और समीकरण को संतुलित करने के लिये गनितिय चिन्हों के सही युग्म का चयन करें।

$$96 + 2 + 20 + 2 + 174$$

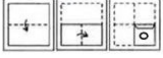
- Ans 1. $\times - + =$
 2. $\div \times + =$
 3. $+ + \div =$
 4. $- + \times =$

Question ID : 9895809391
 Chosen Option : 2

Q.1

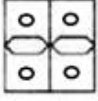
0 नीचे प्रश्न आकृति में दर्शाये गए तरीके से एक कागज को मोड़ा और काटा गया है। इस कागज को खोलने पर दी गयी उत्तर आकृतियों में से कौन सी आकृति दिखाई देगी?

प्रश्न आकृति:



Ans

✓ 1.



✗ 2.



✗ 3.



✗ 4.



Question ID : 9895809396
Chosen Option : 1

Q.1 उस विकल्प का चयन करें जो तीसरे पद से उसी तरह संबंधित है जिस प्रकार दूसरा पद पहले पद से संबंधित है।

1 टेलीफोन : संचार :: रेडियो : _____

Ans

✗ 1. कहानी

✗ 2. चरित्र

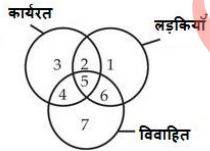
✗ 3. कला

✓ 4. प्रसारण

Question ID : 9895809377
Chosen Option : 4

Q.1 नीचे दी गई आकृति का अध्ययन करें और उस क्षेत्र की पहचान करें जो लड़कियाँ जो कि कार्यरत हैं लेकिन अविवाहित का प्रतिनिधित्व करता है।

2



Ans

✓ 1. 2

✗ 2. 4

✗ 3. 5

✗ 4. 1

Question ID : 9895809397
Chosen Option : 1

Q.1
3

उस विकल्प का चयन करें जो तीसरे पद से उसी तरह संबंधित है जिस प्रकार दूसरा पद पहले पद से संबंधित है।

TSQ : JHG :: LTM : ?

- Ans
- 1. ACD
 - 2. UVO
 - 3. FBC
 - 4. NGO

Question ID : 9895809378
Chosen Option : 4

Q.1 4 उस विकल्प का चयन करें जो दर्पण के दायीं ओर रखे जाने पर दि गई आकृति की दर्पण छवि से सर्वाधिक मेल खाता है।

प्रश्न आकृति:



- Ans
- 1.
 - 2.
 - 3.
 - 4.

Question ID : 9895809395
Chosen Option : 1

Q.1 5 निम्नलिखित में से कौन सी उत्तर आकृति दी गई आकृति को पूरा करेगी?

प्रश्न आकृति:



- Ans
- 1.
 - 2.
 - 3.
 - 4.

Question ID : 9895809393
Chosen Option : 3

Q.1 6 चार शब्द दिए गए हैं, जिनमें से तीन किसी तरह से समान हैं, जबकि एक अलग है। असंगत शब्द का चयन करें।

- Ans
- 1. धूपचश्मा
 - 2. स्कार्फ़
 - 3. स्वेटर
 - 4. दस्ताने

Question ID : 9895809375
Chosen Option : 1

Q.1 7 उस विकल्प का चयन करें जो तीसरे पद से उसी तरह संबंधित है जिस प्रकार दूसरा पद पहले पद से संबंधित है।

कलम : लिखना :: चाकू : _____

- Ans
- 1. गोली मारना
 - 2. सब्जी
 - 3. रक्त
 - 4. काटना

Question ID : 9895809376
Chosen Option : 4

Q.1 8 उस विकल्प का चयन करें जो सही रूप में रिक्त स्थान की पूर्ति करते हुए श्रृंखला को पूरा करें।

LM, QR, VW, _____

- Ans
- 1. AD
 - 2. AB
 - 3. SM
 - 4. UK

Question ID : 9895809373
Chosen Option : 2

Q.1 9 उस विकल्प का चयन करें जो तीसरे पद से उसी तरह संबंधित है जिस प्रकार दूसरा पद पहले पद से संबंधित है।

4896 : 3785 :: 7852 : ?

- Ans
- 1. 3438
 - 2. 6741
 - 3. 4519
 - 4. 5630

Question ID : 9895809388
Chosen Option : 2

Q.2
0

निचे दिए गए दो कथनों के बाद I, II और III तीन निष्कर्ष दिए गए हैं। यह मानते हुए कि कथनों में दी गई जानकारी सत्य है, भले ही वह सर्वज्ञात तथ्यों से भिन्न प्रतीत होती हो और यह निर्णय करें कि कौन सा / से निष्कर्ष तार्किक और निश्चित रूप से कथन में दी गई जानकारी का अनुसरण करता है / करते हैं।

कथन 1: सभी बाघ बिल्लियाँ हैं।

कथन 2: सभी बिल्लियाँ: मार्जारीय हैं।

निष्कर्ष I: कुछ मार्जारीय बाघ हैं।

निष्कर्ष II: सभी बाघ मार्जारीय हैं।

निष्कर्ष III: कुछ मार्जारीय बिल्लियाँ हैं।

Ans

1. केवल निष्कर्ष III अनुसरण करता है।
2. केवल निष्कर्ष I अनुसरण करता है।
3. केवल निष्कर्ष I और III अनुसरण करते हैं।
4. सभी निष्कर्ष I, II और III कथन का अनुसरण करते हैं।

Question ID : 9895809385
Chosen Option : 2

Q.2 यदि MUNREB को 628146 और IESRES को 345145 के रूप में लिखते हैं, तो SERBER को कैसे लिखा जाएगा?

Ans

1. 541146
2. 451146
3. 541164
4. 541641

Question ID : 9895809380
Chosen Option : 4

Q.2 उस विकल्प का चयन करें जो सही रूप में रिक्त स्थान की पूर्ति करते हुए श्रृंखला को पूरा करें।

1024, _____, 1600, 2000, 2500, 3125

Ans

1. 1125
2. 1440
3. 1350
4. 1280

Question ID : 9895809387
Chosen Option : 2

Q.2 एक निश्चित कूट भाषा में, COLD को GSPH के रूप में कूटबद्ध किया जाता है। उस कूट भाषा में NOT कैसे कूटबद्ध किया जाता है?

Ans

1. XSR
2. XRS
3. RSY

✓ 4. RSX

Question ID : 9895809379
Chosen Option : 4

Q.2 A, B, C, D और E एक पंक्ति में बैठे हैं। C, D और A के बीच में है, E न तो अंत में है, न ही D के बगल में है
4 और B के बायीं ओर है जो अंतिम है। D के दायें में कौन है?

- Ans
- ✓ 1. C
 - ✗ 2. E
 - ✗ 3. B
 - ✗ 4. A

Question ID : 9895809381
Chosen Option : 4

Q.2 A, O, M, H, K और U केंद्र के सामने मुँह किए एक सर्कल में बैठे हैं। A, M या U के बगल में नहीं बैठा है, U, H
5 के दाईं ओर है, K, M के बाईं ओर है, जो O के विपरीत है। O के दाईं ओर कौन है?

- Ans
- ✓ 1. A
 - ✗ 2. K
 - ✗ 3. U
 - ✗ 4. H

Question ID : 9895809382
Chosen Option : 3

Q.2 रेल बजट _____
6

- Ans
- ✗ 1. केंद्र और राज्य के बजट से अलग होता है।
 - ✗ 2. राज्य के बजट का हिस्सा होता है।
 - ✓ 3. केन्द्रीय बजट का भाग होता है।
 - ✗ 4. केन्द्रीय बजट से अलग होता है।

Question ID : 9895809558
Chosen Option : 3

Q.2 रोग पैदा करने वाले सूक्ष्मजीवों को नष्ट करने और दूध की वैद्यता को बढ़ाने के लिए किस प्रक्रिया का उपयोग किया
7 जाता है?

- Ans
- ✗ 1. वाष्पीकरण
 - ✓ 2. पास्तुरीकरण
 - ✗ 3. हाइड्रोजनीकरण
 - ✗ 4. संक्षेपन

Question ID : 9895809562
Chosen Option : 2

Q.2
8 2018 में ऑस्ट्रेलियाई ओपन टेनिस चैम्पियनशिप में पुरुष वर्ग का खिताब किसने जीता?

- Ans
- 1. एंडी मरे
 - 2. स्टेन वारविंका
 - 3. राफेल नडाल
 - 4. रोजर फेडरर

Question ID : 9895809552
Chosen Option : 3

Q.2
9 निम्नलिखित में से कौन स्वतंत्र भारत के पहले कानून मंत्री थे?

- Ans
- 1. जवाहरलाल नेहरू
 - 2. आसफ अली
 - 3. भीमराव रामजी अंबेडकर
 - 4. अबुल कलाम आज़ाद

Question ID : 9895809561
Chosen Option : 3

Q.3
0 चिपको आंदोलन भारत में सबसे पहले कहाँ शुरू हुआ था?

- Ans
- 1. तमिलनाडु
 - 2. कर्नाटक
 - 3. महाराष्ट्र
 - 4. उत्तर प्रदेश

Question ID : 9895809572
Chosen Option : 2

Q.3
1 किसी सफेद कपड़े में लगा करी का दाग साबुन लगाने पर लाल भूरे रंग में बदल जाता है, क्योंकि साबुन की प्रकृति होती है:

- Ans
- 1. क्षारीय
 - 2. अम्लीय
 - 3. उदासीन
 - 4. क्षारकीय

Question ID : 9895809564
Chosen Option : 4

Q.3
2 वस्तु एवं सेवा कर लागू करने पर भारत _____ बन गया है।

- Ans
- 1. एक दक्षिण एवं उत्तरी बाज़ार

- 2. एक पूर्वी एवं पश्चिमी बाज़ार
- 3. भिन्न बाज़ारों का एक समूह
- 4. एक सामान्य बाज़ार

Question ID : 9895809559
Chosen Option : 4

Q.3
3 दक्षिण के चोल शासकों के प्रभाव का काल था:

- Ans
- 1. 9वीं शताब्दी ईसा पूर्व
 - 2. 19वीं शताब्दी ईसवी सन्
 - 3. 17वीं शताब्दी ईसवी सन्
 - 4. 9वीं शताब्दी ईसवी सन्

Question ID : 9895809570
Chosen Option : 4

Q.3
4 छिमीदार / फलीदार पौधे _____ की उपस्थिति से मिट्टी की पूर्ति करते हैं।

- Ans
- 1. एक्वीफिसी
 - 2. राइजोबियम
 - 3. स्पिरोकेत
 - 4. फर्मीक्यूट

Question ID : 9895809566
Chosen Option : 1

Q.3
5 बंगाली के लिए साहित्य अकादमी पुरस्कार 2017 के विजेता हैं:

- Ans
- 1. अफसर अहमद
 - 2. रमेश मेघ
 - 3. हिमांशु बोस
 - 4. डेविड भट्टाचार्य

Question ID : 9895809553
Chosen Option : 4

Q.3
6 ब्रिटिश शासकों ने भारत पर लगभग कितने वर्षों तक शासन किया?

- Ans
- 1. 200 वर्ष
 - 2. 100 वर्ष

3. 50 वर्ष

4. 500 वर्ष

Question ID : 9895809571
Chosen Option : 2

Q.3
7 _____ साम्राज्य के शासनकाल को भारतीय सभ्यता का स्वर्ण युग कहा जाता है।

Ans 1. गुप्त

2. हर्ष

3. बुद्ध

4. पोरस

Question ID : 9895809554
Chosen Option : 1

Q.3
8 भारत में गरीबी रेखा को मापने के लिए उपयोग किए जाने वाला एक निर्वाह कारक कौन सा है?

Ans 1. इंटरनेट

2. परिवहन

3. शिक्षा

4. समानता

Question ID : 9895809557
Chosen Option : 3

Q.3
9 विश्व की सबसे गहरी झील कौन सी है?

Ans 1. सुपीरियर झील

2. तंजानिका झील

3. बैकल झील

4. वोस्तोक झील

Question ID : 9895809567
Chosen Option : 3

Q.4
0 'घुमुरा' लोकनृत्य का संबंध किस राज्य से है?

Ans 1. तमिलनाडु

2. पंजाब

3. केरल

4. ओडिशा

Question ID : 9895809548

Chosen Option : 2

Q.4 एक व्यक्ति जो धार्मिक संस्थानों से राज्य को अलग करने की वकालत करता है, उसे _____ कहा जाता है।

Ans

- 1. धर्म निरपेक्षवादी
- 2. समाजवादी
- 3. नारीवादी
- 4. साम्प्रदायिक

Question ID : 9895809560

Chosen Option : 1

Q.4 'मटकी' किस राज्य की नृत्य शैली है?

Ans

- 1. पश्चिम बंगाल
- 2. मध्य प्रदेश
- 3. केरल
- 4. गुजरात

Question ID : 9895809549

Chosen Option : 3

Q.3 आगा खान महल किस राज्य में स्थित है?

Ans

- 1. केरल
- 2. महाराष्ट्र
- 3. मध्य प्रदेश
- 4. उत्तर प्रदेश

Question ID : 9895809550

Chosen Option : 4

Q.4 भारतीय रिज़र्व बैंक की स्थापना किस वर्ष हुई थी?

Ans

- 1. 1950
- 2. 1947
- 3. 1952
- 4. 1926

Question ID : 9895809556

Chosen Option : 3

Q.4 1965 के भारत-पाक युद्ध के दौरान भारत का नेतृत्व करने वाले प्रधानमंत्री कौन थे?

Ans

- 1. लाल बहादुर शास्त्री
- 2. इंदिरा गांधी
- 3. मोरारजी देसाई
- 4. जवाहरलाल नेहरू

Question ID : 9895809555
Chosen Option : 2

Q.4
6 किसी पारिस्थितिकी के निर्माण में शामिल होते हैं:

Ans

- 1. रासायनिक और भौतिक घटक
- 2. जैविक और प्रतिजैविक घटक
- 3. भौतिक और सामाजिक घटक
- 4. जैविक और अजैविक घटक

Question ID : 9895809568
Chosen Option : 1

Q.4
7 पौधों में प्रकाश संश्लेषण, प्रकाश ऊर्जा को _____ ऊर्जा में परिवर्तित करता है।

Ans

- 1. भौतिक
- 2. गतिज
- 3. रासायनिक
- 4. थर्मल

Question ID : 9895809565
Chosen Option : 3

Q.4
8 ओलम्पिक 2016 में पुरुष एकल बैडमिन्टन प्रतिस्पर्धा किसने जीती थी?

Ans

- 1. किदांबी श्रीकांत
- 2. ली चोंग वी
- 3. लिन डैन
- 4. चेन लॉन्ग

Question ID : 9895809551
Chosen Option : 1

Q.4
9 निम्नलिखित में से कौन एक कायान्तरित चट्टान नहीं है?

Ans

- 1. चूना पत्थर
- 2. पट्टिताश्म / नाइस

3. स्लेट

4. संगमरमर

Question ID : 9895809563
Chosen Option : 1

Q.5
0 पश्चिमी घाटों का प्रमुख अंतराल _____ में स्थित है।

Ans 1. मैंगलोर

2. पालघाट

3. मदुरै

4. मणिपाल

Question ID : 9895809569
Chosen Option : 2

Q.5
1 31, 25, 17, 23, 45 और 59 का माध्यक है:

Ans 1. 31

2. 28

3. 25

4. 23

Question ID : 9895809729
Chosen Option : 1

Q.5
2 वह न्यूनतम संख्या जिसे 2,397 में जोड़ने पर योग 3, 4, 5 और 6 से यथार्थतः विभाज्य हो, निम्न में से कौन सी है?

Ans 1. 5

2. 3

3. 6

4. 4

Question ID : 9895809730
Chosen Option : 2

Q.5
3 चावल के मूल्य में 20% की छूट मिलने से X ₹100 में 5 किलोग्राम चावल और खरीद सकता है। चावल का प्रति किलो घटा हुआ मूल्य क्या है?

Ans 1. ₹4

2. ₹2

3. ₹3

4. ₹1

Question ID : 9895809728
Chosen Option : --

Q.5
4 $24 \div 4 \times (3 + 3) \div 2$ का मान है:

- Ans
- 1. 22
 - 2. 20
 - 3. 24
 - 4. 18

Question ID : 9895809725
Chosen Option : 4

Q.5
5 $64 \div 2 \times (9 \div 3) \times 3 \div 9 - 32$ का मान है:

- Ans
- 1. 1
 - 2. 2
 - 3. 0
 - 4. - 1

Question ID : 9895809726
Chosen Option : 3

Q.5
6 A और B मिलकर एक कार्य को 40 दिनों में पूरा कर सकते हैं। उन्होंने 30 दिनों तक एक साथ मिलकर काम किया और फिर B ने काम छोड़ दिया। शेष काम A ने अगले 22 दिन में पूरा किया। A अकेला कितने दिनों में उस कार्य को पूरा कर सकता है?

- Ans
- 1. 88 दिन
 - 2. 30 दिन
 - 3. 48 दिन
 - 4. 40 दिन

Question ID : 9895809742
Chosen Option : --

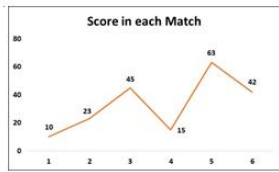
Q.5
7 एक वस्तु को ₹4,000 में बेचा गया था। अगर 10% की छूट दी गयी होती, तो लाभ 20% होता। वस्तु का लागत मूल्य था:

- Ans
- 1. ₹3,600
 - 2. ₹3,000
 - 3. ₹3,200
 - 4. ₹3,310

Question ID : 9895809732
Chosen Option : --

Q.5
8

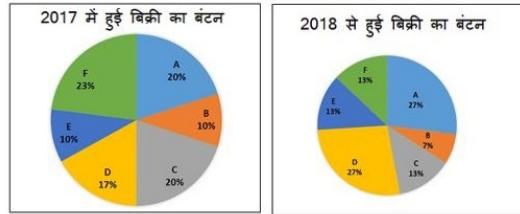
लाइन ग्राफ लगातार 6 मैचों में एक बल्लेबाज के स्कोर को दर्शाता है। उसके अंकों का विस्तार (रेंज) क्या है?



- Ans
- 1. 41
 - 2. 53
 - 3. 51
 - 4. 43

Question ID : 9895809745
Chosen Option : 4

Q.5 पाई चार्ट 2017 और 2018 में चावल बाजार में कंपनियों की बाजार हिस्सेदारी दिखाते हैं। 2017 में कंपनी A की बिक्री का मूल्य ₹40 लाख था। यदि 2018 में इसकी बिक्री में 25% की वृद्धि हुई, तो 2018 में कंपनी B की बिक्री का लगभग मूल्य क्या था?



- Ans
- 1. ₹13.56 लाख
 - 2. ₹12.56 लाख
 - 3. ₹12.96 लाख
 - 4. ₹13.96 लाख

Question ID : 9895809747
Chosen Option : --

Q.6 एक कॉलेज में लड़कों और लड़कियों की संख्या का अनुपात 6 : 7 है। यदि लड़कों और लड़कियों की संख्या में प्रतिशत वृद्धि क्रमशः 20% और 10% है, तो नया अनुपात क्या होगा?

- Ans
- 1. 77 : 72
 - 2. 35 : 36
 - 3. 36 : 35
 - 4. 72 : 77

Question ID : 9895809735
Chosen Option : 4

Q.6 बिना किसी स्टॉप पर रुके एक बस की चाल 70 kmph है और जब यह स्टॉपों पर रुकती है तब इसकी चाल 56 kmph है। प्रति घंटे बस कितने मिनट के लिए रुकती है?

- Ans
- 1. 8 मिनट
 - 2. 12 मिनट
 - 3. 10 मिनट

✘ 4. 15 मिनट

Question ID : 9895809744

Chosen Option : 2

Q.6 एक खोखले तांबे का पाइप 22 cm लंबा है और इसका बाहरी व्यास 28 cm है। यदि पाइप की मोटाई 3 cm है और लोहे का वजन 8.5 g/cm^3 है, तो पाइप का भार निम्न के निकटतम है:

- Ans
- ✘ 1. 24 kg
 - ✘ 2. 14 kg
 - ✘ 3. 34 kg
 - ✔ 4. 44 kg

Question ID : 9895809738

Chosen Option : --

Q.6 8 व्यक्तियों का औसत भार 2.5 kg बढ़ जाता है जब उनमें से 75 kg भार वाले एक व्यक्ति के स्थान पर एक नया व्यक्ति आता है। नए व्यक्ति का भार क्या है?

- Ans
- ✘ 1. 75 kg
 - ✘ 2. 85 kg
 - ✘ 3. 65 kg
 - ✔ 4. 95 kg

Question ID : 9895809723

Chosen Option : 2

Q.6 दो छात्र एक परीक्षा में बैठे। एक छात्र जिसने दूसरे से 20 अंक अधिक प्राप्त किए, उसके अंक दोनों अंकों के योग के 60% के बराबर थे। उसका स्कोर क्या था?

- Ans
- ✘ 1. 40
 - ✔ 2. 60
 - ✘ 3. 20
 - ✘ 4. 80

Question ID : 9895809731

Chosen Option : --

Q.6 5% प्रति वर्ष की दर से ₹360 का साधारण ब्याज ₹72 होने में कितना समय लगेगा?

- Ans
- ✘ 1. 3 वर्ष
 - ✘ 2. 2.5 वर्ष
 - ✘ 3. 3.5 वर्ष
 - ✔ 4. 4 वर्ष

Question ID : 9895809737

Chosen Option : --

Q.6 400 m लंबी एक ट्रेन 20 सेकंड में एक पोल से गुजरती है। ट्रेन की गति क्या है?

- Ans
- 1. 72 km/hr
 - 2. 64 km/hr
 - 3. 70 km/hr
 - 4. 68 km/hr

Question ID : 9895809743
Chosen Option : 1

Q.6 27 वस्तुओं की लागत मूल्य 18 वस्तुओं के विक्रय मूल्य के समान है। लाभ प्रतिशत क्या है?

- Ans
- 1. 50%
 - 2. 25%
 - 3. 40%
 - 4. 30%

Question ID : 9895809733
Chosen Option : --

Q.6 एक लंब वृत्तीय शंकु की तिरछी ऊँचाई 15 m है और इसकी ऊँचाई 9 m है। इसका वक्र पृष्ठीय क्षेत्रफल है:

- Ans
- 1. $180 \pi \text{ m}^2$
 - 2. $165 \pi \text{ m}^2$
 - 3. $172 \pi \text{ m}^2$
 - 4. $169 \pi \text{ m}^2$

Question ID : 9895809739
Chosen Option : 1

Q.6 A और B क्रमशः 40 दिनों और 16 दिनों में एक कार्य को पूरा कर सकते हैं। A ने अकेले कार्य शुरू किया और फिर 12 दिनों के बाद B ने कार्य पूरा होने तक A के साथ काम किया। B के कार्य में शामिल होने के बाद कार्य कितने समय तक चला?

- Ans
- 1. 14 दिन
 - 2. 6 दिन
 - 3. 12 दिन
 - 4. 8 दिन

Question ID : 9895809741
Chosen Option : --

Q.7 X की राय में, उसका भार 60 kg से अधिक है, लेकिन 68 kg से कम है, Y उससे सहमत नहीं है और कहता है कि X का भार 62 kg से अधिक है, लेकिन 70 kg से कम है। X की मां का मानना है कि X का भार 64 किलो से अधिक है। यदि वे सभी अपने अनुमान में सही हैं, तो X के विभिन्न संभावित भार का औसत क्या है, यदि भार एक पूर्णांक में हैं?

- Ans
- 1. 65 kg

2. 68 kg

3. 66 kg

4. 67 kg

Question ID : 9895809724
Chosen Option : 3

Q.7 एक बैग में 3 : 4 : 5 के अनुपात में 25 पैसे, 50 पैसे और 1 रुपये के सिक्के हैं। यदि सभी का कुल मूल्य ₹31 में हैं, तो बैग में 1 रुपये के कितने सिक्के हैं?

Ans 1. 24

2. 16

3. 12

4. 20

Question ID : 9895809736
Chosen Option : --

Q.7 एक राशि 2 वर्ष में ₹720 और 3 वर्ष में ₹792 हो जाती है, जब ब्याज वार्षिक संयोजित होता है। ब्याज की वार्षिक दर प्रतिशत है:

Ans 1. 10%

2. 7%

3. 7.50%

4. 5%

Question ID : 9895809727
Chosen Option : --

Q.7 120 पुरुष 30 दिनों में 720 kg चावल की खपत करते हैं। 90 पुरुष कितने दिनों में 270 kg की खपत कर सकते हैं?

Ans 1. 15

2. 9

3. 18

4. 12

Question ID : 9895809734
Chosen Option : 1

Q.7 एक शंकु बनाने के लिए भुजाओं 5 cm, 12 cm और 13 cm वाले एक समकोण त्रिभुज को भुजा 12 cm के परित घुमाया जाता है। इस तरह बने शंकु का आयतन है:

Ans 1. $110 \pi \text{ cm}^3$

2. $100 \pi \text{ cm}^3$

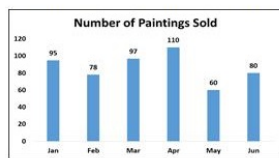
3. $91 \pi \text{ cm}^3$

4. $81 \pi \text{ cm}^3$

Question ID : 9895809740

Q.7 बार ग्राफ जनवरी से जून तक प्रत्येक माह में एक आर्ट गैलरी द्वारा बेचे जाने वाले पेंटिंग्स की संख्या को दर्शाता है।

5 7 महीने में 90 के औसत के लिए जुलाई में कितने पेंटिंग्स को बेचने की आवश्यकता है?



Ans 1. 110

2. 115

3. 85

4. 90

Question ID : 9895809746

Chosen Option : 1

Section : English Language

Q.1 Identify the segment in the sentence which contains the grammatical error from the given options.

Most of the freshwater lake in India are in the Himalayan region.

Ans 1. Most of the

2. freshwater lake

3. in India

4. are in

Question ID : 9895809904

Chosen Option : --

Q.2 Select the most appropriate option to substitute the underlined segment in the given sentence. If there is no need to substitute it, select No substitution required.

The greed of human beings leads to over utilization of natural resources.

Ans 1. leads for

2. No substitution required

3. lead to

4. leading to

Question ID : 9895809909

Chosen Option : --

Q.3 Identify the segment in the sentence which contains the grammatical error from the given options.

Concern above rising pollution led to the launch of various action plans.

Ans 1. launch of

2. Concern above

- 3. led to
- 4. action plans

Question ID : 9895809906
Chosen Option : --

Q.4 Select the antonym of the given word.

ABUNDANT

- Ans
- 1. Scarce
 - 2. Copious
 - 3. Ample
 - 4. Plentiful

Question ID : 9895809920
Chosen Option : --

Q.5 Select the word which means the same as the group of words given.

Violation of something holy or sacred

- Ans
- 1. Ceremony
 - 2. Sacrilege
 - 3. Pious
 - 4. Ritual

Question ID : 9895809925
Chosen Option : --

Q.6 Select the antonym of the given word.

ILLICIT

- Ans
- 1. Illegal
 - 2. Lawful
 - 3. Illegitimate
 - 4. Unlawful

Question ID : 9895809921
Chosen Option : --

Q.7 Select the most appropriate word to fill in the blank.

Dense mangroves are common varieties with roots submerged _____ water.

- Ans
- 1. beside
 - 2. under

3. behind

4. over

Question ID : 9895809910

Chosen Option : --

Q.8 Select the word which means the same as the group of words given.

A sentimental longing or wistful affection for a period in the past

Ans 1. Harmony

2. Nostalgia

3. Affliction

4. Paradise

Question ID : 9895809924

Chosen Option : --

Q.9 Select the synonym of the given word.

ISOLATION

Ans 1. Separation

2. Integration

3. Communication

4. Association

Question ID : 9895809918

Chosen Option : --

Q.1
0 Select the most appropriate word to fill in the blank.

We should take _____ measures to prevent recurrence of such incidents.

Ans 1. properly

2. casual

3. substitute

4. effective

Question ID : 9895809929

Chosen Option : --

Q.1
1 Select the meaning of the given idiom.

Piece of cake

Ans 1. Something very difficult

2. Something very soft

3. Something very tasty

4. Something very easy

Question ID : 9895809923

Chosen Option : --

Q.1
2 Select the wrongly spelt word.

Ans 1. Neither

2. Ninety

3. Noticeable

4. Neccessary

Question ID : 9895809926

Chosen Option : --

Q.1
3 Select the most appropriate option to substitute the underlined segment in the given sentence. If there is no need to substitute it, select No substitution required.

When the vegetation is altered, the animal life also changed.

Ans 1. also changes

2. is changing

3. No substitution required

4. changed

Question ID : 9895809908

Chosen Option : --

Q.1
4 Select the most appropriate word to fill in the blank.

The house remained _____ for a long time.

Ans 1. empty

2. blank

3. evicted

4. vacant

Question ID : 9895809928

Chosen Option : --

Q.1
5 Select the most appropriate word to fill in the blank.

The elephants are the most majestic animals _____ the mammals.

Ans 1. over

2. between

3. as

4. among

Question ID : 9895809911

Chosen Option : --

Q.1
6 Select the meaning of the given idiom.

A snake in the grass

- Ans
- 1. Low and mean
 - 2. A hidden enemy
 - 3. An unreliable person
 - 4. Cowardly and brutal

Question ID : 9895809922

Chosen Option : --

Q.1
7 Identify the segment in the sentence which contains the grammatical error from the given options.

Rivers has been of primary importance for human settlements since ancient times.

- Ans
- 1. of primary importance
 - 2. since ancient times.
 - 3. for human settlements
 - 4. Rivers has been

Question ID : 9895809905

Chosen Option : --

Comprehension:

In the following passage some words have been deleted. Fill in the blanks with the help of the alternatives given. Select the most appropriate option for each number.

Can you (1) _____ a world without human beings? Who but humans (2) _____ have utilized the resources and created a (3) _____ and cultural environment? The people living in a country are imp ortant to (4) _____ the economy and the society. They (5) _____ are the greatest resource.

SubQuestion No : 18

Q.1
8 Select the most appropriate option that will fill in the blank number 1.

- Ans
- 1. figure
 - 2. imagine
 - 3. devise
 - 4. realize

Question ID : 9895809913

Chosen Option : --

Comprehension:

In the following passage some words have been deleted. Fill in the blanks with the help of the alternatives given. Select the most appropriate option for each number.

Can you (1) _____ a world without human beings? Who but humans (2) _____ have utilized the resources and created a (3) _____ and cultural environment? The people living in a country are important to (4) _____ the economy and the society. They (5) _____ are the greatest resource.

SubQuestion No : 19

Q.1
9 Select the most appropriate option that will fill in the blank number 2.

- Ans
- 1. will
 - 2. could
 - 3. can
 - 4. would

Question ID : 9895809914
Chosen Option : --

Comprehension:

In the following passage some words have been deleted. Fill in the blanks with the help of the alternatives given. Select the most appropriate option for each number.

Can you (1) _____ a world without human beings? Who but humans (2) _____ have utilized the resources and created a (3) _____ and cultural environment? The people living in a country are important to (4) _____ the economy and the society. They (5) _____ are the greatest resource.

SubQuestion No : 20

Q.2
0 Select the most appropriate option that will fill in the blank number 3.

- Ans
- 1. general
 - 2. familiar
 - 3. communal
 - 4. social

Question ID : 9895809915
Chosen Option : --

Comprehension:

In the following passage some words have been deleted. Fill in the blanks with the help of the alternatives given. Select the most appropriate option for each number.

Can you (1) _____ a world without human beings? Who but humans (2) _____ have utilized the resources and created a (3) _____ and cultural environment? The people living in a country are important to (4) _____ the economy and the society. They (5) _____ are the greatest resource.

SubQuestion No : 21

Q.2
1 Select the most appropriate option that will fill in the blank
number 4.

- Ans 1. mature
 2. establish
 3. develop
 4. evolve

Question ID : 9895809916
Chosen Option : --

Comprehension:

In the following passage some words have been deleted. Fill in the blanks with the help of the alternatives given. Select the most appropriate option for each number.

Can you (1) _____ a world without human beings? Who but humans (2) _____ have utilized the resources and created a (3) _____ and cultural environment? The people living in a country are important to (4) _____ the economy and the society. They (5) _____ are the greatest resource.

SubQuestion No : 22

Q.2
2 Select the most appropriate option that will fill in the blank
number 5.

- Ans 1. ourselves
 2. themselves
 3. yourselves
 4. itself

Question ID : 9895809917
Chosen Option : --

Q.2
3 Select the synonym of the given word.

INTEGRATION

- Ans 1. Segregation
 2. Separation
 3. Division
 4. Unification

Question ID : 9895809919
Chosen Option : --

Q.2
4 Select the wrongly spelt word.

- Ans 1. Sanctity
 2. Sacrifice

3. Salry
 4. Schedule

Question ID : 9895809927
Chosen Option : --

Q.2 Select the most appropriate option to substitute the underlined segment in the given sentence. If there is no need to substitute it, select No substitution required.

The term flora is use for denote plants of a particular region or period.

- Ans 1. No substitution required
 2. used to denote
 3. denoting
 4. used denoting

Question ID : 9895809907
Chosen Option : --

Section : Hindi Language

Q.1 'उत्सुक' का पर्यायवाची शब्द है -

- Ans 1. आतुर
 2. जलसा
 3. मेहनती
 4. हौसला

Question ID : 98958010053
Chosen Option : 2

Q.2 दिए गए वाक्य का वह भाग ज्ञात करें जिसमें कोई त्रुटि है।

बच्चों ने साधनों के अभाव में पढ़ना छोड़ दी।

- Ans 1. साधनों के
 2. अभाव में
 3. बच्चों ने
 4. पढ़ना छोड़ दी।

Question ID : 98958010036
Chosen Option : 4

Q.3 रिक्त स्थान को भरने के लिए उपयुक्त शब्द का चयन करें।

मैंने इस कार्य के लिए अधिकारियों से _____ स्वीकृति प्राप्त कर ली है।

- Ans 1. वांछित

- 2. वास्तव
- 3. निहित
- 4. अस्पष्ट

Question ID : 98958010043
Chosen Option : 4

Q.4 रिक्त स्थान को भरने के लिए उपयुक्त शब्द का चयन करें।

कलाकार में जन्मजात _____ होती है।

- Ans
- 1. प्रतिभा
 - 2. शक्ति
 - 3. रुचि
 - 4. विधा

Question ID : 98958010040
Chosen Option : 1

Q.5 'व्यर्थ खर्च करने वाला' के लिए एक शब्द प्रयुक्त होता है-

- Ans
- 1. अपव्ययी
 - 2. खर्चीला
 - 3. व्यापारी
 - 4. मितव्ययी

Question ID : 98958010056
Chosen Option : 2

Q.6 'प्रशंसक' का विलोम शब्द है -

- Ans
- 1. समीक्षक
 - 2. अन्धकार
 - 3. निन्दक
 - 4. कटु

Question ID : 98958010050
Chosen Option : 3

Q.7 दिए गए वाक्य में रेखांकित खंड को प्रतिस्थापित करने के लिए उपयुक्त विकल्प का चयन करें।

तुम्हारी बात बहुत ही तकलीफ देने वाली है।

- Ans
- 1. कष्टदायी
 - 2. कष्टसाध्य

3. आकृष्ट
 4. कष्टभावी

Question ID : 98958010039
Chosen Option : 4

Q.8 'हाथ मलते रह जाना' मुहावरे का सही अर्थ है -

- Ans 1. बेकार का काम करना
 2. पछताना
 3. मालिश करना
 4. हाथों को गरम करना

Question ID : 98958010055
Chosen Option : 2

Q.9 दिए गए वाक्य में रेखांकित खंड को प्रतिस्थापित करने के लिए उपयुक्त विकल्प का चयन करें।

शरण में आये व्यक्ति की सुरक्षा करनी चाहिये।

- Ans 1. शरणमुक्त
 2. आरक्षित
 3. शरणप्रिय
 4. शरणागत

Question ID : 98958010038
Chosen Option : 4

Q.10 सही वर्तनी वाले शब्द का चयन करें।

- Ans 1. नच्छत्र
 2. नक्षत्र
 3. नछत्र
 4. नक्षित्र

Question ID : 98958010058
Chosen Option : 1

Comprehension:

निम्नलिखित गद्यांश के रिक्त स्थानों की पूर्ति गद्यांश के नीचे दिए गए प्रश्नों के अनुसार कीजिए-

कई दिन वहाँ रहने पर मुझे इस साध्वी की _____ (1) के बारे में बहुत कुछ मालूम हो गया। प्रातःकाल उसके आश्रम से निरन्तर आती हुई तुलसीदास के भजनों की स्वर लहरी मेरी सोई हुई आत्मा को _____ (2) कर देती थी। कितने दिनों से मैं रेल-पेल व भागमभाग से _____ (3) वातावरण में आने की बात सोच रहा था। इस युग में भविष्य के प्रति _____ (4) हमें जल्दी निर्णय लेने से रोकती रहती है। फिर भी भीड़ से दूर निकलने की बलवती _____ (5) किसके मन में रह-रह कर नहीं जाग उठती है?

SubQuestion No : 11

Q.1
1 गद्यांश में संकेतित रिक्त स्थान (1) के लिए उपयुक्त शब्द होगा।

- Ans
- 1. परिचर्या
 - 2. दिनचर्या
 - 3. परिक्रमा
 - 4. परिचर्चा

Question ID : 98958010045
Chosen Option : 1

Comprehension:

निम्नलिखित गद्यांश के रिक्त स्थानों की पूर्ति गद्यांश के नीचे दिए गए प्रश्नों के अनुसार कीजिए-

कई दिन वहाँ रहने पर मुझे इस साध्वी की _____ (1) के बारे में बहुत कुछ मालूम हो गया। प्रातःकाल उसके आश्रम से निरन्तर आती हुई तुलसीदास के भजनों की स्वर लहरी मेरी सोई हुई आत्मा को _____ (2) कर देती थी। कितने दिनों से मैं रेल-पेल व भागमभाग से _____ (3) वातावरण में आने की बात सोच रहा था। इस युग में भविष्य के प्रति _____ (4) हमें जल्दी निर्णय लेने से रोकती रहती है। फिर भी भीड़ से दूर निकलने की बलवती _____ (5) किसके मन में रह-रह कर नहीं जाग उठती है?

SubQuestion No : 12

Q.1
2 गद्यांश में संकेतित रिक्त स्थान (2) के लिए उपयुक्त शब्द होगा।

- Ans
- 1. जागृत

- 2. चंचल
- 3. उदास
- 4. विचलित

Question ID : 98958010046
Chosen Option : 1

Comprehension:

निम्नलिखित गद्यांश के रिक्त स्थानों की पूर्ति गद्यांश के नीचे दिए गए प्रश्नों के अनुसार कीजिए-

कई दिन वहाँ रहने पर मुझे इस साध्वी की _____ (1) के बारे में बहुत कुछ मालूम हो गया। प्रातःकाल उसके आश्रम से निरन्तर आती हुई तुलसीदास के भजनों की स्वर लहरी मेरी सोई हुई आत्मा को _____ (2) कर देती थी। कितने दिनों से मैं रेल-पेल व भागमभाग से _____ (3) वातावरण में आने की बात सोच रहा था। इस युग में भविष्य के प्रति _____ (4) हमें जल्दी निर्णय लेने से रोकती रहती है। फिर भी भीड़ से दूर निकलने की बलवती _____ (5) किसके मन में रह-रह कर नहीं जाग उठती है?

SubQuestion No : 13

Q.1
3 गद्यांश में संकेतित रिक्त स्थान (3) के लिए उपयुक्त शब्द होगा।

- Ans
- 1. प्रभावित
 - 2. शांत
 - 3. संलग्न
 - 4. दूषित

Question ID : 98958010047
Chosen Option : 2

Comprehension:

निम्नलिखित गद्यांश के रिक्त स्थानों की पूर्ति गद्यांश के नीचे दिए गए प्रश्नों के अनुसार कीजिए-

कई दिन वहाँ रहने पर मुझे इस साध्वी की _____ (1) के बारे में बहुत कुछ मालूम हो गया। प्रातःकाल उसके आश्रम से निरन्तर आती हुई तुलसीदास के भजनों की स्वर लहरी मेरी सोई हुई आत्मा को _____ (2) कर देती थी। कितने दिनों से मैं रेल-पेल व भागमभाग से _____ (3) वातावरण में आने की बात सोच रहा था। इस युग में भविष्य के प्रति _____ (4) हमें जल्दी निर्णय लेने से रोकती रहती है। फिर भी भीड़ से दूर निकलने की बलवती _____ (5) किसके मन में रह-रह कर नहीं जाग उठती है?

SubQuestion No : 14

Q.1
4 गद्यांश में संकेतित रिक्त स्थान (4) के लिए उपयुक्त शब्द होगा।

- Ans
- 1. निश्चिन्त
 - 2. हताशा
 - 3. आशा
 - 4. आशंका

Question ID : 98958010048
Chosen Option : 1

Comprehension:

निम्नलिखित गद्यांश के रिक्त स्थानों की पूर्ति गद्यांश के नीचे दिए गए प्रश्नों के अनुसार कीजिए-

कई दिन वहाँ रहने पर मुझे इस साध्वी की _____ (1) के बारे में बहुत कुछ मालूम हो गया। प्रातःकाल उसके आश्रम से निरन्तर आती हुई तुलसीदास के भजनों की स्वर लहरी मेरी सोई हुई आत्मा को _____ (2) कर देती थी। कितने दिनों से मैं रेल-पेल व भागमभाग से _____ (3) वातावरण में आने की बात सोच रहा था। इस युग में भविष्य के प्रति _____ (4) हमें जल्दी निर्णय लेने से रोकती रहती है। फिर भी भीड़ से दूर निकलने की बलवती _____ (5) किसके मन में रह-रह कर नहीं जाग उठती है?

SubQuestion No : 15

Q.1
5 गद्यांश में संकेतित रिक्त स्थान (5) के लिए उपयुक्त शब्द होगा।

- Ans
- 1. लालसा

- 2. उत्सुकता
- 3. तृष्णा
- 4. इच्छा

Question ID : 98958010049
Chosen Option : 2

Q.1
6 'आयुष्मान' का पर्यायवाची शब्द है -

- Ans
- 1. हर्ष
 - 2. चिरायु
 - 3. प्रसन्नता
 - 4. मान्यवर

Question ID : 98958010052
Chosen Option : 2

Q.1
7 रिक्त स्थान को भरने के लिए उपयुक्त शब्द का चयन करें।

इस मूर्ति में मानो ईश्वर ही _____ हो गए हैं।

- Ans
- 1. साकार
 - 2. विकार
 - 3. आकार
 - 4. निराकार

Question ID : 98958010041
Chosen Option : 1

Q.1
8 'तलवार की धार पर चलना' मुहावरे का सही अर्थ है -

- Ans
- 1. सीधी रेखा पर चलना
 - 2. मेहनत करना
 - 3. सरल कार्य करना
 - 4. संकटपूर्ण कठिन काम करना

Question ID : 98958010054
Chosen Option : 4

Q.1
9 सही वर्तनी वाले शब्द का चयन करें।

- Ans
- 1. दृष्टी
 - 2. दृष्टि

3. द्रिष्टि

4. दृष्टि

Question ID : 98958010059
Chosen Option : 2

Q.2
0 दिए गए वाक्य का वह भाग ज्ञात करें जिसमें कोई त्रुटि है।

प्राचीन काल में होली का त्योहार समूह तौर में मनाया जाता था।

Ans 1. मनाया जाता था।

2. होली का त्योहार

3. प्राचीन काल में

4. समूह तौर में

Question ID : 98958010034
Chosen Option : 4

Q.2
1 'अतिवृष्टि' का विलोम शब्द है -

Ans 1. अनावृष्टि

2. प्रतिवृष्टि

3. अन्यवृष्टि

4. वृष्टि

Question ID : 98958010051
Chosen Option : 4

Q.2
2 'जिसका परिमाण न जाना जा सके' के लिए एक शब्द प्रयुक्त होता है-

Ans 1. अपरिमाण

2. अपरिमेय

3. अपरिहार्य

4. अपरिणाम

Question ID : 98958010057
Chosen Option : 4

Q.2
3 रिक्त स्थान को भरने के लिए उपयुक्त शब्द का चयन करें।

वर्तमान _____ में भी महात्मा गांधी के विचारों का महत्व कम नहीं होता।

Ans 1. घटनाओं

- 2. क्षेत्र
- 3. कार्यकलापों
- 4. संदर्भ

Question ID : 98958010042
Chosen Option : 3

Q.2
4 दिए गए वाक्य का वह भाग ज्ञात करें जिसमें कोई त्रुटि है।

अपनी जीभ को लगाम दो अन्यथा ठीक नहीं होगी।

- Ans
- 1. लगाम दो
 - 2. अपनी जीभ को
 - 3. ठीक नहीं होगी।
 - 4. अन्यथा

Question ID : 98958010035
Chosen Option : 3

Q.2
5 दिए गए वाक्य में रेखांकित खंड को प्रतिस्थापित करने के लिए उपयुक्त विकल्प का चयन करें।

अहंकार से भरा व्यक्ति समाज में कभी आदर नहीं पाता ।

- Ans
- 1. मदपायी
 - 2. मदमुक्त
 - 3. मदालस
 - 4. मदांध

Question ID : 98958010037
Chosen Option : 2