

## Constable (GD) in CAPFs, NIA, SSF and Rifleman (GD) in Assam Rifles Examination, 2018

Roll No. :	<a href="http://www.GovtJobsAlert.In">www.GovtJobsAlert.In</a>
Registration No.	
Name :	
Exam Venue :	iON Digital Zone iDZ Baraipali
Exam Time :	12:30 PM - 2:00 PM
Exam Date :	22/02/2019

Section : General Section

Q.1 Identify the odd pair from the following.

- Ans
- 1. Taj Mahal : Agra
  - 2. Konark : Odisha
  - 3. Victoria memorial : Kolkata
  - 4. India Gate : New Delhi

Question ID : 9895806484  
Chosen Option : 3

Q.2 The statements below are followed by two conclusions labeled I and II. Assuming that the information in the statements is true, even if it appears at variance with generally established facts, decide which conclusion(s) logically and definitely follow(s) from the information given in the statements.

Statements:

Some monkeys are donkeys.  
All donkeys are lions.

Conclusion:



- I. All lions are donkeys.
- II. All donkeys are monkeys.

- Ans
- 1. Both conclusions follow.
  - 2. Only conclusion II follows.
  - 3. Only conclusion I follows.
  - 4. Neither conclusion I nor conclusion II follows.

Question ID : 9895806493  
Chosen Option : 3

Q.3 वेन आरेख का चयन करें जो दिए गए तीन वर्गों के बीच के संबंध को सर्वोत्तम रूप में दर्शाता है।

भाषाएँ, हिन्दी, मलयालम

- Ans
- 1. 
  - 2. 



Question ID : 9895806505

Chosen Option : 1

Q.4 'Horse' is related to 'Foal' in the same way as 'Man' is related to '\_\_\_\_\_'.  
Ans

1. Family

2. Student

3. Child

4. Women

Question ID : 9895806486

Chosen Option : 1

Q.5 Select the term that will come next in the following series.

aCCe, fHHj, kMMo, \_\_\_\_\_.

Ans  1. qRRt

2. qSSt

3. pRRt

4. pQQr

Question ID : 9895806481

Chosen Option : 3

Q.6 Identify the odd one from the following.

Ans  1. U

2. I

3. Z

4. E

Question ID : 9895806483

Chosen Option : 1

Q.7 दिए गए समीकरण को सही बनाने के लिए किन दो चिन्हों को आपस में बदलना होगा?

$$0 \div 15 + 15 - 10 \times 10 = -99$$

Ans  1. + और ×

2. + और ÷

3. ÷ और -

4. ÷ और ×

Question ID : 9895806498

Chosen Option : 1

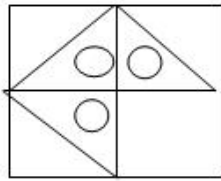
Q.8 Identify the decimal number that will come next in the following series.

20, 19.9, 19.89, 19.889, 19.8889, \_\_\_\_\_.

- Ans
- 1. 19.88889
  - 2. 19.88888
  - 3. 19.98889
  - 4. 19.88999

Question ID : 9895806494  
Chosen Option : 1

Q.9 Select the correct option to complete the following pattern.



- Ans
- 1.
  - 2.
  - 3.
  - 4.

Question ID : 9895806502  
Chosen Option : 4

Q.10 निम्नलिखित में से असंगत को पहचानें।

- Ans
- 1. भेड़
  - 2. रजाई
  - 3. तकिया
  - 4. बिस्तर

Question ID : 9895806482  
Chosen Option : 1

Q.11 If OFFICE is coded as PHIMHK, then COLLEGE will be coded as \_\_\_\_\_.

- Ans
- 1. DQOOJML
  - 2. DQOPJNL
  - 3. DQPPJML
  - 4. DQOPJML

Question ID : 9895806488  
Chosen Option : 2

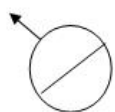
Q.1 उस विकल्प का चयन करें जो तीसरे पद से उसी तरह से संबंधित है जिस प्रकार दूसरा पद पहले पद से संबंधित है।

$$\frac{10}{13} : 269 :: \frac{12}{16} : \text{_____}$$

- Ans
- 1. 400
  - 2. 326
  - 3. 256
  - 4. 350

Question ID : 9895806496  
Chosen Option : 1

Q.1 Select the option that most closely resembles the mirror image of the given figure.



- Ans
- 1.
  - 2.
  - 3.
  - 4.

Question ID : 9895806503  
Chosen Option : 2

Q.1 Read the given statements and conclusions carefully and decide which of the conclusions logically follow(s) from the statements.

Statements:

All girls are students.  
All students are sisters.

Conclusions:

- I. All girls are sisters.
- II. Some girls are not sisters.

- Ans
- 1. Neither conclusion I nor conclusion II follows.
  - 2. Both conclusions I and II follow.
  - 3. Only conclusion II follows.
  - 4. Only conclusion I follows.

Question ID : 9895806492

Chosen Option : 4

Q.1 <sub>5</sub> If PROFIT is coded as 17-19-16-7-10-21, then how will COMPANY be coded as?

- Ans
- 1. 3-16-14-17-2-15-25
  - 2. 4-16-14-17-2-15-26
  - 3. 3-15-13-16-1-14-25
  - 4. 4-15-13-17-2-15-26

Question ID : 9895806487  
Chosen Option : 2

Q.1 <sub>6</sub> Sarath, Naveen, Deepak and Vikram are sitting around a round table and discussing their trades. Sarath sits opposite to the engineer. Naveen sits to the right of the doctor. The lawyer is to the left of the police. Vikram sits opposite to Deepak.

Who is the engineer?

- Ans
- 1. Deepak
  - 2. Sarath
  - 3. Vikram
  - 4. Naveen

Question ID : 9895806490  
Chosen Option : 1

Q.1 <sub>7</sub> A pharmaceutical company launches eight new medicines — A, B, C, D, E, F, G and H. The medicines were launched one after the other over a period of 3 months in 2015. The order in which the medicines were launched followed the given conditions:

A got launched immediately after H;  
E got launched before both G and A;  
C got launched immediately after E;  
D got launched before E but after B; and  
B got launched immediately before F.

Which of the following could be true?

- Ans
- 1. G was the second medicine to be launched.
  - 2. B was the third medicine to be launched.
  - 3. A was the fourth medicine to be launched.
  - 4. C was the fifth medicine to be launched.

Question ID : 9895806491  
Chosen Option : 1

Q.1 <sub>8</sub> Five friends are sitting in a row. Sathya is sitting next to Prabha but not to Dhivya. Keerthi is sitting next to Roja who is sitting on the extreme left and Dhivya is not sitting next to Keerthi. Who is sitting in the middle?

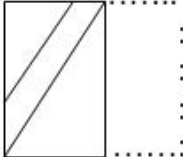
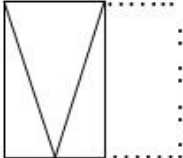
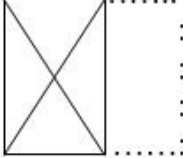
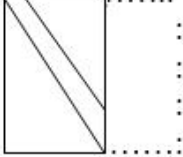
- Ans
- 1. Keerthi
  - 2. Sathya
  - 3. Dhivya
  - 4. Prabha

Question ID : 9895806489  
Chosen Option : 1

Q.1 <sub>9</sub> A square transparent sheet with a pattern is given. Select from among the four alternatives how the pattern would appear when the transparent sheet is folded at the dotted line.

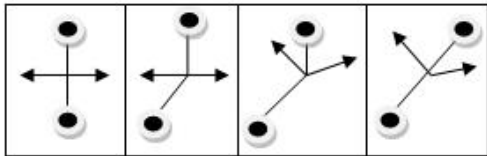


Ans

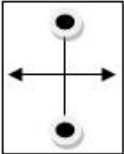
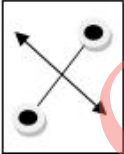
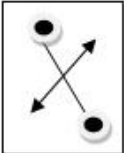
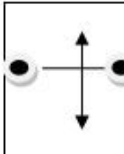
- 1. 
- 2. 
- 3. 
- 4. 

Question ID : 9895806504  
Chosen Option : 4

Q.2 Select the figure that will come next in the following series.



Ans

- 1. 
- 2. 
- 3. 
- 4. 

Question ID : 9895806500  
Chosen Option : 2

Q.2  
1

Identify the number that DOES NOT belong to the following series.

0, 7, 26, 2, 9, 27, 4, 11, 30

- Ans
- 1. 7
  - 2. 26
  - 3. 9
  - 4. 27

Question ID : 9895806495  
Chosen Option : 1

Q.2 In the following number series, two numbers have been put within brackets. Study the series carefully and select the correct alternative with respect to the series.

2, 5, 10, 17, (26), 37, 50, 65, (81), 101

- Ans
- 1. Both the bracketed numbers are correct.
  - 2. Both the bracketed numbers are incorrect.
  - 3.

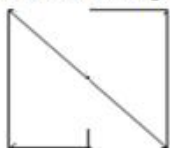
The first bracketed number (from the left) is incorrect and the second is correct.

4.

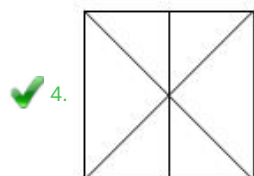
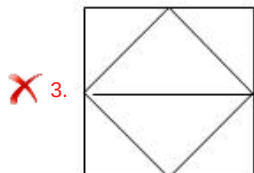
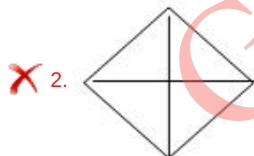
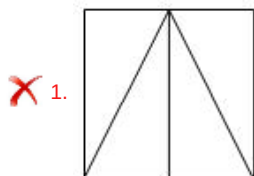
The first bracketed number (from the left) is correct and the second is incorrect.

Question ID : 9895806499  
Chosen Option : 4

Q.2 Select the option in which the given figure is embedded.



Ans



Question ID : 9895806501  
Chosen Option : 4

Q.2  
4 Identify the odd number from the following.

- Ans
- 1. 167
  - 2. 256
  - 3. 196
  - 4. 225

Question ID : 9895806497  
Chosen Option : 1

Q.2  
5 Select the option that is related to the third term in the same way as the second term is related to the first term.

Abundant : Scarce :: Arrival : ?

- Ans
- 1. Departure
  - 2. Stop
  - 3. Reach
  - 4. Come

Question ID : 9895806485  
Chosen Option : 1

Q.2  
6 From when did GST come into effect in India?

- Ans
- 1. 2<sup>nd</sup> October 2015
  - 2. 15<sup>th</sup> August 2014
  - 3. 8<sup>th</sup> November 2016
  - 4. 1<sup>st</sup> July 2017

Question ID : 9895806539  
Chosen Option : 1

Q.2  
7 When was the Fugitive Economic Offenders Act passed by the Indian parliament?

- Ans
- 1. 2016
  - 2. 2012
  - 3. 2018
  - 4. 2014

Question ID : 9895806543  
Chosen Option : 4

Q.2  
8 The Minimum Support Price (MSP) is announced by the Government of India for how many crops?

- Ans
- 1. 20
  - 2. 30
  - 3. 25
  - 4. 15

Question ID : 9895806541  
Chosen Option : 3

Q.2  
9 In which city was the Indian National Congress founded?

Ans



- 1. Bombay
- 2. Madras
- 3. Rajkot
- 4. Calcutta

Question ID : 9895806555  
Chosen Option : 2

Q.3 Identify the industrialist who is the founder of the natural resources company called Vedanta Resources.

- Ans
- 1. Shankar Uday
  - 2. Anil Agarwal
  - 3. Vishal Sikka
  - 4. Kuldeep Agarwal

Question ID : 9895806538  
Chosen Option : 4

Q.3 In which country is the 'Great man made river' located?

- Ans
- 1. Ethiopia
  - 2. Libya
  - 3. Egypt
  - 4. Kenya

Question ID : 9895806550  
Chosen Option : 4

Q.3 Who patented the FM radio?

- Ans
- 1. Edwin H. Armstrong
  - 2. John Logie Baird
  - 3. Thomas Alva Edison
  - 4. Nicola Tesla

Question ID : 9895806545  
Chosen Option : 4

Q.3 The first ever Philip Kotler Presidential Award went to which of the following world leaders?

- Ans
- 1. Narendra Modi
  - 2. Donald Trump
  - 3. Teresa May
  - 4. Angela Merkel

Question ID : 9895806536  
Chosen Option : 4

Q.3 Into how many 'mandalas' or books is the Rig Veda divided?

- Ans
- 1. 7

- 2. 12
- 3. 5
- 4. 10

Question ID : 9895806553  
Chosen Option : 2

Q.3  
5 'Insuknawr', a traditional Indian sport, is associated with which state?

- Ans
- 1. Nagaland
  - 2. Meghalaya
  - 3. Mizoram
  - 4. Manipur

Question ID : 9895806534  
Chosen Option : 4

Q.3  
6 Prohibition of children under 14 years of age to work in any hazardous employment is stated in which article of the Indian constitution?

- Ans
- 1. 22
  - 2. 25
  - 3. 24
  - 4. 23

Question ID : 9895806542  
Chosen Option : 4

Q.3  
7 Which of the following is the national sport of Sri Lanka?

- Ans
- 1. Cricket
  - 2. Volleyball
  - 3. Hockey
  - 4. Basketball

Question ID : 9895806535  
Chosen Option : 4

Q.3  
8 रेगिस्तानी क्षेत्र में किस प्रकार की वनस्पति सामान्य रूप से पाई जाती है?

- Ans
- 1. झाड़ी
  - 2. हर्बेशीयस
  - 3. बेलें
  - 4. वृक्ष

Question ID : 9895806548  
Chosen Option : 1

Q.3  
9 Where is the largest drinking water reservoir in the world located?

- Ans
- 1. USA
  - 2. China

- 3. Russia
- 4. Saudi Arabia

Question ID : 9895806549  
Chosen Option : 4

Q.4  
0 'Modse' is a traditional dance form of which of the following Indian states?

- Ans
- 1. Jharkhand
  - 2. Nagaland
  - 3. Mizoram
  - 4. Odisha

Question ID : 9895806531  
Chosen Option : 3

Q.4  
1 How long should a person should have practised in a High Court to be appointed as a Judge of the Supreme Court of India?

- Ans
- 1. 10
  - 2. 15
  - 3. 5
  - 4. 12

Question ID : 9895806544  
Chosen Option : 1

Q.4  
2 In banking terminology, the term SLR stands for:

- Ans
- 1. Subsidiary Leveraging Ratio
  - 2. Standard Liquid Ratio
  - 3. Statutory Liquidity Ratio
  - 4. Subordinate Level Return

Question ID : 9895806540  
Chosen Option : 1

Q.4  
3 Green Revolution was first started by which of the following nations?

- Ans
- 1. Chile
  - 2. Mexico
  - 3. Brazil
  - 4. Argentina

Question ID : 9895806552  
Chosen Option : 4

Q.4  
4 In which Indian state is Mount Dhupgarh located?

- Ans
- 1. Gujarat
  - 2. Uttar Pradesh
  - 3. Madhya Pradesh
  - 4. Rajasthan

Question ID : 9895806551  
Chosen Option : 1

Q.4  
5 'Gulzar Houz', a historical fountain, is located in which of the following Indian cities?

- Ans
- 1. Hyderabad
  - 2. Lucknow
  - 3. Delhi
  - 4. Ajmer

Question ID : 9895806533  
Chosen Option : 4

Q.4  
6 'Losoong' is a festival of which of the following Indian states?

- Ans
- 1. Goa
  - 2. Sikkim
  - 3. Meghalaya
  - 4. Arunachal Pradesh

Question ID : 9895806532  
Chosen Option : 4

Q.4  
7 Which of the following was the capital of the Pallava Dynasty?

- Ans
- 1. Madurai
  - 2. Vishakhapatnam
  - 3. Thanjavur
  - 4. Kanchipuram

Question ID : 9895806554  
Chosen Option : 4

Q.4  
8 Which acid is present in tomato?

- Ans
- 1. Oxalic acid
  - 2. Tartaric acid
  - 3. Sulfenic acid
  - 4. Malic acid

Question ID : 9895806546  
Chosen Option : 4

Q.4  
9 Who is the author of the book 'Why I am a Hindu'?

- Ans
- 1. Amish Tripathi
  - 2. Durjoy Dutta
  - 3. Shashi Tharoor
  - 4. Chetan Bhagat

Question ID : 9895806537  
Chosen Option : 4

Q.5  
0 Which of the following animals is a mammal?

- Ans
- 1. Whale
  - 2. Tortoise
  - 3. Annelids
  - 4. Bullfrogs

Question ID : 9895806547  
Chosen Option : 3

Q.5  
1 कितने प्रतिशत प्रति वर्ष की साधारण ब्याज दर पर ₹1800 की राशि 10 वर्षों में ₹2700 हो जाएगी?

- Ans
- 1. 12%
  - 2. 15%
  - 3. 10%
  - 4. 5%

Question ID : 9895806595  
Chosen Option : 4

Q.5  
2 एक बल्लेबाज अपनी 12 वीं पारी में 60 रन बनाता है और इस तरह उसका औसत रन 2 रन से बढ़ जाता है। उसकी 11 वीं पारी के बाद का औसत रन क्या था?

- Ans
- 1. 36
  - 2. 84
  - 3. 63
  - 4. 48

Question ID : 9895806585  
Chosen Option : 1

Q.5  
3 A person travels from one place (P) to another place (Q) at a speed of 60 km/hr and return from Q by increasing his speed of 50%. The average speed of person is:

- Ans
- 1. 62 km/hr
  - 2. 75 km/hr
  - 3. 74 km/hr
  - 4. 72 km/hr

Question ID : 9895806589  
Chosen Option : 2

Q.5  
4 The base of a right prism is an equilateral triangle with a side of 5m, and its height is 20m. The volume of the prism is:

- Ans
- 1.  $125 \text{ m}^3$
  - 2.  $120\sqrt{3} \text{ m}^3$
  - 3.  $120 \text{ m}^3$
  - 4.  $125\sqrt{3} \text{ m}^3$

Question ID : 9895806602  
Chosen Option : 4

Q.5

5 The value of  $54 - 2(20 + 12 \div 4 \times 3 - 2 \times 2) + 10$  is equal to:

- Ans
- 1. 12
  - 2. 24
  - 3. 14
  - 4. 4

Question ID : 9895806582  
Chosen Option : 3

Q.5  
6 The least number when divided by 27, 45, 30 leaves the remainder 5 in each case is:

- Ans
- 1. 308
  - 2. 102
  - 3. 260
  - 4. 275

Question ID : 9895806581  
Chosen Option : 2

Q.5 Study the Table Properly and answer by interpreting the data:

7

The table gives the percentage of marks obtained by five students in four different subjects in an examination.

students	Subjects (Max. Marks)			
	Maths (150)	Chemistry (130)	Physics (120)	Biology (100)
Harish	90	50	60	70
Raman	80	30	60	65
Rajesh	70	60	80	82
Manoj	35	75	20	72
Azmat	40	35	38	48

The number of students who obtained 50% and above marks in all subject is:

- Ans
- 1. 2
  - 2. 3
  - 3. 5
  - 4. 4

Question ID : 9895806604  
Chosen Option : 1

Q.5 Study the Table Properly and answer by interpreting the data

8

The table gives the percentage of marks obtained by five students in four different subjects in an examination.

students	Subjects (Max. Marks)			
	Maths (150)	Chemistry (130)	Physics (120)	Biology (100)
Harish	90	50	60	70
Raman	80	30	60	65
Rajesh	70	60	80	82
Manoj	35	75	20	72
Azmat	40	35	38	48

What is the average marks obtained by all five students in Chemistry?

- Ans
- 1. 70
  - 2. 65
  - 3. 85
  - 4. 75

Question ID : 9895806603  
Chosen Option : 2

Q.5 The ratio of two numbers is 8 : 3 and their difference is 120. The smallest of the two number is:

9

- Ans
- 1. 162
  - 2. 65
  - 3. 84
  - 4. 72

Question ID : 9895806592

Chosen Option : 4

Q.6 The value of  $5 + [(28 - 4) \div 2^2 + 2)] - 2$  is equal to:

0

- Ans
- 1. 5
  - 2. 7
  - 3. 6
  - 4. 4

Question ID : 9895806583

Chosen Option : 2

Q.6 A shirt is marked ₹2500 is available for ₹2200. The rate of discount percentage offered as:

1

- Ans
- 1. 10%
  - 2. 25%
  - 3. 12%
  - 4. 15%

Question ID : 9895806599

Chosen Option : 3

Q.6 If 20% of certain number is equal to  $\frac{3}{4}$ th of another number, what is the ratio between the numbers?

2

- Ans
- 1. 4 : 3
  - 2. 4 : 6
  - 3. 15 : 4
  - 4. 3 : 4

Question ID : 9895806594

Chosen Option : 4

Q.6 The time taken to cover a distance 150 km by a train moving at 40 km/h is:

3

- Ans
- 1. 3 hrs 45 minutes
  - 2. 3 hrs 35 minutes
  - 3. 2 hrs 35 minutes
  - 4. 2 hrs 45 minutes

Question ID : 9895806588

Chosen Option : 1

Q.6 वार्षिक आधार पर चक्रवृद्धित 5% प्रति वर्ष की ब्याज दर पर ₹800 की राशि कितने समय में ₹882 हो जाएगी?

4

- Ans
- 1. 4 वर्ष

2. 5 वर्ष

3. 2 वर्ष

4. 3 वर्ष

Question ID : 9895806596

Chosen Option : 3

Q.6 The relationship between mean, median and mode in the central tendency is:

5

Ans  1. Mode = 3 median + 2 mean

2. Mode = 3 median – 2 mean

3. Median = 3 mode – 2 mean

4. Median = 3 mode + 2 mean

Question ID : 9895806590

Chosen Option : 1

Q.6 Study the Table Properly and answer by interpreting the data

6

The table gives the percentage of marks obtained by five students in four different subjects in an examination.

students	Subjects (Max. Marks)			
	Maths (150)	Chemistry (130)	Physics (120)	Biology (100)
Harish	90	50	60	70
Raman	80	30	60	65
Rajesh	70	60	80	82
Manoj	35	75	20	72
Azmat	40	35	38	48

How many students secured below 50% marks in each of the subject is:

Ans  1. 1

2. 2

3. 3

4. 4

Question ID : 9895806605

Chosen Option : 1

Q.6 The cost price of 15 articles is equal to the selling price of 12 articles. The Profit or Loss percent of the article is:

7

Ans  1. 20% profit

2. 25% loss

3. 25% profit

4. 20% loss

Question ID : 9895806597

Chosen Option : 1

Q.6 The ratio between the selling price and cost price of an article is 7 : 3, What will be the ratio between the profit and selling price of the article?

8

Ans  1. 7 : 4

2. 5 : 2

3. 7 : 3

4. 4 : 7

Question ID : 9895806593



Chosen Option : 2

Q.6 Rahim and Harish can do a work in 15 days and 10 days respectively. In how many days the same work will be finished if they work together?

- Ans
- 1. 6
  - 2. 30
  - 3. 25
  - 4. 5

Question ID : 9895806586  
Chosen Option : 1

Q.7 पांच संख्याओं का औसत 120 है। यदि एक संख्या को अलग किया जाए, तो शेष चार संख्याओं का औसत 130 है। अलग की गई संख्या है:

- Ans
- 1. 80
  - 2. 110
  - 3. 75
  - 4. 120

Question ID : 9895806584  
Chosen Option : 1

Q.7 ARITHMETIC शब्द में, I अक्षर के होने का प्रतिशत क्या है?

- Ans
- 1. 10%
  - 2. 20%
  - 3. 15%
  - 4. 25%

Question ID : 9895806591  
Chosen Option : 2

Q.7 How many cubes of 5 cm edge can be placed in a cubic box of 2m edge?

- Ans
- 1. 64000
  - 2. 10000
  - 3. 5000
  - 4. 46000

Question ID : 9895806600  
Chosen Option : 3

Q.7 If 6 persons reap 36 acres in 24 days, how many acres will 12 persons reap in 18 days?

- Ans
- 1. 15
  - 2. 28
  - 3. 24
  - 4. 35

Question ID : 9895806587  
Chosen Option : 3

Q.7 100 oranges are bought for ₹400 and sold at the rate of ₹60 per dozen. The percentage of Profit or Loss is:

4

- Ans
- 1. 30% loss
  - 2. 20% loss
  - 3. 25% profit
  - 4. 15 % profit

Question ID : 9895806598  
Chosen Option : 3

Q.7 The area of two equilateral triangles is 36 : 64. The altitudes of the triangles will be in the ratio of:

- Ans
- 1. 8 : 6
  - 2. 36 : 64
  - 3. 64 : 36
  - 4. 6 : 8

Question ID : 9895806601  
Chosen Option : 4

Section : English Language

Q.1 From the given options, identify the segment in the sentence which contains the grammatical error.

Gazing out of the train window as I travelled upon the country, I was introduced to a new India.

- Ans
- 1. a new India
  - 2. introduced to
  - 3. upon the
  - 4. Gazing out

Question ID : 9895806154  
Chosen Option : 2

Q.2 Select the most appropriate option to fill in the blank.

There is nothing that \_\_\_\_\_ of us can do to solve the problem.

- Ans
- 1. every one
  - 2. any
  - 3. none
  - 4. no one

Question ID : 9895806160  
Chosen Option : 2

Q.3 Select the correctly spelt word.

- Ans
- 1. Permission
  - 2. Parmission
  - 3. Permmission
  - 4. Permission

Question ID : 9895806179  
Chosen Option : 4

Comprehension:

In the following passage some words have been deleted. Fill in the blanks with the help of the alternatives given.

Lions live for around 10-14 years in the wild, while in (1) \_\_\_\_\_ they can live over 20 years. In the wild, males seldom live longer than ten years as fights with rivals occasionally cause them (2) \_\_\_\_\_. They typically (3) \_\_\_\_\_ Savanna and grassland, although they may take to bush and forest. A (4) \_\_\_\_\_ of lions consists of related females and offspring and some adult males. Groups of female lions typically hunt together (5) \_\_\_\_\_ mostly on large hoofed animals.

SubQuestion No : 4

Q.4 Select the most appropriate option that will fill in the blank number 1.

- Ans
- 1. cage
  - 2. forest
  - 3. captivity
  - 4. caves

Question ID : 9895806163  
Chosen Option : 4

Comprehension:

In the following passage some words have been deleted. Fill in the blanks with the help of the alternatives given.

Lions live for around 10-14 years in the wild, while in (1) \_\_\_\_\_ they can live over 20 years. In the wild, males seldom live longer than ten years as fights with rivals occasionally cause them (2) \_\_\_\_\_. They typically (3) \_\_\_\_\_ Savanna and grassland, although they may take to bush and forest. A (4) \_\_\_\_\_ of lions consists of related females and offspring and some adult males. Groups of female lions typically hunt together (5) \_\_\_\_\_ mostly on large hoofed animals.

SubQuestion No : 5

Q.5 Select the most appropriate option that will fill in the blank number 2.

- Ans
- 1. loss
  - 2. harm
  - 3. damage
  - 4. injuries

Question ID : 9895806164  
Chosen Option : 1

Comprehension:

In the following passage some words have been deleted. Fill in the blanks with the help of the alternatives given.

Lions live for around 10-14 years in the wild, while in (1) \_\_\_\_\_ they can live over 20 years. In the wild, males seldom live longer than ten years as fights with rivals occasionally cause them (2) \_\_\_\_\_. They typically (3) \_\_\_\_\_ Savanna and grassland, although they may take to bush and forest. A (4) \_\_\_\_\_ of lions consists of related females and offspring and some adult males. Groups of female lions typically hunt together (5) \_\_\_\_\_ mostly on large hoofed animals.

SubQuestion No : 6

Q.6 Select the most appropriate option that will fill in the blank number 3.

- Ans
- 1. grow
  - 2. nurture
  - 3. inhabit
  - 4. breed

Question ID : 9895806165  
Chosen Option : 1

Comprehension:

In the following passage some words have been deleted. Fill in the blanks with the help of the alternatives given.

Lions live for around 10-14 years in the wild, while in (1) \_\_\_\_\_ they can live over 20 years. In the wild, males seldom live longer than ten years as fights with rivals occasionally cause them (2) \_\_\_\_\_. They typically (3) \_\_\_\_\_ Savanna and grassland, although they may take to bush and forest. A (4) \_\_\_\_\_ of lions consists of related females and offspring and some adult males. Groups of female lions typically hunt together (5) \_\_\_\_\_ mostly on large hoofed animals.

SubQuestion No : 7

Q.7 Select the most appropriate option that will fill in the blank number 4.

- Ans
- 1. flock
  - 2. pride
  - 3. bunch
  - 4. pack

Question ID : 9895806166  
Chosen Option : 2

Comprehension:

In the following passage some words have been deleted. Fill in the blanks with the help of the alternatives given.

Lions live for around 10-14 years in the wild, while in (1) \_\_\_\_\_ they can live over 20 years. In the wild, males seldom live longer than ten years as fights with rivals occasionally cause them (2) \_\_\_\_\_. They typically (3) \_\_\_\_\_ Savanna and grassland, although they may take to bush and forest. A (4) \_\_\_\_\_ of lions consists of related females and offspring and some adult males. Groups of female lions typically hunt together (5) \_\_\_\_\_ mostly on large hoofed animals.

SubQuestion No : 8

Q.8 Select the most appropriate option that will fill in the blank number 5.

- Ans
- 1. preying
  - 2. snatching
  - 3. consuming
  - 4. eating

Question ID : 9895806167  
Chosen Option : 4

Q.9 Select the antonym of the given word.

PAUCITY

- Ans
- 1. Surplus
  - 2. Lack
  - 3. Flexibility
  - 4. Shortage

Question ID : 9895806171  
Chosen Option : 3

Q.10 Select the option that means the same as the given idiom.

To be in hot water

- Ans
- 1. To be depended on
  - 2. To be unreliable
  - 3. To be praised
  - 4. To be in trouble

Question ID : 9895806172  
Chosen Option : 3

Q.11 From the given options, identify the segment in the sentence which contains the grammatical error.

The football team had won the series abroad after a decade and brings home the trophy.

- Ans
- 1. won the series
  - 2. a decade
  - 3. abroad after

4. and brings

Question ID : 9895806156  
Chosen Option : 2

Q.1  
2 Select the most appropriate synonym of the given word.

FUTILE

- Ans
- 1. Boring
  - 2. Useless
  - 3. Uninteresting
  - 4. Juicy

Question ID : 9895806168  
Chosen Option : 4

Q.1  
3 Select the most appropriate option to substitute the underlined segment in the given sentence. If there is no need to substitute it, select No improvement.

Evolution is the gradual change over the physical and mental make up of species.

- Ans
- 1. on the physical and mental make-up of species
  - 2. from the physical and mental make-up of species
  - 3. No improvement
  - 4. in the physical and mental make-up of species

Question ID : 9895806159  
Chosen Option : 1

Q.1  
4 Select the most appropriate option to fill in the blank.

In my opinion, he is the \_\_\_\_\_ of all the brothers.

- Ans
- 1. brightly
  - 2. brightest
  - 3. bright
  - 4. brighter

Question ID : 9895806161  
Chosen Option : 2

Q.1  
5 Select the antonym of the given word.

GORGEOUS

- Ans
- 1. Decorative
  - 2. Beautiful
  - 3. Smart
  - 4. Ordinary

Question ID : 9895806170  
Chosen Option : 4

Q.1  
6 Select the most appropriate option to substitute the underlined segment in the given sentence. If there is no need to substitute it, select No improvement.

He searched for his files across the chest of drawers.

- Ans
- 1. No improvement
  - 2. above the chest of drawers
  - 3. in the chest of drawers
  - 4. into the chest of drawers

Question ID : 9895806157  
Chosen Option : 2

Q.1  
7 Select the most appropriate option to substitute the underlined segment in the given sentence. If there is no need to substitute it, select No improvement.

He do not register his dissent to the proposal put forward by the member.

- Ans
- 1. No improvement
  - 2. did not registered his dissent to
  - 3. does not registered his dissent to
  - 4. did not register his dissent to

Question ID : 9895806158  
Chosen Option : 4

Q.1  
8 Select the word which means the same as the group of words given.

A collection of poems

- Ans
- 1. Rhyme
  - 2. Verse
  - 3. Stanza
  - 4. Anthology

Question ID : 9895806174  
Chosen Option : 2

Q.1  
9 Select the option that means the same as the given idiom.

Fair weather friends

- Ans
- 1. Friends who are always happy
  - 2. Friends who keep you happy
  - 3. Friends in good times
  - 4. Good company for holidays

Question ID : 9895806173  
Chosen Option : 3

Q.2  
0 Select the most appropriate word to fill in the blank.

I read 'Harry Potter' books because they were \_\_\_\_\_ by my friend.

- Ans
- 1. counselled
  - 2. advised

3. recommended

4. motivated

Question ID : 9895806176

Chosen Option : 4

Q.2  
1 Select the most appropriate word to fill in the blank.

In what ways has progress in human knowledge \_\_\_\_\_ our environment?

Ans  1. aligned

2. represented

3. altered

4. reframed

Question ID : 9895806177

Chosen Option : 2

Q.2  
2 From the given options, identify the segment in the sentence which contains the grammatical error.

The department will initiate a campaign to promoting organic farming across the State.

Ans  1. across the State

2. organic farming

3. will initiate

4. to promoting

Question ID : 9895806155

Chosen Option : 2

Q.2  
3 Select the correctly spelt word.

Ans  1. Comamorate

2. Comemorate

3. Commamorate

4. Commemorate

Question ID : 9895806178

Chosen Option : 3

Q.2  
4 Select the most appropriate synonym of the given word.

MANDATORY

Ans  1. Elementary

2. Lucid

3. Advanced

4. Compulsory

Question ID : 9895806169

Chosen Option : 4

Q.2  
5



Select the word which means the same as the group of words given.

Country treated as permanent home by an individual

- Ans
- 1. Residence
  - 2. Domicile
  - 3. Dwelling
  - 4. Neighbourhood

Question ID : 9895806175  
Chosen Option : 1

Section : Hindi Language

Q.1 दिए गए वाक्य में रेखांकित खंड को प्रतिस्थापित करने के लिए उपयुक्त विकल्प का चयन करें।

अक्षरों से बनी लिपियों की महत्त्व है।

- Ans
- 1. लिपियों के महत्त्व है।
  - 2. लिपियों को महत्त्व है।
  - 3. लिपियों का महत्त्व है।
  - 4. लिपियों ने महत्त्व है।

Question ID : 9895805950  
Chosen Option : --

Q.2 सही वर्तनी वाले शब्द का चयन करें।

- Ans
- 1. पत्रकार
  - 2. पत्राकर
  - 3. पत्रकर
  - 4. पत्ररकार

Question ID : 9895805970  
Chosen Option : --

Q.3 सही वर्तनी वाले शब्द का चयन करें।

- Ans
- 1. रूपावन
  - 2. रूपबान
  - 3. रूपवान
  - 4. रूपवान

Question ID : 9895805971  
Chosen Option : --

Q.4 दिये गये वाक्यांश के लिए एक शब्द चुनिए।

सदा रहने वाला

- Ans
- 1. शाश्वत
  - 2. संविदा

✓ 3. सदाचारी

✗ 4. सदाशील

Question ID : 9895805968  
Chosen Option : --

Q.5 दिए गए शब्द का विलोम चुनें।

सर्वदा

Ans ✗ 1. यदा-कदा

✗ 2. सब तरफ

✗ 3. सरिता

✓ 4. सदा

Question ID : 9895805962  
Chosen Option : --

Q.6 दिए गए वाक्य का वह भाग ज्ञात करें जिसमें कोई त्रुटि है।

वनों की अंधाधुंध कटाई से स्वच्छ वायु मिलनी कठिन हो गया है।

Ans ✗ 1. कटाई से

✓ 2. वनों की अंधाधुंध

✗ 3. स्वच्छ वायु

✗ 4. मिलनी कठिन हो गया है।

Question ID : 9895805948  
Chosen Option : --

Q.7 दिए गए शब्द के पर्यायवाची शब्द का चयन करें।

किनारा

Ans ✓ 1. गंगा

✗ 2. तट

✗ 3. नदी

✗ 4. संगम

Question ID : 9895805965  
Chosen Option : --

Q.8 दिए गए वाक्य में रेखांकित खंड को प्रतिस्थापित करने के लिए उपयुक्त विकल्प का चयन करें।

दादाजी समाचार पत्र पढ़ रहे हैं और दादी जी पूजा कर रहे हैं।

Ans ✗ 1. दादी जी पूजा कर रहे है।

✗ 2. दादी जी पूजा कर रहा है।

✓ 3. दादी जी पूजा कर रही हैं।

✗ 4. दादी जी पूजा कर रही थे।

Question ID : 9895805949  
Chosen Option : --

Q.9 रिक्त स्थान को भरने के लिए उपयुक्त शब्द का चयन करें।

हम घूमने \_\_\_\_\_।

Ans ✗ 1. चाहेंगे

✗ 2. जाएँगे

✓ 3. गाएँगे

✗ 4. देखेंगे

Question ID : 9895805953  
Chosen Option : --

Comprehension:

निम्नलिखित गद्यांश के रिक्त स्थानों की पूर्ति गद्यांश के नीचे दिए गए प्रश्नों के अनुसार कीजिए -

आज के युवा कल के भविष्य हैं। देश की उन्नति का आधार युवा वर्ग को ही माना जाता है। युवाओं में इतना \_\_\_\_\_ (1) एवं शक्ति होती है कि वे किसी भी परेशानी का सामना कर सकते हैं। इनके जीने की अपनी एक अलग \_\_\_\_\_ (2) होती है। युवा वर्ग में हर समय कुछ नया करने का \_\_\_\_\_ (3) होता है। आज इन्हीं सब की देन है कि हमारी सेना दिन-प्रतिदिन \_\_\_\_\_ (4) होती जा रही है। परन्तु कई कारणों से युवाओं में पाश्चात्य संस्कृति का प्रभाव एवं आधुनिक रहन-सहन की धारणा उत्पन्न हो रही है, जिसके कारण वे अपने नैतिक \_\_\_\_\_ (5) की अवहेलना करने लगे हैं।

SubQuestion No : 10

Q.10 गद्यांश में संकेतित रिक्त स्थान (1) के लिए उपयुक्त शब्द होगा -

Ans ✗ 1. पानी

✓ 2. शांति

✗ 3. साहस

✗ 4. खुशी

Question ID : 9895805957  
Chosen Option : --

Comprehension:

निम्नलिखित गद्यांश के रिक्त स्थानों की पूर्ति गद्यांश के नीचे दिए गए प्रश्नों के अनुसार कीजिए -

आज के युवा कल के भविष्य हैं। देश की उन्नति का आधार युवा वर्ग को ही माना जाता है। युवाओं में इतना \_\_\_\_\_ (1) एवं शक्ति होती है कि वे किसी भी परेशानी का सामना कर सकते हैं। इनके जीने की अपनी एक अलग \_\_\_\_\_ (2) होती है। युवा वर्ग में हर समय कुछ नया करने का \_\_\_\_\_ (3) होता है। आज इन्हीं सब की देन है कि हमारी सेना दिन-प्रतिदिन \_\_\_\_\_ (4) होती जा रही है। परन्तु कई कारणों से युवाओं में पाश्चात्य संस्कृति का प्रभाव एवं आधुनिक रहन-सहन की धारणा उत्पन्न हो रही है, जिसके कारण वे अपने नैतिक \_\_\_\_\_ (5) की अवहेलना करने लगे हैं।

SubQuestion No : 11

Q.1  
1 गद्यांश में संकेतित रिक्त स्थान (2) के लिए उपयुक्त शब्द होगा -

- Ans
- 1. तरीका
  - 2. उत्साह
  - 3. शैली
  - 4. जिज्ञासा

Question ID : 9895805958  
Chosen Option : --

Comprehension:

निम्नलिखित गद्यांश के रिक्त स्थानों की पूर्ति गद्यांश के नीचे दिए गए प्रश्नों के अनुसार कीजिए -

आज के युवा कल के भविष्य हैं। देश की उन्नति का आधार युवा वर्ग को ही माना जाता है। युवाओं में इतना \_\_\_\_\_ (1) एवं शक्ति होती है कि वे किसी भी परेशानी का सामना कर सकते हैं। इनके जीने की अपनी एक अलग \_\_\_\_\_ (2) होती है। युवा वर्ग में हर समय कुछ नया करने का \_\_\_\_\_ (3) होता है। आज इन्हीं सब की देन है कि हमारी सेना दिन-प्रतिदिन \_\_\_\_\_ (4) होती जा रही है। परन्तु कई कारणों से युवाओं में पाश्चात्य संस्कृति का प्रभाव एवं आधुनिक रहन-सहन की धारणा उत्पन्न हो रही है, जिसके कारण वे अपने नैतिक \_\_\_\_\_ (5) की अवहेलना करने लगे हैं।

SubQuestion No : 12

Q.1  
2 गद्यांश में संकेतित रिक्त स्थान (3) के लिए उपयुक्त शब्द होगा -

- Ans
- 1. डर
  - 2. आदर

3. प्रेम  
 4. सपना

Question ID : 9895805959  
Chosen Option : --

Comprehension:

निम्नलिखित गद्यांश के रिक्त स्थानों की पूर्ति गद्यांश के नीचे दिए गए प्रश्नों के अनुसार कीजिए -

आज के युवा कल के भविष्य हैं। देश की उन्नति का आधार युवा वर्ग को ही माना जाता है। युवाओं में इतना \_\_\_\_\_ (1) एवं शक्ति होती है कि वे किसी भी परेशानी का सामना कर सकते हैं। इनके जीने की अपनी एक अलग \_\_\_\_\_ (2) होती है। युवा वर्ग में हर समय कुछ नया करने का \_\_\_\_\_ (3) होता है। आज इन्हीं सब की देन है कि हमारी सेना दिन-प्रतिदिन \_\_\_\_\_ (4) होती जा रही है। परन्तु कई कारणों से युवाओं में पाश्चात्य संस्कृति का प्रभाव एवं आधुनिक रहन-सहन की धारणा उत्पन्न हो रही है, जिसके कारण वे अपने नैतिक \_\_\_\_\_ (5) की अवहेलना करने लगे हैं।

SubQuestion No : 13

Q.1 गद्यांश में संकेतित रिक्त स्थान (4) के लिए उपयुक्त शब्द होगा -

- Ans  1. मजबूत  
 2. मलिन  
 3. दुर्बल  
 4. कमजोर

Question ID : 9895805960  
Chosen Option : --

Comprehension:

निम्नलिखित गद्यांश के रिक्त स्थानों की पूर्ति गद्यांश के नीचे दिए गए प्रश्नों के अनुसार कीजिए -

आज के युवा कल के भविष्य हैं। देश की उन्नति का आधार युवा वर्ग को ही माना जाता है। युवाओं में इतना \_\_\_\_\_ (1) एवं शक्ति होती है कि वे किसी भी परेशानी का सामना कर सकते हैं। इनके जीने की अपनी एक अलग \_\_\_\_\_ (2) होती है। युवा वर्ग में हर समय कुछ नया करने का \_\_\_\_\_ (3) होता है। आज इन्हीं सब की देन है कि हमारी सेना दिन-प्रतिदिन \_\_\_\_\_ (4) होती जा रही है। परन्तु कई कारणों से युवाओं में पाश्चात्य संस्कृति का प्रभाव एवं आधुनिक रहन-सहन की धारणा उत्पन्न हो रही है, जिसके कारण वे अपने नैतिक \_\_\_\_\_ (5) की अवहेलना करने लगे हैं।

SubQuestion No : 14

Q.1  
4 गद्यांश में संकेतित रिक्त स्थान (5) के लिए उपयुक्त शब्द होगा -

- Ans
- 1. फिल्मों
  - 2. गानों
  - 3. मूल्यों
  - 4. कीमतों

Question ID : 9895805961  
Chosen Option : --

Q.1  
5 दिए गए शब्द के पर्यायवाची शब्द का चयन करें।

पर्वत

- Ans
- 1. शैल
  - 2. पावन
  - 3. पवन
  - 4. भुजंग

Question ID : 9895805964  
Chosen Option : --

Q.1  
6 निम्नलिखित में से उस विकल्प का चयन करें जो 'पाँव जमीन पर न पड़ना' मुहावरे का अर्थ व्यक्त करता है।

- Ans
- 1. अत्यधिक खुश होना
  - 2. जमीन से ऊपर पाँव रखना
  - 3. आसमान में उड़ना
  - 4. कल्पना करना

Question ID : 9895805967  
Chosen Option : --

Q.1  
7 दिए गए शब्द का विलोम चुनें।

योग

- Ans
- 1. नीरोग
  - 2. आसन
  - 3. संयोग
  - 4. वियोग

Question ID : 9895805963  
Chosen Option : --

Q.1  
8 दिये गये वाक्यांश के लिए एक शब्द चुनिए।

बहुत तीव्र चलने वाला

Ans

- 1. द्रुतगामी
- 2. अल्पगामी
- 3. आगामी
- 4. प्रतिगामी

Question ID : 9895805969  
Chosen Option : --

Q.1 रिक्त स्थान को भरने के लिए उपयुक्त शब्द का चयन करें।

चिड़िया पेड़ \_\_\_\_\_ बैठी है।

Ans

- 1. भीतर
- 2. अंदर
- 3. पर
- 4. बाहर

Question ID : 9895805955  
Chosen Option : --

Q.2 रिक्त स्थान को भरने के लिए उपयुक्त शब्द का चयन करें।

अच्छे बालक \_\_\_\_\_ करते हैं।

Ans

- 1. गलिगलौज
- 2. पढाई
- 3. लड़ाई
- 4. चोरी

Question ID : 9895805954  
Chosen Option : --

Q.2 निम्नलिखित में से उस विकल्प का चयन करें जो 'पाँचों उँगलियों घी में होना' मुहावरे का अर्थ व्यक्त करता है।

Ans

- 1. हानि होना
- 2. सब प्रकार से लाभ ही लाभ
- 3. उँगलियाँ चाटना
- 4. उँगलियाँ घी में डालकर बैठना

Question ID : 9895805966  
Chosen Option : --

Q.2 दिए गए वाक्य का वह भाग ज्ञात करें जिसमें कोई त्रुटि है।

सौरभ अपनी नाक का ऊपर मक्खी भी नहीं बैठने देता।

Ans

- 1. मक्खी भी
- 2. नहीं बैठने देता।

3. नाक का ऊपर

4. सौरभ अपनी

Question ID : 9895805947

Chosen Option : --

Q.2  
3 दिए गए वाक्य में रेखांकित खंड को प्रतिस्थापित करने के लिए उपयुक्त विकल्प का चयन करें।

हम जैसे बीज बोते हैं ऐसे ही पेड़ और फल होते हैं।

Ans

1. जैसे ही पेड़ और फल

2. वैसे ही पेड़ और फल

3. वैसा ही पेड़ और फल

4. उतना ही पेड़ और फल

Question ID : 9895805951

Chosen Option : --

Q.2  
4 रिक्त स्थान को भरने के लिए उपयुक्त शब्द का चयन करें।

वह आलमारी \_\_\_\_\_ की बनी है।

Ans

1. लोहे

2. मिट्टी

3. कपडा

4. रंग

Question ID : 9895805952

Chosen Option : --

Q.2  
5 दिए गए वाक्य का वह भाग ज्ञात करें जिसमें कोई त्रुटि है।

विकास वाहक उपकरणों ने उनके प्रकार का समस्याएँ उत्पन्न कर दी हैं।

Ans

1. विकास वाहक उपकरणों ने

2. उत्पन्न कर दी हैं।

3. उनके प्रकार

4. का समस्याएँ

Question ID : 9895805946

Chosen Option : --