

Constable (GD) in CAPFs, NIA, SSF and Rifleman (GD) in Assam Rifles Examination, 2018

Roll No. :	www.GovtJobsAlert.In
Registration No.	
Name :	
Exam Venue :	ION Digital Zone iDZ Kannur
Exam Time :	12:30 PM - 2:00 PM
Exam Date :	11/03/2019

Section : General Section

Q.1 In a certain code, EMTWX is coded as XWTME, then how is PYSCI coded in the same way?

- Ans
- 1. CIPSY
 - 2. CYSIP
 - 3. CISPY
 - 4. ICSYP

Question ID : 9895809354

Chosen Option : 4

Q.2 Four letter clusters have been given, out of which three are alike in some manner, while one is different. Choose the odd one.

- Ans
- 1. GAT
 - 2. DAT
 - 3. EAV
 - 4. WAD

Question ID : 9895809349

Chosen Option : 3

Q.3 Priti scored more than Rahul. Yamuna scored as much as Divya. Lokita scored less than Manju. Rahul scored more than Yamuna. Manju scored less than Divya. Who scored the lowest?

- Ans
- 1. Lokita
 - 2. Rahul
 - 3. Manju
 - 4. Yamuna

Question ID : 9895809358

Chosen Option : 1

Q.4 Select the related word pair from the given alternatives.

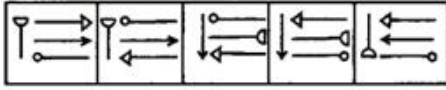
Holi : Colours :: _____ : _____

- Ans
- 1. Diwali : Light
 - 2. Muharram : Muslim
 - 3. Hemis : Folk
 - 4. Lodhi : Punjabi

Question ID : 9895809351
Chosen Option : 2

Q.5 Choose the option which completes the given figure series.

PROBLEM FIGURES



Ans

- 1.
- 2.
- 3.
- 4.

Question ID : 9895809367
Chosen Option : 2

Q.6 In a hall there are seven children (including girls and boys) P, Q, R, S, T, U and V. They sit on three benches I, II and III. Such that at least two children on each bench and at least one girl on each bench. R who is a girl child, does not sit with P, T and S. U the boy child sit with only Q. P sits on the bench I with his best friends. V sits on the bench III. T is the brother of R.

Who sits with R?

Ans

- 1. S
- 2. U
- 3. Q
- 4. V

Question ID : 9895809356
Chosen Option : 4

Q.7 Find the missing term.

119, 109, 89, 59, _____

Ans

- 1. 19
- 2. 39
- 3. 49
- 4. 29

Question ID : 9895809362
Chosen Option : 1

Q.8 Choose the option that most closely resembles the mirror image of the given figure when mirror is placed at right side.


Question figure:



Ans

1. 

2. 

3. 

4. 

Question ID : 9895809370
Chosen Option : 2

Q.9 Six persons A, B, C, D, E and F are sitting in two rows, three in each.

E is not at the end of any row.

D is second to the left of F.

C, the neighbour of E is sitting diagonally opposite to D.

B is the neighbour of F.

Who is facing B?

Ans

1. A

2. E

3. D

4. C

Question ID : 9895809357
Chosen Option : 1

Q.1 Four options have been given out of which three are alike in some manner, while one is different. Choose the odd one.

0

Ans

1. 135

2. 54

3. 72

4. 83

Question ID : 9895809364
Chosen Option : 1

Q.1 The statements below are followed by two conclusions labeled I and II. Assuming that the information in the statements is true, even if it appears to be at variance with generally established facts, decide which conclusion(s) logically and definitely follow(s) from the information given in the statements.

Statements:

All flowers are fruits.

All fruits are Plants.

Conclusions:

I. All Plants are flowers.

II. Some fruits are flowers.

Ans

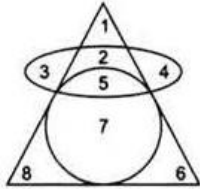
1. Both Conclusions I and II follow.

2. Only Conclusion I follows.

- 3. Only Conclusion II follows.
- 4. Either Conclusion I or II follows.

Question ID : 9895809360
Chosen Option : 4

Q.1 Which number is common to all the geometrical figures in the diagram below?
2



- Ans
- 1. 7
 - 2. 4
 - 3. 2
 - 4. 5

Question ID : 9895809372
Chosen Option : 4

Q.1 Find the missing number from the below options.
3

12	16	18
24	32	?
36	48	54

- Ans
- 1. 28
 - 2. 36
 - 3. 48
 - 4. 64

Question ID : 9895809365
Chosen Option : 2

Q.1 A figure marked on transparent sheet is given and followed by four answer figures, one out of these four options resembles the figure, which is obtained by folding transparent sheet along the dotted line. This option is your answer.

Question figure:



- Ans
- 1.
 - 2.
 - 3.
 - 4.

Question ID : 9895809371

Chosen Option : 2

Q.1 ₅ In the following question, select the related number from the given alternatives.

47 : 15 :: ? : 19

- Ans
- 1. 57
 - 2. 36
 - 3. 40
 - 4. 59

Question ID : 9895809363
Chosen Option : 1

Q.1 ₆ Select the correct option that will fill in the blank and complete the series.

AEI, EIO, IOU, _____

- Ans
- 1. OAU
 - 2. OUA
 - 3. IOA
 - 4. MIL

Question ID : 9895809348
Chosen Option : 2

Q.1 ₇ Select the option that is related to the third term in the same way as the second term is related to the first term.

AE : IM :: HL : ?

- Ans
- 1. PT
 - 2. TP
 - 3. DS
 - 4. FU

Question ID : 9895809353
Chosen Option : 1

Q.1 ₈ If '+' means '-', '-' means '×', '×' means '÷' and '÷' means '+', then:

$43 - 2 \times 2 + 8 = ?$

- Ans
- 1. 42
 - 2. 35
 - 3. 25
 - 4. 40

Question ID : 9895809366
Chosen Option : 2

Q.1 ₉ Four words have been given, out of which three are alike in some manner, while one is different. Choose the odd one.

- Ans
- 1. Chennai
 - 2. Mumbai
 - 3. Dispur

✓ 4. Jharkhand

Question ID : 9895809350
Chosen Option : 4

Q.2
0 In a certain code, GYM is coded as 2275, then how is KIT coded in the same way?

- Ans
- ✓ 1. 1980
 - ✗ 2. 1950
 - ✗ 3. 1970
 - ✗ 4. 1960

Question ID : 9895809355
Chosen Option : 1

Q.2
1 Select the correct option that will fill in the blank and complete the series.

43, 55, 79, 115, _____

- Ans
- ✓ 1. 163
 - ✗ 2. 127
 - ✗ 3. 172
 - ✗ 4. 139

Question ID : 9895809361
Chosen Option : 1

Q.2
2 Select the related word pair from the given alternatives.

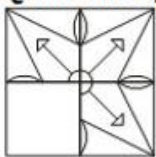
Andhra Pradesh : Telugu :: _____

- Ans
- ✗ 1. Goa : Hindi
 - ✗ 2. Assam : Maithili
 - ✗ 3. Tripura : Telugu
 - ✓ 4. Kerala : Malayalam

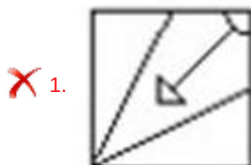
Question ID : 9895809352
Chosen Option : 4

Q.2
3 Which of the following answer figure will complete the given figure?

Question figure:



Ans



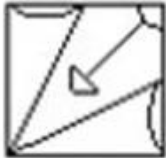
2.



3.



4.



Question ID : 9895809368
Chosen Option : 4

Q.2 The statements below are followed by two conclusions labeled I and II. Assuming that the information in the statements is true, even if it appears to be at variance with generally established facts, decide which conclusion(s) logically and definitely follow(s) from the information given in the statements.

Statements:

Some potatos are tomatos.
All tomatos are onions.

Conclusions:

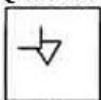
I. Some tomatos are potato.
II. All onions are potato.

- Ans 1. Either Conclusion I or II follows.
 2. Only Conclusion I follows.
 3. Only Conclusion II follows.
 4. Both Conclusions I and II follow.

Question ID : 9895809359
Chosen Option : 1

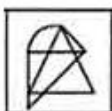
Q.2 Choose the option figure in which the problem figure is hidden/embedded.

Question Figure:

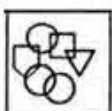


Ans

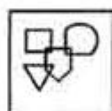
1.

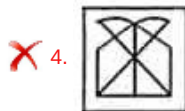


2.



3.





Question ID : 9895809369
Chosen Option : 2

Q.2
6 A satyagrahi could win the battle with non-violence by:

- Ans
- ✘ 1. Appealing to the common people of the oppressors
 - ✘ 2. Appealing to the charity of the oppressors
 - ✔ 3. Appealing to the conscience of the oppressors
 - ✘ 4. Appealing to the leaders of the oppressors

Question ID : 9895809546
Chosen Option : 4

Q.2
7 The _____ system of Government divides the legislature into two separate assemblies, chambers or houses.

- Ans
- ✘ 1. Unicameral
 - ✔ 2. Bicameral
 - ✘ 3. Quadracameral
 - ✘ 4. Tricameral

Question ID : 9895809536
Chosen Option : 2

Q.2
8 Jiziya Tax, during the Mughal Empire was a tax levied on:

- Ans
- ✘ 1. Muslim citizens
 - ✘ 2. All the citizens
 - ✘ 3. Noble citizens
 - ✔ 4. Non-Muslim citizens

Question ID : 9895809533
Chosen Option : 1

Q.2
9 In the 2018 Australian Open, _____ was the winner in the Women's singles event.

- Ans
- ✔ 1. Caroline Wozniacki
 - ✘ 2. Martina Hingis
 - ✘ 3. Serena Williams
 - ✘ 4. Venus Williams

Question ID : 9895809527
Chosen Option : 2

Q.3
0 The 2017 Sahitya Academy award for Gujarati was won by:

- Ans
- ✘ 1. Ramesh Megh
 - ✘ 2. Himanshu Patel
 - ✔ 3. Urmi Desai

4. David Shah

Question ID : 9895809528
Chosen Option : 1

Q.3
1 All the things we use or consume, except _____ are obtained from resources on this earth.

- Ans
- 1. energy from water
 - 2. energy from wind
 - 3. energy from friction
 - 4. energy from the sun

Question ID : 9895809544
Chosen Option : 3

Q.3
2 During the first world war (1914-1918):

- Ans
- 1. Prices went down
 - 2. Prices increased by less than 10%
 - 3. Prices remained unchanged
 - 4. Prices almost doubled

Question ID : 9895809545
Chosen Option : 3

Q.3
3 Bitter tasting food is _____ in nature.

- Ans
- 1. Alkaline
 - 2. Acidic
 - 3. Neutral
 - 4. Bases

Question ID : 9895809539
Chosen Option : 4

Q.3
4 Democracy is considered to be better than dictatorship as it:

- Ans
- 1. Allows special provisions for mistakes
 - 2. Enhances the dignity of people
 - 3. Reduces equality among citizens
 - 4. Encourages conflicts among people

Question ID : 9895809534
Chosen Option : 4

Q.3
5 The first Indian Prime Minister to have been assassinated is:

- Ans
- 1. Indira Gandhi
 - 2. Morarji Desai
 - 3. Lal Bahadur Shastri
 - 4. Jawaharlal Nehru

Question ID : 9895809530
Chosen Option : 4

Q.3
6 Which of the following destroys ozone?

- Ans
- 1. Sulphur
 - 2. Carbon
 - 3. Chlorine
 - 4. Silicon

Question ID : 9895809538
Chosen Option : 2

Q.3
7 Consumers have a right to seek _____ against unfair trade practices and exploitation.

- Ans
- 1. Penalty
 - 2. Sympathy
 - 3. Injury
 - 4. Redressal

Question ID : 9895809532
Chosen Option : 1

Q.3
8 Sugam Tax is related to:

- Ans
- 1. Income Tax
 - 2. Custom Duty
 - 3. Excise Duty
 - 4. Commercial Tax

Question ID : 9895809531
Chosen Option : 4

Q.3
9 Substances said to be biodegradable:

- Ans
- 1. Can be broken down by physical process
 - 2. Can be broken down by chemical process
 - 3. Can be broken down by biological processes
 - 4. Cannot be broken down at all

Question ID : 9895809543
Chosen Option : 2

Q.4
0 The Kulik bird sanctuary is located in:

- Ans
- 1. West Bengal
 - 2. Uttar Pradesh
 - 3. Kerala
 - 4. Madhya Pradesh

Question ID : 9895809525
Chosen Option : 1

Q.4
1 In the 2016 Olympics, _____ won the gold in women's 100-metres sprint.

- Ans
- 1. Elaine Thompson
 - 2. Shelly-Ann Fraser-Pryce
 - 3. Gail Devers
 - 4. Wyomia Tyus

Question ID : 9895809526
Chosen Option : 3

Q.4
2 The 'Ranappa' dance is from the state of:

- Ans
- 1. Odisha
 - 2. Tamil Nadu
 - 3. Kerala
 - 4. Punjab

Question ID : 9895809523
Chosen Option : 2

Q.4
3 Dumhal is a form of dance from the state of:

- Ans
- 1. Gujarat
 - 2. Kerala
 - 3. West Bengal
 - 4. Jammu and Kashmir

Question ID : 9895809524
Chosen Option : 3

Q.4
4 The first Bharat Ratna award of independent India was given to:

- Ans
- 1. C.N.R Rao
 - 2. Jawaharlal Nehru
 - 3. C.V Raman
 - 4. Sardar Patel

Question ID : 9895809529
Chosen Option : 4

Q.4
5 Green algae are green because of:

- Ans
- 1. phycoerythrin
 - 2. chlorophyll
 - 3. xanthophylls
 - 4. phycobilin

Question ID : 9895809537
Chosen Option : 1

Q.4
6 Who amongst the following is the Minister for Rural Development in India as on Feb 2019?

- Ans 1. Narendra Singh Tomar
 2. Anant Geete
 3. Dharmendra Pradhan
 4. Santosh Kumar Gangwar

Question ID : 9895809535
Chosen Option : 1

Q.4
7 The Southernmost port in India is located in the state of:

- Ans 1. Andhra Pradesh
 2. Tamil Nadu
 3. Kerala
 4. Telangana

Question ID : 9895809542
Chosen Option : 3

Q.4
8 The human sex chromosomes determine the gender of the child, with XX being:

- Ans 1. Transgender
 2. Female
 3. Could be either female or male
 4. Male

Question ID : 9895809540
Chosen Option : 4

Q.4
9 Harappa and _____ were the two ancient, excavated cities that were part of the Indus Valley Civilization.

- Ans 1. Varanasi
 2. Hastinapura
 3. Surat
 4. Mohenjo-Daro

Question ID : 9895809547
Chosen Option : 3

Q.5
0 An instrument called _____ measures 'electric potential difference' in a circuit.

- Ans 1. Gyroscope
 2. Ohmmeter
 3. Voltmeter
 4. Thermometer

Question ID : 9895809541
Chosen Option : 3

Q.5
1 A solid metallic sphere of radius 4 cm is melted and recast into '4' identical cubes. What is the side of the cube?

- Ans 1. $7^3 \sqrt{\frac{\pi}{3}} cm$

2. $5^3 \sqrt{\frac{\pi}{3}} \text{ cm}$

3. $6^3 \sqrt{\frac{\pi}{3}} \text{ cm}$

4. $4^3 \sqrt{\frac{\pi}{3}} \text{ cm}$

Question ID : 9895809713

Chosen Option : 4

Q.5 The bar graph shows the number of cycles sold by a distributor in each month from January to June. What is the increase in the number of cycles sold in April as compared to March?



Ans 1. 75%

2. 78%

3. 68%

4. 70%

Question ID : 9895809721

Chosen Option : 2

Q.5 The ratio between the perimeter and the breadth of a rectangle is 3 : 1. If the area of the rectangle is 310 sq. cm, the length of the rectangle is nearly:

Ans 1. 11.45 cm

2. 10.45 cm

3. 12.45 cm

4. 13.45 cm

Question ID : 9895809714

Chosen Option : 3

Q.5 The volume of a solid sphere is 4851 m^3 . What is the surface area of the sphere? (Take $\pi = \frac{22}{7}$)

Ans 1. 1386 m^2

2. 1364 m^2

3. 1260 m^2

4. 1408 m^2

Question ID : 9895809715

Chosen Option : 1

Q.5 Find the value of:

$$(7 \times 6 + 5 - 15) \div 4 + 6 \div 3 - 4 + 18 \div 3$$

Ans 1. 12

2. 14

3. 16

4. 18

Question ID : 9895809701
Chosen Option : 1

Q.5
6 What is the reciprocal ratio of 4 : 5 : 8 ?

- Ans
- 1. 8 : 5 : 4
 - 2. 5 : 4 : 3
 - 3. 3 : 4 : 5
 - 4. 10 : 8 : 5

Question ID : 9895809711
Chosen Option : 1

Q.5
7 The list price of an article is ₹ 80. A customer pays ₹ 30 for it. He was given 2 successive discounts, one of them being 50%. What was the other discount?

- Ans
- 1. 20%
 - 2. 12.50%
 - 3. 30%
 - 4. 25%

Question ID : 9895809703
Chosen Option : 2

Q.5
8 X, Y and Z can complete a piece of work in 8, 20 and 25 days respectively. Working together, they will complete the same work in:

- Ans
- 1. $\frac{180}{43}$ days
 - 2. $\frac{162}{43}$ days
 - 3. $\frac{200}{43}$ days
 - 4. $\frac{172}{43}$ days

Question ID : 9895809717
Chosen Option : 1

Q.5
9 A grocer has a sale of ₹ 3,425, ₹ 3,810, ₹ 3,155 and ₹ 3,610 in 4 consecutive days. How much sale should he have in the 5th day so as to get an average sale of ₹ 3,500?

- Ans
- 1. ₹ 3,500
 - 2. ₹ 3,435
 - 3. ₹ 3,480
 - 4. ₹ 3,455

Question ID : 9895809698
Chosen Option : 3

Q.6
0 A car owner buys petrol at ₹ 40, ₹ 50 and ₹ 60 per litre for 3 consecutive years. If he spends ₹ 30,000 each year, what is the average cost of a litre of petrol? (correct to two decimal places)

- Ans
- 1. ₹ 48.65
 - 2. ₹ 51.20
 - 3. ₹ 49.20
 - 4. ₹ 50

Question ID : 9895809699
Chosen Option : 4

Q.6 P works twice as fast as Q. If Q can complete a task in 36 days independently, the number of days in which P and Q can together complete the task in:

- 1**
- Ans 1. 12 days
 2. 9 days
 3. 16 days
 4. 18 days

Question ID : 9895809716
Chosen Option : 1

Q.6 A train passes a platform in 42 seconds and a man standing on the platform in 25 seconds. If the speed of the train is 72 km/hr, what is the length of the platform?

- 2**
- Ans 1. 300 m
 2. 270 m
 3. 340 m
 4. 370 m

Question ID : 9895809718
Chosen Option : 1

Q.6 What is the greatest 3-digit number divisible by 4, 5 and 6?

- 3**
- Ans 1. 990
 2. 930
 3. 960
 4. 900

Question ID : 9895809705
Chosen Option : 3

Q.6 If a equals 20% of c and b equals 40% of c, then which one of the following is 150% of b?

- 4**
- Ans 1. 50% of c
 2. 250% of a
 3. 65% of c
 4. 300% of a

Question ID : 9895809706
Chosen Option : 4

Q.6 Two numbers A and B are respectively 80% and 50% more than the third number C. What is the ratio of A and B?

- 5**
- Ans 1. 6 : 5
 2. 5 : 6
 3. 8 : 5
 4. 5 : 8

Question ID : 9895809710
Chosen Option : 3

Q.6

6 A cloth piece was purchased for ₹ 700. At what price should it be sold to get a profit of 12.5% after a tailoring charge of ₹ 20 was paid for?

- Ans
- 1. ₹ 760
 - 2. ₹ 810
 - 3. ₹ 785
 - 4. ₹ 840

Question ID : 9895809707
Chosen Option : 1

Q.6
7 The length of the bridge, which a train 400 metres long and travelling at 60 km/hr can cross in 36 seconds, is:

- Ans
- 1. 450 m
 - 2. 250 m
 - 3. 200 m
 - 4. 500 m

Question ID : 9895809719
Chosen Option : 1

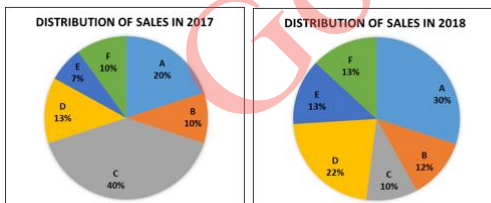
Q.6
8 Find the value of:

$$(11 + 4) - 9 \times 1 \div 3 \text{ of } 4$$

- Ans
- 1. $\frac{75}{4}$
 - 2. $\frac{57}{4}$
 - 3. 5
 - 4. 3

Question ID : 9895809700
Chosen Option : 3

Q.6
9 The pie charts show the market share of the companies in the detergent market in 2017 and 2018. The total size of the market has decreased from ₹ 300 crores to ₹ 200 crores. What is the decrease in the sales of Company F?

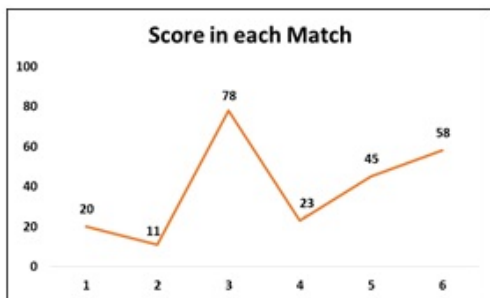


- Ans
- 1. $14\frac{1}{3}\%$
 - 2. $12\frac{1}{3}\%$
 - 3. $33\frac{1}{3}\%$
 - 4. $13\frac{1}{3}\%$

Question ID : 9895809722
Chosen Option : 4

Q.7
0

The line graph shows the scores of a batsman in 6 consecutive matches. What is his batting average in the 6 matches?



- Ans
- 1. 37.19
 - 2. 38.33
 - 3. 38.17
 - 4. 39.17

Question ID : 9895809720
Chosen Option : 2

Q.7 If the selling price is tripled, the profit becomes 5 times. What is the profit percent?

- 1
- Ans
- 1. 100%
 - 2. 200%
 - 3. 50%
 - 4. 150%

Question ID : 9895809708
Chosen Option : 3

Q.7 A sum fetched a total simple interest of ₹ 1,350 at 9% p.a. in 5 years. What is the sum?

- 2
- Ans
- 1. ₹ 2,000
 - 2. ₹ 3,300
 - 3. ₹ 2,500
 - 4. ₹ 3,000

Question ID : 9895809712
Chosen Option : 2

Q.7 What is the value of x if the mean of 21, 26, 49 and x is 32?

- 3
- Ans
- 1. 30
 - 2. 36
 - 3. 32
 - 4. 34

Question ID : 9895809704
Chosen Option : 3

Q.7 If 15 apples cost as much as 6 strawberries, 2 strawberries cost as much as 16 bananas, 6 bananas cost as much as 15 potatoes, then what is the cost of 1 potato if an apple costs ₹ 20?

- 4
- Ans
- 1. ₹ 25
 - 2. ₹ 22.50

3. ₹ 2.50

4. ₹ 2.25

Question ID : 9895809709

Chosen Option : 3

Q.7 A sum of ₹ 1,000 becomes ₹ 1,144.90 in 2 years. At what rate is the interest is compounded annually?

5

Ans 1. 7%

2. 5%

3. 8%

4. 6%

Question ID : 9895809702

Chosen Option : 1

Section : English Language

Q.1 Select the synonym of the given word.

COMPASSION

Ans 1. Indifference

2. Heartlessness

3. Cruelty

4. Pity

Question ID : 9895809893

Chosen Option : 3

Q.2 Select the wrongly spelt word.

Ans 1. Believe

2. Conscience

3. Irresistable

4. Apparent

Question ID : 9895809901

Chosen Option : 1

Q.3 Identify the segment in the sentence which contains the grammatical error from the given options.

Thunderstorms develop in hot, humid tropical areas like India much to frequently.

Ans 1. tropical areas

2. frequently

3. Thunderstorms develop

4. much to

Question ID : 9895809878

Chosen Option : 1

Q.4

Select the word which means the same as the group of words given.

Intentionally starting a fire to damage something

- Ans
- 1. Extinguish
 - 2. Arson
 - 3. Crime
 - 4. Loot

Question ID : 9895809898
Chosen Option : 1

Q.5 Identify the segment in the sentence which contains the grammatical error from the given options.

The earthy fragrance of soil after a first rain is always refreshing.

- Ans
- 1. always refreshing
 - 2. The earthy
 - 3. a first rain
 - 4. fragrance of

Question ID : 9895809880
Chosen Option : 2

Q.6 Select the most appropriate word to fill in the blank.

India gets a large number of medical tourists and visitors _____ many countries.

- Ans
- 1. through
 - 2. by
 - 3. from
 - 4. across

Question ID : 9895809885
Chosen Option : 3

Q.7 Select the most appropriate option to substitute the underlined segment in the given sentence. If there is no need to substitute it, select No substitution required.

In vigorous exercise, the demand for bodily energy is very high.

- Ans
- 1. In vigorously exercise
 - 2. No substitution required
 - 3. While vigorous exercise
 - 4. During vigorous exercise

Question ID : 9895809883
Chosen Option : 1

Q.8 Select the most appropriate word to fill in the blank.

Unlike the calm waters of lakes, ocean water keeps moving _____.

- Ans
- 1. continuous
 - 2. continuously

- 3. continue
- 4. continuing

Question ID : 9895809884
Chosen Option : 1

Q.9 Select the wrongly spelt word.

- Ans
- 1. leisure
 - 2. Independant
 - 3. Judgment
 - 4. license

Question ID : 9895809900
Chosen Option : 4

Q.1
0 Select the most appropriate word to fill in the blank.

After reaching New York, Prakash will have to _____ himself to the new surroundings.

- Ans
- 1. develop
 - 2. mix
 - 3. submit
 - 4. adapt

Question ID : 9895809903
Chosen Option : 3

Q.1
1 Select the meaning of the given idiom.

Bite off more than one can chew

- Ans
- 1. To have an upset stomach
 - 2. To be always hungry
 - 3. To take more than one can deal with
 - 4. To attack fiercely

Question ID : 9895809896
Chosen Option : 4

Q.1
2 Select the most appropriate word to fill in the blank.

The authorities have _____ into this incident.

- Ans
- 1. examined
 - 2. evaluated
 - 3. tested
 - 4. probed

Question ID : 9895809902
Chosen Option : 2

Q.1

3 Select the most appropriate option to substitute the underlined segment in the given sentence. If there is no need to substitute it, select No substitution required.

The food is broke down into useful substances that can be absorbed by the body.

- Ans
- 1. is broken down
 - 2. break down
 - 3. is breaking down
 - 4. No substitution required

Question ID : 9895809882
Chosen Option : 2

Q.1
4 Select the antonym of the given word.

AGONY

- Ans
- 1. Suffering
 - 2. Affliction
 - 3. Pleasure
 - 4. Pain

Question ID : 9895809894
Chosen Option : 1

Q.1
5 Select the most appropriate option to substitute the underlined segment in the given sentence. If there is no need to substitute it, select No substitution required.

Yesterday, Maria was eagerly waited to meet her grandparents.

- Ans
- 1. No substitution required
 - 2. was eagerly waited
 - 3. eagerly wait
 - 4. was eagerly waiting

Question ID : 9895809881
Chosen Option : 4

Q.1
6 Identify the segment in the sentence which contains the grammatical error from the given options.

Continuous heavy rainfall may farther worsen the flood situation.

- Ans
- 1. rainfall may
 - 2. Continuous
 - 3. farther
 - 4. flood situation

Question ID : 9895809879
Chosen Option : 3

Q.1
7 Select the word which means the same as the group of words given.

A person employed to drive a private or hired car

- Ans
- 1. Chauffeur
 - 2. Astronaut
 - 3. Sailor

4. Pilot

Question ID : 9895809899
Chosen Option : 4

Comprehension:

In the following passage some words have been deleted. Fill in the blanks with the help of the alternatives given. Select the most appropriate option for each number.

Settlements are (1) _____ where people build their homes. (2) _____ human beings lived on trees and (3) _____ caves. When they started (4) _____ crops it became (5) _____ to have a permanent home.

SubQuestion No : 18

Q.1
8 Select the most appropriate option that will fill in the blank number 1

- Ans
- 1. quarters
 - 2. sections
 - 3. passages
 - 4. places

Question ID : 9895809887
Chosen Option : 4

Comprehension:

In the following passage some words have been deleted. Fill in the blanks with the help of the alternatives given. Select the most appropriate option for each number.

Settlements are (1) _____ where people build their homes. (2) _____ human beings lived on trees and (3) _____ caves. When they started (4) _____ crops it became (5) _____ to have a permanent home.

SubQuestion No : 19

Q.1
9 Select the most appropriate option that will fill in the blank number 2

- Ans
- 1. Prior
 - 2. Previous
 - 3. Early
 - 4. Initial

Question ID : 9895809888
Chosen Option : 2

Comprehension:

In the following passage some words have been deleted. Fill in the blanks with the help of the alternatives given. Select the most appropriate option for each number.

Settlements are (1) _____ where people build their homes. (2) _____ human beings lived on trees and (3) _____ caves. When they started (4) _____ crops it became (5) _____ to have a permanent home.

SubQuestion No : 20

Q.2
0 Select the most appropriate option that will fill in the blank number 3

- Ans
- 1. around
 - 2. on
 - 3. at
 - 4. in

Question ID : 9895809889
Chosen Option : 2

Comprehension:

In the following passage some words have been deleted. Fill in the blanks with the help of the alternatives given. Select the most appropriate option for each number.

Settlements are (1) _____ where people build their homes. (2) _____ human beings lived on trees and (3) _____ caves. When they started (4) _____ crops it became (5) _____ to have a permanent home.

SubQuestion No : 21

Q.2
1 Select the most appropriate option that will fill in the blank number 4

- Ans
- 1. growing
 - 2. grows
 - 3. grown
 - 4. grow

Question ID : 9895809890
Chosen Option : 1

Comprehension:

In the following passage some words have been deleted. Fill in the blanks with the help of the alternatives given. Select the most appropriate option for each number.

Settlements are (1) _____ where people build their homes. (2) _____ human beings lived on trees and (3) _____ caves. When they started (4) _____ crops it became (5) _____ to have a permanent home.

SubQuestion No : 22

Q.2
2 Select the most appropriate option that will fill in the blank number 5

- Ans
- 1. needed
 - 2. required
 - 3. necessary
 - 4. requirement

Question ID : 9895809891
Chosen Option : 1

Q.2
3 Select the synonym of the given word.

GRATIFICATION

- Ans
- 1. Dissatisfaction
 - 2. Satisfaction

3. Complaint

4. Annoyance

Question ID : 9895809892

Chosen Option : 1

Q.2
4 Select the antonym of the given word.

AGREEMENT

Ans 1. Discord

2. Accord

3. Consensus

4. Harmony

Question ID : 9895809895

Chosen Option : 1

Q.2
5 Select the meaning of the given idiom.

Under the gun

Ans 1. To be cruel

2. To be brave

3. To be killed

4. To be under pressure

Question ID : 9895809897

Chosen Option : 3

Section : Hindi Language

Q.1 'अनुवाद' का पर्यायवाची शब्द है -

Ans 1. विवाद

2. प्रतिलिपि

3. अनुकृति

4. भाषान्तर

Question ID : 98958010027

Chosen Option : --

Q.2 दिए गए वाक्य में रेखांकित खंड को प्रतिस्थापित करने के लिए उपयुक्त विकल्प का चयन करें।

कुछ लोग मुहूर्त देख कर घर में प्रवेश करते हैं ।

Ans 1. गृहयज्ञ

2. गृहागत

3. गृहपति

4. गृहप्रवेश

Question ID : 98958010013
Chosen Option : --

Q.3 'टका सा जवाब देना' मुहावरे का सही अर्थ है -

- Ans
- 1. साफ इनकार करना
 - 2. संकट में पड़ना
 - 3. बुरा भला कहना
 - 4. अति क्रुद्ध होना

Question ID : 98958010029
Chosen Option : --

Q.4 सही वर्तनी वाले शब्द का चयन करें।

- Ans
- 1. ओशधि
 - 2. ओसधि
 - 3. औषधि
 - 4. अवसधी

Question ID : 98958010033
Chosen Option : --

Q.5 रिक्त स्थान को भरने के लिए उपयुक्त शब्द का चयन करें।

युवकों को _____ बनाना शिक्षा का मुख्य उद्देश्य है।

- Ans
- 1. भ्रांत
 - 2. स्वावलम्बी
 - 3. परावलम्बी
 - 4. मतावलम्बी

Question ID : 98958010017
Chosen Option : --

Q.6 दिए गए वाक्य में रेखांकित खंड को प्रतिस्थापित करने के लिए उपयुक्त विकल्प का चयन करें।

जीवन में प्रफुल्लित रहना सीखो।

- Ans
- 1. परिमित
 - 2. उत्तेजित
 - 3. प्रतिबन्धित
 - 4. हर्षित

Question ID : 98958010012
Chosen Option : --

Q.7 सही वर्तनी वाले शब्द का चयन करें।

Ans

- 1. शब्दांश
- 2. सबदांश
- 3. शब्दांस
- 4. सब्दांश

Question ID : 98958010032
Chosen Option : --

Q.8 'बद्ध' शब्द का विलोम शब्द है-

- Ans
- 1. बंधन
 - 2. मोक्ष
 - 3. प्रतिबंध
 - 4. मुक्त

Question ID : 98958010024
Chosen Option : --

Q.9 दिए गए वाक्य का वह भाग जात करें जिसमें कोई त्रुटि है।

जिस नगर में एक सेठ रहता था, उसी नगर में अनेकों गरीब किसान भी रहते थे।

- Ans
- 1. अनेकों गरीब किसान भी रहते थे।
 - 2. उसी नगर में
 - 3. एक सेठ रहता था,
 - 4. जिस नगर में

Question ID : 98958010008
Chosen Option : --

Q.1
0 रिक्त स्थान को भरने के लिए उपयुक्त शब्द का चयन करें।

संक्षेपण में शब्दों के प्रयोग में _____ से काम लेना चाहिए।

- Ans
- 1. अविवेक
 - 2. क्रोध
 - 3. तीव्रता
 - 4. संयम

Question ID : 98958010015
Chosen Option : --

Q.1
1 'सरस्वती' का पर्यावाची शब्द है।

- Ans
- 1. रमणी
 - 2. वागीश्वरी
 - 3. ललना

4. कामिनी

Question ID : 98958010026

Chosen Option : --

Comprehension:

निम्नलिखित गद्यांश के रिक्त स्थानों की पूर्ति गद्यांश के नीचे दिए गए प्रश्नों के अनुसार कीजिए-

आप लोगों ने कभी शुद्ध हृदय से इस पर विचार किया है कि माता, मातृभूमि और _____ (1) का आप पर कुछ ऋण भी है या नहीं? एक जननी आपको जन्म देती है, एक की गोद में खेल-कूदकर और खा-पीकर आप पुष्ट होते हैं और एक आपको अपने भावों को प्रकट करने की _____ (2) दे, आपके सांसारिक जीवन को सुखमय बनाती है। जिसका आप पर इतना उपकार है, उसके लिए कुछ करना क्या आपका परम कर्तव्य नहीं है? प्यारे भाइयो! उठो आलस्य छोड़ो, कमर कसो और अपनी मातृभाषा की सेवा में तत्पर हो जाओ, अपने को _____ (3) से मुक्त करो। संसार में _____ (4) कहलाओ और मातृसेवकों में अपनी कीर्ति छोड़ जाओ। परंतु ध्यान रहे, यह व्रत साधारण नहीं है। इस व्रत का पालन करना _____ (5) की धार पर चलने के समान है।

SubQuestion No : 12

Q.1
2 गद्यांश में संकेतित रिक्त स्थान (1) के लिए उपयुक्त शब्द होगा।

- Ans
- 1. मातृभाषा
 - 2. राष्ट्रभाषा
 - 3. राजभाषा
 - 4. संचार भाषा

Question ID : 98958010019

Chosen Option : --

Comprehension:

निम्नलिखित गद्यांश के रिक्त स्थानों की पूर्ति गद्यांश के नीचे दिए गए प्रश्नों के अनुसार कीजिए-

आप लोगों ने कभी शुद्ध हृदय से इस पर विचार किया है कि माता, मातृभूमि और _____ (1) का आप पर कुछ ऋण भी है या नहीं? एक जननी आपको जन्म देती है, एक की गोद में खेल-कूदकर और खा-पीकर आप पुष्ट होते हैं और एक आपको अपने भावों को प्रकट करने की _____ (2) दे, आपके सांसारिक जीवन को सुखमय बनाती है। जिसका आप पर इतना उपकार है, उसके लिए कुछ करना क्या आपका परम कर्तव्य नहीं है? प्यारे भाइयो! उठो आलस्य छोड़ो, कमर कसो और अपनी मातृभाषा की सेवा में तत्पर हो जाओ, अपने को _____ (3) से मुक्त करो। संसार में _____ (4) कहलाओ और मातृसेवकों में अपनी कीर्ति छोड़ जाओ। परंतु ध्यान रहे, यह व्रत साधारण नहीं है। इस व्रत का पालन करना _____ (5) की धार पर चलने के समान है।

SubQuestion No : 13

Q.1
3 गद्यांश में संकेतित रिक्त स्थान (2) के लिए उपयुक्त शब्द होगा।

- Ans
- 1. शक्ति
 - 2. मुक्ति
 - 3. रोक के
 - 4. भक्ति

Question ID : 98958010020
Chosen Option : --

Comprehension:

निम्नलिखित गद्यांश के रिक्त स्थानों की पूर्ति गद्यांश के नीचे दिए गए प्रश्नों के अनुसार कीजिए-

आप लोगों ने कभी शुद्ध हृदय से इस पर विचार किया है कि माता, मातृभूमि और _____ (1) का आप पर कुछ ऋण भी है या नहीं? एक जननी आपको जन्म देती है, एक की गोद में खेल-कूदकर और खा-पीकर आप पुष्ट होते हैं और एक आपको अपने भावों को प्रकट करने की _____ (2) दे, आपके सांसारिक जीवन को सुखमय बनाती है। जिसका आप पर इतना उपकार है, उसके लिए कुछ करना क्या आपका परम कर्तव्य नहीं है? प्यारे भाइयो! उठो आलस्य छोड़ो, कमर कसो और अपनी मातृभाषा की सेवा में तत्पर हो जाओ, अपने को _____ (3) से मुक्त करो। संसार में _____ (4) कहलाओ और मातृसेवकों में अपनी कीर्ति छोड़ जाओ। परंतु ध्यान रहे, यह व्रत साधारण नहीं है। इस व्रत का पालन करना _____ (5) की धार पर चलने के समान है।

SubQuestion No : 14

Q.1
4 गद्यांश में संकेतित रिक्त स्थान (3) के लिए उपयुक्त शब्द होगा।

- Ans
- 1. ईश्वरऋण
 - 2. पितृऋण
 - 3. मातृऋण
 - 4. गुरुऋण

Question ID : 98958010021
Chosen Option : --

Comprehension:

निम्नलिखित गद्यांश के रिक्त स्थानों की पूर्ति गद्यांश के नीचे दिए गए प्रश्नों के अनुसार कीजिए-

आप लोगों ने कभी शुद्ध हृदय से इस पर विचार किया है कि माता, मातृभूमि और _____ (1) का आप पर कुछ ऋण भी है या नहीं? एक जननी आपको जन्म देती है, एक की गोद में खेल-कूदकर और खा-पीकर आप पुष्ट होते हैं और एक आपको अपने भावों को प्रकट करने की _____ (2) दे, आपके सांसारिक जीवन को सुखमय बनाती है। जिसका आप पर इतना उपकार है, उसके लिए कुछ करना क्या आपका परम कर्तव्य नहीं है? प्यारे भाइयो! उठो आलस्य छोड़ो, कमर कसो और अपनी मातृभाषा की सेवा में तत्पर हो जाओ, अपने को _____ (3) से मुक्त करो। संसार में _____ (4) कहलाओ और मातृसेवकों में अपनी कीर्ति छोड़ जाओ। परंतु ध्यान रहे, यह व्रत साधारण नहीं है। इस व्रत का पालन करना _____ (5) की धार पर चलने के समान है।

SubQuestion No : 15

Q.1
5 गद्यांश में संकेतित रिक्त स्थान (4) के लिए उपयुक्त शब्द होगा।

- Ans
- 1. शूरवीर
 - 2. सपूत
 - 3. कपूर
 - 4. कपूत

Question ID : 98958010022
Chosen Option : --

Comprehension:

निम्नलिखित गद्यांश के रिक्त स्थानों की पूर्ति गद्यांश के नीचे दिए गए प्रश्नों के अनुसार कीजिए-

आप लोगों ने कभी शुद्ध हृदय से इस पर विचार किया है कि माता, मातृभूमि और _____ (1) का आप पर कुछ ऋण भी है या नहीं? एक जननी आपको जन्म देती है, एक की गोद में खेल-कूदकर और खा-पीकर आप पुष्ट होते हैं और एक आपको अपने भावों को प्रकट करने की _____ (2) दे, आपके सांसारिक जीवन को सुखमय बनाती है। जिसका आप पर इतना उपकार है, उसके लिए कुछ करना क्या आपका परम कर्तव्य नहीं है? प्यारे भाइयो! उठो आलस्य छोड़ो, कमर कसो और अपनी मातृभाषा की सेवा में तत्पर हो जाओ, अपने को _____ (3) से मुक्त करो। संसार में _____ (4) कहलाओ और मातृसेवकों में अपनी कीर्ति छोड़ जाओ। परंतु ध्यान रहे, यह व्रत साधारण नहीं है। इस व्रत का पालन करना _____ (5) की धार पर चलने के समान है।

SubQuestion No : 16

Q.1
6 गद्यांश में संकेतित रिक्त स्थान (5) के लिए उपयुक्त शब्द होगा।

- Ans
- 1. पानी
 - 2. हसियाँ
 - 3. तलवार
 - 4. चाकू

Question ID : 98958010023
Chosen Option : --

Q.1
7 रिक्त स्थान को भरने के लिए उपयुक्त शब्द का चयन करें।

न मैं किसी की उपेक्षा करता हूँ, न किसी प्रकार की _____।

- Ans
- 1. अपेक्षा
 - 2. इच्छा
 - 3. लालसा
 - 4. आशंका

Question ID : 98958010016
Chosen Option : --

Q.1
8 'प्रत्यक्ष' का विलोम शब्द है -

- Ans
- 1. परोक्ष
 - 2. विहित
 - 3. अभाव
 - 4. निहित

Question ID : 98958010025
Chosen Option : --

Q.1 'जो अभी तक न आया हो' के लिए एक शब्द प्रयुक्त होता है-

- Ans
- 1. अजन्मा
 - 2. अनागत
 - 3. अकिंचन
 - 4. अनुजा

Question ID : 98958010031
Chosen Option : --

Q.2 'जहर का घूट पीना' मुहावरे का सही अर्थ है -

- Ans
- 1. जोखिम में डाल देना
 - 2. खतरा उठाना
 - 3. गुस्सा मन में दबा लेना
 - 4. शर्मिदा होना

Question ID : 98958010028
Chosen Option : --

Q.2 दिए गए वाक्य में रेखांकित खंड को प्रतिस्थापित करने के लिए उपयुक्त विकल्प का चयन करें।
वेदान्ती लोग जगत को मिथ्या समझते हैं।

- Ans
- 1. असत्य
 - 2. सत्य
 - 3. अस्थिर
 - 4. भंगुर

Question ID : 98958010011
Chosen Option : --

Q.2 'अनुचित बात के लिए आग्रह' के लिए एक शब्द है-

- Ans
- 1. दुर्जन
 - 2. आग्रह
 - 3. दुराग्रह
 - 4. कठोर

Question ID : 98958010030
Chosen Option : --

Q.2 दिए गए वाक्य का वह भाग ज्ञात करें जिसमें कोई त्रुटि है।

सुदर्शन को ज्यामिति का विषय में अनुत्तीर्ण घोषित किया गया।

Ans

- 1. अनुत्तीर्ण
- 2. घोषित किया गया।
- 3. ज्यामिति का विषय में
- 4. सुदर्शन को

Question ID : 98958010010
Chosen Option : --

Q.2
4 रिक्त स्थान को भरने के लिए उपयुक्त शब्द का चयन करें।

तुम मेरा अपमान मत करो मुझे स्वयं अपने कर्मों पर _____ हो रहा है।

- Ans
- 1. संतोष
 - 2. पश्चाताप
 - 3. प्रताप
 - 4. तुष्टि

Question ID : 98958010014
Chosen Option : --

Q.2
5 दिए गए वाक्य का वह भाग ज्ञात करें जिसमें कोई त्रुटि है।

शब्दावली को अधिक उपयोगी बनाने के लिए हर संभव प्रयास किया गए हैं।

- Ans
- 1. हर संभव प्रयास किया गए हैं।
 - 2. अधिक उपयोगी
 - 3. बनाने के लिए
 - 4. शब्दावली को

Question ID : 98958010009
Chosen Option : --