



PROFESSIONAL EXAMINATION BOARD

Police Recruitment Test for Subedar and Sub-Inspector Cadre Recruitment Test for Police (Home) Department - 2017 31st Oct 2017 02:00PM

Topic:- General Hindi

1) 'मैया मैं तो चंद्र खिलौना लैहों।' इस पंक्ति में कौन सा अलंकार है?

1. उत्प्रेक्षा अलंकार
2. अतिशयोक्ति अलंकार
3. मानवीकरण अलंकार
4. रूपक अलंकार

Correct Answer :-

- रूपक अलंकार

2) 'मैंने सुशीला पर भरोसा करके बात बताई लेकिन उसने वहीं जाकर सारी बात बता दी, सच ही कहा गया है कि सभी _____ हैं।' इस वाक्य में कौन सा मुहावरा है:

1. एक थैली के चट्टे:बट्टे
2. ईद का चाँद
3. डूबते को तिनके का सहारा
4. अंधे की लकड़ी

Correct Answer :-

- एक थैली के चट्टे:बट्टे

3) 'उत्तर' का अर्थ है:

1. कमल, प्रश्न
2. पर्वत का नाम, प्रश्न
3. दक्षिण, जवाब

4. एक दिशा का नाम, जवाब

Correct Answer :-

- एक दिशा का नाम, जवाब

4) 'मैं यह काम नहीं किया हूँ।' इस वाक्य का शुद्ध रूप लिखिए।

1. मैंने सिर्फ यही कार्य नहीं किया है।
2. मैंने यह काम नहीं किया है।
3. मैं यह काम कर चुका हूँ।
4. मैं यही काम नहीं किया हूँ।

Correct Answer :-

- मैंने यह काम नहीं किया है।

5) 'उसने अनेकों ग्रंथ लिखे।' इस वाक्य का शुद्ध रूप लिखिए।

1. उसकु अनेक ग्रंथों को लिखा।
2. उसने अनेक ग्रंथ लिखे।
3. उसने अनेकों ग्रंथों को लिखे।
4. उसके अनेक ग्रंथ लिखे।

Correct Answer :-

- उसने अनेक ग्रंथ लिखे।

6) 'वे पढ़ने के लिए पुस्तकालय गए।' इस सरल वाक्य को संयुक्त वाक्य में बदलें।

1. वे पढ़ने के लिए पुस्तकालय गए।
2. वे पढ़ना चाहते थे इसलिए पुस्तकालय चले गए।
3. वे पुस्तकालय गए क्योंकि वो पढ़ने में रूचि रखते थे।
4. वे नहीं पढ़ने के लिए पुस्तकालय गए।

Correct Answer :-

- वे पढ़ना चाहते थे इसलिए पुस्तकालय चले गए।

7) 'अ' उपसर्ग से बने शब्द को बताइए।

1. अनीति
2. आगमन

3. अत्यन्त

4. अनुज

Correct Answer :-

- अनीति

8) इस संयुक्त वाक्य को साधारण वाक्य में बदलिए:

‘उसने सर झुकाया तथा गुरू के चरण स्पर्श किए।’

1. पहले उसने सर झुकाया फिर गुरू के चरण स्पर्श किए।
2. उसने सर झुकाते ही गुरू के चरण स्पर्श किए।
3. उसने सर झुका कर गुरू के चरण स्पर्श किए।
4. ज्यों उसने सर झुकाया त्यों गुरू के चरण स्पर्श किए।

Correct Answer :-

- उसने सर झुका कर गुरू के चरण स्पर्श किए।

9) इस साधारण वाक्य को संयुक्त वाक्य में बदलिए :

‘सुबह की पहली बस पकड़ कर शाम तक घर लौट आओ।’

1. यद्यपि सुबह पहली बस पकड़ो तथापि शाम तक घर लौट आओ।
2. सुबह की पहली बस पकड़ो और शाम तक घर लौट आओ।
3. सुबह पहली बस पकड़ो और साम तक घर लौट आओ।
4. शुबह पहली बस पकड़ो और शाम तक घर लौट आओ।

Correct Answer :-

- सुबह की पहली बस पकड़ो और शाम तक घर लौट आओ।

10) फल का अर्थ है:

1. वृक्ष का फल, परिणाम, तीर का अगला हिस्सा
2. वृक्ष का फल, परिणाम, भाला
3. वृक्ष का फल, परिणाम, तलवार का अगला हिस्सा
4. वृक्ष का फल, परिणाम, चाकू

Correct Answer :-

- वृक्ष का फल, परिणाम, तीर का अगला हिस्सा

11) औना प्रत्यय से बना शब्द है:

1. बिचौन
2. बिछौना
3. बीचोन
4. बीचौन

Correct Answer :-

- बिछौना

12) अलक और अलिक का अर्थ है:

1. केश और मस्तक
2. मस्तक और मांग
3. तेल और मस्तक
4. पलक और मस्तक

Correct Answer :-

- केश और मस्तक

13) इनमें से कौन सा विकल्प 'धरती' का पर्यायवाची नहीं है?

1. मोदिनी
2. तरंगिणी
3. वसुंधरा
4. पृथ्वी

Correct Answer :-

- तरंगिणी

14) इनमें से कौन काव्य का गुण नहीं है ?

1. प्रसाद
2. माधुर्य
3. ओज
4. अभिधा

Correct Answer :-

- अभिधा

15) इनमें से कौन काव्य का भेद नहीं है?

1. मुक्तक काव्य
2. महाकाव्य
3. चुटकुले
4. प्रबंध काव्य

Correct Answer :-

- चुटकुले

16) निम्न में से कौन सा शब्द-युग्म, एक विलोम शब्द युग्म है?

1. देश:विदेश
2. चाय:वाय
3. अपने:अपने
4. आदर:सत्कार

Correct Answer :-

- देश:विदेश

17) दशानन में कौन सा समास है?

1. बहुब्रीहि समास
2. कर्मधारय समास
3. द्वंद्व समास
4. द्विगु समास

Correct Answer :-

- बहुब्रीहि समास

18) इतना ही नहीं, हिन्दी में ऐसी हजारों सूक्तियाँ और कहावतें प्रचलित हैं, जिनके अर्थ ऊपर से तो स्पष्ट नहीं हैं, किन्तु उनका अर्थ:विस्तार करने पर उनके भाव पूरी तरह स्पष्ट हो जाते हैं। लेखन की इस क्रिया को हिन्दी में _____ कहते हैं।

1. 'पल्लवन'
2. 'विच्छेदन'
3. 'स्पष्टीकरण'
4. 'संक्षेपण'

Correct Answer :-

- 'पल्लवन'

19) कढ़ाई और कढ़ाही का अर्थ है:

1. सिलाई और लोहे का बर्तन
2. किसीदाकारी और टिन का बर्तन
3. कसीदाकारी और लोहे का बर्तन
4. कासीदाकारी और पीतल का बर्तन

Correct Answer :-

- कसीदाकारी और लोहे का बर्तन

20) संक्षेपण को आप क्या कह सकते हैं?

1. एक चुटकुला
2. एक प्रकार का महाकाव्य
3. एक प्रकार का मानसिक प्रशिक्षण
4. एक प्रकार का शारीरिक परिश्रम

Correct Answer :-

- एक प्रकार का मानसिक प्रशिक्षण

21) संक्षेपण करते समय किस बात का ध्यान रखना चाहिए?

1. सभी बातों को बढ़ा-चढ़ाकर लिखना चाहिए।
2. सभी महत्वपूर्ण बातों को हटा देना चाहिए।
3. सिर्फ पाठक को चटपटी बातें बतानी चाहिए।
4. कोई महत्वपूर्ण बात छूटनी नहीं चाहिए।

Correct Answer :-

- कोई महत्वपूर्ण बात छूटनी नहीं चाहिए।

22) पूर्वी हिंदी की बोली है:

1. खड़ीबोली
2. मेवाती
3. कन्नौजी

4. अवधी

Correct Answer :-

- अवधी

23) अलंकार का नाम बताएं:

हनुमान की पूंछ में, लगन न पायी आग।

सिगरी लंका जरि गई, चले निसाचर भाग।।

1. उल्लेख अलंकार
2. अतिशयोक्ति अलंकार
3. व्यतिरेक अलंकार
4. निदर्शना अलंकार

Correct Answer :-

- अतिशयोक्ति अलंकार

24) 'चार राहों का समाहार' का समस्त पद है:

1. चौराहा
2. चौपदी
3. तिराहा
4. चरवाहा

Correct Answer :-

- चौराहा

25) 'थाली का बैगन' मुहावरे का अर्थ है:

1. कभी यहाँ और कभी बैठे रहना।
2. कभी एक पक्ष और कभी दूसरे कोने में रहना।
3. कभी एक पक्ष और कभी दूसरे पक्ष में रहना।
4. कभी एक पच्छ और कभी दूसरे पिजरे में रहना।

Correct Answer :-

- कभी एक पक्ष और कभी दूसरे पक्ष में रहना।

26) 'बघेली' किस प्रदेश की बोली है?

1. गुजरात
2. राजस्थान
3. हिमाचल प्रदेश
4. मध्य:प्रदेश

Correct Answer :-

- मध्य:प्रदेश

27) 'उतारन' को खड़ी बोली में क्या कहते हैं?

1. पहना हुआ या पहन कर फेंका गया जूठन वस्तु
2. किसी की नज़र उतारना
3. ज़मीन पर उतारना
4. तारने वाला

Correct Answer :-

- पहना हुआ या पहन कर फेंका गया जूठन वस्तु

28) 'अंतस की बात जानने वाले को' क्या कहते हैं?

1. अन्त्ययमी
2. अन्तर्यामी
3. अंतर्धान
4. अंतर्मन

Correct Answer :-

- अन्तर्यामी

29) 'दांत खट्टे करना' मुहावरे का अर्थ है:

1. परास्त करना।
2. परास्त कराना।
3. पिस्ता खाना।
4. परस्त करना।

Correct Answer :-

- परास्त करना।

30) 'हथकड़ी' का सामासिक विग्रह है:

1. हाथों की कड़ी
2. हाथ की कंदी
3. हाथ की कड़ी
4. हाथ की कनी

Correct Answer :-

- हाथ की कड़ी

31) 'आवश्यकता से अधिक वर्षा' को क्या कहते हैं?

1. अत्वृष्टि
2. अल्पवृष्टि
3. ओलावृष्टि
4. अतिवृष्टि

Correct Answer :-

- अतिवृष्टि

32) अधिकांशतः "हास्य रस" वाली रचनाओं के लेखक इनमें से कौन है?

1. तुलसीदास
2. काका हाथरसी
3. सूरदास
4. कबीर दास

Correct Answer :-

- काका हाथरसी

33) गृह और ग्रह का अर्थ होगा:

1. घर और ध्रुव
2. घर और नौ ग्रह
3. घर और संसार
4. मकान और झोपड़ी

Correct Answer :-

- घर और नौ ग्रह

34) प्राचीन का विलोम शब्द है:

1. अर्वचीन
2. पुराना
3. प्राचीर
4. अर्वाचीन

Correct Answer :-

- अर्वाचीन

35) मध्य प्रदेश के निमाड़ क्षेत्र की बोली का नाम है:

1. निमादी
2. निमाडी
3. निमार्ण
4. निमाड़ी

Correct Answer :-

- निमाड़ी

36) अनुभाव कहते हैं:

1. रति, हास, शोक आदि स्थायी भावों को प्रकाशित या व्यक्त करने वाली आश्रय की चेष्टाएं।
2. रति, हास, शोक आदि स्थायी भावों को प्रकाशित या व्यक्त करने वाले आश्रय।
3. रति, हास, शोक आदि संचारी भावों को प्रकाशित या व्यक्त करने वाली आश्रय की चेष्टाएं।
4. आलंबन, उद्दीपन आदि स्थायी भावों को प्रकाशित या व्यक्त करने वाली आश्रय की चेष्टाएं।

Correct Answer :-

- रति, हास, शोक आदि स्थायी भावों को प्रकाशित या व्यक्त करने वाली आश्रय की चेष्टाएं।

37) संचारी भाव कहलाता है:

1. वह भाव जो केवल थोड़ी देर के लिए स्थायी भाव को पुष्ट करने के निमित्त सहायक रूप में आते हैं और तुरंत लुप्त हो जाते हैं।
2. जो भाव सदैव के लिए स्थायी भाव को पुष्ट करने के निमित्त सहायक रूप में आते हैं और तुरंत लुप्त हो जाते हैं।
3. जो भाव केवल थोड़ी देर के लिए निर्वेद को पुष्ट करने के निमित्त सहायक रूप में आते हैं और तुरंत लुप्त हो जाते हैं।
4. जो भाव केवल थोड़ी देर के लिए विभाव को पुष्ट करने के निमित्त सहायक रूप में आते हैं और तुरंत लुप्त हो जाते हैं।

Correct Answer :-

- वह भाव जो केवल थोड़ी देर के लिए स्थायी भाव को पुष्ट करने के निमित्त सहायक रूप में आते हैं और तुरंत लुप्त हो जाते हैं।

38) सहयोगी का सही विलोम शब्द है:

1. सहपाठी
2. प्रतियोगी
3. सहकर्मी
4. विरोधी

Correct Answer :-

- प्रतियोगी

39) वृक्ष का पर्यायवाची :

1. राव
2. गाछ
3. शफरी
4. नीरद

Correct Answer :-

- गाछ

40) CANCELLED

‘मेघदूत’ इनमें से क्या है?

1. उपन्यास
2. काल्पनिक कथा
3. काव्य का एक भेद
4. चुटकुला

Correct Answer :-

- काव्य का एक भेद

41) CANCELLED

‘कमरा’ को खड़ी बोली में क्या कहते हैं ?

1. घर में रहने का स्थान ।
2. मोटी कमर ।
3. एक स्थान ।
4. रोयेंदार काले रंग का कीड़ा, कम्बल।

Correct Answer :-

- रोयेंदार काले रंग का कीड़ा, कम्बल।

42) 'ज्यों ही मैं वहाँ पहुँचा, त्यों ही घंटा बजा।'

इस वाक्य का सयुंक्त वाक्य बनाइए :

1. जैसे ही मैं वहाँ पहुँचा, वैसे ही घंटा बजा।
2. मैं वहाँ पहुँचा और तुरंत घंटा बजा।
3. मैं वहाँ पहुँचा, वैसे ही घंटा बजा।
4. ज्यों ही मैं वहाँ पहुँचा घंटा बज गया।

Correct Answer :-

- मैं वहाँ पहुँचा और तुरंत घंटा बजा।

43) शुद्ध वाक्य बताएं:

आप उनकी सम:तुल्यता में नहीं ठहर सकते।

1. हम उनकी समता में नहीं ठहर सकते।
2. आप उनकी समता में नहीं ठहर सकाते।
3. आप उनकी समता में नहीं ठहर सकते।
4. आपे उनकी समता में नहीं ठहरे सकते।

Correct Answer :-

- आप उनकी समता में नहीं ठहर सकते।

44) निम्नलिखित पारिभाषिक शब्द की हिंदी बताओ?

'Joint Secretary'

1. संयुक्त सचिव
2. अपर निदेशक
3. राज्य प्रमुख
4. अतिरिक्त निदेशक

Correct Answer :-

- संयुक्त सचिव

45) निम्नलिखित पारिभाषिक शब्द की हिंदी बताओ?

‘Commissioner’

1. प्रयुक्त
2. आयुक्त
3. संयुक्त
4. नियुक्त

Correct Answer :-

- आयुक्त

46) निम्नलिखित पारिभाषिक शब्द की अंग्रेजी बताओ?

‘संधि’

1. DISCUSSION
2. TREATY
3. TRAETY
4. TRITY

Correct Answer :-

- TREATY

**47) कर पग गहि अंगूठा मुख मेलत।
प्रभु पौढे पालने अकेले हरषि:हरषि अपने संग खेलत।।**

उपरोक्त पंक्तियों में कौन सा रस है?

1. वात्सल्य रस
2. शांत रस
3. वीर रस
4. शृंगार रस

Correct Answer :-

- वात्सल्य रस

48) लागी बूंद बिनसि जाय छिन में, गरब करै क्या इतना।

उपरोक्त पंक्तियों में कौन सा रस है?

1. शांत रस
2. करुणरस
3. हास्य रस
4. रौद्र रस

Correct Answer :-

- शांत रस

49) मुहावरा बताओ:

‘अधिक खाने वाले को बहुत कम खाना मिलना।’

1. ऊंट के मुंह में हल्दी
2. ऊंट के मुंह में जीरा
3. हाथी के मुंह में धनिया
4. हाथी के मुंह में जीरा

Correct Answer :-

- ऊंट के मुंह में जीरा

50) ‘_____ में मुख्य चरित्र के जीवन को समग्रता में धारण करने के कारण, विविधता और विस्तार होता है।’

काव्य का नाम बताएं:

1. ‘मुक्तक काव्य’
2. ‘महाकाव्य’
3. ‘प्रबंध काव्य’
4. ‘खंड काव्य’

Correct Answer :-

- ‘महाकाव्य’

51) महादेवी वर्मा के कथनानुसार:

“_____ कवि विशेष की भावनाओं का चित्रण है।”

1. ‘उपन्यास’
2. ‘निबंध’

3. कहानी'

4. 'कविता'

Correct Answer :-

- 'कविता'

52) छन्द का नाम बताओ:

इसके प्रत्येक चरण में 24 मात्राएँ होती हैं। ग्यारहवीं मात्रा पर यति होती है:

1. छप्पय
2. हरिगीतिका
3. रोला
4. गीतिका

Correct Answer :-

- रोला

53) छन्द का नाम बताओ:

यह रोला और उल्लाला के योग से बनता है। इसके 4 चरणों में 24:24 मात्राएँ तथा अंतिम दो चरणों में 28:28 अथवा 26:26 मात्राएँ होती हैं। इसमें प्रथम चार पंक्तियाँ रोला तथा अंतिम दो पंक्तियाँ उल्लाला की होती हैं।

1. उल्लाला
2. छप्पय
3. हरिगीतिका
4. गीतिका

Correct Answer :-

- छप्पय

54) कविता के दो पक्ष होते हैं:

1. केंद्रीय भाव और बाहरी भाव
2. शिल्प पक्ष और कथा पक्ष
3. भाषा और शैली
4. भाव पक्ष और कला पक्ष

Correct Answer :-

- भाव पक्ष और कला पक्ष

55) 'अक्षर शिल्पी' कहाँ से प्रकाशित होने वाली पत्रिका है?

1. मैहर
2. जसपुर
3. नागौद
4. भोपाल

Correct Answer :-

- भोपाल

56) 'कला समय' कहाँ से प्रकाशित होने वाली पत्रिका है?

1. मलीहाबाद
2. दिशपुर
3. जैसलमेर
4. भोपाल

Correct Answer :-

- भोपाल

57) पल्लवन के लेखन में अप्रासंगिक बातों का अनावश्यक विस्तार या उल्लेख _____ ।

1. कम होना चाहिए
2. विस्तार से होना चाहिए
3. होना चाहिए
4. बिलकुल नहीं होना चाहिए

Correct Answer :-

- बिलकुल नहीं होना चाहिए

58) करण और कर्ण का अर्थ है:

1. बारिश और कान
2. कार्य और बातें
3. समझना और सुनाना
4. काम और कान

Correct Answer :-

- काम और कान

59) 'उल्टा चोर कोतवाल को डांटे' इस मुहावरे का अर्थ है:

1. चोरी करने पर कोतवाल के द्वारा डांटे जाना
2. अपना अपराध झूट से कबूल करके कोतवाल पर चिल्लाना
3. अपना अपराध स्वीकार न करके पूछने वाले को दोष देना
4. अपना अपराध स्वीकार करके पूछने वाले को दोष देना

Correct Answer :-

- अपना अपराध स्वीकार न करके पूछने वाले को दोष देना

60) इस गद्य को ध्यान से पढ़ें और नीचे दिए गए प्रश्न का उत्तर दें:

मनुष्य का जीवन बहुत संघर्षमय होता है। उसे पग:पग पर कठिनाइयों का सामना करना पड़ता है। फिर भी ईश्वर के द्वारा जो मनुष्य रूपी वरदान की निर्मिति इस पृथ्वी पर हुई है मानो धरती का रूप ही बदल गया है। यह संसार कर्म करने वाले मनुष्यों के आधार पर ही टिका हुआ है। देवता भी उनसे ईर्ष्या करते हैं। मनुष्य अपने कर्म:बल के कारण श्रेष्ठ है। धन्य है, मनुष्य का जीवन।

प्रश्न : उपर्युक्त गद्यांश का उचित शीर्षक लिखिए।

1. 'क्रमशील मनुष्य'
2. 'कर्मशील मनुष्य'
3. 'कर्मशील मनुष्य'
4. 'कर्मशील मनुष्य'

Correct Answer :-

- 'कर्मशील मनुष्य'

61) इस गद्य को ध्यान से पढ़ें और नीचे दिए गए प्रश्न का उत्तर दें:

मनुष्य का जीवन बहुत संघर्षमय होता है। उसे पग:पग पर कठिनाइयों का सामना करना पड़ता है। फिर भी ईश्वर के द्वारा जो मनुष्य रूपी वरदान की निर्मिति इस पृथ्वी पर हुई है मानो धरती का रूप ही बदल गया है। यह संसार कर्म करने वाले मनुष्यों के आधार पर ही टिका हुआ है। देवता भी उनसे ईर्ष्या करते हैं। मनुष्य अपने कर्म:बल के कारण श्रेष्ठ है। धन्य है, मनुष्य का जीवन।

प्रश्न : इस गद्यांश के अनुसार, मनुष्य का जीवन कैसा होता है?

1. मनुष्य का जीवन संघर्ष रहित होता है।
2. मनुष्य का जीवन बहुत निरंतर होता है।
3. मनुष्य का जीवन बहुत संघर्षमय होता है।
4. मनुष्य की जीवन बहुत संघर्षमय होता है।

Correct Answer :-

- मनुष्य का जीवन बहुत संघर्षमय होता है।

62) इस गद्य को ध्यान से पढ़ें और नीचे दिए गए प्रश्न का उत्तर दें:

मनुष्य का जीवन बहुत संघर्षमय होता है। उसे पग:पग पर कठिनाइयों का सामना करना पड़ता है। फिर भी ईश्वर के द्वारा जो मनुष्य रूपी वरदान की निर्मिति इस पृथ्वी पर हुई है मानो धरती का रूप ही बदल गया है। यह संसार कर्म करने वाले मनुष्यों के आधार पर ही टिका हुआ है। देवता भी उनसे ईर्ष्या करते हैं। मनुष्य अपने कर्म:बल के कारण श्रेष्ठ है। धन्य है, मनुष्य का जीवन।

प्रश्न : इस गद्यांश के अनुसार, पग:पग में कौन सा समास है?

1. बहुब्रीहि समास
2. कर्मधारय समास
3. दिगु समास
4. अव्ययीभाव समास

Correct Answer :-

- अव्ययीभाव समास

63) इस गद्य को ध्यान से पढ़ें और नीचे दिए गए प्रश्न का उत्तर दें:

मनुष्य का जीवन बहुत संघर्षमय होता है। उसे पग:पग पर कठिनाइयों का सामना करना पड़ता है। फिर भी ईश्वर के द्वारा जो मनुष्य रूपी वरदान की निर्मिति इस पृथ्वी पर हुई है मानो धरती का रूप ही बदल गया है। यह संसार कर्म करने वाले मनुष्यों के आधार पर ही टिका हुआ है। देवता भी उनसे ईर्ष्या करते हैं। मनुष्य अपने कर्म:बल के कारण श्रेष्ठ है। धन्य है, मनुष्य का जीवन।

प्रश्न – इस गद्यांश के अनुसार, देवता किससे ईर्ष्या करते हैं?

1. देवता, देवता से ईर्ष्या करते हैं।
2. देवता मनुष्य से ईर्ष्या करते हैं।
3. देवता पशु से ईर्ष्या करते हैं।
4. देवता दानव से ईर्ष्या करते हैं।

Correct Answer :-

- देवता मनुष्य से ईर्ष्या करते हैं।

64) इस गद्य को ध्यान से पढ़ें और नीचे दिए गए प्रश्न का उत्तर दें:

मनुष्य का जीवन बहुत संघर्षमय होता है। उसे पग:पग पर कठिनाइयों का सामना करना पड़ता है। फिर भी ईश्वर के द्वारा जो मनुष्य रूपी वरदान की निर्मिति इस पृथ्वी पर हुई है मानो धरती का रूप ही बदल गया है। यह संसार कर्म करने वाले मनुष्यों के आधार पर ही टिका हुआ है। देवता भी उनसे ईर्ष्या करते हैं। मनुष्य अपने कर्म:बल के कारण श्रेष्ठ है। धन्य है, मनुष्य का जीवन।

प्रश्न :इस गद्यांश के अनुसार, मनुष्य क्यों श्रेष्ठ है?

1. मनुष्य अपने कर्म:बल के कारण श्रेष्ठ है।
2. मनुष्य अपने भुज बल के कारण श्रेष्ठ है।
3. मनुष्य अपने हाथ:पैर के कारण श्रेष्ठ है।
4. मनुष्य अपने बुद्धि के कारण श्रेष्ठ है।

Correct Answer :-

- मनुष्य अपने कर्म:बल के कारण श्रेष्ठ है।

65) इस पद्य को ध्यान से पढ़ें और नीचे दिए गए प्रश्न का उत्तर दें:

मन करता है सूरज बनकर
आसमान में दौड़ लगाऊँ।
मन करता है चंदा बनकर
सब तारों पर अकड़ दिखाऊँ।
मन करता है बाबा बनकर
घर में सब पर धौंस जमाऊँ।
मन करता है पापा बनकर
मैं भी अपनी मूँछ बढ़ाऊँ।
मन करता है तितली बनकर
दूर:दूर उड़ता जाऊँ।
मन करता है कोयल बनकर
मीठे:मीठे बोल सुनाऊँ।

प्रश्न: दूर:दूर में कौन सा अलंकार है?

1. अन्योक्ति अलंकार
2. रूपक अलंकार
3. उत्प्रेक्षा अलंकार
4. पुनरुक्तप्रकाश अलंकार'

Correct Answer :-

- पुनरुक्तप्रकाश अलंकार'

66) इस पद्य को ध्यान से पढ़ें और नीचे दिए गए प्रश्न का उत्तर दें:

मन करता है सूरज बनकर
आसमान में दौड़ लगाऊँ।
मन करता है चंदा बनकर
सब तारों पर अकड़ दिखाऊँ।
मन करता है बाबा बनकर
घर में सब पर धौंस जमाऊँ।
मन करता है पापा बनकर
मैं भी अपनी मूँछ बढ़ाऊँ।
मन करता है तितली बनकर
दूर:दूर उड़ता जाऊँ।
मन करता है कोयल बनकर
मीठे:मीठे बोल सुनाऊँ।

प्रश्न :बच्चा बाबा बनकर क्या करना चाहता है?

1. बाबा चच्चा बनकर घर में सब पर धौंस जमाना चाहता है।
2. बच्चा बाबा बनकर घर में सब पर हौंस जमाना चाहता है।
3. बच्चा बाबा बनकर घर में सब पर धौंस जमाना चाहता है।
4. बाबा बच्चा बनकर धौंस जमाना चाहता है।

Correct Answer :-

- बच्चा बाबा बनकर घर में सब पर धौंस जमाना चाहता है।

67) इस पद्य को ध्यान से पढ़ें और नीचे दिए गए प्रश्न का उत्तर दें:

मन करता है सूरज बनकर
आसमान में दौड़ लगाऊँ।
मन करता है चंदा बनकर
सब तारों पर अकड़ दिखाऊँ।
मन करता है बाबा बनकर
घर में सब पर धौंस जमाऊँ।
मन करता है पापा बनकर
मैं भी अपनी मूँछ बढ़ाऊँ।
मन करता है तितली बनकर
दूर:दूर उड़ता जाऊँ।
मन करता है कोयल बनकर
मीठे:मीठे बोल सुनाऊँ।

प्रश्न: बच्चा क्या बनकर उड़ना चाहता है?

1. बच्चा हवाई जहाज बनकर दूर-दूर उड़ना चाहता है।
2. बच्चा बगुला बनकर दूर-दूर उड़ना चाहता है।
3. बच्चा पक्षी बनकर दूर-दूर उड़ना चाहता है।
4. बच्चा तितली बनकर दूर-दूर उड़ना चाहता है।

Correct Answer :-

- बच्चा तितली बनकर दूर-दूर उड़ना चाहता है।

68) इस पद्य को ध्यान से पढ़ें और नीचे दिए गए प्रश्न का उत्तर दें:

मन करता है सूरज बनकर
आसमान में दौड़ लगाऊँ।
मन करता है चंदा बनकर
सब तारों पर अकड़ दिखाऊँ।
मन करता है बाबा बनकर
घर में सब पर धौंस जमाऊँ।
मन करता है पापा बनकर

मैं भी अपनी मूँछ बढ़ाऊँ।
मन करता है तितली बनकर
दूर:दूर उड़ता जाऊँ।
मन करता है कोयल बनकर
मीठे:मीठे बोल सुनाऊँ।

प्रश्न: बच्चा चंदा क्यों बनना चाहता है?

1. क्यों कि वह मामा पर प्यार दिखाना चाहता है।
2. क्यों कि वह पापा पर अकड़ दिखाना चाहता है।
3. क्यों कि वह तारों को अपनी सूरत दिखाना चाहता है।
4. क्यों कि वह तारों पर अकड़ दिखाना चाहता है।

Correct Answer :-

- क्यों कि वह तारों पर अकड़ दिखाना चाहता है।

69) इस पद्य को ध्यान से पढ़ें और नीचे दिए गए प्रश्न का उत्तर दें:

मन करता है सूरज बनकर
आसमान में दौड़ लगाऊँ।
मन करता है चंदा बनकर
सब तारों पर अकड़ दिखाऊँ।
मन करता है बाबा बनकर
घर में सब पर धौंस जमाऊँ।
मन करता है पापा बनकर
मैं भी अपनी मूँछ बढ़ाऊँ।
मन करता है तितली बनकर
दूर:दूर उड़ता जाऊँ।
मन करता है कोयल बनकर
मीठे:मीठे बोल सुनाऊँ।

प्रश्न: काव्य का उचित शीर्षक क्या है?

1. 'मन की अभिलाषा'
2. 'धन की अभिलाषा'

3. 'तन की अभिलाषा'
4. 'पुष्प की अभिलाषा'

Correct Answer :-

- 'मन की अभिलाषा'

70) 'उसकी दिशा अच्छी नहीं है।'

इस वाक्य में एक गलत शब्द का प्रयोग हुआ है, उस शब्द को जानकर उसका सही शब्द पहचानिए?

1. अच्छा
2. दशा
3. दिशायें
4. नाही

Correct Answer :-

- दशा

Topic:- General English

1) Choose the appropriate preposition for the given sentence:

She hid her disappointment _____ a smile.

1. without
2. with
3. in
4. through

Correct Answer :-

- with

2) Choose the appropriate preposition for the given sentence:

We recommend you to take advantage _____ this offer.

1. at
2. in
3. off
4. of

Correct Answer :-

- of

3) Choose the appropriate preposition for the given sentence:

Any illegal goods will be confiscated _____ the customs officials.

1. to
2. off
3. with
4. by

Correct Answer :-

- by

4) Choose the appropriate prepositions for the given sentence:

He lied _____ me _____ the incident.

1. by, in
2. for, at
3. at, on
4. to, about

Correct Answer :-

- to, about

5) Choose the appropriate articles for the given sentence:

There was _____ signboard at _____ entrance of the boutique informing passersby about its launch, next month.

1. a, the
2. an, an
3. an, the
4. an, a

Correct Answer :-

- a, the

6) Choose the appropriate articles for the given sentence:

He has _____ nerve to publish _____ article that could cause friction among the different sections of society.

1. a, a
2. the, the
3. an, a
4. the, an

Correct Answer :-

- the, an

7) Choose the appropriate articles for the given sentence:

_____ lack of communication skills is frustrating and can make _____ aspiring student oversensitive.

1. An, the
2. A, a
3. An, a
4. The, an

Correct Answer :-

- The, an

8) Choose the appropriate articles for the given sentence:

Instead of _____ apple, she ate _____ bowl of porridge for breakfast this morning.

1. a, the
2. an, the
3. an, a
4. the, an

Correct Answer :-

- an, a

9) Choose the appropriate usage to fill in the blank:

We tried _____ hard to get the problem solved without any help.

1. real

2. greatly
3. really
4. extremely

Correct Answer :-

- really

10) Choose the correct form of verb for the given sentence:

Phosphates _____ to most farmlands in America.

1. need to adding
2. need to add
3. need to be added
4. need added

Correct Answer :-

- need to be added

11) Choose the correct form of verb for the given sentence:

Last week, Jenny _____ most of her holidays on the beach.

1. spent
2. spends
3. was spending
4. is spending

Correct Answer :-

- spent

12) Choose the correct form of adverb for the given sentence:

I accepted the new task _____.

1. carefully
2. greatly
3. methodically
4. willingly

Correct Answer :-

- willingly

13) Choose the correct form of adverb for the given sentence:

He ruled _____ for many years.

1. wisely
2. hardly
3. interestedly
4. interestingly

Correct Answer :-

- wisely

14) Choose the correct form of adjective for the given sentence:

The villain in the movie hates the hero and desires to harm him and so becomes _____.

1. violent
2. good
3. crude
4. benevolent

Correct Answer :-

- violent

15) Choose the correct form of adjective for the given sentence:

Meghna uses her common sense; she is always _____.

1. sensuous
2. hypersensitive
3. sensible
4. sensitive

Correct Answer :-

- sensible

16) Choose the correct form of expression to complete the sentence:

His partner died, and this added to his _____.

1. difficulties
2. progress
3. dangers
4. fortune

Correct Answer :-

- difficulties

17) Choose the correct form of expression to complete the sentence:

He spoke in a distinct _____.

1. method
2. voice
3. speech
4. sound

Correct Answer :-

- voice

18) Choose the correct form of tense for the given sentence:

I shall not go swimming until the sun _____ out.

1. will have come
2. is coming
3. will come
4. comes

Correct Answer :-

- comes

19) Choose the correct form of tense for the given sentence:

He _____ in love with her over a year ago.

1. fell

2. falls
3. has fallen
4. fallen

Correct Answer :-

- fell

20) Choose the correct form of tense for the given sentence:

I know all about that film because I _____ it twice.

1. have been seeing
2. have seen
3. am seeing
4. will be seeing

Correct Answer :-

- have seen

21) Choose the correct form of tense for the given sentence:

If the painting is good, they _____ it in the exhibition.

1. will hang
2. will have hung
3. would hang
4. hung

Correct Answer :-

- will hang

22) Choose the most suitable determiner for the given sentence:

Let's listen to _____ music on the radio.

1. a few
2. some
3. little
4. much

Correct Answer :-

- some

23) Choose the most suitable determiner for the given sentence:

_____ participant is expected to obey the rules of the game.

1. Any
2. All
3. Either
4. Every

Correct Answer :-

- Every

24) Choose the active voice of the sentence.

The poor are helped by her.

1. She is helped by the poor.
2. She is helping the poor.
3. She helps the poor.
4. She helped the poor.

Correct Answer :-

- She helps the poor.

25) Choose the correct form of modal auxiliary verb for the given sentence:

The car broke down and we _____ to get a taxi.

1. have
2. had
3. are having
4. has

Correct Answer :-

- had

26) Read the passage carefully and answer the question given below:

Henderson Island in the South Pacific Ocean has always been known for its remarkable biological diversity and untouched ecology. Now, the remote UNESCO World Heritage site that lies 3,100 miles (5,000 km) from the closest human settlement, can also lay claim to being one of the most polluted places on Earth.

Jennifer Lavers, a researcher from the University of Tasmania's Institute for Marine and Antarctic Studies who has been studying the coral atoll for a few years, says the tiny, 14.4 square miles (37.3 square kilometers), island is home to over 38 million pieces of waste. According to the scientist, this is the "highest density of anthropogenic waste recorded anywhere in the world, with 99.8 percent of the pollution plastic."

The amount of trash is surprising given that the island, the largest of the group of four Pitcairn volcanic islands, has no residents and is visited by scientists only once or twice every decade. However, as it turns out, humans do not need to be physically present to pollute an area. In this case, the trash is brought in by the South Pacific Gyre, an ocean current that sends garbage bobbing through the sea to Henderson. The primary offenders are fishing-related debris, like lines and nets, and single-use household items.

What's even worse is that the unsightly rubbish scattered across the island's sandy beaches is just the tip of the iceberg. According to the researchers, over 68% of the junk is buried under the sand. This means their estimates, based on the trash found up to 10 centimeters below the sand, may be underestimating the full extent of the pollution.

Besides being aesthetically unpleasing, the waste is also harmful to the island's wildlife. Lavers and study co-author Alexander Bond discovered hermit crabs taking refuge in toxic cosmetic jars, and sea turtles, which come to the island to lay eggs, get entangled inside fishing lines. The trash is also harmful to seabirds and fish that mistake the colorful plastic pieces for food.

Question: A suitable title for the passage:

1. Henderson Island: A Pitcairn volcanic island
2. The problems on Henderson Island
3. The once pristine Henderson Island is now covered with waste
4. The endangered species of Henderson Island

Correct Answer :-

- The once pristine Henderson Island is now covered with waste

27) Read the passage carefully and answer the question given below:

Henderson Island in the South Pacific Ocean has always been known for its remarkable biological diversity and untouched ecology. Now, the remote UNESCO World Heritage site that lies 3,100

miles (5,000 km) from the closest human settlement, can also lay claim to being one of the most polluted places on Earth.

Jennifer Lavers, a researcher from the University of Tasmania's Institute for Marine and Antarctic Studies who has been studying the coral atoll for a few years, says the tiny, 14.4 square miles (37.3 square kilometers), island is home to over 38 million pieces of waste. According to the scientist, this is the "highest density of anthropogenic waste recorded anywhere in the world, with 99.8 percent of the pollution plastic."

The amount of trash is surprising given that the island, the largest of the group of four Pitcairn volcanic islands, has no residents and is visited by scientists only once or twice every decade. However, as it turns out, humans do not need to be physically present to pollute an area. In this case, the trash is brought in by the South Pacific Gyre, an ocean current that sends garbage bobbing through the sea to Henderson. The primary offenders are fishing-related debris, like lines and nets, and single-use household items.

What's even worse is that the unsightly rubbish scattered across the island's sandy beaches is just the tip of the iceberg. According to the researchers, over 68% of the junk is buried under the sand. This means their estimates, based on the trash found up to 10 centimeters below the sand, may be underestimating the full extent of the pollution.

Besides being aesthetically unpleasing, the waste is also harmful to the island's wildlife. Lavers and study co-author Alexander Bond discovered hermit crabs taking refuge in toxic cosmetic jars, and sea turtles, which come to the island to lay eggs, get entangled inside fishing lines. The trash is also harmful to seabirds and fish that mistake the colorful plastic pieces for food.

Question: What is the main idea of the passage?

1. Henderson Island, though untouched by humans, has become the most polluted places on earth.
2. Henderson Island is today looking ugly with the amount of trash dumped there because of human settlements
3. The trash on the island is harming marine life since fishes eat the colorful plastic pieces mistaking them for food.
4. The waste is turning out to be alarmingly dangerous to the ecology.

Correct Answer :-

- Henderson Island, though untouched by humans, has become the most polluted places on earth.

28) Read the passage carefully and answer the question given below:

Henderson Island in the South Pacific Ocean has always been known for its remarkable biological diversity and untouched ecology. Now, the remote UNESCO World Heritage site that lies 3,100 miles (5,000 km) from the closest human settlement, can also lay claim to being one of the most polluted places on Earth.

Jennifer Lavers, a researcher from the University of Tasmania’s Institute for Marine and Antarctic Studies who has been studying the coral atoll for a few years, says the tiny, 14.4 square miles (37.3 square kilometers), island is home to over 38 million pieces of waste. According to the scientist, this is the “highest density of anthropogenic waste recorded anywhere in the world, with 99.8 percent of the pollution plastic.”

The amount of trash is surprising given that the island, the largest of the group of four Pitcairn volcanic islands, has no residents and is visited by scientists only once or twice every decade. However, as it turns out, humans do not need to be physically present to pollute an area. In this case, the trash is brought in by the South Pacific Gyre, an ocean current that sends garbage bobbing through the sea to Henderson. The primary offenders are fishing-related debris, like lines and nets, and single-use household items.

What’s even worse is that the unsightly rubbish scattered across the island’s sandy beaches is just the tip of the iceberg. According to the researchers, over 68% of the junk is buried under the sand. This means their estimates, based on the trash found up to 10 centimeters below the sand, may be underestimating the full extent of the pollution.

Besides being aesthetically unpleasing, the waste is also harmful to the island’s wildlife. Lavers and study co-author Alexander Bond discovered hermit crabs taking refuge in toxic cosmetic jars, and sea turtles, which come to the island to lay eggs, get entangled inside fishing lines. The trash is also harmful to seabirds and fish that mistake the colorful plastic pieces for food.

Question: The underlined phrase, “just the tip of the iceberg” in Paragraph 3 in the passage means:

1. All of the above
2. There is more junk under the sand that meets the human eye.
3. The pollutants are fishing-related debris, like lines and nets, and single-use household items.
4. The sandy beaches have a lot more of biological diversity and untouched ecology today.

Correct Answer :-

- There is more junk under the sand that meets the human eye.

29) Read the passage carefully and answer the question given below:

Henderson Island in the South Pacific Ocean has always been known for its remarkable biological diversity and untouched ecology. Now, the remote UNESCO World Heritage site that lies 3,100 miles (5,000 km) from the closest human settlement, can also lay claim to being one of the most polluted places on Earth.

Jennifer Lavers, a researcher from the University of Tasmania’s Institute for Marine and Antarctic Studies who has been studying the coral atoll for a few years, says the tiny, 14.4 square miles (37.3 square kilometers), island is home to over 38 million pieces of waste. According to the scientist, this is the “highest density of anthropogenic waste recorded anywhere in the world, with 99.8 percent of the pollution plastic.”

The amount of trash is surprising given that the island, the largest of the group of four Pitcairn volcanic islands, has no residents and is visited by scientists only once or twice every decade. However, as it turns out, humans do not need to be physically present to pollute an area. In this case, the trash is brought in by the South Pacific Gyre, an ocean current that sends garbage bobbing through the sea to Henderson. The primary offenders are fishing-related debris, like lines and nets, and single-use household items.

What's even worse is that the unsightly rubbish scattered across the island's sandy beaches is just the tip of the iceberg. According to the researchers, over 68% of the junk is buried under the sand. This means their estimates, based on the trash found up to 10 centimeters below the sand, may be underestimating the full extent of the pollution.

Besides being aesthetically unpleasing, the waste is also harmful to the island's wildlife. Lavers and study co-author Alexander Bond discovered hermit crabs taking refuge in toxic cosmetic jars, and sea turtles, which come to the island to lay eggs, get entangled inside fishing lines. The trash is also harmful to seabirds and fish that mistake the colorful plastic pieces for food.

Question: Which of the following statements is FALSE according to the passage?

1. According to the researchers, over 68% of the junk is found on the sand.
2. The trash found up to 10 centimeters below the sand, may be underestimating the full extent of the pollution.
3. The tiny island is home to over 38 million pieces of waste.
4. The island is harmful to the wildlife living there.

Correct Answer :-

- According to the researchers, over 68% of the junk is found on the sand.

30) Read the passage carefully and answer the question given below:

Henderson Island in the South Pacific Ocean has always been known for its remarkable biological diversity and untouched ecology. Now, the remote UNESCO World Heritage site that lies 3,100 miles (5,000 km) from the closest human settlement, can also lay claim to being one of the most polluted places on Earth.

Jennifer Lavers, a researcher from the University of Tasmania's Institute for Marine and Antarctic Studies who has been studying the coral atoll for a few years, says the tiny, 14.4 square miles (37.3 square kilometers), island is home to over 38 million pieces of waste. According to the scientist, this is the "highest density of anthropogenic waste recorded anywhere in the world, with 99.8 percent of the pollution plastic."

The amount of trash is surprising given that the island, the largest of the group of four Pitcairn volcanic islands, has no residents and is visited by scientists only once or twice every decade. However, as it turns out, humans do not need to be physically present to pollute an area. In this

case, the trash is brought in by the South Pacific Gyre, an ocean current that sends garbage bobbing through the sea to Henderson. The primary offenders are fishing-related debris, like lines and nets, and single-use household items.

What's even worse is that the unsightly rubbish scattered across the island's sandy beaches is just the tip of the iceberg. According to the researchers, over 68% of the junk is buried under the sand. This means their estimates, based on the trash found up to 10 centimeters below the sand, may be underestimating the full extent of the pollution.

Besides being aesthetically unpleasing, the waste is also harmful to the island's wildlife. Lavers and study co-author Alexander Bond discovered hermit crabs taking refuge in toxic cosmetic jars, and sea turtles, which come to the island to lay eggs, get entangled inside fishing lines. The trash is also harmful to seabirds and fish that mistake the colorful plastic pieces for food.

Question: According to the passage, what could be the main cause of the island's dangerous state?

1. Scientists
2. The ocean currents that deposit garbage bobbing through the sea to Henderson
3. The island's geographical position as it lies closest to human settlement
4. Residents

Correct Answer :-

- The ocean currents that deposit garbage bobbing through the sea to Henderson

Topic:- General Knowledge

1) If 3rd of the month is Friday what day will be on the 4th day after the 21st of the month? / यदि महीने का तीसरा दिन शुक्रवार है तो उस महीने में 21 तारीख के बाद के चौथे दिन कौन सा दिन होगा?

1. Wednesday/ बुधवार
2. Tuesday/ मंगलवार
3. Saturday/ शनिवार
4. Monday/ सोमवार

Correct Answer :-

- Saturday/ शनिवार

2) Sudesh ranks seventh from the top and 28th from the bottom. How many students are there in the class? / सुदेश का शीर्ष से सातवां स्थान है तथा नीचे से 28वां स्थान है। कक्षा में छात्रों की संख्या कितनी है?

1. 35

2. 28

3. 21

4. 34

Correct Answer :-

- 34

3) In the following question, select the related letter/word/number from the given alternatives:/ निम्नलिखित प्रश्न में दिए गए विकल्पों में से सम्बन्धित अक्षर/शब्द/संख्या को चुनिए।

24 : 60 :: 120 : ?

1. 108

2. 220

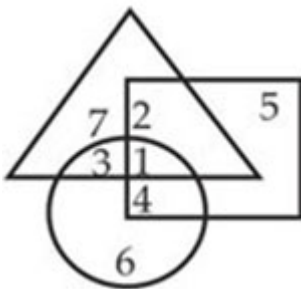
3. 160

4. 300

Correct Answer :-

- 300

4) In the given diagram, Circle represents strong men, Square represents short men and Triangle represents military officers. Which region represents military officers who are short but not strong?/ दिए गए आरेख में, वृत्त ताकतवर पुरुषों को दर्शाता है, वर्ग छोटे पुरुषों को दर्शाता है और त्रिभुज सैन्य अधिकारियों को दर्शाता है। कौन सा क्षेत्र उन सैन्य अधिकारियों को दर्शाता है जो छोटे हैं लेकिन ताकतवर नहीं हैं?



1. 4

2. 2

3. 3

4. 1

Correct Answer :-

5) DIRECTIONS: Solve the alphanumeric series given below:/ निर्देश: नीचे दी गई अक्षरांकीय श्रेणी को हल करें:

A4, D8, H16, M32, ?

1. P64
2. S64
3. O64
4. R64

Correct Answer :-

- S64

6) Select the related word from the given alternatives:/ दिए गए विकल्पों में से विषम शब्द को चुनिए:

POINT : LINE::/ बिंदु : रेखा::

1. Triangle: Square / त्रिभुज : वर्ग
2. Centre : Circumference / केंद्र : परिधि
3. Word : Newspaper / शब्द : समाचार-पत्र
4. Line : Circle / रेखा : वृत्त

Correct Answer :-

- Word : Newspaper / शब्द : समाचार-पत्र

7) Select the correct combination of mathematical signs to replace * signs and to balance the given equation:/ * चिह्नों को बदलने के लिए और दिए गए समीकरण को संतुलित करने के लिए गणितीय संकेतों का सही संयोजन चुनें:

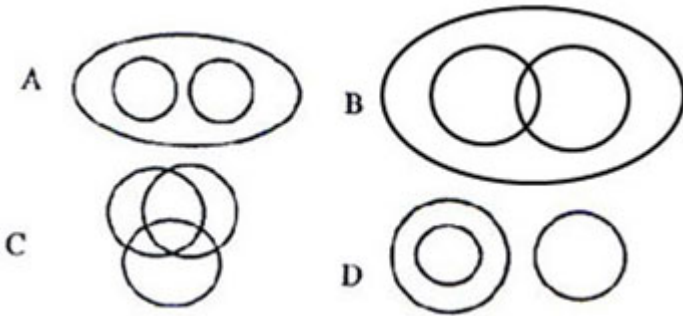
5 * 5 * 5 * 3 * 10

1. + - × =
2. + ÷ = ×
3. + ÷ × =
4. × + = ×

Correct Answer :-

- × + = ×

8) Which figure represents the exact relationship with the variables given in questions? / कौनसी आकृति प्रश्न में दिए गए अवयवों के साथ निश्चित संबंध को दर्शाती है?



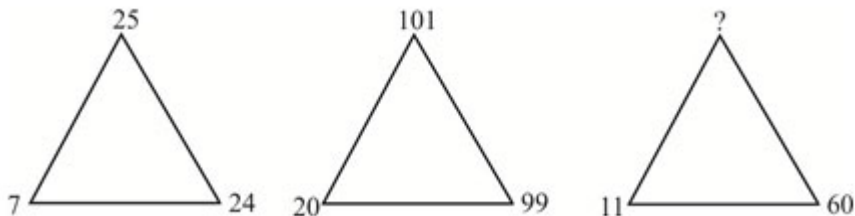
Animal, Dog, Cat / पशु, कुत्ता, बिल्ली

1. D
2. B
3. C
4. A

Correct Answer :-

- A

9) Which one will replace the question mark (?)? / निम्न में से कौन प्रश्न चिन्ह (?) को प्रतिस्थापित करेगा?



1. 61
2. 75
3. 93
4. 44

Correct Answer :-

- 61

10) During which of the following festivals is the Baredi folk-dance performed? / निम्नलिखित में से किस उत्सव के दौरान बरेदी लोक नृत्य किया जाता है?

1. Diwali/दिवाली

2. Holi/ होली
3. Janmashtami/जन्माष्टमी
4. Baisakhi/ बैसाखी

Correct Answer :-

- Diwali/दिवाली

11) Since which year did Gandhiji enter active politics in India for the first time?/ किस वर्ष से गांधी जी ने पहली बार भारत में सक्रिय राजनीति में प्रवेश किया था?

1. 1917
2. 1918
3. 1919
4. 1916

Correct Answer :-

- 1917

12) Sakhya Sagar, an artificial lake is situated in the – / सख्या सागर नामक कृत्रिम झील कहाँ स्थित है?

1. Madhav National Park/ माधव राष्ट्रीय उद्यान
2. Pench National Park/ पेंच राष्ट्रीय उद्यान
3. Kanha National Park/ कान्हा राष्ट्रीय उद्यान
4. Fossil National Park/ जीवाश्म राष्ट्रीय उद्यान

Correct Answer :-

- Madhav National Park/ माधव राष्ट्रीय उद्यान

13) Till the formation of the Chhattisgarh state, Madhya Pradesh was the _____ state in India./ छत्तीसगढ़ राज्य के गठन तक, मध्य प्रदेश भारत का _____ राज्य था।

1. Largest/ सबसे बड़ा
2. Second Largest/ दूसरा सबसे बड़ा
3. Third Largest/ तीसरा सबसे बड़ा
4. Fourth Largest/ चौथा सबसे बड़ा

Correct Answer :-

- Largest/ सबसे बड़ा

14) The Fair of Mahamrityunjay in Rewa is held – / रीवा में महामृत्युंजय मेला आयोजित किया जाता है -

1. Every 2 years/ प्रति 2 वर्ष में
2. Every 3 years/ प्रति 3 वर्ष में
3. Every year/ प्रति वर्ष में
4. Every 5 years/ प्रति 5 वर्ष में

Correct Answer :-

- Every year/ प्रति वर्ष में

15) The Nobel laureate Liu Xiaobo who recently passed away belonged to – / नोबेल पुरस्कार विजेता लियू ज़ियोओबो जिनका हाल ही में निधन हो गया था, कहाँ से सम्बंधित थे?

1. China/ चीन
2. Japan/ जापान
3. Thailand/ थाईलैंड
4. North Korea/ उत्तर कोरिया

Correct Answer :-

- China/ चीन

16) In which year did Baji Rao I conquer Bassein from the Portugese?/ किस वर्ष में बाजी राव I ने पुर्तगाली से बेसिन को जीत लिया था?

1. 1738
2. 1741
3. 1739
4. 1740

Correct Answer :-

- 1739

17) In which year did the Madhya Pradesh Government introduce the Samadhan Online? / मध्यप्रदेश राज्य सरकार ने किस वर्ष में समधान ऑनलाइन का आरम्भ किया?

1. 2009
2. 2006
3. 2008

4. 2007

Correct Answer :-

- 2006

18) In which year did Peshwa Baji Rao II cede a greater portion of the Sagar district to the British?/ किस वर्ष में पेशवा बाजी राव द्वितीय ने सागर जिले का एक बड़ा भाग ब्रिटिशों को सौंप दिया था?

1. 1819
2. 1818
3. 1820
4. 1821

Correct Answer :-

- 1818

19) In which district is the Ahmadpur Rock Shelter found?/ अहमदपुर रॉक शेल्टर किस जिले में स्थित है?

1. Khandwa/ खंडवा
2. Vidisha/ विदिशा
3. Rewa/ रीवा
4. Raisen/ रायसेन

Correct Answer :-

- Vidisha/ विदिशा

20) In which year was the Tulsi Award founded in Madhya Pradesh?/ मध्य प्रदेश में तुलसी पुरस्कार किस वर्ष में स्थापित किया गया था?

1. 1980-81
2. 1983-84
3. 1982-83
4. 1981-82

Correct Answer :-

- 1983-84

21) Who was the father of Ashoka?/ अशोक के पिता कौन थे?

1. Chandragupta Maurya/ चंद्रगुप्त मौर्य
2. Brihadratha/ बृहद्रथ
3. Bindusara/ बिन्दुसार
4. Kunala/ कुणाला

Correct Answer :-

- Bindusara/ बिन्दुसार

**22) Which of the following rhythm instruments is used in the Swang folk-dance?/
निम्नलिखित ताल उपकरणों में से कौन- सा स्वांग लोक-नृत्य में उपयोग किया जाता है?**

1. Mridang/ मृदंग
2. Dafli/ डफली
3. Tabla/ तबला
4. Khol/ खोल

Correct Answer :-

- Mridang/ मृदंग

**23) Which of the following instruments has its strings made of horse-hair?/
निम्नलिखित में से कौन- से वाद्य यन्त्र के तार घोड़े के बाल से बने हैं?**

1. Ektara/ एकतारा
2. Chinkara/ चिंकारा
3. Khamak/ खमक
4. Rawanhatta/ रावणहत्ता

Correct Answer :-

- Chinkara/ चिंकारा

**24) Which of the following clans of Rajputs is the Khajuraho temple associated with?/
राजपूतों के निम्नलिखित वंशों में से कौन- सा खजुराहो मंदिर से जुड़ा हुआ है?**

1. Parmara/ परमार
2. Chandela/ चंदेल
3. Baghel/ बघेल
4. Tomar/ तोमर

Correct Answer :-

- Chandela/ चंदेल

25) When was the Panna National Park declared a Tiger Reserve?/ पन्ना राष्ट्रीय उद्यान को टाइगर रिजर्व कब घोषित किया गया था?

1. 1996
2. 1995
3. 1994
4. 1997

Correct Answer :-

- 1994

26) Where is the Gun Carriage Factory situated in Madhya Pradesh?/ मध्य प्रदेश में गन कैरेज फैक्टरी कहां स्थित है?

1. Jabalpur/जबलपुर
2. Bhopal/ भोपाल
3. Indore/ इंदौर
4. Gwalior/ ग्वालियर

Correct Answer :-

- Jabalpur/जबलपुर

27) Where is the Netaji Subhas Chandra Bose Airport located?/ नेताजी सुभाष चंद्र बोस हवाई अड्डा कहां स्थित है?

1. Mumbai/ मुंबई
2. Delhi/ दिल्ली
3. Bengaluru/ बेंगलुरु
4. Kolkata/ कोलकाता

Correct Answer :-

- Kolkata/ कोलकाता

28) Where was the 19th RCEP Trade Negotiating Committee Meeting held?/ 19वीं आरसीईपी व्यापार वार्ता समिति की बैठक कहां की गई थी?

1. Hyderabad/ हैदराबाद
2. Bengaluru/ बेंगलुरु

3. Kolkata/ कोलकाता

4. Amritsar/ अमृतसर

Correct Answer :-

- Hyderabad/ हैदराबाद

29) What is the capital of Spain?/ स्पेन की राजधानी क्या है?

1. Madrid/ मैड्रिड

2. Bucharest/ बुहारेस्ट

3. Belgrade/ बेलग्रेड

4. Warsaw/ वॉरसॉ

Correct Answer :-

- Madrid/ मैड्रिड

30) What does the 'I' in MPTRIFAC stand for?/ एमपीटीआरआईएफएसी में 'आई' का अर्थ क्या है?

1. Industry/ इंडस्ट्री

2. Investment/ इन्वेस्टमेंट

3. Income/ इनकम

4. Investor/ इन्वेस्टर

Correct Answer :-

- Investment/ इन्वेस्टमेंट

31) Which Gharana did Krishn Rao Pandit's singing belong to?/ कृष्ण राव पंडित का गायन कौन-से घराने से संबंधित है?

1. Maihar Gharana/ मैहर घराना

2. Indore Gharana/ इंदौर घराना

3. Gwalior Gharana/ ग्वालियर घराना

4. None of these/ इनमें से कोई नहीं

Correct Answer :-

- Gwalior Gharana/ ग्वालियर घराना

32) Whom did Akbar send to capture Mandu?/ अकबर ने मांडू पर कब्ज़ा करने के लिए किसे भेजा था?

1. Mohammed Khan/ मोहम्मद खान
2. Bairam Khan/ बैरम खान
3. Kamran Mirza/ कामरान मिर्जा
4. Adham Khan/ अधम खान

Correct Answer :-

- Adham Khan/ अधम खान

33) Over which of the following produce does the Madhya Pradesh Government have a trade monopoly?/ निम्नलिखित में से कौन सा मध्यप्रदेश सरकार का एक व्यापारिक एकाधिकार वाला उपज है?

1. Sal Seeds/ साल का बीज
2. Cotton/ कपास
3. Teak/ सागौन
4. Wheat/ गेहूँ

Correct Answer :-

- Sal Seeds/ साल का बीज

34) The following question is based on a code language in which FORMATION is written as ZSXTJOBLS and RACIAL is written as XJNBJQ. How is RATIONAL written in this language?/निम्नलिखित प्रश्न में, एक कूट भाषा पर आधारित है जिसमें FORMATION को ZSXTJOBLS तथा RACIAL को XJNBJQ लिखा जाता है। इस भाषा में RATIONAL कैसे लिखा गया है?

1. XJOBLSJQ
2. XJOBSJLQ
3. JXOBLSJQ
4. JXOBSJLQ

Correct Answer :-

- XJOBLSJQ

35) In a certain code BRIGHT is written as JSCSGF. How is JOINED written in that code?/एक निश्चित कूट भाषा में, BRIGHT को JSCSGF लिखा जाता है | JOINED उस कूट में, कैसे लिखा जायेगा?

1. JPKEFO
2. None of these/इनमें से कोई नहीं

3. KPJCDM

4. JPKMDC

Correct Answer :-

- None of these/इनमें से कोई नहीं

36) DIRECTIONS: In the question below are given few statements followed by few conclusion. You have to take the given statements to be true even if they seem to be at variance with the commonly known facts and then decide which of the given conclusions logically follows from the given statements, disregarding commonly known facts./निर्देश: नीचे दिए गए प्रश्न में कुछ कथन और उसके बाद कुछ निष्कर्ष दिए गए हैं। आपको दिए गए कथनों को सत्य मानना है भले ही वे सर्वज्ञात तथ्यों से भिन्न प्रतीत होते हों। सभी निष्कर्षों को पढ़िए फिर तय कीजिए कि दिए गए निष्कर्षों में से कौन-सा निष्कर्ष दिए गए कथनों का तर्कसंगत रूप से अनुसरण करता है, चाहे सर्वज्ञात तथ्य कुछ भी हों।

Statements:/ कथन:

Some gates are keys./ कुछ दरवाजे, चाबियाँ हैं।

Some keys are locks./ कुछ चाबियाँ, ताले हैं।

All locks are woods./ सभी ताले, लकड़ी हैं।

No wood is gate./ कोई लकड़ी, दरवाजे नहीं है।

Conclusions:/निष्कर्ष:

I. No lock is gate./ कोई ताला, दरवाजे नहीं है।

II. Some woods are keys./ कुछ लकड़ी, चाबियाँ हैं।

III. Some keys are not gate./ कुछ चाबियाँ, दरवाजे नहीं हैं।

1. None follows/ कोई भी अनुसरण नहीं करता है
2. Only I and II follow/ केवल I और II अनुसरण करते हैं
3. Only I follows/ केवल I अनुसरण करता है
4. Only II follows/ केवल II अनुसरण करता है

Correct Answer :-

- Only I and II follow/ केवल I और II अनुसरण करते हैं

37) DIRECTIONS: In the question below are given few statements followed by few conclusion. You have to take the given statements to be true even if they seem to be at variance with the commonly known facts and then decide which of the given conclusions logically follows from the given statements, disregarding commonly known facts./निर्देश: नीचे दिए गए प्रश्न में कुछ कथन और उसके बाद कुछ निष्कर्ष दिए गए हैं। आपको दिए गए कथनों को सत्य मानना है भले ही वे सर्वज्ञात तथ्यों से भिन्न

प्रतीत होते हैं। सभी निष्कर्षों को पढ़िए फिर तय कीजिए कि दिए गए निष्कर्षों में से कौन-सा निष्कर्ष दिए गए कथनों का तर्कसंगत रूप से अनुसरण करता है, चाहे सर्वज्ञात तथ्य कुछ भी हों।

Statements:/कथन:

Some cars are wheels./ कुछ कार, पहिए हैं।

All wheels are branches./ सभी पहिए, डालियाँ हैं।

Some branches are tins./कुछ डालियाँ, टिन हैं।

Conclusions:/निष्कर्ष:

I. Some cars are branches./ कुछ कार, डालियाँ हैं।

II. Some tins are branches./कुछ टिन, डालियाँ हैं।

1. Only Conclusion I follows/ केवल निष्कर्ष I अनुसरण करता है
2. Either Conclusion I or II follows/ या निष्कर्ष I या II अनुसरण करता है
3. Only Conclusion II follows/ केवल निष्कर्ष II अनुसरण करता है
4. Both Conclusions I and II follows/ दोनों निष्कर्ष अनुसरण करते हैं

Correct Answer :-

- Both Conclusions I and II follows/ दोनों निष्कर्ष अनुसरण करते हैं

38)

$$5 = x + \frac{1}{1 - \frac{1}{3 + \frac{1}{4}}}$$

$$5 = x + \frac{1}{1 - \frac{1}{3 + \frac{1}{4}}}$$

If $\frac{1}{1 - \frac{1}{3 + \frac{1}{4}}}$, then the value of x is:/यदि तो x का मान ज्ञात कीजिए।

1. $\frac{32}{9}$
2. $\frac{18}{17}$
3. $\frac{12}{17}$
4. $\frac{13}{17}$

Correct Answer :-

- $\frac{32}{9}$

39) Which of the following fraction is the smallest?/निम्न भिन्नों में कौन सी सबसे छोटी है?

$\frac{15}{16}, \frac{19}{20}, \frac{24}{25}, \frac{34}{35}$

1. $\frac{19}{20}$

2. $\frac{24}{25}$

3. $\frac{15}{16}$

4. $\frac{34}{35}$

Correct Answer :-

• $\frac{15}{16}$

40) Kathir is senior of Ganesh. Ganesh is senior than Apparu. Apparu is junior of Raju. Raju is junior of Ganesh. Who is the most senior?/ काथिर, गणेश से वरिष्ठ है। गणेश, अप्पारु से वरिष्ठ है। अप्पारु, राजू से कनिष्ठ है। राजू, गणेश से कनिष्ठ है। सबसे वरिष्ठ कौन है ?

1. Kathir/ काथिर
2. Apparu/ अप्पारु
3. Ganesh/ गणेश
4. Raju/ राजू

Correct Answer :-

- Kathir/ काथिर

41) CANCELLED

What type of mirror can be used to obtain the real image of an object?/ किसी पिंड की वास्तविक प्रतिबिंब बनाने के लिए उपयोग होने वाला दर्पण कौनसा है:

1. Convex mirror/ अवतल दर्पण
2. No mirror can produce a real image/ कोई भी दर्पण वास्तविक प्रतिबिंब नहीं बना सकता
3. Plane mirror/ समतल दर्पण
4. Concave mirror/ उत्तल दर्पण

Correct Answer :-

- Concave mirror/ उत्तल दर्पण

42) CANCELLED

Which of the following districts of Madhya Pradesh shares its borders both with the states of Uttar Pradesh and Chhattisgarh?/ मध्यप्रदेश के निम्नलिखित जिलों में से कौन-सा जिला उत्तर प्रदेश और छत्तीसगढ़ दोनों राज्यों के साथ सीमा साझा करता है?

1. Damoh/दमोह
2. Sidhi/ सीधी
3. Jhabua/ झाबुआ
4. Rewa/ रीवा

Correct Answer :-

- Sidhi/ सीधी

43) CANCELLED

DIRECTIONS: In the question below are given few statements followed by few conclusion. You have to take the given statements to be true even if they seem to be at variance with the commonly known facts and then decide which of the given conclusions logically follows from the given statements, disregarding commonly known facts./निर्देश: नीचे दिए गए प्रश्न में कुछ कथन और उसके बाद कुछ निष्कर्ष दिए गए हैं। आपको दिए गए कथनों को सत्य मानना है भले ही वे सर्वज्ञात तथ्यों से भिन्न प्रतीत होते हों। सभी निष्कर्षों को पढ़िए फिर तय कीजिए कि दिए गए निष्कर्षों में से कौन-सा निष्कर्ष दिए गए कथनों का तर्कसंगत रूप से अनुसरण करता है, चाहे सर्वज्ञात तथ्य कुछ भी हों।

Statements:/कथन:

All pencils are houses./ सभी पेंसिल, रबड़ हैं।

All houses are eraser./ सभी घर, रबड़ हैं।

Conclusions:/ निष्कर्ष:

I. All pencils are eraser./ सभी पेंसिल, रबड़ हैं।

II. Some erasers are pencils./ कुछ रबड़, पेंसिल हैं।

III. All erasers are pencils./ सभी रबड़, पेंसिल हैं।

1. Only I and II follow/केवल I और II अनुसरण करते हैं
2. None follows/कोई अनुसरण नहीं करता है
3. Only II follows/केवल II अनुसरण करता है
4. All follow/ सभी अनुसरण करते हैं

Correct Answer :-

- Only I and II follow/केवल I और II अनुसरण करते हैं

44)

800 chocolates were distributed among the students of a class. Each student got twice as many chocolates as the number of students in the class. The number of students in the class was: / 800 चॉकलेट एक कक्षा के विद्यार्थियों में बाँटी गई। यदि प्रत्येक छात्र को कक्षा में छात्रों की संख्या की दोगुनी चॉकलेट मिलती है, तो कक्षा में छात्रों की संख्या थी:

1. 20
2. 35
3. 30
4. 25

Correct Answer :-

- 20

45)

$$\frac{5}{3 + \frac{3}{1 - \frac{2}{3}}} = ? \quad \frac{5}{3 + \frac{3}{1 - \frac{2}{3}}} = ?$$

The simplification of

/

का सरलीकरण मान क्या होगा?

1. $\frac{3}{5}$
2. $\frac{5}{3}$
3. $\frac{5}{12}$
4. 5

Correct Answer :-

- $\frac{5}{12}$

46) A and B invested Rs.7,000 and Rs.10,000 respectively in a business. A left the business with his money after 9 months and at the end of the first year they earned a profit of Rs. 6100. What is the share of B in the profit? / A और B किसी व्यापार में क्रमशः Rs.7,000 और Rs.10,000 निवेश करते हैं | A, 9 महीने बाद अपनी राशि लेकर व्यापार छोड़ देता है | पहले साल के अंत में कुल लाभ Rs.6100 है | B का लाभ में हिस्सा क्या होगा?

1. Rs.4800
2. Rs.5600
3. Rs.2600
4. Rs.4000

Correct Answer :-

- Rs.4000

47) If the students of a class can be grouped exactly into 6 or 8 or 10, then the minimum number of students in the class must be: /यदि एक कक्षा को छात्रों की 6 या 8 या 10 के समूहों में बाँटा जाता है तो, कक्षा में न्यूनतम कितने छात्र हैं?

1. 120
2. 240
3. 60
4. 180

Correct Answer :-

- 120

48) A sum of Rs.1600 gives a simple interest of Rs.252 in 2 years and 3 months. The rate of interest per annum is:/ Rs.1600 की धनराशि पर 2 वर्ष 3 महीने का साधारण ब्याज Rs.252 है, ब्याज की दर है:

1. 6%
2. 7%
3. 8%
4. $5\frac{1}{2}\%$

Correct Answer :-

- 7%

49) In what time will Rs.1000 becomes Rs.1331 at 10% per annum compounded annually? /10% वार्षिक चक्रवृद्धि ब्याज की दर से Rs.1000 कितने समय में Rs.1331 हो जायेगा?

1. 2 years/ 2 वर्ष
2. 3 years/ 3 वर्ष
3. 5 years/ 5 वर्ष
4. 4 years/ 4 वर्ष

Correct Answer :-

- 3 years/ 3 वर्ष

50) Who is known as father of 'taxonomy'?/ किसे वर्गीकरण विज्ञान का जनक माना जाता है?

1. Linnaeus/ लिनियस
2. None of these/ उपरोक्त में से कोई नहीं
3. Theophrastus/ थियोफ्रेटस
4. Lamarck/ लेमार्क

Correct Answer :-

- Linnaeus/ लिनियस

51) A train with a uniform speed passes a platform, 122 meters long, in 17 seconds and a bridge, 210 meters long in 25 seconds. The speed of the train is:/एक समान गति से चलती हुई एक रेलगाड़ी 122 मीटर लंबे प्लेटफार्म को 17 सेकंड में तथा 210 मीटर लंबे पुल को पार करने में 25 सेकंड का समय लेती है। रेलगाड़ी की गति बताइए।

1. 37.5 kmph/37.5 किमी/घंटा
2. 39.6 kmph/39.6 किमी/घंटा
3. 46.5 kmph/ 46.5 किमी/घंटा
4. 37.6 kmph/37.6 किमी/घंटा

Correct Answer :-

- 39.6 kmph/39.6 किमी/घंटा

52) A train is 125 m long. If the train takes 30 seconds to cross a tree by the railway line, then the speed of the train is:/125 मीटर लंबाई की एक रेलगाड़ी रेलवे लाइन के किनारे खड़े एक पेड़ को पार करने में 30 सेकंड का समय लेती है। रेलगाड़ी की गति बताइए।

1. 12 km/hr/12 किमी/घंटा
2. 15 km/hr/15 किमी/घंटा
3. 16 km/hr/16 किमी/घंटा
4. 14 km/hr/14 किमी/घंटा

Correct Answer :-

- 15 km/hr/15 किमी/घंटा

53) One of the pandemic diseases is?/ निम्न में से कौन सी एक आम (सामान्य) महामारी है:

1. Filariasis/ हाथी पाव
2. Influenza/ इंप्लुएंज़ा

3. Hepatitis/ हेपेटाइटिस
4. Amoebic dysentery/ पेचिश

Correct Answer :-

- Influenza/ इंप्लुएंज़ा

54) From the given alternative choose the one who is different from other three alternatives./ दिए गए विकल्पों में से उस विकल्प को चुनिए, जो अन्य तीन विकल्पों से भिन्न है।

1. Smuggling/ तस्करी
2. Blackmail/ भयादोहन
3. Forgery/ जालसाजी
4. Snobbery/ असभ्यता

Correct Answer :-

- Snobbery/ असभ्यता

55) The gravitational force with which the sun attracts the earth?/ सूर्य जिस गुरुत्व से पृथ्वी को आकर्षित करता है वह?

1. Is less than the forces with which earth attracts the sun/ उस बल से कम होता है जिससे पृथ्वी सूर्य को आकर्षित करती है
2. Is the same as the force with which earth attracts the sun/ यह उस बल के समान है जो जिससे पृथ्वी सूर्य को आकर्षित करती है
3. Is more than the forces with which earth attracts the sun/ उस बल से अधिक होता है जिससे पृथ्वी सूर्य को आकर्षित करती है
4. Is constant through the year/ वर्ष पर्यंत समान रहता है

Correct Answer :-

- Is the same as the force with which earth attracts the sun/ यह उस बल के समान है जो जिससे पृथ्वी सूर्य को आकर्षित करती है

56) While sowing seeds, the fertilizer commonly used contains?/ बीजो को रोपते समय सामान्यतः कौन सा उर्वरक उपयोग में लाया जाता है:

1. Calcium/ कैल्सियम
2. Potash/ पोटाश
3. Phosphorus/ फोस्फोरस
4. Nitrates/ नाइट्रेट

Correct Answer :-

- Phosphorus/ फोस्फोरस

57) The deficiency of vitamin A causes?/ विटामिन ए की कमी से कौन सा रोग हो सकता है:

1. Weakness/ कमज़ोरी
2. Dysentery/ दस्त
3. Hair to fall/ बालो का झड़ना
4. Night blindness/ रात्रि अंधता

Correct Answer :-

- Night blindness/ रात्रि अंधता

58) Alloy steel containing chromium to resist rusting is known as?/ मिश्रधातु इस्पात में क्रोमियम होता है जो जंग के प्रति अवरोध का कार्य करता है इसे किस नाम से जाना जाता है:

1. Wrought iron/ कच्चा लोहा
2. Stainless steel/ स्टेनलेस स्टील
3. Hard steel/ कडक लोहा
4. Cast iron/ कास्ट लोहा

Correct Answer :-

- Stainless steel/ स्टेनलेस स्टील

59) The dreaded human disease, syphilis, is caused by?/ एक जानलेवा मानव रोग सीफिलिस का कारक है?

1. An animal parasite/ एक जन्तु परजीवी
2. A bacterium/ एक जीवाणु
3. Virus/ विषाणु
4. Fungus/ कवक

Correct Answer :-

- A bacterium/ एक जीवाणु

60) If the sum of the interior angles of a regular polygon be 1080° , the number of the sides of the polygon is:/ किसी बहुभुज के आंतरिक कोणों का योग 1080° है। बहुभुज की भुजाओं की संख्या ज्ञात करें।

1. 12
2. 10
3. 6
4. 8

Correct Answer :-

- 8

61) Looking at a photograph a person said "I have no brother or sister but that man's father is my father's son". At whose photograph was the person looking at? / एक तस्वीर को देखते हुए एक व्यक्ति ने कहा "मेरा कोई भाई या बहन नहीं है परंतु इस व्यक्ति के पिता मेरे पिता का पुत्र है" व्यक्ति किसकी तस्वीर देख रहा था ?

1. His nephew/उसका भतीजा
2. His sons/उसका पुत्र
3. His father/उसके पिता
4. His own/स्वयं की

Correct Answer :-

- His sons/उसका पुत्र

62) DIRECTIONS: From the given alternative words, select the word which cannot be formed using the letters of the given word./निर्देश: निम्नलिखित विकल्पों में से वह शब्द चुनिये जो दिए गए शब्द के अक्षरों का प्रयोग करके नहीं बनाया जा सकता है-

GENERALIZATION

1. GOAT
2. NOTE
3. LIZARD
4. RATION

Correct Answer :-

- LIZARD

63) DIRECTIONS: Study the following information and answer the questions given:/निर्देश: दी गई जानकारी को ध्यानपूर्वक पढ़ें और नीचे दिए गए प्रश्नों के उत्तर दें:

A, B, C, D, E, F and G are sitting around a circle facing the centre, not necessarily in this order. D is not second to the left of F but D is second to the right of A. C is third to the right of A and C is second to the left of G. B is

not the immediate neighbour of G. Then, who is sitting to the immediate right of C ?/ A, B, C, D, E, F और G एक गोले के चारों ओर केन्द्र की ओर मुँह करके बैठे हैं, जरूरी नहीं कि इसी क्रम में बैठे हों। D, F के बाएँ से दूसरा नहीं है परंतु D, A के दाएँ से दूसरा है। C, A के दाएँ से तीसरा है और C, G के बाएँ से दूसरा है। B, G का निकटतम पड़ोसी नहीं है। तो, C के निकटतम दाएँ कौन बैठा है ?

1. E
2. D
3. B
4. G

Correct Answer :-

- E

64) DIRECTIONS: Arrange the following in a logical order:/ निर्देश: निम्न को एक अर्थपूर्ण क्रम में व्यवस्थित करें।

(i) Weekly/ साप्ताहिक

(ii) Daily/ प्रतिदिन

(iii) Monthly/ मासिक

(iv) Fortnightly/ पाक्षिक

(v) Bimonthly/ द्विमासिक

1. (v), (i), (ii), (iii), (iv)
2. (i) (iv), (iii), (ii), (v)
3. (ii), (i), (iv), (iii), (v)
4. (iv), (i), (ii), (iii), (v)

Correct Answer :-

- (ii), (i), (iv), (iii), (v)

65) The average marks obtained by 40 students of a class is 86. If the 5 highest marks are removed, the average reduces by one mark. The average marks of the top 5 students is:/ 40 विद्यार्थियों की कक्षा के औसत अंक 86 हैं। यदि 5 सर्वोत्तम अंक हटा दिये जाएं जिससे औसत 1 अंक कम हो जाता है, तो इन 5 विद्यार्थियों का औसत अंक ज्ञात कीजिए।

1. 96
2. 97
3. 93
4. 92

Correct Answer :-

- 93

66) The average age of P, Q and R is 25 years. If the total age of P and Q together is 39 years, then R's age is: / P, Q तथा R की औसत आयु 25 वर्ष है। यदि P और Q की कुल आयु 39 वर्ष है, तो R की आयु ज्ञात करें।

1. 19 years/19 वर्ष
2. 22 years/22 वर्ष
3. 28 year/28 वर्ष
4. 36 years/36 वर्ष

Correct Answer :-

- 36 years/36 वर्ष

67) A boy runs 20 km in 2.5 hours. How long will he take to run 32 km at double the previous speed? / एक व्यक्ति 2.5 घंटे में 20 किमी की दूरी तय कर सकता है। यदि वह अपनी गति को दुगुना कर दे, तो उसे 32 किमी की दूरी तय करने में कितना समय लगेगा?

1. $2\frac{1}{2}$ hours / $2\frac{1}{2}$ घंटे
2. $4\frac{1}{2}$ hours/ $4\frac{1}{2}$ घंटे
3. 5 hours/5 घंटे
4. 2 hours/2 घंटे

Correct Answer :-

- 2 hours/2 घंटे

68) The best conductor of heat among liquids is? / ऊष्मा का सबसे अच्छा सुचालक द्रव में निम्न में से कौनसा है:

1. Alcohol/ एल्कोहल
2. Ether/ ईथर
3. Mercury/ पारा
4. Water/ जल

Correct Answer :-

- Mercury/ पारा

69) The mammal that lays eggs is?/ कौनसा स्तनपायी है जो अंडे देता है:

1. Opossum/ ओपोसम
2. Otter/ ओटर
3. Kangaroo/ कंगारू
4. Duck-billed-platypus/ डक बिल्ल प्लेटिपस

Correct Answer :-

- Duck-billed-platypus/ डक बिल्ल प्लेटिपस

70) For the rear view, motorists use?/ पीछे की गाड़ी को देखने के लिए चालक कौनसे दर्पण का उपयोग करता है:

1. Convex mirror/ उत्तल दर्पण
2. Cylindrical mirror/ बेलनाकार दर्पण
3. Plane mirror/ समतल दर्पण
4. Concave mirror/ अवतल दर्पण

Correct Answer :-

- Convex mirror/ उत्तल दर्पण

71) Which of the following plant hormones controls fruit ripening?/ निम्न में से कौनसा पादप हार्मोन फलो को पकने का नियंत्रण करता है:

1. Ethylene/ एथाइलिन
2. Zeatin/ जियटिन
3. Auxins/ औक्सिन
4. Gibberellic acid/ गिबरेलिक अम्ल

Correct Answer :-

- Ethylene/ एथाइलिन

72) Simplify:/सरल करें:

$$\left[3\sqrt{6\sqrt{5^9}}\right]^4 \left[3\sqrt{6\sqrt{5^9}}\right]^4$$

1. 5^2
2. 5^8

3. 5^{12}

4. 5^4

Correct Answer :-

- 5^4

73) Food is cooked faster in a pressure cooker because?/ भोजन प्रेशर कुकर में जल्दी से पक जाता है क्यों?

1. Steam is hotter than the boiling water/भाप जल से अधिक गर्म होती है
2. In the cooker water starts boiling at a lower temperature/कुकर में जल कम ताप पर उबलने लगता है
3. Heat cannot escape from the cooker/उष्मा कुकर से बाहर नहीं जा सकती
4. Due to high pressure the boiling point of water is raised/उच्च दाब पर क्वथनांक बढ़ जाता है

Correct Answer :-

- Due to high pressure the boiling point of water is raised/उच्च दाब पर क्वथनांक बढ़ जाता है

74) What is the source of electric energy in an artificial satellite?/ कृत्रिम उपग्रहों में विद्युत ऊर्जा का क्या स्रोत होता है:

1. A dynamo/ एक डाइनेमो
2. A thermopile/ एक थर्मोपाइल
3. Solar cells/ सौर कोशिका
4. A mini nuclear reactor/ एक छोटा नाभिकीय संयंत्र

Correct Answer :-

- Solar cells/ सौर कोशिका

75) In a certain code 'HENRY' is written as "Jgpta", how will COUNTRY be coded?/ किसी निश्चित कूट में 'HENRY' को "Jgpta" लिखा जाता है, तो COUNTRY किस प्रकार कूटित किया जाएगा?

1. Eqwpvta
2. None of these/ इनमें से कोई नहीं
3. Eqwputa
4. Eqwvpte

Correct Answer :-

- Eqwpvta

76) 'IC chips' for computers are usually made of?/कंप्यूटर में उपयोग होने वाली आईसी चिप किससे बनी होती है

1. Gold/ स्वर्ण
2. Silicon/ सिलिकॉन
3. Lead/ लेड
4. Chromium/ क्रोमियम

Correct Answer :-

- Silicon/ सिलिकॉन

77) An amount of money is to be distributed among P, Q and R in the ratio of 2 : 7 : 9. The total of P's and Q's share is equal to R's share. What is the difference between the shares of P and Q?/एक धनराशि को P, Q और R में 2 : 7 : 9 के अनुपात में विभाजित किया गया। यदि P और Q का कुल हिस्सा R के हिस्से के बराबर है, तो P और Q के हिस्सों का अंतर ज्ञात करें।

1. Rs.5000
2. Rs.9000
3. Rs.7500
4. Data inadequate/ अपर्याप्त आँकड़े

Correct Answer :-

- Data inadequate/ अपर्याप्त आँकड़े

78) The cost price of 24 apples is the same as the selling price of 12 apples. The percentage of gain is:/ 24 सेबों का क्रय मूल्य 12 सेबों के विक्रय मूल्य के बराबर है, तो लाभ प्रतिशत ज्ञात करें।

1. 100%
2. $16\frac{2}{3}\%$
3. $12\frac{1}{2}\%$
4. 20%

Correct Answer :-

- 100%

79) A person has a chemical of Rs.25 per litre. In what ratio should water be mixed with chemical so that after selling the mixture at Rs.20 per litres he may get a profit of 25%./एक आदमी के पास Rs.25 प्रति लीटर वाला रसायन है। किस अनुपात में पानी को रसायन के साथ मिलाया जाए ताकि मिश्रण को Rs.20 प्रति लीटर बेचने पर 25% का लाभ हो?

1. 9 : 16
2. 9 : 14
3. 14 : 11
4. 16 : 7

Correct Answer :-

- 9 : 16

80) A man sold an article at a loss of 20%. If he had sold that article for Rs.12 more he would have gained 10%. Find the cost price of that article./एक व्यक्ति एक वस्तु को 20% हानि पर बेचता है। यदि वह वस्तु को Rs.12 अधिक मूल्य पर बेचता, तो उसे 10% का लाभ होता। वस्तु का क्रय मूल्य ज्ञात करें।

1. Rs.22
2. Rs.40
3. Rs.60
4. Rs.30

Correct Answer :-

- Rs.40

81) The poisonous substance that is the main constituent of tobacco is?/तंबाकू में कौनसा जहरीला पदार्थ मुख्यतः पाया जाता है

1. Aspirin/ एसपीरिन
2. Nicotine/ निकोटिन
3. Morphine/ मोरफीन
4. Reserpine/ रेस्पैरिन

Correct Answer :-

- Nicotine/ निकोटिन

82)

**Which one of the following scientists is known as the father of genetics?/
निम्न में से कौनसे वैज्ञानिक को अनुवंशिकी का जनक कहा जाता है**

1. Gregor Mendal/ ग्रेगोर मेंडल
2. Charles Darwin/ चार्ल्स डार्विन
3. Hargobind Khorana/ हरगोविंद खुराना
4. T. H. Morgan/ टी एच मॉर्गन

Correct Answer :-

- Gregor Mendal/ ग्रेगोर मेंडल

83) One-fifth of half of a number is 20. Then 20% of that number is: /किसी संख्या के आधे का पाँचवाँ हिस्सा 20 है, तो उस संख्या का 20% है:

1. 60
2. 40
3. 20
4. 80

Correct Answer :-

- 40

84) Daily in the morning the shadow of Taj Mahal falls on Red Fort and in the evening the shadow of Red Fort falls on Taj Mahal exactly. So in which direction is Taj Mahal to Red Fort? / रोज सुबह में ताज महल की छाया लाल किला पर पड़ती है और शाम में लाल किला की छाया ठीक ताज महल पर पड़ती है तो ताजमहल, लाल किला से किस दिशा में है?

1. Southern side/ दक्षिणी दिशा में
2. Western side/ पश्चिमी दिशा में
3. Northern side/ उत्तरी दिशा में
4. Eastern side/ पूर्व दिशा में

Correct Answer :-

- Eastern side/ पूर्व दिशा में

85) A and B can complete a piece of work in 15 days and 10 days respectively. They contracted to complete the work for Rs.30,000. The share of A in the contracted money will be: / A और B किसी कार्य को क्रमशः 15 दिनों तथा 10 दिनों में खत्म कर सकते हैं। उन्होंने Rs.30,000 में एक कार्य को करने का ठेका लिया, तो कुल राशि में से A का हिस्सा कितना होगा?

1. Rs.16,500
2. Rs.18,000
3. Rs.12,000
4. Rs.12,500

Correct Answer :-

- Rs.12,000

86) A and B undertook to do a piece of work for Rs.4500. A alone could do it in 8 days and B alone in 12 days. With the assistance of C they finished the work in 4 days. Then C's share of the money is: / A तथा B एक काम को Rs.4500 में करने का ठेका लेते हैं। A अकेला काम को 8 दिनों में तथा B अकेला काम को 12 दिनों में कर सकता है। C की सहायता से वे लोग 4 दिनों में काम खत्म करते हैं, तो कुल राशि में C का हिस्सा ज्ञात करें।

1. Rs.2250
2. Rs.750
3. Rs.1500
4. Rs.375

Correct Answer :-

- Rs.750

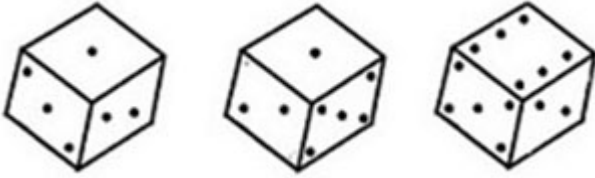
87) A alone can complete a piece of work in 12 days. A and B together can complete it in 8 days. How long will B alone take to complete the work? / A अकेले किसी काम को 12 दिनों में करता है। A और B मिलकर उसी काम को 8 दिनों में कर सकते हैं, तो B अकेले उस काम को कितने दिनों में करेगा?

1. 18 days/18 दिन
2. 24 days/24 दिन
3. 16 days/16 दिन
4. 20 days/20 दिन

Correct Answer :-

- 24 days/24 दिन

88) How many dots are there on the dice face opposite the face with one dot? / घन के एक बिन्दु वाले फलक के विपरीत कितने बिन्दुओं वाला फलक होगा?

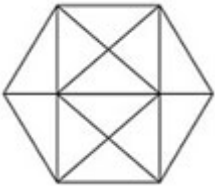


1. 4
2. 2
3. 3
4. 6

Correct Answer :-

- 6

89) How many triangles are there in the following figure? / निम्न आकृति में त्रिभुजों की संख्या कितनी है?



1. 32
2. 28
3. 24
4. 20

Correct Answer :-

- 28

90) A wire when bent in the form of a square encloses an area of 484 sq. cm. What will be the enclosed area when the same wire is bent into the form of a circle? (Take $\pi = \frac{22}{7}$) / एक तार को जब एक वर्ग के रूप में मोड़ा जाता है, तो उसके द्वारा घिरा क्षेत्रफल 484 वर्ग सेमी है। तार द्वारा घिरा क्षेत्रफल क्या होगा, यदि इसी तार को एक वृत्त के रूप में मोड़ा जाए?

1. 230 square cm/ 230 वर्ग सेमी
2. 125 square cm/ 125 वर्ग सेमी
3. 616 square cm/ 616 वर्ग सेमी
4. 550 square cm/ 550 वर्ग सेमी

Correct Answer :-

- 616 square cm/ 616 वर्ग सेमी

91) The movement of eggs from the ovaries to the uterus proceeds through the?/ मानव अंडे का गमन अंडाशय से गर्भशाय की ओर किसके द्वारा होता है

1. Fallopian tube/ फ़ेलोपियन नली
2. Placenta/ गर्भनाल
3. Cervix/ ग्रीवा
4. Vagina/ योनि

Correct Answer :-

- Fallopian tube/ फ़ेलोपियन नली

92) Ozone is important to mankind because it?/ ओज़ोन मानव समुदाय के लिए बहुत आवश्यक है क्यों ?

1. Creates a protective coverage against ultraviolet rays/ पराबैंगनी प्रकाश से बचाव के लिए कवच बनाती है
2. Releases hydrogen in the atmosphere/ हवा में हाइड्रोजन उत्पन्न करती है
3. Releases oxygen in the air/ हवा में ऑक्सीजन उत्पन्न करती है
4. Maintains the temperature of the earth/ पृथ्वी का तापमान नियंत्रित करती है

Correct Answer :-

- Creates a protective coverage against ultraviolet rays/ पराबैंगनी प्रकाश से बचाव के लिए कवच बनाती है

93) The International Rice Research Institute is based in?/ अंतर्राष्ट्रीय चावल अनुसंधान संस्थान कहाँ स्थित है?

1. Nigeria/ नाइजीरिया
2. Mexico/ मेक्सिको
3. Australia/ आस्ट्रेलिया
4. Philippines/ फिलीपींस

Correct Answer :-

- Philippines/ फिलीपींस

94) The artificial kidney operates on the principle of?/ कृत्रिम वृक्क किस सिद्धांत पर कार्य करती है:

1. Osmosis/ परासरण
2. Active transport/ सक्रिय परिवहन
3. Dialysis/ अपोहन
4. Diffusion/ विसरण

Correct Answer :-

- Dialysis/ अपोहन

95) Mahima starts at point T, walks straight to point U in north direction which is 4 ft away. She turns left at 90° and walks to W which is 4 ft away then turns 90° right and goes 3 ft to P. Again turns 90° right and walks 1 ft to Q, turns left at 90° and goes to V, which is 1 ft away and once again turns 90° right and goes to R, 3 ft away. What is the distance between T and R? / महिमा, बिन्दु T से उत्तर की दिशा में चलना प्रारंभ करती है और सीधे बिन्दु U तक जाती है जो 4 फीट दूर है। वह 90° पर बाएं मुड़ती है और W तक जाती है जो 4 फीट दूर है। फिर 90° पर दाएं मुड़ती है और P तक जाती है जो 3 फीट दूर है, फिर से 90° पर दाएं मुड़ती है और Q तक 1 फीट जाती है फिर 90° पर बाएं मुड़ती है और V तक जाती है, जो कि 1 फीट दूर है और फिर से 90° पर दाएं मुड़कर R तक जाती है जो 3 फीट दूर है। T और R के मध्य दूरी कितनी है?

1. 5 ft/ 5 फीट
2. 4 ft/ 4 फीट
3. 7 ft/ 7 फीट
4. 8 ft/ 8 फीट

Correct Answer :-

- 8 ft/ 8 फीट

96) Boric acid is a/an?/ बोरिक अम्ल होता है एक:

1. Germicide/ अंकुरनाशक दवा
2. Antibiotic/ प्रतिजैविक
3. Strong antiseptic/ प्रबल रोगाणुरोधक
4. Mild antiseptic/ हल्का रोगाणुरोधक

Correct Answer :-

- Mild antiseptic/ हल्का रोगाणुरोधक

97) The heaviest among the inner planets in the?/ आंतरिक ग्रहों में सबसे भारी ग्रह कौन सा है:

1. Mars/ मंगल
2. Mercury/ बुध
3. Venus/ शुक्र
4. Earth/ पृथ्वी

Correct Answer :-

- Earth/ पृथ्वी

98) The gas that causes atmospheric pollution is?/ कौनसी गैस वायुमंडलीय प्रदूषण का कारक है?

1. Sulphur dioxide/ सल्फरडाइऑक्साइड
2. Steam/ भाप
3. Oxygen/ ऑक्सीजन
4. Nitrogen/ नाइट्रोजन

Correct Answer :-

- Sulphur dioxide/ सल्फरडाइऑक्साइड

99) Two numbers are in the ratio of 3:5. If 9 is subtracted from each then they are in the ratio of 12: 23. Find smaller number./ दो संख्याओं का अनुपात 3 : 5 है। यदि दोनों में से प्रत्येक से 9 घटाया जाए, तो उनका अनुपात 12 : 23 है, तो छोटी संख्या ज्ञात करें।

1. 33
2. 55
3. 49
4. 27

Correct Answer :-

- 33

100) The chemical used for artificial ripening of green fruit is?/ निम्न में से कौनसी रसायन है जिसका उपयोग कृत्रिम रूप से हरे फलों को पकाने के लिए किया जाता है:

1. Carbon dioxide/ कार्बन डाइ ऑक्साइड
2. Ethylene/ एथाइलिन
3. Ethane/ एथेन
4. Carbide/ कार्बाइड

Correct Answer :-

- Carbide/ कार्बाइड