

## Combined Higher Secondary Level Examination 2019 Tier I

Roll Number	
Candidate Name	
Venue Name	iON Digital Zone iDZ Sandalpur
Exam Date	19/03/2020
Exam Time	1:00 PM - 2:00 PM
Subject	CHSL Tier 1

Section : English Language (Basic Knowledge)

Q.1 Select the most appropriate ANTONYM of the given word.

TAME

Ans

- 1. Control
- 2. Upset
- 3. Restrain
- 4. Sanctify

Question ID : 8161611820

Status : Answered

Chosen Option : 4

Q.2 Select the most appropriate meaning of the given idiom.

Reinventing the wheel

Ans

- 1. Disturbing the system which has already been in use
- 2. Examining circumstances that have already been understood
- 3. Wasting one's time for things that have already been satisfactorily done
- 4. Analysing various factors of happenings

Question ID : 8161611823

Status : Answered

Chosen Option : 3

Q.3 Select the most appropriate synonym of the given word.

TARNISH

Ans

- 1. Heighten
- 2. Decorate
- 3. Damage
- 4. Appease

Question ID : 8161611829

Status : Answered

Chosen Option : 2

Q.4 Select the correct indirect form of the given sentence.

Nakul asked her, "How do you know that Rahul has told it to him?"

Ans

- 1. Nakul asked her how she knew that Rahul has told that to him.
- 2. Nakul asked her how she knew that Rahul had told that to him.
- 3. Nakul asked her that how she knows that Rahul had told that to him.
- 4. Nakul asked her that how she has known that Rahul has told that to him.

Question ID : 8161611807

Status : Answered

Chosen Option : 2

**Comprehension:**

In the following passage some words have been deleted. Fill in the blanks with the help of the alternatives given. Select the most appropriate option for each blank.

Forest fire always (1)\_\_\_\_\_ by one of two reasons – naturally caused or human-caused. Natural fire is generally (2)\_\_\_\_\_ by lightning, with a very small percentage (3)\_\_\_\_\_ by spontaneous combustion of dry fuel such as sawdust and leaves. (4)\_\_\_\_\_, human-caused fire can happen (5)\_\_\_\_\_ any number of reasons.

**SubQuestion No : 5**

**Q.5 Select the most appropriate option for blank No. 1.**

Ans

- 1. takes up
- 2. happens
- 3. creates
- 4. causes

Question ID : 8161611811

Status : Answered

Chosen Option : 4

**Comprehension:**

In the following passage some words have been deleted. Fill in the blanks with the help of the alternatives given. Select the most appropriate option for each blank.

Forest fire always (1)\_\_\_\_\_ by one of two reasons – naturally caused or human-caused. Natural fire is generally (2)\_\_\_\_\_ by lightning, with a very small percentage (3)\_\_\_\_\_ by spontaneous combustion of dry fuel such as sawdust and leaves. (4)\_\_\_\_\_, human-caused fire can happen (5)\_\_\_\_\_ any number of reasons.

**SubQuestion No : 6**

**Q.6 Select the most appropriate option for blank No. 2.**

Ans

- 1. troubled
- 2. reasoned
- 3. begun
- 4. caused

Question ID : 8161611812

Status : Answered

Chosen Option : 3

**Comprehension:**

In the following passage some words have been deleted. Fill in the blanks with the help of the alternatives given. Select the most appropriate option for each blank.

Forest fire always (1)\_\_\_\_\_ by one of two reasons – naturally caused or human-caused. Natural fire is generally (2)\_\_\_\_\_ by lightning, with a very small percentage (3)\_\_\_\_\_ by spontaneous combustion of dry fuel such as sawdust and leaves. (4)\_\_\_\_\_, human-caused fire can happen (5)\_\_\_\_\_ any number of reasons.

**SubQuestion No : 7**

**Q.7 Select the most appropriate option for blank No. 3.**

Ans



1. contributed



2. achieved



3. attained



4. gathered

Question ID : **8161611813**

Status : **Answered**

Chosen Option : **1**

**Comprehension:**

In the following passage some words have been deleted. Fill in the blanks with the help of the alternatives given. Select the most appropriate option for each blank.

Forest fire always (1)\_\_\_\_\_ by one of two reasons – naturally caused or human-caused. Natural fire is generally (2)\_\_\_\_\_ by lightning, with a very small percentage (3)\_\_\_\_\_ by spontaneous combustion of dry fuel such as sawdust and leaves. (4)\_\_\_\_\_, human-caused fire can happen (5)\_\_\_\_\_ any number of reasons.

**SubQuestion No : 8**

**Q.8 Select the most appropriate option for blank No. 4.**

Ans



1. Unless



2. On the other hand



3. At the outset



4. Consequently

Question ID : **8161611814**

Status : **Answered**

Chosen Option : **3**

**Comprehension:**

In the following passage some words have been deleted. Fill in the blanks with the help of the alternatives given. Select the most appropriate option for each blank.

Forest fire always (1)\_\_\_\_\_ by one of two reasons – naturally caused or human-caused. Natural fire is generally (2)\_\_\_\_\_ by lightning, with a very small percentage (3)\_\_\_\_\_ by spontaneous combustion of dry fuel such as sawdust and leaves. (4)\_\_\_\_\_, human-caused fire can happen (5)\_\_\_\_\_ any number of reasons.

**SubQuestion No : 9**

**Q.9** Select the most appropriate option for blank No. 5.

- Ans
- 1. hence forth
  - 2. because
  - 3. since
  - 4. due to

Question ID : **8161611815**

Status : **Answered**

Chosen Option : **4**

**Q.10** In the sentence identify the segment which contains the grammatical error.

Some of the issues discussed on the media nowadays has no relevance to the nationbuilding process.

- Ans
- 1. on the media nowadays
  - 2. to the nation-building process
  - 3. Some of the issues discussed
  - 4. has no relevance

Question ID : **8161611809**

Status : **Answered**

Chosen Option : **4**

**Q.11** Select the most appropriate option to substitute the underlined segment in the given sentence. If there is no need to substitute it, select 'No improvement'.

The selection to the police department raised him as high to a kite.

- Ans
- 1. as high as
  - 2. so high so
  - 3. No improvement
  - 4. so high to

Question ID : **8161611819**

Status : **Answered**

Chosen Option : **1**

Q.12 Select the most appropriate ANTONYM of the given word.

DISPUTE

Ans

- 1. Concede
- 2. Quarrel
- 3. Strengthen
- 4. Impute

Question ID : 8161611821

Status : Answered

Chosen Option : 1

Q.13 Select the most appropriate meaning of the given idiom.

Falling head over heels

Ans

- 1. Feeling deep sympathy to the needy
- 2. Finding fault with others
- 3. Falling deeply in love with someone
- 4. Fixing models without proper analysis

Question ID : 8161611822

Status : Answered

Chosen Option : 3

Q.14 Select the most appropriate synonym of the given word.

PLEASANT

Ans

- 1. Tedious
- 2. Tiresome
- 3. Refreshing
- 4. Exasperating

Question ID : 8161611828

Status : Answered

Chosen Option : 3

Q.15 Select the most appropriate option to substitute the underlined segment in the given sentence. If there is no need to substitute it, select 'No improvement'.

She is tender-hearted by nature and I have found her eyes moist many a times over the sad face of any children.

Ans

- 1. many a time
- 2. No improvement
- 3. many time
- 4. so many a times

Question ID : 8161611818

Status : Answered

Chosen Option : 1

Q.16 Given below are four jumbled sentences. Out of the given options pick the one that gives their correct order.

- A. The driver had a cloudy look and drove off without taking him.
- B. He asked a taxi driver to take him to the shopping mall.
- C. He told the driver that he could pay the fare by card, not in cash.
- D. He arrived on the outskirts of a city.



Ans

-  1. CDBA
-  2. DBCA
-  3. ACDB
-  4. DCAB

Question ID : 8161611817  
Status : Answered  
Chosen Option : 2

Q.17 Select the wrongly spelt word.

Ans



-  1. Compromize
-  2. Sympathize
-  3. Scrutinize
-  4. Colonize

Question ID : 8161611824  
Status : Answered  
Chosen Option : 2

Q.18 In the sentence identify the segment which contains the grammatical error.

Cats cannot be blamed for its behaviour to their masters as they are tamed so.

Ans

-  1. to their masters
-  2. Cats cannot be blamed
-  3. for its behaviour
-  4. as they are tamed so

Question ID : 8161611808  
Status : Answered  
Chosen Option : 1

Q.19 Given below are four jumbled sentences. Out of the given options pick the one that gives their correct order.

- A. He was on a pilgrimage to Jerusalem.
- B. The villagers were kind though doubtful.
- C. They offered him some food to eat and a room to stay.
- D. One night, he took rest in a village unfamiliar on the way.

- Ans
- 1. DCAB
  - 2. CADB
  - 3. ADBC
  - 4. CDBA

Question ID : **8161611816**  
Status : **Answered**  
Chosen Option : **1**

Q.20 Select the word which means the same as the group of words given.

A person living in the same age with another

- Ans
- 1. Confidant
  - 2. Collaborator
  - 3. Partner
  - 4. Contemporary

Question ID : **8161611826**  
Status : **Answered**  
Chosen Option : **4**

Q.21 Select the wrongly spelt word.

- Ans
- 1. Tolerate
  - 2. Temperate
  - 3. Accomodate
  - 4. Promulgate

Question ID : **8161611825**  
Status : **Answered**  
Chosen Option : **3**

Q.22 Select the most appropriate word to fill in the blank.

Unnecessary suspicion and lack of trust against the others are caused by \_\_\_\_\_.

- Ans
- 1. impartiality
  - 2. contentment
  - 3. prejudice
  - 4. empathy

Question ID : **8161611831**  
Status : **Answered**  
Chosen Option : **2**



Q.23 Select the word which means the same as the group of words given.

A situation requiring a choice between equally undesirable alternatives or confusions

Ans



1. Sophistication



2. Complication



3. Instability



4. Dilemma

Question ID : 8161611827

Status : Answered

Chosen Option : 4

Q.24 Select the most appropriate word to fill in the blank.

Children need special care and \_\_\_\_\_ from the side of their parents for making them emotionally strong.

Ans

- 1. compromise
- 2. suspicion
- 3. attention
- 4. reflection

Question ID : 8161611830

Status : Answered

Chosen Option : 3

Q.25 Select the correct passive form of the given sentence.

This android can perform all the programmes perfectly well.

Ans

- 1. All the programmes can have been performed perfectly well by this android.
- 2. All the programmes could have been performed perfectly well by this android.
- 3. All the programmes can be performed perfectly well by this android.
- 4. All the programmes could be performed perfectly well by this android.

Question ID : 8161611806

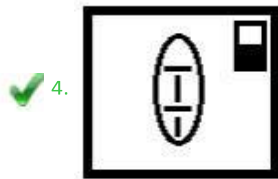
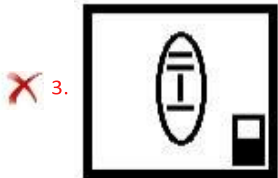
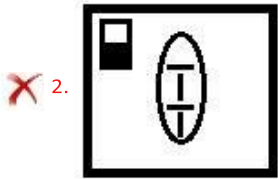
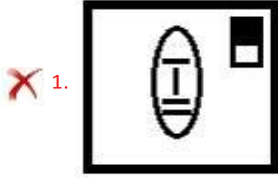
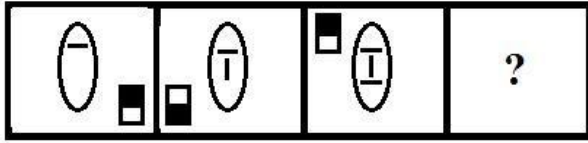
Status : Answered

Chosen Option : 3

Section : General Intelligence

Q.1  
Ans

उस आकृति का चयन करें जो निम्न आकृति-श्रृंखला में अगले स्थान पर आएगी।



Question ID : 8161611851

Status : Answered

Chosen Option : 4

Q.2  
Ans

उस विकल्प का चयन करें जिसका तीसरी संख्या से वही संबंध है जो दूसरी संख्या का पहली संख्या से है।

3 : 67 :: 6 : ?

✗ 42<sub>1.</sub>

✗ 55<sub>2.</sub>

✗ 222<sub>3.</sub>

✓ 349<sub>4.</sub>

Question ID : 8161611834

Status : Answered

Chosen Option : 4

Q.3 गगन ने अमित की तस्वीर की ओर इशारा करते हुए कहा, 'उसकी बहन की मां का पति, मेरी बेटी की मां के पति का पिता है।' अमित का गगन से क्या संबंध है?

1. भतीजा

2. मामा

3. भाई

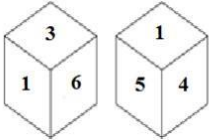
4. पिता

Question ID : 8161611845

Status : Answered

Chosen Option : 3

Q.4 एक ही पासे की दो अलग-अलग स्थितियों को नीचे दर्शाया गया है, जिसके छह फलकों पर 1 से 6 तक संख्याएं मुद्रित हैं। संख्या 1 वाले फलक के विपरीत फलक पर कौन सी संख्या होगी?



1. 3

2. 5

3. 2

4. 4

Question ID : 8161611850

Status : Answered

Chosen Option : 3

Q.5 उस विकल्प आकृति का चयन करें जिसमें आकृति X, उसके एक हिस्से के रूप में अन्तर्निहित है। (घुमाने की अनुमति नहीं है)

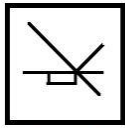


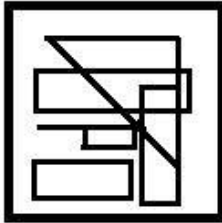
Figure X

Ans

✓ 1.



✗ 2.



✗ 3.



✗ 4.

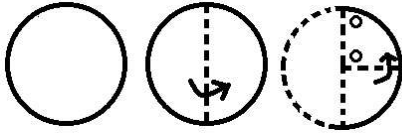


Question ID : 8161611853

Status : Answered

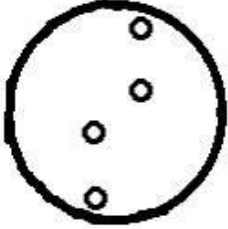
Chosen Option : 1

Q.6 निम्नलिखित आकृतियों में कागज के एक टुकड़े को मोड़ने का क्रम और मुड़े हुए कागज को काटे जाने की विधि दर्शाई गई है। पुनः खोले जाने पर यह कागज कैसा दिखाई देगा?

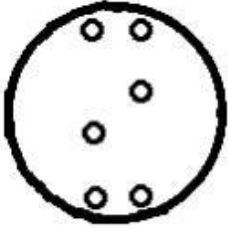


Ans

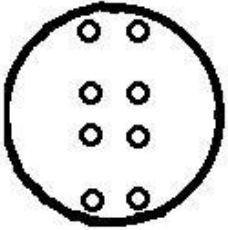
✗ 1.



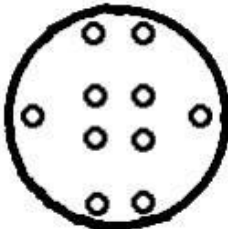
✗ 2.



✓ 3.



✗ 4.



Question ID : 8161611854

Status : Answered

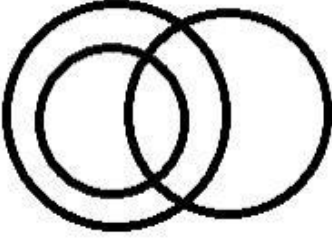
Chosen Option : 3

Q.7 उस वेन आरेख का चयन करें जो दिए वर्गों के बीच के संबंध को सर्वोत्तम ढंग से निरूपित करता है।

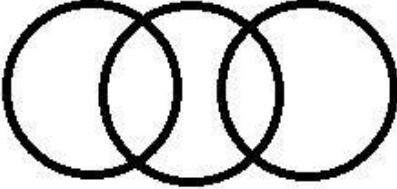
Ans

नवजात शिशु, पुरुष, पिता

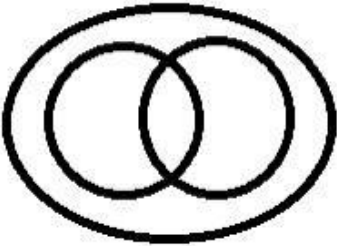
✗ 1.



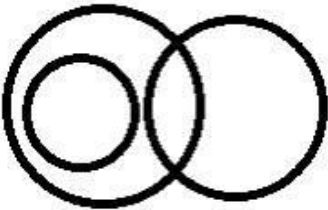
✗ 2.



✗ 3.



✓ 4.



Question ID : 8161611856

Status : Answered

Chosen Option : 4

Q.8 उस विकल्प का चयन करें जिसमें समुच्चय की संख्याओं के मध्य वही संबंध है जो दिए गए समुच्चय की संख्याओं के मध्य है।

Ans

(52, 48, 64)

✗ 1. (70, 62, 441)

✗ 2. (82, 78, 81)

✓ 3. (92, 90, 8)

✗ 4. (61, 55, 36)

Question ID : 8161611835

Status : Answered

Chosen Option : 3

Q.9 68 छात्रों के एक बैच में, 23 छात्र दो में से किसी भी खेल यानी क्रिकेट और स्क्वैश में भाग नहीं लेते हैं। 17 छात्र केवल क्रिकेट में भाग लेते हैं, 24 छात्र क्रिकेट और स्क्वैश में भाग लेते हैं। केवल स्क्वैश में कितने छात्र भाग लेते हैं?

- Ans
- 4<sup>1.</sup>
  - 20<sup>2.</sup>
  - 28<sup>3.</sup>
  - 21<sup>4.</sup>

Question ID : 8161611832

Status : Answered

Chosen Option : 1

Q.10 एक निश्चित कूट भाषा में, 'sky is blue' को '815' लिखा जाता है; 'blue and red' को '725' लिखा जाता है; 'Ram likes red' को '203' लिखा जाता है; 'Sita and Ram' को '379' लिखा जाता है। उसी कूट भाषा में 'Ram likes blue' को क्या लिखा जाएगा?

- Ans
- 257<sup>1.</sup>
  - 512<sup>2.</sup>
  - 503<sup>3.</sup>
  - 573<sup>4.</sup>

Question ID : 8161611838

Status : Answered

Chosen Option : 3

उस विकल्प का चयन करें जिसका तीसरे अक्षर-समूह से वही संबंध है जो दूसरे अक्षर-समूह का पहले अक्षर-समूह से है।

Q.11 NR : MI :: BK : ?

- Ans
- YP<sup>1.</sup>
  - YU<sup>2.</sup>
  - XM<sup>3.</sup>
  - OP<sup>4.</sup>

Question ID : 8161611842

Status : Answered

Chosen Option : 1



उस विकल्प का चयन करें जो निम्न शब्दों के तार्किक और अर्थपूर्ण क्रम को दर्शाता है।

1. माउन्ट आबू
2. विश्व
3. भारत
4. राजस्थान
5. नक्की झील

Q.12

Ans

1. 1, 5, 3, 4, 2

2. 5, 1, 2, 3, 4

3. 5, 1, 4, 3, 2

4. 5, 1, 4, 2, 3

Question ID : 8161611839

Status : Answered

Chosen Option : 3

निम्नलिखित चार शब्दों में से तीन एक निश्चित तरीके से संगत हैं, जबकि एक असंगत है। असंगत शब्द का चयन करें।

Q.13

Ans

1. यूरोप

2. दक्षिण अफ्रीका

3. अफ्रीका

4. उत्तर अमेरिका

Question ID : 8161611848

Status : Answered

Chosen Option : 1

उस विकल्प का चयन करें जिसका तीसरे शब्द से वही संबंध है जो दूसरे शब्द का पहले शब्द से है।

Q.14

दस्ताने : हाथ :: जूते : ?

Ans

1. घुटना

2. पैर

3. मोची

4. चमड़ा

Question ID : 8161611843

Status : Answered

Chosen Option : 2

उस संख्या का चयन करें जो निम्नलिखित श्रेणी में प्रश्न चिन्ह (?) के स्थान पर आ सकती है।

Q.15 50, 49, 53, 44, 60, 35, ?

- Ans
- 1. 104
  - 2. 70
  - 3. 71
  - 4. 117

Question ID : 8161611837

Status : Answered

Chosen Option : 3

उस शब्द-युग्म का चयन करें जिसमें शब्दों के मध्य वही संबंध है, जो निम्नलिखित शब्द-युग्म के शब्दों के मध्य है।

Q.16 मधुमेह : रोग

- Ans
- 1. बोतल : पानी
  - 2. फसल : किसान
  - 3. कार्यालय : कर्मचारी
  - 4. ग्रीष्म : ऋतु

Question ID : 8161611846

Status : Answered

Chosen Option : 4

दिए गए समीकरण को संतुलित करने के लिए कौन से दो चिन्हों और दो संख्याओं को आपस में बदल देना चाहिए?

Q.17  $16 + 8 \times 25 - 15 + 5 = 138$

- Ans
- 1.  $\times$  और  $+$ ; 8 और 25
  - 2.  $\div$  और  $-$ ; 15 और 5
  - 3.  $\times$  और  $-$ ; 8 और 25
  - 4.  $\times$  और  $+$ ; 15 और 25

Question ID : 8161611833

Status : Answered

Chosen Option : 4

Q.18 दिए गए कथनों और निष्कर्षों को ध्यान से पढ़ें। यह मानते हुए कि कथनों में दी गई जानकारी सही है, भले ही वह आम तौर पर स्थापित तथ्यों से भिन्न दिखाई देती है, तब कीजिए कि कौन सा/से निष्कर्ष तर्कसंगत रूप से इन कथनों का अनुसरण करता/करते है/हैं।

कथन:

कोई प्लास्टिक लोहा नहीं है।

सभी स्टील लोहा है।

निष्कर्ष:

I. कुछ प्लास्टिक स्टील है।

II. कुछ लोहा स्टील है।

III. कोई भी स्टील प्लास्टिक नहीं है।

Ans

1. केवल निष्कर्ष II अनुसरण करता है।
2. केवल निष्कर्ष II और III अनुसरण करते हैं।
3. केवल निष्कर्ष I और III अनुसरण करते हैं।
4. केवल निष्कर्ष I और II अनुसरण करते हैं।

Question ID : 8161611849

Status : Answered

Chosen Option : 1

अक्षरों के उस संयोजन का चयन करें जो निम्न अक्षर श्रृंखला के रिक्त स्थानों में क्रमिक रूप से रखे जाने पर श्रृंखला को पूरा करेगा।

Q.19 K \_ \_ M K X Z \_ K X \_ M K \_ Z M

Ans

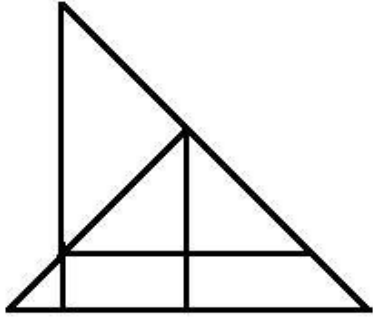
- XZMZX 1.
- XZMZX 2.
- XXMKX 3.
- MZMZX 4.

Question ID : 8161611844

Status : Answered

Chosen Option : 2

निम्न आकृति में कितने त्रिभुज हैं?



Q.20

- Ans
- 11<sub>1.</sub>
  - 8<sub>2.</sub>
  - 10<sub>3.</sub>
  - 9<sub>4.</sub>

Question ID : 8161611852

Status : Answered

Chosen Option : 3

Q.21 एक निश्चित कूट भाषा में, 'WORKSHOP' को '231518118191211' लिखा जाता है। उसी कूट भाषा में 'NOVEMBER' को क्या लिखा जाएगा?

- Ans
- 11151251422227<sub>1.</sub>
  - 13172251325229<sub>2.</sub>
  - 14152251425229<sub>3.</sub>
  - 14142251424228<sub>4.</sub>

Question ID : 8161611841

Status : Answered

Chosen Option : 3

Q.22 एक निश्चित कूट भाषा में, 'STAFF' को 'RTSUZBEGEG' लिखा जाता है। उसी कूट भाषा में 'ORDER' को क्या लिखा जाएगा?

- Ans
- NQRSCDFRS<sub>1.</sub>
  - OPQTCEDFQS<sub>2.</sub>
  - NPQSCEGFQT<sub>3.</sub>
  - NPQSCEDFQS<sub>4.</sub>

Question ID : 8161611840

Status : Answered

Chosen Option : 4

उस विकल्प का चयन करें जिसमें समुच्चय की संख्याओं के मध्य वही संबंध है जो दिए गए समुच्चय की संख्याओं के मध्य है।

Q.23 (11, 17, 204)

- Ans
- 1. (24, 13, 225)
  - 2. (9, 13, 147)
  - 3. (12, 21, 273)
  - 4. (22, 14, 318)

Question ID : 8161611836

Status : Answered

Chosen Option : 2

जब एक उर्ध्वाधर दर्पण दिए गए अक्षर-समूह के दाईं ओर रखा गया हो, तब अक्षर-समूह के बनने वाले सही प्रतिबिंब का चयन करें।

Q.24 **F G E R M**

- Ans
- 1. **M R E G F**
  - 2. **M R E G F**
  - 3. **M R E G F**
  - 4. **M R E G F**

Question ID : 8161611855

Status : Answered

Chosen Option : 2

निम्नलिखित चार अक्षर-समूहों में से तीन एक निश्चित तरीके से संगत हैं, जबकि एक असंगत है। असंगत अक्षर-समूह का चयन करें।

Q.25

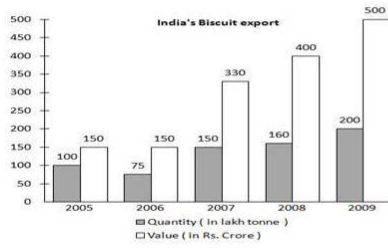
- Ans
- 1. **AEIM**
  - 2. **RVZD**
  - 3. **SVZD**
  - 4. **CGKO**

Question ID : 8161611847

Status : Answered

Chosen Option : 3

Q.1 निम्न बार ग्राफ में पांच साल की अवधि में भारत के बिस्किट निर्यात को दर्शाया गया है। ग्राफ का अध्ययन करें और दिए गए प्रश्न का उत्तर दें।



किन दो वर्षों में प्रति टन मूल्य बराबर था?

- 1. 2008 और 2009
- 2. 2006 और 2007
- 3. 2005 और 2006
- 4. 2007 और 2008

Question ID : 8161611881

Status : Answered

Chosen Option : 1

Q.2 एक महिला ₹1,000/दिन कमाती है। कुछ हफ्तों के बाद, वह ₹1,160/दिन कमाती है। उसकी कमाई में कितने प्रतिशत की वृद्धि हुई?

- 1. 18%
- 2. 15%
- 3. 16%
- 4. 17%

Question ID : 8161611862

Status : Answered

Chosen Option : 3

Q.3 एक समद्विबाहु समकोण त्रिभुज का क्षेत्रफल  $121 \text{ cm}^2$  है। इसके कर्ण की लंबाई ज्ञात करें।

- 1. 21 cm
- 2. 20 cm
- 3. 23 cm
- 4. 22 cm

Question ID : 8161611859

Status : Answered

Chosen Option : 4

Q.4 Ans यदि  $2x = \sin \theta$  और  $\frac{2}{x} = \cos \theta$  है, तो  $4\left(x^2 + \frac{1}{x^2}\right)$  का मान ज्ञात करें।

1.  
 2.  
 4.  
 0.

Question ID : 8161611877

Status : Answered

Chosen Option : 1

Q.5 क्रमशः 20 cm और 5 cm त्रिज्याओं के दो वृत्त हैं, जो एक दूसरे को बिंदु P पर बाह्य रूप से स्पर्श करते हैं। AB, क्रमशः R और S केंद्रों वाले उन दो वृत्तों की सीधी उभयनिष्ठ स्पर्श रेखा है। AB की लंबाई कितनी होगी?

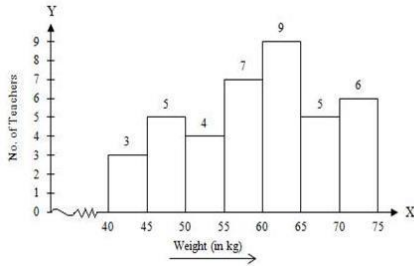
- 10 cm.  
 20 cm.  
 5 cm.  
 15 cm.

Question ID : 8161611867

Status : Answered

Chosen Option : 4

Q.6 Ans निम्न बार-ग्राफ में विभिन्न भार-समूहों में शिक्षकों की संख्या को दर्शाया गया है। ग्राफ का अध्ययन करें और दिए गए प्रश्न का उत्तर दें।



निम्न में से किस भार-समूह में शिक्षकों की संख्या अधिकतम है?

- 45 - 50.  
 65 - 70.  
 60 - 65.  
 40 - 45.

Question ID : 8161611878

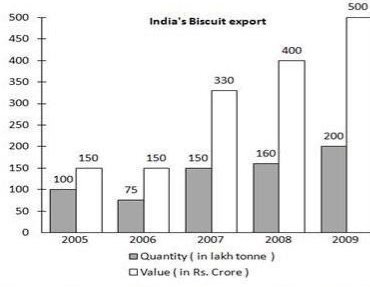
Status : Answered

Chosen Option : 3

Q.7

Ans

निम्न बार ग्राफ में पांच साल की अवधि में भारत के बिस्किट निर्यात को दर्शाया गया है। ग्राफ का अध्ययन करें और दिए गए प्रश्न का उत्तर दें।



2005 में किए गए निर्यात की तुलना में, 2006 में निर्यात की मात्रा में कितने प्रतिशत की गिरावट दर्ज की गई?

50% 1.

100% 2.

25% 3.

75% 4.

Question ID : 8161611879

Status : Answered

Chosen Option : 3

Q.8

Ans

सुरेश ने राकेश को साधारण ब्याज पर 5 वर्ष के लिए कुछ पैसे उधार दिए। अवधि के अंत में राकेश ने सुरेश को धनराशि का 9/8 भुगतान कर दिया। वार्षिक साधारण ब्याज की दर ज्ञात करें।

1. 3.5% वार्षिक

2. 2.5% वार्षिक

3. 2% वार्षिक

4. 3% वार्षिक

Question ID : 8161611865

Status : Answered

Chosen Option : 2

Q.9

Ans

एक कार 5 घंटे में 150 km की दूरी तय करती है। यदि यह अपनी सामान्य चाल की एक-तिहाई चाल से चलती है, तो उसे समान दूरी तय करने में कितना और समय लगेगा?

1. 8 घंटे

2. 10 घंटे

3. 14 घंटे

4. 12 घंटे

Question ID : 8161611858

Status : Answered

Chosen Option : 2



यदि  $2\cot\theta = 3$  है, तो  $\frac{\sqrt{13}\cos\theta - 3\tan\theta}{3\tan\theta + \sqrt{13}\sin\theta}$  का मान क्या होगा?

Q.10

1.  $\frac{1}{5}$

Ans

2.  $\frac{2}{3}$

3.  $\frac{3}{4}$

4.  $\frac{1}{4}$

Question ID : 8161611876

Status : Answered

Chosen Option : 4

Q.11 समीकरण  $25 - [16 - \{14 - (18 - 8 + 3)\}]$  का मान ज्ञात करें।

Ans

1. 15

2. 16

3. 17

4. 14

Question ID : 8161611874

Status : Answered

Chosen Option : 2

Q.12 यदि  $a - b = 18$  और  $a^3 - b^3 = 324$  है, तो  $ab$  का मान ज्ञात करें।

Ans

1. -104

2. -102

3. 105

4. 103

Question ID : 8161611870

Status : Answered

Chosen Option : 2

भाग संबंधी एक प्रश्न में, भाजक भागफल का 6 गुना और शेषफल का 3 गुना है। यदि शेषफल 40 है, तो भाज्य ज्ञात करें।

Q.13

- Ans  1. 2455
2. 2440
3. 2450
4. 2445

Question ID : 8161611873

Status : Answered

Chosen Option : 2

उस वृत्त के चतुर्थांश का क्षेत्रफल ज्ञात करें, जिसकी परिधि 22 cm है।

Q.14

- Ans  1. 38.5 cm<sup>2</sup>
2. 10 cm<sup>2</sup>
3. 3.5 cm<sup>2</sup>
4. 9.625 cm<sup>2</sup>

Question ID : 8161611871

Status : Answered

Chosen Option : 4

40 संख्याओं का औसत 36 है। पहली 25 संख्याओं का औसत 31 एवं अंतिम 16 संख्याओं का औसत 43 है। 25वीं संख्या ज्ञात कीजिए।

Q.15

- Ans  1. 23
2. 24
3. 22
4. 21

Question ID : 8161611860

Status : Answered

Chosen Option : 1

अनुपात 16 : 19 के प्रत्येक पद में से कितना घटाया जाए, कि यह अनुपात 7 : 6 हो जाए?

Q.16

- Ans  1. 36
2. 37
3. 35
4. 34

Question ID : 8161611864

Status : Answered

Chosen Option : 2

यदि  $x^4 + \frac{1}{x^4} = 14159$  है, तो  $x + \frac{1}{x}$  का मान ज्ञात करें।

Q.17

- Ans
- 9<sub>1.</sub>
  - 10<sub>2.</sub>
  - 11<sub>3.</sub>
  - 12<sub>4.</sub>

Question ID : 8161611872

Status : Answered

Chosen Option : 3

Q.18  $\Delta ABC$  की तीन माध्यिकाएँ AX, BY और CZ बिंदु L पर एक दूसरे को प्रतिच्छेदित करती हैं। यदि  $\Delta ABC$  का क्षेत्रफल  $30 \text{ cm}^2$  है, तो चतुर्भुज BXLZ का क्षेत्रफल कितना होगा?

- Ans
- 14  $\text{cm}^2$ <sub>1.</sub>
  - 10  $\text{cm}^2$ <sub>2.</sub>
  - 16  $\text{cm}^2$ <sub>3.</sub>
  - 12  $\text{cm}^2$ <sub>4.</sub>

Question ID : 8161611869

Status : Answered

Chosen Option : 2

Q.19 4 cm की दो बराबर त्रिज्याओं वाले वृत्त के केंद्रों के बीच की दूरी 17 cm है। अनुप्रस्थ स्पर्शरेखा की लंबाई ज्ञात करें।

- Ans
- 14 cm<sub>1.</sub>
  - 15 cm<sub>2.</sub>
  - 16 cm<sub>3.</sub>
  - 19 cm<sub>4.</sub>

Question ID : 8161611866

Status : Answered

Chosen Option : 2

Q.20 यदि  $X = \tan 40^\circ$  है, तो  $2 \tan 50^\circ$  का मान ज्ञात करें।

- Ans
- ✓ 1.  $\frac{2}{X}$
  - ✗ 2.  $2X$
  - ✗ 3.  $\frac{1}{X}$
  - ✗ 4.  $\frac{1}{2X}$

Question ID : 8161611875

Status : Answered

Chosen Option : 1

Q.21 एक पुस्तक का अंकित मूल्य ₹150 है। यदि इसे 30% और 40% की दो क्रमिक छूट पर बेचा जाता है, तो इसका विक्रय मूल्य ज्ञात कीजिए।

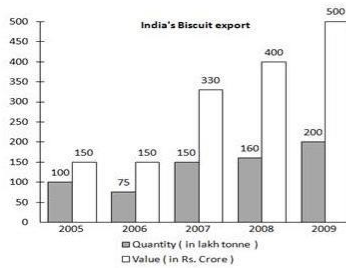
- Ans
- ✗ 1. ₹64
  - ✓ 2. ₹63
  - ✗ 3. ₹65
  - ✗ 4. ₹66

Question ID : 8161611861

Status : Answered

Chosen Option : 2

निम्न बार ग्राफ में पांच साल की अवधि में भारत के बिस्किट निर्यात को दर्शाया गया है। ग्राफ का अध्ययन करें और दिए गए प्रश्न का उत्तर दें।



Q.22 किस वर्ष, इसके पूर्व वर्ष की तुलना में निर्यात में प्रतिशत वृद्धि अधिकतम थी?

- Ans
- ✓ 1. 2007
  - ✗ 2. 2006
  - ✗ 3. 2008
  - ✗ 4. 2009

Question ID : 8161611880

Status : Answered

Chosen Option : 4

Q.23 यदि L,  $\Delta XYZ$  का परिकेंद्र है और कोण X का माप  $40^\circ$  है, तो  $\angle YZL$  का मान कितना होगा?

- Ans
- 1.  $70^\circ$
  - 2.  $40^\circ$
  - 3.  $50^\circ$
  - 4.  $60^\circ$

Question ID : 8161611868

Status : Answered

Chosen Option : 1

Q.24 एक आदमी ने अपनी बाइक 25% लाभ पर ₹25,000 में बेच दी। अगर उसे 15% की हानि उठानी होती, तो वह इसे किस मूल्य पर बेचता?

- Ans
- 1. ₹18,000
  - 2. ₹16,000
  - 3. ₹17,000
  - 4. ₹19,000

Question ID : 8161611863

Status : Answered

Chosen Option : 3

Q.25 कमल और अनिल क्रमशः 8 दिन और 14 दिन में एक तालाब खोद सकते हैं। यदि खुदाई का कुल खर्च ₹4,400 है, तो अनिल कितना पैसा कमाएगा?

- Ans
- 1. ₹1300
  - 2. ₹1500
  - 3. ₹1400
  - 4. ₹1600

Question ID : 8161611857

Status : Answered

Chosen Option : 4

Section : General Awareness

Q.1 व्हाट्सऐप (WhatsApp) को कब शुरू किया गया था?

- Ans
- 1. 2008
  - 2. 2009
  - 3. 2010
  - 4. 2007

Question ID : 8161611883

Status : Answered

Chosen Option : 2

Q.2 हद म 2019 का सा ह य अकादमी पुर कार कसने जीता?

- Ans
- 1. च ा मु ल
  - 2. ना सरा शमा
  - 3. रमेश कुं तल मेघ
  - 4. नंद कशोर आचाय

Question ID : 8161611900  
Status : Answered  
Chosen Option : 4

Q.3 जी.एस.ट .(GST) सं वधान के कस संशोधन अ ध नयम ारा तुत कया गया था?

- Ans
- 1. 106
  - 2. 101
  - 3. 107
  - 4. 102

Question ID : 8161611889  
Status : Answered  
Chosen Option : 1

Q.4 वलहम कॉनरैड रॉटजन ने कस क खोज क थी?

- Ans
- 1. उ माग तक
  - 2. ए स-रे
  - 3. व ुत आवेश का संर ण
  - 4. व ुत ब ब

Question ID : 8161611891  
Status : Answered  
Chosen Option : 2

Q.5 अंतररा ीय योग दवस 2019 का वषय या था?

- Ans
- 1. वा य के लए योग
  - 2. युवा को जोड़ (Connect the Youth)
  - 3. शां त के लए योग
  - 4. लाइमेट ऐ न (Climate Action) के लए योग

Question ID : 8161611886  
Status : Answered  
Chosen Option : 1

Q.6 लपुलेख दरा भारत के कस रा य म त है?

- Ans
- 1. असम मीर
  - 2. ज मू और
  - 3. हमाचल देश
  - 4. उ राखंड

Question ID : 8161611895  
Status : Answered  
Chosen Option : 2

Q.7 न न ल खत म से बौ धम क प व पु तक कौन सी है?

- Ans
- 1. पटक
  - 2. क प सू
  - 3. तोरा
  - 4. द अवे ता

Question ID : 8161611898  
Status : Answered  
Chosen Option : 1

Q.8 सा सेट प भारत के कस रा य म त है?

- Ans
- 1. के रल
  - 2. महारा
  - 3. त मलनाडु
  - 4. आं देश

Question ID : 8161611896  
Status : Answered  
Chosen Option : 1

Q.9 ली थयम का परमाणु भार या है?

- Ans
- 1. 9.012 amu, g/mol
  - 2. 6.941 amu, g/mol
  - 3. 10.811 amu, g/mol
  - 4. 4.003 amu, g/mol

Question ID : 8161611893  
Status : Answered  
Chosen Option : 2

Q.10 हे प (help) खोलने के लिए कस फं न क (function key) का उपयोग किया जाता है?

- Ans
- 1. F2
  - 2. F3
  - 3. F4
  - 4. F1

Question ID : 8161611882  
Status : Answered  
Chosen Option : 1

Q.11 सव े प चर - ामा के लिए, 2020 का गो न लोब पुर कार कस फ्र म ने जीता?

- Ans
- 1. जोकर
  - 2. मै रज टोरी
  - 3. 1917
  - 4. द आइ रशमैन

Question ID : 8161611887  
Status : Answered  
Chosen Option : 3

Q.12 ववेकानंद रॉक मेमो रयल भारत के कस रा य म त है?

- Ans
- 1. महारा
  - 2. त मलनाडु
  - 3. आं देश
  - 4. के रल

Question ID : 8161611885  
Status : Answered  
Chosen Option : 1

Q.13 त बत म पु नद को कस नाम से जाना जाता है?

- Ans
- 1. संगपो
  - 2. लो हत
  - 3. दबंग
  - 4. दहांग

Question ID : 8161611894  
Status : Answered  
Chosen Option : 4



Q.14 शोर मं दर भारत के कस रा य म त है?

- Ans
- 1. ओ डशा
  - 2. त मलनाडु
  - 3. के रल
  - 4. महारा

Question ID : 8161611899  
Status : Answered  
Chosen Option : 1

Q.15 ोके रयो टक को शकाएँ न न ल खत म से कस ाणी जगत म पाई जाती ह?

- Ans
- 1. कवक
  - 2. ए नमे लया
  - 3. ो ट टा
  - 4. मोनेरा

Question ID : 8161611892  
Status : Answered  
Chosen Option : 2

Q.16 जीतू राय कस खेल से संबं धत ह?

- Ans
- 1. कु ती
  - 2. भारो ोलन
  - 3. मु के बाज़ी
  - 4. नशानेबाज़ी (शू टग)

Question ID : 8161611904  
Status : Answered  
Chosen Option : 1

Q.17 राज ान म कतने लोक सभा नवाचन-े ह?

- Ans
- 1. 28
  - 2. 25
  - 3. 30
  - 4. 20

Question ID : 8161611902  
Status : Answered  
Chosen Option : 2

Q.18 2019 के ICC के ट व कप म उप वजेता न न ल खल म से कौन सा देश था?

- Ans  1. यू जीलड  
 2. ऑ े लया  
 3. भारत  
 4. इं लड

Question ID : 8161611906  
Status : Answered  
Chosen Option : 3

Q.19 जनवरी 2020 म, कस रा य ने साइबर सुर त म हला अ भयान आरंभ कया?

- Ans  1. कनाटक  
 2. महारा  
 3. त मलनाडु  
 4. के रल

Question ID : 8161611888  
Status : Answered  
Chosen Option : 1

Q.20 रोवस कप कब आरंभ आ था?

- Ans  1. 1931  
 2. 1891  
 3. 1952  
 4. 1981

Question ID : 8161611905  
Status : Answered  
Chosen Option : 1

Q.21 धसागर झरना कहाँ त है?

- Ans  1. महारा  
 2. कनाटक  
 3. के रल  
 4. गोवा

Question ID : 8161611897  
Status : Answered  
Chosen Option : 2

Q.22 लावणी कस राय का लोक संगीत है?

- Ans  1. महारा  
 2. कनाटक  
 3. ओडशा  
 4. केरल

Question ID : 8161611884

Status : Answered

Chosen Option : 1

Q.23 भारत के/क 13व/व रापत कौन ह/थे/थ ?

- Ans  1. तभापाटल  
 2. णबमुखज  
 3. ए.पी.जे. अलकलाम  
 4. रामनाथकोवद

Question ID : 8161611903

Status : Answered

Chosen Option : 2

Q.24 2019 म कतने लो ग को पवभूषण पुरकार दान कया गया?

- Ans  1. 4  
 2. 2  
 3. 5  
 4. 3

Question ID : 8161611901

Status : Answered

Chosen Option : 3

Q.25 राीय कृष और ामीण वकास बक (NABARD) क ापना कब क गई थी?

- Ans  1. 1991  
 2. 1975  
 3. 1982  
 4. 1987

Question ID : 8161611890

Status : Answered

Chosen Option : 3