

## Combined Higher Secondary Level Examination 2019 Tier I

Roll Number	
Candidate Name	
Venue Name	iON Digital Zone iDZ 1 Sector 62
Exam Date	16/10/2020
Exam Time	1:00 PM - 2:00 PM
Subject	CHSL Tier 1

mpcareer.in

Q.1 Select the most appropriate synonym of the given word.

ROWDY

- Ans
- 1. Charming
  - 2. Boisterous
  - 3. Amenable
  - 4. Calm

Question ID : 8161613063

Status : Answered

Chosen Option : 4

Q.2 In the sentence identify the segment which contains a grammatical error.

I learnt to adapt quickly to new schools because we moved to new places quite frequent.

- Ans
- 1. quite frequent
  - 2. I learnt to adapt quickly
  - 3. to new schools
  - 4. we moved to new places

Question ID : 8161613043

Status : Answered

Chosen Option : 2

Q.3 Select the most appropriate synonym of the given word.

BARREN

- Ans
- 1. Desolate
  - 2. Fertile
  - 3. Bountiful
  - 4. Fruitful

Question ID : 8161613062

Status : Answered

Chosen Option : 1

Q.4 Select the most appropriate meaning of the given idiom.

Once in a blue moon

- Ans
- 1. An incident that is scary
  - 2. Happening only rarely
  - 3. Happening only once in a lifetime
  - 4. An unforgettable experience

Question ID : 8161613056

Status : Answered

Chosen Option : 2

**Comprehension:**

In the following passage some words have been deleted. Fill in the blanks with the help of the alternatives given. Select the most appropriate option for each blank.

To close the day on a high note, we decided to spend the rest of (1)\_\_\_\_\_ evening at a 100-year-old historic watering hole in downtown Juneau. We wanted to (2)\_\_\_\_\_ our bear sightings and how it feels to be in the wild. While raising a toast and reminiscing (3)\_\_\_\_\_ our time in the woods, I felt a deeper connection with nature. It was a (4)\_\_\_\_\_ experience to walk for miles with no particular reason or intention other than absorbing (5)\_\_\_\_\_ solitude of the jungle, open to the sky.

SubQuestion No : 5

Q.5 Select the most appropriate option for blank No. 1.

- Ans
- 1. theirs
  - 2. ours
  - 3. our
  - 4. their

Question ID : 8161613045

Status : Answered

Chosen Option : 3

**Comprehension:**

In the following passage some words have been deleted. Fill in the blanks with the help of the alternatives given. Select the most appropriate option for each blank.

To close the day on a high note, we decided to spend the rest of (1)\_\_\_\_\_ evening at a 100-year-old historic watering hole in downtown Juneau. We wanted to (2)\_\_\_\_\_ our bear sightings and how it feels to be in the wild. While raising a toast and reminiscing (3)\_\_\_\_\_ our time in the woods, I felt a deeper connection with nature. It was a (4)\_\_\_\_\_ experience to walk for miles with no particular reason or intention other than absorbing (5)\_\_\_\_\_ solitude of the jungle, open to the sky.

SubQuestion No : 6

Q.6 Select the most appropriate option for blank No. 2.

- Ans
- 1. celebration
  - 2. celebrate
  - 3. celebrates
  - 4. celebrated

Question ID : 8161613046

Status : Answered

Chosen Option : 2

**Comprehension:**

In the following passage some words have been deleted. Fill in the blanks with the help of the alternatives given. Select the most appropriate option for each blank.

To close the day on a high note, we decided to spend the rest of (1)\_\_\_\_\_ evening at a 100-year-old historic watering hole in downtown Juneau. We wanted to (2)\_\_\_\_\_ our bear sightings and how it feels to be in the wild. While raising a toast and reminiscing (3)\_\_\_\_\_ our time in the woods, I felt a deeper connection with nature. It was a (4)\_\_\_\_\_ experience to walk for miles with no particular reason or intention other than absorbing (5)\_\_\_\_\_ solitude of the jungle, open to the sky.

**SubQuestion No : 7****Q.7 Select the most appropriate option for blank No. 3.**

- Ans  1. for  
 2. about  
 3. in  
 4. with

Question ID : **8161613047**Status : **Answered**Chosen Option : **3****Comprehension:**

In the following passage some words have been deleted. Fill in the blanks with the help of the alternatives given. Select the most appropriate option for each blank.

To close the day on a high note, we decided to spend the rest of (1)\_\_\_\_\_ evening at a 100-year-old historic watering hole in downtown Juneau. We wanted to (2)\_\_\_\_\_ our bear sightings and how it feels to be in the wild. While raising a toast and reminiscing (3)\_\_\_\_\_ our time in the woods, I felt a deeper connection with nature. It was a (4)\_\_\_\_\_ experience to walk for miles with no particular reason or intention other than absorbing (5)\_\_\_\_\_ solitude of the jungle, open to the sky.

**SubQuestion No : 8****Q.8 Select the most appropriate option for blank No. 4.**

- Ans  1. profound  
 2. sincere  
 3. dismal  
 4. comical

Question ID : **8161613048**Status : **Answered**Chosen Option : **1**

**Comprehension:**

In the following passage some words have been deleted. Fill in the blanks with the help of the alternatives given. Select the most appropriate option for each blank.

To close the day on a high note, we decided to spend the rest of (1)\_\_\_\_\_ evening at a 100year-old historic watering hole in downtown Juneau. We wanted to (2)\_\_\_\_\_ our bear sightings and how it feels to be in the wild. While raising a toast and reminiscing (3)\_\_\_\_\_ our time in the woods, I felt a deeper connection with nature. It was a (4)\_\_\_\_\_ experience to walk for miles with no particular reason or intention other than absorbing (5)\_\_\_\_\_ solitude of the jungle, open to the sky.

**SubQuestion No : 9**

**Q.9** Select the most appropriate option for blank No. 5.

- Ans
- 1. some
  - 2. the
  - 3. a
  - 4. much

Question ID : 8161613049

Status : Answered

Chosen Option : 2

**Q.10** Select the most appropriate word to fill in the blank.

There was a range of \_\_\_\_\_ that kept tourists engaged during the International Film Festival in Goa.

- 1. employments
- 2. conversions
- 3. activities
- 4. moments

Question ID : 8161613065

Status : Answered

Chosen Option : 3

Ans

**Q.11** Select the most appropriate meaning of the given idiom.

To leave someone in the lurch.

- Ans
- 1. To put someone at ease
  - 2. To desert someone in his difficulties
  - 3. Constant source of annoyance to someone
  - 4. To come to compromise with someone

Question ID : 8161613057

Status : Answered

Chosen Option : 2

Q.12 Select the most appropriate ANTONYM of the given word.

CONCEALED

- Ans
- 1. Masked
  - 2. Hidden
  - 3. Revealed
  - 4. Discussed

Question ID : 8161613054  
Status : Answered  
Chosen Option : 3

Q.13 Select the INCORRECTLY spelt word.

- Ans
- 1. Distance
  - 2. Commitment
  - 3. Existence
  - 4. Arguement

Question ID : 8161613059  
Status : Answered  
Chosen Option : 4

Q.14 In the sentence identify the segment which contains a grammatical error.

The environment protection policy need to become stricter if we wish to combat climate change.

- Ans
- 1. if we wish to
  - 2. need to become stricter
  - 3. The environment protection policy
  - 4. combat climate change

Question ID : 8161613042  
Status : Answered  
Chosen Option : 2

Q.15 Given below are four jumbled sentences. Out of the given options pick the one that gives their correct order.

- A. Some such common events that bring us happiness for a short time include passing an exam, getting a job, going on a vacation or buying a dream house.
- B. Happiness is more difficult to achieve than peace as we keep striving for it daily.
- C. Peace, on the other hand, is sustainable for many years, costs less energy, and doesn't depend on external events such as these.
- D. Events that we struggle for in our daily lives to bring us happiness only come randomly, stay for a short time and subside.

- Ans
- 1. BCAD
  - 2. BACD
  - 3. BDAC
  - 4. ACDB

Question ID : 8161613050  
Status : Answered  
Chosen Option : 1

Q.16 Select the correct passive form of the given sentence.

We are arranging an exhibition of sarees from different states of India at Dilli Haat.

- Ans
- 1. An exhibition of sarees from different states of India was arranged by us at Dilli Haat.
  - 2. An exhibition of sarees from different states of India has been arranged by us at Dilli Haat.
  - 3. An exhibition of sarees from different states of India will be arranged by us at Dilli Haat.
  - 4. An exhibition of sarees from different states of India is being arranged by us at Dilli Haat.

Question ID : 8161613040  
Status : Answered  
Chosen Option : 4

Q.17 Select the INCORRECTLY spelt word.

- Ans
- 1. Balloon
  - 2. Adulteration
  - 3. Bunglow
  - 4. Irritant

Question ID : 8161613058  
Status : Answered  
Chosen Option : 3

Q.18 Select the word which means the same as the given group of words.

Someone who freely gives money and help to people who need it

- Ans
- 1. Philologist
  - 2. Philanthropist
  - 3. Impressionist
  - 4. Receptionist

Question ID : 8161613061  
Status : Answered  
Chosen Option : 2

Q.19 Select the most appropriate option to substitute the underlined segment in the given sentence. If there is no need to substitute it, select 'No improvement'.

We've had a long day. We should rest now, shouldn't we?

- Ans
- 1. won't we
  - 2. haven't we
  - 3. No improvement
  - 4. hadn't we

Question ID : 8161613053  
Status : Answered  
Chosen Option : 3

Q.20 Select the most appropriate word to fill in the blank.

I had a stroke at an early age, but what I thought was a great \_\_\_\_\_ at that time changed my life for the better.

Ans

- 1. lowliness
- 2. setback
- 3. moodiness
- 4. significance

Question ID : 8161613064

Status : Answered

Chosen Option : 2

Q.21 Select the correct indirect form of the given sentence.

Roopa said to me, "Please accompany me to the market."

Ans

- 1. Roopa said please accompany me to the market.
- 2. Roopa said to me that you must accompany me to the market.
- 3. Roopa requested me to accompany her to the market.
- 4. Roopa is requesting me to accompany her to the market.

Question ID : 8161613041

Status : Answered

Chosen Option : 3

Q.22 Select the word which means the same as the given group of words.

Arrangement of events or dates in the order in which they happen

- 1. Ecology
- 2. Chronology
- 3. Geology
- 4. Archaeology

Question ID : 8161613060

Status : Answered

Chosen Option : 2

Ans



Q.23 Given below are four jumbled sentences. Out of the given options pick the one that gives their correct order.

- A. He flew down, searched for her until he found her and then asked her to become his wife. B. A hawk flying about in the sky one day decided that he would like to marry a hen whom he often saw on earth.  
C. The hawk was delighted and flew away after giving her a ring as an engagement present, and telling her to take good care of it.  
D. She at once gave her consent on the condition that he would wait until she could grow wings like his, so that she might also fly high.

Ans

1. BCDA  
 2. BADC  
 3. BDCA  
 4. ADCB

Question ID : 8161613051  
Status : Answered  
Chosen Option : 2

Q.24 Select the most appropriate ANTONYM of the given word.

ADMONISH

1. Applaud  
 2. Belittle  
 3. Harden  
 4. Attack

Ans

Question ID : 8161613055  
Status : Answered  
Chosen Option : 1

Q.25 Select the most appropriate option to substitute the underlined segment in the given sentence. If there is no need to substitute it, select 'No improvement'.

Rohit Sharma have declared the best batsman of 2019.

Ans

1. had declared  
 2. is declaring  
 3. No improvement  
 4. has been declared

Question ID : 8161613052  
Status : Answered  
Chosen Option : 4

Q.1 दिए गए समीकरण को संतुलित करने के लिए किन दो चिह्नों या संख्याओं को परस्पर बदला जाना चाहिए?

$$(56 + 7) + 5 \times 8 - 12 = 60$$

Ans

1.  $\times$  और  $+$

2.  $+$  और  $\div$

3. 7 और 5

4. 8 और 12

Question ID : 8161613067

Status : Answered

Chosen Option : 4

Q.2 उस विकल्प का चयन करें जो तीसरे पद से उसी प्रकार संबंधित हो जिस प्रकार दूसरा पद पहले पद से संबंधित है।

BUS : AWP : : CAR : \_\_\_\_\_

Ans

1. BCD

2. BUD

3. CAB

4. BCO

Question ID : 8161613082

Status : Answered

Chosen Option : 4

Q.3 एक निश्चित कूट भाषा में, 458 को 'she is good' के रूप में लिखा जाता है, 742 को 'that is cow' के रूप में लिखा जाता है और 841 को 'good is bad' के रूप में लिखा जाता है। उसी भाषा में कौन सी संख्या 'bad' शब्द को दर्शाती है?

Ans

1. 4

2. 2

3. 8

4. 1

Question ID : 8161613075

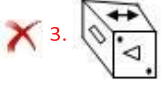

Status : Answered

Chosen Option : 4

Q.4 यदि प्रश्न आकृति में एक दर्पण को रेखा PQ पर रखा जाता है, तो कौन सी उत्तर आकृति प्रश्न आकृति का सही दर्पण प्रतिबिंब है?



Ans



Question ID : 8161613089

Status : Answered

Chosen Option : 1

Q.5 दिए गए प्रश्न आकृति में कागज को मोड़ने का क्रम और मोड़े गए कागज को काटने की विधि दर्शाई गई है। उस उत्तर आकृति का चयन करें जो कागज को पुनः खोलने पर दिखाई देगी।



Ans




Question ID : 8161613088

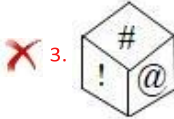
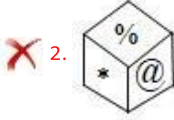
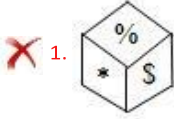
Status : Answered

Chosen Option : 1

Q.6 उस उत्तर आकृति का चयन करें, जिसे दी गई शीट को रेखाओं पर मोड़कर बनाया जा सकता है।



Ans



Question ID : 8161613084

Status : Answered

Chosen Option : 4

Q.7 उस अक्षर की पहचान करें जो निम्न श्रेणी से संबंधित नहीं है।

I, L, O, S, U, X

Ans

✓ 1. S

✗ 2. L

✗ 3. X

✗ 4. O

Question ID : 8161613081

Status : Answered

Chosen Option : 1

उस विकल्प का चयन करें जिसका तीसरे पद से वही संबंध है जो दूसरे पद का पहले पद से है।

Q.8 PTR : R38 :: IMK : ?

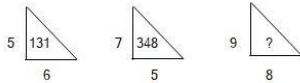
- Ans
- K24 <sup>1.</sup>
  - M24 <sup>2.</sup>
  - M20 <sup>3.</sup>
  - K20 <sup>4.</sup>

Question ID : 8161613077

Status : Answered

Chosen Option : 1

Q.9 दिए गए पैटर्न का ध्यानपूर्वक अध्ययन करें और उस संख्या का चयन करें जो इसमें प्रश्न चिह्न (?) के स्थान पर आएगी।



- Ans
- 1. 521
  - 2. 396
  - 3. 737
  - 4. 729

Question ID : 8161613070

Status : Answered

Chosen Option : 3

Q.10 एक निश्चित कूट भाषा में RDHKLP को QCJMKO के रूप में लिखा जाता है। उसी कूटभाषा में ROHINY को कैसे लिखा जाएगा?

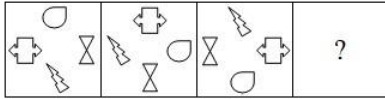
- Ans
- 1. QNIJMX
  - 2. QNJKMX
  - 3. QNJKCX
  - 4. QNJLNX

Question ID : 8161613074

Status : Answered

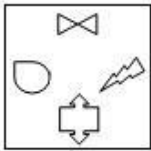
Chosen Option : 2

Q.11 उस उत्तर आकृति का चयन करें जो निम्नलिखित प्रश्न आकृति में प्रश्न-चिह्न (?) के स्थान पर आएगी।

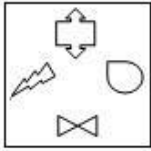


Ans

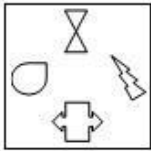
1.



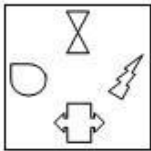
2.



3.



4.



Question ID : 8161613085

Status : Answered

Chosen Option : 3

उस संख्या का चयन करें जो निम्नलिखित श्रेणी में प्रश्न चिह्न (?) के स्थान पर आएगी।

Q.12 1, 2, 4, 7, 13, 24, 44, ?

Ans

73<sub>1.</sub>

81<sub>2.</sub>

112<sub>3.</sub>

63<sub>4.</sub>

Question ID : 8161613069

Status : Answered

Chosen Option : 2

Q.13 निम्नलिखित शब्दों को एक तार्किक और सार्थक अनुक्रम में व्यवस्थित करें।

1. पैराग्राफ
2. वाक्य
3. अक्षर
4. वाक्यांश
5. शब्द

Ans  1. 3,5,4,2,1

2. 3,5,1,2,4

3. 1,2,3,4,5


4. 5,3,1,2,4

Question ID : 8161613073

Status : Answered


Chosen Option : 1

Q.14 उस उत्तर आकृति का चयन करें जिसमें प्रश्न आकृति अंतर्निहित है। (घुमाने की अनुमति नहीं है)

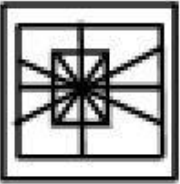


Ans


1.



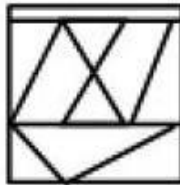
2.



3.



4.



Question ID : 8161613087

Status : Answered

Chosen Option : 3

Q.15 अंकित मूल्य पर 25% की छूट देने के बाद, एक लैपटॉप ₹22,500 में बेचा जाता है। इसका अंकित मूल्य क्या है?

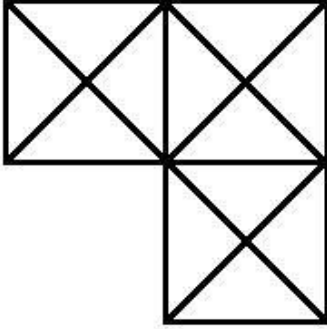
- Ans
- 1. ₹36,500
  - 2. ₹30,000
  - 3. ₹32,000
  - 4. ₹29,000

Question ID : 8161613066

Status : Answered

Chosen Option : 2

दी गई आकृति में कितने त्रिभुज हैं?



Q.16

- Ans
- 1. 18
  - 2. 29
  - 3. 30
  - 4. 37

Question ID : 8161613086

Status : Answered

Chosen Option : 2



Q.17 नीचे दिए गए कथनों और निष्कर्षों को ध्यानपूर्वक पढ़ें। यह मानते हुए कि कथनों में दी गई जानकारी सत्य है, भले ही यह आम तौर पर स्थापित तथ्यों से भिन्न प्रतीत होती हो, यह निर्णय करें कि दिए गए निष्कर्षों में से कौन सा/से निष्कर्ष, कथनों का ताकिक रूप से अनुसरण करता/करते है/हैं।

कथन:

1. कुछ केले आम हैं।
2. कुछ आम बिल्लियाँ हैं।

निष्कर्ष:

- I. सभी बिल्लियाँ केले हैं।
- II. कुछ बिल्लियाँ आम हैं।

- Ans
1. न तो निष्कर्ष I और न ही II अनुसरण करता है।
  2. केवल निष्कर्ष II अनुसरण करता है।
  3. केवल निष्कर्ष I अनुसरण करता है।
  4. निष्कर्ष I और II दोनों अनुसरण करते हैं।

Question ID : 8161613083

Status : Answered

Chosen Option : 2

Q.18 उस विकल्प का चयन करें जिसका तीसरी संख्या से वही संबंध है जो दूसरी संख्या का पहली संख्या से है।

236 : 263 :: 768 : ?

- Ans
1. 778
  2. 786
  3. 876
  4. 788

Question ID : 8161613068

Status : Answered

Chosen Option : 2

Q.19 एक तस्वीर की ओर इशारा करते हुए, मोहन ने कहा, "जो व्यक्ति तस्वीर में मेरी माँ के साथ खड़ा है, वह मेरे पिता का इकलौता पुत्र है"। उस व्यक्ति का मोहन से क्या संबंध है?

- Ans
1. चचेरा/ममेरा/मौसेरा/फुफेरा भाई
  2. भतीजा/भांजा
  3. स्वयं मोहन
  4. पिता

Question ID : 8161613079

Status : Answered

Chosen Option : 3

उस संख्या का चयन करें जो निम्नलिखित श्रेणी में प्रश्न चिह्न (?) के स्थान पर आएगी।

Q.20 7, 16, 24, 31, 37, ?

- Ans  42<sub>1.</sub>  
 39<sub>2.</sub>  
 58<sub>3.</sub>  
 45<sub>4.</sub>

Question ID : 8161613071

Status : Answered

Chosen Option : 1

Q.21 यदि किसी कोडित भाषा में 'UNIQ' को 'SJCI' लिखा जाता है, तो उसी कोडित भाषा में 'MODE' किस प्रकार से लिखा जाएगा:

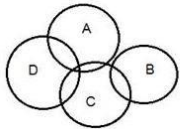
- Ans  KKXX<sub>1.</sub>  
 KKXV<sub>2.</sub>  
 KKXT<sub>3.</sub>  
 KKW<sub>4.</sub>

Question ID : 8161613080

Status : Answered

Chosen Option : 2

Q.22 In the given Venn diagram, different areas denote different types of players. 'A' denotes 'tennis players', 'B' denotes 'badminton players', 'C' denotes 'hockey players' and 'D' denotes 'football players'. Which area represents the group of all types of sports players?



- Ans  1. D  
 2. A  
 3. C  
 4. B

Question ID : 8161613090

Status : Answered

Chosen Option : 3

उस अक्षर का चयन करें जो निम्नलिखित श्रृंखला में प्रश्न चिह्न (?) के स्थान पर आएगा।

Q.23 A, D, C, G, F, K, J, ?

- Ans
- L 1.
  - P 2.
  - T 3.
  - O 4.

Question ID : 8161613078

Status : Answered

Chosen Option : 2

Q.24 निम्नलिखित श्रृंखला में प्रश्न चिह्न (?) के स्थान पर आने वाली संख्या का चयन करें।

4, 5, 9, 18, 34, 59, ?, 144, 208, 289

- Ans
- 1. 90
  - 2. 95
  - 3. 88
  - 4. 89

Question ID : 8161613072

Status : Answered

Chosen Option : 2

उन अक्षरों के संयोजन का चयन करें जो दी गई श्रृंखला के रिक्त स्थान में बाएं से दाएं क्रमिक रूप से रखे जाने पर श्रृंखला को पूरा करेंगे।

Q.25 \_om\_onm\_mnon\_omn\_n

- Ans
- 1. nnmmo
  - 2. nmomn
  - 3. mnomo
  - 4. moomm

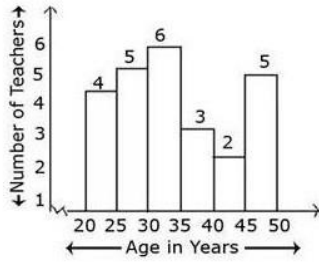
Question ID : 8161613076

Status : Answered

Chosen Option : 3

Section : Quantitative Aptitude(Basic Arithmetic Skill)

Q.1 निम्न ग्राफ का अध्ययन करें और ग्राफ के आधार पर दिए गए प्रश्न का उत्तर दें।



45 वर्ष से कम आयु वाले शिक्षकों की संख्या, कुल शिक्षकों की संख्या की कितनी प्रतिशत है?

- Ans
- 1. 60%
  - 2. 30%
  - 3. 80%
  - 4. 8%

Question ID : 8161613113

Status : Answered

Chosen Option : 3

Q.2 A और B अकेले-अकेले किसी दीवार का निर्माण क्रमशः 12 और 16 दिन में कर सकते हैं। A से शुरू करके, यदि वे बारी-बारी से प्रत्येक दिन कार्य करते हैं, तो कितने दिनों में दीवार का निर्माण पूरा हो जाएगा?

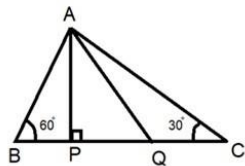
- Ans
- 1.  $12\frac{2}{3}$  दिन
  - 2.  $7\frac{2}{3}$  दिन
  - 3.  $6\frac{3}{4}$  दिन
  - 4.  $13\frac{2}{3}$  दिन

Question ID : 8161613091

Status : Answered

Chosen Option : 1

Q.3 दी गई आकृति में AP, BC के अभिलंबवत है और AQ कोण A का समद्विभाजक (bisector) है। कोण PQA का माप ज्ञात करें।



- Ans
- 1.  $75^\circ$
  - 2.  $60^\circ$
  - 3.  $50^\circ$
  - 4.  $30^\circ$

Question ID : 8161613103

Status : Answered

Chosen Option : 1

Q.4 किसी त्रिभुज के कोणों का अनुपात 3 : 4 : 8 है। यह एक \_\_\_\_\_ त्रिभुज है।

- Ans
- 1. समकोण
  - 2. अधिक कोण
  - 3. समद्विबाहु
  - 4. न्यून कोण

Question ID : 8161613102

Status : Answered

Chosen Option : 2

Q.5  $2x - 3y$  इनमें से किसका गुणनखंड (factor) है?

- Ans
- 1.  $4x^2 + 2x - 3y + 9y^2 - 12xy$
  - 2.  $8x^3 + 27y^3$
  - 3.  $4x^2 + 9y^2 + 12xy$
  - 4.  $4x^2 + 2x - 3y + 36y^2 + 12xy$

Question ID : 8161613106

Status : Answered

Chosen Option : 1

Q.6 दो टंकियों A और B में पानी की मात्रा का अनुपात 6 : 5 है। टैंक A के पानी की मात्रा में 30% की वृद्धि कि जाती है। टैंक B के पानी की मात्रा में कितने प्रतिशत वृद्धि की जानी चाहिए कि दोनों टंकियों में पानी की मात्रा समान हो जाए?

- 56% <sup>1.</sup>
- 30% <sup>2.</sup>
- 18% <sup>3.</sup>
- 15% <sup>4.</sup>

Question ID : 8161613096

Status : Answered

Chosen Option : 1

Q.7 A mobile phone was sold for ₹31,500 after giving two successive discounts of 30% and 10%, respectively. What was the marked price of the mobile?

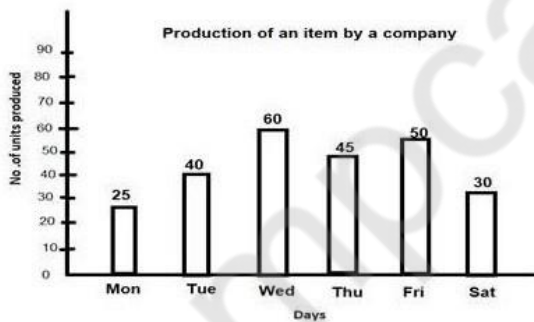
- 1. ₹35,000
- 2. ₹55,000
- 3. ₹50,000
- 4. ₹52,500

Question ID : 8161613095

Status : Answered

Chosen Option : 3

Q.8 निम्न ग्राफ का अध्ययन करें और ग्राफ के आधार पर दिए गए प्रश्न का उत्तर दें।



शुक्रवार से शनिवार तक उत्पादन में कितने प्रतिशत की गिरावट दर्ज की गई?

- 1.  $66\frac{2}{3}\%$
- 2. 10%
- 3. 40%
- 4. 20%

Question ID : 8161613114

Status : Answered

Chosen Option : 3

Q.9 ₹320 की राशि कितनी अवधि में बढ़कर ₹405 हो जाएगी, यदि ब्याज की गणना 12.5% वार्षिक चक्रवृद्धि के आधार पर की जाती हो?

Q.9

Ans  1. 2 वर्ष

2.  $2\frac{1}{2}$  वर्ष

3.  $1\frac{1}{2}$  वर्ष

4. 1 वर्ष

Question ID : 8161613099

Status : Answered

Chosen Option : 1

Q.10 10 cm त्रिज्या वाले वृत्त में, PQ और RS क्रमशः 16 cm और 12 cm लंबाई वाली दो समानांतर जीवाएं हैं। यदि वे केंद्र से विपरीत दो स्थानों पर स्थित हों, तो जीवाओं के बीच की दूरी ज्ञात करें।

Ans  1. 2 cm

2. 6 cm

3. 8 cm

4. 14 cm

Question ID : 8161613101

Status : Answered

Chosen Option : 4

Q.11 यदि  $\tan 4A = \cot (A - 20^\circ)$ ,  $0^\circ < \theta < 90^\circ$  है, तो A का मान ज्ञात करें।

Ans  1.  $80^\circ$

2.  $5^\circ$

3.  $14^\circ$

4.  $22^\circ$

Question ID : 8161613110

Status : Answered

Chosen Option : 3

Q.12 किसी खिलाड़ी का 15 पारियों का एक निश्चित औसत है। 16वीं पारी में वह 120 रन बनाता है, जिससे उसका औसत 6 रन बढ़ जाता है। नया औसत ज्ञात करें।

Ans  1. 20

2. 8

3. 24

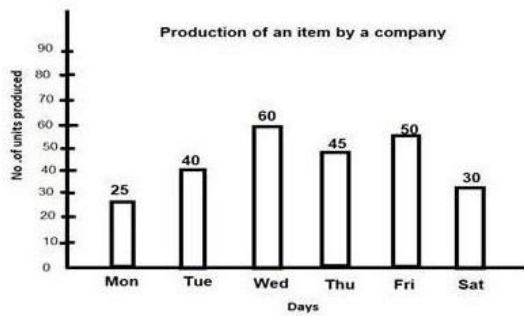
4. 30

Question ID : 8161613094

Status : Answered

Chosen Option : 4

निम्न ग्राफ का अध्ययन करें और ग्राफ के आधार पर दिए गए प्रश्न का उत्तर दें।



किस दिन का उत्पादन, कुल उत्पादन का  $\frac{1}{5}$  था?

Q.13

1. शुक्रवार

Ans

2. मंगलवार

3. गुरुवार

4. बुधवार

Question ID : 8161613115

Status : Answered

Chosen Option : 1

Q.14 सलमा, कोई वस्तु खरीदती है और फिर इसे ₹810 में बेचती है। यदि उसे 10% की हानि होती है, तो 4% का लाभ प्राप्त करने के लिए उसे वस्तु को किस मूल्य पर बेचना चाहिए?

Ans

1. ₹900

2. ₹936

3. ₹729

4. ₹864

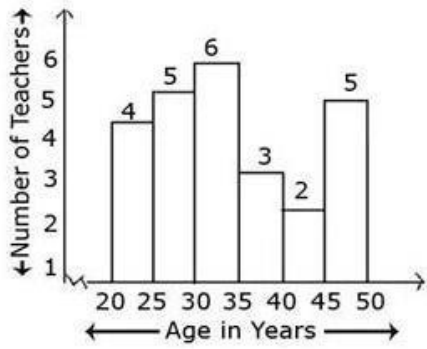
Question ID : 8161613097

Status : Answered

Chosen Option : 2



Study the following graph and answer the question based on the graph.



Q.15 How many teachers are aged 45 years or more but less than 50 years?

- Ans
- 1. 2
  - 2. 3
  - 3. 6
  - 4. 5

Question ID : 8161613112

Status : Answered

Chosen Option : 4

Q.16 किसी टैंक का आयतन 72 घन मीटर है। इसमें 60 लीटर प्रति मिनट की दर से पानी भरा जाता है। टैंक को भरने में लगने वाला समय ज्ञात करें।

- Ans
- 1. 12 घंटे
  - 2. 10 घंटे
  - 3. 20 घंटे
  - 4. 6 घंटे

Question ID : 8161613093

Status : Answered

Chosen Option : 3

8, 13, 26 और 40 में से प्रत्येक संख्या में कौन सी संख्या को जोड़ा जाना चाहिए ताकि इस क्रम में प्राप्त संख्याएं समानुपात में हों?

- Q.17
- Ans
- 1. 3
  - 2. 1
  - 3. 4
  - 4. 2

Question ID : 8161613098

Status : Answered

Chosen Option : 4

Q.18  $\sin 20^\circ \cos 70^\circ + \sin 70^\circ \cos 20^\circ$  का मान ज्ञात करें।

- Ans
- 1.  $\frac{1}{\sqrt{2}}$
  - 2. 1
  - 3. 0
  - 4. 2

Question ID : 8161613109

Status : Answered

Chosen Option : 4

Q.19 दो रेलगाड़ियां स्टेशन A और B, जिनके बीच की दूरी 1800 km है, से एक साथ क्रमशः 44 km/h और 46 km/h की औसत चाल से एक दूसरे की ओर चलना शुरू करती हैं। वे रेलगाड़ियां कहां पर एक-दूसरे से मिलेंगी?

- Ans
- 1. स्टेशन A से 880 km
  - 2. स्टेशन A से 920 km
  - 3. स्टेशन B से 880 km
  - 4. स्टेशन B से 900 km

Question ID : 8161613092

Status : Answered

Chosen Option : 1

Q.20 यदि  $\sin\theta + \operatorname{cosec}\theta = 2$ , तो  $\sin^2\theta + \operatorname{cosec}^2\theta$  का मान ज्ञात करें।

- Ans
- 1. 2
  - 2. 1
  - 3. 4
  - 4. 8

Question ID : 8161613111

Status : Answered

Chosen Option : 1

Q.21  $10 - [121 \div (11 \times 11) - (-4) - \{3 - (8 - 1)\}]$  का मान ज्ञात करें।

- Ans
- 1. -1
  - 2. 1
  - 3. 0
  - 4. 19

Question ID : 8161613108

Status : Answered

Chosen Option : 2

दिया गया है कि  $2^{20} + 1$ , किसी पूर्ण संख्या से पूर्णतः विभाज्य है। निम्न में से कौन सी संख्या उसी संख्या से पूर्णतः विभाज्य होगी?

Q.22

- Ans
- 1.  $2^{15} + 1$
  - 2.  $2^{60} + 1$
  - 3.  $5 \times 2^{30}$
  - 4.  $2^{90} + 1$

Question ID : 8161613107

Status : Answered

Chosen Option : 2

Q.23

$(ax + by)$  इनमें से किसका गुणनखंड (factor) है?

- Ans
- 1.  $a^2x^2 + 2ab + b^2y^2$
  - 2.  $a^2x^3 + 2abx + b^2y^2x$
  - 3.  $a^2x^2 + 2abxy + b^2y^2$
  - 4.  $a^2x^2 + 2ab - b^2y^2$

Question ID : 8161613105

Status : Answered

Chosen Option : 3

Q.24 किसी वर्गाकार पार्क का क्षेत्रफल  $16x^2 + 8x + 1$  वर्ग इकाई है। पार्क की लंबाई ज्ञात करें।

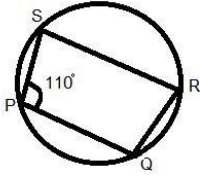
- Ans
- 1.  $4x$  इकाई
  - 2.  $(4x + 1)$  इकाई
  - 3.  $(4x - 1)$  इकाई
  - 4.  $(4x + 1)^2$  इकाई

Question ID : 8161613104

Status : Answered

Chosen Option : 2

Q.25 दी गई आकृति में, PQRS, एक चक्रीय चतुर्भुज है। यदि PQ, SR के समानांतर हैं, तो कोण PQR का माप ज्ञात करें।



- Ans
- 1.  $70^\circ$
  - 2.  $100^\circ$
  - 3.  $80^\circ$
  - 4.  $110^\circ$

Question ID : 8161613100

Status : Answered

Chosen Option : 2

Section : General Awareness

Q.1 अंतरराष्ट्रीय ट्रेड के संदर्भ में भारत ने कितने गैर-सदस्य देशों को शामिल किया है?

- Ans
- 1. चार
  - 2. दो
  - 3. तीन
  - 4. एक

Question ID : 8161613138

Status : Answered

Chosen Option : 1

Q.2 नीचे दी गई सूची में, 2019 में जारी किये गए रिपोर्ट के अनुसार, भारत में सबसे अधिक खसस (गैस) का सबसे अधिक उत्पादन करने वाला राज्य कौन सा है?

- Ans
- 1. अमो नया
  - 2. स फछाइऑ साइड
  - 3. नाइ जेज्काइऑ साइड
  - 4. काबनमोनोऑ साइड

Question ID : 8161613120

Status : Answered

Chosen Option : 2

Q.3 चं मा / — पड का उदाहरण है।

- Ans
- 1. अद तमान
  - 2. द तीमान
  - 3. पारभासी
  - 4. पारदश

Question ID : 8161613125

Status : Answered

Chosen Option : 1

Q.4 न न ल खससे कौनस तबलावादकह/थे ?

- Ans
- 1. हर साद चौर सया
  - 2. भीमसेन जोशी
  - 3. अ लार खा
  - 4. ट.एन कृ णन

Question ID : 8161613135

Status : Answered

Chosen Option : 3

Q.5 पु तक 'मायूं' नामा कसने लखी थी ?

- Ans
- 1. मायूं
  - 2. गुलबदन बेगम
  - 3. बाबर
  - 4. अकबर

Question ID : 8161613132

Status : Answered

Chosen Option : 2

Q.6 वह या जो पृ वी क ऊपरी सतहके भाग को खसकाती उभारती या न मतकरती है / या कहलाती है ?

- Ans
- 1. पटलव प (डाइपे ऍफ )
  - 2. अना छादन (ड यूडेशन )
  - 3. अप यर्षेदरग )
  - 4. वालामुखीयता (वॉ के न म)

Question ID : 8161613129

Status : Answered

Chosen Option : 1

Q.7 अंजीम अनुवादत, इंडियन नेशनल आम (INA) का आदर्श वाक्य (motto) \_\_\_\_\_ था। Ans

- 1. वयं से पहले सेवा
- 2. एकता और अनुशासन
- 3. करो या मरो
- 4. एकता, वास, बलदान

Question ID : 8161613133

Status : Answered

Chosen Option : 4

Q.8 'आय और रोजगार संहिता' अथवा कस शाखा का सरा नाम है? Ans  1.

वृहत् अथवा (माइक्रोकोर्पोरेट्स)

- 2. सावजनिक व
- 3. सूक्ष्म अथवा (माइक्रोकोर्पोरेट्स)
- 4. अंतरराष्ट्रीय अथवा

Question ID : 8161613123

Status : Answered

Chosen Option : 3

Q.9 धाय मन्त्र कमीसे \_\_\_\_\_ होता है।

- Ans
- 1. रकेट्स
  - 2. कव
  - 3. पेलारा
  - 4. बेरीबेरी

Question ID : 8161613126

Status : Answered

Chosen Option : 4

Q.10 लेट, \_\_\_\_\_ शैल का एक कार है।

- Ans
- 1. अवसाद
  - 2. वालामुखीय
  - 3. आनेय
  - 4. कायांतरत

Question ID : 8161613131

Status : Answered

Chosen Option : 1

Q.11 'मटक (Matki)' न न ल खत म से कस रा य का लोक य लोक नू य है?

Ans

- 1. म य देश
- 2. बहार
- 3. असम
- 4. राज थान

Question ID : 8161613118

Status : Answered

Chosen Option : 4

Q.12 'माल वका न म म् (Malavikagnimitram)' के लेखक कौन ह?

Ans

- 1. कौ ट य
- 2. का लदास
- 3. ास
- 4. वा भट

Question ID : 8161613119

Status : Answered

Chosen Option : 2

Q.13 बे सक (BASIC) कं यूटर भाषा के संदभ म BASIC का पूण प या होता है ?

- 1. बगनसऑॅपरपजस टमे टक इं श कोड (Beginner's All-purpose Systematic Instruction Code)
- 2. बगनसऑॅपरपजसबॉ लकहनपुट आउटपुटकोड (Beginner's All-purpose Symbolic Input-output Code)
- 3. बगनसऑॅपरपजसबॉ लकहनपुट कोड (Beginner's All-purpose Symbolic Input Code)
- 4. बगनसऑॅपरपजसबॉ लकहं श कोड (Beginner's All-purpose Symbolic Instruction Code)

Question ID : 8161613117

Status : Answered

Chosen Option : 4

Ans

Q.14 भारतीय सं वधान के भाग IV A (अनु छेद 51A) म कतने मौ लक कत नधा रत कए गए ह?

Ans

- 1. 11
- 2. 10
- 3. 12
- 4. 9

Question ID : 8161613136

Status : Answered

Chosen Option : 1

Q.15 भारत म पन कोड (पो टल इंडे स कोड) कब शु कया गया था?

- Ans
- 1. 1963
  - 2. 1972
  - 3. 1949
  - 4. 1969

Question ID : 8161613130

Status : Answered

Chosen Option : 2

Q.16 नवंबर 2019 म, न न ल खत म से कस शहर म 'इंडिया इंटरनेशनल साइंस फे टवल (IISF)' का आयोजन कया गया था?

- Ans
- 1. कोलकाता
  - 2. त वनंतपुरम
  - 3. नई द ली
  - 4. बगलु

Question ID : 8161613122

Status : Answered

Chosen Option : 4

Q.17 पु तक 'जटल नेशन - साँ वंग टे नोलॉजीज़ पीपल ॉ लम (Bridgital Nation – Solving Technology's People Problem)' क लेखककौन है?

- 1. रतनटाटा
- 2. नंदन नीलेक ण
- 3. नारायण मू त
- 4. एनचं शेखरन

Question ID : 8161613134

Status : Answered

Chosen Option : 3

Ans

Q.18 न न ल खत म से कस तेल कं पनी ने दसंबर 2019 म ओ डशा के बलांगीर जले म एल.पी.जी (LPG) बॉट लग लांट क शु आत

क थी?

- Ans
- 1. भारत पे ो लयम कॉप रेशन ल मटेड
  - 2. इंडयन ऑयल कॉप रेशन ल मटेड
  - 3. ह तान पे ो लयम कॉप रेशन ल मटेड
  - 4. रलायंस इंड ज ल मटेड

Question ID : 8161613124

Status : Not Answered

Chosen Option : --



Q.19 भारतीय संवधान का कौन-सा अनु छेद, भारतीय रा प त को संसद के अवकाश के समय अ यादेश लागू करने का अ

धकार देता है?

Ans

- 1. अनु छेद 123
- 2. अनु छेद 232
- 3. अनु छेद 312
- 4. अनु छेद 213

Question ID : 8161613137

Status : Answered

Chosen Option : 1

Q.20 Which of the following symbols must be used before a formula in a Microsoft Excel sheet?

Ans

- 1. @
- 2. =
- 3. \$
- 4. &

Question ID : 8161613116

Status : Answered

Chosen Option : 1

Q.21 सूर्यमुखी के सौर ै कग (सूर्य क दशा मवचलनेको — कहा जाता है।

- 1. काशानुवतन (Phototropism)
- 2. जलानुवतन (Hydrotropism)
- 3. पशानुवतन (Thigmotropism)
- 4. सूर्यानुवतन (Heliotropism)

Question ID : 8161613127

Status : Answered

Chosen Option : 4

Ans

Q.22 सतलुज नद कस दर से होकर भारत म वेश करती है?

Ans

- 1. लपुलेख
- 2. शपक ला
- 3. नाथुला
- 4. जोजी ला

Question ID : 8161613128

Status : Answered

Chosen Option : 1

Q.23 फरवरी 2020 त कथ त के अनुसार 'गोवा के रा यपाल कौन थे ?

Ans

- 1. ीपद ये सो नाईक
- 2. भग सह को यारी
- 3. मोद सावंत
- 4. स यपालम्न

Question ID : 8161613121

Status : Answered

Chosen Option : 4

Q.24 इनमसे कसभारतीय के टर ने ए व कप्पमसवा धवन बनाए ह?

Ans

- 1. स त लकर
- 2. रो हत शमा
- 3. रा ल वड
- 4. क देव

Question ID : 8161613139

Status : Answered

Chosen Option : 2

Q.25 वष 2019 के 'आड यू जी ए (IWGA) एथलीटऑ द ईयर' के लए नामांकत होने वाले एकमा भारतीय कौन ह?

Ans

- 1. मताली सह
- 2. रानी रामपाल
- 3. वराट कोहली
- 4. अ कुमार म

Question ID : 8161613140

Status : Answered

Chosen Option : 2