

101. In the following question, some part of the sentence may have errors. Find out which part of the sentence has an error and select the appropriate option. If a sentence is free from error, select 'No Error'.  
She was (1)/ quite amusing (2)/at that story.(3)/No error (4)
- A. 1                      B. 2  
C. 3                      D. 4

Ans. B

102. In the following question, some part of the sentence may have errors. Find out which part of the sentence has an error and select the appropriate option. If a sentence is free from error, select 'No Error'.  
Money bills could only be introduced in the Lok Sabha. (1)/and upon being passed, are sent to the Rajya Sabha.(2)/where it can be deleverated upon for upto 14 days.(3)/No error(4).
- A. 1                      B. 2  
C. 3                      D. 4

Ans. A

103. In the following question, the sentence given with blank to filled in with an appropriate word. Select the correct alternative out of the four and indicate it by selective the appropriate option.  
I\_\_\_\_\_not attend the party.
- A. probably be  
B. will be  
C. won't  
D. shall

Ans. D

104. In the following question, the sentence given with blank to be filled in with an appropriate word. Select the correct alternative out of the four and indicate it by selecting the appropriate option.  
Happy thoughts releasase hormones that work for out well-being and negative thoughts release hormones that make us\_\_\_\_.
- A. ill  
B. happy  
C. excited

D. rejuvenated

Ans. A

5. In the following question, out of the given four alternatives, select the one which best expresses the meaning of the given word.  
Accolade
- A. silence  
B. Mediocrity  
C. Laurels  
D. Lowliness

Ans. C

106. In the following question, out of the given four alternatives, select the one which best expresses the meaning of the given word.  
Investive
- A. Invent  
B. Expressive  
C. Abusive  
D. Invitation

Ans. C

107. In the following question, out of the given four alternative, select the one which is opposite in meaning of the given word.  
Elated
- A. Inspired  
B. Cheered  
C. Disheartened  
D. Encouraged

Ans. C

108. In the following question, out of the given four alternatives, select the one which is opposite in meaning of the given word.  
Baneful
- A. Harmful  
B. Cruel  
C. Disastrous  
D. Lucky

Ans. D

109. Rearrange the parts of the sentence in correct order.  
All the sound reasons  
**P** : foreign to their culture and  
**Q** : of individual and community identity  
**R** : challenge deeply held notions

A. PRQ                      B. RQP  
C. PQR                      D. QRP

Ans. A  
110. A sentence has been given in Active/Passive Voice. Out of four given alternatives, select the one which best express the same sentence in passive/Active Voice.

Some girls were helping the wounded men.

- A. The wounded men were helping some girls.
- B. The wounded men were being helped by some girls.
- C. The wounded men are being helped by some girls.
- D. The wounded men received help from some girls.

Ans. C  
111. A sentence has been given in Direct/Indirect Speech. Out of the four given alternatives, select the one which best expresses the same sentence in Indirect/Direct Speech.

Shyam said, "My master is eating."

- A. Shyam inform that his master is eating.
- B. Shyam say that his master is eating.
- C. Shyam and his master was eating.
- D. Shyam said that his master was eating

Ans. C  
112. In the following question, a word has been written in four different ways out of which only one is correctly spelt. Select the correctly spelt word.

- A. Asassination
- B. Assasination
- C. Assassination
- D. Assaissination

Ans. C  
113. In the following passage, some of the words have been left out. Read the passage carefully and select the correct answer for the given blank out of the four alternatives.

A little thought will show you how vastly your own \_\_\_\_\_ depends on the way other people bear themselves toward you. The looks \_\_\_\_\_ tones at your breakfast-table, the conduct of \_\_\_\_\_ fellow-workers or employers, the \_\_\_\_\_ or unreliable men you deal with, what people say to you on the street, the way your cook and housemaid do their work, the letters you get, the

friends or foes you meet,--these things make \_\_\_\_\_ very much of the pleasure or misery of your day.

how \_\_\_\_\_ vastly \_\_\_\_\_ your own \_\_\_\_\_ depends on the way

- A. happiness
- B. happy
- C. happily
- D. happiest

Ans. A  
114. In the following passage, some of the words have been left out. Read the passage carefully and select the correct answer for the given blank out of the four alternatives.

A little thought will show you how vastly your own \_\_\_\_\_ depends on the way other people bear themselves toward you. The looks \_\_\_\_\_ tones at your breakfast-table, the conduct of \_\_\_\_\_ fellow-workers or employers, the \_\_\_\_\_ or unreliable men you deal with, what people say to you on the street, the way your cook and housemaid do their work, the letters you get, the friends or foes you meet,--these things make \_\_\_\_\_ very much of the pleasure or misery of your day.

The looks \_\_\_\_\_ tones at your breakfast-table

- A. but
- B. if
- C. then
- D. and

Ans. D  
115. In the following passage, some of the words have been left out. Read the passage carefully and select the correct answer for the given blank out of the four alternatives.

A little thought will show you how vastly your own \_\_\_\_\_ depends on the way other people bear themselves toward you. The looks \_\_\_\_\_ tones at your breakfast-table, the conduct of \_\_\_\_\_ fellow-workers or employers, the \_\_\_\_\_ or unreliable men you deal with, what people say to you on the street, the way your cook and housemaid do their work, the letters you get, the friends or foes you meet,--these things make \_\_\_\_\_ very much of the pleasure or misery of your day.

the conduct of \_\_\_\_\_  
fellow-workers

- A. you                      B. your  
C. them                     D. they

Ans.  
116.

In the following passage, some of the words have been left out. Read the passage carefully and select the correct answer for the given blank out of the four alternatives.

A little thought will show you how vastly your own \_\_\_\_\_ depends on the way other people bear themselves toward you. The looks \_\_\_\_\_ tones at your breakfast-table, the conduct of \_\_\_\_\_ fellow-workers or employers, the \_\_\_\_\_ or unreliable men you deal with, what people say to you on the street, the way your cook and housemaid do their work, the letters you get, the friends or foes you meet,--these things make \_\_\_\_\_ very much of the pleasure or misery of your day.

employers, the \_\_\_\_\_ or unreliable men  
A. faithful  
B. faith  
C. faithfully  
D. faithfulness

Ans.  
117.

In the following passage, some of the words have been left out. Read the passage carefully and select the correct answer for the given blank out of the four alternatives.

A little thought will show you how vastly your own \_\_\_\_\_ depends on the way other people bear themselves toward you. The looks \_\_\_\_\_ tones at your breakfast-table, the conduct of \_\_\_\_\_ fellow-workers or employers, the \_\_\_\_\_ or unreliable men you deal with, what people say to you on the street, the way your cook and housemaid do their work, the letters you get, the friends or foes you meet,--these things make \_\_\_\_\_ very much of the pleasure or misery of your day.

things make \_\_\_\_\_ very much of the pleasure  
A. up                        B. upon  
C. above                    D. on

Ans.

A

118. In the following question, out of the four alternatives, select the alternative which best expresses the meaning of the idiom/phrase.

At somebody's expense

- A. Paid for by someone.  
B. To blame a crime on someone else.  
C. The unlucky persons who lose a race.  
D. If one person benefits it is always at the loss of another.

Ans.

A

119. In the following question, out of the four alternatives, select the alternative which best expresses the meaning of the idiom/phrase.

Cock and bull story

- A. An implausible story used as an explanation or excuse.  
B. A fairy tale told down generations.  
C. A story of animals with hidden morals.  
D. The meek can defeat the bully by being clever.

Ans.

A

120. In the following question, out of the four alternatives, select the alternative which is the best substitute of the words/sentence.

An upright bar, post, or frame forming a support or barrier

- A. Repose  
B. Stanchion  
C. Recumbent  
D. Supine

Ans.

B

121. In the following question, out of the four alternatives, select the alternative which is the best substitute of the words/sentence.

A routine task, especially a household one

- A. Chore  
B. Servitude  
C. Moil  
D. Travail

Ans.

A

122. In the following question, out of the four alternatives, select the alternative which will improve the bracketed part of the sentence. In case no improvement is needed, select "no improvement".

Opening the door to her each morning is like **(lets)** a breath of fresh air into my world.

- A. to let

- B. let  
C. letting  
D. no improvement

Ans. C

123. In the following question, out of the four alternatives, select the alternative which will improve the bracketed part of the sentence. In case no improvement is needed, select "no improvement".

What seeds you (**has sow**) in the garden of your mind determine the quality of life you shall have.

- A. sowing  
B. sow  
C. had sow  
D. no improvement

Ans. B

124. The question below consists of a set of labelled sentences. Out of the four options given, select the most logical order of the sentences to form a coherent paragraph.

If your ward talks

A-well to convince you, be

B-social and interpersonal creativity

C-Proud that he or she has

- A. BAC                      B. ACB  
C. BCA                      D. ABC

Ans. B

125. In the following question, four words are given out of which one word is correctly spelt. Select the correctly spelt word.

- A. arbittrtes  
B. arbitrates  
C. arbetrates  
D. arbettrates

Ans. B

126. निम्नलिखित प्रश्न में दिए गये विकल्पों में से संबंधित शब्द युग्म को चुनिए।

कमल:पुष्प::?:?

- A. खरगोश:सफेद  
B. मोर:पक्षी  
C. कौआ:उड़ना  
D. कृष्णा :बोलना

Ans. B

127. निम्नलिखित प्रश्न में दिए गये विकल्पों में से सम्बंधित संख्या युग्म को चुनिए।

13 : 167 : : 23 : ?

- A. 527                      B. 525  
C. 531                      D. 532

Ans. A

128. निम्नलिखित प्रश्न में दिए गये विकल्पों में से सम्बंधित अक्षर/अक्षरों को चुनिए।  
PIR:OHQ::?: ?

- A. KLO:MOR  
B. LNT:JLQ  
C. FAX:EZW  
D. KMN:LND

Ans. C

129. निम्नलिखित प्रश्न में दिए गये विकल्पों में से विषम शब्द युग्म को चुनिए।

- A. मांसाहारी-बाघ  
B. शाकाहारी-गाय  
C. खरगोश-शाकाहारी  
D. मांसाहारी-कुत्ता

Ans. C

30. नीचे दिए गये प्रश्न में, चार संख्यां युग्म दिए गये हैं।(-) के बांयी और दी संख्यां (-) क दायीं और दी गयी संख्यां से तर्क/नियम से सम्बंधित है। तीन उसी एक तर्क/नियम के आधार पर समान हैं। दिए गये विकल्पों में से भिन्न को चुनिए।

- A. 8-64                      B. 6-36  
C. 4-16                      D. 2-12

Ans. D

131. निम्नलिखित प्रश्न में दिए गये विकल्पों में से सम्बंधित अक्षर/अक्षरों को चुनिए।

- A. SW                      B. GW  
C. FJ                      D. DG

Ans. D

132. दिए गये विकल्पों में से, शब्दकोश के अनुसार कौनसा शब्द तीसरे स्थान पर आयेगा??

1. Clause                      2. Cigar  
3. Clever                      4. Cinema  
5. Client

- A. Cinema  
B. Client  
C. Cigar  
D. Clause

Ans. C

133. निम्नलिखित प्रश्न में दिए गये विकल्पों में से लुप्त अंक ज्ञात कीजिए।

34, 69, 140, 283, ?, 1145

- A. 440                      B. 545  
C. 570                      D. 625

Ans. C

134. एक अनुक्रम दिया गया है, जिसमें से एक पद लुप्त है। दिए गये विकल्पों में से वह सही विकल्प चुनिए, जो अनुक्रम को पूरा करें।

CX, EV, GT, IR, ?

- A. LP                      B. LQ

Ans. C  
135. लड़कों की एक पंक्ति में, राहुल ऊँअप से 19 वाँ है तथा अजय नीचे से 21-वाँ है। वे अपना स्थान परस्पर आपस में बदल लेते हैं। अजय अब नीचे से 20-वाँ हो जाता है। पंक्ति में कुल कितने लड़के हैं?

- A. 47 B. 46  
C. 45 D. 48

Ans. A  
136. दिए गये विकल्पों में से वेह शब्द चुनिए जो दिए गये शब्द के अक्षरों का प्रयोग करके नहीं बनायाजा सकता है।

- Liabilities  
A. Lite B. Able  
C. Like D. Table

Ans. C  
137. एक विशिष्ट कोड भाषा में "HARMS" को "81181319" लिखा जाता है तथा "FLUTE" को "61221205" लिखा जाता है। इस कोड भाषा में "WOUND" को किस प्रकार लिखा जायेगा?

- A. 21144152  
B. 21441514  
C. 231521144  
D. 171921415

Ans. C  
138. किसी निश्चित कोड भाषा में, '-' 'x', को प्रदर्शित करता है, '÷' '+' को प्रदर्शित करता है, '+' '÷' को प्रदर्शित करता है और 'x' '-' को प्रदर्शित करता है। निम्नलिखित करता है। निम्नलिखित प्रश्न का उत्तर ज्ञात करें।

- $8 \div 14 - 20 + 5 \times 2 = ?$   
A. 46 B. 62  
C. 32 D. 14

Ans. B  
139. निम्नलिखित समीकरण गलत है। इस समीकरण को सही करने के लिए किन दो चिन्हों को आपस में अदला-बदली करना चाहिए?

- $12 - 6 \times 5 + 20 \div 4 = 31$   
A. + and ÷  
B. + and x  
C. - and +  
D. ÷ and -

Ans. D  
140. यदि  $70 \times 10 = -7$ ,  $50 \times 5 = -10$  और  $10 \times 5 = -2$ , तो  $80 \times 1$  का मान ज्ञात करें।

- A. 45 B. -25  
C. 20 D. -80

Ans. C  
141. निम्नलिखित में से कौन सा पद दी गयी सूचना के क्रम के अनुसार है?  
 $XYXYXYxy$ ,  $XYXYXyxy$ ,  $XYXYxyXY$ ,  
 $XYXyxYXY$ ,  $XYxyXYXY$ ,

- A.  $xyXYXYXY$   
B.  $XYXYXYxy$   
C.  $XYXYXyxy$   
D.  $XyxYXYXY$

Ans. D  
142. दो ट्रक एक ही गोदाम से निकलते हैं। ट्रक A उत्तर की ओर 6 कि.मी. तक जाता है, फिर अपने दाहिनी ओर मुड़ जाता है आगे 4 कि.मी. दूर जाता है। इस बीच ट्रक B पूर्व में 9 कि.मी. तक जाता है, फिर उत्तर की तरफ मुड़ जाता है और आगे 6 कि.मी. जाता है, फिर वेह अपने उसके दाहिनी ओर मुड़ जाता है और आगे 4 कि.मी. दूर जाता है। ट्रक A के सम्बन्ध में ट्रक B कहाँ है?

- A. 17 कि.मी. पूर्व  
B. 9 कि.मी. पश्चिम  
C. 17 कि.मी. पश्चिम  
D. 9 कि.मी. पूर्व

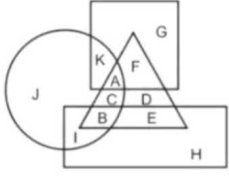
Ans. D  
143. प्रश्न में दो कथन दिए गये हैं जिसके आगे दो निष्कर्ष I और II निकले गये हैं। आपको मानना है कि दोनों कथन सत्य है चाहे वेह सामान्यतः ज्ञात तथ्यों से भिन्न होते हों। आपको निर्णय करना है की दिए गये निष्कर्षों में से कौन-सा/कौन से निश्चित रूप से कथन द्वारा सही निकला जा सकता है/सकते हैं, यदि कोई हो।

कथन I: कोई भी दर्पण कांच नहीं होता है  
कथन II: कोई भी परवर्तनीय दर्पण नहीं होते हैं  
निष्कर्ष I: सभी कांच परावर्तनीय होते हैं  
निष्कर्ष II: सभी परावर्तनीय कांच होते हैं

- A. केवल निष्कर्ष I सही है  
B. केवल निष्कर्ष II सही है  
C. दोनों निष्कर्ष I और II सही हैं  
D. न तो निष्कर्ष I सही है और न निष्कर्ष II

Ans. D  
144. निम्नलिखित आकृति में, आयत प्रतिलेखकों को प्रदर्शित करता है, वृत्त कार्टूननिस्ट को प्रदर्शित करता है त्रिभुज हास्य अभिनेताओं को प्रदर्शित

करता है, और वर्ग माताओं को प्रदर्शित करता है, अक्षरों का कौन सा समूह उन प्रतिलेखकों को प्रदर्शित करता है जो न तो हास्य अभिनेता हैं और न ही माता हैं?



- A. BE                      B. CD  
C. AF                      D. IH  
Ans. D

145. एक अनुक्रम दिया गया है जिसमें से एक पद लुप्त है। दिए गये विकल्पों में से वह सही विकल्प चुनिए, जो अनुक्रम को पूरा करे।  
NIP, KGO, HEN, ECM. ?

- A. CBM                      B. BAL  
C. CAL                      D. BBM  
Ans. B

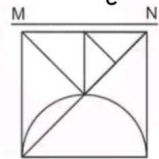
146. निम्नलिखित प्रश्न में से दिए गये विकल्पों में से लुप्त अंक ज्ञात कीजिए।  
146, 137, 128, ?, 110, 101

- A. 123                      B. 121  
C. 117                      D. 119  
Ans. D

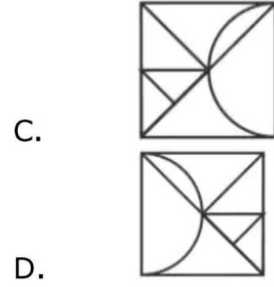
147. निचे दिए गये प्रश्न में, तीन संख्याओं के चार समूह दिए गये हैं। प्रत्येक समूह में दूसरी संख्या पहली संख्या से किसी एक तर्क/नियम से सम्बंधित है। तीन उसी एक तर्क/नियम के आधार पर समान है। दिए गये विकल्पों में से भिन्न को चुनिए।

- A. (44, 42, 36)  
B. (56, 54, 48)  
C. (38, 36, 32)  
D. (64, 62, 56)  
Ans. C

148. यदि एक दर्पण को MN रेखा पर रखा जाये तो दी गयी उत्तर आकृतियों में से कौन-सी आकृति प्रश्न आकृति का सही प्रतिबिम्ब होगी?

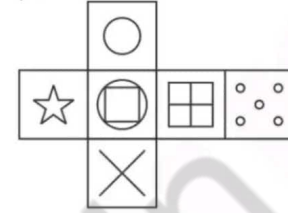


- A.  
B.



Ans. A  
149.

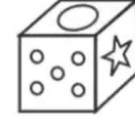
निम्नलिखित उत्तर आकृति में से कौन सा घन दिए गये प्रश्न आकृति में से खुले घन से बनाया नहीं जा सकता?



A.



B.



C.



D.

Ans. D  
150.

एक शब्द केवल संख्या समूह द्वारा दर्शाया गया है, जैसा कि विकल्पों में से किसी एज में दिया गया है। विकल्पों में दिए गये संख्या-समूह अक्षरों के दो वर्गों द्वारा दर्शाए गये हैं, जैसा कि दिए गये दो आव्यूहों में है। आव्यूह-I के स्तंभ और पंक्ति की संख्या 0 से 4 और आव्यूह-II की 5 से 9 है। इन आव्यूहों से एक अक्षर को पहले उसकी पंक्ति और बाद में स्तम्भ संख्या द्वारा दर्शाया जा सकता है। उदाहरण के लिए 'I' को 21 और 42 आदि द्वारा दर्शाया जा सकता है तथा 'Y' को '69, 89 आदि द्वारा दर्शाया जा सकता है। इसी तरह से आपको प्रश्न में दिए शब्द 'TENS' के लिए समूह को पहचानना है।

Matrix I

	0	1	2	3	4
0	L	G	J	G	B
1	F	M	H	B	E
2	E	I	D	F	H
3	J	K	B	M	D
4	L	M	I	A	M

Matrix II					
	5	6	7	8	9
5	V	U	W	X	X
6	Q	S	P	V	Y
7	V	Q	V	S	O
8	N	P	U	N	Y
9	T	W	X	U	V

- A. 95,14,85,78  
B. 10,56,24,99  
C. 20,96,41,69  
D. 24,77,22,78

Ans. A

151. सरल बनाएं:  $b - [b - (a + b) - \{b - (b - a - b)\} + 2a]$

- A. 2B                      B. 1  
C. 0                         D. 3B

Ans. C

152. सरल बनाएं:  $(213 \times 213 + 187 \times 187)$

- A. 80338  
B. 80438  
C. 60338  
D. 60438

Ans. A

153. जब  $4x^4 \div 10x^3 - 20x^2 \div 90$  को  $(x \div 2)$  से विभाजित किया जाता है, तो शेष क्या है?

- A. 0                         B. -6  
C. 45                        D. -90

Ans. B

154.  $xy$  का मान क्या होगा, अगर  $x^2 \div y^2 = 45$  और  $x - y = 5$ ?

- A. 10                        B. 15  
C. 20                        D. 25

Ans. A

155. त्रिकोण का सबसे छोटा, सबसे कोण से  $40^\circ$  कम है। यदि सबसे बड़ा कोण  $80^\circ$  है त्रिकोण का तीसरा कोण बताइए?

- A.  $40^\circ$                       B.  $90^\circ$   
C.  $80^\circ$                       D.  $60^\circ$

Ans. D

156. यदि रेखा DE को त्रिभुज ABC के आधार BC के समान्तर खींचकर, दूसरी दो भुजाएं को अंतर्विभाजित कर दिया जाता है, तो निम्न में

से कौनसी इस मामले के लिए सही समीकरण है

- A.  $AB/DB = AC/EC$   
B.  $AD/AB = DB/EC$   
C.  $AD/DB = EC/AE$   
D.  $AD/DB = AE/EC$

Ans. D

157. 1 कि.ग्रा. चीनी के मूल्य को 30% से बढ़ाया गया है तथा वृद्धि 48 रु की हुई है। प्रति कि. ग्रा. चीनी का नया मूल्य (रु में) क्या है?

- A. 178                      B. 160  
C. 208                      D. 216

Ans. C

158. तीन संख्याओं का योग 67 है। यदि पहली संख्या का दूसरी संख्या से अनुपात 3:5 है तथा दूसरी संख्या का तीसरी संख्या से अनुपात 4:7 है, तो दूसरी संख्या क्या है?

- A. 20                        B. 24  
C. 18                        D. 16

Ans. A

159. A ने 1800 रु की पूँजी के साथ एक व्यापार शुरू किया। 4 महीने पश्चात् B, 1760 रु के साथ शामिल होता है। व्यापार शुरू होने के महीने पश्चात् C, 1200 रु के साथ शामिल होता है। यदि वर्ष के अंत में कुल लाभ 1760 रु कमाया गया है, तो A का हिस्सा (रु में) क्या है?

- A. 540                      B. 660  
C. 840                      D. 720

Ans. B

160. 8 क्रमागत पूर्णाकों का औसत  $23\frac{1}{2}$  है। प्रथम तीन पूर्णाकों का औसत क्या है?

- A. 9                         B.  $19/2$   
C. 8                         D. 10

Ans. A

161. एक राशि पर 6% प्रतिवर्ष की दर साथ महीनों का साधारण व्याज ३४० रु है। राशि का मान (रु में) क्या है?

- A. 8500  
B. 9500  
C. 8000  
D. 6800

Ans. A

162. एक विक्रेता तार बेचता है तथा क्रय मूल्य पर 60% लाभ कमाता है। विक्रय मूल्य पर लाभ प्रतिशत क्या होगा?

- A. 33.33                      B. 40  
C. 37.5                        D. 60

Ans. C

163. एक वस्तु का अंकित मूल्य 520 रु है तथा 384.8 रु है। छूट प्रतिशत क्या है?
- A. 24.42 B. 26  
C. 35.13 D. 29

Ans. B

$$\frac{5}{\sqrt{2}+1} + \frac{5}{\sqrt{3}+\sqrt{2}} + \frac{5}{\sqrt{4}+\sqrt{3}} + \dots + \frac{5}{\sqrt{121}+\sqrt{120}}?$$

का मान क्या है?

- A. 25 B. 50  
C. 100 D. 75

Ans. B

165. राम तथा श्याम ने एक कार्य को ५६०० रु में लिया राम अकेला उस कार्य को 5 दिनों में तथा श्याम अकेला उसी कार्य को 9 दिनों में कर सकता है। यदि साथ कार्य करें, तो दोनों को मिलने वाली राशि का अंतर (रु में) क्या होगा?

- A. 1800 B. 2400  
C. 2200 D. 1600

Ans. D

166. एक व्यक्ति 40 कि.मी./घंटा की गति से चलने वाली रेलगाड़ी द्वारा एक निश्चित दूरी तय करता है तथा वही दूरी वह वापसी में 8 कि.मी./घंटा की गति से पैदल चलकर तय करता है। यदि पूरी यात्रा में 12 घंटे लगते हैं, तो एक तरफ की दूरी (की.मी. में) क्या है?

- A. 80 B. 60  
C. 90 D. 100

Ans. a

167. यह पाइ चार्ट वर्स 2017 के लिए एक ट्रेडिंग कंपनी के व्यय का विभजन प्रदर्शित करता है। एक आरेख का अध्ययन करें और निम्नलिखित प्रश्नों के उत्तर दें।

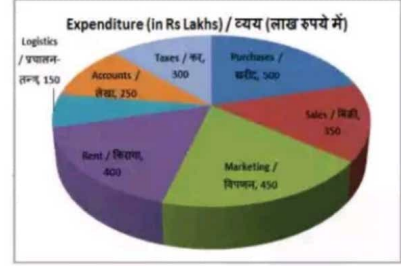


दूसरा सर्वाधिक व्यय किस मद पर किया जाता है?

- A. किराया  
B. विपणन  
C. लेखा  
D. प्रचालन-तंत्र

Ans. D

168. यह पाइ चार्ट वर्स 2017 के लिए एक ट्रेडिंग कंपनी के व्यय का विभजन प्रदर्शित करता है। एक आरेख का अध्ययन करें और निम्नलिखित प्रश्नों के उत्तर दें।

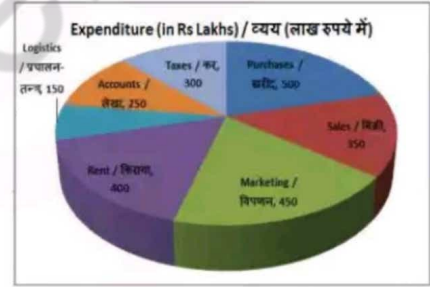


कुल व्यय (लाख रु में) क्या है

- A. 2200 B. 2400  
C. 2100 D. 2000

Ans. B

169. यह पाइ चार्ट वर्स 2017 के लिए एक ट्रेडिंग कंपनी के व्यय का विभजन प्रदर्शित करता है। एक आरेख का अध्ययन करें और निम्नलिखित प्रश्नों के उत्तर दें।

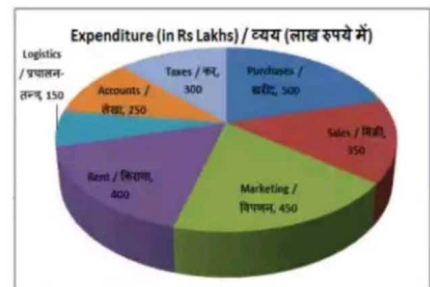


किराया का प्रतिनिधित्व करने वाले क्षेत्र के केन्द्रीय कोण का माप \_\_\_\_\_ डिग्री है।

- A. 50 B. 60  
C. 75 D. 40

Ans. B

170. यह पाइ चार्ट वर्स 2017 के लिए एक ट्रेडिंग कंपनी के व्यय का विभजन प्रदर्शित करता है। एक आरेख का अध्ययन करें और निम्नलिखित प्रश्नों के उत्तर दें।



बिक्री और विपणन पर किया जाने वाला व्यय कुल व्यय का कितना प्रतिशत है?

- A. 30%  
B. 36%  
C. 27.5%



Ans. D  
171. एक समबाहु त्रिभुज की भुजा 8 सें.मी. है।  
इसका क्षेत्रफल (वर्ग सें.मी. में) ज्ञात करें

- A.  $25\sqrt{3}$  B.  $16\sqrt{2}$   
C.  $28\sqrt{2}$  D.  $16\sqrt{3}$

Ans. D  
172. एक वृत्त का क्षेत्रफल  $346.5 \text{ cm}^2$ । इसकी  
परिधि (सें.मी. में) ज्ञात करें।

- A. 132 B. 38  
C. 66 D. 76

Ans. C  
173. 7.5 सें.मी. की भुजा वाले एक घन के सतह  
का कुल क्षेत्रफल (वर्ग सें.मी. में) ज्ञात करें।

- A. 364.5  
B. 446  
C. 337.5  
D. 684

Ans. C  
174.  $(\tan 45^\circ + 1/\sqrt{2})$  का मान ज्ञात करें  
?

- A.  $5/\sqrt{3}$   
B.  $7/2\sqrt{3}$   
C.  $(\sqrt{2}+1)\sqrt{2}$   
D.  $4/\sqrt{3}$

Ans. C  
175.  $\Delta PQR$  में Q पर समकोण है। यदि  $\text{cosec} P$   
 $= 17/15$ , तो  $\sin R$  का मान क्या है ?

- A.  $15/17$  B.  $8/17$   
C.  $17/8$  D.  $17/15$

Ans. B  
176. "ग्लोबल कॉम्पटीटीवनेस रिपोर्ट" निम्नलिखित  
में किस संगठन द्वारा जारी की जाती है?

- A. WTO  
B. SAARC  
C. EU  
D. WEF

Ans. D  
177. भारत में आर्थिक नियोजन \_\_\_\_\_ में है।

- A. संघ सूची  
B. रराज्य सूची  
C. समवर्ती सूची  
D. कोई विकल्प सही नहीं है।

Ans. C  
178. सारनाथ स्तम्भ का चक्र निम्न में किसे इंगित  
करता है?

- A. कानून B. क्रांति  
C. प्रगति D. धर्म

Ans. C  
179. तिनकठिया प्रथा का सम्बन्ध निम्न में से किस  
क्षेत्र में है?

- A. चम्पारण  
B. खेड़ा  
C. बारडोली  
D. दरभंगा

Ans. A  
180. दो अक्षांश रेखाओं के बीच की दूरी लगभग  
होती है \_\_\_\_\_।

- A. 111 मील  
B. 121 मील  
C. 111किमी.  
D. 121 किमी.

Ans. C  
181. वर्तमान में भारत का कौन-सा स्थान 'सफेद  
पानी' के नाम से जाना जाता है?

- A. लेह  
B. लद्दाख  
C. कारगिल  
D. सियाचीन

Ans. D  
182. लीला सेमसन का सम्बन्ध किस शास्त्रीय नृत्य  
शैली से है?

- A. भरतनाट्य  
B. कथकली  
C. कुचिपुडी  
D. ओडिसी

Ans. A  
183. सितम्बर 2017 में किस स्थान पर युद्ध  
अभ्यास के नाम से एक संयुक्त सैन्य अभ्यास  
अमेरिका एवं भारतीय सैनिकों के बीच हुआ  
था?

- A. पुणे  
B. न्यूयार्क  
C. विशाखापत्तनम  
D. वाशिंगटन

Ans. D  
184. किस बॉलीवुड अभिनेता को जनवरी 2018 में  
विश्व आर्थिक मंच पर 24-वें क्रिस्टल आवाड से  
सम्मानित किया गया?

- A. शाहरूख खान  
B. आमिर खान  
C. सलमान खान  
D. सैफ अली खान

Ans. A

185. भूटान के राष्ट्रीय ध्वज का केसरिया नारंगी रंग \_\_\_\_\_ का प्रतीक है।  
 A. राजा का अधिकार  
 B. देश की धर्मनिरपेक्ष शक्ति  
 C. धर्म साधना  
 D. देश की शुचिता

Ans. C

186. सीएनजी एक स्वच्छ ईंधन कैसे है?  
 I. यह सल्फर तथा नाइट्रोजन के ऑक्साइड का उत्पादन अल्प मात्रा में करती है।  
 II. यह वातावरण को कम प्रदूषित बनती है।  
 III. यह कम ग्रीनहाउस गैसें उत्सर्जित करती है।  
 A. केवल I तथा II  
 B. केवल I तथा III  
 C. तथा II  
 D. I, II तथा III सभी

Ans. A

187. किसी भी योगिकों में तत्व सदेव एक निश्चित \_\_\_\_\_ के अनुपात में विद्यमान होते हैं।  
 A. द्रव्यमान  
 B. आयतन  
 C. आकर  
 D. कोई विकल्प सही नहीं है।

Ans. A

188. भारत के मुख्य चुनाव आयुक्त \_\_\_\_\_ के लिए कार्यलय सँभालते हैं।  
 A. 60 वर्ष आयु अथवा छह वर्षों के लिए, जो भी पहले हो  
 B. 65 वर्ष आयु अथवा छह वर्षों के लिए जो भी पहले हो  
 C. 70 वर्ष अथवा छह वर्षों के लिए, जो भी पहले हो  
 D. 55 वर्ष आयु अथवा पाँच वर्षों के लिए, जो भी पहले हो

Ans. B

189. भारत के महान्यायवादी भारत सरकार के \_\_\_\_\_ है।  
 A. मुख्य खाता अधिकारी  
 B. मुख्य कानून अधिकारी  
 C. मुख्य ऑडिट अधिकारी  
 D. मुख्य चुनाव अधिकारी

Ans. B

190. निम्नलिखित में से कौन सा एक शाकाहारी तथा एक मांसाहारी के क्षुद्रता की लम्बाई का सही सम्बन्ध है?  
 A. शाकाहारी=मांसाहारी  
 B. शाकाहारी<मांसाहारी  
 C. शाकाहारी>मांसाहारी  
 D. कोई विकल्प सही नहीं है।

Ans. C

191. मेंढक, छिपकली, पक्षी तथा मानव के पाद \_\_\_\_\_ अंग के उदाहरण.  
 A. समधर्मी  
 B. विषमरूप  
 C. समरूप  
 D. समजात

Ans. D

192. ऊर्जा दक्षता सीमित (ईईएसएल) ने सितम्बर 2017 में, किस देश में उजाला (यूजेएएलए) योजना का लोकार्पण किया?  
 A. इंडोनेशिया  
 B. मलेशिया  
 C. मालदीव  
 D. ऑस्ट्रेलिया

Ans. A

193. भारत का सबसे तेज तथा पहला बहु-पेटफलोप्स प्रत्युष नामक सुपर कंप्यूटर \_\_\_\_\_ में अन्वृत हुआ था  
 A. भारतीय विज्ञान संस्थान, बंगलौर  
 B. भारतीय अन्तरिक्ष अनुसन्धान संगठन, बैंगलौर  
 C. भारतीय उष्णकटिबंधीयमौसम विज्ञान संस्थान, पुणे  
 D. भारतीय प्रौद्योगिकी संस्थान, नई दिल्ली

Ans. D

194. दिसम्बर 2017 में, सेबी ने केन्द्रीय सरकारी प्रतिभूतियों में एफपीआई के लिए जनवरी 2018 ससे निवेश की सीमा \_\_\_\_\_ तक बढ़ा दी।  
 A. 1.91 लाख करोड़ रु  
 B. 3.91 लाख करोड़ रु  
 C. 5.91 लाख करोड़ रु  
 D. 0.91 लख करोड़ रु

Ans. A

195. 8 जून 2017 को, कानून मंत्रालय ने पशुओं से क्रूरता की रोकथाम (कर्नाटक संशोधन)

विधेयक, 2017 को मंजूरी दे दी। यह \_\_\_\_ को  
वैध बनाने में मदद करेगा।

- A. जलीकट्टू
- B. मूर्गों की लड़ाई
- C. बैलगाड़ी शरीअत
- D. कंबाला

Ans. D

196. किसी विद्युतीय पदार्थ का प्रतिरोधक ( $\Omega$  में)  
कितना होगा यदि इसमें से 0.1 A धारा  
प्रावाहित होती है तथा विभाञ्तर 5V है?

- A. 0.5
- B. 100
- C. 50
- D. 1

Ans. C

197. स्वतंत्र रूप से गिर रही एक वस्तु की  
गति\_\_\_\_त्वरित गति का उदाहरण है।

- A. असमान
- B. एकसमान
- C. विलक्षण
- D. विशेष

Ans. B

198. पवन का वेग बढ़ने पर वायु का \_\_\_\_कम हो  
जाता है।

- A. आद्रता
- B. दाब
- C. घनत्व
- D. शुष्कता

Ans. B

199. निम्नलिखित में से कौन सा तथान सत्य है?

A) वर्ष 2017 में सेब्सित्यन वेत्तल ने फेरारी के  
लिए फार्मूला वन में हिस्सा लिया।

B) ग्रिगोर दिमित्रोव ने टेनिस 2017  
सिनसिनाटी मास्टर्स मेन्स सिंगल्स जीता.

(C) वर्ष 2017 की प्रो कबड्डी लीग में नितिन  
तोमर जयपुर पिंक पैन्ठेर्स के लिए खेले।

- A. A और B
- B. A और C
- C. B और C
- D. इनमें से कोई नहीं

Ans. C

100. माइक्रोसॉफ्ट वर्ड में \_\_\_\_छोटे बिंदु, वर्ग, दश  
या ग्राफिक्स होते हैं जो प्रायः पाठ्य से पहले  
दिखाई देते हैं।

- A. इंडेंटेशन
- B. बुलेट्स
- C. संख्याकन (नम्बरिंग)
- D. टैब

Ans. B