

MP Police Constable

Previous Year Paper
09 Jan 2022 Shift 2

mpcareer.com

[Print](#)

Testdate: **09 Jan 2022** ▼
TestSlot: **Shift 2** ▼

Submit

Q.No: 1 Which of the given statement is wrong with respect to loamy soil?
2426888

दोमट मिट्टी के संबंध में दिए गए कथनों में से कौन सा गलत है?

It contains Sand and clay

A

इसमें रेत और मिट्टी होती है

It is the worst topsoil for growing plants

B

यह बढ़ते पौधों के लिए सबसे खराब ऊपरी मिट्टी है

It has humus in it

C

इसमें ह्यूमस होता है

It contains silt

D

इसमें गाद होती है

Correct Ans : B

Subject : **General Knowledge**

Q.No: 2 Choose the wrong statement with reference to the religious belief of Harappan people.
2426919

हड़प्पा के लोगों की धार्मिक मान्यता के संदर्भ में गलत कथन का चयन कीजिए।

They worshipped mother goddess

A

वे देवी माँ की पूजा करते थे

They worshipped Shiva Pashupati

B

उन्होंने शिव पशुपति की पूजा की

They worshipped Vishnu

C

उन्होंने विष्णु की पूजा की

They worshipped Trees and Animals

D

वे पेड़ों और जानवरों की पूजा करते थे

Correct Ans : C

Subject : **General Knowledge**

Q.No: 3 Select the wrong statement about Dashavatara temple out of the following statements.
2426939

निम्नलिखित कथनों में से दशावतार मंदिर के बारे में गलत कथन का चयन करें।

It is a Vishnu temple.

A

यह एक विष्णु मंदिर है।

It is located at Deogarh.

B

यह देवगढ़ में स्थित है।

It was made during Chera period.

C

इसे चेरा काल के दौरान बनाया गया था।

D

A large number of stupas were cut out of solid rocks

ठोस चट्टानों से बड़ी संख्या में स्तूप काटे गए थे

Correct Ans : C

Subject : General Knowledge

Q.No: 4 What was the name of the land tax taken by Non- Muslims in Delhi Sultanate?
2426951

दिल्ली सल्तनत में गैर-मुसलमानों द्वारा लिए गए भूमि कर का क्या नाम था?

Kharaj

A

खराज

Ushr

B

उशर

Gharai

C

घराई

Charai

D

चराई

Correct Ans : A

Subject : General Knowledge

Q.No: 5 Which of the following is the only state of India to have two classical dance styles?
2427007

निम्नलिखित में से कौन सा भारत का एकमात्र राज्य है जहां दो शास्त्रीय नृत्य शैलियां हैं?

Kerela

A

केरल

Tamil Nadu

B

तमिलनाडु

Uttar Pradesh

C

उत्तर प्रदेश

Manipur

D

मणिपुर

Correct Ans : A

Subject : General Knowledge

Q.No: 6 Which of the following dance does not require music instrument?
2427019

निम्नलिखित में से किस नृत्य में वाद्य यंत्र की आवश्यकता नहीं होती है?

Ghoomar

A

घूमर

Bhangra

B

भांगड़ा

Chhau

C

छऊ

Kummi

D

कुम्मी

Correct Ans : D

Subject : General Knowledge

Q.No: 7 Who is the first player to win a medal in Commonwealth Games?
2427500

कॉमनवेल्थ गेम्स में पहला पदक जीतने वाले खिलाड़ी कौन हैं?

Milkha Singh

A

मिल्खा सिंह

Laxmikant Pandey

B

लक्ष्मीकांत पाण्डेय

Rashid Anwar

C

राशिद अनवर

KD Jadhav

D

के डी जाधव

Correct Ans : C

Subject : **General Knowledge**

Q.No: 8 In which year was the first edition of the Khelo India Youth Games held?
2427505

खेलो इंडिया यूथ गेम्स का पहला संस्करण किस वर्ष आयोजित हुआ था?

2016

A

2016

2017

B

2017

2018

C

2018

2019

D

2019

Correct Ans : C

Subject : **General Knowledge**

Q.No: 9 The World Bank has released its 17th annual report on 'Ease of Doing Business 2020' to 'Compare Business Regulation in 190 Economies'. Which country ranked first in the report published by the World Bank?
2428890

विश्व बैंक ने 'ईज ऑफ़ डूइंग बिजनेस 2020' पर अपनी 17वीं वार्षिक रिपोर्ट '1990 इकोनॉमीज में बिजनेस रेगुलेशन की तुलना' के लिए जारी की है। विश्व बैंक द्वारा प्रकाशित रिपोर्ट में कौन सा देश प्रथम स्थान पर है?

Georgia

A

जॉर्जिया

New Zealand

B

न्यूज़ीलैंड

Singapore

C

सिंगापुर

Denmark

D

डेनमार्क

Correct Ans : B

Subject : **General Knowledge**

Q.No: 10 Which of the following sports federations has its headquarters in Lausanne, Switzerland?
2430500

निम्न में किस स्पोर्ट फेडरेशन का मुख्यालय लुसान, स्विट्जरलैण्ड में स्थित है?

International Basketball Federation

A

अन्तर्राष्ट्रीय बास्केटबाल फेडरेशन

International Cricket Council

B

अन्तर्राष्ट्रीय क्रिकेट काउंसिल

International Table Tennis Federation

C

अन्तर्राष्ट्रीय टेबल टेनिस फेडरेशन

International Badminton Federation

D

अन्तर्राष्ट्रीय बैडमिंटन फेडरेशन

Correct Ans : C

Subject : **General Knowledge**

Q.No: 11 When was the Credit Information Bureau formed?

2434050

क्रेडिट इनफार्मेशन ब्यूरो का गठन कब किया गया ?

2000

A

2000

2005

B

2005

2010

C

2010

2016

D

2016

Correct Ans : A

Subject : **General Knowledge**

Q.No: 12 Where is the Triveni Museum situated in Madhya Pradesh?

2441039

मध्य प्रदेश में त्रिवेणी संग्रहालय कहाँ स्थित है?

Sehore

A

सीहोर

Vidisha

B

विदिशा

Khajuraho

C

खजुराहो

Ujjain

D

उज्जैन

Correct Ans : D

Subject : **General Knowledge**

Q.No: 13 Where is the Raja Mansingh Tomar Music and Arts University situated?

2441054

राजा मानसिंह तोमर संगीत एवं कला विश्वविद्यालय कहाँ स्थित है?

Bhopal

A

भोपाल

B

Jabalpur

जबलपुर

Gwalior

C

वालियर

Indore

D

इंदौर

Correct Ans : **C**

Subject : **General Knowledge**

Q.No: 14 Habib Tanvir is an eminent -
2441076

हबीब तनवीर एक प्रख्यात _____ हैं -

singer

A

गायक

playwright

B

नाटककार

craftsman

C

शिल्पकार

violinist

D

वायलिन वादक

Correct Ans : **B**

Subject : **General Knowledge**

Q.No: 15 Which of the following towns is said to have once been ruled by Mahabharata's Shishupal?
2441355

निम्नलिखित में से किस शहर पर कहा जाता है कि कभी महाभारत के शिशुपाल का शासन था?

Chanderi

A

चंदेरी

Mandu

B

मांडु

Ujjain

C

उज्जैन

Khajuraho

D

खजुराहो

Correct Ans : **A**

Subject : **General Knowledge**

Q.No: 16 Which of the following cities had witnessed the legendary romance of Rani Roopmati and Baaz Bahadur?
2441375

निम्नलिखित में से किस शहर ने रानी रूपमती और बाज बहादुर के पौराणिक उपन्यास को देखा था?

Bhopal

A

भोपाल

Khajuraho

B

खजुराहो

C

Mandu

मंडु

Maihar

D

मैहर

Correct Ans : C

Subject : **General Knowledge**

Q.No: 17 MP Investment Facilitation Act was enacted in which year?
2441647

एमपी निवेश सुविधाकरण अधिनियम किस वर्ष अधिनियमित किया गया था?

2006

A

2006

2008

B

2008

2012

C

2012

2015

D

2015

Correct Ans : B

Subject : **General Knowledge**

Q.No: 18 Which of the following sugar mill is not located in the district of Indore?
2441656

निम्न में से कौन सी चीनी मिल इंदौर जिले में स्थित नहीं है?

Neori Khandsari Sugar Mill

A

नियोरी खंडसारी शुगर मिल

Girdharilal Sugar And Allied Industries

B

गिरधारीलाल शुगर एंड अलाइड इंडस्ट्रीज

Shiv Khandsari Sugar Mill

C

शिव खंडसारी शुगर मिल

Mahakaushal Sugar and Power Industries Ltd.

D

महाकौशल शुगर एंड पावर इंडस्ट्रीज लिमिटेड

Correct Ans : D

Subject : **General Knowledge**

Q.No: 19 Where is the Japanese Industrial Township being developed in Madhya Pradesh?
2441669

मध्य प्रदेश में जापानी औद्योगिक टाउनशिप कहाँ विकसित की जा रही है?

Shahdol

A

शहडोल

Burhanpur

B

बुरहानपुर

Pithampore

C

पीथमपुर

D

Sehore

संहार

Correct Ans : C

Subject : **General Knowledge**

Q.No: 20 In which year was the Department for Promotion of Industry and Internal Trade (DPIIT) established?
2441683

उद्योग और आंतरिक व्यापार संवर्धन विभाग (DPIIT) की स्थापना किस वर्ष की गई थी?

1980

A

1980

1988

B

1988

1995

C

1995

1999

D

1999

Correct Ans : B

Subject : **General Knowledge**

Q.No: 21 Reema used to drink the untreated river water and was diagnosed with a water-borne diseases, botulism as she shows these symptoms-
2422815

रीमा अनुपचारित नदी का पानी पीती थी और उसे पानी से होने वाली बीमारी, बोटुलिज़्म का पता चला था क्योंकि वह इन लक्षणों को दर्शाती है-

Bottle like neck

A

बोतल की तरह गर्दन

She can see bottles everywhere

B

वह हर जगह बोतलें देख सकती है

Dry mouth, blurred vision and difficulty in swallowing.

C

शुष्क मुँह, धुंधली दृष्टि और निगलने में कठिनाई।

Ear canal swells and become bottle-shaped.

D

कान नहर सूज जाता है और बोतल के आकार का हो जाता है।

Correct Ans : B

Subject : **General Science**

Q.No: 22 The waste released by textile industries, paper mills and paint manufacturing industries consist of certain harmful heavy metals such as
2422821

कपड़ा उद्योगों, पेपर मिलों और पेंट निर्माण उद्योगों द्वारा छोड़े गए कचरे में कुछ हानिकारक भारी धातुएँ होती हैं जैसे

Arsenic, nickel and cadmium

A

आर्सेनिक, निकल और कैडमियम

Sodium, potassium and calcium

B

सोडियम, पोटेशियम और कैल्शियम

Chlorine, fluorine and cadmium

C

क्लोरीन, फ्लोरीन और कैडमियम

Calcium, xenon and argon

D

कैल्शियम, क्सीनन और आर्गन

Correct Ans : A

Subject : **General Science**

Q.No: 23

2422824 Drinking water is necessary because:

पीने का पानी आवश्यक है क्योंकि:

It helps us to keep our body hydrated.

A

यह हमारे शरीर को हाइड्रेटेड रखने में हमारी मदद करता है।

It helps us in digestion of food.

B

यह हमें भोजन के पाचन में मदद करता है।

It helps us to get rid of cold

C

यह हमें सर्दी से छुटकारा पाने में मदद करता है

It helps us to wash our hands.

D

यह हमें अपने हाथ धोने में मदद करता है।

Correct Ans : A

Subject : General Science

Q.No: 24 What lays eggs in waterlogged places?
2422986

जलभराव वाले स्थानों में अंडे कौन देते हैं?

Frog

A

मेढक

Mosquitoes

B

मच्छरों

Snake

C

साँप

Lizard

D

छिपकली

Correct Ans : B

Subject : General Science

Q.No: 25 The prominent symptom of dengue is _____.
2422991

डेंगू का प्रमुख लक्षण _____ है।

Backache

A

पीठ दर्द

Fainting

B

बेहोशी

Pain in eye socket

C

आंख के सॉकेट में दर्द

Diarrhea

D

दस्त

Correct Ans : C

Subject : General Science

Q.No: 26 AIDS stands for-
2422994

AIDS का मतलब है?

A

Actively Inactive Decor System

एक्टिवली इम्यूनो डेफेन्स सिस्टम

Acquired Immuno Deficiency Syndrome

B

एकाग्र इम्यूनो डिफेन्स सिस्टम

Adrenaline Intermittent Deficiency System

C

एक्टिवली इम्यूनो डेफेन्स सिस्टम

Acne Inactive Defect Syndrome

D

एक्टिवली इम्यूनो डेफेन्स सिस्टम

Correct Ans : B

Subject : **General Science**

Q.No: 27 The explosion of fruits that are the dispersal of seeds, by being thrown away from the mother plant. This condition is easily observed in which plant?
2428010

मटर प्लांट से दूर फेंके जाने से बीजों के बिखरने वाले फलों का विस्फोट। यह स्थिति किस पौधे में आसानी से देखी जाती है?

potato

A

आलू

dandelion

B

सिंहपर्णी

tomato

C

टमाटर

pea

D

मटर

Correct Ans : D

Subject : **General Science**

Q.No: 28 Which among the following is the member of group dicotyledons?
2428024

निम्नलिखित में से कौन द्विबीजपत्री समूह का सदस्य है?

mangoes

A

आम

corn

B

मक्का

wheat

C

गेहूँ

bran

D

चोकर

Correct Ans : A

Subject : **General Science**

Q.No: 29 Who gave three kingdom classifications?
2428778

तीन साम्राज्य वर्गीकरण किसने दिया?

E.H heckle

A

ई. एच. हेकल

B

R.H. Whittaker

आरएच व्हटकर

Carolus Linnaeus

C

कैरोलस लिनैअस

Aristotle

D

अरस्तू

Correct Ans : **A**

Subject : **General Science**

Q.No: 30 Arrange these in increasing hierarchical similarity.
2428799

इन्हें बढ़ती हुई श्रेणीबद्ध समानता में व्यवस्थित करें।

kingdom, phylum, class, order, family and genus

A

साम्राज्य, संघ, वर्ग, आदेश, परिवार और जीनस

kingdom, order, family, species, genus

B

साम्राज्य, आदेश, परिवार, प्रजाति, जीनस

genus, order, class, species

C

जीनस, ऑर्डर, क्लास, प्रजातियां

genus, order, division, class, order and species

D

जीनस, ऑर्डर, डिवीजन, क्लास, ऑर्डर और प्रजातियां

Correct Ans : **A**

Subject : **General Science**

Q.No: 31 _____ radiation is used in electric water filters to kill all the harmful microorganisms present in tap water and make it absolutely safe for drinking.
2429000

नल के पानी में मौजूद सभी हानिकारक सूक्ष्मजीवों को मारने और पीने के लिए इसे बिल्कुल सुरक्षित बनाने के लिए बिजली के पानी के फिल्टर में _____ विकिरण का उपयोग किया जाता है।

Infrared radiation

A

अवरक्त विकिरण

Gamma radiation

B

गामा विकिरण

Visible radiation

C

दृश्यमान विकिरण

Ultraviolet radiation

D

पराबैंगनी विकिरण

Correct Ans : **D**

Subject : **General Science**

Q.No: 32 Which of the following options is correct regarding the wounds on the body washed with salt solution? Why?
2429002

नमक के घोल से धोए गए शरीर पर घावों के संबंध में निम्नलिखित में से कौन सा विकल्प सही है? क्यों?

To remove the blood content in the wound

A

घाव में खून की मात्रा को दूर करने के लिए

For blood clotting

B

खून के थक्के जमने के लिए

To destroy germs

C

कीटाणुओं को नष्ट करने के लिए

D

To joint the bones

हड्डियों को जोड़ने के लिए

Correct Ans : C

Subject : General Science

Q.No: 33 Which one is different from the following diseases like Pneumonia, diphtheria, chicken pox, and cholera?
2429015

निम्नलिखित में से कौन सा रोग निमोनिया, डिप्थीरिया, चिकन पॉक्स और हैजा जैसी बीमारियों से अलग है?

Pneumonia

A

निमोनिया

Diphtheria

B

डिप्थीरिया

Chicken pox

C

चिकन पॉक्स

Cholera

D

हैजा

Correct Ans : C

Subject : General Science

Q.No: 34 The swelling up of the dough for making bread is due to _____ by yeast.
2430045

रोटी बनाने के लिए आटे में सूजन खमीर द्वारा ____ के कारण होती है।

Fermentation

A

किण्वन

Fungi

B

कवक

Anaerobic respiration

C

अवायवीय श्वसन

Aerobic respiration

D

एरोबिक श्वसन

Correct Ans : A

Subject : General Science

Q.No: 35 Which one of the following is not the place of TamilNadu harnessing wind energy from windmills?
2430076

निम्नलिखित में से कौन-सा तमिलनाडु का स्थान नहीं है, जो पवन चक्कियों से पवन ऊर्जा का उपयोग करता है?

Aralvaimozhi

A

अरलवाइमोझी

Kayathar

B

कायथरी

Pallamadi

C

पल्लमाडी

Kochi

D

कोच्चि

Correct Ans : D

Subject : General Science

Q.No: 36 Pointing to a photograph a man said, "I have no brother or sister but that man's son is my grandson's father". Whose photograph was it?
2422452

एक तस्वीर की ओर इशारा करते हुए एक आदमी ने कहा, "मेरा कोई भाई या बहन नहीं है लेकिन उस आदमी का बेटा मेरे पोते का पिता है"। किसका फोटो था?

His son's

A

उसके पुत्र

His father

B

उसके पिता

His nephew's

C

उसके भतीजा

His own

D

उसका अपना

Correct Ans : D

Subject : **General Reasoning**

Q.No: 37 Rahul, Riya and Raja are in a house. Rahul is Raja's son and Riya's maternal uncle. How is Raja related to Riya?
2422474

राहुल, रिया और राजा एक घर में हैं। राहुल राजा का पुत्र और रिया का मामा है। राजा, रिया से किस प्रकार संबंधित है?

Maternal grandfather

A

नाना

Paternal grandfather

B

दादा

Maternal uncle

C

मामा

Father

D

पिता

Correct Ans : A

Subject : **General Reasoning**

Q.No: 38 Find the wrong term in the series?
2422587

0, 3, 8, 15, 27, 35, 48

श्रृंखला में गलत क्रम का पता लगाएं?

0, 3, 8, 15, 27, 35, 48

15

A

15

35

B

35

27

C

27

48

D

48

Correct Ans : C

Subject : **General Reasoning**

Q.No: 39 Find the wrong term in the series?
2422607

210, 195, 175, 150, 120, 90

श्रृंखला में गलत क्रम का पता लगाएँ?

210, 195, 175, 150, 120, 90

210

A

210

90

B

90

175

C

175

150

D

150

Correct Ans : B

Subject : **General Reasoning**

Q.No: 40 Find the odd word out.
2424512

असंगत शब्द का चयन कीजिए।

Autocracy

A

एकतंत्र

Diplomacy

B

कूटनीति

Democracy

C

लोकतंत्र

Theocracy

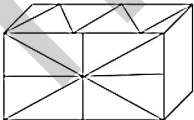
D

धर्मतंत्र

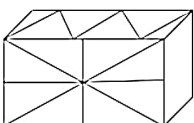
Correct Ans : B

Subject : **General Reasoning**

Q.No: 41 Find the number of triangles in the given figure.
2425646



इस आकृति में त्रिभुज की संख्या ज्ञात कीजिए।



19

A

19

18

B

18

C 17

17

16

D

16

Correct Ans : B

Subject : General Reasoning

Q.No: 42 Select the letter-cluster that is related to the third letter-cluster in the same way as the second letter-cluster is related to the first letter-cluster.

2426293

ABCD : WXYZ :: EFGH : ?

उस अक्षर-समूह का चयन करें जो तीसरे अक्षर-समूह से उसी प्रकार संबंधित है जैसे दूसरा अक्षर-समूह, पहले अक्षर-समूह से संबंधित है।

ABCD : WXYZ :: EFGH : ?

STUV

A

STUV

STOU

B

STOU

STUE

C

STUE

TSUV

D

TSUV

Correct Ans : A

Subject : General Reasoning

Q.No: 43

2426393

उस संख्या /विकल्प का चयन करें जो तीसरी संख्या से उसी प्रकार संबंधित है जैसे दूसरी संख्या पहली संख्या से संबंधित है।

1 : -1 :: 2 : ?

4

A

4

2

B

2

3

C

3

5

D

5

Correct Ans : B

Subject : General Reasoning

Q.No: 44 Select the option /number which is related to 3rd number in the same way as 2nd number is related to a

2426414

1st number?

2 : 32 :: a : ?

उस संख्या /विकल्प का चयन करें जो तीसरी संख्या से उसी प्रकार संबंधित है जैसे दूसरी संख्या पहली संख्या से संबंधित है।

2 : 32 :: a : ?

A

a²

a^2

a^3

B

a^3

a^5

C

a^5

a^6

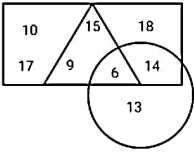
D

a^6

Correct Ans : C

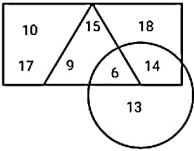
Subject : General Reasoning

Q.No: 45 In the given diagram, Circle represents places in mountain, Triangle represents places with heavy rainfall and Rectangle represents places in desert.
2426558



How many places are in mountain with heavy rainfall?

दिए गए आरेख में, वृत्त पर्वत में स्थानों का प्रतिनिधित्व करता है, त्रिभुज भारी वर्षा वाले स्थानों का प्रतिनिधित्व करता है और आयत रेगिस्तान में स्थानों का प्रतिनिधित्व करता है।



भारी वर्षा वाले पर्वतों में कितने स्थान हैं?

15

A

15

30

B

30

6

C

6

14

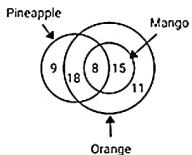
D

14

Correct Ans : C

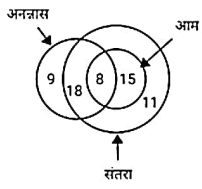
Subject : General Reasoning

Q.No: 46 The diagram represents the likes of Students of a class.
2426603



What is the difference between who likes Pineapple and Mango?

अरेख एक कक्षा के छात्रों की पसंद का प्रतिनिधित्व करता है।



अनानास और आम पसंद करने वालों में क्या अंतर है?

8

A

8

12

B

12

3

C

3

11

D

11

Correct Ans : B

Subject : General Reasoning

Q.No: 47 Select the option that is related to the third term in the same way as the second term is related to the first term.

2429534

DHLP : HMK :: EJOT : ?

उस विकल्प का चयन करें जो तीसरे पद से उसी प्रकार संबंधित है जैसे दूसरा पद पहले पद से संबंधित है।

DHLP : HMK :: EJOT : ?

IJKL

A

IJKL

IOKO

B

IOKO

IJKO

C

IJKO

IOKJ

D

IOKJ

Correct Ans : B

Subject : General Reasoning

Q.No: 48 J is the daughter of I; H is the brother of I; G is the sister of H; K is the brother of J. How is H related to K?

2429573

J, I की पुत्री है; H, I का भाई है; G, H की बहन है; K, J का भाई है। H, K से किस प्रकार संबंधित है?

Mother

A

माता

Father

B

पिता

Aunt

C

चाची

Uncle

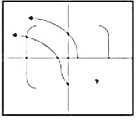
D

चाचा/ताऊ/मामा

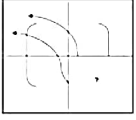
Correct Ans : D

Subject : General Reasoning

Q.No: 49 Which answer figure will complete the pattern in the question figure?
 2433195



कौन सी उत्तर आकृति प्रश्न आकृति में पैटर्न को पूर्ण करेगी?



A



B



C



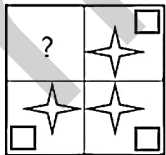
D



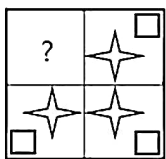
Correct Ans : B

Subject : General Reasoning

Q.No: 50 Identify the figure that completes the pattern.
 2433491



उस आकृति की पहचान करें जो पैटर्न को पूरा करती है।



A





B



C



D



Correct Ans : B

Subject : General Reasoning

Q.No: 51
2434886 Select the option that is related to the third number in the same way as the second number is related to the first number.

$$\frac{1}{11} : \frac{1}{121} :: \frac{1}{9} : ?$$

उस विकल्प का चयन करें जो तीसरी संख्या से उसी प्रकार संबंधित है जैसे दूसरी संख्या, पहली संख्या से संबंधित है।

$$\frac{1}{11} : \frac{1}{121} :: \frac{1}{9} : ?$$

$$\frac{1}{81}$$

A

$$\frac{1}{81}$$

$$\frac{1}{18}$$

B

$$\frac{1}{18}$$

$$\frac{1}{56}$$

C

$$\frac{1}{56}$$

$$\frac{1}{100}$$

D

$$\frac{1}{100}$$

Correct Ans : A

Subject : General Reasoning

Q.No: 52 Given question has main statement followed by four statements. Choose the ordered pair of statements, where the first statement implies the second, and the two statements are logically consistent with the main statement.

If I eat healthy, I will live healthy

- A. I ate healthy
- B. I lived Healthy
- C. I did not eat healthy
- D. I did not live healthy

दिए गए प्रश्न में मुख्य कथन और उसके बाद चार कथन हैं। कथनों का क्रमित युग्म चुनें, जहाँ पहले कथन का तात्पर्य दूसरे कथन से है, और दो कथन तार्किक रूप से मुख्य कथन से संगत हैं।

अगर मैं स्वस्थ खाऊंगा, तो मैं स्वस्थ रहूंगा

- A. मैंने स्वस्थ खाया
- B. मैं स्वस्थ रहता था
- C. मैंने स्वस्थ नहीं खाया
- D. मैं स्वस्थ नहीं रहता था

AB

A

AB

BA

B

BA

DA

C

DA

CD

D

CD

Correct Ans : A

Subject : General Reasoning

Q.No: 53 Given question has main statement followed by four statements. Choose the ordered pair of statements, where the first statement implies the second, and the two statements are logically consistent with the main statement.

If the capital is shifted, the people will face difficulties

- A. the capital was shifted
- B. the capital was not shifted
- C. the people faced difficulties
- D. the people did not face difficulties

दिए गए प्रश्न में मुख्य कथन और उसके बाद चार कथन हैं। कथनों का क्रमित युग्म चुनें, जहाँ पहले कथन का तात्पर्य दूसरे कथन से है, और दो कथन तार्किक रूप से मुख्य कथन से संगत हैं।

राजधानी शिफ्ट हुई तो लोगों को होगी मुश्किलें

- A. राजधानी को स्थानांतरित कर दिया गया था
- B. राजधानी को स्थानांतरित नहीं किया गया था
- C. लोगों को कठिनाइयों का सामना करना पड़ा
- D. लोगों को कठिनाइयों का सामना नहीं करना पड़ा

AC

A

AC

BC

B

BC

DA

C

DA

CD

D

CD

Correct Ans : A

Subject : General Reasoning

Q.No: 54 Given question has main statement followed by four statements. Choose the ordered pair of statements, where the first statement implies the second, and the two statements are logically consistent with the main statement.
2440259

If Government imports sugar, the prices will come down.

- A. Government imported sugar
- B. Government did not import sugar
- C. the prices have come down.
- D. the prices of sugar have not come down

दिए गए प्रश्न में मुख्य कथन और उसके बाद चार कथन हैं। कथनों का क्रमित युग्म चुनें, जहाँ पहले कथन का तात्पर्य दूसरे कथन से है, और दो कथन तार्किक रूप से मुख्य कथन से संगत हैं।
अगर सरकार चीनी का आयात करती है, तो कीमतों में कमी आएगी।

- A. सरकार ने चीनी का आयात किया
- B. सरकार ने चीनी का आयात नहीं किया
- C. कीमतों में कमी आई है।
- D. चीनी के दाम कम नहीं हुए हैं

BD

A

BD

BC

B

BC

DA

C

DA

DB

D

DB

Correct Ans : D

Subject : **General Reasoning**

Q.No: 55 Select the option that is related to the third term in the same way as the second term is related to the first term.
2441953

CO : HU :: TG : ?

उस विकल्प का चयन करें जो तीसरे पद से उसी प्रकार संबंधित है जिस प्रकार दूसरा पद पहले पद से संबंधित है।

CO : HU :: TG : ?

YN

A

YN

XN

B

XN

YM

C

YM

XM

D

XM

Correct Ans : C

Subject : **General Reasoning**

Q.No: 56 Simplify: $3690 - 100 \div 20 \times 3$
2422337

सरल कीजिए: $3690 - 100 \div 20 \times 3$

A

3675

3675

3574

B

3574

3674

C

3674

3784

D

3784

Correct Ans : A

Subject : General Maths

Q.No: 57 Simplify: $65 - [39 + \{41 - (5 + 2)\}]$
2422362

सरल कीजिए: $65 - [39 + \{41 - (5 + 2)\}]$

8

A

8

7

B

7

-8

C

-8

9

D

9

Correct Ans : A

Subject : General Maths

Q.No: 58 Sandeep deposited Rs.5390 with a finance company for 2 years at an interest of 8% per annum. What is the compound interest that Sandeep gets after 2 years?
2423599

संदीप ने एक वित्त कंपनी के साथ 2 साल के लिए 8% प्रति वर्ष के ब्याज पर 5390 रुपये जमा किए। संदीप को 2 वर्ष बाद कितना चक्रवृद्धि ब्याज मिलता है?

Rs.125.38

A

Rs.125.38

Rs.145.77

B

Rs.145.77

Rs.178.78

C

Rs.178.78

Rs.896.896

D

Rs.896.896

Correct Ans : D

Subject : General Maths

Q.No: 59
2423614 Priyanka took a loan of Rs.31200 against her insurance policy at the rate of $9\frac{1}{2}\%$ per annum. Calculate the total compound interest payable by Priyanka after 2 years.

प्रियंका ने रु 31200 प्रति वर्ष $9\frac{1}{2}\%$ की दर से उसकी बीमा पॉलिसी के खिलाफ कर्ज लिया। प्रियंका द्वारा 2 वर्षों के बाद देय कुल चक्रवृद्धि ब्याज की गणना करें।

A

Rs.1230.76

Rs.1230.76

Rs.2345.21

B

Rs.2345.21

Rs.898.62

C

Rs.898.62

Rs.6209.58

D

Rs.6209.58

Correct Ans : D

Subject : General Maths

Q.No: 60 Solve:

2428579

$$\{25 \times 25 - 24 \times 24 + 6 \times 6 + [50 \times 10 - 50 \text{ of } 5 - (25 \times 5 + 22 \times 2)]\}$$

हल करें:

$$\{25 \times 25 - 24 \times 24 + 6 \times 6 + [50 \times 10 - 5 \text{ का } 50 - (25 \times 5 + 22 \times 2)]\}$$

160

A

160

166

B

166

165

C

165

163

D

163

Correct Ans : B

Subject : General Maths

Q.No: 61 The batting average for 40 innings of a cricketer is 60 runs. If his two innings are excluded the average of remaining 38 innings is 55 runs. Then the sum of these two innings is?

2432519

एक क्रिकेटर की 40 पारियों का बल्लेबाजी औसत 60 रन है। अगर उसकी दो पारियों को छोड़ दें तो शेष 38 पारियों का औसत 55 रन है। तो इन दोनों पारियों का योग है?

300 runs

A

300 रन

280 runs

B

280 रन

310 runs

C

310 रन

260 runs

D

260 रन

Correct Ans : C

Subject : General Maths

Q.No: 62

2434685

What is the HCF of $(x+4)^2(x-3)^3$ and $(x-1)(x+4)(x-3)^2$?

$(x+4)^2(x-3)^3$ और $(x-1)(x+4)(x-3)^2$ का महत्तम समापवर्तक क्या है?

A

$$(x+4)(x-3)^2$$

$$(x+4)(x-3)^2$$

$$(x+4)(x-3)$$

B

$$(x+4)(x-3)$$

$$(x+4)^2(x-3)$$

C

$$(x+4)^2(x-3)$$

$$(x-1)(x+4)(x-3)$$

D

$$(x-1)(x+4)(x-3)$$

Correct Ans : A

Subject : General Maths

Q.No: 63

2434735 If $x + \frac{1}{x} = 3$, then $x^8 + \frac{1}{x^8} = ?$

यदि $x + \frac{1}{x} = 3$, तो $x^8 + \frac{1}{x^8} = ?$

$$47^2 - 2$$

A

$$47^2 - 2$$

$$49^2 - 2$$

B

$$49^2 - 2$$

$$49^2$$

C

$$49^2$$

$$49^2 + 2$$

D

$$49^2 + 2$$

Correct Ans : A

Subject : General Maths

Q.No: 64

2434765 If $x - \left[\frac{1}{x}\right] = 9$, then find the value of $(x-7)^3 - \frac{1}{(x-7)^3}$

यदि $x - \left[\frac{1}{x}\right] = 9$ है, तो $(x-7)^3 - \frac{1}{(x-7)^3}$ का मान ज्ञात करें।

$$18$$

A

$$18$$

$$3$$

B

$$3$$

$$6$$

C

$$6$$

$$14$$

D

14

Correct Ans : D

Subject : General Maths

Q.No: 65 If the selling price is doubled, then profit become tripled. Therefore, profit percent is
2435210

यदि विक्रय मूल्य दोगुना कर दिया जाए तो लाभ तीन गुना हो जाता है, तब लाभ प्रतिशत होगा

$66\frac{2}{3}\%$

A

$66\frac{2}{3}\%$

100%

B

100%

$105\frac{1}{3}\%$

C

$105\frac{1}{3}\%$

120%

D

120%

Correct Ans : B

Subject : General Maths

Q.No: 66 If the difference between 15% loss and 15% gain is Rs. 450, then the cost price is
2435230

यदि 15% लाभ और 15% हानि का अन्तर रु. 450 हो, तो क्रय मूल्य है

Rs. 1,500

A

रु. 1,500

Rs. 2,000

B

रु. 2,000

Rs. 2,200

C

रु. 2,200

Rs. 1,200

D

रु. 1,200

Correct Ans : A

Subject : General Maths

Q.No: 67 Akshay bought an air conditioner having list price of 35000 at 20% discount. If shopkeeper offered an additional discount of 4% on paying cash then what is the amount paid
2435290 by Akshay to buy air conditioner by cash payment?

अक्षय ने 35000 रुपये सूची मूल्य वाला एक एयर कंडीशनर 20% छूट पर खरीदा। यदि दुकानदार ने नकद भुगतान पर 4% की अतिरिक्त छूट प्रदान की, तो अक्षय द्वारा नकद भुगतान पर खरीदे गए एयर कंडीशनर का मूल्य ज्ञात कीजिए?

Rs. 26880

A

26880 रुपये

Rs. 22540

B

22540 रुपये

Rs. 28420

C

28420 रुपये

D **RS. 24300**

24360 रुपये

Correct Ans : **A**

Subject : **General Maths**

Q.No: 68 $\frac{1}{0.07}$ is equal to:
2437468

$\frac{1}{0.07}$ बराबर है:

14.29

A

14.29

13.44

B

13.44

10.03

C

10.03

70.5

D

70.5

Correct Ans : **A**

Subject : **General Maths**

Q.No: 69 Arrange $\frac{7}{12}, \frac{5}{8}, \frac{11}{15}$ and $\frac{13}{18}$ in ascending order.
2437488

$\frac{7}{12}, \frac{5}{8}, \frac{11}{15}$ और $\frac{13}{18}$ को आरोही क्रम में व्यवस्थित कीजिए

$\frac{13}{18}, \frac{11}{15}, \frac{5}{8}, \frac{7}{12}$

A

$\frac{13}{18}, \frac{11}{15}, \frac{5}{8}, \frac{7}{12}$

$\frac{7}{12}, \frac{5}{8}, \frac{13}{18}, \frac{11}{15}$

B

$\frac{7}{12}, \frac{5}{8}, \frac{13}{18}, \frac{11}{15}$

$\frac{11}{15}, \frac{13}{18}, \frac{5}{8}, \frac{7}{12}$

C

$\frac{11}{15}, \frac{13}{18}, \frac{5}{8}, \frac{7}{12}$

$\frac{5}{8}, \frac{7}{12}, \frac{11}{15}, \frac{13}{18}$

D

$\frac{5}{8}, \frac{7}{12}, \frac{11}{15}, \frac{13}{18}$

Correct Ans : **B**

Subject : **General Maths**

Q.No: 70 The right expression of $6.\overline{46}$ in the fractional form is:
2437548

भिन्नात्मक रूप में $6.\overline{46}$ की सही अभिव्यक्ति क्या है?

A

$\frac{646}{99}$

646

99

64640

1000

B

64640

1000

640

100

C

640

100

640

99

D

640

99

Correct Ans : D

Subject : General Maths

Q.No: 71 If in a symbolic language 'SISTER' is written 'RHRSDQ' then 'UNCLE' will be written in the same language as?
2422537

यदि किसी सांकेतिक भाषा में 'SISTER' को 'RHRSDQ' लिखा जाता है तो 'UNCLE' को उसी भाषा में लिखा जाएगा जिसमें?

TMBKD

A

TMBKD

TBMKD

B

TBMKD

TVBOD

C

TVBOD

TMKBD

D

TMKBD

Correct Ans : A

Subject : Mental Ability

Q.No: 72 If in a symbolic language 'SIR' is written 'PSPIPR' then 'MAN' will be written in the same language as?
2422567

यदि किसी सांकेतिक भाषा में 'SIR' को 'PSPIPR' लिखा जाए तो 'MAN' को उसी भाषा में लिखा जाएगा जिसमें?

PMANP

A

PMANP

PMPAPN

B

PMPAPN

NANP

C

NANP

NGOD

D

NGOD

Correct Ans : B

Subject : Mental Ability

Q.No: 73 In a row of 30 trees, Mango tree is 13th from right end. Then find the rank of Mango tree from left end.
2425585

30 छात्रों की एक पंक्ति में आम का पेड़ दायें छोर से 13वें स्थान पर है। तो बाएं छोर से आम का पेड़ की रैंक ज्ञात कीजिए?

17

A

17

16

B

16

18

C

18

15

D

15

Correct Ans : C

Subject : Mental Ability

Q.No: 74 If PALAM could be given the code number 43, what code number can be given to SANTACRUZ?
2426503

यदि PALAM को कूट संख्या 43 दी जा सकती है, तो SANTACRUZ को कौन सी कूट संख्या दी जा सकती है?

75

A

75

85

B

85

120

C

120

123

D

123

Correct Ans : D

Subject : Mental Ability

Q.No: 75 If in a certain language, TRIANGLE is coded as SQHZMFKD, which word would be coded as DWZLOKD?
2426533

यदि एक निश्चित भाषा में TRIANGLE, को SQHZMFKD, के रूप में कोडित किया जाता है, तो किस शब्द को DWZLOKD के रूप में कोडित किया जाएगा?

EXAMPLE

A

EXAMPLE

FIGMENT

B

FIGMENT

DISMISS

C

DISMISS

DISJOIN

D

DISJOIN

Correct Ans : A

Subject : Mental Ability

Q.No: 76 In the following questions, two statements are given followed by two conclusions (I) and (II). You have to consider the statements to be true even if they seem to be at variance from commonly known facts. You are to decide which of the given conclusions, if any, follow from the given statements. Indicate your answer.
2430218

Statement: The distance of 400 km by road between goa and Haldia will be reduced to 180 km by sea. This will lead to the saving of Rs. 3.92 crore per annum on fuel.

Conclusions:

- I. Transportation by sea is cheaper than by road.
- II. Fuel must be saved to the greatest extent.

निम्नलिखित प्रश्नों में, दो कथन दो निष्कर्ष I, II का अनुसरण करते हैं आपको दोनों कथनों पर विचार करना होगा, भले ही वे आमतौर पर ज्ञात तथ्यों से प्रतीत होने लगें। आपको निम्न दिए गए कथनों के यदि निष्कर्ष हो तो उनका चयन करें:

कथन: गोवा और हल्दिया के बीच सड़क मार्ग से 400 किमी की दूरी, समुद्र के द्वारा 180 किमी तक हो जाएगी। इससे ईंधन पर प्रतिवर्ष 3.92 करोड़ रुपये की बचत होगी।

निष्कर्ष:

- I. समुद्र द्वारा परिवहन सड़क मार्ग से सस्ता है।
- II. ईंधन को ज्यादा से ज्यादा बचाना चाहिए।

Only conclusion I follows

A

केवल निष्कर्ष I अनुसरण करता है
Only conclusion II follows

B

केवल निष्कर्ष II अनुसरण करता है
Either I or II follows

C

या तो I या II अनुसरण करता है
Neither I nor II follow

D

न तो I और न ही II अनुसरण करता है

Correct Ans : B

Subject : Mental Ability

Q.No: 77 In the following questions, two statements are given followed by two conclusions (I) and (II). You have to consider the statements to be true even if they seem to be at variance from commonly known facts. You are to decide which of the given conclusions, if any, follow from the given statements. Indicate your answer.
2430247

Statements: The selectors may select a candidate who neither possesses the highly qualifications nor the values.

Conclusions:

- I. The inclusion of selectors on the panel does not guarantee that selection will be proper.
- II. The interview test has many limitations in the matter of selection.

निम्नलिखित प्रश्नों में, दो कथन दो निष्कर्ष I, II का अनुसरण करते हैं आपको दोनों कथनों पर विचार करना होगा, भले ही वे आमतौर पर ज्ञात तथ्यों से प्रतीत होने लगें। आपको निम्न दिए गए कथनों के यदि निष्कर्ष हो तो उनका चयन करें:

कथन: चयनकर्ता ऐसे उम्मीदवार का चयन कर सकते हैं जिसके पास न तो उच्च योग्यताएं हों और न ही मूल्य।

निष्कर्ष:

- I. चयनकर्ताओं को पैनल में शामिल करना इस बात की गारंटी नहीं देता कि चयन उचित होगा।
- II. चयन के मामले में साक्षात्कार परीक्षा की कई सीमाएँ हैं।

Only conclusion I follows

A

केवल निष्कर्ष I अनुसरण करता है
Only conclusion II follows

B

केवल निष्कर्ष II अनुसरण करता है
Either I or II follows

C

या तो I या II अनुसरण करता है
Both I and II follow

D

I और II दोनों अनुसरण करते हैं

Correct Ans : D

Subject : Mental Ability

Q.No: 78 In question below are two statements followed by two conclusions numbered I and II. You have to take the given statements to be true even if they seem to be at variance from commonly facts and then decide which of the given conclusions logically follows from the given statements.
2435460

Statements:

I. No bat is balls.

II. All balls are rackets.

Conclusions:

I. Some bats are rackets.

II. Some rackets are balls.

नीचे दिए गए प्रश्न में दो कथन और उसके बाद दो निष्कर्ष I और II दिए गए हैं। आपको दिए गए कथनों को सत्य मानना है, चाहे वे सामान्यतः ज्ञात तथ्यों से भिन्न प्रतीत होता है, आपको निर्णय करना है कि दिए गए कथनों में से कौन सा निष्कर्ष तार्किक रूप से अनुसरण करता है।

कथन:

I. कोई बॉल बल्ला है।

II. सभी बॉल रैकेट हैं।

निष्कर्ष:

I. कुछ बल्ला रैकेट हैं।

II. कुछ रैकेट बॉल हैं।

Only conclusion I follows.

A

केवल निष्कर्ष I अनुसरण करता है।

Only conclusion II follows.

B

केवल निष्कर्ष II अनुसरण करता है।

Both conclusions I and II follows.

C

दोनों निष्कर्ष I और II अनुसरण करते हैं।

Either conclusion I or II follows.

D

या तो निष्कर्ष I या II अनुसरण करता है।

Correct Ans : B

Subject : Mental Ability

Q.No: 79 In the following question, some statements followed by some conclusions are given. Taking the given statements to be true even if they seem to be at variance from commonly known facts, read all the conclusions and then decide which of the given conclusions logically follows the given statements.

2435520

Statements:

All writer are doctor.

No doctor is painter.

Conclusions:I. Some writers are painter.

II. No writer is painter.

निम्नलिखित प्रश्न में कुछ कथनों के बाद कुछ निष्कर्ष दिए गए हैं। दिए गए कथनों को सत्य मानते हुए यद्यपि वे सामान्यतः ज्ञात तथ्यों से भिन्न प्रतीत होते हैं। सभी निष्कर्षों को पढ़ें और फिर निर्णय लें कि कौन सा निष्कर्ष दिए गए कथनों का तर्कसंगत रूप से अनुसरण करता है।

कथन:

1. सभी लेखक, चिकित्सक हैं।

2. कोई चिकित्सक, चित्रकार नहीं है।

निष्कर्ष:

I. कुछ लेखक, चित्रकार है।

II. कोई लेखक, चित्रकार नहीं है।

Only I follow

A

केवल I अनुसरण करता है।

Only II follow

B

केवल II अनुसरण करता है।

Either I or II follow

C

या तो I या II अनुसरण करता है।

Neither I nor II follow

D

न तो I न II अनुसरण करता है।

Correct Ans : B

Q.No: 80
2438543 In the following question, the statements are followed by conclusions. Study the conclusions based on the given statements and select the appropriate option as your answer.

Statement:

$$T > O = I > L = D$$

Conclusions:

I. $D < T$

II. $D = T$

निम्नलिखित प्रश्न में, कथनों के बाद निष्कर्ष दिए गए हैं।

दिए गए कथनों के आधार पर निष्कर्ष का अध्ययन करें और अपने उत्तर के रूप में उपयुक्त विकल्प का चयन करें।

कथन:

$$T > O = I > L = D$$

निष्कर्ष:

I. $D < T$

II. $D = T$

Only conclusion I is true

A

केवल निष्कर्ष I सत्य है

Only conclusion II is true

B

केवल निष्कर्ष II सत्य है

Either Conclusion I or II is true

C

या तो निष्कर्ष I या II सत्य है

Neither conclusion I nor II is true

D

न तो निष्कर्ष I और न ही II सत्य है

Correct Ans : C

Subject : **Mental Ability**

Q.No: 81
2438564 In the following question, the statements are followed by conclusions. Study the conclusions based on the given statements and select the appropriate option as your answer.

Statements:

$$P \geq T > Q \leq R < S$$

Conclusions:

I. $P > Q$

II. $P \geq R$

निम्नलिखित प्रश्न में, कथनों के बाद निष्कर्ष दिए गए हैं।

दिए गए कथनों के आधार पर निष्कर्ष का अध्ययन करें और अपने उत्तर के रूप में उपयुक्त विकल्प का चयन करें।

कथन:

$$P \geq T > Q \leq R < S$$

निष्कर्ष:

I. $P > Q$

II. $P \geq R$

If only Conclusion I is true

A

केवल निष्कर्ष I सत्य है

If only Conclusion II is true

B

केवल निष्कर्ष II सत्य है

If either Conclusion I or II is true

C

या तो निष्कर्ष I या II सत्य है

If neither Conclusion I nor II is true

D

न तो निष्कर्ष I और न ही II सत्य है

Correct Ans : A

Subject : **Mental Ability**

Q.No: 82 In the following question, the statements are followed by conclusions. Study the conclusions based on the given statements and select the appropriate option as your answer.

Statements:

$$A < B < C \leq D = E$$

Conclusions:

$$B \leq E$$

$$B < E$$

निम्नलिखित प्रश्न में, कथनों के बाद निष्कर्ष दिए गए हैं।

दिए गए कथनों के आधार पर निष्कर्ष का अध्ययन करें और अपने उत्तर के रूप में उपयुक्त विकल्प का चयन करें।

कथन:

$$A < B < C \leq D = E$$

निष्कर्ष:

$$B \leq E$$

$$B < E$$

Only Conclusion I follows

A

केवल निष्कर्ष I सत्य है

Only Conclusion II follows

B

केवल निष्कर्ष II सत्य है

Either Conclusion I or II follows

C

या तो निष्कर्ष I या II सत्य है

Neither Conclusion I nor II follows

D

न तो निष्कर्ष I और न ही II सत्य है

Correct Ans : B

Subject : Mental Ability

Q.No: 83 In the question given below, two statements are given followed by two conclusions I and II. You have to consider the statements to be true even they seem to be at variance from commonly known facts. You have to decide which of the given conclusions, if any follow from the given statements.

2439079

Statements:

All books are boxes.

All boxes are banks.

Conclusions:

I. Some books are banks.

II. All books are banks

नीचे दिए गए प्रश्न में दो कथन तथा उसके पश्चात दो निष्कर्ष I तथा II दिए गए हैं। आपको दिए गये कथन को सत्य मानना है, भले ही वह सर्वज्ञात तथ्यों से भिन्न प्रतीत होते हों तथा कथनों के आधार पर आपको अपना उत्तर देना है।

कथन:

सभी किताबें बक्से हैं।

सभी बक्से बैंक हैं।

निष्कर्ष:

I. कुछ किताबें बैंक हैं।

II. सभी किताबें बैंक हैं।

Only conclusion I follows

A

केवल निष्कर्ष I अनुसरण करता है

Only conclusions II follows

B

केवल निष्कर्ष II अनुसरण करता है

Both conclusions I and II follow

C

दोनों निष्कर्ष I और II अनुसरण करते हैं।

Neither conclusion I nor II follows

D

न तो निष्कर्ष I और न ही II अनुसरण करता है।

Correct Ans : C

Subject : Mental Ability

Q.No: 84 Arrange the following words in a logical and meaningful order.
2442666

1. Child
2. Marriage
3. Infant
4. Employment
5. Education

निम्नलिखित शब्दों को एक तार्किक एवं अर्थपूर्ण क्रम में व्यवस्थित कीजिए।

1. बच्चा
 2. विवाह
 3. नवजात
 4. रोजगार
 5. शिक्षा
- 4, 1, 3, 5, 2**

A

- 4, 1, 3, 5, 2**
3, 1, 5, 4, 2

B

- 3, 1, 5, 4, 2**
3, 5, 2, 4, 1

C

- 3, 5, 2, 4, 1**
5, 2, 4, 1, 3

D

- 5, 2, 4, 1, 3**

Correct Ans : B

Subject : Mental Ability

Q.No: 85 Arrange the following words in a logical and meaningful order.
2442675

1. Ploughing up the field
2. Bread making
3. Production of wheat
4. Wheat grinding
5. Sowing the seeds
6. Dough making

निम्नलिखित शब्दों को तर्कपूर्ण तथा सार्थक क्रम में व्यवस्थित कीजिए:

1. खेत की जुताई
 2. रोटी बनाना
 3. गेहूँ का उत्पादन
 4. गेहूँ पीसना
 5. बीज बोना
 6. आटा गूँथना
- 1, 5, 3, 4, 6, 2**

A

- 1, 5, 3, 4, 6, 2**
2, 5, 3, 4, 1, 6

B

- 2, 5, 3, 4, 1, 6**
1, 5, 3, 6, 4, 2

C

- 1, 5, 3, 6, 4, 2**
4, 5, 2, 6, 1, 3

D

- 4, 5, 2, 6, 1, 3**

Correct Ans : A

Subject : **Mental Ability**

Q.No: 86 Which of the following is divisible by 4?
2427589

निम्नलिखित में से कौन 4 से विभाज्य है?

2362

A

2362

7422

B

7422

5524

C

5524

3761

D

3761

Correct Ans : **C**

Subject : **General Aptitude**

Q.No: 87 The difference between an internal angle and an external angle of a regular decagon is?
2431327

एक 10 भुजा वाले नियमित बहुभुज के अन्तःकोण व बाह्य कोण का अंतर कितना होगा?

A **108 degree**
108 डिग्री

B **120 degree**
120 डिग्री

C **132 degree**
132 डिग्री

D **144 degree**
144 डिग्री

Correct Ans : **A**

Subject : **General Aptitude**

Q.No: 88 If an airplane Covers a distance of 980 km in 35 minutes. then what time it will take to cover a distance of 1470 km.
2435974

यदि एक हवाई जहाज 35 मिनट में 980km की दूरी तय करता है, तो वह 1470 km की दूरी तय करने में कितना समय लेगा।

$\frac{1}{2}$ hours

A

$\frac{1}{2}$ घंटे

B

$1\frac{1}{8}$ hours

$1\frac{1}{8}$ घंटे

C

$\frac{7}{8}$ hours

$\frac{7}{8}$ घंटे

D

$1\frac{1}{6}$ hours

$1\frac{1}{6}$ घंटे

Correct Ans : **C**

Subject : **General Aptitude**

Q.No: 89 A car travels 80 km in 2 hours and a train travels 180 km in 3 hours. The ratio of speed of the car to the train is-
2436004

एक कार 2 घण्टे में 80 किमी की यात्रा करती है और एक रेलगाड़ी 3 घण्टे में 180 किमी की यात्रा करती है। कार की रेलगाड़ी से चाल का अनुपात क्या है?

2:3

A

2:3

B

3:2

3:2

3:4

C

3:4

4:3

D

4:3

Correct Ans : A

Subject : General Aptitude

Q.No: 90 A car moving in the morning fog passes a man walking at 4 km/h. in the same direction. The man can see the car for 3 minutes and visibility is up to a distance of 130 m.
2436013 The speed of the car is:

सुबह के कोहरे में चलती हुई एक कार उसी दिशा में 4 कि.मी./घंटा की चाल से पैदल चलते हुए एक आदमी को पार करती है। आदमी 3 मिनट तक कार को देख सकता है तथा कोहरे के कारण केवल 130 मीटर की दूरी तक देखा जा सकता है। कार की चाल क्या है?

5.5 km/h

A

5.5 कि.मी./घंटा

6.6 km/h.

B

6.6 कि.मी./घंटा

7km/h.

C

7 कि.मी./घंटा

5km/h.

D

5 कि.मी./घंटा

Correct Ans : B

Subject : General Aptitude

Q.No: 91 Walking at $\frac{3}{5}$ of his usual speed, a person reaches his office 20 minutes late than the usual time.
2436017 His usual time in minutes is:

एक व्यक्ति अपनी सामान्य गति की $\frac{3}{5}$ की गति पर चलते हुए अपने कार्यालय से सामान्य समय से 20 मिनट देरी से पहुंचता है। कार्यालय पहुंचने का उसका मिनटों में सामान्य समय है:

25

A

25

30

B

30

20

C

20

40

D

40

Correct Ans : B

Subject : General Aptitude

Q.No: 92 Train A and B start at the same time. Train A travels at 55 km/hr from station X to station Y and train B travels at 80 km/hr from station Y to station X. They cross each other
2436051 after 1 hour and 36 minutes. What is the distance (in km) between station X and Y?

ट्रेन A और B एक ही समय में शुरू होती हैं। ट्रेन A स्टेशन X से स्टेशन Y तक 55 कि.मी./घंटा की गति से यात्रा करती है और ट्रेन B स्टेशन X तक की यात्रा 80 कि.मी./घंटा की गति से करती है। वे एक घंटे और 36 मिनट के बाद एक दूसरे को पार करती हैं। स्टेशन X और Y के बीच दूरी (कि.मी. में) क्या है?

196

A

196

B

232

232

240

C

240

216

D

216

Correct Ans : D

Subject : General Aptitude

Q.No: 93 A and B together can do a piece of work in 12 days. While B and C can do the same work in 16 days, A work 5 days. B work 7 days and remaining work finish by C in 13 days.
2436073 How much time will A take to complete the 60% of the work with 40% of his efficiency.

A और B मिलकर किसी कार्य को 12 दिन में जबकि B और C मिलकर उसी कार्य को 16 दिन में पूरा कर सकते हैं। A ने 5 दिन B ने 7 दिन में तथा C ने 13 दिन कार्य करके कार्य समाप्त करता है। बताइए A अपनी क्षमता के 40% से कार्य के 60% भाग को कितने समय में पूरा कर लेगा?

35 days

A

35 दिन

24 days

B

24 दिन

20 days

C

20 दिन

18 days

D

18 दिन

Correct Ans : B

Subject : General Aptitude

Q.No: 94 A can finish a work in 7 days. B can finish the same work in 9 days . The days required to finish the work by both of them together.
2436121

A किसी काम को 7 दिन में पूरा कर सकता है। B उसी काम को 9 दिन में पूरा कर सकता है। दोनों को मिलकर काम पूरा करने में कितने दिन लगेंगे?

$1\frac{15}{16}$

A

$1\frac{15}{16}$

B

$2\frac{15}{16}$

$2\frac{15}{16}$

C

$3\frac{15}{16}$

$3\frac{15}{16}$

D

$4\frac{15}{16}$

$4\frac{15}{16}$

Correct Ans : C

Subject : General Aptitude

Q.No: 95 Dadra, Nagar and Haveli can do a work in 37, 111 and 333 days, on completing the work they get Rs.2197. What is the difference in Dadra and Haveli's share. (in rupees)
2436129

दादर, नगर और हवेली किसी काम को 37, 111 और 333 दिनों में कर सकते हैं, काम पूरा करने पर उन्हें 2197 रुपये मिलता है। दादरा और हवेली के हिस्से में कितने का अंतर है? (रुपये में)

1352

A

1352

1254

B

1254

C

1055

1055

1357

D

1357

Correct Ans : A

Subject : General Aptitude

Q.No: 96 What is the sum of digits of the least number which when divided by 15, 18 and 24 leaves the remainder 8 in each case and is also divisible by 13?
2436142

उस छोटी से छोटी संख्या के अंको का योग क्या है जिसे 15, 18 तथा 24 से विभाजित करने पर प्रत्येक दशा में शेषफल 8 बचता है और जो 13 से विभाज्य है?

16

A

16

13

B

13

15

C

15

17

D

17

Correct Ans : D

Subject : General Aptitude

Q.No: 97 On dividing a number by 38, the quotient is 24 and the remainder is 13, the number is:
2436145

एक संख्या को 38 से विभाजित करने पर भागफल 24 और शेषफल 13 प्राप्त होते हैं, तो संख्या है:

956

A

956

904

B

904

925

C

925

975

D

975

Correct Ans : C

Subject : General Aptitude

Q.No: 98 If sum of 8 consecutive odd numbers is 640 then, find the square of highest number.
2444529

यदि 8 क्रमागत विषम संख्याओं का योग 640 है तो, सबसे बड़ी संख्या का वर्ग ज्ञात कीजिए।

A

7898

7898

B

7569

7569

C

7921

7921

D

7225

7225

Correct Ans : B

Subject : General Aptitude

Q.No: 99 The sum of six consecutive even numbers of set-A is 402. What is the sum of another set-B of four consecutive numbers whose lowest number is 15 less than double the lowest number of set-A?
2444535

छः क्रमागत सम संख्याओं के एक समुच्चय-A का योग 402 है। चार क्रमागत संख्याओं के एक अन्य समुच्चय-B का योग क्या होगा जिसकी न्यूनतम संख्या समुच्चय-A की न्यूनतम संख्या के दोगुने से 15 कम है?

A

444

444

B 442
442

C 440
440

D 446
446

Correct Ans : B

Subject : General Aptitude

Q.No: 100 What should come in place of the question mark ? in the following number series?
2444657

8, 12, 39, 55, ?, 216

निम्न संख्याओं के श्रृंखला में प्रश्न चिन्ह ? के स्थान पर क्या आएगा?

8, 12, 39, 55, ?, 216

190

A 190
180

B 180
80

C 80
155

D 155

Correct Ans : B

Subject : General Aptitude

mpcareer.in