

MP Police Constable

Previous Year Paper
23 Jan 2022 Shift 1

mpcareer.com

[Print](#)

Testdate

23 Jan 2022 ▾

TestSlot

Shift 1 ▾

Submit

Q.No: 1 Choose the incorrect statement about Swami Vivekanand
2427969

स्वामी विवेकानंद के बारे में गलत कथन का चयन करें

He was born in 1863

A

उनका जन्म 1863 में हुआ था

His guru's name was Ramakrishna Paramhansa

B

उनके गुरु का नाम रामकृष्ण परमहंस था

He died in 1923

C

1923 में उनकी मृत्यु हो गई

His original name was Narendra Nath Dutta

D

उनका मूल नाम नरेंद्र नाथ दत्ता था

Correct Ans : C

Subject : **General Knowledge**

Q.No: 2 Which of the following is not correctly matched?
2430650

निम्नलिखित में से कौन-सा सही सुमेलित नहीं है?

EXIM Bank - Import Export

A

EXIM बैंक - आयात निर्यात

RBI - Banker's Bank

B

RBI - बैंकों का बैंक

IDBI - Industrial Finance

C

IDBI - औद्योगिक वित्त

FCI - Commercial Bank

D

FCI - वाणिज्यिक बैंक

Correct Ans : D

Subject : **General Knowledge**

Q.No: 3 The call "India for the Indians" was given by _____ in the year _____.
2432424

"इंडिया फॉर द इंडियंस" का आह्वान _____ द्वारा वर्ष _____ में किया गया था।

Swami Vivekanand, 1776

A

स्वामी विवेकानंद, 1776

Raja Ram Mohan Rai, 1976

B

राजा राम मोहन राय, 1976

Bal Gangadhar Tilak, 1976

C

बाल गंगाधर तिलक, 1976

D

Dayananda Saraswati, 1876

दयानंद सरस्वती, 1876

Correct Ans : D

Subject : General Knowledge

Q.No: 4 The resolution of Quit India Movement was passed by Congress in which of following session?
2433569

निम्नलिखित में से किस अधिवेशन में कांग्रेस द्वारा भारत छोड़ो आंदोलन का प्रस्ताव पारित किया गया था?

Bombay

A

बॉम्बे

Madras

B

मद्रास

Calcutta

C

कलकत्ता

Lucknow

D

लखनऊ

Correct Ans : A

Subject : General Knowledge

Q.No: 5 Which of the following is the largest company in India?
2434473

निम्नलिखित में से कौन-सी भारत में सबसे बड़ी कंपनी है ?

Flipkart

A

फ्लिपकार्ट

India Bulls

B

इंडिया बुल्स

Bajaj

C

बजाज

Tata Consultancy Services

D

टाटा कंसल्टेंसी सर्विसेज

Correct Ans : D

Subject : General Knowledge

Q.No: 6 How many countries share their boundary with India?
2437351

भारत के साथ कितने देश अपनी सीमा साझा करते हैं?

8

A

8

7

B

7

6

C

6

5

D

5

Correct Ans : B

Subject : General Knowledge

Q.No: 7 Which century witnessed commencement of devotional songs in India?
2440734

भारत में भक्ति गीतों की शुरुआत किस शताब्दी में हुई?

15th

A

15 वीं

16th

B

16 वीं

17th

C

17 वीं

18th

D

18 वीं

Correct Ans : A

Subject : General Knowledge

Q.No: 8 Which player won maximum gold medals in the Tokyo Olympic 2020?
2440821

टोक्यो ओलंपिक 2020 में किस खिलाड़ी ने सर्वाधिक स्वर्ण पदक जीते हैं?

Cealeb Dressel

A

सेलेब ड्रेसेल

Emma Mckeon

B

एम्मा मैककॉन

Daiki Hashimoto

C

डाइकी हाशिमोटो

Vitalina Batsarashkina

D

वितालिना बत्सारशकिना

Correct Ans : A

Subject : General Knowledge

Q.No: 9 Who created history by winning the World Championships Silver medal in the Women Wrestling Category?
2440831

महिला कुश्ती वर्ग में विश्व चैंपियनशिप का रजत पदक जीतकर इतिहास किसने रचा?

Geeta Phogat

A

गीता फोगटा

Vinesh Phogat

B

विनेश फोगट

Anshu Malik

C

अंशु मलिक

Sakshi Malik

D

साक्षी मलिक

Correct Ans : C

Subject : General Knowledge

Q.No: 10 What is the name of the autobiography of Syed M. Ali?
2440938

सैयद एम. अली की आत्मकथा का नाम क्या है?

My Way of Cricket

A

माई वे ऑफ़ क्रिकेट

Cricket and Cricket

B

क्रिकेट एंड क्रिकेट

Tales of Cricket

C

टेल्स ऑफ़ क्रिकेट

Cricket Delightful

D

क्रिकेट डिलाइटफुल

Correct Ans : **D**

Subject : **General Knowledge**

Q.No: 11 Which city has a historic symbol which is known as TIR-GOLA?
2441131

किस शहर का एक ऐतिहासिक प्रतीक है जिसे तिर-गोला के नाम से जाना जाता है?

Balaghat

A

बालाघाट

Barwani

B

बड़वानी

Betul

C

बेतुल

Bhind

D

भिंड

Correct Ans : **B**

Subject : **General Knowledge**

Q.No: 12 The pillar, Khambaba is made up of
2441194

खाम बाबा _____ से बना है।

Iron

A

लोहा

Copper

B

तांबा

Lime stone

C

चूना पत्थर

Quartzite sandstone

D

क्वार्ट्जाइट बलुआ पत्थर

Correct Ans : **D**

Subject : **General Knowledge**

Q.No: 13 Bihari Lal was born in which city?
2441311

बिहारी लाल का जन्म किस शहर में हुआ था?

Bhopal

A

भोपाल

B

Indore

इंदौर
Sagar

C

सागर
Gwalior

D

ग्वालियर

Correct Ans : D

Subject : General Knowledge

Q.No: 14 Which of the following rivers do NOT have its source in Madhya Pradesh?
2441461

निम्नलिखित में से किस नदी का उद्गम मध्य प्रदेश में नहीं है?

Tapti

A

ताप्ती
Mahanadi

B

महानदी
Wainganga

C

वैनगंगा
Godavari

D

गोदावरी

Correct Ans : D

Subject : General Knowledge

Q.No: 15 How many recognized Scheduled Tribes does Madhya Pradesh have until April, 2021?
2441602

अप्रैल, 2021 तक मध्य प्रदेश में कितनी मान्यता प्राप्त अनुसूचित जनजातियां हैं?

27

A

27

32

B

32

46

C

46

58

D

58

Correct Ans : C

Subject : General Knowledge

Q.No: 16 Permanent benches of High Courts of Indore and Gwalior were established in which of the following years?
2441712

इंदौर और ग्वालियर के उच्च न्यायालयों की स्थायी पीठों की स्थापना निम्नलिखित में से किस वर्ष में की गई थी?

1956

A

1956

1968

B

1968

C

1971

1971

1989

D

1989

Correct Ans : B

Subject : General Knowledge

Q.No: 17 Who is the Current Governor of Madhya Pradesh?
2441731

मध्य प्रदेश के वर्तमान राज्यपाल कौन हैं?

Shri Lal Ji Tondon

A

श्री लाल जी टंडन

Smt. Anandiben Patel

B

श्रीमती आनंदीबेन पटेल

Shri Mangubhai Patel

C

श्री मंगूभाई पटेल

Shri O.P. Kohli

D

श्री ओ.पी. कोहली

Correct Ans : C

Subject : General Knowledge

Q.No: 18 How many projects have been approved under the Central Road & Infrastructure Fund (CRIF) scheme for 2021-22 in Madhya Pradesh?
2441830

मध्य प्रदेश में 2021-22 के लिए सेंट्रल रोड एंड इंफ्रास्ट्रक्चर फंड (CRIF) योजना के तहत कितनी परियोजनाओं को मंजूरी दी गई है?

17

A

17

23

B

23

28

C

28

32

D

32

Correct Ans : B

Subject : General Knowledge

Q.No: 19 The central government permitted states to increase their fiscal deficit up to _____ of GSDP in 2020-21.
2441890

केंद्र सरकार ने 2020-21 में सभी राज्यों को अपने राजकोषीय घाटे को अधिकतम _____ बढ़ाने की अनुमति दी है।

3%

A

3%

5%

B

5%

8%

C

8%

10%

D

10%

Correct Ans : B

Subject : **General Knowledge**

Q.No: 20 J.K. Temple is situated in which district of Uttar Pradesh?
2442495

जे.के. मंदिर उत्तर प्रदेश के किस जिले में स्थित है?

Mathura

A

मथुरा

Prayagraj

B

प्रयागराज

Kanpur

C

कानपुर

Lucknow

D

लखनऊ

Correct Ans : **C**

Subject : **General Knowledge**

Q.No: 21 Following what can reduce the possibility of getting diseases?
2423042

किन बातों का पालन करने से रोग होने की संभावना कम हो सकती है?

Alcohol consumption

A

शराब का सेवन

Balanced diet

B

संतुलित आहार

Fad diet

C

फीका भोजन

Eating junk food

D

अस्वास्थ्यकर खाना

Correct Ans : **B**

Subject : **General Science**

Q.No: 22 Which of the following is the phenomenon of splitting of lights into its constitute colors?
2425731

निम्नलिखित में से कौन सा प्रकाश के अपने गठित रंगों में विभाजित होने की घटना है?

Refraction of light

A

प्रकाश का अपवर्तन

Dispersion of light

B

प्रकाश का प्रकीर्णन

Reflection of light

C

प्रकाश का परावर्तन

None

D

कोई नहीं

Correct Ans : **B**

Subject : **General Science**

Q.No: 23 What can be defined as the rate at which work is completed, as well as the quantity of energy spent per unit of time?
2425885

।जस दर पर काम पूरा हाता ह, साय हा प्रात पूनट समय म खब का गइ ऊजा का मात्रा क रूप म क्या पारमाषत कया जा सकता ह?

Friction

A

घर्षण

Resistance

B

प्रतिरोध

Velocity

C

वेग

Power

D

शक्ति

Correct Ans : D

Subject : **General Science**

Q.No: 24 _____ is the study of the interrelationships between various components of air, natural cycles, earth's geological processes, and climate.

2429264

_____ वायु के विभिन्न घटकों, प्राकृतिक चक्रों, पृथ्वी की भूवैज्ञानिक प्रक्रियाओं और जलवायु के बीच अंतर्संबंधों का अध्ययन है।

Meteorology

A

अंतरिक्ष-विज्ञान

Weatherlogy

B

मौसम विज्ञान

Technology

C

प्रौद्योगिकी

Climatology

D

जलवायु विज्ञान

Correct Ans : A

Subject : **General Science**

Q.No: 25 The mode of nutrition of Agaricus is -

2429896

छत्रक के पोषण का तरीका है -

parasitic

A

परजीवी

autotropic

B

ऑटोट्रॉफिक

saprotrophs

C

सैप्रोट्रोफ्स

detritivoress

D

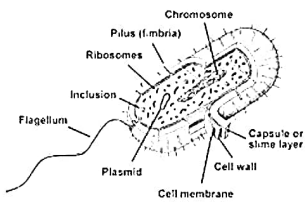
हानिकारक

Correct Ans : C

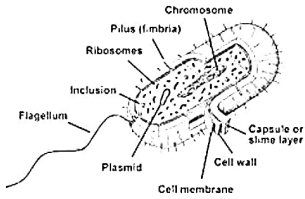
Subject : **General Science**

Q.No: 26 Observe the following figure given below. This organism belongs to which kingdom?

2429912



नीचे दिए गए चित्र को ध्यान से देखिए। यह जीव किस राज्य का है?



Monera

A

मोनेरा

Protista

B

आद्यजीव

fungi

C

कवक

eukaryotes

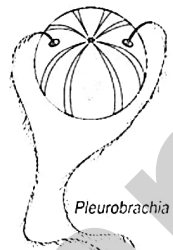
D

सुकेंद्रक

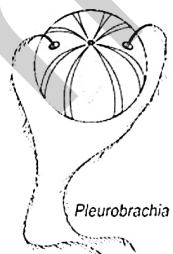
Correct Ans : **A**

Subject : **General Science**

Q.No: 27 Observe the following figure given below. This organism belongs to which kingdom?
2429922



नीचे दिए गए चित्र को ध्यान से देखिए। यह जीव किस राज्य का है?



cnidaria

A

निडारिया

Ctenophora

B

केटनोफोरा

Nematoda

C

नेमाटोडा

D **Platyhelminthes**

प्लेटिहेल्मिन्थेस

Correct Ans : **B**

Subject : **General Science**

Q.No: 28 Which one of the following is the odd one out?
2429954

निम्नलिखित में से कौन सा एक विषम है?

choanocytes

A

कीपाणु

polymorphism

B

बहुरूपता

polyp and medusae

C

पॉलीप और मेडुसे

central gastrovascular cavity

D

केंद्रीय गैस्ट्रोवास्कुलर गुहा

Correct Ans : **A**

Subject : **General Science**

Q.No: 29 A Compound that can be used as both an antiseptic and a disinfectant is _____.
2430165

एक यौगिक जो एक एंटीसेप्टिक और एक कीटाणुनाशक दोनों के रूप में इस्तेमाल किया जा सकता है।

Phenol

A

फिनोल

Terpineol

B

टेरपीनॉल

Teflon

C

टेफ्लॉन

Polymer

D

पॉलीमर

Correct Ans : **A**

Subject : **General Science**

Q.No: 30 _____ is a physical quantity that measures the amount of motion of a moving body.
2430376

_____ एक भौतिक मात्रा है जो एक गतिमान पिंड की गति की मात्रा को मापती है।

Pressure

A

दबाव

Momentum

B

गति

Fluids

C

तरल पदार्थ

Buoyant

D

तरणशील

Correct Ans : **B**

Subject : **General Science**

Q.No: 31 Aurora Borealis is also known as the -
2431640

औरोरा बोरेलिस को किस नाम से भी जाना जाता है?

Equator lights

A

भूमध्य रेखा रोशनी

Northern lights

B

उत्तरी रोशनी

Southern lights

C

दक्षिणी रोशनी

Winter lights

D

शीतकालीन रोशनी

Correct Ans : B

Subject : **General Science**

Q.No: 32 The cell which results after fusion of the _____ is called a zygote.
2432185

वह कोशिका जो _____ के संलयन के बाद बनती है, युग्मनज कहलाती है।

Ovum

A

डिंब

Pollen tube

B

पराग ट्यूब

Pollen grain

C

परागकण

Gametes

D

युग्मक

Correct Ans : D

Subject : **General Science**

Q.No: 33 Which of the following is not caused by bacteria?
2432211

निम्नलिखित में से कौन बैक्टीरिया का कारण नहीं होता है?

Cholera

A

हैजा

Typhoid

B

टाइफाइड

Tuberculosis

C

क्षय रोग

Hepatitis A

D

हेपेटाइटिस A

Correct Ans : D

Subject : **General Science**

Q.No: 34 As per the balanced diet chart which of the following should be taken in the lowest quantity?
2434278

संतुलित आहार चार्ट के अनुसार निम्न में से सबसे कम मात्रा में क्या लेना चाहिए?

A Sugar

चीनी

Pulses

B

दालें

Milk

C

दूध

Vegetables

D

सब्जियां

Correct Ans : A

Subject : General Science

Q.No: 35 In which year did the Government of India start the Total Sanitation Campaign (TSC)?
2434334

भारत सरकार ने किस वर्ष में संपूर्ण स्वच्छता अभियान (टोटल सैनिटेशन कैम्पेन) (TSC) शुरू किया था?

1991

A

1991

1995

B

1995

1999

C

1999

2003

D

2003

Correct Ans : C

Subject : General Science

Q.No: 36 Find the wrong term in the series?
2422600

9, 12, 11, 14, 13, 19, 15

श्रृंखला में गलत क्रम का पता लगाएँ?

9, 12, 11, 14, 13, 19, 15

15

A

15

19

B

19

14

C

14

12

D

12

Correct Ans : B

Subject : General Reasoning

Q.No: 37 Suman walks 15 meters towards West. After that she turns to the right. Then walks 15 meters and then she turns to her left and walks 10 metres. Then she turns to her brother's starting point of his walk to the present place?
2426359

सुमन 15 मीटर पाश्चिम का आर चलता है। इसके बाद वह दक्षिण आर मुड़ जाता है। फिर 15 मीटर चलता है आर फिर वह बाई आर मुड़ जाता है तथा 10 मीटर चलता है। फिर वह अपन माइ आर मुड़कर 15 मीटर चलता है। बताएँ।
है?

25 meters

A

25 मीटर

40 meters

B

40 मीटर

30 meters

C

30 मीटर

55 meters

D

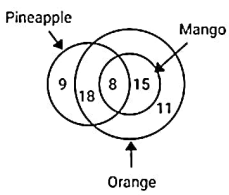
55 मीटर

Correct Ans : A

Subject : General Reasoning

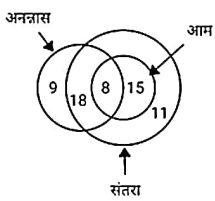
Q.No: 38 The diagram represents the likes of kids of a class.

2426576



The ratio of kids who like orange to those who like all the three is -

अरेख एक कक्षा के बच्चों की पसंद को दर्शाता है।



संतरा पसंद करने वाले बच्चों का तीनों को पसंद करने वालों से अनुपात है-

8/11

A

8/11

26/11

B

26/11

11/9

C

11/9

11/8

D

11/8

Correct Ans : D

Subject : General Reasoning

Q.No: 39 Select the Lettered pair that has the same relationship as given in the questions:

2426830

Creche : Infants

उस अक्षर युग्म का चयन करें जिसका संबंध प्रश्नों में दिए गए समान संबंध से है:

क्रेच : शिशु

School : Pupils

A

विद्यालय : विद्यार्थी

B

Bedlam : Lunatics

बेदलाम : पागल

Deck : Sailors

C

डेक : नाविक

Cottage : Beggar

D

कॉटेज : भिखारी

Correct Ans : **B**

Subject : **General Reasoning**

Q.No: 40 Find the missing term in the following series.

2428321

G13T, I11R, L90, ?

निम्नलिखित श्रृंखला में लुप्त पद ज्ञात कीजिए।

G13T, I11R, L90, ?

P0K

A

P0K

P5L

B

P5L

P5J

C

P5J

P7K

D

P7K

Correct Ans : **D**

Subject : **General Reasoning**

Q.No: 41 Select the option that is related to the third term in the same way as the second term is related to the first term.

2429553

ROSE : ORES :: FILE : ?

उस विकल्प का चयन करें जो तीसरे पद से उसी प्रकार संबंधित है जैसे दूसरा पद पहले पद से संबंधित है।

ROSE : ORES :: FILE : ?

IFLE

A

IFLE

IEFL

B

IEFL

IFEL

C

IFEL

IELF

D

IELF

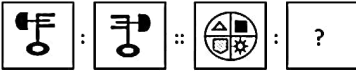
Correct Ans : **C**

Subject : **General Reasoning**

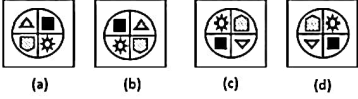
Q.No: 42 Select the option that is related to the third figure in the same way that the second figure is related to the first figure.

2433454

Problem Figures

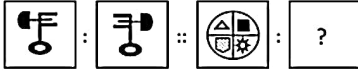


Answer Figures

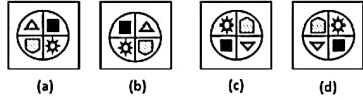


उस विकल्प का चयन करें जो तीसरी आकृति से उसी प्रकार संबंधित है जिस प्रकार दूसरी आकृति, पहली आकृति से संबंधित है।

प्रश्न आकृति :



उत्तर आकृति :



(a)

A

(a)

(b)

B

(b)

(c)

C

(c)

(d)

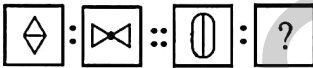
D

(d)

Correct Ans : B

Subject : General Reasoning

Q.No: 43 A particular Analogy is being shown. Understand the logic and complete the analogy by selecting correct option:
2434085



एक विशेष सादृश्य दर्शाया गया है। तर्क को समझें और सही विकल्प का चयन करके सादृश्य को पूरा करें:



A



B



C



D



Correct Ans : B

Subject : General Reasoning

Q.No: 44 In the following question, select the odd number from the given alternatives.
2435044

निम्नलिखित प्रश्न में दिए गए विकल्पों में से विषम संख्या का चयन कीजिए।

127

A

127

118

B

118

77

C

77

57

D

57

Correct Ans : A

Subject : General Reasoning

Q.No: 45 In the following question, select the odd number-pair from the given alternatives.
2435074

निम्नलिखित प्रश्न में दिए गए विकल्पों में से विषम संख्या युग्म को चुनिए।

7 - 54

A

7 - 54

3 - 15

B

3 - 15

12 - 149

C

12 - 149

9 - 86

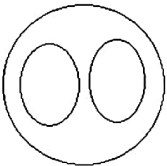
D

9 - 86

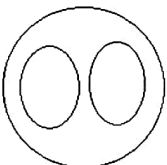
Correct Ans : B

Subject : General Reasoning

Q.No: 46 Identify the classes that best represents the relationship among the given diagram.
2435620



उन वर्गों की पहचान करें जो दिए गए आरेख के बीच संबंध का सबसे अच्छा प्रतिनिधित्व करते हैं।



Mammals, Animals, Cliffs

A

स्तनधारी, पशु, जिराफ

Sociology, psychology, Humanities

B

समाजशास्त्र, मनोविज्ञान, मानविकी

Teachers, scholar, Students

C

शिक्षक, विद्वान, छात्र

Gardens, Flowers, vegetables

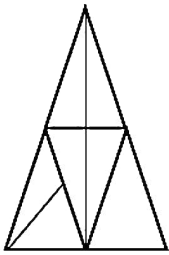
D

उद्यान, फूल, सब्जियाँ

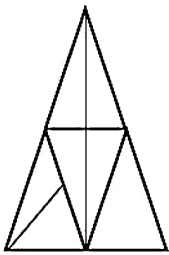
Correct Ans : B

Subject : General Reasoning

Q.No: 47 How many triangles are in the given diagram?
2437709



दिए गए आरेख में कितने त्रिभुज हैं?



15

A

15

18

B

18

12

C

12

20

D

20

Correct Ans : A

Subject : General Reasoning

Q.No: 48 My dog Bunty, runs 30 m towards west, turns left and runs 10 m, then turns right, and runs 5 m, then turns left and runs 2 m and again turns right, runs 12 m. Finally it turns
2438487

मेरा कुत्ता बंटी, पश्चिम की ओर 30 मीटर दौड़ता है, बाएं मुड़ता है और 10 मीटर दौड़ता है, फिर दाएं मुड़ता है, और 5 मीटर दौड़ता है, फिर बाएं मुड़ता है और 2 मीटर दौड़ता है और फिर से दाएं मुड़ता है, 12 मीटर दौड़ता है।

East

A

पूर्व

West

B

पश्चिम

C

North

उत्तर
South

D

दक्षिण

Correct Ans : D

Subject : General Reasoning

Q.No: 49 Three of the following four number-pairs are alike in a certain way and one is different. Find the odd one out.
2438831

निम्नलिखित चार संख्या-युग्मों में से तीन संख्या-युग्म किसी विशिष्ट संदर्भ में एक दूसरे के समान हैं और इनमें से एक संख्या-युग्म असमान है। उस असमान संख्या-युग्म का चयन कीजिए।

4:17

A

4:17

10:99

B

10:99

5:26

C

5:26

9:82

D

9:82

Correct Ans : B

Subject : General Reasoning

Q.No: 50 Pointing to a lady in a photograph Renuka said, "She is the mother of the boy, whose father is my brother". How is Renuka related to that lady?
2439337

एक तस्वीर में एक महिला की ओर इशारा करते हुए रेणुका ने कहा, "वह उस लड़के की माँ है, जिसके पिता मेरे भाई हैं"। रेणुका उस महिला से किस प्रकार संबंधित है?

Sister

A

बहन

Niece

B

भतीजी

Cousin

C

चचेरी बहन

Sister-in-law

D

भाभी

Correct Ans : D

Subject : General Reasoning

Q.No: 51 Choose the group of letter which is different from other.
2439460

अक्षरों के उस समूह को चुनिए जो अन्य से भिन्न है।

BGIN

A

BGIN

EKmS

B

EKmS

MPnS

C

MPnS

D

EgIM

EgIM

Correct Ans : **D**

Subject : **General Reasoning**

Q.No: 52 Given question has main statement followed by four statements. Choose the ordered pair of statements, where the first statement implies the second, and the two statements
2440266

If he gets the financial aid, he will be in a position to bear the expenses.

- A. he got the financial aid
- B. he did not get the financial aid
- C. he is in a position to bear the expenses.
- D. He is not in a position to bear the expenses.

दिए गए प्रश्न में मुख्य कथन और उसके बाद चार कथन हैं। कथनों का क्रमित युग्म चुनें, जहाँ पहले कथन का तात्पर्य दूसरे कथन से है, और दो कथन तार्किक रूप से मुख्य कथन से संगत हैं।
यदि उसे आर्थिक सहायता मिलती है, तो वह खर्च वहन करने की स्थिति में होगा।

- A. उन्हें आर्थिक सहायता मिली
- B. उसे आर्थिक सहायता नहीं मिली
- C. वह खर्च वहन करने की स्थिति में है।
- D. वह खर्च वहन करने की स्थिति में नहीं है।

BD

A

BD

BC

B

BC

DA

C

DA

DB

D

DB

Correct Ans : **D**

Subject : **General Reasoning**

Q.No: 53 Given question has main statement followed by four statements. Choose the ordered pair of statements, where the first statement implies the second, and the two statements
2440319

You are either selfish or selfless

- A. You are selfish
- B. You are not selfish
- C. You are selfless
- D. You are not selfless

दिए गए प्रश्न में मुख्य कथन और उसके बाद चार कथन हैं। कथनों का क्रमित युग्म चुनें, जहाँ पहले कथन का तात्पर्य दूसरे कथन से है, और दो कथन तार्किक रूप से मुख्य कथन से संगत हैं।

आप या तो स्वार्थी हैं या निस्वार्थ

- A. आप स्वार्थी हैं
- B. आप स्वार्थी नहीं हैं
- C. आप निःस्वार्थ हैं
- D. आप निःस्वार्थ नहीं हैं

AC

A

AC

DA

B

DA

CD

C

CD

AB

D

AB

Correct Ans : B

Subject : General Reasoning

Q.No: 54 Given question has main statement followed by four statements. Choose the ordered pair of statements, where the first statement implies the second, and the two statements
2440351

The director is either sane or insane

- A. The director is sane
- B. The director is insane
- C. The director is not Insane
- D. The director is not sane

दिए गए प्रश्न में मुख्य कथन और उसके बाद चार कथन हैं। कथनों का क्रमित युग्म चुनें, जहाँ पहले कथन का तात्पर्य दूसरे कथन से है, और दो कथन तार्किक रूप से मुख्य कथन से संगत हैं।
निर्देशक या तो समझदार है या पागल

- A. निर्देशक समझदार है
- B. निर्देशक पागल है
- C. निर्देशक पागल नहीं है
- D. निर्देशक समझदार नहीं है

AD

A

AD

DB

B

DB

CB

C

CB

AB

D

AB

Correct Ans : B

Subject : General Reasoning

Q.No: 55 Find the related word from the given alternatives.
2442006

Pants : Clothing

दिए गए विकल्पों में से संबंधित शब्द ज्ञात करें।

पैन्स : कपड़ा

3 : Odd number

A

3 : विषम संख्या

B

Tree : Wood

वृक्ष : लकड़ी

C

Worm : Fabric

कृमि : कपड़े

D

Sugarcane : Silk

गन्ने : रेशम

Correct Ans : A

Subject : General Reasoning

Q.No: 56 Find the amount of Rs. 7110 for 18 months at 12% per annum, the interest being compounded semi-annually.
2423632

7110 रुपये को 18 महीने के लिए 12% प्रति वर्ष की दर से, जो अर्ध-वार्षिक देय है, निवेश किया जाता है। प्राप्त राशि क्या होगी।

Rs.2900.8029

A

Rs.2900.8029

B

Rs.2567.7136

Rs.2567.7136

Rs.8468.12376

C

Rs.8468.12376

Rs.7654.0812

D

Rs.7654.0812

Correct Ans : C

Subject : General Maths

Q.No: 57 The present population of a town is 45800. If it increases at the rate of 4% per annum, what will be its population after 2 years?
2423657

एक कस्बे की वर्तमान जनसंख्या 45800 है। यदि यह 4% प्रति वर्ष की दर से बढ़ती है, तो 2 वर्ष बाद इसकी जनसंख्या क्या होगी?

4321.234

A

4321.234

49537.28

B

49537.28

3150.730

C

3150.730

79123.95

D

79123.95

Correct Ans : B

Subject : General Maths

Q.No: 58 At what rate percent compound interest per annum will Rs. 3610 amount to Rs. 4840 in 2 years?
2423674

किस दर पर प्रतिशत चक्रवृद्धि ब्याज प्रतिवर्ष रु. 3610 राशि से रु. 2 साल में 4840?

35.20%

A

35.20%

54.80%

B

54.80%

15.78%

C

15.78%

15.20%

D

15.20%

Correct Ans : C

Subject : General Maths

Q.No: 59 Solve:
2428557

$$(5 + 1 - 8 \times 1 \div 4) + (10 \div 2 + 7 - 12)$$

हल करें:

$$(5 + 1 - 8 \times 1 \div 4) + (10 \div 2 + 7 - 12)$$

4

A

4

2

B

2

C

0

0
8

D

8

Correct Ans : A

Subject : General Maths

Q.No: 60 Express the following ratio in the simplest form.
2429418

289 : 340 : 510

अनुपात को सरलतम रूप में व्यक्त करें:

289 : 340 : 510

17 : 20 : 30

A

17 : 20 : 30

26 : 73 : 87

B

26 : 73 : 87

55 : 17 : 45

C

55 : 17 : 45

37 : 11 : 13

D

37 : 11 : 13

Correct Ans : A

Subject : General Maths

Q.No: 61 The average weight of 8 person's increases by 2.5 kg when a new person comes in place of one of them weighing 65 kg. What might be the weight of the new person?
2432537

8 व्यक्तियों का औसत भार 2.5 किलो बढ़ जाता है जब उनमें से एक व्यक्ति का वजन 65 किलो के स्थान पर एक नया व्यक्ति आता है। नए व्यक्ति का वजन क्या हो सकता है?

95 kg

A

95 kg

80 kg

B

80 kg

85 kg

C

85 kg

83 kg

D

83 kg

Correct Ans : C

Subject : General Maths

Q.No: 62 Find average of natural numbers from 1 to 67?
2432558

1 से 67 तक प्राकृत संख्याओं का औसत ज्ञात कीजिए?

33.5

A

33.5

34

B

34

50

C

50

67

Correct Ans : B

Subject : General Maths

Q.No: 63 What should come in place of question mark in the following number series?
2433074

$$? \% \text{ of } 8^3 = 768$$

निम्नलिखित संख्या-श्रृंखला में प्रश्नचिन्ह (?) के स्थान पर क्या आना चाहिए?

$$? \% \text{ का } 8^3 = 768$$

153

A

153

150

B

150

156

C

156

154

D

154

Correct Ans : B

Subject : General Maths

Q.No: 64 The average height of a family of five members is 160 cm. If the heights of 4 family members is 165, 162, 155 and 160, find the height of the fifth member.
2433851

पांच सदस्यों के परिवार की औसत लम्बाई 160 सेमी है। यदि परिवार के 4 सदस्यों की लम्बाई 165, 162, 155 और 160 है, तो पांचवें सदस्य की लम्बाई ज्ञात कीजिए।

168 cm

A

168 सेमी

162 cm

B

162 सेमी

158 cm

C

158 सेमी

160 cm

D

160 सेमी

Correct Ans : C

Subject : General Maths

Q.No: 65 $2.6 \times 0.91 = ?$
2433985

$$2.6 \times 0.91 = ?$$

2.366

A

2.366

0.2366

B

0.2366

23.66

C

23.66

D

236.6

236.6

Correct Ans : A

Subject : General Maths

Q.No: 66
2434760 If $x^6 + y^6 = x^3y^3$, then find the value of $(x^9 + y^9)$?

यदि $x^6 + y^6 = x^3y^3$ है, तो $(x^9 + y^9)$ का मान ज्ञात करें?

2

A

2

0

B

0

3

C

3

1

D

1

Correct Ans : B

Subject : General Maths

Q.No: 67 A shrewd merchant claims to sell his items at cost price but he uses a weight of 440 grams for 500 grams. What is the profit percentage earned by merchant?
2435253

एक बेईमान दुकानदार अपनी वस्तु को क्रय मूल्य पर बेचने का दावा करता है लेकिन वह 500 ग्राम के स्थान पर 440 ग्राम के बांट का प्रयोग करता है। दुकानदार द्वारा अर्जित प्रतिशत लाभ ज्ञात कीजिए?

13.63%

A

13.63%

16.67%

B

16.67%

12.5%

C

12.5%

9.67%

D

9.67%

Correct Ans : A

Subject : General Maths

Q.No: 68 The salary of three workers Ram, Raghu and Rahim are Rs. 3819. If they spend 65%, 70% and 90% of their salary respectively their savings are as 14 : 8 : 6. Find the salary
2435443

तीन श्रमिकों राम, रघु और रहीम का वेतन 3819 रुपये है। यदि वे अपने वेतन का क्रमशः 65%, 70% और 90% खर्च करते हैं, तो उनकी बचत का अनुपात 14 : 8 : 6 होगा। राम का वेतन ज्ञात करें।

Rs. 1206

A

1206 रुपये

Rs. 250

B

250 रुपये

Rs. 1530

C

1530 रुपये

Rs. 1720

D

1720 रुपये

Correct Ans : A

Q.No: 69 Find the value of $20.05 - [3.06 - \{3.57 + (6.24 \times 4.09 - 1.59)\}]$
2437511

$20.05 - [3.06 - \{3.57 + (6.24 \times 4.09 - 1.59)\}]$ का मान ज्ञात करें।

36.02

A

36.02

25.32

B

25.32

32.85

C

32.85

36.16

D

36.16

Correct Ans : D

Subject : General Maths

Q.No: 70 What should come in place of question mark in the following number series?
2437968

$$\sqrt{132 \div .8 + 2^2} + \sqrt{1799 \div .7 + 134} = ?$$

निम्नलिखित संख्या-श्रृंखला में प्रश्नचिह्न (?) के स्थान पर क्या आना चाहिए?

$$\sqrt{132 \div .8 + 2^2} + \sqrt{1799 \div .7 + 134} = ?$$

63

A

63

71

B

71

68

C

68

65

D

65

Correct Ans : D

Subject : General Maths

Q.No: 71 If PALE is coded as 2134, EARTH is coded as 41590, how is PEARL coded?
2426496

यदि PALE को 2134, EARTH को 41590 के रूप में कोडित किया जाता है, तो PEARL को कैसे कोडित किया जाएगा ?

29530

A

29530

24153

B

24153

25413

C

25413

25430

D

25430

Correct Ans : B

Subject : **Mental Ability**

Q.No: 72 In a certain code language if STAIR is coded as TVDMW then what will BOARD coded in that language?
2434411

एक निश्चित कूट भाषा में, यदि STAIR को TVDMW के रूप में कूटबद्ध किया जाता है तो उसी कूट भाषा में BOARD को कैसे कूटबद्ध किया जाएगा?

CQCVF

A

CQCVF

CQDVI

B

CQDVI

DQCVI

C

DQCVI

CQDWI

D

CQDWI

Correct Ans : **B**

Subject : **Mental Ability**

Q.No: 73 In a certain code language, if TOOLS is coded as TNRQU then what will CHAIR be coded as in that language?
2434447

एक निश्चित कूट भाषा में, यदि TOOLS को TNRQU के रूप में कूटबद्ध किया जाता है तो उसी कूट भाषा में CHAIR को कैसे कूटबद्ध किया जाएगा?

SKCJD

A

SKCJD

RKCJD

B

RKCJD

SKDJJ

C

SKDJJ

SKDJC

D

SKDJC

Correct Ans : **C**

Subject : **Mental Ability**

Q.No: 74 In a certain code language, 'ROSE' is coded as '36303810'. How will 'LOTUS' be coded as in that language?
2434970

एक निश्चित कूट भाषा में, 'ROSE' को '36303810' के रूप में कूटित किया गया है। उस भाषा में 'LOTUS' को कैसे लिखा जाएगा?

2232414036

A

2232414036

2430404238

B

2430404238

2032414339

C

2032414339

2430424040

D

2430424040

Correct Ans : **B**

Subject : **Mental Ability**

Q.No: 75 In question below are two statements followed by three conclusions numbered I, II and III. You have to take the given statements to be true even if they seem to be at variance with the facts. Which of the conclusions logically follows from the given statements?
2435483

Statements:

I. Some books are files.

II. No file is paper.

Conclusions:

I. No paper is a file.

II. Some papers are books.

III. Some files are books.

नीचे दिए गए प्रश्न में दो कथन और उसके बाद तीन निष्कर्ष I, II और III दिए गए हैं। आपको दिए गए कथनों को सत्य मानना है, भले ही वे सामान्य तथ्यों से भिन्न प्रतीत होते हों और फिर तय करें कि कौन सा निष्कर्ष दिए गए कथन कथन:

I. कुछ किताब फ़ाइल हैं।

II. कोई फ़ाइल पेपर नहीं है।

निष्कर्ष:

I. कोई पेपर फ़ाइल नहीं है।

II. कुछ पेपर किताब हैं।

III. कुछ फ़ाइल किताब हैं।

All the conclusions follow.

A

सभी निष्कर्ष अनुसरण करता है।

Only conclusions I and III follow.

B

केवल निष्कर्ष I और III अनुसरण करते हैं।

Only conclusions II and III follow.

C

केवल निष्कर्ष II और III अनुसरण करते हैं।

Only conclusion I follows.

D

केवल निष्कर्ष I अनुसरण करता है।

Correct Ans : B

Subject : Mental Ability

Q.No: 76 In question below are three statements followed by three conclusions numbered I, II and III. You have to take the given statements to be true even if they seem to be at various conclusions logically follows from the given statements.
2435543

Statements:

I. All donkey are tiger.

II. All horse are tiger .

III. All tiger are lion.

Conclusions:

I. All lion are donkey.

II. All horse are lion.

III. Some lion are donkey.

नीचे दिए गए प्रश्न में तीन कथन और उसके बाद तीन निष्कर्ष I, II और III दिए गए हैं। आपको दिए गए कथनों को सत्य मानना है, चाहे वे सामान्यतः ज्ञात तथ्यों से भिन्न प्रतीत होता है, आपको निर्णय करना है कि दिए गए कथनों में कथन:

I. सभी गधे बाघ हैं।

II. सभी घोड़े बाघ हैं।

III. सभी बाघ शेर हैं।

निष्कर्ष:

I. सभी शेर गधे हैं।

II. सभी घोड़े शेर हैं।

III. कुछ शेर गधे हैं।

Either conclusion I or II follows.

A

या तो निष्कर्ष I या II अनुसरण करता है।

Neither conclusion I nor II follows.

B

न तो निष्कर्ष I और न ही II अनुसरण करता है।

C **Only conclusion II follows.**

केवल निष्कर्ष II अनुसरण करता है।

Both conclusions II and III follows.

D

दोनों निष्कर्ष II और III अनुसरण करते हैं।

Correct Ans : D

Subject : **Mental Ability**

Q.No: 77 What is the least number of cuts required to form exactly 200 identical pieces from a cube?

2438439

एक घन से ठीक 200 समान टुकड़े बनाने के लिए आवश्यक कटों की न्यूनतम संभव क्या है?

99

A

99

15

B

15

20

C

20

100

D

100

Correct Ans : B

Subject : **Mental Ability**

Q.No: 78 In the question given below, three statements are given followed by two conclusions I and II. You have to consider the statements to be true even they seem to be at variance the given conclusions, if any follow from the given statements.

2439102

Statements:

No nurse is a doctor.

All doctors are singers.

All nurses are dancers.

Conclusions:

I. Some nurses are singers.

II. Some dancers are doctors.

नीचे दिए गए प्रश्न में तीन कथन तथा उसके पश्चात दो निष्कर्ष I तथा II दिए गए हैं। आपको दिए गये कथन को सत्य मानना है, भले ही वह सर्वज्ञात तथ्यों से भिन्न प्रतीत होते हों तथा कथनों के आधार पर आपको अपना उत्तर देना है।

कथन:

कोई भी नर्स डॉक्टर नहीं है।

सभी डॉक्टर गायक हैं।

सभी नर्स डांसर हैं।

निष्कर्ष:

I. कुछ नर्स गायक हैं।

II. कुछ डांसर डॉक्टर हैं।

Both conclusion I and II follow

A

निष्कर्ष I और II दोनों अनुसरण करते हैं

Neither conclusion I nor II follows

B

न तो निष्कर्ष I और न ही II अनुसरण करता है

Only conclusion I follow

C

केवल निष्कर्ष I अनुसरण करता है

Only conclusion II follows

D

केवल निष्कर्ष II अनुसरण करता है

Correct Ans : B

Subject : **Mental Ability**

Q.No: 79 If vegetables is called plants, plants is called street, street is called road, road is called balcony, balcony is called floor and floor is called roof. Where a girl driving a scooter?
2439216

सब्जियों को पौधे कहा जाए, पौधों को गली कहा जाए, गली को सड़क कहा जाए, सड़क को बालकनी कहा जाए, बालकनी को फर्श कहा जाए और फर्श को छत कहा जाए। लड़की कहां स्कूटी चलाती है?

Balcony

A

बालकनी

Road

B

सड़क

Floor

C

फर्श

Roof

D

छत

Correct Ans : **A**

Subject : **Mental Ability**

Q.No: 80 If 'wall' is called 'brick', 'brick' is called 'door', 'door' is called 'floor', 'floor' is called 'roof' and 'roof' is called 'cement', then we enter in the room through which one of them?
2439285

यदि 'दीवार' को 'ईंट', 'ईंट' को 'दरवाजा', 'दरवाजे' को 'फर्श', 'फर्श' को 'छत' और 'छत' को 'सीमेंट' कहा जाए, फिर हम उनमें से किसके माध्यम से कमरे में प्रवेश करते हैं?

Window

A

खिड़की

Wall

B

दीवार

Floor

C

फर्श

Roof

D

छत

Correct Ans : **C**

Subject : **Mental Ability**

Q.No: 81 Rama ranks sixteenth from the top and fifteenth from the bottom in a certain examination. How many students are there in the class?
2439538

राम का स्थान एक निश्चित परीक्षा में नीचे से पंद्रहवां और शीर्ष से सोलहवां स्थान है। उसकी कक्षा में छात्रों की कुल संख्या कितनी है?

30

A

30

31

B

31

32

C

32

33

D

33

Correct Ans : **A**

Subject : **Mental Ability**

Q.No: 82 If 'MACHINE' is coded as 19-7-9- 14-15-20-11, then how will you code 'DANGER' in the same code?
2442213

याद-MACHINE 'का 19-7-9- 14-15-20-11 के रूप में काटत किया गया है, तो आप उसी काट में 'DANGER' का काट कैसे देंगे?

11-7-20-16-11-24

A

11-7-20-16-11-24

13-7-20-9-11-25

B

13-7-20-9-11-25

10-7-20-13-11-24

C

10-7-20-13-11-24

13-7-20-10-11-25

D

13-7-20-10-11-25

Correct Ans : C

Subject : Mental Ability

Q.No: 83 From the given alternative words, select the word which cannot be formed using the letters of the given word.

2442782

BROWNEST

दिए गए वैकल्पिक शब्दों में से वह शब्द चुनिए जो दिए गए शब्द के अक्षरों का प्रयोग करके नहीं बनाया जा सकता।

BROWNEST

Brown

A

Brown

Nest

B

Nest

Town

C

Town

Honest

D

Honest

Correct Ans : D

Subject : Mental Ability

Q.No: 84 Which one word can be formed from the following letters ?

2442877

t m n e r r a n a g e

निम्नलिखित अक्षरों से कौन सा एक शब्द बनाया जा सकता है?

t m n e r r a n a g e

absorptive

A

absorptive

arrangement

B

arrangement

advections

C

advections

abruptions

D

abruptions

Correct Ans : B

Subject : Mental Ability

Q.No: 85 From the given alternative words, select the word which can be formed using the letters of the given word.

2443001

SOMNAMBULISM

निम्नलिखित विकल्पों में से वह शब्द चुनिए जो दिए गए शब्द के अक्षरों का प्रयोग करके बनाया जा सकता है।

SOMNAMBULISM

NAMES

A

NAMES

BASALT

B

BASALT

SOUL

C

SOUL

BIOME

D

BIOME

Correct Ans : C

Subject : **Mental Ability**

Q.No: 86 If 60 girls can prepare 800 garlands in 5 hours, how many girls are needed to prepare 860 garlands in 1 hour?
2423725

यदि 60 लड़कियाँ 5 घंटे में 800 माला तैयार कर सकती हैं, तो 1 घंटे में 860 माला तैयार करने के लिए कितनी लड़कियों की आवश्यकता होगी?

215 girls

A

215 लड़कियाँ

260 girls

B

260 लड़कियाँ

312 girls

C

312 लड़कियाँ

260 girls

D

260 लड़कियाँ

Correct Ans : A

Subject : **General Aptitude**

Q.No: 87 A and B can do a piece of work in 46 days and B in 44 days. They work together for 7 days and then A goes away. In how many days will B finish the remaining work?
2423744

A और B एक काम को 46 दिनों में और B, 44 दिनों में कर सकते हैं। वे 7 दिनों तक एक साथ कार्य करते हैं और फिर A चला जाता है। शेष कार्य को B कितने दिनों में समाप्त करेगा?

1465/31 days

A

1465/31 दिन

2321/21 days

B

2321/21 दिन

1871/53 days

C

1871/53 दिन

1716/46 days

D

1716/46 दिन

Correct Ans : D

Subject : **General Aptitude**

Q.No: 88 Find circle's radius if circle's area's is 110 cm².
2426210

सर्कल का दायरा खोजें यदि सर्कल का क्षेत्रफल 110 सेमी² है।

A

12.4 cm

12.4 सेंटीमीटर
5.91 cm

B

5.91 सेंटीमीटर
6.97 cm

C

6.97 सेंटीमीटर
4.26 cm

D

4.26

Correct Ans : B

Subject : General Aptitude

Q.No: 89 Which of the following is divisible by 12?
2427608

निम्नलिखित में से कौन 12 से विभाज्य है?

312891

A

312891

643289

B

643289

1443612

C

1443612

236709

D

236709

Correct Ans : C

Subject : General Aptitude

Q.No: 90 Which of the following is divisible by 12?
2427621

निम्नलिखित में से कौन 12 से विभाज्य है?

863125890765432

A

863125890765432

567798653135780

B

567798653135780

245787554312

C

245787554312

765415788532159743950

D

765415788532159743950

Correct Ans : C

Subject : General Aptitude

Q.No: 91 Which of the following is divisible by 9?
2427634

निम्नलिखित में से कौन 9 से विभाज्य है?

18401028391271

A

18401028391271

38491847401358

B

38491847401358

164910174921491

C

164910174921491

24577223466831

D

24577223466831

Correct Ans : D

Subject : General Aptitude

Q.No: 92 A mother is three times as old as her daughter. After fifteen years, the mother will be twice as old as her daughter at that time. Hence, the mother's present age is?

2431189

एक मां अपनी बेटी की आयु से तीन गुनी बड़ी है। पंद्रह वर्षों के बाद, उस समय मां अपनी बेटी की आयु की दोगुनी हो जाएगी। अतः, मां की वर्तमान आयु है?

A 38
38

B 40
40

C 45
45

D 44
44

Correct Ans : C

Subject : General Aptitude

Q.No: 93 Five sharpeners and six erasers cost Rs. 28. Six sharpeners and five erasers cost Rs. 27. Find the cost (in Rs.) of each sharpener and each eraser respectively.

2431200

पांच शार्पनर और छह रबड़ की कीमत 28 रु. है। छह शार्पनर और पांच रबड़ की कीमत 27 रु. है। प्रत्येक शार्पनर और प्रत्येक रबड़ का क्रमशः मूल्य (रु में) ज्ञात कीजिए।

3, 2

A 3, 2
3, 2

B 2, 3
2, 3

C 2, 3
1, 4

D 1, 4
4, 1

C 1, 4
4, 1

D 4, 1
4, 1

D 4, 1
4, 1

Correct Ans : B

Subject : General Aptitude

Q.No: 94 In $\triangle ABC$, $\angle B$ is a right angle, $AC = 6$ cm, and D is the mid-point of AC . The length of BD is:

2431340

$\triangle ABC$ में, $\angle B$ एक समकोण है, $AC = 6$ से.मी. तथा D , AC का मध्यबिंदु है भुजा BD की लंबाई ज्ञात कीजिये।

A 4 cm
4 सेमी

B 2 cm
2 सेमी

C 3 cm
3 सेमी

D 1.5 cm
1.5 सेमी

Correct Ans : C

Subject : General Aptitude

Q.No: 95 The area of semi-circle whose radius is 14.7 cm,?

2433762

अर्धवृत्त का क्षेत्रफल जिसकी त्रिज्या 14.7 सेमी है,?

110

A 110

110

108.57

B 108.57

108.57

C 108.57

108

108

109.56

D

109.56

Correct Ans : B

Subject : General Aptitude

Q.No: 96 A pizza is chopped into four parts, find the area of each part whose radius is 49 cm?
2433779

एक पिज्जा को चार भागों में काटा जाता है, प्रत्येक भाग का क्षेत्रफल ज्ञात कीजिए जिसकी त्रिज्या 49 सेमी है?

1886.5

A

1886.5

216.5

B

216.5

188.5

C

188.5

186.5

D

186.5

Correct Ans : A

Subject : General Aptitude

Q.No: 97 The ratio of Amit's age to Anil's age is 5 : 4. 'Amit' will be 30 years old after 5 years. The age of Anil now is:
2436892

अमित की आयु का अनिल की आयु से अनुपात 5 : 4 है। 5 वर्ष बाद अमित की आयु 30 वर्ष होगी। अनिल की वर्तमान आयु ज्ञात करें।

12 years

A

12 वर्ष

15 years

B

15 वर्ष

20 years

C

20 वर्ष

22 years

D

22 वर्ष

Correct Ans : C

Subject : General Aptitude

Q.No: 98
2444467 The simplified form of $(16^{\frac{3}{2}} + 16^{\frac{-3}{2}} + 16)$ is:

$(16^{\frac{3}{2}} + 16^{\frac{-3}{2}} + 16)$ का सरलीकृत मान है?

0

A

0

$\frac{5121}{64}$

B

$\frac{5121}{64}$

C

1

1

$$\frac{16}{4097}$$

D

$$\frac{16}{4097}$$

Correct Ans : B

Subject : General Aptitude

Q.No: 99 If a natural number is divided by 7, the remainder is 5. What is the remainder, when the cube of that number is divided by 7?
2444626

यदि एक प्राकृतिक संख्या को 7 से विभाजित किया जाए तो, शेषफल 5 बचता है। यदि उसी संख्या के घन को 7 से विभाजित करे तो, शेषफल क्या होगा?

2

A

2

3

B

3

5

C

5

6

D

6

Correct Ans : D

Subject : General Aptitude

Q.No: 100 What should come in place of question mark '?' in the following number series?
2444707

18, 90, 450, 2250, ?

निम्नलिखित प्रश्न में प्रश्न चिन्ह (?) के स्थान पर क्या आयेगा?

18, 90, 450, 2250, ?
22650

A

22650

11250

B

11250

24140

C

24140

12650

D

12650

Correct Ans : B

Subject : General Aptitude