

MP Police Constable

Previous Year Paper
24 Jan 2022 Shift 1

mpcareer.in

[Print](#)

Testdate

24 Jan 2022 ▼

TestSlot

Shift 1 ▼

Submit

Q.No: 1 Which of the following matching is not correct?
2427511

निम्न में से कौन सा मेल सही नहीं है?

Jawahar Nehru Cup - Cricket

A

जवाहर नेहरू कप - क्रिकेट

Nehru Cup - Football

B

नेहरू कप-फुटबाल

Nehru Trophy - Sailing Race

C

नेहरू ट्रॉफी - नौकायान रेस

Baton Cup - Badminton

D

बेटन कप - बैडमिंटन

Correct Ans : D

Subject : **General Knowledge**

Q.No: 2 What did the English document of the Magna Carta in 1215 establish?
2427579

1215 में मैग्ना कार्टा के अंग्रेजी दस्तावेज ने क्या स्थापित किया?

Everyone is subject to the law (even kings)

A

हर कोई कानून के अधीन है (यहां तक कि राजा भी)

Free trade among nations

B

राष्ट्रों के बीच मुक्त व्यापार

Women should get voting right

C

महिलाओं को मिले मतदान का अधिका

Funds for small businesses

D

छोटे व्यवसायों के लिए फंड

Correct Ans : A

Subject : **General Knowledge**

Q.No: 3 What does I stands for in the term IP in terms of business?
2430703

व्यवसाय के संदर्भ में IP शब्द में I से क्या तात्पर्य है?

Intelligent

A

इंटेलीजेंट

Incremental

B

इंक्रिमेंटल

Intellectual

C

इंटेलेक्चुअल

D

Induction

इंटरव्यू

Correct Ans : C

Subject : General Knowledge

Q.No: 4 The Madras session of INC resolved to boycott the Commission and challenged which of the following personality to draft a constitution that would be acceptable to the Indian
2432457

कांग्रेस के मद्रास सत्र ने आयोग का बहिष्कार करने का संकल्प लिया और निम्नलिखित में से किस व्यक्तित्व को एक संविधान का मसौदा तैयार करने को चुनौती दी जो भारतीय जनता को स्वीकार्य होगा?

Lord Birkenhead

A

लॉर्ड बिरकेनहेड

Clement Atlee

B

क्लेमेंट एटली

Sir John Simon

C

सर जॉन साइमन

Francis Hirst

D

फ्रांसिस हिर्स्ट

Correct Ans : A

Subject : General Knowledge

Q.No: 5 Who among the following said that the Quit India Movement is by far the most serious rebellion since 1857?
2433571

निम्नलिखित में से किसने कहा कि भारत छोड़ो आंदोलन 1857 के बाद से अब तक का सबसे गंभीर विद्रोह है?

Lord Linlithgow

A

लॉर्ड लिनलिथगो

Winston Churchill

B

विंस्टन चर्चिल

Lord Wavell

C

लॉर्ड वेवेल

Clement Attlee

D

क्लेमेंट एटली

Correct Ans : A

Subject : General Knowledge

Q.No: 6 When was Value Added Tax (VAT) implemented in India?
2435786

मूल्य वर्धित कर (वैट) भारत में कब से लागू किया गया?

2005

A

2005

2007

B

2007

2008

C

2008

2017

D

2017

Correct Ans : A

Subject : General Knowledge

Q.No: 7 National sports day 2021 was celebrated on which date?
2437140

राष्ट्रीय खेल दिवस 2021 किस तारीख को मनाया गया?

12 August

A

12 अगस्त

29 August

B

29 अगस्त

6 June

C

6 जून

29 June

D

29 जून

Correct Ans : B

Subject : **General Knowledge**

Q.No: 8 Which of the following is called the 'Land of Golden Pagoda'?
2437364

निम्नलिखित में से किसे 'गोल्डन पैगोडा की भूमि' कहा जाता है?

Cambodia

A

कंबोडिया

Myanmar

B

म्यांमार

Nepal

C

नेपाल

Indonesia

D

इंडोनेशिया

Correct Ans : B

Subject : **General Knowledge**

Q.No: 9 In which year Madhya Pradesh Karate Association (MPKA) was established?
2440918

मध्य प्रदेश कराटे एसोसिएशन (MPKA) की स्थापना किस वर्ष हुई थी?

1999

A

1999

1986

B

1986

1983

C

1983

1979

D

1979

Correct Ans : D

Subject : **General Knowledge**

Q.No: 10 The Treaty of Bassein was signed in the year -
2441114

किस वर्ष बेसिन की संधि पर हस्ताक्षर किए गए थे?

A 1801

1801

1802

B

1802

1803

C

1803

1804

D

1804

Correct Ans : B

Subject : General Knowledge

Q.No: 11 Who was appointed by Prithviraj Chauhan as the ruler of Garh Kunder Fort?
2441162

पृथ्वीराज चौहान ने गढ़ कुंदर किले के शासक के रूप में किसे नियुक्त किया था?

Rudra Pratap

A

रुद्र प्रताप

Khet Singh Khangar

B

खेत सिंह खंगारी

Shayaji Parmar

C

शायजी परमार

Raghuvar Parmar

D

रघुवर परमार

Correct Ans : B

Subject : General Knowledge

Q.No: 12 Where can one find the standing Jain image/jpg of Digambar sect known as Naga Baba?
2441205

नागा बाबा के नाम से विख्यात दिगंबर संप्रदाय की खड़ी जैन प्रतिमा कहाँ मिल सकती है?

Neem Sarai

A

नीम सराई

Khari

B

खरी

Ghansor

C

घनसौर

Joga

D

जोगा

Correct Ans : C

Subject : General Knowledge

Q.No: 13 How many gateways does 'Mahastupa' have?
2441385

'महास्तूप' के कितने द्वार हैं?

3

A

3

B

4

4

5

C

5

7

D

7

Correct Ans : B

Subject : **General Knowledge**

Q.No: 14 Which of the following funds the Madhya Pradesh Rural Road Academy (MPRRA)?
2441505

निम्नलिखित में से कौन मध्यप्रदेश ग्रामीण सड़क अकादमी (MPRRA) को निधि देता है?

World Bank

A

विश्व बैंक

Asian Development Bank

B

एशियाई विकास बैंक

New Development Bank

C

न्यू डेवलपमेंट बैंक

IMF

D

आई.एम.एफ.

Correct Ans : B

Subject : **General Knowledge**

Q.No: 15 Who is the present Lokayukta of Madhya Pradesh?
2441752

मध्य प्रदेश के वर्तमान लोकायुक्त कौन हैं?

Justice N.K. Gupta

A

न्यायमूर्ति एन.के. गुप्ता

Justice U.C. Maheshwari

B

न्यायमूर्ति यू.सी. माहेश्वरी

Justice S.K. Paola

C

न्यायमूर्ति एस.के. पाओला

Justice Vishwanath Shetty

D

जस्टिस विश्वनाथ शेटी

Correct Ans : A

Subject : **General Knowledge**

Q.No: 16 Which of the following district of Madhya Pradesh has the lowest literacy as per Census 2011?
2441768

जनगणना 2011 के अनुसार मध्य प्रदेश के निम्नलिखित में से किस जिले में सबसे कम साक्षरता है?

Ratlam

A

रतलाम

Agar Malwa

B

आगर मालवा

C

Alirajpur

अलाराजपुर

Jhabua

D

झाबुआ

Correct Ans : C

Subject : **General Knowledge**

Q.No: 17 In which year did the Madhya Pradesh Government launch the 'Gandhi Darshan' scheme and the 'Van Mitra' portal for tribal welfare?
2441843

मध्य प्रदेश सरकार ने किस वर्ष आदिवासी कल्याण के लिए 'गांधी दर्शन' योजना और 'वन मित्र' पोर्टल लॉन्च किया था?

2014

A

2014

2016

B

2016

2018

C

2018

2019

D

2019

Correct Ans : D

Subject : **General Knowledge**

Q.No: 18 Who among the following is the currently serving Finance Minister of Madhya Pradesh?
2441844

निम्नलिखित में से कौन वर्तमान में मध्यप्रदेश के वित्त मंत्री हैं?

Mr. Jagdish Devda

A

श्री जगदीश देवड़ा

Dr. Manoj Govil

B

डॉ. मनोज गोविला

Lokesh Kumar Jatav

C

सी।लोकेश कुमार जाटव

Irene Cynthia

D

आइरीन सिंथिया

Correct Ans : A

Subject : **General Knowledge**

Q.No: 19 Ramanatyam is a dance form of which classical dance?
2442344

रामनाट्यम किस शास्त्रीय नृत्य का नृत्य रूप है?

Kathak

A

कथक

Manipuri

B

मणिपुरी

Kathakali

C

कथकली

Bharatnatyam

D

भरतनाट्यम

Correct Ans : C

Subject : **General Knowledge**

Q.No: 20 Who among the following established Shanti Niketan in the year 1921?
2442492

निम्नलिखित में से किसने वर्ष 1921 में शांति निकेतन की स्थापना की?

Ravindra Nath Tagore

A

रवींद्र नाथ टैगोर

Mahatma Gandhi

B

महात्मा गांधी

Jawaharlal Nehru

C

जवाहरलाल नेहरू

Subash Chandra Bose

D

सुभाष चंद्र बोस

Correct Ans : **A**

Subject : **General Knowledge**

Q.No: 21 What is reflection from a smooth surface like that of a mirror called?
2425785

दर्पण जैसे चिकने पृष्ठ से परावर्तन को क्या कहते हैं?

Lateral inversion

A

पार्श्व व्युत्क्रमण

Irregular reflection

B

अनियमित प्रतिबिंब

Refraction

C

अपवर्तन

Regular reflection

D

नियमित प्रतिबिंब

Correct Ans : **D**

Subject : **General Science**

Q.No: 22 Which of the following device is used to measure the fluid pressure?
2425822

द्रव दाब को मापने के लिए निम्न में से किस उपकरण का उपयोग किया जाता है?

Anemometer

A

एनीमोमीटर

Pyrometer

B

उष्णता के कारण वस्तुओं का प्रसार नापने का यंत्र

Manometer

C

दबाव नापने का यंत्र

Barometer

D

बैरोमीटर

Correct Ans : **C**

Subject : **General Science**

Q.No: 23 Which one of the following is not a characteristic feature of phyla coelenterates?
2428770

नम्रालाखत म स कान-सा एक फाड़ला सहसयता का आभलक्षणक लक्षण नहा ह?

tentacles

A

टेटैकल

two layered body wall to facilitate digestion

B

पाचन की सुविधा के लिए दो स्तरित शरीर की दीवार

hollow sac- like animals with a soft body and stinging cells.

C

खोखले थैली जैसे जानवर जिनका शरीर कोमल और चुभने वाली कोशिकाएं होती हैं।

flat body

D

सपाट शरीर

Correct Ans : D

Subject : General Science

Q.No: 24 _____ is the physical and biotic factors that are present in an area to support the survival and reproduction of a particular species.
2429135

_____ एक क्षेत्र में मौजूद भौतिक और जैविक कारक हैं जो किसी विशेष प्रजाति के अस्तित्व और प्रजनन का समर्थन करते हैं।

Artificial habitat

A

मानव निर्मित आवास

Man-made habitat

B

कृत्रिम आवास

Natural habitat

C

प्राकृतिक आवास

Nature

D

प्रकृति

Correct Ans : C

Subject : General Science

Q.No: 25 Which group of plants are termed vascular cryptogams?
2429837

पौधों के किस समूह को संवहनी क्रिप्टोगैम कहा जाता है?

pteridophytes

A

टेरिडोफाइट्स

angiosperm

B

एंजियोस्पर्म

gymnospermS

C

जिम्नोस्पर्म

thallophytes

D

थैलोफाइट्स

Correct Ans : B

Subject : General Science

Q.No: 26 The other name spirogyra is popularly called is -
2429893

स्पाइरोगाइरा को लोकप्रिय रूप से किस अन्य नाम से जाना जाता है?

pond silk

A

तालाब रेशम

B

pond scum

तालाब मैल

fairy ring

C

परी की अंगूठी

smuts

D

मैल

Correct Ans : A

Subject : General Science

Q.No: 27 Ferns is the member of -
2429898

फर्न किसका सदस्य है -

pteridophytes

A

टेरिडोफाइट्स

Gymnospermae

B

अनावृतबीजी वर्ग

cryptogams

C

अपुष्पी पादप

phanerogams

D

पुष्पोद्भिद्

Correct Ans : A

Subject : General Science

Q.No: 28 Observe the following figure given below. This organism belongs to which kingdom?
2429924



नीचे दिए गए चित्र को ध्यान से देखिए। यह जीव किस राज्य का है?



roundworm

A

गोलकृमि

flatworm

B

प्लैटवर्म

leech

C

जोंक

hydra

D

जलव्याल

Correct Ans : A

Subject : General Science

Q.No: 29 _____ energy, is a renewable source of energy.

2430178

_____ ऊर्जा, ऊर्जा का एक नवीकरणीय स्रोत है।

Radium

A

रेडियम

Uranium

B

यूरेनियम

Wind

C

वायू

Potassium

D

पोटेशियम

Correct Ans : C

Subject : General Science

Q.No: 30 Stretching a gold coin into a ring is a _____ change.

2430193

एक सोने के सिक्के को एक अंगूठी में खींचना एक _____ परिवर्तन है।

Endothermic

A

ऊष्माशोषी

Exothermic

B

ऊष्माक्षेपी

Physical change

C

शारीरिक परिवर्तन

Chemical change

D

रासायनिक परिवर्तन

Correct Ans : C

Subject : General Science

Q.No: 31 Yeast breaks starch into _____.

2431598

यीस्ट स्टार्च को _____ में तोड़ता है।

Snowflakes

A

बर्फ के टुकड़े

Caramel

B

कारमेल

Salt

C

नमक

Sugar

D

चीनी

Correct Ans : D

Subject : General Science

Q.No: 32 Who out of the following is associated with the discovery of radium?

2431674

निम्नलिखित में से कौन रेडियम की खोज से संबंधित है?

A

Marie Curie

मरा क्यूरा

William Kroll

B

विलियम क्रॉल

Fritz Hoffman

C

फ्रिट्ज़ हॉफमैन

Arnold O. Beckman

D

अर्नोल्ड ओ बेकमैन

Correct Ans : **A**

Subject : **General Science**

Q.No: 33 Which of the following is a non-communicable disease?
2434321

निम्नलिखित में से कौन एक गैर संचारी रोग है?

Common cold

A

सामान्य सर्दी

Hepatitis B

B

हेपेटाइटिस बी

Cholera

C

हैजा

Obesity

D

ओबेसिटी (मोटापा)

Correct Ans : **D**

Subject : **General Science**

Q.No: 34 Which of the following should NOT be done in first-aid if a person is suffering from nose-bleeds?
2434336

यदि किसी व्यक्ति की नाक से खून बह रहा हो तो निम्नलिखित में से कौन सा प्राथमिक उपचार नहीं करना चाहिए?

Place a cold compress over the nose of the person.

A

व्यक्ति की नाक पर एक ठंडा संपीड़न रखें।

Make the person lie down.

B

व्यक्ति को लेटाएं।

Ask the person to breathe through mouth.

C

व्यक्ति को मुंह से सांस लेने के लिए कहें।

Ask the person to relax.

D

व्यक्ति को आराम करने के लिए कहें।

Correct Ans : **B**

Subject : **General Science**

Q.No: 35 What is the pH value of urine?
2439959

मूत्र का पीएच मान कितना होता है?

15

A

15

6

B

6

C

20

20

1

D

1

Correct Ans : B

Subject : General Science

Q.No: 36 A is the brother of B. B is married to C. D is the mother of B. How is A related to D?

2422469

A, B का भाई है। B, C से विवाहित है। D, B की माता है। A, D से किस प्रकार संबंधित है?

Mother

A

मां

Brother

B

भाई

Son

C

बेटा

Father

D

पिता

Correct Ans : C

Subject : General Reasoning

Q.No: 37 In the following question, a series of letters is given. Some letters have been removed in these series, and they are in the options given below the series in the same order as they appear. Choose carefully out of the four alternatives given below, and find the one that best fits in place of the missing letter of the series.

2422659

a c _ c a b _ b a c a _ a b a _ a c a c

निम्नलिखित प्रश्न में अक्षरों की एक श्रृंखला दी गई है। इन श्रृंखलाओं में कुछ अक्षर हटा दिए गए हैं, और वे श्रृंखला के नीचे दिए गए विकल्पों में उसी क्रम में हैं जैसे उन्हें होना चाहिए। नीचे दिए गए चार विकल्पों में से दी गई श्रृंखला का पर वह विकल्प खोजें जो सबसे उपयुक्त हो।

a c _ c a b _ b a c a _ a b a _ a c a c

b b b c

A

b b b c

a a c b

B

a a c b

b a b b

C

b a b b

b c b b

D

b c b b

Correct Ans : B

Subject : General Reasoning

Q.No: 38 Select the option /number which is related to 3rd number in the same way as 2nd number is related to a 1st number?

2426403

9 : 80 :: 50 : ?

उस संख्या /विकल्प का चयन करें जो तीसरी संख्या से उसी प्रकार संबंधित है जैसे दूसरी संख्या पहली संख्या से संबंधित है।

9 : 80 :: 50 : ?

A

124

124

624

B

624

2499

C

2499

3199

D

3199

Correct Ans : C

Subject : General Reasoning

Q.No: 39 Select the option /number which is related to 3rd number in the same way as 2nd number is related to a 1st number?

2426419

5 : 7 :: 13 : ?

उस संख्या /विकल्प का चयन करें जो तीसरी संख्या से उसी प्रकार संबंधित है जैसे दूसरी संख्या पहली संख्या से संबंधित है ।

5 : 7 :: 13 : ?

17

A

17

19

B

19

21

C

21

23

D

23

Correct Ans : A

Subject : General Reasoning

Q.No: 40 Select the Lettered pair that has the same relationship as given in the questions:

2426812

Evaporation : Cloud ?

उस अक्षर युग्म का चयन करें जिसका संबंध प्रश्नों में दिए गए समान संबंध से है:

वाष्पीकरण : बादल ?

Mountain : Snow

A

पर्वत : हिम

Pressure : Atmosphere

B

दबाव : वातावरण

Book : Pages

C

किताब : पन्ने

Tension : Breakdown

D

तनाव : टूटना

Correct Ans : D

Subject : General Reasoning

Q.No: 41 Find the missing term in the following series.

2428323

XDA4, WED7, VFG12, UGJ19, THM28, ?

निम्नलिखित श्रृंखला में लुप्त पद ज्ञात कीजिए।

XDA4, WED7, VFG12, UGJ19, THM28, ?

PLO36

A

PLO36

SIP39

B

SIP39

QKN41

C

QKN41

MNO43

D

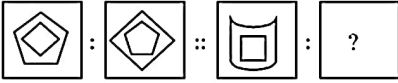
MNO43

Correct Ans : B

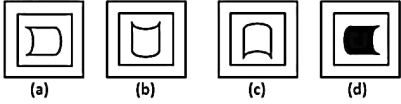
Subject : General Reasoning

Q.No: 42 Select the option that is related to the third figure in the same way that the second figure is related to the first figure.
2433467

Problem Figures

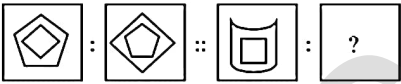


Answer Figures

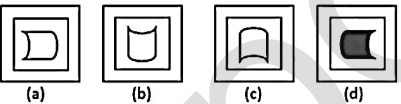


उस विकल्प का चयन करें जो तीसरी आकृति से उसी प्रकार संबंधित है जिस प्रकार दूसरी आकृति, पहली आकृति से संबंधित है।

प्रश्न आकृति :



उत्तर आकृति :



(a)

A

(a)

(b)

B

(b)

(c)

C

(c)

(d)

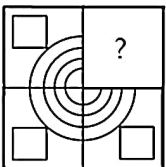
D

(d)

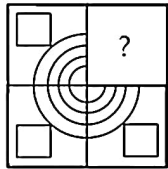
Correct Ans : B

Subject : General Reasoning

Q.No: 43 Identify the figure that completes the pattern.
2433501



उस आकृत का पहचान कर जा पटन का पूरा करता ह।



A



B



C



D



Correct Ans : A

Subject : General Reasoning

Q.No: 44 Three of the following four letter clusters are alike in a certain way and one is different. Find the odd one out.
2435015

निम्नलिखित चार अक्षर समूहों में से तीन एक निश्चित तरीके से समान हैं और एक अलग है। विषम चुनें।

BY

A

BY

DW

B

DW

FV

C

FV

GT

D

GT

Correct Ans : C

Subject : General Reasoning

Q.No: 45 In the following question, select the odd number from the given alternatives.
2435042

निम्नलिखित प्रश्न में दिए गए विकल्पों में से विषम संख्या का चयन कीजिए।

A ---

125

343

B

343

121

C

121

216

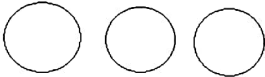
D

216

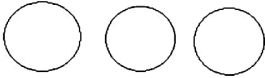
Correct Ans : C

Subject : General Reasoning

Q.No: 46 Identify the class that best represents the Venn-diagram.
2435585



उस वर्ग की पहचान करें जो वेन-आरेख का सबसे अच्छा प्रतिनिधित्व करता है।



Men, Fathers, Engineer

A

पुरुष, पिता, इंजीनियर

Scale, sharpener, eraser

B

स्केल, शार्पेनर, इरेज़र

Computer, Keyword, Pen

C

कंप्यूटर, कीवर्ड, पेन

Class, blackboard, School

D

कक्षा, ब्लैकबोर्ड, स्कूल

Correct Ans : B

Subject : General Reasoning

Q.No: 47 Identify the diagram that best represents the relationship among the given classes.
2435701

Motherboard, RAM, ROM

उस आरेख की पहचान करें जो दिए गए श्रेणियों के बीच संबंध का सबसे अच्छा प्रतिनिधित्व करता है।

मदरबोर्ड, रैम, रोम

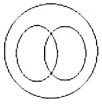


A

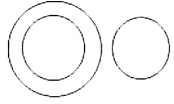
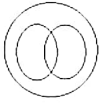


B

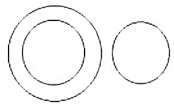




C



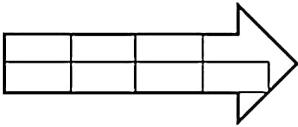
D



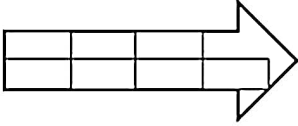
Correct Ans : A

Subject : General Reasoning

Q.No: 48 Find the number of rectangles in the given figure.
2438091



दी गई आकृति में आयतों की संख्या ज्ञात कीजिए।



18

A

18

17

B

17

19

C

19

20

D

20

Correct Ans : C

Subject : General Reasoning

Q.No: 49 Mr. Kale travels 5 km towards west, turns left and travels 3 km and then travels another 5 km towards south. He then turns right and travels 1 km to reach a church. How far is the church from his starting point?
2438473

श्री काले 5 किमी पश्चिम की ओर यात्रा करते हैं, बाएं मुड़ते हैं और 3 किमी की यात्रा करते हैं और फिर दक्षिण की ओर 5 किमी की यात्रा करते हैं। फिर वह दायें मुड़ता है और एक चर्च तक पहुँचने के लिए 1 किमी की यात्रा करता है।

8

A

8

10

B

10

C

12

12

14

D

14

Correct Ans : B

Subject : General Reasoning

Q.No: 50 One evening Prajay and Pranav are sitting in a park. Prajays shadow is falling on Pranav, then which direction is Prajay facing?
2438520

एक शाम प्रजय और प्रणव एक पार्क में बैठे हैं। प्रणव पर प्रजय की छाया पड़ रही है, तो प्रजय का मुख किस दिशा में है?

South

A

दक्षिण

East

B

पूर्व

West

C

पश्चिम

Cannot be determined

D

निर्धारित नहीं किया जा सकता

Correct Ans : D

Subject : General Reasoning

Q.No: 51 Given question has main statement followed by four statements. Choose the ordered pair of statements, where the first statement implies the second, and the two statements
2440230 statement.

If he criticizes the government, he will be trolled on twitter.

A. he criticized the government

B. he did not criticize the government

C. he was trolled on twitter

D. he was not trolled on twitter

दिए गए प्रश्न में मुख्य कथन और उसके बाद चार कथन हैं। कथनों का क्रमित युग्म चुनें, जहाँ पहले कथन का तात्पर्य दूसरे कथन से है, और दो कथन तार्किक रूप से मुख्य कथन से संगत हैं।

अगर वह सरकार की आलोचना करते हैं, तो उन्हें ट्विटर पर ट्रोल किया जाएगा।

A. उन्होंने सरकार की आलोचना की

B. उन्होंने सरकार की आलोचना नहीं की

C. उन्हें ट्विटर पर ट्रोल किया गया था

D. उन्हें ट्विटर पर ट्रोल नहीं किया गया था

BD

A

BD

BC

B

BC

DA

C

DA

DB

D

DB

Correct Ans : D

Subject : General Reasoning

Q.No: 52 Given question has main statement followed by four statements. Choose the ordered pair of statements, where the first statement implies the second, and the two statements
2440288 statement.

If you take a loan, you will have to pay EMI.

- A. you took a loan
- B. you paid EMI.
- C. you did not take a loan
- D. you did not pay EMI.

दिए गए प्रश्न में मुख्य कथन और उसके बाद चार कथन हैं। कथनों का क्रमित युग्म चुनें, जहाँ पहले कथन का तात्पर्य दूसरे कथन से है, और दो कथन तार्किक रूप से मुख्य कथन से संगत हैं।
अगर आप कर्ज लेते हैं तो आपको ईएमआई देनी होगी।

- A. आपने कर्ज लिया
- B. आपने ईएमआई का भुगतान किया।
- C. आपने कर्ज नहीं लिया
- D. आपने ईएमआई का भुगतान नहीं किया

BC

A

BC

BA

B

BA

DA

C

DA

DC

D

DC

Correct Ans : D

Subject : **General Reasoning**

Q.No: 53 Given question has main statement followed by four statements. Choose the ordered pair of statements, where the first statement implies the second, and the two statements
2440344 statement.

She either wakes up late or early.

- A. She woke up late
- B. She did not wake up late
- C. She woke up early
- D. She did not wake up early

दिए गए प्रश्न में मुख्य कथन और उसके बाद चार कथन हैं। कथनों का क्रमित युग्म चुनें, जहाँ पहले कथन का तात्पर्य दूसरे कथन से है, और दो कथन तार्किक रूप से मुख्य कथन से संगत हैं।
वह या तो देर से उठती है या जल्दी।

- A. वह देर से उठी
- B. वह देर से नहीं उठी
- C. वह जल्दी उठ गई
- D. वह जल्दी नहीं उठी

CD

A

CD

DA

B

DA

CA

C

CA

AB

D

AB

Correct Ans : B

Subject : **General Reasoning**

Q.No: 54 Select the option that is related to the third term in the same way as the second term is related to the first term.
2441945

BUJQ : FYNU :: SCIP : ?

उस विकल्प का चयन करें जो तीसरे पद से उसी प्रकार संबंधित है जिस प्रकार दूसरा पद पहले पद से संबंधित है।

BUJQ : FYNU :: SCIP : ?

WGNT

A

WGNT

WGMT

B

WGMT

WGLT

C

WGLT

WGMU

D

WGMU

Correct Ans : B

Subject : General Reasoning

Q.No: 55 Find the related word from the given alternatives.
2442008

Uncle : Relative

दिए गए विकल्पों से संबंधित शब्द का चयन करें।

चाचा : रिश्तेदार

Judge : Lawyer

A

जज : वकील

B

Spring : Season

वसंत : ऋतु

C

Father : Mother

माता: पिता

D

Brother : Sister

भाई: बहन

Correct Ans : B

Subject : General Reasoning

Q.No: 56 Simplify: $\frac{62}{8} - \left\{ \frac{3}{7} + \left(\frac{7}{3} \div \frac{21}{6} \right) \right\}$
2422423

सरल कीजिए: $\frac{62}{8} - \left\{ \frac{3}{7} + \left(\frac{7}{3} \div \frac{21}{6} \right) \right\}$

$\frac{1118}{168}$

A

$\frac{1118}{168}$

$\frac{34}{5}$

B

$\frac{34}{5}$

$\frac{376}{7}$

C

$\frac{376}{7}$

D

$\frac{112}{5}$

$$\frac{112}{5}$$

Correct Ans : A

Subject : General Maths

Q.No: 57 Find the amount of Rs.12900 for 18 months at 16% per annum, the interest being compounded semi-annually.
2423634

12900 रुपये को 18 महीने के लिए 16% प्रति वर्ष की दर से, जो अर्ध-वार्षिक देय हैं, निवेश किया जाता है। प्राप्त राशि क्या होगी।

Rs.2587.2365

A

Rs.2587.2365

Rs.9870.6518

B

Rs.9870.6518

Rs.2345.8761

C

Rs.2345.8761

Rs.16250.2848

D

Rs.16250.2848

Correct Ans : D

Subject : General Maths

Q.No: 58 The present population of a town is 123500. If it increases at the rate of 12% per annum, what will be its population after 2 years?
2423660

एक कस्बे की वर्तमान जनसंख्या 123500 है। यदि यह 12% प्रति वर्ष की दर से बढ़ती है, तो 2 वर्ष बाद इसकी जनसंख्या क्या होगी?

3456.71

A

3456.71

154918.4

B

154918.4

45987.5

C

45987.5

71256.6

D

71256.6

Correct Ans : B

Subject : General Maths

Q.No: 59 At what rate percent compound interest per annum will Rs. 3240 amount to Rs. 4000 in 2 years?
2423672

किस दर पर प्रतिशत चक्रवृद्धि ब्याज प्रतिवर्ष रु. 3240 राशि से रु. 2 साल में 4000?

11.36%

A

11.36%

11.11%

B

11.11%

11.40%

C

11.40%

11%

D

11%

Correct Ans : B

Subject : General Maths

Q.No: 60 Solve:
2428559

$$3 + 4 \times 10 - 25 - (5 \times 20 \div 5)$$

हल करें:

$$3 + 4 \times 10 - 25 - (5 \times 20 \div 5)$$

0

A

0

-2

B

-2

2

C

2

6

D

6

Correct Ans : B

Subject : General Maths

Q.No: 61 Solve:
2428640

$$\{39.6 \div 6 + 4.9 \times 2.9 - 10.26 \text{ of } 7 + [41.4 \div 2 + 33.31 \text{ of } 2.5 - 899.8 \div 4 + (100.1 \text{ of } 48.7 - 80.57 \text{ of } 68.96)]\}$$

हल करें:

$$\{39.6 \div 6 + 4.9 \times 2.9 - 7 \text{ का } 10.26 + [41.4 \div 2 + 2.5 \text{ का } 33.31 - 899.8 \div 4 + (48.7 \text{ का } 100.1 - 68.96 \text{ का } 80.57)]\}$$

-850.2222

A

-850.2222

-455.2222

B

-455.2222

-897.2222

C

-897.2222

-853.2222

D

-853.2222

Correct Ans : D

Subject : General Maths

Q.No: 62 Express the following ratio in the simplest form.
2429420

$$225 : 750 : 1575$$

अनुपात को सरलतम रूप में व्यक्त करें:

$$225 : 750 : 1575$$

6 : 7 : 32

A

6 : 7 : 32

3 : 10 : 21

B

3 : 10 : 21

5 : 7 : 45

C

5 : 7 : 45

D

7 : 5 : 10

7 : 5 : 10

Correct Ans : B

Subject : General Maths

Q.No: 63 The average of runs of a cricket player of 10 innings was 32. How many runs must he make in his next innings so as to increase his average of runs by 4?
2432540

एक क्रिकेट खिलाड़ी के 10 पारियों के रनों का औसत 32 था। उसे अपनी अगली पारी में कितने रन बनाने चाहिए ताकि उसके रनों का औसत 4 बढ़ जाए?

76

A

76

78

B

78

80

C

80

75

D

75

Correct Ans : A

Subject : General Maths

Q.No: 64 The average of first 19 multiples of 12 is
2432560

12 के पहले 19 गुणकों का औसत है

110

A

110

110.5

B

110.5

120

C

120

220

D

220

Correct Ans : C

Subject : General Maths

Q.No: 65 What should come in place of question mark in the following number series?
2433108

$$8\frac{3}{13} + \frac{7}{13} + 7\frac{3}{26} = ?$$

निम्नलिखित संख्या-श्रृंखला में प्रश्नचिह्न (?) के स्थान पर क्या आना चाहिए?

$$8\frac{3}{13} + \frac{7}{13} + 7\frac{3}{26} = ?$$

$14\frac{23}{26}$

A

$14\frac{23}{26}$

$16\frac{25}{26}$

B

$16\frac{25}{26}$

C

$16\frac{23}{26}$

$$16\frac{23}{26}$$

$$14\frac{25}{26}$$

D

$$14\frac{25}{26}$$

Correct Ans : C

Subject : General Maths

Q.No: 66 The average of five consecutive numbers is 9. Then find the middle number.
2433859

पाँच क्रमागत संख्याओं का औसत 9 है। तो बीच की संख्या ज्ञात कीजिए।

10

A

10

9

B

9

11

C

11

12

D

12

Correct Ans : B

Subject : General Maths

Q.No: 67
2434759 If $a - \frac{1}{a} = b$; $b - \frac{1}{b} = c$ and $c - \frac{1}{c} = a$. Then find the value of: $\frac{1}{ab} + \frac{1}{bc} + \frac{1}{ca}$

यदि $a - \frac{1}{a} = b$; $b - \frac{1}{b} = c$ और $c - \frac{1}{c} = a$ है, तो $\frac{1}{ab} + \frac{1}{bc} + \frac{1}{ca}$ का मान ज्ञात करें।

0

A

0

-3

B

-3

3

C

3

1

D

1

Correct Ans : B

Subject : General Maths

Q.No: 68 The marked price of a motorcycle is Rs. 70,560, which is 12% above the cost price. If this motorcycle is sold at 5% discount, then the percentage of profit earned is
2435256

एक मोटरसाइकिल की चिह्नित कीमत रुपये 70,560 है, जो लागत मूल्य से 12% अधिक है। यदि यह मोटरसाइकिल 5% छूट पर बेची जाती है, तो अर्जित लाभ का प्रतिशत है?

4.8%

A

4.8%

6.4%

B

6.4%

C

10.5%

10.5%

12.2%

D

12.2%

Correct Ans : B

Subject : General Maths

Q.No: 69 A purse has Rs. 80 in the form of Rs. 2, Rs. 1, 50 Paise and 10 Paise coins in the ratio of 2:3:5:5, find the total number of coins.
2435445

एक पर्स में 80 रुपये 2 रुपये, 1 रुपये, 50 पैसे और 10 पैसे के सिक्कों के रूप में 2:3:5:5 के अनुपात में हैं, तो सिक्कों की कुल संख्या ज्ञात करें।

105 coins

A

105 सिक्के

120 coins

B

120 सिक्के

135 coins

C

135 सिक्के

150 coins

D

150 सिक्के

Correct Ans : B

Subject : General Maths

Q.No: 70 Find the number of degree in one and one third of right angles.
2437513

एक में डिग्री और समकोण के एक तिहाई की संख्या ज्ञात करें।

90°

A

90°

120°

B

120°

160°

C

160°

180°

D

180°

Correct Ans : B

Subject : General Maths

Q.No: 71 If in a certain code, GARIMA is written as 725432 and TINA as 6482. How is MARTINA written is that code?
2426498

यदि एक निश्चित कूट भाषा में GARIMA को 725432 और TINA को 6482 लिखा जाता है। उस कूट में MARTINA को कैसे लिखा जाता है?

3256482

A

3256482

3265842

B

3265842

3645862

C

3645862

D

3658426

3658426

Correct Ans : A

Subject : Mental Ability

Q.No: 72 In a code language, MUSICAL is written as XQREQWH. How will REPLACE be written as in that language?
2434449

एक कूट भाषा में, MUSICAL को XQREQWH के रूप में लिखा जाता है। तो उसी भाषा में REPLACE को कैसे लिखा जाएगा?

UAWHIYF

A

UAWHIYF

WAUHJYF

B

WAUHJYF

WAUHFYJ

C

WAUHFYJ

UAVHFYJ

D

UAVHFYJ

Correct Ans : A

Subject : Mental Ability

Q.No: 73 If 374 is coded as 62116, 145 is coded as 21220, then 743 is coded as
2434939

यदि 374 को 62116 के रूप में, 145 को 21220 के रूप में कूटबद्ध किया जाता है, तो 743 को कैसे कूटबद्ध किया जाएगा-

21169

A

21169

141212

B

141212

141612

C

141612

21129

D

21129

Correct Ans : B

Subject : Mental Ability

Q.No: 74 In a code language, LIFE is written as 11731, then in that code language, how NICE may be written?
2434963

एक कूट भाषा में, LIFE को 11731 के रूप में लिखा जाता है, तो उसी कूट भाषा में, NICE को कैसे लिखा जा सकता है?

13156

A

13156

13701

B

13701

24501

C

24501

15601

D

15601

Correct Ans : B

Subject : Mental Ability

Q.No: 75

2435504 Two statements are given followed by three conclusions numbered I, II and III. Assuming the statements to be true, even if they seem to be at variance with commonly known logically follow(s) from the statements.

Statements :

All Labours are Workers.

All Workers are Agents.

Conclusions :

I. Some agents are workers.

II. Some agents are labours..

III. All workers are labours.

दो कथनों के बाद तीन निष्कर्ष संख्या I, II और III दिए गए हैं। दिए गए कथनों को सत्य मानते हुए, भले ही वे आम तौर पर ज्ञात तथ्यों के साथ विचरण करते हों, यह निर्णय लें कि निम्न में से कौन सा निष्कर्ष दिए गए कथनों का ता कथन :

सभी मजदूर, कर्मचारी हैं

सभी कर्मचारी, प्रतिनिधि हैं

निष्कर्ष :

I. कुछ प्रतिनिधि, कर्मचारी हैं

II. कुछ प्रतिनिधि, मजदूर हैं

III. सभी कर्मचारी, मजदूर हैं

Only conclusion II and III follow

A

केवल निष्कर्ष II और III अनुसरण करते हैं

Only conclusion I and II follow

B

केवल निष्कर्ष I और II अनुसरण करते हैं

Only conclusion I and III follow

C

केवल निष्कर्ष I और III अनुसरण करते हैं

All the conclusions I, II and III follow

D

सभी निष्कर्ष I, II और III अनुसरण करते हैं

Correct Ans : B

Subject : Mental Ability

Q.No: 76 In question below are three statements followed by three conclusions numbered I, II and III. You have to take the given statements to be true even if they seem to be at variance with commonly known logically follows from the given statements.

Statements:

I. Some cycles are tiles.

II. All tiles are marbles.

III. All marbles are pens.

Conclusions:

I. All pens are tiles.

II. All marbles are cycles.

III. Some cycles are pens.

नीचे दिए गए प्रश्न में तीन कथन और उसके बाद तीन निष्कर्ष I, II और III दिए गए हैं। आपको दिए गए कथनों को सत्य मानना है, चाहे वे सामान्यतः ज्ञात तथ्यों से भिन्न प्रतीत होता है, आपको निर्णय करना है कि दिए गए कथनों में कथन:

I. कुछ साइकिल टाइल्स हैं।

II. सभी टाइल्स मार्बल्स हैं।

III. सभी मार्बल्स पेन हैं।

निष्कर्ष:

I. सभी पेन टाइल्स हैं।

II. सभी मार्बल्स साइकिल हैं।

III. कुछ साइकिल पेन हैं।

Either conclusion I or III follows.

A

या तो निष्कर्ष I या III अनुसरण करता है।

B

Neither conclusion I nor II follows.

न तो निष्कर्ष I और न ही II अनुसरण करता है।

Only conclusion III follows.

C

केवल निष्कर्ष III अनुसरण करता है।

Both conclusions I and II follows.

D

दोनों निष्कर्ष I और II अनुसरण करते हैं।

Correct Ans : C

Subject : **Mental Ability**

Q.No: 77 What is the least number of cuts required to form exactly 240 identical pieces from a cube?
2438440

एक घन से ठीक 240 समान टुकड़े बनाने के लिए आवश्यक कटों की न्यूनतम संभव क्या है?

239

A

239

16

B

16

24

C

24

19

D

19

Correct Ans : B

Subject : **Mental Ability**

Q.No: 78 In the question given below, three statements are given followed by two conclusions I and II. You have to consider the statements to be true even they seem to be at variance
2439104 decide which of the given conclusions, if any follow from the given statements.

Statements:

Some animal are children.

No children are men.

All men are females.

Conclusions:

I. Some animal are females.

II. Some men are not animal.

नीचे दिए गए प्रश्न में तीन कथन तथा उसके पश्चात दो निष्कर्ष I तथा II दिए गए हैं। आपको दिए गये कथन को सत्य मानना है, भले ही वह सर्वज्ञात तथ्यों से भिन्न प्रतीत होते हों तथा कथनों के आधार पर आपको अपना उत्तर देना है।

कथन:

कुछ पशु बच्चे हैं।

कोई बच्चे पुरुष नहीं हैं।

सभी पुरुष मादा हैं।

निष्कर्ष:

I. कुछ पशु मादा हैं।

II. कुछ पुरुष पशु नहीं हैं।

Neither conclusion I nor II follows

A

न तो निष्कर्ष I और न ही II अनुसरण करता है।

Both conclusion I and II follow

B

निष्कर्ष I और II दोनों अनुसरण करते हैं।

Only conclusion I follows

C

केवल निष्कर्ष I अनुसरण करता है।

D

Only conclusion II follows

कवल ङनषष II अनुसरण करता ह।

Correct Ans : A

Subject : Mental Ability

Q.No: 79 If 'clock' is called 'television', 'television' is called 'radio', radio is called 'oven', 'oven' is called 'grinder' and 'grinder' is called 'iron', in what will a lady bake?
2439287

यदि 'घड़ी' को 'टेलीविजन', 'टेलीविजन' को 'रेडियो', 'रेडियो' को 'ओवन', 'ओवन' को 'ग्राइंडर' और 'ग्राइंडर' को 'लोहा' कहा जाए, तो एक महिला किसमें सेंकेगी?

Radio

A

रेडियो

Oven

B

ओवन

Grinder

C

ग्राइंडर

Iron

D

लोहा

Correct Ans : C

Subject : Mental Ability

Q.No: 80 Five horses Lucky, Blazer, Blacksmith, Diesel and Franklin are stand in row for a race in North direction. Lucky is right side of Blazer and left side of Blacksmith. Franklin is in the middle of Diesel. Which horse is in the middle?
2439547

उत्तर दिशा में दौड़ के लिए पांच घोड़े लकी, ब्लेज़र, ब्लैकस्मिथ, डीज़ल और फ्रैंकलिन कतार में खड़े हैं। लकी ब्लेज़र के दाईं ओर और ब्लैकस्मिथ के बाईं ओर है। फ्रैंकलिन लकी के दाईं ओर है। ब्लेज़र डीज़ल के दाईं ओर है। बीच में

Franklin

A

फ्रैंकलिन

Lucky

B

लकी

Blazer

C

ब्लेज़र

Diesel

D

डीज़ल

Correct Ans : B

Subject : Mental Ability

Q.No: 81 If in a certain code language 'BEAUTIFUL' is coded as '573041208' and 'BUTTER' is coded as '504479'; then how will 'FUTURE' be coded in that language?
2442182

यदि एक निश्चित कोड भाषा में 'BEAUTIFUL' को '573041208', 'BUTTER' को '504479' लिखा जाता है, तो 'FUTURE' को उस भाषा में कैसे लिखा जाएगा?

204097

A

204097

201497

B

201497

704092

C

704092

204079

D

204079

Correct Ans : A

Subject : Mental Ability

Q.No: 82 If M = 13 and MAD = 52, then MOOD = ?
2442211

यदि M = 13 और MAD = 52, तो MOOD = ?

11700

A

11700

10181

B

10181

12500

C

12500

95000

D

95000

Correct Ans : A

Subject : Mental Ability

Q.No: 83 From the given alternative words, select the word which cannot be formed using the letters of the given word.
2442793

DYNAMISM

दिए गए वैकल्पिक शब्दों में से वह शब्द चुनिए जो दिए गए शब्द के अक्षरों का प्रयोग करके नहीं बनाया जा सकता।

DYNAMISM

Mansed

A

Mansed

Dyan

B

Dyan

Yands

C

Yands

Dynisma

D

Dynisma

Correct Ans : A

Subject : Mental Ability

Q.No: 84 Which one word can be formed from the following letters ?
2442863

b s r e c n u o

निम्नलिखित अक्षरों से कौन सा एक शब्द बनाया जा सकता है?

b s r e c n u o

trowser

A

trowser

bouncers

B

bouncers

browser

C

browser

powder

D

powder

Correct Ans : B

Subject : Mental Ability

Q.No: 85 From the given alternative words, select the word which cannot be formed using the letters of the given word.

2443003

ANNOUNCEMENTS

निम्नलिखित विकल्पों में से वह शब्द चुनिए जो दिए गए शब्द के अक्षरों के प्रयोग से नहीं बनाया जा सकता।

ANNOUNCEMENTS

Cement

A

Cement

Noun

B

Noun

Counter

C

Counter

Tense

D

Tense

Correct Ans : C

Subject : **Mental Ability**

Q.No: 86 A and B can do a piece of work in 12 days; B and C in 17 days and A and C in 20 days. In what time can they do it, all working together?

2423763

A और B एक कार्य को 12 दिनों में कर सकते हैं; 17 दिनों में B और C और 20 दिनों में A और C. वे सभी एक साथ काम करते हुए इसे कितने समय में कर सकते हैं?

87/2 days

A

87/2 दिन

869/55 days

B

869/55 दिन

510/49 days

C

510/49 दिन

982/31 days

D

982/31 दिन

Correct Ans : C

Subject : **General Aptitude**

Q.No: 87 If one side of a square is 7 cm then, find its area.

2426191

यदि एक वर्ग की एक भुजा 7 सेमी है, तो उसका क्षेत्रफल ज्ञात कीजिए।

28 cm²

A

28 सेमी²

49 cm²

B

49 सेमी²

59 cm²

C

59 सेमी²

65 cm²

D

65 सेमी²

Correct Ans : B

Subject : **General Aptitude**

Q.No: 88 Find the parallelogram's base if area is 480 cm^2 and height is 16 cm .
2426212

यदि क्षेत्र 480 सेमी^2 है और ऊंचाई 16 सेमी है तो समानांतर का आधार ढूँढें।

30 cm

A

30 सेंटीमीटर

50 cm

B

50 सेंटीमीटर

64 cm

C

64 सेंटीमीटर

45 cm

D

45 सेंटीमीटर

Correct Ans : A

Subject : General Aptitude

Q.No: 89 Calculate the cuboid's surface area if length is 6 cm , breadth is 8 cm and height is 12 cm .
2426216

क्यूबोइड के सतह क्षेत्र की गणना करें यदि लंबाई 6 सेमी है, तो चौड़ाई 8 सेमी है और ऊंचाई 12 सेमी है।

230 cm^2

A

230 सेमी^2

330 cm^2

B

330 सेमी^2

432 cm^2

C

432 सेमी^2

150 cm^2

D

150 सेमी^2

Correct Ans : C

Subject : General Aptitude

Q.No: 90 Which of the following is divisible by 10?
2427610

निम्नलिखित में से कौन 10 से विभाज्य है?

76456896430

A

76456896430

87543225891

B

87543225891

78865431368

C

78865431368

9874421346

D

9874421346

Correct Ans : A

Subject : General Aptitude

Q.No: 91 Which of the following is divisible by 6?
2427623

नम्रालाखत म स कान 6 स विभाज्य ह?

8764678999865

A

8764678999865

468965321578005

B

468965321578005

585689963123062

C

585689963123062

765415788532159743950

D

765415788532159743950

Correct Ans : C

Subject : General Aptitude

Q.No: 92 266421687416A is divisible by 16 find the value of A?
2427676

266421687416A, 16 से विभाज्य है A का मान ज्ञात कीजिए।

2

A

2

6

B

6

10

C

10

12

D

12

Correct Ans : C

Subject : General Aptitude

Q.No: 93 How many pair(s) of x and y satisfy the equations $4x + 6y = 16$ and $6x + 9y = 24$?
2431202

x और y के कितने युग्म $4x + 6y = 16$ तथा $6x + 9y = 24$ को संतुष्ट करते हैं?

0

A

0

1

B

1

∞

C

∞

2

D

2

Correct Ans : C

Subject : General Aptitude

Q.No: 94 The sum of a two-digit number and its reverse is k times the sum of its digits. Find the value of k.
2431205

एक दो अंकों की संख्या और उसके विपरीत का योग उसके अंकों के योग का k गुना होता है। k का मान ज्ञात कीजिए।

9

A

9

B 10

10

11

C

11

3

D

3

Correct Ans : C

Subject : General Aptitude

Q.No: 95 Each interior angle of a regular polygon is twice its exterior angle then the number of sides of the regular polygon is:
2431346

एक नियमित बहुभुज की प्रत्येक आंतरिक कोण इसके बाहरी कोण की दोगुनी है, तो नियमित बहुभुज की भुजाओं की संख्या है:

A 9
9

B 8
8

C 10
10

D 6
6

Correct Ans : D

Subject : General Aptitude

Q.No: 96 A cone block of slant height 10 cm and radius 7 cm is surmounted by a cube. Find the cost of painting the total surface area of the solid so formed, at the rate of 5 per sq. cr
2433790

10 सेमी तिरछी ऊँचाई और 7 सेमी त्रिज्या वाले शंकु के गुटके पर एक घन लगा हुआ है। इस प्रकार बने ठोस के कुल पृष्ठीय क्षेत्रफल को 5 प्रति वर्ग सेमी की दर से रंगने की लागत ज्ञात कीजिए।

3600

A

3600

3650

B

3650

4000

C

4000

4200

D

4200

Correct Ans : A

Subject : General Aptitude

Q.No: 97 The length of a field is $\frac{1}{4}$ th of its breath. If its area is 3000 sq. meters, then the breath of the field is-
2433810

एक खेत की लंबाई उसकी चौड़ाई का $\frac{1}{4}$ है। यदि इसका क्षेत्रफल 3000 वर्ग मीटर है, तो मैदान की चौड़ाई क्या है-

80 meters

A

80 मीटर

94.8 meters

B

94.8 मीटर

85 meters

C

85 मीटर

70 meters

D

70 मीटर

Correct Ans : B

Subject : General Aptitude

Q.No: 98 A and B can together do a piece of work in 6 days and A alone can do it in 9 days. The number of days that B will take to do it alone is –
2436092

A और B मिलकर एक काम को 6 दिन में पूरा कर सकते हैं और A अकेला उसे 9 दिन में कर सकता है। B को अकेले उसी काम को करने में लिए गए दिनों की संख्या है -

18 days

A

18 दिन

24 days

B

24 दिन

9 days

C

9 दिन

12 days

D

12 दिन

Correct Ans : A

Subject : General Aptitude

Q.No: 99 The ratio of ages of two family member is 6 : 11 and the age of one of them is greater than the other by 35 years. The sum of their ages in year is:
2436894

परिवार के दो सदस्यों की आयु का अनुपात 6:11 है तथा उनमें से एक की आयु 35 वर्ष से अधिक है। वर्ष में उनकी आयु का योग ज्ञात करें।

65 years

A

65 वर्ष

102 years

B

102 वर्ष

119 years

C

119 वर्ष

87 years

D

87 वर्ष

Correct Ans : C

Subject : General Aptitude

Q.No: 100 What should come in place of question Mark '?' in the following number series?
2444754

95, 126.5, 138, 175.5, 189, 232.5, _____

निम्नलिखित संख्या श्रृंखला में प्रश्न चिन्ह '?' के स्थान पर क्या आएगा?

95, 126.5, 138, 175.5, 189, 232.5, _____

256

A

256

272

B

272

247.5

C

247.5

248

D

248

Correct Ans : D

Subject : General Aptitude

mpcareer.in