

# **MP Police Constable**

Previous Year Paper  
28 Jan 2022 Shift 1

---

Print

Testdate 28 Jan 2022  
TestSlot Shift 1

Submit

Q.No: 1 The primacy of fiscal policy was not challenged in which of the following given below?  
2428972

निम्नलिखित में से किसमें राजकोषीय नीति की प्रधानता को चुनौती नहीं दी गई?

mounting inflationary pressures in the United States (US)

A

संयुक्त राज्य अमेरिका (यूएस) में बढ़ते मुद्रास्फीति के दबाव

Second World War

B

द्वितीय विश्व युद्ध

the breakdown of the Bretton Woods Agreement

C

ब्रेटन वुड्स समझौते का टूटना

The OPEC oil shock of 1973

D

1973 का ओपेक तेल झटका

Correct Ans : B

Subject : General Knowledge

Q.No: 2 Nuakhai is a crop festival celebrated by the people of \_\_\_\_\_ in the month of \_\_\_\_\_.  
2431028

नुआखाई \_\_\_\_\_ के महीने में \_\_\_\_\_ के लोगों द्वारा मनाया जाने वाला एक फसल उत्सव है।

Odisha, August

A

उड़ीसा, अगस्त

Telangana, August

B

तेलंगाना, अगस्त

West Bengal, July

C

पश्चिम बंगाल, जुलाई

Rajasthan, July

D

राजस्थान, जुलाई

Correct Ans : A

Subject : General Knowledge

Q.No: 3 The first Satyagraha movement of India was-  
2432433

भारत का पहला सत्याग्रह आंदोलन ----- था।

Khilafat Movement

A

खिलाफत आंदोलन

Kheda

B

खेड़ा

Champaran

C

चंपारण

D

Quit India

भारत छोड़ो

Correct Ans : C

Subject : General Knowledge

Q.No: 4 During Dandi March, how many days take place to reach Dandi from Sabarmati Ashram?  
2432449

दांडी मार्च के दौरान साबरमती आश्रम से दांडी पहुँचने में कितने दिन लगते हैं ?

20 days

A

20 दिन

21 days

B

21 दिन

24 days

C

24 दिन

23 days

D

23 दिन

Correct Ans : C

Subject : General Knowledge

Q.No: 5 Which is not included in GDP?  
2434485

जीडीपी में किसे शामिल नहीं किया जाता ?

Agricultural production

A

कृषि उत्पादन

Computer manufacturing

B

कंप्यूटर निर्माण

Used vehicle sales

C

पुराने वाहन की बिक्री

Vehicle manufacturing

D

वाहन निर्माण

Correct Ans : C

Subject : General Knowledge

Q.No: 6 Who was the Viceroy during the establishment/fixation of Durand line in British India?  
2435714

ब्रिटिश भारत में डूरंड लाइन की स्थापना/ निर्धारण के समय वायसराय कौन था?

Lord Lansdowne

A

लॉर्ड लैंसडाउन

Lord Northbrook

B

लॉर्ड नॉर्थब्रुक

Lord Dufferin

C

लॉर्ड डफरिन

Lord Amherst

D

लॉर्ड एमहर्स्ट

Correct Ans : A

Subject : General Knowledge

Q.No: 7 Which among the following sports is the national game of Nepal?  
2437352

निम्नलिखित में से कौन सा खेल नेपाल का राष्ट्रीय खेल है?

**Hockey**

A

हॉकी

**Kabaddi**

B

कबड्डी

**Volleyball**

C

वॉलीबॉल

**Archery**

D

तीरंदाजी

Correct Ans : C

Subject : **General Knowledge**

Q.No: 8 In which year did the famous hockey player Roop Singh Bais pass away?  
2440895

प्रसिद्ध हॉकी खिलाड़ी रूप सिंह बैस का किस वर्ष निधन हो गया?

**1965**

A

**1965**

**1969**

B

**1969**

**1973**

C

**1973**

**1977**

D

**1977**

Correct Ans : D

Subject : **General Knowledge**

Q.No: 9 Chandra Naidu has passed away recently, she was related to which discipline?  
2441008

चंद्र नायडू का हाल ही में निधन हो गया, वह किस विधा से संबंधित थीं?

**Cricket**

A

क्रिकेट

**Literature**

B

साहित्य

**Science**

C

विज्ञान

**Finance**

D

वित्त

Correct Ans : A

Subject : **General Knowledge**

Q.No: 10 Which National Park of Madhya Pradesh recently started Night Safari in March 2021?  
2441023

मध्य प्रदेश के किस राष्ट्रीय उद्यान ने हाल ही में मार्च 2021 में नाइट सफारी शुरू की है?

कान्हा राष्ट्रीय उद्यान

**Van Vihar National Park**

**B**

वन विहार राष्ट्रीय उद्यान

**Bandhavgarh National Park**

**C**

बांधवगढ़ राष्ट्रीय उद्यान

**Panna National Park**

**D**

पन्ना राष्ट्रीय उद्यान

Correct Ans : **B**

Subject : **General Knowledge**

Q.No: 11 The dargah of Panch Pirs can be found at -  
**2441207**

पंच पीर की दरगाह यहां पाई जा सकती है -

**Deori**

**A**

देवरी

**Dhamoni**

**B**

धमोनी

**Karonda**

**C**

करोंदा

**Khimlasa**

**D**

खिमलासा

Correct Ans : **D**

Subject : **General Knowledge**

Q.No: 12 The Kaliyadeh Palace is located on the banks of -  
**2441243**

कालियादेह महल किसके तट पर स्थित है?

**Narmada**

**A**

नर्मदा

**Shipra**

**B**

शिप्रा

**Betwa**

**C**

बेतवा

**Tapti**

**D**

ताप्ती

Correct Ans : **B**

Subject : **General Knowledge**

Q.No: 13 Famous Indian Cricketer Rahul Dravid was born in which city?  
**2441271**

प्रसिद्ध भारतीय क्रिकेटर राहुल द्रविड़ का जन्म किस शहर में हुआ था?

**Bangalore**

**A**

बैंगलोर

**B**

**Indore**

इंदौर

**Chennai**

C

चेन्नई

**Shimla**

D

शिमला

Correct Ans : **B**

Subject : **General Knowledge**

Q.No: 14 Hanuwantiya is situated by the bank of which dam?

**2441362**

हनुवंतिया किस बांध के किनारे स्थित है?

**Tawa**

A

तवा

**Kerwa**

B

केरवा

**Kolar**

C

कोलार

**Indira Sagar**

D

इंदिरा सागर

Correct Ans : **D**

Subject : **General Knowledge**

Q.No: 15 What is the sex-ratio in the Madhya Pradesh tribal population (as per Census 2011)?

**2441622**

मध्य प्रदेश की जनजातीय आबादी में लिंग-अनुपात क्या है (जनगणना 2011 के अनुसार)?

**990**

A

**990**

**948**

B

**948**

**984**

C

**984**

**970**

D

**970**

Correct Ans : **C**

Subject : **General Knowledge**

Q.No: 16 What was the strength of the State Legislative Assembly of Madhya Pradesh in 1957 initially?

**2441732**

1957 में शुरुआत में मध्य प्रदेश की राज्य विधान सभा की शक्ति कितनी थी?

**288**

A

**288**

**231**

B

**231**

C

**321**

230

D

230

Correct Ans : A

Subject : General Knowledge

Q.No: 17 The climate of \_\_\_\_\_ region is most congenial for the mustard produce.  
2441794

सरसों के उत्पादन के लिए \_\_\_\_\_ क्षेत्र की जलवायु सबसे अनुकूल है।

Bhind

A

भिंड

Rewa

B

रीवा

Ujjain

C

उज्जैन

Bhopal

D

भोपाल

Correct Ans : A

Subject : General Knowledge

Q.No: 18 Which product is locally known as 'Kalimasi' in Jhabua district?  
2441805

झाबुआ जिले में किस उत्पाद को स्थानीय रूप से 'कालीमासी' के नाम से जाना जाता है?

Black sesame

A

काला तिल

Fowl meat

B

मुर्गी मांस

Black grape

C

काला अंगूर

Black wood

D

काली लकड़ी

Correct Ans : B

Subject : General Knowledge

Q.No: 19 The Mukhyamantri Madad Yojana, launched in 2019 by the Madhya Pradesh Government aims at the welfare of -  
2441842

मध्य प्रदेश सरकार द्वारा 2019 में शुरू की गई मुख्यमंत्री मदद योजना का उद्देश्य किसके कल्याण के लिए है?

Entrepreneurs

A

उद्यमियों

Families below the poverty line

B

गरीबी रेखा से नीचे के परिवार

Tribal families

C

आदिवासी परिवार

Cottage industry workers

D

कुटीर उद्योग श्रमिक

Correct Ans : C

Subject : **General Knowledge**

Q.No: 20 Adhai Din Ka Jhonpra is situated in which city?  
**2442475**

अढ़ाई दिन का झोंपड़ा किस शहर में स्थित है?

**Agra**

A

आगरा

**Delhi**

B

दिल्ली

**Aligarh**

C

अलीगढ़

**Ajmer**

D

अजमेर

Correct Ans : **D**

Subject : **General Knowledge**

Q.No: 21 WHO stands for-  
**2423063**

WHO \_\_\_\_\_ का संक्षिप्त रूप है-

**World Health Organisation**

A

विश्व स्वास्थ्य संगठन

**Weight Health Organs**

B

वजन स्वास्थ्य अंग

**Worldwide Haste Offer**

C

वर्ल्डवाइड जल्दबाजी ऑफर

**Wild Health Organisation**

D

वन्य स्वास्थ्य संगठन

Correct Ans : **A**

Subject : **General Science**

Q.No: 22 Should physical exercise be performed as per one's own capacity?  
**2423073**

क्या शारीरिक व्यायाम अपनी क्षमता के अनुसार करना चाहिए?

**Rarely**

A

शायद ही कभी

**Sometimes**

B

कभी - कभी

**Yes**

C

हां

**No**

D

नहीं

Correct Ans : **C**

Subject : **General Science**

Q.No: 23 Which of the following star appears stationary near the northern horizon?  
**2425848**



निम्नलिखित में से कौन सा तारा उत्तरी क्षितिज के निकट स्थिर दिखाई देता है?

**Antares**

A

वेन्टिरीज़

**Vega**

B

वेगा

**Pole Star**

C

ध्रुव तारा

**Sirius**

D

सीरियस

Correct Ans : **C**

Subject : **General Science**

Q.No: 24 Which of the following does not belong to the cryptogams?  
**2428818**

निम्नलिखित में से कौन क्रिप्टोगैम से संबंधित नहीं है?

**algae**

A

शैवाल

**lichen**

B

काई

**fungi**

C

कवक

**pinus**

D

पाइनस

Correct Ans : **D**

Subject : **General Science**

Q.No: 25 Continuous cultivation of crops makes the soil \_\_\_\_\_ in nutrients.  
**2429180**

लगातार फसलों की खेती से मिट्टी में \_\_\_\_\_ पोषक तत्व बनते हैं।

**Poor**

A

निर्बल

**Rich**

B

भरपूर

**Increased**

C

बढ़ा हुआ

**Loose**

D

ढीला

Correct Ans : **A**

Subject : **General Science**

Q.No: 26 Prokaryotes genetic material is found in what?  
**2429865**

प्रोकैरियोट्स आनुवंशिक पदार्थ किसमें पाया जाता है?

**thylakoid**

A

थायलाकोइड

नाभिक  
**nucleolus**

C

न्यूक्लियोलस  
**nucleoid**

D

न्यूक्लियोइड

Correct Ans : D

Subject : **General Science**

Q.No: 27 \_\_\_\_\_ is the monomer of polyethylene polymer.  
**2430118**

\_\_\_\_\_ पॉलीथीन बहुलक का मोनोमर है।

**Nylon**

A

नायलॉन  
**Polyester**

B

पॉलिएस्टर  
**Ethene**

C

एथेन  
**PVC**

D

पीवीसी

Correct Ans : C

Subject : **General Science**

Q.No: 28 Name the metal used for coating on iron to prevent rusting.  
**2430364**

उस धातु का नाम बताइए जिसका प्रयोग लोहे पर जंग लगने से बचाने के लिए किया जाता है।

**Gold**

A

सोना  
**Sodium**

B

सोडियम  
**Copper**

C

कॉपर  
**Zinc**

D

ज़िंक

Correct Ans : D

Subject : **General Science**

Q.No: 29 The weight of an object on the moon as compared to its weight on the earth. Choose the correct one in the following options.  
**2430386**

पृथ्वी पर किसी वस्तु का भार पृथ्वी पर उसके भार की तुलना में। निम्नलिखित विकल्पों में से एक सही चुनें।

**Weight of an object on the surface of the moon is about 15 times its weight on the earth.**

A

चंद्रमा की सतह पर किसी वस्तु का भार पृथ्वी पर उसके भार का लगभग 15 गुना है।

**Weight of an object on the surface of the moon is about 17 times its weight on the earth.**

B

चंद्रमा की सतह पर किसी वस्तु का भार पृथ्वी पर उसके भार का लगभग 17 गुना है।

C

**Weight of an object on the surface of the moon is about 16 times its weight on the earth.**

**Weight of an object on the surface of the moon is about 12 times its weight on the earth.**

D

चंद्रमा की सतह पर किसी वस्तु का भार पृथ्वी पर उसके भार का लगभग 12 गुना होता है।

Correct Ans : C

Subject : General Science

Q.No: 30 An organism whose body is divided into scolex, neck and strobili?  
2430822

एक जीव जिसका शरीर स्कोलेक्स, गर्दन और स्ट्रोबिली में विभाजित है?

A Tapeworm  
फीताकृमि

B Roundworm  
राउंडवॉर्म

C Hookworm  
हुकवॉर्म

D Fluke  
अस्थायी

Correct Ans : A

Subject : General Science

Q.No: 31 Which of the following changes in the kitchen is an example of physical change?  
2430924

रसोई में निम्नलिखित में से कौन सा परिवर्तन भौतिक परिवर्तन का उदाहरण है?

cooking vegetables

A

सब्जियां पकाना

ice-water-steam

B

बर्फ पानी भाप

Raw egg made into omelete

C

कच्चा अंडा ऑमलेट बना

Dough becomes bread

D

आटा रोटी बन जाता है

Correct Ans : B

Subject : General Science

Q.No: 32 During lightning, the high temperatures and pressures created in the air convert nitrogen into \_\_\_\_  
2431686

बिजली गिरने के दौरान, हवा में निर्मित उच्च तापमान और दबाव नाइट्रोजन को \_\_\_\_\_ में परिवर्तित करते हैं

ammonia

A

अमोनिया

chloroform

B

क्लोरोफॉर्म

oxides of nitrogen

C

नाइट्रोजन के ऑक्साइड

oxygen

D

ऑक्सीजन

Correct Ans : C

Subject : General Science

Q.No: 33 Which of the following blood-groups is known as 'universal donor'?  
2432192

निम्नलिखित में से किस रक्त समूह को 'सार्वभौमिक दाता' के रूप में जाना जाता है?

A

O

O

AB

B

AB

A

C

A

B

D

B

Correct Ans : A

Subject : General Science

Q.No: 34 The human backbone consists of \_\_\_\_ vertebrae.

2432470

मनुष्य के रीढ़ की हड्डी में \_\_\_\_\_ कशेरुक होते हैं।

20

A

20

33

B

33

45

C

45

11

D

11

Correct Ans : B

Subject : General Science

Q.No: 35 The ultrasound equipment works at frequencies higher than -

2436449

अल्ट्रासाउंड उपकरण \_\_\_\_\_ हर्ट्ज से अधिक आवृत्तियों पर काम करता है।

60,000 Hz

A

60,000 हर्ट्ज

3,00,000 Hz

B

3,00,000 हर्ट्ज

20,000 Hz

C

20,000 हर्ट्ज

40,000 Hz

D

40,000 हर्ट्ज

Correct Ans : C

Subject : General Science

Q.No: 36 Find the wrong term in the series?

2422599

289, 196, 256, 169, 201

श्रृंखला में गलत क्रम का पता लगाएँ?

289, 196, 256, 169, 201

A

201

201

289

B

289

196

C

196

256

D

256

Correct Ans : A

Subject : General Reasoning

Q.No: 37 Choose the numbers which is different from others in the group?  
2426470

दिए गए समूह में से विषम संख्या का चयन करें?

16-64

A

16-64

9-27

B

9-27

36-108

C

36-108

49-343

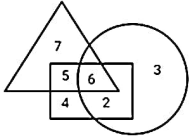
D

49-343

Correct Ans : C

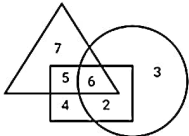
Subject : General Reasoning

Q.No: 38 In the given figure, Triangle represents vessels, Circle represents glass and Rectangle represents broken.  
2426568



Which number represents glass vessels which are broken?

दी गई आकृति में, त्रिभुज बर्तनों का प्रतिनिधित्व करता है, वृत्त कांच का प्रतिनिधित्व करता है और आयत टूटे हुए का प्रतिनिधित्व करता है।



कौन सी संख्या टूटे हुए कांच के बर्तनों को दर्शाती है?

5

A

5

6

B

6

11

C

11

5

D

5

Correct Ans : B

Subject : **General Reasoning**

Q.No: 39 Select the Lettered pair that has the same relationship as given in the questions:

**2426809**

Embroider : Cloth

उस अक्षर युग्म का चयन करें जिसका संबंध प्रश्नों में दिए गए समान संबंध से है:

कढ़ाई : कपड़ा

**Patch : Quilt**

A

पैच : रजाई

**Stain : Glass**

B

दाग : कांच

**Carve : Knife**

C

नक्काशी : चाकू

**Chase : Metal**

D

पीछा : धातु

Correct Ans : **D**

Subject : **General Reasoning**

Q.No: 40 Arun saw Mohit, he recalled "he is the son of the father of my daughter's mother" who is Mohit to Arun.

**2429566**

अरुण ने मोहित को देखा, उसने याद किया "वह मेरी पुत्री की माता के पिता का पुत्र है"। मोहित, अरुण से किस प्रकार संबंधित है।

**Grandson**

A

पोता

**Brother-in-law**

B

ब्रदर-इन-लॉ

**Father**

C

पिता

**Grand father**

D

दादा/नाना

Correct Ans : **B**

Subject : **General Reasoning**

Q.No: 41 In the following question, a certain series of numbers or letters is given of which one series is empty. You have to decide which of the alternative series of the answer will be us blank space that is originally related to the sequence of that series.

**2433153**

16Q18, 18O20, 20M22, 22K24, ?

निम्नलिखित प्रश्न में, संख्याओं या अक्षरों की एक निश्चित श्रृंखला दी गई है, जिसमें से एक श्रृंखला खाली है। आपको यह तय करना है कि मूल रूप से उस श्रृंखला के अनुक्रम से संबंधित रिक्त स्थान में उत्तर की कौन सी वैकल्पिक श्रृंखला किया जाएगा।

16Q18, 18O20, 20M22, 22K24, ?

**26I24**

A

**26I24**

**25I26**

B

**25I26**

**24F26**

C

**24F26**

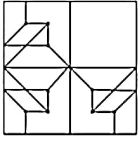
D

**24I26**

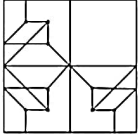
Correct Ans : D

Subject : General Reasoning

Q.No: 42 Which answer figure will complete the pattern in the question figure?  
2433474



कौन-सी उत्तर आकृति प्रश्न आकृति के पैटर्न को पूरा करेगी?



A



B



C



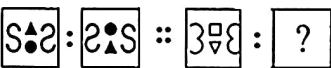
D



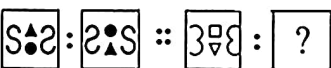
Correct Ans : C

Subject : General Reasoning

Q.No: 43 A specific analogy is given in the question below. Understand the logic behind it and choose the correct option for the next part:  
2434094



नीचे दिए गए प्रश्न में एक विशिष्ट सादृश्य दिया गया है। इसके पीछे के तर्क को समझें और अगले भाग के लिए सही विकल्प का चयन करें:



A





B



C



D



Correct Ans : C

Subject : General Reasoning

Q.No: 44 In the following question, select the odd number pair from the given alternatives.  
2435069

निम्नलिखित प्रश्न में दिए गए विकल्पों में से विषम संख्या युग्म को चुनिए।

15 - 210

A

15 - 210

12 - 132

B

12 - 132

8 - 56

C

8 - 56

13 - 182

D

13 - 182

Correct Ans : D

Subject : General Reasoning

Q.No: 45 Identify the diagram that best represents the relationship among the given classes.

2435705

Skin, tissue, cell

उस आरेख की पहचान करें जो दिए गए श्रेणियों के बीच संबंध का सबसे अच्छा प्रतिनिधित्व करता है।

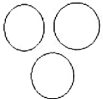
त्वचा, ऊतक, कोशिका



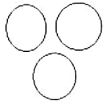
A



B







C



D



Correct Ans : C

Subject : General Reasoning

Q.No: 46 Select the option that is related to the third word in the same way as the second pair is related to the first pair.

2438377

Cape Town : South Africa :: Doha : ?

उस विकल्प का चयन करें जो तीसरे शब्द से उसी प्रकार संबंधित है जैसे दूसरा युग्म पहले युग्म से संबंधित है।

केप टाउन : दक्षिण अफ्रीका :: दोहा : ?

**Kuwait**

A

कुवैत

**Qatar**

B

कतर

**Iran**

C

ईरान

**Yemen**

D

यमन

Correct Ans : B

Subject : General Reasoning

Q.No: 47 If the mirror is placed on the line, then which of the answer figure is the right mirror image/jpg of the given figure?

2438698



यदि एक दर्पण को दर्शाई गई रेखा पर रखा जाये, तो दी गई विकल्प आकृतियों में से कौन-सी सही दर्पण छवि होगी?



A



B



C



D



Correct Ans : C

Subject : **General Reasoning**

Q.No: 48 Three of the following four number-pairs are alike in a certain way and one is different. Identify the different one.  
**2438857**

निम्नलिखित चार संख्या-युग्मों में से तीन युग्म किसी एक तरह से समान हैं और एक असमान है। उस असमान संख्या-युग्म का चयन कीजिए।

**16 : 36**

A

**16 : 36**

**25 : 49**

B

**25 : 49**

**48 : 81**

C

**48 : 81**

**64 : 100**

D

**64 : 100**

Correct Ans : C

Subject : **General Reasoning**

2439301

एक लड़की की ओर इशारा करते हुए मोहन ने कहा, "वह मेरे दादा की इकलौती बहू की बेटी है"। वह (मोहन) उस लड़की से कैसे संबंधित है?

**Brother**

A

भाई

**Uncle**

B

चाचा

**Cousin**

C

चचेरा भाई

**Father**

D

पिता

Correct Ans : **A**

Subject : **General Reasoning**

Q.No: 50 Amar is husband of Reeta who is the daughter-in-law of Amar's mother's husband. How is Amar related to Reeta's father-in-law?

2439332

अमर रीता का पति है जो अमर की माँ के पति की बहू है। अमर रीता के ससुर से किस प्रकार संबंधित है?

**Brother**

A

भाई

**Son**

B

पुत्र

**Father**

C

पिता

**Data inadequate**

D

डेटा अपर्याप्त

Correct Ans : **B**

Subject : **General Reasoning**

Q.No: 51 Choose the group of letter which is different from other.

2439476

अक्षरों के उस समूह को चुनिए जो अन्य से भिन्न है।

**LKJ**

A

**LKJ**

**PON**

B

**PON**

**TSR**

C

**TSR**

**KJH**

D

**KJH**

Correct Ans : **D**

Subject : **General Reasoning**

Q.No: 52 Given question has main statement followed by four statements. Choose the ordered pair of statements, where the first statement implies the second, and the two statements consistent with the main statement.

2440200

If I watch TV, I don't have food.

A. I watched TV

B. I did not watch TV

D. I did not have had food.

दिए गए प्रश्न में मुख्य कथन और उसके बाद चार कथन हैं। कथनों का क्रमित युग्म चुनें, जहाँ पहले कथन का तात्पर्य दूसरे कथन से है, और दो कथन तार्किक रूप से मुख्य कथन से संगत हैं।  
अगर मैं टीवी देखता हूँ, तो मेरे पास खाना नहीं है।

- A. मैंने टीवी देखा
- B. मैंने टीवी नहीं देखा
- C. मेरे पास खाना नहीं है।
- D. मेने खाना खा लिया हे

**AC**

**A**

**AC**

**BC**

**B**

**BC**

**DA**

**C**

**DA**

**CD**

**D**

**CD**

Correct Ans : **A**

Subject : **General Reasoning**

Q.No: 53 **2440268** Given question has main statement followed by four statements. Choose the ordered pair of statements, where the first statement implies the second, and the two statements consistent with the main statement.

If you pay money for this cause, you will also get benefit of cleanliness in the locality

- A. you paid money for cause
- B. you did not pay money for the cause
- C. you also got benefit of cleanliness in the locality
- D. You did not get benefit of cleanliness in the locality.

दिए गए प्रश्न में मुख्य कथन और उसके बाद चार कथन हैं। कथनों का क्रमित युग्म चुनें, जहाँ पहले कथन का तात्पर्य दूसरे कथन से है, और दो कथन तार्किक रूप से मुख्य कथन से संगत हैं।  
यदि आप इस उद्देश्य के लिए पैसे देते हैं, तो आपको मोहल्ले में स्वच्छता का लाभ भी मिलेगा

- A. आपने कारण के लिए पैसे का भुगतान किया
- B. आपने कारण के लिए पैसे का भुगतान नहीं किया
- C. मोहल्ले में स्वच्छता का भी लाभ मिला
- D. मोहल्ले में सफाई का लाभ नहीं मिला

**BD**

**A**

**BD**

**BC**

**B**

**BC**

**DA**

**C**

**DA**

**DB**

**D**

**DB**

Correct Ans : **D**

Subject : **General Reasoning**

Q.No: 54 **2440376** Given question has main statement followed by four statements. Choose the ordered pair of statements, where the first statement implies the second, and the two statements consistent with the main statement.

You either accept the reality or remain in an illusion

- A. You accepted the reality
- B. You did not accept the reality

D. You did not remain in an illusion

दिए गए प्रश्न में मुख्य कथन और उसके बाद चार कथन हैं। कथनों का क्रमित युग्म चुनें, जहाँ पहले कथन का तात्पर्य दूसरे कथन से है, और दो कथन तार्किक रूप से मुख्य कथन से संगत हैं। आप या तो वास्तविकता को स्वीकार करते हैं या भ्रम में रहते हैं

- A. आपने वास्तविकता को स्वीकार किया
- B. आपने वास्तविकता को स्वीकार नहीं किया
- C. आप भ्रम में रहे
- D. आप किसी भ्रम में नहीं रहे

**AB**

A

**AB**

**DA**

B

**DA**

**CD**

C

**CD**

**AC**

D

**AC**

Correct Ans : B

Subject : **General Reasoning**

Q.No: 55 Find the related word from the given alternatives.  
**2442032**

Tired : Sleep

दिए गए विकल्पों से संबंधित शब्द का चयन करें।

थका हुआ : नींद

A

Rest : Yoga  
आराम : योग

B

**Dieting : Overweight**  
परहेज़ : अधिक वजन

C

**Morning : Walk**  
सुबह : चलना

D

**Cloud : Rain**  
बादल : बारिश

Correct Ans : D

Subject : **General Reasoning**

Q.No: 56 Simplify:  $-35 + 15 \div (3 - 2)$   
**2422344**

सरल कीजिए:  $-35 + 15 \div (3 - 2)$

**25**

A

**25**

**15**

B

**15**

**14**

C

**14**

**-20**

D

**-20**

Correct Ans : D

Subject : **General Maths**

Q.No: 57 In how much time will a sum of Rs.15625 amount to Rs.327678 at 28% per annum compound interest?  
**2423680**

राशि 15625 से रु. 327678, 28% प्रति वर्ष चक्रवृद्धि ब्याज पर कितने समय में रुपये की राशि होगी?

**3 years**

A

**3 वर्ष**

**4 years**

B

**4 वर्ष**

**2 years**

C

**2 वर्ष**

**8 years**

D

**8 वर्ष**

Correct Ans : A

Subject : **General Maths**

Q.No: 58 Solve:  
**2428605**

$$484 \div 22 + 24 - 55 \times 2 + (45 \times 3 + 909 \div 9 - 13 \times 6 + 53)$$

हल करें:

$$484 \div 22 + 24 - 55 \times 2 + (45 \times 3 + 909 \div 9 - 13 \times 6 + 53)$$

**147**

A

**147**

**140**

B

**140**

**137**

C

**137**

**247**

D

**247**

Correct Ans : A

Subject : **General Maths**

Q.No: 59 Convert into centimetres.  
**2429426**

12m 45cm : 81cm

सेंटीमीटर में बदलें।

12m 45cm : 81cm

**415 : 27**

A

**415 : 27**

**171 : 40**

B

**171 : 40**

**573 : 73**

C

**573 : 73**

**557 : 72**

D

**557 : 72**

Correct Ans : A

Subject : **General Maths**

Q.No: 60 What number must be subtracted from each term of ratio 49: 81 so that the ratio becomes  
**2429447**

7: 9?

प्रत्येक पद में 49 : 81 के अनुपात में कौन सी संख्या घटानी चाहिए ताकि अनुपात 7 : 9 बन जाए?

**120**

A

**120**

**193**

B

**193**

**158**

C

**158**

**187**

D

**187**

Correct Ans : B

Subject : **General Maths**

Q.No: 61 If the average marks of three batches of 40,50, and 60 students respectively is 30,50,and 70,then the average marks of all the students is:  
**2432566**

यदि 40,50, और 60 छात्रों के तीन बैचों के औसत अंक क्रमशः 30,50 और 70 हैं, तो सभी छात्रों के औसत अंक हैं?

**63.33**

A

**63.33**

**52.66**

B

**52.66**

**60**

C

**60**

**65**

D

**65**

Correct Ans : B

Subject : **General Maths**

Q.No: 62 Six tables and twelve chairs were bought for 7800.if the average price of a tables is 750,then the average price of a chairs would be:  
**2432605**

6 मेज और 12 कुर्सियाँ 7800 में खरीदी गईं। यदि एक मेज का औसत मूल्य 750 है, तो एक कुर्सियों का औसत मूल्य क्या होगा?

**250**

A

**250**

**275**

B

**275**

**150**

C

**150**

**175**

D

**175**

Correct Ans : B

Subject : **General Maths**

Q.No: 63  
**2433098**

... numbers come in place of question mark in the following number series.

$$8^2 + 16^2 - 19^2 = ?^3 - 257$$

निम्नलिखित संख्या-श्रृंखला में प्रश्नचिन्ह (?) के स्थान पर क्या आना चाहिए?

$$8^2 + 16^2 - 19^2 = ?^3 - 257$$

8

A

8

6

B

6

2

C

2

9

D

9

Correct Ans : B

Subject : General Maths

Q.No: 64 The average age of A, B and C is 30 years and that of B and C is 35 years. A's present age is:  
2433860

A, B और C की औसत आयु 30 वर्ष है और B और C की औसत आयु 35 वर्ष है। A की वर्तमान आयु है:

30

A

30

20

B

20

25

C

25

35

D

35

Correct Ans : B

Subject : General Maths

Q.No: 65 A student calculated the average of 216, 'four-digit numbers'. But due to mistake he reversed the end digits of a number and thus his average decreased by 18.5. The difference between the unit digit and thousands digit of that number is:  
2433894

एक छात्र ने, 'चार अंकों की संख्याओं' के औसत की गणना 216 की लेकिन उसने गलती से एक संख्या के अंतिम छहों के को उलट दिया और इस तरह उसका औसत 18.5 कम हो गया। उस संख्या के इकाई अंक और हजारों अंक अंतर क्या होगा?

4

A

4

3

B

3

2

C

2

1

D

1

Correct Ans : A

Subject : General Maths



2433986

$$44 - 6 \div 43 \times 2 - 87 = ?$$

37

A

37

38

B

38

73

C

73

83

D

83

Correct Ans : A

Subject : General Maths

Q.No: 67 There are 75 students in play school. Rs 51 are distributed among them so that each boys gets 62 paisa and each girls gets 72 paisa. What is the number of girls in that play  
2434829

एक स्कूल में 75 विद्यार्थी हैं। उनमें 51 रुपये बाँटे जाते हैं ताकि प्रत्येक लड़के को 62 पैसे और प्रत्येक लड़की को 72 पैसे मिलें। उस स्कूल में लड़कियों की संख्या कितनी है?

30

A

30

36

B

36

40

C

40

45

D

45

Correct Ans : D

Subject : General Maths

Q.No: 68 Ratio of expenditure and savings of a man is 7 : 5. His income increases by 40% and expenditure increases by 30%. Find the percentage increase in his savings?  
2434847

एक आदमी के खर्च और बचत का अनुपात 7:5 है। उसकी आय 40% बढ़ जाती है और खर्च 30% बढ़ जाता है। उसकी बचत में प्रतिशत वृद्धि ज्ञात करें?

50%

A

50%

55%

B

55%

54%

C

54%

58%

D

58%

Correct Ans : C

Subject : General Maths

Q.No: 69 A box consists of one rupee, 50 paise and 25 paise coins in the ratio 3 : 5 : 4. If total money is 260. Find the number of 25 paise coins?  
2435451

एक बॉक्स में 3 : 5 : 4 के अनुपात में 1 रुपए, 50 पैसे और 25 पैसे के सिक्के हैं। यदि कुल राशि 260 रुपये है। तो 25 पैसे के सिक्कों की संख्या ज्ञात कीजिए?

A

120

120

160

B

160

140

C

140

136

D

136

Correct Ans : B

Subject : General Maths

Q.No: 70 What should come in place of question mark in the following number series?

2437945

$$\frac{21 \times 23 - 181}{260 \div 390} = ?$$

निम्नलिखित संख्या-श्रृंखला में प्रश्नचिह्न (?) के स्थान पर क्या आना चाहिए?

$$\frac{21 \times 23 - 181}{260 \div 390} = ?$$

459

A

459

458

B

458

453

C

453

451

D

451

Correct Ans : C

Subject : General Maths

Q.No: 71 In a certain code language, R is written as J, M is written as U, A is written as K, Y is written as C, I is written as F and P is written as B . How will 'PRIMARY' be written as in the

2434418

एक निश्चित कूट भाषा में, R को J के रूप में, M को U के रूप में, A को K के रूप में, Y को C के रूप में, I को F के रूप में तथा P को B के रूप में लिखा जाता है। तो उसी कूट भाषा में 'PRIMARY' को कैसे लिखा जाएगा?

BJFUKJC

A

BJFUKJC

BJFUKLD

B

BJFUKLD

HEGUKJC

C

HEGUKJC

BJSREJC

D

BJSREJC

Correct Ans : A

Subject : Mental Ability

Q.No: 72 If NRC = 35 and CAA = 5, then NPR = ?

2434950

यदि NRC = 35 और CAA = 5 है, तो NPR = ?

A

15

48

B

48

45

C

45

39

D

39

Correct Ans : B

Subject : **Mental Ability**

Q.No: 73 If DOG is coded as 420 and COW is coded as 1035, then how will CAT be coded as  
**2434964**

यदि DOG को 420 के रूप में कूटबद्ध किया जाता है तथा COW को 1035 के रूप में कूटबद्ध किया जाता है, तो CAT को कैसे कूटबद्ध किया जाएगा?

180

A

180

160

B

160

80

C

80

60

D

60

Correct Ans : D

Subject : **Mental Ability**

Q.No: 74 If in a certain code, **ARMY** is written as **59065125**, How will **NAVY** be written in that language?  
**2434976**

यदि एक निश्चित कूट भाषा में, **ARMY** को **59065125** के रूप में लिखा जाता है, उसी कूट भाषा में **NAVY** को कैसे लिखा जाएगा?

705110125

A

705110125

906220130

B

906220130

805110454

C

805110454

504130130

D

504130130

Correct Ans : A

Subject : **Mental Ability**

Q.No: 75 In question below are three statements followed by two conclusions numbered I and II. You have to take the given statements to be true even if they seem to be at variance from commonly facts and then decide which of the given conclusions logically follows from the given statements.  
**2435487**

Statements:

I. Some grey are blue.

II. Some blue are gold.

III. All gold are red.

Conclusions:

I. All blue being red is a possibility.

II. Some red are grey.

नीचे दिए गए प्रश्न में तीन कथन दिए गए हैं जिसके बाद दो निष्कर्ष I और II दिए गए हैं। आपको दिए गए कथनों को सत्य मानना है, भले ही वे सामान्य तथ्यों से भिन्न प्रतीत होते हों और फिर तय करें कि कौन सा निष्कर्ष दिए गए कथनों से अनुसरण करता है।

कथन:

- I. कुछ ग्रे नीला है।
- II. कुछ नीला गोल्ट है।
- III. सभी गोल्ट लाल है।

निष्कर्ष:

- I. सभी नीला लाल होने की संभावना है।
- II. कुछ लाल ग्रे है।

**Only conclusion I follows.**

A

केवल निष्कर्ष I अनुसरण करता है।

**Only conclusion II follows.**

B

केवल निष्कर्ष II अनुसरण करता है।

**Both conclusions I and II follows.**

C

दोनों निष्कर्ष I और II अनुसरण करते हैं।

**Neither conclusion I nor II follows.**

D

न तो निष्कर्ष I और न ही II अनुसरण करता है।

Correct Ans : A

Subject : **Mental Ability**

Q.No: 76 In question below are three statements followed by three conclusions numbered I, II and III. You have to take the given statements to be true even if they seem to be at various commonly facts and then decide which of the given conclusions logically follows from the given statements.

Statements:

- I. Some pink are silver.
- II. All pink are grey.
- III. All silver are brown.

Conclusions:

- I. All brown are pink.
- II. Some grey are silver.
- III. Some brown are not grey.

नीचे दिए गए प्रश्न में तीन कथन और उसके बाद तीन निष्कर्ष I, II और III दिए गए हैं। आपको दिए गए कथनों को सत्य मानना है, चाहे वे सामान्यतः ज्ञात तथ्यों से भिन्न प्रतीत होता है, आपको निर्णय करना है कि दिए गए कथनों में निष्कर्ष तार्किक रूप से अनुसरण करता है।

कथन:

- I. कुछ गुलाबी सिल्वर है।
- II. सभी गुलाबी ग्रे है।
- III. सभी सिल्वर भूरा है।

निष्कर्ष:

- I. सभी भूरा गुलाबी है।
- II. कुछ ग्रे सिल्वर है।
- III. कुछ भूरा ग्रे नहीं है।

**Either conclusion I or III follows.**

A

या तो निष्कर्ष I या III अनुसरण करता है।

**Neither conclusion I nor II follows.**

B

न तो निष्कर्ष I और न ही II अनुसरण करता है।

**Only conclusion II follows.**

C

केवल निष्कर्ष II अनुसरण करता है।

**Both conclusions I and III follows.**

D

दोनों निष्कर्ष I और III अनुसरण करते हैं।

Subject : **Mental Ability**

Q.No: 77 If chair is called cupboard, cupboard is called rock, rock is called bed, bed is called stone and stone is called cushion. Then on which we can sleep?  
**2439221**

यदि कुर्सी को अलमारी कहा जाए, अलमारी को चट्टान कहा जाए, चट्टान को बिस्तर कहा जाए, बिस्तर को पत्थर कहा जाए और पत्थर को तकिया कहा जाए। फिर हम किस पर सो सकते हैं?

**Rock**

A

चट्टान

**Cupboard**

B

अलमारी

**Stone**

C

पत्थर

**Bed**

D

बेड

Correct Ans : **C**

Subject : **Mental Ability**

Q.No: 78 In a row of boys, A is fifteenth from the left and B is fourth from the right. There are 3 boys between A and B, C is just left to A. How Many boys are there between A and B?  
**2439545**

लड़कों की एक पंक्ति में, A बायें से 15वाँ तथा B दायें से चौथा है। A और B के बीच में 3 लड़के हैं। C, A के निकटवर्ती बायीं ओर है। C का दाएं से कौन सा स्थान है?

9<sup>th</sup>

A

9 वाँ

10<sup>th</sup>

B

10 वाँ

12<sup>th</sup>

C

12 वाँ

13<sup>th</sup>

D

13 वाँ

Correct Ans : **A**

Subject : **Mental Ability**

Q.No: 79 **Directions:** In each of the questions below, a few statements are given followed by some conclusions. You have to take the given statements to be true even if they seem to t  
**2442167** variance with commonly known facts. Read all the conclusions and then decide which of the given conclusions logically follow from the given statements, disregarding common facts.

**Statements:**

All eggs are tomatoes.

No tomato is a potato.

All potatoes are good.

**Conclusions:**

I. Some tomatoes may be good.

II. All eggs being good is a possibility.

**निर्देश:** निम्न दिए गए प्रत्येक प्रश्न में कुछ कथन आर उसका बाद कुछ निष्कर्ष दिए गए हैं। आपको दिए गए कथनों का सत्य मानना है, मल हा व सात तथ्यों से अलग प्रतीत होते हैं। सभी निष्कर्षों को पढ़िए और फिर निर्णय कीजिए कि दिये गये निष्कर्षों में से कौन सा/कौन से निष्कर्ष ज्ञात तथ्यों को नजर अंदाज करने पर कथनों का तार्किक रूप से अनुसरण करता है/करते हैं।

**कथन:**

सभी अंडे टमाटर हैं।

कोई भी टमाटर आलू नहीं है।

सभी आलू अच्छे हैं।

**निष्कर्ष:**

I. कुछ टमाटर अच्छे हो सकते हैं।

II. सभी अंडे अच्छे होने की संभावना है।

**Only conclusion I follows.**

A

केवल निष्कर्ष I अनुसरण करता है।

**Only conclusion II follows.**

B

केवल निष्कर्ष II अनुसरण करता है।

**Both conclusion I and conclusion II follow**

C

निष्कर्ष I और निष्कर्ष II दोनों अनुसरण करते हैं।

**Neither conclusion I nor conclusion II follows.**

D

ना तो निष्कर्ष I और ना ही निष्कर्ष II अनुसरण करता है।

Correct Ans : C

Subject : **Mental Ability**

Q.No: 80 If E = 5 and HEN = 27, then PET = ?

**2442209**

यदि E = 5 और HEN = 27, तो PET = ?

**31**

A

**31**

**41**

B

**41**

**52**

C

**52**

**28**

D

**28**

Correct Ans : B

Subject : **Mental Ability**

Q.No: 81 If in a certain code language 'RAMAN' is written as '23.5' and 'CAP' is written as '10', then how will 'CAPACITY' be written in that code?

**2442220**

यदि एक निश्चित कोड भाषा में 'RAMAN' को '23.5', 'CAP' को '10' लिखा जाता है, तो 'CAPACITY' को उस भाषा में कैसे लिखा जाएगा?

**48**

A

**48**

**39**

B

**39**

**49**

C

**49**

**35**

D

**35**

Correct Ans : B

Subject : **Mental Ability**

Q.No: 82 Which one word can be formed from the following letters ?  
2442871

d e n m l u o c

निम्नलिखित अक्षरों से कौन सा एक शब्द बनाया जा सकता है?

d e n m l u o c

**coloured**

A

**coloured**

**columned**

B

**columned**

**credited**

C

**credited**

**cambering**

D

**cambering**

Correct Ans : B

Subject : **Mental Ability**

Q.No: 83 Which one word can be formed from the following letters ?

2442883

b e t a c i r u f

निम्नलिखित अक्षरों से कौन सा एक शब्द बनाया जा सकता है?

b e t a c i r u f

**bothering**

A

**bothering**

**bifurcate**

B

**bifurcate**

**benamed**

C

**benamed**

**broaching**

D

**broaching**

Correct Ans : B

Subject : **Mental Ability**

Q.No: 84 From the given alternative words, select the word which cannot be formed using the letters of the given word.

2443009

SPECULATION

निम्नलिखित विकल्पों में से वह शब्द चुनिए जो दिए गए शब्द के अक्षरों का प्रयोग करके नहीं बनाया जा सकता?

SPECULATION

**SPECIAL**

A

**SPECIAL**

**TOPIC**

B

**TOPIC**

**SECULAR**

C

**SECULAR**

**CAUTION**

D

**CAUTION**

Subject : **Mental Ability**

Q.No: 85 Arrange the following words as per their order in the dictionary.  
**2443052**

1. Qualify
2. Quarter
3. Quarrel
4. Quaver

निम्नलिखित शब्दों को शब्दकोश में दिए गए क्रम के अनुसार लिखिए।

1. Qualify
  2. Quarter
  3. Quarrel
  4. Quaver
- 2, 1, 4, 3**

A

- 2, 1, 4, 3**  
**2, 1, 3, 4**

B

- 2, 1, 3, 4**  
**4, 3, 1, 2**

C

- 4, 3, 1, 2**  
**1, 3, 2, 4**

D

- 1, 3, 2, 4**

Correct Ans : **D**

Subject : **Mental Ability**

Q.No: 86 Two taps A and B can fill an overhead tank in 15 hours and 18 hours respectively. Both the taps are opened for 7 hours and then B is turned off. How much time will A take to remaining tank?  
**2423769**

दो नल A और B एक ओवरहेड टैंक को क्रमशः 15 घंटे और 18 घंटे में भर सकते हैं। दोनों नलों को 7 घंटे के लिए खोल दिया जाता है और फिर B को बंद कर दिया जाता है। शेष टैंक को भरने में A को कितना समय लगेगा?

**37/4 hours**

A

**37/4 घंटे**  
**13/6 hours**

B

**13/6 घंटे**  
**12/7 hours**

C

**12/7 घंटे**  
**32/7 hours**

D

**32/7 घंटे**

Correct Ans : **B**

Subject : **General Aptitude**

Q.No: 87 If the diameter of a circle is 14 cm, then calculate the area of the circle.  
**2426197**

यदि एक वृत्त का व्यास 14 सेमी है, तो वृत्त का क्षेत्रफल ज्ञात कीजिए।

**324 cm<sup>2</sup>**

A

**324 सेमी<sup>2</sup>**  
**256 cm<sup>2</sup>**

B

**256 सेमी<sup>2</sup>**

C

**154 cm<sup>2</sup>**



154 सेमी<sup>2</sup>

416 cm<sup>2</sup>

D

416 सेमी<sup>2</sup>

Correct Ans : C

Subject : General Aptitude

Q.No: 88 Calculate the cone's curved surface area if its radius is 14 cm and slant height is 8 cm.  
2426222

शंकु के घुमावदार सतह क्षेत्र की गणना करें यदि इसका त्रिज्या 14 सेमी है और तिरछा ऊंचाई 8 सेमी है।

520 cm<sup>2</sup>

A

520 सेमी<sup>2</sup>

460 cm<sup>2</sup>

B

460 सेमी<sup>2</sup>

352 cm<sup>2</sup>

C

352 सेमी<sup>2</sup>

195 cm<sup>2</sup>

D

195 सेमी<sup>2</sup>

Correct Ans : C

Subject : General Aptitude

Q.No: 89 If square's area is 289 cm<sup>2</sup> then, calculate square's edge length.  
2426252

यदि वर्ग का क्षेत्रफल 289 सेमी<sup>2</sup> है, तो वर्ग की किनारे की लंबाई की गणना करें।

14 cm

A

14 सेंटीमीटर

17 cm

B

17 सेंटीमीटर

18 cm

C

18 सेंटीमीटर

21 cm

D

21 सेंटीमीटर

Correct Ans : B

Subject : General Aptitude

Q.No: 90 Which of the following is divisible by 47?  
2427651

निम्नलिखित में से कौन 47 से विभाज्य है?

746251

A

746251

218912

B

218912

141188

C

141188

D

634590

Correct Ans : C

Subject : General Aptitude

Q.No: 91 Which of the following is divisible by 67?  
2427664

निम्नलिखित में से कौन 67 से विभाज्य है?

803457

A

803457

887655

B

887655

642246

C

642246

790124

D

790124

Correct Ans : C

Subject : General Aptitude

Q.No: 92 A8276251816B is divisible by 12 find the value of 79A + 35B  
2427682

A8276251816B, 12 से विभाज्य है 79A + 35B का मान ज्ञात कीजिए।

210

A

210

320

B

320

710

C

710

401

D

401

Correct Ans : A

Subject : General Aptitude

Q.No: 93  
2431210 If  $\frac{4x+6}{10x-6} = \frac{2x+9}{5x+5}$  find x.

यदि  $\frac{4x+6}{10x-6} = \frac{2x+9}{5x+5}$ , x ज्ञात करें।

2

A

2

3

B

3

4

C

4

D

1

Correct Ans : B

Subject : General Aptitude

Q.No: 94 Ten years ago, the age of Anand was one-third the age of Bala at that time. The present age of Bala is 12 years more than the present age of Anand. Find the present age of B (2431216 years)

दस वर्ष पहले, आनंद की आयु उस समय बाला की आयु की एक तिहाई थी। बाला की वर्तमान आयु आनंद की वर्तमान आयु से 12 वर्ष अधिक है। आनंद की वर्तमान आयु ज्ञात कीजिए। (वर्षों में)

14

A

14

16

B

16

18

C

18

20

D

20

Correct Ans : B

Subject : General Aptitude

Q.No: 95 If a and x are real numbers satisfying  $a^{x-1} = a^{2x+1}$ , find x. (a>1) (2431226)

यदि a और x वास्तविक संख्याएँ हैं जो  $a^{x-1} = a^{2x+1}$  को संतुष्ट करती हैं, तो x ज्ञात कीजिए। (a>1)

1

A

1

2

B

2

-1

C

-1

-2

D

-2

Correct Ans : D

Subject : General Aptitude

Q.No: 96 If a woman can eat 9 oranges of 10 inches diameter, how many oranges of 20 inches diameter can she eat? (2433816)

यदि एक महिला 10 इंच व्यास के 9 संतरे खा सकती है, तो वह 20 इंच व्यास वाले कितने संतरे खा सकती है?

1 orange

A

1 संतरे

0.9 orange

B

0.9 संतरे

0.56 orange

C

0.56 संतरे

2 orange

D

2 संतरे

Correct Ans : C

Subject : General Aptitude

Q.No: 97 The length and the breadth of a plot piece of land are in the ratio 1 : 2. The perimeter of plot is 500 m. The owner sales the plot @ Rs. 20 per meter. How much money does an owner get?

एक भूखंड की लंबाई और चौड़ाई का अनुपात 1:2 है। भूखंड की परिधि 500 मीटर है। मालिक प्लॉट को 20 रुपये प्रति मीटर बेचता है। मालिक को कितना पैसा मिलता है?

600000

A

600000

625000

B

625000

700000

C

700000

650000

D

650000

Correct Ans : B

Subject : General Aptitude

Q.No: 98 A, B and C can work together for Rs. 550. A and B together are to do  $\frac{7}{11}$  of the work. The share of C should be –

A, और C मिलकर किसी काम को 550 रुपये में पूरा करते हैं। A और B मिलकर काम का  $\frac{7}{11}$  भाग पूरा करते हैं। C का हिस्सा कितना होगा?

Rs. 200

A

200 रुपये

Rs. 300

B

300 रुपये

Rs. 400

C

400 रुपये

Rs. 450

D

450 रुपये

Correct Ans : A

Subject : General Aptitude

Q.No: 99 What is the median of the numbers 29, 27, 32, 23, 18, 18, 32, 31, 28, 15, 35, 30?

29, 27, 32, 23, 18, 18, 32, 31, 28, 15, 35, 30 संख्याओं की माधिका ज्ञात कीजिए।

28.5

A

28.5

30.5

B

30.5

29.5

C

29.5

30

D

30

Correct Ans : A

Subject : General Aptitude

Q.No: 100 What should come in place of the question mark (?) in the following number series?  
**2444857**

1.5, 2.3, 3.1, 3.9, ?

निम्नलिखित संख्या श्रृंखला में प्रश्नवाचक चिन्ह (?) के स्थान पर क्या आना चाहिए?

1.5, 2.3, 3.1, 3.9, ?

**4.7**

**A**

**4.7**

**4.2**

**B**

**4.2**

**4.6**

**C**

**4.6**

**5.1**

**D**

**5.1**

Correct Ans : **A**

Subject : **General Aptitude**