



Staff Selection Commission  
(Government Of India)

REGISTRATION NUMBER : www.examstocks.com  
EXAM DATE : 4-October-2017  
EXAM NAME : SSC Examination TOTAL  
MARKS : 150

CANDIDATE NAME : examstocks.com  
EXAM START TIME : 16:30:00 EXAM  
DURATION : 01:30 Hrs TOTAL NO OF  
QUESTIONS : 100

QID : 201 -

In the following question, select the number which can be placed at the sign of question mark (?) from the given alternatives.

निम्नलिखित प्रश्न में दिए गए विकल्पों में से प्रश्न चिह्न (?) के स्थान पर आने वाली संख्या को चुनिए।

2	3	7	5
3	5	2	7
5	7	3	2
10	15	12	?

Options:

- 1) 16
- 2) 18
- 3) 12
- 4) 14

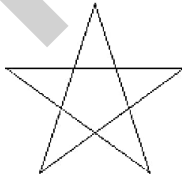
Correct Answer: 14

Candidate Answer: 14

QID : 202 -

How many quadrilaterals are there in the given figure?

दी गई आकृति में कितने चतुर्भुज हैं?



Options:

- 1) 8
- 2) 9
- 3) 10
- 4) 5

Correct Answer: 10

Candidate Answer: 10

QID : 203 -

A word is represented by only one set of numbers as given in any one of the alternatives. The sets of numbers given in the alternatives are represented by two classes of alphabets as shown in the given two matrices. The columns and rows of **Matrix-I** are numbered from 0 to 4 and that of **Matrix-II** are numbered from 5 to 9. A letter from these matrices can be represented first by its row and next by its column, for example, 'L' can be represented by 10, 85, etc., and 'D' can be represented by 31, 69, etc. Similarly, you have to identify the set for the word "BARK".

एक शब्द केवल एक संख्या-समूह द्वारा दर्शाया गया है, जैसा कि विकल्पों में से किसी एक में दिया गया है। विकल्पों में दिए गए संख्या-समूह अक्षरों के दो वर्गों द्वारा दर्शाए गए हैं, जैसा कि दिए गए दो आव्यूहों में है। आव्यूह-I के स्तम्भ और पंक्ति की संख्या 0 से 4 है और आव्यूह-II की 5 से 9। इन आव्यूहों से एक अक्षर को पहले उसकी पंक्ति और बाद में स्तम्भ संख्या द्वारा दर्शाया जा सकता है। उदाहरण के लिए 'L' को 10, 85, आदि द्वारा दर्शाया जा सकता है तथा 'D' को 31, 69, आदि द्वारा दर्शाया जा सकता है। इसी तरह से आपको प्रश्न में दिए शब्द "BARK" के लिए समूह को पहचानना है।

Matrix-I आव्यूह-I					Matrix-II आव्यूह-II						
	0	1	2	3	4		5	6	7	8	9
0	Z	M	V	B	C	5	R	N	P	Z	T
1	L	T	B	P	F	6	G	A	F	B	D
2	K	N	O	M	U	7	O	I	A	K	S
3	W	D	F	G	V	8	L	O	H	R	P
4	C	L	K	V	B	9	W	S	U	I	J

Options:

- 1) 12, 66, 56, 79
- 2) 03, 77, 88, 42
- 3) 03, 77, 55, 22
- 4) 44, 66, 88, 22

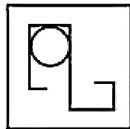
Correct Answer: 03, 77, 88, 42

Candidate Answer: 03, 77, 88, 42

QID : 204 -

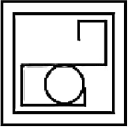
From the given answer figures, select the one in which the question figure is hidden/embedded.

दी गई उत्तर आकृतियों में से उस उत्तर आकृति को चुनिए जिस में प्रश्न आकृति निहित है।



Options:

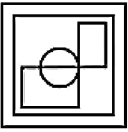
1)



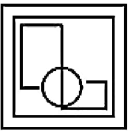
2)



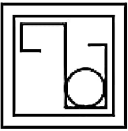
3)



4)



Correct Answer:



Candidate Answer:



QID : 205 -

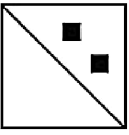
Which answer figure will complete the pattern in the question figure?

कौन सी उत्तर आकृति प्रश्न आकृति के प्रतिरूप को पूरा करेगी?

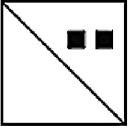


Options:

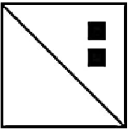
1)



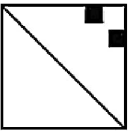
2)



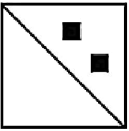
3)



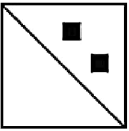
4)



Correct Answer:



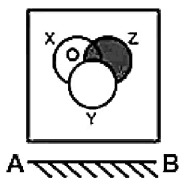
Candidate Answer:



QID : 206 -

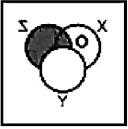
If a mirror is placed on the line AB, then which of the answer figures is the right image of the given figure?

यदि एक दर्पण को AB रेखा पर रखा जाए, तो दी गई उत्तर आकृतियों में से कौन सी आकृति प्रश्न आकृति की सही प्रतिबिम्ब होगी?

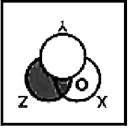


Options:

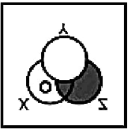
1)



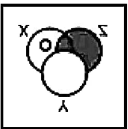
2)



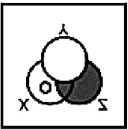
3)



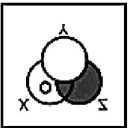
4)



Correct Answer:



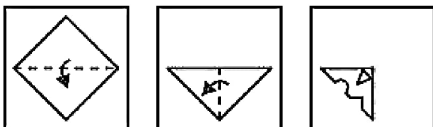
Candidate Answer:



QID : 207 -

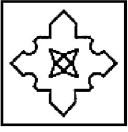
A piece of paper is folded and punched as shown below in the question figures. From the given answer figures, indicate how it will appear when opened?

नीचे के प्रश्न आकृतियों में दिखाए अनुसार कागज को मोड़कर छेदने तथा खोलने के बाद वह किस उत्तर आकृति जैसा दिखाई देगा?



Options:

1)



2)



3)




4)



Correct Answer:



Candidate Answer:



QID : 208 - If 'x' means '+', '-' means 'x', '+' means '-' and '÷' means '+', then

$$16 \div 4 + 9 - 3 = ?$$

यदि 'x' का अर्थ '+', '-' का अर्थ 'x', '+' का अर्थ '-' तथा '÷' का अर्थ '+' हो, तो

$$16 \div 4 + 9 - 3 = ?$$

Options:

- 1) - 17
- 2) - 7
- 3) 17
- 4) - 9

Correct Answer: - 7

Candidate Answer: - 7

QID : 209 - If  $4 @ 3 @ 9 = 16$  and  $2 @ 4 @ 6 = 12$ , then  $4 @ 1 @ 3 = ?$

यदि  $4 @ 3 @ 9 = 16$  तथा  $2 @ 4 @ 6 = 12$  हो, तो  $4 @ 1 @ 3 = ?$

Options:

- 1) 11
- 2) 6
- 3) 8
- 4) 9

Correct Answer: 8

Candidate Answer: 8

QID : 210 - Arrange the given words in the sequence in which they occur in the dictionary.

1. Quel
2. Quasi
3. Quail
4. Quack
5. Quash

निम्नलिखित शब्दों को शब्दकोश में आने वाले क्रम के अनुसार लिखें।

1. Quel
2. Quasi
3. Quail
4. Quack
5. Quash

Options:

- 1) 45312
- 2) 54312
- 3) 43521
- 4) 42315

Correct Answer: 43521

Candidate Answer: 43521

QID : 211 - In the following question, select the missing number from the given alternatives.

7, 9, 13, 19, ?

निम्नलिखित प्रश्न में दिए गए विकल्पों में से लुप्त अंक ज्ञात कीजिए।

7, 9, 13, 19, ?

Options:

- 1) 21
- 2) 23
- 3) 27
- 4) 29

Correct Answer: 27

Candidate Answer: 27

QID : 212 - A series is given with one term missing. Select the correct alternative from the given ones that will complete the series.

IJ, MN, QR, ?

एक अनुक्रम दिया गया है, जिसमें से एक पद लुप्त है। दिए गए विकल्पों में से वह सही विकल्प चुनिए, जो अनुक्रम को पूरा करे।

IJ, MN, QR, ?

Options:

- 1) UV
- 2) VU
- 3) TU
- 4) VT

Correct Answer: UV

Candidate Answer: UV

QID : 213 - In the following question, select the odd word from the given alternatives.

निम्नलिखित प्रश्न में दिए गए विकल्पों में से विषम शब्द को चुनिए।

Options:

- 1) Red  
लाल
- 2) Blue  
नीला
- 3) Violet  
बैंगनी
- 4) White  
सफेद

Correct Answer: White

सफेद

Candidate Answer: White

सफेद

QID : 214 - In the following question, select the odd number from the given alternatives.

निम्नलिखित प्रश्न में दिए गए विकल्पों में से विषम संख्या को चुनिए।

Options:

1) 121

2) 169

3) 225

4) 125

Correct Answer: 125

Candidate Answer: 125

QID : 215 - In the following question, select the odd letters from the given alternatives.

निम्नलिखित प्रश्न में दिए गए विकल्पों में से विषम अक्षरों को चुनिए।

Options:

1) EGI

2) MOQ

3) PRU

4) UWY

Correct Answer: PRU

Candidate Answer: PRU

QID : 216 - Identify the diagram that best represents the relationship among the given classes.

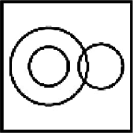
Female, Labour, Manager

वह आरेख चुनिए जो नीचे दिए गए वर्गों के बीच के संबंध का सही निरूपण करता है।

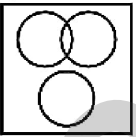
महिला, मज़दूर, प्रबंधक

Options:

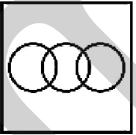
1)



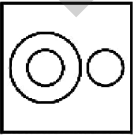
2)



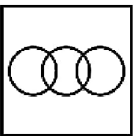
3)



4)

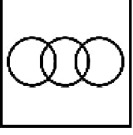


Correct Answer:





Candidate Answer:



QID : 217 - In the following question, select the related word from the given alternatives.

West : North-East :: South : ?

निम्नलिखित प्रश्न में दिए गए विकल्पों में से संबंधित शब्द को चुनिए।

पश्चिम : उत्तर-पूर्व :: दक्षिण : ?

Options:

- 1) South-East  
दक्षिण-पूर्व
- 2) North-West  
उत्तर-पश्चिम
- 3) North-East  
उत्तर-पूर्व
- 4) South-West  
दक्षिण-पश्चिम

Correct Answer: North-West  
उत्तर-पश्चिम

Candidate Answer: North-West  
उत्तर-पश्चिम

QID : 218 - In the following question, select the related number from the given alternatives.

36 : 25 :: 100 : ?

निम्नलिखित प्रश्न में दिए गए विकल्पों में से संबंधित संख्या को चुनिए।

36 : 25 :: 100 : ?

Options:

- 1) 64
- 2) 169
- 3) 121
- 4) 81

Correct Answer: 81

Candidate Answer: 81

QID : 219 - In the following question, select the related letters from the given alternatives.

BAND : DCPF :: FUSY : ?

निम्नलिखित प्रश्न में दिए गए विकल्पों में से संबंधित अक्षरों को चुनिए।

BAND : DCPF :: FUSY : ?

Options:

- 1) GVTZ
- 2) HWTZ
- 3) GVUA
- 4) HWUA

Correct Answer: HWUA

Candidate Answer: HWUA

QID : 220 - In the following question, select the word which cannot be formed using the letters of the given word.

COMPLIMENTARY

निम्नलिखित विकल्पों में से वह शब्द चुनिए जो दिए गए शब्द के अक्षरों का प्रयोग करके नहीं बनाया जा सकता।

COMPLIMENTARY



**Options:**

- 1) TRIM
- 2) TRAPS
- 3) PRIME
- 4) TRAIN

**Correct Answer:** TRAPS

**Candidate Answer:** TRAPS

**QID : 221** - The ratio of the present ages of A and B is 5 : 8. If after 8 years the ratio of ages of A and B will be 2 : 3, then what is the present age (in years) of A?

A तथा B की वर्तमान आयु का अनुपात 5 : 8 है। यदि 8 वर्षों पश्चात A तथा B की आयु का अनुपात 2 : 3 हो जाएगा, तो A की वर्तमान आयु (वर्षों में) क्या है?

**Options:**

- 1) 64
- 2) 40
- 3) 48
- 4) 72

**Correct Answer:** 40

**Candidate Answer:** 40

**QID : 222** - A is father of B, but B is not his son. D is wife of A. C is son of D. How is D related to B?

A, B का पिता है परंतु B उसका पुत्र नहीं है। D, A की पत्नी है। C, D का पुत्र है। D, B से किस प्रकार संबंधित है?

**Options:**

- 1) Daughter  
पुत्री
- 2) Brother  
भाई
- 3) Mother  
माता
- 4) Cannot be determined  
ज्ञात नहीं किया जा सकता

**Correct Answer:** Mother

माता

**Candidate Answer:** Mother

माता

**QID : 223** - In the following question below are given some statements followed by some conclusions. Taking the given statements to be true even if they seem to be at variance from commonly known facts, read all the conclusions and then decide which of the given conclusion logically follows the given statements.

**Statements:**

- I. All books are thick.
- II. Some thick are white.

**Conclusions:**

- I. Some books are white.
- II. Some books are not white.

नीचे दिए गए प्रश्न में कुछ कथन और उनके बाद उन कथनों पर आधारित कुछ निष्कर्ष दिए गए हैं, हालांकि उनमें सामान्य ज्ञात तथ्यों से भिन्नता हो सकती है। सभी निष्कर्ष पढ़ें और फिर निर्धारित करें कि दिए गए कौन से निष्कर्ष, दिए गए कथनों के आधार पर युक्तिसंगत हैं।

**कथन:**

- I. सभी पुस्तकें मोटी हैं।
- II. कुछ मोटे सफेद हैं।

**निष्कर्ष:**

- I. कुछ पुस्तकें सफेद हैं।
- II. कुछ पुस्तकें सफेद नहीं हैं।

**Options:**

- 1) Only conclusion (I) follows.  
केवल निष्कर्ष (I) सही है।
- 2) Only conclusion (II) follows.  
केवल निष्कर्ष (II) सही है।
- 3) Both conclusion follow.  
दोनों ही निष्कर्ष सही हैं।
- 4) Neither conclusion (I) nor conclusion (II) follows.  
न तो निष्कर्ष (I) न ही निष्कर्ष (II) सही है।

**Correct Answer:** Neither conclusion (I) nor conclusion (II) follows.

न तो निष्कर्ष (I) न ही निष्कर्ष (II) सही है।

**Correct Answer:** Neither conclusion (I) nor conclusion (II) follows.

न तो निष्कर्ष (I) न ही निष्कर्ष (II) सही है।

**Candidate Answer:** Both conclusion follow.  
दोनों ही निष्कर्ष सही हैं।

**QID : 224** - In a certain code language, "COMB" is written as "DQPF". How is "GOAT" written in that code language?

एक विशिष्ट कोड भाषा में, "COMB" को "DQPF" लिखा जाता है इस कोड भाषा में "GOAT" को किस प्रकार लिखा जाएगा?

**Options:**

- 1) HQDX
- 2) HQCX
- 3) HQDY
- 4) HRDX

**Correct Answer:** HQDX

**Candidate Answer:** HQDX

**QID : 225** - In a certain code language, "HIM" is written as "60" and "HER" is written as "62". How is "HIS" written in that code language?

एक विशिष्ट कोड भाषा में, "HIM" को "60" तथा "HER" को "62" लिखा जाता है। इस कोड भाषा में "HIS" को किस प्रकार लिखा जाएगा?

**Options:**

- 1) 70
- 2) 74
- 3) 72
- 4) 73

**Correct Answer:** 72

**Candidate Answer:** 72

**QID : 226** -

What is the value of  $\sqrt{247 + \sqrt{81}}$ ?

$\sqrt{247 + \sqrt{81}}$  का मान क्या है?

**Options:**

- 1) 14
- 2) 16
- 3) 18
- 4) 15

**Correct Answer:** 16

**Candidate Answer:** 16

**QID : 227** - How many positive factors of 288 are there?

288 के कितने धनात्मक गुणखंड हैं?

**Options:**

- 1) 18
- 2) 15
- 3) 10
- 4) 16

**Correct Answer:** 18

**Candidate Answer:** 16

**QID : 228** - What is the HCF of  $2^3 \times 7^2$  and  $2^5 \times 3^1$ ?

$2^3 \times 7^2$  तथा  $2^5 \times 3^1$  महत्तम समापवर्तक क्या है?

**Options:**

- 1)  $2^3 \times 3^1$
- 2)  $2^3 \times 7^2 \times 3^1$
- 3)  $2^3$
- 4)  $3^1 \times 7^2$

**Correct Answer:**  $2^3$

**QID : 229** - What is the value of  $12^2 - 11^2 + 14^2 - 13^2 + 16^2 - 15^2 + 18^2 - 17^2 + 20^2 - 19^2$ ?

$12^2 - 11^2 + 14^2 - 13^2 + 16^2 - 15^2 + 18^2 - 17^2 + 20^2 - 19^2$  का मान क्या है?

**Options:**

- 1) 135
- 2) 198
- 3) 172
- 4) 155

**Correct Answer:** 155

**Candidate Answer:** 155

**QID : 230** - What will be the remainder when sum  $(433 + 434 + 435 + 436 + 437)$  is divided by 6?

जब  $(433 + 434 + 435 + 436 + 437)$  के योग को 6 से भाग दिया जाए, तो शेषफल क्या होगा?

**Options:**

- 1) 5
- 2) 4
- 3) 3
- 4) 2

**Correct Answer:** 3

**Candidate Answer:** 3

**QID : 231** - What is the least number multiplied to 100, so that the number becomes a multiple of 15?

100 से ऐसी कौन सी सबसे छोटी संख्या गुणा की जाए, ताकि संख्या 15 की गुणज हो जाए?

**Options:**

- 1) 5
- 2) 2
- 3) 4
- 4) 3

**Correct Answer:** 3

**Candidate Answer:** 3

**QID : 232** - Working 15 hours a day, Goldy can complete a piece of work in 24 days. How many hours a day he should work so as to finish the work in 18 days?

प्रतिदिन 15 घंटे कार्य करके, गोल्डी किसी कार्य को 24 दिनों में पूरा कर सकता है। कार्य को 18 दिनों में समाप्त करने के लिए उसे प्रतिदिन कितने घंटे काम करना होगा?

**Options:**

- 1) 20
- 2) 16
- 3) 18
- 4) 8

**Correct Answer:** 20

**Candidate Answer:** 20

**QID : 233** - S can do a piece of work in 80 days and T in 60 days. With help of U, they finish the work in 20 days. In how many days U alone can do the same work?

S किसी कार्य को 80 दिन में कर सकता है तथा T, 60 दिन में U की सहायता से वे कार्य को 20 दिन में समाप्त कर लेते हैं। U अकेला उस कार्य को कितने दिन में करेगा?

**Options:**

- 1) 40
- 2) 60
- 3) 48
- 4) 80

**Correct Answer:** 48

**Candidate Answer:** 48

**QID : 234** - The length and breadth of a rectangular field are in the ratio of 5 : 2. If the perimeter of the field is 140 metres, then what is the breadth (in metres)?

किसी आयताकार क्षेत्र की लम्बाई तथा चौड़ाई का अनुपात 5 : 2 है। यदि आयताकार क्षेत्र का परिमाप 140 मीटर हो, तो उसकी चौड़ाई (मीटर में) क्या होगी?

**Options:**

- 1) 20
- 2) 25
- 3) 30
- 4) 35

**Correct Answer:** 20

**Candidate Answer:** 20

**QID : 235** - The marked price of an article is twice the cost price. For a gain of 40%, what should be the discount percentage?

एक वस्तु का अंकित मूल्य इसकी लागत मूल्य से दोगुना है। 40% लाभ प्राप्त करने के लिए, छूट प्रतिशत क्या होगी?

**Options:**

- 1) 20
- 2) 30
- 3) 45
- 4) 50

**Correct Answer:** 30

**Candidate Answer:** 30

**QID : 236** - What is the net discount (in percentage) for successive discounts of 20% and 30%?

20% तथा 30% के दो क्रमागत छूट किस निवल (नेट) छूट (प्रतिशत में) के बराबर है?

**Options:**

- 1) 44
- 2) 56
- 3) 50
- 4) 54

**Correct Answer:** 44

**Candidate Answer:** 44

**QID : 237** - If  $\frac{4}{3}$  of  $P = \frac{2}{3}$  of  $Q$ , then what is  $P : Q$ ?

यदि  $P$  का  $\frac{4}{3} = Q$  का  $\frac{2}{3}$  हो, तो  $P : Q$  क्या होगा?

**Options:**

- 1) 1 : 2
- 2) 2 : 3
- 3) 1 : 3
- 4) 3 : 2

**Correct Answer:** 1 : 2

**Candidate Answer:** 1 : 2

**QID : 238** - If  $(\frac{5}{4})P = (\frac{2}{3})Q = (\frac{3}{4})R$ , then what is  $P : Q : R$ ?

यदि  $(\frac{5}{4})P = (\frac{2}{3})Q = (\frac{3}{4})R$  हो, तो  $P : Q : R$  क्या होगा?

**Options:**

- 1) 24 : 45 : 40
- 2) 24 : 18 : 45
- 3) 24 : 40 : 45
- 4) 12 : 45 : 40

**Correct Answer:** 24 : 45 : 40

**Candidate Answer:** 24 : 45 : 40

**QID : 239** - The average of 15 numbers is 20 and the average of first five numbers is 18. What is the average of the remaining numbers?

15 संख्याओं का औसत 20 है। तथा प्रथम पाँच संख्याओं का औसत 18 है। शेष संख्याओं का औसत क्या है?

**Options:**

- 1) 21
- 2) 25
- 3) 28
- 4) 30

**Correct Answer:** 21

**Candidate Answer:** 21

**QID : 240** - A man gains 40% by selling an article for a certain price. If he sells it at double the price, then what will be the profit percentage?

एक वस्तु को किसी निश्चित मूल्य पर बेचकर एक व्यक्ति 40% लाभ कमाता है। यदि वह उस वस्तु को दोगुनी कीमत पर बेचे, तो लाभ का प्रतिशत क्या होगा

**Options:**

1) 140

2) 280

3) 260

4) 180

**Correct Answer:** 180

**Candidate Answer:** 180

**QID : 241** - By selling an article at 7% profit instead of 11% loss, a man gains Rs 720 more. What is the cost price (in Rs) of that article?

एक वस्तु को 11% हानि के बदले 7% लाभ पर बेचने से एक व्यक्ति को 720 रु अधिक प्राप्त होते हैं। वस्तु का क्रय मूल्य (रु में) क्या है?

**Options:**

1) 3200

2) 4000

3) 4800

4) 7200

**Correct Answer:** 4000

**Candidate Answer:** 4000

**QID : 242** - In a school 65% of the students are girls. If number of boys is 420, then what is the total number of students in the school?

एक विद्यालय में 65% विद्यार्थी लड़कियाँ हैं। यदि लड़कों की संख्या 420 है, तो विद्यालय में कुल कितने विद्यार्थी हैं?

**Options:**

1) 1050

2) 1320

3) 1200

4) 1500

**Correct Answer:** 1200

**Candidate Answer:** 1200

**QID : 243** - If the price of a commodity is decreased by 10% and its consumption is increased by 20%, then what will be the increase or decrease in the expenditure of the commodity?

एक वस्तु की कीमत 10% कम हो जाती है तथा इसकी खपत 20% बढ़ जाती है, तो वस्तु पर खर्च में कितने प्रतिशत की कमी या वृद्धि होगी?

**Options:**

1) 8% decrease

8% की कमी

2) 8% increase

8% की वृद्धि

3) 10% increase

10% की वृद्धि

4) 10% decrease

10% की कमी

**Correct Answer:** 8% increase

8% की वृद्धि

**Candidate Answer:** 8% increase

8% की वृद्धि

**QID : 244** - Speeds of a boat along the current and against the current are 14 km/hr and 7 km/hr respectively. What is the speed (in km/hr) of the current?

एक नाव की गति धारा के अनुकूल तथा धारा के प्रतिकूल दिशा में क्रमशः 14 कि.मी./घंटा तथा 7 कि.मी./घंटा है। धारा की गति (कि.मी./घंटा में) क्या है?

**Options:**

1) 3.5

2) 1.5

3) 2.5

4) 3

**Correct Answer:** 3.5

**Candidate Answer:** 3.5

**QID : 245** - A man can cover a certain distance in 6 hours if he walks at the rate of 8 km/hr. If he covers the same distance on cycle at the rate of 12 km/hr, then what is the time (in hours) taken by him?

एक व्यक्ति यदि 8 कि.मी./घंटा की गति से चले तो वह एक निश्चित दूरी 6 घंटे में तय कर लेता है। यदि वह वही दूरी साइकिल पर 12 कि.मी./घंटा की गति से तय करे तो उसे कितना समय (घंटों में) लगेगा?

Options:

- 1) 3
- 2) 4
- 3) 2
- 4) 5

Correct Answer: 4

Candidate Answer: 4

QID : 246 - A certain principal is invested in a scheme of compound interest. The amount obtained after 2 year is Rs 1210 and the amount obtained after 3 years is Rs 1331. What is the rate of interest (in percentage)?

एक निश्चित मूलधन चक्रवृद्धि ब्याज की एक योजना में निवेश किया गया। 2 वर्ष पश्चात पाए जाने वाला मिश्रधन 1210 रु है तथा 3 वर्ष पश्चात पाए जाने वाला मिश्रधन 1331 रु है। ब्याज की दर (प्रतिशत में) क्या है?

Options:

- 1) 5
- 2) 10
- 3) 15
- 4) 20

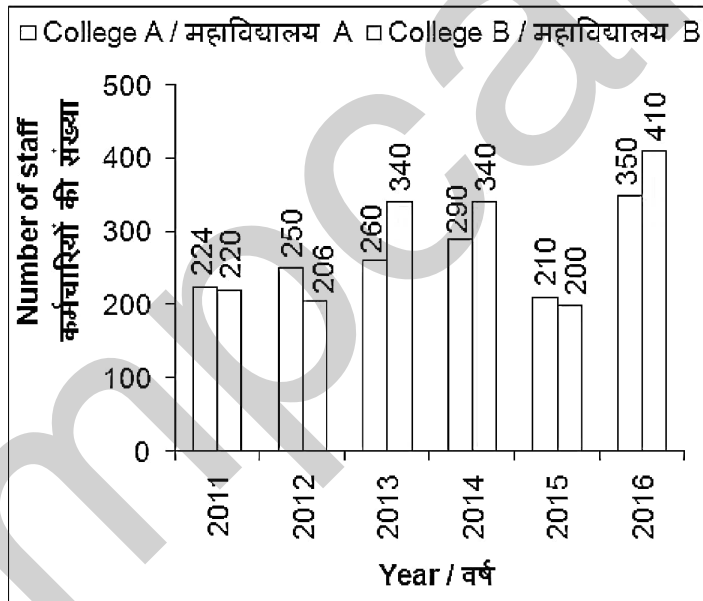
Correct Answer: 10

Candidate Answer: 10

QID : 247 -

The bar chart given below shows the number of staff in colleges A and B from years 2011 to 2016.

नीचे दिए गए दण्ड चित्र में वर्ष 2011 से 2016 तक दो महाविद्यालयों A तथा B में कर्मचारियों की संख्या को दर्शाया गया है।



The number of staff in college A in year 2015 is how much percent more than the number of staff in college B in year 2015?

वर्ष 2015 में, महाविद्यालय A में कर्मचारियों की संख्या वर्ष 2015 में, महाविद्यालय B में कर्मचारियों की संख्या से कितने प्रतिशत अधिक है?

Options:

- 1) 5
- 2) 8
- 3) 10
- 4) 15

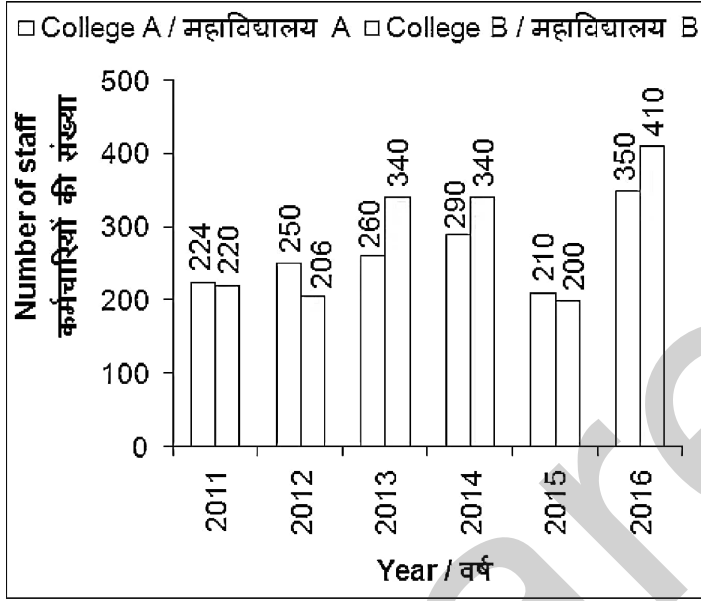
Correct Answer: 5

Candidate Answer: 5

QID : 248 -

The bar chart given below shows the number of staff in colleges A and B from years 2011 to 2016.

नीचे दिए गए दण्ड चित्र में वर्ष 2011 से 2016 तक दो महाविद्यालयों A तथा B में कर्मचारियों की संख्या को दर्शाया गया है।



The number of staff in college B is same in which two years?

किन दो वर्षों में महाविद्यालय B में कर्मचारियों की संख्या समान है?

**Options:**

- 1) 2013 and 2014  
2013 तथा 2014
- 2) 2014 and 2015  
2014 तथा 2015
- 3) 2012 and 2015  
2012 तथा 2015
- 4) 2011 and 2012  
2011 तथा 2012

**Correct Answer:** 2013 and 2014  
2013 तथा 2014

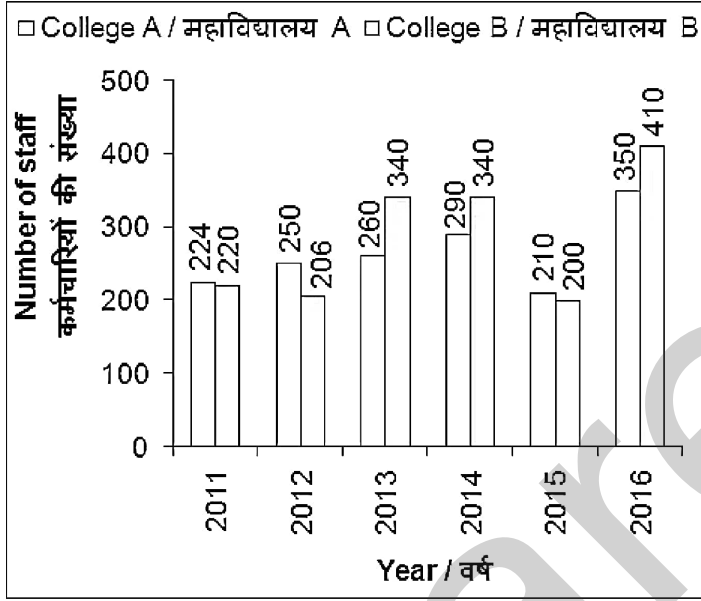
**Candidate Answer:** 2013 and 2014  
2013 तथा 2014



QID : 249 -

The bar chart given below shows the number of staff in colleges A and B from years 2011 to 2016.

नीचे दिए गए दण्ड चित्र में वर्ष 2011 से 2016 तक दो महाविद्यालयों A तथा B में कर्मचारियों की संख्या को दर्शाया गया है।



What is the average number of staff in college B in the given six years?

दिए गए छह वर्षों में महाविद्यालय B में कर्मचारियों की औसत संख्या क्या है?

Options:

- 1) 286
- 2) 280
- 3) 308
- 4) 270

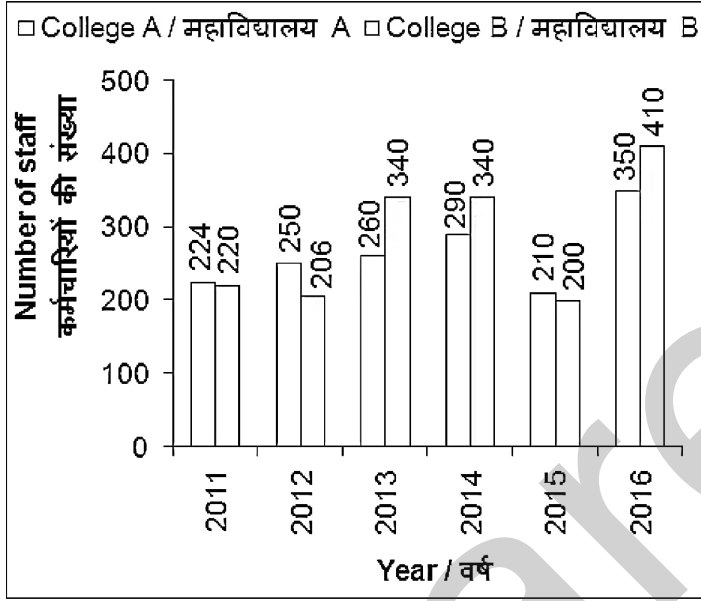
Correct Answer: 286

Candidate Answer: 286

QID : 250 -

The bar chart given below shows the number of staff in colleges A and B from years 2011 to 2016.

नीचे दिए गए दण्ड चित्र में वर्ष 2011 से 2016 तक दो महाविद्यालयों A तथा B में कर्मचारियों की संख्या को दर्शाया गया है।



For how many years the number of staff in college B is more than the number of staff in college A?

कितने वर्षों के लिए महाविद्यालय B में कर्मचारियों की संख्या महाविद्यालय A में कर्मचारियों की संख्या से अधिक है?

Options:

- 1) 2
- 2) 3
- 3) 1
- 4) 4

Correct Answer: 3

Candidate Answer: 3

QID : 251 - In the following question, some part of the sentence may have errors. Find out which part of the sentence has an error and select the appropriate option. If a sentence is free from error, select 'No Error'.

Dharampal will be remain in jail (1)/because of the other cases (2)/pending against him. (3)/ No Error (4)

Options:

- 1) 1
- 2) 2
- 3) 3
- 4) 4

Correct Answer: 1

Candidate Answer: 2

QID : 252 - In the following question, some part of the sentence may have errors. Find out which part of the sentence has an error and select the appropriate option. If a sentence is free from error, select 'No Error'.

When he was arrested by the police (1)/ in November 2014, his followers go on (2)/ the rampage for two weeks. (3)/ No Error (4)

**Options:**

- 1) 1
- 2) 2
- 3) 3
- 4) 4

**Correct Answer:** 2

**Candidate Answer:** 2

**QID : 253** - In the following question, the sentence given with blank to be filled in with an appropriate word. Select the correct alternative out of the four and indicate it by selecting the appropriate option.

**She lost \_\_\_\_\_ hope she had.**

**Options:**

- 1) the little
- 2) much
- 3) few
- 4) a very

**Correct Answer:** the little

**Candidate Answer:** the little

**QID : 254** - In the following question, the sentence given with blank to be filled in with an appropriate word. Select the correct alternative out of the four and indicate it by selecting the appropriate option.

**I had hardly finished my work \_\_\_\_\_ the phone rang.**

**Options:**

- 1) then
- 2) where
- 3) than
- 4) when

**Correct Answer:** when

**Candidate Answer:** when

**QID : 255** - In the following question, out of the given four alternatives, select the one which best expresses the meaning of the given word.

**Quiver**

**Options:**

- 1) Soothe
- 2) Still
- 3) Shake
- 4) Calm

**Correct Answer:** Shake

**Candidate Answer:** Soothe

**QID : 256** - In the following question, out of the given four alternatives, select the one which best expresses the meaning of the given word.

**Muddle**

**Options:**

- 1) Order
- 2) Difficulty
- 3) Enlightenment
- 4) Organization

**Correct Answer:** Difficulty

**Candidate Answer:** Enlightenment

**QID : 257** - In the following question, out of the given four alternatives, select the one which best expresses the meaning of the given word.

**Plod**

**Options:**

- 1) Breeze
- 2) Walk lightly
- 3) Tiptoe
- 4) Drag

**Correct Answer:** Drag

**Candidate Answer:** Drag

**Correct Answer:** Drag

**Candidate Answer:** [ NOT ANSWERED ]

**QID : 258** - In the following question, out of the given four alternatives, select the one which is opposite in meaning of the given word.

**Evoke**

**Options:**

- 1) Stop
- 2) Call
- 3) Extract
- 4) Raise

**Correct Answer:** Stop

**Candidate Answer:** Stop

**QID : 259** - In the following question, out of the given four alternatives, select the one which is opposite in meaning of the given word.

**Offset**

**Options:**

- 1) Charge
- 2) Balance
- 3) Disproportion
- 4) Equal

**Correct Answer:** Disproportion

**Candidate Answer:** Disproportion

**QID : 260** - In the following question, out of the given four alternatives, select the one which is opposite in meaning of the given word.

**Deplete**

**Options:**

- 1) Empty
- 2) Lessen
- 3) Expand
- 4) Waste

**Correct Answer:** Expand

**Candidate Answer:** Expand

**QID : 261** - In the following question, out of the four given alternatives, select the alternative which best expresses the meaning of the Idiom/Phrase.

**Apple of one's eye**

**Options:**

- 1) Covered up for
- 2) Punished severely
- 3) Very dear to someone
- 4) Enemy of someone

**Correct Answer:** Very dear to someone

**Candidate Answer:** Very dear to someone

**QID : 262** - In the following question, out of the four given alternatives, select the alternative which best expresses the meaning of the Idiom/Phrase.

**To work like a dog**

**Options:**

- 1) To work very slowly
- 2) Very moody
- 3) To work very hard
- 4) To work untimely

**Correct Answer:** To work very hard

**Candidate Answer:** To work very hard

**QID : 263** - Improve the bracketed part of the sentence.

We all believe that a slight elevation (**in your**) body temperature means we are getting sick.

**Options:**

- 1) to ours
- 2) at your
- 3) in our
- 4) No improvement

**Correct Answer:** in our

**Candidate Answer:** in our

**QID : 264** - Improve the bracketed part of the sentence.

It is lowest in the morning and (**little lesser**) during late afternoon.

**Options:**

- 1) little lower
- 2) many lesser
- 3) most lowest
- 4) No improvement

**Correct Answer:** little lower

**Candidate Answer:** little lower

**QID : 265** - In the following question, out of the four given alternatives, select the alternative which is the best substitute of the phrase.

**A list and explanation of difficult words.**

**Options:**

- 1) Glossary
- 2) Itinerary
- 3) Stationary
- 4) Summary

**Correct Answer:** Glossary

**Candidate Answer:** Glossary

**QID : 266** - In the following question, out of the four given alternatives, select the alternative which is the best substitute of the phrase.

**A notice of death of a person.**

**Options:**

- 1) Contributory
- 2) Mandatory
- 3) Obituary
- 4) Explanatory

**Correct Answer:** Obituary

**Candidate Answer:** Obituary

**QID : 267** - In the following question, a word has been written in four different ways out of which only one is correctly spelt. Select the correctly spelt word.

**Options:**

- 1) Potatoes
- 2) Patatoes
- 3) Patotoes
- 4) Potatos

**Correct Answer:** Potatoes

**Candidate Answer:** Potatoes

**QID : 268** - In the following question, a word has been written in four different ways out of which only one is correctly spelt. Select the correctly spelt word.

**Options:**

- 1) Profesor
- 2) Profesore
- 3) Professor
- 4) Professer



**Candidate Answer:** Professor

**QID : 269** - Rearrange the parts of the sentence in correct order.

Methane is another

**P:** greenhouse gas release in the

**Q:** atmosphere by the anaerobic

**R:** decomposition of organic materials

**Options:**

1) PQR

2) RPQ

3) PRQ

4) QPR

**Correct Answer:** PQR

**Candidate Answer:** PQR

**QID : 270** - Rearrange the parts of the sentence in correct order.

Education is an essential

**P:** get success in life and

**Q:** earn respect and recognition

**R:** tool for everyone to

**Options:**

1) PRQ

2) RPQ

3) QPR

4) QRP

**Correct Answer:** RPQ

**Candidate Answer:** RPQ

**QID : 271** - In the following passage some of the words have been left out. Read the passage carefully and select the correct answer for the given blank out of the four alternatives.

It is really tragic that in the \_\_\_\_\_ world of today, the evil of dowry continues to exist in all its horrid forms. Many homes are broken and several families are driven to ruin only because they are too poor to \_\_\_\_\_ a rich dowry. Previously, in the selection of a bride, her family background, education and her \_\_\_\_\_ worth used to be the primary consideration. Now, dowry is the \_\_\_\_\_ and the only consideration in a majority of the matrimonial alliances. As a result, dowry, which was at one time a token of love and affection, has become a \_\_\_\_\_ of oppression and exploitation of the worst order.

**really tragic that in the \_\_\_\_\_ world**

**Options:**

1) progressive

2) regressive

3) conclusive

4) inductive

**Correct Answer:** progressive

**Candidate Answer:** progressive

**QID : 272** - In the following passage some of the words have been left out. Read the passage carefully and select the correct answer for the given blank out of the four alternatives.

It is really tragic that in the \_\_\_\_\_ world of today, the evil of dowry continues to exist in all its horrid forms. Many homes are broken and several families are driven to ruin only because they are too poor to \_\_\_\_\_ a rich dowry. Previously, in the selection of a bride, her family background, education and her \_\_\_\_\_ worth used to be the primary consideration. Now, dowry is the \_\_\_\_\_ and the only consideration in a majority of the matrimonial alliances. As a result, dowry, which was at one time a token of love and affection, has become a \_\_\_\_\_ of oppression and exploitation of the worst order.

**they are too poor to \_\_\_\_\_ a rich dowry.**

**Options:**

1) concord

2) afford

3) discord

4) oxford

**Correct Answer:** afford

**Candidate Answer:** afford

**QID : 273** - In the following passage some of the words have been left out. Read the passage carefully and select the correct answer for the given blank out of the four alternatives.

It is really tragic that in the \_\_\_\_\_ world of today, the evil of dowry continues to exist in all its horrid forms. Many homes are broken and several families are driven to ruin only because they are too poor to \_\_\_\_\_ a rich dowry. Previously, in the selection of a bride, her family background, education and her \_\_\_\_\_ worth used to be the primary consideration. Now, dowry is the \_\_\_\_\_ and the only consideration in a majority of the matrimonial alliances. As a result, dowry, which was at one time a token of love and affection, has become a \_\_\_\_\_ of oppression and exploitation of the worst order.

her \_\_\_\_\_ worth used to be the primary

**Options:**

- 1) immoral
- 2) work
- 3) moralistic
- 4) analgesic

**Correct Answer:** moralistic

**Candidate Answer:** moralistic

**QID : 274** - In the following passage some of the words have been left out. Read the passage carefully and select the correct answer for the given blank out of the four alternatives.

It is really tragic that in the \_\_\_\_\_ world of today, the evil of dowry continues to exist in all its horrid forms. Many homes are broken and several families are driven to ruin only because they are too poor to \_\_\_\_\_ a rich dowry. Previously, in the selection of a bride, her family background, education and her \_\_\_\_\_ worth used to be the primary consideration. Now, dowry is the \_\_\_\_\_ and the only consideration in a majority of the matrimonial alliances. As a result, dowry, which was at one time a token of love and affection, has become a \_\_\_\_\_ of oppression and exploitation of the worst order.

dowry is the \_\_\_\_\_ and the only

**Options:**

- 1) first
- 2) last
- 3) medium
- 4) penultimate

**Correct Answer:** first

**Candidate Answer:** first

**QID : 275** - In the following passage some of the words have been left out. Read the passage carefully and select the correct answer for the given blank out of the four alternatives.

It is really tragic that in the \_\_\_\_\_ world of today, the evil of dowry continues to exist in all its horrid forms. Many homes are broken and several families are driven to ruin only because they are too poor to \_\_\_\_\_ a rich dowry. Previously, in the selection of a bride, her family background, education and her \_\_\_\_\_ worth used to be the primary consideration. Now, dowry is the \_\_\_\_\_ and the only consideration in a majority of the matrimonial alliances. As a result, dowry, which was at one time a token of love and affection, has become a \_\_\_\_\_ of oppression and exploitation of the worst order.

has become a \_\_\_\_\_ of oppression

**Options:**

- 1) cause
- 2) result
- 3) effect
- 4) idea

**Correct Answer:** cause

**Candidate Answer:** cause

**QID : 276** - What is the full form of FICCI?

एफ. आई. सी. सी. आई का असंक्षिप्त रूप क्या है?

**Options:**

- 1) Federation of Indian Chamber of Commerce & Industry  
फेडरेशन ऑफ इंडियन चैंबर ऑफ कॉमर्स एण्ड इंडस्ट्री
- 2) Federation of International Chamber of Commerce & Industry  
फेडरेशन ऑफ इंटरनेशनल चैंबर ऑफ कॉमर्स एण्ड इंडस्ट्री
- 3) Federation of Indonesian Chamber of Commerce & Industry  
फेडरेशन ऑफ इंडोनेशियन चैंबर ऑफ कॉमर्स एण्ड इंडस्ट्री
- 4) Federation of Iranian Chamber of Commerce & Industry  
फेडरेशन ऑफ इरानियन चैंबर ऑफ कॉमर्स एण्ड इंडस्ट्री

**Correct Answer:** Federation of Indian Chamber of Commerce & Industry

फेडरेशन ऑफ इंडियन चैंबर ऑफ कॉमर्स एण्ड इंडस्ट्री

**Candidate Answer:** Federation of Indian Chamber of Commerce & Industry

फेडरेशन ऑफ इंडियन चैंबर ऑफ कॉमर्स एण्ड इंडस्ट्री

**QID : 277** - What is the meaning of National income?

राष्ट्रीय आय का क्या अर्थ है?

**Options:**

- 1) Wages only  
केवल मजदूरी
- 2) Rent only  
केवल किराया
- 3) Sum of all factor costs  
सभी स्थायी लागत का जोड़
- 4) None of these  
इनमें से कोई नहीं

**Correct Answer:** Sum of all factor costs  
सभी स्थायी लागत का जोड़

**Candidate Answer:** None of these  
इनमें से कोई नहीं

**QID : 278** - Under which article president declares 'Financial Emergency' in India?

भारत में राष्ट्रपति किस अनुच्छेद के अंतर्गत 'वित्तीय आपात' घोषित करता है?

**Options:**

- 1) Article 360  
अनुच्छेद 360
- 2) Article 280  
अनुच्छेद 280
- 3) Article 300  
अनुच्छेद 300
- 4) Article 110  
अनुच्छेद 110

**Correct Answer:** Article 360  
अनुच्छेद 360

**Candidate Answer:** Article 360  
अनुच्छेद 360

**QID : 279** - Other than 'Right to life' which other right is mentioned in article 21 of Indian Constitution?

जीवन के अधिकार' के अलावा भारतीय संविधान के अनुच्छेद 21 में और कौन सा अधिकार दिया हुआ है?

**Options:**

- 1) Right to Education  
शिक्षा का अधिकार
- 2) Right to Freedom  
स्वतंत्रता का अधिकार
- 3) Right to Equality  
समानता का अधिकार
- 4) Right to Food  
भोजन का अधिकार

**Correct Answer:** Right to Food  
भोजन का अधिकार

**Candidate Answer:** Right to Equality  
समानता का अधिकार

**QID : 280** - Arrange the following rulers in the correct order according to the period of their rule.

1. Qutbuddin Aibak
2. Ghiyasuddin Balban
3. Shamsuddin Iltutmish
4. Razia

निम्नलिखित शासकों को अपने शासनकाल की अवधि के अनुसार सही क्रम में व्यवस्थित करें।

1. कुतुबुद्दीन ऐबक
2. गयासुद्दीन बलबन
3. शमसुद्दीन इल्तुतमिश
4. रज़िया

**Options:**

- 1) 1, 4, 3, 2
- 2) 2, 3, 4, 1
- 3) 4, 2, 3, 1
- 4) 1, 3, 4, 2

**Correct Answer:** 1, 3, 4, 2

**Candidate Answer:** 1, 3, 4, 2

**QID : 281** - In which year Chauri Chaura incident happened?

चौरी चौरा की घटना किस वर्ष में हुई थी?

---



**Options:**

- 1) 1920
- 2) 1922
- 3) 1928
- 4) 1929

**Correct Answer:** 1922

**Candidate Answer:** 1922

**QID : 282 - Amazon river flows through which continent?**

अमेज़न नदी किस महाद्वीप से होकर गुजरती है?

**Options:**

- 1) South America  
दक्षिणी अमेरिका
- 2) Africa  
अफ्रीका
- 3) North America  
उत्तरी अमेरिका
- 4) Asia  
एशिया

**Correct Answer:** South America

दक्षिणी अमेरिका

**Candidate Answer:** Africa

अफ्रीका

**QID : 283 - Maitri' and 'Dakshin Gangotri' are the research stations of India in which continent?**

मैत्री तथा 'दक्षिण गंगोत्री' किस महाद्वीप में भारत के शोध केंद्र हैं?

**Options:**

- 1) Australia  
ऑस्ट्रेलिया
- 2) Africa  
अफ्रीका
- 3) South America  
दक्षिणी अमेरिका
- 4) Antarctica  
अंटार्कटिका

**Correct Answer:** Antarctica

अंटार्कटिका

**Candidate Answer:** [ NOT ANSWERED ]

**QID : 284 - Which among the following is not an example of terrestrial habitat?**

निम्नलिखित में से कौन सा एक स्थलीय आवास का उदाहरण नहीं है?

**Options:**

- 1) Forest  
वन
- 2) Grasslands  
घास के मैदान
- 3) Deserts  
मरुस्थल
- 4) Swamps  
दल-दल

**Correct Answer:** Swamps

दल-दल

**Candidate Answer:** Swamps

दल-दल

**QID : 285 - A specific function of light energy in the process of photosynthesis is to \_\_\_\_\_.**

प्रकाश संश्लेषण की प्रक्रिया में प्रकाश ऊर्जा का एक विशेष कार्य \_\_\_\_\_ है।

**Options:**

- 1) activate chlorophyll  
क्लोरोफिल को सक्रिय करना
- 2) formation of oxygen  
ऑक्सीजन का निर्माण
- 3) absorb water  
जल को सोखना
- 4) reduce CO<sub>2</sub>  
कार्बन डाईऑक्साइड को कम करना

**Correct Answer:** activate chlorophyll

क्लोरोफिल को सक्रिय करना

**Candidate Answer:** activate chlorophyll  
क्लोरोफिल को सक्रिय करना

**QID : 286** - In a human's heart the bicuspid valve is situated between \_\_\_\_\_.

मानव के हृदय में द्विवलनी कपाट \_\_\_\_\_ में स्थित होता है।

**Options:**

- 1) Right ventricle and pulmonary aorta  
दायें निलय और फुफ्फुसी महाधमनी के मध्य
- 2) Left auricle and left ventricle  
बायें अलिंद और दायें निलय के मध्य
- 3) Right auricle and right ventricle  
दायें अलिंद और दायें निलय के मध्य
- 4) Postcaval and auricle  
कोष्ठ केवल और अलिंद के मध्य

**Correct Answer:** Left auricle and left ventricle  
बायें अलिंद और दायें निलय के मध्य

**Candidate Answer:** [ NOT ANSWERED ]

**QID : 287** - What is the process of transferring of charge from a charged object to the earth called?

किसी आवेशित वस्तु से आवेश को पृथ्वी में भेजने की प्रक्रिया को क्या कहते हैं?

**Options:**

- 1) Discharging  
अनावेशन
- 2) Earthing  
भूसम्पर्कण
- 3) Interaction  
अन्योन्य
- 4) Lightning  
तड़ित

**Correct Answer:** Earthing  
भूसम्पर्कण

**Candidate Answer:** Earthing  
भूसम्पर्कण

**QID : 288** - If the reflecting surface of a spherical mirror is curved inwards , it is called \_\_\_\_ mirror.

यदि किसी गोलीय दर्पण का परावर्तक पृष्ठ अवतल है, तो इसे \_\_\_\_\_ दर्पण कहते हैं।

**Options:**

- 1) Convex  
उत्तल
- 2) Concave  
अवतल
- 3) Plane  
समतल
- 4) Planoconvex  
समनलोलतल

**Correct Answer:** Concave  
अवतल

**Candidate Answer:** Concave  
अवतल

**QID : 289** - Integrated Circuits' are made up of which of the following?

एकीकृत सर्किट' निम्नलिखित में से किस से बने होते हैं?

**Options:**

- 1) Aluminum  
अल्युमीनियम
- 2) Silicon  
सिलिकॉन
- 3) Glass  
कांच
- 4) Iron  
लोहा

**Correct Answer:** Silicon  
सिलिकॉन

**Candidate Answer:** Silicon  
सिलिकॉन

**QID : 290** - \_\_\_\_\_ is a lustrous non-metal.

\_\_\_\_\_ एक चमकदार अधातु है।

**Options:**

- 1) Sodium  
सोडियम
- 2) Iodine  
आयोडीन
- 3) Sulphur  
सल्फर
- 4) Phosphorus  
फॉस्फोरस

**Correct Answer:** Iodine  
आयोडीन

**Candidate Answer:** Iodine  
आयोडीन

**QID : 291** - Soda water has a pH value \_\_\_\_\_.

सोडा पानी का पी.एच. मान \_\_\_\_\_ है।

**Options:**

- 1) >7
- 2) <7
- 3) 7
- 4) >14

**Correct Answer:** <7

**Candidate Answer:** <7

**QID : 292** - What are the substances that are broken down by biological process called?

जैविक प्रक्रम द्वारा अपघटित हो जाने वाले पदार्थ क्या कहलाते हैं?

**Options:**

- 1) Non-biodegradable  
अजैव-निम्नीकरणीय
- 2) Biodegradable  
जैव-निम्नीकरणीय
- 3) Fossil  
जीवाश्म
- 4) Inert  
अक्रिय

**Correct Answer:** Biodegradable  
जैव-निम्नीकरणीय

**Candidate Answer:** Biodegradable  
जैव-निम्नीकरणीय

**QID : 293** - Which among the following schemes has the objective to promote apprenticeship training and increase the engagement of apprentices to 50 lakh by 2020?

निम्नलिखित योजनाओं में से किस एक का उद्देश्य शिक्षता प्रशिक्षण को बढ़ावा देना तथा 2020 तक प्रशिक्षुओं की सहभागिता को बढ़ाकर 50 लाख करना है?

**Options:**

- 1) Pradhan Mantri Kaushal Vikas Yojana  
प्रधानमंत्री कौशल विकास योजना
- 2) National Apprenticeship Promotion Scheme  
राष्ट्रीय शिक्षता संवर्धन योजना
- 3) National Skill Development Mission  
राष्ट्रीय कौशल विकास मिशन
- 4) Pradhan Mantri Yuva Yojana  
प्रधानमंत्री युवा योजना

**Correct Answer:** National Apprenticeship Promotion Scheme  
राष्ट्रीय शिक्षता संवर्धन योजना

**Candidate Answer:** Pradhan Mantri Kaushal Vikas Yojana  
प्रधानमंत्री कौशल विकास योजना

**QID : 294** - Who discovered nucleus of a cell?

एक कोशिका के नाभिक की खोज किसने की?

**Options:**

- 1) Robert Hooke  
रॉबर्ट हुक
- 2) Robert Brown  
रॉबर्ट ब्राउन
- 3) Louis Pasteur  
लुई पास्चर
- 4) Felix Wankel  
फ़ेलिक्स वैंकल

**Correct Answer:** Robert Brown  
रॉबर्ट ब्राउन

**Candidate Answer:** Robert Hooke  
रॉबर्ट हुक

**QID : 295 - Which team won the FIFA Confederations Cup 2017?**

किस टीम ने फीफा कन्फेडरेशन कप 2017 जीता है?

**Options:**

1) Brazil

ब्राज़ील

2) France

फ्रांस

3) Italy

इटली

4) Germany

जर्मनी

**Correct Answer:** Germany

जर्मनी

**Candidate Answer:** Germany

जर्मनी

**QID : 296 - In which of the following, art painting is done by pen?**

निम्नलिखित में से कौन सी कला में, कलम से चित्रकारी की जाती है?

**Options:**

1) Rangoli

रंगोली

2) Kalamkari

कलमकारी

3) Phad

फ़ड़

4) None of these

इनमें से कोई नहीं

**Correct Answer:** Kalamkari

कलमकारी

**Candidate Answer:** Kalamkari

कलमकारी

**QID : 297 - Which hockey player has been awarded 2017 Rajiv Gandhi Khel Ratna Award?**

किस हॉकी खिलाड़ी को 2017 राजीव गांधी खेल रत्न पुरस्कार से सम्मानित किया गया है?

**Options:**

1) Birendra Lakra

बिरेन्द्र लाकरा

2) Sardara Singh

सरदार सिंह

3) Nikkin Thimmaiah

निककिन थिमेयाह

4) Manpreet Singh

मनप्रीत सिंह

**Correct Answer:** Sardara Singh

सरदार सिंह

**Candidate Answer:** Sardara Singh

सरदार सिंह

**QID : 298 - Who is the author of the book named "The Origin of Species"?**

"द ओरीजिन ऑफ स्पेशीज" नामक पुस्तक के लेखक कौन हैं?

**Options:**

1) Robert Frost

रॉबर्ट फ्रॉस्ट

2) Edgar Snow

एडगर स्नो

3) J. F. Kennedy

जे. एफ. कैनेडी

4) Charles Darwin

चार्ल्स डार्विन

**Correct Answer:** Charles Darwin

चार्ल्स डार्विन

**Candidate Answer:** Robert Frost

रॉबर्ट फ्रॉस्ट

QID : 299 - Yudh Abhyas' is a joint military training exercise of Indian and \_\_\_\_\_ armies.

युद्ध अभ्यास' एक संयुक्त सैन्य प्रशिक्षण अभ्यास भारतीय और \_\_\_\_\_ सेनाओं का है।

**Options:**

- 1) German  
जर्मन
- 2) French  
फ्रेंच
- 3) US  
संयुक्त राज्य
- 4) Japanese  
जापानी

**Correct Answer:** US

संयुक्त राज्य

**Candidate Answer:** French

फ्रेंच

QID : 300 - Which is a joint venture and campaign for mutual peace and development of diplomatic and cultural relations between India and Pakistan?

कौन सा भारत तथा पाकिस्तान के मध्य पारस्परिक शांति तथा राजनयिक एवं सांस्कृतिक संबंधों के विकास के लिए एक संयुक्त उद्यम तथा अभियान है?

**Options:**

- 1) Aman ki Asha  
अमन की आशा
- 2) Samjhauta  
समझौता
- 3) Maitri  
मैत्री
- 4) Vishwas  
विश्वास

**Correct Answer:** Aman ki Asha

अमन की आशा

**Candidate Answer:** Aman ki Asha

अमन की आशा