



Staff Selection Commission
(Government Of India)

REGISTRATION NUMBER : www.examstocks.com

EXAM DATE : 5-October-2017

EXAM NAME : SSC Examination TOTAL

MARKS : 150

CANDIDATE NAME : examstocks.com

EXAM START TIME : 10:00:00

EXAM DURATION : 01:30 Hrs

TOTAL NO OF QUESTIONS : 100

QID : 1 -

In the following question, select the number which can be placed at the sign of question mark (?) from the given alternatives.

निम्नलिखित प्रश्न में दिए गए विकल्पों में से प्रश्न चिह्न (?) के स्थान पर आने वाली संख्या को चुनिए।

5	2	3	20
4	3	6	26
2	3	4	?

Options:

1) 16

2) 18

3) 24

4) 30

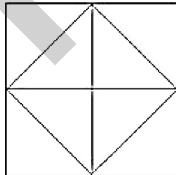
Correct Answer: 18

Candidate Answer: 18

QID : 2 -

How many quadrilaterals are there in the given figure?

दी गई आकृति में कितने चतुर्भुज हैं?



Options:

1) 10

2) 12

3) 18

4) 19

Correct Answer: 18

Candidate Answer: 10

QID : 3 -

A word is represented by only one set of numbers as given in any one of the alternatives. The sets of numbers given in the alternatives are represented by two classes of alphabets as shown in the given two matrices. The columns and rows of **Matrix-I** are numbered from 0 to 4 and that of **Matrix-II** are numbered from 5 to 9. A letter from these matrices can be represented first by its row and next by its column, for example, 'A' can be represented by 40, 58, etc., and 'S' can be represented by 10, 89, etc. Similarly, you have to identify the set for the word "EIGHT"

एक शब्द केवल एक संख्या-समूह द्वारा दर्शाया गया है, जैसा कि विकल्पों में से किसी एक में दिया गया है। विकल्पों में दिए गए संख्या-समूह अक्षरों के दो वर्गों द्वारा दर्शाए गए हैं, जैसा कि दिए गए दो आव्यूहों में है। आव्यूह-I के स्तम्भ और पंक्ति की संख्या 0 से 4 है और आव्यूह-II की 5 से 9। इन आव्यूहों से एक अक्षर को पहले उसकी पंक्ति और बाद में स्तम्भ संख्या द्वारा दर्शाया जा सकता है। उदाहरण के लिए 'A' को 40, 58, आदि द्वारा दर्शाया जा सकता है तथा 'S' को 10, 89, आदि द्वारा दर्शाया जा सकता है। इसी तरह से आपको प्रश्न में दिए शब्द "EIGHT" के लिए समूह को पहचानना है।

Matrix-I
आव्यूह-I

	0	1	2	3	4
0	T	V	G	I	D
1	S	F	J	N	U
2	Y	P	V	M	F
3	I	E	A	C	H
4	A	K	D	U	N

Matrix-II
आव्यूह-II

	5	6	7	8	9
5	R	N	K	A	H
6	L	R	T	O	N
7	I	Q	W	Y	P
8	F	H	R	M	S
9	V	G	A	U	B

Options:

- 1) 31, 03, 96, 59, 67
- 2) 69, 30, 97, 59, 65
- 3) 69, 04, 03, 34, 65
- 4) 13, 30, 02, 86, 65

Correct Answer: 31, 03, 96, 59, 67

Candidate Answer: 31, 03, 96, 59, 67

QID : 4 -

From the given answer figures, select the one in which the question figure is hidden/embedded.

दी गई उत्तर आकृतियों में से उस उत्तर आकृति को चुनिए जिस में प्रश्न आकृति निहित है।



Options:

1)



2)



3)



4)



Correct Answer:



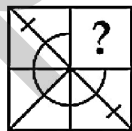
Candidate Answer:



QID : 5 -

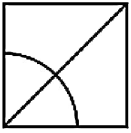
Which answer figure will complete the pattern in the question figure?

कौन सी उत्तर आकृति प्रश्न आकृति के प्रतिरूप को पूरा करेगी?

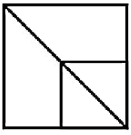


Options:

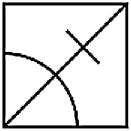
1)



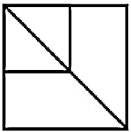
2)



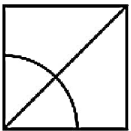
3)



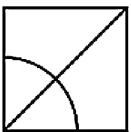
4)



Correct Answer:



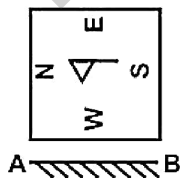
Candidate Answer:



QID : 6 -

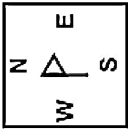
If a mirror is placed on the line AB, then which of the answer figures is the right image of the given figure?

यदि एक दर्पण को AB रेखा पर रखा जाए, तो दी गई उत्तर आकृतियों में से कौन सी आकृति प्रश्न आकृति की सही प्रतिबिम्ब होगी?

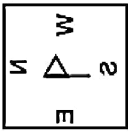


Options:

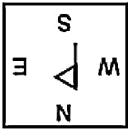
1)



2)



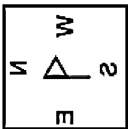
3)



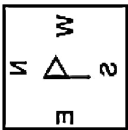
4)



Correct Answer:



Candidate Answer:



QID : 7 -

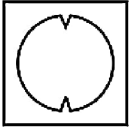
A piece of paper is folded and punched as shown below in the question figures. From the given answer figures, indicate how it will appear when opened?

नीचे के प्रश्न आकृतियों में दिखाए अनुसार कागज को मोड़कर छेदने तथा खोलने के बाद वह किस उत्तर आकृति जैसा दिखाई देगा?

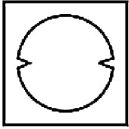


Options:

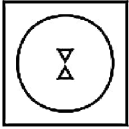
1)



2)



3)



4)



Correct Answer:



Candidate Answer:



QID : 8 - If 'T' means '+', 'U' means '÷', 'V' means 'x' and 'W' means '-', then which of the following equation is true?

यदि 'T' का अर्थ '+', 'U' का अर्थ '÷', 'V' का अर्थ 'x' तथा 'W' का अर्थ '-' हो, तो निम्नलिखित में से कौन सा समीकरण सही है?

Options:

1) $11 \text{ V } 3 \text{ U } 33 \text{ T } 2 = 122$

2) $6 \text{ V } 9 \text{ U } 18 \text{ W } 2 = 0$

3) $6 \text{ V } 3 \text{ U } 15 \text{ T } 2 = 9/2$

4) $12 \text{ T } 4 \text{ U } 2 \text{ V } 16 = 44$

Correct Answer: $12 \text{ T } 4 \text{ U } 2 \text{ V } 16 = 44$

Candidate Answer: $12 \text{ T } 4 \text{ U } 2 \text{ V } 16 = 44$

QID : 9 - If $1 \times 2 \times 3 = 36$ and $2 \times 3 \times 4 = 81$, then

$1 \times 3 \times 4 = ?$

यदि $1 \times 2 \times 3 = 36$ तथा $2 \times 3 \times 4 = 81$ हो, तो

$1 \times 3 \times 4 = ?$

Options:

1) 49

2) 56

3) 64

4) 16

Correct Answer: 64

Candidate Answer: 64

QID : 10 - Arrange the given words in the sequence in which they occur in the dictionary.

1. Islet
2. Irate
3. Ingot
4. Ingle
5. Indigo

निम्नलिखित शब्दों को शब्दकोश में आने वाले क्रम के अनुसार लिखें।

1. Islet
2. Irate
3. Ingot
4. Ingle
5. Indigo

Options:

- 1) 53412
- 2) 45312
- 3) 54321
- 4) 43512

Correct Answer: 54321

Candidate Answer: 54321

QID : 11 - In the following question, select the missing number from the given series.

72, 76, 74, 78, 76, 80, 78, ?

निम्नलिखित प्रश्न में दिए गए विकल्पों में से लुप्त अंक ज्ञात कीजिए।

72, 76, 74, 78, 76, 80, 78, ?

Options:

- 1) 76
- 2) 80
- 3) 82
- 4) 84

Correct Answer: 82

Candidate Answer: 82

QID : 12 - A series is given with one term missing. Select the correct alternative from the given ones that will complete the series.

F, H, K, O, ?

एक अनुक्रम दिया गया है, जिसमें से एक पद लुप्त है। दिए गए विकल्पों में से वह सही विकल्प चुनिए, जो अनुक्रम को पूरा करे।

F, H, K, O, ?

Options:

- 1) S
- 2) T
- 3) U
- 4) V

Correct Answer: T

Candidate Answer: T

QID : 13 - In the following question, select the odd word from the given alternatives.

निम्नलिखित प्रश्न में दिए गए विकल्पों में से विषम शब्द को चुनिए।

Options:

- 1) Feet
पैर
- 2) Brain
मस्तिष्क
- 3) Hands
हाथ
- 4) Head
सिर

Correct Answer: Brain

मस्तिष्क

Candidate Answer: Brain

मस्तिष्क

QID : 14 - In the following question, select the odd number pair from the given alternatives.

निम्नलिखित प्रश्न में दिए गए विकल्पों में से विषम संख्या युग्म को चुनिए।

Options:

- 1) 1,11
- 2) 2,22
- 3) 3,33
- 4) 4,42

Correct Answer: 4,42

Candidate Answer: 4,42

QID : 15 - In the following question, select the odd letters from the given alternatives.

निम्नलिखित प्रश्न में दिए गए विकल्पों में से विषम अक्षरों को चुनिए।

Options:

- 1) MNOQ
- 2) HIJL
- 3) CDEG
- 4) TUVY

Correct Answer: TUVY

Candidate Answer: TUVY

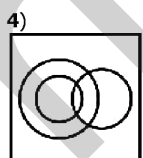
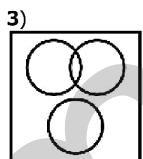
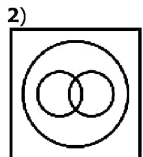
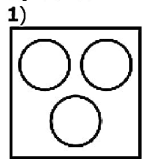
QID : 16 - Identify the diagram that best represents the relationship among the given classes.

Rat, Rabbit, Dog

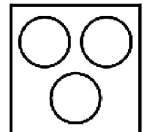
वह आरेख चुनिए जो नीचे दिए गए वर्गों के बीच के संबंध का सही निरूपण करता है।

चूहा, खरगोश, कुत्ता

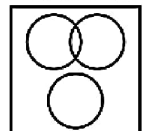
Options:



Correct Answer:



Candidate Answer:



QID : 17 - In the following question, select the related word from the given alternatives.

Carpenter : Saw :: Farmer : ?

निम्नलिखित प्रश्न में दिए गए विकल्पों में से संबंधित शब्द को चुनिए।

बढ़ई : आरी :: किसान : ?

Options:

- 1) Anvil
निहार्ई
- 2) Spade
कुदाली
- 3) Plough
हल
- 4) Sword
तलवार

Correct Answer: Plough

हल

Candidate Answer: Plough

हल

QID : 18 - In the following question, select the related number from the given alternatives.

3618 : 904.5 :: 4266 : ?

निम्नलिखित प्रश्न में दिए गए विकल्पों में से संबंधित संख्या को चुनिए।

3618 : 904.5 :: 4266 : ?

Options:

- 1) 1288.5
- 2) 1866.5
- 3) 1782.25
- 4) 1066.5

Correct Answer: 1066.5

Candidate Answer: 1066.5

QID : 19 - In the following question, select the related letters from the given alternatives.

QWTR : SYVT :: HOME : ?

निम्नलिखित प्रश्न में दिए गए विकल्पों में से संबंधित अक्षरों को चुनिए।

QWTR : SYVT :: HOME : ?

Options:

- 1) JQOG
- 2) IPNF
- 3) JQNF
- 4) JPOG

Correct Answer: JQOG

Candidate Answer: JQOG

QID : 20 - In the following question, select the word which cannot be formed using the letters of the given word.

BLASTER

निम्नलिखित विकल्पों में से वह शब्द चुनिए जो दिए गए शब्द के अक्षरों का प्रयोग करके नहीं बनाया जा सकता।

BLASTER

Options:

- 1) STAR
- 2) BOAST
- 3) LAST
- 4) BEAR

Correct Answer: BOAST

Candidate Answer: BOAST

QID : 21 - In a row of toys, pink toy is 13th from right end and 31st from left end. How many total toys are there in the row?

खिलौनों की एक पंक्ति में, गुलाबी खिलौना दाहिने छोर से 13 तां तथा बायें छोर से 31 तां है। पंक्ति में कुल कितने खिलौने हैं?

Options:

- 1) 45
- 2) 44
- 3) 43
- 4) 46

Correct Answer: 43**Candidate Answer:** 43**QID : 22** - Present age of Usha is 36 years. 10 years ago ratio of ages of Usha and Asha was 2 : 3. What will be Asha's age (in years) after 2 years?

ऊषा की वर्तमान आयु 36 वर्ष है। 10 वर्ष पूर्व ऊषा तथा आशा की आयु का अनुपात 2 : 3 था। 2 वर्ष पश्चात आशा की आयु (वर्षों में) क्या होगी?

Options:

- 1) 51
- 2) 49
- 3) 47
- 4) 45

Correct Answer: 51**Candidate Answer:** 51**QID : 23** - In the following question below are given some statements followed by some conclusions. Taking the given statements to be true even if they seem to be at variance from commonly known facts, read all the conclusions and then decide which of the given conclusion logically follows the given statements.**Statements:**

- I. Some grapes are green.
- II. Some green are colour.

Conclusions:

- I. Some grapes are colour.
- II. Some grapes are not colour.

नीचे दिए गए प्रश्न में कुछ कथन और उनके बाद उन कथनों पर आधारित कुछ निष्कर्ष दिए गए हैं, हालांकि उनमें सामान्य ज्ञात तथ्यों से भिन्नता हो सकती है। सभी निष्कर्ष पढ़ें और फिर निर्धारित करें कि दिए गए कौन से निष्कर्ष, दिए गए कथनों के आधार पर युक्तिसंगत हैं।

कथन:

- I. कुछ अंगूर हरे हैं।
- II. कुछ हरे रंग हैं।

निष्कर्ष:

- I. कुछ अंगूर रंग हैं।
- II. कुछ अंगूर रंग नहीं हैं।

Options:

- 1) Only conclusion (I) follows.
केवल निष्कर्ष (I) सही है।
- 2) Only conclusion (II) follows.
केवल निष्कर्ष (II) सही है।
- 3) Both conclusion follow.
दोनों ही निष्कर्ष सही हैं।
- 4) Neither conclusion (I) nor conclusion (II) follows.
न तो निष्कर्ष (I) न ही निष्कर्ष (II) सही है।

Correct Answer: Neither conclusion (I) nor conclusion (II) follows.

न तो निष्कर्ष (I) न ही निष्कर्ष (II) सही है।

Candidate Answer: Neither conclusion (I) nor conclusion (II) follows.

न तो निष्कर्ष (I) न ही निष्कर्ष (II) सही है।

QID : 24 - In a certain code language, "BOWL" is written as "CQZP". How is "LAZY" written in that code language?

एक विशिष्ट कोड भाषा में, "BOWL" को "CQZP" लिखा जाता है। इस कोड भाषा में "LAZY" को किस प्रकार लिखा जाएगा?

Options:

- 1) MCCC
- 2) MCCB
- 3) MCBB
- 4) MCBC

Correct Answer: MCCC**Candidate Answer:** MCCC**QID : 25** - In a certain code language, "AND" is written as "21" and "END" is written as "25". How is "BET" written in that code language?

एक विशिष्ट कोड भाषा में, "AND" को "21" तथा "END" को "25" लिखा जाता है। इस कोड भाषा में "BET" को किस प्रकार लिखा जाएगा?

Options:

1) 27

2) 28

3) 29

4) 30

Correct Answer: 29

Candidate Answer: 29

QID : 26 - How many times the digit 7 appears in the numbers from 103 to 200?

103 से 200 तक की संख्याओं में अंक 7 कितनी बार आता है?

Options:

1) 18

2) 19

3) 20

4) 21

Correct Answer: 20

Candidate Answer: 20

QID : 27 - If $N = 2^3 \times 3^2$, then what are the positive factors of N?

यदि $N = 2^3 \times 3^2$ है, तो N का धनात्मक गुणनखण्ड क्या हैं?

Options:

1) 5

2) 8

3) 12

4) 20

Correct Answer: 12

Candidate Answer: 12

QID : 28 - What is the value of $1^2 + 3^2 + 5^2 + \dots + 15^2$?

$1^2 + 3^2 + 5^2 + \dots + 15^2$ का मान क्या है?

Options:

1) 680

2) 690

3) 710

4) 720

Correct Answer: 680

Candidate Answer: 680

QID : 29 - If $A = 2^3 \times 3^2$, $B = 2^2 \times 3^5$ and $C = 2^3 \times 3^2$, then what is the value of $A \times B \times C$?

यदि $A = 2^3 \times 3^2$, $B = 2^2 \times 3^5$ तथा $C = 2^3 \times 3^2$ है, तो $A \times B \times C$ का मान क्या है?

Options:

1) $2^8 3^9$

2) $2^9 3^{10}$

3) $2^7 3^{10}$

4) $2^{10} 3^{10}$

Correct Answer: $2^8 3^9$

Candidate Answer: $2^8 3^9$

QID : 30 - What is the least common multiple of 24, 48 and 72?

24, 48 तथा 72 का लघुत्तम समापवर्त्य क्या है?

Options:

1) 72

2) 144

3) 288

4) 216

Correct Answer: 144

Candidate Answer: 144

QID : 31 - What is the unit's digit of 121^{21} ?

121^{21} का इकाई अंक क्या है?

Options:

1) 1

2) 4

3) 5

4) 7

Correct Answer: 1

Candidate Answer: 1

QID : 32 - X, Y and Z together can complete a work in 20 days. Y and Z can complete the same work in 30 days. In how many days X alone can complete the same work?

X, Y तथा Z किसी कार्य को 20 दिनों में पूरा कर सकते हैं। Y तथा Z उस कार्य को 30 दिनों में पूरा कर सकते हैं। X अकेला उस कार्य को कितने दिनों में पूरा कर सकता है?

Options:

1) 60

2) 45

3) 40

4) 50

Correct Answer: 60

Candidate Answer: 60

QID : 33 - U, V and W together can complete a work in 10 days. If U alone can complete the work in 20 days and V alone can complete the work in 30 days, then in how many days W alone can complete the work?

U, V तथा W मिलकर किसी कार्य को 10 दिन में पूरा कर सकते हैं। यदि U अकेला 20 दिन में कार्य पूरा कर सकता है तथा V अकेला 30 दिन में कार्य पूरा कर सकता है, तो W अकेला कितने दिन में कार्य पूरा कर सकता है?

Options:

1) 30

2) 40

3) 60

4) 80

Correct Answer: 60

Candidate Answer: 60

QID : 34 - If the surface area of cube is 384 cm^2 , then what is the volume (in cm^3) of the cube?

यदि घन का पृष्ठीय क्षेत्रफल 384 से.मी.^2 है, तो घन का आयतन (से.मी.³ में) क्या है?

Options:

1) 512

2) 356

3) 484

4) 686

Correct Answer: 512

Candidate Answer: 512

QID : 35 - Marked price of an article is Rs 4200. It was sold at a discount of 16.66%. If there was a loss of 9.09%, then what was the cost price (in Rs) of the article?

एक वस्तु का अंकित मूल्य 4200 रु है। उसे 16.66% की छूट पर बेचा गया था। यदि 9.09% की हानि हुई थी, तो वस्तु का क्रय मूल्य (रु में) क्या था?

Options:

1) 3500

2) 3750

3) 4000

4) 3850

mpcareer.in

mpcareer.in

Options:

1) 450

2) 500

3) 550

4) 600

Correct Answer: 550

Candidate Answer: 550

QID : 41 - If profit is $\frac{1}{9}$ th of selling price, then what is the profit percentage?

यदि लाभ विक्रय मूल्य का $\frac{1}{9}$ -वां भाग है, तो लाभ प्रतिशत क्या है?

Options:

1) 11.11

2) 12.5

3) 14.28

4) 14

Correct Answer: 12.5

Candidate Answer: 12.5

QID : 42 - The price of a watch increases every year by 25%. If the present price is Rs 7500, then what was the price (in Rs) 2 years ago?

एक घड़ी की कीमत प्रतिवर्ष 25% से बढ़ती है। यदि वर्तमान कीमत रु 7500 है, तो 2 वर्ष पहले कीमत (रु में) क्या थी?

Options:

1) 4800

2) 5200

3) 6200

4) 3600

Correct Answer: 4800

Candidate Answer: 4800

QID : 43 - If P is 15% more than 480, then what is the value of P?

यदि P, 480 से 15% अधिक है, तो P का मान क्या है?

Options:

1) 512

2) 552

3) 542

4) 562

Correct Answer: 552

Candidate Answer: 552

QID : 44 - A train passes two bridges of length 600 metres and 300 metres in 120 seconds and 80 seconds respectively. What is the length (in metres) of the train?

एक रेलगाड़ी 600 मीटर तथा 300 मीटर लम्बे दो पुलों को क्रमशः 120 सेकण्ड तथा 80 सेकण्ड में पार कर लेती है। रेलगाड़ी की लम्बाई (मीटर में) क्या है?

Options:

1) 200

2) 250

3) 300

4) 450

Correct Answer: 300

Candidate Answer: 300

QID : 45 - Raman goes office at a speed of 40 kmph and returns home at a speed of 60 kmph. What is his average speed (in km/hr)?

रमन 40 कि.मी./घंटा की गति से अपने कार्यालय जाता है तथा 60 कि.मी./घंटा की गति से घर वापस आता है। उसकी औसत गति (कि.मी./घंटा में) क्या है?

Options:

1) 45

2) 48

3) 50

4) 52

Correct Answer: 48

Candidate Answer: 48

QID : 46 - A certain amount is invested in a scheme of simple interest. It amounts to Rs 3096 in 6 years and Rs 3744 in 9 years. What is the rate of interest (in percentage)?

एक निश्चित राशि को साधारण ब्याज वाली एक योजना में निवेश किया गया। वह 6 वर्षों में 3096 रु तथा 9 वर्षों में 3744 रु हो जाती है। ब्याज की दर (प्रतिशत में) क्या है?

Options:

1) 12

2) 15

3) 18

4) 20

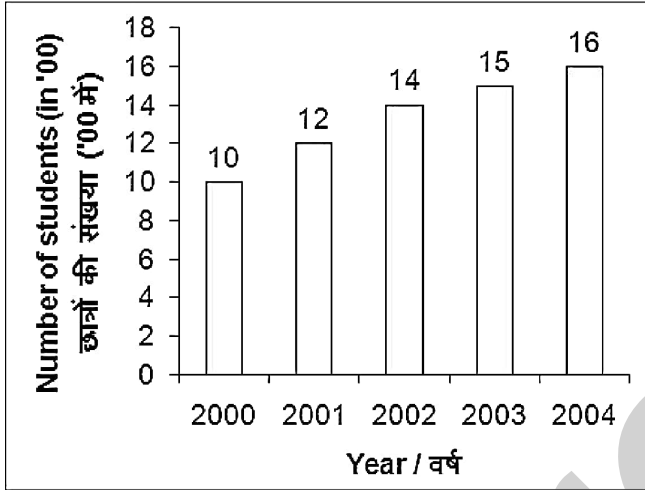
Correct Answer: 12

Candidate Answer: 12

QID : 47 -

The bar chart given below shows the number of students (in '00) in a school from year 2000 to year 2004.

नीचे दिए गए दण्ड चित्र में एक विद्यालय में वर्ष 2000 से वर्ष 2004 तक के छात्रों की संख्या ('00 में) को दर्शाया गया है।



What is the average number of students from year 2000 to 2002?

वर्ष 2000 से वर्ष 2002 तक छात्रों की औसत संख्या कितनी है?

Options:

1) 1000

2) 1200

3) 1100

4) 800

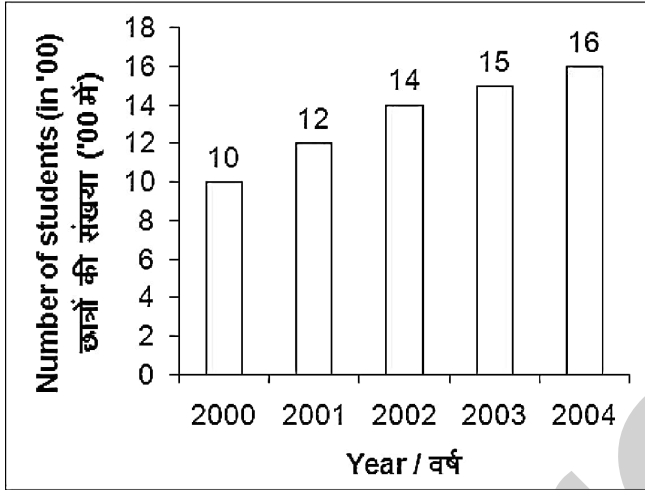
Correct Answer: 1200

Candidate Answer: 1200

QID : 48 -

The bar chart given below shows the number of students (in '00) in a school from year 2000 to year 2004.

नीचे दिए गए दण्ड चित्र में एक विद्यालय में वर्ष 2000 से वर्ष 2004 तक के छात्रों की संख्या ('00 में) को दर्शाया गया है।



What is the total number of students in year 2002 and 2003?

वर्ष 2002 तथा वर्ष 2003 में छात्रों की कुल संख्या कितनी है?

Options:

1) 2900

2) 2700

3) 3100

4) 2800

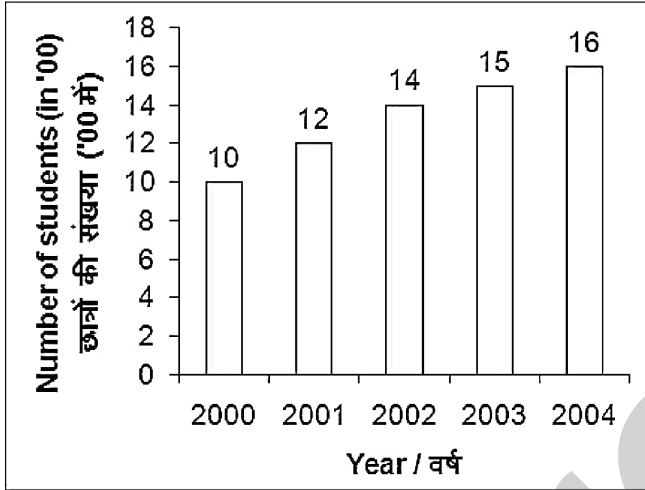
Correct Answer: 2900

Candidate Answer: 2900

QID : 49 -

The bar chart given below shows the number of students (in '00) in a school from year 2000 to year 2004.

नीचे दिए गए दण्ड चित्र में एक विद्यालय में वर्ष 2000 से वर्ष 2004 तक के छात्रों की संख्या ('00 में) को दर्शाया गया है।



What is the difference between the total number of students in year 2004 and 2000?

वर्ष 2004 तथा वर्ष 2000 के बीच छात्रों की कुल संख्या में कितना अंतर है?

Options:

1) 1600

2) 1000

3) 800

4) 600

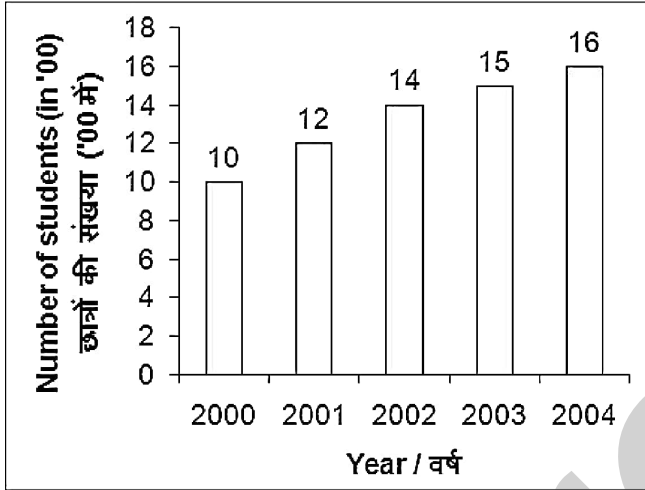
Correct Answer: 600

Candidate Answer: 600

QID : 50 -

The bar chart given below shows the number of students (in '00) in a school from year 2000 to year 2004.

नीचे दिए गए दण्ड चित्र में एक विद्यालय में वर्ष 2000 से वर्ष 2004 तक के छात्रों की संख्या ('00 में) को दर्शाया गया है।



Students in year 2003 is how much percent more than the students in year 2000?

वर्ष 2003 के छात्रों का कितना प्रतिशत वर्ष 2000 के छात्रों से अधिक है?

Options:

1) 150

2) 25

3) 50

4) 33

Correct Answer: 50

Candidate Answer: 50

QID : 51 - In the following question, some part of the sentence may have errors. Find out which part of the sentence has an error and select the appropriate option. If a sentence is free from error, select 'No Error'.

We have to always be on our (1)/guard to ensure the highest level (2)/of safety inside train operations. (3)/ No Error (4)

Options:

1) 1

2) 2

3) 3

4) 4

Correct Answer: 3

Candidate Answer: 2

QID : 52 - In the following question, some part of the sentence may have errors. Find out which part of the sentence has an error and select the appropriate option. If a sentence is free from error, select 'No Error'.

He also identified quality of catering, **(1)**/ linen and cleanliness, which **(2)**/ he said was crying in attention. **(3)**/ No Error **(4)**

Options:

- 1) 1
- 2) 2
- 3) 3
- 4) 4

Correct Answer: 3

Candidate Answer: 1

QID : 53 - In the following question, the sentence given with blank to be filled in with an appropriate word. Select the correct alternative out of the four and indicate it by selecting the appropriate option.

Mr. Batra took a card from _____ pocket.

Options:

- 1) their
- 2) her
- 3) his
- 4) its

Correct Answer: his

Candidate Answer: his

QID : 54 - In the following question, the sentence given with blank to be filled in with an appropriate word. Select the correct alternative out of the four and indicate it by selecting the appropriate option.

The rich _____ not always happy.

Options:

- 1) have
- 2) are
- 3) has
- 4) am

Correct Answer: are

Candidate Answer: are

QID : 55 - In the following question, out of the given four alternatives, select the one which best expresses the meaning of the given word.

Defy

Options:

- 1) Give in
- 2) Obey
- 3) Repel
- 4) Surrender

Correct Answer: Repel

Candidate Answer: Surrender

QID : 56 - In the following question, out of the given four alternatives, select the one which best expresses the meaning of the given word.

Laden

Options:

- 1) Full
- 2) Empty
- 3) Light
- 4) Unloaded

Correct Answer: Full

Candidate Answer: Empty

QID : 57 - In the following question, out of the given four alternatives, select the one which best expresses the meaning of the given word.

Lousy

Options:

- 1) Magnificent
- 2) Terrible
- 3) Good
- 4) Great

Correct Answer: Terrible

Candidate Answer: [NOT ANSWERED]

QID : 58 - In the following question, out of the given four alternatives, select the one which is opposite in meaning of the given word.

Eternity

Options:

- 1) Perennial
- 2) Infinity
- 3) Bounds
- 4) Immortality

Correct Answer: Bounds

Candidate Answer: Infinity

QID : 59 - In the following question, out of the given four alternatives, select the one which is opposite in meaning of the given word.

Manage

Options:

- 1) Administer
- 2) Conduct
- 3) Handle
- 4) Fail

Correct Answer: Fail

Candidate Answer: Fail

QID : 60 - In the following question, out of the given four alternatives, select the one which is opposite in meaning of the given word.

Resolve

Options:

- 1) Determination
- 2) Indecision
- 3) Intend
- 4) Firmness

Correct Answer: Indecision

Candidate Answer: Indecision

QID : 61 - In the following question, out of the four given alternatives, select the alternative which best expresses the meaning of the Idiom/Phrase.

Set at liberty

Options:

- 1) To release
- 2) Certainly
- 3) Literally and strictly
- 4) Earning an honest living

Correct Answer: To release

Candidate Answer: To release

QID : 62 - In the following question, out of the four given alternatives, select the alternative which best expresses the meaning of the Idiom/Phrase.

Get away

Options:

- 1) Won
- 2) Escape
- 3) Slept
- 4) Rejuvenate

Correct Answer: Escape

Candidate Answer: Escape

QID : 63 - Improve the bracketed part of the sentence.

Schools (**which**) have gyms do not have enough facilities such as swimming pools and tennis courts.

Options:

- 1) whose
- 2) there
- 3) they
- 4) No improvement

Correct Answer: No improvement

Candidate Answer: No improvement

QID : 64 - Improve the bracketed part of the sentence.

Workers work for over twenty five hours per week to get (**them**) minimum wages.

Options:

- 1) their
- 2) that
- 3) this
- 4) No improvement

Correct Answer: their

Candidate Answer: their

QID : 65 - In the following question, out of the four given alternatives, select the alternative which is the best substitute of the phrase.

A brief account of a subject

Options:

- 1) Arbitrary
- 2) Temporary
- 3) Summary
- 4) Adversary

Correct Answer: Summary

Candidate Answer: Summary

QID : 66 - In the following question, out of the four given alternatives, select the alternative which is the best substitute of the phrase.

A body of voters

Options:

- 1) Administrate
- 2) Corporate
- 3) Electorate
- 4) Confederate

Correct Answer: Electorate

Candidate Answer: Electorate

QID : 67 - In the following question, a word has been written in four different ways out of which only one is correctly spelt. Select the correctly spelt word.

Options:

- 1) Clevur
- 2) Clever
- 3) Celever
- 4) Clevor

Correct Answer: Clever

Candidate Answer: Clever

QID : 68 - In the following question, a word has been written in four different ways out of which only one is correctly spelt. Select the correctly spelt word.

Options:

- 1) Guarantee
- 2) Gaukrantee
- 3) Garantie
- 4) Gaurantee

Correct Answer: Guarantee

Candidate Answer: Gaurantee

QID : 69 - Rearrange the parts of the sentence in correct order.

A mere visit

P: computers depending on

Q: the programs used

R: to a website can infect

Options:

- 1) PQR
- 2) RQP
- 3) PRQ
- 4) RPQ

Correct Answer: RPQ

Candidate Answer: RPQ

QID : 70 - Rearrange the parts of the sentence in correct order.

We have no safer water

P: inhale and pollution

Q: to drink pure air to

R: free land to crop

Options:

- 1) QPR
- 2) PRQ
- 3) RPQ
- 4) QRP

Correct Answer: QPR

Candidate Answer: QPR

QID : 71 - In the following passage some of the words have been left out. Read the passage carefully and select the correct answer for the given blank out of the four alternatives.

In real sense planned effort to rural development was _____ with the launching of Community Development Programme in the early fifties. Although programme was not very _____ but it had promoted the _____ of a network of basic extension and development services at the grass _____ level in villages. Thus, creating awareness in the rural communities of the potential and means of development which made quicker adoption of major technological _____ in agriculture possible later in the mid 60's.

Rural development was _____ with the launching

Options:

- 1) initiated
- 2) depreciated
- 3) created
- 4) deduced

Correct Answer: initiated

Candidate Answer: initiated

QID : 72 - In the following passage some of the words have been left out. Read the passage carefully and select the correct answer for the given blank out of the four alternatives.

In real sense planned effort to rural development was _____ with the launching of Community Development Programme in the early fifties. Although programme was not very _____ but it had promoted the _____ of a network of basic extension and development services at the grass _____ level in villages. Thus, creating awareness in the rural communities of the potential and means of development which made quicker adoption of major technological _____ in agriculture possible later in the mid 60's.

Very _____ but it had promoted

Options:

- 1) unsuccessful
- 2) successful
- 3) ineffective
- 4) ruthless

Correct Answer: successful**Candidate Answer:** successful

QID : 73 - In the following passage some of the words have been left out. Read the passage carefully and select the correct answer for the given blank out of the four alternatives.

In real sense planned effort to rural development was _____ with the launching of Community Development Programme in the early fifties. Although programme was not very _____ but it had promoted the _____ of a network of basic extension and development services at the grass _____ level in villages. Thus, creating awareness in the rural communities of the potential and means of development which made quicker adoption of major technological _____ in agriculture possible later in the mid 60's.

The _____ of a network of basic extension

Options:

- 1) reduction
- 2) dispute
- 3) growth
- 4) eruption

Correct Answer: growth**Candidate Answer:** growth

QID : 74 - In the following passage some of the words have been left out. Read the passage carefully and select the correct answer for the given blank out of the four alternatives.

In real sense planned effort to rural development was _____ with the launching of Community Development Programme in the early fifties. Although programme was not very _____ but it had promoted the _____ of a network of basic extension and development services at the grass _____ level in villages. Thus, creating awareness in the rural communities of the potential and means of development which made quicker adoption of major technological _____ in agriculture possible later in the mid 60's.

Services at the grass _____ level in villages.

Options:

- 1) branch
- 2) mere
- 3) initial
- 4) root

Correct Answer: root**Candidate Answer:** root

QID : 75 - In the following passage some of the words have been left out. Read the passage carefully and select the correct answer for the given blank out of the four alternatives.

In real sense planned effort to rural development was _____ with the launching of Community Development Programme in the early fifties. Although programme was not very _____ but it had promoted the _____ of a network of basic extension and development services at the grass _____ level in villages. Thus, creating awareness in the rural communities of the potential and means of development which made quicker adoption of major technological _____ in agriculture possible later in the mid 60's.

Technological _____ in agriculture possible later in the mid 60's.

Options:

- 1) conflicts
- 2) inflicts
- 3) solicits
- 4) advances

Correct Answer: advances**Candidate Answer:** advances

QID : 76 - What is the full form of GDP?

जीडीपी का असंक्षिप्त रूप क्या है?

Options:

- 1) Gross Daily Product
ग़ोस डेली प्रोडक्ट
- 2) Gross Domestic Product
ग़ोस डोमेस्टिक प्रोडक्ट
- 3) Great Domestic Product
ग्रेट डोमेस्टिक प्रोडक्ट
- 4) Great Daily Product
ग्रेट डेली प्रोडक्ट

Correct Answer: Gross Domestic Product**Candidate Answer:** ग़ोस डोमेस्टिक प्रोडक्ट

Candidate Answer: Gross Domestic Product
ग़ौस डोमेस्टिक प्रोडक्ट

QID : 77 - Which among the following cannot be considered as measure of improvement or national development?

निम्नलिखित में से किसे सुधार अथवा राष्ट्रीय विकास का मापक नहीं माना जा सकता?

Options:

- 1) Per capita income
प्रति व्यक्ति आय
- 2) Gross domestic product
सकल घरेलू उत्पाद
- 3) Literacy rate
साक्षरता दर
- 4) Gender equality
लिंग समानता

Correct Answer: Gender equality
लिंग समानता

Candidate Answer: Gender equality
लिंग समानता

QID : 78 - Directive principles of state policy is enumerated in which part of Indian Constitution?

भारतीय संविधान के किस भाग में राज्य नीति निर्देश सिद्धांत वर्णित है?

Options:

- 1) Part I
भाग I
- 2) Part II
भाग II
- 3) Part III
भाग III
- 4) Part IV
भाग IV

Correct Answer: Part IV
भाग IV

Candidate Answer: Part IV
भाग IV

QID : 79 - Out of 245 members of Rajya Sabha how many member are elected?

राज्य सभा के 245 सदस्यों में से कुल कितने निर्वाचित सदस्य होते हैं।

Options:

- 1) 220
- 2) 233
- 3) 230
- 4) 215

Correct Answer: 233

Candidate Answer: 233

QID : 80 - Sultan Muhammad Ghori who defeated Prithviraja III in 1192 was a ruler from _____.

1192 में पृथ्वीराज III को पराजित करने वाले सुल्तान मुहम्मद घोरी _____ का शासक था।

Options:

- 1) Afghanistan
अफ़ग़ानिस्तान
- 2) Persia
पारस
- 3) Iran
ईरान
- 4) Egypt
मिस्र

Correct Answer: Afghanistan
अफ़ग़ानिस्तान

Candidate Answer: Afghanistan
अफ़ग़ानिस्तान

QID : 81 - In which year Muslim league had moved a resolution demanding 'Independent States' for Muslims in north-western and eastern areas of Country?

किस वर्ष में मुस्लिम लीग ने देश के पश्चिमोत्तर तथा पूर्वी क्षेत्रों में मुसलमानों के लिए 'स्वतंत्र राज्यों' की माँग करते हुए एक प्रस्ताव जारी किया था?

Options:

- 1) 1920
- 2) 1930
- 3) 1935
- 4) 1940

Correct Answer: 1940

Candidate Answer: 1935

QID : 82 - Whole Earth experiences equal days and equal nights on which dates?

पूरी पृथ्वी पर किस तिथि को रात एवं दिन _____ हैं।

Options:

- 1) 21 March and 23 July
21 मार्च तथा 23 जुलाई
- 2) 21 July and 23 September
21 जुलाई तथा 23 सितम्बर
- 3) 21 March and 23 September
21 मार्च तथा 23 सितम्बर
- 4) 22 December and 21 March
22 दिसम्बर तथा 21 मार्च

Correct Answer: 21 March and 23 September
21 मार्च तथा 23 सितम्बर

Candidate Answer: [NOT ANSWERED]

QID : 83 - Which is the world's largest hot desert?

विश्व का सबसे बड़ा गर्म रेगिस्तान कौन सा है?

Options:

- 1) Kalahari
कालाहारी
- 2) Atacama
अटाकामा
- 3) Sahara
सहारा
- 4) Thar
थार

Correct Answer: Sahara
सहारा

Candidate Answer: Sahara
सहारा

QID : 84 - What is the innermost part of a flower called as?

पुष्प के केंद्र में स्थित भाग क्या कहलाता है?

Options:

- 1) Pistil
स्त्रीकेसर
- 2) Stamens
पुंकेसर
- 3) Sepals
बाह्यदल
- 4) Petals
पंखुडियाँ

Correct Answer: Pistil
स्त्रीकेसर

Candidate Answer: Pistil
स्त्रीकेसर

QID : 85 - During photosynthesis the oxygen in glucose comes from _____.

प्रकाश संश्लेषण के दौरान ग्लूकोज में ऑक्सीजन _____ से आता है।

Options:

- 1) Water
जल
- 2) Carbon dioxide
कार्बन डाईऑक्साइड
- 3) Both from water and carbon dioxide
जल और कार्बन डाई ऑक्साइड दोनों
- 4) Sunlight
सूर्य के प्रकाश

Correct Answer: Carbon dioxide
कार्बन डाईऑक्साइड

Candidate Answer: Water
जल

QID : 86 - The colour of lymph is _____.

लसीका का रंग _____ होता है।

Options:

- 1) Red
लाल
- 2) Yellow
पीला
- 3) Colourless
रंगहीन
- 4) Milky
दूधिया

Correct Answer: Colourless
रंगहीन

Candidate Answer: Yellow
पीला

QID : 87 - In science, fluids is the common name for _____.

विज्ञान में _____ को एक ही नाम 'तरल' दिया गया है।

Options:

1) Gases only

केवल गैसों

2) Liquids only

केवल द्रव्यों

3) Both gases and liquids

गैसों तथा द्रव्यों दोनों

4) None of these

इनमें से कोई नहीं

Correct Answer: Both gases and liquids

गैसों तथा द्रव्यों दोनों

Candidate Answer: Liquids only

केवल द्रव्यों

QID : 88 - What is the shape of the reflectors of torches, headlights of cars and scooters?

टार्च, कारों तथा स्कूटरों के अग्रदीप के परावर्तक पृष्ठ की आकृति क्या होती है?

Options:

1) Concave

अवतल

2) Convex

उत्तल

3) Plane

समतल

4) Cylindrical

बेलनाकार

Correct Answer: Concave

अवतल

Candidate Answer: Concave

अवतल

QID : 89 - In computers, which is the full form NIC?

कंप्यूटर में, एन.आई.सी. का असंक्षिप्त रूप क्या है?

Options:

1) Network Interface Card

नेटवर्क इंटरफ़ेस कार्ड

2) Network Information Card

नेटवर्क इनफार्मेशन कार्ड

3) New Interface Card

न्यू इंटरफ़ेस कार्ड

4) New Information Card

न्यू इनफार्मेशन कार्ड

Correct Answer: Network Interface Card

नेटवर्क इंटरफ़ेस कार्ड

Candidate Answer: Network Interface Card

नेटवर्क इंटरफ़ेस कार्ड

QID : 90 - A metal, which exists in liquid state _____.

तरल अवस्था में पायी जाने वाली धातु _____ है।

Options:

1) Potassium

पोटेशियम

2) Tin

टिन

3) Mercury

पारा

4) Tungsten

टंगस्टन

Correct Answer: Mercury

पारा

Candidate Answer: Mercury

पारा

QID : 91 - Plaster of Paris is obtained by heating _____.

_____ को गर्म करने पर प्लास्टर ऑफ़ पेरिस प्राप्त होता है।

Options:

- 1) Gypsum
जिप्सम
- 2) Calcium chloride
कैल्शियम क्लोराइड
- 3) Sodium sulphate
सोडियम सल्फेट
- 4) Calcium sulphate
कैल्शियम सल्फेट

Correct Answer: Gypsum
जिप्सम

Candidate Answer: Calcium sulphate
कैल्शियम सल्फेट

QID : 92 - Which is the only one major process through which oxygen is returned to the atmosphere?

वायुमंडल में ऑक्सीजन लौटाने वाली एकमात्र मुख्य प्रक्रिया कौन सी है?

Options:

- 1) Combustion
दहन
- 2) Respiration
श्वसन
- 3) Formation of oxides of nitrogen
नाइट्रोजन का ऑक्साइड निर्माण
- 4) Photosynthesis
प्रकाशसंश्लेषण

Correct Answer: Photosynthesis
प्रकाशसंश्लेषण

Candidate Answer: Photosynthesis
प्रकाशसंश्लेषण

QID : 93 - UJALA is a scheme for the LED based Domestic Efficient Lightning Programme (DELP). UJALA is an acronym for _____.

उजाला एलईडी आधारित घरेलू कुशल बिजली कार्यक्रम (डीईएलपी) के लिए एक योजना है। उजाला _____ के लिए एक संक्षिप्त शब्द है।

Options:

- 1) Unnat Jyoti by Affordable LEDs for All
उन्नत ज्योति बाई अफोर्डेबल एल. ई. डी. फॉर ऑल
- 2) Ujjwal Jagriti by Affordable LEDs for All
उज्ज्वल जाग्रिति अफोर्डेबल एल. ई. डी. फॉर ऑल
- 3) Ujjwal Jagriti by Accessible Lights for All
उज्ज्वल जाग्रिति सभी के लिए सुलभ रोशनी द्वारा
- 4) Unnat Jyoti by Accessible Lights for All
सभी के लिए पहुंच योग्य रोशनी द्वारा

Correct Answer: Unnat Jyoti by Affordable LEDs for All
उन्नत ज्योति बाई अफोर्डेबल एल. ई. डी. फॉर ऑल

Candidate Answer: Ujjwal Jagriti by Affordable LEDs for All
उज्ज्वल जाग्रिति अफोर्डेबल एल. ई. डी. फॉर ऑल

QID : 94 - Who discovered neutron?

न्यूट्रॉन की खोज किसने की थी?

Options:

- 1) J.J. Thomson
जे. जे. थॉमसन
- 2) James Chadwick
जेम्स चैडविक
- 3) R.A. Millikan
आर. ए. मिलिकन
- 4) E. Rutherford
ई. रदरफोर्ड

Correct Answer: James Chadwick
जेम्स चैडविक

Candidate Answer: [NOT ANSWERED]

QID : 95 - Supreme Court appointed 'R. M. Lodha Committee' for overhaul of structure of which sport in India?

सुप्रीम कोर्ट ने भारत में किस खेल की संरचना के ओवरहाल के लिए 'आर. एम. लोढा समिति' नियुक्त किया था?

Options:

- 1) Football
फुटबॉल
- 2) Tennis
टेनिस
- 3) Cricket
क्रिकेट
- 4) Table Tennis
टेबल टेनिस

Correct Answer: Cricket
क्रिकेट

Candidate Answer: Cricket
क्रिकेट

QID : 96 - Rangavalli is a traditional folk art of which state?

रंगावली किस राज्य की पारंपरिक लोक कला है

Options:

- 1) Bihar
बिहार
- 2) Gujrat
गुजरात
- 3) Karnataka
कर्नाटक
- 4) Madhya Pradesh
मध्य प्रदेश

Correct Answer: Karnataka
कर्नाटक

Candidate Answer: Karnataka
कर्नाटक

QID : 97 - Which Indian has won the 2017 Dan David prize for his contribution in the field of astronomy?

खगोल विज्ञान के क्षेत्र में उनके योगदान के लिए 2017 दान डेविड पुरस्कार किस भारतीय ने जीता है?

Options:

- 1) Shrinivas Kulkarni
श्रीनिवास कुलकर्णी
- 2) Amil Kumar Das
आमिल कुमार दास
- 3) Jayant Narlikar
जयंत नारलीकर
- 4) Govind Swaroop
गोविंद स्वरूप

Correct Answer: Shrinivas Kulkarni
श्रीनिवास कुलकर्णी

Candidate Answer: [NOT ANSWERED]

QID : 98 - Who is the author of book named "Das Capital"?

"दास कैपिटल" नामक पुस्तक के लेखक कौन हैं?

Options:

- 1) Sudarshan Pattnaik
सुदर्शन पठनायक
- 2) Jane Austen
जेन ऑस्टेन
- 3) R.K Narayan
आर. के. नारायण
- 4) Karl Marx
कार्ल मार्क्स

Correct Answer: Karl Marx
कार्ल मार्क्स

Candidate Answer: [NOT ANSWERED]

QID : 99 - Which among the following is not a permanent partner of Malabar trilateral naval exercise?

निम्नलिखित में से कौन सा मालाबार त्रिपक्षीय नौसैनिक अभ्यास का स्थायी साझेदार नहीं है?

Options:

- 1) North America
उत्तरी अमेरिका
- 2) India
भारत
- 3) Japan
जापान
- 4) China
चीन

Correct Answer: China
चीन

Candidate Answer: China
चीन

QID : 100 - The Minicoy Island of Lakshadweep was part of which neighbouring country of India?

लक्षद्वीप का मिनीकॉय द्वीप भारत के किस पड़ोसी देश का हिस्सा था?

Options:

- 1) Sri Lanka
श्रीलंका
- 2) Indonesia
इंडोनेशिया
- 3) Myanmar
म्यांमार
- 4) Maldives
मालदीव

Correct Answer: Maldives
मालदीव

Candidate Answer: Maldives
मालदीव

mpcareer.in