



Staff Selection Commission
(Government Of India)

REGISTRATION NUMBER : examstocks.com
EXAM DATE : 5-October-2017
EXAM NAME : SSC Examination
TOTAL MARKS : 150

CANDIDATE NAME : examstocks.com
EXAM START TIME : 13:30:00 EXAM
DURATION : 01:30 Hrs **TOTAL NO OF**
QUESTIONS : 100

QID : 101 -

In the following question, select the number which can be placed at the sign of question mark (?) from the given alternatives.

निम्नलिखित प्रश्न में दिए गए विकल्पों में से प्रश्न चिह्न (?) के स्थान पर आने वाली संख्या को चुनिए।

5	7	8	9
6	5	3	2
2	4	3	5
15	18	16	?

Options:

- 1) 14
- 2) 18
- 3) 20
- 4) 24

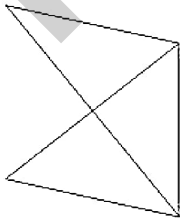
Correct Answer: 18

Candidate Answer: 18

QID : 102 -

How many triangles are there in the given figure?

दी गई आकृति में कितने त्रिभुज हैं?



Options:

- 1) 4
- 2) 5
- 3) 6
- 4) 7

Correct Answer: 5

Candidate Answer: 5

QID : 103 -

A word is represented by only one set of numbers as given in any one of the alternatives. The sets of numbers given in the alternatives are represented by two classes of alphabets as shown in the given two matrices. The columns and rows of **Matrix-I** are numbered from 0 to 4 and that of **Matrix-II** are numbered from 5 to 9. A letter from these matrices can be represented first by its row and next by its column, for example, 'Q' can be represented by 10, 69, etc., and 'W' can be represented by 41, 99, etc. Similarly, you have to identify the set for the word "DROWN".

एक शब्द केवल एक संख्या-समूह द्वारा दर्शाया गया है, जैसा कि विकल्पों में से किसी एक में दिया गया है। विकल्पों में दिए गए संख्या-समूह अक्षरों के दो वर्गों द्वारा दर्शाए गए हैं, जैसा कि दिए गए दो आव्यूहों में है। आव्यूह-I के स्तम्भ और पंक्ति की संख्या 0 से 4 है और आव्यूह-II की 5 से 9। इन आव्यूहों से एक अक्षर को पहले उसकी पंक्ति और बाद में स्तम्भ संख्या द्वारा दर्शाया जा सकता है। उदाहरण के लिए 'Q' को 10, 69, आदि द्वारा दर्शाया जा सकता है तथा 'W' को 41, 99, आदि द्वारा दर्शाया जा सकता है। इसी तरह से आपको प्रश्न में दिए शब्द "DROWN" के लिए समूह को पहचानना है।

Matrix-I
आव्यूह-I

	0	1	2	3	4
0	A	T	E	H	J
1	Q	O	H	L	S
2	W	N	T	K	D
3	J	C	Z	A	F
4	M	W	A	P	G

Matrix-II
आव्यूह-II

	5	6	7	8	9
5	Y	T	H	R	F
6	G	R	P	L	Q
7	I	O	U	N	M
8	D	F	R	Q	J
9	S	R	L	N	W

Options:

- 1) 11, 56, 77, 99, 79
- 2) 85, 58, 77, 41, 98
- 3) 24, 87, 76, 20, 21
- 4) 23, 57, 76, 99, 21

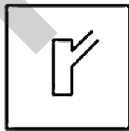
Correct Answer: 24, 87, 76, 20, 21

Candidate Answer: 24, 87, 76, 20, 21

QID : 104 -

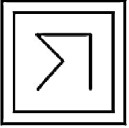
From the given answer figures, select the one in which the question figure is hidden/embedded.

दी गई उत्तर आकृतियों में से उस उत्तर आकृति को चुनिए जिस में प्रश्न आकृति निहित है।




Options:

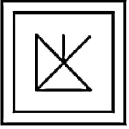
1)



2)



3)



4)



Correct Answer:



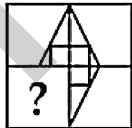
Candidate Answer:



QID : 105 -

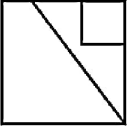
Which answer figure will complete the pattern in the question figure?

कौन सी उत्तर आकृति प्रश्न आकृति के प्रतिरूप को पूरा करेगी?

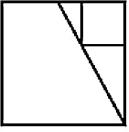


Options:

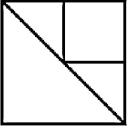
1)



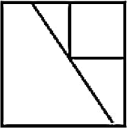
2)



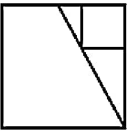
3)



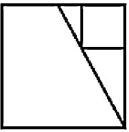
4)



Correct Answer:



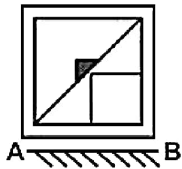
Candidate Answer:



QID : 106 -

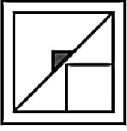
If a mirror is placed on the line AB, then which of the answer figures is the right image of the given figure?

यदि एक दर्पण को AB रेखा पर रखा जाए, तो दी गई उत्तर आकृतियों में से कौन सी आकृति प्रश्न आकृति की सही प्रतिबिम्ब होगी?

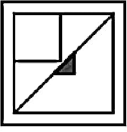


Options:

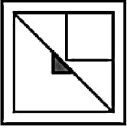
1)



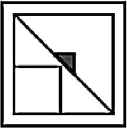
2)



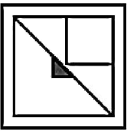
3)



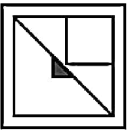
4)



Correct Answer:



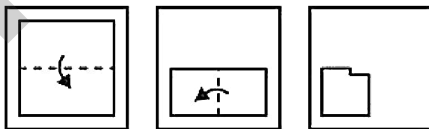
Candidate Answer:



QID : 107 -

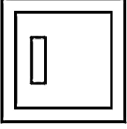
A piece of paper is folded and punched as shown below in the question figures. From the given answer figures, indicate how it will appear when opened?

नीचे के प्रश्न आकृतियों में दिखाए अनुसार कागज को मोड़कर छेदने तथा खोलने के बाद वह किस उत्तर आकृति जैसा दिखाई देगा?

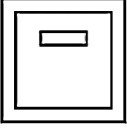


Options:


1)



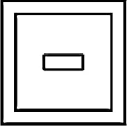
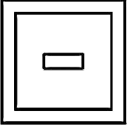
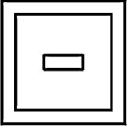
2)



3)



4)

**Correct Answer:****Candidate Answer:****QID : 108** - What will come in place of question mark (?) in the given equation?

$$80 ? 4 ? 8 ? 9 ? 8$$

दिए गए समीकरण में प्रश्न चिह्न (?) के स्थान पर क्या आएगा?

$$80 ? 4 ? 8 ? 9 ? 8$$

Options:1) $\times, +, <$ and \div $\times, +, <$ तथा \div 2) $\div, >, \times$ and \div $\div, >, \times$ तथा \div 3) $+, -, \div$ and $=$ $+, -, \div$ तथा $=$ 4) \times, \div, \div and $=$ \times, \div, \div तथा $=$ **Correct Answer:** $\div, >, \times$ and \div $\div, >, \times$ तथा \div **Candidate Answer:** $\div, >, \times$ and \div $\div, >, \times$ तथा \div **QID : 109** - If $5 \$ 4 @ 3 = 23$ and $6 \$ 3 @ 9 = 27$, then $7 \$ 4 @ 6 = ?$ यदि $5 \$ 4 @ 3 = 23$ तथा $6 \$ 3 @ 9 = 27$ हो, तो $7 \$ 4 @ 6 = ?$ **Options:**

1) 32

2) 20

3) 27

4) 34

Correct Answer: 34**Candidate Answer:** 34

QID : 110 - Arrange the given words in the sequence in which they occur in the dictionary.

1. Mason
2. Mede
3. Magic
4. Mayor
5. Marsh

निम्नलिखित शब्दों को शब्दकोश में आने वाले क्रम के अनुसार लिखें।

1. Mason
2. Mede
3. Magic
4. Mayor
5. Marsh

Options:

1) 31452

2) 32145

3) 35142

4) 51342

Correct Answer: 35142

Candidate Answer: 35142

QID : 111 - In the following question, select the missing number from the given series.

4, 10, 18, 24, 32, 38, 46, ?

निम्नलिखित प्रश्न में दिए गए विकल्पों में से लुप्त अंक ज्ञात कीजिए।

4, 10, 18, 24, 32, 38, 46, ?

Options:

1) 50

2) 52

3) 54

4) 56

Correct Answer: 52

Candidate Answer: 52

QID : 112 - A series is given with one term missing. Select the correct alternative from the given ones that will complete the series.

AB, ZY, CD, XW, EF, ?

एक अनुक्रम दिया गया है, जिसमें से एक पद लुप्त है। दिए गए विकल्पों में से वह सही विकल्प चुनिए, जो अनुक्रम को पूरा करे।

AB, ZY, CD, XW, EF, ?

Options:

1) UV

2) VW

3) WV

4) VU

Correct Answer: VU

Candidate Answer: VU

QID : 113 - In the following question, select the odd word from the given alternatives.

निम्नलिखित प्रश्न में दिए गए विकल्पों में से विषम शब्द को चुनिए।

Options:

1) Iron

लोहा

2) Gold

सोना

3) Silver

चाँदी

4) Potassium

पोटेशियम

Correct Answer: Potassium

पोटेशियम

Candidate Answer: Potassium

पोटेशियम

QID : 114 - In the following question, select the odd number pair from the given alternatives.

निम्नलिखित प्रश्न में दिए गए विकल्पों में से विषम संख्या युग्म को चुनिए।

Options:

1) 11, 13

2) 17, 19

3) 41, 47

4) 31, 37

Correct Answer: 41, 47

Candidate Answer: 41, 47

QID : 115 - In the following question, select the odd letters from the given alternatives.

निम्नलिखित प्रश्न में दिए गए विकल्पों में से विषम अक्षरों को चुनिए।

Options:

1) DGJ

2) MPS

3) TVY

4) FIL

Correct Answer: TVY

Candidate Answer: TVY

QID : 116 - Identify the diagram that best represents the relationship among the given classes.

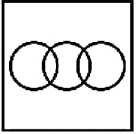
Male, Father, Doctor

वह आरेख चुनिए जो नीचे दिए गए वर्गों के बीच के संबंध का सही निरूपण करता है।

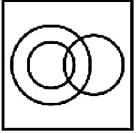
पुरुष, पिता, चिकित्सक

Options:

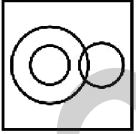
1)



2)



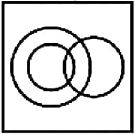
3)



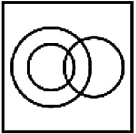
4)



Correct Answer:



Candidate Answer:



QID : 117 - In the following question, select the related word from the given alternatives.

Up : Down :: Fat : ?

निम्नलिखित प्रश्न में दिए गए विकल्पों में से संबंधित शब्द को चुनिए।

ऊपर : नीचे :: मोटा : ?

Options:

- 1) Tall
लम्बा
- 2) Short
छोटा
- 3) Huge
विशाल
- 4) Thin
पतला

Correct Answer: Thin

पतला

Candidate Answer: Thin

पतला

QID : 118 - In the following question, select the related number from the given alternatives.

24 : 16 :: 28 : ?

निम्नलिखित प्रश्न में दिए गए विकल्पों में से संबंधित संख्या को चुनिए।

24 : 16 :: 28 : ?

Options:

- 1) 64
- 2) 49
- 3) 25
- 4) 100

Correct Answer: 64

Candidate Answer: 49

QID : 119 - In the following question, select the related letters from the given alternatives.

GIN : HGQ :: AFD : ?

निम्नलिखित प्रश्न में दिए गए विकल्पों में से संबंधित अक्षरों को चुनिए।

GIN : HGQ :: AFD : ?

Options:

- 1) BDG
- 2) CEH
- 3) CDH
- 4) BDH

Correct Answer: BDG

Candidate Answer: BDG

QID : 120 - In the following question, select the word which cannot be formed using the letters of the given word.

MONTESSORI

निम्नलिखित विकल्पों में से वह शब्द चुनिए जो दिए गए शब्द के अक्षरों का प्रयोग करके नहीं बनाया जा सकता।

MONTESSORI

Options:

- 1) SORT
- 2) MORE
- 3) MOUSE
- 4) NEST

Correct Answer: MOUSE

Candidate Answer: MOUSE

QID : 121 - Kamal is father of Sampat. Sampat is son of Rajni. Roshni is sister of Rajni. Rashmi is daughter of Roshni. How is Roshni related to Sampat?

कमल. सम्पत का पिता है। सम्पत. रजनी के पुत्र हैं। रश्मि रश्नी की पुत्री हैं। रश्नी रजनी की बहन हैं। रश्नी सम्पत से कैसे संबंधित हैं?

Options:

- 1) Wife
पत्नी
- 2) Sister
बहन
- 3) Aunt
मौसी
- 4) Mother
माता

Correct Answer: Aunt

मौसी

Candidate Answer: Aunt

मौसी

QID : 122 - Raj walks 25 km towards west. He turns right and walks another 25 km. He turns right and walks another 25 km. In which direction is he from his starting point?

राज पश्चिम की ओर 25 कि.मी. चलता है। वह दायीं ओर मुड़ता है तथा 25 कि.मी. और चलता है। वह दायीं ओर मुड़ता है तथा 25 कि.मी. और चलता है। वह अपने आरंभिक बिन्दु से किस दिशा में है?

Options:

- 1) East
पूर्व
- 2) West
पश्चिम
- 3) North
उत्तर
- 4) South
दक्षिण

Correct Answer: North

उत्तर

Candidate Answer: North

उत्तर

QID : 123 - In the following question below are given some statements followed by some conclusions. Taking the given statements to be true even if they seem to be at variance from commonly known facts, read all the conclusions and then decide which of the given conclusion logically follows the given statements.

Statements:

- I. Some rocks are brown.
- II. Some brown are round.

Conclusions:

- I. Some brown are rocks.
- II. Some round are rocks.

नीचे दिए गए प्रश्न में कुछ कथन और उनके बाद उन कथनों पर आधारित कुछ निष्कर्ष दिए गए हैं, हालांकि उनमें सामान्य ज्ञात तथ्यों से भिन्नता हो सकती है। सभी निष्कर्ष पढ़ें और फिर निर्धारित करें कि दिए गए कौन से निष्कर्ष, दिए गए कथनों के आधार पर युक्तिसंगत हैं।

कथन:

- I. कुछ पत्थर भूरे हैं।
- II. कुछ भूरे गोल हैं।

निष्कर्ष:

- I. कुछ भूरे पत्थर हैं।
- II. कुछ गोल पत्थर हैं।

Options:

- 1) Only conclusion (I) follows.
केवल निष्कर्ष (I) सही है।
- 2) Only conclusion (II) follows.
केवल निष्कर्ष (II) सही है।
- 3) Both conclusion follow.
दोनों ही निष्कर्ष सही हैं।
- 4) Neither conclusion (I) nor conclusion (II) follows.
न तो निष्कर्ष (I) न ही निष्कर्ष (II) सही है।

Correct Answer: Only conclusion (I) follows.

केवल निष्कर्ष (I) सही है।

Candidate Answer: Only conclusion (I) follows.

केवल निष्कर्ष (I) सही है।

QID : 124 - In a certain code language, "BAT" is written as "25" and "BIN" is written as "27". How is "GUN" written in that code language?

एक विशिष्ट कोड भाषा में, "BAT" को "25" तथा "BIN" को "27" लिखा जाता है। इस कोड भाषा में "GUN" को किस प्रकार लिखा जाएगा?

Options:

- 1) 45
- 2) 43
- 3) 42
- 4) 44

Correct Answer: 44

Candidate Answer: 44

QID : 125 - In a certain code language, "THIN" is written as "SGHM". How is "JUKE" written in that code language?

एक विशिष्ट कोड भाषा में, "THIN" को "SGHM" लिखा जाता है। इस कोड भाषा में "JUKE" को किस प्रकार लिखा जाएगा?

Options:

- 1) ITJD
- 2) ISJD
- 3) IVJF
- 4) ITJF

Correct Answer: ITJD

Candidate Answer: ITJD

QID : 126 - If 635P61 is completely divisible by 9, then what is the value of P?

यदि 635P61, 9 से पूर्णतः विभाजित है, तो P का मान क्या होगा?

Options:

- 1) 3
- 2) 5
- 3) 6
- 4) 8

Correct Answer: 6

Candidate Answer: 6

QID : 127 - Which smallest number must be added to 300, so that the resulting number is completely divisible by 13?

300 में ऐसी कौन सी सबसे छोटी संख्या जोड़ी जाए, ताकि परिणामी संख्या 13 से पूर्णतः विभाजित हो जाए?

Options:

- 1) 1
- 2) 12
- 3) 10
- 4) 9

Correct Answer: 12

Candidate Answer: 12

QID : 128 - The sum of three consecutive even integer is 126. Which is the least integer among them?

तीन क्रमागत सम पूर्णाकों का योग 126 है। उनमें से सबसे छोटा पूर्णाक कौन सा है?

Options:

- 1) 38
- 2) 44
- 3) 42
- 4) 40

Correct Answer: 40

Candidate Answer: 40

QID : 129 - A number exceeds its 1/9 by 64. What is the number?

एक संख्या अपने 1/9 से 64 अधिक है। वह संख्या क्या है?

Options:

- 1) 90
- 2) 81
- 3) 72
- 4) 180

Correct Answer: 72

Candidate Answer: 72

QID : 130 - If the difference of two numbers is 5 and the difference of their square is 125, then out of the two which is the smaller number?

यदि दो संख्याओं का अंतर 5 है तथा उनके वर्ग का अंतर 125 है, तो दोनों में से छोटी संख्या कौन सी है?

Options:

1) 15

2) 12

3) 20

4) 10

Correct Answer: 10

Candidate Answer: 10

QID : 131 - What is the value of 0.00140?

0.00140 का मान क्या है?

Options:

1) 14/100

2) 14/1000

3) 14/10000

4) 14/100000

Correct Answer: 14/10000

Candidate Answer: 14/10000

QID : 132 - A can do a piece of work in 24 days. If B is 50% more efficient than A, then in how many days can B do the same work?

A किसी कार्य को 24 दिनों में कर सकता है। यदि B की कार्य क्षमता A से 50% अधिक है, तो उसी कार्य को B कितने दिनों में करेगा?

Options:

1) 12

2) 16

3) 18

4) 15

Correct Answer: 18

Candidate Answer: 12

QID : 133 - P can do a piece of work in 15 days and Q in 20 days. With help of R, they finish the work in 5 days. In how many days R alone can do the same work?

P किसी कार्य को 15 दिनों में कर सकता है और Q, 20 दिनों में कर सकता है। R की सहायता से वे 5 दिनों में कार्य समाप्त कर लेते हैं। R अकेला उस कार्य को कितने दिनों में करेगा?

Options:

1) 10

2) 12

3) 15

4) 18

Correct Answer: 12

Candidate Answer: 12

QID : 134 - The lengths of two diagonals of a rhombus are 10 cm and 24 cm. What is the area (in cm^2) of the rhombus?

एक समचतुर्भुज के दो विकर्णों की लम्बाई 10 से.मी. तथा 24 से.मी. है। समचतुर्भुज का क्षेत्रफल (से.मी.² में) क्या है?

Options:

1) 60

2) 90

3) 120

4) 240

Correct Answer: 120

Candidate Answer: 60

QID : 135 - The marked price of an article is twice the cost price. For a gain of 50%, what should be the discount percentage?

एक वस्तु का अंकित मूल्य इसकी लागत मूल्य से दोगुना है। 50% लाभ प्राप्त करने के लिए, छूट प्रतिशत क्या होगी?

Options:

- 1) 25
- 2) 20
- 3) 30
- 4) 50

Correct Answer: 25

Candidate Answer: 25

QID : 136 - The marked price of an article is Rs 1840 and is sold at a discount of Rs 368. What is the discount percentage?

एक वस्तु का अंकित मूल्य 1840 रु है तथा उसे 368 रु की छूट पर बेचा जाता है। छूट का प्रतिशत क्या है?

Options:

- 1) 15
- 2) 20
- 3) 25
- 4) 30

Correct Answer: 20

Candidate Answer: 20

QID : 137 - If $A : B = 4 : 5$ and $A : C = 2 : 3$, then what is $(A + B) : (B + C)$?

यदि $A : B = 4 : 5$ तथा $A : C = 2 : 3$ है, तो $(A + B) : (B + C)$ क्या होगा?

Options:

- 1) 9 : 11
- 2) 10 : 9
- 3) 9 : 10
- 4) 11 : 9

Correct Answer: 9 : 11

Candidate Answer: 9 : 11

QID : 138 - If $A/2 = B/3 = C/5$, then what is $A : B : C$?

यदि $A/2 = B/3 = C/5$ हो, तो $A : B : C$ क्या होगा?

Options:

- 1) 2 : 3 : 5
- 2) 3 : 2 : 5
- 3) 3 : 5 : 2
- 4) 5 : 3 : 2

Correct Answer: 2 : 3 : 5

Candidate Answer: 2 : 3 : 5

QID : 139 - The mean of 22 numbers is 19. If two numbers 23 and 11 are removed, then what will be the mean of remaining number?

22 संख्याओं का औसत 19 है। यदि दो संख्याएँ 23 तथा 11 को हटा दिया जाए, तो शेष संख्याओं का औसत क्या होगा?

Options:

- 1) 18.6
- 2) 19.2
- 3) 19.4
- 4) 18.2

Correct Answer: 19.2

Candidate Answer: 19.2

QID : 140 - If the cost price of 5 articles is equal to the selling price of 8 articles, then what is the loss percentage?

यदि 5 वस्तुओं का क्रय मूल्य 8 वस्तुओं के विक्रय मूल्य के बराबर है, तो हानि प्रतिशत क्या होगा?

Options:

- 1) 60%
- 2) 40%
- 3) 37.5%

Correct Answer: 37.5%

Candidate Answer: 37.5%

QID : 141 - A man gains 30% by selling an article for a certain price. If he sells it at double the price, then what will be the profit percentage?

एक वस्तु को किसी निश्चित मूल्य पर बेचकर एक व्यक्ति 30% लाभ कमाता है। यदि वह उस वस्तु को दोगुनी कीमत पर बेचे, तो लाभ का प्रतिशत क्या होगा?

Options:

1) 160

2) 130

3) 120

4) 140

Correct Answer: 160

Candidate Answer: 160

QID : 142 - If the price of an article is decreased by 20%, then to restore its former value by what percent should the new price be increased?

किसी वस्तु के मूल्य में 20% की कमी आ जाती है, तो पहले के मूल्य को बनाए रखने के लिए नये मूल्य को कितने प्रतिशत बढ़ाना होगा?

Options:

1) 20

2) 25

3) 10

4) 12.5

Correct Answer: 25

Candidate Answer: 25

QID : 143 - If B got 25% marks less than A, then the marks of A is how much percent more than that of B?

यदि B को A से 25% कम अंक प्राप्त हुए, तो A के अंक B के अंकों से कितने प्रतिशत अधिक हैं?

Options:

1) 20

2) 25

3) 50

4) 33.33

Correct Answer: 33.33

Candidate Answer: 33.33

QID : 144 - Speed of a boat along the current and against the current are 12 km/hr and 6 km/hr respectively. What is the speed of boat (in km/hr) in still water?

एक नाव की गति धारा के अनुकूल तथा धारा के प्रतिकूल दिशा में क्रमशः 12 कि.मी./घंटा तथा 6 कि.मी./घंटा है। शांत जल में नाव की गति (कि.मी./घंटा में) क्या है?

Options:

1) 3

2) 6

3) 9

4) 12

Correct Answer: 9

Candidate Answer: 9

QID : 145 - A person goes from point A to B and comes back. His average speed for the whole journey is 65 km/hr. If his speed while coming back from B to A is 40 km/hr, then what will be the speed of the person (in km/hr) while going from A to B?

एक व्यक्ति बिंदु A से B जाता है तथा वापस आ जाता है। पूरी यात्रा के लिए उसकी औसत गति 65 कि.मी./घंटा है। यदि B से A आने में उसकी गति 40 कि.मी./घंटा है, तो A से B तक जाने में उस व्यक्ति की गति (कि.मी./घंटा में) क्या होगी?

Options:

1) 90

2) 173.33

3) 104

4) 112

Correct Answer: 173.33

Candidate Answer: 90

QID : 146 - Same principal is invested in schemes of compound interest and simple interest. The interest obtained in compound interest and simple interest schemes for two years are Rs 660 and Rs 600 respectively. If the rate of interest is 10%, then what is the principal (in Rs)?

समान मूलधन चक्रवृद्धि ब्याज और साधारण ब्याज की योजनाओं में निवेश किया जाता है। चक्रवृद्धि ब्याज और साधारण ब्याज योजना में दूसरे वर्ष का ब्याज क्रमशः 660 रु और 600 रु ब्याज प्राप्त होता है। यदि ब्याज दर 10% है, तो मूलधन (रु में) क्या है?

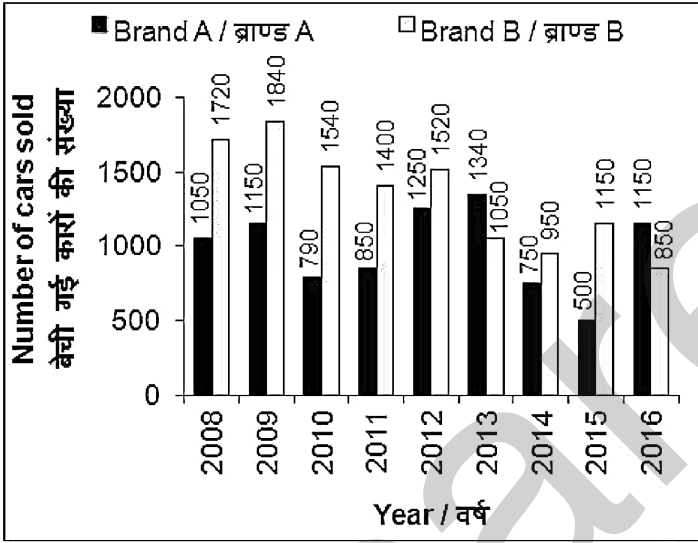
Options:

- 1) 5000
- 2) 6000
- 3) 3000
- 4) 2500

Correct Answer: 6000**Candidate Answer:** 3000**QID : 147 -**

The bar chart given below shows the number of cars sold by brand A and B for the years for 2008 to 2016.

नीचे दिए गए दण्ड चित्र में वर्ष 2008 से वर्ष 2016 तक ब्राण्ड A तथा ब्राण्ड B के द्वारा बेची गई कारों की संख्या को दर्शाया गया है।



What is the percentage decrease in the number of car sold in year 2015 from year 2014 for brand A?

ब्राण्ड A के लिए, वर्ष 2015 में बेची गई कारों की संख्या में वर्ष 2014 में बेची गई कारों की संख्या से कितने प्रतिशत की कमी हुई है?

Options:

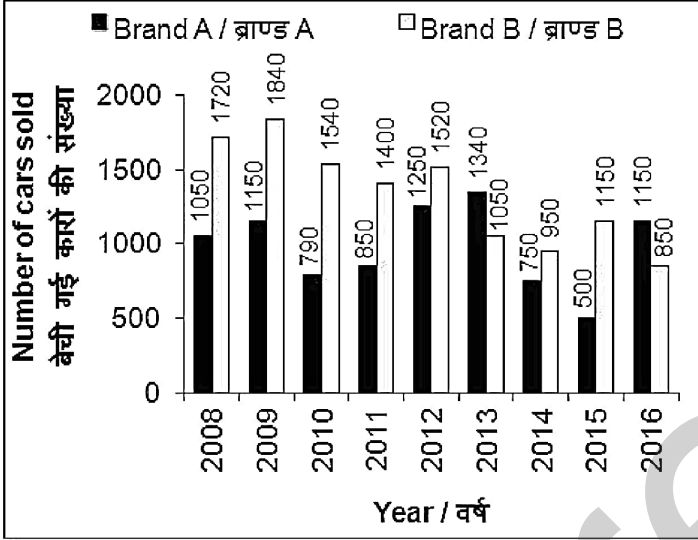
- 1) 50
- 2) 20
- 3) 25
- 4) 33.33

Correct Answer: 33.33**Candidate Answer:** 33.33

QID : 148 -

The bar chart given below shows the number of cars sold by brand A and B for the years for 2008 to 2016.

नीचे दिए गए दण्ड चित्र में वर्ष 2008 से वर्ष 2016 तक ब्राण्ड A तथा ब्राण्ड B के द्वारा बेची गई कारों की संख्या को दर्शाया गया है।



In how many years, the number of cars sold by brand A is more than the number of cars sold by brand B?

कितने वर्षों में, ब्राण्ड A द्वारा बेची गई कारों की संख्या ब्राण्ड B द्वारा बेची गई कारों की संख्या से अधिक है?

Options:

- 1) 1
- 2) 2
- 3) 3
- 4) 5

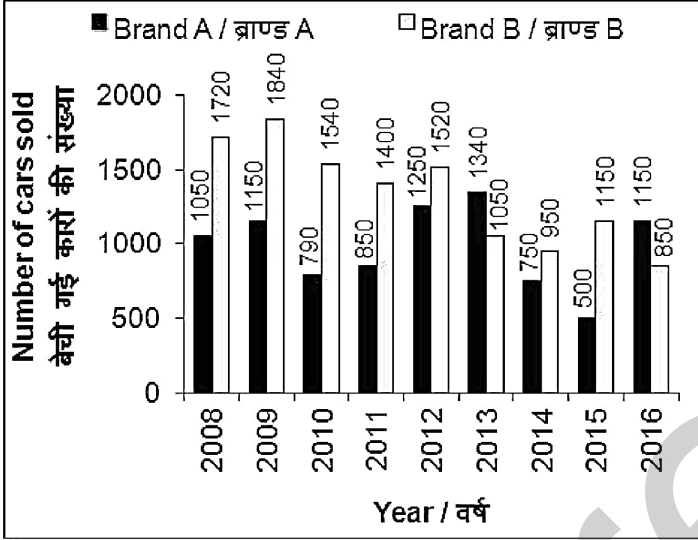
Correct Answer: 2

Candidate Answer: 2

QID : 149 -

The bar chart given below shows the number of cars sold by brand A and B for the years for 2008 to 2016.

नीचे दिए गए दण्ड चित्र में वर्ष 2008 से वर्ष 2016 तक ब्राण्ड A तथा ब्राण्ड B के द्वारा बेची गई कारों की संख्या को दर्शाया गया है।



In which year from 2008 to 2016, the combined sales of brand A and B is maximum?

वर्ष 2008 से 2016 तक, किस वर्ष में ब्राण्ड A तथा ब्राण्ड B की संयोजित बिक्री सबसे अधिक है?

Options:

- 1) 2008
- 2) 2009
- 3) 2012
- 4) 2016

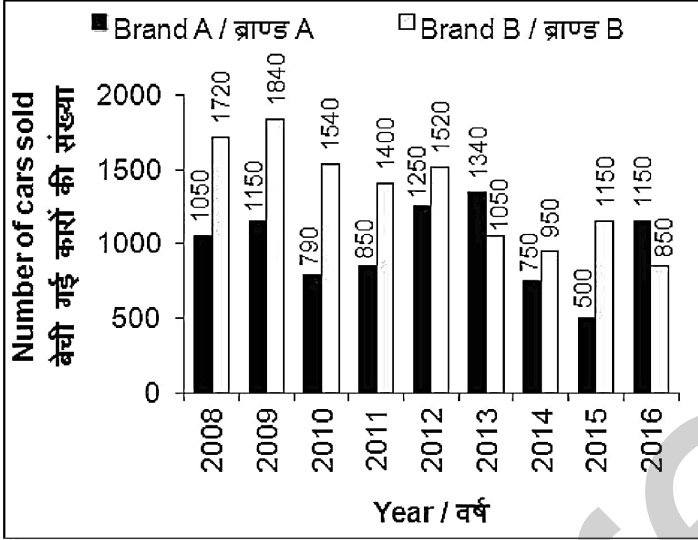
Correct Answer: 2009

Candidate Answer: 2009

QID : 150 -

The bar chart given below shows the number of cars sold by brand A and B for the years for 2008 to 2016.

नीचे दिए गए दण्ड चित्र में वर्ष 2008 से वर्ष 2016 तक ब्राण्ड A तथा ब्राण्ड B के द्वारा बेची गई कारों की संख्या को दर्शाया गया है।



The total sales of the two brands in year 2015 is what percent of the total sales in 2016?

वर्ष 2015 में दोनों ब्राण्डों की कुल बिक्री वर्ष 2016 में हुई कुल बिक्री का कितना प्रतिशत है?

Options:

- 1) 82.5
- 2) 86.5
- 3) 87.5
- 4) 79.5

QID : 153 - In the following question, the sentence given with blank to be filled in with an appropriate word. Select the correct alternative out of the four and indicate it by selecting the appropriate option.

Either father or his sons _____ tea.

Options:

- 1) makes
- 2) make
- 3) has made
- 4) is making

Correct Answer: make

Candidate Answer: makes

QID : 154 - In the following question, the sentence given with blank to be filled in with an appropriate word. Select the correct alternative out of the four and indicate it by selecting the appropriate option.

A small income is preferable _____ no income at all.

Options:

- 1) to
- 2) this
- 3) of
- 4) from

Correct Answer: to

Candidate Answer: to

QID : 155 - In the following question, out of the given four alternatives, select the one which best expresses the meaning of the given word.

Glare

Options:

- 1) Dazzle
- 2) Dullness
- 3) Boredom
- 4) Lifelessness

Correct Answer: Dazzle

Candidate Answer: Boredom

QID : 156 - In the following question, out of the given four alternatives, select the one which best expresses the meaning of the given word.

Mimic

Options:

- 1) True
- 2) Authentic
- 3) Pure
- 4) Imitator

Correct Answer: Imitator

Candidate Answer: Imitator

QID : 157 - In the following question, out of the given four alternatives, select the one which best expresses the meaning of the given word.

Patrol

Options:

- 1) Ignore
- 2) Unconcern
- 3) Neglect
- 4) Inspect

Correct Answer: Inspect

Candidate Answer: Inspect

QID : 158 - In the following question, out of the given four alternatives, select the one which is opposite in meaning of the given word.

Committed

Options:

- 1) Dedicated
- 2) Devoted
- 3) Faithful
- 4) Uncertain

Correct Answer: Uncertain**Candidate Answer:** [NOT ANSWERED]**QID : 159** - In the following question, out of the given four alternatives, select the one which is opposite in meaning of the given word.**Erode****Options:**

- 1) Eat
- 2) Destroy
- 3) Spoil
- 4) Fix

Correct Answer: Fix**Candidate Answer:** [NOT ANSWERED]**QID : 160** - In the following question, out of the given four alternatives, select the one which is opposite in meaning of the given word.**Curb****Options:**

- 1) Chain
- 2) Freedom
- 3) Control
- 4) Brake

Correct Answer: Freedom**Candidate Answer:** [NOT ANSWERED]**QID : 161** - In the following question, out of the four given alternatives, select the alternative which best expresses the meaning of the Idiom/Phrase.**Root and branch****Options:**

- 1) Half of something
- 2) Quarterly
- 3) Nothing at all
- 4) Totally

Correct Answer: Totally**Candidate Answer:** Nothing at all**QID : 162** - In the following question, out of the four given alternatives, select the alternative which best expresses the meaning of the Idiom/Phrase.**White lie****Options:**

- 1) Truth
- 2) Hidden truth
- 3) Hidden truth
- 4) Hidden lie

Correct Answer: Hidden lie**Candidate Answer:** Hidden lie**QID : 163** - Improve the bracketed part of the sentence.They (**are**) also pitched in to help in a major way.**Options:**

- 1) have
- 2) had
- 3) is
- 4) No improvement

Correct Answer: have**Candidate Answer:** have

QID : 164 - Improve the bracketed part of the sentence.

Indian restaurants (**distributing food**), Indian businesses are throwing open their premises to provide accommodation.

Options:

- 1) were distributing food
- 2) are distributing food
- 3) should distributing food
- 4) No improvement

Correct Answer: are distributing food

Candidate Answer: are distributing food

QID : 165 - In the following question, out of the four given alternatives, select the alternative which is the best substitute of the phrase.

Honesty and uprightness of character

Options:

- 1) Asperity
- 2) Alacrity
- 3) Integrity
- 4) Authority

Correct Answer: Integrity

Candidate Answer: Asperity

QID : 166 - In the following question, out of the four given alternatives, select the alternative which is the best substitute of the phrase.

The murder of one's mother

Options:

- 1) Suicide
- 2) Fratricide
- 3) Germicide
- 4) Matricide

Correct Answer: Matricide

Candidate Answer: Matricide

QID : 167 - In the following question, a word has been written in four different ways out of which only one is correctly spelt. Select the correctly spelt word.

Options:

- 1) Eligible
- 2) Eligble
- 3) Elegeble
- 4) Elegible

Correct Answer: Eligible

Candidate Answer: Eligible

QID : 168 - In the following question, a word has been written in four different ways out of which only one is correctly spelt. Select the correctly spelt word.

Options:

- 1) Etikate
- 2) Etiquette
- 3) Ettiquette
- 4) Etiquete

Correct Answer: Etiquette

Candidate Answer: Etiquete

QID : 169 - Rearrange the parts of the sentence in correct order.

The Gorkhas

P: made their presume felt in

Q: India in the 19th century

R: battles against the British in

Options:

- 1) PRQ
- 2) QPR
- 3) QRP
- 4) PQR

Correct Answer: PRQ**Candidate Answer:** PRQ**QID : 170** - Rearrange the parts of the sentence in correct order.

Fresh air and clean water are

P: life but nothing of both**Q:** is possible in the modern time**R:** two most basic needs to sustain**Options:**

- 1) PQR
- 2) RPQ
- 3) RQP
- 4) QPR

Correct Answer: RPQ**Candidate Answer:** RPQ**QID : 171** - In the following passage some of the words have been left out. Read the passage carefully and select the correct answer for the given blank out of the four alternatives.

Technology these days has advanced our lifestyle. Things have become so _____. Technology is being used everywhere and in everything. Several devices have been introduced like laptops and tablets. Each of them have their own versions with even more advanced apps. Such devices help us finish _____ of work with ease, but using such devices even in fields of education might affect the habits of students. Schools have started introducing the idea of using tablets for taking down notes, writing simple tests and _____ their projects. This gets the mind of a student completely in technology and they tend to _____ the use of books. Earlier students did not have the idea of using internet to browse information about different topics and were dependent completely on books which resulted in a very good vocabulary, but students these days do not have much of a _____ vocabulary.

Things have become so _____.**Options:**

- 1) easy
- 2) difficult
- 3) uncontrollable
- 4) irrational

Correct Answer: easy**Candidate Answer:** easy**QID : 172** - In the following passage some of the words have been left out. Read the passage carefully and select the correct answer for the given blank out of the four alternatives.

Technology these days has advanced our lifestyle. Things have become so _____. Technology is being used everywhere and in everything. Several devices have been introduced like laptops and tablets. Each of them have their own versions with even more advanced apps. Such devices help us finish _____ of work with ease, but using such devices even in fields of education might affect the habits of students. Schools have started introducing the idea of using tablets for taking down notes, writing simple tests and _____ their projects. This gets the mind of a student completely in technology and they tend to _____ the use of books. Earlier students did not have the idea of using internet to browse information about different topics and were dependent completely on books which resulted in a very good vocabulary, but students these days do not have much of a _____ vocabulary.

finish _____ of work**Options:**

- 1) class
- 2) loads
- 3) our
- 4) group

Correct Answer: loads**Candidate Answer:** loads**QID : 173** - In the following passage some of the words have been left out. Read the passage carefully and select the correct answer for the given blank out of the four alternatives.

Technology these days has advanced our lifestyle. Things have become so _____. Technology is being used everywhere and in everything. Several devices have been introduced like laptops and tablets. Each of them have their own versions with even more advanced apps. Such devices help us finish _____ of work with ease, but using such devices even in fields of education might affect the habits of students. Schools have started introducing the idea of using tablets for taking down notes, writing simple tests and _____ their projects. This gets the mind of a student completely in technology and they tend to _____ the use of books. Earlier students did not have the idea of using internet to browse information about different topics and were dependent completely on books which resulted in a very good vocabulary, but students these days do not have much of a _____ vocabulary.

writing simple tests and _____**Options:**

- 1) depleting
- 2) deleting
- 3) completing

Correct Answer: completing
Candidate Answer: completing

QID : 174 - In the following passage some of the words have been left out. Read the passage carefully and select the correct answer for the given blank out of the four alternatives.

Technology these days has advanced our lifestyle. Things have become so _____. Technology is being used everywhere and in everything. Several devices have been introduced like laptops and tablets. Each of them have their own versions with even more advanced apps. Such devices help us finish _____ of work with ease, but using such devices even in fields of education might affect the habits of students. Schools have started introducing the idea of using tablets for taking down notes, writing simple tests and _____ their projects. This gets the mind of a student completely in technology and they tend to _____ the use of books. Earlier students did not have the idea of using internet to browse information about different topics and were dependent completely on books which resulted in a very good vocabulary, but students these days do not have much of a _____ vocabulary.

they tend to _____ the use of books.

- Options:**
 1) memorize
 2) initiate
 3) relate
 4) forget

Correct Answer: forget
Candidate Answer: forget

QID : 175 - In the following passage some of the words have been left out. Read the passage carefully and select the correct answer for the given blank out of the four alternatives.

Technology these days has advanced our lifestyle. Things have become so _____. Technology is being used everywhere and in everything. Several devices have been introduced like laptops and tablets. Each of them have their own versions with even more advanced apps. Such devices help us finish _____ of work with ease, but using such devices even in fields of education might affect the habits of students. Schools have started introducing the idea of using tablets for taking down notes, writing simple tests and _____ their projects. This gets the mind of a student completely in technology and they tend to _____ the use of books. Earlier students did not have the idea of using internet to browse information about different topics and were dependent completely on books which resulted in a very good vocabulary, but students these days do not have much of a _____ vocabulary.

not have much of a _____ vocabulary.

- Options:**
 1) bad
 2) good
 3) worst
 4) ruthless

Correct Answer: good
Candidate Answer: good

QID : 176 - How is per capita income calculated?

प्रति व्यक्ति आय की गणना कैसे की जाती है?

- Options:**
 1) Net Income/Population
 शुद्ध आय / जनसंख्या
 2) Wealth tax/population
 धन कर / जनसंख्या
 3) Income tax/Population
 आयकर / जनसंख्या
 4) National Income/ Population
 राष्ट्रीय आय / जनसंख्या

Correct Answer: National Income/ Population
 राष्ट्रीय आय / जनसंख्या

Candidate Answer: National Income/ Population
 राष्ट्रीय आय / जनसंख्या

QID : 177 - Which of the following is/are required to get more income by the people?

निम्नलिखित में से क्या लोगों द्वारा अधिक आय प्राप्त करने के लिए अभीष्ट है?

- Options:**
 1) Better price their produce
 उत्पादन के लिए बेहतर मूल्य
 2) Continous job
 निरन्तर नौकरी
 3) Better wages
 बेहतर वेतन
 4) All options are correct
 सभी विकल्प सही हैं

Correct Answer: All options are correct

सभी विकल्प सही हैं

Candidate Answer: All options are correct

सभी विकल्प सही हैं

QID : 178 - Under which article does the President declares National Emergency in India?

भारत में राष्ट्रपति किस अनुच्छेद के अंतर्गत 'राष्ट्रीय आपात' घोषित करता है?

Options:

1) Article 1

अनुच्छेद 1

2) Article 100

अनुच्छेद 100

3) Article 352

अनुच्छेद 352

4) Article 80

अनुच्छेद 80

Correct Answer: Article 352

अनुच्छेद 352

Candidate Answer: Article 352

अनुच्छेद 352

QID : 179 - Which Article of Indian Constitution deals with 'Rights to Education'?

'शिक्षा का अधिकार' की व्याख्या भारतीय संविधान के किस अनुच्छेद में की गई है?

Options:

1) Article 15

अनुच्छेद 15

2) Article 18

अनुच्छेद 18

3) Article 21a

अनुच्छेद 21a

4) Article 26

अनुच्छेद 26

Correct Answer: Article 21a

अनुच्छेद 21a

Candidate Answer: Article 21a

अनुच्छेद 21a

QID : 180 - Where did Gautama Buddha taught for the first time?

गौतम बुद्ध ने अपना पहला उपदेश कहाँ दिया था?

Options:

1) Bodh Gaya

बोध गया

2) Lumbini

लुम्बिनी

3) Sarnath

सारनाथ

4) Kushinagar

कुशीनगर

Correct Answer: Sarnath

सारनाथ

Candidate Answer: Sarnath

सारनाथ

QID : 181 - Who was the last of the powerful Mughal rulers?

मुगल बादशाहों में आखिरी शक्तिशाली बादशाह कौन था?

Options:

1) Akbar

अकबर

2) Shah Jahan

शाहजहाँ

3) Jahangir

जहांगीर

4) Aurangzeb

औरंगजेब

Correct Answer: Aurangzeb

औरंगजेब

Candidate Answer: Akbar

अकबर

QID : 182 - What is a strait?

एक जलसंधि क्या है?

Options:

1) A narrow strip of land joining two landmasses

स्थल का एक संकरा भाग जो दो बड़े स्थलीय भागों को एक दूसरे से जोड़ता है

2) A narrow strip of land joining two water bodies

स्थल का एक संकरा भाग जो दो जलराशि को एक दूसरे से जोड़ता है

3) A narrow passage of water connecting two large water bodies

पानी का एक संकरा भाग जो दो बड़ी जलराशि को एक दूसरे से जोड़ता है

4) A narrow passage of water connecting two landmasses

पानी का एक संकरा भाग जो दो स्थलीय भागों को एक दूसरे से जोड़ता है

Correct Answer: A narrow passage of water connecting two large water bodies

पानी का एक संकरा भाग जो दो बड़ी जलराशि को एक दूसरे से जोड़ता है

Candidate Answer: A narrow passage of water connecting two large water bodies

पानी का एक संकरा भाग जो दो बड़ी जलराशि को एक दूसरे से जोड़ता है

QID : 183 - Which is the largest ocean of the world?

विश्व का सबसे बड़ा महासागर कौन सा है?

Options:

1) Indian Ocean

हिन्द महासागर

2) Atlantic Ocean

अटलांटिक महासागर

3) Pacific Ocean

प्रशांत महासागर

4) Southern Ocean

दक्षिणी महासागर

Correct Answer: Pacific Ocean

प्रशांत महासागर

Candidate Answer: Pacific Ocean

प्रशांत महासागर

QID : 184 - What is the surroundings in which organisms live called?

किसी सजीव के रहने वाले परिवेश को क्या कहते हैं?

Options:

1) Adaptation

अनुकूलन

2) Abiotic component

अजैव घटक

3) Habitat

आवास

4) Biotic component

जैव घटक

Correct Answer: Habitat

आवास

Candidate Answer: Biotic component

जैव घटक

QID : 185 - Which of the following wavelength of light is absorbed the most for photosynthesis?

प्रकाश की कौन सी तरंग दैर्घ्य प्रकाश संश्लेषण के लिए सबसे अधिक अवशोषित की जाती है?

Options:

1) White light

श्वेत प्रकाश

2) Blue light

नीला प्रकाश

3) Green light

हरा प्रकाश

4) Orange light

नारंगी प्रकाश

Correct Answer: Blue light

नीला प्रकाश

Candidate Answer: Blue light

नीला प्रकाश

QID : 186 - Small upper chambers of heart are called _____.

दिल में ऊपर के छोटे कक्षों _____ कहा जाता है।

Options:

- 1) Atria
एट्रिया
- 2) Ventricles
वेंट्रिकल
- 3) Septums
सेप्टमस
- 4) Aorta
एओर्टा

Correct Answer: Atria
एट्रिया

Candidate Answer: Ventricles
वेंट्रिकल

QID : 187 - Which device is used to test whether an object is carrying charge or not?

किस यंत्र का प्रयोग यह परिक्षण करने के लिए किया जाता है कि कोई वस्तु आवेशित है अथवा नहीं?

Options:

- 1) Thermometer
थर्मामीटर
- 2) Stethoscope
परिश्रावक
- 3) Odometer
ओडोमीटर
- 4) Electroscopes
विद्युतदर्शी

Correct Answer: Electroscopes
विद्युतदर्शी

Candidate Answer: Electroscopes
विद्युतदर्शी

QID : 188 - If the reflecting surface of a spherical mirror is convex, then it is a _____ mirror.

यदि किसी गोलीय दर्पण का परावर्तक पृष्ठ उत्तल है, तो इसे _____ दर्पण कहते हैं?

Options:

- 1) Convex
उत्तल
- 2) Concave
अवतल
- 3) Plane
समतल
- 4) Planoconvex
समनलोत्तल

Correct Answer: Convex
उत्तल

Candidate Answer: [NOT ANSWERED]

QID : 189 - Which of the following pair is INCORRECT?

निम्नलिखित में से कौन सा युग्म गलत है?

Options:

- 1) 1 KB = 8196 bits
1 के. बी. = 8196 बिट्स
- 2) 1 KB = 8000 bits
1 के. बी. = 8000 बिट्स
- 3) 1 MB = 1024 KB
1 एम. बी. = 1024 के. बी.
- 4) 1 GB = 1024 MB
1 जी.बी. = 1024 एम. बी.

Correct Answer: 1 KB = 8000 bits
1 के. बी. = 8000 बिट्स

Candidate Answer: 1 MB = 1024 KB
1 एम. बी. = 1024 के. बी.

QID : 190 - Metals generally form _____.

धातुएँ सामान्यतः _____ निर्मित करती हैं।

Options:

- 1) Basic oxides
क्षारीय ऑक्साइड
- 2) Acidic oxides
अम्लीय ऑक्साइड
- 3) Neutral oxides
उदासीन ऑक्साइड
- 4) Both basic and acidic oxides
क्षारीय तथा अम्लीय ऑक्साइड दोनों

Correct Answer: Basic oxides
क्षारीय ऑक्साइड

Candidate Answer: Both basic and acidic oxides
क्षारीय तथा अम्लीय ऑक्साइड दोनों

QID : 191 - The absolute charge of the electron is _____.

इलेक्ट्रॉन का पूर्ण प्रभार _____ होता है।

Options:

- 1) $1.1 \times 10^{22}C$
- 2) $1.6 \times 10^{14}C$
- 3) 1.6×10^{-19}
- 4) $6.0 \times 10^{-24}C$

Correct Answer: 1.6×10^{-19}

Candidate Answer: 1.6×10^{-19}

QID : 192 - Which one of the following is not among the three R's to save the environment?

निम्नलिखित में से कौन पर्यावरण के बचाव के लिए तीन 'आर' में से एक नहीं है?

Options:

- 1) Reduce
रेड्युज
- 2) Recover
रिकवर
- 3) Recycle
रिसाईकल
- 4) Reuse
रियूज

Correct Answer: Recover
रिकवर

Candidate Answer: Reduce
रेड्युज

QID : 193 - Which among the following scheme aims to provide 24 x 7 uninterrupted electricity supply to each rural household across the country by 2022?

2022 तक देश भर में प्रत्येक ग्रामीण परिवार को 24 x 7 निर्बाध बिजली आपूर्ति प्रदान करने के लिए निम्नलिखित में से कौन सी योजना का लक्ष्य है?

Options:

- 1) Deendayal Upadhyaya Gram Jyoti Yojana
दीनदयाल उपाध्याय ग्राम ज्योति योजना
- 2) Pradhan Mantri Vidyut Vikas Yojana
प्रधानमंत्री विद्युत विकास योजना
- 3) Unnat Jyoti by Affordable LEDs for All
उन्नत ज्योति बाई एफर्डेबल एल.ई.डी. फॉर ऑल
- 4) Ujwal DISCOM Assurance Yojana
उज्ज्वल डिस्कम एश्योरेंस योजना

Correct Answer: Deendayal Upadhyaya Gram Jyoti Yojana
दीनदयाल उपाध्याय ग्राम ज्योति योजना

Candidate Answer: Ujwal DISCOM Assurance Yojana
उज्ज्वल डिस्कम एश्योरेंस योजना

QID : 194 - Who discovered the double helical structure of DNA?

डी.एन.ए. का दोहरी पेंचदार संरचना की खोज किसने की?

Options:

- 1) Rosalind Franklin
रॉसलिंग फ्रैंक्लिन
- 2) Maurice Wilkins
मौरिस विल्किंस
- 3) James Watson and Francis Crick
जेम्स वाटसन और फ्रांसिस क्रिक
- 4) Freidrich Meischer
फ्रीडरिक मीचर

Correct Answer: James Watson and Francis Crick

जेम्स वाटसन और फ्रांसिस क्रिक

Candidate Answer: James Watson and Francis Crick

जेम्स वाटसन और फ्रांसिस क्रिक

QID : 195 - Who is the current head coach of the Indian cricket team?

भारतीय क्रिकेट टीम का वर्तमान प्रमुख कोच कौन है?

Options:

1) Anil Kumble

अनिल कुंबले

2) Ravi Shastri

रवि शास्त्री

3) Gary Kirsten

गैरी कस्टन

4) Greg Chappell

ग्रेग चैपल

Correct Answer: Ravi Shastri

रवि शास्त्री

Candidate Answer: Greg Chappell

ग्रेग चैपल

QID : 196 - Madhubani Paintings of Bihar are also called _____.

बिहार की मधुबनी चित्रकारी को _____ भी कहते हैं।

Options:

1) Gaya paintings

गया चित्रकारी

2) Bhojpur paintings

भोजपुर चित्रकारी

3) Mithila paintings

मिथिला चित्रकारी

4) Darbhanga paintings

दरभंगा चित्रकारी

Correct Answer: Mithila paintings

मिथिला चित्रकारी

Candidate Answer: Gaya paintings

गया चित्रकारी

QID : 197 - Who won the Best Supporting Actress award at the 64th National Film Awards?

64 वॉ राष्ट्रीय फिल्म पुरस्कारों में सर्वश्रेष्ठ सहायक अभिनेत्री का पुरस्कार किसने दिया?

Options:

1) Sonam Kapoor

सोनम कपूर

2) Zaira Wasim

ज़ैरा वासीम

3) Shraddha Kapoor

श्रद्धा कपूर

4) None of these

इनमें से कोई नहीं

Correct Answer: Zaira Wasim

ज़ैरा वासीम

Candidate Answer: Zaira Wasim

ज़ैरा वासीम

QID : 198 - Who is the author of the book named "Man Eaters of Kumaon"?

"मैन ईटर्स ऑफ कुमाँन" नामक पुस्तक के लेखक कौन हैं?

Options:

1) Thomas Mann

थॉमस मान

2) Romain Rolland

रोमेन रॉलैंड

3) Jim Corbett

जिम कॉर्बेट

4) Philip Roth

फिलिप रोथ

Correct Answer: Jim Corbett

जिम कॉर्बेट

Candidate Answer: [NOT ANSWERED]

QID : 199 - Which country has been designated as major defence partner of US?

किस देश को संयुक्त राज्य का सबसे बड़ा सुरक्षा पार्टनर घोषित किया गया है?

Options:

1) Pakistan

पाकिस्तान

2) France

फ्रांस

3) India

भारत

4) South Africa

दक्षिण अफ्रीका

Correct Answer: India

भारत

Candidate Answer: [NOT ANSWERED]

QID : 200 - The Agra-Summit was organized with the aim of resolving long-standing issues between India and _____.

आगरा-शिखर सम्मेलन भारत तथा _____ के बीच दीर्घकालीन मुद्दों को हल करने के उद्देश्य से आयोजित किया गया था।

Options:

1) Nepal

नेपाल

2) China

चीन

3) Pakistan

पाकिस्तान

4) Sri-Lanka

श्रीलंका

Correct Answer: Pakistan

पाकिस्तान

Candidate Answer: [NOT ANSWERED]