



Staff Selection Commission
(Government Of India)

REGISTRATION NUMBER : examstocks.com
EXAM DATE : 6-October-2017
EXAM NAME : SSC Examination
TOTAL MARKS : 150

CANDIDATE NAME : examstocks.com
EXAM START TIME : 13:30:00
EXAM DURATION : 01:30 Hrs
TOTAL NO OF QUESTIONS : 100

QID : 101 -

In the following question, select the number which can be placed at the sign of question mark (?) from the given alternatives.

निम्नलिखित प्रश्न में दिए गए विकल्पों में से प्रश्न चिह्न (?) के स्थान पर आने वाली संख्या को चुनिए।

8	5	6	9
8	8	7	3
9	7	8	4
27	22	23	?

Options:

- 1) 16
- 2) 18
- 3) 20
- 4) 22

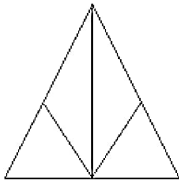
Correct Answer: 18

Candidate Answer: 18

QID : 102 -

How many triangles are there in the given figure?

दी गई आकृति में कितने त्रिभुज हैं?



Options:

- 1) 4
- 2) 5
- 3) 7
- 4) 8

Correct Answer: 7

QID : 103 -

A word is represented by only one set of numbers as given in any one of the alternatives. The sets of numbers given in the alternatives are represented by two classes of alphabets as shown in the given two matrices. The columns and rows of **Matrix-I** are numbered from 0 to 4 and that of **Matrix-II** are numbered from 5 to 9. A letter from these matrices can be represented first by its row and next by its column, for example, 'P' can be represented by 01, 85, etc., and 'S' can be represented by 13, 86, etc. Similarly, you have to identify the set for the word "CRAX".

एक शब्द केवल एक संख्या-समूह द्वारा दर्शाया गया है, जैसा कि विकल्पों में से किसी एक में दिया गया है। विकल्पों में दिए गए संख्या-समूह अक्षरों के दो वर्गों द्वारा दर्शाए गए हैं, जैसा कि दिए गए दो आव्यूहों में है। आव्यूह-I के स्तम्भ और पंक्ति की संख्या 0 से 4 है और आव्यूह-II की 5 से 9। इन आव्यूहों से एक अक्षर को पहले उसकी पंक्ति और बाद में स्तम्भ संख्या द्वारा दर्शाया जा सकता है। उदाहरण के लिए 'P' को 01, 85, आदि द्वारा दर्शाया जा सकता है तथा 'S' को 13, 86, आदि द्वारा दर्शाया जा सकता है। इसी तरह से आपको प्रश्न में दिए शब्द "CRAX" के लिए समूह को पहचानना है।

Matrix-I आव्यूह-I						Matrix-II आव्यूह-II					
	0	1	2	3	4		5	6	7	8	9
0	C	P	Y	E	H	5	U	Q	S	C	W
1	O	W	E	S	I	6	J	D	I	A	T
2	N	Q	R	P	X	7	R	L	E	A	V
3	M	G	I	C	Y	8	P	S	K	X	J
4	H	O	N	Y	E	9	Z	V	U	L	M

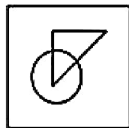
Options:

- 1) 00, 76, 68, 89
- 2) 33, 22, 69, 21
- 3) 58, 22, 78, 88
- 4) 58, 75, 78, 23

Correct Answer: 58, 22, 78, 88**Candidate Answer:** 58, 22, 78, 88**QID : 104 -**

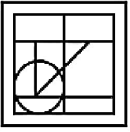
From the given answer figures, select the one in which the question figure is hidden/embedded.

दी गई उत्तर आकृतियों में से उस उत्तर आकृति को चुनिए जिस में प्रश्न आकृति निहित है।

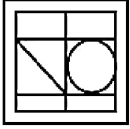


Options:

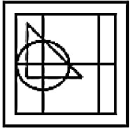
1)



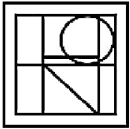
2)



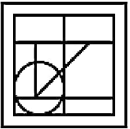
3)



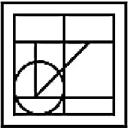
4)



Correct Answer:



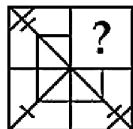
Candidate Answer:



QID : 105 -

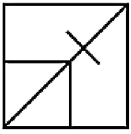
Which answer figure will complete the pattern in the question figure?

कौन सी उत्तर आकृति प्रश्न आकृति के प्रतिरूप को पूरा करेगी?

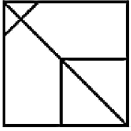


Options:

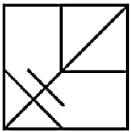
1)



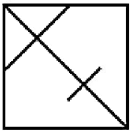
2)



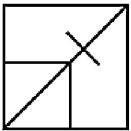
3)



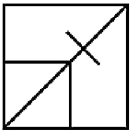
4)



Correct Answer:



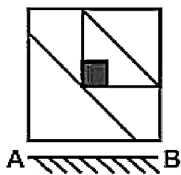
Candidate Answer:



QID : 106 -

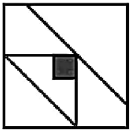
If a mirror is placed on the line AB, then which of the answer figures is the right image of the given figure?

यदि एक दर्पण को AB रेखा पर रखा जाए, तो दी गई उत्तर आकृतियों में से कौन सी आकृति प्रश्न आकृति की सही प्रतिबिम्ब होगी?

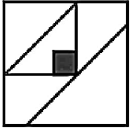


Options:

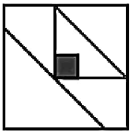
1)



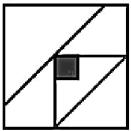
2)



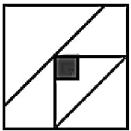
3)



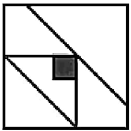
4)



Correct Answer:



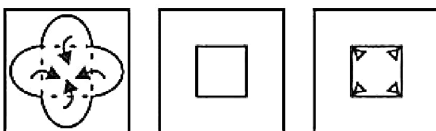
Candidate Answer:



QID : 107 -

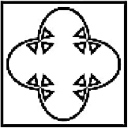
A piece of paper is folded and punched as shown below in the question figures. From the given answer figures, indicate how it will appear when opened?

नीचे के प्रश्न आकृतियों में दिखाए अनुसार कागज को मोड़कर छेदने तथा खोलने के बाद वह किस उत्तर आकृति जैसा दिखाई देगा?

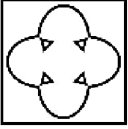


Options:

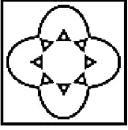
1)



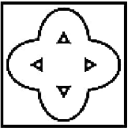
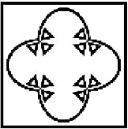
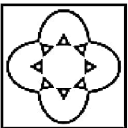
2)



3)



4)

**Correct Answer:****Candidate Answer:****QID : 108** - If '+' means '-', '÷' means '+', '×' means '÷' and '-' means '×', then

$$19 - 3 \times 3 + 6 = ?$$

यदि '+' का अर्थ '-', '÷' का अर्थ '+', '×' का अर्थ '÷' तथा '-' का अर्थ '×' हो, तो

$$19 - 3 \times 3 + 6 = ?$$

Options:

1) 12

2) 35

3) 23

4) 13

Correct Answer: 13**Candidate Answer:** 13**QID : 109** - If $5 - 2 - 5 = 525$ and $6 - 3 - 9 = 936$, then

$$5 - 1 - 9 = ?$$

यदि $5 - 2 - 5 = 525$ तथा $6 - 3 - 9 = 936$ हो, तो

$$5 - 1 - 9 = ?$$

Options:

1) 915

2) 195

3) 591

4) 159

Correct Answer: 915**Candidate Answer:** 915

QID : 110 - Arrange the given words in the sequence in which they occur in the dictionary.

1. Naval
2. Natal
3. Nanny
4. Naive
5. Nappy

निम्नलिखित शब्दों को शब्दकोश में आने वाले क्रम के अनुसार लिखें।

1. Naval
2. Natal
3. Nanny
4. Naive
5. Nappy

Options:

1) 42351

2) 43521

3) 42153

4) 23415

Correct Answer: 43521

Candidate Answer: 43521

QID : 111 - In the following question, select the missing number from the given alternatives.

38, 35, 30, 23, ?

निम्नलिखित प्रश्न में दिए गए विकल्पों में से लुप्त अंक ज्ञात कीजिए।

38, 35, 30, 23, ?

Options:

1) 18

2) 16

3) 13

4) 14

Correct Answer: 14

Candidate Answer: 14

QID : 112 - A series is given with one term missing. Select the correct alternative from the given ones that will complete the series.

ST, PQ, MN, JK, ?

एक अनुक्रम दिया गया है, जिसमें से एक पद लुप्त है। दिए गए विकल्पों में से वह सही विकल्प चुनिए, जो अनुक्रम को पूरा करे।

ST, PQ, MN, JK, ?

Options:

1) GH

2) HG

3) FG

4) HI

Correct Answer: GH

Candidate Answer: GH

QID : 113 - In the following question, select the odd word from the given alternatives.

निम्नलिखित प्रश्न में दिए गए विकल्पों में से विषम शब्द को चुनिए।

Options:

1) Orange

संतरा

2) Brinjal

बैंगन

3) Apple

सेब

4) Grapes

अंगूर

Correct Answer: Brinjal

बैंगन

Candidate Answer: Brinjal

बैंगन

QID : 114 - In the following question, select the odd number pair from the given alternatives.

निम्नलिखित प्रश्न में दिए गए विकल्पों में से विषम संख्या युग्म को चुनिए।

Options:

1) 10 – 100

2) 11 – 121

3) 14 – 196

4) 15 – 125

Correct Answer: 15 – 125**Candidate Answer:** 15 – 125**QID : 115** - In the following question, select the odd letters from the given alternatives.

निम्नलिखित प्रश्न में दिए गए विकल्पों में से विषम अक्षरों को चुनिए।

Options:

1) CE

2) IK

3) PR

4) SV

Correct Answer: SV**Candidate Answer:** SV**QID : 116** - Identify the diagram that best represents the relationship among the given classes.**Horse, Dog, Tiger**

वह आरेख चुनिए जो नीचे दिए गए वर्गों के बीच के संबंध का सही निरूपण करता है।

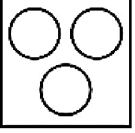
घोड़ा, कुत्ता, बाघ

Options:

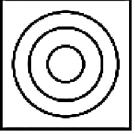
1)



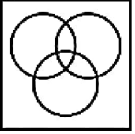
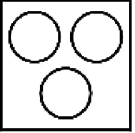
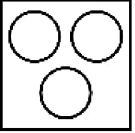
2)



3)



4)

**Correct Answer:****Candidate Answer:****QID : 117** - In the following question, select the related word from the given alternatives.**Student : School :: Soldier : ?**

निम्नलिखित प्रश्न में दिए गए विकल्पों में से संबंधित शब्द को चुनिए।

विद्यार्थी : विद्यालय :: सैनिक : ?

Options:

1) Army

सेना

2) Weapon

अस्त्र

3) Duty

कर्तव्य

4) Gun

बंदक

Correct Answer: Army

सेना

Candidate Answer: Army

सेना

QID : 118 - In the following question, select the related number from the given alternatives.**32 : 144 :: 56 : ?**

निम्नलिखित प्रश्न में दिए गए विकल्पों में से संबंधित संख्या को चुनिए।

32 : 144 :: 56 : ?

Options:

- 1) 252
- 2) 260
- 3) 264
- 4) 248

Correct Answer: 252**Candidate Answer:** 252**QID : 119** - In the following question, select the related letters from the given alternatives.**PN : RK :: CT : ?**

निम्नलिखित प्रश्न में दिए गए विकल्पों में से संबंधित अक्षरों को चुनिए।

PN : RK :: CT : ?**Options:**

- 1) EQ
- 2) EP
- 3) FQ
- 4) FP

Correct Answer: EQ**Candidate Answer:** EQ**QID : 120** - In the following question, select the word which cannot be formed using the letters of the given word.**PURPOSED**

निम्नलिखित विकल्पों में से वह शब्द चुनिए जो दिए गए शब्द के अक्षरों का प्रयोग करके नहीं बनाया जा सकता।

PURPOSED**Options:**

- 1) ROPE
- 2) PURE
- 3) ROSE
- 4) DARE

Correct Answer: DARE**Candidate Answer:** DARE**QID : 121** - A is younger than B, B is elder than C, C is younger than A and D is elder than B. Who is the youngest among A, B, C and D?

A, B से छोटा है, B, C से बड़ा है, C, A से छोटा है तथा D, B से बड़ा है। A, B, C तथा D में से सबसे छोटा कौन है?

Options:

- 1) A
- 2) B
- 3) C
- 4) D

Correct Answer: C**Candidate Answer:** C**QID : 122** - Adi remembers his interview is after 23rd September. While his father remembers his interview is before 25th September. On which date of September is his interview?

आदि को याद है कि उसका साक्षात्कार 23 सितम्बर के बाद है। जबकि उसके पिता को याद है कि उसका साक्षात्कार 25 सितम्बर से पहले है। उसका साक्षात्कार सितम्बर की किस तिथि को है?

Options:

- 1) 23
- 2) 25
- 3) 24
- 4) 26

Correct Answer: 24**Candidate Answer:** 24

QID : 123 - In the following question below are given some statements followed by some conclusions. Taking the given statements to be true even if they seem to be at variance from commonly known facts, read all the conclusions and then decide which of the given conclusion logically follows the given statements.

Statements:

- I. All clouds are rain.
- II. No rain is water.

Conclusions:

- I. No cloud is water.
- II. Some clouds are water.

नीचे दिए गए प्रश्न में कुछ कथन और उनके बाद उन कथनों पर आधारित कुछ निष्कर्ष दिए गए हैं, हालांकि उनमें सामान्य ज्ञात तथ्यों से भिन्नता हो सकती है। सभी निष्कर्ष पढ़ें और फिर निर्धारित करें कि दिए गए कौन से निष्कर्ष, दिए गए कथनों के आधार पर युक्तिसंगत हैं।

कथन:

- I. सभी बादल वर्षा हैं।
- II. कोई वर्षा जल नहीं है।

निष्कर्ष:

- I. कोई बादल जल नहीं है।
- II. कुछ बादल जल हैं।

Options:

- 1) Only conclusion (I) follows.
केवल निष्कर्ष (I) सही है।
- 2) Only conclusion (II) follows.
केवल निष्कर्ष (II) सही है।
- 3) Both conclusion follow.
दोनों ही निष्कर्ष सही हैं।
- 4) Neither conclusion (I) nor conclusion (II) follows.
न तो निष्कर्ष (I) न ही निष्कर्ष (II) सही है।

Correct Answer: Only conclusion (I) follows.

केवल निष्कर्ष (I) सही है।

Candidate Answer: [NOT ANSWERED]

QID : 124 - In a certain code language, "HELP" is written as "GDKO". How is "FIND" written in that code language?

एक विशिष्ट कोड भाषा में, "HELP" को "GDKO" लिखा जाता है। इस कोड भाषा में "FIND" को किस प्रकार लिखा जाएगा?

Options:

- 1) EHO C
- 2) EHMC
- 3) EHME
- 4) EHCO

Correct Answer: EHMC**Candidate Answer:** EHMC

QID : 125 - In a certain code language, "CAN" is written as "20" and "ARE" is written as "26". How is "WIN" written in that code language?

एक विशिष्ट कोड भाषा में, "CAN" को "20" तथा "ARE" को "26" लिखा जाता है। इस कोड भाषा में "WIN" को किस प्रकार लिखा जाएगा?

Options:

- 1) 48
- 2) 46
- 3) 45
- 4) 49

Correct Answer: 48**Candidate Answer:** 48**QID : 126 -**What is the value of $\sqrt{8 - 2\sqrt{15}}$? $\sqrt{8 - 2\sqrt{15}}$ का मान क्या है?**Options:**

- 1) $\sqrt{3} + \sqrt{2}$
- 2) $\sqrt{5} - \sqrt{3}$
- 3) $\sqrt{5} + \sqrt{3}$
- 4) $\sqrt{7} - \sqrt{2}$

Correct Answer: $\sqrt{5} - \sqrt{3}$ **Candidate Answer:** [NOT ANSWERED]**QID : 127 -** How many factors of 45 are prime numbers?

45 के कितने गुणखंड अभाज्य संख्याएँ हैं?

Options:

- 1) 3
- 2) 4
- 3) 5
- 4) 2

Correct Answer: 2**Candidate Answer:** 3**QID : 128 -** Which of the following is not a prime number?

निम्नलिखित में से कौन सी एक अभाज्य संख्या नहीं है?

Options:

- 1) 31
- 2) 37
- 3) 43
- 4) 87

Correct Answer: 87**Candidate Answer:** 87**QID : 129 -** What will be the remainder when 283 is divided by 22?

283 को 22 से भाग करने पर शेषफल क्या होगा?

Options:

- 1) 3
- 2) 19
- 3) 17
- 4) 16

Correct Answer: 19

Candidate Answer: 19

QID : 130 - Which of the following number is not divisible by 4?

निम्नलिखित में से कौन सी संख्या 4 से विभाज्य नहीं है?

Options:

1) 113424

2) 213552

3) 314250

4) 52644

Correct Answer: 314250

Candidate Answer: 314250

QID : 131 -

What is the value of $\frac{(0.3)^3 - (0.1)^3}{[(0.3)^2 + (0.1)^2 + (0.3) \times (0.1)]}$?

$\frac{(0.3)^3 - (0.1)^3}{[(0.3)^2 + (0.1)^2 + (0.3) \times (0.1)]}$ का मान क्या है?

Options:

1) 0.4

2) 0.1

3) 0.5

4) 0.2

Correct Answer: 0.2

Candidate Answer: 0.2

QID : 132 - A can do a piece of work in 12 days and B in 15 days. With help of C, they finish the work in 4 days. In how many days C alone can do the same work?

A किसी कार्य को 12 दिनों में कर सकता है तथा B, 15 दिनों में कर सकता है। C की सहायता से वे 4 दिनों में कार्य समाप्त कर लेते हैं। C अकेला उस कार्य को कितने दिनों में करेगा?

Options:

1) 10

2) 12

3) 8

4) 15

Correct Answer: 10

Candidate Answer: [NOT ANSWERED]

QID : 133 - A is twice as efficient as B and together they finish a piece of work in 18 days. How many days will A take to complete the work alone?

A की कार्य कुशलता B से दुगुनी है तथा वे दोनों मिलकर किसी कार्य को 18 दिन में पूरा कर सकते हैं। A अकेला उस कार्य को कितने दिन में पूरा कर सकता है?

Options:

1) 27

2) 24

3) 36

4) 42

Correct Answer: 27

Candidate Answer: [NOT ANSWERED]

QID : 134 - If the diagonal of a square is 12 cm, then what is the area (in cm²) of the square?

यदि किसी वर्ग का विकर्ण 12 से.मी. है, तो वर्ग का क्षेत्रफल (से.मी.² में) क्या है?

Options:

- 1) 72
- 2) $72\sqrt{2}$
- 3) 36
- 4) $36\sqrt{2}$

Correct Answer: 72**Candidate Answer:** $36\sqrt{2}$ **QID : 135** - The marked price of an article is twice the cost price. For a gain of 20%, what should be the discount percentage?

एक वस्तु का अंकित मूल्य उसके लागत मूल्य से दोगुना है। 20% लाभ प्राप्त करने के लिए, छूट प्रतिशत क्या होगी?

Options:

- 1) 20
- 2) 40
- 3) 45
- 4) 60

Correct Answer: 40**Candidate Answer:** 40**QID : 136** - The marked price of an article is 60% more than its cost price. If a discount of 20% is given, then what is the profit percentage?

एक वस्तु का अंकित मूल्य उसके क्रय मूल्य से 60% अधिक है। यदि 20% की छूट दी जाए, तो लाभ का प्रतिशत क्या है?

Options:

- 1) 14
- 2) 16
- 3) 18
- 4) 28

Correct Answer: 28**Candidate Answer:** [NOT ANSWERED]**QID : 137** - If $P : Q = 2 : 3$ and $P : R = 4 : 5$, then what is $(P + Q) : (Q + R)$?यदि $P : Q = 2 : 3$ तथा $P : R = 4 : 5$ हैं, तो $(P + Q) : (Q + R)$ क्या होगा?**Options:**

- 1) 20 : 27
- 2) 20 : 17
- 3) 10 : 11
- 4) 20 : 29

Correct Answer: 10 : 11**Candidate Answer:** [NOT ANSWERED]**QID : 138** - If $x/y = 5/4$, then what is the ratio of $(5x + 6y)$ and $(5x - 2y)$?यदि $x/y = 5/4$ है, तो $(5x + 6y)$ तथा $(5x - 2y)$ का अनुपात क्या होगा?**Options:**

- 1) 49 : 17
- 2) 49 : 19
- 3) 37 : 17
- 4) 37 : 19

Correct Answer: 49 : 17**Candidate Answer:** 49 : 17**QID : 139** - The mean of 17 numbers is 12. If two numbers 9 and 15 are removed, then what will be the mean of remaining number?

17 संख्याओं का औसत 12 है। यदि दो संख्याएँ 9 और 15 हटा दी जाएं, तो शेष संख्याओं का औसत क्या होगा?

Options:

1) 11

2) 12

3) 13

4) 14

Correct Answer: 12**Candidate Answer:** 12**QID : 140** - A man gains 80% by selling an article for a certain price. If he sells it at half the price, then what will be the loss percentage?

एक वस्तु को किसी निश्चित मूल्य पर बेचकर एक व्यक्ति 80% लाभ कमाता है। यदि वह उस वस्तु को आधी कीमत पर बेचे, तो हानि का प्रतिशत क्या होगा

Options:

1) 10

2) 15

3) 20

4) 40

Correct Answer: 15**Candidate Answer:** 10**QID : 141** - If the rice is sold at Rs 93 per kg, there would be a 25% loss. To earn a profit of 25% what should be the price of rice (per kg)?

यदि चावल को 93 रु प्रति कि.ग्रा. की दर से बेचा जाता है, तो 25% की हानि होगी। 25% का लाभ प्राप्त करने के लिए चावल की कीमत (प्रति कि.ग्रा.) कितनी होनी चाहिए?

Options:

1) 155

2) 160

3) 165

4) 175

Correct Answer: 155**Candidate Answer:** 155**QID : 142** - If the price of an article decreases by 25%, then to restore its former value by how much percent should the new price be increased?

यदि किसी वस्तु के मूल्य में 25% की कमी आ जाती है, तो पहले के मूल्य को बनाए रखने के लिए नये मूल्य को कितने प्रतिशत से बढ़ाना होगा?

Options:

1) 25

2) 20

3) 33.33

4) 10

Correct Answer: 33.33**Candidate Answer:** 33.33**QID : 143** - If the price of a commodity is decreased by 40% and its consumption is increased by 20%, then what will be the increase or decrease in the expenditure of the commodity?

एक वस्तु की कीमत 40% कम हो जाती है तथा इसकी खपत 20% बढ़ जाती है, तो वस्तु पर खर्च में कितने प्रतिशत की कमी या वृद्धि होगी?

Options:

1) 28% decrease

28% की कमी

2) 28% increase

28% की वृद्धि

3) 20% increase

20% की वृद्धि

4) 20% decrease

20% की कमी

Correct Answer: 28% decrease

28% की कमी

Candidate Answer: [NOT ANSWERED]

QID : 144 - A person goes from point P to Q with a speed of 40 km/hr and returns back with a speed 55 km/hr. What is the average speed (in km/hr) of the person while going from P to Q and coming back?

एक व्यक्ति 40 कि.मी./घंटा की रफ्तार से बिंदु P से Q तक जाता है तथा 55 कि.मी./घंटा की गति से वापस लौटता है। P से Q तक जाने तथा वापस आने में व्यक्ति की औसत गति (कि.मी./घंटा में) क्या है?

Options:

1) 47.5

2) 46.31

3) 49.25

4) 44.27

Correct Answer: 46.31

Candidate Answer: 47.5

QID : 145 - A scooter travels some distance at a speed of 12 km/hr and returns at a speed of 7 km/hr. If the total time taken by the scooter is 19 hours, then what is the distance (in km)?

एक स्कूटर 12 कि.मी./घंटा की गति से कुछ दूरी तय करता है तथा 7 कि.मी./घंटा की गति से वापस आता है। यदि स्कूटर को इसे तय करने में कुल 19 घंटे का समय लगता है, तो दूरी (कि.मी. में) क्या है?

Options:

1) 84

2) 80

3) 72

4) 76

Correct Answer: 84

Candidate Answer: [NOT ANSWERED]

QID : 146 - Same principal is invested in schemes of compound interest and simple interest. The interest obtained in simple interest and compound interest schemes after 2 years are Rs 1200 and Rs 1290 respectively. If the rate of interest is 15%, then what is the principal (in Rs)?

समान मूलधन चक्रवृद्धि ब्याज और साधारण ब्याज की योजनाओं में निवेश किया जाता है। साधारण ब्याज और चक्रवृद्धि ब्याज योजना में 2 वर्षों के बाद क्रमशः 1200 रु और 1290 रु ब्याज प्राप्त होता है। यदि ब्याज दर 15% है, तो मूलधन (रु में) क्या होगा?

Options:

1) 4000

2) 6000

3) 2500

4) 3000

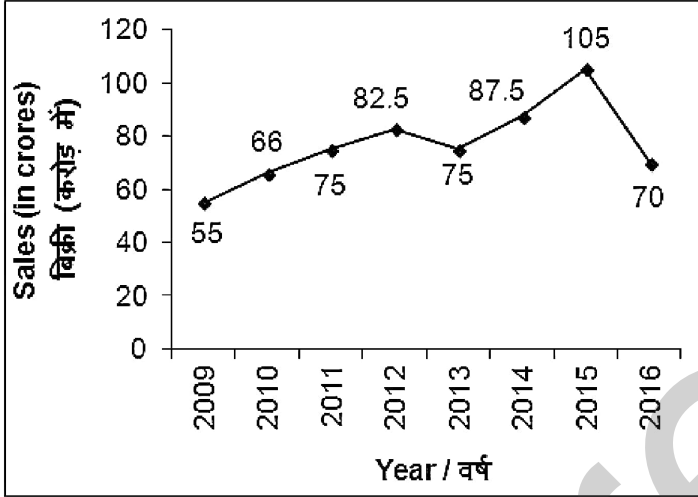
Correct Answer: 4000

Candidate Answer: 4000

QID : 147 -

The line chart given below shows the sales (in crores) of a company for the years 2009 to 2016.

नीचे दिए गए रेखा चित्र में वर्ष 2009 से 2016 तक एक कंपनी की बिक्री (करोड़ में) को दर्शाया गया है।



What is the percentage change in the company sales from year 2014 to year 2016?

वर्ष 2014 से 2016 तक कंपनी की बिक्री में कितने प्रतिशत का परिवर्तन हुआ है?

Options:

- 1) 20% increase
20% वृद्धि
- 2) 20% decrease
20% कमी
- 3) 25% decrease
25% कमी
- 4) 22% decrease
22% कमी

Correct Answer: 20% decrease

20% कमी

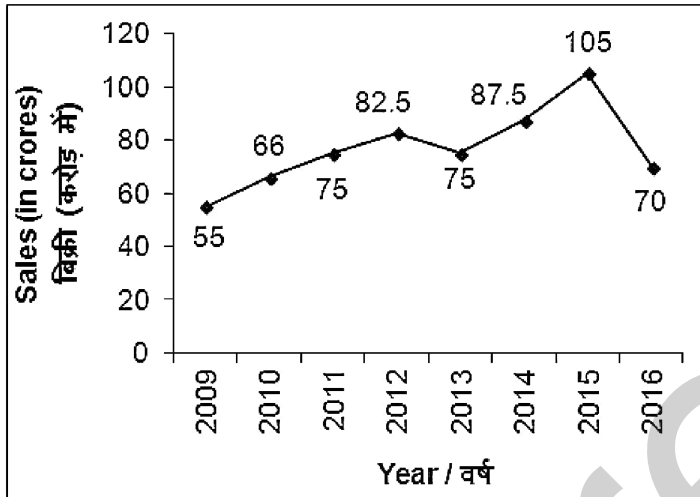
Candidate Answer: 20% decrease

20% कमी

QID : 148 -

The line chart given below shows the sales (in crores) of a company for the years 2009 to 2016.

नीचे दिए गए रेखा चित्र में वर्ष 2009 से 2016 तक एक कंपनी की बिक्री (करोड़ में) को दर्शाया गया है।



In how many years was the sale of the company more than the sale in 2011?

कितने वर्षों में कंपनी की बिक्री वर्ष 2011 में हुई बिक्री से अधिक थी?

Options:

- 1) 4
- 2) 5
- 3) 3
- 4) 2

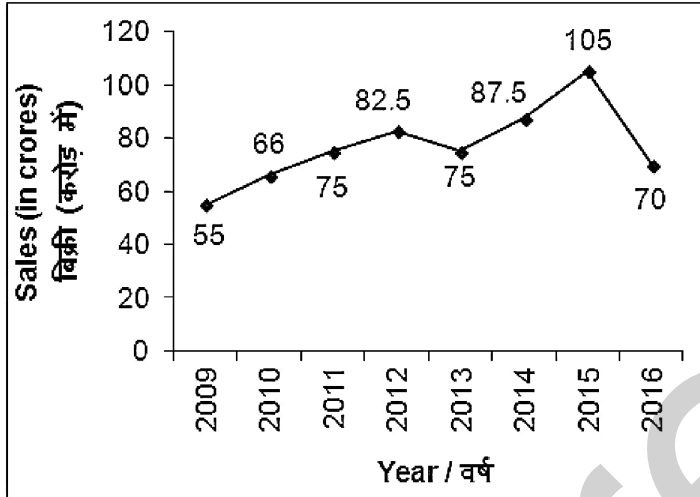
Correct Answer: 3

Candidate Answer: 3

QID : 149 -

The line chart given below shows the sales (in crores) of a company for the years 2009 to 2016.

नीचे दिए गए रेखा चित्र में वर्ष 2009 से 2016 तक एक कंपनी की बिक्री (करोड़ में) को दर्शाया गया है।



What is the average sale of the company from year 2009 to 2015?

वर्ष 2009 से 2015 तक कंपनी की औसत बिक्री क्या है?

Options:

- 1) 78.5
- 2) 82.5
- 3) 78
- 4) 79

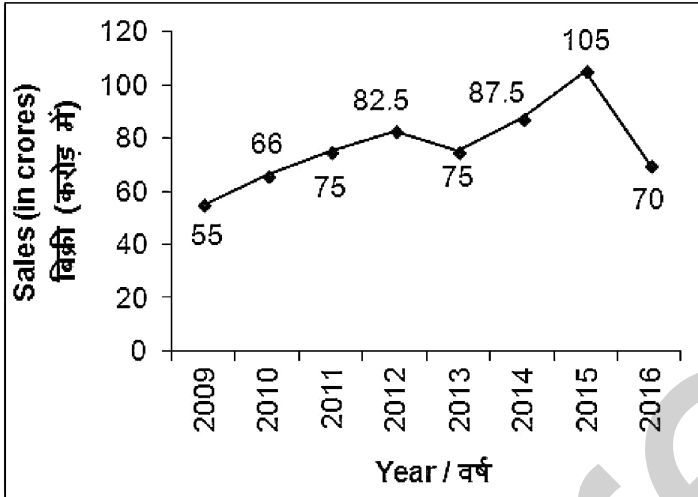
Correct Answer: 78

Candidate Answer: 78

QID : 150 -

The line chart given below shows the sales (in crores) of a company for the years 2009 to 2016.

नीचे दिए गए रेखा चित्र में वर्ष 2009 से 2016 तक एक कंपनी की बिक्री (करोड़ में) को दर्शाया गया है।



In how many years was the sale of the company a multiple of 10 crores?

कितने वर्षों के लिए कंपनी की बिक्री 10 करोड़ का गुणज थी?

Options:

- 1) 1
- 2) 4
- 3) 3
- 4) 6

Correct Answer: 1

Candidate Answer: 6

QID : 151 - In the following question, some part of the sentence may have errors. Find out which part of the sentence has an error and select the appropriate option. If a sentence is free from error, select 'No Error'.

Our soldiers sit in the top, (1)/ hold the ridge and can swiftly intervene, (2)/ as they pro-actively did in mid-June. (3)/ No Error (4)

Options:

- 1) 1
- 2) 2
- 3) 3
- 4) 4

Correct Answer: 1

Candidate Answer: 1

QID : 152 - In the following question, some part of the sentence may have errors. Find out which part of the sentence has an error and select the appropriate option. If a sentence is free from error, select 'No Error'.

Earlier in June, Chinese troops (1)/have destroyed two of the old (2)/unmanned "self-help bunkers". (3)/ No Error (4)

Options:

- 1) 1
- 2) 2
- 3) 3
- 4) 4

Correct Answer: 2

Candidate Answer: 2

QID : 153 - In the following question, the sentence given with blank to be filled in with an appropriate word. Select the correct alternative out of the four and indicate it by selecting the appropriate option.

The unit is comparatively _____ to install and cheap to operate.

Options:

- 1) remain
- 2) easy
- 3) busiest
- 4) enough

Correct Answer: easy

Candidate Answer: easy

QID : 154 - In the following question, the sentence given with blank to be filled in with an appropriate word. Select the correct alternative out of the four and indicate it by selecting the appropriate option.

Rohan and Sohan are brothers but the _____ is very poor.

Options:

- 1) later
- 2) farther
- 3) further
- 4) latter

Correct Answer: latter

Candidate Answer: latter

QID : 155 - In the following question, out of the given four alternatives, select the one which best expresses the meaning of the given word.

Errand

Options:

- 1) Vacation
- 2) Disruptiveness
- 3) Assignment
- 4) Holiday

Correct Answer: Assignment

Candidate Answer: Disruptiveness

QID : 156 - In the following question, out of the given four alternatives, select the one which best expresses the meaning of the given word.

Despise

Options:

- 1) Admire
- 2) Appreciate
- 3) Undervalue
- 4) Cherish

Correct Answer: Undervalue

Candidate Answer: Undervalue

QID : 157 - In the following question, out of the given four alternatives, select the one which best expresses the meaning of the given word.

Horrid

Options:

- 1) Offensive
- 2) Pleasant
- 3) Wonderful
- 4) Delightful

Correct Answer: Offensive

Candidate Answer: Offensive

QID : 158 - In the following question, out of the given four alternatives, select the one which is opposite in meaning of the given word.

Extreme



Options:

- 1) Mild
- 2) Highest
- 3) Maximum
- 4) Supreme

Correct Answer: Mild**Candidate Answer:** Supreme**QID : 159** - In the following question, out of the given four alternatives, select the one which is opposite in meaning of the given word.**Miserable****Options:**

- 1) Joyful
- 2) Agonized
- 3) Inferior
- 4) Penniless

Correct Answer: Joyful**Candidate Answer:** Joyful**QID : 160** - In the following question, out of the given four alternatives, select the one which is opposite in meaning of the given word.**Lucid****Options:**

- 1) Explicit
- 2) Crystal-clear
- 3) Vague
- 4) Understandable

Correct Answer: Vague**Candidate Answer:** Crystal-clear**QID : 161** - In the following question, out of the four given alternatives, select the alternative which best expresses the meaning of the Idiom/Phrase.**On all hands****Options:**

- 1) Rarely
- 2) Occasionally
- 3) Everywhere
- 4) Frequently

Correct Answer: Everywhere**Candidate Answer:** Everywhere**QID : 162** - In the following question, out of the four given alternatives, select the alternative which best expresses the meaning of the Idiom/Phrase.**Hold on****Options:**

- 1) To wait for a short time
- 2) Still breathing
- 3) Speak less
- 4) Frequently

Correct Answer: To wait for a short time**Candidate Answer:** To wait for a short time**QID : 163** - Improve the bracketed part of the sentence.Both these systems are acting together (**indicate**) a lot of rainfall activity in the city.

Options:

- 1) indicate to
- 2) indicating
- 3) indicate about
- 4) No improvement

Correct Answer: indicating**Candidate Answer:** indicating**QID : 164** - Improve the bracketed part of the sentence.There was also a **(signal fall)** in Bandra following the heavy rains.**Options:**

- 1) signal failing
- 2) signal failed
- 3) signal failure
- 4) No improvement

Correct Answer: signal failure**Candidate Answer:** signal failure**QID : 165** - In the following question, out of the four given alternatives, select the alternative which is the best substitute of the phrase.**Belonging to long past****Options:**

- 1) Ancient
- 2) Coefficient
- 3) Persistent
- 4) Ambient

Correct Answer: Ancient**Candidate Answer:** Ancient**QID : 166** - In the following question, out of the four given alternatives, select the alternative which is the best substitute of the phrase.**To free prisoner on payment****Options:**

- 1) Lesson
- 2) Hansom
- 3) Ransom
- 4) Jettison

Correct Answer: Ransom**Candidate Answer:** Jettison**QID : 167** - In the following question, a word has been written in four different ways out of which only one is correctly spelt. Select the correctly spelt word.**Options:**

- 1) Glamour
- 2) Glamoer
- 3) Glamer
- 4) Galamer

Correct Answer: Glamour**Candidate Answer:** Glamour**QID : 168** - In the following question, a word has been written in four different ways out of which only one is correctly spelt. Select the correctly spelt word.**Options:**

- 1) Prononciation
- 2) Pronunciation
- 3) Pronunciacion
- 4) Pronounciation

Correct Answer: Pronunciation

Candidate Answer: Pronunciation

QID : 169 - Rearrange the parts of the sentence in correct order.

I was

P: of the family

Q: as a member

R: accepted by John

Options:

1) PQR

2) RPQ

3) RQP

4) QPR

Correct Answer: RQP

Candidate Answer: RQP

QID : 170 - Rearrange the parts of the sentence in correct order.

Earth is considered

P: suitable for the life

Q: existence in the whole universe

R: as the only planet

Options:

1) PRQ

2) QPR

3) QRP

4) RPQ

Correct Answer: RPQ

Candidate Answer: RPQ

QID : 171 - In the following passage some of the words have been left out. Read the passage carefully and select the correct answer for the given blank out of the four alternatives.

Despite the formation of various effective rules and regulations by the Indian government to _____ and control the crimes against women, the _____, and frequency of crimes against women are increasing day by _____. Women status in the country has been more offensive and dreadful in the last few years. It has _____ the confidence level of women for safety in their own country. We should not _____ the government because women safety is not only the responsibility of government only rather, it is the responsibility of each and every Indian citizen especially men who need to change their mindset for women.

Government to _____ and control

Options:

1) cuddle

2) handle

3) dwindle

4) fiddle

Correct Answer: handle

Candidate Answer: handle

QID : 172 - In the following passage some of the words have been left out. Read the passage carefully and select the correct answer for the given blank out of the four alternatives.

Despite the formation of various effective rules and regulations by the Indian government to _____ and control the crimes against women, the _____, and frequency of crimes against women are increasing day by _____. Women status in the country has been more offensive and dreadful in the last few years. It has _____ the confidence level of women for safety in their own country. We should not _____ the government because women safety is not only the responsibility of government only rather, it is the responsibility of each and every Indian citizen especially men who need to change their mindset for women.

The _____ and frequency

Options:

1) distance

2) number

3) reason

4) answer

Correct Answer: number

Candidate Answer: number

QID : 173 - In the following passage some of the words have been left out. Read the passage carefully and select the correct answer for the given blank out of the four alternatives.

Despite the formation of various effective rules and regulations by the Indian government to _____ and control the crimes against women, the _____, and frequency of crimes against women are increasing day by _____. Women status in the country has been more offensive and dreadful in the last few years. It has _____ the confidence level of women for safety in their own country. We should not _____ the government because women safety is not only the responsibility of government only rather, it is the responsibility of each and every Indian citizen especially men who need to change their mindset for women.

Increasing day by _____.

Options:

1) evening

2) night

3) day

4) morning

Correct Answer: day

Candidate Answer: day

QID : 174 - In the following passage some of the words have been left out. Read the passage carefully and select the correct answer for the given blank out of the four alternatives.

Despite the formation of various effective rules and regulations by the Indian government to _____ and control the crimes against women, the _____, and frequency of crimes against women are increasing day by _____. Women status in the country has been more offensive and dreadful in the last few years. It has _____ the confidence level of women for safety in their own country. We should not _____ the government because women safety is not only the responsibility of government only rather, it is the responsibility of each and every Indian citizen especially men who need to change their mindset for women.

It has _____ the confidence level of women

Options:

1) increased

2) neutralized

3) initiated

4) decreased

Correct Answer: decreased

Candidate Answer: decreased

QID : 175 - In the following passage some of the words have been left out. Read the passage carefully and select the correct answer for the given blank out of the four alternatives.

Despite the formation of various effective rules and regulations by the Indian government to _____ and control the crimes against women, the _____, and frequency of crimes against women are increasing day by _____. Women status in the country has been more offensive and dreadful in the last few years. It has _____ the confidence level of women for safety in their own country. We should not _____ the government because women safety is not only the responsibility of government only rather, it is the responsibility of each and every Indian citizen especially men who need to change their mindset for women.

We should not _____ the government

Options:

1) blame

2) rename

3) became

4) inflame

Correct Answer: blame

Candidate Answer: blame

QID : 176 - What is per capita income?

प्रति व्यक्ति आय क्या है?

Options:

1) National income

राष्ट्रीय आय

2) Average income

औसत आय

3) Gross income

कुल आय

4) Capital income

मुख्य आय

Correct Answer: Average income

औसत आय

Candidate Answer: [NOT ANSWERED]**QID : 177** - Letter 'D' is in GDP stands for _____ in economics.

अर्थशास्त्र में जी.डी.पी में अक्षर 'डी' _____ को प्रतीकत्व करता है।

Options:

1) Domestic

देशीय

2) Development

विकास

3) Depreciation

मूल्यहास

4) Destruction

विनाश

Correct Answer: Domestic

देशीय

Candidate Answer: Domestic

देशीय

QID : 178 - How many Fundamental Duties are given in Indian Constitution?

भारतीय संविधान में कितने मौलिक कर्तव्य दिए हुए हैं?

Options:

1) 10

2) 11

3) 12

4) 14

Correct Answer: 11**Candidate Answer:** 12**QID : 179** - Who is the supreme law-making institution in India?

भारत में सर्वोच्च कानून बनाने वाली संस्था कौन है?

Options:

1) The President of India

भारत के राष्ट्रपति

2) The Prime Minister of India

भारत के प्रधानमंत्री

3) The Chief Justice of India

भारत के मुख्य न्यायाधीश

4) The Parliament of India

भारतीय संसद

Correct Answer: The Parliament of India

भारतीय संसद

Candidate Answer: The Parliament of India

भारतीय संसद

QID : 180 -

Match the following.

निम्नलिखित का मिलान कीजिए।

Term / शब्द	Meaning / अर्थ
A. Diwani दीवानी	1. Pilgrim tax तीर्थयात्री कर
B. Faujdari Adalat फौजदारी अदालत	2. Right to collect land revenue भू-राजस्व एकत्र करने का अधिकार
C. Jazia जजिया	3. Criminal Court आपराधिक न्यायालय

Options:

1) A-2, B-3, C-1

2) B-1, C-3, A-2

3) C-1, B-3, C-2

4) B-2, C-3, A-1

Correct Answer: A-2, B-3, C-1**Candidate Answer:** A-2, B-3, C-1**QID : 181 -** What was the revenue system during Akbar's reign called?

अकबर के शासन में राजस्व व्यवस्था को क्या कहा जाता था?

Options:

1) Jagir

जागीर

2) Iqta

इकता

3) Mansab

मनसब

4) Zabt

ज़ब्त

Correct Answer: Zabt

ज़ब्त

Candidate Answer: Mansab

मनसब

QID : 182 - What is the season during winter solstice in the Southern Hemisphere?

दक्षिण अयनांत के समय दक्षिणी गोलार्ध में कौन सी ऋतु होती है?

Options:

1) Winter

शीत

2) Summer

ग्रीष्म

3) Spring

वसंत

4) Autumn

पतझड़

Correct Answer: Summer

ग्रीष्म

Candidate Answer: [NOT ANSWERED]

QID : 183 - Which of the following latitude passes through Asia?

निम्नलिखित में से कौन-सी अक्षांश रेखा एशिया से होकर गुजरती है?

Options:

1) Tropic of Capricorn only

केवल मकर रेखा

2) Tropic of Cancer only

केवल कर्क रेखा

3) Equator only

केवल भू-मध्य रेखा

4) Tropic of Cancer and Equator only

केवल कर्क रेखा तथा भू-मध्य रेखा

Correct Answer: Tropic of Cancer only

केवल कर्क रेखा

Candidate Answer: Tropic of Cancer only

केवल कर्क रेखा

QID : 184 - The function of vitamin K is in _____.

विटामिन K का कार्य _____ है।

Options:

1) Regulation of calcium and phosphorus metabolism

कैल्शियम और फॉस्फोरस उपापचय का नियमन

2) Blood clotting

रक्त का थक्का जमाना

3) respiration

श्वसन

4) Carbohydrate metabolism

कार्बोहाइड्रेट उपापचय

Correct Answer: Blood clotting

रक्त का थक्का जमाना

Candidate Answer: Blood clotting

रक्त का थक्का जमाना

QID : 185 - Tendon connects _____.

टेन्डन _____ जोड़ता है।

Options:

1) Cartilage with muscles

उपास्थि को पेशियों से

2) Ligament with muscles

लिगामेंट को पेशियों से

3) Bone with bone

हड्डियों को हड्डियों से

4) Bone with muscles

हड्डियों को पेशियों से

Correct Answer: Bone with muscles

हड्डियों को पेशियों से

Candidate Answer: Bone with bone

हड्डियों को हड्डियों से

QID : 186 - What is blood pressure?

रक्त दाब क्या है?

Options:

- 1) The pressure of blood on the heart muscle
हृदय पेशियों पर रक्त का दबाव
- 2) The pressure of blood exerted on the walls of arteries and veins
धमनियों और शिराओं की भित्तियों पर रक्त का दबाव
- 3) The pressure of blood on the walls of veins only
शिराओं की भित्तियों पर रक्त का दबाव
- 4) The pressure of blood on the walls of arteries only
धमनियों की भित्ति पर रक्त का दबाव

Correct Answer: The pressure of blood exerted on the walls of arteries and veins
धमनियों और शिराओं की भित्तियों पर रक्त का दबाव

Candidate Answer: The pressure of blood exerted on the walls of arteries and veins
धमनियों और शिराओं की भित्तियों पर रक्त का दबाव

QID : 187 - What is the fundamental unit of time?

समय का मूल मात्रक क्या है?

Options:

- 1) Minute
मिनट
- 2) Hour
घंटा
- 3) Second
सेकण्ड
- 4) Day
दिन

Correct Answer: Second
सेकण्ड

Candidate Answer: Second
सेकण्ड

QID : 188 - What is the thin wire in the bulb which glows when an electric current passes through it called?

बल्ब में पतला तार जिससे विद्युत धारा के प्रवाहित होने पर वह दीप्त होता है उसे क्या कहते हैं?

Options:

- 1) Filament
फिलामेन्ट
- 2) Holder
होल्डर
- 3) Connecting wire
संयोजी तार
- 4) Element
एलीमेंट

Correct Answer: Filament
फिलामेन्ट

Candidate Answer: Filament
फिलामेन्ट

QID : 189 - Which of the following is/are secondary device/device of storage device?

- I. Hard drive
- II. CD
- III. USB drive

निम्नलिखित में से कौन से/कौन सा संग्रह करने का माध्यमिक साधन है?

- I. हार्ड ड्राइव
- II. सी. डी.
- III. यू. एस. बी. ड्राइव

Options:

- 1) Only II
केवल II
- 2) Only I
केवल I
- 3) Only III
केवल III
- 4) Only II and III
केवल II तथा III

Correct Answer: Only I
केवल I

Candidate Answer: Only I
केवल I

QID : 190 - Which is the most abundant metal in the earth's crust?

पृथ्वी की भू-पटल में सबसे प्रचुर मात्रा में धातु कौन सी है?

Options:

- 1) Iron
लोहा
- 2) Silver
चाँदी
- 3) Aluminium
एल्युमिनियम
- 4) Copper
ताँबा

Correct Answer: Aluminium
एल्युमिनियम

Candidate Answer: Aluminium
एल्युमिनियम

QID : 191 - The tip of the lead pencil is made of _____.

सीसे की पेंसिल की नोक _____ की बनी होती है।

Options:

- 1) coal
कोयला
- 2) graphite
ग्रेफाइट
- 3) zinc
ज़िंक
- 4) charcoal
चारकोल

Correct Answer: graphite
ग्रेफाइट

Candidate Answer: graphite
ग्रेफाइट

QID : 192 - Chlorofluorocarbons which damage the ozone layer of the atmosphere are not used in which of the following?

क्लोरोफ्लोरो कार्बन जो वायुमंडल की ओजोन परत को क्षतिग्रस्त करता है, निम्नलिखित में से किसमें प्रयोग नहीं होता?

Options:

- 1) Refrigerator
रेफ्रिजरेटर
- 2) Air conditioner
एयर कण्डिशनर
- 3) Aerosol spray
ऐरोसॉल फुहार
- 4) None of these
इनमें से कोई नहीं

Correct Answer: None of these

इनमें से कोई नहीं

Candidate Answer: None of these

इनमें से कोई नहीं

QID : 193 - The policy holders of Pradhan Mantri Suraksha Bima Yojana get accidental insurance cover of what amount (in Rs)?

प्रधानमंत्री सुरक्षा बीमा योजना के धारक कितनी राशि (रु में) का दुर्घटना बीमा रक्षण प्राप्त करते हैं?

Options:

1) 50000

2) 100000

3) 200000

4) 500000

Correct Answer: 200000

Candidate Answer: 100000

QID : 194 - Who invented Dynamite?

डायनामाइट का आविष्कार किसने किया?

Options:

1) John Dalton

जॉन डाल्टन

2) Sir Chandrasekhara Venkata Raman

सर चन्द्रशेखर वेंकटरमन

3) Alfred Nobel

अल्फ्रेड नोबेल

4) Otto Blathy

ओटो ब्लाथी

Correct Answer: Alfred Nobel

अल्फ्रेड नोबेल

Candidate Answer: Alfred Nobel

अल्फ्रेड नोबेल

QID : 195 - Dutee Chand is associated with which of the following?

दुती चंद निम्नलिखित में से किससे जुड़े हैं?

Options:

1) 100 metres race

100 मीटर दौड़

2) 3000 metres steeplechase

3000 मीटर लंबी बाधा दौड़

3) High Jump

ऊँची छलांग

4) Triple Jump

त्रिकूद

Correct Answer: 100 metres race

100 मीटर दौड़

Candidate Answer: [NOT ANSWERED]

QID : 196 - In which of the following city Maharaja Sawai Jai Singh II of Jaipur didn't build the Jantar Mantar?

निम्न में से किस शहर में जयपुर के महाराजा सवाई जय सिंह द्वितीय ने जंतर मंतर का निर्माण नहीं किया था?

Options:

- 1) Jaipur
जयपुर
- 2) Ajmer
अजमेर
- 3) Mathura
मथुरा
- 4) New Delhi
नई दिल्ली

Correct Answer: Ajmer
अजमेर

Candidate Answer: New Delhi
नई दिल्ली

QID : 197 - Which film won the award for the Best Feature Film at the 64th National Awards?

किस फिल्म ने 64 वें राष्ट्रीय पुरस्कारों में सर्वश्रेष्ठ फीचर फिल्म का पुरस्कार जीता है?

Options:

- 1) Baahubali: The Beginning
बाहुबली : दी बिगनिंग
- 2) Kaasav
कासव
- 3) Paan Singh Tomar
पान सिंह तोमर
- 4) Jolly LLB 2
जॉली एलएलबी 2

Correct Answer: Kaasav
कासव

Candidate Answer: Kaasav
कासव

QID : 198 - Who is the author of the book named 'Food for All'?

'फूड फॉर ऑल' नामक पुस्तक के लेखक/लेखिका कौन हैं?

Options:

- 1) Uma Lele
उमा लीले
- 2) Bhim Singh
भीम सिंह
- 3) Tarun Vijay
तरुण विजय
- 4) Tarun Khanna
तरुण खन्ना

Correct Answer: Uma Lele
उमा लीले

Candidate Answer: Tarun Vijay
तरुण विजय

QID : 199 - India has acceded to the Ashgabat Agreement which is an agreement on _____.

भारत ने अशगबत समझौते को स्वीकार किया है जो कि _____ पर एक समझौता है।

Options:

- 1) Transit corridor
ट्रंजिट कॉरिडोर
- 2) Water sharing
जल साझा करना
- 3) Information technology
सूचना प्रौद्योगिकी सूचना प्रौद्योगिकी
- 4) None of these
इनमें से कोई नहीं

11/20/2017

Staff Selection Commission

Correct Answer: Transit corridor

ट्रान्जिट कॉरिडोर

Candidate Answer: Transit corridor

ट्रान्जिट कॉरिडोर

QID : 200 - Operation Maitri was India's Army-led rescue and relief mission in quake-hit _____.

ऑपरेशन मैत्री भारत की थल सेना के नेतृत्व में भूकम्प पीड़ित _____ में बचाव एवं राहत मिशन था।

Options:

1) Pakistan

पाकिस्तान

2) Sri Lanka

श्रीलंका

3) Nepal

नेपाल

4) Bangladesh

बांग्लादेश

Correct Answer: Nepal

नेपाल

Candidate Answer: Nepal

नेपाल