



Staff Selection Commission
(Government Of India)

REGISTRATION NUMBER : examstocks.com
EXAM DATE : 9-October-2017
EXAM NAME : SSC Examination TOTAL
MARKS : 150

CANDIDATE NAME : examstocks.com
EXAM START TIME : 10:00:00 EXAM
DURATION : 01:30 Hrs TOTAL NO OF
QUESTIONS : 100

QID : 1 -

In the following question, select the number which can be placed at the sign of question mark (?) from the given alternatives.

निम्नलिखित प्रश्न में दिए गए विकल्पों में से प्रश्न चिह्न (?) के स्थान पर आने वाली संख्या को चुनिए।

1	6	7	28
4	2	9	30
8	5	3	?

Options:

- 1) 30
- 2) 32
- 3) 64
- 4) 44

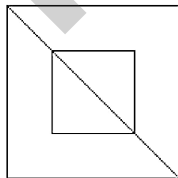
Correct Answer: 32

Candidate Answer: 32

QID : 2 -

How many triangles are there in the given figure?

दी गई आकृति में कितने त्रिभुज हैं?



Options:

- 1) 2
- 2) 3
- 3) 4
- 4) 6

Correct Answer: 4

Candidate Answer: 4

QID : 3 -

A word is represented by only one set of numbers as given in any one of the alternatives. The sets of numbers given in the alternatives are represented by two classes of alphabets as shown in the given two matrices. The columns and rows of **Matrix-I** are numbered from 0 to 4 and that of **Matrix-II** are numbered from 5 to 9. A letter from these matrices can be represented first by its row and next by its column, for example, 'D' can be represented by 04, 77, etc., and 'U' can be represented by 33, 65, etc. Similarly, you have to identify the set for the word "LOVE".

एक शब्द केवल एक संख्या-समूह द्वारा दर्शाया गया है, जैसा कि विकल्पों में से किसी एक में दिया गया है। विकल्पों में दिए गए संख्या-समूह अक्षरों के दो वर्गों द्वारा दर्शाए गए हैं, जैसा कि दिए गए दो आव्यूहों में है। आव्यूह-I के स्तम्भ और पंक्ति की संख्या 0 से 4 है और आव्यूह-II की 5 से 9। इन आव्यूहों से एक अक्षर को पहले उसकी पंक्ति और बाद में स्तम्भ संख्या द्वारा दर्शाया जा सकता है। उदाहरण के लिए 'D' को 04, 77, आदि द्वारा दर्शाया जा सकता है तथा 'U' को 33, 65, आदि द्वारा दर्शाया जा सकता है। इसी तरह से आपको प्रश्न में दिए शब्द "LOVE" के लिए समूह को पहचानना है।

Matrix-I आव्यूह-I					
	0	1	2	3	4
0	U	V	F	C	D
1	L	Y	K	E	J
2	X	P	V	M	K
3	B	R	E	U	H
4	A	L	D	X	N

Matrix-II आव्यूह-II					
	5	6	7	8	9
5	S	N	L	A	H
6	U	O	Z	Y	E
7	B	X	D	C	P
8	X	H	S	M	T
9	V	F	A	X	O

Options:

- 1) 10, 65, 95, 69
- 2) 57, 66, 96, 13
- 3) 57, 99, 01, 69
- 4) 41, 99, 23, 69

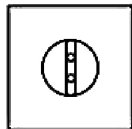
Correct Answer: 57, 99, 01, 69

Candidate Answer: 57, 99, 01, 69

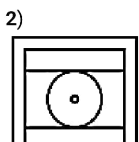
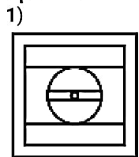
QID : 4 -

From the given answer figures, select the one in which the question figure is hidden/embedded.

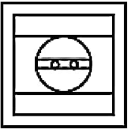
दी गई उत्तर आकृतियों में से उस उत्तर आकृति को चुनिए जिस में प्रश्न आकृति निहित है।



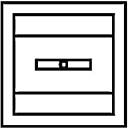
Options:



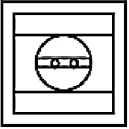
3)



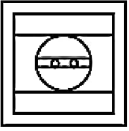
4)



Correct Answer:



Candidate Answer:



QID : 5 -

Which answer figure will complete the pattern in the question figure?

कौन सी उत्तर आकृति प्रश्न आकृति के प्रतिरूप को पूरा करेगी?

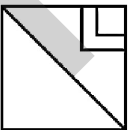


Options:

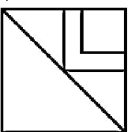
1)



2)

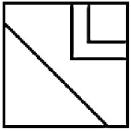


3)

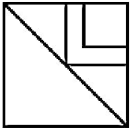


4)

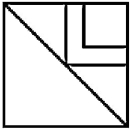




Correct Answer:



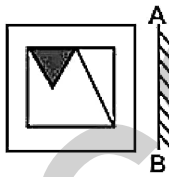
Candidate Answer:



QID : 6 -


If a mirror is placed on the line AB, then which of the answer figures is the right image of the given figure?

यदि एक दर्पण को AB रेखा पर रखा जाए, तो दी गई उत्तर आकृतियों में से कौन सी आकृति प्रश्न आकृति की सही प्रतिबिम्ब होगी?




Options:

1)



2)



3)





4)



Correct Answer:



Candidate Answer:



QID : 7 -

A piece of paper is folded and punched as shown below in the question figures. From the given answer figures, indicate how it will appear when opened?

नीचे के प्रश्न आकृतियों में दिखाए अनुसार कागज को मोड़कर छेदने तथा खोलने के बाद वह किस उत्तर आकृति जैसा दिखाई देगा?



Options:

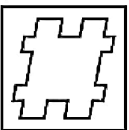
1)



2)

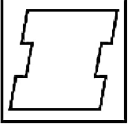


3)

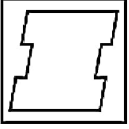


4)

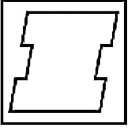




Correct Answer:



Candidate Answer:



QID : 8 - If 'Q' means '+', 'L' means '×', 'T' means '÷', 'Z' means '-', then

17 Q 4 T 9 L 18 = ?

यदि 'Q' का अर्थ '+', 'L' का अर्थ '×', 'T' का अर्थ '÷', 'Z' का अर्थ '-' हो, तो

17 Q 4 T 9 L 18 = ?

Options:

- 1) 36
- 2) 25
- 3) 42
- 4) 54

Correct Answer: 25

Candidate Answer: 25

QID : 9 - If $17 \times 13 = 4$ and $16 \times 14 = 2$, then $29 \times 23 = ?$

यदि $17 \times 13 = 4$ तथा $16 \times 14 = 2$ हो, तो $29 \times 23 = ?$

Options:

- 1) 5
- 2) 7
- 3) 6
- 4) 8

Correct Answer: 6

Candidate Answer: 6

QID : 10 - Arrange the given words in the sequence in which they occur in the dictionary.

1. Heart
2. Henry
3. Heavy
4. Hence
5. Hedge

निम्नलिखित शब्दों को शब्दकोश में आने वाले क्रम के अनुसार लिखें।

1. Heart
2. Henry
3. Heavy
4. Hence
5. Hedge

Options:

1) 15342

2) 31452

3) 13425

4) 13542

Correct Answer: 13542

Candidate Answer: 13542

QID : 11 - In the following question, select the missing number from the given series.

4, 1, 16, 9, 36, 25, 64, 49, ?



निम्नलिखित प्रश्न में दिए गए विकल्पों में से लुप्त अंक ज्ञात कीजिए।

4, 1, 16, 9, 36, 25, 64, 49, ?

Options:

1) 64

2) 81

3) 100

4) 121

Correct Answer: 100

Candidate Answer: 100

QID : 12 - A series is given with one term missing. Select the correct alternative from the given ones that will complete the series.

T, P, L, H, ?

एक अनुक्रम दिया गया है, जिसमें से एक पद लुप्त है। दिए गए विकल्पों में से वह सही विकल्प चुनिए, जो अनुक्रम को पूरा करे।

T, P, L, H, ?

Options:

1) B

2) C

3) D

4) E

Correct Answer: D

Candidate Answer: D

QID : 13 - In the following question, select the odd word from the given alternatives.

निम्नलिखित प्रश्न में दिए गए विकल्पों में से विषम शब्द को चुनिए।

Options:

1) Deserts

मरुस्थल

2) Mountains

पर्वत

3) Plains

समतल भूमि

4) Plants

पौधे

Correct Answer: Plants

पौधे

Candidate Answer: Plants

पौधे

QID : 14 - In the following question, select the odd number pair from the given alternatives.

निम्नलिखित प्रश्न में दिए गए विकल्पों में से विषम संख्या युग्म को चुनिए।

Options:

1) 14 - 12

2) 22 - 20

3) 35 - 33

4) 43 - 40

Correct Answer: 43 - 40

Candidate Answer: 43 - 40

QID : 15 - In the following question, select the odd letters from the given alternatives.

निम्नलिखित प्रश्न में दिए गए विकल्पों में से विषम अक्षरों को चुनिए।

Options:

1) DEC

2) MNL

3) RSQ

4) WXU

Correct Answer: WXU

Candidate Answer: WXU

QID : 16 - Identify the diagram that best represents the relationship among the given classes.

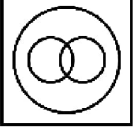
Crockery, Cup, Plate

वह आरेख चुनिए जो नीचे दिए गए वर्गों के बीच के संबंध का सही निरूपण करता है।

चीनी मिट्टी के बर्तन, कप, प्लेट

Options:

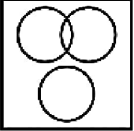
1)



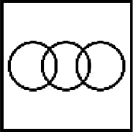
2)



3)



4)



Correct Answer:



Candidate Answer:



QID : 17 - In the following question, select the related word from the given alternatives.

Pen : Paper :: Hammer : ?

निम्नलिखित प्रश्न में दिए गए विकल्पों में से संबंधित शब्द को चुनिए।

कलम : कागज :: हथौड़ा : ?

Options:

1) Nail

कील

2) Strike

प्रहार

3) Crushing

पीसना

4) Hole

छेद

Correct Answer: Nail

कील

Candidate Answer: Nail

QID : 18 - In the following question, select the related number from the given alternatives.

49 : 146 :: 63 : ?

निम्नलिखित प्रश्न में दिए गए विकल्पों में से संबंधित संख्या को चुनिए।

49 : 146 :: 63 : ?

Options:

1) 176

2) 188

3) 192

4) 204

Correct Answer: 188

Candidate Answer: [NOT ANSWERED]

QID : 19 - In the following question, select the related letters from the given alternatives.

PO : MQ :: IN : ?

निम्नलिखित प्रश्न में दिए गए विकल्पों में से संबंधित अक्षरों को चुनिए।

PO : MQ :: IN : ?

Options:

1) EQ

2) FP

3) FQ

4) EP

Correct Answer: FP

Candidate Answer: [NOT ANSWERED]

QID : 20 - In the following question, select the word which cannot be formed using the letters of the given word.

MACHINEARY

निम्नलिखित विकल्पों में से वह शब्द चुनिए जो दिए गए शब्द के अक्षरों का प्रयोग करके नहीं बनाया जा सकता।

MACHINEARY

Options:

1) NEAR

2) MICE

3) MIND

4) HAIRY

Correct Answer: MIND

Candidate Answer: MIND

QID : 21 - Shiva walks 18 km towards east. He turns left and walks 37 km. He turns left and walks 24 km. In which direction is he from his starting point?

शिवा पूर्व की ओर 18 कि.मी. चलता है। वह बायीं ओर मुड़ता है तथा 37 कि.मी. चलता है। वह बायीं ओर मुड़ता है तथा 24 कि.मी. चलता है। वह अपने आरंभिक बिन्दु से किस दिशा में है?

Options:

1) South-East

दक्षिण-पूर्व

2) North-East

उत्तर-पूर्व

3) North-West

उत्तर-पश्चिम

4) South-West

दक्षिण-पश्चिम

Correct Answer: North-West

उत्तर-पश्चिम

Candidate Answer: North-West

उत्तर-पश्चिम

QID : 22 - Salil is 7th from top and 10th from bottom in a class of 16 students.

एक पंक्ति में, सलील ऊपर से 7 वां है तथा नीचे से 10 वां है। पंक्ति में कुल कितने व्यक्ति हैं?

Options:

- 1) 18
- 2) 17
- 3) 16
- 4) 19

Correct Answer: 16

Candidate Answer: 16

QID : 23 - In the following question below are given some statements followed by some conclusions. Taking the given statements to be true even if they seem to be at variance from commonly known facts, read all the conclusions and then decide which of the given conclusion logically follows the given statements.

Statements:

- I. All books are brown.
- II. All brown are wood.

Conclusions:

- I. Some books are wood.
- II. Some books are not wood.

नीचे दिए गए प्रश्न में कुछ कथन और उनके बाद उन कथनों पर आधारित कुछ निष्कर्ष दिए गए हैं, हालांकि उनमें सामान्य ज्ञात तथ्यों से भिन्नता हो सकती है। सभी निष्कर्ष पढ़ें और फिर निर्धारित करें कि दिए गए कौन से निष्कर्ष, दिए गए कथनों के आधार पर युक्तिसंगत हैं।

कथन:

- I. सभी पुस्तकें भूरी हैं।
- II. सभी भूरी लकड़ी हैं।

निष्कर्ष:

- I. कुछ पुस्तकें लकड़ी हैं।
- II. कुछ पुस्तकें लकड़ी नहीं हैं।

Options:

- 1) Only conclusion (I) follows.
केवल निष्कर्ष (I) सही है।
- 2) Only conclusion (II) follows.
केवल निष्कर्ष (II) सही है।
- 3) Both conclusion follow.
दोनों ही निष्कर्ष सही हैं।
- 4) Neither conclusion (I) nor conclusion (II) follows.
न तो निष्कर्ष (I) न ही निष्कर्ष (II) सही है।

Correct Answer: Only conclusion (I) follows.

केवल निष्कर्ष (I) सही है।

Candidate Answer: Only conclusion (I) follows.

केवल निष्कर्ष (I) सही है।

QID : 24 - In a certain code language, "ACID" is written as "BDJE". How is "BAKE" written in that code language?

एक विशिष्ट कोड भाषा में, "ACID" को "BDJE" लिखा जाता है। इस कोड भाषा में "BAKE" को किस प्रकार लिखा जाएगा?

Options:

- 1) CBLD
- 2) CBLF
- 3) CBMF
- 4) CCLF

Correct Answer: CBLF

Candidate Answer: CBLF

QID : 25 - In a certain code language, "INK" is written as "33" and "PIN" is written as "38". How is "TIP" written in that code language?

एक विशिष्ट कोड भाषा में, "INK" को "33" तथा "PIN" को "38" लिखा जाता है। इस कोड भाषा में "TIP" को किस प्रकार लिखा जाएगा?

Options:

- 1) 43
- 2) 44
- 3) 45
- 4) 46

Correct Answer: 44

Candidate Answer: 45

QID : 26 - If a number is divided by 30 then it leaves 17 as a remainder. What will be the remainder when the same number is divided by 10?

यदि एक संख्या को 30 से विभाजित किया जाता है, तो शेषफल 17 बचता है। शेषफल क्या होगा जब उसी संख्या को 10 से विभाजित किया जायेगा?

Options:

1) 7

2) 3

3) 1

4) 2

Correct Answer: 7

Candidate Answer: 7

QID : 27 - What is the value of $16^2 + 17^2 + 18^2 + \dots + 25^2$?

$16^2 + 17^2 + 18^2 + \dots + 25^2$ का मान क्या है?

Options:

1) 4325

2) 4465

3) 4105

4) 4285

Correct Answer: 4285

Candidate Answer: 4285

QID : 28 - How many times digit '5' appears in the number from 1 to 100?

1 से 100 तक की संख्या में अंक '5' कितनी बार आता है?

Options:

1) 20

2) 21

3) 19

4) 18

Correct Answer: 20

Candidate Answer: 20

QID : 29 - What is the unit digit of $5^{124} \times 124^5$?

$5^{124} \times 124^5$ का इकाई अंक क्या है?

Options:

1) 5

2) 1

3) 0

4) 2

Correct Answer: 0

Candidate Answer: 0

QID : 30 - What is the value of $[(a^{-2}b^3) \div (a^1b^{-1})] \times [(a^2b^{-4}) \div (a^{-1}b^2)]$?

$[(a^{-2}b^3) \div (a^1b^{-1})] \times [(a^2b^{-4}) \div (a^{-1}b^2)]$ का मान क्या है?

Options:

1) b^2

2) $1/b^2$

3) a^2

4) a^2b^2

Correct Answer: $1/b^2$

Candidate Answer: $1/b^2$

QID : 31 - Which of the following number is divisible by 11?

निम्नलिखित में से कौन सी संख्या 11 से विभाजित है?

Options:

1) 59609

2) 45332

3) 23581

4) 44433

Correct Answer: 59609

Candidate Answer: 59609

the work. C alone finishes the remaining work in 14 days. In how many days will C alone finish the whole work?

A एक कार्य को 20 दिनों में कर सकता है तथा B उसी कार्य को 30 दिनों में कर सकता है। दोनों साथ कार्य करना प्रारंभ करते हैं तथा 5 दिन कार्य करते हैं तथा फिर दोनों कार्य छोड़ देते हैं। C शेष कार्य को अकेला 14 दिनों में पूरा करता है। C अकेला पूरे कार्य को कितने दिनों में पूरा करेगा?

Options:

- 1) 24
- 2) 18
- 3) 36
- 4) 42

Correct Answer: 24

Candidate Answer: 24

QID : 33 - P, Q and R undertook a work for Rs 48000. Together P and Q complete $\frac{5}{12}$ th part of the work. What is the share (in Rs) of R?

P, Q तथा R ने एक कार्य को 48000 रु में लिया। P तथा Q मिलकर कार्य का $\frac{5}{12}$ -वां हिस्सा पूरा करते हैं। R का हिस्सा (रु में) क्या है?

Options:

- 1) 21000
- 2) 28000
- 3) 27000
- 4) 31000

Correct Answer: 28000

Candidate Answer: 28000

QID : 34 - The length of two parallel sides of a trapezium are 30 cm and 40 cm. If the area of the trapezium is 350 cm^2 , then what is the value (in cm) of its height?

एक समलम्ब की दो समांतर भुजाओं की लम्बाई 30 से.मी. तथा 40 से.मी. है। यदि समलम्ब का क्षेत्रफल 350 से.मी.^2 है, तो उसकी ऊँचाई का मान (से.मी. में) क्या है?

Options:

- 1) 8
- 2) 10
- 3) 15
- 4) 12

Correct Answer: 10

Candidate Answer: 10

QID : 35 - If the difference between discount of 35% and two successive discounts of 20% on a certain bill is Rs 3, then what is the amount (in Rs) of the bill?

यदि एक बिल में 35% तथा दो 20% की क्रमागत छूटों के बीच 3 रु का अंतर आता है, तो बिल की राशि (रु में) कितनी है?

Options:

- 1) 250
- 2) 300
- 3) 350
- 4) 400

Correct Answer: 300

Candidate Answer: 300

QID : 36 - If a shopkeeper marks the price of goods 40% more than their cost price and allows a discount of 40%, then what is his gain or loss percent?

यदि एक दुकानदार अपने सामान पर उसके क्रय मूल्य से 40% अधिक मूल्य अंकित करता है तथा 40% की छूट देता है, तो उसका लाभ अथवा हानि प्रतिशत क्या है?

Options:

- 1) 16%, Loss
16%, हानि
- 2) 16%, Profit
16%, लाभ
- 3) 10%, Loss
10%, हानि
- 4) 12%, Profit
12%, लाभ

Correct Answer: 16%, Loss

16%, हानि

Candidate Answer: 16%, Loss

16%, हानि

QID : 37 - The ratio of two positive numbers is 9 : 11. Their product is 6336. What is the smallest number?

दो धनात्मक संख्याओं का अनुपात 9 : 11 है। उनका गुणनफल 6336 है। छोटी संख्या क्या है?

Options:

- 1) 32
- 2) 72
- 3) 88
- 4) 48

Correct Answer: 72

Candidate Answer: 72

QID : 38 - B starts some business by investing Rs 90000. After 4 months, D joins business by investing Rs 80000. At the end of the year, in what ratio will they share the profit?

B, 90000 रु की पूँजी निवेश करके एक व्यापार आरंभ करता है। 4 माह के पश्चात D, 80000 रु निवेश कर उस व्यापार में शामिल हो जाता है। वर्ष के अंत में वह किस अनुपात में लाभ बाँटेंगे?

Options:

1) 10 : 7

2) 9 : 4

3) 27 : 16

4) 7 : 3

Correct Answer: 27 : 16

Candidate Answer: 27 : 16

QID : 39 - Average of 9 numbers is 20. If a number 30 is also included, then what will be the average of these 10 numbers?

9 संख्याओं का औसत 20 है। यदि एक संख्या 30 को भी शामिल कर लिया जाए, तो इन 10 संख्याओं का औसत क्या होगा?

Options:

1) 20.5

2) 21

3) 19.5

4) 21.5

Correct Answer: 21

Candidate Answer: 21

QID : 40 - By selling 50 metres of cloth, a person gains the cost price of 20 metres of cloth. What is his gain percent?

50 मीटर कपड़ा बेचकर एक व्यक्ति को 20 मीटर कपड़े के क्रय मूल्य के बराबर लाभ होता है। उसका लाभ प्रतिशत क्या है?

Options:

1) 40

2) 25

3) 20

4) 10

Correct Answer: 40

Candidate Answer: 40

QID : 41 - If some articles are bought at Rs 10 each and sold at Rs 7 each, then what is the loss percentage?

यदि कुछ वस्तुएँ 10 रु प्रति वस्तु की दर से खरीदकर 7 रु प्रति वस्तु की दर से बेच दी गई हैं, तो हानि प्रतिशत क्या है?

Options:

1) 60

2) 16.67

3) 25

4) 30

Correct Answer: 30

Candidate Answer: 30

QID : 42 - A man saves 30% of his income in 1 year. If he wants to save the same amount in 8 months, then by how much percentage should he increase his monthly savings?

एक व्यक्ति 1 वर्ष में अपनी आय का 30% बचाता है। यदि वह उतनी ही राशि 8 महीने में बचाना चाहता है, तो उसे अपनी मासिक बचत कितने प्रतिशत से बढ़ानी चाहिए?

Options:

1) 20

2) 30

3) 40

4) 50

Correct Answer: 50

Candidate Answer: [NOT ANSWERED]

QID : 43 - A man spends 80% of his income and saves the rest. If his income and spending both increases by 10%, then what is the percentage change in his savings?

एक व्यक्ति अपनी आय का 80% खर्च कर देता है तथा बाकी बचाता है। यदि उसकी आय तथा बचत दोनों 10% से बढ़ जाते हैं, तो उसकी बचत में कितने प्रतिशत का बदलाव हुआ है?

Options:

1) 10% increase

- 10% की वृद्धि
2) 5% decrease
5% की कमी
3) 5% increase
5% की वृद्धि
4) 15% decrease
15% की कमी

Correct Answer: 10% increase

10% की वृद्धि

Candidate Answer: 10% increase

10% की वृद्धि

QID : 44 - A car travels at a speed of 25 m/s for 8 hours. What is the distance (in km) travelled by the car?

एक गाड़ी 25 मी./से. की गति से 8 घण्टे चलती है। गाड़ी द्वारा कितनी दूरी (कि.मी. में) तय की गई है?

Options:

- 1) 360
2) 720
3) 450
4) 900

Correct Answer: 720

Candidate Answer: 720

QID : 45 - A 450 meter long train crosses a bridge 650 meters long in 36 seconds. What is speed (in km/hr) of the train?

एक 450 मीटर लम्बी रेलगाड़ी एक 650 मीटर लम्बे पुल को पार करने में 36 सेकण्ड लेती है। रेलगाड़ी की गति (कि.मी./घंटा में) क्या है?

Options:

- 1) 110
2) 125
3) 150
4) 95

Correct Answer: 110

Candidate Answer: 110

QID : 46 - The population of a town increases at the rate of 15% per annum. If the present population is 108445 of town, then what was the population 2 years ago?

15% की वार्षिक दर से एक शहर की जनसंख्या में वृद्धि होती है। यदि शहर की वर्तमान जनसंख्या 108445 है, तो 2 वर्ष पहले शहर की जनसंख्या क्या थी?

Options:

- 1) 72000
2) 79000
3) 82000
4) 85000

Correct Answer: 82000

Candidate Answer: 82000

QID : 47 -

The table given below shows the number of customers (in thousands) visiting 2 shopping complexes A and B from January 2017 to June 2017.

नीचे दी गई तालिका में जनवरी 2017 से जून 2017 तक 2 खरीददारी भवनों A तथा B में आने वाले ग्राहकों की संख्या (हजारों में) को दर्शाया गया है।

Month / माह	Number of customers (in thousands) / ग्राहकों की संख्या (हजारों में)	
	Complex A / भवन A	Complex B / भवन B
January / जनवरी	20	22
February / फरवरी	25	24
March / मार्च	15	20
April / अप्रैल	25	28
May / मई	14	20
June / जून	20	15

What was the percentage change in number of customers to complex B from March to April?

भवन B में, मार्च से अप्रैल तक आने वाले ग्राहकों की संख्या में प्रतिशत परिवर्तन क्या था?

Options:

- 1) 20
- 2) 40
- 3) 28
- 4) 56

Correct Answer: 40

Candidate Answer: 40

QID : 48 -

The table given below shows the number of customers (in thousands) visiting 2 shopping complexes A and B from January 2017 to June 2017.

नीचे दी गई तालिका में जनवरी 2017 से जून 2017 तक 2 खरीददारी भवनों A तथा B में आने वाले ग्राहकों की संख्या (हजारों में) को दर्शाया गया है।

Month / माह	Number of customers (in thousands) / ग्राहकों की संख्या (हजारों में)	
	Complex A / भवन A	Complex B / भवन B
January / जनवरी	20	22
February / फरवरी	25	24
March / मार्च	15	20
April / अप्रैल	25	28
May / मई	14	20
June / जून	20	15

What is the maximum difference (in thousands) between the numbers of customers in the 2 complexes among the given months?

दिए गए महीनों के लिए, दोनों भवनों में ग्राहकों की संख्या के मध्य अधिकतम अंतर (हजारों में) क्या है?

Options:

- 1) 5
- 2) 6
- 3) 8
- 4) 4

Correct Answer: 6

Candidate Answer: 6

QID : 49 -

The table given below shows the number of customers (in thousands) visiting 2 shopping complexes A and B from January 2017 to June 2017.

नीचे दी गई तालिका में जनवरी 2017 से जून 2017 तक 2 खरीददारी भवनों A तथा B में आने वाले ग्राहकों की संख्या (हजारों में) को दर्शाया गया है।

Month / माह	Number of customers (in thousands) / ग्राहकों की संख्या (हजारों में)	
	Complex A / भवन A	Complex B / भवन B
January / जनवरी	20	22
February / फरवरी	25	24
March / मार्च	15	20
April / अप्रैल	25	28
May / मई	14	20
June / जून	20	15

What is the total number of customers (in thousands) in the 2 complexes in the month of April?

अप्रैल के महीने में, दोनों भवनों में ग्राहकों की कुल संख्या (हजारों में) क्या है?

Options:

- 1) 52
- 2) 53
- 3) 50
- 4) 56

Correct Answer: 53

Candidate Answer: 53

QID : 50 -

The table given below shows the number of customers (in thousands) visiting 2 shopping complexes A and B from January 2017 to June 2017.

नीचे दी गई तालिका में जनवरी 2017 से जून 2017 तक 2 खरीददारी भवनों A तथा B में आने वाले ग्राहकों की संख्या (हजारों में) को दर्शाया गया है।

Month / माह	Number of customers (in thousands) / ग्राहकों की संख्या (हजारों में)	
	Complex A / भवन A	Complex B / भवन B
January / जनवरी	20	22
February / फरवरी	25	24
March / मार्च	15	20
April / अप्रैल	25	28
May / मई	14	20
June / जून	20	15

What is the average number of customers (in thousands) in complex B from February to May?

फरवरी से मई तक, भवन B में ग्राहकों की औसत संख्या (हजारों में) क्या है?

Options:

- 1) 22
- 2) 24
- 3) 23
- 4) 25

Correct Answer: 23

Candidate Answer: 23

QID : 51 - In the following question, some part of the sentence may have errors. Find out which part of the sentence has an error and select the appropriate option. If a sentence is free from error, select 'No Error'.

An Country's Central News Agency (1)/ said the launch was a (2)/ "muscle-flexing". (3)/ No Error (4)

Options:

- 1) 1
- 2) 2
- 3) 3
- 4) 4

Correct Answer: 1

Candidate Answer: 1

QID : 52 - In the following question, some part of the sentence may have errors. Find out which part of the sentence has an error and select the appropriate option. If a sentence is free from error, select 'No Error'.

A total of 300 economically backward (1)/ students would being awarded (2)/ the Narendra Modi Scholarship. (3)/ No Error (4)

Options:

- 1) 1
- 2) 2
- 3) 3
- 4) 4

Correct Answer: 2

Candidate Answer: 3

QID : 53 - In the following question, the sentence given with blank to be filled in with an appropriate word. Select the correct alternative out of the four and indicate it by selecting the appropriate option.

I asked her if I _____ borrow her necklace for a day.

Options:

- 1) could
- 2) would
- 3) should
- 4) can

Correct Answer: could

Candidate Answer: could

QID : 54 - In the following question, the sentence given with blank to be filled in with an appropriate word. Select the correct alternative out of the four and indicate it by selecting the appropriate option.

She doesn't know _____ to accept or refuse the proposal.

Options:

- 1) if
- 2) that
- 3) whether
- 4) which

Correct Answer: whether

Candidate Answer: whether

QID : 55 - In the following question, out of the given four alternatives, select the one which best expresses the meaning of the given word.

Smear

Options:

- 1) Discolour
- 2) Honor
- 3) Laud
- 4) Upgrade

Correct Answer: Discolour

Candidate Answer: [NOT ANSWERED]

QID : 56 - In the following question, out of the given four alternatives, select the one which best expresses the meaning of the given word.

Concession

Options:

- 1) Denial
- 2) Protest
- 3) Retrograde
- 4) Allowance

Correct Answer: Allowance

Candidate Answer: [NOT ANSWERED]

QID : 57 - In the following question, out of the given four alternatives, select the one which best expresses the meaning of the given word.

Fickle

Options:

- 1) Cognizant
- 2) Unstable
- 3) Accidental
- 4) Steadfast

Correct Answer: Unstable

Candidate Answer: [NOT ANSWERED]

QID : 58 - In the following question, out of the given four alternatives, select the one which is opposite in meaning of the given word.

Grudge

Options:

- 1) Spite



- 2) Averse
- 3) Dislike
- 4) Goodwill

Correct Answer: Goodwill

Candidate Answer: Goodwill

QID : 59 - In the following question, out of the given four alternatives, select the one which is opposite in meaning of the given word.

Hail

Options:

- 1) Rain
- 2) Storm
- 3) Greet
- 4) Dribble

Correct Answer: Dribble

Candidate Answer: Greet

QID : 60 - In the following question, out of the given four alternatives, select the one which is opposite in meaning of the given word.

Incite

Options:

- 1) Encourage
- 2) Arouse
- 3) Drive
- 4) Prohibit

Correct Answer: Prohibit

Candidate Answer: [NOT ANSWERED]

QID : 61 - In the following question, out of the four given alternatives, select the alternative which best expresses the meaning of the Idiom/Phrase.

With open arms

Options:

- 1) Cordially
- 2) Often
- 3) Seldom
- 4) Frequently

Correct Answer: Cordially

Candidate Answer: Cordially

QID : 62 - In the following question, out of the four given alternatives, select the alternative which best expresses the meaning of the Idiom/Phrase.

A bone of contention

Options:

- 1) Strong and healthy bones
- 2) Tough man
- 3) Cause of dispute
- 4) Peaceful thing

Correct Answer: Cause of dispute

Candidate Answer: Cause of dispute

QID : 63 - Improve the bracketed part of the sentence.

No mention was made (to a) key amendment to the Constitution to accommodate demands that had been defeated just last Monday.

Options:

- 1) of a
- 2) in a
- 3) by a
- 4) No improvement

Correct Answer: of a

Candidate Answer: of a

QID : 64 - Improve the bracketed part of the sentence.

Yet, it would be a mistake to presume that ties can so easily return to their pre-2015 strength, as the ground (had) shifted in too many ways since then.

Options:

- 1) have
- 2) has
- 3) was
- 4) No improvement

Correct Answer: has

Candidate Answer: No improvement

QID : 65 - In the following question, out of the four given alternatives, select the alternative which is the best substitute of the phrase.

Amount paid to a man for his labour.

Options:

- 1) Incentive
- 2) Remuneration
- 3) Gratuity
- 4) Honorarium

Correct Answer: Remuneration

Candidate Answer: Incentive

QID : 66 - In the following question, out of the four given alternatives, select the alternative which is the best substitute of the phrase.

A diplomatic representative in another country.

Options:

- 1) Spy
- 2) Spinster
- 3) Bureaucrat
- 4) Ambassador

Correct Answer: Ambassador

Candidate Answer: Ambassador

QID : 67 - In the following question, a word has been written in four different ways out of which only one is correctly spelt. Select the correctly spelt word.

Options:

- 1) Secratary
- 2) Secretery
- 3) Secratery
- 4) Secretary

Correct Answer: Secretary

Candidate Answer: Secretary

QID : 68 - In the following question, a word has been written in four different ways out of which only one is correctly spelt. Select the correctly spelt word.

Options:

- 1) Heiniuous
- 2) Heiniies
- 3) Heinous
- 4) Hienous

Correct Answer: Heinous

Candidate Answer: [NOT ANSWERED]

QID : 69 - Rearrange the parts of the sentence in correct order.

Friendship

P: an asset

Q: in life

R: is indeed

Options:

- 1) PQR
- 2) RPQ
- 3) QPR
- 4) PRQ

Correct Answer: RPQ

Candidate Answer: RPQ

QID : 70 - Rearrange the parts of the sentence in correct order.

If you don't want
P: freedom either
Q: you can't have
R: to take responsibility

Options:

- 1) RPQ
- 2) RQP
- 3) PRQ
- 4) PQR

Correct Answer: RQP

Candidate Answer: RQP

QID : 71 - In the following passage some of the words have been left out. Read the passage carefully and select the correct answer for the given blank out of the four alternatives.

Poverty means _____ of basic necessities such as food, house, clean drinking water, shelter, toilet, etc. Poverty is mostly _____ in developing countries such as India, Bangladesh, Africa, Latin America, etc. Poor people stay in underprivileged living environment. Without _____ food and nutrition, many poor people suffer from malnutrition. Without clean drinking water, they are forced to either stay thirsty or drink unclean water. Young children are seen engaged as child labourers. Without proper _____ and toilets, they are forced to _____ in open fields. Homeless people have no choice but to live in the open.

Poverty means _____ of basic necessities

Options:

- 1) deprivation
- 2) appreciation
- 3) indulgence
- 4) presentation

Correct Answer: deprivation

Candidate Answer: deprivation

QID : 72 - In the following passage some of the words have been left out. Read the passage carefully and select the correct answer for the given blank out of the four alternatives.

Poverty means _____ of basic necessities such as food, house, clean drinking water, shelter, toilet, etc. Poverty is mostly _____ in developing countries such as India, Bangladesh, Africa, Latin America, etc. Poor people stay in underprivileged living environment. Without _____ food and nutrition, many poor people suffer from malnutrition. Without clean drinking water, they are forced to either stay thirsty or drink unclean water. Young children are seen engaged as child labourers. Without proper _____ and toilets, they are forced to _____ in open fields. Homeless people have no choice but to live in the open.

Poverty is mostly _____ in developing countries

Options:

- 1) irrelevant
- 2) prevalent
- 3) relevant
- 4) malevolent

Correct Answer: prevalent

Candidate Answer: malevolent

QID : 73 - In the following passage some of the words have been left out. Read the passage carefully and select the correct answer for the given blank out of the four alternatives.

Poverty means _____ of basic necessities such as food, house, clean drinking water, shelter, toilet, etc. Poverty is mostly _____ in developing countries such as India, Bangladesh, Africa, Latin America, etc. Poor people stay in underprivileged living environment. Without _____ food and nutrition, many poor people suffer from malnutrition. Without clean drinking water, they are forced to either stay thirsty or drink unclean water. Young children are seen engaged as child labourers. Without proper _____ and toilets, they are forced to _____ in open fields. Homeless people have no choice but to live in the open.

Without _____ food and nutrition,

Options:

- 1) unfit
- 2) insufficient
- 3) adequate
- 4) useless

Correct Answer: adequate

Candidate Answer: adequate

QID : 74 - In the following passage some of the words have been left out. Read the passage carefully and select the correct answer for the given blank out of the four alternatives.

Poverty means _____ of basic necessities such as food, house, clean drinking water, shelter, toilet, etc. Poverty is mostly _____ in developing countries such as India, Bangladesh, Africa, Latin America, etc. Poor people stay in underprivileged living environment. Without _____ food and nutrition, many poor people suffer from malnutrition. Without clean drinking water, they are forced to either stay thirsty or drink unclean water. Young children are seen engaged as child labourers. Without proper _____ and toilets, they are forced to _____ in open fields. Homeless people have no choice but to live in the open.

proper _____ and toilets, they are forced to _____ in open fields. Homeless people have no choice but to live in the open.

Without proper _____ and toilets, they are forced

Options:

1) edition

2) inaction

3) intuition

4) sanitation

Correct Answer: sanitation

Candidate Answer: [NOT ANSWERED]

QID : 75 - In the following passage some of the words have been left out. Read the passage carefully and select the correct answer for the given blank out of the four alternatives.

Poverty means _____ of basic necessities such as food, house, clean drinking water, shelter, toilet, etc. Poverty is mostly _____ in developing countries such as India, Bangladesh, Africa, Latin America, etc. Poor people stay in underprivileged living environment. Without _____ food and nutrition, many poor people suffer from malnutrition. Without clean drinking water, they are forced to either stay thirsty or drink unclean water. Young children are seen engaged as child labourers. Without proper _____ and toilets, they are forced to _____ in open fields. Homeless people have no choice but to live in the open.

to _____ in open fields.

Options:

1) abdicate

2) eliminate

3) allocate

4) defecate

Correct Answer: defecate

Candidate Answer: allocate

QID : 76 - What is the income of all the residents of the country called?

देश के सभी निवासियों की आय क्या कहलाती है?

Options:

1) Per capita income

प्रति व्यक्ति आय

2) Average income

औसत आय

3) Total income

कुल आय

4) None of these

इनमें से कोई नहीं

Correct Answer: Total income

कुल आय

Candidate Answer: [NOT ANSWERED]

QID : 77 - What are the deposits in the bank accounts that can be withdrawn on demand called?

बैंक खाते में जमा राशि जो मांग पर वापस ली जा सकती है, क्या कहलाती है?

Options:

1) Time deposits

समय जमा

2) Demand deposits

मांग जमा

3) Withdrawal

निकासी

4) Accumulations

संचय

Correct Answer: Demand deposits

मांग जमा

Candidate Answer: Withdrawal

निकासी

QID : 78 - Under which article the President declares 'Presidents Rule' in India?

भारत में राष्ट्रपति किस अनुच्छेद के अंतर्गत 'राष्ट्रपति शासन' घोषित करता है?

Options:

1) Article 100

अनुच्छेद 100

2) Article 356

अनुच्छेद 356

3) Article 401

अनुच्छेद 401

4) Article 90

अनुच्छेद 90

Correct Answer: Article 356

अनुच्छेद 356

Candidate Answer: Article 356

अनुच्छेद 356

QID : 79 - In which form of government, each adult citizen must have one vote and each vote must have one value?

किस प्रकार की सरकार में हर वयस्क नागरिक का एक वोट होना चाहिए तथा हर वोट का एक समान मूल्य होना चाहिए?

Options:

1) Aristocratic

कुलीनतांत्रिक

2) Monarchic

राजतांत्रिक

3) Democratic

लोकतांत्रिक

4) Autocratic

एकतांत्रिक

Correct Answer: Democratic

लोकतांत्रिक

Candidate Answer: Democratic

लोकतांत्रिक

QID : 80 - Where was the first capital of Chalukyas?

चालुक्यों की पहली राजधानी कहाँ थी?

Options:

1) Madras

मद्रास

2) Aihole

ऐहोल

3) Hyderabad

हैदराबाद

4) Kanchipuram

कांचीपुरम

Correct Answer: Aihole

ऐहोल

Candidate Answer: Aihole

ऐहोल

QID : 81 - Who raised the slogan "Swaraj is my birth right and I shall have it"?

"स्वराज मेरा जन्मसिद्ध अधिकार है और मैं इसे लेकर रहूँगा" नारा किसने दिया था?

Options:

1) Mahatma Gandhi

महात्मा गाँधी

2) Subhash Chandra Bose

सुभाष चन्द्र बोस

3) Lala Lajpat Rai

लाला लाजपत राय

4) Bal Gangadhar Tilak

बाल गंगाधर तिलक

Correct Answer: Bal Gangadhar Tilak

बाल गंगाधर तिलक

Candidate Answer: Bal Gangadhar Tilak

बाल गंगाधर तिलक

QID : 82 - Why Earth is called the blue planet?

पृथ्वी को नीला ग्रह क्यों कहा जाता है?

Options:

1) Because of two-thirds surface covered by water

दो-तिहाई सतह पानी से ढकी होने के कारण

2) Because of water laden clouds in the atmosphere

वातावरण में पानी से लदे बादलों के कारण

3) Because of pollution in the atmosphere

वातावरण में प्रदूषण के कारण

4) None of these

इनमें से कोई नहीं

Correct Answer: Because of two-thirds surface covered by water

दो-तिहाई सतह पानी से ढकी होने के कारण

Candidate Answer: Because of two-thirds surface covered by water

दो-तिहाई सतह पानी से ढकी होने के कारण

QID : 83 - What is the shape of the Pacific Ocean?

प्रशांत महासागर का आकार क्या है?

Options:

- 1) Almost Circular
लगभग वृत्ताकार
- 2) S' shaped
S' आकार
- 3) Almost Triangular
लगभग त्रिभुजाकार
- 4) None of these
इनमें से कोई नहीं

Correct Answer: Almost Triangular
लगभग त्रिभुजाकार

Candidate Answer: S' shaped
S' आकार

QID : 84 - Heat is which component of habitat?

उष्मा परिवेश का कौन सा घटक है?

Options:

- 1) Biotic component
जैव घटक
- 2) Abiotic component
अजैव घटक
- 3) Both Biotic and Abiotic component
जैव तथा अजैव घटक दोनों
- 4) Neither of the two components
दोनों घटकों में से कोई नहीं

Correct Answer: Abiotic component
अजैव घटक

Candidate Answer: Neither of the two components
दोनों घटकों में से कोई नहीं

QID : 85 - Pepsin digests _____.

पेप्सिन पाचन _____ करता है।

Options:

- 1) proteins in stomach
उदर में प्रोटीनों का
- 2) carbohydrates in mouth
मुँह में कार्बोहाइड्रेट का
- 3) fats in duodenum
ग्रहणी में वसा का
- 4) minerals in ileum
क्षुद्रांत्र में खनिज पदार्थों का

Correct Answer: proteins in stomach
उदर में प्रोटीनों का

Candidate Answer: proteins in stomach
उदर में प्रोटीनों का

QID : 86 - Anemia is related to _____.

एनीमिया का सम्बन्ध _____ होता है।

Options:

- 1) iodine deficiency
आयोडीन की कमी से
- 2) calcium deficiency
कैल्शियम की कमी से
- 3) iron deficiency
लोह की कमी से
- 4) food poisoning
खाद्य विषाण

Correct Answer: iron deficiency
लोह की कमी से

Candidate Answer: iron deficiency
लोह की कमी से

QID : 87 - How many terminals does an electric cell has?

एक विद्युत कक्ष में कितने टर्मिनल हैं?

Options:

- 1) 1
- 2) 2

- 3) 3
4) 4

Correct Answer: 2

Candidate Answer: 2

QID : 88 - The size of the image formed by a plane mirror is always ____ to/than the object.

समतल दर्पण द्वारा बनने वाले प्रतिबिंब का आकार सदैव वस्तु के/से ____ होता है।

Options:

- 1) Equal
बराबर
2) Greater
बड़ा
3) Smaller
छोटा
4) None of these
इनमें से कोई नहीं

Correct Answer: Equal

बराबर

Candidate Answer: Equal

बराबर

QID : 89 - Microsoft excel is also called ____.

माइक्रोसॉफ्ट एक्सेल को ____ भी कहा जाता है।

Options:

- 1) Document
डॉक्यूमेंट
2) Table
टेबल
3) Spreadsheet
स्प्रेडशीट
4) Label
लेबल

Correct Answer: Spreadsheet

स्प्रेडशीट

Candidate Answer: Spreadsheet

स्प्रेडशीट

QID : 90 - ____ the correct formula for ammonium phosphate.

अमोनियम फॉस्फेट का सही सूत्र ____ है।

Options:

- 1) $N_4H_6PO_4$
2) $(NH_4)_3PO$
3) $(NH_4)_3PO_4$
4) $(NH_4)_2PO_4$

Correct Answer: $(NH_4)_3PO_4$

Candidate Answer: [NOT ANSWERED]

QID : 91 - Law of Triad was proposed by ____.

त्रि-कानून ____ द्वारा प्रस्तावित किया गया था।

Options:

- 1) Newland
न्यूलैण्ड
2) Rutherford
रदरफोर्ड
3) Mendeleev
मेंडलीव
4) Dobereiner
डोबेरेनर

Correct Answer: Dobereiner

डोबेरेनर

Candidate Answer: Dobereiner

डोबेरेनर

QID : 92 - What are the microorganisms that breakdown the dead remains and waste product of organisms called?

मृतजैव अवशेषों तथा अविशिष्ट पदार्थों का अपमार्जन करने वाले सूक्ष्मजीवों को क्या कहते हैं?

Options:

- 1) Consumers
उपभोक्ता
2) Producers

- उत्पादक
3) Decomposers
अपमार्जक
4) None of these
इनमें से कोई नहीं

Correct Answer: Decomposers
अपमार्जक

Candidate Answer: Decomposers
अपमार्जक

QID : 93 - What is the rate of Krishi Kalyan Cess which was proposed in budget 2016?

2016 के बजट में प्रस्तावित कृषि कल्याण उपकर की दर कितनी है?

Options:

- 1) 0.5%
- 2) 2%
- 3) 5%
- 4) 0.25%

Correct Answer: 0.5%

Candidate Answer: [NOT ANSWERED]

QID : 94 - What was invented by 'Zacharias Janssen'?

'ज़कारियस जैनसेन' ने किसका आविष्कार किया था?

Options:

- 1) Telescope
टेलीस्कोप
- 2) Microscope
माइक्रोस्कोप
- 3) Stethoscope
स्टेथोस्कोप
- 4) Periscope
पेरिस्कोप

Correct Answer: Microscope
माइक्रोस्कोप

Candidate Answer: [NOT ANSWERED]

QID : 95 - "Hitting below the belt" is a phrase associated with which sports?

"हिटींग बिलो द बेल्ट" किस खेल से सम्बंधित एक वाक्यांश है?

Options:

- 1) Boxing
मुक्केबाज़ी
- 2) Cricket
क्रिकेट
- 3) Hockey
हॉकी
- 4) Baseball
बेसबॉल

Correct Answer: Boxing
मुक्केबाज़ी

Candidate Answer: Baseball
बेसबॉल

QID : 96 - The Vedas, Upanishads, Puranas and Dharmasutras are all written in which language?

वेद, उपनिषद, पुराण और धर्मसूत्र किस भाषा में लिखे गए हैं?

Options:

- 1) Hindi
हिंदी
- 2) Prakrit
प्राकृत
- 3) Pali
पाली
- 4) Sanskrit
संस्कृत

Correct Answer: Sanskrit
संस्कृत

Candidate Answer: Prakrit
प्राकृत

QID : 97 - Which airport in India is ranked first in customer satisfaction Index Survey conducted for the period of Jan-June 2017?

जनवरी-जून 2017 के लिए ग्राहक संतुष्टि सूचकांक सर्वेक्षण में भारत में कौन सा हवाई अड्डा सबसे पहले स्थान पर है?

Options:

- 1) Raipur's Swami Vivekananda Airport
रायपुर का स्वामी विवेकानंद हवाई अड्डा
- 2) New Delhi's Indira Gandhi Airport
नई दिल्ली का इंदिरा गांधी हवाई अड्डा
- 3) Lucknow's Chaudhary Charan Singh Airport
लखनऊ का चौधरी चरण सिंह हवाई अड्डा
- 4) Mumbai's Chhatrapati Shivaji Airport
मुंबई का छत्रपति शिवाजी हवाई अड्डा

Correct Answer: Raipur's Swami Vivekananda Airport
रायपुर का स्वामी विवेकानंद हवाई अड्डा

Candidate Answer: Raipur's Swami Vivekananda Airport
रायपुर का स्वामी विवेकानंद हवाई अड्डा

QID : 98 - Who is the author of book named "India 2020: A vision for the new Millennium"?

"इंडिया 2020 : ए विज़न फॉर द न्यू मिलेनियम" नामक पुस्तक के लेखक कौन हैं?

Options:

- 1) M.V. Kamath
एम. वी. कामथ
- 2) Kiran Bedi
किरण बेदी
- 3) Dr. A.P.J. Abdul Kalam
डॉ. ए.पी.जे. अब्दुल कलाम
- 4) A.K Damodaran
ए.के. दामोदरन

Correct Answer: Dr. A.P.J. Abdul Kalam
डॉ. ए.पी.जे. अब्दुल कलाम

Candidate Answer: Dr. A.P.J. Abdul Kalam
डॉ. ए.पी.जे. अब्दुल कलाम

QID : 99 - Where was the first International Agrobiodiversity Congress held?

पहली अंतर्राष्ट्रीय कृषिजैवविविधता कांग्रेस कहाँ आयोजित हुई थी?

Options:

- 1) Prague
प्राग
- 2) New Delhi
नई दिल्ली
- 3) Kuming
कुमिंग
- 4) Thimpu
थिम्पू

Correct Answer: New Delhi
नई दिल्ली

Candidate Answer: [NOT ANSWERED]

QID : 100 - Petrapole Integrated Check Post is the South Asia's biggest land port that exists between India and _____.

पेट्रोपोल इंटीग्रेटेड चेक पोस्ट दक्षिण एशिया की सबसे बड़ी भूमि पोर्ट है जो भारत तथा _____ के बीच मौजूद है।

Options:

- 1) Pakistan
पाकिस्तान
- 2) Nepal
नेपाल
- 3) Bangladesh
बांग्लादेश
- 4) Afghanistan
अफगानिस्तान

Correct Answer: Bangladesh
बांग्लादेश

Candidate Answer: [NOT ANSWERED]