



Staff Selection Commission
(Government Of India)

REGISTRATION NUMBER : examstocks.com
EXAM DATE : 13-October-2017
EXAM NAME : SSC Examination TOTAL
MARKS : 150

CANDIDATE NAME : examstocks.com
EXAM START TIME : 10:00:00
EXAM DURATION : 01:30 Hrs
TOTAL NO OF QUESTIONS : 100

QID : 1 -

In the following question, select the number which can be placed at the sign of question mark (?) from the given alternatives.

निम्नलिखित प्रश्न में दिए गए विकल्पों में से प्रश्न चिह्न (?) के स्थान पर आने वाली संख्या को चुनिए।

4	6
5	16

7	9
8	25

4	8
7	?

Options:

1) 20

2) 19

3) 21

4) 30

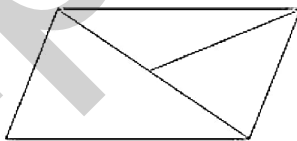
Correct Answer: 20

Candidate Answer: 30

QID : 2 -

How many triangles are there in the given figure?

दी गई आकृति में कितने त्रिभुज हैं?



Options:

1) 2

2) 3

3) 4

4) 5

Correct Answer: 4

Candidate Answer: 5

QID : 3 -

A word is represented by only one set of numbers as given in any one of the alternatives. The sets of numbers given in the alternatives are represented by two classes of alphabets as shown in the given two matrices. The columns and rows of **Matrix-I** are numbered from 0 to 4 and that of **Matrix-II** are numbered from 5 to 9. A letter from these matrices can be represented first by its row and next by its column, for example, 'J' can be represented by 20, 96, etc., and 'T' can be represented by 12, 34, etc. Similarly, you have to identify the set for the word "FILL".

एक शब्द केवल एक संख्या-समूह द्वारा दर्शाया गया है, जैसा कि विकल्पों में से किसी एक में दिया गया है। विकल्पों में दिए गए संख्या-समूह अक्षरों के दो वर्गों द्वारा दर्शाए गए हैं, जैसा कि दिए गए दो आव्यूहों में है। आव्यूह-I के स्तम्भ और पंक्ति की संख्या 0 से 4 है और आव्यूह-II की 5 से 9। इन आव्यूहों से एक अक्षर को पहले उसकी पंक्ति और बाद में स्तम्भ संख्या द्वारा दर्शाया जा सकता है। उदाहरण के लिए 'J' को 20, 96, आदि द्वारा दर्शाया जा सकता है तथा 'T' को 12, 34, आदि द्वारा दर्शाया जा सकता है। इसी तरह से आपको प्रश्न में दिए शब्द "FILL" के लिए समूह को पहचानना है।

Matrix-I
आव्यूह-I

	0	1	2	3	4
0	A	E	I	S	N
1	L	Z	T	Y	I
2	J	G	W	I	Q
3	M	E	Z	S	T
4	Z	K	F	C	Z

Matrix-II
आव्यूह-II

	5	6	7	8	9
5	D	F	A	K	L
6	O	I	S	P	X
7	F	E	L	O	N
8	P	M	A	C	T
9	Q	J	T	Y	I

Options:

- 1) 42, 02, 10, 56
- 2) 56, 65, 97, 59
- 3) 23, 02, 13, 77
- 4) 75, 99, 59, 10


Correct Answer: 75, 99, 59, 10

Candidate Answer: 75, 99, 59, 10

QID : 4 -

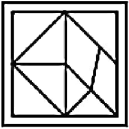
From the given answer figures, select the one in which the question figure is hidden/embedded.

दी गई उत्तर आकृतियों में से उस उत्तर आकृति को चुनिए जिस में प्रश्न आकृति निहित है।



Options:

1)



2)



3)



4)



Correct Answer:



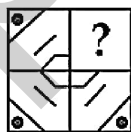
Candidate Answer:



QID : 5 -

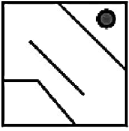
Which answer figure will complete the pattern in the question figure?

कौन सी उत्तर आकृति प्रश्न आकृति के प्रतिरूप को पूरा करेगी?

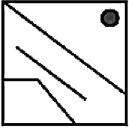


Options:

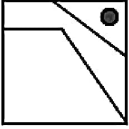
1)



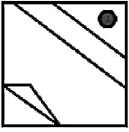
2)



3)



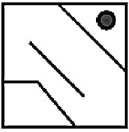
4)



Correct Answer:



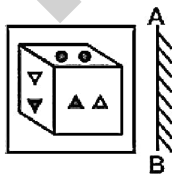
Candidate Answer:



QID : 6 -

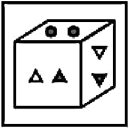
If a mirror is placed on the line AB, then which of the answer figures is the right image of the given figure?

यदि एक दर्पण को AB रेखा पर रखा जाए, तो दी गई उत्तर आकृतियों में से कौन सी आकृति प्रश्न आकृति की सही प्रतिबिम्ब होगी?

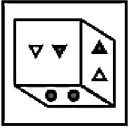


Options:

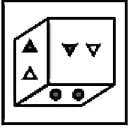
1)



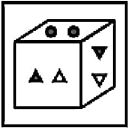
2)



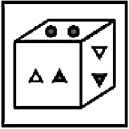
3)



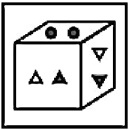
4)



Correct Answer:



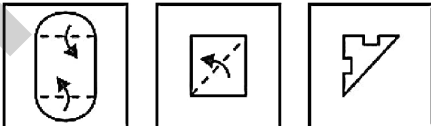
Candidate Answer:



QID : 7 -

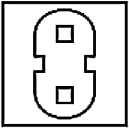
A piece of paper is folded and punched as shown below in the question figures. From the given answer figures, indicate how it will appear when opened?

नीचे के प्रश्न आकृतियों में दिखाए अनुसार कागज को मोड़कर छेदने तथा खोलने के बाद वह किस उत्तर आकृति जैसा दिखाई देगा?

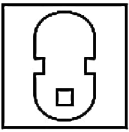


Options:

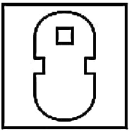
1)



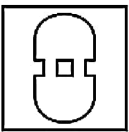
2)



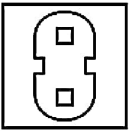
3)



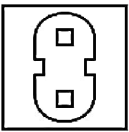
4)



Correct Answer:



Candidate Answer:



QID : 8 - If 'B' means 'x', 'F' means '+', 'A' means '-' and 'L' means '+', then

12 L 18 B 3 F 6 A 1 = ?

यदि 'B' का अर्थ 'x', 'F' का अर्थ '+', 'A' का अर्थ '-' तथा 'L' का अर्थ '+' हो, तो

12 L 18 B 3 F 6 A 1 = ?

Options:

- 1) 16
- 2) 21
- 3) 20
- 4) 24

Correct Answer: 20

Candidate Answer: 20

QID : 9 - If $9 @ 3 @ 2 = 28$ and $11 @ 2 @ 1 = 28$, then

$5 @ 4 @ 5 = ?$

यदि $9 @ 3 @ 2 = 28$ तथा $11 @ 2 @ 1 = 28$ हो, तो

$5 @ 4 @ 5 = ?$

Options:

- 1) 24
- 2) 35
- 3) 28
- 4) 20

Correct Answer: 28

Candidate Answer: 28

QID : 10 - Arrange the given words in the sequence in which they occur in the dictionary.

1. Rigid
2. Ripe
3. River
4. Ringer
5. Rip

निम्नलिखित शब्दों को शब्दकोश में आने वाले क्रम के अनुसार लिखें।

1. Rigid
2. Ripe
3. River
4. Ringer
5. Rip

Options:
1) 15243

2) 14253

3) 15423

4) 14523

Correct Answer: 14523

Candidate Answer: 14523

QID : 11 - In the following question, select the missing number from the given series.

1, 2, 3, 5, 8, ?

निम्नलिखित प्रश्न में दिए गए विकल्पों में से लुप्त अंक ज्ञात कीजिए।

1, 2, 3, 5, 8, ?

Options:

1) 15

2) 13

3) 14

4) 16

Correct Answer: 13

Candidate Answer: 13

QID : 12 - A series is given with one term missing. Select the correct alternative from the given ones that will complete the series.

A, C, F, J, ?

एक अनुक्रम दिया गया है, जिसमें से एक पद लुप्त है। दिए गए विकल्पों में से वह सही विकल्प चुनिए, जो अनुक्रम को पूरा करे।

A, C, F, J, ?

Options:

1) K

2) M

3) Z

4) O

Correct Answer: O

Candidate Answer: O

QID : 13 - In the following question, select the odd word from the given alternatives.

निम्नलिखित प्रश्न में दिए गए विकल्पों में से विषम शब्द को चुनिए।

Options:

1) Cement

सीमेंट

2) Floor

फर्श

3) Wall

दीवार

4) Roof

छत

Correct Answer: Cement

सीमेंट

Candidate Answer: Cement

सीमेंट

QID : 14 - In the following question, select the odd number from the given alternatives.

निम्नलिखित प्रश्न में दिए गए विकल्पों में से विषम संख्या को चुनिए।

Options:

1) 362

2) 442

3) 26

4) 23

Correct Answer: 23

Candidate Answer: 23

QID : 15 - In the following question, select the odd letters from the given alternatives.

निम्नलिखित प्रश्न में दिए गए विकल्पों में से विषम अक्षरों को चुनिए।

Options:

1) MN

2) NM

3) AZ

4) BD

Correct Answer: BD

Candidate Answer: NM

QID : 16 - Identify the diagram that best represents the relationship among the given classes.

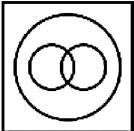
Humans, Male, Teacher

वह आरेख चुनिए जो नीचे दिए गए वर्गों के बीच के संबंध का सही निरूपण करता है।

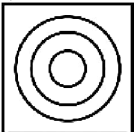
मनुष्य, पुरुष, अध्यापक

Options:

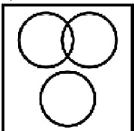
1)



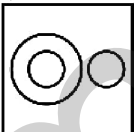
2)



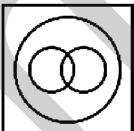
3)



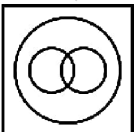
4)



Correct Answer:



Candidate Answer:



QID : 17 - In the following question, select the related word from the given alternatives.

Wall clock : Wall :: Carpet : ?

निम्नलिखित प्रश्न में दिए गए विकल्पों में से संबंधित शब्द को चुनिए।

दीवार घड़ी : दीवार :: कालीन : ?

Options:

- 1) Woven
बुना हुआ
- 2) Warm
गर्म
- 3) Wool
ऊन
- 4) Floor
फर्श

Correct Answer: Floor

फर्श

Candidate Answer: Floor

फर्श

QID : 18 - In the following question, select the related number from the given alternatives.

14 : 225 :: 16 : ?

निम्नलिखित प्रश्न में दिए गए विकल्पों में से संबंधित संख्या को चुनिए।

14 : 225 :: 16 : ?

Options:

- 1) 288
- 2) 289
- 3) 361
- 4) 256

Correct Answer: 289

Candidate Answer: 289

QID : 19 - In the following question, select the related letters from the given alternatives.

AD : BE :: MP : ?

निम्नलिखित प्रश्न में दिए गए विकल्पों में से संबंधित अक्षरों को चुनिए।

AD : BE :: MP : ?

Options:

- 1) NO
- 2) NP
- 3) NQ
- 4) MN

Correct Answer: NQ

Candidate Answer: NQ

QID : 20 - In the following question, select the word which cannot be formed using the letters of the given word.

SUPERSEDE

निम्नलिखित प्रश्न में से वह शब्द चुनिए जो दिए गए शब्द के अक्षरों का प्रयोग करके नहीं बनाया जा सकता।

SUPERSEDE

Options:

- 1) SURE
- 2) PRUDE
- 3) RUDE
- 4) DOSE

Correct Answer: DOSE

Candidate Answer: DOSE

QID : 21 - Paul starts walking from a point. He walks 12 km to the north. Then he turns east and walks 14 km. Then he turns south and walks 10 km. Then he turns west and walks 14 km. In which direction is Paul from his starting point?

पॉल एक बिंदु से चलना आरंभ करता है। वह 12 कि.मी. उत्तर की ओर चलता है। फिर वह पूर्व की ओर मुड़कर 14 कि.मी. चलता है। फिर वह दक्षिण की ओर मुड़कर 10 कि.मी. चलता है। फिर वह पश्चिम की ओर मुड़कर 14 कि.मी. चलता है। पॉल अपने आरंभिक बिंदु से किस दिशा में है?

Options:

- 1) North
उत्तर
- 2) South
दक्षिण
- 3) North-West
उत्तर-पश्चिम
- 4) South-West
दक्षिण-पश्चिम

Correct Answer: North

उत्तर

Candidate Answer: North

उत्तर

QID : 22 - A remembers his birthday is before 19th January. A's mother remembers his birthday is after 17th January. On which date of January is his birthday?

A को याद है कि उसका जन्मदिन 19 जनवरी से पूर्व है। A की माता को याद है कि उसका जन्मदिन 17 जनवरी के पश्चात है। उसका जन्मदिन जनवरी की कौन सी तिथि को है?

Options:

- 1) 17
- 2) 18
- 3) 19
- 4) 20

Correct Answer: 18

Candidate Answer: 18

QID : 23 - In the following question below are given some statements followed by some conclusions. Taking the given statements to be true even if they seem to be at variance from commonly known facts, read all the conclusions and then decide which of the given conclusion logically follows the given statements.

Statements:

- I. All blue are plates.
- II. Some plates are red.

Conclusions:

- I. No red is plate.
- II. Some blue are plates.

नीचे दिए गए प्रश्न में कुछ कथन और उनके बाद उन कथनों पर आधारित कुछ निष्कर्ष दिए गए हैं, हालांकि उनमें सामान्य ज्ञात तथ्यों से भिन्नता हो सकती है। सभी निष्कर्ष पढ़ें और फिर निर्धारित करें कि दिए गए कौन से निष्कर्ष, दिए गए कथनों के आधार पर युक्तिसंगत हैं।

कथन:

- I. सभी नीले प्लेट हैं।
- II. कुछ प्लेट लाल हैं।

निष्कर्ष:

- I. कोई लाल प्लेट नहीं है।
- II. कुछ नीले प्लेट हैं।

Options:

- 1) Only conclusion (I) follows.
केवल निष्कर्ष (I) सही है।
- 2) Only conclusion (II) follows.
केवल निष्कर्ष (II) सही है।
- 3) Both conclusion follow.
दोनों ही निष्कर्ष सही हैं।
- 4) Neither conclusion (I) nor conclusion (II) follows.
न तो निष्कर्ष (I) न ही निष्कर्ष (II) सही है।

Correct Answer: Only conclusion (II) follows.
केवल निष्कर्ष (II) सही है।

Candidate Answer: Only conclusion (II) follows.
केवल निष्कर्ष (II) सही है।

QID : 24 - In a certain code language, "DARK" is written as "CZQJ". How is "HORN" written in that code language?

एक विशिष्ट कोड भाषा में, "DARK" को "CZQJ" लिखा जाता है। इस कोड भाषा में "HORN" को किस प्रकार लिखा जाएगा?

Options:

- 1) GNQM
- 2) GNQO
- 3) GPQM
- 4) INQO

Correct Answer: GNQM

Candidate Answer: GNQM

QID : 25 - In a certain code language, "HIT" is written as "38" and "BIT" is written as "32". How is "ION" written in that code language?

एक विशिष्ट कोड भाषा में, "HIT" को "38" तथा "BIT" को "32" लिखा जाता है। इस कोड भाषा में "ION" को किस प्रकार लिखा जाएगा?

Options:

- 1) 38
- 2) 39
- 3) 40
- 4) 37

Correct Answer: 39

Candidate Answer: 40

QID : 26 - Rohit scored 44, 42, 62, 74, 40, and 26 runs in a six-match one-day cricket series. What is his average score for the series?

रोहित ने 6 मैचों की एकदिवसीय क्रिकेट श्रृंखला में 44, 42, 62, 74, 40 और 26 रन बनाए। इस श्रृंखला में उसका औसत स्कोर क्या है?

Options:

- 1) 42
- 2) 46
- 3) 54
- 4) 48

Correct Answer: 48

Candidate Answer: 48

QID : 27 - Radha bought a dress for Rs 374 with a discount of 15% on the marked price. Find the marked price of the dress.

राधा ने एक परिधान अंकित मूल्य पर 15% की छूट के बाद 374 रु में खरीदा। परिधान का अंकित मूल्य बताएं।

Options:

- 1) Rs 440
440 रु
- 2) Rs 450
450 रु
- 3) Rs 460
460 रु
- 4) Rs 480
480 रु

Correct Answer: Rs 440

440 रु

Candidate Answer: Rs 440

440 रु

QID : 28 - A shopkeeper offers 13% discount on a car tyre with a marked price of Rs 8800. If he still earns a profit of Rs 1200, what is the cost price of the tyre?

एक दुकानदार 8800 रु अंकित मूल्य वाले कार के टायर पर 13% छूट देता है। फिर भी वह टायर बेचकर 1200 रु का लाभ कमाता है, तो टायर का क्रय मूल्य क्या है?

Options:

- 1) Rs 6450
6450 रु
- 2) Rs 6456
6456 रु
- 3) Rs 6654
6654 रु
- 4) Rs 6546
6546 रु

Correct Answer: Rs 6456

6456 रु

Candidate Answer: Rs 6456

6456 रु

QID : 29 - The sum of all even whole numbers between 13 and 43 is ____.

13 और 43 के बीच की सभी पूर्ण सम संख्याओं का योग ____ है।

Options:

- 1) 440
- 2) 460
- 3) 288
- 4) 420

Correct Answer: 420

Candidate Answer: 420

QID : 30 - A house priced Rs 500000 is insured 70 %. The house gets completely damaged in an accident and the insurance company pays 80% of the insurance. What is the amount paid by the insurance company?

500000 रुपये के मूल्य वाला एक घर 70% बीमित है। घर एक दुर्घटना में पूरी तरह से क्षतिग्रस्त हो जाता है और बीमा कंपनी बीमा राशि का 80% भुगतान करती है। बीमा कंपनी ने कुल कितने रुपये का भुगतान किया?

Options:

- 1) Rs 250000
250000 रु
- 2) Rs 240000
240000 रु
- 3) Rs 320000
320000 रु
- 4) Rs 280000
280000 रु

Correct Answer: Rs 280000

280000 रु

Candidate Answer: Rs 280000

280000 रु

QID : 31 - A cloth seller sells his complete stock of an item and incurs a loss of 10 percent. What is his cost price for the stock if the total loss is Rs 3000?

एक कपड़ा विक्रेता वस्तुओं के एक पूरे स्टॉक को बेचता है और 10 प्रतिशत का नुकसान उठाता है। अगर कुल हानि 3000 रु है, तो स्टॉक का क्रय मूल्य क्या है?

Options:

- 1) Rs 30000
30000 रु
- 2) Rs 33000
33000 रु
- 3) Rs 27000
27000 रु
- 4) Rs 10000
10000 रु

Correct Answer: Rs 30000
30000 रु

Candidate Answer: Rs 30000
30000 रु

QID : 32 - Manoj does a work in 20 days and Sahil does the same work in 30 days. In how many days they together will do the same work?

मनोज एक काम 20 दिनों में पूरा करता है और साहिल उसी काम को 30 दिनों में पूरा करता है। दोनों साथ मिलकर उस काम को कितने दिनों में पूरा करेंगे?

Options:

- 1) 10 days
10 दिन
- 2) 14 days
14 दिन
- 3) 12 days
12 दिन
- 4) 16 days
16 दिन

Correct Answer: 12 days
12 दिन

Candidate Answer: 12 days
12 दिन

QID : 33 - A truck covers a distance of 1200 km in 40 hours. What is the average speed of the truck?

एक ट्रक 1200 किमी. की दूरी 40 घंटे में तय करता है। उसकी औसत गति क्या है?

Options:

- 1) 30 km/hr
30 किमी./घंटा
- 2) 40 km/hr
40 किमी./घंटा
- 3) 60 km/hr
60 किमी./घंटा
- 4) 45 km/hr
45 किमी./घंटा

Correct Answer: 30 km/hr
30 किमी./घंटा

Candidate Answer: 30 km/hr
30 किमी./घंटा

QID : 34 - Find the simple interest on a capital of Rs 90,000 at a rate of 16.5% per annum for 3 years.

90,000 रु की धनराशि पर 16.5% वार्षिक दर से 3 वर्ष का साधारण ब्याज ज्ञात करें।

Options:

- 1) Rs 44550
44550 रु
- 2) Rs 42500
42500 रु
- 3) Rs 43550
43550 रु
- 4) Rs 44500
44500 रु

Correct Answer: Rs 44550
44550 रु

Candidate Answer: Rs 44550
44550 रु

QID : 35 - The total surface area of a cube is 1176 cm^2 . What is the volume of this cube?

एक घन का सम्पूर्ण पृष्ठ क्षेत्रफल 1176 सेमी^2 है। इस घन का आयतन क्या है?

Options:

- 1) 2744 cm^3
2744 सेमी³
- 2) 2644 cm^3
2644 सेमी³
- 3) 2544 cm^3
2544 सेमी³
- 4) 2844 cm^3
2844 सेमी³

Correct Answer: 2744 cm^3
2744 सेमी³

Candidate Answer: 2744 cm³

2744 सेमी³

QID : 36 - A number when divided by 6 leaves a remainder 4. When the square of the number is divided by 6 the remainder is ____.

एक संख्या को 6 से विभाजित करने पर 4 शेष बचता है। जब उस संख्या के वर्ग को 6 से विभाजित किया जाता है, तो शेष बचता ____ है।

Options:

- 1) 1
- 2) 2
- 3) 3
- 4) 4

Correct Answer: 4

Candidate Answer: 4

QID : 37 - What is the units digit in the product (813 x 986 x 471 x 603)?

गुणांक (813 x 986 x 471 x 603) में इकाई अंक क्या है?

Options:

- 1) 6
- 2) 4
- 3) 2
- 4) 3

Correct Answer: 4

Candidate Answer: 4

QID : 38 - The monthly salaries of A and B are in the ratio 9:10. If both of them get a salary increment of Rs 6000 per month, the new ratio becomes 21:23. What is the new monthly salary of A?

A तथा B के मासिक वेतनों का अनुपात 9:10 है। अगर दोनों को 6000 रु की मासिक वेतन वृद्धि मिलती है, तो नया अनुपात 21:23 हो जाता है। A का नया मासिक वेतन क्या है?

Options:

- 1) Rs 38000
38000 रु
- 2) Rs 40000
40000 रु
- 3) Rs 46000
46000 रु
- 4) Rs 42000
42000 रु

Correct Answer: Rs 42000

42000 रु

Candidate Answer: Rs 42000

42000 रु

QID : 39 - The sum of 10 consecutive integers is 5. What is the lowest integer?

10 लगातार पूर्णांक संख्याओं का योग 5 है। सबसे छोटी पूर्णांक संख्या क्या है?

Options:

- 1) -1
- 2) -5
- 3) -4
- 4) -3

Correct Answer: -4

Candidate Answer: -1

QID : 40 - What least number must be added to 2535 so that the sum is completely divisible by 27?

2535 में कम से कम कितनी संख्या जोड़नी चाहिए ताकि कुल योग 27 से पूर्ण विभाज्य हो जाए?

Options:

- 1) 3
- 2) 26
- 3) 10
- 4) 12

Correct Answer: 3

Candidate Answer: 3

QID : 41 - A cyclist covers a distance of 8 kms in 30 minutes. What is his average speed?

एक साइकिल सवार 8 किमी की दूरी 30 मिनट में तय करता है। उसकी औसत गति क्या है?

Options:

- 1) 16 km/hr
16 किमी./घंटा
- 2) 8 km/hr
8 किमी./घंटा
- 3) 24 km/hr
24 किमी./घंटा
- 4) 4 km/hr
4 किमी./घंटा

Correct Answer: 16 km/hr
16 किमी./घंटा

Candidate Answer: 16 km/hr
16 किमी./घंटा

QID : 42 - Manjeet's annual salary was reduced by 30% and subsequent year increased by 45%. What is the overall percentage change over his original salary?

मनजीत के वार्षिक वेतन में 30% की कमी हुई और अगले वर्ष 45% की वृद्धि हुई। उसके मूल वेतन में कितने प्रतिशत का प्रभावी परिवर्तन हुआ?

Options:

- 1) 3%
- 2) 3.5%
- 3) 1.5%
- 4) 2.5%

Correct Answer: 1.5%

Candidate Answer: 1.5%

QID : 43 - A fruit vendor buys 5 dozen bananas for Rs 240. What should be price per pair of the banana so that the vendor can earn 25% profit?

एक फल विक्रेता 5 दर्जन केले 240 रु में खरीदता है। प्रति जोड़े केले का विक्रय मूल्य क्या होना चाहिए ताकि विक्रेता 25% का लाभ कमा सके?

Options:

- 1) Rs 10
10 रु
- 2) Rs 8
8 रु
- 3) Rs 6
6 रु
- 4) Rs 12
12 रु

Correct Answer: Rs 10

10 रु

Candidate Answer: Rs 10

10 रु

QID : 44 - Rakesh can do a piece of work in 20 hours. After he works at it for 8 hours, how much part of the work would be left?

राकेश किसी काम को 20 घंटे में पूरा करता है। उसके 8 घंटे काम करने के बाद काम का कितना हिस्सा बाकी रह जाएगा?

Options:

- 1) $\frac{3}{5}$
- 2) $\frac{5}{3}$
- 3) $\frac{2}{3}$
- 4) $\frac{1}{5}$

Correct Answer: $\frac{3}{5}$

Candidate Answer: $\frac{3}{5}$

QID : 45 - How many whole numbers are there between 48 and 352 which are exactly divisible by 7?

48 और 352 के बीच 7 से पूरी तरह से विभाज्य होने वाली पूर्ण संख्याएं कितनी हैं?

Options:

- 1) 42
- 2) 43
- 3) 44
- 4) 45

Correct Answer: 44

Candidate Answer: 44

QID : 46 - If Rs 3870 is divided in the ratio of 14:12:15:4 among A, B, C and D respectively, what will be the share of B?

अगर 3870 रु को A, B, C तथा D के बीच 14:12:15:4 के अनुपात में विभाजित किया जाता है, तो B का हिस्सा क्या होगा?

Options:

- 1) Rs 1132
1132 रु
- 2) Rs 1290
1290 रु
- 3) Rs 1032
1032 रु
- 4) Rs 1204
1204 रु

Correct Answer: Rs 1032

1032 रु

Candidate Answer: Rs 1032

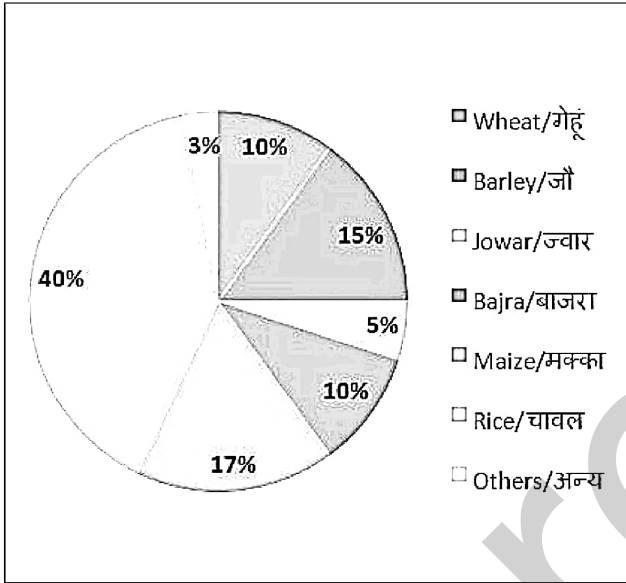
1032 रु

QID : 47 -

The pie chart below shows the distribution on land under various food crops in a village for a total cultivation area of 3000 acres.

Answer the question below based on the share of different crops as shown in the chart below.

नीचे दिए गए पाई चार्ट में एक गाँव के विभिन्न फसलों में विभाजित कुल 3000 एकड़ जोत का विवरण है। निम्नलिखित प्रश्न का उत्तर पाई चार्ट में दर्शाए गए विभिन्न फसलों के हिस्सों से संबंधित आंकड़ों के आधार पर दें।



What is the cultivation area for Maize?

मक्का के लिए जुताई का क्षेत्रफल कितना है?

Options:

- 1) 540 Acre
540 एकड़
- 2) 510 Acre
510 एकड़
- 3) 480 Acre
480 एकड़
- 4) 490 Acre
490 एकड़

Correct Answer: 510 Acre
510 एकड़

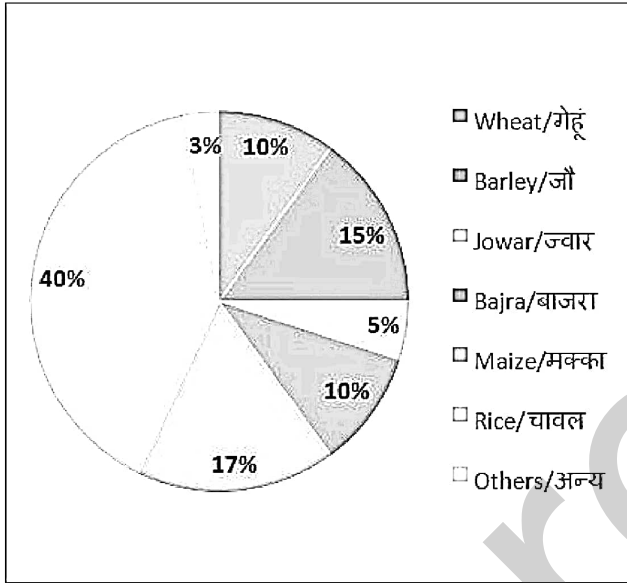
Candidate Answer: 510 Acre
510 एकड़

QID : 48 -

The pie chart below shows the distribution on land under various food crops in a village for a total cultivation area of 3000 acres.

Answer the question below based on the share of different crops as shown in the chart below.

नीचे दिए गए पाई चार्ट में एक गाँव के विभिन्न फसलों में विभाजित कुल 3000 एकड़ जोत का विवरण है। निम्नलिखित प्रश्न का उत्तर पाई चार्ट में दर्शाए गए विभिन्न फसलों के हिस्सों से संबंधित आंकड़ों के आधार पर दें।



What is the total cultivation area under the food crops of Rice and Barley?

खाद्य फसलों के तहत चावल और जौ का कुल जुताई क्षेत्रफल क्या है?

Options:

- 1) 1650 Acre
1650 एकड़
- 2) 1830 Acre
1830 एकड़
- 3) 1800 Acre
1800 एकड़
- 4) 1860 Acre
1860 एकड़

Correct Answer: 1650 Acre
1650 एकड़

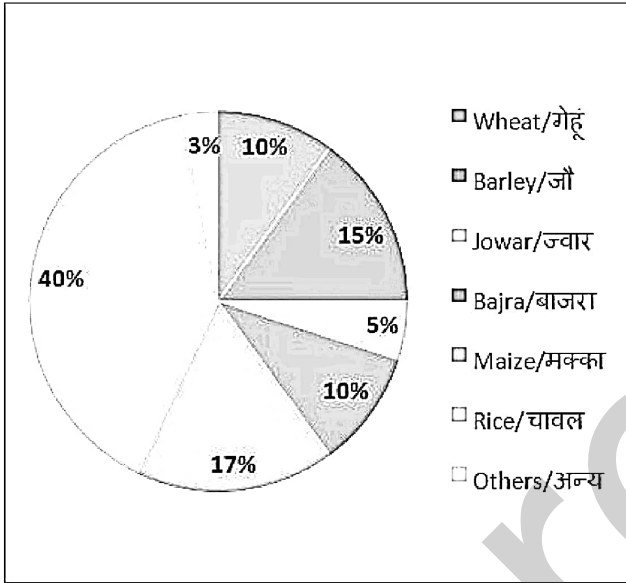
Candidate Answer: 1650 Acre
1650 एकड़

QID : 49 -

The pie chart below shows the distribution on land under various food crops in a village for a total cultivation area of 3000 acres.

Answer the question below based on the share of different crops as shown in the chart below.

नीचे दिए गए पाई चार्ट में एक गाँव के विभिन्न फसलों में विभाजित कुल 3000 एकड़ जोत का विवरण है। निम्नलिखित प्रश्न का उत्तर पाई चार्ट में दर्शाए गए विभिन्न फसलों के हिस्सों से संबंधित आंकड़ों के आधार पर दें।



Jowar, Maize and Wheat together account for how much cultivation area of the village?

ज्वार, मक्का और गेहूँ एक साथ गांव के कितने कृषिगत क्षेत्र के अंतर्गत आते हैं?

Options:

- 1) 930 Acre
930 एकड़
- 2) 990 Acre
990 एकड़
- 3) 950 Acre
950 एकड़
- 4) 960 Acre
960 एकड़

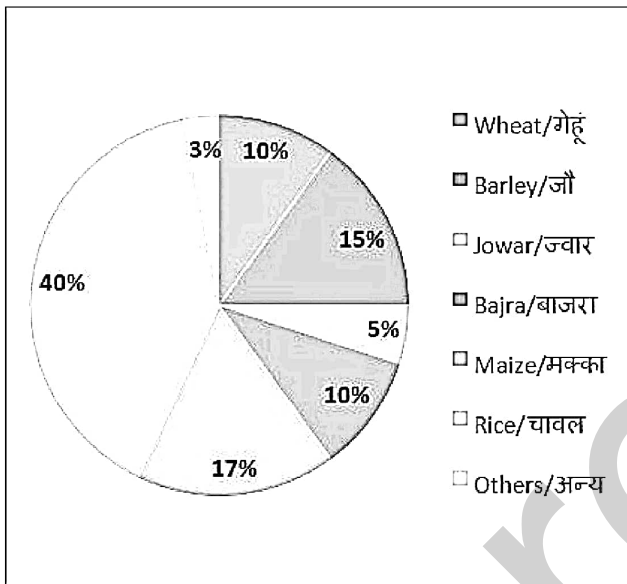
Correct Answer: 960 Acre
960 एकड़

Candidate Answer: 960 Acre
960 एकड़

QID : 50 -

The pie chart below shows the distribution on land under various food crops in a village for a total cultivation area of 3000 acres. Answer the question below based on the share of different crops as shown in the chart below.

नीचे दिए गए पाई चार्ट में एक गाँव के विभिन्न फसलों में विभाजित कुल 3000 एकड़ जोत का विवरण है। निम्नलिखित प्रश्न का उत्तर पाई चार्ट में दर्शाए गए विभिन्न फसलों के हिस्सों से संबंधित आंकड़ों के आधार पर दें।



How much cultivation area is covered under Bajra and Maize?

बाजरा और मक्का के अंतर्गत कितना कृषिगत क्षेत्र शामिल है?

Options:

- 1) 840 Acre
840 एकड़
- 2) 870 Acre
870 एकड़
- 3) 810 Acre
810 एकड़
- 4) 960 Acre
960 एकड़

Correct Answer: 810 Acre
810 एकड़

Candidate Answer: 810 Acre
810 एकड़

QID : 51 - In the following question, some part of the sentence may have errors. Find out which part of the sentence has an error and select the appropriate option. If a sentence is free from error, select 'No Error'.

Seeing a rainbow (1)/ is a sight (2)/ to behold (3)/ No error (4)

Options:

- 1) 1
- 2) 2
- 3) 3
- 4) 4

Correct Answer: 4

Candidate Answer: 2

QID : 52 - In the following question, some part of the sentence may have errors. Find out which part of the sentence has an error and select the appropriate option. If a sentence is free from error, select 'No Error'.

The poor girl slept in the attic, upon a hard straw mattress, (1)/ whilst the bed-chambers of the sisters (2)/ were furnishing with every luxury and elegance (3)/ No error (4)

Options:

- 1) 1
- 2) 2
- 3) 3
- 4) 4

Correct Answer: 3

Candidate Answer: 1

QID : 53 - In the following question, the sentence given with blank to be filled in with an appropriate word. Select the correct alternative out of the four and indicate it by selecting the appropriate option.

My family has always _____ me.

Options:

- 1) support
- 2) supported
- 3) supporting
- 4) supportive

Correct Answer: supported

Candidate Answer: supported

QID : 54 - In the following question, the sentence given with blank to be filled in with an appropriate word. Select the correct alternative out of the four and indicate it by selecting the appropriate option.

Life is a jigsaw puzzle that is hard to _____ .

Options:

- 1) solve
- 2) solved
- 3) solves
- 4) solving

Correct Answer: solve

Candidate Answer: solve

QID : 55 - In the following question, out of the given four alternatives, select the one which best expresses the meaning of the given word.

Longevity

Options:

- 1) Affinity
- 2) Broadness
- 3) Durability
- 4) Movement

Correct Answer: Durability

Candidate Answer: Durability

QID : 56 - In the following question, out of the given four alternatives, select the one which best expresses the meaning of the given word.

Aggravate

Options:

- 1) Decline
- 2) Acquire
- 3) Excited
- 4) Irritate

Correct Answer: Irritate

Candidate Answer: Decline

QID : 57 - In the following question, out of the given four alternatives, select the one which best expresses the meaning of the given word.

Yearn

Options:

- 1) Strong desire
- 2) Extra
- 3) Unwanted
- 4) Muted

Correct Answer: Strong desire

Candidate Answer: Extra

QID : 58 - In the following question, out of the given four alternatives, select the one which is opposite in meaning of the given word.

Duplicate

Options:

- 1) Copy
- 2) Original
- 3) Alternative
- 4) Replicate

Correct Answer: Original

Candidate Answer: Original

QID : 59 - In the following question, out of the given four alternatives, select the one which is opposite in meaning of the given word.

Prior

Options:

- 1) Sufficient
- 2) Subsequent
- 3) Satire
- 4) Seductive

Correct Answer: Subsequent

Candidate Answer: Subsequent

QID : 60 - In the following question, out of the given four alternatives, select the one which is opposite in meaning of the given word.

Amiable

Options:

- 1) Crabby
- 2) Affable
- 3) Amicable
- 4) Cheerful

Correct Answer: Crabby

Candidate Answer: Cheerful

QID : 61 - In the following question, out of the four given alternatives, select the alternative which best expresses the meaning of the Idiom/Phrase.

Don't put all your eggs in one basket

Options:

- 1) To put all your resources in one place
- 2) Don't put all your resources in one place
- 3) To manage expenditure wisely
- 4) To be unwise about expenses

Correct Answer: Don't put all your resources in one place

Candidate Answer: To be unwise about expenses

QID : 62 - In the following question, out of the four given alternatives, select the alternative which best expresses the meaning of the Idiom/Phrase.

Bite the bullet

Options:

- 1) To get someone drunk
- 2) Talking nonsense
- 3) Fight with others
- 4) Face unpleasant situation

Correct Answer: Face unpleasant situation

Candidate Answer: Face unpleasant situation

QID : 63 - In the following question, out of the four alternatives, select the alternative which will improve the bracketed part of the sentence. In case no improvement is needed, select "no improvement".

There are many (kind) of people in this world

Options:

- 1) variety
- 2) sizes
- 3) lengths
- 4) No improvement

Correct Answer: No improvement

Candidate Answer: sizes

QID : 64 - In the following question, out of the four alternatives, select the alternative which will improve the bracketed part of the sentence. In case no improvement is needed, select "no improvement".

When we saw her last time, (she ran) to catch a bus.

Options:

- 1) was running
- 2) has run
- 3) had run
- 4) No improvement

Correct Answer: was running

Candidate Answer: was running

QID : 65 - In the following question, out of the four alternatives, select the alternative which is best substitute of the phrase.

a strong feeling that something is about to happen, especially something unpleasant

Options:

- 1) Experience
- 2) Premonition
- 3) Perform
- 4) Effective

Correct Answer: Premonition

Candidate Answer: Premonition

QID : 66 - In the following question, out of the four alternatives, select the alternative which is best substitute of the phrase.

a public officer appointed to decide cases in a law court

Options:

- 1) Teacher
- 2) Judge
- 3) Doctor
- 4) Lawyer

Correct Answer: Judge

Candidate Answer: Judge

QID : 67 - In the following question, a word has been written in four different ways out of which only one is correctly spelt. Select the correctly spelt word.

Options:

- 1) Glamor
- 2) Glamer
- 3) Glamour
- 4) Glamore

Correct Answer: Glamour

Candidate Answer: Glamour

QID : 68 - In the following question, a word has been written in four different ways out of which only one is correctly spelt. Select the correctly spelt word.

Options:

- 1) Presure
- 2) Pressure
- 3) Precure
- 4) Pressur

Correct Answer: Pressure

Candidate Answer: Pressure

QID : 69 - The question below consists of a set of labelled sentences. These sentences, when properly sequenced form a coherent paragraph. Select the most logical order of sentences from among the options

The country

P: due to the

Q: new Prime Minister

R: is in dire straits

Options:

- 1) QRP
- 2) RPQ
- 3) PQR
- 4) QPR

Correct Answer: RPQ

Candidate Answer: RPQ

QID : 70 - The question below consists of a set of labelled sentences. These sentences, when properly sequenced form a coherent paragraph. Select the most logical order of sentences from among the options

There is

P: gap between

Q: a huge financial

R: the two families

Options:

- 1) QRP
- 2) RPQ
- 3) PQR
- 4) QPR

Correct Answer: QPR

Candidate Answer: QPR

QID : 71 - In the following passage, some of the words have been left out. Read the passage carefully and select the correct answer for the given blank out of the four alternatives.

Inhabitants of the Earth have cleared _____ forests to make fields for growing crops. They have moved mountains to make _____ for roads and cities. They have built huge dams _____ rivers to turn valleys into lakes and they have built dykes to push back the sea and create more dry land to live on. Once everyone cheered at the progress that man made in changing his _____ like this, but now many people are worried by the _____ that such changes can bring.

Inhabitants of the Earth have cleared _____ forests to make fields for growing crops.

Options:

- 1) beyond
- 2) away
- 3) absent
- 4) over

Correct Answer: away

Candidate Answer: away

QID : 72 - In the following passage, some of the words have been left out. Read the passage carefully and select the correct answer for the given blank out of the four alternatives.

Inhabitants of the Earth have cleared _____ forests to make fields for growing crops. They have moved mountains to make _____ for roads and cities. They have built huge dams _____ rivers to turn valleys into lakes and they have built dykes to push back the sea and create more dry land to live on. Once everyone cheered at the progress that man made in changing his _____ like this, but now many people are worried by the _____ that such changes can bring.

They have moved mountains to make _____ for roads

Options:

- 1) room
- 2) margin
- 3) vacuum
- 4) sweep

Correct Answer: room

Candidate Answer: room

QID : 73 - In the following passage, some of the words have been left out. Read the passage carefully and select the correct answer for the given blank out of the four alternatives.

Inhabitants of the Earth have cleared _____ forests to make fields for growing crops. They have moved mountains to make _____ for roads and cities. They have built huge dams _____ rivers to turn valleys into lakes and they have built dykes to push back the sea and create more dry land to live on. Once everyone cheered at the progress that man made in changing his _____ like this, but now many people are worried by the _____ that such changes can bring.

They have built huge dams _____ rivers

Options:

- 1) beyond
- 2) cross
- 3) across
- 4) opposite

Correct Answer: across

Candidate Answer: across

QID : 74 - In the following passage, some of the words have been left out. Read the passage carefully and select the correct answer for the given blank out of the four alternatives.

Inhabitants of the Earth have cleared _____ forests to make fields for growing crops. They have moved mountains to make _____ for roads and cities. They have built huge dams _____ rivers to turn valleys into lakes and they have built dykes to push back the sea and create more dry land to live on. Once everyone cheered at the progress that man made in changing his _____ like this, but now many people are worried by the _____ that such changes can bring.

Once everyone cheered at the progress that man made in changing his _____

Options:

- 1) environment
- 2) atmosphere
- 3) ambiance
- 4) ecology

Correct Answer: environment

Candidate Answer: ambiance

QID : 75 - In the following passage, some of the words have been left out. Read the passage carefully and select the correct answer for the given blank out of the four alternatives.

Inhabitants of the Earth have cleared _____ forests to make fields for growing crops. They have moved mountains to make _____ for roads and cities. They have built huge dams _____ rivers to turn valleys into lakes and they have built dykes to push back the sea and create more dry land to live on. Once everyone cheered at the progress that man made in changing his _____ like this, but now many people are worried by the _____ that such changes can bring.

many people are worried by the _____ that such changes can bring.

Options:

- 1) benefits
- 2) advantages
- 3) agreements
- 4) problems

Correct Answer: problems

Candidate Answer: problems

QID : 76 - Which among the following is a characteristic of organized sector of economy?

निम्नलिखित में से कौन सा अर्थव्यवस्था के संगठित क्षेत्र का एक लक्षण है?

Options:

- 1) Jobs are low-paid and often not regular
नौकरी कम-भुगतान की तथा अक्सर अनियमित होती हैं
- 2) Employment is secure
रोजगार सुरक्षित होता है
- 3) Consist of small and scattered units which are largely outside the control of the government
छोटे तथा बिखरे हुए बड़े पैमाने पर सरकार के नियंत्रण से बाहर रहने वाली इकाइयों को संश्लेषित करता है
- 4) There is no provision for overtime, paid leave, holidays etc.
ओवरटाइम, वैतनिक अवकाश, छुट्टियाँ आदि के लिए कोई प्रावधान नहीं होता

Correct Answer: Employment is secure

रोजगार सुरक्षित होता है

Candidate Answer: Employment is secure

रोजगार सुरक्षित होता है

QID : 77 - What are loan from banks and cooperatives is called?

बैंकों तथा सहकारी समितियों से ऋण क्या कहलाते हैं?

Options:

- 1) Formal sector loans
औपचारिक क्षेत्र ऋण
- 2) Informal sector loans
अनौपचारिक क्षेत्र ऋण
- 3) General loans
सामान्य ऋण
- 4) Commercial loans
वाणिज्यिक ऋण

Correct Answer: Formal sector loans

औपचारिक क्षेत्र ऋण

Candidate Answer: Commercial loans

वाणिज्यिक ऋण

QID : 78 - The constitution of India recognises the right to water as being a part of the Right to life under _____.

भारतीय संविधान के _____ के अंतर्गत पानी के अधिकार को जीवन के अधिकार का हिस्सा माना गया है।

Options:

- 1) Article 15
अनुच्छेद 15
- 2) Article 32
अनुच्छेद 32
- 3) Article 21
अनुच्छेद 21
- 4) Article 30
अनुच्छेद 30

Correct Answer: Article 21

अनुच्छेद 21

Candidate Answer: Article 15

अनुच्छेद 15

QID : 79 - Who among the following is an example of Permanent executive?

निम्नलिखित में से कौन स्थायी कार्यकारी का एक उदाहरण है?

Options:

- 1) Prime Minister
प्रधानमंत्री
- 2) Finance Minister
वित्त मंत्री
- 3) Defence Minister
रक्षा मंत्री
- 4) District collector
जिला कलेक्टर

Correct Answer: District collector
जिला कलेक्टर

Candidate Answer: District collector
जिला कलेक्टर

QID : 80 - In which language did Gautama Buddha taught?

गौतम बुद्ध ने कौन सी भाषा में शिक्षा दी थी?

Options:

- 1) Hindi
हिन्दी
- 2) Tamil
तमिल
- 3) Sanskrit
संस्कृत
- 4) Prakrit
प्राकृत

Correct Answer: Prakrit
प्राकृत

Candidate Answer: Prakrit
प्राकृत

QID : 81 - Where did Bahadur Shah Zafar died in November 1862?

नवंबर 1862 में बहादुर शाह ज़फर की मृत्यु कहाँ हुई थी?

Options:

- 1) Delhi
दिल्ली
- 2) Agra
आगरा
- 3) Rangoon
रंगून
- 4) Lucknow
लखनऊ

Correct Answer: Rangoon
रंगून

Candidate Answer: Rangoon
रंगून

QID : 82 - What is the period of rotation of Earth around its axis is called?

पृथ्वी के अपने अक्ष पर चक्कर लगाने के समय काल को क्या कहा जाता है?

Options:

- 1) Day time
दिन का समय
- 2) Rotation period
रोटेशन अवधि
- 3) Daily motion
दैनिक गति
- 4) None of these
इनमें से कोई नहीं

Correct Answer: Rotation period
रोटेशन अवधि

Candidate Answer: Rotation period
रोटेशन अवधि

QID : 83 - Which among the following is **NOT** a type of mountain?

निम्नलिखित में से कौन एक पर्वत का प्रकार **नहीं** है?

Options:

- 1) Fold Mountain
वलित पर्वत
- 2) Block Mountain
भ्रंशोत्थ पर्वत
- 3) Hidden Mountain
प्रच्छन्न पर्वत
- 4) Volcanic Mountain
ज्वालामुखी पर्वत

Correct Answer: Hidden Mountain
प्रच्छन्न पर्वत

Candidate Answer: Hidden Mountain
प्रच्छन्न पर्वत

QID : 84 - Antiscorvy vitamin is _____.

एंटीस्कर्वी विटामिन _____ है।

Options:

- 1) K
के
- 2) B₁₂
बी₁₂

- 3) B₂
बी₂

- 4) C
सी

Correct Answer: C

सी

Candidate Answer: C

सी

QID : 85 - Choose an animal which possesses an open circulatory system.

एक जानवर का चयन करें जिसमें एक खुली परिसंचरण प्रणाली होती है।

Options:

- 1) Rabbit
खरगोश
- 2) Cockroach
तिलचट्टा
- 3) Lion
शेर
- 4) Whale
व्हेल

Correct Answer: Cockroach

तिलचट्टा

Candidate Answer: Cockroach

तिलचट्टा

QID : 86 - The advantage of RBC's being biconcave is that _____.

आरबीसी के उभयावतल होने का लाभ यह है कि _____।

Options:

- 1) They increase surface area
वह सतह क्षेत्र को बढ़ाते हैं
- 2) They look good
वह अच्छे दिखते हैं
- 3) They decrease the surface area
वह सतह क्षेत्र को कम करते हैं
- 4) None of these
इनमें से कोई नहीं

Correct Answer: They increase surface area

वह सतह क्षेत्र को बढ़ाते हैं

Candidate Answer: They increase surface area

वह सतह क्षेत्र को बढ़ाते हैं

QID : 87 - External forces _____.

बाहरी बल _____।

Options:

- 1) are always balanced
हमेशा संतुलित होते हैं
- 2) are never balanced
कभी संतुलित नहीं होते हैं
- 3) may or may not be balanced
हो सकता है या संतुलित न हो
- 4) are always in equal
हमेशा समान होते हैं

Correct Answer: may or may not be balanced

हो सकता है या संतुलित न हो

Candidate Answer: may or may not be balanced

हो सकता है या संतुलित न हो

QID : 88 - SONAR is based on the principle of _____.

सोनार _____ के सिद्धांत पर आधारित है।

Options:

- 1) echo
इको
- 2) resonance
प्रतिध्वनि
- 3) mass
द्रव्यमान
- 4) velocity
वेग

Correct Answer: echo

इको

Candidate Answer: echo
इको

QID : 89 - What is the process of finding and removing errors in the program is called?

प्रोग्राम में त्रुटियों को खोजने तथा हटाने की प्रक्रिया क्या कहलाती है?

Options:

- 1) Assembling
एसेंबलिंग
- 2) Rectifying
रेक्टिफाइंग
- 3) Debugging
डीबगिंग
- 4) Encoding
इनकोडिंग

Correct Answer: Debugging
डीबगिंग

Candidate Answer: Debugging
डीबगिंग

QID : 90 - Sodium bicarbonate is also known as _____.

सोडियम बाइकार्बोनेट को _____ के रूप में भी जाना जाता है।

Options:

- 1) Washing soda
वाशिंग सोडा
- 2) Baking soda
बेकिंग सोडा
- 3) Glauber's salt
ग्लौबर का नमक
- 4) Lime soda
लाइम सोडा

Correct Answer: Baking soda
बेकिंग सोडा

Candidate Answer: Baking soda
बेकिंग सोडा

QID : 91 - Water gas is a mixture of _____.

जल गैस _____ का एक मिश्रण है।

Options:

- 1) CO and N₂
CO तथा N₂
- 2) CO₂ and H₂O
CO₂ तथा H₂O
- 3) CO and H₂
CO तथा H₂
- 4) CO₂ and N₂O
CO₂ तथा N₂O

Correct Answer: CO and H₂
CO तथा H₂

Candidate Answer: CO₂ and H₂O
CO₂ तथा H₂O

QID : 92 - Which among the following shows unidirectional flow in an ecosystem?

निम्नलिखित में से कौन एक पारिस्थितिकी तंत्र में एकदिशीय प्रवाह दर्शाता है?

Options:

- 1) Carbon
कार्बन
- 2) Oxygen
ऑक्सीजन
- 3) Nitrogen
नाइट्रोजन
- 4) Energy
ऊर्जा

Correct Answer: Energy
ऊर्जा

Candidate Answer: Carbon
कार्बन

QID : 93 - From which state was the Pradhan Mantri Ujjwala Yojana launched?

प्रधानमंत्री उज्ज्वला योजना का शुभआरंभ किस राज्य से हुआ था?

Options:

- 1) Bihar
बिहार
- 2) Uttar Pradesh
उत्तर प्रदेश
- 3) West Bengal
पश्चिम बंगाल
- 4) Jharkhand
झारखण्ड

Correct Answer: Uttar Pradesh
उत्तर प्रदेश

Candidate Answer: Jharkhand
झारखण्ड

QID : 94 - Who gave the theory of Atom?

एटम के सिद्धांत किसने दिया?

Options:

- 1) Galileo
गैलीलियो
- 2) John Dalton
जॉन डाल्टन
- 3) Euclid
यूक्लिड
- 4) Gay Lussac
गे लूसैक

Correct Answer: John Dalton
जॉन डाल्टन

Candidate Answer: John Dalton
जॉन डाल्टन

QID : 95 - Nitin Tomar' is associated with which sports?

'नितिन तोमर' किस खेल से जुड़े हैं?

Options:

- 1) Kabaddi
कबड्डी
- 2) Football
फुटबॉल
- 3) Hockey
हॉकी
- 4) Cricket
क्रिकेट

Correct Answer: Kabaddi
कबड्डी

Candidate Answer: Hockey
हॉकी

QID : 96 - What is the typical style of temple architecture of South India developed by the Cholas called?

चोलों द्वारा विकसित दक्षिण भारत के मंदिर की वास्तुकला की विशिष्ट शैली क्या है?

Options:

- 1) Nagara Style
नागर शैली
- 2) Dravida style
द्रविड़ शैली
- 3) Cave style
गुफा शैली
- 4) Greek Style
यूनानी शैली

Correct Answer: Dravida style
द्रविड़ शैली

Candidate Answer: Dravida style
द्रविड़ शैली

QID : 97 - Who has been awarded the prestigious Mother Teresa International Award 2016?

किससे 2016 के प्रतिष्ठित मदर टेरेसा अंतर्राष्ट्रीय पुरस्कार से सम्मानित किया गया?

Options:

- 1) Shaikh Abdullah
शेख अब्दुल्ला
- 2) Zakir Naik
ज़ाकिर नायक
- 3) Dalai lama
दलाई लामा
- 4) Malala Yousufzai
मलाला यूसुफ़ज़ई

Correct Answer: Shaikh Abdullah
शेख अब्दुल्ला

Candidate Answer: Dalai lama
दलाई लामा

QID : 98 - Who is the author of the book named "Meghdoot"?

"मेघदूत" नामक पुस्तक के लेखक कौन हैं?

Options:

- 1) Kalidas
कालिदास
- 2) Manu
मनु
- 3) Abul-Fazl
अबुल फजल
- 4) Tulsidas
तुलसीदास

Correct Answer: Kalidas
कालिदास

Candidate Answer: Kalidas
कालिदास

QID : 99 - With which country India has signed an open skies agreement, the first after the finalization of the civil aviation policy?

नागरिक उड्डयन नीति को अंतिम रूप देने के बाद पहली बार किस देश से भारत ने एक खुले आसमान समझौते पर हस्ताक्षर किए हैं?

Options:

- 1) France
फ्रांस
- 2) Germany
जर्मनी
- 3) Cuba
क्यूबा
- 4) Greece
यूनान

Correct Answer: Greece
यूनान

Candidate Answer: France
फ्रांस

QID : 100 - India and Pakistan have agreed on redesigning which Hydroelectric project?

भारत तथा पाकिस्तान किस हाइड्रोइलेक्ट्रिक परियोजना को नया स्वरूप देने के लिए सहमत हुए हैं?

Options:

- 1) Kishanganga
किशनगंगा
- 2) Miyar
मियार
- 3) Lower Kalni
लोअर कलनी
- 4) Ratle
रैटल

Correct Answer: Miyar
मियार

Candidate Answer: Ratle
रैटल