



Staff Selection Commission
(Government Of India)

REGISTRATION NUMBER : examstocks.com

EXAM DATE : 13-October-2017

EXAM NAME : SSC Examination TOTAL

MARKS : 150

CANDIDATE NAME : examstocks.com

EXAM

START TIME : 16:30:00

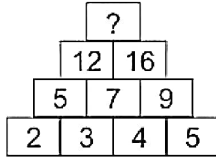
EXAM DURATION : 01:30 Hrs

TOTAL NO OF QUESTIONS : 100

QID : 201 -

In the following question, select the number which can be placed at the sign of question mark (?) from the given alternatives.

निम्नलिखित प्रश्न में दिए गए विकल्पों में से प्रश्न चिह्न (?) के स्थान पर आने वाली संख्या को चुनिए।



Options:

- 1) 27
- 2) 28
- 3) 26
- 4) 25

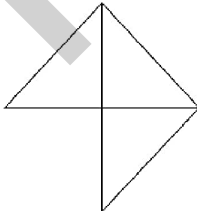
Correct Answer: 28

Candidate Answer: 28

QID : 202 -

How many triangles are there in the given figure?

दी गई आकृति में कितने त्रिभुज हैं?



Options:

- 1) 3
- 2) 4
- 3) 5
- 4) 7

Correct Answer: 5

Candidate Answer: 5

QID : 203 -

A word is represented by only one set of numbers as given in any one of the alternatives. The sets of numbers given in the alternatives are represented by two classes of alphabets as shown in the given two matrices. The columns and rows of **Matrix-I** are numbered from 0 to 4 and that of **Matrix-II** are numbered from 5 to 9. A letter from these matrices can be represented first by its row and next by its column, for example, 'J' can be represented by 42, 87, etc., and 'N' can be represented by 04, 89, etc. Similarly, you have to identify the set for the word "REACT".

एक शब्द केवल एक संख्या-समूह द्वारा दर्शाया गया है, जैसा कि विकल्पों में से किसी एक में दिया गया है। विकल्पों में दिए गए संख्या-समूह अक्षरों के दो वर्गों द्वारा दर्शाए गए हैं, जैसा कि दिए गए दो आव्यूहों में है। आव्यूह-I के स्तम्भ और पंक्ति की संख्या 0 से 4 है और आव्यूह-II की 5 से 9। इन आव्यूहों से एक अक्षर को पहले उसकी पंक्ति और बाद में स्तम्भ संख्या द्वारा दर्शाया जा सकता है। उदाहरण के लिए 'J' को 42, 87, आदि द्वारा दर्शाया जा सकता है तथा 'N' को 04, 89, आदि द्वारा दर्शाया जा सकता है। इसी तरह से आपको प्रश्न में दिए शब्द "REACT" के लिए समूह को पहचानना है।

Matrix-I आव्यूह-I					Matrix-II आव्यूह-II						
	0	1	2	3	4	5	6	7	8	9	
0	A	E	T	S	N	5	Z	G	W	I	Q
1	L	M	I	C	I	6	Y	M	B	T	A
2	U	E	S	V	X	7	L	Q	Z	Y	D
3	D	G	W	L	R	8	F	E	J	T	N
4	O	K	J	C	Z	9	U	I	Y	V	G

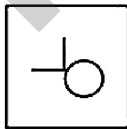
Options:

- 1) 34, 01, 00, 88, 02
- 2) 13, 21, 31, 02, 44
- 3) 34, 86, 69, 13, 68
- 4) 34, 23, 21, 43, 88

Correct Answer: 34, 86, 69, 13, 68**Candidate Answer:** 34, 86, 69, 13, 68**QID : 204 -**

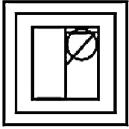
From the given answer figures, select the one in which the question figure is hidden/embedded.

दी गई उत्तर आकृतियों में से उस उत्तर आकृति को चुनिए जिस में प्रश्न आकृति निहित है।

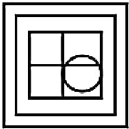


Options:

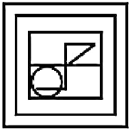
1)



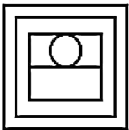
2)



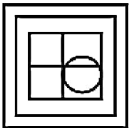
3)



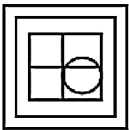
4)



Correct Answer:



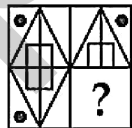
Candidate Answer:



QID : 205 -

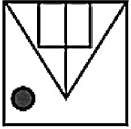
Which answer figure will complete the pattern in the question figure?

कौन सी उत्तर आकृति प्रश्न आकृति के प्रतिरूप को पूरा करेगी?

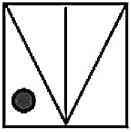


Options:

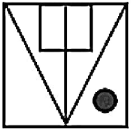
1)



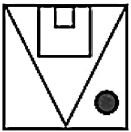
2)



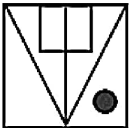
3)



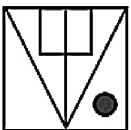
4)



Correct Answer:



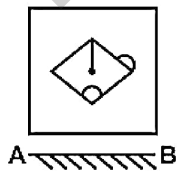
Candidate Answer:



QID : 206 -

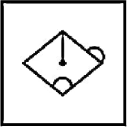
If a mirror is placed on the line AB, then which of the answer figures is the right image of the given figure?

यदि एक दर्पण को AB रेखा पर रखा जाए, तो दी गई उत्तर आकृतियों में से कौन सी आकृति प्रश्न आकृति की सही प्रतिबिम्ब होगी?

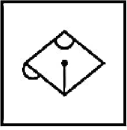


Options:

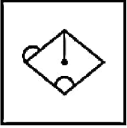
1)



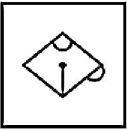
2)



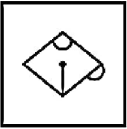
3)



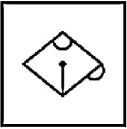
4)



Correct Answer:



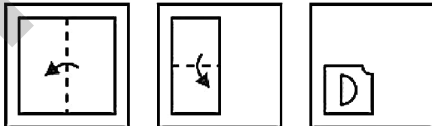
Candidate Answer:



QID : 207 -

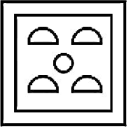
A piece of paper is folded and punched as shown below in the question figures. From the given answer figures, indicate how it will appear when opened?

नीचे के प्रश्न आकृतियों में दिखाए अनुसार कागज को मोड़कर छेदने तथा खोलने के बाद वह किस उत्तर आकृति जैसा दिखाई देगा?

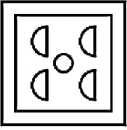


Options:

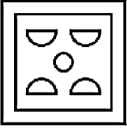
1)



2)



3)



4)



Correct Answer:



Candidate Answer:



QID : 208 - By interchanging given two signs and two numbers which equation will be correct?

x and +, 2 and 6

दिए गए दो चिह्नों तथा दो अंकों को आपस में परस्पर बदलने पर कौन सा समीकरण सही हो जाएगा?

x तथा +, 2 तथा 6

Options:

1) $2 + 3 \div 6 \times 4 = 13$

2) $2 \div 6 + 3 \times 4 = 10$

3) $4 \times 3 + 2 - 6 = 11$

4) $3 + 4 \div 6 \times 2 = 9$

Correct Answer: $2 + 3 \div 6 \times 4 = 13$ Candidate Answer: $2 + 3 \div 6 \times 4 = 13$

QID : 209 - If $8 @ 4 @ 2 = 1$ and $27 @ 9 @ 3 = 1$, then

49 @ 7 @ 7 = ?

यदि $8 @ 4 @ 2 = 1$ तथा $27 @ 9 @ 3 = 1$ हो, तो

49 @ 7 @ 7 = ?

Options:

1) 2

2) -1

3) 3

4) 1

Correct Answer: 1

Candidate Answer: 1

QID : 210 - Arrange the given words in the sequence in which they occur in the dictionary.

1. Monday
2. Murder
3. Muggot
4. Monkey
5. Monster

निम्नलिखित शब्दों को शब्दकोश में आने वाले क्रम के अनुसार लिखें।

1. Monday
2. Murder
3. Muggot
4. Monkey
5. Monster

Options:

- 1) 15432
- 2) 14532
- 3) 15423
- 4) 14523

Correct Answer: 14532

Candidate Answer: 14532

QID : 211 - In the following question, select the missing number from the given series.

5, 8, 14, 23, ?, 50

निम्नलिखित प्रश्न में दिए गए विकल्पों में से लुप्त अंक ज्ञात कीजिए।

5, 8, 14, 23, ?, 50

Options:

- 1) 34
- 2) 35
- 3) 36
- 4) 37

Correct Answer: 35

Candidate Answer: 35

QID : 212 - A series is given with one term missing. Select the correct alternative from the given ones that will complete the series.

pam, qcn, reo, ?, tiq

एक अनुक्रम दिया गया है, जिसमें से एक पद लुप्त है। दिए गए विकल्पों में से वह सही विकल्प चुनिए, जो अनुक्रम को पूरा करे।

pam, qcn, reo, ?, tiq

Options:

- 1) sfq
- 2) sgp
- 3) shq
- 4) sfp

Correct Answer: sgp

Candidate Answer: sgp

QID : 213 - In the following question, select the odd word from the given alternatives.

निम्नलिखित प्रश्न में दिए गए विकल्पों में से विषम शब्द को चुनिए।

Options:

- 1) Shirt
कमीज़
- 2) Socks
मोज़े
- 3) Pant
पतलून
- 4) Sweater
स्वेटर

Correct Answer: Pant

पतलून

Candidate Answer: Socks

मोज़े

QID : 214 - In the following question, select the odd number from the given alternatives.

निम्नलिखित प्रश्न में दिए गए विकल्पों में से विषम संख्या को चुनिए।

Options:

- 1) 83
- 2) 93
- 3) 65
- 4) 25

Correct Answer: 83**Candidate Answer:** 93**QID : 215** - In the following question, select the odd letters from the given alternatives.

निम्नलिखित प्रश्न में दिए गए विकल्पों में से विषम अक्षरों को चुनिए।

Options:

1) mark

2) shell

3) mall

4) bark

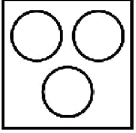
Correct Answer: shell**Candidate Answer:** mall**QID : 216** - Identify the diagram that best represents the relationship among the given classes.**Guava, Apple, Banana**

वह आरेख चुनिए जो नीचे दिए गए वर्गों के बीच के संबंध का सही निरूपण करता है।

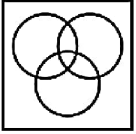
अमरूद, सेब, केला

Options:

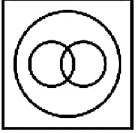
1)



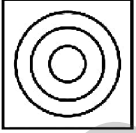
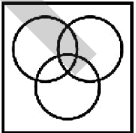
2)



3)



4)

**Correct Answer:****Candidate Answer:****QID : 217** - In the following question, select the related word pair from the given alternatives.**Time : Seconds :: ? : ?**

निम्नलिखित प्रश्न में दिए गए विकल्पों में से संबंधित शब्द युग्म को चुनिए।

समय : सेकण्ड :: ? : ?

Options:

1) Distance : Kilometre

दूरी : किलोमीटर

2) Speed : Time

गति : समय

3) Pressure : Seconds

दाब : सेकण्ड

4) Temperature : Metre

तापमान : मीटर

Correct Answer: Distance : Kilometre

दूरी : किलोमीटर

Candidate Answer: Speed : Time

गति : समय

QID : 218 - In the following question, select the related number from the given alternatives.**288 : 72 :: 576 : ?**

निम्नलिखित प्रश्न में दिए गए विकल्पों में से संबंधित संख्या को चुनिए।

288 : 72 :: 576 : ?**Options:**

1) 500

2) 144

3) 140

4) 134

Correct Answer: 144**Candidate Answer:** 144**QID : 219** - In the following question, select the related letters from the given alternatives.**mate : ncug :: goat : ?**

निम्नलिखित प्रश्न में दिए गए विकल्पों में से संबंधित अक्षरों को चुनिए।

mate : ncug :: goat : ?**Options:**

1) iqbv

2) hpbu

3) ipcw

4) hqbw

Correct Answer: hqbw**Candidate Answer:** hqbw**QID : 220** - In the following question, select the word which cannot be formed using the letters of the given word.**IMPATIENCE**

निम्नलिखित विकल्पों में से वह शब्द चुनिए जो दिए गए शब्द के अक्षरों का प्रयोग करके नहीं बनाया जा सकता।

IMPATIENCE**Options:**

1) TIME

2) CRATE

3) TAPE

4) MATE

Correct Answer: CRATE**Candidate Answer:** CRATE**QID : 221** - In a row of 67 students, B is 24th from left end. What is his place from the right end?

67 छात्रों की एक पंक्ति में, B बायीं ओर से 24-वां है। दायीं ओर से उसका स्थान क्या है?

Options:

1) 43

2) 44

3) 42

4) 45

Correct Answer: 44**Candidate Answer:** 44

QID : 222 - P is brother of Q. Q is sister of R. R is son of S. T is sister of S. How is T related to Q?

P, Q का भाई है। Q, R की बहन है। R, S का पुत्र है। T, S की बहन है। T, Q से किस प्रकार संबंधित है?

Options:

- 1) Aunty
बुआ
- 2) Mother
माता
- 3) Sister
बहन
- 4) Grandmother
दादी

Correct Answer: Aunty

बुआ

Candidate Answer: Aunty

बुआ

QID : 223 - In the following question below are given some statements followed by some conclusions. Taking the given statements to be true even if they seem to be at variance from commonly known facts, read all the conclusions and then decide which of the given conclusion logically follows the given statements.

Statements:

- I. Some W are V.
- II. All V are T.

Conclusions:

- I. Some T are W.
- II. Some V are not W.

नीचे दिए गए प्रश्न में कुछ कथन और उनके बाद उन कथनों पर आधारित कुछ निष्कर्ष दिए गए हैं, हालांकि उनमें सामान्य ज्ञात तथ्यों से भिन्नता हो सकती है। सभी निष्कर्ष पढ़ें और फिर निर्धारित करें कि दिए गए कौन से निष्कर्ष, दिए गए कथनों के आधार पर युक्तिसंगत हैं।

कथन:

- I. कुछ W, V हैं।
- II. सभी V, T हैं।

निष्कर्ष:

- I. कुछ T, W हैं।
- II. कुछ V, W नहीं हैं।

Options:

- 1) Only conclusion (I) follows.
केवल निष्कर्ष (I) सही है।
- 2) Only conclusion (II) follows.
केवल निष्कर्ष (II) सही है।
- 3) Both conclusion follow.
दोनों ही निष्कर्ष सही हैं।
- 4) Neither conclusion (I) nor conclusion (II) follows.
न तो निष्कर्ष (I) न ही निष्कर्ष (II) सही है।

Correct Answer: Only conclusion (I) follows.

केवल निष्कर्ष (I) सही है।

Candidate Answer: Only conclusion (I) follows.

केवल निष्कर्ष (I) सही है।

QID : 224 - In a certain code language, "ACID" is written as "BELH". How is "LETS" written in that code language?

एक विशिष्ट कोड भाषा में, "ACID" को "BELH" लिखा जाता है। इस कोड भाषा में "LETS" को किस प्रकार लिखा जाएगा?

Options:

- 1) MGWW
- 2) MFWW
- 3) MGWV
- 4) NGYW

Correct Answer: MGWW

Candidate Answer: MGWW

QID : 225 - In a certain code language, "CUP" is written as "45" and "CUM" is written as "42". How is "ICE" written in that code language?

एक विशिष्ट कोड भाषा में, "CUP" को "45" तथा "CUM" को "42" लिखा जाता है। इस कोड भाषा में "ICE" को किस प्रकार लिखा जाएगा?

Options:

- 1) 22
- 2) 23
- 3) 20
- 4) 17

Correct Answer: 22

Candidate Answer: 22

QID : 226 - Irfan bought a chair for Rs 517 with a discount of 6% on the marked price. Find the marked price of the chair.

इरफान ने एक कुर्सी अंकित मूल्य पर 6% की छूट के बाद 517 रु में खरीदी। कुर्सी का अंकित मूल्य बताएं।

Options:

- 1) Rs 580
580 रु
- 2) Rs 520
520 रु
- 3) Rs 550
550 रु
- 4) Rs 540
540 रु

Correct Answer: Rs 550
550 रु

Candidate Answer: Rs 550
550 रु

QID : 227 - The sum of all odd whole numbers between 8 and 32 is ____.

8 और 32 के बीच के सभी पूर्ण विषम संख्याओं का योग ____ है।

Options:

- 1) 240
- 2) 320
- 3) 360
- 4) 260

Correct Answer: 240

Candidate Answer: 240

QID : 228 - How many whole numbers are there between 52 and 356 which are exactly divisible by 6?

52 और 356 के बीच 6 से पूर्णतः विभाजित होने वाली कितनी पूर्ण संख्याएं हैं?

Options:

- 1) 49
- 2) 51
- 3) 53
- 4) 55

Correct Answer: 51

Candidate Answer: [NOT ANSWERED]

QID : 229 - What is the sum of all 3-digit natural numbers divisible by 17?

17 से विभाजित होने वाली 3 अंकों की सभी प्राकृत संख्याओं का योग क्या है?

Options:

- 1) 28736
- 2) 28632
- 3) 28832
- 4) 28732

Correct Answer: 28832

Candidate Answer: [NOT ANSWERED]

QID : 230 - When a manufacturer allows 10% commission on the wholesale price of Rs 5000 for a particular item, he earns a profit of 25 %. How much profit does the manufacturer earn on that item?

जब एक निर्माता 5000 रु के किसी खास वस्तु के थोक मूल्य पर 10% कमीशन देता है, तो उसे 25% लाभ होता है। निर्माता उस वस्तु पर कितना लाभ कमाता है?

Options:

- 1) Rs 1000
1000 रु
- 2) Rs 800
800 रु
- 3) Rs 500
500 रु
- 4) Rs 900
900 रु

Correct Answer: Rs 900
900 रु

Candidate Answer: Rs 900
900 रु

QID : 231 - A bus runs at an average speed of 32 kms/hr. If it completes 304 km long-journey with a break of 30 minutes, what is the total time taken during the journey?

एक बस 32 किमी/घंटा की औसत गति से चलती है। यदि यह 304 किमी की यात्रा 30 मिनट के विराम के साथ पूरा करती है, तो यात्रा पूरा होने में कितना समय लगेगा?

Options:

- 1) 12 hrs
12 घंटे
- 2) 11 hrs
11 घंटे
- 3) 10 hrs
10 घंटे
- 4) 9 hrs
9 घंटे

Correct Answer: 10 hrs
10 घंटे

Candidate Answer: 9 hrs
9 घंटे

QID : 232 - Find value of (62% of 650) + (45% of 340).

(650 का 62%) + (340 का 45%) का मान ज्ञात करें।

Options:

- 1) 556
- 2) 506
- 3) 553
- 4) 453

Correct Answer: 556

Candidate Answer: 556

QID : 233 - A can do a piece of work in 4 days. B and C together can do it in 3 days, while A and C together can do it in 2 days. How many days will B take to do the work alone?

A किसी काम को 4 दिनों में कर सकता है। B और C साथ मिलकर उसी काम को 3 दिनों में कर सकते हैं, जबकि A और C साथ मिलकर उसी काम को 2 दिनों में कर सकते हैं। B अकेले उस काम को कितने दिनों में करेगा?

Options:

- 1) 8 days
8 दिन
- 2) 12 days
12 दिन
- 3) 10 days
10 दिन
- 4) 16 days
16 दिन

Correct Answer: 12 days
12 दिन

Candidate Answer: 12 days
12 दिन

QID : 234 - The average of 5, 7, 12, 15 and X is 10. What will be the value of Y if the average of 9, 12, 13, 17, X and Y is 14?

5, 7, 12, 15 और X का औसत 10 है। यदि 9, 12, 13, 17, X और Y का औसत 14 है, तो Y का मान क्या होगा?

Options:

- 1) 12
- 2) 13
- 3) 20
- 4) 22

Correct Answer: 22

Candidate Answer: 22

QID : 235 - A shopkeeper offers 23% discount on a bag with a marked price of Rs 4500. If he still earns a profit of Rs 600, what is the cost price of the bag?

एक दुकानदार 4500 रु अंकित मूल्य वाले एक बैग पर 23% छूट देता है। अगर फिर भी वह 600 रु का लाभ कमाता है, तो बैग का क्रय मूल्य क्या है?

Options:

- 1) Rs 3900
3900 रु
- 2) Rs 2865
2865 रु
- 3) Rs 2965
2965 रु
- 4) Rs 3465
3465 रु

Correct Answer: Rs 2865
2865 रु

Candidate Answer: Rs 2865
2865 रु

QID : 236 - The total surface area of a cube is 726 cm². What is the volume of this cube?

एक घन का सम्पूर्ण पृष्ठ क्षेत्रफल 726 सेमी² है। इस घन का आयतन क्या है?

Options:

- 1) 1231 cm³
1231 सेमी³
- 2) 1331 cm³
1331 सेमी³
- 3) 1431 cm³
1431 सेमी³
- 4) 1531 cm³
1531 सेमी³

Correct Answer: 1331 cm³
1331 सेमी³

Candidate Answer: 1531 cm³
1531 सेमी³

QID : 237 - What least number must be added to 748 so that the sum is completely divisible by 59?

748 में कम से कम कितनी संख्या जोड़नी चाहिए ताकि कुल योग 59 से पूर्ण विभाज्य हो जाए?

Options:

- 1) 21
- 2) 13
- 3) 19
- 4) 7

Correct Answer: 19

Candidate Answer: 19

QID : 238 - What will be the annual simple interest rate if a principal amount of Rs 88,000 becomes Rs 1,61,920 in 6 years?

अगर 88,000 रु का मूलधन 6 वर्षों में 1,61,920 रु हो जाता है, तो साधारण ब्याज की वार्षिक दर क्या होगी?

Options:

- 1) 11%
- 2) 12%
- 3) 13%
- 4) 14%

Correct Answer: 14%

Candidate Answer: 14%

QID : 239 - The monthly salaries of A and B are in the ratio 5:6. If both of them get a salary increment of Rs 2000 per month, the new ratio becomes 11:13. What is the new monthly salary of A?

A तथा B के मासिक वेतनों का अनुपात 5:6 है। अगर दोनों को 2000 रु की मासिक वेतन वृद्धि मिलती है, तो नया अनुपात 11:13 हो जाता है। A का नया मासिक वेतन क्या है?

Options:

- 1) Rs 20000
20000 रु
- 2) Rs 24000
24000 रु
- 3) Rs 26000
26000 रु
- 4) Rs 22000
22000 रु

Correct Answer: Rs 22000
22000 रु

Candidate Answer: Rs 24000
24000 रु

QID : 240 - A bullock cart covers a distance of 10 kms in 4 hours. What is the average speed of the bullock cart?

एक बैलगाड़ी 10 किमी की दूरी 4 घंटे में तय करती है। उसकी औसत गति क्या है?

Options:

- 1) 8 km
8 किमी.
- 2) 2.5 km/hr
2.5 किमी./घंटा
- 3) 2 km/hr
2 किमी./घंटा
- 4) 10 km/hr
10 किमी./घंटा

Correct Answer: 2.5 km/hr
2.5 किमी./घंटा

Candidate Answer: 2.5 km/hr
2.5 किमी./घंटा

QID : 241 - How many of the following numbers are divisible by 32?

192, 1008, 832, 656, 1264, 1822

निम्नांकित में से कितनी संख्याएँ 32 से विभाज्य हैं?

192, 1008, 832, 656, 1264, 1822

Options:

- 1) 2
- 2) 3
- 3) 4
- 4) 5

Correct Answer: 2**Candidate Answer:** 2

QID : 242 - Price of a house came down by 10% during recession. After one year, the price increased by 15%. What was the effective percentage change over the original price?

मंदी के दौरान एक घर की कीमत 10% कम हो गई। एक साल बाद कीमत में 15% की वृद्धि हुई। घर के मूल कीमत में कितने प्रतिशत का बदलाव हुआ?

Options:

- 1) 5%
- 2) 8%
- 3) 3.5%
- 4) 4.5%

Correct Answer: 3.5%**Candidate Answer:** 3.5%

QID : 243 - A shopkeeper buys a dozen umbrella for Rs 1200. Two of the umbrellas were damaged during transportation. Find his profit percentage, if he sells rest of the umbrellas at Rs 150 each?

एक दुकानदार एक दर्जन छाते 1200 रु में खरीदता है। दो छाते दुलाई के दौरान टूट गए। अब अगर दुकानदार प्रति छाता 150 रु में बेचता है, तो उसका लाभ प्रतिशत ज्ञात करें।

Options:

- 1) 20%
- 2) 15%
- 3) 25%
- 4) 10%

Correct Answer: 25%**Candidate Answer:** 25%

QID : 244 - Rahul does complete a work in 25 hours. If Rajesh is 25% more efficient than Rahul then how much hours will Rajesh take to complete the same work?

राहुल एक काम को 25 घंटे में पूरा करता है। यदि राजेश, राहुल से 25% अधिक कार्य कुशल है तो राजेश उस काम को पूरा करने के लिए कितने घंटे लेता है?

Options:

- 1) 20 hrs
20 घंटे
- 2) 30 hrs
30 घंटे
- 3) 21 hrs
21 घंटे
- 4) 22 hrs
22 घंटे

Correct Answer: 20 hrs

20 घंटे

Candidate Answer: 20 hrs

20 घंटे

QID : 245 - If Rs 1638 is divided in the ratio of 8:7:11 among A, B and C respectively, what will be the share of C?

अगर 1638 रु को A, B तथा C के बीच 8:7:11 के अनुपात में विभाजित किया जाता है, तो C का हिस्सा क्या होगा?

Options:

- 1) Rs 693
693 रु
- 2) Rs 504
504 रु
- 3) Rs 593
593 रु
- 4) Rs 441
441 रु

Correct Answer: Rs 693

693 रु

Candidate Answer: Rs 693

693 रु

QID : 246 - The largest 5-digit number divisible by 21 is _____.

21 से विभाज्य होने वाली 5 अंकों की सबसे बड़ी संख्या _____ है।

Options:

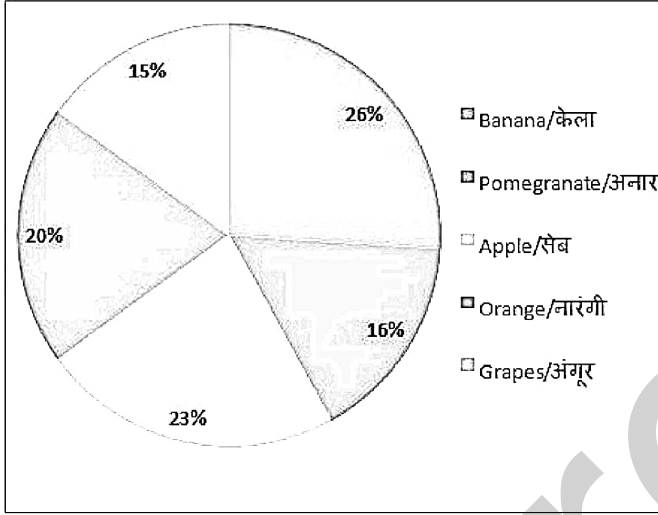
- 1) 99981
- 2) 9988
- 3) 9991
- 4) 9993

Correct Answer: 99981**Candidate Answer:** 99981

QID : 247 -

A household spend 20 per cent of their monthly food expenses on fruits. If the monthly food expense of the family is Rs 7500, answer the following questions on the basis of pie chart showing the share of expenses on different fruits in a particular month.

एक घर में भोजन पर हुए मासिक खर्च का 20% फलों पर व्यय होता है। अगर घर के भोजन पर मासिक खर्च 7500 रुपये है, तो निम्नलिखित प्रश्न का उत्तर पाई चार्ट में दर्शाए गए विभिन्न फलों पर व्यय के हिस्सों से संबंधित आंकड़ों के आधार पर दें।



What is the amount spent on apple in the particular month?

किसी माह विशेष में सेब पर कितना खर्च हुआ?

Options:

- 1) Rs 345
345 रु
- 2) Rs 360
360 रु
- 3) Rs 375
375 रु
- 4) Rs 355
355 रु

Correct Answer: Rs 345

345 रु

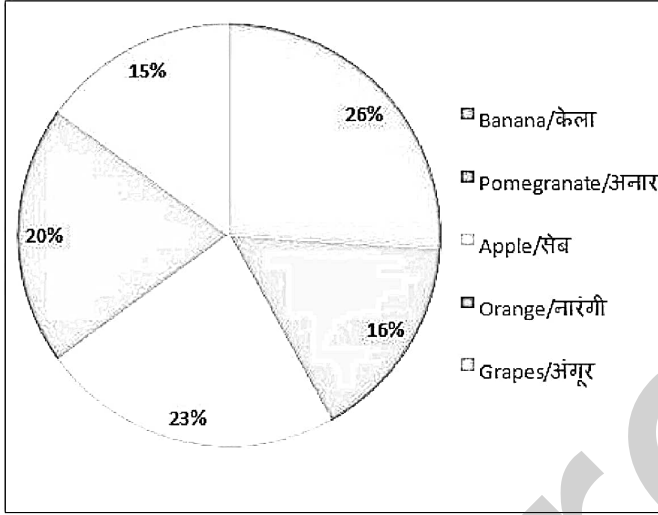
Candidate Answer: Rs 345

345 रु

QID : 248 -

A household spend 20 per cent of their monthly food expenses on fruits. If the monthly food expense of the family is Rs 7500, answer the following questions on the basis of pie chart showing the share of expenses on different fruits in a particular month.

एक घर में भोजन पर हुए मासिक खर्च का 20% फलों पर व्यय होता है। अगर घर के भोजन पर मासिक खर्च 7500 रुपये है, तो निम्नलिखित प्रश्न का उत्तर पाई चार्ट में दर्शाए गए विभिन्न फलों पर व्यय के हिस्सों से संबंधित आंकड़ों के आधार पर दें।



How much more amount is spent on Banana than Orange?

नारंगी की अपेक्षा केले पर कितना अधिक व्यय हुआ?

Options:

1) Rs 120

120 रु

2) Rs 90

90 रु

3) Rs 300

300 रु

4) Rs 900

900 रु

Correct Answer: Rs 90

90 रु

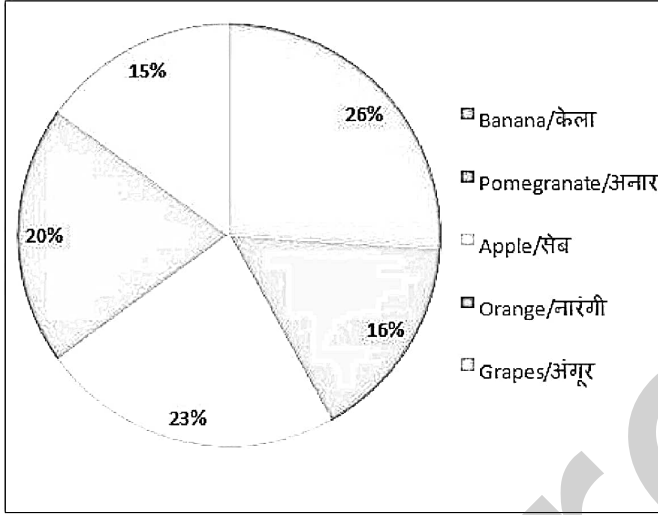
Candidate Answer: Rs 90

90 रु

QID : 249 -

A household spend 20 per cent of their monthly food expenses on fruits. If the monthly food expense of the family is Rs 7500, answer the following questions on the basis of pie chart showing the share of expenses on different fruits in a particular month.

एक घर में भोजन पर हुए मासिक खर्च का 20% फलों पर व्यय होता है। अगर घर के भोजन पर मासिक खर्च 7500 रुपये है, तो निम्नलिखित प्रश्न का उत्तर पाई चार्ट में दर्शाए गए विभिन्न फलों पर व्यय के हिस्सों से संबंधित आंकड़ों के आधार पर दें।



What is the ratio of amount spent on Orange and Grapes?

नारंगी और अंगूर पर खर्च की गई राशि का अनुपात क्या है?

Options:

- 1) 4/3
- 2) 7/3
- 3) 15/4
- 4) 20/3

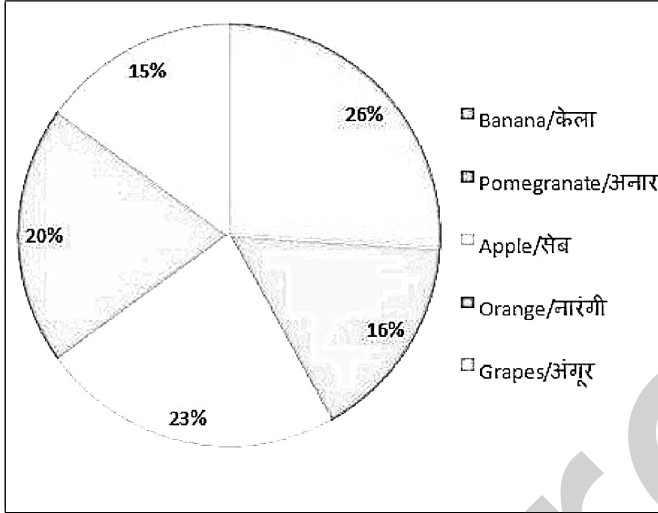
Correct Answer: 4/3

Candidate Answer: 4/3

QID : 250 -

A household spend 20 per cent of their monthly food expenses on fruits. If the monthly food expense of the family is Rs 7500, answer the following questions on the basis of pie chart showing the share of expenses on different fruits in a particular month.

एक घर में भोजन पर हुए मासिक खर्च का 20% फलों पर व्यय होता है। अगर घर के भोजन पर मासिक खर्च 7500 रुपये है, तो निम्नलिखित प्रश्न का उत्तर पाई चार्ट में दर्शाए गए विभिन्न फलों पर व्यय के हिस्सों से संबंधित आंकड़ों के आधार पर दें।



The amount spent on Pomegranate is how much less than spent on Orange?

अनार पर खर्च की गई राशि नारंगी पर खर्च की गई राशि से कितनी कम है?

Options:

1) Rs 80

80 रु

2) Rs 75

75 रु

3) Rs 20

20 रु

4) Rs 60

60 रु

Correct Answer: Rs 60

60 रु

Candidate Answer: Rs 60

60 रु

QID : 251 - In the following question, some part of the sentence may have errors. Find out which part of the sentence has an error and select the appropriate option. If a sentence is free from error, select 'No error'.

A petty dispute between a police constable (1)/ and a motorcycle-borne couple late last night lead (2)/ to clashes between the locals and the police (3)/ No Error (4)

Options:

1) 1

2) 2

3) 3

4) 4

Correct Answer: 2**Candidate Answer:** 1

QID : 252 - In the following question, some part of the sentence may have errors. Find out which part of the sentence has an error and select the appropriate option. If a sentence is free from error, select 'No Error'.

Residents from nearby areas came out to (1)/ protest against the police and a verbal spat turned into a (2)/ full-fledged clash amongst cops and the protesters (3)/ No Error (4)

Options:

1) 1

2) 2

3) 3

4) 4

Correct Answer: 3**Candidate Answer:** 3

QID : 253 - In the following question, the sentence given with blank to be filled in with an appropriate word. Select the correct alternative out of the four and indicate it by selecting the appropriate option.

Rohan stood _____ the crowd quite amazed.

Options:

- 1) in
- 2) from
- 3) for
- 4) into

Correct Answer: in

Candidate Answer: in

QID : 254 - In the following question, the sentence given with blank to be filled in with an appropriate word. Select the correct alternative out of the four and indicate it by selecting the appropriate option.

This is Ritika's lunchbox, _____ is the empty one.

Options:

- 1) yours
- 2) your
- 3) you
- 4) yourselves

Correct Answer: yours

Candidate Answer: your

QID : 255 - In the following question, out of the given four alternatives, select the one which best expresses the meaning of the given word.

Allure

Options:

- 1) Attract
- 2) Prevent
- 3) Warn
- 4) Deter

Correct Answer: Attract

Candidate Answer: Attract

QID : 256 - In the following question, out of the given four alternatives, select the one which best expresses the meaning of the given word.

Colloquial

Options:

- 1) Correct
- 2) Formal
- 3) Familiar
- 4) Standard

Correct Answer: Familiar

Candidate Answer: [NOT ANSWERED]

QID : 257 - In the following question, out of the given four alternatives, select the one which best expresses the meaning of the given word.

Contemplate

Options:

- 1) Discard
- 2) Neglect
- 3) Design
- 4) Forget

Correct Answer: Design

Candidate Answer: [NOT ANSWERED]

QID : 258 - In the following question, out of the given four alternatives, select the one which is opposite in meaning of the given word.

Judicious

Options:

- 1) Acute
- 2) Rash
- 3) Careful
- 4) Wise

Correct Answer: Rash

Candidate Answer: Wise

QID : 259 - In the following question, out of the given four alternatives, select the one which is opposite in meaning of the given word.

Cite

Options:

- 1) Present
- 2) Offer
- 3) Forget
- 4) Allege

Correct Answer: Forget

Candidate Answer: Forget

QID : 260 - In the following question, out of the given four alternatives, select the one which is opposite in meaning of the given word.

Clash

Options:

- 1) Battle
- 2) Argument
- 3) Brush
- 4) Harmony

Correct Answer: Harmony

Candidate Answer: Harmony

QID : 261 - In the following question, out of the four given alternatives, select the alternative which best expresses the meaning of the Idiom/Phrase.

Kick the bucket

Options:

- 1) To abuse someone
- 2) To emphasise
- 3) To die
- 4) To turn pale

Correct Answer: To die

Candidate Answer: To abuse someone

QID : 262 - In the following question, out of the four given alternatives, select the alternative which best expresses the meaning of the Idiom/Phrase.

Bear the palm

Options:

- 1) To win
- 2) Emotionless
- 3) In disgrace
- 4) With a heavy heart

Correct Answer: To win

Candidate Answer: With a heavy heart

QID : 263 - Improve the bracketed part of the sentence.

As Ministers, their mandate (**was be to**) single-mindedly focus on results without having to worry about reporting to a career politician.

Options:

- 1) will be to
- 2) willing be to
- 3) must to
- 4) No improvement

Correct Answer: will be to

Candidate Answer: will be to

QID : 264 - Improve the bracketed part of the sentence.

But the choices (**is also an**) indication of the small talent pool before Mr. Modi.

Options:

- 1) might also an
- 2) are also an
- 3) can also an
- 4) No improvement

Correct Answer: are also an

Candidate Answer: might also an

QID : 265 - In the following question, out of the four given alternatives, select the alternative which is the best substitute of the phrase.

Gold and silver before using for manufacturing ornaments

Options:

- 1) Stones
- 2) Bullion
- 3) Currency
- 4) Money

Correct Answer: Bullion

Candidate Answer: Stones

QID : 266 - In the following question, out of the four given alternatives, select the alternative which is the best substitute of the phrase.

Anything tending to move away from center

Options:

- 1) Centrifugal
- 2) Centripetal
- 3) Centripede
- 4) Circumcentre

Correct Answer: Centrifugal

Candidate Answer: Centripetal

QID : 267 - In the following question, a word has been written in four different ways out of which only one is correctly spelt. Select the correctly spelt word.

Options:

- 1) Accorate
- 2) Accuerate
- 3) Accurate
- 4) Accurate

Correct Answer: Accurate

Candidate Answer: Accurate

QID : 268 - In the following question, a word has been written in four different ways out of which only one is correctly spelt. Select the correctly spelt word.

Options:

- 1) Adequate
- 2) Adecute
- 3) Adequate
- 4) Edequate

Correct Answer: Adequate

Candidate Answer: Adequate

QID : 269 - Rearrange the parts of the sentence in correct order.

Activities in the

P: guided by the motive

Q: private sector are

R: to earn profits

Options:

- 1) QRP
- 2) RPQ
- 3) PQR
- 4) QPR

Correct Answer: QPR

Candidate Answer: QPR

QID : 270 - Rearrange the parts of the sentence in correct order.

Rohan and Ranjan

P: about the terms

Q: had finished reading

R: of credit in class

Options:

1) PQR

2) QPR

3) RPQ

4) PRQ

Correct Answer: QPR**Candidate Answer:** QPR

QID : 271 - In the following passage some of the words have been left out. Read the passage carefully and select the correct answer for the given blank out of the four alternatives.

The history of the development of religion shows that as mankind moves from the _____ isolated village towards large, complex, _____, industrialised society the character of the influence of religion on a man and his life changes. In the earlier phases of religion the _____ needs of mankind, those concerned with the necessities of life, played a dominant part. As man's knowledge of natural forces _____, he learns to control them by natural methods, that is, by a detailed scrutiny of their causes and _____.

mankind moves from the _____ isolated

Options:

1) small

2) large

3) immense

4) big

Correct Answer: small**Candidate Answer:** small

QID : 272 - In the following passage some of the words have been left out. Read the passage carefully and select the correct answer for the given blank out of the four alternatives.

The history of the development of religion shows that as mankind moves from the _____ isolated village towards large, complex, _____, industrialised society the character of the influence of religion on a man and his life changes. In the earlier phases of religion the _____ needs of mankind, those concerned with the necessities of life, played a dominant part. As man's knowledge of natural forces _____, he learns to control them by natural methods, that is, by a detailed scrutiny of their causes and _____.

, complex, _____, industrialised

Options:

1) rural

2) urban

3) uncivilised

4) destitute

Correct Answer: urban**Candidate Answer:** urban

QID : 273 - In the following passage some of the words have been left out. Read the passage carefully and select the correct answer for the given blank out of the four alternatives.

The history of the development of religion shows that as mankind moves from the _____ isolated village towards large, complex, _____, industrialised society the character of the influence of religion on a man and his life changes. In the earlier phases of religion the _____ needs of mankind, those concerned with the necessities of life, played a dominant part. As man's knowledge of natural forces _____, he learns to control them by natural methods, that is, by a detailed scrutiny of their causes and _____.

religion the _____ needs of mankind,

Options:

1) secondary

2) collateral

3) primary

4) higher

Correct Answer: primary**Candidate Answer:** primary

QID : 274 - In the following passage some of the words have been left out. Read the passage carefully and select the correct answer for the given blank out of the four alternatives.

The history of the development of religion shows that as mankind moves from the _____ isolated village towards large, complex, _____, industrialised society the character of the influence of religion on a man and his life changes. In the earlier phases of religion the _____ needs of mankind, those concerned with the necessities of life, played a dominant part. As man's knowledge of natural forces _____, he learns to control them by natural methods, that is, by a detailed scrutiny of their causes and _____.

natural forces _____,

Options:

1) shrinks

2) deteriorates

3) drops

4) grows

Correct Answer: grows**Candidate Answer:** deteriorates

QID : 275 - In the following passage some of the words have been left out. Read the passage carefully and select the correct answer for the given blank out of the four alternatives.

The history of the development of religion shows that as mankind moves from the _____ isolated village towards large, complex, _____, industrialised society the character of the influence of religion on a man and his life changes. In the earlier phases of religion the _____ needs of mankind, those concerned with the necessities of life, played a dominant part. As man's knowledge of natural forces _____, he learns to control them by natural methods, that is, by a detailed scrutiny of their causes and _____.

scrutiny of their causes and _____.

Options:

- 1) symposiums
- 2) origins
- 3) summons
- 4) destructions

Correct Answer: origins

Candidate Answer: destructions

QID : 276 - To grow more than one crop on a piece of land during the year is known as _____.

वर्ष के दौरान भूमि के एक टुकड़े पर एक से अधिक फसल उगाने की प्रक्रिया को _____ के रूप में जाना जाता है।

Options:

- 1) inter cropping
अंतर शस्यवर्तन
- 2) multiple cropping
एकाधिक शस्यवर्तन
- 3) mixed cropping
मिश्रित शस्यवर्तन
- 4) No option is correct
कोई भी विकल्प सही नहीं है।

Correct Answer: multiple cropping

एकाधिक शस्यवर्तन

Candidate Answer: multiple cropping

एकाधिक शस्यवर्तन

QID : 277 - In India, what is the accepted average calories requirement per person per day in rural areas?

भारत के ग्रामीण इलाकों के लिए प्रति दिन प्रति व्यक्ति स्वीकृत औसत कैलोरी कितनी है?

Options:

- 1) 2100
- 2) 2200
- 3) 2300
- 4) 2400

Correct Answer: 2400

Candidate Answer: 2300

QID : 278 - Who one of the following appoints the Judges of the Supreme Court of India?

भारत के सर्वोच्च न्यायालय के न्यायाधीशों को कौन नियुक्त करते हैं?

Options:

- 1) Prime Minister
प्रधानमंत्री
- 2) Chief Justice of Supreme Court
उच्चतम न्यायालय के मुख्य न्यायाधीश
- 3) Vice President
उप राष्ट्रपति
- 4) President
राष्ट्रपति

Correct Answer: President

राष्ट्रपति

Candidate Answer: President

राष्ट्रपति

QID : 279 - For whom are the Fundamental Duties mentioned in the Indian Constitution?

भारतीय संविधान में उल्लिखित मौलिक कर्तव्य किसके लिए है?

Options:

- 1) For Government employees
सरकारी कर्मचारियों के लिए
- 2) For all citizens
सभी नागरिकों के लिए
- 3) For all the senior citizens
सभी वरिष्ठ नागरिकों के लिए
- 4) No option is correct
कोई भी विकल्प सही नहीं है।

Correct Answer: For all citizens

सभी नागरिकों के लिए

Candidate Answer: For all citizens

सभी नागरिकों के लिए

QID : 280 - Which one of the following places of Indus Valley Civilization was situated on the bank of Luni River?

सिंधु घाटी सभ्यता के निम्नलिखित स्थानों में से कौन सा एक स्थान लूनी नदी के किनारे पर स्थित था?

Options:

- 1) Dholavira
धोलावीरा
- 2) Mohenjodaro
मोहनजोदड़ो
- 3) Chanhudaro
चन्हुदड़ो
- 4) Harappa
हड़प्पा

Correct Answer: Dholavira
धोलावीरा

Candidate Answer: Chanhudaro
चन्हुदड़ो

QID : 281 - Who among the following has written 'Satyarth Prakash'?

निम्नलिखित में से 'सत्यार्थ प्रकाश' किसने लिखा था?

Options:

- 1) Lala Lajpat Rai
लाला लाजपत राय
- 2) Dayanand Saraswati
दयानंद सरस्वती
- 3) Raja Ram Mohan Roy
राजा राम मोहन रॉय
- 4) Lokmanya Tilak
लोकमान्य तिलक

Correct Answer: Dayanand Saraswati
दयानंद सरस्वती

Candidate Answer: Dayanand Saraswati
दयानंद सरस्वती

QID : 282 - Which one of the following landscapes is NOT formed by the sea-water?

निम्नलिखित में से कौन-सा एक भूदृश्य समुद्री जल से नहीं बनता है?

Options:

- 1) Lagoon
खाड़ी
- 2) Kayal
कयाल
- 3) Cirque
सर्क
- 4) Beach
बीच

Correct Answer: Cirque
सर्क

Candidate Answer: Kayal
कयाल

QID : 283 - To which of the following projects is the Narmada Bachao Andolan related?

नर्मदा बचाओ आंदोलन निम्नलिखित से किस परियोजना से संबंधित है?

Options:

- 1) Sardar Sarovar
सरदार सरोवर
- 2) Bhakra Nangal
भाखड़ा नांगल
- 3) Rihand
रिहंद
- 4) Tehri
टिहरी

Correct Answer: Sardar Sarovar
सरदार सरोवर

Candidate Answer: Sardar Sarovar
सरदार सरोवर

QID : 284 - What is fundamental function of Centriole in a cell?

किसी कोशिका में सेंट्रीओल का मौलिक कार्य क्या है?

Options:

- 1) Protein synthesis
प्रोटीन संश्लेषण
- 2) nucleolus formation
न्यूक्लियोलस का निर्माण
- 3) cell-wall formation
कोशिका-भित्ति का निर्माण
- 4) cell division initiation
कोशिका विभाजन में सहायता

Correct Answer: cell division initiation
कोशिका विभाजन में सहायता

Candidate Answer: cell division initiation
कोशिका विभाजन में सहायता

QID : 285 - Bone in most of big animals is an example of which of the following tissues?

अधिकांश बड़े जानवरों की अस्थियों में कौन सा एक उतक पाया जाता है?

Options:

- 1) Muscular tissues
पेशी ऊतक
- 2) Connective tissues
संयोजी ऊतक
- 3) Epithelial tissues
उपकला ऊतक
- 4) Nervous tissues
तंत्रिका ऊतक

Correct Answer: Connective tissues
संयोजी ऊतक

Candidate Answer: Epithelial tissues
उपकला ऊतक

QID : 286 - Ascaris, a kind of worm, lives in which part of the human body?

एस्केरिस, एक प्रकार की कृमि, मानव शरीर के किस हिस्से में रहती है?

Options:

- 1) Small intestine
छोटी आंत
- 2) Large intestine
बड़ी आंत
- 3) Kidneys
गुर्दे
- 4) Liver
जिगर

Correct Answer: Small intestine
छोटी आंत

Candidate Answer: [NOT ANSWERED]

QID : 287 - What is the value of acceleration due to gravity of the surface of the Earth?

गुरुत्वाकर्षण बल के कारण धरती के सतह पर त्वरण मान क्या है?

Options:

- 1) 2 m/s^2
2 मी/वर्ग सेकेण्ड
- 2) 4.9 m/s^2
4.9 मी/वर्ग सेकेण्ड
- 3) 9.8 m/s^2
9.8 मी/वर्ग सेकेण्ड
- 4) 8 m/s^2
8 मी/वर्ग सेकेण्ड

Correct Answer: 9.8 m/s^2
9.8 मी/वर्ग सेकेण्ड

Candidate Answer: 9.8 m/s^2
9.8 मी/वर्ग सेकेण्ड

QID : 288 - In which of the following mediums, speed of the sound will be maximum?

निम्नलिखित में से किस माध्यम में ध्वनि की गति सबसे अधिक होगी?

Options:

- 1) Air
वायु
- 2) Water
जल
- 3) Steel
इस्पात
- 4) Kerosene
मिट्टी तेल

Correct Answer: Steel
इस्पात

Candidate Answer: Steel
इस्पात

QID : 289 - One TB approximately comprises or occupies which of the following data or space size?

एक टीबी लगभग निम्नलिखित में से कितना डाटा या स्थान धारित करता है।

Options:

- 1) 1000 KB
1000 केबी
- 2) 1024 MB
1024 एमबी
- 3) 1024 GB
1024 जीबी
- 4) 1000 GB
1000 जीबी

Correct Answer: 1000 GB
1000 जीबी

Candidate Answer: 1024 GB
1024 जीबी

QID : 290 - Which of the following is a heterogeneous mixture?

निम्नलिखित में से कौन सा एक विषमांगी मिश्रण है?

Options:

- 1) Air
वायु
- 2) Brass
पीतल
- 3) Vinegar
सिरका
- 4) Lime water
चूना-मिश्रित पानी

Correct Answer: Lime water
चूना-मिश्रित पानी

Candidate Answer: Lime water
चूना-मिश्रित पानी

QID : 291 - Which one of the following metals is found in liquid state at room temperature?

नीचे दिए गए धातुओं में से कौन सी एक धातु कमरे के सामान्य तापमान पर द्रव अवस्था में पायी जाती है?

Options:

- 1) Potassium
पोटेशियम
- 2) Sodium
सोडियम
- 3) Mercury
पारा
- 4) Aluminium
अल्युमीनियम

Correct Answer: Mercury
पारा

Candidate Answer: Mercury
पारा

QID : 292 - Where are the mangrove forests mainly found in India?

भारत में मैन्ग्रोव वन मुख्यतः कहाँ पाए जाते हैं?

Options:

- 1) Kaziranga National Park
काजीरंगा राष्ट्रीय उद्यान
- 2) Western Ghats
पश्चिमी घाट
- 3) Sunderban Delta
सुंदरबन डेल्टा
- 4) Bhakhra Nangal Dam
भाखड़ा नंगल बांध

Correct Answer: Sunderban Delta
सुंदरबन डेल्टा

Candidate Answer: Sunderban Delta
सुंदरबन डेल्टा

QID : 293 - In which of the following years "Vande Mataram Scheme" was launched?

"वंदे मातरम योजना" की शुरुआत निम्नलिखित में से किस वर्ष हुई थी?

Options:

- 1) 2002
- 2) 2004
- 3) 2006
- 4) 2008

Correct Answer: 2004

Candidate Answer: [NOT ANSWERED]

QID : 294 - Who among the following scientist invented the Stainless Steel?

स्टेनलेस स्टील का आविष्कार निम्नलिखित में से किस वैज्ञानिक ने किया?

Options:

1) Alexander Graham Bell

अलेक्जेंडर ग्राहम बेल

2) Mendeleev

मेंडलीव

3) Max Plank

मैक्स प्लैंक

4) Harry Brearley

हैरी ब्रेर्ली

Correct Answer: Harry Brearley

हैरी ब्रेर्ली

Candidate Answer: Max Plank

मैक्स प्लैंक

QID : 295 - Which sport is Tour de France associated with?

कौन सा खेल टूर डी फ्रांस से जुड़ा है?

Options:

1) Football

फुटबॉल

2) Golf

गोल्फ

3) Tennis

टेनिस

4) Bicycle Race

साइकिल दौड़

Correct Answer: Bicycle Race

साइकिल दौड़

Candidate Answer: [NOT ANSWERED]

QID : 296 - Which of the following classical dance form relates to Tamil Nadu?

निम्नलिखित में से कौन सा शास्त्रीय नृत्य तमिलनाडु से संबंधित है?

Options:

1) Kathakali

कथकली

2) Bharatanatyam

भरतनाट्यम

3) Kuchipudi

कुचिपुडी

4) No option is correct.

कोई भी विकल्प सही नहीं है।

Correct Answer: Bharatanatyam

भरतनाट्यम

Candidate Answer: Bharatanatyam

भरतनाट्यम

QID : 297 - Which of the following state confers "Mewar Award"?

"मेवार सम्मान" निम्नलिखित में से किस राज्य द्वारा प्रदान किया जाता है?

Options:

1) Haryana

हरियाणा

2) Punjab

पंजाब

3) Rajasthan

राजस्थान

4) Delhi

दिल्ली

Correct Answer: Rajasthan

राजस्थान

Candidate Answer: Haryana

हरियाणा

QID : 298 - Who wrote the famous book - "We the people"?

"हम लोग" नामक प्रसिद्ध पुस्तक किसने लिखी है?

Options:

- 1) Khushwant Singh
खुशवंत सिंह
- 2) Nani A. Palkhivala
ननी ए. पालकीवाला
- 3) T.N.Kaul
टी.एन. कौल
- 4) J.R.D. Tata
जे.आर.डी. टाटा

Correct Answer: Nani A. Palkhivala
ननी ए. पालकीवाला

Candidate Answer: T.N.Kaul
टी.एन. कौल

QID : 299 - Which of one the following country is a permanent member of UN Security Council?

निम्नलिखित में से कौन सा देश संयुक्त राष्ट्र सुरक्षा परिषद का स्थायी सदस्य है?

Options:

- 1) Brazil
ब्राजील
- 2) China
चीन
- 3) Japan
जापान
- 4) India
भारत

Correct Answer: China
चीन

Candidate Answer: China
चीन

QID : 300 - What is the official language of Bhutan?

भूटान की आधिकारिक भाषा क्या है?

Options:

- 1) Dzongkha
जोंगखा
- 2) Gorkha
गोरखा
- 3) Bhutanese
भूटानी
- 4) Assamese
असमिया

Correct Answer: Dzongkha
जोंगखा

Candidate Answer: Dzongkha
जोंगखा