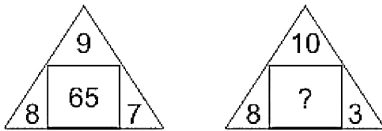


QID : 101 -

In the following question, select the number which can be placed at the sign of question mark (?) from the given alternatives.

निम्नलिखित प्रश्न में दिए गए विकल्पों में से प्रश्न चिह्न (?) के स्थान पर आने वाली संख्या को चुनिए।



Options:

- 1) 32
- 2) 64
- 3) 34
- 4) 20

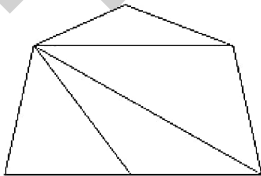
Correct Answer: 34

Candidate Answer: 34

QID : 102 -

How many triangles are there in the given figure?

दी गई आकृति में कितने त्रिभुज हैं?



Options:

- 1) 5
- 2) 4
- 3) 3
- 4) 6

Correct Answer: 5

Candidate Answer: 6

QID : 103 -

A word is represented by only one set of numbers as given in any one of the alternatives. The sets of numbers given in the alternatives are represented by two classes of alphabets as shown in the given two matrices. The columns and rows of **Matrix-I** are numbered from 0 to 4 and that of **Matrix-II** are numbered from 5 to 9. A letter from these matrices can be represented first by its row and next by its column, for example, 'K' can be represented by 01, 65, etc., and 'A' can be represented by 44, 95, etc. Similarly, you have to identify the set for the word "CAMP".

एक शब्द केवल एक संख्या-समूह द्वारा दर्शाया गया है, जैसा कि विकल्पों में से किसी एक में दिया गया है। विकल्पों में दिए गए संख्या-समूह अक्षरों के दो वर्गों द्वारा दर्शाए गए हैं, जैसा कि दिए गए दो आव्यूहों में है। आव्यूह-I के स्तम्भ और पंक्ति की संख्या 0 से 4 है और आव्यूह-II की 5 से 9। इन आव्यूहों से एक अक्षर को पहले उसकी पंक्ति और बाद में स्तम्भ संख्या द्वारा दर्शाया जा सकता है। उदाहरण के लिए 'K' को 01, 65, आदि द्वारा दर्शाया जा सकता है तथा 'A' को 44, 95, आदि द्वारा दर्शाया जा सकता है। इसी तरह से आपको प्रश्न में दिए शब्द "CAMP" के लिए समूह को पहचानना है।

Matrix-I आव्यूह-I					Matrix-II आव्यूह-II						
	0	1	2	3	4		5	6	7	8	9
0	V	K	D	F	R	5	W	C	U	G	I
1	C	W	O	H	V	6	K	I	H	Q	S
2	T	S	Y	J	S	7	U	E	Y	B	A
3	H	F	I	C	R	8	F	H	P	L	N
4	D	S	U	N	A	9	A	R	M	T	O

Options:

1) 10, 44, 11, 41

2) 56, 97, 67, 43

3) 58, 44, 59, 87

4) 33, 79, 97, 87

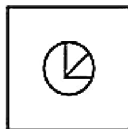
Correct Answer: 33, 79, 97, 87

Candidate Answer: 33, 79, 97, 87

QID : 104 -

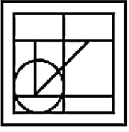
From the given answer figures, select the one in which the question figure is hidden/embedded.

दी गई उत्तर आकृतियों में से उस उत्तर आकृति को चुनिए जिस में प्रश्न आकृति निहित है।

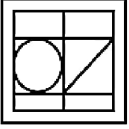


Options:

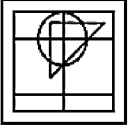
1)



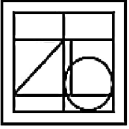
2)



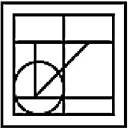
3)



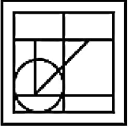
4)



Correct Answer:



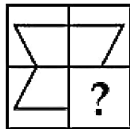
Candidate Answer:



QID : 105 -

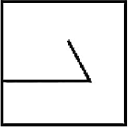
Which answer figure will complete the pattern in the question figure?

कौन सी उत्तर आकृति प्रश्न आकृति के प्रतिरूप को पूरा करेगी?

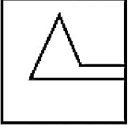


Options:

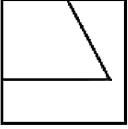
1)



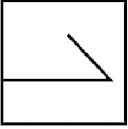
2)



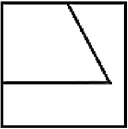
3)



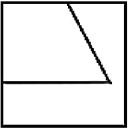
4)



Correct Answer:



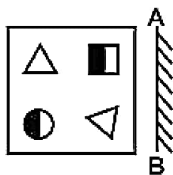
Candidate Answer:



QID : 106 -

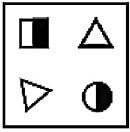
If a mirror is placed on the line AB, then which of the answer figures is the right image of the given figure?

यदि एक दर्पण को AB रेखा पर रखा जाए, तो दी गई उत्तर आकृतियों में से कौन सी आकृति प्रश्न आकृति की सही प्रतिबिम्ब होगी?

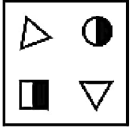


Options:

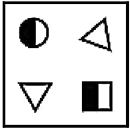
1)



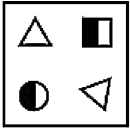
2)



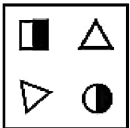
3)



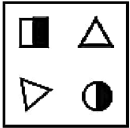
4)



Correct Answer:



Candidate Answer:



QID : 107 -

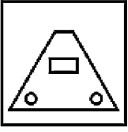
A piece of paper is folded and punched as shown below in the question figures. From the given answer figures, indicate how it will appear when opened?

नीचे के प्रश्न आकृतियों में दिखाए अनुसार कागज को मोड़कर छेदने तथा खोलने के बाद वह किस उत्तर आकृति जैसा दिखाई देगा?

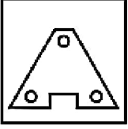


Options:

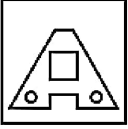
1)



2)



3)



4)



Correct Answer:



Candidate Answer:



QID : 108 - If 'A' means '+', 'B' means '-', 'C' means '÷' and 'D' means 'x', then

7 A 11 B 13 D 3 C 39 = ?

यदि 'A' का अर्थ '+', 'B' का अर्थ '-', 'C' का अर्थ '÷' तथा 'D' का अर्थ 'x' हो, तो

7 A 11 B 13 D 3 C 39 = ?

Options:

1) 27

2) 17

3) 19

4) 32

Correct Answer: 17

Candidate Answer: 17

QID : 109 - If $13 \% 7 \div 4 = 16$ and $14 \% 6 \div 3 = 17$, then

$23 \% 7 \div 2 = ?$

यदि $13 \% 7 \div 4 = 16$ तथा $14 \% 6 \div 3 = 17$ हो, तो

$23 \% 7 \div 2 = ?$

Options:

1) 28

2) 32

3) 18

4) 20

Correct Answer: 28

Candidate Answer: 28

QID : 110 - Arrange the given words in the sequence in which they occur in the dictionary.

1. Print
2. Prawn
3. Pager
4. Paste
5. Pain

निम्नलिखित शब्दों को शब्दकोश में आने वाले क्रम के अनुसार लिखें।

1. Print
2. Prawn
3. Pager
4. Paste
5. Pain

Options:

1) 35421

2) 34512

3) 45321

4) 43512

Correct Answer: 35421

Candidate Answer: 35421

QID : 111 - In the following question, select the missing number from the given series.

9, 11, 20, 31, 51, ?

निम्नलिखित प्रश्न में दिए गए विकल्पों में से लुप्त अंक ज्ञात कीजिए।

9, 11, 20, 31, 51, ?

Options:

1) 91

2) 84

3) 76

4) 82

Correct Answer: 82

Candidate Answer: 82

QID : 112 - A series is given with one term missing. Select the correct alternative from the given ones that will complete the series.

ACE, HJL, OQS, ?

एक अनुक्रम दिया गया है, जिसमें से एक पद लुप्त है। दिए गए विकल्पों में से वह सही विकल्प चुनिए, जो अनुक्रम को पूरा करे।

ACE, HJL, OQS, ?

Options:

1) TVX

2) TUV

3) VXZ

4) UWY

Correct Answer: VXZ

Candidate Answer: VXZ

QID : 113 - In the following question, select the odd word from the given alternatives.

निम्नलिखित प्रश्न में दिए गए विकल्पों में से विषम शब्द को चुनिए।

Options:

1) Water

जल

2) Glass

गिलास

3) Coffee

कॉफी

4) Tea

चाय

Correct Answer: Glass

गिलास

Candidate Answer: Glass

गिलास

QID : 114 - In the following question, select the odd number pair from the given alternatives.

निम्नलिखित प्रश्न में दिए गए विकल्पों में से विषम संख्या युग्म को चुनिए।

Options:

- 1) 14 - 2744
- 2) 18 - 5832
- 3) 10 - 10000
- 4) 19 - 6859

Correct Answer: 10 - 10000

Candidate Answer: 10 - 10000

QID : 115 - In the following question, select the odd letters from the given alternatives.

निम्नलिखित प्रश्न में दिए गए विकल्पों में से विषम अक्षरों को चुनिए।

Options:

- 1) ABC
- 2) MNO
- 3) RST
- 4) PQM

Correct Answer: PQM

Candidate Answer: PQM

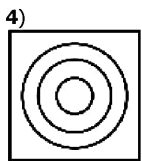
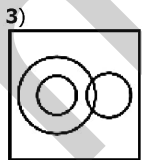
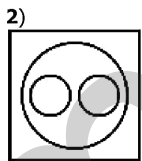
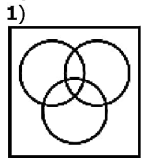
QID : 116 - Identify the diagram that best represents the relationship among the given classes.

Currency, Dollar, Pound

वह आरेख चुनिए जो नीचे दिए गए वर्गों के बीच के संबंध का सही निरूपण करता है।

मुद्रा, डॉलर, पाउंड

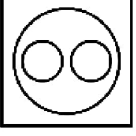
Options:



Correct Answer:



Candidate Answer:



QID : 117 - In the following question, select the related word from the given alternatives.

Palette : Colours :: Report card : ?

निम्नलिखित प्रश्न में दिए गए विकल्पों में से संबंधित शब्द को चुनिए।

पैलेट : रंग :: रिपोर्ट कार्ड : ?

Options:

- 1) Marks
अंक
- 2) Syllabus
पाठ्यक्रम
- 3) Homework
गृहकार्य
- 4) Attendance
उपस्थिति

Correct Answer: Marks

अंक

Candidate Answer: Marks

अंक

QID : 118 - In the following question, select the related number from the given alternatives.

83 : 9 :: 146 : ?

निम्नलिखित प्रश्न में दिए गए विकल्पों में से संबंधित संख्या को चुनिए।

83 : 9 :: 146 : ?

Options:

- 1) 12
- 2) 14
- 3) 10
- 4) 7

Correct Answer: 12

Candidate Answer: 12

QID : 119 - In the following question, select the related letters from the given alternatives.

PM : LI :: BY : ?

निम्नलिखित प्रश्न में दिए गए विकल्पों में से संबंधित अक्षरों को चुनिए।

PM : LI :: BY : ?

Options:

- 1) WV
- 2) XU
- 3) XV
- 4) WU

Correct Answer: XU

Candidate Answer: XU

QID : 120 - In the following question, select the word which cannot be formed using the letters of the given word.

UNEXCITABLE

निम्नलिखित विकल्पों में से वह शब्द चुनिए जो दिए गए शब्द के अक्षरों का प्रयोग करके नहीं बनाया जा सकता।

UNEXCITABLE



Options:

- 1) BLADE
- 2) EXIT
- 3) BITE
- 4) TABLE

Correct Answer: BLADE**Candidate Answer:** BLADE**QID : 121** - Weight of W is twice that of X. Weight of X is $\frac{1}{3}$ of Y. Weight of Y is 3 times of Z. Weight of Z is $\frac{1}{4}$ of A. Who is the heaviest?W का भार X का दोगुना है। X का भार Y का $\frac{1}{3}$ है। Y का भार Z का 3 गुना है। Z का भार A का $\frac{1}{4}$ है। सबसे भारी कौन है?**Options:**

- 1) A
- 2) W
- 3) Y
- 4) X

Correct Answer: A**Candidate Answer:** W**QID : 122** - W, X, Y, Z and A are sitting in a line facing west. W and X are sitting together. Y is sitting at south end and Z is sitting at north end. A is neighbour of X and Z. Who is sitting in the middle?

W, X, Y, Z तथा A एक पंक्ति में पश्चिम की ओर मुख करके बैठे हैं। W तथा X एक साथ बैठे हैं। Y दक्षिण छोर पर बैठा है तथा Z उत्तरी छोर पर बैठा है। A, X तथा Z का पड़ोसी है। मध्य में कौन बैठा है?

Options:

- 1) A
- 2) Z
- 3) X
- 4) W

Correct Answer: X**Candidate Answer:** X**QID : 123** - In the following question below are given some statements followed by some conclusions. Taking the given statements to be true even if they seem to be at variance from commonly known facts, read all the conclusions and then decide which of the given conclusion logically follows the given statements.**Statements:**

- I. All kites are red.
- II. No red is blue.

Conclusions:

- I. Some kite are blue.
- II. No kite is blue.

नीचे दिए गए प्रश्न में कुछ कथन और उनके बाद उन कथनों पर आधारित कुछ निष्कर्ष दिए गए हैं, हालांकि उनमें सामान्य ज्ञात तथ्यों से भिन्नता हो सकती है। सभी निष्कर्ष पढ़ें और फिर निर्धारित करें कि दिए गए कौन से निष्कर्ष, दिए गए कथनों के आधार पर युक्तिसंगत हैं।

कथन:

- I. सभी पंतग लाल हैं।
- II. कोई लाल नीला नहीं है।

निष्कर्ष:

- I. कुछ पंतग नीली हैं।
- II. कोई पंतग नीली नहीं है।

Options:

- 1) Only conclusion (I) follows.
केवल निष्कर्ष (I) सही है।
- 2) Only conclusion (II) follows.
केवल निष्कर्ष (II) सही है।
- 3) Both conclusion follow.
दोनों ही निष्कर्ष सही हैं।
- 4) Neither conclusion (I) nor conclusion (II) follows.
न तो निष्कर्ष (I) न ही निष्कर्ष (II) सही है।

Correct Answer: Only conclusion (II) follows.

केवल निष्कर्ष (II) सही है।

Candidate Answer: Only conclusion (II) follows.

केवल निष्कर्ष (II) सही है।

QID : 124 - In a certain code language, "HATCH" is written as "JXVZJ". How is "SEDAN" written in that code language?

एक विशिष्ट कोड भाषा में, "HATCH" को "JXVZJ" लिखा जाता है। इस कोड भाषा में "SEDAN" को किस प्रकार लिखा जाएगा?

Options:

1) UBFXP

2) CVFYP

3) FXPVB

4) HVWZM

Correct Answer: UBFXP

Candidate Answer: UBFXP

QID : 125 - In a certain code language, "VIRGE" is written as "19635" and "LOAD" is written as "7480". How is "GLOVE" written in that code language?

एक विशिष्ट कोड भाषा में, "VIRGE" को "19635" तथा "LOAD" को "7480" लिखा जाता है। इस कोड भाषा में "GLOVE" को किस प्रकार लिखा जाएगा?

Options:

1) 37415

2) 34175

3) 56437

4) 96035

Correct Answer: 37415

Candidate Answer: 37415

QID : 126 - If $101 \times 102 \times 103$ is divided by 10, then what will be the remainder?

यदि $101 \times 102 \times 103$ को 10 से विभाजित किया जाये, तो शेषफल क्या होगा?

Options:

1) 5

2) 6

3) 4

4) 8

Correct Answer: 6

Candidate Answer: 6

QID : 127 - What is the value of 249×251 ?

249×251 का मान क्या है?

Options:

1) 64599

2) 62099

3) 62499

4) 64499

Correct Answer: 62499

Candidate Answer: 62499

QID : 128 - What is the value of $[(5.3)^3 - (3.8)^3] \div [(5.3)^2 + (3.8)^2 + (5.3) \times (3.8)]$?

$[(5.3)^3 - (3.8)^3] \div [(5.3)^2 + (3.8)^2 + (5.3) \times (3.8)]$ का मान क्या है?

Options:

1) 2.25

2) 2.7

3) 1.3

4) 1.5

Correct Answer: 1.5

Candidate Answer: 1.5

QID : 129 - Which of the following statement is true?

- I. $4\sqrt{3} > 3\sqrt{2}$
II. $3\sqrt{2} > 6\sqrt{5}$

निम्नलिखित में से कौन सा कथन सत्य है?

- I. $4\sqrt{3} > 3\sqrt{2}$
II. $3\sqrt{2} > 6\sqrt{5}$

Options:

- 1) Only I
केवल I
2) Only II
केवल II
3) Both I and II
I तथा II दोनों
4) Neither I nor II
न तो I न ही II

Correct Answer: Only I
केवल I

Candidate Answer: Only I
केवल I

QID : 130 - If **84B78** is divisible by **11** then, what is the value of **B**?

यदि **84B78**, **11** से विभाजित है, तो **B** का मान क्या है?

Options:

- 1) 4
2) 6
3) 3
4) 1

Correct Answer: 6

Candidate Answer: 6

QID : 131 - What is the value of $2^2 + 4^2 + 6^2 + \dots + 20^2$?

$2^2 + 4^2 + 6^2 + \dots + 20^2$ का मान क्या है?

Options:

- 1) 1470
2) 1630
3) 1820
4) 1540

Correct Answer: 1540

Candidate Answer: 1540

QID : 132 - A, B and C undertook a work for Rs 26000. Together A and B complete $(9/13)^{\text{th}}$ part of the work. What is the share (in Rs) of C?

A, B तथा C ने एक कार्य को 26000 रु में लिया। A तथा B मिलकर कार्य का $(9/13)$ -वां हिस्सा पूरा करते हैं। C का हिस्सा (रु में) क्या है?

Options:

- 1) 10000
2) 8000
3) 12000
4) 7000

Correct Answer: 8000

Candidate Answer: 8000

QID : 133 - Three taps A, B and C can fill a tank in 90, 10 and 18 hours respectively. If all the taps are opened together, then in how many hours will the tank be filled?

तीन नल A, B तथा C एक टंकी को क्रमशः 90, 10 तथा 18 घंटे में भर सकते हैं। यदि सभी नलों को एक साथ खोल दिया जाये, तो टंकी कितने घंटे में भर जाएगी?

Options:

- 1) 4
2) 6
3) 8
4) 2

Correct Answer: 6

QID : 134 - The length of two parallel sides of a trapezium are 40 cm and 50 cm. If the area of the trapezium is 180 cm^2 , then what is the value of its height (in cm)?

एक समलम्ब की दो समांतर भुजाओं की लम्बाई 40 से.मी. तथा 50 से.मी. है। यदि समलम्ब का क्षेत्रफल 180 से.मी.^2 है, तो उसकी ऊंचाई का मान (से.मी. में) क्या है?

Options:

- 1) 6
- 2) 4
- 3) 2
- 4) 8

Correct Answer: 4

Candidate Answer: 4

QID : 135 - The cost price of an article is 81% of the marked price. What is the gain percentage after allowing a discount of 10% on the marked price?

किसी वस्तु का क्रय मूल्य उसके अंकित मूल्य का 81% है। अंकित मूल्य पर 10% की छूट देने के पश्चात लाभ प्रतिशत क्या है?

Options:

- 1) 11.11
- 2) 9.09
- 3) 12.5
- 4) 7.5

Correct Answer: 11.11

Candidate Answer: 11.11

QID : 136 - A trader gives a discount of 15% on the marked price. To earn profit of 19%, by how much percent should he mark the price of his goods higher than its cost price?

एक व्यापारी अंकित मूल्य पर 15% की छूट देता है। 19% का लाभ प्राप्त करने के लिए उसे अपनी वस्तुओं का मूल्य, क्रय मूल्य से कितना प्रतिशत अधिक अंकित करना चाहिए?

Options:

- 1) 25
- 2) 40
- 3) 30
- 4) 35

Correct Answer: 40

Candidate Answer: 40

QID : 137 - If $M : N = 3 : 5$ and $M : O = 4 : 6$, then what is $(M + N) : (N + O)$?

यदि $M : N = 3 : 5$ तथा $M : O = 4 : 6$ हों, तो $(M + N) : (N + O)$ क्या है?

Options:

- 1) 19 : 15
- 2) 16 : 19
- 3) 15 : 19
- 4) 25 : 16

Correct Answer: 16 : 19

Candidate Answer: 16 : 19

QID : 138 - If the sum of two numbers is equal to two times of their difference, then what is the ratio of the numbers?

यदि दो संख्याओं का योग उनके अंतर का दोगुना है, तो संख्याओं का अनुपात क्या है?

Options:

- 1) 4 : 3
- 2) 1 : 2
- 3) 3 : 5
- 4) 3 : 1

Correct Answer: 3 : 1

Candidate Answer: 3 : 1

QID : 139 - Average of 19 numbers is 15. If a number 25 is also included, then what will be the average of these 20 numbers?

19 संख्याओं का औसत 15 है। यदि एक संख्या 25 को भी शामिल कर लिया जाये, तो इन 20 संख्याओं का औसत क्या होगा?

Options:

1) 14.5

2) 16.5

3) 15.5

4) 17.5

Correct Answer: 15.5

Candidate Answer: 15.5

QID : 140 - An article was sold at 15% gain. Had it been sold for Rs 195 more, then the gain would have been 30%. What is the cost price (in Rs) of the article?

एक वस्तु को 15% लाभ पर बेचा गया। यदि इसे 195 रु अधिक मूल्य पर बेचा जाता, तो 30% का लाभ होता। वस्तु का क्रय मूल्य (रु में) क्या है?

Options:

1) 1100

2) 2200

3) 1300

4) 1950

Correct Answer: 1300

Candidate Answer: 1300

QID : 141 - A man buys a toy for Rs 40 and sells it for Rs 60. What is his gain percent?

एक व्यक्ति एक खिलौना 40 रु में खरीदता है तथा उसे 60 रु में बेचता है। उसका लाभ प्रतिशत क्या है?

Options:

1) 30

2) 50

3) 75

4) 25

Correct Answer: 50

Candidate Answer: 50

QID : 142 - A man saves 12% of his income in 6 months. If he wants to save the same amount in 4 months, then by how much percentage should he increase his monthly savings?

एक व्यक्ति 6 महीने में अपनी आय का 12% बचाता है। यदि वह उतनी ही राशि 4 महीने में बचाना चाहता है, तो उसे अपनी मासिक बचत कितने प्रतिशत से बढ़ानी चाहिए?

Options:

1) 33.33

2) 50

3) 66.66

4) 25

Correct Answer: 50

Candidate Answer: 33.33

QID : 143 - J is 10% more than K. K is 10% less than L. L is 10% less than M. If M is 2000, then what is the value of J?

J, K से 10% अधिक है। K, L से 10% कम है। L, M से 10% कम है। यदि M, 2000 है, तो J का मान क्या है?

Options:

1) 1844

2) 1806

3) 1782

4) 1756

Correct Answer: 1782

Candidate Answer: 1782

QID : 144 - A train running with a speed of 3 km/hr, crosses a telephone pole. If the length of train is 900 meters, then what is the time taken (in seconds) by the train to cross the pole?

एक 3 कि.मी./घंटा की गति से चलने वाली रेलगाड़ी एक टेलीफोन के खम्भे को पार करती है। यदि रेलगाड़ी की लंबाई 900 मीटर है, तो रेलगाड़ी खम्भे को पार करने में कितना समय (सेकण्ड में)

Options:

- 1) 1000
- 2) 1080
- 3) 1020
- 4) 900

Correct Answer: 1080

Candidate Answer: 1080

QID : 145 - A 950 meters long train crosses a 850 meters long bridge. If the speed of train is 60 km/hr, then what is the time taken (in seconds) to cross the bridge?

एक 950 मीटर लम्बी रेलगाड़ी, एक 850 मीटर लम्बी पुल पार करती है। यदि रेलगाड़ी की गति 60 कि.मी./घंटा है, तो पुल पार करने में कितना समय (सेकण्ड में) लिया गया है?

Options:

- 1) 120
- 2) 108
- 3) 115
- 4) 102

Correct Answer: 108

Candidate Answer: 108

QID : 146 - What is the sum (in Rs) of money which became Rs 17545 at the rate of 10% per annum at compound interest in two years?

वह धनराशि (रु में) क्या है जो दो वर्षों में 10% की वार्षिक ब्याज दर से चक्रवृद्धि ब्याज पर 17545 रु हो गई?

Options:

- 1) 14500
- 2) 13800
- 3) 12800
- 4) 15200

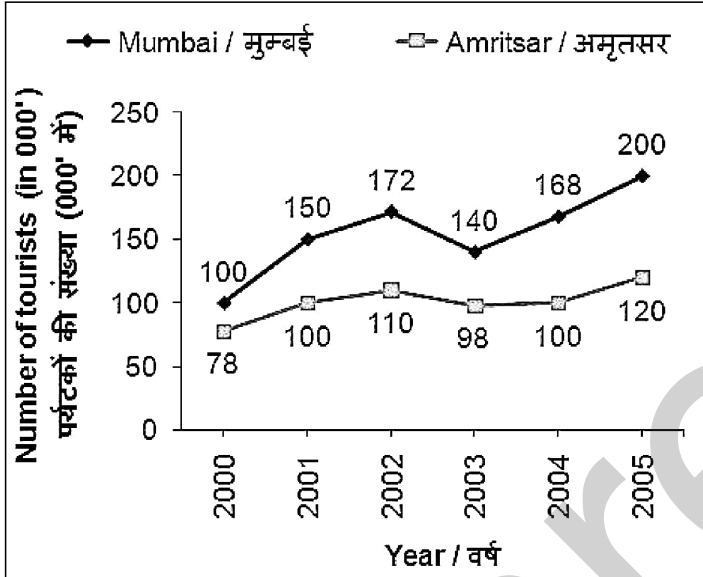
Correct Answer: 14500

Candidate Answer: 14500

QID : 147 -

The line chart given below shows the number of tourists (in 000') in Mumbai and Amritsar.

नीचे दिए गए रेखा चित्र में मुम्बई तथा अमृतसर में पर्यटकों की संख्या (000' में) को दर्शाया गया है।



What is the maximum difference (in 000') between the number of tourists in Mumbai and Amritsar for any year?

मुंबई तथा अमृतसर में किसी भी वर्ष के लिए पर्यटकों की संख्या के मध्य अधिकतम अंतर (000' में) क्या है?

Options:

- 1) 68
- 2) 52
- 3) 100
- 4) 80

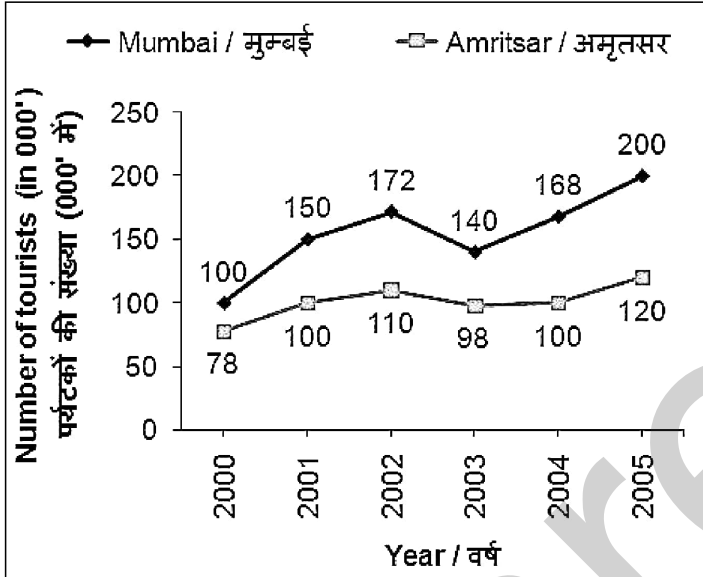
Correct Answer: 80

Candidate Answer: 80

QID : 148 -

The line chart given below shows the number of tourists (in 000') in Mumbai and Amritsar.

नीचे दिए गए रेखा चित्र में मुम्बई तथा अमृतसर में पर्यटकों की संख्या (000' में) को दर्शाया गया है।



What is the percentage change in the number of tourists in Mumbai from year 2003 to year 2004?

वर्ष 2003 से वर्ष 2004 तक मुंबई में पर्यटकों की संख्या में प्रतिशत परिवर्तन क्या है?

Options:

- 1) 25
- 2) 20
- 3) 16
- 4) 68

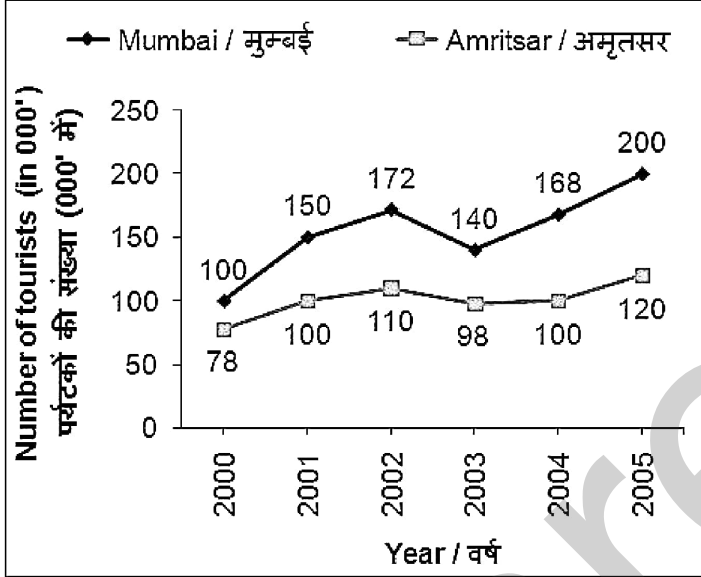
Correct Answer: 20

Candidate Answer: 20

QID : 149 -

The line chart given below shows the number of tourists (in 000') in Mumbai and Amritsar.

नीचे दिए गए रेखा चित्र में मुम्बई तथा अमृतसर में पर्यटकों की संख्या (000' में) को दर्शाया गया है।



The number of tourists in Amritsar in year 2005 is what percent of the number of tourists in Mumbai in year 2001?

वर्ष 2005 में अमृतसर में पर्यटकों की संख्या वर्ष 2001 में मुंबई में पर्यटकों की संख्या का कितना प्रतिशत है?

Options:

- 1) 75
- 2) 80
- 3) 120
- 4) 70

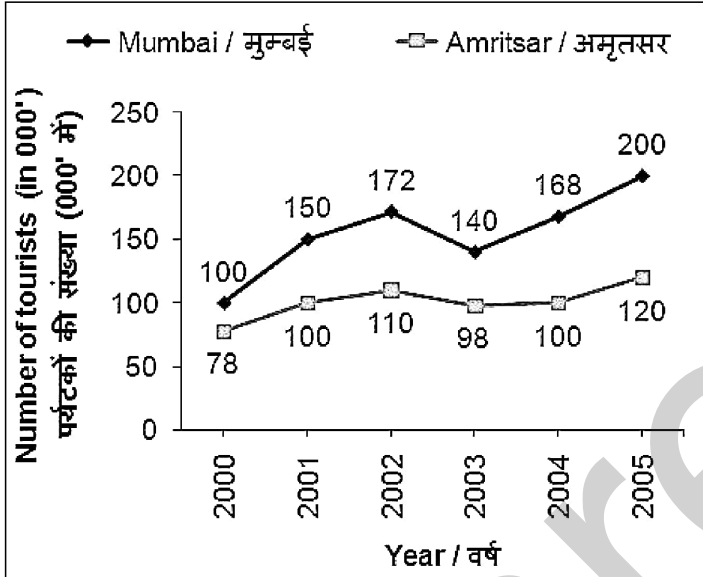
Correct Answer: 80

Candidate Answer: 120

QID : 150 -

The line chart given below shows the number of tourists (in 000') in Mumbai and Amritsar.

नीचे दिए गए रेखा चित्र में मुम्बई तथा अमृतसर में पर्यटकों की संख्या (000' में) को दर्शाया गया है।



What is the average number (in 000') of tourist in Mumbai from year 2000 to year 2004?

वर्ष 2000 से वर्ष 2004 तक मुंबई में पर्यटकों की औसत संख्या (000' में) क्या है?

Options:

- 1) 150
- 2) 146
- 3) 168
- 4) 172

Correct Answer: 146

Candidate Answer: 146

QID : 151 - In the following question, some part of the sentence may have errors. Find out which part of the sentence has an error and select the appropriate option. If a sentence is free from error, select 'No Error'.

The Justice Minister urged lawmakers (1)/ to back the bill and says that the (2)/ government would listen to the concerns (3)/ No Error (4)

Options:

- 1) 1
- 2) 2
- 3) 3
- 4) 4

Correct Answer: 2

Candidate Answer: 2

QID : 152 - In the following question, some part of the sentence may have errors. Find out which part of the sentence has an error and select the appropriate option. If a sentence is free from error, select 'No Error'.

The opposition Party had called to its (1)/ lawmakers to vote against the bill (2)/ if the government failed to make concessions (3)/ No Error (4)

Options:

- 1) 1
- 2) 2
- 3) 3
- 4) 4

Correct Answer: 1

Candidate Answer: 1

QID : 153 - In the following question, the sentence given with blank to be filled in with an appropriate word. Select the correct alternative out of the four and indicate it by selecting the appropriate option.

Power yoga is _____ exercise to reduce the belly fat.

Options:

- 1) a best
- 2) the best
- 3) one of the best
- 4) an best

Correct Answer: the best

Candidate Answer: the best

QID : 154 - In the following question, the sentence given with blank to be filled in with an appropriate word. Select the correct alternative out of the four and indicate it by selecting the appropriate option.

Megha has an _____ for music.

Options:

- 1) attitude
- 2) intuition
- 3) aptitude
- 4) imagination

Correct Answer: aptitude

Candidate Answer: aptitude

QID : 155 - In the following question, out of the given four alternatives, select the one which best expresses the meaning of the given word.

Panorama

Options:

- 1) Scene
- 2) Hide
- 3) Conquer
- 4) Rise

Correct Answer: Scene

Candidate Answer: Conquer

QID : 156 - In the following question, out of the given four alternatives, select the one which best expresses the meaning of the given word.

Peculiar

Options:

- 1) Normal
- 2) Regular
- 3) Usual
- 4) Strange

Correct Answer: Strange

Candidate Answer: Strange

QID : 157 - In the following question, out of the given four alternatives, select the one which best expresses the meaning of the given word.

Realm

Options:

- 1) Chubby
- 2) Field
- 3) Treason
- 4) Copy

Correct Answer: Field

Candidate Answer: Field

QID : 158 - In the following question, out of the given four alternatives, select the one which is opposite in meaning of the given word.

Unforeseen

Options:

- 1) Surprising
- 2) Accidental
- 3) Expected
- 4) Sudden

Correct Answer: Expected

Candidate Answer: Expected

QID : 159 - In the following question, out of the given four alternatives, select the one which is opposite in meaning of the given word.

Include

Options:

- 1) Admit
- 2) Build
- 3) Comprise
- 4) Reject

Correct Answer: Reject

Candidate Answer: Reject

QID : 160 - In the following question, out of the given four alternatives, select the one which is opposite in meaning of the given word.

Overt

Options:

- 1) Clear
- 2) Open
- 3) Hidden
- 4) Visible

Correct Answer: Hidden

Candidate Answer: Open

QID : 161 - In the following question, out of the four given alternatives, select the alternative which best expresses the meaning of the Idiom/Phrase.

Over head and ears

Options:

- 1) Very loud
- 2) Very excited
- 3) Completely trapped
- 4) Very angry

Correct Answer: Completely trapped

Candidate Answer: Very loud

QID : 162 - In the following question, out of the four given alternatives, select the alternative which best expresses the meaning of the Idiom/Phrase.

Giving a piece of one's mind

Options:

- 1) To flatter someone
- 2) To express oneself
- 3) To rebuke someone
- 4) To encourage someone

Correct Answer: To rebuke someone

Candidate Answer: To express oneself

QID : 163 - Improve the bracketed part of the sentence.

Residents (**says**) the firing lasted just around 10 minutes, indicating at a well-planned trap.



Options:

- 1) said
- 2) tells
- 3) complains
- 4) No Improvement

Correct Answer: said

Candidate Answer: said

QID : 164 - Improve the bracketed part of the sentence.

"Militant leadership **(are to be)** eliminated because they also misguide our children and lure them into this," said Inspector General of Police.

Options:

- 1) has to be
- 2) were to be
- 3) would have be
- 4) No Improvement

Correct Answer: has to be

Candidate Answer: has to be

QID : 165 - In the following question, out of the four given alternatives, select the alternative which is the best substitute of the phrase.

One for whom money is the most important thing

Options:

- 1) Materialistic
- 2) Divine
- 3) Disciple
- 4) Extravagant

Correct Answer: Materialistic

Candidate Answer: Materialistic

QID : 166 - In the following question, out of the four given alternatives, select the alternative which is the best substitute of the phrase.

One who hates reasoning

Options:

- 1) Misologist
- 2) Abortionist
- 3) Destructionalist
- 4) Prohibitionist

Correct Answer: Misologist

Candidate Answer: Misologist

QID : 167 - In the following question, a word has been written in four different ways out of which only one is correctly spelt. Select the correctly spelt word.

Options:

- 1) Chocolact
- 2) Choclote
- 3) Chokelate
- 4) Chocolate

Correct Answer: Chocolate

Candidate Answer: Chocolate

QID : 168 - In the following question, a word has been written in four different ways out of which only one is correctly spelt. Select the correctly spelt word.

Options:

- 1) Commentory
- 2) Comentary
- 3) Commentary
- 4) Comenttary

Correct Answer: Commentary

QID : 169 - Rearrange the parts of the sentence in correct order.

An equitable distribution of

P: for a sustained quality

Q: of life and global peace

R: resources has become essential

Options:

1) RPQ

2) QRP

3) PQR

4) RQP

Correct Answer: RPQ

Candidate Answer: RPQ

QID : 170 - Rearrange the parts of the sentence in correct order.

Ploughing along the

P: contour lines can

Q: water down the slopes

R: decelerate the flow of

Options:

1) PRQ

2) QPR

3) RQP

4) QRP

Correct Answer: PRQ

Candidate Answer: PRQ

QID : 171 - In the following passage some of the words have been left out. Read the passage carefully and select the correct answer for the given blank out of the four alternatives.

The task is not easy in a country where even now about fifty percent people are _____. But, however difficult, it can be done. It is being done in China. The entire resources of the country must be mobilized to wage a _____ against ignorance and illiteracy. Governments must spend the maximum amount for this object, as they would have done in a war against an enemy. There should be a _____ for students, and conscription of workers. Non-teaching personnel must be _____ to the utmost. School buildings must be thrown _____ for the illiterate adults in the evening.

where even now about fifty percent people are _____.

Options:

1) illiterate

2) educated

3) literate

4) experienced

Correct Answer: illiterate

Candidate Answer: illiterate

QID : 172 - In the following passage some of the words have been left out. Read the passage carefully and select the correct answer for the given blank out of the four alternatives.

The task is not easy in a country where even now about fifty percent people are _____. But, however difficult, it can be done. It is being done in China. The entire resources of the country must be mobilized to wage a _____ against ignorance and illiteracy. Governments must spend the maximum amount for this object, as they would have done in a war against an enemy. There should be a _____ for students, and conscription of workers. Non-teaching personnel must be _____ to the utmost. School buildings must be thrown _____ for the illiterate adults in the evening.

country must be mobilized to wage a _____ against

Options:

1) support

2) war

3) ceasefire

4) truce

Correct Answer: war

Candidate Answer: war

QID : 173 - In the following passage some of the words have been left out. Read the passage carefully and select the correct answer for the given blank out of the four alternatives.

The task is not easy in a country where even now about fifty percent people are _____. But, however difficult, it can be done. It is being done in China. The entire resources of the country must be mobilized to wage a _____ against ignorance and illiteracy. Governments must spend the maximum amount for this object, as they would have done in a war against an enemy. There should be a _____ for students, and conscription of workers. Non-teaching personnel must be _____ to the utmost. School buildings must be thrown _____ for the illiterate adults in the evening.

There should be a _____ for students,

Options:

- 1) optional
- 2) easy
- 3) compulsion
- 4) temporary

Correct Answer: compulsion

Candidate Answer: compulsion

QID : 174 - In the following passage some of the words have been left out. Read the passage carefully and select the correct answer for the given blank out of the four alternatives.

The task is not easy in a country where even now about fifty percent people are _____. But, however difficult, it can be done. It is being done in China. The entire resources of the country must be mobilized to wage a _____ against ignorance and illiteracy. Governments must spend the maximum amount for this object, as they would have done in a war against an enemy. There should be a _____ for students, and conscription of workers. Non-teaching personnel must be _____ to the utmost. School buildings must be thrown _____ for the illiterate adults in the evening.

personnel must be _____ to the utmost.

Options:

- 1) halt
- 2) stop
- 3) demobilize
- 4) mobilized

Correct Answer: mobilized

Candidate Answer: mobilized

QID : 175 - In the following passage some of the words have been left out. Read the passage carefully and select the correct answer for the given blank out of the four alternatives.

The task is not easy in a country where even now about fifty percent people are _____. But, however difficult, it can be done. It is being done in China. The entire resources of the country must be mobilized to wage a _____ against ignorance and illiteracy. Governments must spend the maximum amount for this object, as they would have done in a war against an enemy. There should be a _____ for students, and conscription of workers. Non-teaching personnel must be _____ to the utmost. School buildings must be thrown _____ for the illiterate adults in the evening.

be thrown _____ for the illiterate adults

Options:

- 1) open
- 2) close
- 3) shut
- 4) fold

Correct Answer: open

Candidate Answer: open

QID : 176 - Generally people engaged in which activity face seasonal and disguised unemployment?

आम तौर पर किस गतिविधि में लगे लोग मौसमी तथा छिपी बेरोजगारी का सामना करते हैं?

Options:

- 1) Service
सुविधा
- 2) Agriculture
कृषि
- 3) Manufacturing
विनिर्माण
- 4) Construction
निर्माण

Correct Answer: Agriculture

कृषि

Candidate Answer: Agriculture

कृषि

QID : 177 - Increase in unemployment indicates which type of economy?

बेरोजगारी में वृद्धि से किस प्रकार की अर्थव्यवस्था को संकेतिक करता है?

Options:

- 1) Healthy
स्वस्थ
- 2) Depressed
अवनत
- 3) Developed
विकसित
- 4) Stagnant
स्थिर

Correct Answer: Depressed
अवनत

Candidate Answer: Depressed
अवनत

QID : 178 - Directive principles of state policy in Indian constitution has been taken from which country's constitution?

भारतीय संविधान में राज्य नीति के निर्देशक सिद्धांतों को किस देश के संविधान से लिया गया है?

Options:

- 1) Irish constitution
आयरिश संविधान
- 2) US constitution
अमेरिकी संविधान
- 3) British constitution
ब्रिटिश संविधान
- 4) Australian constitution
ऑस्ट्रेलियाई संविधान

Correct Answer: Irish constitution
आयरिश संविधान

Candidate Answer: Irish constitution
आयरिश संविधान

QID : 179 - Under which article supreme court of India issues writs?

किस लेख के तहत भारत के सर्वोच्च न्यायालय आदेश जारी करते हैं?

Options:

- 1) Article 20
अनुच्छेद 20
- 2) Article 56
अनुच्छेद 56
- 3) Article 68
अनुच्छेद 68
- 4) Article 32
अनुच्छेद 32

Correct Answer: Article 32
अनुच्छेद 32

Candidate Answer: Article 32
अनुच्छेद 32

QID : 180 - Which among the following was **NOT** a Chinese pilgrim to India?

निम्नलिखित में से कौन भारत में एक चीनी तीर्थयात्री नहीं था?

Options:

- 1) Al-Biruni
अल-बिरूनी
- 2) Fa-hien
फ़ाहियान
- 3) Xuan Zang
सूआन ज़ांग

- 4) I-Sing
ई-सिंग

Correct Answer: Al-Biruni
अल-बिरूनी

Candidate Answer: Xuan Zang
सूआन ज़ांग

QID : 181 - What was Akbar's age when he became emperor?

Options:

- 1) 9
- 2) 13
- 3) 15
- 4) 17

Correct Answer: 13

Candidate Answer: 13

QID : 182 - The Earth rotates by what degree in four minutes?

पृथ्वी चार मिनट में कितने अंश घूम जाती है?

Options:

- 1) 4°
- 2) 10°
- 3) 36°
- 4) 1°

Correct Answer: 1°

Candidate Answer: 1°

QID : 183 - Which strait connects Arctic Ocean with the Pacific Ocean?

कौन सी जलसंधि आर्कटिक महासागर को प्रशांत महासागर से जोड़ती है?

Options:

- 1) Gibraltar Strait
जिब्राल्टर जलसंधि
- 2) Dover Strait
डोवर जलसंधि
- 3) Berring Strait
बेरिंग जलसंधि
- 4) Sunda Strait
सुंडा जलसंधि

Correct Answer: Berring Strait

बेरिंग जलसंधि

Candidate Answer: Gibraltar Strait

जिब्राल्टर जलसंधि

QID : 184 - Bowman's capsules are found in _____.

बोमैन्स कैप्सूल _____ में पाए जाते हैं।

Options:

- 1) Kidney of mammals
स्तनधारियों की गुर्दा
- 2) Heart of mammals
स्तनधारियों का दिल
- 3) Liver of mammals
स्तनधारियों के जिगर
- 4) Cerebellum of rabbit
खरगोश की सेरेब्यूलम

Correct Answer: Kidney of mammals

स्तनधारियों की गुर्दा

Candidate Answer: Liver of mammals

स्तनधारियों के जिगर

QID : 185 - The maximum possible volume of air, which can be inhaled by humans, is called as _____.

हवा की अधिकतम संभव मात्रा, जिसे इंसानों द्वारा साँस में लिया जा सकता है, को _____ कहा जाता है।

Options:

- 1) Inspirations capacity
प्रेरणा क्षमता
- 2) Vital lung capacity
महत्वपूर्ण फेफड़े की क्षमता
- 3) Residual volume
अवशिष्ट मात्रा
- 4) Total lung capacity
कुल फेफड़े की क्षमता

Correct Answer: Total lung capacity

कुल फेफड़े की क्षमता

Candidate Answer: Vital lung capacity

महत्वपूर्ण फेफड़े की क्षमता

QID : 186 - What is broad, green part of leaf called?

पत्ती के चपटे हरे भाग को क्या कहते हैं?

Options:

- 1) Base
तल
- 2) Top
सतह
- 3) Petiole
पर्णवृत्त
- 4) Lamina
फलक

Correct Answer: Lamina

फलक

Candidate Answer: Lamina

फलक

QID : 187 - The SI unit of density is _____.

घनत्व का एस. आई. इकाई _____ है।

Options:

- 1) kg m^{-3}
- 2) g cm^{-3}
- 3) kg^{-2}
- 4) g m^3

Correct Answer: kg m^{-3}

Candidate Answer: kg m^{-3}

QID : 188 - When an object is lifted vertically upwards from ground, then its _____.

जब एक वस्तु को तल से सीधा उपर की ओर उठाया जाता है, तब उसकी _____।

Options:

- 1) potential energy decreases
स्थितिज ऊर्जा घटती है
- 2) potential energy increases
स्थितिज ऊर्जा बढ़ती है
- 3) potential energy remains same
स्थितिज ऊर्जा समान रहती है
- 4) none of these
इनमें से कोई नहीं

Correct Answer: potential energy increases

स्थितिज ऊर्जा बढ़ती है

Candidate Answer: potential energy increases

स्थितिज ऊर्जा बढ़ती है

QID : 189 - What is the process of transferring files from internet to computer memory called?

इंटरनेट से कम्प्यूटर मेमोरी में फाइलों को स्थानांतरित करने की प्रक्रिया क्या है?

Options:

- 1) Uploading
अपलोडिंग
- 2) Downloading
डाउनलोडिंग
- 3) Bookmarking
बुकमार्क
- 4) Hyperlinking
हाइपरलिंकिंग

Correct Answer: Downloading

डाउनलोडिंग

Candidate Answer: Downloading

डाउनलोडिंग

QID : 190 - Which of the following are isomers?

निम्नलिखित में से कौन से समावयवी हैं?



Options:

- 1) Ethane and Propane
इथेन तथा प्रोपेन
- 2) Methane & Methene
मीथेन तथा मीथीन
- 3) Propane & Propene
प्रोपेन तथा प्रोपीन
- 4) Butane and Isobutane
ब्यूटेन तथा आइसोबूटेन

Correct Answer: Butane and Isobutane
ब्यूटेन तथा आइसोबूटेन

Candidate Answer: Butane and Isobutane
ब्यूटेन तथा आइसोबूटेन

QID : 191 - The substance that loses electrons is called _____.

इलेक्ट्रॉनों को खोने वाली पदार्थ _____ कहलाता है।

Options:

- 1) oxidizing agent
ऑक्सीकरण एजेंट
- 2) reducing agent
अपचायक कारक
- 3) catalyst
उत्प्रेरक
- 4) None of these
इनमें से कोई नहीं

Correct Answer: reducing agent
अपचायक कारक

Candidate Answer: oxidizing agent
ऑक्सीकरण एजेंट

QID : 192 - Food web is a system of interlocking and interdependent _____.

खाद्य वेब संयोजन तथा एक दूसरे पर निर्भर _____ एक प्रणाली है?

Options:

- 1) food cycles
खाद्य चक्रों
- 2) Food chains
खाद्य श्रृंखलाओं
- 3) Food system
खाद्य प्रणालियों
- 4) None of these
इनमें से कोई नहीं

Correct Answer: Food chains
खाद्य श्रृंखलाओं

Candidate Answer: Food chains
खाद्य श्रृंखलाओं

QID : 193 - What is the aim of Pandit Deendayal Upadhyay Unnat Krishi Shiksha Scheme?

पंडित दीनदयाल उपाध्याय उन्नत कृषि शिक्षा योजना का उद्देश्य क्या है?

Options:

- 1) To promote agricultural productivity
कृषि उत्पादकता को बढ़ावा देने के लिए
- 2) To promote agricultural health
कृषि स्वास्थ्य को बढ़ावा देने के लिए
- 3) To promote agricultural education
कृषि शिक्षा को बढ़ावा देने के लिए
- 4) None of these
इनमें से कोई नहीं

Correct Answer: To promote agricultural education
कृषि शिक्षा को बढ़ावा देने के लिए

Candidate Answer: To promote agricultural education
कृषि शिक्षा को बढ़ावा देने के लिए

QID : 194 - Which of the following is **NOT** correctly paired?

निम्नलिखित में से कौन सा युग्म सही **नहीं** है?



Options:

- 1) E. Torricelli – Barometer
ई. टोरीसीली - बैरोमीटर
- 2) Neutron – James Chadwick
न्यूट्रॉन - जेम्स चाडविक
- 3) Penicillin – F. Banting
पेनिसिलिन – एफ. बैटिंग
- 4) Revolver – Samuel Colt
रिवॉल्वर - सैमुअल कोल्ट

Correct Answer: Penicillin – F. Banting
पेनिसिलिन – एफ. बैटिंग

Candidate Answer: Penicillin – F. Banting
पेनिसिलिन – एफ. बैटिंग

QID : 195 - 'Ring' is the place where _____ is played.

'रिंग' वह जगह है जहाँ _____ खेला जाता है।

Options:

- 1) Boxing
मुक्केबाज़ी
- 2) Cricket
क्रिकेट
- 3) Football
फुटबॉल
- 4) Skating
स्केटिंग

Correct Answer: Boxing
मुक्केबाज़ी

Candidate Answer: Boxing
मुक्केबाज़ी

QID : 196 - Alahi Darwaja is a _____ to the enclosure of Quwat-ul-Islam mosque at Delhi.

अलाही दरवाजा दिल्ली स्थित कुव्वत-उल-इस्लाम मस्जिद के प्रांगण के लिए एक _____ है।

Options:

- 1) Gateway
प्रवेश द्वार
- 2) Minaret
मिनारेट
- 3) Dome
डोम
- 4) Arch
अर्क

Correct Answer: Gateway
प्रवेश द्वार

Candidate Answer: Minaret
मिनारेट

QID : 197 - Shankha Ghosh has won which award for the year 2016?

वर्ष 2016 के लिए शंख घोष ने कौन सा पुरस्कार जीता है?

Options:

- 1) Dronacharya
द्रोणाचार्य
- 2) Arjun
अर्जुन
- 3) Jnanpith
ज्ञानपीठ
- 4) Nobel
नोबेल

Correct Answer: Jnanpith
ज्ञानपीठ

Candidate Answer: Jnanpith
ज्ञानपीठ

QID : 198 - Who is the author of the book named "Out of My Comfort Zone"?

"आउट ऑफ माई कंफर्ट ज़ोन" नामक पुस्तक के लेखक कौन हैं?

Options:

- 1) Sachin Tendulkar
सचिन तेंदुलकर
- 2) Steve Waugh
स्टीव वॉ
- 3) Harbhajan Singh
हरभजन सिंह
- 4) Sunil Gavaskar
सुनील गावस्कर

Correct Answer: Steve Waugh
स्टीव वॉ

Candidate Answer: Steve Waugh
स्टीव वॉ

QID : 199 - India became the first non-member of the Treaty of non-proliferation of Nuclear weapons (NPT) to have signed civilian nuclear deal with which country?

किस देश के साथ भारत असैन्य परमाणु करार पर हस्ताक्षर करने वाला प्रथम परमाणु हथियार अप्रसार संधि (एन.पी.टी.) का गैर सदस्य देश बन गया है?

Options:

- 1) Japan
जापान
- 2) Nepal
नेपाल
- 3) Pakistan
पाकिस्तान
- 4) Indonesia
इंडोनेशिया

Correct Answer: Japan
जापान

Candidate Answer: Japan
जापान

QID : 200 - Bagan city, the world's largest and densest concentration of Buddhist temples, pagodas, stupas and ruins is situated in which country?

बागान शहर, विश्व के सबसे बड़े तथा अधिक बौद्ध मंदिर, पगोडा, स्तूप तथा खंडहर किस देश में स्थित हैं?

Options:

- 1) Myanmar
म्यांमार
- 2) Bangladesh
बांग्लादेश
- 3) Bhutan
भूटान
- 4) Sri Lanka
श्रीलंका

Correct Answer: Myanmar
म्यांमार

Candidate Answer: Myanmar
म्यांमार