



Staff Selection Commission
(Government Of India)

REGISTRATION NUMBER : examstocks.com
EXAM DATE : 15-October-2017
EXAM NAME : SSC Examination TOTAL MARKS : 150

CANDIDATE NAME : examstocks.com
EXAM START TIME : 16:30:00
EXAM DURATION : 01:30 Hrs
TOTAL NO OF QUESTIONS : 100

QID : 201 -

In the following question, select the number which can be placed at the sign of question mark (?) from the given alternatives.

निम्नलिखित प्रश्न में दिए गए विकल्पों में से प्रश्न चिह्न (?) के स्थान पर आने वाली संख्या को चुनिए।

4	7
3	12

3	7
5	13

6	?
8	17

Options:

- 1) 5
- 2) 4
- 3) 3
- 4) 7

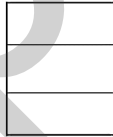
Correct Answer: 5

Candidate Answer: 5

QID : 202 -

How many quadrilaterals are there in the given figure?

दी गई आकृति में कितने चतुर्भुज हैं?



Options:

- 1) 4
- 2) 5
- 3) 6
- 4) 8

Correct Answer: 6

Candidate Answer: 6

QID : 203 -

A word is represented by only one set of numbers as given in any one of the alternatives. The sets of numbers given in the alternatives are represented by two classes of alphabets as shown in the given two matrices. The columns and rows of **Matrix-I** are numbered from 0 to 4 and that of **Matrix-II** are numbered from 5 to 9. A letter from these matrices can be represented first by its row and next by its column, for example, 'A' can be represented by 24, 95, etc., and 'M' can be represented by 11, 66, etc. Similarly, you have to identify the set for the word "MONK".

एक शब्द केवल एक संख्या-समूह द्वारा दर्शाया गया है, जैसा कि विकल्पों में से किसी एक में दिया गया है। विकल्पों में दिए गए संख्या-समूह अक्षरों के दो वर्गों द्वारा दर्शाए गए हैं, जैसा कि दिए गए दो आव्यूहों में है। आव्यूह-I के स्तम्भ और पंक्ति की संख्या 0 से 4 है और आव्यूह-II की 5 से 9। इन आव्यूहों से एक अक्षर को पहले उसकी पंक्ति और बाद में स्तम्भ संख्या द्वारा दर्शाया जा सकता है। उदाहरण के लिए 'A' को 24, 95, आदि द्वारा दर्शाया जा सकता है तथा 'M' को 11, 66, आदि द्वारा दर्शाया जा सकता है। इसी तरह से आपको प्रश्न में दिए शब्द "MONK" के लिए समूह को पहचानना है।

Matrix-I आव्यूह-I						Matrix-II आव्यूह-II					
	0	1	2	3	4		5	6	7	8	9
0	T	Q	W	G	K	5	Z	O	D	C	X
1	K	M	O	P	S	6	G	M	N	H	V
2	I	P	X	K	A	7	E	O	Y	K	T
3	F	H	J	L	N	8	D	F	W	L	R
4	A	R	Q	V	X	9	A	E	U	N	P

Options:

- 1) 11, 12, 34, 86
- 2) 11, 56, 98, 04
- 3) 66, 76, 88, 10
- 4) 86, 02, 32, 31

Correct Answer: 11, 56, 98, 04

Candidate Answer: 11, 56, 98, 04

QID : 204 -

From the given answer figures, select the one in which the question figure is hidden/embedded.

दी गई उत्तर आकृतियों में से उस उत्तर आकृति को चुनिए जिस में प्रश्न आकृति निहित है।



Options:

1)



2)



3)



4)



Correct Answer:



Candidate Answer:



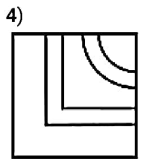
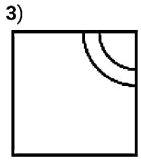
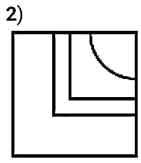
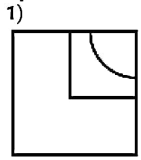
QID : 205 -

Which answer figure will complete the pattern in the question figure?

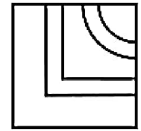
कौन सी उत्तर आकृति प्रश्न आकृति के प्रतिरूप को पूरा करेगी?



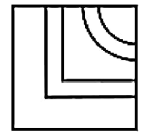
Options:



Correct Answer:



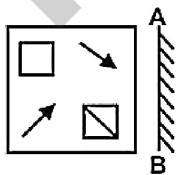
Candidate Answer:



QID : 206 -

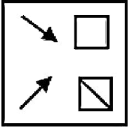
If a mirror is placed on the line AB, then which of the answer figures is the right image of the given figure?

यदि एक दर्पण को AB रेखा पर रखा जाए, तो दी गई उत्तर आकृतियों में से कौन सी आकृति प्रश्न आकृति की सही प्रतिबिम्ब होगी?

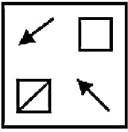


Options:

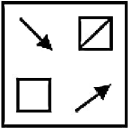
1)



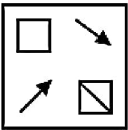
2)



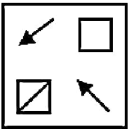
3)



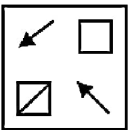
4)



Correct Answer:



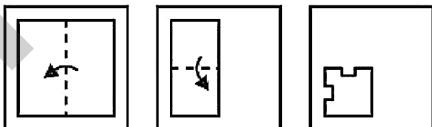
Candidate Answer:



QID : 207 -

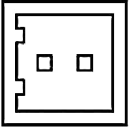
A piece of paper is folded and punched as shown below in the question figures. From the given answer figures, indicate how it will appear when opened?

नीचे के प्रश्न आकृतियों में दिखाए अनुसार कागज को मोड़कर छेदने तथा खोलने के बाद वह किस उत्तर आकृति जैसा दिखाई देगा?

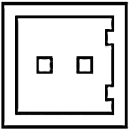


Options:

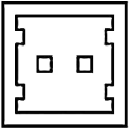
1)




2)



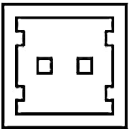
3)



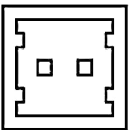
4)



Correct Answer:



Candidate Answer:



QID : 208 - By interchanging which two signs the equation will be correct?

$$19 \times 3 - 6 \times 4 + 4 = 77$$

किन दो चिह्नों को आपस में परस्पर बदलने पर समीकरण सही हो जाएगा?

$$19 \times 3 - 6 \times 4 + 4 = 77$$

Options:

1) + and x

+ तथा x

2) = and x

= तथा x

3) + and -

+ तथा -

4) - and x

- तथा x

Correct Answer: + and -

+ तथा -

Candidate Answer: = and x

= तथा x

QID : 209 - If $5 \# 6 \# 7 = 9$ and $6 \# 9 \# 5 = 10$, then

$$7 \# 3 \# 6 = ?$$

यदि $5 \# 6 \# 7 = 9$ तथा $6 \# 9 \# 5 = 10$ हो, तो

$$7 \# 3 \# 6 = ?$$

Options:

1) 8

2) 10

3) 12

4) 6

Correct Answer: 8

Candidate Answer: 12

QID : 210 - Arrange the given words in the sequence in which they occur in the dictionary.

1. Owl
2. Ornament
3. Orange
4. Oxidation
5. Omnious

निम्नलिखित शब्दों को शब्दकोश में आने वाले क्रम के अनुसार लिखें।

1. Owl
2. Ornament
3. Orange
4. Oxidation
5. Omnious

Options:

1) 53241

2) 53214

3) 52341

4) 52314

Correct Answer: 53214

Candidate Answer: 53241

QID : 211 - In the following question, select the missing number from the given series.

16, 25, 36, 49, ?

निम्नलिखित प्रश्न में दिए गए विकल्पों में से लुप्त अंक ज्ञात कीजिए।

16, 25, 36, 49, ?

Options:

1) 64

2) 65

3) 81

4) 66

Correct Answer: 64

Candidate Answer: 64

QID : 212 - A series is given with one term missing. Select the correct alternative from the given ones that will complete the series.

ABC, DEF, HIJ, MNO, ?

एक अनुक्रम दिया गया है, जिसमें से एक पद लुप्त है। दिए गए विकल्पों में से वह सही विकल्प चुनिए, जो अनुक्रम को पूरा करे।

ABC, DEF, HIJ, MNO, ?

Options:

1) RST

2) PQR

3) STV

4) STU

Correct Answer: STU

Candidate Answer: STU

QID : 213 - In the following question, select the odd word from the given alternatives.

निम्नलिखित प्रश्न में दिए गए विकल्पों में से विषम शब्द को चुनिए।

Options:

1) Axe

कुल्हाड़ी

2) Tube

नली

3) Light

प्रकाश

4) Mirror

शीशा

Correct Answer: Light

प्रकाश

Candidate Answer: Light

प्रकाश

QID : 214 - In the following question, select the odd number from the given alternatives.

निम्नलिखित प्रश्न में दिए गए विकल्पों में से विषम संख्या को चुनिए।

Options:

- 1) 225
- 2) 169
- 3) 625
- 4) 615

Correct Answer: 615

Candidate Answer: 169

QID : 215 - In the following question, select the odd letters from the given alternatives.

निम्नलिखित प्रश्न में दिए गए विकल्पों में से विषम अक्षरों को चुनिए।

Options:

- 1) DB
- 2) TR
- 3) YX
- 4) OM

Correct Answer: YX

Candidate Answer: YX

QID : 216 - Identify the diagram that best represents the relationship among the given classes.

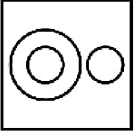
Father, Brother, Male

वह आरेख चुनिए जो नीचे दिए गए वर्गों के बीच के संबंध का सही निरूपण करता है।

पिता, भाई, पुरुष

Options:

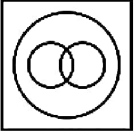
1)



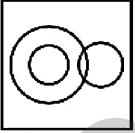
2)



3)



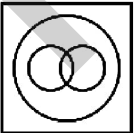
4)



Correct Answer:



Candidate Answer:



QID : 217 - In the following question, select the related word from the given alternatives.

Knife : Cut :: Spoon : ?

निम्नलिखित प्रश्न में दिए गए विकल्पों में से संबंधित शब्द को चुनिए।

चाकू : काटना :: चम्मच : ?

Options:

- 1) Steel
इस्पात
- 2) Eat
खाना
- 3) Plate
प्लेट
- 4) Plastic
प्लास्टिक

Correct Answer: Eat
खाना

Candidate Answer: Eat
खाना

QID : 218 - In the following question, select the related number from the given alternatives.

115 : 7 :: 638 : ?

निम्नलिखित प्रश्न में दिए गए विकल्पों में से संबंधित संख्या को चुनिए।

115 : 7 :: 638 : ?

Options:

- 1) 15
- 2) 17
- 3) 10
- 4) 0

Correct Answer: 17

Candidate Answer: 17

QID : 219 - In the following question, select the related letters from the given alternatives.

ZAB : YZA :: XYZ : ?

निम्नलिखित प्रश्न में दिए गए विकल्पों में से संबंधित अक्षरों को चुनिए।

ZAB : YZA :: XYZ : ?

Options:

- 1) WXZ
- 2) WXY
- 3) ABC
- 4) MNO

Correct Answer: WXY

Candidate Answer: WXY

QID : 220 - In the following question, select the word which cannot be formed using the letters of the given word.

STEADFAST

निम्नलिखित विकल्पों में से वह शब्द चुनिए जो दिए गए शब्द के अक्षरों का प्रयोग करके नहीं बनाया जा सकता।

STEADFAST

Options:

- 1) DEAN
- 2) DEAF
- 3) FAST
- 4) FED

Correct Answer: DEAN

Candidate Answer: DEAN

QID : 221 - Present ages of P and Q are in the ratio 5 : 7 respectively. After eight years this ratio becomes 3 : 4. What is the present age (in years) of P?

P तथा Q की वर्तमान आयु क्रमशः 5 : 7 के अनुपात में है। आठ वर्ष पश्चात यह अनुपात 3 : 4 हो जाता है। P की वर्तमान आयु (वर्षों में) क्या है?

Options:

- 1) 32
- 2) 48
- 3) 40
- 4) 56

Correct Answer: 40

Candidate Answer: 40

QID : 222 - P remembers his birthday is before 23rd March. P's father remembers his birthday is after 21st March. On which date of March is his birthday?

P को याद है कि उसका जन्मदिन 23 मार्च से पूर्व है। P के पिता को याद है कि उसका जन्मदिन 21 मार्च के पश्चात है। उसका जन्मदिन मार्च की कौन सी तिथि को है?

Options:

- 1) 21
- 2) 22
- 3) 23
- 4) 24

Correct Answer: 22

Candidate Answer: 22

QID : 223 - In the following question below are given some statements followed by some conclusions. Taking the given statements to be true even if they seem to be at variance from commonly known facts, read all the conclusions and then decide which of the given conclusion logically follows the given statements

Statements:

- I. All blue are black.
- II. Some red are black.

Conclusions:

- I. All red are black.
- II. No red is black.

नीचे दिए गए प्रश्न में कुछ कथन और उनके बाद उन कथनों पर आधारित कुछ निष्कर्ष दिए गए हैं, हालांकि उनमें सामान्य ज्ञात तथ्यों से भिन्नता हो सकती है। सभी निष्कर्ष पढ़ें और फिर निर्धारित करें कि दिए गए कौन से निष्कर्ष, दिए गए कथनों के आधार पर युक्तिसंगत हैं।

कथन:

- I. सभी नीले काले हैं।
- II. कुछ लाल काले हैं।

निष्कर्ष:

- I. सभी लाल काले हैं।
- II. कोई लाल काले नहीं है।

Options:

1) Only conclusion (I) follows.

केवल निष्कर्ष (I) सही है।

2) Only conclusion (II) follows.

केवल निष्कर्ष (II) सही है।

3) Both conclusion follow.

दोनों ही निष्कर्ष सही हैं।

4) Neither conclusion (I) nor conclusion (II) follows.

न तो निष्कर्ष (I) न ही निष्कर्ष (II) सही है।

Correct Answer: Neither conclusion (I) nor conclusion (II) follows.

न तो निष्कर्ष (I) न ही निष्कर्ष (II) सही है।

Candidate Answer: Neither conclusion (I) nor conclusion (II) follows.

न तो निष्कर्ष (I) न ही निष्कर्ष (II) सही है।

QID : 224 - In a certain code language, "GAIN" is written as "HCLR". How is "HOUR" written in that code language?

एक विशिष्ट कोड भाषा में, "GAIN" को "HCLR" लिखा जाता है। इस कोड भाषा में "HOUR" को किस प्रकार लिखा जाएगा?

Options:

1) IQXV

2) IQXU

3) IPXV

4) IPWU

Correct Answer: IQXV

Candidate Answer: IQXV

QID : 225 - In a certain code language, "KIT" is written as "39" and "KAT" is written as "31". How is "MIX" written in that code language?

एक विशिष्ट कोड भाषा में, "KIT" को "39" तथा "KAT" को "31" लिखा जाता है। इस कोड भाषा में "MIX" को किस प्रकार लिखा जाएगा?

Options:

1) 44

2) 46

3) 45

4) 47

Correct Answer: 45

Candidate Answer: 45

QID : 226 - If product of two numbers is 432 and one number is 16. What is the second number?

यदि दो संख्याओं का गुणनफल 432 है तथा एक संख्या 16 है। दूसरी संख्या क्या है?

Options:

1) 17

2) 23

3) 33

4) 27

Correct Answer: 27
Candidate Answer: 27

QID : 227 - How many positive factors of 425 are there?

425 के कितने धनात्मक गुणखंड हैं?

Options:

- 1) 4
- 2) 6
- 3) 9
- 4) 10

Correct Answer: 6
Candidate Answer: 4

QID : 228 - How many times digit '0' appears in the number from 1 to 100?

1 से 100 तक की संख्या में अंक '0' कितनी बार आता है?

Options:

- 1) 11
- 2) 17
- 3) 10
- 4) 13

Correct Answer: 11
Candidate Answer: 11

QID : 229 - What is the units digit of $(311)^{51} \times (25)^{36}$?

$(311)^{51} \times (25)^{36}$ का इकाई अंक क्या है?

Options:

- 1) 0
- 2) 2
- 3) 5
- 4) 6

Correct Answer: 5
Candidate Answer: 5

QID : 230 -

What is the value of $\sqrt{645} - \sqrt{400}$?

$\sqrt{645} - \sqrt{400}$ का मान क्या है?

Options:

- 1) 24
- 2) 30
- 3) 25
- 4) 20

Correct Answer: 25
Candidate Answer: 25

QID : 231 - Which of the following statement is true?

- I. 7^4 is odd.
- II. 4^7 is odd.

निम्नलिखित में से कौन सा कथन सत्य है?

- I. 7^4 विषम है।
- II. 4^7 विषम है।

Options:

- 1) Only I
केवल I
- 2) Only II
केवल II
- 3) Both I and II
I तथा II दोनों
- 4) Neither I nor II
न तो I न ही II

Correct Answer: Only I
केवल I

Candidate Answer: Only II
केवल II

QID : 232 - P can do a piece of work in 20 days and Q can do the same piece of work in 30 days. They start working together and work for 5 days and then both leave the work. R alone finishes the remaining work in 21 days. In how many days will R alone finish the whole work?

P एक कार्य को 20 दिनों में पूरा कर सकता है तथा Q उसी कार्य को 30 दिनों में पूरा कर सकता है। दोनों एक साथ कार्य करना प्रारंभ करते हैं तथा 5 दिनों कार्य पूरा करते हैं तथा फिर दोनों कार्य छोड़ देते हैं। R शेष कार्य को अकेला 21 दिनों में पूरा करता है। R अकेला पूरे कार्य को कितने दिनों में पूरा करेगा?

Options:

- 1) 30
- 2) 33
- 3) 36
- 4) 42

Correct Answer: 36

Candidate Answer: 36

QID : 233 - Suraj and Ratan together can do a work in 12 days. Suraj alone can do the work in 15 days. In how many days can Ratan alone do the work?

रतन तथा सूरज एक कार्य को मिलकर 12 दिनों में पूरा कर सकते हैं। सूरज अकेला कार्य को 15 दिनों में पूरा कर सकता है। रतन अकेला उस कार्य को कितने दिनों में पूरा करेगा?

Options:

- 1) 70
- 2) 60
- 3) 65
- 4) 75

Correct Answer: 60

Candidate Answer: 60

QID : 234 - If the area of an equilateral triangle is $36\sqrt{3} \text{ m}^2$, then what is the value (in metres) of its height?

यदि किसी समबाहु त्रिभुज का क्षेत्रफल $36\sqrt{3} \text{ मी.}^2$ है, तो उसकी ऊंचाई का मान (मीटर में) क्या है?

Options:

- 1) 6
- 2) $6\sqrt{3}$
- 3) 18
- 4) $3\sqrt{3}$

Correct Answer: $6\sqrt{3}$

Candidate Answer: 6

QID : 235 - If the difference between discount of 25% and two successive discounts of 10% on a certain bill is Rs 84, then what is the amount (in Rs) of the bill?

यदि एक बिल में 25% तथा दो 10% की क्रमागत छूटों के बीच 84 रु का अंतर आता है, तो बिल की राशि (रु में) कितनी है?

Options:

- 1) 1600
- 2) 1400
- 3) 1250
- 4) 1380

Correct Answer: 1400

Candidate Answer: 1400

QID : 236 - If a shopkeeper marks the price of goods 60% more than their cost price and allows a discount of 30%, then what is his gain or loss percent?

यदि एक दुकानदार अपने सामान पर उसके क्रय मूल्य से 60% अधिक मूल्य अंकित करता है तथा 30% की छूट देता है, तो उसका लाभ अथवा हानि प्रतिशत क्या है?

Options:

- 1) 12%, Profit
12%, लाभ
- 2) 12%, Loss
12%, हानि
- 3) 10%, Loss
10%, हानि
- 4) 20%, Profit
20%, लाभ

Correct Answer: 12%, Profit

12%, लाभ

Candidate Answer: 12%, Profit

12%, लाभ

QID : 237 - If 7.7 of $a = 1.21$ of b , then what is $a : b$?

यदि a का $7.7 = b$ का 1.21 हो, तो $a : b$ क्या है?

Options:

- 1) 11 : 70
- 2) 11 : 77
- 3) 7 : 11
- 4) 7 : 3

Correct Answer: 11 : 70

Candidate Answer: 11 : 70

QID : 238 - Of three positive numbers, the ratio of 1^{st} and 2^{nd} is $7 : 3$, that of 2^{nd} and 3^{rd} is $4 : 5$. The product of 1^{st} and 3^{rd} is 10500. What is the sum of the three numbers?

तीन धनात्मक संख्याओं में, पहली तथा दूसरी का अनुपात $7 : 3$ तथा तीसरी का अनुपात $4 : 5$ है। पहली तथा तीसरी का गुणनफल 10500 है। तीनों संख्याओं का योग क्या है?

Options:

1) 1600

2) 275

3) 1675

4) 1375

Correct Answer: 275

Candidate Answer: 275

QID : 239 - The average age of students in a class is 9 years. If a student with age 19 years joins the class, then new average age becomes 10 years. How many students are there in the class?

एक कक्षा में छात्रों की औसत आयु 9 वर्ष है। यदि 19 वर्ष आयु वाला एक छात्र कक्षा में शामिल हो जाता है, तो नयी औसत आयु 10 वर्ष हो जाती है। कक्षा में कितने छात्र हैं?

Options:

1) 7

2) 9

3) 8

4) 10

Correct Answer: 10

Candidate Answer: 9

QID : 240 - By selling an article for Rs 252 there is a loss of 16%. What is the cost price (in Rs) of the article?

एक वस्तु को 252 रु में बेचने पर 16% की हानि होती है। वस्तु का क्रय मूल्य (रु में) क्या है?

Options:

1) 325

2) 300

3) 280

4) 295

Correct Answer: 300

Candidate Answer: 300

QID : 241 - By Selling 2 articles for 1 rupee, a man gains 20%. Had he sold 4 articles per rupee, then what will be the loss percentage?

1 रुपये में 2 वस्तुओं को बेचने पर एक व्यक्ति को 20% का लाभ होता है। यदि वह एक रुपये में 4 वस्तुएँ बेचे, तो हानि प्रतिशत क्या होगा?

Options:

1) 25

2) 20

3) 30

4) 40

Correct Answer: 40

Candidate Answer: 25

QID : 242 - A number is increased first by 20% and then it is decreased by 20%. What is the percentage change in the number?

एक संख्या को पहले 20% से बढ़ाया जाता है तथा फिर उसे 20% से घटाया जाता है। संख्या में कितना प्रतिशत परिवर्तन हुआ है?

Options:

1) 4% decrease

4% की कमी

2) 4% increase

4% की वृद्धि

3) 40% increase

40% की वृद्धि

4) No change

कोई परिवर्तन नहीं

Correct Answer: 4% decrease

4% की कमी

Candidate Answer: 4% decrease

4% की कमी

QID : 243 - Total cost of 70 fans is Rs 56000. If cost of each fan decreases by 10% and number of fans decrease by 10%, then what will be the total cost (in Rs) of fans?

70 पंखों का कुल मूल्य 56000 रु है। यदि प्रत्येक पंखे का मूल्य 10% से कम कर दिया जाए तथा पंखों की संख्या 10% से कम हो जाए, तो पंखों का कुल मूल्य (रु में) क्या होगा?

Options:

1) 45360

2) 48200

3) 46680

4) 47420

Correct Answer: 45360

Candidate Answer: 45360

QID : 244 - The speed of a stream is 3 km/hr. A boat goes 55 km and comes back to the starting point in 16 hours. What is the speed (in km/hr) of the boat in still water?

धारा की गति 3 कि.मी./घंटा है। एक नाव 55 [] /घंटा में क्या है?

Options:

- 1) 16
- 2) 8
- 3) 10
- 4) 9

Correct Answer: 8

Candidate Answer: 10

QID : 245 - Two men are standing on opposite ends of a bridge 1500 metres long. If they walk towards each other with speeds of 5 m/s and 7 m/s respectively, then in how much time (in minutes) will they meet each other?

दो व्यक्ति 1500 मीटर लम्बे पुल के विपरीत किनारों पर खड़े हैं। यदि वे क्रमशः 5 मी./से. तथा 7 मी./से. की गति से एक दूसरे की ओर चलना प्रारंभ करें, तो वे आपस में मिलने में कितना समय (मिनटों में) लेंगे?

Options:

- 1) 125
- 2) 175
- 3) 200
- 4) 225

Correct Answer: 125

Candidate Answer: 125

QID : 246 - In how much time (in years) will Rs 8000 amount to Rs 9600 at simple interest at the rate of 5% per annum?

कितने समय (वर्षों में) में 8000 रु की राशि 5% की वार्षिक दर से साधारण ब्याज पर 9600 रु हो जाएगी?

Options:

- 1) 6
- 2) 4
- 3) 3
- 4) 2

Correct Answer: 4

Candidate Answer: 4

QID : 247 -

The table given below shows the number of tourists (in 000') visiting Delhi in year 2017 from the month of January to June.

नीचे दी गई तालिका में वर्ष 2017 में जनवरी माह से जून माह तक दिल्ली में आने वाले पर्यटकों की संख्या (000' में) को दर्शाया गया है।

Month / माह	Number of tourists (in 000') / पर्यटकों की संख्या (000' में)
January / जनवरी	100
February / फरवरी	200
March / मार्च	150
April / अप्रैल	400
May / मई	300
June / जून	260

What is the difference (in 000') between the maximum and minimum number of tourists visited in any month as a percentage of the tourists visited in March?

मार्च में आने वाले पर्यटकों के प्रतिशत के रूप में किसी भी माह में आने वाले पर्यटकों की अधिकतम तथा न्यूनतम संख्या के मध्य क्या अंतर (000' में) है?

Options:

- 1) 250
- 2) 300
- 3) 150
- 4) 200

Correct Answer: 200

Candidate Answer: 200

QID : 248 -

The table given below shows the number of tourists (in 000') visiting Delhi in year 2017 from the month of January to June.

नीचे दी गई तालिका में वर्ष 2017 में जनवरी माह से जून माह तक दिल्ली में आने वाले पर्यटकों की संख्या (000' में) को दर्शाया गया है।

Month / माह	Number of tourists (in 000') / पर्यटकों की संख्या (000' में)
January / जनवरी	100
February / फरवरी	200
March / मार्च	150
April / अप्रैल	400
May / मई	300
June / जून	260

What is the percentage change in the number of tourist visited in June to that in January?

जनवरी की तुलना में जून में आने वाले पर्यटकों की संख्या में प्रतिशत परिवर्तन क्या है?

Options:

- 1) 150
- 2) 80
- 3) 160
- 4) 130

Correct Answer: 160

Candidate Answer: 160

QID : 249 -

The table given below shows the number of tourists (in 000') visiting Delhi in year 2017 from the month of January to June.

नीचे दी गई तालिका में वर्ष 2017 में जनवरी माह से जून माह तक दिल्ली में आने वाले पर्यटकों की संख्या (000' में) को दर्शाया गया है।

Month / माह	Number of tourists (in 000') / पर्यटकों की संख्या (000' में)
January / जनवरी	100
February / फरवरी	200
March / मार्च	150
April / अप्रैल	400
May / मई	300
June / जून	260

In how many months was the number of tourists who visited Delhi is a multiple of 10,000?

कितने महीनों में दिल्ली आने वाले पर्यटकों की संख्या 10,000 का गुणक थी?

Options:

- 1) 6
- 2) 5
- 3) 4
- 4) 3

Correct Answer: 6

Candidate Answer: 4

QID : 250 -

The table given below shows the number of tourists (in 000') visiting Delhi in year 2017 from the month of January to June.

नीचे दी गई तालिका में वर्ष 2017 में जनवरी माह से जून माह तक दिल्ली में आने वाले पर्यटकों की संख्या (000' में) को दर्शाया गया है।

Month / माह	Number of tourists (in 000') / पर्यटकों की संख्या (000' में)
January / जनवरी	100
February / फरवरी	200
March / मार्च	150
April / अप्रैल	400
May / मई	300
June / जून	260

What is the average number of tourists (in 000') visited Delhi from January to May?

जनवरी से मई तक दिल्ली आने वाले पर्यटकों की औसत संख्या (000' में) क्या है?

Options:

- 1) 210
- 2) 200
- 3) 230
- 4) 282

Correct Answer: 230

Candidate Answer: 230

QID : 251 - In the following question, some part of the sentence may have errors. Find out which part of the sentence has an error and select the appropriate option. If a sentence is free from error, select 'No Error'.

First in the lower house in (1)/ parliament and then in (2)/ unelected upper chamber, the bill was rejected. (3)/ No Error (4)

Options:

- 1) 1
- 2) 2
- 3) 3
- 4) 4

Correct Answer: 1

Candidate Answer: [NOT ANSWERED]

QID : 252 - In the following question, some part of the sentence may have errors. Find out which part of the sentence has an error and select the appropriate option. If a sentence is free from error, select 'No Error'.

The Parliament took a historic (1)/ decision to back the will of (2)/ the people and vote to the bill (3)/ No Error (4)

Options:

- 1) 1
- 2) 2
- 3) 3
- 4) 4

Correct Answer: 3

Candidate Answer: [NOT ANSWERED]

QID : 253 - In the following question, the sentence given with blank to be filled in with an appropriate word. Select the correct alternative out of the four and indicate it by selecting the appropriate option.

Kareena is totally satisfied _____ h

Options:

- 1) for
- 2) with
- 3) of
- 4) at

Correct Answer: with

Candidate Answer: for

QID : 254 - In the following question, the sentence given with blank to be filled in with an appropriate word. Select the correct alternative out of the four and indicate it by selecting the appropriate option.

I settled _____ in Paris last year.

Options:

- 1) on
- 2) above
- 3) off
- 4) down

Correct Answer: down

Candidate Answer: down

QID : 255 - In the following question, out of the given four alternatives, select the one which best expresses the meaning of the given word.

Junk

Options:

- 1) Waste
- 2) Keep
- 3) Purity
- 4) Neat

Correct Answer: Waste

Candidate Answer: Waste

QID : 256 - In the following question, out of the given four alternatives, select the one which best expresses the meaning of the given word.

Lurid

Options:

- 1) Over-bright
- 2) Humble
- 3) Modest
- 4) Clean

Correct Answer: Over-bright

Candidate Answer: [NOT ANSWERED]

QID : 257 - In the following question, out of the given four alternatives, select the one which best expresses the meaning of the given word.

Imprudent

Options:

- 1) Cautious
- 2) Careless
- 3) Wise
- 4) Discreet

Correct Answer: Careless

Candidate Answer: Careless

QID : 258 - In the following question, out of the given four alternatives, select the one which is opposite in meaning of the given word.

Premium

Options:

- 1) Superior
- 2) Inferior
- 3) Choice
- 4) Excellent

Correct Answer: Inferior

Candidate Answer: Inferior

QID : 259 - In the following question, out of the given four alternatives, select the one which is opposite in meaning of the given word.

Probationer

Options:

- 1) Tyro
- 2) Master
- 3) Recruit
- 4) Novice

Correct Answer: Master

Candidate Answer: [NOT ANSWERED]

QID : 260 - In the following question, out of the given four alternatives, select the one which is opposite in meaning of the given word.

Rambling

Options:

- 1) Direct
- 2) Diffuse
- 3) Irregular
- 4) Wordy

Correct Answer: Direct

Candidate Answer: [NOT ANSWERED]

QID : 261 - In the following question, out of the four given alternatives, select the alternative which best expresses the meaning of the Idiom/Phrase.

Laughing stock

Options:

- 1) An object of ridicule
- 2) A subject of peace
- 3) Finding fault in others
- 4) Profitable deal

Correct Answer: An object of ridicule

Candidate Answer: An object of ridicule

QID : 262 - In the following question, out of the four given alternatives, select the alternative which best expresses the meaning of the Idiom/Phrase.

Pay through the nose

Options:

- 1) Have patience with
- 2) To pay attention
- 3) Problem in breathing
- 4) Pay much more than a fair price

Correct Answer: Pay much more than a fair price

Candidate Answer: To pay attention

QID : 263 - Improve the bracketed part of the sentence.

Initially, I had wanted to set up (**many**) high-tech foundry in India.

Options:

- 1) a
- 2) an
- 3) most
- 4) No improvement

Correct Answer: a

Candidate Answer: a

QID : 264 - Improve the bracketed part of the sentence.

I have (**all long been**) a fan of the former President, who told me when he was in Dubai long back.

Options:

- 1) longing been
- 2) all along been
- 3) always had been
- 4) No improvement

Correct Answer: all along been

Candidate Answer: [NOT ANSWERED]

QID : 265 - In the following question, out of the four given alternatives, select the alternative which is the best substitute of the phrase.

Loss of sleep

Options:

- 1) Hypertonia
- 2) Insomnia
- 3) Urania
- 4) Dipsomania

Correct Answer: Insomnia

Candidate Answer: Insomnia

QID : 266 - In the following question, out of the four given alternatives, select the alternative which is the best substitute of the phrase.

Inserting new matter in a book

Options:

- 1) Articulate
- 2) Manipulate
- 3) Interpolate
- 4) Assimilate

Correct Answer: Interpolate

Candidate Answer: Manipulate

QID : 267 - In the following question, a word has been written in four different ways out of which only one is correctly spelt. Select the correctly spelt word.

Options:

- 1) Appropriate
- 2) Aproprate
- 3) Apropriate
- 4) Appropreiate

Correct Answer: Appropriate

Candidate Answer: Appropriate

QID : 268 - In the following question, a word has been written in four different ways out of which only one is correctly spelt. Select the correctly spelt word.

Options:

- 1) Capeble
- 2) Capable
- 3) Capabal
- 4) Capeable

Correct Answer: Capable

Candidate Answer: Capable

QID : 269 - Rearrange the parts of the sentence in correct order.

It requires

P: a voluntary effort and

Q: participation of one and all

R: struggle involving the

Options:

- 1) PQR
- 2) RQP
- 3) RPQ
- 4) QPR

Correct Answer: RPQ

Candidate Answer: RPQ

QID : 270 - Rearrange the parts of the sentence in correct order.

The aim of

P: services that we want

Q: production is to

R: produce the goods and

Options:

- 1) PQR
- 2) QRP
- 3) PRQ
- 4) RPQ

Correct Answer: QRP

Candidate Answer: QRP

QID : 271 - In the following passage some of the words have been left out. Read the passage carefully and select the correct answer for the given blank out of the four alternatives.

Well-read man is _____ by all. He is a storehouse of information. He knows _____ of everything. A well-read man can be a very good talker. He can entertain us with his good talks. He shows his worth at a _____ function. He can talk about _____ things. So, we do not feel dullness and _____ in the company of such persons. This is another advantage of reading books.

Well-read man is _____ by all.



Options:

- 1) loved
- 2) hated
- 3) neglected
- 4) ignored

Correct Answer: loved

Candidate Answer: loved

QID : 272 - In the following passage some of the words have been left out. Read the passage carefully and select the correct answer for the given blank out of the four alternatives.

Well-read man is _____ by all. He is a storehouse of information. He knows _____ of everything. A well-read man can be a very good talker. He can entertain us with his good talks. He shows his worth at a _____ function. He can talk about _____ things. So, we do not feel dullness and _____ in the company of such persons. This is another advantage of reading books.

He knows _____ of everything.

Options:

- 1) nothing
- 2) something
- 3) everything
- 4) anything

Correct Answer: something

Candidate Answer: everything

QID : 273 - In the following passage some of the words have been left out. Read the passage carefully and select the correct answer for the given blank out of the four alternatives.

Well-read man is _____ by all. He is a storehouse of information. He knows _____ of everything. A well-read man can be a very good talker. He can entertain us with his good talks. He shows his worth at a _____ function. He can talk about _____ things. So, we do not feel dullness and _____ in the company of such persons. This is another advantage of reading books.

He shows his worth at a _____ function.

Options:

- 1) economical
- 2) social
- 3) marriage
- 4) political

Correct Answer: social

Candidate Answer: economical

QID : 274 - In the following passage some of the words have been left out. Read the passage carefully and select the correct answer for the given blank out of the four alternatives.

Well-read man is _____ by all. He is a storehouse of information. He knows _____ of everything. A well-read man can be a very good talker. He can entertain us with his good talks. He shows his worth at a _____ function. He can talk about _____ things. So, we do not feel dullness and _____ in the company of such persons. This is another advantage of reading books.

He can talk about _____ things.

Options:

- 1) much
- 2) more
- 3) mere
- 4) many

Correct Answer: many

Candidate Answer: many

QID : 275 - In the following passage some of the words have been left out. Read the passage carefully and select the correct answer for the given blank out of the four alternatives.

Well-read man is _____ by all. He is a storehouse of information. He knows _____ of everything. A well-read man can be a very good talker. He can entertain us with his good talks. He shows his worth at a _____ function. He can talk about _____ things. So, we do not feel dullness and _____ in the company of such persons. This is another advantage of reading books.

So, we do not feel dullness and _____ in the company

Options:

- 1) kingdom
- 2) freedom
- 3) stardom
- 4) boredom

Correct Answer: boredom

Candidate Answer: boredom

QID : 276 - What is the process of rapid integration or interconnection between countries called?

देशों के बीच तेजी से एकीकरण या संयोजन की प्रक्रिया क्या है?

Options:

- 1) Industrialisation
औद्योगीकरण
- 2) Globalisation
वैश्वीकरण
- 3) Liberalisation
उदारीकरण
- 4) Mordernisation
आधुनिकीकरण

Correct Answer: Globalisation
वैश्वीकरण

Candidate Answer: Globalisation
वैश्वीकरण

QID : 277 - Which among the following is **NOT** an impact of unemployment?

निम्न में से कौन बेरोजगारी का प्रभाव **नहीं** है?

Options:

- 1) Wastage of manpower resources
जनशक्ति संसाधनों का अपव्यय
- 2) Increase in economic overload
आर्थिक अधिभार में वृद्धि
- 3) Hamper the overall growth of an economy
एक अर्थव्यवस्था के समग्र विकास में बाधा
- 4) Increase in per capita income
प्रति व्यक्ति आय में वृद्धि

Correct Answer: Increase in per capita income
प्रति व्यक्ति आय में वृद्धि

Candidate Answer: Increase in per capita income
प्रति व्यक्ति आय में वृद्धि

QID : 278 - Who among the following is head of the state?

निम्नलिखित में से कौन राज्य का प्रमुख है?

Options:

- 1) Vice President of India
भारत के उपराष्ट्रपति
- 2) President of India
भारत के राष्ट्रपति
- 3) Prime Minister of India
भारत के प्रधानमंत्री
- 4) Lok Sabha Speaker
लोकसभा अध्यक्ष

Correct Answer: President of India
भारत के राष्ट्रपति

Candidate Answer: President of India
भारत के राष्ट्रपति

QID : 279 - According to constitution, Indian parliament has been divided into how many parts?

संविधान के अनुसार, भारतीय संसद को कितने हिस्सों में विभाजित किया गया है?

Options:

- 1) 3
- 2) 5
- 3) 7
- 4) 11

Correct Answer: 3

Candidate Answer: 3

QID : 280 - 'Dhamma' is the _____ word for the Sanskrit term 'Dharma'.

धम्म' संस्कृत शब्द धर्म का _____ रूप है।

Options:

- 1) Hindi
हिन्दी
- 2) Prakrit
प्राकृत
- 3) Pali
पाली
- 4) Urdu
उर्दू

Correct Answer: Pali
पाली

Candidate Answer: Pali
पाली

QID : 281 - In which year the Sisodiya Capital of Chittor was seized by Akbar?

अकबर द्वारा सिसौदियों की राजधानी चित्तौड़

Options:

- 1) 1550
- 2) 1568
- 3) 1585
- 4) 1591

Correct Answer: 1568

Candidate Answer: [NOT ANSWERED]

QID : 282 - At which meridian it will be midnight when it is 12 noon at Greenwich?

किस याम्योत्तर पर मध्यरात्री होगी जब ग्रीनवीच पर दोपहर के 12 बजे होंगे?

Options:

- 1) 90° E
90° पू.
- 2) 90° W
90° प.
- 3) 180° E
180° पू.
- 4) 0° W
0° प.

Correct Answer: 180° E

180° पू.

Candidate Answer: [NOT ANSWERED]

QID : 283 - What are the mineral constituents of oceanic crust?

महासागर की पर्पटी के मुख्य खनिज घटक क्या है?

Options:

- 1) Silica and Magnesium
सिलिका तथा मैग्नीशियम
- 2) Magnesium and Alumina
मैग्नीशियम तथा एलुमिना
- 3) Silica and Stones
सिलिका तथा पत्थर
- 4) Nickel and Iron
निकिल तथा लोहा

Correct Answer: Silica and Magnesium

सिलिका तथा मैग्नीशियम

Candidate Answer: Silica and Magnesium

सिलिका तथा मैग्नीशियम

QID : 284 - The correct sequence of taxonomic categories is _____.

टैक्सोनॉमिक श्रेणियों का सही क्रम _____ है।

Options:

- 1) Division-family-class-order-genus-species
डिवीजन-परिवार-वर्ग-आदेश-जीनस-प्रजातियों
- 2) Division-class-order-family-genus-species
डिवीजन स्तर के आदेश-परिवार-जीनस-प्रजातियों
- 3) Phylum-order-family-class-genus-species
जाति-आदेश-परिवार-वर्ग-जीनस-प्रजातियों
- 4) Class-phylum-order-genus-family-species
कक्षा-जाति-आदेश-जीनस-परिवार-प्रजाति

Correct Answer: Division-class-order-family-genus-species

डिवीजन स्तर के आदेश-परिवार-जीनस-प्रजातियों

Candidate Answer: [NOT ANSWERED]

QID : 285 - Ileum is _____.

इलियम _____ है।

Options:

- 1) first part of the large intestine
बड़ी आंत का पहला भाग
- 2) middle part of the large intestine
बड़ी आंत का मध्य भाग
- 3) last part of the small intestine
छोटी आंत का अन्तिम भाग
- 4) not a part of the small intestine
छोटी आंत का एक भाग नहीं है

Correct Answer: last part of the small intestine

छोटी आंत का अन्तिम भाग

Candidate Answer: [NOT ANSWERED]

QID : 286 - In humans, exhaled air contains oxygen about _____.

मनुष्यों में, साँस द्वारा छोड़ी हुई हवा में लगभग _____ ऑक्सीजन होता है।

Options:

- 1) 40%
- 2) 44%
- 3) 16%
- 4) 64%

Correct Answer: 16%

Candidate Answer: 16%

QID : 287 - The effect of an impulse force on the body is measured only in terms of its _____.

शरीर पर एक आवेग बल का प्रभाव केवल उसके _____ के संदर्भ में मापा जाता है।

Options:

- 1) weight
भार
- 2) mass
द्रव्यमान
- 3) impulse
आवेग
- 4) velocity
वेग

Correct Answer: impulse

आवेग

Candidate Answer: [NOT ANSWERED]

QID : 288 - When water is heated from 0°C, its volume _____.

जब पानी को 0° डिग्री सेल्सियस से गरम किया जाता है, तो इसकी आयतन _____।

Options:

- 1) only increases
केवल बढ़ता है
- 2) decreased till 4°C, then increases
4° डिग्री सेल्सियस तक की कमी हुई, फिर बढ़ जाती है
- 3) remains constant, always
हमेशा स्थिर रहता है
- 4) first increases then decreases
पहले बढ़ता है फिर घटता है

Correct Answer: decreased till 4°C, then increases

4° डिग्री सेल्सियस तक की कमी हुई, फिर बढ़ जाती है

Candidate Answer: decreased till 4°C, then increases

4° डिग्री सेल्सियस तक की कमी हुई, फिर बढ़ जाती है

QID : 289 - In a computer, where do all the deleted files go?

एक कंप्यूटर में, सभी हटाई गयी फाइलें कहाँ जाती है?

Options:

- 1) Desktop
डेस्कटॉप
- 2) Recycle bin
रीसाईकिल बिन
- 3) My computer
माई कंप्यूटर
- 4) Control panel
कंट्रोल पैनल

Correct Answer: Recycle bin

रीसाईकिल बिन

Candidate Answer: Recycle bin

रीसाईकिल बिन

QID : 290 - The gas used in the welding and cutting of metals is _____.

वेल्डिंग तथा धातुओं को काटने में उपयोग किया जाने वाला गैस _____ है।

Options:

- 1) ethane
इथेन
- 2) methene
मीथेन
- 3) acetylene
एसिटिलीन
- 4) butene
ब्यूटीन

Correct Answer: acetylene

एसिटिलीन

Candidate Answer: acetylene

एसिटिलीन

QID : 291 - Compounds of carbon and hydrogen are called _____.

कार्बन तथा हाइड्रोजन के यौगिकों को _____ कहा जाता है।

Options:

- 1) hydrocarbon
हाइड्रोकार्बन
- 2) fuel
ईंधन
- 3) fat
वसा
- 4) carbohydrates
कार्बोहाइड्रेट

Correct Answer: hydrocarbon
हाइड्रोकार्बन

Candidate Answer: hydrocarbon
हाइड्रोकार्बन

QID : 292 - The small carnivores are also called _____.

छोटे मांसाहारी भी _____ कहा जाता है।

Options:

- 1) Primary consumers
प्राथमिक उपभोक्ता
- 2) Secondary consumers
माध्यमिक उपभोक्ताओं
- 3) Tertiary consumers
तृतीयक उपभोक्ताओं
- 4) No option is correct
कोई विकल्प सही नहीं है

Correct Answer: Secondary consumers
माध्यमिक उपभोक्ताओं

Candidate Answer: Tertiary consumers
तृतीयक उपभोक्ताओं

QID : 293 - Which is a dedicated web portal launched by the government for Sarva Sikhsha Abhiyan?

सर्व शिक्षा अभियान के लिए सरकार द्वारा शुरू की गई एक समर्पित वेब पोर्टल कौन सा है?

Options:

- 1) Shala
शाला
- 2) Shishu
शिशु
- 3) Shagun
शगुन
- 4) Visaka
विसाका

Correct Answer: Shagun
शगुन

Candidate Answer: [NOT ANSWERED]

QID : 294 - Who deduced the principle of geometry and is also known as "Father of Geometry"?

किसने ज्यामिति का सिद्धांत बनाया तथा इसे "ज्यामिति के पिता" के रूप में भी जाने जाते हैं?

Options:

- 1) Archimedes
आर्किमिडीज
- 2) Euclid
यूक्लिड
- 3) Srinivasa Ramanujan
श्रीनिवास रामानुजन
- 4) Aryabhata
आर्यभट्ट

Correct Answer: Euclid
यूक्लिड

Candidate Answer: Euclid
यूक्लिड

QID : 295 - Which games are also known as Asiad?

कौन से खेलों को एशियाड भी कहा जाता है?

Options:

- 1) Commonwealth Games
राष्ट्रमंडल खेल
- 2) Olympics
ओलंपिक
- 3) Asian Games
एशियाई खेलों
- 4) No option is correct
कोई विकल्प सही नहीं है

Correct Answer: Asian Games
एशियाई खेलों

Candidate Answer: Asian Games
एशियाई खेलों

QID : 296 - Jahangir's autobiography (Tuzuk-i-Jahangiri) is in which language?

जहांगीर की आत्मकथा (तुजुक-ए-जहांगीरी) किस भाषा में है?

Options:

- 1) Urdu
उर्दू
- 2) Pali
पाली
- 3) Persian
फ़ारसी
- 4) Hindi
हिंदी

Correct Answer: Persian
फ़ारसी

Candidate Answer: Pali
पाली

QID : 297 - Which institute has bagged PM's Yoga award?

किस संस्थान ने प्रधानमंत्री का योग पुरस्कार जीता है?

Options:

- 1) Ramamani Iyengar Memorial Yoga Institutes, Pune
राममनी अयंगर मेमोरियल योग संस्थान, पुणे
- 2) Swami Ram Yoga Institute, Noida
स्वामी राम योग संस्थान, नोएडा
- 3) Shree Bal Krishna Yoga Institute, Kolkata
श्री बल कृष्णा योग संस्थान, कोलकाता
- 4) None of these
इनमें से कोई नहीं

Correct Answer: Ramamani Iyengar Memorial Yoga Institutes, Pune
राममनी अयंगर मेमोरियल योग संस्थान, पुणे

Candidate Answer: [NOT ANSWERED]

QID : 298 - Who is the author of the book named "Ain-i-Akbari"?

"आईन-ए-अकबरी" नामक पुस्तक के लेखक कौन हैं?

Options:

- 1) S. M. Ali
एस. एम. अली
- 2) Abul Fazl
अबुल फज़ल
- 3) Saghar Nizami
सागर निजामी
- 4) Ibn-batuta
इब्न बतूता

Correct Answer: Abul Fazl
अबुल फज़ल

Candidate Answer: Abul Fazl
अबुल फज़ल

QID : 299 - Which country had severed its connection with the commonwealth in 2016?

किस देश ने 2016 में राष्ट्रमंडल के साथ अपना संबंध तोड़ा था?

Options:

- 1) Bangladesh
बांग्लादेश
- 2) Maldives
मालदीव
- 3) Oman
ओमान
- 4) Egypt
मिस्र

Correct Answer: Maldives
मालदीव

Candidate Answer: [NOT ANSWERED]

QID : 300 - The Madhesi tribe is related to India and its neighbouring country _____.

मधेसी जनजाति भारत तथा उसके पड़ोसी देश _____ से संबंधित है।

Options:

- 1) Nepal
नेपाल
- 2) Sri Lanka
श्रीलंका
- 3) Bangladesh
बांग्लादेश
- 4) Pakistan
पाकिस्तान

Correct Answer: Nepal
नेपाल

Candidate Answer: [NOT ANSWERED]

mpcareer.in