



Staff Selection Commission
(Government Of India)

REGISTRATION NUMBER : examstocks.com
EXAM DATE : 16-September-2017 EXAM
NAME : SSC Examination
TOTAL MARKS : 150

CANDIDATE NAME : examstocks.com
EXAM START TIME : 10:00:00 EXAM
DURATION : 01:30 Hrs TOTAL NO OF
QUESTIONS : 100

QID : 1 -

In the following question, select the number which can be placed at the sign of question mark (?) from the given alternatives.

निम्नलिखित प्रश्न में दिए गए विकल्पों में से प्रश्न चिह्न (?) के स्थान पर आने वाली संख्या को चुनिए।

2	5	6
3	1	3
4	2	2
10	7	?

Options:

- 1) 12
- 2) 16
- 3) 20
- 4) 24

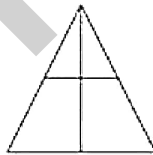
Correct Answer: 20

Candidate Answer: 20

QID : 2 -

How many triangles are there in the given figure?

दी गई आकृति में कितने त्रिभुज हैं?



Options:

- 1) 4
- 2) 6
- 3) 7
- 4) 8

Correct Answer: 6

Candidate Answer: 7

QID : 3 -

A word is represented by only one set of numbers as given in any one of the alternatives. The sets of numbers given in the alternatives are represented by two classes of alphabets as shown in the given two matrices. The columns and rows of **Matrix-I** are numbered from 0 to 4 and that of **Matrix-II** are numbered from 5 to 9. A letter from these matrices can be represented first by its row and next by its column, for example, 'Q' can be represented by 23, 59, etc., and 'S' can be represented by 34, 99, etc. Similarly, you have to identify the set for the word "FAINT".

एक शब्द केवल एक संख्या-समूह द्वारा दर्शाया गया है, जैसा कि विकल्पों में से किसी एक में दिया गया है। विकल्पों में दिए गए संख्या-समूह अक्षरों के दो वर्गों द्वारा दर्शाए गए हैं, जैसा कि दिए गए दो आव्यूहों में है। आव्यूह-I के स्तम्भ और पंक्ति की संख्या 0 से 4 है और आव्यूह-II की 5 से 9। इन आव्यूहों से एक अक्षर को पहले उसकी पंक्ति और बाद में स्तम्भ संख्या द्वारा दर्शाया जा सकता है। उदाहरण के लिए 'Q' को 23, 59, आदि द्वारा दर्शाया जा सकता है तथा 'S' को 34, 99, आदि द्वारा दर्शाया जा सकता है। इसी तरह से आपको प्रश्न में दिए शब्द "FAINT" के लिए समूह को पहचानना है।

Matrix-I आव्यूह-I						Matrix-II आव्यूह-II					
	0	1	2	3	4		5	6	7	8	9
0	B	M	U	A	F	5	D	N	X	G	Q
1	H	E	O	W	D	6	L	V	E	O	Y
2	P	J	G	Q	Y	7	S	T	C	M	W
3	V	R	L	I	S	8	H	R	B	K	U
4	Z	X	T	N	K	9	F	P	A	I	S

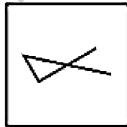
Options:

- 1) 95, 03, 34, 43, 76
- 2) 95, 97, 33, 40, 42
- 3) 04, 97, 99, 56, 34
- 4) 04, 97, 33, 56, 42

Correct Answer: 04, 97, 33, 56, 42**Candidate Answer:** 04, 97, 33, 56, 42**QID : 4 -**

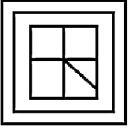
From the given answer figures, select the one in which the question figure is hidden/embedded.

दी गई उत्तर आकृतियों में से उस उत्तर आकृति को चुनिए जिस में प्रश्न आकृति निहित है।

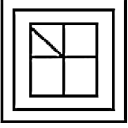


Options:

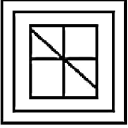
1)



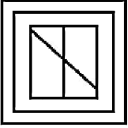
2)



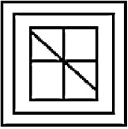
3)



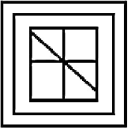
4)



Correct Answer:



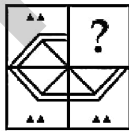
Candidate Answer:



QID : 5 -

Which answer figure will complete the pattern in the question figure?

कौन सी उत्तर आकृति प्रश्न आकृति के प्रतिरूप को पूरा करेगी?

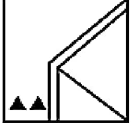


Options:

1)



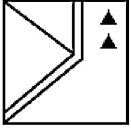
2)



3)



4)



Correct Answer:



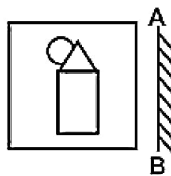
Candidate Answer:



QID : 6 -

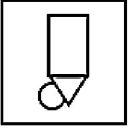
If a mirror is placed on the line AB, then which of the answer figures is the right image of the given figure?

यदि एक दर्पण को AB रेखा पर रखा जाए, तो दी गई उत्तर आकृतियों में से कौन सी आकृति प्रश्न आकृति की सही प्रतिबिम्ब होगी?

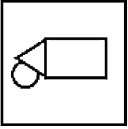


Options:

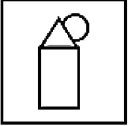
1)



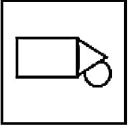
2)



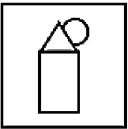
3)



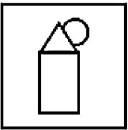
4)



Correct Answer:



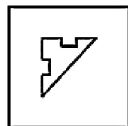
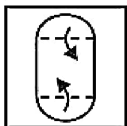
Candidate Answer:



QID : 7 -

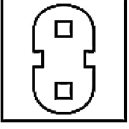
A piece of paper is folded and punched as shown below in the question figures. From the given answer figures, indicate how it will appear when opened?

नीचे के प्रश्न आकृतियों में दिखाए अनुसार कागज को मोड़कर छेदने तथा खोलने के बाद वह किस उत्तर आकृति जैसा दिखाई देगा?

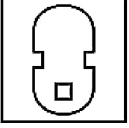


Options:

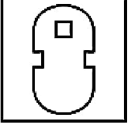
1)



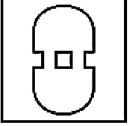
2)



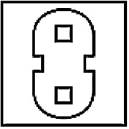
3)



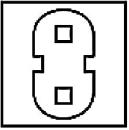
4)



Correct Answer:



Candidate Answer:



QID : 8 - If '+' means 'x', '-' means '÷', 'x' means '-' and '÷' means '+', then $26 - 52 + 74 = ?$

यदि '+' का अर्थ 'x', '-' का अर्थ '÷', 'x' का अर्थ '-' तथा '÷' का अर्थ '+' हो, तो $26 - 52 + 74 = ?$

Options:

1) 39

2) 37

3) 148

4) 42

Correct Answer: 37

Candidate Answer: 37

QID : 9 - If $6 @ 7 @ 3 = 16$ and $4 @ 5 @ 1 = 10$, then $9 @ 7 @ 6 = ?$

यदि $6 @ 7 @ 3 = 16$ तथा $4 @ 5 @ 1 = 10$ हो, तो $9 @ 7 @ 6 = ?$

Options:

1) 21

2) 22

3) 29

4) 20

Correct Answer: 22

Candidate Answer: 22

QID : 10 - Arrange the given words in the sequence in which they occur in the dictionary.

1. Mango
2. Mind
3. Master
4. Minty
5. Muted

निम्नलिखित शब्दों को शब्दकोश में आने वाले क्रम के अनुसार लिखें।

1. Mango
2. Mind
3. Master
4. Minty
5. Muted

Options:

1) 13425

2) 31425

3) 31245

4) 13245

Correct Answer: 13245

Candidate Answer: 13245

QID : 11 - In the following question, select the missing number from the given alternatives.

143, 139, 134, 128, 121, ?

निम्नलिखित प्रश्न में दिए गए विकल्पों में से लुप्त अंक ज्ञात कीजिए।

143, 139, 134, 128, 121, ?

Options:

1) 114

2) 113

3) 115

4) 112

Correct Answer: 113

Candidate Answer: 113

QID : 12 - A series is given with one term missing. Select the correct alternative from the given ones that will complete the series.

AQR, BPS, COT, DNU, ?

एक अनुक्रम दिया गया है, जिसमें से एक पद लुप्त है। दिए गए विकल्पों में से वह सही विकल्प चुनिए, जो अनुक्रम को पूरा करे।

AQR, BPS, COT, DNU, ?

Options:

1) FOX

2) FMX

3) EMV

4) EOV

Correct Answer: EMV

Candidate Answer: EMV

QID : 13 - In the following question, select the odd word pair from the given alternatives.

निम्नलिखित प्रश्न में दिए गए विकल्पों में से विषम शब्द युग्म को चुनिए।

Options:

1) Ganga : River

गंगा : नदी

2) Pen : Write

कलम : लिखना

3) Ostrich : Bird

शुतुरमुर्ग : पक्षी

4) Pepper : Spice

Correct Answer: Pen : Write

कलम : लिखना

Candidate Answer: Pen : Write

कलम : लिखना

QID : 14 - In the following question, select the odd number pair from the given alternatives.

निम्नलिखित प्रश्न में दिए गए विकल्पों में से विषम संख्या युग्म को चुनिए।

Options:

1) 14 : 27

2) 2 : 5

3) 4 : 9

4) 12 : 25

Correct Answer: 14 : 27

Candidate Answer: 14 : 27

QID : 15 - In the following question, select the odd letter pair from the given alternatives.

निम्नलिखित प्रश्न में दिए गए विकल्पों में से विषम अक्षर युग्म को चुनिए।

Options:

1) AP – EQ

2) IS – OT

3) OC – UB

4) EK – IL

Correct Answer: OC – UB

Candidate Answer: OC – UB

QID : 16 - Identify the diagram that best represents the relationship among the given classes.

Computer, Monitor, Keyboard

वह आरेख चुनिए जो नीचे दिए गए वर्गों के बीच के संबंध का सही निरूपण करता है।

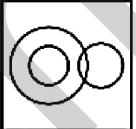
कम्प्यूटर, मॉनिटर, कीबोर्ड

Options:

1)



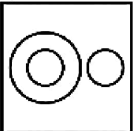
2)



3)



4)



Correct Answer:



Candidate Answer:



QID : 17 - In the following question, select the related word pair from the given alternatives.

Iron : Metal :: Oxygen : ?

निम्नलिखित प्रश्न में दिए गए विकल्पों में से संबंधित शब्द युग्म को चुनिए।

लोहा : धातु :: ऑक्सीजन : ?

Options:

1) Respiration

श्वसन

2) Gas

गैस

3) Odourless

बिना गंध

4) Living

जीवित

Correct Answer: Gas

गैस

Candidate Answer: Gas

गैस

QID : 18 - In the following question, select the related number from the given alternatives.

13 : 27 :: 31 : ?

निम्नलिखित प्रश्न में दिए गए विकल्पों में से संबंधित संख्या को चुनिए।

13 : 27 :: 31 : ?

Options:

1) 63

2) 58

3) 69

4) 74

Correct Answer: 63

Candidate Answer: 63

QID : 19 - In the following question, select the related letters from the given alternatives.

AG : ZT :: JD : ?

निम्नलिखित प्रश्न में दिए गए विकल्पों में से संबंधित अक्षरों को चुनिए।

AG : ZT :: JD : ?

Options:

1) UV

2) PX

3) QW

4) OY

Correct Answer: QW

Candidate Answer: QW

QID : 20 - In the following question, select the word which cannot be formed using the letters of the given word.

NOTEWORTHY

निम्नलिखित विकल्पों में से वह शब्द चुनिए जो दिए गए शब्द के अक्षरों का प्रयोग करके नहीं बनाया जा सकता।

NOTEWORTHY

Options:

- 1) WORTH
- 2) TORN
- 3) HATE
- 4) RENT

Correct Answer: HATE

Candidate Answer: HATE

QID : 21 - Raman is 19th from top and 25th from bottom. How many people are there in the row?

रमन, ऊपर से 19 वाँ है तथा नीचे से 25 वाँ है। पंक्ति में कुल कितने व्यक्ति हैं?

Options:

- 1) 42
- 2) 44
- 3) 43
- 4) 45

Correct Answer: 43

Candidate Answer: 43

QID : 22 - Kamal remembers his birthday is before 24th April. His mother remembers that his birthday is after 22nd April. On which date of April, is Kamal's birthday?

कमल को याद है कि उसका जन्मदिन 24 अप्रैल से पहले है। उसकी माता को याद है कि उसका जन्मदिन 22 अप्रैल के बाद है। कमल का जन्मदिन अप्रैल की कौन सी तिथि को आता है?

Options:

- 1) 25
- 2) 24
- 3) 22
- 4) 23

Correct Answer: 23

Candidate Answer: 23

QID : 23 - In the following question below are given some statements followed by some conclusions. Taking the given statements to be true even if they seem to be at variance from commonly known facts, read all the conclusions and then decide which of the given conclusion logically follows the given statements.

Statements:

- I. Some tables are chairs.
- II. All chairs are cups.

Conclusions:

- I. All tables are cups.
- II. Some tables are cups.

नीचे दिए गए प्रश्न में कुछ कथन और उनके बाद उन कथनों पर आधारित कुछ निष्कर्ष दिए गए हैं, हालांकि उनमें सामान्य ज्ञात तथ्यों से भिन्नता हो सकती है। सभी निष्कर्ष पढ़ें और फिर निर्धारित करें कि दिए गए कौन से निष्कर्ष, दिए गए कथनों के आधार पर युक्तिसंगत हैं।

कथन:

- I. कुछ मेज़ कुर्सियाँ हैं।
- II. सभी कुर्सियाँ कप हैं।

निष्कर्ष:

- I. सभी मेज़ कप हैं।
- II. कुछ मेज़ कप हैं।

Options:

1) Only conclusion (I) follows.

केवल निष्कर्ष (I) सही है।

2) Only conclusion (II) follows.

केवल निष्कर्ष (II) सही है।

3) Both conclusion follow.

दोनों ही निष्कर्ष सही हैं।

4) Neither conclusion (I) nor conclusion (II) follows.

न तो निष्कर्ष (I) न ही निष्कर्ष (II) सही है।

Correct Answer: Only conclusion (II) follows.

केवल निष्कर्ष (II) सही है।

Candidate Answer: Only conclusion (II) follows.

केवल निष्कर्ष (II) सही है।

QID : 24 - In a certain code language, "PALM" is written as "QCOQ". How is "STEM" written in that code language?

एक विशिष्ट कोड भाषा में, "PALM" को "QCOQ" लिखा जाता है। इस कोड भाषा में "STEM" को किस प्रकार लिखा जाएगा?

Options:

1) TVHQ

2) TVHP

3) TVIQ

4) TUHQ

Correct Answer: TVHQ

Candidate Answer: TVHQ

QID : 25 - In a certain code language, "SUN" is written as "108" and "MOON" is written as "114". How is "STAR" written in that code language?

एक विशिष्ट कोड भाषा में, "SUN" को "108" तथा "MOON" को "114" लिखा जाता है। इस कोड भाषा में "STAR" को किस प्रकार लिखा जाएगा?

Options:

1) 112

2) 116

3) 126

4) 108

Correct Answer: 116

Candidate Answer: 116

QID : 26 - What is the value of $1^2 + 2^2 + 3^2 + \dots + 14^2$?

$1^2 + 2^2 + 3^2 + \dots + 14^2$ का मान क्या है?

Options:

1) 1050

2) 1015

3) 1105

4) 1225

Correct Answer: 1015

Candidate Answer: 1015

QID : 27 - How many times the digit 7 appears in the number from 1 to 90?

1 से 90 तक की संख्याओं में अंक 7 कितनी बार आता है?

Options:

1) 19

2) 18

3) 20

4) 10

Correct Answer: 19

Candidate Answer: 10

QID : 28 -

What is the value of $\sqrt{1500 + \sqrt{441}}$?

$\sqrt{1500 + \sqrt{441}}$ का मान क्या है?

Options:

1) 37

2) 39

3) 49

4) 47

Correct Answer: 39

Candidate Answer: 39

QID : 29 - If 373P is divisible by 4, then what is the value of P?

यदि 373P, 4 से विभाजित है, तो P का मान क्या है?

Options:

1) 2

2) 6

3) 2 or 6

2 या 6

4) 4

Correct Answer: 2 or 6

2 या 6

Candidate Answer: 2 or 6

2 या 6

QID : 30 -

What is the value of $12\frac{1}{2} + 12\frac{1}{3} + 12\frac{1}{6}$?

$12\frac{1}{2} + 12\frac{1}{3} + 12\frac{1}{6}$ का मान क्या है?

Options:

1) 36

2) 37

3) 39

4) 38

Correct Answer: 37

Candidate Answer: 37

QID : 31 - Which of the following is not a perfect square?

निम्नलिखित में से कौन एक पूर्ण वर्ग नहीं है?

Options:

1) 1024

2) 1521

3) 1444

4) 876

Correct Answer: 876

Candidate Answer: 1444

QID : 32 - A, B and C together can complete a work in 15 days. B and C can complete the same work in 20 days. In how many days A alone can complete the same work?

A, B तथा C किसी कार्य को 15 दिनों में पूरा करते हैं। B तथा C उस कार्य को 20 दिनों में पूरा करते हैं। A अकेला उस कार्य को कितने दिनों में पूरा कर सकता है?

Options:

1) 40

2) 45

3) 60

4) 75

Correct Answer: 60

Candidate Answer: 60

QID : 33 - P, Q and R together can complete a work in 20 days. P alone can complete the work in 40 days, Q alone in 60 days then in how many days R alone can complete the work?

P, Q तथा R मिलकर किसी कार्य को 20 दिनों में पूरा कर सकते हैं, P अकेला 40 दिनों में कार्य पूरा कर सकता है, Q अकेला 60 दिनों में, तो R अकेला कितने दिनों में कार्य पूरा कर सकता है?

Options:

1) 60

2) 80

3) 40

4) 120

Correct Answer: 120

Candidate Answer: 120

QID : 34 - What is the area of a rhombus having one side as 30 cm and one diagonal as 36 cm?

उस समचतुर्भुज का क्षेत्रफल क्या है जिसकी एक भुजा 30 से.मी. है तथा एक विकर्ण 36 से.मी. है?

Options:

1) 432

2) 864

3) 1080

4) 540

Correct Answer: 864

Candidate Answer: 864

QID : 35 - Selling and cost price of an article are Rs 5400 and Rs 5200 respectively. If 10% discount was given, then what is the percentage mark up?

एक वस्तु का विक्रय मूल्य तथा क्रय मूल्य क्रमशः 5400 रु तथा 5200 रु है। यदि 10% की छूट दी जाए, तो उसका मूल्य कितने प्रतिशत से बढ़ाया गया है?

Options:

1) 12.5

2) 14.12

3) 17.25

4) 15.38

Correct Answer: 15.38

Candidate Answer: 15.38

QID : 36 - Cost price of an article is Rs 3600. It was sold at a profit of 15%. If the article was sold at a discount of 8%, then what is the marked price (in Rs) of the article?

एक वस्तु का क्रय मूल्य 3600 रु है। उसे 15% के लाभ पर बेचा गया। यदि वस्तु को 8% की छूट पर बेचा गया, तो वस्तु का अंकित मूल्य (रु में) क्या है?

Options:

1) 4000

2) 4250

3) 4500

4) 4750

Correct Answer: 4500

Candidate Answer: 4500

QID : 37 - 200 litres of alcohol solution has 30% alcohol in it. How much alcohol should be added to make it 50% in the solution?

200 लीटर के ऐल्कोहल के घोल में 30% ऐल्कोहल है। घोल में कितना और ऐल्कोहल मिला दिया जाए ताकि ऐल्कोहल की मात्रा घोल में 50% बन जाए?

Options:

1) 40

2) 60

3) 80

4) 50

Correct Answer: 80

Candidate Answer: 80

QID : 38 - In a college, the ratio of boys and girls is 5 : 3 and the ratio of girls and teachers is 7 : 1. What is the ratio of students and teachers?

एक कॉलेज में लड़के और लड़कियों का अनुपात 5 : 3 है तथा लड़कियों तथा अध्यापकों का अनुपात 7 : 1 है। छात्रों तथा अध्यापकों का अनुपात क्या है?

Options:

1) 57 : 3

2) 54 : 1

3) 26 : 1

4) 56 : 3

Correct Answer: 56 : 3

Candidate Answer: 56 : 3

QID : 39 - What is the average of first 9 odd numbers?

पहली 9 विषम संख्याओं का औसत क्या है?

Options:

1) 9

2) 7

3) 10

4) 8

Correct Answer: 9

Candidate Answer: 9

QID : 40 - A man buys 8 oranges for a rupee and sell 6 oranges for a rupee. What is the profit percentage?

एक व्यक्ति एक रुपये में 8 संतरे खरीदता है तथा एक रुपये में 6 संतरे बेचता है। लाभ प्रतिशत क्या है?

Options:

1) 25

2) 20

3) 33.33

4) 10

Correct Answer: 33.33

Candidate Answer: 33.33

QID : 41 - A fan costing Rs 1050 is being sold for Rs 1500. What is the profit percentage?

एक पंखा जिसका क्रय मूल्य 1050 रु है, को 1500 रु में बेचा जाता है। लाभ प्रतिशत क्या है?

Options:

1) 35.26

2) 42.85

3) 44.23

4) 37.57

Correct Answer: 42.85

Candidate Answer: 42.85

QID : 42 - If 23% of a number is 690, then what is the 72% of the same number?

यदि किसी संख्या का 23%, 690 है, तो उस संख्या का 72% क्या है?

Options:

1) 1475

2) 1450

3) 2160

4) 1380

Correct Answer: 2160

Candidate Answer: 2160

QID : 43 - If A is 20% less than B, then B is how much percent more than A?

यदि A, B से 20% कम है, तो B, A से कितने प्रतिशत अधिक है?

Options:

1) 16.66

2) 20

3) 25

4) 10

Correct Answer: 25

Candidate Answer: 25

QID : 44 - Govind covers $\frac{3}{11}$ of the total distance by train and the remaining 72 km by bus. What is his total journey (in km)?

गोविंद अपनी कुल यात्रा का $\frac{3}{11}$ भाग रेलगाड़ी द्वारा तय करता है। शेष 72 कि.मी. बची दूरी वह बस द्वारा तय करता है। उसकी कुल यात्रा (कि.मी. में) कितनी है?

Options:

1) 108

2) 99

3) 118

4) 126

Correct Answer: 99

Candidate Answer: 99

QID : 45 - A man can row 10 km/hr in still water. If the speed of the current is 2 km/hr, he takes 3 hours more in upstream than in the downstream. What is the distance (in km)?

शांत जल में एक व्यक्ति की गति 10 कि.मी./घंटा है। यदि धारा की गति 2 कि.मी./घंटा है, उसे धारा के अनुकूल दिशा में कुछ दूर जाने में जितना समय लगता है, उससे 3 घंटे अधिक समय धारा के प्रतिकूल दिशा में उतनी ही दूरी तय करने में लगता है। दूरी (कि.मी. में) क्या है?

Options:

1) 36

2) 72

3) 48

4) 24

Correct Answer: 72

Candidate Answer: 72

QID : 46 - A certain sum becomes k times in 6 years at compound interest. In 24 years it will become how many times?

एक निश्चित राशि, चक्रवृद्धि ब्याज पर 6 वर्ष में k गुना हो जाती है। 24 वर्षों में वह कितने गुना हो जाएगी?

Options:

1) 4k

2) k^4

3) k^3

4) 3k

Correct Answer: k^4

Candidate Answer: k^4

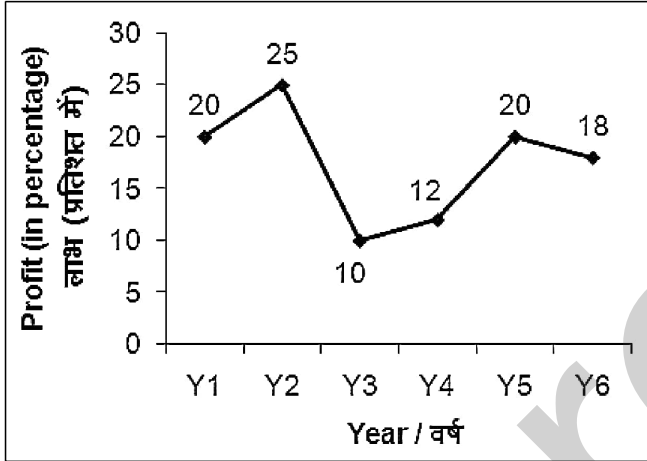
QID : 47 -

The line chart given below shows profit of a shopkeeper in 6 consecutive years.

$$\text{Profit \%} = (\text{Revenue}/\text{Expenditure}) \times 100$$

नीचे दिए गए रेखा चित्र में एक दुकानदार के 6 लगातार वर्षों के लाभ को दर्शाया गया है।

$$\text{लाभ\%} = (\text{राजस्व}/\text{व्यय}) \times 100$$



If the expenditure in year Y2 is Rs 40000, then what is the revenue (in Rs) in that year?

यदि वर्ष Y2 का व्यय 40000 रु है, तो उस वर्ष का राजस्व (रु में) क्या है?

Options:

1) 50000

2) 35000

3) 30000

4) 46000

Correct Answer: 50000

Candidate Answer: 50000

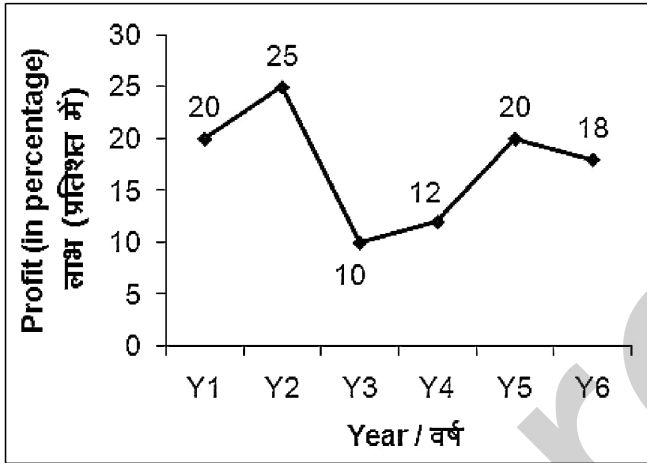
QID : 48 -

The line chart given below shows profit of a shopkeeper in 6 consecutive years.

$$\text{Profit \%} = (\text{Revenue}/\text{Expenditure}) \times 100$$

नीचे दिए गए रेखा चित्र में एक दुकानदार के 6 लगातार वर्षों के लाभ को दर्शाया गया है।

$$\text{लाभ\%} = (\text{राजस्व}/\text{व्यय}) \times 100$$



If the revenue in year Y5 is Rs 96000, then what is the expenditure (in Rs) in that year?

यदि वर्ष Y5 का राजस्व 96000 रु है, तो उस वर्ष का व्यय (रु में) क्या है?

Options:

1) 66000

2) 80000

3) 84000

4) 74000

Correct Answer: 80000

Candidate Answer: 80000

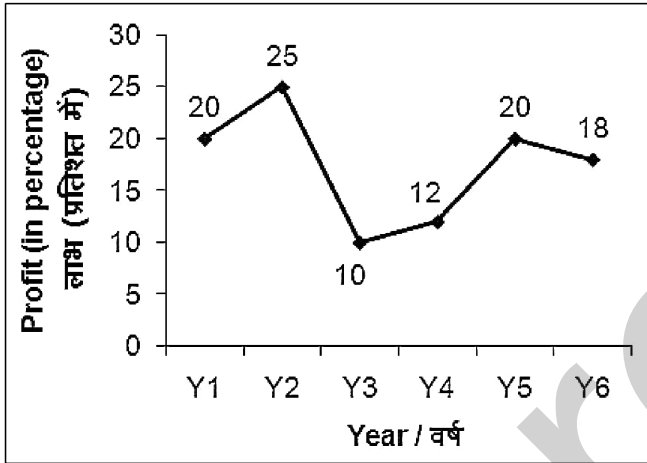
QID : 49 -

The line chart given below shows profit of a shopkeeper in 6 consecutive years.

$$\text{Profit \%} = (\text{Revenue}/\text{Expenditure}) \times 100$$

नीचे दिए गए रेखा चित्र में एक दुकानदार के 6 लगातार वर्षों के लाभ को दर्शाया गया है।

$$\text{लाभ\%} = (\text{राजस्व}/\text{व्यय}) \times 100$$



The expenditure of Y1 and Y4 are Rs 40000 and Rs 60000 respectively. What is the total profit (in Rs) of Y1 and Y4?

Y1 तथा Y4 का व्यय क्रमशः 40000 रु तथा 60000 रु है। Y1 तथा Y4 का कुल लाभ (रु में) क्या है?

Options:

1) 16800

2) 13400

3) 15200

4) 19500

Correct Answer: 15200

Candidate Answer: 15200

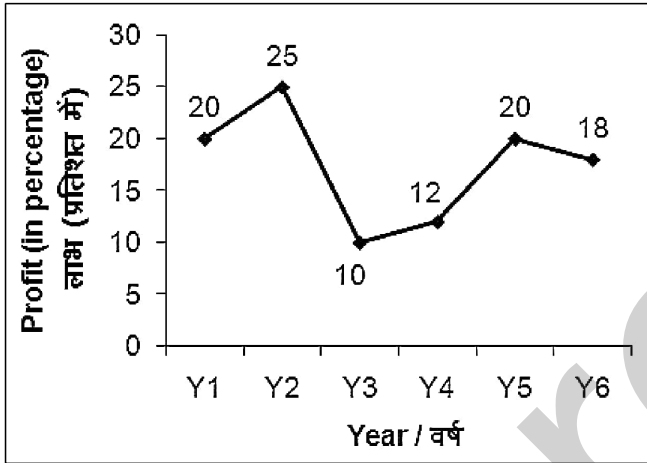
QID : 50 -

The line chart given below shows profit of a shopkeeper in 6 consecutive years.

$$\text{Profit \%} = (\text{Revenue}/\text{Expenditure}) \times 100$$

नीचे दिए गए रेखा चित्र में एक दुकानदार के 6 लगातार वर्षों के लाभ को दर्शाया गया है।

$$\text{लाभ\%} = (\text{राजस्व}/\text{व्यय}) \times 100$$



The expenditure of Y3 and Y6 are Rs 100000 and Rs 200000 respectively. What is the average revenue (in Rs) for these 2 years?

Y3 तथा Y6 का व्यय क्रमशः 100000 रु तथा 200000 रु है। इन 2 वर्षों का औसत राजस्व (रु में) क्या है?

Options:

1) 148000

2) 156000

3) 152000

4) 173000

Correct Answer: 173000

Candidate Answer: 173000

QID : 51 - In the following question, some part of the sentence may have errors. Find out which part of the sentence has an error and select the appropriate option. If a sentence is free from error, select 'No Error'.

Saying this, she (1)/ storm out of the room, (2)/ leaving her bogs behind. (3)/ No Error (4)

Options:

- 1) 1
- 2) 2
- 3) 3
- 4) 4

Correct Answer: 2

Candidate Answer: 3

QID : 52 - In the following question, some part of the sentence may have errors. Find out which part of the sentence has an error and select the appropriate option. If a sentence is free from error, select 'No Error'.

We recommend that (1)/ you keep your (2)/ advice to yourself. (3)/ No Error (4)

Options:

- 1) 1
- 2) 2
- 3) 3
- 4) 4

Correct Answer: 4

Candidate Answer: 2

QID : 53 - In the following question, the sentence given with blank to be filled in with an appropriate word. Select the correct alternative out of the four and indicate it by selecting the appropriate option.

The CM flew _____ the flooded areas in a helicopter.

Options:

- 1) in
- 2) over
- 3) of
- 4) along

Correct Answer: over

Candidate Answer: over

QID : 54 - In the following question, the sentence given with blank to be filled in with an appropriate word. Select the correct alternative out of the four and indicate it by selecting the appropriate option.

Her mother is anxious _____ her health.

Options:

- 1) about
- 2) of
- 3) after
- 4) for

Correct Answer: about

Candidate Answer: about

QID : 55 - In the following question, out of the given four alternatives, select the one which best expresses the meaning of the given word.

Primitive

Options:

- 1) Present
- 2) New
- 3) Basic
- 4) Modern

Correct Answer: Basic

Candidate Answer: Basic

QID : 56 - In the following question, out of the given four alternatives, select the one which best expresses the meaning of the given word.

Definite

Options:

- 1) Complete
- 2) Inexact
- 3) Unclear
- 4) Vague

Correct Answer: Complete

Candidate Answer: Complete

QID : 57 - In the following question, out of the given four alternatives, select the one which best expresses the meaning of the given word.

Condemn

Options:

- 1) Criticize
- 2) Acquit
- 3) Clear
- 4) Pardon

Correct Answer: Criticize

Candidate Answer: Criticize

QID : 58 - In the following question, out of the given four alternatives, select the one which is opposite in meaning of the given word.

Virtual

Options:

- 1) Fundamental
- 2) Implied
- 3) Indirect
- 4) Authentic

Correct Answer: Authentic

Candidate Answer: Authentic

QID : 59 - In the following question, out of the given four alternatives, select the one which is opposite in meaning of the given word.

Rustic

Options:

- 1) Homely
- 2) Simple
- 3) Urban
- 4) Plain

Correct Answer: Urban

Candidate Answer: Urban

QID : 60 - In the following question, out of the given four alternatives, select the one which is opposite in meaning of the given word.

Barren

Options:

- 1) Fertile
- 2) Depleted
- 3) Empty
- 4) Waste

Correct Answer: Fertile

Candidate Answer: Fertile

QID : 61 - In the following question, out of the four given alternatives, select the alternative which best expresses the meaning of the Idiom/Phrase.

Man in the Street

Options:

- 1) Man of talent
- 2) A foolish man
- 3) Simple man
- 4) A dutiful person

Correct Answer: Simple man

Candidate Answer: Simple man

QID : 62 - In the following question, out of the four given alternatives, select the alternative which best expresses the meaning of the Idiom/Phrase.

Now and again

Options:

- 1) Occasionally
- 2) Always
- 3) To be continued
- 4) At present time or future

Correct Answer: Occasionally

Candidate Answer: To be continued

QID : 63 - Improve the bracketed part of the sentence.

These recipes are delicious, (**overtly**) popular and so, so easy to prepare

Options:

- 1) widely
- 2) overly
- 3) majorly
- 4) No improvement

Correct Answer: widely

Candidate Answer: widely

QID : 64 - Improve the bracketed part of the sentence.

In the after math, you will have a litmus (**effect**) for all the people you know.

Options:

- 1) paper
- 2) affect
- 3) test
- 4) No improvement

Correct Answer: test

Candidate Answer: test

QID : 65 - In the following question, out of the four given alternatives, select the alternative which is the best substitute of the phrase.

Right or advantage available to a person

Options:

- 1) Accountability
- 2) Power
- 3) Annuity
- 4) Privilege

Correct Answer: Privilege

Candidate Answer: Privilege

QID : 66 - In the following question, out of the four given alternatives, select the alternative which is the best substitute of the phrase.

Return the same sort of attack

Options:

- 1) Confiscate
- 2) Subjugate
- 3) Retaliate
- 4) Alleviate

Correct Answer: Retaliate

Candidate Answer: Retaliate

QID : 67 - In the following question, a word has been written in four different ways out of which only one is correctly spelt. Select the correctly spelt word.

Options:

- 1) Definite
- 2) Definate
- 3) Difanate
- 4) Definiate

Correct Answer: Definite

Candidate Answer: Definite

QID : 68 - In the following question, a word has been written in four different ways out of which only one is correctly spelt. Select the correctly spelt word.

Options:

- 1) Gazete
- 2) Gazette
- 3) Gazeete
- 4) Gazzete

Correct Answer: Gazette

Candidate Answer: Gazette

QID : 69 - Rearrange the parts of the sentence in correct order.

Heavy metals

P: in many applications
Q: are today being
R: replaced by polymers

Options:

- 1) RQP
- 2) QRP
- 3) PRQ
- 4) QPR

Correct Answer: QRP

Candidate Answer: QRP

QID : 70 - Rearrange the parts of the sentence in correct order.

One should

P: think calmly
Q: and clearly
R: learn how to

Options:

- 1) PQR
- 2) QRP
- 3) QPR
- 4) RPQ

Correct Answer: RPQ

Candidate Answer: RPQ

QID : 71 - In the following passage some of the words have been left out. Read the passage carefully and select the correct answer for the given blank out of the four alternatives.

My father is an _____ person of my life. He is my real _____ and my best friend ever. He always helps me a lot in my any difficulty. He is very intelligent man and always helps others in their problems. He is the _____ of my family and gives _____ and instruction to every family member. He takes me to school on every PTM and _____ my performance with my teacher.

My father is an _____ person

Options:

- 1) ideal
- 2) idle
- 3) idol
- 4) idiot

Correct Answer: ideal

Candidate Answer: ideal

QID : 72 - In the following passage some of the words have been left out. Read the passage carefully and select the correct answer for the given blank out of the four alternatives.

My father is an _____ person of my life. He is my real _____ and my best friend ever. He always helps me a lot in my any difficulty. He is very intelligent man and always helps others in their problems. He is the _____ of my family and gives _____ and instruction to every family member. He takes me to school on every PTM and _____ my performance with my teacher.

He is my real _____

Options:

- 1) actor
- 2) player
- 3) hero
- 4) zero

Correct Answer: hero

Candidate Answer: hero

QID : 73 - In the following passage some of the words have been left out. Read the passage carefully and select the correct answer for the given blank out of the four alternatives.

My father is an _____ person of my life. He is my real _____ and my best friend ever. He always helps me a lot in my any difficulty. He is very intelligent man and always helps others in their problems. He is the _____ of my family and gives _____ and instruction to every family member. He takes me to school on every PTM and _____ my performance with my teacher.

He is the _____ of my

Options:

- 1) boss
- 2) leader
- 3) knight
- 4) fighter

Correct Answer: boss

Candidate Answer: leader

QID : 74 - In the following passage some of the words have been left out. Read the passage carefully and select the correct answer for the given blank out of the four alternatives.

My father is an _____ person of my life. He is my real _____ and my best friend ever. He always helps me a lot in my any difficulty. He is very intelligent man and always helps others in their problems. He is the _____ of my family and gives _____ and instruction to every family member. He takes me to school on every PTM and _____ my performance with my teacher.

_____ and instruction

Options:

- 1) Instructions
- 2) Advice
- 3) Comments
- 4) Jokes

Correct Answer: Advice

Candidate Answer: Advice

QID : 75 - In the following passage some of the words have been left out. Read the passage carefully and select the correct answer for the given blank out of the four alternatives.

My father is an _____ person of my life. He is my real _____ and my best friend ever. He always helps me a lot in my any difficulty. He is very intelligent man and always helps others in their problems. He is the _____ of my family and gives _____ and instruction to every family member. He takes me to school on every PTM and _____ my performance with my teacher.

PTM and _____ my

Options:

- 1) evaluates
- 2) calculates
- 3) comprehends
- 4) discusses

Correct Answer: discusses

Candidate Answer: discusses

QID : 76 - What is National Income?

राष्ट्रीय आय क्या है?

Options:

- 1) It is the money value of all goods and services produced in a country in a year
यह एक वर्ष में किसी देश में उत्पादित सभी वस्तुओं तथा सेवाओं का धन मूल्य है
- 2) It is the money value of all goods and services produced in a country in two year
यह दो साल में किसी देश में उत्पादित सभी वस्तुओं तथा सेवाओं का धन मूल्य है
- 3) It is the money value of all goods and services produced in a country in five year
यह पांच साल में देश में उत्पादित सभी वस्तुओं तथा सेवाओं का धन मूल्य है
- 4) It is the money value of all goods and services produced outside the country in a year
यह एक वर्ष में देश के बाहर निर्मित सभी वस्तुओं तथा सेवाओं का धन मूल्य है

Correct Answer: It is the money value of all goods and services produced in a country in a year

यह एक वर्ष में किसी देश में उत्पादित सभी वस्तुओं तथा सेवाओं का धन मूल्य है

Candidate Answer: It is the money value of all goods and services produced in a country in a year

यह एक वर्ष में किसी देश में उत्पादित सभी वस्तुओं तथा सेवाओं का धन मूल्य है

QID : 77 - How is the Net National Product calculated?

सकल राष्ट्रीय उत्पाद का मूल्यांकन कैसे किया जाता है?

Options:

1) $NNP = GNP - Depreciation$

एन. एन. पी. = जी. एन. पी. - मूल्यहास

2) $NNP = GDP - Taxes$

एन. एन. पी. = जी. डी. पी. - कर

3) $NNP = GNP + Taxes$

एन. एन. पी. = जी. एन. पी. + कर

4) $NNP = GNP + Depreciation$

एन. एन. पी. = जी. एन. पी. + मूल्यहास

Correct Answer: $NNP = GNP - Depreciation$

एन. एन. पी. = जी. एन. पी. - मूल्यहास

Candidate Answer: $NNP = GNP - Depreciation$

एन. एन. पी. = जी. एन. पी. - मूल्यहास

QID : 78 - From which date Indian Constitution came into commencement, completely?

भारतीय संविधान पूर्णतः किस तिथि से लागू हुआ था?

Options:

1) 15th Aug 1950

15th अगस्त 1950

2) 26th Jan 1947

26th जनवरी 1947

3) 15th Aug 1947

15th अगस्त 1947

4) 26th Jan 1950

26th जनवरी 1950

Correct Answer: 26th Jan 1950

26th जनवरी 1950

Candidate Answer: 26th Jan 1950

26th जनवरी 1950

QID : 79 - How many houses are there in Indian Parliament?

भारतीय संसद में कितने सदन हैं?

Options:

1) 2

2) 3

3) 4

4) 5

Correct Answer: 2

Candidate Answer: 2

QID : 80 - Stone tools were first found in which period?

किस काल/युग में पत्थर के औज़ार सबसे पहले पाये गए थे?

Options:

1) Neolithic

नवपाषाण

2) Palaeolithic

पुरापाषाण काल

3) Microlith

लघुपाषाण

4) Mesolithic

मध्यपाषाण युग

Correct Answer: Neolithic

नवपाषाण

Candidate Answer: Palaeolithic

पुरापाषाण काल

QID : 81 - What were cotton textiles generally named in Europe which were taken by Portuguese from Calicut?

पुर्तगालियों द्वारा कालीकट से ले जाए जाने वाले कालीकट के सूती कपड़े यूरोप में आम तौर पर क्या कहलाते थे?

Options:

1) Calco

कैलको

2) Calico

कैलिको

3) Cottex

कौटेक्स

4) None of these

इनमें से कोई नहीं

Correct Answer: Calico

कैलिको

Candidate Answer: Calco

कैलको

QID : 82 - What is the position of Mercury from the Sun among the eight planets?

आठ ग्रहों में बुध सूर्य से कौन सी स्थान पर स्थित है?

Options:

1) First

पहला

2) Second

दूसरा

3) Third

तीसरा

4) Fourth

चौथा

Correct Answer: First

पहला

Candidate Answer: First

पहला

QID : 83 - What is the zone between the Tropic of Cancer and the Tropic of Capricorn called?

कर्क रेखा तथा मकर रेखा के बीच का क्षेत्र क्या है?

Options:

1) Temperate Zone

शीतोष्ण कटिबंध

2) Frigid Zone

शीत कटिबंध

3) Torrid Zone

उष्ण कटिबंध

4) None of these

इनमें से कोई नहीं

Correct Answer: Torrid Zone

उष्ण कटिबंध

Candidate Answer: Torrid Zone

उष्ण कटिबंध

QID : 84 - Which of the following roots are not eaten?

निम्नलिखित में से कौन सी जड़े नहीं खायी जाती है?

Options:

1) Carrot

गाजर

2) Tapioca

टैपियोका

3) Raddish

मूली

4) Wheat

गेहूँ

Correct Answer: Wheat

Candidate Answer: Wheat

गेहूँ

QID : 85 - In deficiency of which vitamin blood does not clot?

कौन-से विटामिन की कमी के कारण रक्त का थक्का नहीं जमता?

Options:

1) Vitamin A

विटामिन ए

2) Vitamin K

विटामिन के

3) Vitamin E

विटामिन ई

4) Vitamin D

विटामिन डी

Correct Answer: Vitamin K

विटामिन के

Candidate Answer: Vitamin K

विटामिन के

QID : 86 - In man ribs are attached to _____.

मानव की परलियाँ _____ के साथ जुड़ी होती हैं।

Options:

1) clavicle

क्लैवीकल

2) ileum

इलीयम

3) sternum

स्टर्नम

4) scapula

स्कैपुला

Correct Answer: sternum

स्टर्नम

Candidate Answer: [NOT ANSWERED]

QID : 87 - The reciprocal of resistance is conductance. If the unit of resistance is ohm, the unit of conductance will be _____.

प्रतिरोध का व्युत्क्रम चालकता है। यदि प्रतिरोध की इकाई ओम है, तो चालकता की इकाई _____ होगी।

Options:

1) ohm⁻¹

ओम⁻¹

2) ohmmeter

ओममीटर

3) rho

रो

4) ampere

एम्पियर

Correct Answer: ohm⁻¹

ओम⁻¹

Candidate Answer: ohm⁻¹

ओम⁻¹

QID : 88 - Minimum work is done when the body is _____.

न्यूनतम कार्य उस समय होगा जब पिण्ड को _____।

Options:

1) Pushed down an inclined plane

एक नत समतल पर नीचे धकेला जाये

2) Raised vertically upwards

ऊर्ध्वाधर रूप से ऊपर उठाया जाये

3) Pushed over smooth rollers

चिकने रोलर पर धकेला जाये

4) Pushed on a smooth horizontal surface

Correct Answer: Raised vertically upwards

ऊर्ध्वाधर रूप से ऊपर उठाया जाये

Candidate Answer: Pulled on a plane horizontal surface

एक समतल क्षैतिज सतह पर खींचा जाये

QID : 89 - What is the first page of website called?

वेबसाइट का पहला पृष्ठ क्या कहलाता है?

Options:

1) Home page

होम पेज

2) Main page

मेन पेज

3) Design page

डिज़ाइन पेज

4) None of these

इनमें से कोई नहीं

Correct Answer: Home page

होम पेज

Candidate Answer: Home page

होम पेज

QID : 90 - When sodium reacts with fluorine _____.

जब सोडियम, फ्लोरीन के साथ अभिक्रिया करता है, तो _____।

Options:

1) Each fluorine atom loses one electron

प्रत्येक फ्लोरीन परमाणु एक इलेक्ट्रॉन खोता है

2) Each sodium atom gains one electron

प्रत्येक सोडियम परमाणु एक इलेक्ट्रॉन प्राप्त करता है

3) Fluorine neither gains nor loses electron

फ्लोरीन न इलेक्ट्रॉन प्राप्त करता है न ही खोता है

4) The compound formed is a good conductor of electricity in the molten state

निर्मित होने वाला यौगिक पिघली हुई अवस्था में विद्युत का एक सुचालक होता है

Correct Answer: The compound formed is a good conductor of electricity in the molten state

निर्मित होने वाला यौगिक पिघली हुई अवस्था में विद्युत का एक सुचालक होता है

Candidate Answer: The compound formed is a good conductor of electricity in the molten state

निर्मित होने वाला यौगिक पिघली हुई अवस्था में विद्युत का एक सुचालक होता है

QID : 91 - Essential component of an amalgam is _____.

एक पादप मिश्रण का अनिवार्य घटक _____ है।

Options:

1) an acid

एक अम्ल

2) mercury

पारा

3) a base

एक क्षारक

4) a non-metal

एक अधातु

Correct Answer: mercury

पारा

Candidate Answer: an acid

एक अम्ल

QID : 92 - What is the effect of greenhouse gases on the average temperature of the earth's atmosphere?

हरितगृह गैसों का पृथ्वी के वायुमंडल के औसत ताप पर क्या प्रभाव होता है?

Options:

- 1) Increases
बढ़ता है
- 2) Decreases
घटता है
- 3) Remains same
समान रहता है
- 4) First increases and then decreases
पहले बढ़ता है तथा फिर घटता है

Correct Answer: Increases
बढ़ता है

Candidate Answer: Increases
बढ़ता है

QID : 93 - Which is a scheme for providing Physical aids and Assisted-living Devices for senior citizens belonging to BPL category?

बोपीएल श्रेणी से संबंधित वरिष्ठ नागरिकों के लिए भौतिक सहायता तथा असिस्टेड-लिविंग डिवाइस उपलब्ध कराने की एक योजना कौन सी है?

Options:

- 1) Rashtriya Vayoshri Yojana
राष्ट्रीय वृद्ध योजना
- 2) Vayoshreshtha Yojana
वयोश्रेष्ठ योजना
- 3) Pradhan Mantri Vayoshri Yojana
प्रधानमंत्री वृद्ध योजना
- 4) None of these
इनमें से कोई नहीं

Correct Answer: Rashtriya Vayoshri Yojana
राष्ट्रीय वृद्ध योजना

Candidate Answer: Vayoshreshtha Yojana
वयोश्रेष्ठ योजना

QID : 94 - Who invented Barometer?

बैरोमीटर के आविष्कारक कौन हैं?

Options:

- 1) E. Torricelli
ई. टोरीसेली
- 2) Walter Reed
वाल्टर रीड
- 3) William Herschel
विलियम हर्शल
- 4) William Stanley
विलियम स्टेनली

Correct Answer: E. Torricelli
ई. टोरीसेली

Candidate Answer: William Stanley
विलियम स्टेनली

QID : 95 - Which country will host the 2019 ICC Cricket World Cup?

कौन सा देश 2019 आईसीसी क्रिकेट विश्व कप की मेजबानी करेगा?

Options:

- 1) England
इंग्लैंड
- 2) South Africa
दक्षिण अफ्रीका
- 3) India
भारत
- 4) West Indies
वेस्ट इंडीज

Correct Answer: England
इंग्लैंड

Candidate Answer: England
इंग्लैंड

QID : 96 - Which art is also known as Greco- Buddhist art?

कौन सी कला ग्रीको-बौद्ध कला के नाम से भी जानी जाती है?

Options:

1) Gandhara Art

गंधारा कला

2) Mathura Art

मथुरा कला

3) Sunga Art

सुंगा कला

4) Madhubani Art

मधुबनी कला

Correct Answer: Gandhara Art

गंधारा कला

Candidate Answer: Sunga Art

सुंगा कला

QID : 97 - Who was/were the last person/persons to be awarded with 'Bharat Ratna'?

भारत रत्न' से सम्मानित होने वाले अंतिम व्यक्ति/व्यक्ति कौन था/थे?

Options:

1) Madan Mohan Malaviya

मदन मोहन मालवीय

2) Atal Bihari Vajpayee

अटल बिहारी वाजपेयी

3) Both Madan Mohan Malaviya and Atal Bihari Vajpayee

मदन मोहन मालवीय तथा अटल बिहारी वाजपेयी दोनों

4) None of these

इनमें से कोई नहीं

Correct Answer: Both Madan Mohan Malaviya and Atal Bihari Vajpayee

मदन मोहन मालवीय तथा अटल बिहारी वाजपेयी दोनों

Candidate Answer: Both Madan Mohan Malaviya and Atal Bihari Vajpayee

मदन मोहन मालवीय तथा अटल बिहारी वाजपेयी दोनों

QID : 98 - Who is the author of book named "A Bend in the River"?

"अ बेंड इन द रिवर" नामक पुस्तक के लेखक कौन हैं?

Options:

1) V.S Naipaul

वी. एस. नायपाल

2) Mark Twain

मार्क ट्वेन

3) Bill Gates

बिल गेट्स

4) G.B Shaw

जी.बी. शा

Correct Answer: V.S Naipaul

वी. एस. नायपाल

Candidate Answer: V.S Naipaul

वी. एस. नायपाल

QID : 99 - The African Nuclear Weapon Free Zone treaty is also called as _____.

अफ्रीकी परमाणु हथियार मुक्त क्षेत्र संधि _____ भी कहलाती है।

Options:

1) Pelindaba Treaty

पेलिन्डाबा संधि

2) Petrotech treaty

पेट्रोटेक संधि

3) Tropex treatu

ट्रोपेक्स संधि

4) None of these

इनमें से कोई नहीं

Correct Answer: Pelindaba Treaty

Candidate Answer: [NOT ANSWERED]

QID : 100 - Which neighbouring country of India is also known by the name Burma?

भारत का कौन सा पड़ोसी देश बर्मा के नाम से भी जाना जाता है?

Options:

1) Myanmar

म्यांमार

2) Bangladesh

बांग्लादेश

3) Bhutan

भूटान

4) China

चीन

Correct Answer: Myanmar

म्यांमार

Candidate Answer: Myanmar

म्यांमार

mpcareer.in