



Staff Selection Commission
(Government Of India)

REGISTRATION NUMBER : www.examstocks.com
EXAM DATE : 17-September-2017
EXAM NAME : SSC Examination
TOTAL MARKS : 150

CANDIDATE NAME : examstocks.com
EXAM START TIME : 16:30:00
EXAM DURATION : 01:30 Hrs
TOTAL NO OF QUESTIONS : 100

QID : 101 -

In the following question, select the number which can be placed at the sign of question mark (?) from the given alternatives.

निम्नलिखित प्रश्न में दिए गए विकल्पों में से प्रश्न चिह्न (?) के स्थान पर आने वाली संख्या को चुनिए।

1	2	3	4
2	3	4	5
3	4	5	6
6	9	12	?

Options:

- 1) 14
- 2) 15
- 3) 18
- 4) 20

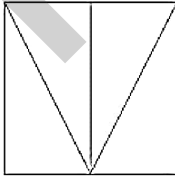
Correct Answer: 15

Candidate Answer: 15

QID : 102 -

How many triangles are there in the given figure?

दी गई आकृति में कितने त्रिभुज हैं?



Options:

- 1) 4
- 2) 5
- 3) 6
- 4) 7

Correct Answer: 5

Candidate Answer: 5

QID : 103 -

A word is represented by only one set of numbers as given in any one of the alternatives. The sets of numbers given in the alternatives are represented by two classes of alphabets as shown in the given two matrices. The columns and rows of **Matrix-I** are numbered from 0 to 4 and that of **Matrix-II** are numbered from 5 to 9. A letter from these matrices can be represented first by its row and next by its column, for example, 'E' can be represented by 14, 67, etc., and 'N' can be represented by 22, 75, etc. Similarly, you have to identify the set for the word "MALE".

एक शब्द केवल एक संख्या-समूह द्वारा दर्शाया गया है, जैसा कि विकल्पों में से किसी एक में दिया गया है। विकल्पों में दिए गए संख्या-समूह अक्षरों के दो वर्गों द्वारा दर्शाए गए हैं, जैसा कि दिए गए आव्यूहों में है। आव्यूह-I के स्तम्भ और पंक्ति की संख्या 0 से 4 है और आव्यूह-II की 5 से 9। इन आव्यूहों से एक अक्षर को पहले उसकी पंक्ति और बाद में स्तम्भ संख्या द्वारा दर्शाया जा सकता है। उदाहरण के लिए 'E' को 14, 67, आदि द्वारा दर्शाया जा सकता है तथा 'N' को 22, 75, आदि द्वारा दर्शाया जा सकता है। इसी तरह से आपको प्रश्न में दिए शब्द "MALE" के लिए समूह को पहचानना है।

Matrix-I

आव्यूह-I

	0	1	2	3	4
0	Y	L	U	A	D
1	K	S	A	O	E
2	J	M	N	L	T
3	V	C	E	F	U
4	D	K	J	U	A

Matrix-II

आव्यूह-II

	5	6	7	8	9
5	Q	H	O	Y	S
6	F	P	E	A	C
7	N	H	I	J	R
8	K	N	G	Q	O
9	V	R	T	H	I

Options:

- 1) 75, 68, 23, 14
- 2) 21, 12, 24, 13
- 3) 21, 68, 01, 32
- 4) 56, 69, 23, 13

Correct Answer: 21, 68, 01, 32

Candidate Answer: 21, 68, 01, 32

QID : 104 -

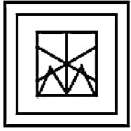
From the given answer figures, select the one in which the question figure is hidden/embedded.

दी गई उत्तर आकृतियों में से उस उत्तर आकृति को चुनिए जिस में प्रश्न आकृति निहित है।

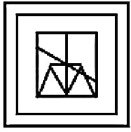


Options:

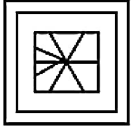
1)



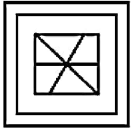
2)



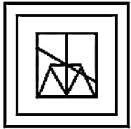
3)



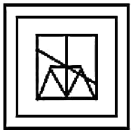
4)



Correct Answer:



Candidate Answer:



QID : 105 -

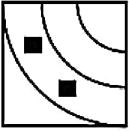
Which answer figure will complete the pattern in the question figure?

कौन सी उत्तर आकृति प्रश्न आकृति के प्रतिरूप को पूरा करेगी?

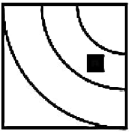


Options:

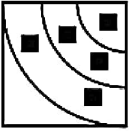
1)



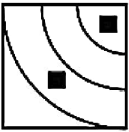
2)



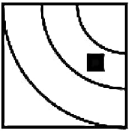
3)



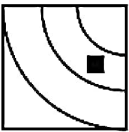
4)



Correct Answer:



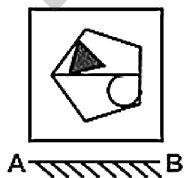
Candidate Answer:



QID : 106 -

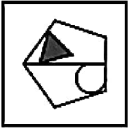
If a mirror is placed on the line AB, then which of the answer figures is the right image of the given figure?

यदि एक दर्पण को AB रेखा पर रखा जाए, तो दी गई उत्तर आकृतियों में से कौन सी आकृति प्रश्न आकृति की सही प्रतिबिम्ब होगी?



Options:

1)



2)



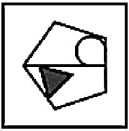
3)



4)



Correct Answer:



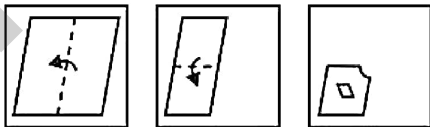
Candidate Answer:



QID : 107 -

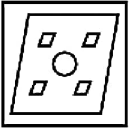
A piece of paper is folded and punched as shown below in the question figures. From the given answer figures, indicate how it will appear when opened?

नीचे के प्रश्न आकृतियों में दिखाए अनुसार कागज को मोड़कर छेदने तथा खोलने के बाद वह किस उत्तर आकृति जैसा दिखाई देगा?

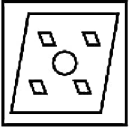


Options:

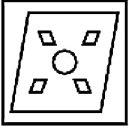
1)



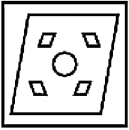
2)



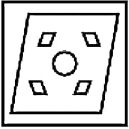
3)



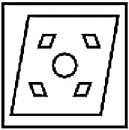
4)



Correct Answer:



Candidate Answer:



QID : 108 - What will come in place of question mark (?) in the given equation?

$$39 ? 11 ? 33 ? 117$$

दिए गए समीकरण में प्रश्न चिह्न (?) के स्थान पर क्या आएगा?

$$39 ? 11 ? 33 ? 117$$

Options:

1) +, ÷ and =

+, ÷ तथा =

2) ÷, × and =

÷, × तथा =

3) ×, = and ×

×, = तथा ×

4) ×, ÷ and =

×, ÷ तथा =

Correct Answer: ÷, × and =

÷, × तथा =

Candidate Answer: ÷, × and =

÷, × तथा =

QID : 109 - If $4 @ 9 \# 3 = -2$ and $11 \# 2 @ 6 = 7$, then $14 @ 3 \# 7 = ?$

यदि $4 @ 9 \# 3 = -2$ तथा $11 \# 2 @ 6 = 7$ हो, तो $14 @ 3 \# 7 = ?$

Options:

1) 16

2) 18

3) 4

4) 10

Correct Answer: 18

Candidate Answer: 18

QID : 110 - Arrange the given words in the sequence in which they occur in the dictionary.

1. Ratio
2. Raise
3. Rapid
4. Robin
5. Royal

निम्नलिखित शब्दों को शब्दकोश में आने वाले क्रम के अनुसार लिखें।

1. Ratio
2. Raise
3. Rapid
4. Robin
5. Royal

Options:
1) 23145

2) 32541

3) 21435

4) 25431

Correct Answer: 23145

Candidate Answer: 23145

QID : 111 - In the following question, select the missing number from the given alternatives.

120, 119, 115, 106, 90, ?

निम्नलिखित प्रश्न में दिए गए विकल्पों में से लुप्त अंक ज्ञात कीजिए।

120, 119, 115, 106, 90, ?

Options:

1) 75

2) 65

3) 77

4) 62

Correct Answer: 65

Candidate Answer: 65

QID : 112 - A series is given with one term missing. Select the correct alternative from the given ones that will complete the series.

A, C, F, J, O, ?

एक अनुक्रम दिया गया है, जिसमें से एक पद लुप्त है। दिए गए विकल्पों में से वह सही विकल्प चुनिए, जो अनुक्रम को पूरा करे।

A, C, F, J, O, ?

Options:

1) U

2) V

3) T

4) S

Correct Answer: U

Candidate Answer: U

QID : 113 - In the following question, select the odd word from the given alternatives.

निम्नलिखित प्रश्न में दिए गए विकल्पों में से विषम शब्द को चुनिए।

Options:

1) Sun

सूर्य

2) Earth

पृथ्वी

3) Jupiter

बृहस्पति

4) Mercury

बुध

Correct Answer: Sun

सूर्य

Candidate Answer: Sun

सूर्य

QID : 114 - In the following question, select the odd number pair from the given alternatives.

निम्नलिखित प्रश्न में दिए गए विकल्पों में से विषम संख्या युग्म को चुनिए।

Options:

1) 10 – 30

2) 11 – 33

3) 50 – 150

4) 13 – 37

Correct Answer: 13 – 37

Candidate Answer: 13 – 37

QID : 115 - In the following question, select the odd letters from the given alternatives.

निम्नलिखित प्रश्न में दिए गए विकल्पों में से विषम अक्षरों को चुनिए।

Options:

1) DCF

2) NMP

3) VUX

4) JIM

Correct Answer: JIM

Candidate Answer: JIM

QID : 116 - Identify the diagram that best represents the relationship among the given classes.

Furniture, Chair, Table

वह आरेख चुनिए जो नीचे दिए गए वर्गों के बीच के संबंध का सही निरूपण करता है।

फर्नीचर, कुर्सी, मेज़,

Options:

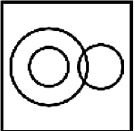
1)



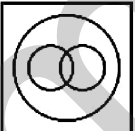
2)



3)



4)



Correct Answer:



Candidate Answer:



QID : 117 - In the following question, select the related word from the given alternatives.

Comb : Hair :: Shoes : ?

निम्नलिखित प्रश्न में दिए गए विकल्पों में से संबंधित शब्द को चुनिए।

कंगी : बाल :: जूते : ?

Options:

- 1) Hand
हाथ
- 2) Feet
पैर
- 3) Leather
चमड़ा
- 4) Black
काला

Correct Answer: Feet
पैर

Candidate Answer: Feet
पैर

QID : 118 - In the following question, select the related number from the given alternatives.

210 : 221 :: 343 : ?

निम्नलिखित प्रश्न में दिए गए विकल्पों में से संबंधित संख्या को चुनिए।

210 : 221 :: 343 : ?

Options:

- 1) 318
- 2) 386
- 3) 330
- 4) 354

Correct Answer: 354

Candidate Answer: 354

QID : 119 - In the following question, select the related letters from the given alternatives.

GHP : FFM :: PIC : ?

निम्नलिखित प्रश्न में दिए गए विकल्पों में से संबंधित अक्षरों को चुनिए।

GHP : FFM :: PIC : ?

Options:

- 1) OGZ
- 2) OHZ
- 3) NGA
- 4) NHA

Correct Answer: OGZ

Candidate Answer: OGZ

QID : 120 - In the following question, select the word which cannot be formed using the letters of the given word.

TECHNOLOGICAL

निम्नलिखित विकल्पों में से वह शब्द चुनिए जो दिए गए शब्द के अक्षरों का प्रयोग करके नहीं बनाया जा सकता।

TECHNOLOGICAL

Options:

- 1) LOGIC
- 2) LOAN
- 3) HATER
- 4) COLOGNE

Correct Answer: HATER

Candidate Answer: HATER

QID : 121 - The ratio of present ages of A and B is 5 : 7. If the age of B after 10 years will be 31 years, then what is the present age (in years) of A?

A तथा B की वर्तमान आयु का अनुपात 5 : 7 है। यदि 10 वर्ष पश्चात B की आयु 31 वर्ष हो जाएगी, तो A की वर्तमान आयु (वर्षों में) क्या है?

Options:

- 1) 10
- 2) 15
- 3) 25
- 4) 35

Correct Answer: 15

Candidate Answer: 15

QID : 122 - 5 books of History, Mathematics, English, Hindi and Science are kept on top of each other. English is kept between History and Mathematics. Hindi and Science are kept together. Science is kept above Mathematics. Which book is kept in the middle?

5 पुस्तकें इतिहास, गणित, अंग्रेजी, हिन्दी तथा विज्ञान, एक दूसरे के ऊपर रखी हैं। अंग्रेजी की पुस्तक, इतिहास तथा गणित की पुस्तक के मध्य रखी है। हिन्दी तथा विज्ञान की पुस्तक एक साथ रखी हैं। विज्ञान की पुस्तक, गणित की पुस्तक के ऊपर रखी है। कौन सी पुस्तक मध्य में रखी है?

Options:

1) Mathematics

गणित

2) English

अंग्रेजी

3) Science

विज्ञान

4) Mathematics or English

गणित अथवा अंग्रेजी

Correct Answer: Mathematics

गणित

Candidate Answer: English

अंग्रेजी

QID : 123 - In the following question below are given some statements followed by some conclusions. Taking the given statements to be true even if they seem to be at variance from commonly known facts, read all the conclusions and then decide which of the given conclusion logically follows the given statements.

Statements:

I. All blue are black.

II. Some blue are yellow.

Conclusions:

I. All blue are yellow.

II. Some black are yellow

नीचे दिए गए प्रश्न में कुछ कथन और उनके बाद उन कथनों पर आधारित कुछ निष्कर्ष दिए गए हैं, हालांकि उनमें सामान्य ज्ञात तथ्यों से भिन्नता हो सकती है। सभी निष्कर्ष पढ़ें और फिर निर्धारित करें कि दिए गए कौन से निष्कर्ष, दिए गए कथनों के आधार पर युक्तिसंगत हैं।

कथन:

I. सभी नीले काले हैं।

II. कुछ नीले पीले हैं।

निष्कर्ष:

I. सभी नीले पीले हैं।

II. कुछ काले पीले हैं।

Options:

1) Only conclusion (I) follows.

केवल निष्कर्ष (I) सही है।

2) Only conclusion (II) follows.

केवल निष्कर्ष (II) सही है।

3) Both conclusion follow.

दोनों ही निष्कर्ष सही हैं।

4) Neither conclusion (I) nor conclusion (II) follows.

न तो निष्कर्ष (I) न ही निष्कर्ष (II) सही है।

Correct Answer: Only conclusion (II) follows.

केवल निष्कर्ष (II) सही है।

Candidate Answer: Only conclusion (II) follows.

केवल निष्कर्ष (II) सही है।

QID : 124 - In a certain code language, "PEN" is written as "QFO". How is "CAT" written in that code language?

एक विशिष्ट कोड भाषा में, "PEN" को "QFO" लिखा जाता है। इस कोड भाषा में "CAT" को किस प्रकार लिखा जाएगा?

Options:

1) DBU

2) DCU

3) CBU

4) DBV

Correct Answer: DBU

Candidate Answer: DBU

QID : 125 - In a certain code language, "ADD" is written as "8" and "SUB" is written as "41". How is "MUL" written in that code language?

एक विशिष्ट कोड भाषा में, "ADD" को "8" तथा "SUB" को "41" लिखा जाता है। इस कोड भाषा में "MUL" को किस प्रकार लिखा जाएगा?

Options:

1) 44

2) 45

3) 43

4) 42

Correct Answer: 45

Candidate Answer: 45

QID : 126 - What is the unit digit of $279 + 167 \times 342$?

$279 + 167 \times 342$ का इकाई अंक क्या है?

Options:

- 1) 1
- 2) 3
- 3) 5
- 4) 8

Correct Answer: 3

Candidate Answer: 3

QID : 127 - What is the value of $(2.3 + 1.7)^2 - (2.3 - 1.7)^2$?

$(2.3 + 1.7)^2 - (2.3 - 1.7)^2$ का मान क्या है?

Options:

- 1) 15.64
- 2) 4.45
- 3) 7.82
- 4) 6.62

Correct Answer: 15.64

Candidate Answer: 15.64

QID : 128 -

What is the simplified value of $\frac{33}{(6 - \sqrt{3})}$?

$\frac{33}{(6 - \sqrt{3})}$ का सरलीकृत मान क्या है?

Options:

- 1) $6 + \sqrt{3}$
- 2) $6 - \sqrt{3}$
- 3) $12 + \sqrt{3}$
- 4) $12 - \sqrt{3}$

Correct Answer: $6 + \sqrt{3}$

Candidate Answer: $6 + \sqrt{3}$

QID : 129 - A number when divided by 80 leaves remainder 20, what is the remainder when the same number is divided by 16?

एक संख्या को जब 80 से भाग दिया जाता है तो शेषफल 20 बचता है, जब उसी संख्या को 16 से भाग दिया जाए तो शेषफल क्या होगा?

Options:

- 1) 2
- 2) 4
- 3) 6
- 4) 8

Correct Answer: 4

Candidate Answer: 4

QID : 130 - Which of the given value is divisible by 15?

दिये गए मान में कौन 15 से विभाजित है?

Options:

- 1) 2365
- 2) 1375
- 3) 4365
- 4) 2275

Correct Answer: 4365

Candidate Answer: 4365

QID : 131 - Which fraction among $\frac{2}{3}$, $\frac{4}{5}$ and $\frac{7}{11}$ is the largest?

$\frac{2}{3}$, $\frac{4}{5}$ तथा $\frac{7}{11}$ में से कौन सा भिन्न बड़ा है?

Options:

- 1) $\frac{2}{3}$
- 2) $\frac{4}{5}$
- 3) $\frac{7}{11}$
- 4) All are equal
सभी बराबर हैं

Correct Answer: $\frac{4}{5}$

Candidate Answer: $\frac{4}{5}$

QID : 132 - A and B together complete a work in 20 days, B and C together complete same work in 30 days, C and A together complete the same work in 24 days. In how many days A, B and C together can complete the same work?

A तथा B मिलकर किसी कार्य को 20 दिनों में पूरा करते हैं। B तथा C मिलकर 30 दिनों में कार्य पूरा करते हैं, C तथा A मिलकर उस कार्य को 24 दिनों में पूरा करते हैं। A, B तथा C मिलकर कार्य को कितने दिनों में पूरा कर सकते हैं?

Options:

- 1) 8
- 2) 16
- 3) 12
- 4) 15

Correct Answer: 16

Candidate Answer: 16

QID : 133 - X and Y can complete a piece of work in 12 and 60 days respectively. They contracted to complete the work together for Rs 24,000. What will be the share of X?

X तथा Y किसी कार्य को क्रमशः 12 तथा 60 दिनों में पूरा कर सकते हैं। उन्होंने 24,000 रु में कार्य पूरा करने का ठेका लिया। X का हिस्सा कितना होगा?

Options:

- 1) 18000
- 2) 16000
- 3) 20000
- 4) 21000

Correct Answer: 20000

Candidate Answer: 20000

QID : 134 - The diagonals of a rhombus are 16 cm and 30 cm. What is the perimeter of the rhombus?

एक समचतुर्भुज के विकर्ण 16 से.मी. तथा 30 से.मी. हैं। समचतुर्भुज का परिमाण क्या है?

Options:

- 1) 34
- 2) 68
- 3) 51
- 4) 72

Correct Answer: 68

Candidate Answer: 68

QID : 135 - After giving a discount of 20% on an article, shopkeeper gains 20%. What is the percentage mark up?

एक वस्तु पर 20% की छूट देने के बाद भी दुकानदार को 20% का लाभ होता है। अंकित मूल्य का प्रतिशत क्या है?

Options:

- 1) 75
- 2) 66.67
- 3) 50
- 4) 33.33

Correct Answer: 50

Candidate Answer: 66.67

QID : 136 - Marked price of an article is 40% more than its cost price. If 25% discount is given, then what will be the profit percentage?

एक वस्तु का अंकित मूल्य उसके क्रय मूल्य से 40% अधिक है। यदि 25% की छूट दी जाए, तो लाभ का प्रतिशत क्या होगा?

Options:

- 1) 12.5
- 2) 10
- 3) 15
- 4) 5

Correct Answer: 5

Candidate Answer: 5

QID : 137 - The ratio of the age of Ram and Shyam 15 years ago was 2 : 5. The ratio of their present ages is 5 : 8. What will be the present age of Shyam?

राम तथा श्याम की आयु का अनुपात 15 साल पहले 2 : 5 था। उनकी वर्तमान आयु का अनुपात 5 : 8 है। श्याम की वर्तमान आयु कितनी होगी?

Options:

- 1) 10
- 2) 15
- 3) 25
- 4) 40

Correct Answer: 40

Candidate Answer: 40

QID : 138 - Three numbers are in the ratio 2 : 5 : 7. The sum of the smallest and largest numbers equals the sum of the second and 16. What is the smallest number?

तीन संख्याएँ 2 : 5 : 7 के अनुपात में हैं। सबसे छोटी तथा सबसे बड़ी संख्याओं का योग दूसरी तथा 16 के योग के बराबर है। सबसे छोटी संख्या क्या है?

Options:

- 1) 8
- 2) 12
- 3) 6
- 4) 10

Correct Answer: 8

Candidate Answer: 8

QID : 139 - Average of 5 consecutive numbers is A. If the next 3 numbers are also taken, then what will be the new average?

5 क्रमागत संख्याओं का औसत A है। यदि अगली 3 संख्याएँ भी ले ली जाए, तो नया औसत क्या होगा?

Options:

- 1) A + 1
- 2) A + 1.5
- 3) A + 2
- 4) A + 2.5

Correct Answer: A + 1.5

Candidate Answer: A + 1.5

QID : 140 - If cost price is Rs 150 less than the selling price and profit is 20%, then what is the selling price (in Rs)?

यदि क्रय मूल्य विक्रय मूल्य से 150 रु कम है तथा लाभ 20% है, तो विक्रय मूल्य (रु में) क्या है?

Options:

- 1) 750
- 2) 800
- 3) 850
- 4) 900

Correct Answer: 900

Candidate Answer: 900

QID : 141 - If profit is $(1/11)^{\text{th}}$ of selling price, then what is the profit percentage?

यदि लाभ विक्रय मूल्य का $(1/11)$ -वां भाग है, तो लाभ का प्रतिशत क्या है?

Options:

1) $9\frac{1}{11}$

2) 10

3)

$8\frac{1}{3}$

4)

$11\frac{1}{9}$

Correct Answer: 10

Candidate Answer:

$9\frac{1}{11}$

QID : 142 - The price of a house increases every year by 20%. If the present price is Rs 720000, then what was its price (in Rs) 2 years ago?

एक घर की कीमत प्रतिवर्ष 20% से बढ़ती है। यदि वर्तमान कीमत रु 720000 है, तो 2 वर्ष पहले उसकी कीमत (रु में) क्या थी?

Options:

1) 500000

2) 550000

3) 450000

4) 580000

Correct Answer: 500000

Candidate Answer: 500000

QID : 143 - If A is 20% more than 360, then what is the value of A?

यदि A, 360 से 20% अधिक है, तो A का मान क्या है?

Options:

1) 396

2) 432

3) 480

4) 512

Correct Answer: 432

Candidate Answer: 432

QID : 144 - A train 200 metres long is running at a speed of 20 metre per second. In how much time (in seconds) it will cross a bridge of 400 metre long?

एक 200 मीटर लम्बी रेलगाड़ी 20 मीटर प्रति सेकण्ड की गति से चलती है। 400 मीटर लम्बे प्लेटफॉर्म को पार करने में वह कितना समय (सेकेंडों में) लेगी?

Options:

1) 20

2) 25

3) 30

4) 60

Correct Answer: 30

Candidate Answer: 30

QID : 145 - A boat travels 32 km downstream in 4 hours and 24 km upstream in 6 hours. What is the speed (in km/hr) of boat in still water?

एक नाव धारा के अनुकूल 32 कि.मी. दूरी 4 घंटे में तय करती है तथा धारा के प्रतिकूल में 24 कि.मी. दूरी 6 घंटे में तय करती है। शांत जल में नाव की गति (कि.मी./घंटा में) क्या है?

Options:

1) 2

2) 4

3) 6

4) 8

Correct Answer: 6

Candidate Answer: 6

QID : 146 - Rs 2300 are invested for 3 years in a scheme of simple interest at a rate of 12% per annum. What is the amount obtained (in Rs) after 3 years?

2300 रु को 3 वर्ष के लिए साधारण ब्याज वाली एक योजना में 12% प्रतिवर्ष की ब्याज दर से निवेश किया गया। 3 वर्ष बाद कितना मिश्रधन (रु में) मिलेगा?

Options:

- 1) 3128
- 2) 3456
- 3) 3724
- 4) 2950

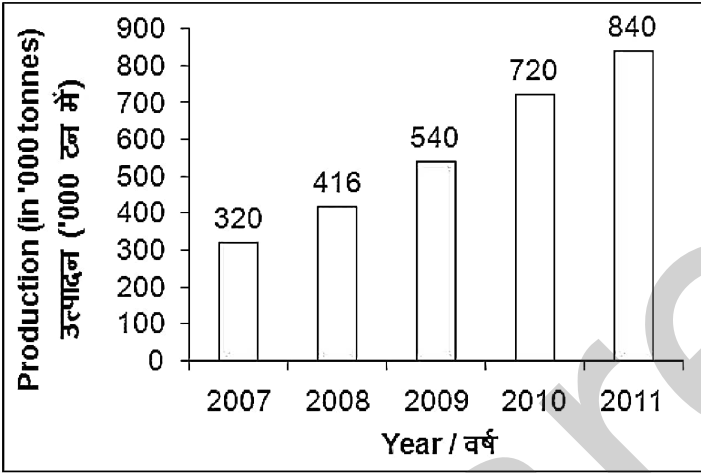
Correct Answer: 3128

Candidate Answer: 3128

QID : 147 -

The bar graph given below shows the production (in '000 tonnes) of rice of a country for the year 2007 to 2011.

नीचे दिए गए दण्ड चित्र में एक देश का वर्ष 2007 से 2011 तक चावल के उत्पादन ('000 टन में) को दर्शाया गया है।



How much is the percentage increase in the production of rice in the year 2008 in comparison to year 2007?

वर्ष 2007 की तुलना में, वर्ष 2008 में चावल के उत्पादन में कितने प्रतिशत की वृद्धि हुई है?

Options:

- 1) 25
- 2) 30
- 3) 35
- 4) 40

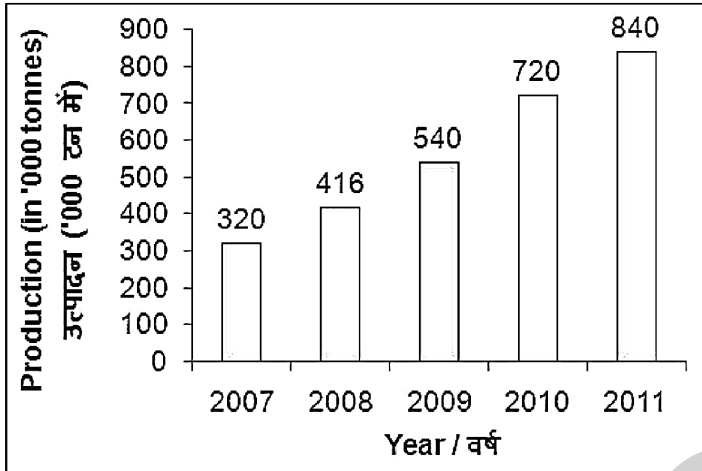
Correct Answer: 30

Candidate Answer: 30

QID : 148 -

The bar graph given below shows the production (in '000 tonnes) of rice of a country for the year 2007 to 2011.

नीचे दिए गए दण्ड चित्र में एक देश का वर्ष 2007 से 2011 तक चावल के उत्पादन ('000 टन में) को दर्शाया गया है।



What is the average production of rice per year from 2009 to 2011?

वर्ष 2009 से वर्ष 2011 तक, प्रत्येक वर्ष चावल का औसत उत्पादन क्या है?

Options:

- 1) 700
- 2) 550
- 3) 860
- 4) 900

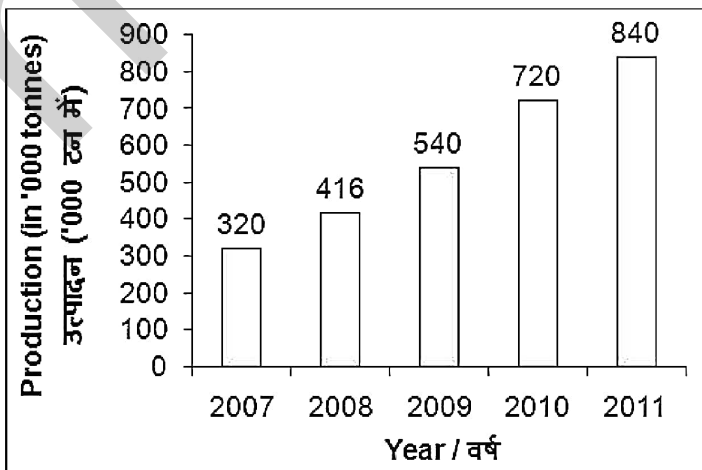
Correct Answer: 700

Candidate Answer: 700

QID : 149 -

The bar graph given below shows the production (in '000 tonnes) of rice of a country for the year 2007 to 2011.

नीचे दिए गए दण्ड चित्र में एक देश का वर्ष 2007 से 2011 तक चावल के उत्पादन ('000 टन में) को दर्शाया गया है।



The production of rice in year 2010 is how much percent more than the production of rice in the year 2009?

वर्ष 2010 में हुए चावल का उत्पादन वर्ष 2009 में हुए चावल के उत्पादन से कितने प्रतिशत अधिक है?

Options:

- 1) 21.5
- 2) 37.5
- 3) 42.5
- 4) 33.33

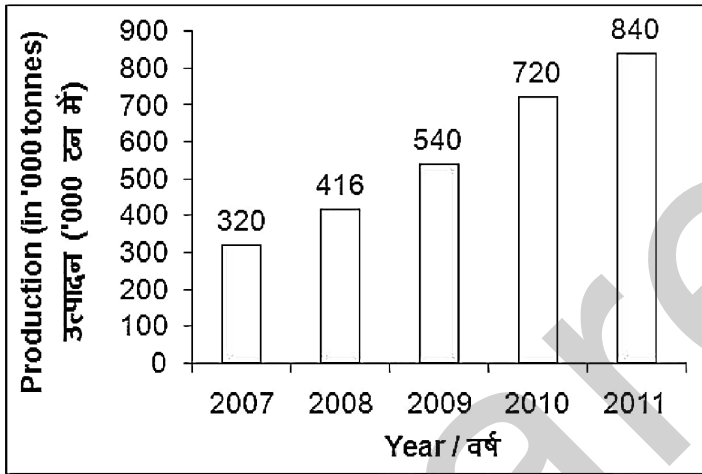
Correct Answer: 33.33

Candidate Answer: 33.33

QID : 150 -

The bar graph given below shows the production (in '000 tonnes) of rice of a country for the year 2007 to 2011.

नीचे दिए गए दण्ड चित्र में एक देश का वर्ष 2007 से 2011 तक चावल के उत्पादन ('000 टन में) को दर्शाया गया है।



The production of rice in year 2011 is what percent of the production of rice in 2010?

वर्ष 2011 में हुआ चावल का उत्पादन वर्ष 2010 में हुए चावल के उत्पादन का कितना प्रतिशत है?

Options:

- 1) 116.66
- 2) 121.5
- 3) 133.33
- 4) 108.5

Correct Answer: 116.66

Candidate Answer: 116.66

QID : 151 - In the following question, some part of the sentence may have errors. Find out which part of the sentence has an error and select the appropriate option. If a sentence is free from error, select 'No Error'.

She is unfortunate enough to (1)/ lose few friends she made (2)/ during her stay in Chennai. (3)/ No Error (4)

Options:

- 1) 1
- 2) 2
- 3) 3
- 4) 4

Correct Answer: 4

Candidate Answer: 2

QID : 152 - In the following question, some part of the sentence may have errors. Find out which part of the sentence has an error and select the appropriate option. If a sentence is free from error, select 'No Error'.

It was by a mistake (1)/ that Ankit caught (2)/ Archana's hand. (3)/ No Error (4)

Options:

- 1) 1
- 2) 2
- 3) 3
- 4) 4

Correct Answer: 1

Candidate Answer: 1

QID : 153 - In the following question, the sentence given with blank to be filled in with an appropriate word. Select the correct alternative out of the four and indicate it by selecting the appropriate option.

Priya _____ a taste for poetry in the company of her cousin.

Options:

1) imbibed

2) fostered

3) learnt

4) cultivated

Correct Answer: cultivated

Candidate Answer: cultivated

QID : 154 - In the following question, the sentence given with blank to be filled in with an appropriate word. Select the correct alternative out of the four and indicate it by selecting the appropriate option.

I shall not desert her _____ all the world.

Options:

1) from

2) for

3) with

4) by

Correct Answer: for

Candidate Answer: from

QID : 155 - In the following question, out of the given four alternatives, select the one which best expresses the meaning of the given word.

Elope

Options:

1) Abscond

2) Remain

3) Stay

4) Capture

Correct Answer: Abscond

Candidate Answer: Abscond

QID : 156 - In the following question, out of the given four alternatives, select the one which best expresses the meaning of the given word.

Evade

Options:

1) Bypass

2) Meet

3) Indulge

4) Seek

Correct Answer: Bypass

Candidate Answer: Bypass

QID : 157 - In the following question, out of the given four alternatives, select the one which best expresses the meaning of the given word.

Relinquish

Options:

1) Keep

2) Assume

3) Discard

4) Maintain

Correct Answer: Discard

Candidate Answer: Discard

QID : 158 - In the following question, out of the given four alternatives, select the one which is opposite in meaning of the given word.

Estimate

Options:

- 1) Assessment
- 2) Conclude
- 3) Opinion
- 4) Actual

Correct Answer: Actual

Candidate Answer: Actual

QID : 159 - In the following question, out of the given four alternatives, select the one which is opposite in meaning of the given word.

Conceive

Options:

- 1) Misunderstand
- 2) Accept
- 3) Expect
- 4) Assume

Correct Answer: Misunderstand

Candidate Answer: Assume

QID : 160 - In the following question, out of the given four alternatives, select the one which is opposite in meaning of the given word.

Suspend

Options:

- 1) Cease
- 2) Discontinue
- 3) Eliminate
- 4) Persist

Correct Answer: Persist

Candidate Answer: Persist

QID : 161 - In the following question, out of the given four alternatives, select the alternative which best expresses the meaning of the Idiom/Phrase.

At any cost

Options:

- 1) Personally
- 2) In a miserable situation
- 3) Secretly
- 4) Under any circumstances

Correct Answer: Under any circumstances

Candidate Answer: Under any circumstances

QID : 162 - In the following question, out of the given four alternatives, select the alternative which best expresses the meaning of the Idiom/Phrase.

An iron-will

Options:

- 1) A firm opinion
- 2) No longer in use
- 3) By all means
- 4) To make sacrifice

Correct Answer: A firm opinion

Candidate Answer: A firm opinion

QID : 163 - In the following question, out of the four alternatives, select the alternative which will improve the bracketed part of the sentence. In case no improvement is needed, select "no improvement".

Shreya is (a honest women).

Options:

- 1) an honest woman
- 2) honest woman
- 3) honestly a woman
- 4) no improvement

Correct Answer: an honest woman

Candidate Answer: an honest woman

QID : 164 - In the following question, out of the four alternatives, select the alternative which will improve the bracketed part of the sentence. In case no improvement is needed, select "no improvement".

My kids are (in a cranky mood today).

Options:

- 1) in cranky mood today
- 2) in the cranky mood today
- 3) in crankiest mood today
- 4) no improvement

Correct Answer: no improvement

Candidate Answer: in the cranky mood today

QID : 165 - In the following question, out of the four alternatives, select the alternative which is the best substitute of the phrase.

That which cannot be moved

Options:

- 1) Rational
- 2) Eradicable
- 3) Immobile
- 4) Insolvent

Correct Answer: Immobile

Candidate Answer: Immobile

QID : 166 - In the following question, out of the four alternatives, select the alternative which is the best substitute of the phrase.

That which cannot be perceived by touch

Options:

- 1) Transparent
- 2) Opaque
- 3) Translucent
- 4) Intangible

Correct Answer: Intangible

Candidate Answer: Intangible

QID : 167 - In the following question, a word has been written in four different ways out of which only one is correctly spelt. Select the correctly spelt word.

Options:

- 1) Ambassaddor
- 2) Ambassador
- 3) Ambasador
- 4) Ambassader

Correct Answer: Ambassador

Candidate Answer: Ambasador

QID : 168 - In the following question, a word has been written in four different ways out of which only one is correctly spelt. Select the correctly spelt word.

Options:

- 1) Appraoch
- 2) Approach
- 3) Approach
- 4) Apporach

Correct Answer: Approach

Candidate Answer: Approach

QID : 169 - The question below consists of a set of labelled sentences. Out of the four options given, select the most logical order of the sentences to form a coherent paragraph.

There was once

P: a poor man who earned

Q: himself and his family

R: just a bare living for

Options:

- 1) PRQ
- 2) QRP
- 3) QPR
- 4) RPQ

Correct Answer: PRQ

Candidate Answer: PRQ

QID : 170 - The question below consists of a set of labelled sentences. Out of the four options given, select the most logical order of the sentences to form a coherent paragraph.

Attracted by the serenity
P: public walks near the city
Q: of the evening, a friend
R: and I lately went to one of the

Options:

- 1) PRQ
- 2) QPR
- 3) RPQ
- 4) QRP

Correct Answer: QRP

Candidate Answer: QRP

QID : 171 - In the following passage some of the words have been left out. Read the passage carefully and select the correct answer for the given blank out of the four alternatives.

A teacher is a person who _____ the future of everyone by providing the best education to her/his students. The teacher plays a great _____ in the education of every student. A good teacher has many _____ and fully able to make his/her students succeed in life. A teacher is very _____ and knows well that how to draw the attention of students towards study. She uses creativity while teaching students so that students may_____.

A teacher is the person who _____

Options:

- 1) breaks
- 2) deteriorates
- 3) shapes
- 4) removes

Correct Answer: shapes

Candidate Answer: shapes

QID : 172 - In the following passage some of the words have been left out. Read the passage carefully and select the correct answer for the given blank out of the four alternatives.

A teacher is a person who _____ the future of everyone by providing the best education to her/his students. The teacher plays a great _____ in the education of every student. A good teacher has many _____ and fully able to make his/her students succeed in life. A teacher is very _____ and knows well that how to draw the attention of students towards study. She uses creativity while teaching students so that students may_____.

Teacher plays a great _____ in the education

Options:

- 1) game
- 2) role
- 3) mark
- 4) stone

Correct Answer: role

Candidate Answer: role

QID : 173 - In the following passage some of the words have been left out. Read the passage carefully and select the correct answer for the given blank out of the four alternatives.

A teacher is a person who _____ the future of everyone by providing the best education to her/his students. The teacher plays a great _____ in the education of every student. A good teacher has many _____ and fully able to make his/her students succeed in life. A teacher is very _____ and knows well that how to draw the attention of students towards study. She uses creativity while teaching students so that students may_____.

_____ and fully able to make

Options:

- 1) qualities
- 2) nitty-gritty
- 3) apprehensions
- 4) creations

Correct Answer: qualities

Candidate Answer: creations

QID : 174 - In the following passage some of the words have been left out. Read the passage carefully and select the correct answer for the given blank out of the four alternatives.

A teacher is a person who _____ the future of everyone by providing the best education to her/his students. The teacher plays a great _____ in the education of every student. A good teacher has many _____ and fully able to make his/her students succeed in life. A teacher is very _____ and knows well that how to draw the attention of students towards study. She uses creativity while teaching students so that students may_____.

A teacher is very _____ and knows well

Options:

- 1) admirable
- 2) intelligent
- 3) thinkable
- 4) likable

Correct Answer: intelligent

Candidate Answer: thinkable

QID : 175 - In the following passage some of the words have been left out. Read the passage carefully and select the correct answer for the given blank out of the four alternatives.

A teacher is a person who _____ the future of everyone by providing the best education to her/his students. The teacher plays a great _____ in the education of every student. A good teacher has many _____ and fully able to make his/her students succeed in life. A teacher is very _____ and knows well that how to draw the attention of students towards study. She uses creativity while teaching students so that students may_____.

students so that students may_____.

Options:

- 1) dislike
- 2) make merry
- 3) celebrate
- 4) concentrate

Correct Answer: concentrate

Candidate Answer: concentrate

QID : 176 - Tax on import is an example of which among the following?

आयात पर कर निम्नलिखित में से किसका उदाहरण है?

Options:

- 1) Foreign trade
विदेशी व्यापार
- 2) Trade Barrier
व्यापार अवरोध
- 3) Economic growth
आर्थिक विकास
- 4) Globalisation
भूमंडलीकरण

Correct Answer: Trade Barrier

व्यापार अवरोध

Candidate Answer: Economic growth

आर्थिक विकास

QID : 177 - _____ by the Government of the country makes money acceptable as a medium of exchange.

देश की सरकार द्वारा _____ पैसे को विनिमय का माध्यम के रूप में स्वीकार्य बनाते हैं।

Options:

- 1) Permission
अनुमति
- 2) Instructions
अनुदेश
- 3) Authorisation
प्राधिकरण
- 4) Ownership
स्वामित्व

Correct Answer: Authorisation

प्राधिकरण

Candidate Answer: Authorisation

प्राधिकरण

QID : 178 - What is the total strength of (Council of state) Rajya Sabha of India?

भारत के राज्य सभा में कुल कितने सदस्य हैं?

Options:

- 1) 245
- 2) 250
- 3) 258
- 4) 260

Correct Answer: 245

Candidate Answer: 250

QID : 179 - Who presides over the Lok Sabha?

लोक सभा की अध्यक्षता कौन करता है?

Options:

- 1) Speaker
स्पीकर
- 2) President of India
भारत के राष्ट्रपति
- 3) Prime Minister of India
भारत के प्रधानमंत्री
- 4) None of these
इनमें से कोई नहीं

Correct Answer: Speaker
स्पीकर

Candidate Answer: Speaker
स्पीकर

QID : 180 - Where was the capital of Pallavas?

पल्लवों की राजधानी कहाँ थी?

Options:

- 1) Madras
मद्रास
- 2) Madurai
मदुरई
- 3) Kanchipuram
काँचीपुरम
- 4) Tanjore
तंजौर

Correct Answer: Kanchipuram
काँचीपुरम

Candidate Answer: Kanchipuram
काँचीपुरम

QID : 181 - Who developed The Ryotwari System?

रैयतवारी व्यवस्था किसने विकसित की थी?

Options:

- 1) Thomas Munro
थॉमस मुनरो
- 2) Holt Mackenzie
होल्ट मैकेंज़ी
- 3) Edmund Burke
एडमंड बर्क
- 4) Lord Dalhousie
लॉर्ड डलहौज़ी

Correct Answer: Thomas Munro
थॉमस मुनरो

Candidate Answer: Thomas Munro
थॉमस मुनरो

QID : 182 - Maps showing natural features of the earth are called ____ maps.

पृथ्वी की प्राकृतिक आकृतियों को दर्शाने वाले मानचित्रों को ____ मानचित्र कहते हैं।

Options:

- 1) Relief
उच्चावच
- 2) Political
राजनीतिक
- 3) Thematic
थिमैटिक
- 4) Symbolic
प्रतीकात्मक

Correct Answer: Relief
उच्चावच

Candidate Answer: Relief
उच्चावच

QID : 183 - Which is the world's longest river?

विश्व की सबसे लंबी नदी कौन सी है?

Options:

- 1) Amazon
अमेज़न
- 2) Ganga
गंगा
- 3) Brahmaputra
ब्रह्मापुत्र
- 4) Nile
नील

Correct Answer: Nile
नील

Candidate Answer: Nile
नील

QID : 184 - Oxygenated blood is carried by ____.

ऑक्सीजनयुक्त रक्त का संचरण ____ द्वारा होता है।

Options:

- 1) Pulmonary vein
फुफ्फुसी शिरा
- 2) Pulmonary artery
फुफ्फुसी धमनी
- 3) Hepatic portal vein
हैपेटिक पोर्टल शिरा
- 4) Renal vein
रेनल शिरा

Correct Answer: Pulmonary vein
फुफ्फुसी शिरा

Candidate Answer: Pulmonary artery
फुफ्फुसी धमनी

QID : 185 - The smallest bone in mammals is ____.

स्तनधारियों में सबसे छोटी अस्थि ____ होती है।

Options:

- 1) septomaxillary
सेप्टोमैक्सिलरी
- 2) dentary
डेंट्री
- 3) femur
फीमर
- 4) stapes
स्टेप्स

Correct Answer: stapes
स्टेप्स

Candidate Answer: stapes
स्टेप्स

QID : 186 - Cholesterol is related to ____.

कोलेस्ट्रॉल का सम्बन्ध ____ से है।

Options:

- 1) Fats
वसा
- 2) Starch
स्टार्च
- 3) Proteins
प्रोटीन
- 4) Minerals
खनिज पदार्थ

Correct Answer: Fats
वसा

Candidate Answer: Fats
वसा

QID : 187 - The amount of heat that is produced in a wire when electric current passes through does not depends on ____.

किसी तार में विद्युत धारा प्रवाहित होने से उत्पन्न ऊष्मा का परिमाण ____ पर निर्भर नहीं करता।

Options:

- 1) Material
पदार्थ
- 2) Length
लंबाई
- 3) Thickness
मोटाई
- 4) None of these
इनमें से कोई नहीं

Correct Answer: None of these
इनमें से कोई नहीं

Candidate Answer: Material
पदार्थ

QID : 188 - Which mirror is used by doctors for examining eyes, ears, nose and throat?

किसी आँख, कान, नाक तथा गले का निरीक्षण करने के लिए डॉक्टरों द्वारा कौन से दर्पण प्रयोग किया जाता है?

Options:

- 1) Concave mirror
अवतल दर्पण
- 2) Convex mirror
उत्तल दर्पण
- 3) Normal mirror
साधारण दर्पण
- 4) Plane mirror
समतल दर्पण

Correct Answer: Concave mirror
अवतल दर्पण

Candidate Answer: Concave mirror
अवतल दर्पण

QID : 189 - Which of the following is NOT a programming language?

निम्नलिखित में से कौन सी एक प्रोग्रामिंग भाषा नहीं है?

Options:

- 1) C
- 2) C++
- 3) Frontline
फ्रंटलाइन
- 4) Java
जावा

Correct Answer: Frontline
फ्रंटलाइन

Candidate Answer: Frontline
फ्रंटलाइन

QID : 190 - Which of the following compounds is used as drying agent?

निम्नलिखित में से कौन-से यौगिक का उपयोग शुष्क के रूप में किया जाता है?

Options:

- 1) Calcium oxide
कैल्शियम ऑक्साइड
- 2) Gypsum
जिप्सम
- 3) Calcium chloride
कैल्शियम क्लोराइड
- 4) Calcium hydroxide
कैल्शियम हाइड्रॉक्साइड

Correct Answer: Calcium oxide
कैल्शियम ऑक्साइड

Candidate Answer: [NOT ANSWERED]

QID : 191 - An amalgam of metal has which other element?

धातु के एक अमलगम में दूसरा तत्व होता है?

Options:

- 1) C
- 2) Au
- 3) Ag
- 4) Hg

Correct Answer: Hg

Candidate Answer: Ag

QID : 192 - What is green house effect?

हरितगृह (ग्रीन हाउस) प्रभाव क्या है?

Options:

- 1) Turning of house green because of algae cover
शैवाल से ढक जाने के कारण घर का हरे रंग में बदल जाना
- 2) Turning of house green because of green component of white light
श्वेत प्रकाश के हरे रंग के घटक के कारण घर का हरे रंग में बदल जाना
- 3) Warming of earth because of trapping of radiations by the earth's atmosphere
पृथ्वी के वायुमंडल द्वारा रोके गए विकिरण से पृथ्वी का गरम होना
- 4) None of these
इनमें से कोई नहीं

Correct Answer: Warming of earth because of trapping of radiations by the earth's atmosphere
पृथ्वी के वायुमंडल द्वारा रोके गए विकिरण से पृथ्वी का गरम होना

Candidate Answer: Warming of earth because of trapping of radiations by the earth's atmosphere
पृथ्वी के वायुमंडल द्वारा रोके गए विकिरण से पृथ्वी का गरम होना

QID : 193 - What is the annual premium (in Rs) of Pradhan Mantri Suraksha Bima Yojana?

प्रधानमंत्री सुरक्षा बीमा योजना की वार्षिक प्रीमियम (रु में) कितनी है?

Options:

- 1) 12
- 2) 300
- 3) 330
- 4) 1000

Correct Answer: 12

Candidate Answer: 330

QID : 194 - Who invented the first ever safety elevator?

पहले सुरक्षा एलेवेटर का आविष्कार किसने किया?

Options:

- 1) Bill Gates
बिल गेट्स
- 2) Elisha Otis
इलिशा ओटिस
- 3) Paul Allan
पॉल एलन
- 4) Dave Hyatt
डेव हयात

Correct Answer: Elisha Otis
इलिशा ओटिस

Candidate Answer: [NOT ANSWERED]

QID : 195 - Bombayala Devi is associated with which sport?

बॉम्बायला देवी किस खेल से जुड़ी है?

Options:

- 1) Kabaddi
कबड्डी
- 2) Archery
तीरंदाजी
- 3) 400 meters race
400 मीटर दौड़
- 4) Shot put
गोला फेंक

Correct Answer: Archery
तीरंदाजी

Candidate Answer: [NOT ANSWERED]

QID : 196 - Boat races of Kerala are special feature of which festival?

केरल की नाव दौड़ किस त्योहार की विशेषता है?

Options:

- 1) Pongal
पोंगल
- 2) Ugadi
उगादी
- 3) Onam
ओणम
- 4) Bihu
बिहु

Correct Answer: Onam
ओणम

Candidate Answer: Onam
ओणम

QID : 197 - Who has won the Madhavrao Scindia Award for most runs in Ranji Trophy for the year 2015 – 16?

वर्ष 2015 में रणजी ट्रॉफी में सर्वाधिक रनों के लिए माधवराव सिंधिया पुरस्कार किसने जीता है?

Options:

- 1) Robin Uthappa
रोबिन उथप्पा
- 2) Kedar Jadhav
केदार जाधव
- 3) Shreyas Iyer
श्रेयस अय्यर
- 4) Axar Patel
एक्सर पटेल

Correct Answer: Shreyas Iyer
श्रेयस अय्यर

Candidate Answer: [NOT ANSWERED]

QID : 198 - Who is the author of the book named 'Born Again on the Mountain'?

'बोर्न अगेन ऑन द माउन्टेन' नामक पुस्तक के लेखक/लेखिका कौन हैं?

Options:

- 1) Ben Bernanke
बेन बर्नानके
- 2) Twinkle Khanna
ट्विंकल खन्ना
- 3) Shiv Brat Lal
शिव ब्रत लाल
- 4) Arunima Sinha
अरूणिमा सिन्हा

Correct Answer: Arunima Sinha
अरूणिमा सिन्हा

Candidate Answer: Arunima Sinha
अरूणिमा सिन्हा

QID : 199 - 'India-Africa Forum Summit' is an official platform for the African-Indian relations which is held every ____ years.

'भारत-अफ्रीका फोरम शिखर सम्मेलन' अफ्रीकी-भारतीय संबंधों के लिए एक आधिकारिक मंच है जो प्रत्येक ____ वर्षों में होता है।

Options:

- 1) 1
- 2) 2
- 3) 3
- 4) 4

Correct Answer: 2

Candidate Answer: 2

QID : 200 - The Madhesi tribe is related to India and its neighbouring country ____.

मधेशी जनजाति भारत तथा उसके पड़ोसी देश ____ से संबंधित है।

Options:

- 1) Nepal
नेपाल
- 2) Sri Lanka
श्रीलंका
- 3) Bangladesh
बांग्लादेश
- 4) Pakistan
पाकिस्तान

Correct Answer: Nepal

नेपाल

Candidate Answer: Nepal

नेपाल

mpcareer.in