

QID : 201 -

In the following question, select the number which can be placed at the sign of question mark (?) from the given alternatives.

निम्नलिखित प्रश्न में दिए गए विकल्पों में से प्रश्न चिह्न (?) के स्थान पर आने वाली संख्या को चुनिए।

5	2	4
4	6	2
3	5	4
60	60	?

Options:

1) 24

2) 32

3) 48

4) 60

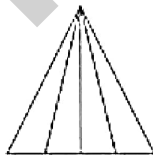
Correct Answer: 32

Candidate Answer: 32

QID : 202 -

How many triangles are there in the given figure?

दी गई आकृति में कितने त्रिभुज हैं?



Options:

1) 9

2) 10

3) 8

4) 12

Correct Answer: 10

Candidate Answer: 10

QID : 203 -

A word is represented by only one set of numbers as given in any one of the alternatives. The sets of numbers given in the alternatives are represented by two classes of alphabets as shown in the given two matrices. The columns and rows of **Matrix-I** are numbered from 0 to 4 and that of **Matrix-II** are numbered from 5 to 9. A letter from these matrices can be represented first by its row and next by its column, for example, 'V' can be represented by 21, 87, etc., and 'Q' can be represented by 41, 89, etc. Similarly, you have to identify the set for the word "MAPLE".

एक शब्द केवल एक संख्या-समूह द्वारा दर्शाया गया है, जैसा कि विकल्पों में से किसी एक में दिया गया है। विकल्पों में दिए गए संख्या-समूह अक्षरों के दो वर्गों द्वारा दर्शाए गए हैं, जैसा कि दिए गए दो आव्यूहों में है। आव्यूह-I के स्तम्भ और पंक्ति की संख्या 0 से 4 है और आव्यूह-II की 5 से 9। इन आव्यूहों से एक अक्षर को पहले उसकी पंक्ति और बाद में स्तम्भ संख्या द्वारा दर्शाया जा सकता है। उदाहरण के लिए 'V' को 21, 87, आदि द्वारा दर्शाया जा सकता है तथा 'Q' को 41, 89, आदि द्वारा दर्शाया जा सकता है। इसी तरह से आपको प्रश्न में दिए शब्द "MAPLE" के लिए समूह को पहचानना है।

Matrix-I
आव्यूह-I

	0	1	2	3	4
0	Z	B	D	F	H
1	J	L	N	P	R
2	T	V	X	A	M
3	E	G	I	K	M
4	D	Q	S	U	W

Matrix-II
आव्यूह-II

	5	6	7	8	9
5	H	J	C	E	W
6	F	L	A	G	U
7	D	N	X	I	S
8	B	E	V	K	Q
9	A	R	T	M	P

Options:

- 1) 34, 23, 13, 68, 87
- 2) 24, 67, 13, 11, 58
- 3) 34, 64, 98, 66, 86
- 4) 98, 23, 99, 14, 31

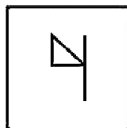
Correct Answer: 24, 67, 13, 11, 58

Candidate Answer: 24, 67, 13, 11, 58

QID : 204 -


From the given answer figures, select the one in which the question figure is hidden/embedded.

दी गई उत्तर आकृतियों में से उस उत्तर आकृति को चुनिए जिस में प्रश्न आकृति निहित है।

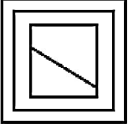


Options:

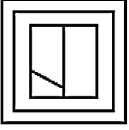
1)



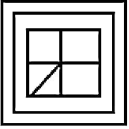
2)



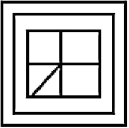
3)



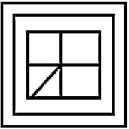
4)



Correct Answer:



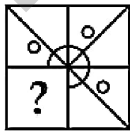
Candidate Answer:



QID : 205 -

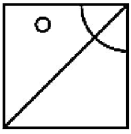
Which answer figure will complete the pattern in the question figure?

कौन सी उत्तर आकृति प्रश्न आकृति के प्रतिरूप को पूरा करेगी?

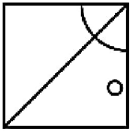


Options:

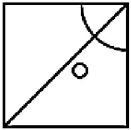
1)



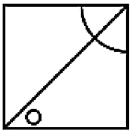
2)



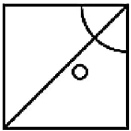
3)



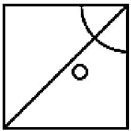
4)



Correct Answer:



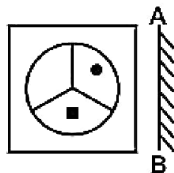
Candidate Answer:



QID : 206 -

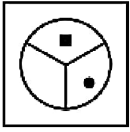
If a mirror is placed on the line AB, then which of the answer figures is the right image of the given figure?

यदि एक दर्पण को AB रेखा पर रखा जाए, तो दी गई उत्तर आकृतियों में से कौन सी आकृति प्रश्न आकृति की सही प्रतिबिम्ब होगी?

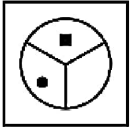


Options:

1)



2)



3)



4)



Correct Answer:



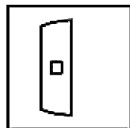
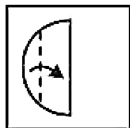
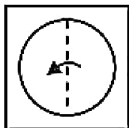
Candidate Answer:



QID : 207 -

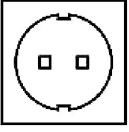
A piece of paper is folded and punched as shown below in the question figures. From the given answer figures, indicate how it will appear when opened?

नीचे के प्रश्न आकृतियों में दिखाए अनुसार कागज को मोड़कर छेदने तथा खोलने के बाद वह किस उत्तर आकृति जैसा दिखाई देगा?

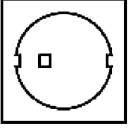


Options:

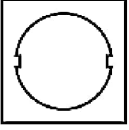
1)



2)



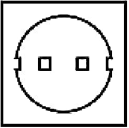
3)



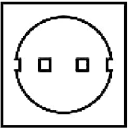
4)



Correct Answer:



Candidate Answer:



QID : 208 - If '-' means '+', '+' means 'x', '÷' means '-' and 'x' means '+', then which of the following equation is true?

यदि '-' का अर्थ '+', '+' का अर्थ 'x', '÷' का अर्थ '-' तथा 'x' का अर्थ '+' हो, तो निम्नलिखित में से कौन सा समीकरण सही है?

Options:

- 1) $27 - 3 + 12 = 110$
- 2) $11 + 11 \div 11 = 111$
- 3) $13 \times 14 + 3 = 56$
- 4) $57 - 19 \times 4 = 7$

Correct Answer: $57 - 19 \times 4 = 7$

Candidate Answer: $57 - 19 \times 4 = 7$

QID : 209 - If $4 * 2 = 64$ and $1 * 9 = 81$, then $3 * 4 = ?$

यदि $4 * 2 = 64$ तथा $1 * 9 = 81$ हो, तो $3 * 4 = ?$

Options:

- 1) 169
- 2) 121
- 3) 144
- 4) 100

Correct Answer: 144

Candidate Answer: 144

QID : 210 - Arrange the given words in the sequence in which they occur in the dictionary.

1. Triangle
2. Trimmed
3. Tussle
4. Taste
5. Tangle

निम्नलिखित शब्दों को शब्दकोश में आने वाले क्रम के अनुसार लिखें।

1. Triangle
2. Trimmed
3. Tussle
4. Taste
5. Tangle

Options:

- 1) 54312
- 2) 54321
- 3) 51423
- 4) 54123

Correct Answer: 54123

Candidate Answer: 54123

QID : 211 - In the following question, select the missing number from the given alternatives.

1, 23, 2, 18, 4, 13, 8, 8, 16, ?

निम्नलिखित प्रश्न में दिए गए विकल्पों में से लुप्त अंक ज्ञात कीजिए।

1, 23, 2, 18, 4, 13, 8, 8, 16, ?

Options:

- 1) 4
- 2) 3
- 3) 5
- 4) 6

Correct Answer: 3

Candidate Answer: 3

QID : 212 - A series is given with one term missing. Select the correct alternative from the given ones that will complete the series.

DF, HJ, LN, PR, ?

एक अनुक्रम दिया गया है, जिसमें से एक पद लुप्त है। दिए गए विकल्पों में से वह सही विकल्प चुनिए, जो अनुक्रम को पूरा करे।

DF, HJ, LN, PR, ?

Options:

- 1) UW
- 2) SU
- 3) TV
- 4) TW

Correct Answer: TV

Candidate Answer: TV

QID : 213 - In the following question, select the odd word from the given alternatives.

निम्नलिखित प्रश्न में दिए गए विकल्पों में से विषम शब्द को चुनिए।

Options:

- 1) Bengali
बंगाली
- 2) Hindi
हिन्दी
- 3) English
अंग्रेजी
- 4) Mathematics
गणित

Correct Answer: Mathematics

गणित

Candidate Answer: Mathematics

गणित

QID : 214 - In the following question, select the odd number from the given alternatives.

निम्नलिखित प्रश्न में दिए गए विकल्पों में से विषम संख्या को चुनिए।



Options:

- 1) 69
- 2) 79
- 3) 89
- 4) 59

Correct Answer: 69

Candidate Answer: 69

QID : 215 - In the following question, select the odd letters from the given alternatives.

निम्नलिखित प्रश्न में दिए गए विकल्पों में से विषम अक्षरों को चुनिए।

Options:

- 1) BE
- 2) NU
- 3) HI
- 4) MO

Correct Answer: NU

Candidate Answer: MO

QID : 216 - Identify the diagram that best represents the relationship among the given classes.

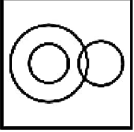
Prime Number, Even Number, Odd Number

वह आरेख चुनिए जो नीचे दिए गए वर्गों के बीच के संबंध का सही निरूपण करता है।

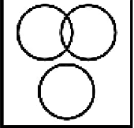
अभाज्य संख्या, सम संख्या, विषम संख्या

Options:

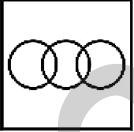
1)



2)



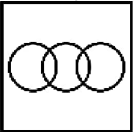
3)



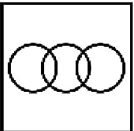
4)



Correct Answer:



Candidate Answer:



QID : 217 - In the following question, select the related word from the given alternatives.

Artists : Troupe :: Singers : ?

निम्नलिखित प्रश्न में दिए गए विकल्पों में से संबंधित शब्द को चुनिए।

कलाकार : मंडली :: गायक : ?

Options:

- 1) Team
टीम
- 2) Council
परिषद
- 3) Stock
भण्डार
- 4) Chorus
गायकदल

Correct Answer: Chorus
गायकदल

Candidate Answer: Chorus
गायकदल

QID : 218 - In the following question, select the related number from the given alternatives.

27 : 8 :: 125 : ?

निम्नलिखित प्रश्न में दिए गए विकल्पों में से संबंधित संख्या को चुनिए।

27 : 8 :: 125 : ?

Options:

- 1) 343
- 2) 512
- 3) 216
- 4) 64

Correct Answer: 64

Candidate Answer: 64

QID : 219 - In the following question, select the related letters from the given alternatives.

CDE : DFH :: KTN : ?

निम्नलिखित प्रश्न में दिए गए विकल्पों में से संबंधित अक्षरों को चुनिए।

CDE : DFH :: KTN : ?

Options:

- 1) MUQ
- 2) MVP
- 3) LUP
- 4) LVQ

Correct Answer: LVQ

Candidate Answer: LVQ

QID : 220 - In the following question, select the word which cannot be formed using the letters of the given word.

BACKGROUND

निम्नलिखित विकल्पों में से वह शब्द चुनिए जो दिए गए शब्द के अक्षरों का प्रयोग करके नहीं बनाया जा सकता।

BACKGROUND

Options:

- 1) CAGER
- 2) ROUND
- 3) BACK
- 4) RUN

Correct Answer: CAGER

Candidate Answer: CAGER

QID : 221 - Present age of Aman is 46 years. 10 years hence ages of Aman and Sumit will be in ratio 8 : 11. What is the present age (in years) of Sumit?

अमन की वर्तमान आयु 46 वर्ष है। 10 वर्ष बाद

Options:

- 1) 77
- 2) 67
- 3) 63
- 4) 73

Correct Answer: 67**Candidate Answer:** 67

QID : 222 - In a row of books History book is 10th from top and English is 10th from bottom. If there are 40 books in the row, then how many books are there between History and English books?

पुस्तकों की एक पंक्ति में इतिहास की पुस्तक ऊपर से 10 वीं है तथा अंग्रेजी की पुस्तक नीचे से 10 वीं है। यदि पंक्ति में 40 पुस्तकें हैं, तो इतिहास तथा अंग्रेजी की पुस्तकों के बीच कितनी पुस्तकें हैं?

Options:

- 1) 20
- 2) 21
- 3) 19
- 4) 18

Correct Answer: 20**Candidate Answer:** 18

QID : 223 - In the following question below are given some statements followed by some conclusions. Taking the given statements to be true even if they seem to be at variance from commonly known facts, read all the conclusions and then decide which of the given conclusion logically follows the given statements.

Statements:

- I. All tables are chairs.
- II. Some tables are pencils.

Conclusions:

- I. Some pencils are chairs.
- II. Some pencils are tables.

नीचे दिए गए प्रश्न में कुछ कथन और उनके बाद उन कथनों पर आधारित कुछ निष्कर्ष दिए गए हैं, हालांकि उनमें सामान्य ज्ञात तथ्यों से भिन्नता हो सकती है। सभी निष्कर्ष पढ़ें और फिर निर्धारित करें कि दिए गए कौन से निष्कर्ष, दिए गए कथनों के आधार पर युक्तिसंगत हैं।

कथन:

- I. सभी मेज़ कुर्सियाँ हैं।
- II. कुछ मेज़ पेंसिल हैं।

निष्कर्ष:

- I. कुछ पेंसिल कुर्सियाँ हैं।
- II. कुछ पेंसिल मेज़ हैं।

Options:

- 1) Only conclusion (I) follows.
केवल निष्कर्ष (I) सही है।
- 2) Only conclusion (II) follows.
केवल निष्कर्ष (II) सही है।
- 3) Both conclusion follow.
दोनों ही निष्कर्ष सही हैं।
- 4) Neither conclusion (I) nor conclusion (II) follows.
न तो निष्कर्ष (I) न ही निष्कर्ष (II) सही है।

Correct Answer: Both conclusion follow.

दोनों ही निष्कर्ष सही हैं।

Candidate Answer: Both conclusion follow.

दोनों ही निष्कर्ष सही हैं।

QID : 224 - In a certain code language, "DIGIT" is written as "EJHJU". How is "BINARY" written in that code language?

एक विशिष्ट कोड भाषा में, "DIGIT" को "EJHJU" लिखा जाता है। इस कोड भाषा में "BINARY" को किस प्रकार लिखा जाएगा?

Options:

- 1) CJOBSZ
- 2) CJOBTZ
- 3) CJOCSZ
- 4) CJPBSZ

Correct Answer: CJOBSZ**Candidate Answer:** CJOBSZ

QID : 225 - In a certain code language, "PIN" is written as "16914" and "NIP" is written as "14916". How is "RUN" written in that code language?

एक विशिष्ट कोड भाषा में, "PIN" को "16914" तथा "NIP" को "14916" लिखा जाता है। इस कोड भाषा में "RUN" को किस प्रकार लिखा जाएगा?

Options:

1) 182114

2) 182214

3) 182215

4) 192114

Correct Answer: 182114

Candidate Answer: 182114

QID : 226 - What is the value of $2^2 + 4^2 + \dots + 20^2$?

$2^2 + 4^2 + \dots + 20^2$ का मान क्या है?

Options:

1) 1440

2) 1320

3) 1540

4) 1640

Correct Answer: 1540

Candidate Answer: 1540

QID : 227 - If $A = 2^4 \times 5^3$ and $B = 2^3 \times 5^2$, then what is the value of $A \times B$?

यदि $A = 2^4 \times 5^3$ तथा $B = 2^3 \times 5^2$ है, तो $A \times B$ का मान क्या है?

Options:

1) 400000

2) 200000

3) 500000

4) 2500000

Correct Answer: 400000

Candidate Answer: 400000

QID : 228 - If $2^{x+2} + 2^{x-1} = 36$ then what is the value of x ?

यदि $2^{x+2} + 2^{x-1} = 36$ है, तो x का मान क्या है?

Options:

1) 2

2) 3

3) 4

4) 5

Correct Answer: 3

Candidate Answer: 3

QID : 229 - What is the simplified value of $2^{32} \times 8^{64} \times 16^{16}$?

$2^{32} \times 8^{64} \times 16^{16}$ का सरलीकृत मान क्या है?

Options:

1) 2112

2) 3224

3) 4288

4) 5256

Correct Answer: 4288

Candidate Answer: 5256

QID : 230 - What is the unit digit of $139 \times 436 \times 158$?

$139 \times 436 \times 158$ का इकाई अंक क्या है?

Options:

1) 2

2) 4

3) 6

4) 8

Correct Answer: 2

Candidate Answer: 2

QID : 231 - How many positive factors of 80 are there?

80 के धनात्मक गुणखण्ड कितने हैं?

Options:

- 1) 7
- 2) 4
- 3) 10
- 4) 20

Correct Answer: 10

Candidate Answer: 10

QID : 232 - A pipe can fill a tank in 20 hours. But due to leakage it is filled in 60 hours. If the tank is full then, how much time will the leakage take to empty it?

एक नल एक टंकी को 20 घंटे में भर सकता है। परंतु एक छिद्र होने की वजह से यह 60 घंटे में भर देता है। यदि टंकी पूरी तरह भरी हो, तो रिसाव से उसे खाली होने में कितना समय लेगा?

Options:

- 1) 10
- 2) 20
- 3) 30
- 4) 25

Correct Answer: 30

Candidate Answer: 30

QID : 233 - A tank has a leak which would empty it in 40 hours. A tap is turned on which admit 10 litres an hour into the tank then it is emptied in 60 hours. How many litres does the tank hold?

एक टंकी की तल में एक छेद है, जिसके कारण पानी से पूरी भरी टंकी 40 घंटे में खाली हो जाती है। 10 लीटर प्रति घंटे की रफ्तार से टंकी में पानी भरने वाला एक नल चालू किया जाता है, तो टंकी को खाली होने में 60 घंटे लगते हैं। टंकी में कितने लीटर पानी भरा जा सकता है?

Options:

- 1) 1000
- 2) 1200
- 3) 900
- 4) 800

Correct Answer: 1200

Candidate Answer: 1200

QID : 234 - If the curved surface area of a cylinder is 880 cm^2 and the height of the cylinder is 20 cm, then what is the radius (in cm) of the cylinder?

यदि बेलन का पार्श्व पृष्ठीय क्षेत्रफल 880 से.मी.^2 है, तथा बेलन की ऊँचाई 20 से.मी. है, तो बेलन की त्रिज्या (से.मी. में) क्या है?

Options:

- 1) 7
- 2) 14
- 3) 21
- 4) 3.5

Correct Answer: 7

Candidate Answer: 7

QID : 235 - An article having marked price of Rs 3900 is sold at a discount of 26%. What is the selling price (in Rs) of the article?

एक 3900 रु अंकित मूल्य वाली वस्तु को 26% की छूट पर बेचा गया। वस्तु का विक्रय मूल्य (रु में) क्या है?

Options:

- 1) 3129
- 2) 2886
- 3) 3243
- 4) 3189

Correct Answer: 2886

Candidate Answer: 2886

QID : 236 - Marked price of an article is Rs 6000. 12.5% discount is given. If there is a profit of 5%, then what is the cost price (in Rs) of the article?

एक वस्तु का अंकित मूल्य 6000 रु है। 12.5% की छूट दी जाती है। यदि 5% का लाभ होता है, तो क्रय मूल्य (रु में) क्या है?

Options:

- 1) 4750
- 2) 4800
- 3) 5000
- 4) 5200

Correct Answer: 5000

Candidate Answer: 5000

QID : 237 - If $a : b = 5 : 7$, then what is the value of $(b + a) : (2b - 2a)$?

यदि $a : b = 5 : 7$, तब $(b + a) : (2b - 2a)$ का मान क्या है?

--

Options:

- 1) 6
- 2) 3
- 3) 12
- 4) 9

Correct Answer: 3

Candidate Answer: 3

QID : 238 - At present the ratio of the age of U and V is 3 : 7 and ten years from now, the ratio will get changed to 17 : 33. What is the present age of U?

U तथा V की वर्तमान आयु का अनुपात 3 : 7 है तथा 10 साल बाद यह अनुपात 17 : 33 हो जाता है। U की वर्तमान आयु क्या है?

Options:

- 1) 56
- 2) 66
- 3) 34
- 4) 24

Correct Answer: 24

Candidate Answer: 24

QID : 239 - Average age of a group of 12 children is 10 years. If a child leaves the group, then the average of remaining 11 children becomes 9 years. What is the age (in years) of the child who left the group?

12 बच्चों के एक समूह की औसत आयु 10 वर्ष है। यदि एक बच्चा समूह छोड़कर चला जाता है, तो शेष 11 बच्चों की औसत आयु 9 वर्ष हो जाती है। समूह छोड़कर जाने वाले बच्चे की आयु (वर्षों में) कितनी है?

Options:

- 1) 21
- 2) 22
- 3) 24
- 4) 19

Correct Answer: 21

Candidate Answer: 21

QID : 240 - If $0.5 \times \text{cost price} = 0.7 \times \text{selling price}$, then what is the loss percentage?

यदि $0.5 \times \text{क्रय मूल्य} = 0.7 \times \text{विक्रय मूल्य}$ है, तो हानि प्रतिशत क्या है?

Options:

- 1) 40
- 2) 20
- 3) 14.28
- 4) 28.56

Correct Answer: 28.56

Candidate Answer: 28.56

QID : 241 - A shopkeeper claims to sell his goods at cost price but uses a weight of 450 gm for 500 gm what is the profit percentage for the shopkeeper?

एक दुकानदार अपनी वस्तुओं को क्रय मूल्य पर बेचने का दावा करता है लेकिन वह 500 ग्राम के बदले 450 ग्राम के वजन का प्रयोग करता है। दुकानदार का लाभ प्रतिशत क्या है?

Options:

- 1) 10
- 2) 11.11
- 3) 9.09
- 4) 12.5

Correct Answer: 11.11

Candidate Answer: 9.09

QID : 242 - If the price of sugar is increased by 12.5%, then by how much percent consumption should be reduced so that the expenditure remains the same?

यदि चीनी के मूल्य में 12.5% की वृद्धि हो जाती है, तो उसकी खपत में कितने प्रतिशत की कमी की जाए कि खर्च में कोई परिवर्तन न हो?

Options:

- 1) 9.09
- 2) 10
- 3) 11.11
- 4) 12.5

Correct Answer: 11.11

Candidate Answer: 9.09

QID : 243 - If the radius of a circle is decreased by 25%, then what is the percentage decrease in the area of the circle?

यदि किसी वृत्त की त्रिज्या में 25% की कमी की जाए, तो उसके क्षेत्रफल में कितने प्रतिशत की कमी होगी?

Options:

- 1) 25
- 2) 43.75
- 3) 50
- 4) 56.25

Correct Answer: 43.75

Candidate Answer: 56.25

QID : 244 - A train passes two bridges of length 1200 metres and 600 metres in 240 seconds and 160 seconds respectively. What is the length (in metres) of the train?

एक रेलगाड़ी 1200 मीटर तथा 600 मीटर लम्बे दो पुलों को क्रमशः 240 सेकण्ड तथा 160 सेकण्ड में पार कर लेती है। रेलगाड़ी की लम्बाई (मीटर में) क्या है?

Options:

- 1) 450
- 2) 600
- 3) 720
- 4) 750

Correct Answer: 600

Candidate Answer: 600

QID : 245 - The length and breadth of a rectangular field are in the ratio of 5 : 4. If the perimeter of the field is 90 m, then what is its breadth (in metres)?

एक आयताकार क्षेत्र की लम्बाई तथा चौड़ाई का अनुपात 5 : 4 है। यदि क्षेत्र का परिमाप 90 मीटर है, तो उसकी चौड़ाई (मीटर में) क्या है?

Options:

- 1) 12
- 2) 15
- 3) 20
- 4) 30

Correct Answer: 20

Candidate Answer: 20

QID : 246 - A certain amount becomes 4 times in 8 years, when invested at compound interest. In how many years will it become 256 times?

एक निश्चित राशि, चक्रवृद्धि ब्याज पर निवेश करने से 8 वर्ष में 4 गुना हो जाती है। वह कितने वर्षों में 256 गुना हो जाएगी?

Options:

- 1) 64
- 2) 32
- 3) 20
- 4) 48

Correct Answer: 32

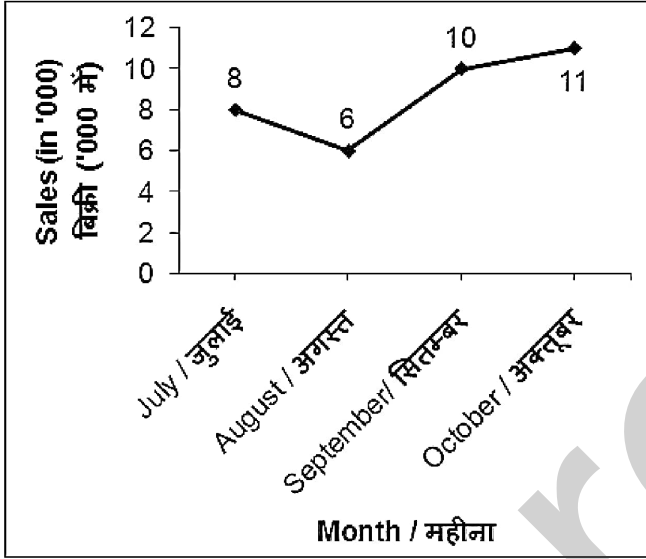
Candidate Answer: 32



QID : 247 -

The line graph given below shows the sales (in '000) of car by a company for four months.

नीचे दिए गए रेखा चित्र में एक कंपनी द्वारा चार महीनों में गाड़ियों की बिक्री ('000 में) को दर्शाया गया है।



What is the total sales in month of September and October?

सितम्बर तथा अक्टूबर महीने की कुल बिक्री कितनी है?

Options:

- 1) 18000
- 2) 21000
- 3) 22000
- 4) 14000

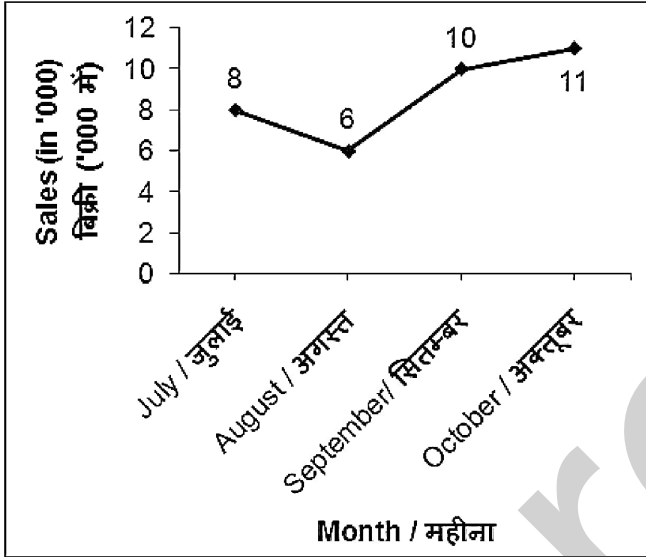
Correct Answer: 21000

Candidate Answer: 21000

QID : 248 -

The line graph given below shows the sales (in '000) of car by a company for four months.

नीचे दिए गए रेखा चित्र में एक कंपनी द्वारा चार महीनों में गाड़ियों की बिक्री ('000 में) को दर्शाया गया है।



What is the difference between the sales in month of August and October?

अगस्त तथा अक्टूबर महीनों की बिक्री में कितना अंतर है?

Options:

- 1) 6000
- 2) 5000
- 3) 11000
- 4) 4000

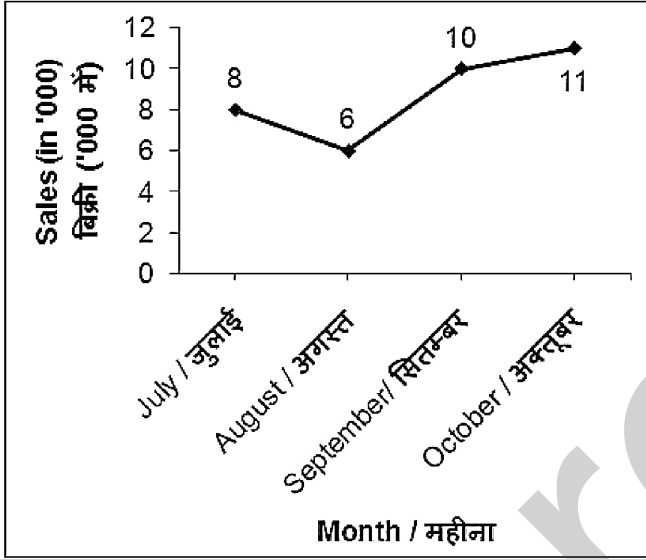
Correct Answer: 5000

Candidate Answer: 5000

QID : 249 -

The line graph given below shows the sales (in '000) of car by a company for four months.

नीचे दिए गए रेखा चित्र में एक कंपनी द्वारा चार महीनों में गाड़ियों की बिक्री ('000 में) को दर्शाया गया है।



Sales in September is how much percent more than the sales in July?

सितम्बर की बिक्री जुलाई की बिक्री से कितने प्रतिशत अधिक है?

Options:

- 1) 20
- 2) 10
- 3) 25
- 4) 40

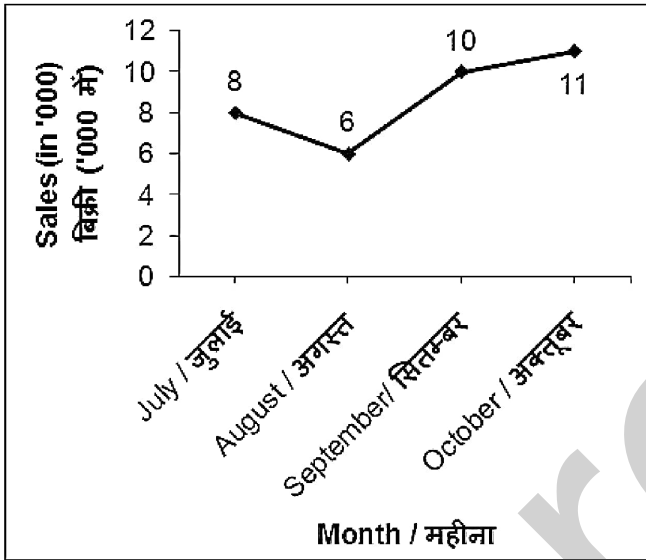
Correct Answer: 25

Candidate Answer: 25

QID : 250 -

The line graph given below shows the sales (in '000) of car by a company for four months.

नीचे दिए गए रेखा चित्र में एक कंपनी द्वारा चार महीनों में गाड़ियों की बिक्री ('000 में) को दर्शाया गया है।



What is the average sales in the given 4 months?

दिए गए 4 महीनों की औसत बिक्री कितनी है?

Options:

- 1) 8750
- 2) 9000
- 3) 7500
- 4) 8250

Correct Answer: 8750

Candidate Answer: 8750

QID : 251 - In the following question, some part of the sentence may have errors. Find out which part of the sentence has an error and select the appropriate option. If a sentence is free from error, select 'No Error'.

The Statue of Liberty is (1)/ situated in (2)/ New York City. (3)/ No Error (4)

Options:

- 1) 1
- 2) 2
- 3) 3
- 4) 4

Correct Answer: 4

Candidate Answer: 1

QID : 252 - In the following question, some part of the sentence may have errors. Find out which part of the sentence has an error and select the appropriate option. If a sentence is free from error, select 'No Error'.

Nita is not only (1)/ my friend but (2)/ business partner too. (3)/ No Error (4)

Options:

- 1) 1
- 2) 2
- 3) 3
- 4) 4

Correct Answer: 3

Candidate Answer: 2

QID : 253 - In the following question, the sentence given with blank to be filled in with an appropriate word. Select the correct alternative out of the four and indicate it by selecting the appropriate option.

A stranger entered _____ room and closed all the windows.

Options:

- 1) in
- 2) into
- 3) the
- 4) up

Correct Answer: the

Candidate Answer: the

QID : 254 - In the following question, the sentence given with blank to be filled in with an appropriate word. Select the correct alternative out of the four and indicate it by selecting the appropriate option.

A group of ABC School boys _____ the highest peak of Mt. K2.

Options:

- 1) walked
- 2) scaled
- 3) lost
- 4) won

Correct Answer: scaled

Candidate Answer: scaled

QID : 255 - In the following question, out of the given four alternatives, select the one which best expresses the meaning of the given word.

Primitive

Options:

- 1) Present
- 2) Ancient
- 3) Modern
- 4) Cultured

Correct Answer: Ancient

Candidate Answer: Ancient

QID : 256 - In the following question, out of the given four alternatives, select the one which best expresses the meaning of the given word.

Accede

Options:

- 1) Comply
- 2) Refuse
- 3) Protest
- 4) Dissent

Correct Answer: Comply

Candidate Answer: Comply

QID : 257 - In the following question, out of the given four alternatives, select the one which best expresses the meaning of the given word.

Reprimand

Options:

- 1) Flattery
- 2) Reward
- 3) Rebuke
- 4) Praise

Correct Answer: Rebuke

Candidate Answer: Rebuke

QID : 258 - In the following question, out of the given four alternatives, select the one which is opposite in meaning of the given word.

Gratify

Options:

- 1) Annoy
- 2) Thrill
- 3) Humor
- 4) Fulfill

Correct Answer: Annoy

Candidate Answer: Annoy

QID : 259 - In the following question, out of the given four alternatives, select the one which is opposite in meaning of the given word.

Hostile



Options:

- 1) Unkind
- 2) Friendly
- 3) Nasty
- 4) Bitter

Correct Answer: Friendly

Candidate Answer: Friendly

QID : 260 - In the following question, out of the given four alternatives, select the one which is opposite in meaning of the given word.

Pious

Options:

- 1) Sacred
- 2) Godly
- 3) Sinful
- 4) Divine

Correct Answer: Sinful

Candidate Answer: Divine

QID : 261 - In the following question, out of the given four alternatives, select the alternative which best expresses the meaning of the Idiom/Phrase.

Raining cats and dogs.

Options:

- 1) Drizzling
- 2) Earning lots of money
- 3) Raining heavily
- 4) Fighting badly

Correct Answer: Raining heavily

Candidate Answer: Raining heavily

QID : 262 - In the following question, out of the given four alternatives, select the alternative which best expresses the meaning of the Idiom/Phrase.

Do a good turn.

Options:

- 1) To help someone
- 2) To put to death
- 3) To prick the heart
- 4) To cause grief

Correct Answer: To help someone

Candidate Answer: To help someone

QID : 263 - In the following question, out of the four alternatives, select the alternative which will improve the bracketed part of the sentence. In case no improvement is needed, select "no improvement".

It being a sunny day (**we have decided**) not to go to the zoo but to go to a mall.

Options:

- 1) we will decided
- 2) we decided
- 3) we decide
- 4) No improvement

Correct Answer: we decided

Candidate Answer: we decided

QID : 264 - In the following question, out of the four alternatives, select the alternative which will improve the bracketed part of the sentence. In case no improvement is needed, select "no improvement".

(**I am trying**) to make her eat since morning but she is not eating at all.

Options:

- 1) I have been trying
- 2) I have tried
- 3) I tried
- 4) No Improvement

Correct Answer: I have been trying

Candidate Answer: I have been trying

QID : 265 - In the following question, out of the four alternatives, select the alternative which is the best substitute of the phrase.

A large body of water with many islands.



Options:

- 1) Strait
- 2) Gulf
- 3) Archipelago
- 4) Peninsula

Correct Answer: Archipelago

Candidate Answer: Archipelago

QID : 266 - In the following question, out of the four alternatives, select the alternative which is the best substitute of the phrase.
A man whose wife is dead.

Options:

- 1) Widow
- 2) Widower
- 3) Bachelor
- 4) Spinster

Correct Answer: Widower

Candidate Answer: Widower

QID : 267 - In the following question, a word has been written in four different ways out of which only one is correctly spelt. Select the correctly spelt word.

Options:

- 1) Mathematics
- 2) Methematics
- 3) Mathamatics
- 4) Mathemetics

Correct Answer: Mathematics

Candidate Answer: Mathematics

QID : 268 - In the following question, a word has been written in four different ways out of which only one is correctly spelt. Select the correctly spelt word.

Options:

- 1) Nabour
- 2) Neighbour
- 3) Nieghbour
- 4) Neighber

Correct Answer: Neighbour

Candidate Answer: Neighbour

QID : 269 - The question below consists of a set of labelled sentences. Out of the four options given, select the most logical order of the sentences to form a coherent paragraph.

The recession has made

P: but because of limits to growth

Q: because of worse management techniques,

R: us realize that it is not

Options:

- 1) RQP
- 2) QRP
- 3) PQR
- 4) QPR

Correct Answer: RQP

Candidate Answer: RQP

QID : 270 - The question below consists of a set of labelled sentences. Out of the four options given, select the most logical order of the sentences to form a coherent paragraph.

Floods in many parts

P: states of Bihar and Assam

Q: of India like the

R: are a yearly phenomenon

Options:

- 1) PQR
- 2) QPR
- 3) QRP
- 4) RQP

Correct Answer: QPR

Candidate Answer: QPR

QID : 271 - In the following passage some of the words have been left out. Read the passage carefully and select the correct answer for the given blank out of the four alternatives.

The most obvious effect of _____ corruption is a loss of public esteem for politicians and political life. The impact on business and the wider society is also _____. Business gains some more cash credits as they are corrupted _____ these things occur only on the initial stage. Corruption is also called _____ in India. This disease increases risks and costs to business, _____ investor confidence and stops economic growth of the business.

The most obvious effect of _____ corruption

Options:

- 1) social
- 2) economical
- 3) political
- 4) religious

Correct Answer: political

Candidate Answer: economical

QID : 272 - In the following passage some of the words have been left out. Read the passage carefully and select the correct answer for the given blank out of the four alternatives.

The most obvious effect of _____ corruption is a loss of public esteem for politicians and political life. The impact on business and the wider society is also _____. Business gains some more cash credits as they are corrupted _____ these things occur only on the initial stage. Corruption is also called _____ in India. This disease increases risks and costs to business, _____ investor confidence and stops economic growth of the business.

The impact on business and the wider society is also _____.

Options:

- 1) favourable
- 2) encouraging
- 3) terrible
- 4) moralistic

Correct Answer: terrible

Candidate Answer: terrible

QID : 273 - In the following passage some of the words have been left out. Read the passage carefully and select the correct answer for the given blank out of the four alternatives.

The most obvious effect of _____ corruption is a loss of public esteem for politicians and political life. The impact on business and the wider society is also _____. Business gains some more cash credits as they are corrupted _____ these things occur only on the initial stage. Corruption is also called _____ in India. This disease increases risks and costs to business, _____ investor confidence and stops economic growth of the business.

Business gains some more cash credits as they are corrupted _____

Options:

- 1) but
- 2) also
- 3) always
- 4) so

Correct Answer: but

Candidate Answer: but

QID : 274 - In the following passage some of the words have been left out. Read the passage carefully and select the correct answer for the given blank out of the four alternatives.

The most obvious effect of _____ corruption is a loss of public esteem for politicians and political life. The impact on business and the wider society is also _____. Business gains some more cash credits as they are corrupted _____ these things occur only on the initial stage. Corruption is also called _____ in India. This disease increases risks and costs to business, _____ investor confidence and stops economic growth of the business.

Corruption is also called _____ in India.

Options:

- 1) boon
- 2) good
- 3) disease
- 4) great

Correct Answer: disease

Candidate Answer: disease

QID : 275 - In the following passage some of the words have been left out. Read the passage carefully and select the correct answer for the given blank out of the four alternatives.

The most obvious effect of _____ corruption is a loss of public esteem for politicians and political life. The impact on business and the wider society is also _____. Business gains some more cash credits as they are corrupted _____ these things occur only on the initial stage. Corruption is also called _____ in India. This disease increases risks and costs to business, _____ investor confidence and stops economic growth of the business.

_____ investor confidence and stops economic growth of the business

Options:

- 1) enhances
- 2) damages
- 3) shocks
- 4) exfoliates

Correct Answer: damages

Candidate Answer: exfoliates

QID : 276 - Gross domestic product is a measure of _____.

सकल घरेलु उत्पाद _____ का माप है।

Options:

- 1) A country's international economic activities
एक देश की अंतर्राष्ट्रीय अर्थव्यवस्था की गतिविधियाँ
- 2) A country's domestic economic activities
एक देश की घरेलु अर्थव्यवस्था की गतिविधियाँ
- 3) A country's economy related to its neighbours
एक देश की उसके पड़ोसियों से संबंधित अर्थव्यवस्था
- 4) A country's agricultures activities
एक देश की कृषि संबंधी गतिविधियाँ

Correct Answer: A country's domestic economic activities

एक देश की घरेलु अर्थव्यवस्था की गतिविधियाँ

Candidate Answer: A country's domestic economic activities

एक देश की घरेलु अर्थव्यवस्था की गतिविधियाँ

QID : 277 - Which of the following sector of economic activity helps in the development of primary and secondary sectors.

निम्नलिखित में से कौन सी आर्थिक गतिविधि प्राथमिक तथा द्वितीयक क्षेत्रक के विकास में मदद करती है?

Options:

- 1) Tertiary sector
तृतीयक क्षेत्रक
- 2) Quaternary sector
चतुर्मागात्मक क्षेत्रक
- 3) Tertiary and Quaternary sector both
तृतीयक तथा चतुर्मागात्मक क्षेत्रक दोनों
- 4) None of these
इनमें से कोई नहीं

Correct Answer: Tertiary sector

तृतीयक क्षेत्रक

Candidate Answer: Tertiary sector

तृतीयक क्षेत्रक

QID : 278 - Who appoints the Chief Minister of state?

किसी राज्य के मुख्यमंत्री को कौन नियुक्त करता है?

Options:

- 1) Prime Minister of India
भारत के प्रधानमंत्री
- 2) President of India
भारत के राष्ट्रपति
- 3) Judge of Supreme Court
सुप्रीम कोर्ट के न्यायाधीश
- 4) Governor of State
राज्य के राज्यपाल

Correct Answer: Governor of State

राज्य के राज्यपाल

Candidate Answer: Governor of State

राज्य के राज्यपाल

QID : 279 - Which country has the lengthiest written constitution in the world?

विश्व का सबसे विस्तृत लिखित संविधान किस देश का है?

Options:

- 1) India
भारत
- 2) Pakistan
पाकिस्तान
- 3) America
अमेरिका
- 4) Australia
ऑस्ट्रेलिया

Correct Answer: India

भारत

Candidate Answer: India
भारत

QID : 280 - In which year did Mahatma Gandhi come back to India?

किस वर्ष महात्मा गाँधी भारत वापस लौटे थे?

Options:

- 1) 1918
- 2) 1925
- 3) 1915
- 4) 1909

Correct Answer: 1915

Candidate Answer: 1915

QID : 281 - Who defeated the Mughal Emperor Humayun and captured Delhi to establish his own dynasty?

किस मुगल सम्राट ने हुमायूँ को परास्त किया तथा दिल्ली पर अधिकार करके स्वयं अपना राजवंश स्थापित किया?

Options:

- 1) Sher Shar Suri
शेर शाह सूरी
- 2) Bahlul Lodi
बहलोल लोदी
- 3) Khizr Khan
खिज़्र खान
- 4) Ghiyasuddin Balban
गयासुद्दीन बालबन

Correct Answer: Sher Shar Suri

शेर शाह सूरी

Candidate Answer: Sher Shar Suri

शेर शाह सूरी

QID : 282 - Celestial bodies which do not have their own heat and light are called what?

खगोलीय पिंड जिनमें अपना प्रकाश एवं ऊष्मा नहीं होती उन्हें क्या कहा जाता है?

Options:

- 1) Stars
तारा
- 2) Sun
सूर्य
- 3) Planets
ग्रह
- 4) None of these
इनमें से कोई नहीं

Correct Answer: Planets

ग्रह

Candidate Answer: None of these

इनमें से कोई नहीं

QID : 283 - The four major directions, North, South, East and West are called what?

चार मुख्य दिशाओं, उत्तर, दक्षिण, पूर्व एवं पश्चिम को क्या कहा जाता है?

Options:

- 1) Thematic points
विषयगत बिंदु
- 2) Cardinal points
प्रधान बिंदु
- 3) Symbolic points
प्रतीकात्मक बिंदु
- 4) Conventional points
रूढ़ बिंदु

Correct Answer: Cardinal points

प्रधान बिंदु

Candidate Answer: Thematic points

विषयगत बिंदु

QID : 284 - The incisor tooth is meant for ____.

कृन्तक दाँत _____ होते हैं।

Options:

- 1) biting and cutting
काटने और कुतरने के लिए
- 2) chewing
चबाने के लिए
- 3) crushing
पीसने के लिए
- 4) churning
चर्निंग के लिए

Correct Answer: biting and cutting
काटने और कुतरने के लिए

Candidate Answer: biting and cutting
काटने और कुतरने के लिए

QID : 285 - By which process water comes out of leaves in the form of vapour?

किस प्रक्रिया से जल पत्ती से जल वाष्प के रूप में निकलती है?

Options:

- 1) Transpiration
वाष्पोत्सर्जन
- 2) Evaporation
वाष्पीकरण
- 3) Condensation
संक्षेपण
- 4) Sublimation
ऊर्ध्वपातक

Correct Answer: Transpiration
वाष्पोत्सर्जन

Candidate Answer: Transpiration
वाष्पोत्सर्जन

QID : 286 - The smallest blood vessel in the body is a _____.

शरीर में सबसे छोटी रक्त वाहिका एक _____ है।

Options:

- 1) Capillary
केशिका
- 2) Artery
धमनी
- 3) Vena cava
वेना कावा
- 4) Vein
नस

Correct Answer: Capillary
केशिका

Candidate Answer: Capillary
केशिका

QID : 287 - A body at rest can have _____.

विराम अवस्था में एक पिण्ड में _____ हो सकती है।

Options:

- 1) acceleration
त्वरण
- 2) Energy
ऊर्जा
- 3) motion
गति
- 4) Velocity
वेग

Correct Answer: Energy
ऊर्जा

Candidate Answer: Energy
ऊर्जा

QID : 288 - With the increase in temperature, the density of a substance, in general, _____.

तापमान में वृद्धि के साथ एक पदार्थ का घनत्व सामान्यतः _____

Options:

- 1) increases
बढ़ जाता है
- 2) Decreases
घट जाता है
- 3) remains same
समान रहेगा
- 4) first decrease then increases
पहले घटता है तथा फिर बढ़ता है

Correct Answer: Decreases
घट जाता है

Candidate Answer: Decreases
घट जाता है

QID : 289 - What is Intel Core i7?

इंटेल कोर i7 क्या है?

Options:

- 1) Processors
प्रोसेसर
- 2) RAM
रैम
- 3) ROM
रोम
- 4) Hard disk
हार्ड डिस्क

Correct Answer: Processors
प्रोसेसर

Candidate Answer: Processors
प्रोसेसर

QID : 290 - Calcium hydroxide is also known as ____.

कैल्शियम हाइड्रॉक्साइड का प्रचलित नाम ____ है।

Options:

- 1) Plaster
प्लास्टर
- 2) Slaked lime
बुझा हुआ चुना
- 3) Baking soda
खाने वाला सोडा
- 4) Washing soda
धावन सोडा

Correct Answer: Slaked lime
बुझा हुआ चुना

Candidate Answer: Slaked lime
बुझा हुआ चुना

QID : 291 - A basic salt that is used in daily life is ____.

दैनिक जीवन में प्रयुक्त किया जाने वाला एक समाक्षारीय लवण ____ है।

Options:

- 1) Ammonium phosphate
अमोनियम फॉस्फेट
- 2) Sodium chloride
सोडियम क्लोराइड
- 3) Ammonium sulphate
अमोनियम सल्फेट
- 4) Sodium carbonate
सोडियम कार्बोनेट

Correct Answer: Ammonium sulphate
अमोनियम सल्फेट

Candidate Answer: Sodium chloride
सोडियम क्लोराइड

QID : 292 - Which among the following is not a function performed by forests?

निम्नलिखित में से कौन सा वनों द्वारा किया जाने वाला कार्य नहीं है?



Options:

- 1) Providing oxygen
ऑक्सीजन प्रदान करना
- 2) Protecting soil and providing habitat to large number of animals.
मृदा का संरक्षण तथा बहुत संख्या में जानवरों को आवास प्रदान करना
- 3) Help in bringing good rainfall in neighbouring areas
आसपास के इलाकों में अच्छी वर्षा लाने में सहयोग
- 4) Do not disturb water cycle and air quality
जलचक्र तथा वायु की गुणवत्ता के साथ छेड़छाड़ नहीं करते

Correct Answer: Do not disturb water cycle and air quality
जलचक्र तथा वायु की गुणवत्ता के साथ छेड़छाड़ नहीं करते

Candidate Answer: Do not disturb water cycle and air quality
जलचक्र तथा वायु की गुणवत्ता के साथ छेड़छाड़ नहीं करते

QID : 293 - What is the maximum amount (in Rs) that can be deposited per year under Pradhan Mantri Sukanya Samridhi Yojana?

प्रधानमंत्री सुकन्या समृद्धि योजना के अंतर्गत प्रत्येक वर्ष जमा की जा सकने वाली अधिकतम राशि (रु में) कितनी है?

Options:

- 1) 50000
- 2) 1,00,000
- 3) 1,50,000
- 4) 5,00,000

Correct Answer: 1,50,000

Candidate Answer: 1,50,000

QID : 294 - Who among the following invented Television?

निम्नलिखित में से किसने टेलीविजन का आविष्कार किया था?

Options:

- 1) J. L. Baird
जे. एल. बेयर्ड
- 2) Frederick Banting
फ्रेडेरिक बेंटिंग
- 3) Alexander Fleming
अलेक्जेंडर फ्लेमिंग
- 4) Michael Faraday
माइकल फैराडे

Correct Answer: J. L. Baird
जे. एल. बेयर्ड

Candidate Answer: J. L. Baird
जे. एल. बेयर्ड

QID : 295 - Which of the following sports does not require the use of net?

निम्नलिखित में से किस खेल में नेट का उपयोग करने की आवश्यकता नहीं होती है?

Options:

- 1) Tennis
टैनिस्
- 2) Table Tennis
टेबल टेनिस्
- 3) Badminton
बैडमिंटन
- 4) Golf
गोल्फ़

Correct Answer: Golf
गोल्फ़

Candidate Answer: Golf
गोल्फ़

QID : 296 - Which of the following dance form differs from the others given?

निम्नलिखित में से कौन सी नृत्य कला अन्य दिए गए से भिन्न है?

Options:

- 1) Kuchipudi
कुचीपुडी
- 2) Bhangra
भांगरा
- 3) Kathak
कथक
- 4) Bharatnatyam
भरतनाट्यम

Correct Answer: Bhangra
भांगरा

Candidate Answer: Bhangra
भांगरा

QID : 297 - Who is the winner of Laureus (The Oscar of Sports) "Sportsman of the Year Award" 2017?

2017 लौरीयस (खेलों के ऑस्कर) "वर्ष का खिलाड़ी पुरस्कार" के विजेता कौन हैं?

Options:

- 1) Michael Phelps
माइकल फेलप्स
- 2) Usain Bolt
उसेन बोल्ट
- 3) Nico Rosberg
निको रोसबर्ग
- 4) Andy Murray
एंडी मरे

Correct Answer: Usain Bolt
उसेन बोल्ट

Candidate Answer: Usain Bolt
उसेन बोल्ट

QID : 298 - Who is the author of the book named "Wings of fire"?

"विंग्स ऑफ फायर" नामक पुस्तक के लेखक कौन हैं?

Options:

- 1) Dr. A.P.J. Abdul Kalam
डॉ. ए.पी.जे. अब्दुल कलाम
- 2) Dr. Indu Anand
डॉ. इंदू आनंद
- 3) Arunima Sinha
अरुनिमा सिंहा
- 4) Rajdeep Sardesai
राजदीप सरदेसाई

Correct Answer: Dr. A.P.J. Abdul Kalam
डॉ. ए.पी.जे. अब्दुल कलाम

Candidate Answer: Dr. A.P.J. Abdul Kalam
डॉ. ए.पी.जे. अब्दुल कलाम

QID : 299 - The Kudankulam plant is built in India collaboration of which country?

भारत में बना कुंडनकुलम संयंत्र किस देश के सहयोग से बनाया गया है?

Options:

- 1) China
चीन
- 2) Russia
रूस
- 3) Japan
जापान
- 4) Germany
जर्मनी

Correct Answer: Russia
रूस

Candidate Answer: Russia
रूस

QID : 300 - Which among the following is a border line between India and China?

निम्नलिखित में से कौन भारत तथा चीन के मध्य एक अंतराष्ट्रीय सीमा है?

Options:

- 1) Radcliff line
रेडक्लिफ रेखा
- 2) Mc Mohan line
मैकमोहन रेखा
- 3) Durand line
दुरैंड रेखा
- 4) Palk strait
पाक जलसंधि

Correct Answer: Mc Mohan line
मैकमोहन रेखा

Candidate Answer: Mc Mohan line
मैकमोहन रेखा